

CONCURSO PÚBLICO - 01/2016



INSTITUTO
LEGATUS



012 - FISCAL DE OBRAS

LEIA ATENTAMENTE AS INSTRUÇÕES SEGUINTE

Informações ao candidato:

- Para a realização desta prova, você está recebendo este CADERNO DE QUESTÕES. No momento oportuno, lhe será entregue a sua FOLHA DE RESPOSTAS personalizada.
- Verifique se este CADERNO DE QUESTÕES corresponde à sua opção de cargo e possui 40 (quarenta) questões, numeradas de 01 a 40. Do contrário, solicite outro ao FISCAL, imediatamente. Não serão aceitas reclamações posteriores.
- Para cada questão existe apenas uma resposta correta, que deverá ser assinalada na FOLHA DE RESPOSTAS, com caneta esferográfica de tinta azul ou preta. Mais de uma resposta assinalada implica na anulação da questão.
- Você terá 04 (quatro) horas para responder a todas às questões e preencher a FOLHA DE RESPOSTAS.
- Nenhum candidato poderá sair da sala antes de decorridos 60 (sessenta) minutos do início da prova, ressalvados os casos de emergência médica.
- O PORTE de quaisquer fontes de consulta, aparelhos de comunicação - inclusive telefone celular - e/ou de registro de dados, no recinto da prova, a qualquer momento, caracteriza TENTATIVA DE FRAUDE, procedendo-se à retirada imediata do candidato e a sua ELIMINAÇÃO SUMÁRIA do concurso. Será igualmente excluído o candidato surpreendido em comunicação com outros candidatos.
- Ao concluir a prova, o candidato terá que devolver a FOLHA DE RESPOSTAS devidamente ASSINADA, bem como este CADERNO DE QUESTÕES. A não devolução de qualquer um deles implicará na eliminação do candidato.
- Os 03 (três) últimos candidatos a concluírem a prova deverão sair juntos e assinar em local apropriado na ATA DA PROVA. Não deixe de também assinar a LISTA DE FREQUÊNCIA.
- Este CADERNO DE QUESTÕES e o GABARITO OFICIAL serão divulgados em até 02 (dois) dias úteis após a aplicação desta prova, no endereço eletrônico www.institutolegatus.com.br, conforme Edital do Concurso.

PREFEITURA MUNICIPAL DE PASSAGEM FRANCA DO PIAUÍ
Concurso Público – 01/2016

01	02	03	04	05	06	07	08	09	10	11	12	13	14	15	16	17	18	19	20

21	22	23	24	25	26	27	28	29	30	31	32	33	34	35	36	37	38	39	40



www.institutolegatus.com.br

LÍNGUA PORTUGUESA

Leia o texto para responder às questões de 01 a 10:

Para criar filhos mais saudáveis e felizes

Na tentativa de serem “bons pais”, muitos erram apesar das boas intenções: investem em uma rotina cheia de

RONSTIK/SHUTTERSTOCK



compromissos escolares e extracurriculares para a criança, envolvem-se nas dificuldades dos filhos a ponto de querer resolvê-las ou, ainda, deixam de cuidar de si com a justificativa de que é preciso cuidar do outro. Especialistas apontam atitudes que podem prejudicar o desenvolvimento de habilidades necessárias para uma vida adulta mais feliz e autônoma

1. Permitir momentos de ócio e tédio.

Escola, esporte, cursos extracurriculares. Muitas crianças têm agendas dignas de adultos muito atarefados, com poucas horas livres ao longo do dia. Até mesmo nos fins de semana e férias, que não raro são pré-programados com passeios e viagens. Efeito da nossa cultura, que não vê com bons olhos “não ter o que fazer”. No entanto, estudos sugerem que seguir rotina cheia de compromissos desde cedo pode prejudicar a criança. Um deles, publicado na *Frontiers of Psychology* em 2014, relaciona a quantidade de atividades estruturadas, como aulas de futebol ou dança, no dia a dia de crianças de 6 anos ao menor desenvolvimento de uma “função executiva autodirigida”. Basicamente, esse processo mental ajuda os pequenos a regular emoções e definir e atingir metas por conta própria, além de ser associado a maior estabilidade emocional e profissional na vida adulta. O que os pais podem fazer então? “Deixe que seus filhos caiam na monotonia e descubram algo para fazer por conta própria”, sugere o psicólogo Michael Ungar, codiretor do Centro de Pesquisa de Resiliência da Universidade Dalhousie, em Nova Escócia. “O tédio num contexto hiperestimulado pode permitir exercer a criatividade e desenvolver a iniciativa, a persistência e a sensação de que podem influenciar o mundo”, explica.

2. Deixar que resolvam problemas.

Não são poucos os pais excessivamente protetores, que se envolvem nas dificuldades cotidianas dos filhos além da conta. A superproteção não favorece o desenvolvimento de habilidades que serão necessárias na vida adulta, como autonomia e resiliência. Pesquisas no campo da autodeterminação relacionam a

superproteção a níveis mais elevados de ansiedade e depressão, notas mais baixas na escola e menor satisfação com a vida quando adultos. “Pouco comprometimento dos pais não é positivo. Mas o envolvimento em demasia também não”, afirma a psicóloga do desenvolvimento Holly H. Schiffrin, professora associada da Universidade de Mary Washington, na Virginia. “Percebo esse comportamento em sala de aula. Há pais que me procuram para ajustar o horário de aula dos filhos ou ligam para conversar sobre as notas deles. Costumo responder que os próprios alunos podem marcar uma reunião comigo para discutir o assunto”, diz.

3. “Colocar a máscara de oxigênio primeiro”.

A instrução dada antes das viagens de avião é uma boa metáfora da parentalidade – é preciso cuidar de si mesmo para poder cuidar bem de outra pessoa. Mães com diagnóstico de depressão, por exemplo, são mais propensas a ignorar ou a exagerar comportamentos inadequados dos filhos, segundo um estudo longitudinal de dois anos publicado na *Psychological Science*. Pesquisadores da Universidade Estadual da Pensilvânia constataram que adultos com TDAH também se tornam pais atenciosos depois de receber tratamento para o distúrbio. Todas as outras atividades cotidianas relacionadas com a saúde também importam. Um estudo de 2015 sobre os dados nacionais de saúde do Reino Unido sugere que o modo de vida dos pais pode ser tão decisivo como a genética na “transmissão” da obesidade. Outra evidência: crianças que participaram de uma pesquisa de 2014 da Escola de Economia e Ciências Políticas de Londres e com pais biológicos com excesso de peso tinham probabilidade 27% maior do que outras de apresentar sobrepeso. Filhos adotados também demonstraram susceptibilidade similar, de 21%. Seguindo essa linha de raciocínio, adotar uma dieta mais saudável e colocar atividades físicas na rotina vai além do autocuidado: é um gesto de amor por aqueles que dependem de nós. Um bom motivo para começar, não?

Esta matéria foi publicada originalmente na edição de abril de Mente e Cérebro, disponível na Loja Segmento: <http://bit.ly/1WusOOZ>. Coletada no site: http://www2.uol.com.br/vivermente/noticias/para_criar_filhos_mais_saudaveis_e_felizes.html - acesso 28 de abril de 2016

QUESTÃO 01

Conforme o que se depreende a partir da leitura mais apurada do texto que os pais

- (A) Ainda que bem intencionados, tomam algumas atitudes que podem impedir que seus filhos desenvolvam habilidades necessárias para uma vida adulta mais autônoma e plena.
- (B) Atropelam a rotina dos seus filhos, numa tentativa de protegê-los das possíveis frustrações da vida.
- (C) Não percebem que a melhor forma de se criarem filhos saudáveis e mais autônomos, preparados para enfrentar os desafios propostos é deixá-los terem momentos de liberdade e ócio.
- (D) São levados pelas demandas sociais estereotipadas e pôr isso tornam os filhos dependentes deles próprios.
- (E) Criam seus filhos não de acordo com suas próprias convicções, mas se deixam guiar por modelos de família de outros países e enchem seus filhos de atividades extras.

QUESTÃO 02

A sugestão do psicólogo Michael Ungar, codiretor do Centro de Pesquisa de Resiliência da Universidade Dalhousie, para os pais pode ser entendida como

- (A) Um alerta para que os pais deixem os filhos tomarem a direção da própria vida, sem a ajuda deles, assim eles adquirem resiliência.
- (B) Um sinal de que os pais não devem superestimular os seus filhos a desenvolverem tarefas em excesso.
- (C) Informação aos pais que enchem a rotina dos filhos com atividades excessivas que, imersos no estresse, os filhos sempre encontram uma saída para as suas limitações.
- (D) Um conselho para que os pais deixem os seus filhos vivenciarem momentos de monotonia para que possam descobrir algo para fazer por conta própria.
- (E) Uma notificação para que os pais percebam a melhor maneira de os filhos resolverem os problemas que vivem no dia a dia.

QUESTÃO 03

Em: Filhos adotados também demonstraram **susceptibilidade** similar, de 21%.”, a palavra destacada equivale, quanto ao sentido, à ideia de

- (A) Intencionalidade.
- (B) Surto.
- (C) Predisposição.
- (D) Contestação.
- (E) Regularidade.

QUESTÃO 04

Em: “Colocar a máscara de oxigênio primeiro” as aspas são utilizadas para

- (A) Tornar o enunciado mais compreensível.
- (B) Marcar um enunciado proferido em discurso indireto.
- (C) Identificar e destacar uma citação de um outro contexto.
- (D) Contrapor-se ao discurso de outro agente social.
- (E) Ressaltar a importância do enunciado para a aceitação dos pais.

QUESTÃO 05

Analise o excerto e, em seguida, julgue os itens, para responder à questão

“Deixe que seus filhos caiam na monotonia e descubram algo para fazer por conta própria”

- I. O verbo *deixar* foi flexionado no modo imperativo, na 3ª pessoa do singular.
- II. *Caiam* e *descubram* estão flexionados no mesmo modo, ou seja, no imperativo afirmativo na 3ª pessoa do plural.
- III. O verbo *fazer* está no infinitivo impessoal.

Está (ão) correto (s).

- (A) Item I, apenas.
- (B) I e II.
- (C) I e III.
- (D) II e III.
- (E) Todos estão corretos.

QUESTÃO 06

Assinale a alternativa em que o vocábulo e/ou expressões marcados estejam corretamente analisadas do ponto de vista da Morfologia da Língua portuguesa.

- (A) Seguindo essa linha de raciocínio, adotar **uma** dieta mais saudável e colocar atividades físicas na rotina vai além do autocuidado: é um gesto de amor por aqueles que dependem de nós. **Numeral**.
- (B) Na tentativa de serem “bons pais”, **muitos** erram apesar das boas intenções [...] **Pronome indefinido**.
- (C) No entanto, estudos sugerem que seguir rotina cheia de compromissos **desde** cedo pode prejudicar a criança. **Advérbio de tempo**.
- (D) **No entanto**, estudos sugerem que seguir rotina cheia de compromissos desde cedo pode prejudicar a criança. **Conjunção coordenativa conclusiva**.
- (E) A superproteção não favorece o desenvolvimento de habilidades que serão necessárias na vida **adulta** [...] **Substantivo concreto**.

QUESTÃO 07

Analise: **Até mesmo** nos fins de semana e férias, que não raro são pré-programados com passeios e viagens. O operador argumentativo marcado, apresenta a relação semântica de:

- (A) Quantidade.
- (B) Modo.
- (C) Tempo.
- (D) **Inclusão.**
- (E) Qualidade.

QUESTÃO 08

Analise: “Especialistas apontam atitudes **que** podem prejudicar o desenvolvimento de habilidades necessárias para uma vida adulta mais feliz e autônoma.”

Aponte a alternativa cujo item marcado apresenta a mesma função sintática e morfológica do termo marcado no período acima.

- (A) “Deixe **que** seus filhos caiam na monotonia e descubram algo para fazer por conta própria”
- (B) **Efeito da nossa cultura, que não vê com bons olhos “não ter o que fazer”.**
- (C) Costumo responder **que** os próprios alunos podem marcar uma reunião comigo para discutir o assunto”, diz.
- (D) “O tédio num contexto hiperestimulado pode permitir exercer a criatividade e desenvolver a iniciativa, a persistência e a sensação de **que** podem influenciar o mundo”, explica.
- (E) Deixar **que** resolvam problemas.

Analise:

Seguindo essa linha de raciocínio, adotar uma dieta mais saudável e colocar atividades físicas na rotina vai além do **autocuidado[...]**

QUESTÃO 09

A palavra marcada está grafada, adequadamente, de acordo com o Acordo ortográfico vigente nos países que adotam a Língua portuguesa. Também estão grafados, adequadamente, no que respeita ao uso do hífen, os dois pares de vocábulos que se encontram selecionados na alternativa

- (A) Antiidade e hipo-alérgico
- (B) Ressocializar e contra-senso
- (C) Super-filosófico e super-herói
- (D) Superresistente e hiperativo
- (E) **Micro-organismo e semirreta**

QUESTÃO 10

Todas as orações marcadas nas alternativas apresentam a mesma classificação, EXCETO:

- (A) Não são poucos os pais excessivamente protetores, que se envolvem nas dificuldades cotidianas dos filhos além da conta.
- (B) Há pais que me procuram para ajustar o horário de aula dos filhos ou ligam para conversar sobre as notas deles.
- (C) **Um estudo de 2015 sobre os dados nacionais de saúde do Reino Unido sugere que o modo de vida dos pais pode ser tão decisivo como a genética na “transmissão” da obesidade.**
- (D) Outra evidência: crianças que participaram de uma pesquisa de 2014 da Escola de Economia e Ciências Políticas de Londres e com pais biológicos com excesso de peso tinham probabilidade 27% maior do que outras de apresentar sobrepeso.
- (E) [...] é um gesto de amor por aqueles que dependem de nós.

NOÇÕES DE INFORMÁTICA

QUESTÃO 11

A representação gráfica de um arquivo, pasta ou programa no Windows é conhecida como:

- (A) aplicativo
- (B) ícone
- (C) interface
- (D) atalho
- (E) link

QUESTÃO 12

Acerca dos conceitos básicos de informática, julgue os itens abaixo em verdadeiro (V) ou falso (F):

() A Área de Transferência do Windows é uma área de armazenamento temporário de informações que o usuário copiou ou moveu de algum lugar.

() Quando se utiliza o comando “Recortar” em um arquivo, o Windows remove o arquivo do local de origem e o mantém no local de destino.

() A tecla DELETE não funciona para remover (excluir) arquivos para a Lixeira; sua função é apenas apagar caracteres de texto.

A sequência correta, de cima para baixo, é:

- (A) V V V
- (B) V V F
- (C) V F V
- (D) F V F
- (E) F F V

QUESTÃO 13

“Cabeçalho” e “Rodapé”, recursos disponíveis no Microsoft Word, podem ser adicionados das seguintes formas:

- I. Em todo o documento de texto.
- II. Em todas as páginas, exceto na primeira.
- III. De forma diferente em páginas pares ou ímpares.

Está(ão) correto(s):

- (A) Apenas I.
- (B) Apenas II.
- (C) I e II.
- (D) II e III.
- (E) I, II e III.

QUESTÃO 14

Associe corretamente os conceitos abaixo sobre noções de Internet com suas respectivas definições e assinale a alternativa que apresenta a associação correta:

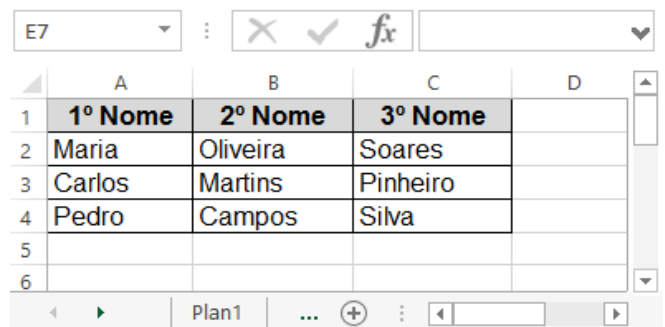
1. Navegador
2. HTTP
3. Intranet
4. URL

- a. É o endereço de um recurso disponível em uma rede.
- b. É o nome do protocolo utilizado para comunicação na web.
- c. É uma rede corporativa que utiliza um sistema de comunicação baseado em tecnologias da Internet.
- d. É uma ferramenta que comunica-se com servidores web, os quais enviam e recebem as solicitações feitas pelos usuários.

- (A) 1b - 2c - 3a - 4d
- (B) 1c - 2a - 3d - 4b
- (C) 1d - 2a - 3c - 4b
- (D) 1c - 2d - 3b - 4a
- (E) 1d - 2b - 3c - 4a

QUESTÃO 15

A imagem abaixo foi extraída de uma planilha do Microsoft Excel:



	A	B	C	D
1	1º Nome	2º Nome	3º Nome	
2	Maria	Oliveira	Soares	
3	Carlos	Martins	Pinheiro	
4	Pedro	Campos	Silva	
5				
6				

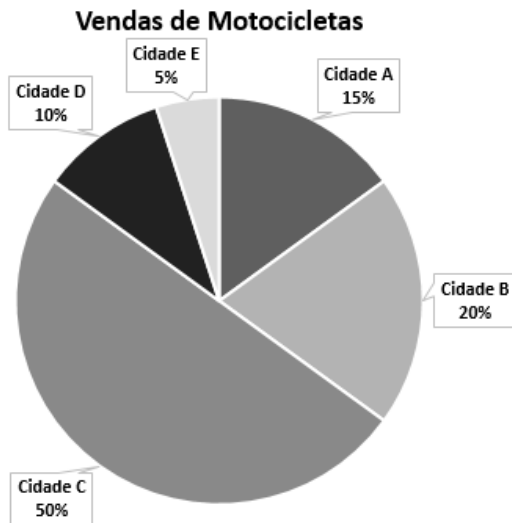
O resultado da aplicação da fórmula =A2&B3&C4 será:

- (A) #REF!
- (B) #VALOR!
- (C) Maria
- (D) MMS
- (E) MariaMartinsSilva

RACIOCÍNIO LÓGICO-MATEMÁTICO

QUESTÃO 16

A imagem abaixo apresenta o gráfico de vendas de motocicletas de uma determinada empresa:



Considerando que foram vendidas 120 motocicletas nas 5 cidades representadas no gráfico, pode-se afirmar que:

- I. Foram vendidas 18 motocicletas na Cidade A.
- II. O total de motocicletas vendidas nas Cidades B e C foi 70.
- III. Nas Cidades D e E foram vendidas menos de 10 motocicletas em cada uma.

- (A) Somente o item I está correto.
 (B) Somente o item II está correto.
 (C) Somente o item III está correto.
 (D) Os itens I e II estão corretos.
 (E) Os itens II e III estão corretos.

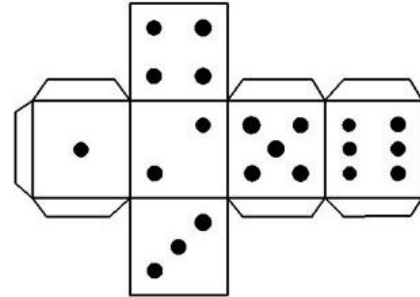
QUESTÃO 17

A diferença entre dois números x e y é 16. A razão entre x e y é 3. Pode-se afirmar que o menor desses números é:

- (A) 6
 (B) 8
 (C) 10
 (D) 12
 (E) 14

QUESTÃO 18

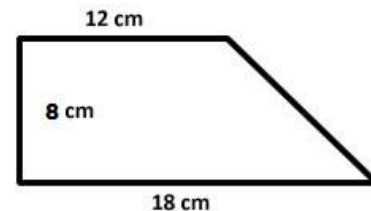
Ao montar o dado abaixo, o número que ficará na face oposta à face que contém o número 2 será o:



- (A) 1
 (B) 3
 (C) 4
 (D) 5
 (E) 6

QUESTÃO 19

Pode-se afirmar que a área e o perímetro do trapézio abaixo são, respectivamente:



- (A) 96 cm^2 e 46 cm
 (B) 120 cm^2 e 38 cm
 (C) 120 cm^2 e 48 cm
 (D) 144 cm^2 e 38 cm
 (E) 144 cm^2 e 42 cm

QUESTÃO 20

Uma gráfica imprime 400 panfletos em 60 min com apenas 1 impressora. Com o aumento da demanda, o proprietário da gráfica comprou mais 2 impressoras idênticas. O tempo necessário para imprimir os mesmos 400 panfletos, após a aquisição das impressoras, será:

- (A) 5 min
 (B) 10 min
 (C) 15 min
 (D) 20 min
 (E) 30 min

**CONHECIMENTOS GERAIS E
ESPECÍFICOS**

QUESTÃO 21

O documento emitido pela prefeitura municipal que autoriza o uso e ocupação de uma edificação, seguindo-se as exigências legais estabelecidas, denomina-se:

- (A) Habite-se.
- (B) IPTU.
- (C) Auto de Utilização.
- (D) Licença Prévia.
- (E) Alvará de Construção.

QUESTÃO 22

Analise a alternativa correta:

- (A) Afastamento é o limite do lote do terreno em relação ao logradouro público.
- (B) São exemplos de compartimentos de permanência prolongada nas edificações os quartos, salas em geral e cozinhas.
- (C) A área construída é definida como sendo a área correspondente ao somatório das áreas de todos os compartimentos da unidade, medidos a partir do piso, descontadas as áreas das paredes e pilares.
- (D) Na planta de cobertura o contorno do telhado é representado em linha tracejada, por estar evidenciada em primeiro plano.
- (E) Na representação de detalhes em projetos de arquitetura, usualmente são usadas as escalas 1:500 e 1:1000.

QUESTÃO 23

Num projeto arquitetônico, a projeção que se obtém quando cortamos, imaginariamente, uma edificação com um plano horizontal, paralelo ao plano do piso, que permite a visualização de paredes, portas e janelas da edificação é denominada de:

- (A) Planta de situação.
- (B) Planta de fachada.
- (C) Planta de corte.
- (D) Planta de locação.
- (E) Planta baixa.

QUESTÃO 24

Julgue os itens a seguir sobre procedimentos e posturas de um fiscal de obras municipal e assinale a alternativa correta:

- I. Fiscalizar o cumprimento do cronograma físico-financeiro previsto pelos particulares.
- II. Verificação da existência de loteamentos e outras formas de ocupação não regularizadas perante o Município.
- III. Receber vantagens em razão de suas atribuições.
- IV. Fiscalizar as condições de segurança das edificações, de modo a evitar danos a terceiros.

- (A) Apenas I e II estão corretas.
- (B) Apenas II, e III estão corretas.
- (C) Apenas II e IV estão corretas.
- (D) Apenas I, II e III estão corretas.
- (E) Apenas II, III e IV estão corretas.

QUESTÃO 25

As definições a seguir referem-se a elementos construtivos usualmente observados em grande parte das edificações. Aponte a alternativa que contém as indicações corretas para as respectivas definições.

- I. Prolongamento do telhado para além das paredes externas, protegendo-as da ação das chuvas e do sol.
- II. Pequena viga na parte superior de porta ou janela.
- III. Altura livre do piso ao forro ou a parte mais baixa da coberta.

- (A) Platibanda, peitoril, pé esquerdo.
- (B) Beiral, verga, pé direito.
- (C) Beiral, peitoril, pé esquerdo.
- (D) Cumeeira, rodapé, cota.
- (E) Cumeeira, verga, pé direito.


QUESTÃO 26

Na representação gráfica de projetos de arquitetura, o carimbo das folhas de desenho destinado à legenda de titulação deve conter no mínimo as seguintes informações, **EXCETO**:

- (A) Custo do projeto.
- (B) Escala.
- (C) Indicação de revisões.
- (D) Título do projeto.
- (E) Data.

QUESTÃO 27

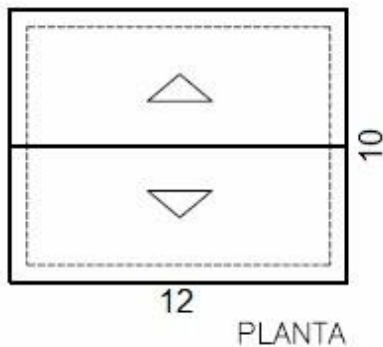
Em um determinado trecho de rodovia a distância que separa os pontos A e B em planta é de 20 cm, para uma escala de 1:5000. Nestas condições, calcule a distância real entre os pontos.



- (A) 100 metros.
- (B) 250 metros.
- (C) 400 metros.
- (D) 1000 metros.**
- (E) 2500 metros.

QUESTÃO 28

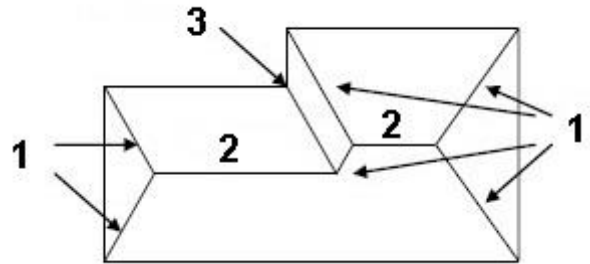
Dado o telhado representado abaixo em planta, em que sua largura e comprimento nos planos horizontais medem respectivamente, 10 e 12 metros e que a parte mais alta no plano vertical mede 1,8 metros, calcule a inclinação do telhado.



- (A) 15%
- (B) 18%
- (C) 30%
- (D) 32%
- (E) 36%**

QUESTÃO 29

Identifique corretamente as principais linhas de divisão de águas de um telhado representado pelo itens I, II e III respectivamente:



- (A) Cumeeira, rincão, espigão.
- (B) Rincão, cumeeira, espigão.
- (C) Cumeeira, espigão, rincão.
- (D) Espigão, cumeeira, rincão.**
- (E) Rincão, espigão, cumeeira.

QUESTÃO 30

As fundações são estruturas responsáveis por transmitir as cargas das construções ao solo. Acerca desse tema, julgue os itens a seguir:

- I. As sapatas são fundações dimensionadas de modo que as tensões de tração nela produzidas sejam resistidas pelo emprego de armadura.
- II. Para a escavação de tubulões, é necessário a descida de um operário para alargamento da base.
- III. Em fundações que não se apoiam sobre rocha, deve-se executar previamente uma camada de brita ou seixo, ocupando toda a área da cava.
- IV. Estaca, tubulão e radier são exemplos de fundações profundas.

- (A) Apenas I está correta.
- (B) Apenas I e II estão corretas.**
- (C) Apenas I e III estão corretas.
- (D) Apenas III e IV estão corretas.
- (E) Apenas I, III e IV estão corretas.

QUESTÃO 31

O termo técnico utilizado para nomear o conjunto de medidas que devem ser tomadas a fim de evitar a evaporação da água necessária às reações de hidratação do concreto nas primeiras idades denomina-se:

- (A) Adensamento.
- (B) Pega.
- (C) Endurecimento.
- (D) Umidificação.
- (E) Cura.**

QUESTÃO 32

Assinale dentre as alternativas abaixo um tipo de agregado miúdo utilizado na construção civil.

- (A) Areia lavada.
- (B) Cal.
- (C) Seixo.
- (D) Cascalho.
- (E) Brita.

QUESTÃO 33

Considere o fragmento de uma planta arquitetônica representado abaixo com cotas em metros:



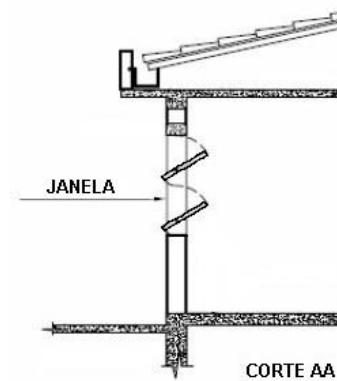
- Pé Direito: 3,00 metros
- Área de cobertura da caixa de cerâmica: 1,5 m²/caixa

Calcule a quantidade mínima de caixas de cerâmica necessárias para revestir internamente todas as paredes e o piso da cozinha, desprezando-se os descontos de vãos de esquadrias e perdas.

- (A) 31 caixas.
- (B) 32 caixas.
- (C) 33 caixas.
- (D) 34 caixas.
- (E) 35 caixas.

QUESTÃO 34

Considere a janela representada abaixo em corte.



Trata-se de uma janela com abertura do tipo:

- (A) Pivotante.
- (B) De correr.
- (C) Basculante.
- (D) Maxim-ar.
- (E) Guilhotina.

QUESTÃO 35

Identifique quais fios devemos utilizar para o correto funcionamento de um interruptor:

- (A) Fase e neutro.
- (B) Neutro e terra.
- (C) Fase e retorno.
- (D) Fase, neutro e terra.
- (E) Neutro e retorno.

QUESTÃO 36

Assinale a alternativa que indica ferramentas ou materiais usualmente utilizados para executar o serviço de pintura de paredes com tinta látex:

- (A) Torquês e rolo de espuma.
- (B) Lixa e martelo de borracha.
- (C) Desempenadeira de aço e formão.
- (D) Pincel e esquadro.
- (E) Rolo de lã e fita crepe.

QUESTÃO 37

Identifique qual conexão de instalações hidráulicas é representada pela figura abaixo.



- (A) Cap.
- (B) Luva
- (C) Niple.
- (D) Bucha de redução.
- (E) Plug.

QUESTÃO 38

Qual das alternativas abaixo apresenta uma prática adequada na execução de instalações de esgoto?

- (A) Emendas de tubos com uso de fogo.
- (B) Correção de vazamentos com massa epóxi.
- (C) Apoio de tubulações com correias.
- (D) Instalações de esgoto com declividade.
- (E) Tubos embutidos em pilares.

QUESTÃO 39

De acordo com a última pesquisa realizada pelo Instituto Brasileiro de Geografia e Estatística (IBGE) em 2014, as principais culturas produzidas na área de lavoura permanente, no município de Passagem Franca do Piauí, foram:

- (A) Banana e Castanha de Caju.
- (B) Coco-da-baía e Goiaba.
- (C) Manga e Laranja.
- (D) Limão e Maracujá.
- (E) Abacate e Mamão.

QUESTÃO 40

Julgue os itens abaixo em verdadeiro (V) ou falso (F), acerca do município de Passagem Franca do Piauí:

- () O rio Parnaíba e o rio Berlingas constituem importantes recursos hídricos do município.
- () O município pertence ao Território de Desenvolvimento denominado Entre Rios.
- () A principal rodovia federal de acesso ao município é a BR-316.

A sequência correta, de cima para baixo, é:

- (A) V V V
- (B) V F V
- (C) F V V
- (D) F V F
- (E) F F V