

CONCURSO PÚBLICO - 01/2016



INSTITUTO
LEGATUS



015 - TRATORISTA

LEIA ATENTAMENTE AS INSTRUÇÕES SEGUINTE

Informações ao candidato:

- Para a realização desta prova, você está recebendo este CADERNO DE QUESTÕES. No momento oportuno, lhe será entregue a sua FOLHA DE RESPOSTAS personalizada.
- Verifique se este CADERNO DE QUESTÕES corresponde à sua opção de cargo e possui 40 (quarenta) questões, numeradas de 01 a 40. Do contrário, solicite outro ao FISCAL, imediatamente. Não serão aceitas reclamações posteriores.
- Para cada questão existe apenas uma resposta correta, que deverá ser assinalada na FOLHA DE RESPOSTAS, com caneta esferográfica de tinta azul ou preta. Mais de uma resposta assinalada implica na anulação da questão.
- Você terá 04 (quatro) horas para responder a todas às questões e preencher a FOLHA DE RESPOSTAS.
- Nenhum candidato poderá sair da sala antes de decorridos 60 (sessenta) minutos do início da prova, ressalvados os casos de emergência médica.
- O PORTE de quaisquer fontes de consulta, aparelhos de comunicação - inclusive telefone celular - e/ou de registro de dados, no recinto da prova, a qualquer momento, caracteriza TENTATIVA DE FRAUDE, procedendo-se à retirada imediata do candidato e a sua ELIMINAÇÃO SUMÁRIA do concurso. Será igualmente excluído o candidato surpreendido em comunicação com outros candidatos.
- Ao concluir a prova, o candidato terá que devolver a FOLHA DE RESPOSTAS devidamente ASSINADA, bem como este CADERNO DE QUESTÕES. A não devolução de qualquer um deles implicará na eliminação do candidato.
- Os 03 (três) últimos candidatos a concluírem a prova deverão sair juntos e assinar em local apropriado na ATA DA PROVA. Não deixe de também assinar a LISTA DE FREQUÊNCIA.
- Este CADERNO DE QUESTÕES e o GABARITO OFICIAL serão divulgados em até 02 (dois) dias úteis após a aplicação desta prova, no endereço eletrônico www.institutolegatus.com.br, conforme Edital do Concurso.

PREFEITURA MUNICIPAL DE PASSAGEM FRANCA DO PIAUÍ
Concurso Público – 01/2016

01	02	03	04	05	06	07	08	09	10	11	12	13	14	15	16	17	18	19	20	

21	22	23	24	25	26	27	28	29	30	31	32	33	34	35	36	37	38	39	40	



www.institutolegatus.com.br

LÍNGUA PORTUGUESA

Leia o texto abaixo para responder às questões de 01 a 07.

TEXTO I**O cérebro pós-moderno: como as redes sociais nos transformam**

A internet não mudou somente a forma como as pessoas produzem, criam, se comunicam e se divertem. De acordo com o neurocientista Gary Small, diretor do Centro de Pesquisa em Memória e Envelhecimento da Universidade da Califórnia (UCLA), ela altera o funcionamento do cérebro.

“Sob certo aspecto, essa revolução digital nos mergulhou em um estado contínuo de atenção parcial. Estamos permanentemente ocupados, acompanhando tudo. Não nos focamos em nada. (...) As pessoas passam a existir num ritmo de crise constante, em alerta permanente, sedentas de um novo contato ou um novo bit de informação”. Gary Small.

Essa sede por novidades, por consumir toda a informação disponível, é o que ocorre com as redes de relacionamento, segundo a pesquisa do Doutor Small. Ao nos acostumarmos a essa excitação, procuramos estar constantemente conectados. “As redes sociais são particularmente sedutoras. Elas nos permitem constantemente satisfazer nosso desejo humano por companhia e interação social”.

Um estudo que está sendo realizado na Universidade da Califórnia começou a desvendar o efeito que as redes sociais produzem no organismo. Os resultados mostraram que *twitter*, por exemplo, estimula a liberação de níveis de ocitocina e, conseqüentemente, diminui os níveis de hormônios como cortisol e ACTH, associados ao estresse. Ou seja, isso significa que o cérebro pode ter desenvolvido uma nova maneira de interpretar as conversas no Twitter. E, de acordo com Paul Zack, esta nova maneira é a seguinte: “o cérebro entende a conexão eletrônica como se fosse um contato presencial”, o que pode justificar a mudança que as redes sociais causaram na forma como nos relacionamos e fazemos amizades.

(Disponível

em:<http://filosofiaemvalores.blogspot.com.br/2013/03/o-cerebro-pos-moderno-como-as-redes.html> Acesso em 28/04/2016)

QUESTÃO 01

De acordo com o texto acima, as redes sociais:

- (A) Trazem conseqüências positivas e conseqüências negativas para nossa vida.
- (B) São sempre encaradas como vício, por isso há constantes estudos da neurociência.
- (C) Substituem as relações humanas e trazem à sociedade uma crise de valores.
- (D) Desenvolvem habilidades diferentes em nosso cérebro e criam conexões como se fossem reais.
- (E) São excelentes para as empresas, pois criam conexões com cliente como se fossem reais.

QUESTÃO 02

No trecho, “Essa **sede** por novidades, por consumir toda a informação disponível, é o que ocorre com as redes de relacionamento, segundo a pesquisa do Doutor Small”, a palavra em destaque:

- (A) É empregada inadequadamente, uma que o texto não faz nenhuma referência a líquidos.
- (B) Antecipa as informações que serão apresentadas acerca da estimulação de hormônios.
- (C) Reforça o comportamento apresentado no parágrafo anterior, destacando a ideia de ansia.
- (D) Reflete o estado de concentração parcial em que nos mantemos conectados.
- (E) Foi empregada de modo inadequado. Nesse contexto, a palavra adequada seria “**sêde**”.

QUESTÃO 03

Os resultados mostraram que **twitter**, por exemplo, estimula a liberação de níveis de ocitocina. O verbo em destaque no trecho acima demonstra os efeitos da era digital na Língua Portuguesa. Assinale a alternativa cujo vocábulo é um neologismo que surgiu pelo mesmo processo do verbo **twitter**:

- (A) Desvendar
- (B) Desvestir
- (C) Emancipar
- (D) Deletar
- (E) Customizar

QUESTÃO 04

“Ela altera o funcionamento do **cérebro**”

Assinale a alternativa cuja palavra, retirada do texto, foi acentuada pelo mesmo motivo da palavra em destaque no trecho acima:

- (A) Atenção
- (B) Disponível
- (C) Pós-moderno
- (D) Está
- (E) Eletrônica

QUESTÃO 05

As palavras abaixo foram retiradas do texto. Assinale a alternativa cujas palavras apresentem a mesma classificação quanto ao número de sílabas.

- (A) Cérebro - entende
- (B) Conexão - eletrônica
- (C) Como - sociais
- (D) Sociais- presencial
- (E) Redes -Contato

Leia o título da matéria publicada no caderno TEC da Folha de São Paulo, para responder às questões de 06 a 08.

Recebeu, não leu...

WhatsApp passa a avisar usuários quando mensagem é lida e causa irritação e ansiedade; ‘recurso’ não pode ser desativado

(Disponível em:
<http://www1.folha.uol.com.br/fsp/tec/195002-recebeu-nao-leu.shtml> acesso em 28/04/2016)

QUESTÃO 06

Para atender aos objetivos de comunicação, muitas vezes, fazemos referência a outros textos que fazem parte da memória social dos leitores, como acontece nesse texto.

O título acima foi construído com base em outro texto. Assinale a alternativa que apresenta adequadamente o sentido desse texto:

- (A) Água mole em pedra dura, tanto bate até que fura.
- (B) Achado não é roubado.
- (C) Aqui é casa de pigmeu. Você fica com o seu e eu com o meu.
- (D) Escreveu não leu, o pau comeu.
- (E) Dois bicudos não se beijam.

QUESTÃO 07

O título da matéria, apresentado acima, mantém uma correlação de sentido com o texto I, porque:

- (A) Ambos apresentam a mesma discussão temática e mostram os efeitos do uso do WhatsApp.
- (B) Ambos apresentam a irritação e a ansiedade como efeitos negativos do uso das redes sociais.
- (C) Ambos são textos curtos que provam ao leitor os efeitos negativos das redes sociais.
- (D) Ambos argumentam sobre o uso exagerado das redes sociais e o reflexo desse exagero nas relações sociais.
- (E) Ambos se utilizam de expressões populares para chamar atenção do leitor para os efeitos negativos das redes sociais.

QUESTÃO 08

O título do texto da matéria apresenta duas orações, no entanto não há um elemento coesivo ou conjunção fazendo a ligação delas, são separadas pela vírgula. Nesse caso, a conjunção que ligaria as orações do título, substituindo a vírgula, sem alterar o valor semântico dele, seria:

- (A) Embora
- (B) Apesar de
- (C) Não obstante
- (D) Conforme
- (E) Mas

Analise o texto abaixo para responder às questões 09 e 10:

Aperte enter para terminar

‘Acabou’, dizia a mensagem que Mariana recebeu após 4 anos de namoro – ela nunca mais o viu. Na era da paquera no Tinder, o fim também é virtual

(Disponível em:
<http://www1.folha.uol.com.br/fsp/equilibrio/226034-aperte-enter-para-terminar.shtml> Acesso em 28/04/2016.)

QUESTÃO 09

O trecho do texto I que, de certa forma, explica o comportamento apresentado na matéria acima é:

- (A) Ela (a internet) altera o funcionamento do cérebro.
- (B) “Sob certo aspecto, essa revolução digital nos mergulhou em um estado contínuo de atenção parcial.
- (C) “O cérebro entende a conexão eletrônica como se fosse um contato presencial”, o que pode justificar a mudança que as redes sociais causaram na forma como nos relacionamos e fazemos amizades
- (D) Estamos permanentemente ocupados, acompanhando tudo. Não nos focamos em nada.
- (E) As pessoas passam a existir num ritmo de crise constante, em alerta permanente, sedentas de um novo contato ou um novo bit de informação.

QUESTÃO 10

No trecho “ela nunca mais o viu”, as palavras em destaque, respectivamente:

- (A) “Ela” é pronome pessoal do caso reto e retoma Mariana. Por sua vez, “o” é pronome oblíquo átono e aponta para o termo “namorado de Mariana, que não aparece no texto, mas pode ser identificado pela pista textual “namoro”
- (B) “Ela” é pronome pessoal do caso reto e retoma Mariana. Por sua vez, “o” também é pronome pessoal do caso reto, mas aponta para o referente “namoro”
- (C) “Ela” é pronome pessoal do caso reto e retoma Mariana. Por sua vez, “o” é pronome oblíquo tônico e aponta para o referente “namorado de Mariana, que não aparece no texto, mas pode ser identificado pela pista textual “namoro”
- (D) “Ela” é pronome pessoal de tratamento e retoma Mariana. Por sua vez, “o” é pronome oblíquo átono e aponta para o referente “namoro”.
- (E) “Ela” é pronome pessoal do caso reto e retoma Mariana. Por sua vez, “o”, nesse caso, funciona como pronome demonstrativo e aponta para o referente “namorado de Mariana, que não aparece no texto, mas pode ser identificado pela pista textual “namoro”

RACIOCÍNIO LÓGICO-MATEMÁTICO

QUESTÃO 11

A imagem abaixo corresponde a tabela de informação nutricional de um determinado alimento:

Informação Nutricional		
Quantidade por porção 20g (2 colheres de sopa)		% VD*
Valor calórico	55kcal/230kJ	3%
Carboidratos (g)	6,4	2%
Proteínas (g)	4,2	6%
Gorduras totais (g)	1,3	2%
Gorduras saturadas (g)	0,4	2%
Gorduras trans (g)	0,0	**
Fibra Alimentar (g)	4,6	19%
Sódio (mg)	8,5	0%
Cálcio (mg)	4,2	1%
Ferro (mg)	0,20	1%

A partir da análise da tabela, o valor calórico de uma porção de 100g desse alimento corresponderá a:

- (A) 55 kcal
- (B) 110 kcal
- (C) 165 kcal
- (D) 220 kcal
- (E) 275 kcal

QUESTÃO 12

Em uma escola municipal, a proporção de meninos para meninas é de três quintos (3/5). Sabendo que o total de meninos na escola é 258, pode-se afirmar que o total de meninas é:

- (A) 155
- (B) 210
- (C) 345
- (D) 430
- (E) 688

QUESTÃO 13

Pedro e Marcos participaram de um sorteio no qual eles recebiam um bilhete com um número de quatro (4) dígitos. A premiação funcionaria da seguinte maneira:

- O ganhador do bilhete premiado recebe R\$ 1.000,00;
- Os bilhetes cujos números contêm uma centena, uma dezena ou uma unidade do bilhete premiado recebem da seguinte forma:
 - Centena: R\$ 400,00
 - Dezena: R\$ 80,00
 - Unidade: R\$ 5,00

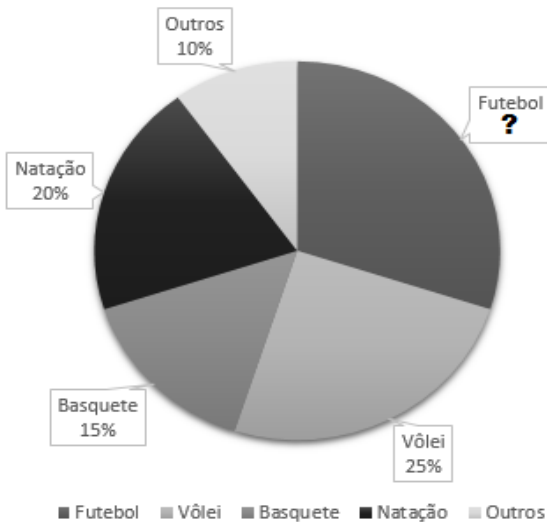
Sabendo que o bilhete de Pedro era o número 1435 e o bilhete de Marcos era o número 2438, e que o bilhete premiado era o número 3438, pode-se afirmar que as premiações de Pedro e Marcos foram respectivamente:

- (A) R\$ 5,00 e R\$ 80,00
- (B) R\$ 0,00 e R\$ 400,00**
- (C) R\$ 80,00 e R\$ 0,00
- (D) R\$ 80,00 e R\$ 80,00
- (E) R\$ 400,00 e R\$ 0,00

QUESTÃO 14

O gráfico abaixo representa uma pesquisa realizada com 80 pessoas sobre a preferência por modalidades esportivas:

Preferência por modalidades esportivas



Pode-se afirmar que o percentual de pessoas que preferem Futebol e a quantidade de pessoas que preferem Basquete são respectivamente:

- (A) 24% e 12
- (B) 24% e 24
- (C) 30% e 12**
- (D) 30% e 15
- (E) 30% e 24

QUESTÃO 15

João resolveu reformar sua casa e precisava comprar latas de tinta para pintar as paredes. É necessária uma lata de tinta para cada 25m² de parede. As dimensões das paredes das áreas a serem pintadas são as seguintes:

- Cozinha: 24m²
- Quarto Casal: 28m²
- Quarto Solteiro: 15m²
- Sala de estar: 33m²

João precisará de quantas latas de tinta para pintar as paredes das áreas descritas acima?

- (A) 4**
- (B) 4,5
- (C) 5
- (D) 5,5
- (E) 6

ATUALIDADES**QUESTÃO 16**

No dia 12 de maio de 2016, o Senado aprovou o pedido de abertura do processo de impeachment da presidente Dilma Rousseff. A partir dessa data, o Senado irá investigar as acusações contra a presidente e fará o julgamento propriamente dito do impeachment. Enquanto aguarda o julgamento, a presidente Dilma Rousseff ficará afastada por um período máximo de:

- (A) 45 dias.
- (B) 60 dias.
- (C) 90 dias.
- (D) 120 dias.
- (E) 180 dias.

QUESTÃO 17

O complexo de campos de refugiados de Dadaab, considerado o maior do mundo e que abriga centenas de milhares de fugitivos somalis, pode ser fechado pelo governo do seu país, segundo noticiado em maio de 2016. Dadaab é tido pelas forças de segurança como uma "ameaça" ao país, que teme a infiltração de extremistas do grupo jihadista Al-Shabab, originário da vizinha Somália. Além disso, o governo alega que os campos servem como base para o contrabando de armas. Dadaab fica localizado em qual país?

- (A) Quênia
- (B) Sudão
- (C) Chile
- (D) Iraque
- (E) Síria

QUESTÃO 18

O Rio de Janeiro será a cidade sede dos Jogos Olímpicos de 2016. O início simbólico dos Jogos Olímpicos é marcado pela cerimônia de acendimento da chama olímpica, que ocorreu no dia 21 de abril de 2016:

- (A) na África.
- (B) no Japão.
- (C) na Grécia.
- (D) no Brasil.
- (E) na Suíça.

QUESTÃO 19

Em 22 de março de 2016 ocorreu mais um atentado terrorista na Europa, deixando pelo menos 35 mortos e mais de 300 feridos. O Estado Islâmico reivindicou a autoria dos ataques no terminal de embarque de um aeroporto e na estação de metrô. Os atentados ocorreram em:

- (A) Copenhague, capital da Dinamarca.
- (B) Bruxelas, capital da Bélgica.
- (C) Paris, capital da França.
- (D) Berlim, capital da Alemanha.
- (E) Londres, capital da Inglaterra.

QUESTÃO 20

Em maio de 2016, 11 ministros do Supremo Tribunal Federal (STF) decidiram manter a suspensão do mandato parlamentar e o afastamento por tempo indeterminado do deputado da presidência da Câmara. Eduardo Cunha estava atrapalhando as investigações da Lava Jato, por isso foi afastado do cargo. O seu sucessor, o qual assumiu interinamente a presidência da Câmara dos Deputados, é:

- (A) Michel Temer
- (B) Rogério Rosso
- (C) Lindbergh Farias
- (D) Waldir Maranhão
- (E) Renan Calheiros

CONHECIMENTOS GERAIS E ESPECÍFICOS

QUESTÃO 21

Sobre o funcionamento do motor em tratores, julgue os itens abaixo em verdadeiro (V) ou falso (F):

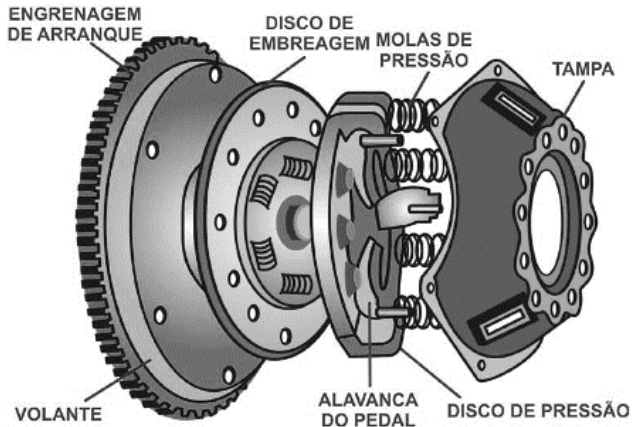
- () O motor é o componente do trator responsável pela transformação da energia dos combustíveis em energia mecânica (rotação).
- () Os tratores utilizam motores de quatro tempos, que compreende as seguintes fases: admissão, compressão, expansão e descarga.
- () O princípio de funcionamento dos motores de tratores é a queima do combustível sob pressão, gerando uma explosão que empurra um pistão ou êmbolo, fazendo este deslocar uma biela ligada ao eixo virabrequim.

A sequência correta, de cima para baixo, é:

- (A) V V V
- (B) V V F
- (C) V F F
- (D) F V V
- (E) F V F

QUESTÃO 22

Os componentes ilustrados na figura abaixo fazem parte do:




- (A) Sistema de alimentação de ar.
- (B) Sistema de alimentação de combustível.
- (C) Sistema de lubrificação.
- (D) Sistema de arrefecimento.
- (E) Sistema de transmissão.

QUESTÃO 23


Uma das principais fontes de potência, responsáveis pela alta produção agrícola com significativa economia de mão-de-obra, é o trator agrícola. A ele podem ser acoplados e adaptados inúmeros implementos e máquinas de diferentes formas para realizar as mais diferentes operações agrícolas requeridas na área rural. Associe corretamente os tipos de acoplamento em tratores agrícolas com suas respectivas definições:

1. Montados



() São aqueles acoplados aos dois pontos do sistema de engate de três pontos do trator.

2. Semi-montados



() São aqueles acoplados ao sistema de engate de três pontos do trator.

3. De arrasto



() São aqueles acoplados à barra de tração do trator, através de um único ponto.

A sequência correta, de cima para baixo, é:

- (A) 1 - 3 - 2
- (B) 2 - 1 - 3
- (C) 3 - 1 - 2
- (D) 2 - 3 - 1
- (E) 3 - 2 - 1

QUESTÃO 24

Julgues os itens abaixo em verdadeiro (V) ou falso (F) sobre o sistema de freios de um trator:

- () Os tratores agrícolas 4x2 e 4x2 TDA possuem sistemas de freios somente nas rodas traseiras.
- () Os tratores 4x4 possuem sistema de freios nas quatro rodas que frena as rodas através da transmissão.
- () O acionamento os freios pode ser mecânico ou hidráulico, sendo obrigatório o freio hidráulico nos tratores.

A sequência correta, de cima para baixo, é:

- (A) V V V
- (B) V F F
- (C) V V F
- (D) F F V
- (E) F V F

QUESTÃO 25

Um motorista dirigindo a 120 km/h, em uma via na qual está sinalizada que a velocidade máxima permitida é 80 km/h, está cometendo um ato de:

- (A) incompetência.
- (B) insuficiência.
- (C) ineficiência.
- (D) imprudência.**
- (E) imperícia.

QUESTÃO 26

No atendimento aos primeiros socorros para as vítimas de acidentes de trânsito, são ações que podem ser verificadas:

1. Obstrução das vias aéreas.
2. Parada cardiorrespiratória.
3. Hemorragias internas.
4. Nível de consciência da vítima.

- (A) 1 e 3
- (B) 2 e 4
- (C) 1, 2 e 4**
- (D) 2, 3 e 4
- (E) 1, 2, 3 e 4

QUESTÃO 27

Assinale a alternativa que apresenta a atitude mais CORRETA a ser tomada em casos de primeiros socorros em vítimas com queimaduras:

- (A) Aplicar substâncias (pomada, loção) no local.
- (B) Colocar emplastro ou curativo adesivo.
- (C) Usar algodão ou qualquer tipo de tecido, independente do material.
- (D) Cobrir ou resfriar a queimadura para causar uma hipotermia e aliviar a dor da vítima.
- (E) Interromper o fluxo da corrente elétrica, em casos de queimaduras causadas por choques elétricos.**

QUESTÃO 28

Assinale a alternativa INCORRETA quanto aos cuidados de segurança na operação e manutenção de tratores:

- (A) Desça sempre de costas, colocando as mãos nos apoios e os pés nos degraus.
- (B) Acesse a cabine (plataforma) de operação pelo lado esquerdo do trator e não segure no volante.
- (C) Ao transportar outras pessoas no trator, utilize carretas ou plataformas para transportes.
- (D) Não é necessário o uso do cinto de segurança quando o trator possuir arco de segurança ou EPCC (Estrutura de Proteção Contra Capotamento).**
- (E) Nunca faça reparos nas mangueiras ou conexões do sistema hidráulico com o motor do trator aquecido.

QUESTÃO 29

Associe corretamente os principais cuidados de manutenção preventiva em tratores com suas respectivas justificativas e assinale a alternativa que apresenta a associação correta:

1. Troca do filtro de combustível
 2. Calibragem dos pneus
 3. Regulagem dos pedais de freio
 4. Regulagem do pedal de embreagem
-
- a. Provoca dificuldade do engate de marchas, podendo vir a danificá-lo.
 - b. Aumento da vida útil, além de fornecer melhor aderência reduzindo patinagem excessiva e desgaste de combustível.
 - c. Ocasiona mau funcionamento do sistema de alimentação acarretando em perda de eficiência do motor.
 - d. Provoca deficiência na frenagem e dificuldade de operação do trator.

- (A) 1b - 2c - 3a - 4d
- (B) 1c - 2b - 3d - 4a**
- (C) 1d - 2a - 3c - 4b
- (D) 1c - 2a - 3d - 4b
- (E) 1d - 2b - 3c - 4a

QUESTÃO 30

Associe corretamente os tipos de veículos abaixo com suas respectivas definições e assinale a alternativa que apresenta a associação correta:

1. Veículo articulado
 2. Veículo de coleção
 3. Veículo conjugado
 4. Veículo misto
-
- a. Veículo automotor destinado ao transporte simultâneo de carga e passageiro.
 - b. Veículo fabricado há mais de trinta anos e que conserva suas características originais de fabricação, além de possui valor histórico próprio.
 - c. Combinação de veículos acoplados, sendo um deles automotor.
 - d. Combinação de veículos, sendo o primeiro um veículo automotor e os demais reboques ou equipamentos de trabalho agrícola, construção, terraplenagem ou pavimentação.

- (A) 1b - 2c - 3a - 4d
- (B) 1c - 2a - 3b - 4d
- (C) 1a - 2b - 3d - 4c
- (D) 1c - 2b - 3d - 4a**
- (E) 1b - 2d - 3c - 4a

QUESTÃO 31

“A _____ é um eixo acionador utilizado para operar máquinas que necessitam de movimento de rotação tais como roçadoras, pulverizadores, distribuidores de insumos e sementes, enxadas rotativas, etc.”. A alternativa que preenche corretamente a lacuna em branco é:

- (A) carga de tração (CDT)
- (B) alavanca de variação de torque (AVT)
- (C) chave de eixo potencial (CEP)
- (D) barra de tração (BDT)
- (E) tomada de potência (TDP)**

QUESTÃO 32

A imagem abaixo ilustra um exemplo de:



- (A) trator misto
- (B) trator de roda - 4x2
- (C) trator de roda - 4x4**
- (D) trator de esteira
- (E) trator de semi-esteira

QUESTÃO 33

São situações em que o motorista será submetido a curso de reciclagem, EXCETO:

- (A) Quando o condutor for condenado judicialmente por delito de trânsito.
- (B) Quando o condutor renovar a carteira com mais de sessenta e cinco anos de idade.**
- (C) Quando for constatado que o condutor está colocando em risco a segurança do trânsito.
- (D) Quando o condutor tiver o direito de dirigir suspenso.
- (E) Quando o condutor se envolver em acidente grave para o qual haja contribuído.

QUESTÃO 34

Segundo o Código de Trânsito Brasileiro (CTB), transitar em locais e horários não permitidos pela regulamentação estabelecida pela autoridade competente constitui infração:

- (A) de natureza média, penalizada com multa.**
- (B) de natureza média, penalizada com multa e apreensão do veículo.
- (C) de natureza grave, penalizada com multa.
- (D) de natureza grave, penalizada com multa e apreensão do veículo.
- (E) de natureza gravíssima, penalizada com multa.

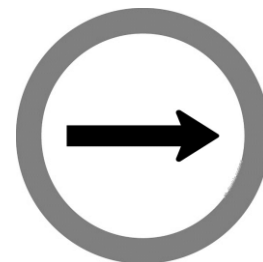
QUESTÃO 35

“A manutenção _____ é feita após a ocorrência de danos a algum componente do trator, onde é necessário serviço especializado de mecânico.”. A alternativa que preenche corretamente a lacuna em branco é:

- (A) preditiva
- (B) detectiva
- (C) corretiva**
- (D) relativa
- (E) preventiva

QUESTÃO 36






A placa de regulamentação abaixo informa ao condutor do veículo que:



- (A) a via ou a pista sinalizada tem sentido único de circulação.**
- (B) existe um obstáculo e que a passagem é obrigatoriamente feita à direita ou à esquerda do mesmo.
- (C) existe a presença de uma repartição alfandegária, onde a parada é obrigatória.
- (D) é obrigatório realizar o movimento indicado, de seguir em frente.
- (E) a via de sentido único de circulação passa a ser de sentido duplo, após o ponto em que o sinal estiver colocado.

QUESTÃO 37

A placa de trânsito de regulamentação que informa ao condutor de tratores e máquinas de obras a proibição de transitar, a partir do ponto sinalizado, na área, via ou pista é:

- (A) 
- (B) 
- (C) 
- (D) 
- (E) 

QUESTÃO 38

O município de Passagem Franca do Piauí limita-se territorialmente com os seguintes municípios, EXCETO:

- (A) Beneditinos.
(B) Hugo Napoleão.
(C) Elesbão Veloso.
(D) Jardim do Mulato.
(E) **Água Branca.**

QUESTÃO 39

A área territorial e os limites do município de Passagem Franca do Piauí foram definidos pela Lei Estadual nº 4477 na data de:

- (A) 05 de outubro de 1989.
(B) 15 de setembro de 1990.
(C) 22 de março de 1991.
(D) **29 de abril de 1992.**
(E) 01 de janeiro de 1993.

QUESTÃO 40

Acerca do município de Passagem Franca do Piauí, analise os itens abaixo:

- I. De acordo com o último censo realizado pelo Instituto Brasileiro de Geografia e Estatística (IBGE) em 2010, a população do município já ultrapassou os 10 mil habitantes.
- II. O gentílico de quem nasce no município é passagemfrancaense.
- III. O município foi desmembrado de Barro Duro e São Miguel da Baixa Grande.

Pode-se afirmar que:

- (A) Os itens I e II estão corretos.
(B) Os itens II e III estão corretos.
(C) Os itens I e III estão corretos.
(D) Todos os itens estão corretos.
(E) **Nenhum item está correto.**