

**PORTUGUÊS**

Considere a charge abaixo para responder as questões 01, 02 e 03:



Fonte: <http://chargedodiemer.blogspot.com/2009>

01. O processo ambíguo presente na charge é característica predominante da função:

- A) Fática
- B) Conativa
- C) Referencial
- D) Metalinguística
- E) Emotiva

02. Quanto ao aspecto cômico da charge, analise os itens abaixo e assinale a ÚNICA alternativa correta.

- I. A instauração do processo de ambiguidade motivou-se ironicamente pelo personagem cavalo.
- II. Há um diálogo direto entre o cavalo e o homem.
- III. Há uma insinuação passiva por parte de um dos personagens pela inversão de valores.
- IV. O discurso do personagem homem ventila à hipótese de que o mesmo encontra-se embriagado.

Está(ão) correta(s)

- A) todas as proposições
- B) apenas a proposição I
- C) apenas as proposições I, II e III
- D) apenas as proposições I, III e IV
- E) apenas as proposições II e IV

03. Na expressão “Mas, báh! Cadê meu cavalo???” podemos inferir que:

- I. Ocorre uma variação linguística regional;
- II. Há o registro de uma linguagem coloquial;
- III. Existe o registro de uma inadequação ortográfica.

Está(ão) correta(s)

- A) apenas a proposição I;
- B) apenas as proposições I e II;
- C) apenas as proposições II e III;
- D) apenas a proposição III;
- E) todas as proposições.

04. Assinale a alternativa abaixo em que todas as palavras estão acentuadas corretamente.

- A) Orgão Lápis, médico
- B) Cáries, Virus, infância

- C) Ímã, mármore, armazém
- D) Album, céu, chapéu
- E) Odontologo, vôo, saúde

05. Todos os enunciados abaixo correspondem a orações subordinadas substantivas, **EXCETO**:

- A) Espero sinceramente isto: que vocês não faltem mais.
- B) Desejo que ela volte.
- C) Gostaria de que todos me apoiassem.
- D) Tenho medo de que esses assessores me traiam.
- E) Os jogadores que foram convocados apresentaram-se ontem.

06. Analise, sistematicamente, o enunciado abaixo e responda:

**Leccapiatti – No coração da cidade**

A expressão supracitada corresponde a um slogan de um restaurante da capital Aracaju. Nela é possível identificar:

- A) uma relação de antítese
- B) uma postura onomatopéica
- C) a presença de anáfora
- D) um processo metonímico
- E) um caráter metafórico

Considere a imagem abaixo para responder a questão 07.



07. A imagem acima apresenta algumas inadequações perante a norma padrão. Entre elas podemos destacar:

- I. Inversão de termos na frase.
- II. Uso inoportuno do acento agudo;
- III. Uso da letra “Z” no lugar de “S” representando o mesmo fonema;

Está(ao) correto(s) o(s) item(ns):

- A) I, apenas;
- B) II, apenas;
- C) I e II, apenas;
- D) II e III, apenas;
- E) I, II e III.

Considere a imagem abaixo e responda as questões 08 e 09.



08. O verbo sorrir da forma como se encontra grafado no texto ilustrado acima, pode ser conjugado:

- A) no presente do subjuntivo, apenas;
- B) no pretérito imperfeito do modo indicativo e no presente do modo subjuntivo, apenas;
- C) no imperativo afirmativo, apenas;
- D) no pretérito imperfeito do modo indicativo, apenas;
- E) no pretérito imperfeito do modo indicativo, no presente do modo subjuntivo e no imperativo afirmativo.

09. Ainda sobre o texto ilustrado, assinale a ÚNICA alternativa **INCORRETA**.

- A) O texto registra a presença de um sujeito determinado.
- B) O texto registra um sujeito composto.
- C) Há o registro de um verbo nominal no gerúndio.
- D) "Filmado" tem valor adjetivo.
- E) O texto registra a presença de um verbo de ligação grafado com a ausência de acentuação gráfica.

10. Ainda sobre adequações ortográficas, assinale a ÚNICA alternativa em que todas as palavras estão grafadas conforme a norma padrão.

- A) paletó, ponteagudo, requisito
- B) análise, enxadrista, roraimense
- C) insosso, insensatez, sensual
- D) lixeiro, insersão, rochoso
- E) flecha, frizo, camurça

## CONHECIMENTOS GERAIS

11. Atualmente o posto de presidente do Supremo Tribunal Federal, o chamado STF, tem sido da pessoa de:

- A) Gilmar Ferreira Mendes
- B) Joaquim Barbosa
- C) Ellen Gracie Northfleet
- D) Marco Aurélio Mendes de Faria Mello
- E) Antonio Cezar Peluso

12. Todas as alternativas abaixo contribuem, gravemente, para o aquecimento global, **exceto**:

- A) Crescimento e surgimento de desertos: o aumento da temperatura provoca a morte de várias espécies animais e vegetais, desequilibrando vários ecossistemas. Somado ao desmatamento que vem ocorrendo, principalmente em florestas de países tropicais (Brasil, países africanos), a tendência é aumentar cada vez mais as regiões desérticas em nosso planeta;
- B) Aumento do nível dos oceanos: com o aumento da temperatura no mundo, está em curso o derretimento das calotas polares. Ao aumentar o nível das águas dos oceanos, podem ocorrer, futuramente, a submersão de muitas cidades litorâneas;
- C) Aumento de poços artesianos: com o número de poços artesianos em crescimento acelerado, tem se verificado uma intensa onda de infiltrações entre as rochas sedimentares, provocando uma rachadura nas áreas próximas as barragens e barreiras, causando risco às áreas residenciais envolvidas.

D) Ondas de calor: regiões de temperaturas amenas tem sofrido com as ondas de calor. No verão europeu, por exemplo, tem se verificado uma intensa onda de calor, provocando até mesmo mortes de idosos e crianças.

E) Aumento de furacões, tufões e ciclones: o aumento da temperatura faz com que ocorra maior evaporação das águas dos oceanos, potencializando estes tipos de catástrofes climáticas;

13. Leia o texto abaixo:

Caminhando e cantando e seguindo a canção  
Somos todos iguais, braços dados ou não  
Nas escolas, nas ruas, campos, construções  
Caminhando e cantando e seguindo a canção(...)

O trecho acima é um fragmento da música *Para não dizer que não falei de flores*, que vem sendo veiculada inúmeras vezes pela mídia televisiva brasileira fazendo alusão ao período da Ditadura Militar. Esta letra pertence a um lendário brasileiro que foi perseguido durante a Ditadura Militar. Marque a alternativa que traz o autor desta música.

- A) Geraldo Azevedo
- B) Geraldo Vandré
- C) Zé Ramalho
- D) Chico César
- E) João Gilberto

14. Mais um ministro do Governo de Dilma Rousseff pediu demissão depois de a imprensa ter denunciado irregularidades com dinheiro público, tornando-se o quinto ministro a deixar a pasta na gestão da Presidente Dilma. Desta vez foi o Ministro Pedro Novais que estava a frente do Ministério:

- A) das Minas e Energia;
- B) da Educação;
- C) da Saúde;
- D) da Integração Nacional;
- E) do Turismo.

15. Recentemente, o Consórcio Inframérica, formado pelo grupo Engevix e pelo argentino Corporación America, apresentou proposta de R\$ 170 milhões e venceu, em disputa acirrada, o leilão que concedeu ao grupo o direito de construir, manter e explorar um aeroporto brasileiro. Trata-se do primeiro aeroporto que será administrado pela iniciativa privada. Assinale, entre as alternativas abaixo, o aeroporto de foi leiloado pelo grupo Engevix e pelo argentino Corporación America:

- A) Aeroporto Internacional de Guarulhos/São Paulo
- B) Aeroporto Internacional Juscelino Kubitschek de Brasília
- C) Aeroporto Internacional de São Gonçalo do Amarante do Rio Grande do Norte
- D) Aeroporto Internacional Deputado Luís Eduardo Magalhães de Salvador
- E) Aeroporto Internacional de Viracopos de Campinas

16. Segundo o Artigo 2º da Seção I é vedado ao município de Ivorá instituir imposto sobre:

- I. o patrimônio;
- II. a renda ou os serviços da UNIÃO;
- III. os templos de qualquer culto;
- IV. as empresas que contribuem para o crescimento do município;
- V. estabelecer diferenças tributárias entre bens e serviços de qualquer natureza.

Está **incorreto** o item:

- A) I
- B) II
- C) III
- D) IV
- E) V

17. Todas as alternativas abaixo são deveres do município de Ivorá que diz respeito ao seu interesse e bem estar da população, **exceto**:

- A) suplementar a legislação Estadual e Federal, no que couber;
- B) tornar público todas as ações do prefeito em mandato;
- C) fixar, fiscalizar e cobrar tarifas ou preços públicos;
- D) planejar o uso do terreno em seu território, especialmente em sua zona urbana;
- E) tornar obrigatório o uso da estação rodoviária, quando houver.

18. Segundo o Artigo 21 da Lei Orgânica do município de Ivorá a soberania popular será exercida por, **exceto**:

- A) plebiscito;
- B) referendo;
- C) iniciativa popular;
- D) participação direta ou através de entidades que representativas na co-gestão da administração ou do órgão público e na fiscalização dos serviços e contas municipais;
- E) através do voto indireto.

19. O Artigo 29 da Lei Orgânica do município de Ivorá afirma que:

- A) A investidura em cargos ou emprego público depende de aprovação prévia em concurso público de provas ou de provas e títulos, ressalvadas as nomeações para cargos em comissão, declaradas em lei de livre nomeação e exoneração;
- B) Os cargos, empregos e funções públicas municipais são acessíveis aos brasileiros que preencham os requisitos estabelecidos em lei;
- C) A Lei reservará percentual dos cargos e empregos públicos para as pessoas portadoras de deficiência e definirá os critérios de sua admissão;
- D) É garantido ao servidor público civil o direito à livre associação sindical;
- E) O direito de greve será exercido nos termos e limites definidos em Lei Federal.

20. O Artigo 36 da Lei Orgânica do município de Ivorá afirma que É vedada a acumulação remunerada de cargos públicos, **exceto** quando houver compatibilidade de horários:


- I. a de dois cargos de professor;
- II. a de um cargo de professor com outro técnico e científico;
- III. a de um cargos de professor de uma de auxiliar em qualquer parte administrativa;
- IV. a de dois cargos privativos de médico.

Estão corretos os itens:

- A) I e II;
- B) I e III;
- C) I e IV;
- D) I, II e III;
- E) I, II e IV.

## CONHECIMENTOS ESPECÍFICOS

21. A interface de comunicação IDE, representada na imagem abaixo, foi sucedida pelo padrão:



- A) USB
- B) HDMI
- C) Wi-Fi
- D) SATA
- E) FireWire

22. Dos dispositivos listados abaixo, possuem modelos com interface USB:

- I. Scanner
- II. Impressora
- III. WebCam
- IV. Mouse
- V. Monitor
- VI. Caixa de som

- A) I, II, III e IV;
- B) III e IV;
- C) I, II e III;
- D) I, II, III, IV e VI;
- E) Todos.

23. “[...] é um circuito integrado que executa instruções de máquina, realizando diversos cálculos e tomadas de decisão.” Essa é a definição do(a):

- A) Memória RAM
- B) CPU
- C) BIOS
- D) EPROM
- E) HD

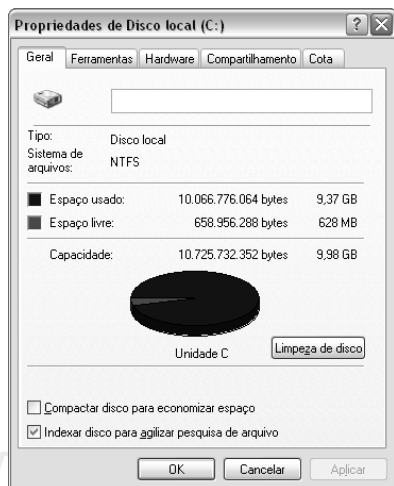
24. O sistema de arquivos reconhecido por diversos sistemas operacionais, além de outros dispositivos como DVD Players e aparelhos de som, é:

- A) Ext2
- B) SWAP
- C) NTFS
- D) HFS
- E) Fat 32

25. No Windows XP, podemos alterar o papel de parede através do item do painel de controle:

- A) Sistema
- B) Opções de pasta
- C) Vídeo
- D) Ferramentas administrativas
- E) Contas de usuário

26. Observe a imagem abaixo da janela *Propriedade de Disco local* do Windows XP:



Na guia *Ferramentas* encontraremos as opções:

- I. Verificação de erros
- II. Inicialização e recuperação
- III. Desfragmentação
- IV. Backup
- V. Desempenho

- A) I e III;
- B) I, II e III;
- C) I, III e IV;
- D) I, III e V;
- E) I, II e IV.

27. Na visualização de impressão do Word 2007 encontramos as seguintes opções de configuração de página:

- I. Margens
- II. Orientação
- III. Tamanho
- IV. Quebras
- V. Bordas

Estão corretos os itens:

- A) II e III;
- B) I, II e III;
- C) II, III e V;
- D) I, II, III e V;
- E) I, II, III, IV e V.

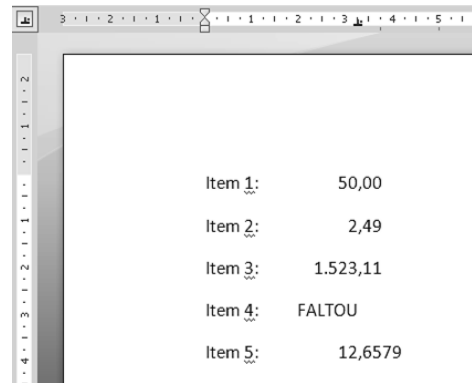
28. Na guia *Referências* do Word 2007 encontraremos os seguintes grupos, **exceto**:

- A) Sumário
- B) Índice
- C) Notas de Rodapé
- D) Comentários
- E) Legendas

29. No Word 2007, para desfazer a última ação pressionamos as teclas CTRL + Z. Para refazer a última ação desfeita pressionamos as teclas:

- A) CTRL + Z
- B) CTRL + R
- C) CTRL + D
- D) CTRL + Y
- E) CTRL + X

30. Observe atentamente a imagem abaixo capturada do Word 2007:



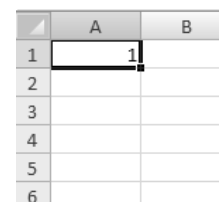
Observando o alinhamento do texto e a marcação de tabulação, podemos afirmar que foi utilizada a tabulação:

- A) Direita
- B) Esquerda
- C) Barra
- D) Decimal
- E) Centralizado

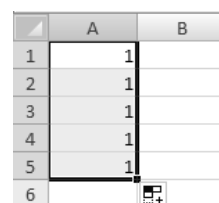
31. Ao digitar uma fórmula no Excel 2007, notou-se que apareceu o seguinte valor de erro na célula: **#REF!**. Esse erro ocorreu porque:


- A) a fórmula ou função possui valores numéricos inválidos.
- B) o número apresentado na célula não cabe na largura da coluna.
- C) o Excel não reconhece o texto (nome da função) em uma fórmula.
- D) uma referência de célula é inválida.
- E) a fórmula ou função tentou realizar uma divisão por 0 (zero).

32. No Excel 2007, na célula A1, foi inserido o valor 1, conforme imagem abaixo:



Clicando-se na alça de preenchimento e arrastando-a até a célula A5, obtivemos o seguinte resultado:



Se através do ícone *Opções de autopreenchimento*  escolhermos a opção *Preencher Série*, podemos afirmar que:

- A) Os valores das células A1 a A5 permanecerão inalterados;
- B) Os valores das células A1 a A5 serão alterados para 2, 3, 4, 5 e 6, respectivamente;
- C) Os valores das células A2 a A5 serão alterados para 2, 3, 4 e 5, respectivamente;
- D) Os valores das células A1 a A5 serão alterados para 1,0;
- E) Os valores das células A1 a A5 serão alterados para 1, 2, 3, 2, 1, respectivamente.

33. Nos expedientes do padrão ofício deve-se:

- I. Numerar todos os parágrafos, exceto o fecho;
- II. Tratar todas as ideias em um único parágrafo;
- III. Colocar a numeração dos parágrafos de acordo com a alínea paragrafal.

Está correto o que se afirma em:

- A) I, apenas;
- B) II, apenas;
- C) III, apenas;
- D) II e III;
- E) I, II e III.

34. De acordo com a Instrução Normativa nº 4, publicada no Diário Oficial de 6 de março de 1992:

- I. Está abolida na correspondência oficial a expressão *Digníssimo*;
- II. A expressão *professor* será usada antes do nome pessoal;
- III. Não se deve usar a expressão *Ilustríssimo*;
- IV. Pode-se usar como fecho a expressão *Atenciosas saudações*.

Está **incorreto** o que se afirma em:

- A) I, apenas;
- B) II, apenas;
- C) IV, apenas;
- D) II e IV;
- E) I, II e III.

35. Todas as normas abaixo pertencem ao padrão ofício, **exceto**:

- A) O local e data são colocados por extenso, com alinhamento à esquerda do texto.
- B) O tipo e número do expediente vêm antes da sigla do órgão que o expede.
- C) O vocativo é colocado de acordo com a alínea paragrafal.
- D) Os parágrafos devem ser numerados à exceção do primeiro e do último.
- E) A numeração dos parágrafos deve estar com alinhamento à esquerda do texto.

36. Nas comunicações oficiais não é devido o tratamento *Excelência* a:

- A) Deputado Estadual;
- B) Secretário de Estado de Governo Estadual;
- C) Presidente da Câmara Municipal;

- D) Presidente de Autarquia Estadual;
- E) Promotor de Justiça.

37. Observe a tabela abaixo:

Documento	Prazo de Guarda		Destinação Final	OBS.
	Corrente	Intermediário		
Campanhas Publicitárias	4 anos	10 anos	Permanente	Microfilmar
Normas e Regulamentos	Enquanto vigorar	–	Permanente	Microfilmar
Exames de Seleção	6 anos	–	Eliminação	–
Notas de Despesas	Até aprovação das contas	5 anos após aprovação das contas	Eliminação	–
Planos e Projetos	Enquanto vigorar	5 anos	Permanente	Microfilmar

A mesma é conhecida como:

- A) Plano de Classificação
- B) Tabela de Temporalidade
- C) Plano de Organização
- D) Tabela de Classificação
- E) Plano de Arquivamento

38. Assinale a alternativa que contém o(s) tipo(s) de documento(s) que deve(m) ser arquivado(s) permanentemente:

- A) convites diversos;
- B) orçamentos para aquisição de material permanente;
- C) duplicatas de originais;
- D) atos de criação e atos constitutivos;
- E) folders de cursos realizados por outros órgãos.

39. Considere a hipótese de arquivamento a seguir:

**FILIAIS**

- Nordeste
- Sudeste

**FORNECEDORES**

- Máquinas de grande porte
- Material de escritório

**PESSOAL – FOLHA DE PAGAMENTO**

- de A até J
- de K até M
- de N até Z

Observando o exposto acima, podemos afirmar que o principal critério utilizado para tal fim foi o de arquivamento:

- A) Por assunto;
- B) Por localidade;
- C) Por número;
- D) Por nome;
- E) Por importância.

40. Jaqueta de microfichas e rolo de microfilme são documentos do gênero:

- A) Filmográfico;
- B) Micrográfico;
- C) Projeto;
- D) Fotográfico;
- E) Iconográfico.