


FISCAL DE OBRAS

INSTRUÇÕES AO CANDIDATO

- **Durante a realização da prova não será permitido ao candidato, sob pena de exclusão do Concurso Público:**
 - a) Qualquer espécie de consulta bibliográfica, utilização de livros, manuais ou anotações;
 - b) Comunicação entre candidatos;**
 - c) Uso de máquina calculadora;
 - d) Uso de relógio de qualquer tipo;
 - e) Agendas eletrônicas, telefones celulares, smartphones, MP3, notebook, palmtop, tablet, BIP, walkman, gravador ou qualquer outro receptor ou transmissor;
 - f) Uso de óculos escuros, bonés, protetores auriculares e outros acessórios similares;
 - g) Perturbar de qualquer modo a execução dos trabalhos;

- Todas as respostas do Caderno de Prova deverão ser transportadas para o Cartão Resposta;

- Não serão computadas as questões não assinaladas ou que contenham mais de uma resposta, ementa ou rasura;

- O gabarito da letra escolhida deve ser pintado de forma a completar todo o círculo. Exemplo:


- Para a realização da Prova Escrita, o candidato deverá utilizar caneta esferográfica de tinta azul ou preta;

- Após a realização da prova, o candidato deverá afastar-se do local;

- Ao terminar a prova, o candidato entregará ao fiscal o Caderno de Prova e o Cartão Resposta devidamente **preenchido e assinado**;

- Os 03 últimos candidatos permanecerão até o último concluir, os quais assinarão a ata de encerramento, juntamente com os fiscais, efetuarão a conferência dos Cartões-Resposta, cujas irregularidades serão apontadas na referida ata, e assinarão o lacre dos envelopes em que forem guardados os Cartões-Resposta;

- A Prova escrita terá início às 08h30min com término às 11h30min. A duração mínima para realização da prova é de 1 (uma) hora, com tempo máximo de 03h00min (três) horas. A Prova será composta por questões de múltipla escolha, sendo cada questão composta de 05 alternativas (a, b, c, d, e), possuindo somente uma alternativa correta;

- O Caderno de Provas será composto:

CONTEÚDO	Nº DE QUESTÕES
Língua Portuguesa	05 (cinco)
Raciocínio Lógico	05 (cinco)
Informática	05 (cinco)
Conhecimentos Gerais	05 (cinco)
Conhecimentos Específicos	20 (vinte)
Total de Questões	40 (quarenta)

- Verifique se o Caderno de Provas está completo, sem falhas de impressão e se a quantidade de questões está correta;
- Você deverá transcrever as respostas das questões para o Cartão-Resposta, que será o **único documento válido para a correção das provas.**
- **O preenchimento do Cartão Resposta é de inteira responsabilidade do candidato e não será substituído em caso de erro do candidato.**

BOA PROVA!

Língua Portuguesa

O texto seguinte servirá de base para responder às questões de 1 a 5.

SE ÉS CAPAZ

(1º§) A longa lista de desafios - Se és capaz, se és capaz, se és capaz - intimidava-me e, ao mesmo tempo, exercia sobre mim o maior dos fascínios. E, muitas vezes, ficava a sonhar com feitos assim tão extraordinários: o próximo me julgaria com crueldade e eu teria para ele o melhor dos pensamentos. Se me batessem num lado da face, imediatamente ofereceria outro...

(2º§) E quando estourassem aquelas greves políticas que eu tanto amava - a escola ferveria em pleno clima revolucionário sob o tacão da ditadura - eu teria que ficar à margem, porque estava escrito que, quando todos em redor perdessem a cabeça, eu devia conservar serenamente a minha.

(3º§) Estava escrito. E foi daí por diante que eu comecei a perceber então que de nada vale decorar máximas que ficam gravadas na memória, mas não ficam no coração.

(4º§) Sim, diariamente, eu lia poemas antes de sair. Para ir fazendo tudo ao contrário em seguida: se me atacavam, eu respondia, se me faziam esperar, eu me desesperava, se me odiavam, eu odiava mais ainda, e no dia em que o meu professor de latim me deu zero, porque pensou que eu colara na prova, fui falar com ele em meio dos maiores protestos, ai! - A cólera da injustiça doendo na carne, embora me lembrasse muito bem que colara no exame anterior e que, portanto, o castigo viera meio fora de tempo, mas merecido.

(5º§) Isso vai valer para quando eu for mais velha, pensei, tirando o poema da parede. E até hoje ainda o conservo no fundo da minha gaveta, um belo trabalho literário e tipográfico, sem dúvida alguma.

(6º§) Mas quando eu topo com ele, não posso deixar de sorrir. Mas então, senhor Kipling? De que material somos feitos? Hein?

(7º§) Devemos é confessar humildemente nossa frágil condição humana, não, não somos deuses, nem semideuses, nem santos. A gente faz o que pode. E embora nossa alma - que tem o toque de Deus - continue intacta, apesar de tudo, intacta, no comportamento falhamos como pobres bichos frágeis que nós somos tão vulneráveis, tão sem defesa.

(8º§) Se nós somos capazes de tantas maravilhas? Não, não somos. Às vezes, temos gestos e pensamentos de anjo. Mas eu disse, às vezes!

(Lygia Fagundes Telles. "Se és capaz" Apud Wagner Ribeiro. Antologia Luso-brasileira. Editora FTD. 1964. São Paulo.)

Questão 01

Analise as assertivas com V, para verdadeiro, ou F, para falso:

(__) O título do texto está escrito com ideia condicional.

(__) A preposição usada na frase: "A longa lista de desafios" é imposta pela regência nominal.

(__) A frase: "A gente faz o que pode". - está escrita com verbos de segunda conjugação na terceira pessoa do singular do presente do modo indicativo.

(__) A expressão: "intimidava-me" tem o mesmo sentido de "causava-me medo".

Marque a alternativa com a série CORRETA.

(A) V, V, V, V.

(B) V, F, V, V.

(C) F, F, V, F.

(D) V, F, V, F.

(E) F, V, V, F.

Questão 02

Marque o parágrafo que infere o momento em que a narradora começa a entender que não adianta assimilar pensamentos, conceitos sem trabalhar o emocional.

(A) Quarto.

(B) Primeiro.

(C) Quinto.

(D) Terceiro.

(E) Segundo.

Questão 03

Sobre os componentes linguísticos estruturais do texto, marque a alternativa INCORRETA.

(A) No trecho: "Eu devia conservar serenamente a minha". - destacamos, respectivamente: uma locução verbal, advérbio de modo e pronome possessivo.

(B) No período: "Sim, diariamente, eu lia poemas antes de sair." - as vírgulas separam advérbios com sentidos diferentes, deslocados na oração.

(C) A numeração no período: "E¹ foi daí por¹ diante que¹ eu² comecei a perceber então³ que de nada vale decorar máximas que² ficam gravadas na memória, mas não ficam no coração³". - identifica (1) termos monossílabos invariáveis, (2) termos monossílabos pronominais, (3) termos oxítonos sem acento gráfico que justifique a tonicidade, porque til só serve para marcar a nasalização da vogal.

(D) O período: "Se me batessem num lado da face, imediatamente ofereceria outro..." está escrito com elementos coesivos conjuntivos com ideia concessiva.

(E) O trecho: "E quando estourassem aquelas greves políticas que eu tanto amava - a escola ferteria em pleno clima revolucionário sob o tacão da ditadura ..." - está estruturado, respectivamente, com ações: em tempo pretérito imperfeito do modo subjuntivo, em tempo pretérito imperfeito do modo indicativo, em tempo futuro do pretérito do modo indicativo.

Questão 04

Sobre os componentes estruturais do (7º§), marque a alternativa INCORRETA.

- (A) No trecho: "Devemos é confessar humildemente nossa frágil condição humana," temos exemplo de sujeito elíptico identificado pela desinências verbal (mos).
- (B) No trecho: "E embora nossa alma" - o elemento coesivo conjuntivo destacado equivale a "já que".
- (C) Os componentes linguísticos de: "A gente faz o que pode." - comprovam o descontentamento da voz do texto e exemplifica discurso indireto livre.
- (D) No segmento: "nem semideuses, nem santos." - temos elementos coesivos alternativos.
- (E) No segmento: "no comportamento falhamos como pobres bichos frágeis" - temos ideia de comparação, similaridade.

Questão 05

Analise as assertivas seguintes:

I.O período: "Se me batessem num lado da face, imediatamente ofereceria outro" - enuncia ideia hipotética através dos tempos verbais: "batessem" (imperfeito do modo subjuntivo) e "ofereceria" (futuro do pretérito do modo indicativo).

II.O (4º§) inicia com um advérbio que faz antônimo com "Não".

III.A palavra destacada na frase: "E, muitas vezes, ficava a sonhar com feitos assim tão extraordinários" - tem o mesmo sentido de "atitudes", "condutas", "práticas", "façanhas".

IV.A oração: "Mas eu disse, às vezes!" - é simples, tem os termos essenciais dispostos na ordem direta, inicia com conjunção coordenativa adversativa, tem pontuação exclamativa e expressão adverbial de tempo.

V.As palavras: "injustiça", "políticas", "serenamente" - se identificam por terem a mesma quantidade de sílabas gramaticais, por todas serem escritas com derivação prefixal e por pertencerem à mesma classe morfológica.

VI.No (6º§), temos frases pontuadas com exclamação e frase pontuada com ideia de questionamento.

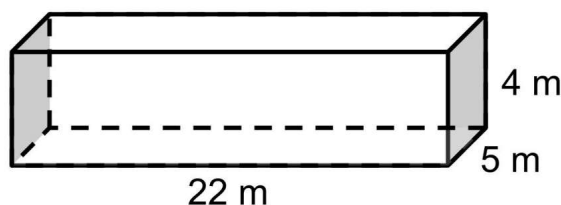
Estão CORRETAS, apenas:

- (A) I, II, III e IV.
- (B) II, III, V e VI.
- (C) I, III e V.
- (D) III, IV, V e VI.
- (E) I, II, IV e V.

Raciocínio Lógico

Questão 06

A imagem abaixo representa uma caixa de areia que será construída em um clube, para que os atletas possam treinar saltos.



Qual será a quantidade de areia usada para encher essa caixa?

- (A) Serão usados 320 m³ de areia.
- (B) Serão usados 440 m³ de areia.
- (C) Serão usados 555 m³ de areia.
- (D) Serão usados 277 m³ de areia.
- (E) Serão usados 890 m³ de areia.

Questão 07

Em uma fila de banco, os clientes estão sendo atendidos a cada 2 min. Considerando como o momento 0 (zero) aquele no qual o primeiro cliente foi atendido em quanto tempo chegou a vez do trigésimo quinto?

- (A) Em 1h37min.
- (B) Em 1h20min.
- (C) Em 55min.
- (D) Em 2h.
- (E) Em 1h08min.

Questão 08

A função $f(x) = -x^2 + 5x - 6$, onde x é o período de tempo em anos e y é o faturamento em milhões, demonstra que uma empresa começou a ter lucro no segundo ano de funcionamento, mas que depois de um certo tempo ela voltou a fechar suas contas com saldo negativo. Em qual ano de funcionamento a empresa voltou a operar com prejuízo?

- (A) No quinto ano de funcionamento.
- (B) No sétimo ano de funcionamento.
- (C) No sexto de funcionamento.

- (D) No quarto ano de funcionamento.
- (E) No terceiro ano de funcionamento.

Questão 09

Marcos comprou um carro de R\$75.000,00 para pagar depois de 2 meses, com juros simples de 2,5% ao mês. Porém, quando completou o período ele só pagou R\$35.000,00 e financiou o restante em 4 parcelas mensais, a juros simples de 5% ao mês. Qual foi o valor total que ele pagou pelo carro?

- (A) Ele pagou R\$89.950,00.
- (B) Ele pagou R\$87.500,00.
- (C) Ele pagou R\$121.500,00.
- (D) Ele pagou R\$102.350,00.
- (E) Ele pagou R\$93.000,00.

Questão 10

Em uma fábrica de tapetes artesanais, 9 operários conseguem fabricar 45 peças em 30 dias. Se o proprietário contratar mais 3 funcionários, que trabalham no mesmo ritmo dos outros, em quantos dias eles conseguirão fazer uma encomenda de 100 tapetes?

- (A) Eles conseguirão fazer a encomenda em 100 dias.
- (B) Eles conseguirão fazer a encomenda em 50 dias.
- (C) Eles conseguirão fazer a encomenda em 57 dias.
- (D) Eles conseguirão fazer a encomenda em 45 dias.
- (E) Eles conseguirão fazer a encomenda em 90 dias.

Informática

Questão 11

Uma das formas de aperfeiçoar as suas apresentações feitas no Microsoft Power Point é utilizar os recursos oferecidos pelo aplicativo. Um desses recursos é o Clip-arts que são:

- (A) Efeitos que pode ser inseridos na apresentação.
- (B) Textos prontos que pode ser inseridos na apresentação.
- (C) Layout que pode ser inseridos na apresentação.
- (D) Objetos em forma de desenhos que podem ser inseridos na apresentação.
- (E) Comentários que pode ser inseridos na apresentação.

Questão 12

O mouse é um dispositivo que guia o curso da tela, o seu controle pode ser feito da seguinte forma:

I. Em um editor de texto ao apertar o botão esquerdo do mouse é possível colocar o cursor na parte do texto desejada.

II. Ao clicar com botão direito sobre uma palavra do texto,

ele seleciona a palavra indicada.

III. Ao clicar com botão direito sobre uma palavra selecionada no texto ele abre a opção de copiar/recortar.

Para a performance de todas as funcionalidades dos computadores, partes como mouse, monitor e teclados precisam estar em perfeito funcionamento. Essas partes fazem parte do:

- (A) A afirmativa I está correta, a II está correta e a III está correta.
- (B) A afirmativa III está incorreta, a II está incorreta e a I está correta.
- (C) A afirmativa II está correta, a I está incorreta e a III está incorreta.
- (D) A afirmativa II está correta, a I está incorreta e a III está correta.
- (E) A afirmativa I está correta, a II está incorreta e a III está correta.

Questão 13

Quando criamos um texto do editor de texto word, você pode refazer e desfazer até 100 ações. Esse recurso é de grande utilidade principalmente quando apagamos algo que não deveria.

Quando você apagou algo que digitou e deseja recuperar o caminho correto é:

- (A) Ir na barra de ferramentas de acesso rápido e clicar em desfazer ou apertar CTRL+Z no teclado.
- (B) Ir na barra de ferramentas de acesso rápido e clicar em refazer ou apertar CTRL+L no teclado.
- (C) Ir na barra de ferramentas de acesso rápido e clicar em refazer ou apertar CTRL+D no teclado.
- (D) Ir na barra de ferramentas de acesso rápido e clicar em desfazer ou apertar CTRL+P no teclado.
- (E) Ir na barra de ferramentas de acesso rápido e clicar em desfazer ou apertar CTRL+D no teclado.

Questão 14

O Excel possui um recurso muito útil quem vai inserir um conteúdo sequencial na planilha, este recurso analisa o conteúdo das demais células selecionadas e faz uma cópia para célula de destino.

Conhecimentos Gerais

Questão 16

O Brasil viveu um período conturbado sob o Regime Militar, e teve como primeiro presidente eleito pelo voto popular pós ditadura o senhor:

- (A) Fernando Collor de Mello.
- (B) José Sarney.
- (C) Itamar Franco.
- (D) Luiz Inácio Lula da Silva.
- (E) Fernando Henrique Cardoso.

Questão 17

"A divisão político-administrativa inclui Ipumirim na Microrregião, pertencente à":

Disponível em: <https://ipumirim.sc.gov.br/pagina-1002/>

- (A) AMOSC - Associação de Municípios do Oeste de Santa Catarina.
- (B) AMERIOS - Associação dos Municípios do Entre Rios.
- (C) AMNOROESTE - Associação dos Municípios do Noroeste Catarinense.
- (D) AMEOSC - Associação de Municípios do Extremo Oeste de Santa Catarina.
- (E) AMAUC - Associação dos Municípios do Alto Uruguai Catarinense.

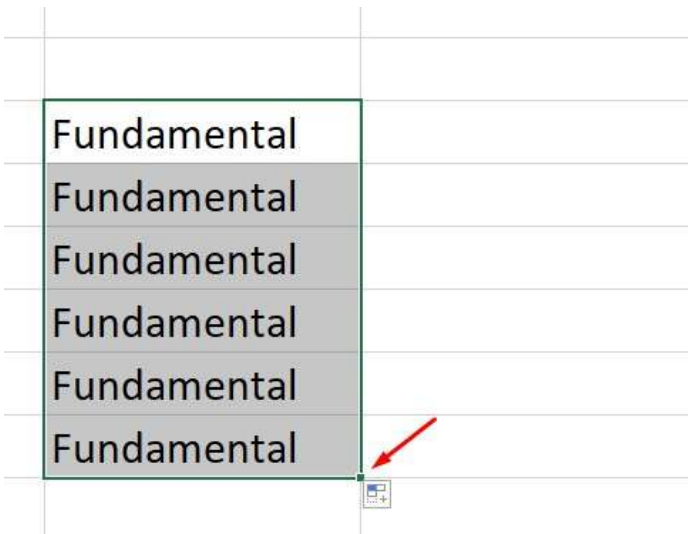
Questão 18

O mundo sofre com os efeitos do aquecimento global e no Brasil, em especial, as estiagens provocadas pelo desequilíbrio climático afetam diretamente a produção de energia elétrica, gerando transtornos e gastos para toda a população. Por que o fornecimento de energia é tão prejudicado pelas crises hídricas no Brasil?

- (A) Porque a maior parte da energia consumida no país vem das hidrelétricas.
- (B) Porque na geração da energia eólica, responsável pelo abastecimento de mais de 90% do país, a força das águas é responsável por fazer com que as hélices do sistema se movimentem.
- (C) Porque a energia termelétrica, que abastece todo o país, é produzida a partir da força das águas.
- (D) Porque o fornecimento de energia de todo o país vem das usinas nucleares, que dependem da água para resfriar os reatores.
- (E) Porque o país é dependente da energia maremotriz.

Questão 19

O Brasil possui três poderes, definidos na Constituição Federal como independentes e harmônicos entre si, que são o Legislativo, o Executivo e o Judiciário, distribuídos nas esferas federal, estadual e municipal. Quem é o atual chefe do Poder Executivo Federal Brasileiro?



Esse recurso, é chamado de:

- (A) Somar.
- (B) Seleção especial.
- (C) Colar Especial.
- (D) Recortar.
- (E) Auto preenchimento.

Questão 15

O e-mail é uma ferramenta que permite a troca de mensagens entre usuários na internet. Sobre o e-mail pode afirmar que:

I. Para o recebimento de mensagens o usuário precisa possuir uma conta de e-mail.

e

II. Para receber mensagens, o usuário precisa estar conectado à rede.

Sobre as afirmativas dos excertos acima, assinale a opção CORRETA:

- (A) A afirmativa I e II estão corretas.
- (B) A afirmativa II está parcialmente correta e a I está incorreta.
- (C) A afirmativa I está correta e a afirmativa II está incorreta.
- (D) A afirmativa I e II estão incorretas.
- (E) A afirmativa II está correta e I está incorreta.

- (A) Hilario Reffatti.
- (B) Carlos Moisés.
- (C) Jair Messias Bolsonaro.
- (D) Rodrigo Pacheco.
- (E) Arthur Lira.

Questão 20

O Brasil é o maior país em extensão territorial da América do Sul, fazendo divisa com quase todos os outros, EXCETO com:

- (A) Peru e Bolívia.
- (B) Equador e Peru.
- (C) Uruguai e Paraguai.
- (D) Chile e Bolívia.
- (E) Chile e Equador.

Conhecimentos Específicos

Questão 21

No software editor de textos WORD, o atalho padrão utilizado para centralizar um texto escrito é:

- (A) Ctrl+N
- (B) Ctrl+C
- (C) Ctrl+V
- (D) Ctrl+E
- (E) Ctrl+B

Questão 22

As alternativas a seguir apresentam informações corretas acerca das atividades de fiscalização no município de Ipumirim/SC, EXCETO:

- (A) Nos casos de embargo à ação fiscalizadora, os técnicos ou fiscais poderão solicitar auxílio às autoridades competentes para a execução da medida ordenada.
- (B) A notificação por escrito é um dos tipos de penalidades possíveis de ser aplicada pela fiscalização.
- (C) A propaganda falada em lugares públicos por meio de ampliadores de som, alto-falantes e propagandistas, esta igualmente sujeita à prévia licença, e ao pagamento de tributo ou preço respectivo.
- (D) Penalidades gravíssimas, são aquelas em que sejam verificadas a existência de três ou mais circunstâncias agravantes ou em situações de reincidência.
- (E) O alvará de localização será cassado a critério unilateral do prefeito ou da câmara de vereadores.

Questão 23

Um determinado lote, localizado em um conjunto habitacional de interesse social previamente aprovado

pelos órgãos públicos competentes, possui 5,00 metros de frente e 125 m² de área. Logo, com base somente nos dados apresentados, pode-se afirmar que:

- (A) A frente mínima do lote deveria ser de 10 metros.
- (B) O lote possui dimensões em situação regular.
- (C) O lote está em situação irregular.
- (D) A área mínima do lote deveria ser de 300 m².
- (E) O lote deveria ter 300 m² e frente de 10 metros.

Questão 24

No que diz respeito ao Código de Posturas de Ipumirim/SC, analise as afirmações a seguir e responda conforme orientado.

I.É expressamente proibido danificar ou retirar sinais de trânsito colocados nas vias, estradas ou caminhos públicos.

II.A instalação de letreiro ou anúncio, de caráter permanente no piso das calçadas dos logradouros públicos é permitida mediante autorização da fiscalização municipal.

III.Os terrenos não construídos, na zona urbana, com testada para logradouro público, loteados ou não, serão obrigatoriamente fechados no alinhamento, desde que o logradouro público seja pavimentado.

Dentre as afirmações anteriores, quais estão CORRETAS?

- (A) Apenas, I e III.
- (B) Apenas, II e III.
- (C) Apenas, I e II.
- (D) Apenas, III.
- (E) I, II e III.

Questão 25

Tomando como base o Código de Edificações de Ipumirim/SC, considere as seguintes afirmações e responda conforme orientado.

I.Obra sendo executada sem projeto aprovado e sem alvará de licenciamento, e não houver condições de regularização nos termos da legislação pertinente.

II.Construção feita sem observância do alinhamento ou nivelamento fornecido pela Municipalidade, ou sem as respectivas cotas ou com desrespeito ao projeto aprovado, nos seus elementos essenciais, não havendo possibilidade para ajustá-la à legislação pertinente.

III.Obra julgada em risco quando o proprietário se recusar a tomar as providências determinadas pela Municipalidade para sua segurança.

IV.Construção que ameaça ruir e que o proprietário não queira demolir ou não possa reparar, por falta de

recursos, ou disposição regulamentar.

Dentre as afirmações anteriores, quais são exemplos de situações onde a demolição parcial ou total de uma edificação será imposta?

- (A) Apenas, II, III e IV.
- (B) Apenas, I, III e IV.
- (C) I, II, III e IV.
- (D) Apenas, I e II.
- (E) Apenas, I, II e III.

Questão 26

Assinale a alternativa CORRETA no que se refere a desapropriação de imóvel com pagamentos em títulos devido a uma situação de IPTU progressivo.

- (A) O aproveitamento do imóvel desapropriado poderá ser efetivado diretamente pelo Poder Público ou por meio de alienação ou concessão a terceiros, observando-se, nesses casos, o devido procedimento licitatório.
- (B) O Município poderá proceder à desapropriação do imóvel decorridos dez anos de cobrança do IPTU progressivo sem que o proprietário tenha cumprido a obrigação de parcelamento, edificação ou utilização do mesmo.
- (C) No valor da indenização a ser paga deverá ser computada as expectativas de ganhos, lucros cessantes e juros compensatórios.
- (D) Imóveis pertencentes a membros do poder legislativo não poderão ser desapropriados, mesmo que não atendam as demandas referentes ao IPTU progressivo.
- (E) A desapropriação somente poderá ser efetivado pelo poder público através de pagamento imediato ao proprietário via depósito bancário, não sendo permitidas outras formas de pagamento.

Questão 27

Considere que no software EXCEL, foi digitado dentro de uma célula o seguinte comando:

$= (4+5)^3$

Após a digitação do comando, teclou-se ENTER. Logo, pode-se afirmar que o valor que ficará escrito na célula será:

- (A) 27
- (B) 729
- (C) 3
- (D) 81
- (E) 209

Questão 28

As alternativas a seguir apresentam algumas das condições necessárias para o funcionamento de oficinas mecânicas segundo o Código de Edificações de Ipumirim/SC, EXCETO:

- (A) Ter áreas laterais fechadas com muros.
- (B) Ter pé direito mínimo de 5,00 m (cinco metros) em toda as suas áreas de trabalho.
- (C) Ter área coberta capaz de comportar os veículos em reparo.
- (D) Possuir local para depósito do lixo no interior do lote.
- (E) Ter acessos e saídas devidamente sinalizados e sem barreiras visuais.

Questão 29

Dentre as alternativas a seguir assinale a CORRETA no que se refere ao relacionamento e comportamento dos servidores públicos no ambiente de trabalho.

- (A) Caso um superior descumpra a lei, o servidor não deve denunciá-lo.
- (B) Deve-se atuar sempre prezando pela improbidade administrativa.
- (C) O atendimento ao público em geral deve ser descortês.
- (D) O exercício das atividades do servidor público devem prezar pela eficiência.
- (E) O servidor público deve atender o público em geral de forma parcial.

Questão 30

De acordo com o Código de Posturas de Ipumirim/SC, a infração de qualquer dispositivo que trata o capítulo de Higiene dos Estabelecimentos, a multa imposta será de:

- (A) 7,5 VRMs
- (B) 5,0 VRMs
- (C) 14,2 VRMs
- (D) 12,2 VRMs
- (E) 10,0 VRMs

Questão 31

As alternativas a seguir apresentam algumas situações passíveis de aplicação de embargo de obras em andamento, segundo o Código de Edificações de Ipumirim/SC, COM EXCEÇÃO DE:

- (A) Quando a obra atender as prescrições constantes no alvará de licença.
- (B) Quando a obra já tiver sido autuada e não tenha sido regularizada no tempo previsto.
- (C) Em situações de desobediência ao projeto aprovado.
- (D) Obra sendo executada sem a responsabilidade de profissional legalmente habilitado e inscrito na Municipalidade, quando indispensável.

- (E) Caso a obra desrespeite o alinhamento predial ou ao afastamento mínimo.

Questão 32

Pelo Código de Edificações de Ipumirim/SC, o prazo dado para o infrator efetuar o pagamento da multa será de:

- (A) 20 dias.
- (B) 45 dias.
- (C) 15 dias.
- (D) 30 dias.
- (E) 60 dias.

Questão 33

Segundo o Código de Edificações de Ipumirim/SC, a multa mínima a ser aplicada ao construtor que não respeitar, ou seja, no caso de inobservância das prescrições sobre andaimes será de:

- (A) 8,55 VRMs
- (B) 17,10 VRMs
- (C) 10,00 VRMs
- (D) 5,50 VRMs
- (E) 36,60 VRMs

Questão 34

Conforme o Código de Edificações de Ipumirim/SC, as galerias comerciais deverão ter pé direito mínimo e largura mínima respectivamente iguais a:

- (A) 3,50m e 3,50m
- (B) 3,00m e 3,50m
- (C) 3,50m e 3,00m
- (D) 4,00m e 3,00m
- (E) 3,00m e 2,50m

Questão 35

Um software de computador projetado para se infiltrar no seu dispositivo sem o seu conhecimento e com intenção maliciosa é denominado como:

- (A) TRASH
- (B) SPAM
- (C) MALWARE
- (D) FREEWARE
- (E) DRIVE

Questão 36

No software EXCEL, o atalho padrão utilizado para desfazer uma ação recente é:

- (A) Esc+D
- (B) Ctrl+Z
- (C) Ctrl+X

- (D) Alt+F5
- (E) Tab+P

Questão 37

Tomando como base a Lei Orgânica de Ipumirim/SC, analise as afirmações a seguir e responda conforme orientado.

I. Área de cobertura vegetal nativa existente no perímetro urbano da sede do Município.

II. As faixas de proteção de águas superficiais.

III. As encostas passíveis de deslizamentos.

Dentre as afirmações anteriores, quais são exemplos de áreas de interesse ecológico, cuja utilização dependerá de prévia autorização dos órgãos competentes e da homologação da Câmara de Vereadores?

- (A) I, II e III.
- (B) Apenas, I e III.
- (C) Apenas, II e III.
- (D) Apenas, I e II.
- (E) Apenas, III.

Questão 38

Considere os elementos a seguir e responda conforme orientado.

I. Indicação do dia e local em que ocorreu a infração, ou em que esta foi constatada pelo autuante.

II. Fato ou ato que constitui a infração, indicando o dispositivo legal infringido.

III. Nome e assinatura do autuante, bem como sua função ou cargo.

Dentre os elementos anteriores, quais devem necessariamente estar contidos em um Auto de Infração?

- (A) I, II e III.
- (B) Apenas, I e II.
- (C) Apenas, II e III.
- (D) Apenas, III.
- (E) Apenas, I e III.

Questão 39

De acordo com o Código de Posturas de Ipumirim/SC, a ocupação do logradouro público com mesas e cadeiras poderá ser permitida, em caráter provisório, desde que se atendam determinados critérios, entre eles a preservação de uma faixa mínima para o trânsito público, faixa esta que não deve ser inferior a:

- (A) 1,25m
- (B) 1,00m
- (C) 1,75m
- (D) 1,50m
- (E) 2,00m

Questão 40

No município de Ipumirim/SC, o instrumento básico da política de desenvolvimento e de expansão urbana, aprovado pela Câmara Municipal, é:

- (A) A Lei Orgânica Municipal.
- (B) O Código de Posturas.
- (C) A Lei de Parcelamento do Solo.
- (D) O Plano Diretor.
- (E) O Código de Edificações.