



# PREFEITURA DE VALENÇA

## Estado da Bahia

Concurso Público  
REF. EDITAL N° 001/2016 - NÍVEL MÉDIO

**CARGO:**

**FISCAL AMBIENTAL**

Nome do Candidato \_\_\_\_\_

Inscrição \_\_\_\_\_

### Instruções

1. Na sua Folha de Respostas, confira seu nome, o número do seu documento e o número de sua inscrição. Além disso, não se esqueça de conferir seu Caderno de Questões quanto a falhas de impressão e de numeração, e se o curso corresponde àquele para o qual você se inscreveu. Preencha os campos destinados à assinatura e ao número de inscrição. Qualquer divergência comunique ao fiscal.
2. O único documento válido para avaliação da prova é a Folha de Respostas. Só é permitido o uso de caneta esferográfica **transparente** de cor azul ou preta para o preenchimento da Folha de Respostas, que deve ser realizado da seguinte maneira: ●
3. O prazo de realização da prova é de 4 (quatro) horas, incluindo a marcação da Folha de Respostas. Após 60 (sessenta) minutos do início da prova, o candidato estará liberado para utilizar o sanitário ou deixar definitivamente o local de aplicação. Os 3 (três) últimos candidatos só poderão retirar-se da sala juntos.
4. Ao término de sua prova, comunique ao fiscal, devolvendo-lhe a Folha de Respostas devidamente preenchida e assinada. Somente será possível levar o caderno de questões após decorridas 4 (quatro) horas do início da prova, sendo necessário, obrigatoriamente, devolver ao fiscal a Folha de Respostas.
5. As provas e os gabaritos preliminares estarão disponíveis no site da AOCP – [www.aocp.com.br](http://www.aocp.com.br) – no dia posterior à aplicação da prova.
6. Implicará na eliminação do candidato, caso, durante a realização das provas, qualquer equipamento eletrônico venha emitir ruídos, mesmo que devidamente acondicionado no **envelope de guarda de pertences**. O NÃO cumprimento a qualquer uma das determinações constantes em Edital, no presente Caderno ou na Folha de Respostas, incorrerá na eliminação do candidato.

### Atenção

O Caderno de questões possui 50 (cinquenta) questões objetivas, numeradas sequencialmente, de acordo com o exposto no quadro a seguir:

MATÉRIA	QUESTÕES
Língua Portuguesa	01 a 10
Informática	11 a 20
Atualidades	21 a 30
Conhecimentos Específicos	31 a 50

------(destaque aqui)-----

**FOLHA PARA ANOTAÇÃO DAS RESPOSTAS DO CANDIDATO**

**Prefeitura de Valença  
Estado da Bahia**

Questão	01	02	03	04	05	06	07	08	09	10	11	12	13	14	15	16	17	18	19	20	21	22	23	24	25	
Resp.																										
Questão	26	27	28	29	30	31	32	33	34	35	36	37	38	39	40	41	42	43	44	45	46	47	48	49	50	
Resp.																										

O gabarito oficial preliminar e o caderno de questões da prova objetiva estarão disponíveis no endereço eletrônico [www.aocp.com.br](http://www.aocp.com.br) no dia seguinte à aplicação da prova.



## Pressionar crianças para que sejam bons alunos resulta em desânimo

Rosely Sayão

Pesquisas apontam aumento na taxa de suicídio entre os jovens brasileiros, e o fenômeno é mundial. Por esse motivo, alguns países têm se preocupado com a depressão em crianças e jovens. A Academia Americana de Pediatria, por exemplo, recomendou que os médicos devem sempre procurar sinais dessa doença nos mais novos. Sinal amarelo piscando.

Precisamos pensar com atenção na saúde mental de nossas crianças e de nossos jovens. Mas parece que nem as famílias e nem as escolas têm essa questão como importante: ambas são criadoras de muitas causas que podem afetar negativamente a qualidade de vida emocional de quem elas deveriam cuidar. Vamos levantar alguns pontos que podem provocar pressão em demasia, ansiedade e medos de fracasso nas crianças e nos jovens.

Primeiramente, a pressão sobre a vida escolar. Nunca, nunca antes tivemos famílias e escolas tão empenhadas em fazer com que filhos e alunos tenham alta performance escolar, o que significa, é claro, boas notas, aprovação com destaque em exames e provas etc. Mas por quê?

Porque, de repente, decidimos que o bom rendimento escolar da criança é pré-requisito fundamental para um futuro profissional promissor. Posso assegurar-lhe que não é, por dois motivos bem simples. Primeiro: bom rendimento escolar não significa, necessariamente, bom aprendizado. Segundo: estamos um pouco atrasados nessa premissa, já que, hoje, ter estudos não garante nada, absolutamente nada em termos profissionais, e não apenas em nosso país. Agora, imagine crianças – inclusive as mais novas – e jovens pressionados até o limite para que sejam bons alunos. Só pode resultar em ansiedade, desânimo, receios etc. Junte a isso as acirradas competições às quais eles são submetidos, o bullying – que eu reputo à ausência de adultos na tutela dos mais novos –, as agendas lotadas de compromissos, as intermináveis lições de casa (muitas vezes motivos para brigas entre pais e filhos), a erotização precoce que promove busca infantil por um determinado tipo de beleza etc.

Uau! Se para um adulto essa mistura já pode ser explosiva para a sanidade mental, imagine, caro leitor, para crianças e adolescentes! E o que podemos fazer? Muita coisa! Deixar de confundir cobrança com pressão já pode ser um grande

passo. Nossos filhos e alunos precisam ser cobrados a levar sempre adiante sua vida escolar. Mas precisamos ser mais compreensivos quando eles não conseguem, e ajudá-los no esforço que precisam investir para aprender, em vez de pressioná-los mais ainda.

As famílias podem e devem também ensinar os filhos a lidar com suas emoções. Sabe quando uma criança pequena pega algum objeto de vidro e os pais o ensinam a tomar cuidado porque é frágil e ela pode quebrar, mesmo sem querer? Podemos fazer a mesma coisa com os sentimentos que ela experimenta. Posso ilustrar isso que acabei de dizer com o seguinte exemplo: quando uma criança manifesta raiva, devemos ensiná-la que essa emoção e suas manifestações podem machucá-la e também os outros.

E a escola precisa se dar conta de que o ambiente escolar pode ser – e em geral é – neurotizante para muitas crianças! E não é por falta de conhecimento que não mudamos esse panorama.

Vamos cuidar da saúde mental de nossas crianças e jovens tanto quanto cuidamos de sua saúde física!

Adaptado de: <http://www1.folha.uol.com.br/colunas/roselysayao/2016/03/1747467-pressionar-criancas-ate-o-limite-para-que-sejam-bons-alunos-so-pode-resultar-em-ansiedade-e-desanimo.shtml>

Acesso em 10 de março de 2016.

**QUESTÃO 01**

**Em relação ao texto “Pressionar crianças para que sejam bons alunos resulta em desânimo”, é correto afirmar que**

- (A) a pressão familiar e escolar para que os jovens em idade escolar obtenham um excelente desempenho intelectual, conforme pesquisas recentes, é a causa da depressão que tem afetado os jovens brasileiros massivamente, fato que culmina no suicídio.
- (B) a excessiva valorização do desempenho escolar acaba gerando alunos extremamente preocupados com o futuro profissional e que esquecem-se de aproveitar devidamente as fases da infância e da adolescência que antecedem a vida de adulto.
- (C) conforme pesquisas recentes, ao lado da pressão familiar e escolar, outros fatores como o bullying e a erotização precoce acarretam em crianças e adolescentes demasiadamente preocupados não só com o desempenho escolar mas também com a adequação da aparência a um determinado padrão de beleza, fatores que ocupam um ranking de primeira e segunda causas que mais geram suicídio entre jovens.
- (D) devido aos resultados de pesquisas que indicam um aumento na taxa de suicídio entre jovens brasileiros é importante que tanto as famílias quanto as escolas brasileiras preocupem-se com as cobranças e responsabilidades demasiadas que essas instituições direcionam às crianças e jovens em idade escolar.
- (E) em conformidade com a recomendação feita pela Academia Americana de Pediatria aos médicos e após o alerta das recentes pesquisas que identificam um significativo aumento na taxa de suicídios entre jovens, os pediatras brasileiros têm procurado por sinais de depressão em seus pacientes mesmo quando estes se apresentam para consultas de rotina.

**QUESTÃO 02**

**Sobre a expressão “Sinal amarelo piscando”, presente no texto, é correto afirmar que**

- (A) um “sinal vermelho” deve acender quando as escolas e as famílias compreenderem que as cobranças relacionadas ao desempenho intelectual das crianças brasileiras são totalmente prejudiciais para a saúde mental delas.
- (B) o comprovado aumento de suicídio entre jovens no Brasil e a atenção que outros países têm dado a esse mesmo problema entre os seus jovens soam como um alerta (sinal amarelo piscando) para que prestemos mais atenção às causas de depressão entre os jovens brasileiros.
- (C) apesar do alerta das pesquisas funcionar

como um “sinal amarelo piscando” não há como reverter o processo de aumento dos suicídios entre os jovens brasileiros, pois os pesquisadores desconhecem as reais causas desses suicídios.

- (D) o “sinal amarelo” é uma expressão utilizada pelos cientistas responsáveis pelas pesquisas que indicam o aumento da taxa de suicídio entre jovens brasileiros para indicar que algum fenômeno social contemporâneo causa depressão nas crianças e jovens.
- (E) o “sinal amarelo” faz referência à recomendação da Academia Americana de Pediatria que, ao indicar a necessidade de investigar as causas de depressão nas crianças e jovens, colocou em alerta os pediatras de diversos outros países, inclusive os brasileiros.

**QUESTÃO 03**

**No excerto “Mas precisamos ser mais compreensivos quando eles não conseguem [...]”, por qual das palavras a seguir o termo em destaque pode ser substituído sem que haja prejuízo de sentido para a frase no contexto em que se encontra?**

- (A) Portanto.
- (B) Pois.
- (C) Logo.
- (D) Entretanto.
- (E) Então.

**QUESTÃO 04**

**No seguinte trecho do texto: “Mas precisamos ser mais compreensivos quando eles não conseguem, e ajudá-los no esforço que precisam investir para aprender, em vez de pressioná-los mais ainda”, os elementos destacados retomam quais palavras anteriormente expressas?**

- (A) Filhos e alunos.
- (B) Pais e filhos.
- (C) Adultos e alunos.
- (D) Adolescentes e pais.
- (E) Pais e professores.

**QUESTÃO 05**

**No período “Pressionar crianças para que sejam bons alunos resulta em desânimo”, a expressão destacada introduz uma**

- (A) condição.
- (B) causa.
- (C) finalidade.
- (D) concessão.
- (E) consequência.

**QUESTÃO 06**

No excerto “Porque, de repente, decidimos **que** o bom rendimento escolar da criança é pré-requisito fundamental para um futuro profissional promissor”, é correto afirmar que o termo destacado

- (A) é uma preposição e introduz um complemento nominal.
- (B) é uma conjunção e introduz um adjunto adverbial de modo.
- (C) é uma preposição e introduz um objeto indireto.
- (D) é um pronome relativo e introduz um sujeito.
- (E) é uma conjunção e introduz um objeto direto.

**QUESTÃO 07**

Em “[...] alguns países **têm** se preocupado com a depressão em crianças e jovens [...]”, é correto afirmar que o acento circunflexo no verbo destacado

- (A) foi utilizado indevidamente, pois não está de acordo com a ortografia da língua portuguesa.
- (B) é facultativo se o verbo “ter” estiver conjugado na terceira pessoa do singular ou do plural.
- (C) indica a concordância que se estabelece entre o verbo conjugado e o seu respectivo sujeito.
- (D) poderia ser omitido, caso o sujeito na terceira pessoa do plural fosse composto.
- (E) indica a regência do verbo “ter” que é complementado por um objeto direto.

**QUESTÃO 08**

Para que o produtor do texto obtenha o mesmo sentido atribuído à palavra destacada em “Junte a isso as acirradas competições às quais eles são submetidos, o bullying – que eu **reputo** à ausência de adultos na tutela dos mais novos [...]”, ela deve ser substituída por

- (A) considero.
- (B) estabeleço.
- (C) estimo.
- (D) julgo.
- (E) imputo.

**QUESTÃO 09**

No excerto “[...] decidimos que o bom rendimento escolar da criança é pré-requisito fundamental para um futuro profissional **promissor**”, é correto afirmar que a palavra destacada

- (A) apresenta um encontro consonantal e um dígrafo.
- (B) apresenta dois encontros consonantais.
- (C) apresenta dois dígrafos.
- (D) apresenta a seguinte separação silábica, pro/mi/ssor.
- (E) pertence a uma classe de palavras invariáveis.

**QUESTÃO 10**

Considerando a análise sintática do período “Vamos cuidar da saúde mental de nossas crianças e jovens tanto quanto cuidamos de sua saúde física”, é correto afirmar que **trata-se de um período**

- (A) simples em que se identifica o sujeito, um verbo transitivo indireto e um complemento de objeto indireto.
- (B) composto por subordinação, cuja conjunção subordinativa estabelece a relação entre a oração principal e a oração subordinada adverbial comparativa.
- (C) simples em que se identifica o sujeito, um verbo intransitivo e dois adjuntos adverbiais.
- (D) composto por coordenação, cuja locução conjuntiva “tanto quanto” estabelece uma relação aditiva entre duas orações coordenadas aditivas.
- (E) simples com verbo de ligação e dois termos essenciais para a oração, o sujeito e o predicado.

**INFORMÁTICA****QUESTÃO 11**

Considerando o MS-WORD 2007, versão português, em sua instalação padrão, é correto afirmar que ao selecionar uma determinada palavra do texto e, em seguida, pressionar a tecla “A”

- (A) a letra “A” irá substituir a palavra selecionada.
- (B) a letra “A” será inserida no início da palavra.
- (C) a letra “A” será inserida no final da palavra.
- (D) a letra “A” será inserida no meio da palavra.
- (E) a palavra será duplicada.

**QUESTÃO 12**

No Sistema Operacional Windows 7, em sua configuração padrão, é correto afirmar que, ao selecionar um arquivo que encontra-se na área de trabalho e, em seguida, pressionar a tecla DELETE, o arquivo

- (A) será excluído do computador, sem a possibilidade de recuperação.
- (B) será excluído do computador e uma cópia de segurança será armazenada em um pendrive.
- (C) não será excluído imediatamente, pois será armazenado na lixeira.
- (D) não será excluído, pois a tecla ESC não foi acionada.
- (E) não será excluído, pois não é permitido excluir arquivos da Área de Trabalho.


**QUESTÃO 13**

Considerando o MS-EXCEL 2007, versão português, na composição de fórmulas, o operador \* (asterisco) multiplica números, enquanto o operador / (barra)

- (A) eleva um número a uma potência.
- (B) divide números.
- (C) subtrai um número.
- (D) exclui um número.
- (E) formata um número.

**QUESTÃO 14**

Analise a imagem a seguir e assinale a alternativa correspondente.



- (A) WINDOWS - Software Freeware.
- (B) LINUX - Software Livre.
- (C) MS-Word - Planilha Eletrônica.
- (D) MS-Excel - Editor de Texto.
- (E) Google Chrome - Editor de Imagens.

**QUESTÃO 15**

Considerando o Navegador Google Chrome, versão 48 em português, o botão  exerce a função de

- (A) ir para a home Page padrão.
- (B) desconectar a Internet.
- (C) copiar o endereço do link.
- (D) retornar para a página anterior.
- (E) atualizar a Página.

**QUESTÃO 16**

Um usuário realizou o backup de um arquivo em um Pendrive. Essa ação significa que

- (A) foi verificada a existência de vírus.
- (B) o arquivo foi excluído do pendrive.
- (C) o arquivo foi enviado para a internet.
- (D) foi realizada uma cópia de segurança do arquivo.
- (E) o arquivo foi alterado para o formato compatível com o Word.

**QUESTÃO 17**

No processo de configuração do Microsoft Outlook, é solicitado que sejam informados os respectivos endereços dos protocolos para o envio (SMTP) e recebimento (POP3) de

- (A) Internet.
- (B) Sinal Digital.

- (C) Energia Elétrica.
- (D) SMS.
- (E) E-Mails.

**QUESTÃO 18**

Acerca do motor de busca na internet [www.google.com.br](http://www.google.com.br), ao incluir aspas no início e no fim de um termo a ser pesquisado (ex. "Concurso Público"), o Google irá

- (A) excluir da pesquisa o termo utilizado.
- (B) desconsiderar as aspas, pois não existe palavra com aspas.
- (C) pesquisar o termo exato e na ordem exata.
- (D) localizar termos similares ao da pesquisa.
- (E) localizar termos considerados antônimos ao do pesquisado.

**QUESTÃO 19**




Considerando o software CALC (LibreOffice), versão 4.1, em português, e a tabela a seguir, assinale a alternativa que apresenta o resultado correto ao aplicar a fórmula: =A2\*C1+D3

	A	B	C	D
1		1	2	3
2	5	2	10	3
3	6	1	4	5
4				
5				

- (A) 0
- (B) 5
- (C) 10
- (D) 15
- (E) 20

**QUESTÃO 20**

Acerca dos conhecimentos básicos sobre Informática, assinale a alternativa que apresenta um tipo de HARDWARE.

- (A) 
- (B) 
- (C) 



(D)



(E)



## ATUALIDADES

### QUESTÃO 21

De iniciativa do Poder Executivo de Valença, a Câmara de Vereadores aprovou a lei que regulamenta a exploração do serviço de transporte individual de passageiros na cidade. A lei aprovada foi construída com ampla discussão entre

- (A) o poder público e os comerciantes.
- (B) o departamento de trânsito e a população.
- (C) os vereadores e os turistas.
- (D) o poder público e a categoria.
- (E) a prefeita e os vereadores.

### QUESTÃO 22

Instalada em Valença, em 1844, a Fábrica de tecidos “Todos os Santos” foi a primeira indústria nacional movida a energia

- (A) eólica.
- (B) hidráulica.
- (C) solar.
- (D) térmica.
- (E) nuclear.

### QUESTÃO 23

O primeiro Centro de Saúde de Valença foi transformado em uma unidade de referência à tríplice epidemia causada pelo mosquito *Aedes Aegypti*. Assinale a alternativa que apresenta essa tríplice epidemia.

- (A) Dengue, Febre Chikungunya e Vírus Zika.
- (B) Doença de Chagas, Leishmanioses e Esquistossomose.
- (C) Caxumba, Tuberculose e Hanseníase.
- (D) Ebola, Tripanossomíase Africana e Malária.
- (E) Filariose Linfática, Oncocercíase e Hepatite.

### QUESTÃO 24

Segundo notícia do jornal “A Tarde”, em comparação com Janeiro de 2015, a

indústria baiana assinalou crescimento de 10,3% em janeiro de 2016. Qual é o setor que apresentou a principal influência positiva nesse período?

- (A) Bebidas.
- (B) Segmentos de metalurgia.
- (C) Automóveis e painéis para instrumentos dos veículos.
- (D) Coque, produtos derivados de petróleo e biocombustíveis.
- (E) Equipamentos de informática, produtos eletrônicos e ópticos.

### QUESTÃO 25

Qual instituição ministrava aulas de ensino superior e foi reconhecida, por méritos, como a primeira universidade do Brasil, funcionando em Salvador no século 17, para a formação de sacerdotes e bacharéis em Artes, seguindo os estatutos da Universidade de Évora, de Portugal?

- (A) Colégio do Salvador da Bahia.
- (B) Academia de estudos gerais da Bahia.
- (C) Colégio de Santo Antônio da Bahia.
- (D) Estudos Lusitanos de Além-Mar na Bahia.
- (E) Estudos Gerais do Colégio dos Jesuítas da Bahia.

### QUESTÃO 26

De acordo com o Sistema e-MEC do Ministério de Educação do Governo Federal, estão cadastradas quatro instituições de ensino superior presencial na cidade de Valença-BA, que ministram 20 cursos, entre bacharelado e licenciatura, conforme o site “Vou pra faculdade”. Assinale a alternativa que apresenta um curso de graduação presencial oferecido por uma dessas instituições cadastradas no Sistema e-MEC.

- (A) Economia.
- (B) Química.
- (C) Biologia.
- (D) Psicologia.
- (E) Turismo.

### QUESTÃO 27

Ocupando 6,64% do território nacional, o estado da Bahia possui uma área de 564.692,67 km<sup>2</sup> e a maior extensão de litoral dentre todos os estados brasileiros, com

- (A) extensão de 687 km.
- (B) extensão menor que 813 km.
- (C) extensão maior que 900 km.
- (D) extensão de 1.813 km.
- (E) extensão maior que 1.813 km.

**QUESTÃO 28**

Assinale a alternativa que apresenta somente povos que formaram a população de Valença?

- (A) Portugueses, holandeses, americanos, indígenas e quilombolas.
- (B) Portugueses, italianos, africanos, indígenas e sertanejos nordestinos.
- (C) Italianos, franceses, africanos, indígenas e sertanejos nordestinos.
- (D) Aimorés, botocudos, guereus, tapuias, tupinambás e ianomâmis.
- (E) Tupinambás, ticuna, guarani, caiagangue ou caigangue e macuxi.

**QUESTÃO 29**

A economia principal de Valença (BA) é agrária, pesqueira e pecuária, com uma agricultura representada por propriedades agrícolas diversificadas. Assinale a alternativa que apresenta somente alguns dos cultivos de destaque no município de Valença.

- (A) Pimenta do reino, cacau, urucu, guaraná, café, cravo da índia, seringueira e banana.
- (B) Dendê, trigo, arroz, feijão, maçã, pupunha, piaçava, pimenta do reino e cacau.
- (C) Côco da Bahia, amora, urucu, guaraná, mandioca, café e cravo da índia.
- (D) Café, cravo da índia, seringueira, pimenta do reino, banana e uva.
- (E) Caqui, frutas, verduras, hortaliças, leguminosas e laranja lima.

**QUESTÃO 30**

A Prefeita de Valença, Jucélia Nascimento, e seu vice, Joailton de Jesus, foram eleitos em 2012 através da coligação "Um Novo Nome, um Novo Tempo", reunindo os partidos PPS, PTN, PPL, PHS, PSD, PSDC e PRP. A quais partidos são filiados, respectivamente, a prefeita e o vice prefeito?

- (A) Partido Pátria Livre e Partido Humanista da Solidariedade.
- (B) Partido Social Democrático e Partido Republicano Progressista.
- (C) Partido Trabalhista Nacional e Partido Popular Socialista.
- (D) Partido Socialista Brasileiro e Partido Popular Brasileiro.
- (E) Partido Popular Socialista e Partido Trabalhista Nacional.

**CONHECIMENTOS ESPECÍFICOS****QUESTÃO 31**

Uma empresa que fabrica concreto asfáltico gera emissões atmosféricas com material particulado. O proprietário dessa empresa contratou um engenheiro ambiental para lhe propor uma tecnologia que remova material particulado com diâmetro entre 1 – 50 µm, desde que a tecnologia escolhida apresente maior eficiência de remoção de material particulado e não haja geração de lodo. A tecnologia indicada pelo engenheiro é o

- (A) coletor inercial.
- (B) lavador de gases.
- (C) precipitador eletrostático.
- (D) filtro manga.
- (E) separador ciclônico.

**QUESTÃO 32**

Foram coletadas duas amostras de água subterrânea em um posto de combustível. Os resultados das análises das amostras foram apresentados pelo consultor ambiental, conforme a Tabela a seguir. Com base nesses dados e na Resolução CONAMA 420/09, assinale a alternativa correta.

Hidrocarbonetos Aromáticos Voláteis	Amostra 1 (mg/l)	Amostra 2 (mg/l)	Valor de Investigação da Resolução CONAMA 420/09 (µg/l)
Benzeno	0,007	0,013	5
Tolueno	0,65	0,92	700

- (A) As duas amostras indicam que não há riscos potenciais à saúde humana, pois as concentrações de Benzeno e Tolueno estão abaixo dos valores de investigação determinados pela Resolução CONAMA 420/09.
- (B) A Amostra 1 indica que há riscos potenciais à saúde humana, pois as concentrações de Benzeno e Tolueno estão acima do valor de investigação determinado pela Resolução CONAMA 420/09.
- (C) a Amostra 1 indica que há riscos potenciais à saúde humana, mas somente com relação ao Tolueno, que apresenta concentração acima do valor de investigação determinado pela Resolução CONAMA 420/09.
- (D) A Amostra 2 indica que há riscos potenciais à saúde humana, pois as concentrações de Benzeno e Tolueno estão acima do valor de investigação determinado pela Resolução CONAMA 420/09.
- (E) A Amostra 2 indica que há riscos potenciais à saúde humana, mas somente com relação ao



Tolueno, que apresenta concentração acima do valor de investigação determinado pela Resolução CONAMA 420/09.

#### QUESTÃO 33

**Um Sistema de Tratamento de Efluente Sanitário de um município recebe efluente bruto com Demanda Bioquímica de Oxigênio (DBO) de 350 mg/l. Após o tratamento, o efluente apresenta a concentração de DBO igual a 210 mg/l. Os estudos do corpo receptor do efluente indicaram que os limites impostos pela Resolução CONAMA 430/11 devem ser respeitados. Assim, pode-se afirmar que, em relação à DBO do efluente tratado, a ETE está**

- (A) em desacordo com a legislação, uma vez que o sistema de tratamento atingiu a remoção de DBO de 60%.
- (B) em desacordo com a legislação, uma vez que o sistema de tratamento não atingiu a remoção mínima de DBO de 60%.
- (C) de acordo com a legislação, pois o sistema de tratamento atingiu remoção de DBO de 60%.
- (D) de acordo com a legislação, pois o sistema de tratamento atingiu remoção de DBO de 40%.
- (E) de acordo com a legislação, se o efluente tivesse concentração de DBO entre 145 e 175 mg/l.

#### QUESTÃO 34

**Qual tipo de Licença Ambiental permite ao empreendedor iniciar a implantação de um novo empreendimento?**

- (A) Licença Prévia.
- (B) Licença de Operação.
- (C) Licença de Instalação.
- (D) Alvará de Construção.
- (E) Licença de Alteração.

#### QUESTÃO 35

**Um fiscal foi designado para realizar a análise de um processo de licenciamento ambiental de um parcelamento do solo urbano. Após a leitura do processo, verificou que o terreno está coberto por vegetação nativa pertencente ao ecossistema Mata Atlântica. Com base na Lei Federal 11.428/06, assinale a alternativa correta.**

- (A) O empreendedor poderá suprimir a totalidade da vegetação na área, desde que faça a compensação da área suprimida e seja autorizado pelo órgão ambiental.
- (B) O empreendedor poderá suprimir a totalidade da vegetação na área, desde que obtenha autorização do órgão ambiental.
- (C) A área de supressão da vegetação dependerá

do seu estágio sucessional, bem como do ano em que o terreno foi declarado como área urbana.

- (D) Na ocorrência de Áreas de Preservação Permanente (APP), estas poderão ser suprimidas desde que haja compensação.
- (E) A porcentagem de supressão de vegetação é definida pelo órgão caso a caso, pois não há porcentagens definidas na legislação.

#### QUESTÃO 36

**São biomas que ocorrem no Estado da Bahia:**

- (A) Caatinga, Mata Atlântica e Cerrado.
- (B) Caatinga, Mata Atlântica e Amazônia.
- (C) Pampa, Caatinga e Pantanal.
- (D) Caatinga, Mata Atlântica e Pantanal.
- (E) Pampa, Caatinga e Amazônia.

#### QUESTÃO 37

**Um aterro de resíduos sólidos urbanos está apto a receber**

- (A) apenas resíduos sólidos domésticos.
- (B) resíduos sólidos domésticos e resíduos da construção civil.
- (C) resíduos sólidos domésticos, resíduos da construção civil (RCC) e resíduo de poda e capina.
- (D) resíduos sólidos domésticos e resíduos nucleares.
- (E) resíduos sólidos domésticos, algumas classes de resíduos de serviço de saúde após passarem por redução de carga microbiana, lodos de ETA e ETE que não sejam considerados resíduos perigosos.

#### QUESTÃO 38

**De acordo com a Lei Complementar 140/11, são atividades passíveis de licenciamento pela União, EXCETO**

- (A) atividades de caráter militar, desde que não haja delegação de competência do licenciamento ao município.
- (B) manuseio, armazenamento ou beneficiamento de materiais radioativos, desde que não haja delegação de competência do licenciamento ao município.
- (C) empreendimentos situados entre dois municípios do mesmo Estado.
- (D) empreendimentos situados entre dois municípios de Estados diferentes.
- (E) unidades de Conservação instituídas pela União, exceto em Áreas de Proteção Ambiental (APAs).

**QUESTÃO 39**

No acidente ocorrido em Mariana/MG, as autoridades colocaram 9.000 m de barreiras de contenção entre Regência e Povoação, na região de Linhares/ES, na tentativa de impedir o avanço da lama presente no Rio Doce para o mar. A lama conseguiu chegar até o mar mesmo com a presença das barreiras, sendo que o insucesso dessa medida ocorreu

- (A) porque, devido à incidência dos ventos, houve a formação de ondas no rio, fazendo com que a lama que estava sobre o a água ultrapassasse as barreiras de contenção.
- (B) porque as substâncias presentes na lama reagiram quimicamente com as barreiras, rompendo-as e permitindo o avanço da pluma.
- (C) porque as barreiras de contenção são mais eficientes para compostos mais densos que a água, e que apresentam elevada solubilidade em água.
- (D) porque as barreiras de contenção são mais eficientes para compostos menos densos que a água e que apresentam baixa solubilidade em água.
- (E) porque as barreiras foram mal posicionadas, permitindo que o fluxo de lama estabelecesse uma rota preferencial que desviou das barreiras.

**QUESTÃO 40**

Uma empresa obteve a Licença de Instalação em 2008 e atualmente opera uma caldeira com Potência de 0,7 MW que é abastecida com cavacos de madeira. Em uma amostra coletada na chaminé dessa empresa, verificou-se que o parâmetro CO apresentava concentração de 3800 mg/Nm<sup>3</sup>, em base seca a 8% de O<sub>2</sub>. A Resolução CONAMA 382/06 estabelece os limites de emissão para fontes fixas instaladas após 2007 (Tabela 1), enquanto a Resolução CONAMA 436/11 estabelece os limites de emissão para fontes instaladas anteriormente a Janeiro de 2007 (Tabela 2).

Tabela 1: Limites de emissão para caldeira abastecida a madeira da Resolução CONAMA 382/06.

Potência (MW)	CO <sup>(1)</sup>
Até 0,05	6500
0,05 < MW ≤ 0,15	3250
0,15 < MW ≤ 1,0	1700
1,0 < MW ≤ 10	1300

(1) Os resultados devem ser expressos na unidade de concentração mg/Nm<sup>3</sup>, em base seca a 8% de oxigênio.

Tabela 2: Limites de emissão para caldeira abastecida a madeira da Resolução CONAMA 436/1

Potência (MW)	CO <sup>(2)</sup>
MW < 0,5	7800
0,5 < MW ≤ 2	3900
2 < MW ≤ 10	3250

(2) Os resultados devem ser expressos na unidade de concentração mg/Nm<sup>3</sup>, em base seca a 8% de oxigênio.

Com base na Tabela e nos dados apresentados, assinale a alternativa correta.

- (A) A empresa está em desacordo com a legislação, visto que a concentração de CO está acima do permitido pela Resolução CONAMA 382/06.
- (B) A empresa está de acordo com a legislação, visto que a concentração de CO está abaixo da permitida pela Resolução CONAMA 436/11.
- (C) Se o empreendimento descrito no texto tivesse sido instalado em 2005, a emissão de CO ainda seria superior ao permitido.
- (D) À medida que a potência da caldeira aumenta, ambas as legislações permitem maior emissão de CO.
- (E) Os limites de emissões de uma caldeira abastecida com cavacos de madeira instalada anterior a 2007 são menores que os limites de emissões de caldeiras instaladas após 2007.

**QUESTÃO 41**

De acordo com a lei complementar nº 1, de 23 de julho de 2013, do município de Valença, assinale a alternativa que diz respeito a um dos princípios da Política Municipal de Meio Ambiente.

- (A) Erradicar a pobreza e a marginalização e reduzir as desigualdades sociais na área urbana e na área rural.
- (B) Promover, no que couber, o adequado ordenamento territorial do Município, mediante planejamento e controle do uso, parcelamento e ocupação do solo, especialmente em sua zona urbana.
- (C) Estabelecer normas de edificação, loteamento, arruamento e zoneamento urbano e rural, bem como as limitações urbanísticas convenientes à ordenação do seu território, observando o plano

- diretor municipal e a lei federal.
- (D) Direito de todos a um meio ambiente ecologicamente equilibrado e à sadia qualidade de vida.
- (E) Elaborar e executar a política de desenvolvimento urbano com o objetivo de ordenar o pleno desenvolvimento das funções sociais das áreas habitadas de toda a União e garantir o bem-estar de seus habitantes.

#### QUESTÃO 42

**A Política Municipal de Meio Ambiente, constante na Lei Complementar nº de 23, de julho de 2013, do Município de Valença, tem como objetivo principal assegurar as condições de sadia qualidade de vida e do bem-estar da coletividade e das demais formas de vida, em consonância com o desenvolvimento socioambiental e econômico, e tem como um de seus objetivos específicos**

- (A) combater a poluição em todas as suas formas, promovendo-se a melhoria contínua da qualidade ambiental.
- (B) proteger os documentos, as obras e outros bens de valor histórico e cultural, os monumentos, as paisagens naturais notáveis e os sítios arqueológicos.
- (C) fomentar a produção agropecuária e as demais atividades econômicas, inclusive a artesanal, e organizar o abastecimento alimentar.
- (D) regulamentar, licenciar, permitir, autorizar e fiscalizar a fixação de cartazes, anúncios e faixas, bem como a utilização de quaisquer outros meios de publicidade e propaganda, nos locais sujeitos ao poder de política municipal.
- (E) estabelecer normas de arruamento e zoneamento urbano e rural, bem como as limitações urbanísticas convenientes.

#### QUESTÃO 43

**Com base na Lei Orgânica do Município de Valença, assinale a alternativa que traduza uma competência privativa do município.**

- (A) Zelar pela guarda da Constituição Federal, da Constituição Estadual e das Leis dessas esferas de governo, das instituições democráticas e conservar o patrimônio público.
- (B) Cuidar da saúde e assistência pública, da proteção e garantia das pessoas portadoras de deficiências.
- (C) Preservar as florestas, a fauna, a flora e os manguezais.
- (D) Instituir e arrecadar os tributos de sua competência.
- (E) Estabelecer e implantar a política de educação para a segurança do trânsito.

#### QUESTÃO 44

**De acordo com a Constituição Federal de 1988, assinale a alternativa que apresenta um dos fundamentos da República Federativa do Brasil.**

- (A) Igualdade entre os Estados.
- (B) Repúdio ao Terrorismo e ao Racismo.
- (C) A dignidade da pessoa humana.
- (D) Autodeterminação dos povos.
- (E) Concessão de asilo político.

#### QUESTÃO 45

**Assinale a alternativa que apresenta um dos direitos e garantias fundamentais constantes na Constituição Federal de 1988.**

- (A) Ninguém será obrigado a fazer ou deixar de fazer algo, ainda que em virtude de lei.
- (B) É garantido o direito de propriedade.
- (C) A lei excluirá da apreciação do Poder Judiciário lesão ou ameaça a direito.
- (D) É assegurado a todos, mediante o pagamento de taxa, o direito de petição aos Poderes Públicos em defesa de direitos ou contra ilegalidade ou abuso de poder.
- (E) A lei prejudicará o direito adquirido, o ato jurídico perfeito e a coisa julgada.

#### QUESTÃO 46

**De acordo com a Lei nº 1.912/2007, do município de Valença, assinale a alternativa correta quanto ao Alvará.**

- (A) O Alvará é de caráter impessoal e intransferível e terá validade enquanto não se modificarem os elementos nele especificados e atendidas as obrigações fiscais.
- (B) O Alvará é de caráter impessoal e transferível e terá validade enquanto não se modificarem os elementos nele especificados e atendidas as obrigações fiscais.
- (C) O Alvará é de caráter pessoal e intransferível e não terá validade enquanto não se modificarem os elementos nele especificados.
- (D) O Alvará é de caráter pessoal e transferível e terá validade somente quando se modificarem os elementos nele especificados e atendidas as obrigações fiscais.
- (E) O Alvará é de caráter pessoal e intransferível e terá validade enquanto não se modificarem os elementos nele especificados e atendidas as obrigações fiscais.

**QUESTÃO 47**

**Com base na Lei nº 1.722/2007, do município de Valença, a mercadoria, encontrada com vendedor ambulante não autorizado para o exercício ou período em que esteja exercendo a atividade,**

- (A) será apreendida e distribuída a pessoas carentes.
- (B) será destruída.
- (C) será apreendida.
- (D) permanecerá com o vendedor ambulante.
- (E) será confiscada e comercializada pelo município.

**QUESTÃO 48**

**Com base na Lei Federal nº 11.428/2006, o que é prática preservacionista?**

- (A) Atividade técnica e cientificamente fundamentada, imprescindível à proteção da integridade da vegetação nativa, tal como controle de fogo, erosão, espécies exóticas e invasoras.
- (B) Atividade técnica e cientificamente fundamentada que vise à recuperação da diversidade biológica em áreas de vegetação nativa, por meio da reintrodução de espécies nativas.
- (C) Prática que prevê a interrupção de atividades ou usos agrícolas, pecuários ou silviculturais do solo por até 10 anos para possibilitar a recuperação de sua fertilidade.
- (D) Exploração do ambiente de maneira a garantir a perenidade dos recursos ambientais renováveis e dos processos ecológicos, mantendo a biodiversidade e os demais atributos ecológicos, de forma socialmente justa e economicamente viável.
- (E) Prática que prevê uma população vivendo em estreita relação com o ambiente natural, dependendo de seus recursos naturais para a sua reprodução sociocultural, por meio de atividades de baixo impacto ambiental.

**QUESTÃO 49**

**De acordo com o decreto nº 8.437, de 22 de abril de 2015, que regulamenta o disposto no art. 7º, caput, inciso XIV, alínea “h” e parágrafo único, da Lei Complementar nº 140, de 8 de dezembro de 2011, para estabelecer as tipologias de empreendimentos e atividades cujo licenciamento ambiental será de competência da União, o que é regularização ambiental?**

- (A) Conjunto de ações necessárias para construir uma ferrovia em faixa de terreno onde não exista ferrovia previamente implantada.
- (B) Conjunto de procedimentos visando obter o licenciamento ambiental de ferrovias e rodovias

federais pavimentadas, por meio da obtenção da licença de operação.

- (C) Obras ou intervenções que visam melhorar a segurança e o nível de serviço da ferrovia, tais como a sua duplicação e a implantação e ampliação de pátio ferroviário.
- (D) Conjunto de operações que resultam no aumento da capacidade do fluxo de tráfego de rodovia pavimentada existente e no aumento da segurança de tráfego de veículos e pedestres, compreendendo a duplicação rodoviária integral ou parcial, a construção de multifaixas e a implantação ou substituição de obras de arte especiais para duplicação.
- (E) Prática que prevê a interrupção de atividades ou usos agrícolas, pecuários ou silviculturais do solo por até 10 anos para possibilitar a recuperação de sua fertilidade.

**QUESTÃO 50**

**Assinale a alternativa correta, com base na Lei Orgânica do Município de Valença, que apresenta uma competência comum entre o Município, Estado e União.**

- (A) Criar, organizar e suprimir distrito, observada a legislação estadual.
- (B) Organizar o quadro e estabelecer o regime de servidores do município.
- (C) Regulamentar, licenciar, permitir, autorizar e fiscalizar a fixação de cartazes, anúncios e faixas, bem como a utilização de quaisquer outros meios de publicidade e propaganda, nos locais sujeitos ao poder de política municipal.
- (D) Zelar pela guarda da Constituição Federal, da Constituição Estadual e das Leis dessas esferas de governo, das instituições democráticas e conservar o patrimônio público.
- (E) Elaborar o Plano Plurianual, as Diretrizes Orçamentárias e o Orçamento Anual, com base em planejamento adequado, estimando a receita e fixando a despesa.

