



COMPANHIA DE DESENVOLVIMENTO E ADMINISTRAÇÃO DA ÁREA
METROPOLITANA DE BELÉM

ESTADO DO PARÁ



M1460007N

AOCP
CONCURSOS PÚBLICOS

EMPREGO PÚBLICO - EDITAL 003/2017
NÍVEL MÉDIO - MANHÃ

AUXILIAR DE SUPORTE – ASSISTENTE ADMINISTRATIVO

Nome do Candidato _____

Inscrição _____

COMPOSIÇÃO DO CADERNO:

Língua Portuguesa	01 a 10
Matemática	11 a 15
Atualidades	16 a 20
Legislação	21 a 25
Noções de Informática	26 a 30
Conhecimentos Específicos	31 a 50



ATENÇÃO

- Confira, na sua Folha de Respostas, seu nome, documento e o número de sua inscrição, assinando-a no lugar indicado;
- Confira, no caderno de questões, se o emprego corresponde àquele para o qual você se inscreveu e se há falhas de impressão e numeração, preenchendo seu nome e número de inscrição.



TEMPO

- O prazo de realização da prova é de 4 horas, incluindo o preenchimento da Folha de Respostas;
- A liberação para deixar o local de aplicação e utilizar o sanitário ocorrerá após 60 minutos do início da prova, não podendo, no entanto, levar o caderno de questões;
- Os 3 últimos candidatos deverão retirar-se da sala juntos, pois eles assinarão o Termo de Fechamento do envelope de retorno das Folhas de Respostas.



IMPORTANTE

- Não é permitido o uso ou a emissão de ruído de qualquer equipamento eletrônico durante a realização da prova, ainda que esse equipamento esteja devidamente acondicionado no envelope de guarda de pertences;
- O NÃO cumprimento de qualquer uma das determinações constantes em Edital, no presente Caderno ou na Folha de Respostas incorrerá em eliminação.



- De acordo com o edital, os cadernos de questões poderão ser levados somente pelos candidatos que permanecerem em sala até o final do tempo de aplicação da prova de cada período;
- Os cadernos de questões serão divulgados, no site www.aocp.com.br, juntamente com os gabaritos, após o encerramento da aplicação das provas dos dois períodos.



FOLHA DE RESPOSTAS

- O único documento válido para avaliação é a Folha de Respostas, que deve ser devolvida ao fiscal ao término da prova;
- O candidato deve preencher e assinar, com caneta esferográfica transparente de cor azul ou preta, sua Folha de Respostas;
- O preenchimento deve ser realizado da seguinte maneira: ●

PROVA

01

LEMBRE-SE DE MARCAR O NÚMERO
CORRESPONDENTE A SUA PROVA NA
FOLHA DE RESPOSTAS!

ATENÇÃO!

Não se ESQUEÇA de marcar, na Folha de Respostas, o número de sua prova indicado na capa deste caderno.

LÍNGUA PORTUGUESA

Trem bala - Ana Vilela

Não é sobre ter

Todas as pessoas do mundo pra si

É sobre saber que em algum lugar

Alguém zela por ti

É sobre cantar e poder escutar

Mais do que a própria voz

É sobre dançar na chuva de vida

Que cai sobre nós

É saber se sentir infinito

Num universo tão vasto e bonito

É saber sonhar

E, então, fazer valer a pena cada verso

Daquele poema sobre acreditar

Não é sobre chegar no topo do mundo

E saber que venceu

É sobre escalar e sentir

Que o caminho te fortaleceu

É sobre ser abrigo

E também ter morada em outros corações

E assim ter amigos contigo

Em todas as situações

A gente não pode ter tudo

Qual seria a graça do mundo se fosse assim?

Por isso, eu prefiro sorrisos

E os presentes que a vida trouxe

Pra perto de mim

Não é sobre tudo que o seu dinheiro

É capaz de comprar

E sim sobre cada momento

Sorriso a se compartilhar

Também não é sobre correr

Contra o tempo pra ter sempre mais

Porque quando menos se espera

A vida já ficou pra trás

Segura teu filho no colo

Sorria e abrace teus pais

Enquanto estão aqui

Que a vida é trem-bala, parceiro

E a gente é só passageiro prestes a partir

Texto extraído e adaptado de: <https://www.vagalume.com.br/ana-vilela/trem-bala.html>.17/05/2017.

1. Em seu texto, intitulado *Trem bala*, a cantora Ana Vilela aborda qual das seguintes temáticas?

- (A) A brevidade da vida e a importância de valorizarmos o tempo, os acontecimentos e as pessoas.
- (B) A efemeridade da vida e a necessidade de a vivermos intensamente.
- (C) A importância de lutarmos para sermos felizes durante nossa vida.
- (D) A passagem do tempo e a importância da família.
- (E) A necessidade de sabermos viver, para obtermos nossas conquistas e sonhos.

2. Leia os excertos a seguir:

“É sobre dançar na chuva de vida / Que cai sobre nós”

“Segura teu filho no colo / Sorria e abrace teus pais / enquanto estão aqui”

“Que a vida é trem-bala, parceiro / E a gente é só passageiro prestes a partir”

Tendo em vista tais excertos, é correto afirmar que a autora

- (A) realiza uma reflexão direcionada a um ouvinte, não se incluindo na narração.
- (B) realiza uma reflexão sobre a vida, mencionando apenas seu interlocutor.
- (C) realiza uma reflexão na qual inclui a si mesma e a seu ouvinte na narração, ao mesmo tempo em que se dirige a um interlocutor, orientando-o.
- (D) realiza uma reflexão introspectiva, ou seja, não se direciona a ninguém fora da narração.
- (E) apresenta uma narração, a fim de colocar seus pensamentos em ordem para se orientar em relação às “coisas da vida”.

3. “É sobre escalar e sentir / Que o caminho te fortaleceu”

“É sobre dançar na chuva de vida / Que cai sobre nós”

“Sorria e abrace teus pais / Enquanto estão aqui / Que a vida é trem-bala, parceiro”

Considerando as diferentes funções dos elementos “que” nos excertos

apresentados, é correto afirmar que eles são, respectivamente:

- (A) conjunção integrante; conjunção integrante; conjunção subordinativa de causa.
- (B) pronome relativo; conjunção integrante; conjunção coordenativa explicativa.
- (C) conjunção subordinativa de causa; pronome relativo, conjunção integrante.
- (D) pronome relativo, pronome relativo, conjunção subordinativa de causa.
- (E) conjunção integrante; pronome relativo; conjunção coordenativa explicativa.

4. Acerca dos dígrafos e dos encontros vocálicos e consonantais na Língua Portuguesa, assinale a alternativa que apresenta palavras com: dígrafo nasal e encontro vocálico; encontro vocálico e encontro consonantal; encontro consonantal e encontro vocálico, respectivamente:

- (A) Dançar; sobre; verso.
- (B) Chuva; escalar; poema.
- (C) Caminho; situações; fortaleceu.
- (D) Mundo; fosse; compartilhar.
- (E) Dinheiro; outros; venceu.

5. Acerca da representação fonética, é correto afirmar que, nas palavras: “pessoas”, “alguém” e “gente”, tem-se, respectivamente, a seguinte representação:

- (A) sete letras e seis fonemas, seis letras e seis fonemas, cinco letras e cinco fonemas.
- (B) sete letras e sete fonemas, seis letras e cinco fonemas, cinco letras e cinco fonemas.
- (C) sete letras e seis fonemas, seis letras e cinco fonemas, cinco letras e cinco fonemas.
- (D) sete letras e sete fonemas, seis letras e cinco fonemas, cinco letras e quatro fonemas.
- (E) sete letras e seis fonemas, seis letras e cinco fonemas, cinco letras e quatro fonemas.

6. Observe o seguinte excerto:

**“Não é sobre chegar no topo do mundo
E saber que venceu
É sobre escalar e sentir
Que o caminho te fortaleceu
É sobre ser abrigo
E também ter morada em outros corações
E assim ter amigos contigo
Em todas as situações”**

Com base na composição desse excerto, é possível afirmar que a autora apresenta uma discussão em que ela nega uma ação e, em seguida, apresenta a ação que considera como válida, encerrando o parágrafo por meio da apresentação de uma conclusão para essas ações. Pistas disso são, sequencialmente:

- (A) a negação “não é sobre” seguida da afirmação “é sobre” e da conclusão “ter morada”.
- (B) a negação “não é sobre” precedida da afirmação “é sobre” e a conclusão “ter amigos em todas as situações”.
- (C) a afirmação “é sobre” precedida pela negação “não é sobre” e a conclusão “ter amigos em todas as situações”.
- (D) a afirmação “é sobre” seguida pela negação “não é sobre” e a conclusão “ter moradas”.
- (E) a afirmação “é sobre” seguida pela negação “não é sobre” e a conclusão “ter muitos amigos”.

7. Observe o seguinte excerto:

“É sobre ser abrigo / E também ter morada em outros corações / E assim ter amigos contigo / Em todas as situações”. É correto afirmar que os elementos sublinhados apresentam as seguintes funções:

- (A) iniciam orações independentes sintática e semânticamente.
- (B) ligam orações, estabelecendo, respectivamente, o valor de consequência e adição.
- (C) iniciam orações interdependentes. Por esse motivo, é possível suprimir o “e” sem alterar o sentido dessas construções.
- (D) ligam orações, estabelecendo, respectivamente, o valor de adição e resultado.
- (E) iniciam orações sintaticamente dependentes. Por esse motivo, é possível suprimir o “e” sem alterar o sentido dessas construções.

8. “Qual seria a graça do mundo se fosse assim”

“É saber se sentir infinito”

Considerando as funções do “se” e os excertos apresentados, tem-se, respectivamente, as seguintes funções para esse termo:

- (A) conjunção integrante; pronome reflexivo.
- (B) conjunção subordinativa; pronome reflexivo.
- (C) conjunção subordinativa; partícula expletiva.
- (D) conjunção integrante; partícula expletiva.
- (E) partícula expletiva; pronome reflexivo.

9. No excerto: “a vida é trem-bala, parceiro / E a gente é só passageiro prestes a partir”, a autora utiliza uma figura de linguagem denominada

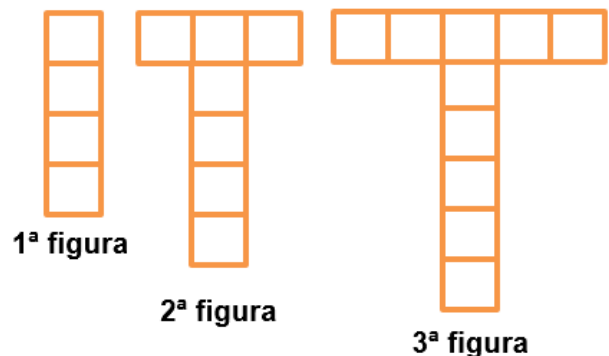
- (A) sinonímia.
- (B) metáfora.
- (C) personificação.
- (D) metonímia.
- (E) sinestesia.

10. No excerto: “É sobre ser abrigo e também ter morada em outros corações / e assim ter amigos [...]”, pensando na significação das palavras e expressões, é correto afirmar que os termos sublinhados são:

- (A) uma metáfora sobre a força da amizade e são termos sinônimos.
- (B) uma metáfora sobre moradia e não podem ser classificados como sinônimos.
- (C) uma metáfora sobre o auxílio e o carinho que os amigos oferecem uns aos outros e podem ser compreendidos como termos sinônimos.
- (D) uma metáfora sobre o auxílio e o carinho que os amigos oferecem uns aos outros e não podem ser compreendidos como termos sinônimos.
- (E) uma metáfora sobre proteção e não podem ser compreendidos como termos sinônimos.

MATEMÁTICA

11. A sequência de figuras a seguir foi obtida comparando-se a quantidade de blocos de concreto utilizada na fabricação de postes, de tal forma que, a partir de uma torre (1ª figura), determina-se o poste seguinte, com acréscimo de mais blocos de concreto (2ª figura), repetindo-se esse processo para cada figura seguinte, conforme mostram as figuras. Na primeira figura, são 4 blocos de concreto, na segunda, são 7 blocos de concreto, na terceira figura, são 10 blocos de concreto e assim por diante. Dessa forma, quantos blocos de concreto serão necessários para fazer a 7ª figura?



- (A) 19 blocos.
- (B) 20 blocos.
- (C) 21 blocos.
- (D) 22 blocos.
- (E) 25 blocos.

12. Helena, Paula e Rafaela receberam, juntas, uma quantia de R\$ 90,00 como mesada, gastando tudo que receberam

logo em seguida. Helena gastou $\frac{1}{6}$ do total e Paula gastou $\frac{2}{3}$ do total.

Quantos reais cada uma gastou?

- (A) Helena R\$ 10,00, Paula R\$ 50,00 e Rafaela R\$ 30,00.
- (B) Helena R\$ 15,00, Paula R\$ 60,00 e Rafaela R\$ 15,00.
- (C) Helena R\$ 20,00, Paula R\$ 40,00 e Rafaela R\$ 30,00.
- (D) Helena R\$ 25,00, Paula R\$ 40,00 e Rafaela R\$ 25,00.
- (E) Helena R\$ 35,00, Paula R\$ 20,00 e Rafaela R\$ 35,00.

13. Uma empresa tem três sócios que tiveram a seguinte participação em um negócio: o primeiro investiu R\$ 10.000,00, o segundo R\$ 7.000,00 e o terceiro R\$ 3.000,00. No final de seis meses, foi apurado um lucro de R\$ 4.400,00. O lucro foi repartido de forma proporcional ao que foi investido por cada sócio. Assim, de qual forma foi repartido esse lucro entre os três sócios?

- (A) O primeiro sócio recebeu R\$ 1.900,00, o segundo R\$ 1.440,00 e o terceiro R\$ 1.160,00.
- (B) O primeiro sócio recebeu R\$ 1.900,00, o segundo R\$ 1.480,00 e o terceiro R\$ 1.020,00.
- (C) O primeiro sócio recebeu R\$ 2.100,00, o segundo R\$ 1.640,00 e o terceiro R\$ 660,00.
- (D) O primeiro sócio recebeu R\$ 2.200,00, o segundo R\$ 1.530,00 e o terceiro R\$ 670,00.
- (E) O primeiro sócio recebeu R\$ 2.200,00, o segundo R\$ 1.540,00 e o terceiro R\$ 660,00.

14. Em uma pesquisa feita no centro de uma cidade, verificou-se que, das pessoas consultadas, 150 liam o jornal "O Diário", 90 liam o jornal "Gazeta do Povo", 30 liam os dois jornais "O Diário" e "Gazeta do Povo" e 70 não liam nenhum dos dois jornais. Quantas pessoas foram consultadas?

- (A) 240.
- (B) 270.
- (C) 280.
- (D) 290.
- (E) 320.

15. Ana quer comprar um apartamento no centro de uma cidade, o qual custa R\$ 790.000,00, e fez um contrato com o dono do apartamento. Nesse contrato, há a seguinte cláusula de multa: se houver desistência, tanto da compra quanto da venda, terá que ser paga uma multa de 6% sobre o valor do apartamento. Se ambos desistirem do negócio, nenhuma das partes pagará multa. Caso Ana desista de comprar o apartamento, qual será o valor da multa que ela irá pagar?

- (A) A multa será de R\$ 47.400,00.
- (B) A multa será de R\$ 47.900,00.
- (C) A multa será de R\$ 48.300,00.
- (D) A multa será de R\$ 49.700,00.
- (E) A multa será de R\$ 51.500,00.

16. Em 2017, completam-se 72 anos da ruína de um pedaço de império no meio da floresta amazônica. Era uma área extensa, de aproximadamente 15 mil quilômetros quadrados no sudoeste do Pará, onde se construiu a Fordlândia. Sobre o assunto, assinale a alternativa correta.

- (A) O projeto empreendido pelo empresário norte americano Henry Ford previa a construção de uma cidade para aproveitar o potencial do ciclo do látex e a instalação de uma montadora da Ford, em expansão mundial no período.
- (B) O projeto da Fordlândia foi desenvolvido em terras doadas pelo estado, em uma tentativa de incentivar a ocupação e o desenvolvimento da região.
- (C) Atualmente, a Fordlândia está sob a administração política da cidade de Aveiro que, apesar de sofrer com a falta de recursos, mostra-se interessada em reconstruir a cidade para atrair mais visitantes.
- (D) O governo federal incluiu nas obras do PAC (Programa de Aceleração do Crescimento) a restauração da cidade, pois a considera um patrimônio histórico nacional, sendo, com isso, necessária sua restauração.
- (E) O governo dos Estados Unidos vem, nos últimos anos, reivindicando o direito de posse sobre essa área em uma tentativa de obter uma pequena parte da Amazônia brasileira.

17. Das dez maiores usinas hidrelétricas do Brasil, quatro localizam-se no estado do Pará. Considerando o exposto, sobre recursos energéticos e sustentabilidade, assinale a alternativa correta.

- (A) O projeto da Usina Hidrelétrica de Tucuruí foi criado junto ao Programa Grande Carajás, para abastecer com energia subsidiada as indústrias de alumínio Alumar/Alcoa, no Maranhão, e Albrás/Alunorte/Vale, no Pará.
- (B) A construção da Usina de Tucuruí insere-se no contexto das grandes obras do regime militar e suas dimensões comprovam a grandiosidade, sendo considerada a maior usina hidrelétrica do país construída no rio Araguaia.
- (C) Em 2016, segundo relatório da FUNAI (Fundação Nacional de Amparo ao Índio), do RIMA (Relatório de Impacto Ambiental) e do Greenpeace, as obras para construção da Usina de São Luiz do Tapajós são consideradas um exemplo de sustentabilidade nacional.
- (D) O rio tapajós possui um grande potencial para geração energética, o que proporcionou o desenvolvimento de projetos de grandes usinas, como a hidrelétrica de Jatobá. Sua viabilidade já foi aprovada pelos governos estadual e federal, devendo, assim, sair do papel em 2018.
- (E) Obras visando à produção energética no Pará, bem como na região norte do Brasil, são favorecidas pelo elevado potencial dos rios da bacia amazônica, que se apresentam com o maior potencial hidrelétrico instalado do Brasil.

18. Em 2016, representantes dos 13 mil indígenas da etnia Munduruku, no Pará, divulgaram uma carta do povo indígena ao Governo Federal. Sobre esse documento e a questão indígena no Estado do Pará, assinale a alternativa correta.

- (A) A reivindicação indígena está relacionada ao fato de a região apresentar jazidas auríferas e sítios arqueológicos, o que gera grande tensão entre o governo e os Mundurukus.
- (B) As comunidades indígenas, ao serem deslocadas pelos constantes projetos de hidrelétricas, rodovias e projetos de mineração, vem sendo recompensadas com terras proporcionais às que perderam, bem como indenizações e apoio por parte das autoridades.
- (C) As manifestações indígenas contrárias aos grandes projetos hidrelétricos são

descabidas, visto que as autoridades políticas e a FUNAI vêm trabalhando em conjunto, procurando evitar que a identidade cultural das tribos se perca.

- (D) A partir de 1850, a Lei de Terras demarcou as áreas indígenas, o que permitiu aos índios o direito de manifestar sua cultura.
- (E) O documento apresentado pelos indígenas solicitava a demarcação de terras, investimentos em saúde e educação nas aldeias e, principalmente, o fim dos projetos de construção de hidrelétricas no Estado.

19. Há vinte e um anos, iniciavam-se as tensões e discussões sobre a construção do projeto da usina de Belo Monte. A respeito da polêmica construção dessa usina, assinale a alternativa INCORRETA.

- (A) Idealizado ainda no governo militar, em 1975, para o projeto do complexo Kararaô (primeiro nome de Belo Monte), na ocasião, previa-se uma obra com seis barragens entre os rios Xingu e Iriri.
- (B) Idealizada no regime militar, a usina foi inaugurada em 2016, envolta a uma série de polêmicas, sendo desvios de recursos uma delas.
- (C) A usina foi construída fazendo parte das obras do PAC (Programa de Aceleração do Crescimento) do governo federal, junto ao rio Xingu.
- (D) Com a construção da usina de Belo Monte, comunidades tradicionais terão suas vidas alteradas em vários aspectos, tanto naturais (navegação impedida, formação de pequenos lagos) quanto sociais (realocação populacional, indenizações, etc.)
- (E) A usina de Belo Monte, quando estiver totalmente concluída, será a maior usina hidrelétrica em geração de energia do mundo.

20. “Amazônia pode entrar em ciclo vicioso de desmatamento e seca. Pesquisa publicada na revista ‘Nature’ indica que a ação humana e a redução das chuvas podem transformar a floresta em savana”.

Sobre os impactos na floresta amazônica, assinale a alternativa correta.

- (A) Os impactos na floresta amazônica diminuíram nos últimos anos, em decorrência de uma maior fiscalização por parte das autoridades e campanhas de conscientização relacionadas ao desenvolvimento sustentável, sendo que os Estados do Pará, Mato Grosso do Sul e Roraima foram os que mais desmataram.

- (B) Há uma combinação de fatores por trás da expansão do desmatamento na Amazônia: a exploração ilegal de madeira, o corte de árvores para formação de pasto e a falta de investimentos para fiscalizar e combater com eficiência.
- (C) As transformações que a floresta amazônica vem passando nos últimos anos pela ação antrópica poderão transformá-la em uma savana tanto em fauna quanto em flora.
- (D) A derrubada da floresta amazônica poderá alterar o ciclo hidrológico da região norte e comprometer os chamados rios voadores que funcionam como uma bomba d'água apenas na região norte do Brasil, o que poderá favorecer a formação de caatinga.
- (E) Devido ao projeto SIVAM (Sistema de Vigilância da Amazônia), toda e qualquer forma de exploração vem sendo vigorosamente combatida, impedindo com êxito atividades ilícitas, como a biopirataria.

LEGISLAÇÃO

21. Assinale a alternativa INCORRETA a respeito da administração pública.

- (A) A administração pública direta e indireta de qualquer dos Poderes da União, dos Estados, do Distrito Federal e dos Municípios obedecerá aos princípios de legalidade, impessoalidade, moralidade, publicidade e eficiência.
- (B) Os cargos, empregos e funções públicas são acessíveis aos brasileiros que preencham os requisitos estabelecidos em lei, sendo vedados aos estrangeiros.
- (C) O prazo de validade do concurso público será de até dois anos, prorrogável uma vez, por igual período.
- (D) As funções de confiança, exercidas exclusivamente por servidores ocupantes de cargo efetivo, e os cargos em comissão, a serem preenchidos por servidores de carreira nos casos, condições e percentuais mínimos previstos em lei, destinam-se apenas às atribuições de direção, chefia e assessoramento.
- (E) É garantido, ao servidor público civil, o direito à livre associação sindical.

22. Assinale a alternativa correta a respeito do poder regulamentar.

- (A) É competência exclusiva do chefe do Poder Executivo.
- (B) É competência concorrente do Poder Executivo e do Poder Judiciário.
- (C) Admite, apenas, a edição de decretos regulamentares.
- (D) Admite, também, decreto autônomo para preencher lacunas na lei.
- (E) Pode ser delegado em caráter geral e definitivo.

23. Sobre os atributos do ato administrativo, assinale a alternativa correta.

- (A) Presunção de legitimidade é a possibilidade de a própria administração executar seus atos, sem se valer do Poder Judiciário.
- (B) Imperatividade se relaciona ao caráter negocial do ato.
- (C) Autoexecutoriedade significa que cabe ao administrado impugnar o ato.
- (D) Exigibilidade é a possibilidade de a administração fixar a sanção pelo descumprimento do ato.
- (E) Discricionariedade é o caráter vinculativo do ato.

24. Considerando a Resolução n.º 20/2014 da CODEM, assinale a alternativa INCORRETA.

- (A) Pessoal efetivo são empregados públicos cuja investidura no respectivo emprego se deu mediante concurso público de provas ou de provas e títulos.
- (B) Emprego de confiança é a unidade de ocupação funcional, criado por norma, para o exercício de atividades e de responsabilidades de direção, chefia ou assessoramento superiores, definidas com base na estrutura organizacional da CODEM, de livre admissão e dispensa.
- (C) Função gratificada: conjunto de atividades e responsabilidades de gestão e assistência intermediárias, definidas com base na estrutura organizacional da CODEM, de livre designação e destituição, não podendo ser atribuídas aos ocupantes de emprego de confiança.
- (D) Interstício avaliatório é a graduação determinante da progressão funcional.
- (E) Progressão funcional: deslocamento funcional do empregado público concursado, entre referências, por promoção no mesmo emprego.

25. Assinale a alternativa correta, segundo a Lei n.º 6.795/70.

- (A) A CODEM poderá requisitar servidores públicos, através da competente solicitação, para realização de suas atividades.
- (B) Os servidores públicos do Município de Belém que forem requisitados pela CODEM gozarão de todas as vantagens como se estivessem no efetivo exercício de seus cargos ou funções na Prefeitura e não poderão perceber quaisquer gratificações da CODEM.
- (C) Todos os bens, rendas e serviços ou direito da CODEM gozarão de ampla e irrestrita isenção de todos os tributos de competência do Município, do Estado e da União .
- (D) Os dividendos a que tiver direito a Prefeitura Municipal de Belém pela participação da CODEM deverão obrigatoriamente ser investidos na área de saúde.
- (E) A CODEM não poderá receber subvenções, financiamento ou outras contribuições de agentes financeiros internacionais.

NOÇÕES DE INFORMÁTICA

26. O Sistema Operacional Android é

- (A) baseado em núcleo Linux e é utilizado exclusivamente em celulares.
- (B) um sistema operacional proprietário e é utilizado principalmente em dispositivos móveis.
- (C) um sistema operacional proprietário e é utilizado exclusivamente em celulares.
- (D) um sistema operacional livre e é utilizado exclusivamente em celulares.
- (E) baseado em núcleo Linux e é utilizado principalmente em dispositivos móveis.

27. Na configuração de uma conta de e-mail do Microsoft Outlook 2013, as opções de criptografia do servidor SMTP que o programa oferece são:

- (A) Nenhum, SSL, TLS, Automático.
- (B) Nenhum, SSL, TTL, Automático.
- (C) SSL, TLS, TTL, HTTPS.
- (D) SSL, SMTP, POP3, Nenhum.
- (E) SSL, SMTP, POP3, Automático.

28. Com relação aos protocolos HTTP e HTTPS, é correto afirmar que

- (A) utilizam as portas 80 e 400 por padrão.
- (B) utilizam as portas 80 e 500 por padrão.
- (C) utilizam as portas 23 e 400 por padrão.
- (D) utilizam as portas 80 e 443 por padrão.
- (E) utilizam as portas 23 e 443 por padrão.

29. Sobre o Ransomware WannaCry (ataque mundial maio/2017), é correto afirmar que é um

- (A) malware que afeta os sistemas operacionais Windows.
- (B) malware que apaga os dados dos usuários Android.
- (C) malware que apaga os dados dos usuários Windows.
- (D) jogo que afeta o desempenho dos sistemas operacionais Windows.
- (E) malware que criptografa os dados dos usuários Android.

30. No Microsoft Excel 2013, o resultado da fórmula =SE(2>3;"A";B) é

- (A) #NOME?
- (B) 2
- (C) 3
- (D) A
- (E) B

CONHECIMENTOS ESPECÍFICOS

31. Assinale a alternativa que apresenta o arquivo cujo papel é desobstruir espaços nos locais de trabalho e custodiar as informações da organização, dentre outros.

- (A) Arquivo Legal.
- (B) Arquivo Central.
- (C) Arquivo Corrente.
- (D) Arquivo Intermediário.
- (E) Arquivo Documental.

32. Um dos segredos dos arquivos é a avaliação e os prazos dos documentos. Assinale a alternativa que apresenta o procedimento de avaliação, em relação a documentos operacionais com prazo de 1 a 2 anos na organização.

- (A) Substituir e conservar.
- (B) Não substituir e conservar.
- (C) Não substituir e descartar.
- (D) Substituir e descartar.
- (E) Conservar e descartar.

33. Diversas são as discussões a respeito do conceito de ética. Assinale a alternativa que apresenta um conceito de ética em seu caráter científico.

- (A) Ética é a ciência da moral.
- (B) Ética é a ciência do direito.
- (C) Ética é a ciência da justiça.
- (D) Ética é a ciência da legalidade.
- (E) Ética é a ciência da cidadania.

- 34. Quando o homem busca o trabalho e não o emprego, tem em mente uma atividade que lhe ofereça satisfação. A ética da satisfação adota o princípio de que a vida deve ser vivida e gozada por si só. Assinale a alternativa que apresenta, respectivamente, os valores éticos de inovação e competência como exemplos de satisfação profissional.**
- (A) Reconhecimento e realização.
(B) Criatividade e solidariedade.
(C) Reconhecimento e criatividade.
(D) Solidariedade e reconhecimento.
(E) Criatividade e realização.
- 35. Assinale a alternativa que apresenta a atividade empresarial sob o aspecto financeiro classificada em decorrência da finalidade para a qual a instituição foi criada e existe.**
- (A) Atividade de operações.
(B) Atividade de caixa.
(C) Atividade de produção.
(D) Atividade de investimento.
(E) Atividade de financiamento.
- 36. A apuração dos resultados econômico e financeiro de uma organização é obtida, respectivamente, por:**
- (A) caixa e lucro.
(B) lucro e dividendos.
(C) dividendos e aplicações.
(D) aplicações e caixa.
(E) lucro e caixa.
- 37. Referente aos principais enfoques dos administradores de materiais, assinale a alternativa que apresenta aquele que é, em grande parte, baseado em técnicas que integram os elementos de tecnologia de manufatura e otimizam a utilização de pessoas, materiais e instalações ou equipamentos.**
- (A) Sistemas de controles.
(B) Administração de recursos.
(C) Sistemas de informações.
(D) Processos de fabricação.
(E) Integração de sistemas tecnológicos.
- 38. Qual é a técnica de administração de materiais que puxa a produção?**
- (A) Kanban.
(B) Seis sigmas.
(C) Just-in-time.
(D) Fornecedor preferencial.
(E) Programação de fornecedores.
- 39. No processo de recrutamento, é importante a avaliação dos seus resultados. Assinale a alternativa que apresenta uma das medidas de critério de avaliação orientado para o método de recrutamento.**
- (A) Número de candidatos qualificados apresentados.
(B) Número de cargos preenchidos dentro do tempo normal.
(C) Percentagem dos candidatos recomendados que são admitidos.
(D) Qualidade dos entrevistados avaliada pelos entrevistadores.
(E) Número de entrevistas feitas.
- 40. A seleção de pessoal comporta três modelos de tratamento. Assinale a alternativa que apresenta o modelo de tratamento a ser utilizado quando há vários candidatos e uma só vaga.**
- (A) Modelo de classificação.
(B) Modelo de colocação.
(C) Modelo de indicação.
(D) Modelo de seleção.
(E) Modelo de ordem.
- 41. Qual é o aspecto que proporciona um local de trabalho que contribui para o bem estar dos funcionários e deve ser incluído no desenho de um programa de relações com empregados?**
- (A) Comunicação.
(B) Cooperação.
(C) Disciplina.
(D) Assistência.
(E) Proteção.
- 42. Preencha as lacunas e assinale a alternativa correta.**
A escola das relações humanas inaugurou a preocupação com _____ e com assuntos relacionados com _____ e _____ das pessoas.
- (A) equipes de trabalho / remuneração / benefícios
(B) desempenho individual / necessidades / desejos
(C) grupos informais / comunicação / motivação
(D) produtividade / interrelações / interatividade
(E) autoridade / recompensas / participação

43. Assinale a alternativa que apresenta os tipos de comunicação interpessoal no ambiente de trabalho.

- (A) Falada e escrita.
- (B) Verbal e não verbal.
- (C) Expressões e gestos.
- (D) Tons vocais baixo e alto.
- (E) Codificação e decodificação.

44. Os administradores devem procurar melhorar sua comunicação, esforçando-se não somente para serem compreendidos mas também para compreender os outros. Para tanto, algumas técnicas podem melhorar a eficácia desses dois aspectos do processo de comunicação no ambiente de trabalho. Referente ao assunto, relacione as técnicas com suas características e assinale a alternativa que apresenta a sequência correta.

1. Acompanhamento.
2. Retroação.
3. Empatia.
4. Repetição.

- () A forma de comunicação depende muito do que se conhece sobre o destinatário, requerendo maior orientação para ele do que para o emissor.
- () Assegura que, se uma mensagem não for compreendida, haverá outras partes que transmitirão a mesma mensagem.
- () Trata de verificar se o significado da mensagem foi realmente captado, envolvendo a suposição de que a mensagem pode ter sido mal interpretada.
- () Abertura de um canal para a resposta do destinatário que permite ao emissor determinar se a mensagem foi recebida e se produziu a resposta desejada.

- (A) 2 – 1 – 4 – 3.
- (B) 4 – 2 – 3 – 1.
- (C) 1 – 3 – 2 – 4.
- (D) 3 – 4 – 1 – 2.
- (E) 2 – 1 – 3 – 4.

45. De acordo com a natureza do trabalho do administrador, ele desempenha alguns papéis. Assinale a alternativa que apresenta alguns dos papéis informacionais do administrador.

- (A) Alocação de recursos, empreendedor e negociação.
- (B) Representação, liderança e solução de conflitos.
- (C) Empreendedor, ligação e disseminação.
- (D) Monitoração, disseminação e porta-voz.
- (E) Ligação, negociação e liderança.

46. Considere a cadeia escalar de autoridade presente nos níveis organizacionais e assinale a alternativa que apresenta o nível organizacional que inclui as autoridades de presidente e diretor.

- (A) Nível operacional.
- (B) Nível mediador.
- (C) Nível intermediário.
- (D) Nível gerencial.
- (E) Nível institucional.

47. Em cada fase da história da teoria da administração, é enfatizado um aspecto importante da administração. Assinale a alternativa que NÃO apresenta uma dessas ênfases.

- (A) Tecnologia.
- (B) Ambiente.
- (C) Finanças.
- (D) Pessoas.
- (E) Tarefas.

48. Na redação de expedientes oficiais, é necessário respeito à polidez, à civilidade no próprio enfoque dado ao assunto do qual cuida a comunicação e uniformidade das comunicações. Assinale a alternativa que apresenta essas características da redação oficial.

- (A) Impessoalidade e padrão culto.
- (B) Formalidade e padronização.
- (C) Legalidade e eficiência.
- (D) Transparência e inteligibilidade.
- (E) Clareza e concisão.

49. Na redação oficial de expedientes, é requerido o padrão culto da língua. Assinale a alternativa que apresenta o consenso do que é o padrão culto.

- (A) É aquele que se prende às diferenças lexicais, morfológicas ou sintáticas regionais, dos modismos vocabulares e das idiosincrasias linguísticas.

- (B) É aquele em que não é permitida a simplicidade de expressão, implicando o emprego de linguagem rebuscada e figuras de linguagem próprias da língua literária.
- (C) É aquele em que se observam as regras da gramática formal e se emprega um vocabulário comum ao conjunto dos usuários do idioma.
- (D) É aquele utilizado nos atos e comunicações oficiais que busca consagrar a utilização de uma forma de linguagem burocrática.
- (E) É a linguagem técnica empregada nas situações em que seu uso deve ser indiscriminado, caracterizando o vocabulário próprio à determinada área.

50. Há características específicas para a redação de cada tipo de expediente. No entanto também há características comuns a vários expedientes. Assinale a alternativa que apresenta as modalidades de comunicação oficial que são praticamente idênticas.

- (A) Exposição de motivos e memorando.
- (B) Memorando e mensagem.
- (C) Ofício e memorando.
- (D) Aviso e ofício.
- (E) Mensagem e aviso.

.....
ATENÇÃO!

Não se ESQUEÇA de marcar, na Folha de Respostas, o número de sua prova indicado na capa deste caderno.
.....

RASCUNHO



COMPANHIA DE DESENVOLVIMENTO E ADMINISTRAÇÃO DA ÁREA
METROPOLITANA DE BELÉM

ESTADO DO PARÁ



AOCP
CONCURSOS PÚBLICOS

EMPREGO PÚBLICO - EDITAL 003/2017
NÍVEL MÉDIO - MANHÃ

AUXILIAR DE SUPORTE – ASSISTENTE ADMINISTRATIVO

Nome do Candidato _____

Inscrição _____

COMPOSIÇÃO DO CADERNO:

Língua Portuguesa	01 a 10
Matemática	11 a 15
Atualidades	16 a 20
Legislação	21 a 25
Noções de Informática	26 a 30
Conhecimentos Específicos	31 a 50



ATENÇÃO

- Confira, na sua Folha de Respostas, seu nome, documento e o número de sua inscrição, assinando-a no lugar indicado;
- Confira, no caderno de questões, se o emprego corresponde àquele para o qual você se inscreveu e se há falhas de impressão e numeração, preenchendo seu nome e número de inscrição.



TEMPO

- O prazo de realização da prova é de 4 horas, incluindo o preenchimento da Folha de Respostas;
- A liberação para deixar o local de aplicação e utilizar o sanitário ocorrerá após 60 minutos do início da prova, não podendo, no entanto, levar o caderno de questões;
- Os 3 últimos candidatos deverão retirar-se da sala juntos, pois eles assinarão o Termo de Fechamento do envelope de retorno das Folhas de Respostas.



IMPORTANTE

- Não é permitido o uso ou a emissão de ruído de qualquer equipamento eletrônico durante a realização da prova, ainda que esse equipamento esteja devidamente acondicionado no envelope de guarda de pertences;
- O NÃO cumprimento de qualquer uma das determinações constantes em Edital, no presente Caderno ou na Folha de Respostas incorrerá em eliminação.



- De acordo com o edital, os cadernos de questões poderão ser levados somente pelos candidatos que permanecerem em sala até o final do tempo de aplicação da prova de cada período;
- Os cadernos de questões serão divulgados, no site www.aocp.com.br, juntamente com os gabaritos, após o encerramento da aplicação das provas dos dois períodos.



FOLHA DE RESPOSTAS

- O único documento válido para avaliação é a Folha de Respostas, que deve ser devolvida ao fiscal ao término da prova;
- O candidato deve preencher e assinar, com caneta esferográfica transparente de cor azul ou preta, sua Folha de Respostas;
- O preenchimento deve ser realizado da seguinte maneira: ●

PROVA

02

LEMBRE-SE DE MARCAR O NÚMERO
CORRESPONDENTE A SUA PROVA NA
FOLHA DE RESPOSTAS!

ATENÇÃO!

Não se ESQUEÇA de marcar, na Folha de Respostas, o número de sua prova indicado na capa deste caderno.

LÍNGUA PORTUGUESA

Trem bala - Ana Vilela

Não é sobre ter

Todas as pessoas do mundo pra si

É sobre saber que em algum lugar

Alguém zela por ti

É sobre cantar e poder escutar

Mais do que a própria voz

É sobre dançar na chuva de vida

Que cai sobre nós

É saber se sentir infinito

Num universo tão vasto e bonito

É saber sonhar

E, então, fazer valer a pena cada verso

Daquele poema sobre acreditar

Não é sobre chegar no topo do mundo

E saber que venceu

É sobre escalar e sentir

Que o caminho te fortaleceu

É sobre ser abrigo

E também ter morada em outros corações

E assim ter amigos contigo

Em todas as situações

A gente não pode ter tudo

Qual seria a graça do mundo se fosse assim?

Por isso, eu prefiro sorrisos

E os presentes que a vida trouxe

Pra perto de mim

Não é sobre tudo que o seu dinheiro

É capaz de comprar

E sim sobre cada momento

Sorriso a se compartilhar

Também não é sobre correr

Contra o tempo pra ter sempre mais

Porque quando menos se espera

A vida já ficou pra trás

Segura teu filho no colo

Sorria e abrace teus pais

Enquanto estão aqui

Que a vida é trem-bala, parceiro

E a gente é só passageiro prestes a partir

Texto extraído e adaptado de: <https://www.vagalume.com.br/ana-vilela/trem-bala.html>.17/05/2017.

1. Leia os excertos a seguir:

“É sobre dançar na chuva de vida / Que cai sobre nós”

“Segura teu filho no colo / Sorria e abrace teus pais / enquanto estão aqui”

“Que a vida é trem-bala, parceiro / E a gente é só passageiro prestes a partir”

Tendo em vista tais excertos, é correto afirmar que a autora

- (A) realiza uma reflexão direcionada a um ouvinte, não se incluindo na narração.
- (B) realiza uma reflexão sobre a vida, mencionando apenas seu interlocutor.
- (C) realiza uma reflexão na qual inclui a si mesma e a seu ouvinte na narração, ao mesmo tempo em que se dirige a um interlocutor, orientando-o.
- (D) realiza uma reflexão introspectiva, ou seja, não se direciona a ninguém fora da narração.
- (E) apresenta uma narração, a fim de colocar seus pensamentos em ordem para se orientar em relação às “coisas da vida”.

2. “É sobre escalar e sentir / Que o caminho te fortaleceu”

“É sobre dançar na chuva de vida / Que cai sobre nós”

“Sorria e abrace teus pais / Enquanto estão aqui / Que a vida é trem-bala, parceiro”

Considerando as diferentes funções dos elementos “que” nos excertos apresentados, é correto afirmar que eles são, respectivamente:

- (A) conjunção integrante; conjunção integrante; conjunção subordinativa de causa.
- (B) pronome relativo; conjunção integrante; conjunção coordenativa explicativa.
- (C) conjunção subordinativa de causa; pronome relativo; conjunção integrante.
- (D) pronome relativo, pronome relativo, conjunção subordinativa de causa.
- (E) conjunção integrante; pronome relativo; conjunção coordenativa explicativa.

3. **Acerca dos dígrafos e dos encontros vocálicos e consonantais na Língua Portuguesa, assinale a alternativa que apresenta palavras com: dígrafo nasal e encontro vocálico; encontro vocálico e encontro consonantal; encontro consonantal e encontro vocálico, respectivamente:**

- (A) Dançar; sobre; verso.
- (B) Chuva; escalar; poema.
- (C) Caminho; situações; fortaleceu.
- (D) Mundo; fosse; compartilhar.
- (E) Dinheiro; outros; venceu.

4. **Acerca da representação fonética, é correto afirmar que, nas palavras: “pessoas”, “alguém” e “gente”, tem-se, respectivamente, a seguinte representação:**

- (A) sete letras e seis fonemas, seis letras e seis fonemas, cinco letras e cinco fonemas.
- (B) sete letras e sete fonemas, seis letras e cinco fonemas, cinco letras e cinco fonemas.
- (C) sete letras e seis fonemas, seis letras e cinco fonemas, cinco letras e cinco fonemas.
- (D) sete letras e sete fonemas, seis letras e cinco fonemas, cinco letras e quatro fonemas.
- (E) sete letras e seis fonemas, seis letras e cinco fonemas, cinco letras e quatro fonemas.

5. **Observe o seguinte excerto:**

**“Não é sobre chegar no topo do mundo
E saber que venceu
É sobre escalar e sentir
Que o caminho te fortaleceu
É sobre ser abrigo
E também ter morada em outros corações
E assim ter amigos contigo
Em todas as situações”**

Com base na composição desse excerto, é possível afirmar que a autora apresenta uma discussão em que ela nega uma ação e, em seguida, apresenta a ação que considera como válida, encerrando o parágrafo por meio da apresentação de uma conclusão para essas ações. Pistas disso são, sequencialmente:

- (A) a negação “não é sobre” seguida da afirmação “é sobre” e da conclusão “ter morada”.
- (B) a negação “não é sobre” precedida da afirmação “é sobre” e a conclusão “ter amigos em todas as situações”.

- (C) a afirmação “é sobre” precedida pela negação “não é sobre” e a conclusão “ter amigos em todas as situações”.
- (D) a afirmação “é sobre” seguida pela negação “não é sobre” e a conclusão “ter moradas”.
- (E) a afirmação “é sobre” seguida pela negação “não é sobre” e a conclusão “ter muitos amigos”.

6. **Observe o seguinte excerto:**

“É sobre ser abrigo / E também ter morada em outros corações / E assim ter amigos contigo / Em todas as situações”.
É correto afirmar que os elementos sublinhados apresentam as seguintes funções:

- (A) iniciam orações independentes sintática e semânticamente.
- (B) ligam orações, estabelecendo, respectivamente, o valor de consequência e adição.
- (C) iniciam orações interdependentes. Por esse motivo, é possível suprimir o “e” sem alterar o sentido dessas construções.
- (D) ligam orações, estabelecendo, respectivamente, o valor de adição e resultado.
- (E) iniciam orações sintaticamente dependentes. Por esse motivo, é possível suprimir o “e” sem alterar o sentido dessas construções.

7. **“Qual seria a graça do mundo se fosse assim”**

“É saber se sentir infinito”

Considerando as funções do “se” e os excertos apresentados, tem-se, respectivamente, as seguintes funções para esse termo:

- (A) conjunção integrante; pronome reflexivo.
- (B) conjunção subordinativa, pronome reflexivo.
- (C) conjunção subordinativa; partícula expletiva.
- (D) conjunção integrante; partícula expletiva.
- (E) partícula expletiva; pronome reflexivo.

8. **No excerto: “a vida é trem-bala, parceiro / E a gente é só passageiro prestes a partir”, a autora utiliza uma figura de linguagem denominada**

- (A) sinonímia.
- (B) metáfora.
- (C) personificação.
- (D) metonímia.
- (E) sinestesia.

9. No excerto: “É sobre ser abrigo e também ter morada em outros corações / e assim ter amigos [...]”, pensando na significação das palavras e expressões, é correto afirmar que os termos sublinhados são:

- (A) uma metáfora sobre a força da amizade e são termos sinônimos.
- (B) uma metáfora sobre moradia e não podem ser classificados como sinônimos.
- (C) uma metáfora sobre o auxílio e o carinho que os amigos oferecem uns aos outros e podem ser compreendidos como termos sinônimos.
- (D) uma metáfora sobre o auxílio e o carinho que os amigos oferecem uns aos outros e não podem ser compreendidos como termos sinônimos.
- (E) uma metáfora sobre proteção e não podem ser compreendidos como termos sinônimos.

10. Em seu texto, intitulado *Trem bala*, a cantora Ana Vilela aborda qual das seguintes temáticas?

- (A) A brevidade da vida e a importância de valorizarmos o tempo, os acontecimentos e as pessoas.
- (B) A efemeridade da vida e a necessidade de a vivermos intensamente.
- (C) A importância de lutarmos para sermos felizes durante nossa vida.
- (D) A passagem do tempo e a importância da família.
- (E) A necessidade de sabermos viver, para obtermos nossas conquistas e sonhos.

MATEMÁTICA

11. Helena, Paula e Rafaela receberam, juntas, uma quantia de R\$ 90,00 como mesada, gastando tudo que receberam

logo em seguida. Helena gastou $\frac{1}{6}$ do total e Paula gastou $\frac{2}{3}$ do total.

Quantos reais cada uma gastou?

- (A) Helena R\$ 10,00, Paula R\$ 50,00 e Rafaela R\$ 30,00.
- (B) Helena R\$ 15,00, Paula R\$ 60,00 e Rafaela R\$ 15,00.
- (C) Helena R\$ 20,00, Paula R\$ 40,00 e Rafaela R\$ 30,00.
- (D) Helena R\$ 25,00, Paula R\$ 40,00 e Rafaela R\$ 25,00.

(E) Helena R\$ 35,00, Paula R\$ 20,00 e Rafaela R\$ 35,00.

12. Uma empresa tem três sócios que tiveram a seguinte participação em um negócio: o primeiro investiu R\$ 10.000,00, o segundo R\$ 7.000,00 e o terceiro R\$ 3.000,00. No final de seis meses, foi apurado um lucro de R\$ 4.400,00. O lucro foi repartido de forma proporcional ao que foi investido por cada sócio. Assim, de qual forma foi repartido esse lucro entre os três sócios?

- (A) O primeiro sócio recebeu R\$ 1.900,00, o segundo R\$ 1.440,00 e o terceiro R\$ 1.160,00.
- (B) O primeiro sócio recebeu R\$ 1.900,00, o segundo R\$ 1.480,00 e o terceiro R\$ 1.020,00.
- (C) O primeiro sócio recebeu R\$ 2.100,00, o segundo R\$ 1.640,00 e o terceiro R\$ 660,00.
- (D) O primeiro sócio recebeu R\$ 2.200,00, o segundo R\$ 1.530,00 e o terceiro R\$ 670,00.
- (E) O primeiro sócio recebeu R\$ 2.200,00, o segundo R\$ 1.540,00 e o terceiro R\$ 660,00.

13. Em uma pesquisa feita no centro de uma cidade, verificou-se que, das pessoas consultadas, 150 liam o jornal “O Diário”, 90 liam o jornal “Gazeta do Povo”, 30 liam os dois jornais “O Diário” e “Gazeta do Povo” e 70 não liam nenhum dos dois jornais. Quantas pessoas foram consultadas?

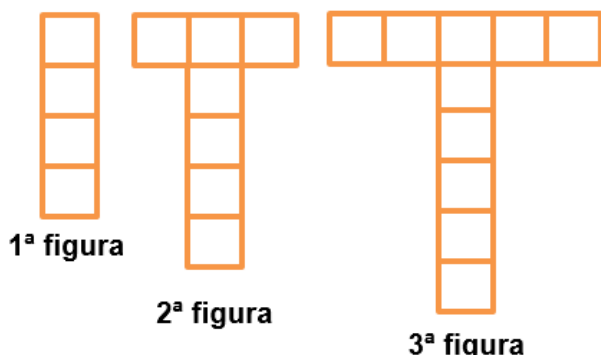
- (A) 240.
- (B) 270.
- (C) 280.
- (D) 290.
- (E) 320.

14. Ana quer comprar um apartamento no centro de uma cidade, o qual custa R\$ 790.000,00, e fez um contrato com o dono do apartamento. Nesse contrato, há a seguinte cláusula de multa: se houver desistência, tanto da compra quanto da venda, terá que ser paga uma multa de 6% sobre o valor do apartamento. Se ambos desistirem do negócio, nenhuma das partes pagará multa. Caso Ana desista de comprar o apartamento, qual será o valor da multa que ela irá pagar?

- (A) A multa será de R\$ 47.400,00.
- (B) A multa será de R\$ 47.900,00.
- (C) A multa será de R\$ 48.300,00.

- (D) A multa será de R\$ 49.700,00.
(E) A multa será de R\$ 51.500,00.

15. A sequência de figuras a seguir foi obtida comparando-se a quantidade de blocos de concreto utilizada na fabricação de postes, de tal forma que, a partir de uma torre (1ª figura), determina-se o poste seguinte, com acréscimo de mais blocos de concreto (2ª figura), repetindo-se esse processo para cada figura seguinte, conforme mostram as figuras. Na primeira figura, são 4 blocos de concreto, na segunda, são 7 blocos de concreto, na terceira figura, são 10 blocos de concreto e assim por diante. Dessa forma, quantos blocos de concreto serão necessários para fazer a 7ª figura?



- (A) 19 blocos.
(B) 20 blocos.
(C) 21 blocos.
(D) 22 blocos.
(E) 25 blocos.

ATUALIDADES

16. Das dez maiores usinas hidrelétricas do Brasil, quatro localizam-se no estado do Pará. Considerando o exposto, sobre recursos energéticos e sustentabilidade, assinale a alternativa correta.

- (A) O projeto da Usina Hidrelétrica de Tucuruí foi criado junto ao Programa Grande Carajás, para abastecer com energia subsidiada as indústrias de alumínio Alumar/Alcoa, no Maranhão, e Albrás/Alunorte/Vale, no Pará.
(B) A construção da Usina de Tucuruí insere-se no contexto das grandes obras do regime militar e suas dimensões comprovam a grandiosidade, sendo considerada a maior usina hidrelétrica do país construída no rio Araguaia.

- (C) Em 2016, segundo relatório da FUNAI (Fundação Nacional de Amparo ao Índio), do RIMA (Relatório de Impacto Ambiental) e do Greenpeace, as obras para construção da Usina de São Luiz do Tapajós são consideradas um exemplo de sustentabilidade nacional.
(D) O rio Tapajós possui um grande potencial para geração energética, o que proporcionou o desenvolvimento de projetos de grandes usinas, como a hidrelétrica de Jatobá. Sua viabilidade já foi aprovada pelos governos estadual e federal, devendo, assim, sair do papel em 2018.
(E) Obras visando à produção energética no Pará, bem como na região norte do Brasil, são favorecidas pelo elevado potencial dos rios da bacia amazônica, que se apresentam com o maior potencial hidrelétrico instalado do Brasil.

17. Em 2016, representantes dos 13 mil indígenas da etnia Munduruku, no Pará, divulgaram uma carta do povo indígena ao Governo Federal. Sobre esse documento e a questão indígena no Estado do Pará, assinale a alternativa correta.

- (A) A reivindicação indígena está relacionada ao fato de a região apresentar jazidas auríferas e sítios arqueológicos, o que gera grande tensão entre o governo e os Mundurukus.
(B) As comunidades indígenas, ao serem deslocadas pelos constantes projetos de hidrelétricas, rodovias e projetos de mineração, vem sendo recompensadas com terras proporcionais às que perderam, bem como indenizações e apoio por parte das autoridades.
(C) As manifestações indígenas contrárias aos grandes projetos hidrelétricos são descabidas, visto que as autoridades políticas e a FUNAI vêm trabalhando em conjunto, procurando evitar que a identidade cultural das tribos se perca.
(D) A partir de 1850, a Lei de Terras demarcou as áreas indígenas, o que permitiu aos índios o direito de manifestar sua cultura.
(E) O documento apresentado pelos indígenas solicitava a demarcação de terras, investimentos em saúde e educação nas aldeias e, principalmente, o fim dos projetos de construção de hidrelétricas no Estado.

18. Há vinte e um anos, iniciavam-se as tensões e discussões sobre a construção do projeto da usina de Belo Monte. A respeito da polêmica construção dessa usina, assinale a alternativa INCORRETA.

- (A) Idealizado ainda no governo militar, em 1975, para o projeto do complexo Kararaô (primeiro nome de Belo Monte), na ocasião, previa-se uma obra com seis barragens entre os rios Xingu e Iriri.
- (B) Idealizada no regime militar, a usina foi inaugurada em 2016, envolta a uma série de polêmicas, sendo desvios de recursos uma delas.
- (C) A usina foi construída fazendo parte das obras do PAC (Programa de Aceleração do Crescimento) do governo federal, junto ao rio Xingu.
- (D) Com a construção da usina de Belo Monte, comunidades tradicionais terão suas vidas alteradas em vários aspectos, tanto naturais (navegação impedida, formação de pequenos lagos) quanto sociais (realocação populacional, indenizações, etc.)
- (E) A usina de Belo Monte, quando estiver totalmente concluída, será a maior usina hidrelétrica em geração de energia do mundo.

19. “Amazônia pode entrar em ciclo vicioso de desmatamento e seca. Pesquisa publicada na revista ‘Nature’ indica que a ação humana e a redução das chuvas podem transformar a floresta em savana”.

Sobre os impactos na floresta amazônica, assinale a alternativa correta.

- (A) Os impactos na floresta amazônica diminuíram nos últimos anos, em decorrência de uma maior fiscalização por parte das autoridades e campanhas de conscientização relacionadas ao desenvolvimento sustentável, sendo que os Estados do Pará, Mato Grosso do Sul e Roraima foram os que mais desmataram.
- (B) Há uma combinação de fatores por trás da expansão do desmatamento na Amazônia: a exploração ilegal de madeira, o corte de árvores para formação de pasto e a falta de investimentos para fiscalizar e combater com eficiência.
- (C) As transformações que a floresta amazônica vem passando nos últimos anos pela ação antrópica poderão transformá-la em uma savana tanto em fauna quanto em flora.
- (D) A derrubada da floresta amazônica poderá alterar o ciclo hidrológico da região norte e

comprometer os chamados rios voadores que funcionam como uma bomba d’água apenas na região norte do Brasil, o que poderá favorecer a formação de caatinga.

- (E) Devido ao projeto SIVAM (Sistema de Vigilância da Amazônia), toda e qualquer forma de exploração vem sendo vigorosamente combatida, impedindo com êxito atividades ilícitas, como a biopirataria.

20. Em 2017, completam-se 72 anos da ruína de um pedaço de império no meio da floresta amazônica. Era uma área extensa, de aproximadamente 15 mil quilômetros quadrados no sudoeste do Pará, onde se construiu a Fordlândia. Sobre o assunto, assinale a alternativa correta.

- (A) O projeto empreendido pelo empresário norte americano Henry Ford previa a construção de uma cidade para aproveitar o potencial do ciclo do látex e a instalação de uma montadora da Ford, em expansão mundial no período.
- (B) O projeto da Fordlândia foi desenvolvido em terras doadas pelo estado, em uma tentativa de incentivar a ocupação e o desenvolvimento da região.
- (C) Atualmente, a Fordlândia está sob a administração política da cidade de Aveiro que, apesar de sofrer com a falta de recursos, mostra-se interessada em reconstruir a cidade para atrair mais visitantes.
- (D) O governo federal incluiu nas obras do PAC (Programa de Aceleração do Crescimento) a restauração da cidade, pois a considera um patrimônio histórico nacional, sendo, com isso, necessária sua restauração.
- (E) O governo dos Estados Unidos vem, nos últimos anos, reivindicando o direito de posse sobre essa área em uma tentativa de obter uma pequena parte da Amazônia brasileira.

LEGISLAÇÃO

21. Assinale a alternativa correta a respeito do poder regulamentar.

- (A) É competência exclusiva do chefe do Poder Executivo.
- (B) É competência concorrente do Poder Executivo e do Poder Judiciário.
- (C) Admite, apenas, a edição de decretos regulamentares.
- (D) Admite, também, decreto autônomo para preencher lacunas na lei.

- (E) Pode ser delegado em caráter geral e definitivo.

22. Sobre os atributos do ato administrativo, assinale a alternativa correta.

- (A) Presunção de legitimidade é a possibilidade de a própria administração executar seus atos, sem se valer do Poder Judiciário.
- (B) Imperatividade se relaciona ao caráter negocial do ato.
- (C) Autoexecutoriedade significa que cabe ao administrado impugnar o ato.
- (D) Exigibilidade é a possibilidade de a administração fixar a sanção pelo descumprimento do ato.
- (E) Discricionariedade é o caráter vinculativo do ato.

23. Considerando a Resolução n.º 20/2014 da CODEM, assinale a alternativa INCORRETA.

- (A) Pessoal efetivo são empregados públicos cuja investidura no respectivo emprego se deu mediante concurso público de provas ou de provas e títulos.
- (B) Emprego de confiança é a unidade de ocupação funcional, criado por norma, para o exercício de atividades e de responsabilidades de direção, chefia ou assessoramento superiores, definidas com base na estrutura organizacional da CODEM, de livre admissão e dispensa.
- (C) Função gratificada: conjunto de atividades e responsabilidades de gestão e assistência intermediárias, definidas com base na estrutura organizacional da CODEM, de livre designação e destituição, não podendo ser atribuídas aos ocupantes de emprego de confiança.
- (D) Interstício avaliatório é a graduação determinante da progressão funcional.
- (E) Progressão funcional: deslocamento funcional do empregado público concursado, entre referências, por promoção no mesmo emprego.

24. Assinale a alternativa correta, segundo a Lei n.º 6.795/70.

- (A) A CODEM poderá requisitar servidores públicos, através da competente solicitação, para realização de suas atividades.
- (B) Os servidores públicos do Município de Belém que forem requisitados pela CODEM gozarão de todas as vantagens como se estivessem no efetivo exercício de seus cargos ou funções na Prefeitura e não

poderão perceber quaisquer gratificações da CODEM.

- (C) Todos os bens, rendas e serviços ou direito da CODEM gozarão de ampla e irrestrita isenção de todos os tributos de competência do Município, do Estado e da União.
- (D) Os dividendos a que tiver direito a Prefeitura Municipal de Belém pela participação da CODEM deverão obrigatoriamente ser investidos na área de saúde.
- (E) A CODEM não poderá receber subvenções, financiamento ou outras contribuições de agentes financeiros internacionais.

25. Assinale a alternativa INCORRETA a respeito da administração pública.

- (A) A administração pública direta e indireta de qualquer dos Poderes da União, dos Estados, do Distrito Federal e dos Municípios obedecerá aos princípios de legalidade, impessoalidade, moralidade, publicidade e eficiência.
- (B) Os cargos, empregos e funções públicas são acessíveis aos brasileiros que preencham os requisitos estabelecidos em lei, sendo vedados aos estrangeiros.
- (C) O prazo de validade do concurso público será de até dois anos, prorrogável uma vez, por igual período.
- (D) As funções de confiança, exercidas exclusivamente por servidores ocupantes de cargo efetivo, e os cargos em comissão, a serem preenchidos por servidores de carreira nos casos, condições e percentuais mínimos previstos em lei, destinam-se apenas às atribuições de direção, chefia e assessoramento.
- (E) É garantido, ao servidor público civil, o direito à livre associação sindical.

NOÇÕES DE INFORMÁTICA

26. Na configuração de uma conta de e-mail do Microsoft Outlook 2013, as opções de criptografia do servidor SMTP que o programa oferece são:

- (A) Nenhum, SSL, TLS, Automático.
- (B) Nenhum, SSL, TTL, Automático.
- (C) SSL, TLS, TTL, HTTPS.
- (D) SSL, SMTP, POP3, Nenhum.
- (E) SSL, SMTP, POP3, Automático.

27. Com relação aos protocolos HTTP e HTTPS, é correto afirmar que

- (A) utilizam as portas 80 e 400 por padrão.
- (B) utilizam as portas 80 e 500 por padrão.
- (C) utilizam as portas 23 e 400 por padrão.
- (D) utilizam as portas 80 e 443 por padrão.
- (E) utilizam as portas 23 e 443 por padrão.

28. Sobre o Ransomware WannaCry (ataque mundial maio/2017), é correto afirmar que é um

- (A) malware que afeta os sistemas operacionais Windows.
- (B) malware que apaga os dados dos usuários Android.
- (C) malware que apaga os dados dos usuários Windows.
- (D) jogo que afeta o desempenho dos sistemas operacionais Windows.
- (E) malware que criptografa os dados dos usuários Android.

29. No Microsoft Excel 2013, o resultado da fórmula =SE(2>3;"A";B) é

- (A) #NOME?
- (B) 2
- (C) 3
- (D) A
- (E) B

30. O Sistema Operacional Android é

- (A) baseado em núcleo Linux e é utilizado exclusivamente em celulares.
- (B) um sistema operacional proprietário e é utilizado principalmente em dispositivos móveis.
- (C) um sistema operacional proprietário e é utilizado exclusivamente em celulares.
- (D) um sistema operacional livre e é utilizado exclusivamente em celulares.
- (E) baseado em núcleo Linux e é utilizado principalmente em dispositivos móveis.

CONHECIMENTOS ESPECÍFICOS

31. Um dos segredos dos arquivos é a avaliação e os prazos dos documentos. Assinale a alternativa que apresenta o procedimento de avaliação, em relação a documentos operacionais com prazo de 1 a 2 anos na organização.

- (A) Substituir e conservar.
- (B) Não substituir e conservar.
- (C) Não substituir e descartar.
- (D) Substituir e descartar.
- (E) Conservar e descartar.

32. Diversas são as discussões a respeito do conceito de ética. Assinale a alternativa que apresenta um conceito de ética em seu caráter científico.

- (A) Ética é a ciência da moral.
- (B) Ética é a ciência do direito.
- (C) Ética é a ciência da justiça.
- (D) Ética é a ciência da legalidade.
- (E) Ética é a ciência da cidadania.

33. Quando o homem busca o trabalho e não o emprego, tem em mente uma atividade que lhe ofereça satisfação. A ética da satisfação adota o princípio de que a vida deve ser vivida e gozada por si só. Assinale a alternativa que apresenta, respectivamente, os valores éticos de inovação e competência como exemplos de satisfação profissional.

- (A) Reconhecimento e realização.
- (B) Criatividade e solidariedade.
- (C) Reconhecimento e criatividade.
- (D) Solidariedade e reconhecimento.
- (E) Criatividade e realização.

34. Assinale a alternativa que apresenta a atividade empresarial sob o aspecto financeiro classificada em decorrência da finalidade para a qual a instituição foi criada e existe.

- (A) Atividade de operações.
- (B) Atividade de caixa.
- (C) Atividade de produção.
- (D) Atividade de investimento.
- (E) Atividade de financiamento.

35. A apuração dos resultados econômico e financeiro de uma organização é obtida, respectivamente, por:

- (A) caixa e lucro.
- (B) lucro e dividendos.
- (C) dividendos e aplicações.
- (D) aplicações e caixa.
- (E) lucro e caixa.

36. Referente aos principais enfoques dos administradores de materiais, assinale a alternativa que apresenta aquele que é, em grande parte, baseado em técnicas que integram os elementos de tecnologia de manufatura e otimizam a utilização de pessoas, materiais e instalações ou equipamentos.

- (A) Sistemas de controles.
- (B) Administração de recursos.
- (C) Sistemas de informações.

- (D) Processos de fabricação.
(E) Integração de sistemas tecnológicos.
- 37. Qual é a técnica de administração de materiais que puxa a produção?**
- (A) Kanban.
(B) Seis sigmas.
(C) Just-in-time.
(D) Fornecedor preferencial.
(E) Programação de fornecedores.
- 38. No processo de recrutamento, é importante a avaliação dos seus resultados. Assinale a alternativa que apresenta uma das medidas de critério de avaliação orientado para o método de recrutamento.**
- (A) Número de candidatos qualificados apresentados.
(B) Número de cargos preenchidos dentro do tempo normal.
(C) Percentagem dos candidatos recomendados que são admitidos.
(D) Qualidade dos entrevistados avaliada pelos entrevistadores.
(E) Número de entrevistas feitas.
- 39. A seleção de pessoal comporta três modelos de tratamento. Assinale a alternativa que apresenta o modelo de tratamento a ser utilizado quando há vários candidatos e uma só vaga.**
- (A) Modelo de classificação.
(B) Modelo de colocação.
(C) Modelo de indicação.
(D) Modelo de seleção.
(E) Modelo de ordem.
- 40. Qual é o aspecto que proporciona um local de trabalho que contribui para o bem estar dos funcionários e deve ser incluído no desenho de um programa de relações com empregados?**
- (A) Comunicação.
(B) Cooperação.
(C) Disciplina.
(D) Assistência.
(E) Proteção.

- 41. Preencha as lacunas e assinale a alternativa correta.**
A escola das relações humanas inaugurou a preocupação com _____ e com assuntos relacionados com _____ e _____ das pessoas.
- (A) equipes de trabalho / remuneração / benefícios
(B) desempenho individual / necessidades / desejos
(C) grupos informais / comunicação / motivação
(D) produtividade / interrelações / interatividade
(E) autoridade / recompensas / participação
- 42. Assinale a alternativa que apresenta os tipos de comunicação interpessoal no ambiente de trabalho.**
- (A) Falada e escrita.
(B) Verbal e não verbal.
(C) Expressões e gestos.
(D) Tons vocais baixo e alto.
(E) Codificação e decodificação.

43. Os administradores devem procurar melhorar sua comunicação, esforçando-se não somente para serem compreendidos mas também para compreender os outros. Para tanto, algumas técnicas podem melhorar a eficácia desses dois aspectos do processo de comunicação no ambiente de trabalho. Referente ao assunto, relacione as técnicas com suas características e assinale a alternativa que apresenta a sequência correta.

1. Acompanhamento.
2. Retroação.
3. Empatia.
4. Repetição.

- () A forma de comunicação depende muito do que se conhece sobre o destinatário, requerendo maior orientação para ele do que para o emissor.
- () Assegura que, se uma mensagem não for compreendida, haverá outras partes que transmitirão a mesma mensagem.
- () Trata de verificar se o significado da mensagem foi realmente captado, envolvendo a suposição de que a mensagem pode ter sido mal interpretada.
- () Abertura de um canal para a resposta do destinatário que permite ao emissor determinar se a mensagem foi recebida e se produziu a resposta desejada.

- (A) 2 – 1 – 4 – 3.
(B) 4 – 2 – 3 – 1.
(C) 1 – 3 – 2 – 4.
(D) 3 – 4 – 1 – 2.
(E) 2 – 1 – 3 – 4.

44. De acordo com a natureza do trabalho do administrador, ele desempenha alguns papéis. Assinale a alternativa que apresenta alguns dos papéis informacionais do administrador.

- (A) Alocação de recursos, empreendedor e negociação.
- (B) Representação, liderança e solução de conflitos.
- (C) Empreendedor, ligação e disseminação.
- (D) Monitoração, disseminação e porta-voz.
- (E) Ligação, negociação e liderança.

45. Considere a cadeia escalar de autoridade presente nos níveis organizacionais e assinale a alternativa que apresenta o nível organizacional que inclui as autoridades de presidente e diretor.

- (A) Nível operacional.
(B) Nível mediador.
(C) Nível intermediário.
(D) Nível gerencial.
(E) Nível institucional.

46. Em cada fase da história da teoria da administração, é enfatizado um aspecto importante da administração. Assinale a alternativa que NÃO apresenta uma dessas ênfases.

- (A) Tecnologia.
(B) Ambiente.
(C) Finanças.
(D) Pessoas.
(E) Tarefas.

47. Na redação de expedientes oficiais, é necessário respeito à polidez, à civilidade no próprio enfoque dado ao assunto do qual cuida a comunicação e uniformidade das comunicações. Assinale a alternativa que apresenta essas características da redação oficial.

- (A) Impessoalidade e padrão culto.
(B) Formalidade e padronização.
(C) Legalidade e eficiência.
(D) Transparência e inteligibilidade.
(E) Clareza e concisão.

48. Na redação oficial de expedientes, é requerido o padrão culto da língua. Assinale a alternativa que apresenta o consenso do que é o padrão culto.

- (A) É aquele que se prende às diferenças lexicais, morfológicas ou sintáticas regionais, dos modismos vocabulares e das idiosincrasias linguísticas.
- (B) É aquele em que não é permitida a simplicidade de expressão, implicando o emprego de linguagem rebuscada e figuras de linguagem próprias da língua literária.
- (C) É aquele em que se observam as regras da gramática formal e se emprega um vocabulário comum ao conjunto dos usuários do idioma.
- (D) É aquele utilizado nos atos e comunicações oficiais que busca consagrar a utilização de uma forma de linguagem burocrática.
- (E) É a linguagem técnica empregada nas situações em que seu uso deve ser

indiscriminado, caracterizando o vocabulário próprio à determinada área.

49. Há características específicas para a redação de cada tipo de expediente. No entanto também há características comuns a vários expedientes. Assinale a alternativa que apresenta as modalidades de comunicação oficial que são praticamente idênticas.

- (A) Exposição de motivos e memorando.
- (B) Memorando e mensagem.
- (C) Ofício e memorando.
- (D) Aviso e ofício.
- (E) Mensagem e aviso.

50. Assinale a alternativa que apresenta o arquivo cujo papel é desobstruir espaços nos locais de trabalho e custodiar as informações da organização, dentre outros.

- (A) Arquivo Legal.
- (B) Arquivo Central.
- (C) Arquivo Corrente.
- (D) Arquivo Intermediário.
- (E) Arquivo Documental.

.....
ATENÇÃO!

Não se ESQUEÇA de marcar, na Folha de Respostas, o número de sua prova indicado na capa deste caderno.
.....

RASCUNHO



COMPANHIA DE DESENVOLVIMENTO E ADMINISTRAÇÃO DA ÁREA
METROPOLITANA DE BELÉM

ESTADO DO PARÁ



AOCP
CONCURSOS PÚBLICOS

EMPREGO PÚBLICO - EDITAL 003/2017
NÍVEL MÉDIO - MANHÃ

AUXILIAR DE SUPORTE – ASSISTENTE ADMINISTRATIVO

Nome do Candidato _____

Inscrição _____

COMPOSIÇÃO DO CADERNO:

Língua Portuguesa	01 a 10
Matemática	11 a 15
Atualidades	16 a 20
Legislação	21 a 25
Noções de Informática	26 a 30
Conhecimentos Específicos	31 a 50



ATENÇÃO

- Confira, na sua Folha de Respostas, seu nome, documento e o número de sua inscrição, assinando-a no lugar indicado;
- Confira, no caderno de questões, se o emprego corresponde àquele para o qual você se inscreveu e se há falhas de impressão e numeração, preenchendo seu nome e número de inscrição.



TEMPO

- O prazo de realização da prova é de 4 horas, incluindo o preenchimento da Folha de Respostas;
- A liberação para deixar o local de aplicação e utilizar o sanitário ocorrerá após 60 minutos do início da prova, não podendo, no entanto, levar o caderno de questões;
- Os 3 últimos candidatos deverão retirar-se da sala juntos, pois eles assinarão o Termo de Fechamento do envelope de retorno das Folhas de Respostas.



IMPORTANTE

- Não é permitido o uso ou a emissão de ruído de qualquer equipamento eletrônico durante a realização da prova, ainda que esse equipamento esteja devidamente acondicionado no envelope de guarda de pertences;
- O NÃO cumprimento de qualquer uma das determinações constantes em Edital, no presente Caderno ou na Folha de Respostas incorrerá em eliminação.



- De acordo com o edital, os cadernos de questões poderão ser levados somente pelos candidatos que permanecerem em sala até o final do tempo de aplicação da prova de cada período;
- Os cadernos de questões serão divulgados, no site www.aocp.com.br, juntamente com os gabaritos, após o encerramento da aplicação das provas dos dois períodos.



FOLHA DE RESPOSTAS

- O único documento válido para avaliação é a Folha de Respostas, que deve ser devolvida ao fiscal ao término da prova;
- O candidato deve preencher e assinar, com caneta esferográfica transparente de cor azul ou preta, sua Folha de Respostas;
- O preenchimento deve ser realizado da seguinte maneira: ●

PROVA 03

LEMBRE-SE DE MARCAR O NÚMERO
CORRESPONDENTE A SUA PROVA NA
FOLHA DE RESPOSTAS!

ATENÇÃO!

Não se ESQUEÇA de marcar, na Folha de Respostas, o número de sua prova indicado na capa deste caderno.

LÍNGUA PORTUGUESA

Trem bala - Ana Vilela

Não é sobre ter

Todas as pessoas do mundo pra si

É sobre saber que em algum lugar

Alguém zela por ti

É sobre cantar e poder escutar

Mais do que a própria voz

É sobre dançar na chuva de vida

Que cai sobre nós

É saber se sentir infinito

Num universo tão vasto e bonito

É saber sonhar

E, então, fazer valer a pena cada verso

Daquele poema sobre acreditar

Não é sobre chegar no topo do mundo

E saber que venceu

É sobre escalar e sentir

Que o caminho te fortaleceu

É sobre ser abrigo

E também ter morada em outros corações

E assim ter amigos contigo

Em todas as situações

A gente não pode ter tudo

Qual seria a graça do mundo se fosse assim?

Por isso, eu prefiro sorrisos

E os presentes que a vida trouxe

Pra perto de mim

Não é sobre tudo que o seu dinheiro

É capaz de comprar

E sim sobre cada momento

Sorriso a se compartilhar

Também não é sobre correr

Contra o tempo pra ter sempre mais

Porque quando menos se espera

A vida já ficou pra trás

Segura teu filho no colo

Sorria e abrace teus pais

Enquanto estão aqui

Que a vida é trem-bala, parceiro

E a gente é só passageiro prestes a partir

Texto extraído e adaptado de: <https://www.vagalume.com.br/ana-vilela/trem-bala.html>.17/05/2017.

1. “É sobre escalar e sentir / Que o caminho te fortaleceu”

“É sobre dançar na chuva de vida / Que cai sobre nós”

“Sorria e abrace teus pais / Enquanto estão aqui / Que a vida é trem-bala, parceiro”

Considerando as diferentes funções dos elementos “que” nos excertos apresentados, é correto afirmar que eles são, respectivamente:

- (A) conjunção integrante; conjunção integrante; conjunção subordinativa de causa.
- (B) pronome relativo; conjunção integrante; conjunção coordenativa explicativa.
- (C) conjunção subordinativa de causa; pronome relativo; conjunção integrante.
- (D) pronome relativo, pronome relativo, conjunção subordinativa de causa.
- (E) conjunção integrante; pronome relativo; conjunção coordenativa explicativa.

2. Acerca dos dígrafos e dos encontros vocálicos e consonantais na Língua Portuguesa, assinale a alternativa que apresenta palavras com: dígrafo nasal e encontro vocálico; encontro vocálico e encontro consonantal; encontro consonantal e encontro vocálico, respectivamente:

- (A) Dançar; sobre; verso.
- (B) Chuva; escalar; poema.
- (C) Caminho; situações; fortaleceu.
- (D) Mundo; fosse; compartilhar.
- (E) Dinheiro; outros; venceu.

3. Acerca da representação fonética, é correto afirmar que, nas palavras: “pessoas”, “alguém” e “gente”, tem-se, respectivamente, a seguinte representação:

- (A) sete letras e seis fonemas, seis letras e seis fonemas, cinco letras e cinco fonemas.
- (B) sete letras e sete fonemas, seis letras e cinco fonemas, cinco letras e cinco fonemas.
- (C) sete letras e seis fonemas, seis letras e cinco fonemas, cinco letras e cinco fonemas.
- (D) sete letras e sete fonemas, seis letras e cinco fonemas, cinco letras e quatro fonemas.

- (E) sete letras e seis fonemas, seis letras e cinco fonemas, cinco letras e quatro fonemas.

4. Observe o seguinte excerto:

**“Não é sobre chegar no topo do mundo
E saber que venceu
É sobre escalar e sentir
Que o caminho te fortaleceu
É sobre ser abrigo
E também ter morada em outros corações
E assim ter amigos contigo
Em todas as situações”**

Com base na composição desse excerto, é possível afirmar que a autora apresenta uma discussão em que ela nega uma ação e, em seguida, apresenta a ação que considera como válida, encerrando o parágrafo por meio da apresentação de uma conclusão para essas ações. Pistas disso são, sequencialmente:

- (A) a negação “não é sobre” seguida da afirmação “é sobre” e da conclusão “ter morada”.
- (B) a negação “não é sobre” precedida da afirmação “é sobre” e a conclusão “ter amigos em todas as situações”.
- (C) a afirmação “é sobre” precedida pela negação “não é sobre” e a conclusão “ter amigos em todas as situações”.
- (D) a afirmação “é sobre” seguida pela negação “não é sobre” e a conclusão “ter moradas”.
- (E) a afirmação “é sobre” seguida pela negação “não é sobre” e a conclusão “ter muitos amigos”.

5. Observe o seguinte excerto:

“É sobre ser abrigo / E também ter morada em outros corações / E assim ter amigos contigo / Em todas as situações”.
É correto afirmar que os elementos sublinhados apresentam as seguintes funções:

- (A) iniciam orações independentes sintática e semanticamente.
- (B) ligam orações, estabelecendo, respectivamente, o valor de consequência e adição.
- (C) iniciam orações interdependentes. Por esse motivo, é possível suprimir o “e” sem alterar o sentido dessas construções.
- (D) ligam orações, estabelecendo, respectivamente, o valor de adição e resultado.

- (E) iniciam orações sintaticamente dependentes. Por esse motivo, é possível suprimir o “e” sem alterar o sentido dessas construções.

**6. “Qual seria a graça do mundo se fosse assim”
“É saber se sentir infinito”**

Considerando as funções do “se” e os excertos apresentados, tem-se, respectivamente, as seguintes funções para esse termo:

- (A) conjunção integrante; pronome reflexivo.
- (B) conjunção subordinativa, pronome reflexivo.
- (C) conjunção subordinativa; partícula expletiva.
- (D) conjunção integrante; partícula expletiva.
- (E) partícula expletiva; pronome reflexivo.

7. No excerto: “a vida é trem-bala, parceiro / E a gente é só passageiro prestes a partir”, a autora utiliza uma figura de linguagem denominada

- (A) sinonímia.
- (B) metáfora.
- (C) personificação.
- (D) metonímia.
- (E) sinestesia.

8. No excerto: “É sobre ser abrigo e também ter morada em outros corações / e assim ter amigos [...]”, pensando na significação das palavras e expressões, é correto afirmar que os termos sublinhados são:

- (A) uma metáfora sobre a força da amizade e são termos sinônimos.
- (B) uma metáfora sobre moradia e não podem ser classificados como sinônimos.
- (C) uma metáfora sobre o auxílio e o carinho que os amigos oferecem uns aos outros e podem ser compreendidos como termos sinônimos.
- (D) uma metáfora sobre o auxílio e o carinho que os amigos oferecem uns aos outros e não podem ser compreendidos como termos sinônimos.
- (E) uma metáfora sobre proteção e não podem ser compreendidos como termos sinônimos.

9. Em seu texto, intitulado *Trem bala*, a cantora Ana Vilela aborda qual das seguintes temáticas?

- (A) A brevidade da vida e a importância de valorizarmos o tempo, os acontecimentos e as pessoas.
- (B) A efemeridade da vida e a necessidade de a vivermos intensamente.
- (C) A importância de lutarmos para sermos felizes durante nossa vida.
- (D) A passagem do tempo e a importância da família.
- (E) A necessidade de sabermos viver, para obtermos nossas conquistas e sonhos.

10. Leia os excertos a seguir:

“É sobre dançar na chuva de vida / Que cai sobre nós”

“Segura teu filho no colo / Sorria e abraça teus pais / enquanto estão aqui”

“Que a vida é trem-bala, parceiro / E a gente é só passageiro prestes a partir”

Tendo em vista tais excertos, é correto afirmar que a autora

- (A) realiza uma reflexão direcionada a um ouvinte, não se incluindo na narração.
- (B) realiza uma reflexão sobre a vida, mencionando apenas seu interlocutor.
- (C) realiza uma reflexão na qual inclui a si mesma e a seu ouvinte na narração, ao mesmo tempo em que se dirige a um interlocutor, orientando-o.
- (D) realiza uma reflexão introspectiva, ou seja, não se direciona a ninguém fora da narração.
- (E) apresenta uma narração, a fim de colocar seus pensamentos em ordem para se orientar em relação às “coisas da vida”.

MATEMÁTICA

11. Uma empresa tem três sócios que tiveram a seguinte participação em um negócio: o primeiro investiu R\$ 10.000,00, o segundo R\$ 7.000,00 e o terceiro R\$ 3.000,00. No final de seis meses, foi apurado um lucro de R\$ 4.400,00. O lucro foi repartido de forma proporcional ao que foi investido por cada sócio. Assim, de qual forma foi repartido esse lucro entre os três sócios?

- (A) O primeiro sócio recebeu R\$ 1.900,00, o segundo R\$ 1.440,00 e o terceiro R\$ 1.160,00.

- (B) O primeiro sócio recebeu R\$ 1.900,00, o segundo R\$ 1.480,00 e o terceiro R\$ 1.020,00.
- (C) O primeiro sócio recebeu R\$ 2.100,00, o segundo R\$ 1.640,00 e o terceiro R\$ 660,00.
- (D) O primeiro sócio recebeu R\$ 2.200,00, o segundo R\$ 1.530,00 e o terceiro R\$ 670,00.
- (E) O primeiro sócio recebeu R\$ 2.200,00, o segundo R\$ 1.540,00 e o terceiro R\$ 660,00.

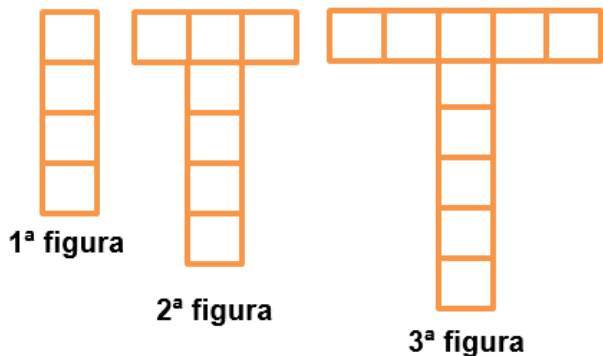
12. Em uma pesquisa feita no centro de uma cidade, verificou-se que, das pessoas consultadas, 150 liam o jornal “O Diário”, 90 liam o jornal “Gazeta do Povo”, 30 liam os dois jornais “O Diário” e “Gazeta do Povo” e 70 não liam nenhum dos dois jornais. Quantas pessoas foram consultadas?

- (A) 240.
- (B) 270.
- (C) 280.
- (D) 290.
- (E) 320.

13. Ana quer comprar um apartamento no centro de uma cidade, o qual custa R\$ 790.000,00, e fez um contrato com o dono do apartamento. Nesse contrato, há a seguinte cláusula de multa: se houver desistência, tanto da compra quanto da venda, terá que ser paga uma multa de 6% sobre o valor do apartamento. Se ambos desistirem do negócio, nenhuma das partes pagará multa. Caso Ana desista de comprar o apartamento, qual será o valor da multa que ela irá pagar?

- (A) A multa será de R\$ 47.400,00.
- (B) A multa será de R\$ 47.900,00.
- (C) A multa será de R\$ 48.300,00.
- (D) A multa será de R\$ 49.700,00.
- (E) A multa será de R\$ 51.500,00.

14. A sequência de figuras a seguir foi obtida comparando-se a quantidade de blocos de concreto utilizada na fabricação de postes, de tal forma que, a partir de uma torre (1ª figura), determinasse o poste seguinte, com acréscimo de mais blocos de concreto (2ª figura), repetindo-se esse processo para cada figura seguinte, conforme mostram as figuras. Na primeira figura, são 4 blocos de concreto, na segunda, são 7 blocos de concreto, na terceira figura, são 10 blocos de concreto e assim por diante. Dessa forma, quantos blocos de concreto serão necessários para fazer a 7ª figura?



- (A) 19 blocos.
- (B) 20 blocos.
- (C) 21 blocos.
- (D) 22 blocos.
- (E) 25 blocos.

15. Helena, Paula e Rafaela receberam, juntas, uma quantia de R\$ 90,00 como mesada, gastando tudo que receberam logo em seguida. Helena gastou $\frac{1}{6}$ do total e Paula gastou $\frac{2}{3}$ do total.

Quantos reais cada uma gastou?

- (A) Helena R\$ 10,00, Paula R\$ 50,00 e Rafaela R\$ 30,00.
- (B) Helena R\$ 15,00, Paula R\$ 60,00 e Rafaela R\$ 15,00.
- (C) Helena R\$ 20,00, Paula R\$ 40,00 e Rafaela R\$ 30,00.
- (D) Helena R\$ 25,00, Paula R\$ 40,00 e Rafaela R\$ 25,00.
- (E) Helena R\$ 35,00, Paula R\$ 20,00 e Rafaela R\$ 35,00.

ATUALIDADES

16. Em 2016, representantes dos 13 mil indígenas da etnia Munduruku, no Pará, divulgaram uma carta do povo indígena ao Governo Federal. Sobre esse documento e a questão indígena no Estado do Pará, assinale a alternativa correta.

- (A) A reivindicação indígena está relacionada ao fato de a região apresentar jazidas auríferas e sítios arqueológicos, o que gera grande tensão entre o governo e os Mundurukus.
- (B) As comunidades indígenas, ao serem deslocadas pelos constantes projetos

de hidrelétricas, rodovias e projetos de mineração, vem sendo recompensadas com terras proporcionais às que perderam, bem como indenizações e apoio por parte das autoridades.

- (C) As manifestações indígenas contrárias aos grandes projetos hidrelétricos são descabidas, visto que as autoridades políticas e a FUNAI vêm trabalhando em conjunto, procurando evitar que a identidade cultural das tribos se perca.
- (D) A partir de 1850, a Lei de Terras demarcou as áreas indígenas, o que permitiu aos índios o direito de manifestar sua cultura.
- (E) O documento apresentado pelos indígenas solicitava a demarcação de terras, investimentos em saúde e educação nas aldeias e, principalmente, o fim dos projetos de construção de hidrelétricas no Estado.

17. Há vinte e um anos, iniciavam-se as tensões e discussões sobre a construção do projeto da usina de Belo Monte. A respeito da polêmica construção dessa usina, assinale a alternativa INCORRETA.

- (A) Idealizado ainda no governo militar, em 1975, para o projeto do complexo Kararaô (primeiro nome de Belo Monte), na ocasião, previa-se uma obra com seis barragens entre os rios Xingu e Iriri.
- (B) Idealizada no regime militar, a usina foi inaugurada em 2016, envolta a uma série de polêmicas, sendo desvios de recursos uma delas.
- (C) A usina foi construída fazendo parte das obras do PAC (Programa de Aceleração do Crescimento) do governo federal, junto ao rio Xingu.
- (D) Com a construção da usina de Belo Monte, comunidades tradicionais terão suas vidas alteradas em vários aspectos, tanto naturais (navegação impedida, formação de pequenos lagos) quanto sociais (realocação populacional, indenizações, etc.)
- (E) A usina de Belo Monte, quando estiver totalmente concluída, será a maior usina hidrelétrica em geração de energia do mundo.

18. “Amazônia pode entrar em ciclo vicioso de desmatamento e seca. Pesquisa publicada na revista ‘Nature’ indica que a ação humana e a redução das chuvas podem transformar a floresta em savana”.

Sobre os impactos na floresta amazônica, assinale a alternativa correta.

- (A) Os impactos na floresta amazônica diminuíram nos últimos anos, em decorrência de uma maior fiscalização por parte das autoridades e campanhas de conscientização relacionadas ao desenvolvimento sustentável, sendo que os Estados do Pará, Mato Grosso do Sul e Roraima foram os que mais desmataram.
- (B) Há uma combinação de fatores por trás da expansão do desmatamento na Amazônia: a exploração ilegal de madeira, o corte de árvores para formação de pasto e a falta de investimentos para fiscalizar e combater com eficiência.
- (C) As transformações que a floresta amazônica vem passando nos últimos anos pela ação antrópica poderão transformá-la em uma savana tanto em fauna quanto em flora.
- (D) A derrubada da floresta amazônica poderá alterar o ciclo hidrológico da região norte e comprometer os chamados rios voadores que funcionam como uma bomba d’água apenas na região norte do Brasil, o que poderá favorecer a formação de caatinga.
- (E) Devido ao projeto SIVAM (Sistema de Vigilância da Amazônia), toda e qualquer forma de exploração vem sendo vigorosamente combatida, impedindo com êxito atividades ilícitas, como a biopirataria.

19. Em 2017, completam-se 72 anos da ruína de um pedaço de império no meio da floresta amazônica. Era uma área extensa, de aproximadamente 15 mil quilômetros quadrados no sudoeste do Pará, onde se construiu a Fordlândia. Sobre o assunto, assinale a alternativa correta.

- (A) O projeto empreendido pelo empresário norte americano Henry Ford previa a construção de uma cidade para aproveitar o potencial do ciclo do látex e a instalação de uma montadora da Ford, em expansão mundial no período.
- (B) O projeto da Fordlândia foi desenvolvido em terras doadas pelo estado, em uma tentativa de incentivar a ocupação e o desenvolvimento da região.
- (C) Atualmente, a Fordlândia está sob a administração política da cidade de Aveiro

que, apesar de sofrer com a falta de recursos, mostra-se interessada em reconstruir a cidade para atrair mais visitantes.

- (D) O governo federal incluiu nas obras do PAC (Programa de Aceleração do Crescimento) a restauração da cidade, pois a considera um patrimônio histórico nacional, sendo, com isso, necessária sua restauração.
- (E) O governo dos Estados Unidos vem, nos últimos anos, reivindicando o direito de posse sobre essa área em uma tentativa de obter uma pequena parte da Amazônia brasileira.

20. Das dez maiores usinas hidrelétricas do Brasil, quatro localizam-se no estado do Pará. Considerando o exposto, sobre recursos energéticos e sustentabilidade, assinale a alternativa correta.

- (A) O projeto da Usina Hidrelétrica de Tucuruí foi criado junto ao Programa Grande Carajás, para abastecer com energia subsidiada as indústrias de alumínio Alumar/Alcoa, no Maranhão, e Albrás/Alunorte/Vale, no Pará.
- (B) A construção da Usina de Tucuruí insere-se no contexto das grandes obras do regime militar e suas dimensões comprovam a grandiosidade, sendo considerada a maior usina hidrelétrica do país construída no rio Araguaia.
- (C) Em 2016, segundo relatório da FUNAI (Fundação Nacional de Amparo ao Índio), do RIMA (Relatório de Impacto Ambiental) e do Greenpeace, as obras para construção da Usina de São Luiz do Tapajós são consideradas um exemplo de sustentabilidade nacional.
- (D) O rio tapajós possui um grande potencial para geração energética, o que proporcionou o desenvolvimento de projetos de grandes usinas, como a hidrelétrica de Jatobá. Sua viabilidade já foi aprovada pelos governos estadual e federal, devendo, assim, sair do papel em 2018.
- (E) Obras visando à produção energética no Pará, bem como na região norte do Brasil, são favorecidas pelo elevado potencial dos rios da bacia amazônica, que se apresentam com o maior potencial hidrelétrico instalado do Brasil.

LEGISLAÇÃO

21. Sobre os atributos do ato administrativo, assinale a alternativa correta.

- (A) Presunção de legitimidade é a possibilidade de a própria administração executar seus atos, sem se valer do Poder Judiciário.

- (B) Imperatividade se relaciona ao caráter negocial do ato.
- (C) Autoexecutoriedade significa que cabe ao administrado impugnar o ato.
- (D) Exigibilidade é a possibilidade de a administração fixar a sanção pelo descumprimento do ato.
- (E) Discricionariedade é o caráter vinculativo do ato.

22. Considerando a Resolução n.º 20/2014 da CODEM, assinale a alternativa INCORRETA.

- (A) Pessoal efetivo são empregados públicos cuja investidura no respectivo emprego se deu mediante concurso público de provas ou de provas e títulos.
- (B) Emprego de confiança é a unidade de ocupação funcional, criado por norma, para o exercício de atividades e de responsabilidades de direção, chefia ou assessoramento superiores, definidas com base na estrutura organizacional da CODEM, de livre admissão e dispensa.
- (C) Função gratificada: conjunto de atividades e responsabilidades de gestão e assistência intermediárias, definidas com base na estrutura organizacional da CODEM, de livre designação e destituição, não podendo ser atribuídas aos ocupantes de emprego de confiança.
- (D) Interstício avaliatório é a graduação determinante da progressão funcional.
- (E) Progressão funcional: deslocamento funcional do empregado público concursado, entre referências, por promoção no mesmo emprego.

23. Assinale a alternativa correta, segundo a Lei n.º 6.795/70.

- (A) A CODEM poderá requisitar servidores públicos, através da competente solicitação, para realização de suas atividades.
- (B) Os servidores públicos do Município de Belém que forem requisitados pela CODEM gozarão de todas as vantagens como se estivessem no efetivo exercício de seus cargos ou funções na Prefeitura e não poderão perceber quaisquer gratificações da CODEM.
- (C) Todos os bens, rendas e serviços ou direito da CODEM gozarão de ampla e irrestrita isenção de todos os tributos de competência do Município, do Estado e da União.
- (D) Os dividendos a que tiver direito a Prefeitura Municipal de Belém pela participação da

CODEM deverão obrigatoriamente ser investidos na área de saúde.

- (E) A CODEM não poderá receber subvenções, financiamento ou outras contribuições de agentes financeiros internacionais.

24. Assinale a alternativa INCORRETA a respeito da administração pública.

- (A) A administração pública direta e indireta de qualquer dos Poderes da União, dos Estados, do Distrito Federal e dos Municípios obedecerá aos princípios de legalidade, impessoalidade, moralidade, publicidade e eficiência.
- (B) Os cargos, empregos e funções públicas são acessíveis aos brasileiros que preencham os requisitos estabelecidos em lei, sendo vedados aos estrangeiros.
- (C) O prazo de validade do concurso público será de até dois anos, prorrogável uma vez, por igual período.
- (D) As funções de confiança, exercidas exclusivamente por servidores ocupantes de cargo efetivo, e os cargos em comissão, a serem preenchidos por servidores de carreira nos casos, condições e percentuais mínimos previstos em lei, destinam-se apenas às atribuições de direção, chefia e assessoramento.
- (E) É garantido, ao servidor público civil, o direito à livre associação sindical.

25. Assinale a alternativa correta a respeito do poder regulamentar.

- (A) É competência exclusiva do chefe do Poder Executivo.
- (B) É competência concorrente do Poder Executivo e do Poder Judiciário.
- (C) Admite, apenas, a edição de decretos regulamentares.
- (D) Admite, também, decreto autônomo para preencher lacunas na lei.
- (E) Pode ser delegado em caráter geral e definitivo.

NOÇÕES DE INFORMÁTICA

26. Com relação aos protocolos HTTP e HTTPS, é correto afirmar que

- (A) utilizam as portas 80 e 400 por padrão.
- (B) utilizam as portas 80 e 500 por padrão.
- (C) utilizam as portas 23 e 400 por padrão.
- (D) utilizam as portas 80 e 443 por padrão.
- (E) utilizam as portas 23 e 443 por padrão.

- 27. Sobre o Ransomware WannaCry (ataque mundial maio/2017), é correto afirmar que é um**
- (A) malware que afeta os sistemas operacionais Windows.
 - (B) malware que apaga os dados dos usuários Android.
 - (C) malware que apaga os dados dos usuários Windows.
 - (D) jogo que afeta o desempenho dos sistemas operacionais Windows.
 - (E) malware que criptografa os dados dos usuários Android.

- 28. No Microsoft Excel 2013, o resultado da fórmula =SE(2>3;"A";B) é**

- (A) #NOME?
- (B) 2
- (C) 3
- (D) A
- (E) B

- 29. O Sistema Operacional Android é**

- (A) baseado em núcleo Linux e é utilizado exclusivamente em celulares.
- (B) um sistema operacional proprietário e é utilizado principalmente em dispositivos móveis.
- (C) um sistema operacional proprietário e é utilizado exclusivamente em celulares.
- (D) um sistema operacional livre e é utilizado exclusivamente em celulares.
- (E) baseado em núcleo Linux e é utilizado principalmente em dispositivos móveis.

- 30. Na configuração de uma conta de e-mail do Microsoft Outlook 2013, as opções de criptografia do servidor SMTP que o programa oferece são:**

- (A) Nenhum, SSL, TLS, Automático.
- (B) Nenhum, SSL, TTL, Automático.
- (C) SSL, TLS, TTL, HTTPS.
- (D) SSL, SMTP, POP3, Nenhum.
- (E) SSL, SMTP, POP3, Automático.

CONHECIMENTOS ESPECÍFICOS

- 31. Diversas são as discussões a respeito do conceito de ética. Assinale a alternativa que apresenta um conceito de ética em seu caráter científico.**

- (A) Ética é a ciência da moral.
- (B) Ética é a ciência do direito.
- (C) Ética é a ciência da justiça.
- (D) Ética é a ciência da legalidade.
- (E) Ética é a ciência da cidadania.

- 32. Quando o homem busca o trabalho e não o emprego, tem em mente uma atividade que lhe ofereça satisfação. A ética da satisfação adota o princípio de que a vida deve ser vivida e gozada por si só. Assinale a alternativa que apresenta, respectivamente, os valores éticos de inovação e competência como exemplos de satisfação profissional.**

- (A) Reconhecimento e realização.
- (B) Criatividade e solidariedade.
- (C) Reconhecimento e criatividade.
- (D) Solidariedade e reconhecimento.
- (E) Criatividade e realização.

- 33. Assinale a alternativa que apresenta a atividade empresarial sob o aspecto financeiro classificada em decorrência da finalidade para a qual a instituição foi criada e existe.**

- (A) Atividade de operações.
- (B) Atividade de caixa.
- (C) Atividade de produção.
- (D) Atividade de investimento.
- (E) Atividade de financiamento.

- 34. A apuração dos resultados econômico e financeiro de uma organização é obtida, respectivamente, por:**

- (A) caixa e lucro.
- (B) lucro e dividendos.
- (C) dividendos e aplicações.
- (D) aplicações e caixa.
- (E) lucro e caixa.

- 35. Referente aos principais enfoques dos administradores de materiais, assinale a alternativa que apresenta aquele que é, em grande parte, baseado em técnicas que integram os elementos de tecnologia de manufatura e otimizam a utilização de pessoas, materiais e instalações ou equipamentos.**

- (A) Sistemas de controles.
- (B) Administração de recursos.
- (C) Sistemas de informações.
- (D) Processos de fabricação.
- (E) Integração de sistemas tecnológicos.

- 36. Qual é a técnica de administração de materiais que puxa a produção?**

- (A) Kanban.
- (B) Seis sigmas.
- (C) Just-in-time.
- (D) Fornecedor preferencial.
- (E) Programação de fornecedores.

- 37. No processo de recrutamento, é importante a avaliação dos seus resultados. Assinale a alternativa que apresenta uma das medidas de critério de avaliação orientado para o método de recrutamento.**
- (A) Número de candidatos qualificados apresentados.
 - (B) Número de cargos preenchidos dentro do tempo normal.
 - (C) Percentagem dos candidatos recomendados que são admitidos.
 - (D) Qualidade dos entrevistados avaliada pelos entrevistadores.
 - (E) Número de entrevistas feitas.
- 38. A seleção de pessoal comporta três modelos de tratamento. Assinale a alternativa que apresenta o modelo de tratamento a ser utilizado quando há vários candidatos e uma só vaga.**
- (A) Modelo de classificação.
 - (B) Modelo de colocação.
 - (C) Modelo de indicação.
 - (D) Modelo de seleção.
 - (E) Modelo de ordem.
- 39. Qual é o aspecto que proporciona um local de trabalho que contribui para o bem estar dos funcionários e deve ser incluído no desenho de um programa de relações com empregados?**
- (A) Comunicação.
 - (B) Cooperação.
 - (C) Disciplina.
 - (D) Assistência.
 - (E) Proteção.
- 40. Preencha as lacunas e assinale a alternativa correta.**
A escola das relações humanas inaugurou a preocupação com _____ e com assuntos relacionados com _____ e _____ das pessoas.
- (A) equipes de trabalho / remuneração / benefícios
 - (B) desempenho individual / necessidades / desejos
 - (C) grupos informais / comunicação / motivação
 - (D) produtividade / interrelações / interatividade
 - (E) autoridade / recompensas / participação
- 41. Assinale a alternativa que apresenta os tipos de comunicação interpessoal no ambiente de trabalho.**
- (A) Falada e escrita.
 - (B) Verbal e não verbal.
 - (C) Expressões e gestos.
 - (D) Tons vocais baixo e alto.
 - (E) Codificação e decodificação.
- 42. Os administradores devem procurar melhorar sua comunicação, esforçando-se não somente para serem compreendidos mas também para compreender os outros. Para tanto, algumas técnicas podem melhorar a eficácia desses dois aspectos do processo de comunicação no ambiente de trabalho. Referente ao assunto, relacione as técnicas com suas características e assinale a alternativa que apresenta a sequência correta.**
1. Acompanhamento.
 2. Retroação.
 3. Empatia.
 4. Repetição.
- () A forma de comunicação depende muito do que se conhece sobre o destinatário, requerendo maior orientação para ele do que para o emissor.
 - () Assegura que, se uma mensagem não for compreendida, haverá outras partes que transmitirão a mesma mensagem.
 - () Trata de verificar se o significado da mensagem foi realmente captado, envolvendo a suposição de que a mensagem pode ter sido mal interpretada.
 - () Abertura de um canal para a resposta do destinatário que permite ao emissor determinar se a mensagem foi recebida e se produziu a resposta desejada.
- (A) 2 – 1 – 4 – 3.
 - (B) 4 – 2 – 3 – 1.
 - (C) 1 – 3 – 2 – 4.
 - (D) 3 – 4 – 1 – 2.
 - (E) 2 – 1 – 3 – 4.

43. De acordo com a natureza do trabalho do administrador, ele desempenha alguns papéis. Assinale a alternativa que apresenta alguns dos papéis informacionais do administrador.

- (A) Alocação de recursos, empreendedor e negociação.
- (B) Representação, liderança e solução de conflitos.
- (C) Empreendedor, ligação e disseminação.
- (D) Monitoração, disseminação e porta-voz.
- (E) Ligação, negociação e liderança.

44. Considere a cadeia escalar de autoridade presente nos níveis organizacionais e assinale a alternativa que apresenta o nível organizacional que inclui as autoridades de presidente e diretor.

- (A) Nível operacional.
- (B) Nível mediador.
- (C) Nível intermediário.
- (D) Nível gerencial.
- (E) Nível institucional.

45. Em cada fase da história da teoria da administração, é enfatizado um aspecto importante da administração. Assinale a alternativa que NÃO apresenta uma dessas ênfases.

- (A) Tecnologia.
- (B) Ambiente.
- (C) Finanças.
- (D) Pessoas.
- (E) Tarefas.

46. Na redação de expedientes oficiais, é necessário respeito à polidez, à civilidade no próprio enfoque dado ao assunto do qual cuida a comunicação e uniformidade das comunicações. Assinale a alternativa que apresenta essas características da redação oficial.

- (A) Impessoalidade e padrão culto.
- (B) Formalidade e padronização.
- (C) Legalidade e eficiência.
- (D) Transparência e inteligibilidade.
- (E) Clareza e concisão.

47. Na redação oficial de expedientes, é requerido o padrão culto da língua. Assinale a alternativa que apresenta o consenso do que é o padrão culto.

- (A) É aquele que se prende às diferenças lexicais, morfológicas ou sintáticas regionais, dos modismos vocabulares e das idiossincrasias linguísticas.

(B) É aquele em que não é permitida a simplicidade de expressão, implicando o emprego de linguagem rebuscada e figuras de linguagem próprias da língua literária.

(C) É aquele em que se observam as regras da gramática formal e se emprega um vocabulário comum ao conjunto dos usuários do idioma.

(D) É aquele utilizado nos atos e comunicações oficiais que busca consagrar a utilização de uma forma de linguagem burocrática.

(E) É a linguagem técnica empregada nas situações em que seu uso deve ser indiscriminado, caracterizando o vocabulário próprio à determinada área.

48. Há características específicas para a redação de cada tipo de expediente. No entanto também há características comuns a vários expedientes. Assinale a alternativa que apresenta as modalidades de comunicação oficial que são praticamente idênticas.

- (A) Exposição de motivos e memorando.
- (B) Memorando e mensagem.
- (C) Ofício e memorando.
- (D) Aviso e ofício.
- (E) Mensagem e aviso.

49. Assinale a alternativa que apresenta o arquivo cujo papel é desobstruir espaços nos locais de trabalho e custodiar as informações da organização, dentre outros.

- (A) Arquivo Legal.
- (B) Arquivo Central.
- (C) Arquivo Corrente.
- (D) Arquivo Intermediário.
- (E) Arquivo Documental.

50. Um dos segredos dos arquivos é a avaliação e os prazos dos documentos. Assinale a alternativa que apresenta o procedimento de avaliação, em relação a documentos operacionais com prazo de 1 a 2 anos na organização.

- (A) Substituir e conservar.
- (B) Não substituir e conservar.
- (C) Não substituir e descartar.
- (D) Substituir e descartar.
- (E) Conservar e descartar.

ATENÇÃO!

Não se **ESQUEÇA** de marcar, na Folha de Respostas, o número de sua prova indicado na capa deste caderno.

RASCUNHO



COMPANHIA DE DESENVOLVIMENTO E ADMINISTRAÇÃO DA ÁREA
METROPOLITANA DE BELÉM

ESTADO DO PARÁ



AOCP
CONCURSOS PÚBLICOS

EMPREGO PÚBLICO - EDITAL 003/2017

NÍVEL MÉDIO - MANHÃ

AUXILIAR DE SUPORTE – ASSISTENTE ADMINISTRATIVO

Nome do Candidato _____

Inscrição _____

COMPOSIÇÃO DO CADERNO:

Língua Portuguesa	01 a 10
Matemática	11 a 15
Atualidades	16 a 20
Legislação	21 a 25
Noções de Informática	26 a 30
Conhecimentos Específicos	31 a 50



ATENÇÃO

- Confira, na sua Folha de Respostas, seu nome, documento e o número de sua inscrição, assinando-a no lugar indicado;
- Confira, no caderno de questões, se o emprego corresponde àquele para o qual você se inscreveu e se há falhas de impressão e numeração, preenchendo seu nome e número de inscrição.



IMPORTANTE

- Não é permitido o uso ou a emissão de ruído de qualquer equipamento eletrônico durante a realização da prova, ainda que esse equipamento esteja devidamente acondicionado no envelope de guarda de pertences;
- O NÃO cumprimento de qualquer uma das determinações constantes em Edital, no presente Caderno ou na Folha de Respostas incorrerá em eliminação.



TEMPO

- O prazo de realização da prova é de 4 horas, incluindo o preenchimento da Folha de Respostas;
- A liberação para deixar o local de aplicação e utilizar o sanitário ocorrerá após 60 minutos do início da prova, não podendo, no entanto, levar o caderno de questões;
- Os 3 últimos candidatos deverão retirar-se da sala juntos, pois eles assinarão o Termo de Fechamento do envelope de retorno das Folhas de Respostas.



- De acordo com o edital, os cadernos de questões poderão ser levados somente pelos candidatos que permanecerem em sala até o final do tempo de aplicação da prova de cada período;
- Os cadernos de questões serão divulgados, no site www.aocp.com.br, juntamente com os gabaritos, após o encerramento da aplicação das provas dos dois períodos.



FOLHA DE RESPOSTAS

- O único documento válido para avaliação é a Folha de Respostas, que deve ser devolvida ao fiscal ao término da prova;
- O candidato deve preencher e assinar, com caneta esferográfica transparente de cor azul ou preta, sua Folha de Respostas;
- O preenchimento deve ser realizado da seguinte maneira: ●

PROVA

04

LEMBRE-SE DE MARCAR O NÚMERO
CORRESPONDENTE A SUA PROVA NA
FOLHA DE RESPOSTAS!

ATENÇÃO!

Não se ESQUEÇA de marcar, na Folha de Respostas, o número de sua prova indicado na capa deste caderno.

LÍNGUA PORTUGUESA

Trem bala - Ana Vilela

Não é sobre ter
Todas as pessoas do mundo pra si
É sobre saber que em algum lugar
Alguém zela por ti
É sobre cantar e poder escutar
Mais do que a própria voz
É sobre dançar na chuva de vida
Que cai sobre nós

É saber se sentir infinito
Num universo tão vasto e bonito
É saber sonhar
E, então, fazer valer a pena cada verso
Daquele poema sobre acreditar

Não é sobre chegar no topo do mundo
E saber que venceu
É sobre escalar e sentir
Que o caminho te fortaleceu
É sobre ser abrigo
E também ter morada em outros corações
E assim ter amigos contigo
Em todas as situações

A gente não pode ter tudo
Qual seria a graça do mundo se fosse
assim?
Por isso, eu prefiro sorrisos
E os presentes que a vida trouxe
Pra perto de mim

Não é sobre tudo que o seu dinheiro
É capaz de comprar
E sim sobre cada momento
Sorriso a se compartilhar
Também não é sobre correr
Contra o tempo pra ter sempre mais
Porque quando menos se espera
A vida já ficou pra trás

Segura teu filho no colo
Sorria e abraça teus pais
Enquanto estão aqui
Que a vida é trem-bala, parceiro
E a gente é só passageiro prestes a partir

Texto extraído e adaptado de: <https://www.vagalume.com.br/ana-vilela/trem-bala.html>.17/05/2017.

1. Acerca dos dígrafos e dos encontros vocálicos e consonantais na Língua Portuguesa, assinale a alternativa que apresenta palavras com: dígrafo nasal e encontro vocálico; encontro vocálico e encontro consonantal; encontro consonantal e encontro vocálico, respectivamente:

- (A) Dançar; sobre; verso.
- (B) Chuva; escalar; poema.
- (C) Caminho; situações; fortaleceu.
- (D) Mundo; fosse; compartilhar.
- (E) Dinheiro; outros; venceu.

2. Acerca da representação fonética, é correto afirmar que, nas palavras: “pessoas”, “alguém” e “gente”, tem-se, respectivamente, a seguinte representação:

- (A) sete letras e seis fonemas, seis letras e seis fonemas, cinco letras e cinco fonemas.
- (B) sete letras e sete fonemas, seis letras e cinco fonemas, cinco letras e cinco fonemas.
- (C) sete letras e seis fonemas, seis letras e cinco fonemas, cinco letras e cinco fonemas.
- (D) sete letras e sete fonemas, seis letras e cinco fonemas, cinco letras e quatro fonemas.
- (E) sete letras e seis fonemas, seis letras e cinco fonemas, cinco letras e quatro fonemas.

3. Observe o seguinte excerto:

**“Não é sobre chegar no topo do mundo
E saber que venceu
É sobre escalar e sentir
Que o caminho te fortaleceu
É sobre ser abrigo
E também ter morada em outros corações
E assim ter amigos contigo
Em todas as situações”**

Com base na composição desse excerto, é possível afirmar que a autora apresenta uma discussão em que ela nega uma ação e, em seguida, apresenta a ação que considera como válida, encerrando o parágrafo por meio da apresentação de uma conclusão para essas ações. Pistas disso são, sequencialmente:

- (A) a negação “não é sobre” seguida da afirmação “é sobre” e da conclusão “ter morada”.

- (B) a negação “não é sobre” precedida da afirmação “é sobre” e a conclusão “ter amigos em todas as situações”.
- (C) a afirmação “é sobre” precedida pela negação “não é sobre” e a conclusão “ter amigos em todas as situações”.
- (D) a afirmação “é sobre” seguida pela negação “não é sobre” e a conclusão “ter moradas”.
- (E) a afirmação “é sobre” seguida pela negação “não é sobre” e a conclusão “ter muitos amigos”.

4. Observe o seguinte excerto:

“É sobre ser abrigo / E também ter morada em outros corações / E assim ter amigos contigo / Em todas as situações”.

É correto afirmar que os elementos sublinhados apresentam as seguintes funções:

- (A) iniciam orações independentes sintática e semanticamente.
- (B) ligam orações, estabelecendo, respectivamente, o valor de consequência e adição.
- (C) iniciam orações interdependentes. Por esse motivo, é possível suprimir o “e” sem alterar o sentido dessas construções.
- (D) ligam orações, estabelecendo, respectivamente, o valor de adição e resultado.
- (E) iniciam orações sintaticamente dependentes. Por esse motivo, é possível suprimir o “e” sem alterar o sentido dessas construções.

**5. “Qual seria a graça do mundo se fosse assim”
“É saber se sentir infinito”**

Considerando as funções do “se” e os excertos apresentados, tem-se, respectivamente, as seguintes funções para esse termo:

- (A) conjunção integrante; pronome reflexivo.
- (B) conjunção subordinativa, pronome reflexivo.
- (C) conjunção subordinativa; partícula expletiva.
- (D) conjunção integrante; partícula expletiva.
- (E) partícula expletiva; pronome reflexivo.

6. No excerto: “a vida é trem-bala, parceiro / E a gente é só passageiro prestes a partir”, a autora utiliza uma figura de linguagem denominada

- (A) sinonímia.
- (B) metáfora.

- (C) personificação.
- (D) metonímia.
- (E) sinestesia.

7. No excerto: “É sobre ser abrigo e também ter morada em outros corações / e assim ter amigos [...]”, pensando na significação das palavras e expressões, é correto afirmar que os termos sublinhados são:

- (A) uma metáfora sobre a força da amizade e são termos sinônimos.
- (B) uma metáfora sobre moradia e não podem ser classificados como sinônimos.
- (C) uma metáfora sobre o auxílio e o carinho que os amigos oferecem uns aos outros e podem ser compreendidos como termos sinônimos.
- (D) uma metáfora sobre o auxílio e o carinho que os amigos oferecem uns aos outros e não podem ser compreendidos como termos sinônimos.
- (E) uma metáfora sobre proteção e não podem ser compreendidos como termos sinônimos.

8. Em seu texto, intitulado *Trem bala*, a cantora Ana Vilela aborda qual das seguintes temáticas?

- (A) A brevidade da vida e a importância de valorizarmos o tempo, os acontecimentos e as pessoas.
- (B) A efemeridade da vida e a necessidade de a vivermos intensamente.
- (C) A importância de lutarmos para sermos felizes durante nossa vida.
- (D) A passagem do tempo e a importância da família.
- (E) A necessidade de sabermos viver, para obtermos nossas conquistas e sonhos.

9. Leia os excertos a seguir:

“É sobre dançar na chuva de vida / Que cai sobre nós”

“Segura teu filho no colo / Sorria e abrace teus pais / enquanto estão aqui”

“Que a vida é trem-bala, parceiro / E a gente é só passageiro prestes a partir”

Tendo em vista tais excertos, é correto afirmar que a autora

- (A) realiza uma reflexão direcionada a um ouvinte, não se incluindo na narração.
- (B) realiza uma reflexão sobre a vida, mencionando apenas seu interlocutor.
- (C) realiza uma reflexão na qual inclui a si mesma e a seu ouvinte na narração, ao mesmo tempo em que se dirige a um interlocutor, orientando-o.
- (D) realiza uma reflexão introspectiva, ou seja, não se direciona a ninguém fora da narração.
- (E) apresenta uma narração, a fim de colocar seus pensamentos em ordem para se orientar em relação às “coisas da vida”.

10. “É sobre escalar e sentir / Que o caminho te fortaleceu”

“É sobre dançar na chuva de vida / Que cai sobre nós”

“Sorria e abrace teus pais / Enquanto estão aqui / Que a vida é trem-bala, parceiro”

Considerando as diferentes funções dos elementos “que” nos excertos apresentados, é correto afirmar que eles são, respectivamente:

- (A) conjunção integrante; conjunção integrante; conjunção subordinativa de causa.
- (B) pronome relativo; conjunção integrante; conjunção coordenativa explicativa.
- (C) conjunção subordinativa de causa; pronome relativo; conjunção integrante.
- (D) pronome relativo, pronome relativo, conjunção subordinativa de causa.
- (E) conjunção integrante; pronome relativo; conjunção coordenativa explicativa.

MATEMÁTICA

11. Em uma pesquisa feita no centro de uma cidade, verificou-se que, das pessoas consultadas, 150 liam o jornal “O Diário”, 90 liam o jornal “Gazeta do Povo”, 30

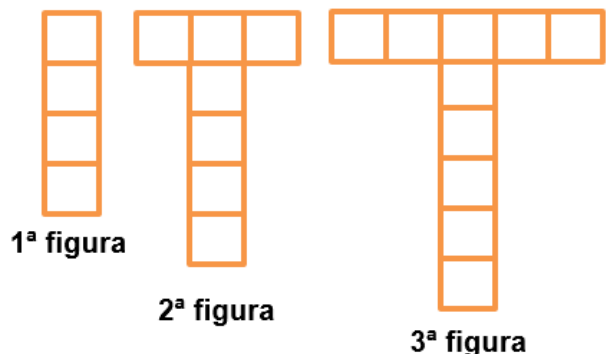
liam os dois jornais “O Diário” e “Gazeta do Povo” e 70 não liam nenhum dos dois jornais. Quantas pessoas foram consultadas?

- (A) 240.
- (B) 270.
- (C) 280.
- (D) 290.
- (E) 320.

12. Ana quer comprar um apartamento no centro de uma cidade, o qual custa R\$ 790.000,00, e fez um contrato com o dono do apartamento. Nesse contrato, há a seguinte cláusula de multa: se houver desistência, tanto da compra quanto da venda, terá que ser paga uma multa de 6% sobre o valor do apartamento. Se ambos desistirem do negócio, nenhuma das partes pagará multa. Caso Ana desista de comprar o apartamento, qual será o valor da multa que ela irá pagar?

- (A) A multa será de R\$ 47.400,00.
- (B) A multa será de R\$ 47.900,00.
- (C) A multa será de R\$ 48.300,00.
- (D) A multa será de R\$ 49.700,00.
- (E) A multa será de R\$ 51.500,00.

13. A sequência de figuras a seguir foi obtida comparando-se a quantidade de blocos de concreto utilizada na fabricação de postes, de tal forma que, a partir de uma torre (1ª figura), determina-se o poste seguinte, com acréscimo de mais blocos de concreto (2ª figura), repetindo-se esse processo para cada figura seguinte, conforme mostram as figuras. Na primeira figura, são 4 blocos de concreto, na segunda, são 7 blocos de concreto, na terceira figura, são 10 blocos de concreto e assim por diante. Dessa forma, quantos blocos de concreto serão necessários para fazer a 7ª figura?



- (A) 19 blocos.
- (B) 20 blocos.
- (C) 21 blocos.
- (D) 22 blocos.
- (E) 25 blocos.

14. Helena, Paula e Rafaela receberam, juntas, uma quantia de R\$ 90,00 como mesada, gastando tudo que receberam

logo em seguida. Helena gastou $\frac{1}{6}$ do total e Paula gastou $\frac{2}{3}$ do total.

Quantos reais cada uma gastou?

- (A) Helena R\$ 10,00, Paula R\$ 50,00 e Rafaela R\$ 30,00.
- (B) Helena R\$ 15,00, Paula R\$ 60,00 e Rafaela R\$ 15,00.
- (C) Helena R\$ 20,00, Paula R\$ 40,00 e Rafaela R\$ 30,00.
- (D) Helena R\$ 25,00, Paula R\$ 40,00 e Rafaela R\$ 25,00.
- (E) Helena R\$ 35,00, Paula R\$ 20,00 e Rafaela R\$ 35,00.

15. Uma empresa tem três sócios que tiveram a seguinte participação em um negócio: o primeiro investiu R\$ 10.000,00, o segundo R\$ 7.000,00 e o terceiro R\$ 3.000,00. No final de seis meses, foi apurado um lucro de R\$ 4.400,00. O lucro foi repartido de forma proporcional ao que foi investido por cada sócio. Assim, de qual forma foi repartido esse lucro entre os três sócios?

- (A) O primeiro sócio recebeu R\$ 1.900,00, o segundo R\$ 1.440,00 e o terceiro R\$ 1.160,00.
- (B) O primeiro sócio recebeu R\$ 1.900,00, o segundo R\$ 1.480,00 e o terceiro R\$ 1.020,00.
- (C) O primeiro sócio recebeu R\$ 2.100,00, o segundo R\$ 1.640,00 e o terceiro R\$ 660,00.
- (D) O primeiro sócio recebeu R\$ 2.200,00, o segundo R\$ 1.530,00 e o terceiro R\$ 670,00.
- (E) O primeiro sócio recebeu R\$ 2.200,00, o segundo R\$ 1.540,00 e o terceiro R\$ 660,00.

16. Há vinte e um anos, iniciavam-se as tensões e discussões sobre a construção do projeto da usina de Belo Monte. A respeito da polêmica construção dessa usina, assinale a alternativa INCORRETA.

- (A) Idealizado ainda no governo militar, em 1975, para o projeto do complexo Kararaô (primeiro nome de Belo Monte), na ocasião, previa-se uma obra com seis barragens entre os rios Xingu e Iriri.
- (B) Idealizada no regime militar, a usina foi inaugurada em 2016, envolta a uma série de polêmicas, sendo desvios de recursos uma delas.
- (C) A usina foi construída fazendo parte das obras do PAC (Programa de Aceleração do Crescimento) do governo federal, junto ao rio Xingu.
- (D) Com a construção da usina de Belo Monte, comunidades tradicionais terão suas vidas alteradas em vários aspectos, tanto naturais (navegação impedida, formação de pequenos lagos) quanto sociais (realocação populacional, indenizações, etc.)
- (E) A usina de Belo Monte, quando estiver totalmente concluída, será a maior usina hidrelétrica em geração de energia do mundo.

17. “Amazônia pode entrar em ciclo vicioso de desmatamento e seca. Pesquisa publicada na revista ‘Nature’ indica que a ação humana e a redução das chuvas podem transformar a floresta em savana”.

Sobre os impactos na floresta amazônica, assinale a alternativa correta.

- (A) Os impactos na floresta amazônica diminuíram nos últimos anos, em decorrência de uma maior fiscalização por parte das autoridades e campanhas de conscientização relacionadas ao desenvolvimento sustentável, sendo que os Estados do Pará, Mato Grosso do Sul e Roraima foram os que mais desmataram.
- (B) Há uma combinação de fatores por trás da expansão do desmatamento na Amazônia: a exploração ilegal de madeira, o corte de árvores para formação de pasto e a falta de investimentos para fiscalizar e combater com eficiência.
- (C) As transformações que a floresta amazônica vem passando nos últimos anos pela ação antrópica poderão transformá-la em uma savana tanto em fauna quanto em flora.
- (D) A derrubada da floresta amazônica poderá alterar o ciclo hidrológico da região norte e comprometer os chamados rios voadores que funcionam como uma bomba d’água apenas na região norte do Brasil, o que poderá favorecer a formação de caatinga.
- (E) Devido ao projeto SIVAM (Sistema de Vigilância da Amazônia), toda e qualquer forma de exploração vem sendo vigorosamente combatida, impedindo com êxito atividades ilícitas, como a biopirataria.

18. Em 2017, completam-se 72 anos da ruína de um pedaço de império no meio da floresta amazônica. Era uma área extensa, de aproximadamente 15 mil quilômetros quadrados no sudoeste do Pará, onde se construiu a Fordlândia. Sobre o assunto, assinale a alternativa correta.

- (A) O projeto empreendido pelo empresário norte americano Henry Ford previa a construção de uma cidade para aproveitar o potencial do ciclo do látex e a instalação de uma montadora da Ford, em expansão mundial no período.
- (B) O projeto da Fordlândia foi desenvolvido em terras doadas pelo estado, em uma tentativa de incentivar a ocupação e o desenvolvimento da região.
- (C) Atualmente, a Fordlândia está sob a administração política da cidade de Aveiro

que, apesar de sofrer com a falta de recursos, mostra-se interessada em reconstruir a cidade para atrair mais visitantes.

- (D) O governo federal incluiu nas obras do PAC (Programa de Aceleração do Crescimento) a restauração da cidade, pois a considera um patrimônio histórico nacional, sendo, com isso, necessária sua restauração.
- (E) O governo dos Estados Unidos vem, nos últimos anos, reivindicando o direito de posse sobre essa área em uma tentativa de obter uma pequena parte da Amazônia brasileira.

19. Das dez maiores usinas hidrelétricas do Brasil, quatro localizam-se no estado do Pará. Considerando o exposto, sobre recursos energéticos e sustentabilidade, assinale a alternativa correta.

- (A) O projeto da Usina Hidrelétrica de Tucuruí foi criado junto ao Programa Grande Carajás, para abastecer com energia subsidiada as indústrias de alumínio Alumar/Alcoa, no Maranhão, e Albrás/Alunorte/Vale, no Pará.
- (B) A construção da Usina de Tucuruí insere-se no contexto das grandes obras do regime militar e suas dimensões comprovam a grandiosidade, sendo considerada a maior usina hidrelétrica do país construída no rio Araguaia.
- (C) Em 2016, segundo relatório da FUNAI (Fundação Nacional de Amparo ao Índio), do RIMA (Relatório de Impacto Ambiental) e do Greenpeace, as obras para construção da Usina de São Luiz do Tapajós são consideradas um exemplo de sustentabilidade nacional.
- (D) O rio tapajós possui um grande potencial para geração energética, o que proporcionou o desenvolvimento de projetos de grandes usinas, como a hidrelétrica de Jatobá. Sua viabilidade já foi aprovada pelos governos estadual e federal, devendo, assim, sair do papel em 2018.
- (E) Obras visando à produção energética no Pará, bem como na região norte do Brasil, são favorecidas pelo elevado potencial dos rios da bacia amazônica, que se apresentam com o maior potencial hidrelétrico instalado do Brasil.

20. Em 2016, representantes dos 13 mil indígenas da etnia Munduruku, no Pará, divulgaram uma carta do povo indígena ao Governo Federal. Sobre esse documento e a questão indígena no Estado do Pará, assinale a alternativa correta.

- (A) A reivindicação indígena está relacionada ao fato de a região apresentar jazidas auríferas e sítios arqueológicos, o que gera grande tensão entre o governo e os Mundurucus.
- (B) As comunidades indígenas, ao serem deslocadas pelos constantes projetos de hidrelétricas, rodovias e projetos de mineração, vem sendo recompensadas com terras proporcionais às que perderam, bem como indenizações e apoio por parte das autoridades.
- (C) As manifestações indígenas contrárias aos grandes projetos hidrelétricos são descabidas, visto que as autoridades políticas e a FUNAI vêm trabalhando em conjunto, procurando evitar que a identidade cultural das tribos se perca.
- (D) A partir de 1850, a Lei de Terras demarcou as áreas indígenas, o que permitiu aos índios o direito de manifestar sua cultura.
- (E) O documento apresentado pelos indígenas solicitava a demarcação de terras, investimentos em saúde e educação nas aldeias e, principalmente, o fim dos projetos de construção de hidrelétricas no Estado.

LEGISLAÇÃO

21. Considerando a Resolução n.º 20/2014 da CODEM, assinale a alternativa INCORRETA.

- (A) Pessoal efetivo são empregados públicos cuja investidura no respectivo emprego se deu mediante concurso público de provas ou de provas e títulos.
- (B) Emprego de confiança é a unidade de ocupação funcional, criado por norma, para o exercício de atividades e de responsabilidades de direção, chefia ou assessoramento superiores, definidas com base na estrutura organizacional da CODEM, de livre admissão e dispensa.
- (C) Função gratificada: conjunto de atividades e responsabilidades de gestão e assistência intermediárias, definidas com base na estrutura organizacional da CODEM, de livre designação e destituição, não podendo ser atribuídas aos ocupantes de emprego de confiança.
- (D) Interstício avaliatório é a graduação determinante da progressão funcional.
- (E) Progressão funcional: deslocamento funcional do empregado público concursado, entre referências, por promoção no mesmo emprego.

22. Assinale a alternativa correta, segundo a Lei n.º 6.795/70.

- (A) A CODEM poderá requisitar servidores públicos, através da competente solicitação, para realização de suas atividades.
- (B) Os servidores públicos do Município de Belém que forem requisitados pela CODEM gozarão de todas as vantagens como se estivessem no efetivo exercício de seus cargos ou funções na Prefeitura e não poderão perceber quaisquer gratificações da CODEM.
- (C) Todos os bens, rendas e serviços ou direito da CODEM gozarão de ampla e irrestrita isenção de todos os tributos de competência do Município, do Estado e da União .
- (D) Os dividendos a que tiver direito a Prefeitura Municipal de Belém pela participação da CODEM deverão obrigatoriamente ser investidos na área de saúde.
- (E) A CODEM não poderá receber subvenções, financiamento ou outras contribuições de agentes financeiros internacionais.

23. Assinale a alternativa INCORRETA a respeito da administração pública.

- (A) A administração pública direta e indireta de qualquer dos Poderes da União, dos Estados, do Distrito Federal e dos Municípios obedecerá aos princípios de legalidade, impessoalidade, moralidade, publicidade e eficiência.
- (B) Os cargos, empregos e funções públicas são acessíveis aos brasileiros que preencham os requisitos estabelecidos em lei, sendo vedados aos estrangeiros.
- (C) O prazo de validade do concurso público será de até dois anos, prorrogável uma vez, por igual período.
- (D) As funções de confiança, exercidas exclusivamente por servidores ocupantes de cargo efetivo, e os cargos em comissão, a serem preenchidos por servidores de carreira nos casos, condições e percentuais mínimos previstos em lei, destinam-se apenas às atribuições de direção, chefia e assessoramento.
- (E) É garantido, ao servidor público civil, o direito à livre associação sindical.

24. Assinale a alternativa correta a respeito do poder regulamentar.

- (A) É competência exclusiva do chefe do Poder Executivo.
- (B) É competência concorrente do Poder Executivo e do Poder Judiciário.
- (C) Admite, apenas, a edição de decretos regulamentares.
- (D) Admite, também, decreto autônomo para preencher lacunas na lei.
- (E) Pode ser delegado em caráter geral e definitivo.

25. Sobre os atributos do ato administrativo, assinale a alternativa correta.

- (A) Presunção de legitimidade é a possibilidade de a própria administração executar seus atos, sem se valer do Poder Judiciário.
- (B) Imperatividade se relaciona ao caráter negocial do ato.
- (C) Autoexecutoriedade significa que cabe ao administrado impugnar o ato.
- (D) Exigibilidade é a possibilidade de a administração fixar a sanção pelo descumprimento do ato.
- (E) Discricionariedade é o caráter vinculativo do ato.

NOÇÕES DE INFORMÁTICA

26. Sobre o Ransomware WannaCry (ataque mundial maio/2017), é correto afirmar que é um

- (A) malware que afeta os sistemas operacionais Windows.
- (B) malware que apaga os dados dos usuários Android.
- (C) malware que apaga os dados dos usuários Windows.
- (D) jogo que afeta o desempenho dos sistemas operacionais Windows.
- (E) malware que criptografa os dados dos usuários Android.

27. No Microsoft Excel 2013, o resultado da fórmula =SE(2>3;"A";B) é

- (A) #NOME?
- (B) 2
- (C) 3
- (D) A
- (E) B

28. O Sistema Operacional Android é

- (A) baseado em núcleo Linux e é utilizado exclusivamente em celulares.

- (B) um sistema operacional proprietário e é utilizado principalmente em dispositivos móveis.
- (C) um sistema operacional proprietário e é utilizado exclusivamente em celulares.
- (D) um sistema operacional livre e é utilizado exclusivamente em celulares.
- (E) baseado em núcleo Linux e é utilizado principalmente em dispositivos móveis.

29. Na configuração de uma conta de e-mail do Microsoft Outlook 2013, as opções de criptografia do servidor SMTP que o programa oferece são:

- (A) Nenhum, SSL, TLS, Automático.
- (B) Nenhum, SSL, TTL, Automático.
- (C) SSL, TLS, TTL, HTTPS.
- (D) SSL, SMTP, POP3, Nenhum.
- (E) SSL, SMTP, POP3, Automático.

30. Com relação aos protocolos HTTP e HTTPS, é correto afirmar que

- (A) utilizam as portas 80 e 400 por padrão.
- (B) utilizam as portas 80 e 500 por padrão.
- (C) utilizam as portas 23 e 400 por padrão.
- (D) utilizam as portas 80 e 443 por padrão.
- (E) utilizam as portas 23 e 443 por padrão.

CONHECIMENTOS ESPECÍFICOS

31. Quando o homem busca o trabalho e não o emprego, tem em mente uma atividade que lhe ofereça satisfação. A ética da satisfação adota o princípio de que a vida deve ser vivida e gozada por si só. Assinale a alternativa que apresenta, respectivamente, os valores éticos de inovação e competência como exemplos de satisfação profissional.

- (A) Reconhecimento e realização.
- (B) Criatividade e solidariedade.
- (C) Reconhecimento e criatividade.
- (D) Solidariedade e reconhecimento.
- (E) Criatividade e realização.

32. Assinale a alternativa que apresenta a atividade empresarial sob o aspecto financeiro classificada em decorrência da finalidade para a qual a instituição foi criada e existe.

- (A) Atividade de operações.
- (B) Atividade de caixa.
- (C) Atividade de produção.
- (D) Atividade de investimento.
- (E) Atividade de financiamento.

- 33. A apuração dos resultados econômico e financeiro de uma organização é obtida, respectivamente, por:**
- (A) caixa e lucro.
 - (B) lucro e dividendos.
 - (C) dividendos e aplicações.
 - (D) aplicações e caixa.
 - (E) lucro e caixa.
- 34. Referente aos principais enfoques dos administradores de materiais, assinale a alternativa que apresenta aquele que é, em grande parte, baseado em técnicas que integram os elementos de tecnologia de manufatura e otimizam a utilização de pessoas, materiais e instalações ou equipamentos.**
- (A) Sistemas de controles.
 - (B) Administração de recursos.
 - (C) Sistemas de informações.
 - (D) Processos de fabricação.
 - (E) Integração de sistemas tecnológicos.
- 35. Qual é a técnica de administração de materiais que puxa a produção?**
- (A) Kanban.
 - (B) Seis sigmas.
 - (C) Just-in-time.
 - (D) Fornecedor preferencial.
 - (E) Programação de fornecedores.
- 36. No processo de recrutamento, é importante a avaliação dos seus resultados. Assinale a alternativa que apresenta uma das medidas de critério de avaliação orientado para o método de recrutamento.**
- (A) Número de candidatos qualificados apresentados.
 - (B) Número de cargos preenchidos dentro do tempo normal.
 - (C) Percentagem dos candidatos recomendados que são admitidos.
 - (D) Qualidade dos entrevistados avaliada pelos entrevistadores.
 - (E) Número de entrevistas feitas.
- 37. A seleção de pessoal comporta três modelos de tratamento. Assinale a alternativa que apresenta o modelo de tratamento a ser utilizado quando há vários candidatos e uma só vaga.**
- (A) Modelo de classificação.
 - (B) Modelo de colocação.
 - (C) Modelo de indicação.
 - (D) Modelo de seleção.
 - (E) Modelo de ordem.
- 38. Qual é o aspecto que proporciona um local de trabalho que contribui para o bem estar dos funcionários e deve ser incluído no desenho de um programa de relações com empregados?**
- (A) Comunicação.
 - (B) Cooperação.
 - (C) Disciplina.
 - (D) Assistência.
 - (E) Proteção.
- 39. Preencha as lacunas e assinale a alternativa correta.**
A escola das relações humanas inaugurou a preocupação com _____ e com assuntos relacionados com _____ e _____ das pessoas.
- (A) equipes de trabalho / remuneração / benefícios
 - (B) desempenho individual / necessidades / desejos
 - (C) grupos informais / comunicação / motivação
 - (D) produtividade / interrelações / interatividade
 - (E) autoridade / recompensas / participação
- 40. Assinale a alternativa que apresenta os tipos de comunicação interpessoal no ambiente de trabalho.**
- (A) Falada e escrita.
 - (B) Verbal e não verbal.
 - (C) Expressões e gestos.
 - (D) Tons vocais baixo e alto.
 - (E) Codificação e decodificação.

41. Os administradores devem procurar melhorar sua comunicação, esforçando-se não somente para serem compreendidos mas também para compreender os outros. Para tanto, algumas técnicas podem melhorar a eficácia desses dois aspectos do processo de comunicação no ambiente de trabalho. Referente ao assunto, relacione as técnicas com suas características e assinale a alternativa que apresenta a sequência correta.

1. Acompanhamento.
2. Retroação.
3. Empatia.
4. Repetição.

- () A forma de comunicação depende muito do que se conhece sobre o destinatário, requerendo maior orientação para ele do que para o emissor.
- () Assegura que, se uma mensagem não for compreendida, haverá outras partes que transmitirão a mesma mensagem.
- () Trata de verificar se o significado da mensagem foi realmente captado, envolvendo a suposição de que a mensagem pode ter sido mal interpretada.
- () Abertura de um canal para a resposta do destinatário que permite ao emissor determinar se a mensagem foi recebida e se produziu a resposta desejada.

- (A) 2 – 1 – 4 – 3.
(B) 4 – 2 – 3 – 1.
(C) 1 – 3 – 2 – 4.
(D) 3 – 4 – 1 – 2.
(E) 2 – 1 – 3 – 4.

42. De acordo com a natureza do trabalho do administrador, ele desempenha alguns papéis. Assinale a alternativa que apresenta alguns dos papéis informacionais do administrador.

- (A) Alocação de recursos, empreendedor e negociação.
- (B) Representação, liderança e solução de conflitos.
- (C) Empreendedor, ligação e disseminação.
- (D) Monitoração, disseminação e porta-voz.
- (E) Ligação, negociação e liderança.

43. Considere a cadeia escalar de autoridade presente nos níveis organizacionais e assinale a alternativa que apresenta o nível organizacional que inclui as autoridades de presidente e diretor.

- (A) Nível operacional.
(B) Nível mediador.
(C) Nível intermediário.
(D) Nível gerencial.
(E) Nível institucional.

44. Em cada fase da história da teoria da administração, é enfatizado um aspecto importante da administração. Assinale a alternativa que NÃO apresenta uma dessas ênfases.

- (A) Tecnologia.
(B) Ambiente.
(C) Finanças.
(D) Pessoas.
(E) Tarefas.

45. Na redação de expedientes oficiais, é necessário respeito à polidez, à civilidade no próprio enfoque dado ao assunto do qual cuida a comunicação e uniformidade das comunicações. Assinale a alternativa que apresenta essas características da redação oficial.

- (A) Impessoalidade e padrão culto.
(B) Formalidade e padronização.
(C) Legalidade e eficiência.
(D) Transparência e inteligibilidade.
(E) Clareza e concisão.

46. Na redação oficial de expedientes, é requerido o padrão culto da língua. Assinale a alternativa que apresenta o consenso do que é o padrão culto.

- (A) É aquele que se prende às diferenças lexicais, morfológicas ou sintáticas regionais, dos modismos vocabulares e das idiosincrasias linguísticas.
- (B) É aquele em que não é permitida a simplicidade de expressão, implicando o emprego de linguagem rebuscada e figuras de linguagem próprias da língua literária.
- (C) É aquele em que se observam as regras da gramática formal e se emprega um vocabulário comum ao conjunto dos usuários do idioma.
- (D) É aquele utilizado nos atos e comunicações oficiais que busca consagrar a utilização de uma forma de linguagem burocrática.
- (E) É a linguagem técnica empregada nas situações em que seu uso deve ser

indiscriminado, caracterizando o vocabulário próprio à determinada área.

47. Há características específicas para a redação de cada tipo de expediente. No entanto também há características comuns a vários expedientes. Assinale a alternativa que apresenta as modalidades de comunicação oficial que são praticamente idênticas.

- (A) Exposição de motivos e memorando.
- (B) Memorando e mensagem.
- (C) Ofício e memorando.
- (D) Aviso e ofício.
- (E) Mensagem e aviso.

48. Assinale a alternativa que apresenta o arquivo cujo papel é desobstruir espaços nos locais de trabalho e custodiar as informações da organização, dentre outros.

- (A) Arquivo Legal.
- (B) Arquivo Central.
- (C) Arquivo Corrente.
- (D) Arquivo Intermediário.
- (E) Arquivo Documental.

49. Um dos segredos dos arquivos é a avaliação e os prazos dos documentos. Assinale a alternativa que apresenta o procedimento de avaliação, em relação a documentos operacionais com prazo de 1 a 2 anos na organização.

- (A) Substituir e conservar.
- (B) Não substituir e conservar.
- (C) Não substituir e descartar.
- (D) Substituir e descartar.
- (E) Conservar e descartar.

50. Diversas são as discussões a respeito do conceito de ética. Assinale a alternativa que apresenta um conceito de ética em seu caráter científico.

- (A) Ética é a ciência da moral.
- (B) Ética é a ciência do direito.
- (C) Ética é a ciência da justiça.
- (D) Ética é a ciência da legalidade.
- (E) Ética é a ciência da cidadania.

.....
ATENÇÃO!

Não se ESQUEÇA de marcar, na Folha de Respostas, o número de sua prova indicado na capa deste caderno.
.....

RASCUNHO
