

## LÍNGUA PORTUGUESA

### O que uma menina de 9 anos tem a nos ensinar sobre propósito?

*Encontrar um propósito através do qual se consiga deixar sua marca no mundo ou um sentido para aquilo que se faz todos os dias tornou-se um fenômeno.*

Luciana Rodrigues 6 de abril de 2022

Em uma das despreziosas conversas que tive com a Isadora, minha filha de 9 anos, ela soltou, como quem não quer nada: “Sabia que todo mundo quer ser lembrado?”. Sem entender muito bem como ela tinha chegado a essa conclusão, pedi-lhe para que me contasse um pouco mais sobre essa sua observação.

“Quando eu crescer, quero abrir um café. Acho triste passar pelo mundo sem deixar alguma coisa para as pessoas lembrarem da gente”. Mesmo sem saber ao certo de onde veio essa inspiração repentina, confesso que meu lado mãe-fã-número-um ficou super orgulhoso.

Indo além das paredes do meu apartamento, encontrar um propósito, através do qual se consiga, de fato, deixar sua marca no mundo – como sonha a Isadora –, ou ainda, conseguir um sentido para aquilo que se faz todos os dias, tornou-se um fenômeno que une de *tech-nerds* do Vale do Silício a profissionais dos mais variados cargos e salários pelo Brasil e o mundo. Obviamente, isso só é possível quando a base da Pirâmide de Maslow (lembra dela?) está muito bem estabelecida.

Nos EUA, existe até um nome para esse movimento: “The Great Resignation” ou “A Grande Demissão”. Segundo o U.S. Department of Labor, só no último mês de fevereiro, 4,4 milhões de americanos deixaram seus empregos formais. Os motivos para esses números vão do desejo de fazer mudanças drásticas na carreira à necessidade de largar a profissão para cuidar de crianças ou parentes idosos. Além de sintomas típicos dos tempos atuais, como o *burnout* e o sentimento de abismo existente entre o que as pessoas acreditam e os valores do seu empregador.

Os números não afirmam, categoricamente, qual é o principal fator para essa debandada de trabalhadores, mas uma coisa é certa: para milhões de pessoas ao redor do mundo, a pandemia veio para rever suas prioridades. A remuneração deixa de ser o fator decisivo para a permanência em um emprego, ganhando relevância questões que, há poucos anos, ficavam em segundo plano, como modelos híbridos e flexíveis de trabalho, tempo gasto em deslocamentos, equilíbrio maior entre vida pessoal x trabalho, e até mesmo afinidade com o propósito da empresa.

Para Ariana Huffington: “A Grande Demissão na verdade é uma Grande Reavaliação. O que as pessoas estão abandonando é uma cultura de esgotamento e uma definição quebrada de sucesso. Ao deixar seus empregos, as pessoas estão afirmando seu desejo por uma maneira diferente de trabalhar e viver”.

Conheci uma dessas histórias de perto, em um dos encontros mensais que organizo na empresa em que atuo como CEO. A ideia dos bate-papos é trazer novos repertórios para dentro da nossa rotina de trabalho, com convidados que, à primeira vista, não têm nada a ver com o nosso “core-business”, mas que ajudam imensamente a furar a bolha em que vivemos.

Um desses convidados foi uma enfermeira. Uma mulher muito culta, expansiva e encantadora que, no alto dos seus 30 anos, decidiu dar uma guinada em sua vida. Depois de um período sabático pela América Latina, decidiu abandonar uma carreira bem-sucedida na área do entretenimento e estudar enfermagem. Uma profissão com menos perspectivas financeiras, mas completamente alinhada com o seu chamado.

“Para alguns, hospital significa morte. Para mim, é sinônimo de vida”. Essa foi uma das frases ditas por ela que mais me impactou em seu depoimento, e que, por semanas, me fez refletir sobre sua história de coragem e seu olhar transformador.

Mas não espere respostas certas nos momentos certos. Cada um tem seu tempo e suas formas de encontrá-las. Sabemos tão pouco sobre nós. Por isso, investir seu tempo (que também é dinheiro) em coisas que ninguém pode tirar de você, como autoconhecimento, é a decisão mais sábia que você pode tomar. É um processo transformador, que envolve desconforto, mas que vai te colocar numa posição de maior controle das suas emoções.

Não passe uma vida inteira esperando algo que ninguém jamais poderá lhe oferecer.

E, se eu pudesse dar mais uma dica, seria: assim como no mercado financeiro, nunca invista todo seu patrimônio em só um ativo. Não fique esperando que o trabalho supra todas as suas necessidades. Encontre um *hobby*. Dedique-se a um trabalho voluntário. Seja mentor de um jovem aprendiz. Ou, então, coloque no papel um plano para daqui a 2 anos e persiga-o incansavelmente.

Talvez “A Grande Demissão” seja um movimento coletivo de pessoas querendo encontrar seu verdadeiro propósito aqui na Terra. Ou, talvez, uma oportunidade para que consigam usar suas histórias para dar sentido às próprias vidas. Mas também pode ser apenas o reflexo de dois anos

trancados em casa, e o desejo por uma mudança, seja ela qual for.

Na animação da Pixar “Viva – A Vida é uma Festa”, de que aliás, a Isadora é fã, é contada a história do “Dia de Los Muertos”, típica tradição mexicana de celebração aos que se foram. Diz-se que, após a morte de uma pessoa, ela vai para o mundo dos mortos e permanece lá apenas enquanto os vivos ainda se lembrarem dela. Quando for esquecida, aí, sim, será seu verdadeiro fim.

Não posso afirmar que veio daí a inspiração para a reflexão inicial da Isa, mas a conversa, que começou com uma questão existencial, terminou com: “Mãe, qual é o sentido da vida?”. Dei a última mordida no pão de queijo e respondi: “Isa, que tal fazermos um brigadeiro?”

*Luciana Rodrigues é CEO da Grey Brasil, conselheira do board da Junior Achievement, membro do conselho da Iniciativa Empresarial pela Igualdade Racial e do comitê estratégico de presidentes da Amcham.*

**Vocabulário:**

- *tech-nerds*: estudiosos de tecnologia.
- CEO: diretor executivo.
- *core-business*: negócios principais.
- *burnout*: síndrome de esgotamento mental no trabalho.
- *hobby*: passatempo, atividade para lazer.

RODRIGUES, Luciana. O que uma menina de 9 anos tem a nos ensinar sobre propósito? *Forbes Brasil*, 06 de abril de 2022. Colunas. Disponível em: <https://forbes.com.br/coluna/2022/04/luciana-rodrigues-o-que-uma-menina-de-9-anos-tem-a-nos-ensinar-sobre-proposito/>.

### QUESTÃO 01

Qual das expressões a seguir representa mais precisamente o tema do texto de Luciana Rodrigues?

- (A) Crises existenciais em debate.
- (B) Objetivos de carreira e de vida.
- (C) Conversas entre pais e filhos.
- (D) “A Grande Demissão” em detalhes.
- (E) Efeitos das animações nas crianças.

### QUESTÃO 02

Por “uma das despreziosas conversas” (1º parágrafo), entende-se que a autora

- (A) fazia reflexões sobre a vida com sua filha.
- (B) lamentava sobre o tédio da sua filha.
- (C) conversava trivialidades com sua filha.
- (D) salientava a postura ética de sua filha.
- (E) elogiava os dotes culinários de sua filha.

### QUESTÃO 03

No sexto parágrafo, a autora menciona uma fala de Ariana Huffington em que há a expressão “definição quebrada de sucesso”. Tal expressão quer dizer

- (A) sucesso profissional que preza pela quebra de expectativas do empregador a todo momento.
- (B) sucesso pessoal cujos esforços se espalham para o ambiente profissional, quebrando os limites entre as áreas.
- (C) sucesso escolar e acadêmico que não leva em consideração os desejos profissionais reais do estudante.
- (D) sucesso profissional que não leva em consideração eventuais prejuízos à vida do trabalhador.
- (E) sucesso pessoal que preza pela quebra das expectativas dos familiares em relação ao papel do indivíduo na empresa.

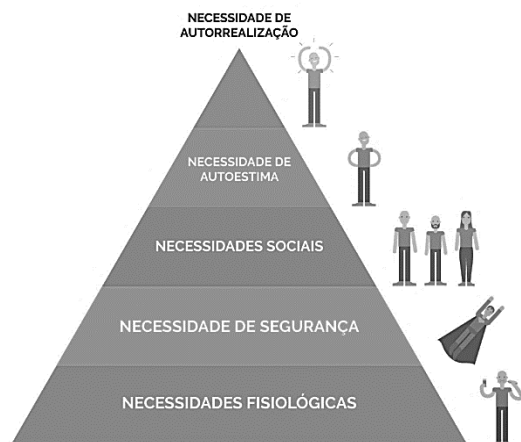
### QUESTÃO 04

O movimento denominado “A Grande Demissão”, segundo o que foi citado pela autora, diz respeito

- (A) à mudança de profissão requisitada por muitas pessoas que desejam cuidar mais de seus parentes.
- (B) à mudança de profissão a que muitas pessoas procedem visando a uma maior dedicação a atividades de lazer.
- (C) à demissão requisitada pelas pessoas que querem mudar algum aspecto na vida profissional e/ou pessoal.
- (D) à mudança de profissão a que muitas pessoas procedem devido à incompatibilidade de horários.
- (E) à demissão em massa de profissionais que não têm disponibilidade total para as grandes empresas.

**QUESTÃO 05**

Analise a ilustração a seguir, a qual diz respeito à chamada Pirâmide de Maslow (ou Teoria da Hierarquia das Necessidades Humanas).



“[...] Essa teoria apresenta de forma simples, porém muito verdadeira, que há uma divisão hierárquica nas necessidades do ser humano. [...]”

Disponível em: <https://www.linkedin.com/pulse/por-que-pir%C3%A2mide-de-maslow-%C3%A9-t%C3%A3o-atual-fabiano-goldacker/>.

Após observar a ilustração apresentada, torna-se possível afirmar que a autora citou essa hierarquia em seu texto (3º parágrafo), pois

- (A) os propósitos profissionais da base da pirâmide não têm valor se os valores hierárquicos superiores de Maslow não forem alcançados primeiro.
- (B) não é possível que o profissional alcance as necessidades de autorrealização e de autoestima se ele não se dedicar o suficiente para suprir suas necessidades sociais.
- (C) o trabalho com propósitos relacionados ao topo da hierarquia de Maslow só é possível se o indivíduo não depende do trabalho unicamente para suprir as necessidades da base da pirâmide.
- (D) não é possível que o indivíduo alcance as necessidades básicas no trabalho se ele não se esforçar o suficiente para se autorrealizar e para elevar a autoestima em relação às necessidades sociais.
- (E) o trabalho com propósitos relacionados à base da pirâmide de Maslow só é possível se o indivíduo não depende do trabalho unicamente para suprir as necessidades do topo da hierarquia.

**QUESTÃO 06**

No oitavo parágrafo do texto, a autora menciona o caso de uma mulher que resolveu “dar uma guinada em sua vida”. Conforme se percebe nesse parágrafo, o termo “guinada” quer dizer

- (A) prejuízos no comportamento pessoal em razão do lado profissional.
- (B) mudança de vida profissional que preza pela autonomia.
- (C) mudança de comportamento profissional em benefício do cliente.
- (D) alteração na vida pessoal em prol do cuidado com pacientes.
- (E) mudança radical de estilo de vida e/ou de profissão.

**QUESTÃO 07**

Segundo o texto, investir no autoconhecimento é uma decisão sábia (10º parágrafo) porque é algo que

- (A) permanece eternamente com a pessoa que nele investiu.
- (B) auxilia o indivíduo a se manter mentalmente saudável.
- (C) permite ao ser humano saber mais sobre a profissão dos sonhos.
- (D) transfere ao indivíduo a responsabilidade de seus atos.
- (E) permite às pessoas serem mais empáticas com o próximo.

---

**QUESTÃO 08**

---

No fragmento “A ideia dos bate-papos é trazer novos repertórios para dentro da nossa rotina de trabalho, com convidados que, à primeira vista, não têm nada a ver com o nosso ‘core-business’, mas que ajudam imensamente a furar a bolha em que vivemos.” (7º parágrafo), a expressão em destaque

(A) é denotativa, pois diz respeito ao local físico em que a autora vive.

(B) é conotativa, visto que trata da descrição de um espaço físico em que há a convivência de trabalhadores.

(C) é denotativa, uma vez que caracteriza o espaço abstrato em que os funcionários da empresa convivem.

(D) é conotativa, pois diz respeito ao modo limitado de viver e de trabalhar dos colaboradores da empresa.

(E) é denotativa, visto que trata da descrição de um espaço físico em que os diretores da empresa se reúnem.

---

**QUESTÃO 09**

---

No trecho “Em uma das despreziosas conversas que tive com a Isadora, minha filha de 9 anos, ela soltou, como quem não quer nada: ‘Sabia que todo mundo quer ser lembrado?’.” (1º parágrafo), as vírgulas foram usadas para isolar a estrutura sublinhada porque ela é

(A) um vocativo.

(B) um advérbio extenso deslocado.

(C) um termo em elipse.

(D) um termo em uma enumeração.

(E) um aposto explicativo.

---

**QUESTÃO 10**

---

No 12º parágrafo do texto, devido ao tópico tratado pela autora, há o predomínio de um modo verbal. Esse modo é o

(A) indicativo.

(B) subjuntivo.

(C) imperativo.

(D) infinitivo.

(E) gerundivo.

---

**QUESTÃO 11**

---

Analise as proposições a seguir, cuja temática é o uso das aspas no texto de Luciana Rodrigues.

I. No 1º, no 2º, no 9º e no último parágrafo, as aspas foram utilizadas para sinalizar falas em discurso indireto.

II. No 7º parágrafo, as aspas foram inseridas para marcar um estrangeirismo dentro do texto.

III. No penúltimo parágrafo, as aspas foram empregadas para sinalizar títulos dados a uma produção artística e a uma festa popular.

Está(ão) correta(s)

(A) apenas a I.

(B) apenas a II.

(C) apenas a III.

(D) a II e a III.

(E) a I, a II e a III.

---

**QUESTÃO 12**

---

Em “Obviamente, isso só é possível quando a base da Pirâmide de Maslow (lembra dela?) está muito bem estabelecida.” (3º parágrafo), as letras maiúsculas foram empregadas, respectivamente, para indicar

(A) dois substantivos próprios.

(B) uma palavra que inicia uma sentença e uma expressão substantiva própria.

(C) duas palavras que iniciam sentenças.

(D) um substantivo próprio e uma palavra que inicia uma sentença.

(E) um substantivo comum e uma expressão substantiva própria.

**QUESTÃO 13**

No trecho “A ideia dos **bate-papos** é trazer novos repertórios para dentro da nossa rotina de trabalho [...]”, o plural do substantivo composto assinalado se justifica da forma que ele foi feito, pois

- (A) a primeira palavra é um verbo, que não recebe plural em –s, e a segunda é um pronome, que apresenta plural em –s.
- (B) ambas as palavras são verbos, portanto o plural é marcado apenas em um deles.
- (C) a primeira palavra é um verbo, que não recebe plural em –s, e a segunda é um substantivo, que apresenta plural em –s.
- (D) ambas as palavras são substantivos, portanto o plural é marcado em apenas um deles.
- (E) a primeira palavra é um advérbio, que não se flexiona, e a segunda é um adjetivo, que recebe plural em –s.

**QUESTÃO 14**

Assinale a alternativa em que o conectivo destacado exerce, no texto de Luciana Rodrigues, a função indicada entre os colchetes.

- (A) “[...] investir seu tempo (que também é dinheiro) em coisas que ninguém pode tirar de você, **como**<sub>[exemplificação]</sub> autoconhecimento, é a decisão mais sábia que você pode tomar.”
- (B) “E, se eu pudesse dar mais uma dica, seria: **assim como**<sub>[condição]</sub> no mercado financeiro, nunca invista todo seu patrimônio em só um ativo.”
- (C) “Obviamente, isso só é possível **quando**<sub>[concessão]</sub> a base da Pirâmide de Maslow (lembra dela?) está muito bem estabelecida.”
- (D) “Talvez ‘A Grande Demissão’ seja um movimento coletivo de pessoas querendo encontrar seu verdadeiro propósito aqui na Terra. **Ou**<sub>[exclusão]</sub>, talvez, uma oportunidade para que consigam usar suas histórias para dar sentido às próprias vidas.”
- (E) “**Mesmo**<sub>[igualdade]</sub> sem saber ao certo de onde veio essa inspiração repentina, confesso que meu lado mãe-fã-número-um ficou super orgulhoso.”

**QUESTÃO 15**

A palavra “mãe-fã-número-um” (2º parágrafo) foi criada pela autora a partir do processo de formação de palavras denominado

- (A) derivação parassintética.
- (B) derivação regressiva.
- (C) derivação imprópria.
- (D) composição por aglutinação.
- (E) composição por justaposição.

**MATEMÁTICA/RACIOCÍNIO LÓGICO****QUESTÃO 16**

Analise as afirmativas abaixo:

- I- Toda fração é um número real.
- II- Nenhum número decimal também é um número real.
- III- O conjunto dos números reais só contém os números inteiros, ou seja, não contém os números naturais.
- IV- O conjunto dos números reais é formado pela união entre o conjunto dos números racionais e o dos números irracionais.

Está(ão) correta(s):

- (A) I, apenas.
- (B) II e III.
- (C) I e IV.
- (D) II, III e IV.
- (E) I, II, III e IV.

**QUESTÃO 17**

Uma jarra de suco possui as seguintes medidas: 15 cm de comprimento, 200 mm de altura e 1 dm de largura. Dessa forma, é correto afirmar:

- (A) Se apenas  $\frac{2}{3}$  estiver preenchido, a jarra terá 1 litro de suco.
- (B) Se a jarra estiver totalmente cheia ela comportará 450 cm<sup>3</sup> de suco.
- (C) É possível encher 15 copos de 250 ml de suco com apenas uma jarra.
- (D) A área da base dessa jarra é de 150 cm<sup>2</sup>
- (E) Possui capacidade para 2,5 litros de suco

**QUESTÃO 18**

Pedro está cursando o 2º ano do Ensino Médio e tirou as seguintes notas na disciplina de matemática:

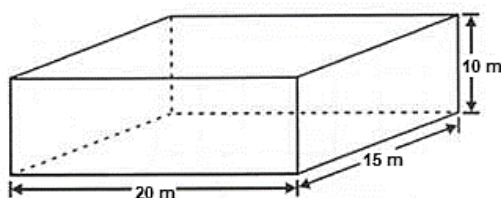
- 1º trimestre: 6,5 pontos
- 2º trimestre: 7,0 pontos

Dessa forma, para que Pedro obtenha média acima de 6,0 pontos nessa matéria, a nota que ele precisa obter no 3º trimestre é igual a:

- (A) 4,0
- (B) 4,5
- (C) 5,0
- (D) 5,5
- (E) 6,0

**QUESTÃO 19**

Bernardo construiu um reservatório de água com as seguintes medidas:

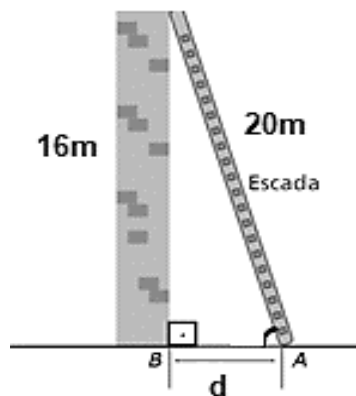


Sobre esse reservatório, é correto afirmar que:

- (A) A capacidade total de água é de 3000 litros.
- (B) A área da base é de 300 m<sup>2</sup>.
- (C) O perímetro da base é de 80m
- (D) É um prisma de base triangular
- (E) A profundidade mede 100cm

**QUESTÃO 20**

Augusto deseja instalar uma cerca de proteção em cima do muro de sua casa. Esse muro possui 16 metros de altura e a escada utilizada por ele possui 20 metros de extensão, conforme o esquema abaixo:



Desse modo, a quantos metros de distância do muro ele deve apoiar essa escada?

- (A) 5 m
- (B) 9 m
- (C) 12 m
- (D) 15 m
- (E) 18 m

**QUESTÃO 21**

Em uma rodoviária saem três ônibus, Amarelo, Azul e Branco. Num determinado dia, os três saíram juntos as 6 horas da manhã. Se os ônibus retornam a rodoviária a cada 20, 30 e 40 minutos, respectivamente, qual será o primeiro horário, após as 6 horas da manhã, em que esses ônibus partirão juntos novamente?

- (A) 7 horas
- (B) 7 horas e 20 minutos
- (C) 8 horas
- (D) 8 horas e 40 minutos
- (E) 9 horas

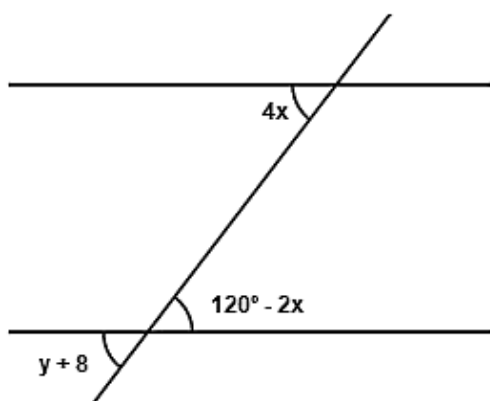
**QUESTÃO 22**

Sobre ângulos, assinale aquilo que for correto.

- (A) É chamado de raso o ângulo que possui medida igual a  $90^\circ$
- (B) É chamado de reto o ângulo que possui medida igual  $180^\circ$
- (C) Dois ângulos são complementares quando a sua soma for igual a  $360^\circ$
- (D) Dois ângulos são replementares quando a sua soma for igual a  $180^\circ$
- (E) Um ângulo é classificado como agudo quando a sua medida for menor do que  $90^\circ$

**QUESTÃO 23**

Considere as retas paralelas cortadas por uma transversal abaixo:



Os valores de  $x$  e  $y$ , respectivamente, são:

- (A)  $20^\circ$  e  $72^\circ$
- (B)  $12^\circ$  e  $60^\circ$
- (C)  $52^\circ$  e  $20^\circ$
- (D)  $72^\circ$  e  $20^\circ$
- (E)  $60^\circ$  e  $52^\circ$

**QUESTÃO 24**

Uma fábrica de biscoitos produz 150 pacotes por dia e possui 25 funcionários. Com o objetivo de ampliar a produção para 450 pacotes, quantos funcionários devem ser contratados?

- (A) 15
- (B) 20
- (C) 25
- (D) 50
- (E) 75

**QUESTÃO 25**

Ana pediu um empréstimo de R\$ 320000,00 para comprar seu apartamento. O valor deve ser totalmente quitado ao final de 24 meses. Considerando que a taxa de juros simples aplicada foi de 12% ao mês, o valor dos juros que ela irá pagar é de:

- (A) R\$ 76800
- (B) R\$ 460800
- (C) R\$ 921600
- (D) R\$ 7680000
- (E) R\$ 92160000


**QUESTÃO 26**

Na casa de Fernanda há duas torneiras. A primeira enche um tanque em 4 horas, e a segunda enche esse mesmo tanque em 8 horas. Dessa forma, o tempo aproximado que as duas torneiras levariam para encher juntas esse tanque é de:

- (A) 1 hora e 6 minutos
- (B) 1 hora e 36 minutos
- (C) 2 horas e 6 minutos
- (D) 2 horas e 36 minutos
- (E) 2 horas e 46 minutos

**QUESTÃO 27**

A figura abaixo representa a planificação de um sólido geométrico.



Sobre esse sólido, é possível afirmar que:

- (A) É um prisma de base triangular
- (B) Possui 15 arestas
- (C) É formado por 6 triângulos
- (D) Possui 10 vértices
- (E) É uma pirâmide de base pentagonal

**QUESTÃO 28**

Uma professora de matemática passou o seguinte problema para seus alunos resolverem:

“Hoje a minha idade é o dobro da idade que você tinha quando eu tinha a idade que você tem. Quando você tiver a idade que eu tenho hoje, a soma de nossas idades será igual a 18 anos. Qual é a minha idade atual?”

Dessa forma, é correto afirmar que a solução desse problema é:

- (A) 2 anos
- (B) 4 anos
- (C) 6 anos
- (D) 8 anos
- (E) 10 anos

**QUESTÃO 29**

Carol deseja comprar uma bolsa que custa R\$ 180,00. Ao chegar na loja, ela percebeu que havia sido anunciado uma promoção com desconto de 12% em todos os produtos. Dessa forma, quanto Carol pagou nessa bolsa?

- (A) 154,00
- (B) 158,40
- (C) 162,40
- (D) 178,00
- (E) 216,00

**QUESTÃO 30**

Júlia quer comprar um computador que custa R\$ 2680,00 à vista. Para realizar o pagamento, ela decide pagar uma entrada de R\$ 1800,00, mais uma parcela do mesmo valor com 30 dias de prazo. Nesse sentido, a taxa de juros simples mensal aproximada que foi aplicada nessa operação é de:

- (A) 21%
- (B) 28%
- (C) 34%
- (D) 40%
- (E) 45%

**NOÇÕES DE INFORMÁTICA  
QUESTÃO 31**

Assinale a alternativa que permite que o usuário refaça a última ação desfeita por meio do CTRL+Z no MS-Word 2016.

- (A) CTRL+Y.
- (B) CTRL+X.
- (C) CTRL+ESC.
- (D) CTRL+V.
- (E) CTRL+C.



**QUESTÃO 32**

Qual tecla permite a atualização de uma página da internet?

- (A) F5.
- (B) F3.
- (C) F10.
- (D) CTRL.
- (E) ALT.

**QUESTÃO 33**

Das alternativas abaixo, selecione a que permite a formatação de números simples para a sua representação em reais, no Excel.

- (A) CTRL+SHIFT+R\$.
- (B) CTRL+SHIFT+.\$.
- (C) CTRL+R\$.
- (D) SHIFT+REAIS.
- (E) SHIFT+R\$.

**QUESTÃO 34**

Na área de transferência do Windows 7:

- (A) Pode-se copiar ou recortar um item por vez.
- (B) Se copiado, o item não pode ser colado quantas vezes o usuário desejar.
- (C) Não existem atalhos para as operações.
- (D) Se um arquivo for recortado, ele poderá ser colado mais de uma vez.
- (E) Pode-se copiar ou recortar mais de um item por vez.

**QUESTÃO 35**

Máquina de busca, mecanismo de busca ou buscador é um website especializado em buscar e listar páginas da internet a partir de palavras-chave indicadas pelo utilizador. Marque a alternativa que represente uma Máquina de busca.

- (A) Google.
- (B) Mozilla Firefox.
- (C) Opera.
- (D) Google Chrome.
- (E) Browser.

**CONHECIMENTOS ESPECÍFICOS****QUESTÃO 36**

Com base nas normas de direito administrativo em vigor, marque a alternativa que corresponda ao conceito abaixo transcrito:

"refere-se à extinção decorrente da inexecução total ou parcial do contrato de concessão."

- (A) cassação.
- (B) recusa.
- (C) anulação.
- (D) revogação.
- (E) caducidade.

**QUESTÃO 37**

A autoexecutoriedade dos atos administrativos possui como característica:

- (A) execução dos atos administrativos por meios próprios afastando o controle judicial posterior.
- (B) a imposição dos atos administrativos a terceiros por meio de ato judicial.
- (C) a execução das decisões administrativas por meios coercitivos próprios, sem a necessidade da interferência dos demais poderes.
- (D) garantir a veracidade das informações indicadas em certidões, atestados e declarações emanadas da administração pública.
- (E) garantia de anulação de seus próprios atos quando eivados de vícios sem a necessidade de interferência dos demais poderes.

**QUESTÃO 38**

A licitação destina-se a garantir a observância do princípio constitucional da isonomia, a seleção da proposta mais vantajosa para a administração e a promoção do desenvolvimento nacional sustentável e será processada e julgada em estrita conformidade com os seguintes princípios básicos, EXCETO:

- (A) Princípio da impessoalidade.
- (B) Princípio da anterioridade.
- (C) Princípio da vinculação ao instrumento convocatório.
- (D) Princípio do julgamento objetivo.
- (E) Princípio da moralidade.

---

**QUESTÃO 39**

---

Considerando as espécies de atos administrativos, são denominados ordinatórios, EXCETO:

- (A) Circulares.
- (B) Ofícios.
- (C) Instruções.
- (D) Deliberações.
- (E) Despachos.

---

**QUESTÃO 40**

---

Nos termos da Lei 8.666/93, marque a alternativa que complete corretamente a seguinte assertiva:

“As margens de preferência por produto, serviço, grupo de produtos ou grupo de serviços, serão definidas pelo Poder Executivo federal, não podendo a soma delas ultrapassar o montante de \_\_\_\_\_ sobre o preço dos produtos manufaturados e serviços estrangeiros.”

- (A) 20% (vinte) por cento.
- (B) 30% (trinta) por cento.
- (C) 45% (quarenta e cinco) por cento.
- (D) 15% (quinze) por cento.
- (E) 25% (vinte e cinco) por cento.

---

**QUESTÃO 41**

---

Nos moldes da legislação em vigor, as obras e serviços poderão ser executados nas seguintes modalidades, EXCETO:

- (A) execução direta.
- (B) tarefa.
- (C) empreitada por preço unitário.
- (D) empreitada direta.
- (E) empreitada por preço global.

---

**QUESTÃO 42**

---

Nos termos definidos pela Lei Federal nº 10.520/02, quem, convocado dentro do prazo de validade da sua proposta, não celebrar o contrato, deixar de entregar ou apresentar documentação falsa exigida para o certame, ensejar o retardamento da execução de seu objeto, não mantiver a proposta, falhar ou fraudar na execução do contrato, comportar-se de modo inidôneo ou cometer fraude fiscal, ficará impedido de licitar e contratar com a União, Estados, Distrito Federal ou Municípios e, será descredenciado do seguinte sistema:

- (A) SIGA - Sistema Integrado de Gestão de Aquisições.
- (B) SICAF - Sistema de Cadastramento Unificados de Fornecedores.
- (C) SPP - Sistema de Pregão Presencial.
- (D) SIASG - Sistema de Administração de Serviços Gerais.
- (E) PCP - Portal de Compras Públicas.

---

**QUESTÃO 43**

---

São denominados como atos administrativos enunciativos, EXCETO:

- (A) Atestados.
- (B) Certidões.
- (C) Apostilas.
- (D) Autorização.
- (E) Pareceres.

---

**QUESTÃO 44**

---

Com base nas definições apresentadas pela Lei nº 8.666/93, são modalidades de licitação, EXCETO:

- (A) concurso.
- (B) empreitada.
- (C) leilão.
- (D) tomada de preços.
- (E) convite.

---

**QUESTÃO 45**

---

Prevê a Lei Federal nº 10.520/02 que na ocasião em que o quantitativo total estimado para a contratação ou fornecimento não puder ser atendido pelo licitante vencedor, admitir-se-á a convocação de tantos licitantes quantos forem necessários para o atingimento da totalidade do quantitativo, respeitada a ordem de classificação, desde que:

- (A) os licitantes firmem termo de adesão em até 60 (sessenta) dias.
- (B) autorizado pelo Ministério Público competente para fiscalizar a respectiva licitação.
- (C) autorizado pela respectiva Procuradoria do ente público por meio de parecer jurídico.
- (D) autorizado pelo Poder Judiciário atuante na esfera do ente público realizador da licitação.
- (E) os referidos licitantes aceitem praticar o mesmo preço da proposta vencedora.

---

**QUESTÃO 46**

---

Considerando as normas estabelecidas pela Lei nº 8.666/93, marque a alternativa que contemple a correta definição do conceito abaixo transcrito:

"quando se contrata um empreendimento em sua integralidade, compreendendo todas as etapas das obras, serviços e instalações necessárias, sob inteira responsabilidade da contratada até a sua entrega ao contratante em condições de entrada em operação, atendidos os requisitos técnicos e legais para sua utilização em condições de segurança estrutural e operacional e com as características adequadas às finalidades para que foi contratada"

- (A) empreitada por preço global.
- (B) empreitada integral.
- (C) empreitada por preço unitário.
- (D) execução indireta.
- (E) projeto integral.

---

**QUESTÃO 47**

---

No tocante as espécies de atos administrativos, são denominados normativos, EXCETO:

- (A) Portarias.
- (B) Decretos.
- (C) Deliberações.
- (D) Resoluções.
- (E) Regimentos.

---

**QUESTÃO 48**

---

Conforme previsão legal, nos processos de licitação é possível estabelecer critérios específicos de desempate. Dentre os seguintes critérios listados, marque a alternativa que não seja contemplada pela legislação em vigor:

- (A) bens ou serviços produzidos no País.
- (B) produzidos ou prestados por empresas que invistam em pesquisa e no desenvolvimento de tecnologia no País.
- (C) produzidos ou prestados por empresas brasileiras.
- (D) produzidos ou prestados por empresas que possuam domicílio ou sede mais próxima do local da contratação.
- (E) produzidos ou prestados por empresas que comprovem cumprimento de reserva de cargos prevista em lei para pessoa com deficiência.

---

**QUESTÃO 49**

---

Nos projetos básicos e projetos executivos de obras e serviços serão considerados principalmente, conforme determinação legal, os seguintes requisitos, EXCETO:

- (A) impacto ambiental.
- (B) segurança.
- (C) funcionalidade e adequação ao interesse público.
- (D) economia na execução, conservação e operação.
- (E) sede ou domicílio da empresa no local da execução da obra ou prestação do serviço.

---

**QUESTÃO 50**

---

Considerando as normas estabelecidas pela Lei nº 8.666/93, marque a alternativa que contemple a correta definição do conceito abaixo transcrito:

"toda atividade destinada a obter determinada utilidade de interesse para a Administração, tais como: demolição, conserto, instalação, montagem, operação, conservação, reparação, adaptação, manutenção, transporte, locação de bens, publicidade, seguro ou trabalhos técnico-profissionais."

- (A) Serviços Nacionais.
- (B) Tarefa.
- (C) Obra.
- (D) Serviço.
- (E) Alienação.