



Prefeitura Municipal de Mangaratiba

TÉCNICO ADMINISTRATIVO

CÓDIGO: TAD36

CADERNO: 1

LEIA COM ATENÇÃO AS INSTRUÇÕES

- 1- A duração das provas será de **4 (quatro) horas**, já incluído o tempo de preenchimento do Cartão de Respostas.
- 2- O candidato que, na primeira hora de prova, se ausentar da sala e a ela não retornar, será eliminado.
- 3- Os 3 (três) últimos candidatos a terminar a prova deverão permanecer na sala até que todos tenham finalizado suas provas e somente poderão sair juntos do recinto, após aposição em ata de suas respectivas assinaturas.
- 4- O candidato **NÃO** poderá levar o **seu Caderno de Questões (Provas Objetivas) e NÃO poderá copiar o gabarito (assinalamentos)**. A imagem do seu **Cartão de Respostas** será disponibilizada na página do concurso em <http://concursos.biorio.org.br> na data prevista no cronograma.

INSTRUÇÕES - PROVA OBJETIVA

- 1- Confira atentamente se este Caderno de Questões (Provas), que contém **50 (cinquenta) questões objetivas**, está completo.
- 2- Cada questão da Prova Objetiva conterà **5 (cinco) opções** e somente uma correta.
- 3- Confira **se os seus dados pessoais**, o cargo escolhido, indicados no **cartão de respostas**, estão corretos. Se notar qualquer divergência, notifique imediatamente ao Fiscal de Sala ou ao Chefe de Local. Terminada a conferência, você deve assinar o **cartão de respostas** no espaço apropriado.
- 4- Confira atentamente se o **cargo** e o **número do caderno** que estão no caderno de questões é o mesmo do que consta em **seu cartão de respostas e na etiqueta com seus dados colada na mesa/cadeira onde foi designado para sentar**. Se notar qualquer divergência, notifique imediatamente ao Fiscal de Sala ou ao Chefe de Local.
- 5- Cuide de seu **cartão de respostas**. Ele não pode ser rasurado, amassado, dobrado nem manchado.
- 6- Se você marcar mais de uma alternativa, sua resposta será considerada errada mesmo que uma das alternativas indicadas seja a correta.
- 7- O fiscal de sala não poderá prestar qualquer esclarecimento sobre o conteúdo da prova. Caso discorde de qualquer questão o candidato deverá entrar com recurso administrativo contra as questões na data prevista no cronograma.

AGENDA

- **23/01 (tarde) e 24/01/2016** (Manhã e Tarde), Provas Objetivas.
- **25/01/2016**, Divulgação dos Exemplos dos Cadernos de Questões (Provas) das Provas Objetivas.
- **25/01/2016**, Divulgação dos Gabaritos Preliminares das Provas Objetivas.
- **27/01/2016**, Disponibilização das Imagens dos Cartões Respostas das Provas Objetivas.
- **28/01 e 29/01/2016**, Interposição de Recursos contra as questões das Provas Objetivas.
- **28/01 e 29/01/2016**, Interposição de Recursos contra as questões das Provas Discursivas.
- **16/02/2016**, Divulgação dos Gabaritos Definitivos das Provas Objetivas.
- **16/02/2016**, Relação Final de Notas das Provas Objetivas.
- **23/02/2016**, Relação Final de Notas das Provas Objetivas.
- **24/02 e 25/02/2016**, Interposição de Recursos contra as Notas Preliminares das Provas Discursivas.
- **20/02 e/ou 21/02/2016**, Prova Prática.
- **24/02 e 25/02/2016**, Interposição de Recursos contra as Notas Preliminares das Provas Discursivas.
- **23/02 e 24/02/2016**, Interposição de Recursos contra as Notas Preliminares das Provas Práticas.
- **03/03/2016**, Resultado Final.

**PREFEITURA
MANGARATIBA**
Trabalhando sem parar!



INFORMAÇÕES:

- Tel: (21) 3525-2480 das 09 às 18h
- Internet: <http://concursos.biorio.org.br>
- E-mail: mangaratiba2015@biorio.org.br

LÍNGUA PORTUGUESA

Observe a charge a seguir; as três próximas questões se referem a ela:



QUESTÃO 1

O tema principalmente abordado na charge é a crítica:

- (A) à atuação da Polícia Federal.
- (B) ao recesso do Congresso Nacional.
- (C) à hipocrisia religiosa.
- (D) à corrupção dos políticos.
- (E) à falta de dedicação aos eleitores.

QUESTÃO 2

Sobre a frase central da charge, a seguinte afirmação é INADEQUADA:

- (A) segue uma estrutura de discurso religioso.
- (B) dirige-se diretamente a Deus.
- (C) representa o arrependimento do grupo.
- (D) mostra preocupação da classe política.
- (E) indica um desejo de todos.

QUESTÃO 3

O estandarte pendurado na parede alude:

- (A) à aproximação do Carnaval.
- (B) à presença do erotismo no Reveillon.
- (C) à grande quantidade de dinheiro gasto inutilmente.
- (D) ao tema predominante na política brasileira.
- (E) a um episódio famoso de corrupção.

QUESTÃO 4

Uma frase de Mark Twain diz o seguinte: “A sorte bate em cada porta uma vez na vida, mas, em muitos casos, a pessoa está se divertindo por aí e não a ouve”. Sobre a linguagem da frase, a afirmativa adequada é:

- (A) a expressão “por aí” pertence à linguagem coloquial.
- (B) o trecho “a sorte bate em cada porta” exemplifica uma metáfora.

- (C) o vocábulo “uma” é exemplo de artigo indefinido.
- (D) em “não a ouve”, o termo “a” se refere à porta.
- (E) a vírgula antes da conjunção “mas” está erradamente empregada.

QUESTÃO 5

Na frase de Mark Twain, “a pessoa que está se divertindo por aí” representa:

- (A) o jovem irresponsável.
- (B) a pessoa desatenta.
- (C) o pecador contumaz.
- (D) o cidadão desleixado.
- (E) a vítima casual.

QUESTÃO 6

A frase abaixo em que o termo sublinhado exemplifica um caso de uso obrigatório do artigo definido é:

- (A) “Aqueles para quem a roupa é a parte mais importante da pessoa acabam, geralmente, por valer tanto quanto a sua roupa”. (Hazlitt)
- (B) “Antes ser um oportunista e boiar do que afundar com meus princípios em volta do meu pescoço”. (Stanley Baldwin)
- (C) “Eis aqui um teste para verificar se a sua missão na Terra está cumprida: se você está vivo, não está”. (Richard Bach)
- (D) “A consciência das nossas forças as aumentam”. (Marquês de Vauvernagues)
- (E) “Há anos não se altera a ordem dos dias da semana”. (Nouailles)

QUESTÃO 7

Na frase “Uma vez que somos destinados a viver nossas vidas na prisão de nossas mentes, nosso dever é mobiliá-las bem”. (Peter Ustinov), o termo sublinhado se refere a:

- (A) nossas vidas.
- (B) prisão.
- (C) nossas mentes.
- (D) dever.
- (E) viver nossas vidas.

QUESTÃO 8

A frase em que a palavra coisa, independentemente das demais alterações, foi substituída de forma inadequada é:

- (A) “Eu não posso dizer se livros me trazem mais perto das coisas ou me distanciam delas”. (Edward Dahlberg) / realidade.
- (B) “As coisas mais belas são as que a loucura sopra e que a razão escreve”. (André Gide) / pensamentos.
- (C) “Ensinar como viver com incerteza, mas sem ser paralisado pela hesitação, é talvez a principal coisa que a filosofia pode fazer”. (Bertrand Russell) / teoria.
- (D) “Sempre tente fazer as coisas em ordem cronológica”. (anônimo) / ações.
- (E) “Artista é alguém que produz coisas que as pessoas não precisam ter”. (Andy Warhol) / obras.

QUESTÃO 9

A frase cujo valor semântico do conector sublinhado está corretamente indicado é:

- (A) "O homem está pronto para morrer por uma ideia desde que a ideia não esteja bastante clara para ele". (Paul Eldridge) / condição.
 (B) "Realidade é apenas uma ilusão, ainda que muito persistente". (Einstein) / adversidade.
 (C) "Uma vez que somos destinados a viver nossas vidas na prisão de nossas mentes, nosso dever é mobilá-las bem". (Peter Ustinov) / tempo.
 (D) "Amanhã pode chover, assim eu seguirei o sol". (Beatles) / modo.
 (E) "Algumas pessoas fazem planos tão completos para dias chuvosos, que não aproveitam o dia ensolarado de hoje". (William Feather) / causa.

QUESTÃO 10

Na frase "A felicidade é um agora sem nenhuma pressa." (Adriana Falcão) a palavra destacada é um exemplo de derivação imprópria ou conversão, pois mudou sua classe de palavra:

- (A) de adjetivo para substantivo.
 (B) de substantivo para advérbio.
 (C) de substantivo para adjetivo.
 (D) de advérbio para substantivo.
 (E) de advérbio para adjetivo.

RACIOCÍNIO LÓGICO**QUESTÃO 11**

Observe a sequência: 542, 533, 523, 512, 500, ... O próximo termo é:

- (A) 486
 (B) 487
 (C) 488
 (D) 489
 (E) 490

QUESTÃO 12

Carlota diz a você: "Joaquina só fala a verdade"; Joaquina imediatamente diz: "Isso é mentira!". Você então conclui que:

- (A) o que Carlota disse pode ser verdade.
 (B) o que Carlota disse é verdade.
 (C) o que Joaquina disse é verdade.
 (D) Joaquina e Carlota mentiram.
 (E) Joaquina e Carlota disseram a verdade.

QUESTÃO 13

A negação de "Orlando fala alemão ou holandês" é:

- (A) Orlando não fala alemão.
 (B) pode ser que Orlando fale alemão e não fale holandês.
 (C) pode ser que Orlando fale holandês e não fale alemão.
 (D) Orlando não fala alemão nem holandês.
 (E) Orlando fala alemão e holandês.

QUESTÃO 14

No quadro a seguir, em cada linha, o número exibido na terceira coluna foi obtido a partir dos da primeira e segunda linhas usando-se uma mesma regra.

3	5	64
9	1	100
2	2	16
4	?	121

Se a mesma regra foi usada na quarta linha, então a interrogação substitui o seguinte número:

- (A) 5
 (B) 6
 (C) 7
 (D) 8
 (E) 9

QUESTÃO 15

As idades de quatro amigos são tais que o último a nascer tem 22 anos, e o primeiro a nascer, 25. Assim, a soma das idades dos quatro pode ser igual a:

- (A) 94, apenas.
 (B) 93 e 94, apenas.
 (C) 91 e 92, apenas.
 (D) 91, 92 e 94, apenas.
 (E) 91, 92, 93 e 94.

QUESTÃO 16

Se NÃO é verdade que, naquele clube, todo sócio é casado, então:

- (A) ao menos um sócio não é casado.
 (B) todos os sócios não são casados.
 (C) nenhum sócio é casado.
 (D) todos os sócios são solteiros.
 (E) alguns sócios são casados.

QUESTÃO 17

Uma “capicua” é um número que lido de trás para frente é igual ao número original. Por exemplo, 131, 444 e 2552 são “capicuas”, 2342 não é. A quantidade de “capicuas” de três algarismos que podem ser formadas usando-se apenas os algarismos 6, 7 e 8 é igual a:

- (A) 6
- (B) 8
- (C) 9
- (D) 16
- (E) 20

QUESTÃO 18

Manuela começou uma coleção de estampas há seis meses, com apenas uma estampa. No mês seguinte, ela incorporou mais uma estampa, no mês seguinte, mais duas, e assim por diante, ou seja, ela tem dobrado o tamanho de sua coleção a cada mês. Este mês ela já dobrou sua coleção. Para dobrar o tamanho da coleção no mês que vem, Manuela terá de conseguir a seguinte quantidade de novas estampas:

- (A) 8
- (B) 16
- (C) 32
- (D) 64
- (E) 128

QUESTÃO 19

Sempre que vai à quadra da escola de samba, Miguel toma água de coco. Ontem Miguel não foi à quadra. Nesse caso, avalie se as afirmativas a seguir são falsas (F) ou verdadeiras (V):

- ✓ Miguel não tomou água de coco ontem.
- ✓ Pode ser que Miguel tenha tomado água de coco ontem.
- ✓ Miguel tomou água de coco ontem.

As afirmativas são respectivamente:

- (A) V, F e F.
- (B) F, V e F.
- (C) F, V e V.
- (D) V, F e V.
- (E) V, V e V.

QUESTÃO 20

Marcelino tem o dobro da idade de Juscelino. A soma das idades de Marcelino e Juscelino pode então ser igual a:

- (A) 134
- (B) 123
- (C) 97
- (D) 88
- (E) 67

LEGISLAÇÃO DO MUNICÍPIO**QUESTÃO 21**

Avalie se, de acordo com a Lei 05/91, são formas de provimento em cargo público, entre outras:

- I. nomeação
- II. promoção
- III. readaptação
- IV. reversão
- V. aproveitamento

Estão corretas as formas:

- (A) I e II, apenas.
- (B) II, IV e V, apenas.
- (C) III e V, apenas.
- (D) I, II, III e V, apenas.
- (E) I, II, III, IV e V.

QUESTÃO 22

A vacância do cargo público NÃO decorre de:

- (A) exoneração.
- (B) demissão.
- (C) promoção.
- (D) posse em outro cargo acumulável.
- (E) falecimento.

QUESTÃO 23

São de competência do Município, entre outras, as seguintes ações, EXCETO:

- (A) instituir e arrecadar os tributos municipais, bem como aplicar suas rendas, sem prejuízo da obrigatoriedade de prestar contas e publicar balancete nos prazos fixados em lei.
- (B) fixar, fiscalizar e cobrar tarifas ou preços públicos.
- (C) criar, organizar e suprimir distritos, observada a legislação estadual.
- (D) instituir o quadro, os planos de carreira e regime jurídico único dos servidores públicos.
- (E) organizar e prestar, diretamente ou sob o regime de concessão ou permissão, os serviços públicos locais, exceto o de transporte coletivo, que é da esfera estadual.

QUESTÃO 24

Avalie se a administração pública direta, indireta ou fundacional do Município obedece aos princípios de:

- I. legalidade
- II. impessoalidade
- III. moralidade
- IV. publicidade

Estão corretos:

- (A) I, II, III e IV.
- (B) I, II e III, apenas.
- (C) II, III e IV, apenas.
- (D) I e III, apenas.
- (E) III e IV, apenas.

QUESTÃO 25

De acordo com o Art. 107 da Lei Orgânica do Município de Mangaratiba, são atos administrativos de competência do Prefeito que devem ser expedidos na forma de decreto, numerado em ordem cronológica, em sequência ininterrupta, os seguintes casos, entre outros, EXCETO:

- (A) regulamentação de lei.
- (B) provimento e vacância de cargos públicos.
- (C) regulamentação interna dos órgãos que forem criados na administração municipal.
- (D) abertura de créditos especiais e suplementares, até o limite autorizado por lei, assim como de créditos extraordinários.
- (E) declaração de utilidade ou necessidade pública, ou interesse social, para fins de desapropriação ou de instituição de servidão administrativa.

HISTÓRIA ECONÔMICA E SOCIAL DE MANGARATIBA

QUESTÃO 26

“Quando os portugueses chegaram ao litoral de Mangaratiba, no dia 06 de janeiro de _____, registrando a ilha de Marambaia e todo o território de Mangaratiba terras de _____, o povo _____ vivia na região litorânea (de Ubatuba até Cabo Frio), dividido em várias aldeias.”

As lacunas ficam corretamente preenchidas respectivamente por:

- (A) 1488 / Angra dos Reis / tupinambá.
- (B) 1502 / Angra dos Reis / tupinambá.
- (C) 1488 / Paraty / guarani.
- (D) 1502 / Paraty / guarani.
- (E) 1546 / Paraty / tamoio.

QUESTÃO 27

“A colonização de todo o território brasileiro começou em _____, com o estabelecimento do sistema de capitânicas _____. Mangaratiba fazia parte da capitania de São Vicente”.

As lacunas ficam corretamente preenchidas por:

- (A) 1506 / inventárias.
- (B) 1506 / notárias.
- (C) 1506 / prioritárias.
- (D) 1534 / destinatárias.
- (E) 1534 / hereditárias.

QUESTÃO 28

“A vida de Mangaratiba passou a sofrer fortes transformações em meado do século _____, devido à descoberta _____ em _____, ao comando político do marquês de Pombal, em Portugal, e ao governo do marquês de Lavradio no Rio de Janeiro”.

As lacunas ficam corretamente preenchidas por:

- (A) XVIII / do ouro / Minas Gerais.
- (B) XVIII / do minério de ferro / Minas Gerais.
- (C) XIX / do ouro / São Paulo.
- (D) XIX / da prata / São Paulo.
- (E) XIX / do minério de ferro / São Paulo.

QUESTÃO 29

“O desenvolvimento da região serrana de Mangaratiba está ligado à história de ocupação das terras da antiga cidade de São João Marcos que teve seu processo de povoamento originado pela necessidade de se abrir uma estrada ligando o Rio de Janeiro a São Paulo para evitar o risco do transporte do ouro pelo mar, de Paraty ao Rio de Janeiro, devido à presença de piratas. Esse caminho ficou denominado como “Caminho Novo” e, mais tarde, transformou-se na “Estrada Real de Santa Cruz”. (adap.)

O texto refere-se a episódios ocorridos por volta de:

- (A) 1650
- (B) 1690
- (C) 1730
- (D) 1830
- (E) 1890

QUESTÃO 30

Avalie se as seguintes atividades são importantes atualmente para a economia de Mangaratiba:

- I. produção de xisto betuminoso.
- II. pesca.
- III. turismo.
- IV. escoamento da produção de minério de ferro.
- V. produção de soja.

Estão corretos os itens:

- (A) I e II, apenas.
- (B) III, IV e V, apenas.
- (C) I, II e V, apenas.
- (D) II, III e IV, apenas.
- (E) I, II, III, IV e V.

CONHECIMENTOS ESPECÍFICOS

QUESTÃO 31

Nos principais periféricos utilizados na operação dos microcomputadores atuais, dois dispositivos são empregados exclusivamente na entrada de dados para processamento. Esses dispositivos são:

- (A) pendrive e mouse
- (B) mouse e scanner
- (C) scanner e plotter
- (D) plotter e webcam
- (E) webcam e pendrive

QUESTÃO 32

Atualmente os notebooks têm utilizado um dispositivo de armazenamento de dados, ilustrado na figura abaixo.




É um dispositivo que emprega uma nova tecnologia, que dispensa o uso de partes móveis e que elimina partes mecânicas, reduzindo as vibrações. Apresenta como vantagens o tempo de acesso reduzido à memória flash e a maior resistência a impactos que possui em relação aos HDs comuns, um fator muito importante quando se trata de computadores portáteis. Esse dispositivo é conhecido pela sigla:

- (A) SSD
- (B) SATA
- (C) WVGA
- (D) SCSI
- (E) IDE

QUESTÃO 33

Em microcomputadores com sistema operacional Windows XP em português, o acesso ao menu Iniciar é realizado por meio

do acionamento do botão  existente no canto inferior esquerdo da tela. Este acesso é também possível

pelo acionamento do logotipo do Windows -  ou resultado da execução do seguinte atalho de teclado:

- (A) Alt + Esc
- (B) Alt + Del
- (C) Ctrl + Alt
- (D) Ctrl + Del
- (E) Ctrl + Esc






QUESTÃO 34

Na tela do gerenciador de pastas e arquivos em microcomputadores com sistema operacional Windows 8 BR, a execução do atalho de teclado Ctrl + A tem a seguinte finalidade:

- (A) apagar uma pasta.
- (B) copiar arquivos de uma pasta para outra.
- (C) excluir todos os arquivos armazenados na pasta.
- (D) selecionar todas os arquivos armazenados em uma pasta.
- (E) mover todos os arquivos armazenados em uma pasta para a Lixeira.

QUESTÃO 35

Um técnico Administrativo está digitando um texto no Word 2010 BR, em um computador com sistema operacional Windows 7 BR. Para visualizar o texto a ser impresso, ele deve acionar, por meio do cursor do mouse, um ícone existente na Barra de Ferramentas de Acesso Rápido. Esse ícone é:

- (A) 
- (B) 
- (C) 
- (D) 
- (E) 

QUESTÃO 36

Observe o texto abaixo, digitado no Word 2010 BR.



Ao texto foram realizados os seguintes procedimentos:

- Inicialmente com alinhamento à esquerda, o texto foi centralizado por meio da execução da execução de um atalho de teclado.

- À palavra **MANGARATIBA** foi aplicado um efeito artístico, por meio de um recurso do Word.

O atalho de teclado e o recurso são respectivamente:

- (A) Ctrl + C e WordArt
- (B) Ctrl + C e DrawArt
- (C) Ctrl + E e FontArt
- (D) Ctrl + E e DrawArt
- (E) Ctrl + E e WordArt

QUESTÃO 37

A planilha abaixo foi criada no Excel 2010 BR.

	A	B	C	D	E
1	PREFEITURA MANGARATIBA				
2	Trabalhando sem parar!				
3					
4					
5					
6					
7					
8					
9					
10					
11					
12					
13					
14					
15					
16					
17	19	13	12	17	16
18					
19	MENOR =				12
20	SOMA =				30
21					

Na planilha foram realizados os procedimentos listados a seguir.

- Em E19 foi inserida uma expressão usando a função MENOR para determinar o menor entre todos os números mostrados nas células A17, B17, C17, D17 e E17.
- Em E21 foi inserida uma expressão para determinar a soma dos números mostrados nas células B17 e D17.

Nessas condições, as expressões inseridas nas células E19 e E21 foram respectivamente:

- (A) =MENOR(A17:E17;1) e =SOMA(B17:D17)
- (B) =MENOR(A17:E17;1) e =SOMA(B17:D17)
- (C) =MENOR(A17:E17) e =SOMA(B17:D17)
- (D) =MENOR(A17:E17) e =SOMA(B17:D17)
- (E) =MENOR(A17:E17) e =SOMA(B17:D17)

QUESTÃO 38

As figuras (I) e (II) abaixo mostram a topologia e o conector empregados atualmente na implementação de redes cabeadas de computadores padrão Ethernet.



(I)








(II)

A topologia e o conector empregados são denominados, respectivamente:


- (A) anel e RG-6
- (B) anel e RJ-45
- (C) estrela e PS-2
- (D) estrela e RJ-45
- (E) estrela e RG-6











QUESTÃO 39

No browser Firefox Mozilla, para verificar o andamento dos downloads, deve-se acionar um ícone ou executar um atalho de teclado, que são:

- (A)  e Ctrl + J
- (B)  e Ctrl + J
- (C)  e Ctrl + J
- (D)  e Ctrl + D
- (E)  e Ctrl + D

QUESTÃO 40

Atualmente os internautas utilizam diversas ferramentas de busca e pesquisa na internet. Além do , outras duas ferramentas desse tipo são:

- (A)  e 
- (B)  e 
- (C)  e 
- (D)  e 
- (E)  e 

QUESTÃO 41

Em relação ao memorando, avalie se as afirmativas a seguir são falsas (F) ou verdadeiras (V):

- ✓ É uma forma de participação ou aviso por escrito. Foi incorporado como tipo de expediente usado na administração pública para a ágil comunicação entre unidades administrativas de um mesmo órgão.
- ✓ Sua principal característica deve ser a agilidade.
- ✓ Sua tramitação deve pautar-se pela simplicidade, objetividade e clareza.
- ✓ Destina-se ao serviço interno e se caracteriza como instrumento de comunicação entre servidores e unidades de uma mesma organização.

As afirmativas são respectivamente:

- (A) V, V, V e V.
 (B) V, V, F e F.
 (C) F, F, V e V.
 (D) V, F, F e F.
 (E) F, F, F e F.

QUESTÃO 42

É o registro sucinto, escrito, das decisões e acontecimentos havidos em reunião, congresso, mesa-redonda, convenção, etc:

- (A) certidão.
 (B) ofício.
 (C) ata.
 (D) parecer.
 (E) atestado.

QUESTÃO 43

Ato por meio do qual a administração afirma a existência de fato ou situação que pode ser verificada em assentamento público (autos, procedimentos, despachos, etc.);

- (A) declaração.
 (B) ata.
 (C) memorando.
 (D) certidão.
 (E) atestado.

QUESTÃO 44

O atestado possui a seguinte estrutura:

- (A) Timbre, Índice, Data, Destinatário, Assunto, Comunicação, Fecho, Local e data e Assinatura.
 (B) Timbre, Índice, Comunicação, Local e data e Assinatura.
 (C) Timbre, Índice, Data, Destinatário, Comunicação, Local e data e Assinatura.
 (D) Timbre, Índice, Data, Destinatário, Preâmbulo, Comunicação, Local e data e Assinatura.
 (E) Timbre, Índice, Data, Destinatário, Assunto, Comunicação, Local e data e Assinatura.

QUESTÃO 45

De acordo com a Lei 8.666/91, serão necessariamente precedidas de licitação, ressalvadas as hipóteses previstas nesta Lei, as seguintes necessidades da Administração Pública, quando contratadas com terceiros:

- (A) obras e serviços, apenas.
 (B) obras e compras, apenas.
 (C) obras, serviços e compras, apenas.
 (D) obras, serviços, inclusive de publicidade, compras e concessões apenas.
 (E) obras, serviços, inclusive de publicidade, compras, alienações, concessões, permissões e locações.

QUESTÃO 46

“A licitação destina-se a garantir a observância do princípio constitucional da _____, a seleção da proposta mais _____ para a administração e a promoção do desenvolvimento nacional sustentável e será processada e julgada em estrita conformidade com os princípios básicos da legalidade, da impessoalidade, da moralidade, da igualdade, da publicidade, da probidade administrativa, da vinculação ao instrumento convocatório, do julgamento objetivo e dos que lhes são correlatos”.

As lacunas são corretamente preenchidas respectivamente por:

- (A) transparência / vantajosa.
- (B) isonomia / vantajosa.
- (C) universalidade / proveitosa.
- (D) eficiência / proveitosa.
- (E) eficiência / adequada.

QUESTÃO 47

Ainda de acordo com a Lei 8.666/91, as seguintes afirmativas estão corretas, EXCETO:

- (A) É vedado aos agentes públicos admitir, prever, incluir ou tolerar, nos atos de convocação, cláusulas ou condições que comprometam, restrinjam ou frustrem o seu caráter competitivo, inclusive nos casos de sociedades cooperativas, e estabeleçam preferências ou distinções em razão da naturalidade, da sede ou domicílio dos licitantes ou de qualquer outra circunstância impertinente ou irrelevante para o específico objeto do contrato, consideradas as devidas ressalvas.
- (B) Em igualdade de condições, como critério de desempate, será assegurada preferência inicial aos bens e serviços produzidos no País.
- (C) A licitação não será sigilosa, sendo públicos e acessíveis ao público os atos de seu procedimento, salvo quanto ao conteúdo das propostas, até a respectiva abertura.
- (D) Nos processos de licitação, não poderá ser estabelecida margem de preferência para produtos manufaturados e para serviços nacionais.
- (E) Todos os valores, preços e custos utilizados nas licitações terão como expressão monetária a moeda corrente nacional, ressalvado o disposto no art. 42 da referida Lei.

QUESTÃO 48

Avalie se são modalidades de licitação:

- I - concorrência;
- II - tomada de preços;
- III - convite;
- IV - concurso;
- V - leilão.

Estão corretas as modalidades:

- (A) I, II e III, apenas.
- (B) IV e V, apenas.
- (C) I, II, III e IV, apenas.
- (D) II, III e V, apenas.
- (E) I, II, III, IV e V.

QUESTÃO 49

Avalie se, de acordo com a Lei nº 10.520/02, na fase preparatória do pregão devem ser observadas as seguintes disposições:

- I. A autoridade competente justificará a necessidade de contratação e definirá o objeto do certame, as exigências de habilitação, os critérios de aceitação das propostas, as sanções por inadimplemento e as cláusulas do contrato, inclusive com fixação dos prazos para fornecimento.
- II. A definição do objeto deverá ser precisa, suficiente e clara, vedadas especificações que, por excessivas, irrelevantes ou desnecessárias, limitem a competição;
- III. Dos autos do procedimento não constarão os elementos técnicos sobre os quais estiverem apoiados.
- IV. A autoridade competente designará, dentre os servidores do órgão ou entidade promotora da licitação, o pregoeiro e respectiva equipe de apoio, cuja atribuição inclui, dentre outras, o recebimento das propostas e lances, a análise de sua aceitabilidade e sua classificação, bem como a habilitação e a adjudicação do objeto do certame ao licitante vencedor.

Estão corretos:

- (A) I, II e III, apenas.
- (B) I, II e IV, apenas.
- (C) II, III e IV, apenas.
- (D) I e II, apenas.
- (E) I, II, III e IV.

QUESTÃO 50

De acordo com o Art. 6 da Lei nº 10.520/02, na licitação modalidade pregão o prazo de validade das propostas, se outro não estiver fixado no edital, será de:

- (A) 30 dias.
- (B) 45 dias.
- (C) 60 dias.
- (D) 90 dias.
- (E) 120 dias.

