



MUNICÍPIO DE PALMEIRA

EDITAL DE CONCURSO PÚBLICO N.º 001/2011

MOTORISTA II

INSTRUÇÕES

[Estas instruções passam a fazer parte do Edital n.º 001/2011 do Município de Palmeira.]

- Deixe sobre a carteira escolar apenas o material estritamente necessário para a realização da prova (caneta, lápis, borracha e apontador) e a Cédula de Identidade.
- No decorrer da prova, você assinará a **lista de presença**.
- Você receberá do Fiscal os seguintes materiais:
 - este caderno de prova**; e
 - a folha de respostas**.

CADERNO DE PROVA


- Este caderno de prova deve conter **40 (quarenta) questões**, numeradas de 01 a 40. Confira-o **antes** de iniciar a prova. Caso encontre algum defeito, levante o braço e aguarde a chegada do Fiscal. Após a prova ser iniciada, não será aceita qualquer reclamação sobre falhas na impressão e/ou montagem.
- Em cada questão, somente **UMA alternativa será aceita como resposta**.
- A interpretação das questões é parte integrante da prova. **Evite perguntas**.
- A prova é **individual**. É vedada a comunicação entre os candidatos durante a prova.

FOLHA DE RESPOSTAS

- Confira se o seu nome, número de inscrição e número de sua identidade** estão corretos na folha de respostas. Caso contrário, notifique imediatamente o Fiscal.
- Não amasse, nem dobre a folha de respostas. **Preencha-a com caneta esferográfica azul ou preta, escrita grossa**. Não faça uso de borracha ou corretivo.
- A marcação na folha de respostas é de inteira **responsabilidade do candidato**.
- Procure **responder a todas as questões**. As questões não respondidas, com mais de uma resposta ou preenchidas em desacordo com as instruções da folha de respostas serão consideradas nulas.
- Ao terminar a prova, **devolva ao Fiscal a folha de respostas**. Após a entrega, **retire-se do local de prova**.

LEMBRETES IMPORTANTES

- Guarde o seu relógio** antes do início da prova. O tempo de realização da prova será controlado pelo Fiscal de sala.
- Desligue o seu telefone celular** antes do início da prova e guarde-o.
- Tire o boné** antes do início da prova e guarde-o.
- Você somente poderá **retirar-se da sala de provas** após decorrida 1 (uma) hora de seu início.
- Você poderá levar o seu caderno de prova **somente após duas horas do início da prova**.
- Duração da prova**: 03h (três horas), já incluído o tempo destinado à identificação do candidato e ao preenchimento da folha de respostas.
- Os **03 (três) últimos candidatos** de cada sala deverão entregar a folha de respostas ao mesmo tempo, assinar o **Termo de Encerramento de Prova** e retirar-se, todos juntos, da sala.
- A **desobediência** a qualquer uma das determinações destas instruções ou das constantes da folha de respostas **poderá implicar a anulação da sua prova**.



Identidade com foto sobre a carteira escolar

- Somente **UMA** resposta certa em cada questão. Leia atentamente e marque a que achar correta.



CERTO

Errado



Não use



Não use



Não use



Elaboração: CEC – Núcleo de Concursos

É permitida a reprodução de questões desta prova, desde que citada a fonte.



APLICAÇÃO: 29/01/2012



MUNICÍPIO DE PALMEIRA

EDITAL DE CONCURSO PÚBLICO N.º 001/2011

LÍNGUA PORTUGUESA

O texto a seguir constitui referência para resposta das questões 01 a 06.

EIKE PARA PRESIDENTE

Ser rico no Brasil sempre foi uma ofensa sociológica. Eike Batista chegou para acabar com isso. Ele não é só um bilionário desinibido, confiante, assumido. O pai de Thor é também carismático, empreendedor genuíno, obcecado com o cabelo, nosso primeiro Donald Trump, com *bestseller* nas livrarias e um senso de autopromoção que pode levá-lo, quem sabe, a subir a rampa do Palácio do Planalto.

Lembro que nos anos 1980, quando os japoneses inventavam coisas geniais como o *walkman* e eram vistos como os chineses são vistos hoje, era comum dizer que o Brasil deveria ser dado para eles administrarem. Tínhamos todos os atributos de uma nação rica, mas éramos tão mal geridos (naquele lodaçal do final da ditadura até o Plano Real) que deixados a nós mesmos nosso destino seria o fracasso.

Depois de tentarmos todas as coisas difíceis, o Brasil finalmente se encontrou no óbvio: democracia e economia de mercado. Chegamos com um atraso enorme em relação aos nossos primos norte-americanos (com quem devemos nos comparar por dimensão e ambição, e não com nossos pequenos vizinhos latinos), mas capitalismo e democracia, mesmo que tardios e imperfeitos, nos fazem muito bem.

E agora as coisas andam mais rápidas. A população brasileira, empreendedora por necessidade, abraçou o capitalismo e foi.

Sob o governo de Lula, o primeiro presidente pobre do Brasil, pobres e ricos enriqueceram juntos. Quando a maré sobe, todos os barcos sobem.

Trabalhar finalmente tornou-se instrumento efetivo de ascensão social no país.

E se ainda é difícil ficar rico, pelo menos está mais fácil ficar mais rico do que se era, com o desemprego abaixo de 6% e renda em alta.

Já temos 145 mil milionários no Brasil (com US\$ 1 milhão disponível para investir), segundo cálculo recente de um banco estrangeiro. É um número ainda pequeno numa população de 200 milhões de habitantes, mas está crescendo.

Nossos velhos ricos sempre foram muito reservados, como se Balzac tivesse razão ao dizer que atrás de toda fortuna tem um crime. De fato, a distribuição de riqueza no Brasil sempre foi caso de crime contra a humanidade, parido na escravidão colonial.

Mas as coisas estão mudando. Nossos novos ricos, confiantes e desinibidos, desfilam seu sucesso e seu dinheiro como troféus a inspirar os observadores. São principalmente pequenos empreendedores ou grandes profissionais liberais que estão formando uma nova camada de poder que pode ter a força de mudar o Brasil.

A mudança jamais virá dos políticos, a revolução não será televisionada pela TV Senado.

Precisamos de mais empreendedores ativistas fora de suas empresas. Eles são fundamentais e transformadores.

Por exemplo: o apoio e o engajamento do empresário Guilherme Leal, bilionário fundador da Natura, na campanha de Marina Silva foi o que possibilitou ela ter votação tão expressiva.

Não precisamos mais dos japoneses para tocar o Brasil. Nossos empreendedores são os nossos japoneses. São eles, mais do que qualquer político ou partido, que estão desenvolvendo o país.

Sérgio Malbergier. *Folha de São Paulo*. 19-01-2012.



CONCURSO PÚBLICO – MUNICÍPIO DE PALMEIRA

Elaboração: CEC – Núcleo de Concursos

É permitida a reprodução, desde que citada a fonte.

APLICAÇÃO: 29/01/2012

Folha 01/10

01 O texto permite afirmar que:

- A) O autor manifesta despeito à iniciativa privada para o desenvolvimento do país.
- B) O autor se refere a aspectos sociológicos, mas em nenhum momento posterior fala desses aspectos.
- C) O autor finaliza o texto com referência aos japoneses na tentativa de contradizer as informações constantes do 2.º parágrafo.
- D) A intenção principal do texto é exaltar as características do bilionário Eike Batista.
- E) O autor acaba restringindo o conceito de políticos aos membros do Senado.

02 Sobre a tipologia do texto e sua construção, assinale a alternativa correta.

- A) O autor manifesta clara preferência por parágrafos desenvolvidos por exemplificação.
- B) Ainda que apresente expressões denotadoras de pessoalidade, o texto pode ser considerado predominantemente informativo, sendo considerado, portanto, uma narração.
- C) O último parágrafo do texto apresenta uma expressão denotativa vulgar que deveria ser substituída pelo verbo “administrar”.
- D) O vocábulo “pequenos” (3.º parágrafo) foi empregado em sentido pejorativo, obsceno.
- E) O texto possui introdução e desenvolvimento, mas não apresenta conclusão.

03 Observe o excerto a seguir, retirado do 2.º parágrafo do texto:

“... quando os japoneses inventavam coisas geniais como o walkman e eram vistos como os chineses são vistos hoje, era comum dizer que o Brasil deveria ser dado para eles administrarem”. (...)

Se o início do segmento iniciar com “Os japoneses, ao inventarem...”, para preservar o sentido original e a correção do trecho, o verbo em destaque necessariamente resultará em:

- A) forem;
- B) serem;
- C) seriam;
- D) sejam;
- E) são.

04 Assinale a alternativa que apresenta, respectivamente, os mesmos motivos pelos quais os vocábulos “bilionário”, “genuíno” e “levá-lo” (1.º parágrafo) são acentuados.

- A) negócio, ópio, lápis;
- B) pivô, saída, levá-la;
- C) água, viúva, Paraná;
- D) espécie, cibernético, bisavós;
- E) réu, hífen, aquário.

05 Observe o excerto retirado do décimo parágrafo do texto.

“Mas as coisas estão mudando. Nossos novos ricos, confiantes e desinibidos, desfilam seu sucesso e seu dinheiro como troféus a inspirar os observadores. São principalmente pequenos empreendedores ou grandes profissionais liberais que estão formando uma nova camada de poder que pode ter a força de mudar o Brasil.”

Assinale a alternativa que, sendo alterada, mantém a correção gramatical e a adequada compreensão do período.

- A) Mas as coisas estão mudando. Nossos novos ricos, confiantes e desinibidos, desfilam, seu sucesso e seu dinheiro como troféus a inspirar os observadores. São principalmente pequenos empreendedores ou grandes profissionais liberais que estão formando uma nova camada de poder que pode ter a força de mudar o Brasil
- B) Mas as coisas estão mudando nossos novos ricos, confiantes e desinibidos que desfilam seu sucesso e seu dinheiro como troféus, cujos observadores os aspiram. São principalmente pequenos empreendedores ou grandes profissionais liberais que estão formando uma nova camada de poder que pode ter a força de mudar o Brasil
- C) Mas as coisas estão mudando, nossos novos ricos confiantes, e desinibidos desfilam seu sucesso e seu dinheiro como troféus a inspirar os observadores. São principalmente pequenos empreendedores ou grandes profissionais liberais que estão formando uma nova camada de poder: que pode ter a força de mudar o Brasil
- D) Mas as coisas estão mudando: nossos novos ricos – confiantes e desinibidos – desfilam seu sucesso e dinheiro como troféus a que visam os observadores. São, principalmente, pequenos empreendedores ou grandes profissionais liberais que formam uma nova camada de poder que pode ter a força de mudar o Brasil.
- E) Mas as coisas estão mudando, em que pese nossos novos ricos, confiantes e desinibidos, desfilam seu sucesso e seu dinheiro tal qual troféus a inspirar os observadores. São principalmente pequenos empreendedores ou grandes profissionais liberais que estão formando uma nova camada de poder, que pode ter a força de mudar o Brasil.



06 Considerando os aspectos linguísticos do texto, atente para as assertivas a seguir:

- I. A forma verbal “levá-lo” (1.º parágrafo) está flexionada no singular porque concorda com o nome “autopro-moção”.
- II. O pronome oblíquo da forma verbal mencionada na assertiva anterior não pode ser substituído pelo pronome “lhe”, pois implica prejuízo sintático e semântico.
- III. O vocábulo “numa” (8.º parágrafo) constitui uma contração da conjunção “em” com o artigo indefinido “uma” e é utilizado geralmente em situações coloquiais de comunicação.
- IV. Os vocábulos desinibido (1.º parágrafo) e “lodaçal” (2.º parágrafo), no contexto, são empregados, respec-tivamente, com o sentido de “extrovertido” e “cenário degradante”.

Está correto apenas o que se afirma em:

- A) I e II
- B) I e III
- C) I e IV
- D) II e III
- E) II e IV

Leia com atenção o texto a seguir e, em seguida, responda as questões de 07 a 09:

Hoje de manhã eu não fui para praia mas foi muito legal e nos brincamos de cabaninha em casa e foi muito legal e a tarde agente foi pasiar um poquinho na beira da praia e também agente fez bolo e foi legal.

Página de diário de uma menina de 6 anos, em janeiro de 2012.

07 Com relação ao texto, é correto afirmar que a autora:

- A) demonstra que não aprendeu corretamente Língua Portuguesa, pois uma criança em tal idade não poderia apresentar erros tão graves assim.
- B) demonstra dominar completamente as regras da Língua Portuguesa, pois não cometeu nenhum erro gramatical e ortográfico. Logo, é uma criança de inteligência superior.
- C) falou apenas de outras pessoas.
- D) não foi para a praia porque em tal lugar as crianças não podem brincar.
- E) fez uma narrativa de um dia em sua vida, usando a língua portuguesa dentro dos limites e capacidades de alguém que está no início do processo de alfabetização.

08 No texto, muitas palavras foram escritas em desacordo com as regras de Ortografia Oficial e Acentuação Gráfica. Assinale a alternativa que apresenta as palavras corretamente reescritas:

- A) à tarde – nós – a gente – passear – pouquinho – beira
- B) bôlo – à tarde – nós – passiar – bêira – fêz
- C) à tarde – a gente – passiar – pouquínho – beira – legau
- D) a gente – beira – nós – passeiar – práia – cabaninha
- E) Hôje – nós – passear – pouquinho – bêira – caza

09 Assinale a alternativa que melhor reescreve o texto, do ponto de vista gramatical e estilístico:

- A) Hoje, de manhã, eu não fui para a praia, mais foi muito legal, pois nós brincamos de cabaninha em casa. À tarde, agente foi passear um poquinho na beira da praia e fizemos um bolo e foi legal.
- B) Hoje de manhã eu não fui para praia, mais foi muito legal e nós brincamos de cabaninha em casa e foi muito legal. Detarde, agente foi passiar um poquinho na beira da praia e também agente fez bolo e foi legal.
- C) Hoje, pela manhã eu não fui para praia mas foi muito legal, pois nós brincamos de cabaninha em casa. Pela tarde agente foi, passear um pouquinho na bêira da praia, depois fizemos bolo, sendo o dia muito agradável.
- D) Hoje, de manhã, eu não fui para a praia, mas foi muito legal, pois nós brincamos de cabaninha em casa. À tarde, a gente foi passear um pouquinho pela beira da praia e, depois, fizemos um bolo. Tivemos um dia muito agradável.
- E) Pela manhã, hoje, eu não fui à praia, mas foi muito legal ficar em casa, pois nós brincamos de cabaninha em casa e foi muito legal. Já pelo período da tarde, nós fomos passeiar um pouquinho pela orla marítima e, após tal passeio, fizemos um bolo muito gostoso.

10 Assinale a alternativa correta quanto à pontuação:

- A) Muitas eleitores curitibanos, deixaram para fazer o cadastramento eleitoral, na última hora, e, assim enfrentaram muitas horas de fila.
- B) Os auditores da Receita Federal interceptaram as mercadorias contrabandeadas, e os policiais efetivaram a prisão do casal criminoso.
- C) De vez em quando, alguns governantes lembram, que governam em nome do povo e para, o povo; daí, resolvem fazer, alguma coisa pelos mais sofridos.
- D) No Brasil, muitos confundem arte, com entretenimento e qualquer sujeito que agrada, já passa a ser chamado, de artista.
- E) Ele comprou vara anzol isca isopor cerveja , e foi pescar, desligado de todo o resto.

11 Assinale a alternativa correta quanto à Concor-dância Verbal:

- A) Pode-se levantar todos os números finais ainda hoje, mas será muito difícil compreender de fato o que ocorreu há semanas atrás naquela cidade.
- B) Precisa-se de bons profissionais, para que assim haja maiores esperanças de crescimento da empresa.
- C) Desperta a atenção do público as notícias sobre a seca no sul e as enchentes no sudeste e no nordeste do país.
- D) O número de candidatos inscritos no concurso de beleza surpreenderam a comissão organizadora.
- E) Podem haver muitos descontentes com as medidas tomadas pelo novo gestor do projeto.



O texto a seguir constitui referência para resposta das questões 12 e 13.

“MENOS A LUIZA” É UMA IDIOTICE?

Provavelmente Luiza é a primeira brasileira que virou celebridade nacional não por ter aparecido. Mas justamente por não ter aparecido. Foi alvo apenas de uma menção num comercial de um empreendimento imobiliário na Paraíba. Assim virou *hit* na internet. É uma idiotice? Não: essa brincadeira é um assunto sério.

Tão sério que mereceria um estudo aprofundado sobre como funcionam os meios de comunicação na era da internet. Um comercial de empreendimento imobiliário na Paraíba vira assunto nacional e faz da ausente Luiza uma celebridade. E, agora, ao voltar ao Brasil, desfila entre os famosos. São regras novas de difusão de informação, que os comunicadores não conhecem e não cansam de se surpreender.

Luiza também é reflexo de que como está se aprofundando o que muitos já chamam da era das celebridades. Gente que não faz nada ou quase nada – personagens do BBB, por exemplo – e viram assuntos em todos os lugares. Não é só que viram assunto: suas opiniões são levadas em consideração e ocupam cada vez mais espaço. Talvez seja em parte reflexo da falta de interesse em assuntos coletivos?

O fato é que ‘Menos Luiza’ é qualquer coisa. Menos uma idiotice.

A coisa está tão grave que até aqui nesta coluna Luiza apareceu.

Gilberto Dimenstein. *Folha de São Paulo*. 20-01-2012.

12 O texto legitima o seguinte entendimento:

- A) Indiferença do autor quanto ao fenômeno da internet mencionado.
- B) Desinquietação do autor com o detrimento das atenções aos assuntos coletivos.
- C) Incoerência do último parágrafo em relação ao título.
- D) Relação de causa e consequência entre primeiro e segundo parágrafo.
- E) Intenção principal do autor em analisar as celebridades.

13 Considere as assertivas a seguir acerca dos aspectos linguísticos do texto.

- I. O emprego do pronome demonstrativo “nesta”, no último parágrafo, está inadequado aos padrões da norma culta, devendo ser substituído por “nessa”.
- II. No último período do texto (último parágrafo), a segunda oração é causa da primeira.
- III. No primeiro período do texto (1.º parágrafo), é possível substituir o ponto anterior ao vocábulo “mas” por uma vírgula, fazendo-se as alterações necessárias sem prejuízo para a correção do texto.

Está correto apenas o que se afirma em:

- A) I
- B) I e II
- C) II
- D) II e III
- E) III

14 Assinale a alternativa em que a flexão adequada dos verbos mantém a coesão e a coerência do período.

- A) Quando convir ao usuário, este poderá se tornar uma celebridade.
- B) Se mantermos a sua publicação na internet, faremos sucesso.
- C) Se propormos a divulgação certa, obteremos sucesso.
- D) Assim que eu vir o seu vídeo, publicarei na internet.
- E) Se reaver o meu vídeo, poderei publicá-lo.

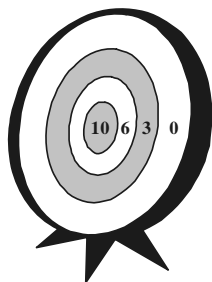
15 Assinale a alternativa em que haja concordância nominal correta, de acordo com a língua culta:

- A) Foram todas, **menas** a milha filha Yolanda.
- B) O alface não estava **bonito**.
- C) Elisa saiu da prova **meia** decepcionada.
- D) Agora eu estou **quites** com você.
- E) Muito **obrigada**, disse a linda Antonella.



RACIOCÍNIO LÓGICO

16 Dado que, no desenho do alvo abaixo, possam ser lançadas tantas flechas quantas se queira. A pontuação obtida em cada lançamento está expressa pelo número colocado no interior da coroa circular ou do círculo atingido pela flecha.



Marque a alternativa correta:

- A) nunca é possível se obter a pontuação 16 quando se lançam duas flechas.
- B) nunca é possível se obter a pontuação 13 quando se lançam duas flechas.
- C) nunca é possível se obter a pontuação 15 quando se lançam duas flechas.
- D) nunca é possível se obter a pontuação 10 quando se lançam duas flechas.
- E) nunca é possível se obter a pontuação 3 quando se lançam duas flechas.

17 Considere a soma de todos os números naturais não nulos até o cem. Sendo assim $1 + 2 + 3 + 4 + \dots + 97 + 98 + 99 + 100$. O resultado dessa soma é:

- A) 5000
- B) 2500
- C) 6000
- D) 5050
- E) 2300

18 Determine o raio de uma esfera que apresenta área de sua superfície numericamente igual a seu volume:

- A) 1
- B) 2
- C) 3
- D) 4
- E) 5

19 Um lucro de R\$ 70,00 deverá ser dividido em partes diretamente proporcionais a três pessoas que investiram R\$ 2,00, R\$ 3,00 e R\$ 5,00. O valor que a pessoa com menor investimento receberá é:

- A) R\$ 10,00
- B) R\$ 12,00
- C) R\$ 21,00
- D) R\$ 35,00
- E) R\$ 14,00

20 Se os pais de artistas sempre são artistas, então:

- A) os filhos de não artistas nunca são artistas.
- B) os filhos de não artistas sempre são artistas.
- C) os filhos de artistas sempre são artistas.
- D) os filhos de artistas nunca são artistas.
- E) os filhos de artistas quase sempre são artistas.

21 Um dado cúbico, não viciado, tem as faces numeradas de 1 a 6. Lançando ao acaso esse dado, a probabilidade de aparecer o número 3 voltado para cima é:

- A) uma chance em quatro;
- B) duas chances em três;
- C) uma chance em seis;
- D) nenhuma chance;
- E) três chances em duas.

22 A equação $x^2 - 5x + 6 = 0$, representa graficamente:

- A) uma parábola;
- B) uma senoide;
- C) duas retas perpendiculares;
- D) uma hipérbole;
- E) duas retas paralelas.



23 Considere uma região do sistema cartesiano ortogonal limitada pelas desigualdades

r: $x > y$

s: $x < 2$

t: $y < 2$

A área dessa região, em unidades de área, é:


- A) 2
- B) 3
- C) 13
- D) 22
- E) 1

24 Uma empresa de telefonia realizou uma promoção. A cada 2 minutos de conversação, o minuto seguinte, na mesma ligação, é gratuito. Sendo a tarifação de cada minuto de ligação R\$ 0,99, então o valor, em reais, de uma ligação de 7 minutos contínuos, durante a promoção, é:

- A) R\$ 51,00
- B) R\$ 6,00
- C) R\$ 4,95
- D) R\$ 11,34
- E) R\$ 1,42

25 Sabe-se que o mínimo múltiplo comum entre dois números naturais é 10 e que o máximo divisor comum entre esses dois números é 1. Então o produto entre esses dois números é:

- A) 1
- B) 2
- C) 3
- D) 4
- E) 10



CONHECIMENTOS ESPECÍFICOS

26 Segundo o Código de Trânsito Brasileiro – C.T.B., assinale com (V) as afirmações verdadeiras ou com (F) as falsas:

- () O trânsito de qualquer natureza nas vias terrestres do território nacional, abertas à circulação, rege-se pelo Código de Trânsito Brasileiro.
 - () São vias terrestres urbanas e rurais as ruas, as avenidas, os logradouros, os caminhos, as estradas e as rodovias, com exceção das passagens, e que terão seu uso regulamentado pelo órgão ou entidade com circunscrição sobre elas, de acordo com as peculiaridades locais e as circunstâncias especiais.
 - () Os órgãos e entidades componentes do Sistema Nacional de Trânsito respondem, no âmbito das respectivas competências, objetivamente, por danos causados aos cidadãos em virtude de ação, omissão ou erro na execução e manutenção de programas, projetos e serviços que garantam o exercício do direito do trânsito seguro.
 - () O trânsito, em condições seguras, é um direito de todos e dever dos órgãos e entidades componentes do Sistema Nacional de Trânsito, a estes cabendo, no âmbito das respectivas competências, adotar as medidas destinadas a assegurar esse direito.
 - () Considera-se trânsito a utilização das vias por pessoas, veículos e animais, isolados ou em grupos, conduzidos ou não, para fins de circulação, parada e estacionamento, excetuando-se as operações de carga ou descarga.
- A) V – V – F – V – F
B) V – V – F – F – F
C) V – F – V – V – F
D) F – F – V – V – F
E) V – F – V – V – V

27 Assinale a alternativa INCORRETA:

- A) É objetivo básico do Sistema Nacional de Trânsito: estabelecer diretrizes da Política Nacional de Trânsito, com vistas à segurança, à fluidez, ao conforto, à defesa ambiental e à educação para o trânsito, e fiscalizar seu cumprimento.
- B) Os Conselhos Estaduais de Trânsito – CETRAN e o Conselho de Trânsito do Distrito Federal – CONTRAN-DIFE são órgãos normativos, consultivos e coordenadores.
- C) O Conselho Nacional de Trânsito – CONTRAN, com sede no Distrito Federal, é presidido pelo dirigente do órgão máximo executivo de trânsito da União.
- D) Compete ao DENATRAN: estabelecer as normas regulamentares referidas no Código de Trânsito Brasileiro e as diretrizes da Política Nacional de Trânsito.
- E) Compete ao órgão máximo executivo de trânsito da União: apurar, prevenir e reprimir a prática de atos de improbidade contra a fé pública, o patrimônio, ou a administração pública ou privada, referentes à segurança do trânsito.

28 Com base no previsto no C.T.B., analise as afirmações abaixo e assinale a alternativa correta:

- I. os veículos prestadores de serviços de utilidade pública, quando em atendimento na via, gozam de livre parada e estacionamento no local da prestação de serviço, desde que devidamente sinalizados, devendo estar identificados na forma estabelecida pelo CONTRAN.
 - II. Respeitadas as normas de circulação e conduta estabelecidas no C.T.B., em ordem decrescente, os veículos de menor porte serão sempre responsáveis pela segurança dos maiores, os motorizados pelos não motorizados e, juntos, pela incolumidade dos pedestres.
 - III. quando uma pista de rolamento comportar várias faixas de circulação no mesmo sentido, são as da esquerda destinadas ao deslocamento dos veículos mais lentos e de maior porte, quando não houver faixa especial a eles destinada, e as da direita, destinadas à ultrapassagem e ao deslocamento dos veículos de maior velocidade.
 - IV. Os usuários das vias terrestres devem abster-se de todo ato que possa constituir perigo ou obstáculo para o trânsito de veículos, de pessoas ou de animais, ou, ainda, de causar danos a propriedades públicas ou privadas.
 - V. O condutor deverá guardar distância de segurança lateral e frontal entre o seu e os demais veículos, bem como em relação ao bordo da pista, considerando-se, no momento, a velocidade e as condições do local, da circulação, do veículo e as condições climáticas.
- A) Todas as afirmativas estão corretas.
B) Apenas as afirmativas II e III estão incorretas.
C) Somente a afirmativa V está correta.
D) Apenas as afirmativas I, II e III estão corretas.
E) Todas as afirmativas estão incorretas.

29 Os veículos classificam-se quanto à:

- A) tração, espécie e categoria;
- B) potência, tipo e modelo;
- C) carga, passageiros e aluguel;
- D) utilização, potência e velocidade;
- E) tração, potência e carga.



30 Assinale a alternativa correta conforme o estabelecido no Código de Trânsito Brasileiro, seu Capítulo III – Normas Gerais de Circulação e Conduta:

- A) Quando veículos, transitando por fluxos que se cruzem, se aproximarem de local não sinalizado, terá preferência de passagem, no caso de apenas um fluxo ser proveniente de rodovia, aquele que estiver circulando por ela.
- B) Os pedestres, ao ouvir o alarme sonoro, não deverão aguardar no passeio, atravessando a via, mesmo antes do veículo passar pelo local.
- C) A ultrapassagem de outro veículo em movimento deverá ser feita pela direita, obedecida a sinalização regulamentar e as demais normas estabelecidas no C.T.B., exceto quando o veículo a ser ultrapassado estiver sinalizando o propósito de entrar à esquerda.
- D) Todo condutor, ao perceber que outro que o segue tem o propósito de ultrapassá-lo, deverá, se estiver circulando pela faixa da esquerda, nela permanecer, acelerando a marcha.
- E) Durante a manobra de mudança de direção, o condutor deverá ceder passagem aos pedestres e ciclistas, exceto aos veículos que transitem em sentido contrário pela pista da via da qual vai sair.

31 Assinale a alternativa correta, após analisar as afirmações abaixo:

- I. O estacionamento dos veículos motorizados de duas rodas será feito em posição perpendicular à guia da calçada (meio-fio) e junto a ela, salvo quando houver sinalização que determine outra condição.
 - II. Nas paradas, operações de carga ou descarga e nos estacionamentos, o veículo deverá ser posicionado no sentido contrário ao do fluxo, paralelo ao bordo da pista de rolamento e junto à guia da calçada (meio-fio), admitidas as exceções devidamente sinalizadas.
 - III. O condutor e os passageiros não deverão abrir a porta do veículo, deixá-la aberta ou descer do veículo sem antes se certificarem de que isso não constitui perigo para eles e para outros usuários da via.
 - IV. Ao regular a velocidade, o condutor deverá observar constantemente as condições físicas da via, do veículo e da carga, as condições meteorológicas e a intensidade do trânsito, obedecendo aos limites máximos de velocidade estabelecidos para a via.
 - V. As vias urbanas classificam-se em: vias de trânsito rápido, vias arteriais, vias preferenciais e vias locais.
- A) II, III e V estão corretas.
 - B) III, IV e V estão corretas.
 - C) II e III estão erradas.
 - D) Todas estão incorretas.
 - E) I, III e IV estão corretas.

32 Com relação à sinalização de trânsito, podemos dizer que é **INCORRETO** afirmar que:

- A) é proibido afixar sobre a sinalização de trânsito e respectivos suportes, ou junto a ambos, qualquer tipo de publicidade, inscrições, legendas e símbolos que não se relacionem com a mensagem da sinalização.
- B) a sinalização será colocada em posição e condições que a tornem perfeitamente visível e legível durante o dia e a noite, em distância compatível com a segurança do trânsito, conforme normas e especificações do CONTRAN.
- C) classificam-se em: verticais, horizontais, paralelas, luminosas, sonoras e gestos do agente de trânsito e do condutor.
- D) nenhuma via pavimentada poderá ser entregue após sua construção, ou reaberta ao trânsito após a realização de obras ou de manutenção, enquanto não estiver devidamente sinalizada, vertical e horizontalmente, de forma a garantir as condições adequadas de segurança na circulação.
- E) o órgão ou entidade de trânsito com circunscrição sobre a via é responsável pela implantação da sinalização, respondendo pela sua falta, insuficiência ou incorreta colocação.

33 Assinale a alternativa que completa corretamente, na sequência exata, o estabelecido no artigo 61 do C.T.B.:

A velocidade máxima permitida para a via será indicada por meio de sinalização, obedecidas suas características técnicas e as condições de trânsito. Onde não existir sinalização regulamentadora, a velocidade máxima será de _____ quilômetros por hora nas vias de trânsito rápido, _____ quilômetros por hora, nas vias arteriais, _____ quilômetros por hora, nas vias coletoras e de _____ quilômetros por hora, nas vias locais.

- A) sessenta, cinquenta, quarenta e trinta;
- B) oitenta, sessenta, quarenta e vinte;
- C) setenta, sessenta, quarenta e trinta;
- D) oitenta, sessenta, quarenta e trinta;
- E) cento e dez, noventa, oitenta e sessenta.

34 O órgão ou entidade de trânsito ou rodoviário com circunscrição sobre a via poderá regulamentar, por meio de sinalização, velocidades superiores ou inferiores àquelas estabelecidas no C.T.B. para locais onde não haja sinalização regulamentadora. Esta afirmação é válida:

- A) somente automóveis e camionetas;
- B) somente para automóveis, camionetas e motocicletas;
- C) para todos os veículos;
- D) somente para veículos de propulsão humana;
- E) somente para os veículos de tração animal.



35 É INCORRETO afirmar:

- A) Para cruzar a pista de rolamento, o pedestre tomará precauções de segurança, levando em conta, principalmente, a visibilidade, a distância e a velocidade dos veículos, utilizando sempre as faixas ou passagens a ele destinadas sempre que estas existirem numa distância de até cinquenta metros dele.
- B) O ciclista desmontado, empurrando a bicicleta, equipara-se ao pedestre em direitos e deveres.
- C) Nas áreas urbanas, quando não houver passeios ou quando não for possível a utilização destes, a circulação de pedestres na pista de rolamento será feita com prioridade sobre os veículos, pelos bordos da pista, em fila única, exceto em locais proibidos pela sinalização e nas situações em que a segurança ficar comprometida.
- D) Nas vias rurais, quando não houver acostamento ou quando não for possível a utilização dele, a circulação de pedestres, na pista de rolamento, será feita com prioridade sobre os veículos, pelos bordos da pista, em fila única, no mesmo sentido ao deslocamento de veículos, exceto em locais proibidos pela sinalização e nas situações em que a segurança ficar comprometida.
- E) É assegurada ao pedestre a utilização dos passeios ou passagens apropriadas das vias urbanas e dos acostamentos das vias rurais para circulação, podendo a autoridade competente permitir a utilização de parte da calçada para outros fins, desde que não seja prejudicial ao fluxo de pedestres.

36 Marque a alternativa em que consta infração de trânsito que não seja de natureza GRAVE:

- A) Deixar o condutor ou passageiro de usar o cinto de segurança, conforme previsto no art. 65 do C.T.B.
- B) Deixar o condutor de prestar socorro à vítima de acidente de trânsito quando solicitado pela autoridade e seus agentes.
- C) Fazer ou deixar que se faça reparo em veículo na via pública, salvo nos casos de impedimento absoluto de sua remoção e em que o veículo esteja devidamente sinalizado, em pista de rolamento de rodovias e vias de trânsito rápido.
- D) Estacionar o veículo afastado da guia da calçada (meio-fio) a mais de um metro.
- E) Estacionar o veículo onde houver guia de calçada (meio-fio) rebaixada destinada à entrada ou saída de veículos.

37 Assinale a alternativa que completa corretamente a lacuna do texto abaixo:

Com relação à Carteira Nacional de Habilitação é correto afirmar que o condutor de combinação de veículos em que a unidade tratora se enquadre nas Categorias B, C ou D e cuja unidade acoplada, reboque, semirreboque ou articulada, tenha seis mil quilogramas ou mais de peso bruto total, ou cuja lotação exceda a oito lugares, ou, ainda, seja enquadrado na categoria trailer possua C.N.H. na Categoria

- A) A
- B) C
- C) E
- D) B
- E) D

38 Com relação aos equipamentos obrigatórios dos veículos, entre outros que foram estabelecidos pelo CONTRAN, analise as afirmações e assinale a alternativa correta:

- I. para os veículos de transporte e de condução escolar, os de transporte de passageiros com mais de dez lugares e os de carga com peso bruto total superior a quatro mil, quinhentos e trinta e seis quilogramas, equipamento registrador instantâneo inalterável de velocidade e tempo.
 - II. cinto de segurança, conforme regulamentação específica do CONTRAN, com exceção dos veículos destinados ao transporte de passageiros em percursos em que seja permitido viajar em pé.
 - III. dispositivo destinado ao controle de emissão de gases poluentes e de ruído, segundo normas estabelecidas pelo CONTRAN.
 - IV. encosto de cabeça, para todos os tipos de veículos automotores, segundo normas estabelecidas pelo CONTRAN.
 - V. faróis auxiliares para automóveis e motocicletas.
- A) somente I, II, IV e V estão corretas.
 - B) somente III está incorreta.
 - C) somente I, II, III e IV estão corretas.
 - D) somente III e IV estão incorretas.
 - E) somente I está incorreta.



39 Constitui infração de trânsito a inobservância de qualquer preceito do Código de Trânsito Brasileiro, da legislação complementar ou das resoluções do CONTRAN, sendo o infrator sujeito às penalidades e medidas administrativas indicadas em cada artigo, além das punições previstas no Capítulo XIX do mesmo Código. As infrações são classificadas como de naturezas Gravíssimas, Graves, Médias ou Leves e são computados pontos no cadastro do condutor na seguinte forma, respectivamente:

- A) 5, 4, 3 e 2
- B) 7, 5, 4 e 3
- C) 7, 6, 5 e 4
- D) 6, 5, 4 e 3
- E) 3, 4, 5 e 7

40 Quando um condutor comete uma infração de trânsito, segundo o Código de Trânsito Brasileiro, está sujeito a penalidades. É INCORRETO afirmar que:

- A) a autoridade de trânsito, na esfera das competências estabelecidas neste Código e dentro de sua circunscrição, deverá aplicar, às infrações nele previstas, as seguintes penalidades: advertência por escrito, multa, suspensão do direito de dirigir, apreensão do veículo, cassação da Carteira Nacional de Habilitação, cassação da Permissão para Dirigir e frequência obrigatória em curso de reciclagem.
- B) aos proprietários e condutores de veículos serão impostas concomitantemente as penalidades de que trata o C.T.B. toda vez que houver responsabilidade solidária em infração dos preceitos que lhes couber observar, respondendo cada um de *per si* pela falta em comum que lhes for atribuída.
- C) ao proprietário caberá sempre a responsabilidade pela infração referente à prévia regularização e preenchimento das formalidades e condições exigidas para o trânsito do veículo na via terrestre, conservação e inalterabilidade de suas características, componentes, agregados, habilitação legal e compatível de seus condutores, quando esta for exigida, e outras disposições que deva observar.
- D) não sendo imediata a identificação do infrator, o proprietário do veículo terá quinze dias de prazo, após a notificação da autuação, para apresentá-lo, na forma em que dispuser o CONTRAN, ao fim do qual, não o fazendo, será considerado responsável pela infração.
- E) a penalidade de suspensão do direito de dirigir será aplicada, nos casos previstos no C.T.B., pelo prazo mínimo de um mês até o máximo de um ano e, no caso de reincidência no período de doze meses, pelo prazo mínimo de seis meses até o máximo de dois anos, segundo critérios estabelecidos pelo CONTRAN.



