



PREFEITURA DE  
**PIRAQUARA**

# PREFEITURA MUNICIPAL DE PIRAQUARA

ESTADO DO PARANÁ

EDITAL DE CONCURSO PÚBLICO N.º 057/2014

## NUTRICIONISTA

### INSTRUÇÕES

[Estas instruções passam a fazer parte do Edital n.º 057/2014 da Prefeitura Municipal de Piraquara.]

01. Deixe sobre a carteira escolar apenas o material estritamente necessário para a realização da prova (caneta, lápis, borracha e apontador) e a Cédula de Identidade.
02. No decorrer da prova, você assinará a **lista de presença**.
03. Você receberá do Fiscal os seguintes materiais:
  - a) **este caderno de prova**; e
  - b) **a folha de respostas**.

### CADERNO DE PROVA

04. Este caderno de prova deve conter **40 (quarenta) questões**, numeradas de 01 a 40. Confira-o **antes** de iniciar a prova. Caso encontre algum defeito, levante o braço e aguarde a chegada do Fiscal. Após a prova ser iniciada, não será aceita qualquer reclamação sobre falhas na impressão e/ou montagem.
05. Em cada questão, somente **UMA alternativa será aceita como resposta**.
06. A interpretação das questões é parte integrante da prova. **Evite perguntas**.
07. A prova é **individual**. É vedada a comunicação entre os candidatos durante a prova.

### FOLHA DE RESPOSTAS

08. **Confira se o seu nome, número de inscrição e número de sua identidade** estão corretos na folha de respostas. Caso contrário, notifique imediatamente o Fiscal.
  09. Não amasse, nem dobre a folha de respostas. **Preencha-a com caneta esferográfica azul ou preta, escrita grossa**. Não faça uso de borracha ou corretivo.
  10. A marcação na folha de respostas é de inteira **responsabilidade do candidato**.
  11. Procure **responder a todas as questões**. As questões não respondidas, com mais de uma resposta ou preenchidas em desacordo com as instruções da folha de respostas serão consideradas nulas.
  12. Ao terminar a prova, **devolva ao Fiscal a folha de respostas**. Após a entrega, **retire-se do local de prova**.
- .....
13. **Duração da prova**: 03h (três horas), já incluído o tempo destinado à identificação do candidato e ao preenchimento da folha de respostas.
  14. **Guarde o seu relógio** antes do início da prova. O tempo de realização da prova será controlado pelo Fiscal de sala.
  15. **Desligue o seu telefone celular** antes do início da prova e guarde-o.
  16. Você somente poderá **retirar-se da sala de provas** após decorrida 1 (uma) hora de seu início.
  17. Você poderá levar o seu caderno de prova **somente após duas horas do início da prova**.
  18. Os **03 (três) últimos candidatos** de cada sala deverão entregar a folha de respostas ao mesmo tempo, assinar o **Termo de Encerramento de Prova** e retirar-se, todos juntos, da sala.
  19. A **desobediência** a qualquer uma das determinações destas instruções ou das constantes da folha de respostas **poderá implicar a anulação da sua prova**.



Identidade com foto  
sobre a carteira escolar



Não use



Não use



Não use



Elaboração: CEC – Núcleo de Concursos

É permitida a reprodução desse material, apenas para fins didáticos, desde que citada a fonte.

APLICAÇÃO: 19/10/2014



## LÍNGUA PORTUGUESA

O texto a seguir servirá de base para você responder às questões de 1 a 3.

### O MAPA DO CÉREBRO

Drauzio Varella

O cérebro humano é a estrutura mais complexa do Universo. Decifrar os mecanismos por meio dos quais ele consegue criar movimentos, percepções, pensamentos, memórias e a consciência é o maior desafio científico de todos os tempos.

Está prestes a ser criado o BAM – *Brain Activity Map* (Mapa da Atividade Cerebral) –, um megaprojeto organizado para desenvolver novas gerações de técnicas que permitam mapear a atividade de neurônio por neurônio, com precisão de milissegundos.

Parece pretensão paranoide, mas não é. A neurociência tem feito enormes avanços na tecnologia que tornou possível estudar as funções de neurônios isolados.

Imagens do cérebro em ação podem ser obtidas através da ressonância magnética funcional, método que consiste em injetar na veia glicose marcada com isótopos radioativos, e analisar através da ressonância sua distribuição pelas diferentes áreas cerebrais, enquanto a pessoa realiza funções como andar, rir, olhar para figuras que despertam compaixão, raiva, atração sexual, solidariedade.

Apesar desses avanços, os mecanismos responsáveis pela percepção, cognição e ação permanecem misteriosos porque resultam de interações em tempo real de grande número de neurônios, conectados em redes que formam circuitos de altíssima complexidade.

O projeto BAM propõe construir pontes que permitam descrever e manipular as atividades desses circuitos e redes de neurônios e até de cérebros inteiros, com a precisão em microescala de neurônio por neurônio.

O programa tem três objetivos:

- 1) Construir ferramentas capazes de, a um só tempo, obter imagens da maioria ou de todos os neurônios que fazem parte de cada circuito envolvido nas funções cerebrais;
- 2) Desenvolver métodos para interferir com o funcionamento de cada neurônio, desses circuitos;
- 3) Entender as funções essenciais de circuito por circuito.

Para atingir tais objetivos, é necessário criar programas de informática capazes de armazenar, mani-

pular e compartilhar dados de imagens e propriedades fisiológicas, em larga escala, que serão compartilhados com todos os investigadores participantes. Será obrigatoriamente um esforço de colaboração internacional entre neurocientistas, físicos, engenheiros e teóricos que trabalham na academia ou na indústria.

Dentro de cinco anos, vai ser possível monitorar ou controlar dezenas de milhares de neurônios. Ao redor dos dez anos, esse número terá sido multiplicado por dez.

Aos 15 anos, já poderemos observar a ação simultânea de um milhão de neurônios. Nessa fase, estaremos aptos a avaliar a função do cérebro inteiro do minúsculo peixe-zebra – usado como modelo em laboratório – ou de determinadas áreas do córtex cerebral de camundongos e de primatas.

Quando essa metodologia estiver disponível, poderá ser utilizada para diagnosticar e tratar distúrbios neuropsiquiátricos, ajudar na recuperação de funções perdidas depois de derrames cerebrais e criar teorias a respeito da cognição e do comportamento humano, baseadas em evidências.

Transtornos cerebrais devastadores como demências, esquizofrenia, depressão, autismo, epilepsia têm suas origens na desorganização das interações entre circuitos de neurônios, no interior do cérebro. Da mesma forma, as perdas de movimentos voluntários provocadas por derrames, paralisia cerebral, esclerose múltipla ou traumatismos medulares que desconectam os centros cerebrais do restante do corpo, poderão ser tratadas e corrigidas por meio dessas novas tecnologias.

As atividades econômicas envolvidas no BAM serão comparáveis às do Projeto Genoma, que exigiu investimentos da ordem de US\$ 3,8 bilhões, mas gerou US\$ 800 bilhões de impacto econômico. O financiamento deverá vir de fontes governamentais e da iniciativa privada.

Lamento não estarmos vivos – você e eu, leitor – para assistirmos à descrição das bases neurais da consciência, o desafio maior.

A consciência seria uma característica especial e exclusiva de nossa espécie ou apenas um subproduto natural de cérebros mais complexos, que emergiria como simples consequência da integração da experiência individual com as informações sensoriais?

Haverá resposta para indagações como essas?

VARELLA, Drauzio. O mapa do cérebro.  
Folha de S. Paulo, 3 maio 2014.

**01** Levando-se em conta as informações contidas no texto, analise as afirmações a seguir.

- I. O autor termina o seu texto se perguntando se a consciência seria algo inerente à nossa espécie ou se seria o resultado da interação entre as nossas informações sensoriais e nossas experiências individuais.
- II. A frase do antepenúltimo parágrafo (“Lamento não estarmos vivos – você e eu, leitor – para assistirmos à descrição das bases neurais da consciência, o desafio maior.”) expressa a total descrença do autor em relação ao projeto.
- III. A total ausência de vocativos indica que o autor, além de objetivo, não faz qualquer concessão no sentido de se dirigir ao leitor, o que mostra que se trata de um texto que se enquadra numa modalidade científica.

**Está(ão) correta(s):**

- A) somente I.
- B) somente II.
- C) somente III.
- D) somente I e II.
- E) somente II e III.

**02** Levando-se em conta exclusivamente as informações do texto, assinale a afirmativa correta.

- A) O principal objetivo do BAM é o de injetar na veia glicose marcada com isótopos radioativos para analisar os neurônios.
- B) O BAM pretende analisar, através da ressonância, os neurônios das pessoas no momento em que estão realizando funções como andar, rir, olhar para pessoas que despertam compaixão.
- C) O autor do texto critica o projeto BAM por considerá-lo muito pretensioso.
- D) Apesar de já existirem ferramentas capazes de, simultaneamente, obter imagens de todos os neurônios do cérebro, o BAM pretende desenvolver também métodos para interferir no funcionamento de cada neurônio.
- E) Para a consecução do BAM, será necessária a colaboração de vários estudiosos e profissionais em escala internacional.

**03** Observe a frase a seguir, retirada do texto-base.

*As atividades econômicas envolvidas no BAM serão comparáveis às do Projeto Genoma, que exigiu investimentos da ordem de US\$ 3,8 bilhões, mas gerou US\$ 800 bilhões de impacto econômico.*

**Em qual das alternativas a seguir temos um uso de crase que tem a mesma justificativa que teria a da ocorrência de crase utilizada em “às” na frase acima?**

- A) Ele assistiu **à** peça do seu melhor amigo.
- B) Ele se refere **à** que saiu, mas todos ainda ficaram em dúvida.
- C) A aula começou exatamente **às** dez horas da manhã.
- D) Ninguém foi **à** festa depois dos últimos acontecimentos.
- E) Logo **à** entrada da fazenda, ele encontrou o carro perdido.

**04** No quarto parágrafo, temos uma vírgula antes do “E”, perfeitamente justificável em função do conjunto da frase e dos elementos que a compõem. Em qual das frases a seguir, pelo mesmo motivo, temos que adicionar uma vírgula antes do “E” para que a frase fique correta?

- A) A consciência ecológica, pressuposto tão importante, deve ser mais trabalhada com os alunos para que compreendam **e** saibam explicar com mais profundidade a razão da preservação da Terra.
- B) É importante ressaltar que, apesar de tudo, a conferência foi organizada sem o patrocínio da rede privada **e** sem que os participantes precisassem arcar com qualquer custo adicional.
- C) Muitas pesquisas são necessárias nas práticas médicas nas cidades **e** estados antes da realização dessas conferências.
- D) Temos de garantir que os médicos exerçam as suas funções de forma honesta, condição mínima para um bom tratamento **e** que estejam sempre acessíveis aos doentes.
- E) Os vencedores foram convidados a participar da conferência como convidados da comissão organizadora **e** solicitados a apresentar seus trabalhos na conferência, motivo pelo qual todos ficaram contentes.



**05** Leia o trecho a seguir:

Da mesma forma, as **perdas** de movimentos voluntários provocadas por derrames, paralisia cerebral, esclerose múltipla ou traumatismos medulares que desconectam os centros cerebrais do restante do corpo, **poderão** ser tratadas e corrigidas por meio dessas novas tecnologias.

Quando lemos alguns textos, é comum encontramos construções em que há uma distância muito grande entre o sujeito da frase e o verbo que corresponde a ele. Na frase citada, por exemplo, o verbo “poder” vai para o plural (“poderão”) porque está concordando com o núcleo “perdas”, que aparece muitas palavras antes. Em função dessa distância ou da inversão da posição sujeito/verbo, é comum as pessoas errarem a concordância em algumas frases. Assinale a alternativa em que ocorreu um ERRO de concordância.

- A) Internacionalmente e também no Brasil vêm sendo discutidas as inconsistências da tentativa de utilizar uma diretriz de revisão ética única para todas as pesquisas em saúde.
- B) Embora tenha ocorrido apenas na esfera privada, esses problemas ainda permanecem sem solução, tanto aqui quanto na Europa.
- C) Trata-se, apesar de tudo, de questões essenciais para a saúde e o bom desempenho funcional dos indivíduos que trabalham nessa empresa.
- D) Já houve, tanto na esfera pública quanto na esfera privada, diversas manifestações de descontentamento com o salário que se paga aos funcionários.
- E) Intervêm, em situações muito semelhantes a essa, tantos fatores aleatórios que não há como prevê-los com muita antecedência.

**06** Analise as frases a seguir.

- A. Não podemos afirmar por que o cliente está bravo.
- B. Não podemos afirmar porque o cliente está bravo.
- C. O cliente está bravo e não sabemos afirmar por quê.

**Avalie os comentários sobre essas frases, assinando (V) para verdadeiro e (F) para falso.**

- ( ) Na frase A, não sabemos qual é a razão de o cliente estar bravo.
- ( ) Na frase B, o motivo pelo qual não podemos afirmar algo é o fato de o cliente estar bravo.
- ( ) A frase C tem o mesmo sentido que o da frase A.
- ( ) A frase C está gramaticalmente incompleta.

**Assinale a sequência correta, de cima para baixo.**

- A) V – F – V – F
- B) V – F – F – F
- C) V – V – V – F
- D) F – V – F – V
- E) V – F – F – V

**07** Leia com atenção o trecho a seguir.

A ambiguidade é um problema de construção na produção da mensagem. Ela se dá a partir de vários fatores.

Como você deve ter observado, o pronome “ela” pode ter vários referentes (pode ser “ambiguidade”, “construção”, “produção” ou “mensagem”), por isso, essa construção é considerada ambígua. Agora, analise as frases a seguir.

- I. Atlético quebra invencibilidade do São Paulo em casa.
- II. O deputado falou para os seus colegas que suas observações, quanto ao relatório apresentado, não deveriam ser revistas.
- III. Policial atira em assaltante com arma de brinquedo em São Paulo.

**Assinale a alternativa que contém um comentário INCORRETO sobre essas frases.**

- A) A frase I é ambígua e uma das possibilidades de reconstruí-la sem ambiguidade seria a seguinte: “Em casa, Atlético quebra invencibilidade do São Paulo”.
- B) A frase II é ambígua e uma das possibilidades de reconstruí-la sem ambiguidade seria a seguinte: “O deputado falou para os seus colegas que as observações dele, quanto ao relatório apresentado, não deveriam ser revistas”.
- C) A frase II é ambígua e uma das possibilidades de reconstruí-la sem ambiguidade seria a seguinte: “O deputado falou para os seus colegas que as observações deles, quanto ao relatório apresentado, não deveriam ser revistas”.
- D) A frase III é ambígua e uma das possibilidades de reconstruí-la sem ambiguidade seria a seguinte: “Policial atira em assaltante que estava com arma de brinquedo”.
- E) A frase III é ambígua e uma das possibilidades de reconstruí-la sem ambiguidade seria a seguinte: “Policial atira em assaltante portando uma arma de brinquedo”.



**08** Observe a sequência de frases a seguir.

- I. A moça saiu ontem à tarde. Assisti ao filme da moça.
- II. A moça a cujo filme assisti saiu ontem à tarde.

Como você observou, houve adequação no uso do pronome relativo e obediência à regência verbal da norma padrão escrita. Assinale a alternativa em que houve erro em II na junção das frases contidas em I.

- A) I. A moça saiu ontem à tarde. Reconheci a moça durante a festa.  
II. A moça que reconheci durante a festa saiu ontem à tarde.
- B) I. A moça saiu ontem à tarde. Simpatizei com as ideias da moça.  
II. A moça com cujas ideias simpatizei saiu ontem à tarde.
- C) I. A moça saiu ontem à tarde. Todos dispuseram das brilhantes ideias da moça.  
II. A moça de cujas brilhantes ideias todos simpatizaram saiu ontem à tarde.
- D) I. A moça saiu ontem à tarde. Concordo plenamente com as ideias da moça.  
II. A moça cujas ideias concordo plenamente saiu ontem à tarde.
- E) I. A moça saiu ontem à tarde. Todos adoram a moça.  
II. A moça que todos adoram saiu ontem à tarde.

**09** Leia as palavras a seguir.

- I. fábrica
- II. revólver
- III. decretará

Assinale a alternativa que indica a(s) palavra(s) cuja retirada do acento implica mudança de classe gramatical.

- A) somente em I.
- B) somente em II.
- C) somente em III.
- D) somente em I e II.
- E) em I, II e III.

**10** Leia os quadrinhos a seguir.



Laerte. In: <<http://literarizando.wordpress.com/2011/04/11/figuras-de-linguagem-ironia-e-eufemismo/>>

Assinale a alternativa que contém uma afirmação INCORRETA sobre os quadrinhos de Laerte.

- A) À medida que o personagem de óculos ameaça, o outro personagem (à esquerda de cada quadrinho) vai amenizando as acusações que faz contra ele.
- B) No terceiro quadrinho, o autor emprega a forma verbal “espera”. Mantendo a uniformidade de tratamento, caso quisesse substituir esse verbo pelo verbo “escutar”, empregaria a forma “escute”.
- C) O último quadrinho mostra a ironia do autor ao colocar o personagem da esquerda invertendo completamente aquilo que tinha a dizer sobre o outro.
- D) No terceiro e quarto quadrinhos, o autor transforma os pontos de exclamações em pontos de interrogações, transformando suas afirmações em indagações.
- E) No primeiro quadrinho, há uma acusação aberta contra o outro, mas, à medida que os quadrinhos evoluem, vai havendo uma suavização dessas mesmas acusações.

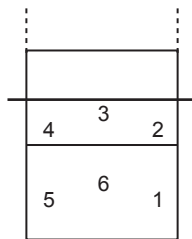
## RACIOCÍNIO LÓGICO-MATEMÁTICO

**11** Carlos é fisioterapeuta e trabalha em um Estúdio de Pilates. Ele atende até três pacientes por sessão e cada sessão dura 45 minutos. Carlos recebe R\$ 25,00 por sessão de Pilates de cada cliente atendido, independente do número de clientes na sessão. Certa manhã, Carlos observou que sua agenda estava praticamente lotada, pois tinha sessões programadas a partir das 8h 00min até as 12h 30min, sem intervalos, e que apenas na última sessão havia um único paciente para atender, sendo que nas demais sessões havia três pacientes. Assinale a alternativa que apresenta o valor total recebido, por Carlos, naquela manhã.

- A) R\$ 1.000,00
- B) R\$ 675,00
- C) R\$ 450,00
- D) R\$ 400,00
- E) R\$ 150,00

Observe a situação descrita abaixo e responda às questões 12 e 13 a seguir.

Filipe é o técnico de uma equipe de vôlei e escalou a equipe titular com os seguintes atletas: Joaquim, o Levantador; Jairo, o Oposto; Marcelo, Ricardo e Roberto, os Ponteiros; e Igor, o Meio de Rede. Para iniciar o jogo, Filipe precisa dispor os seis atletas em cada uma das seis possíveis posições, conforme figura ao lado. Porém, Joaquim e Jairo devem ficar em posições opostas (1 e 4, 3 e 6 ou 2 e 5).



**12** Assinale a alternativa que apresenta o número máximo de disposições iniciais diferentes que Filipe pode fazer com estes seis titulares, atendendo à restrição de oposição entre Joaquim e Jairo.

- A) 200
- B) 144
- C) 125
- D) 75
- E) 36

**13** Se Filipe desejar ainda que Igor, o Meio de Rede, inicie a partida na posição 3, assinale a alternativa que apresenta o número máximo de disposições iniciais diferentes que Filipe pode fazer com os outros cinco titulares, atendendo, ainda, à restrição de oposição entre Joaquim e Jairo.

- A) 120
- B) 48
- C) 24
- D) 20
- E) 5

**14** Rogério é o Engenheiro Civil responsável por duas obras de mobilidade na cidade de Piraquara: a construção de um viaduto e a ampliação do terminal rodoviário. Ele montou duas equipes de servidores, uma para cada obra. Como a obra do viaduto é prioritária para a Prefeitura, a equipe do viaduto possui 7 servidores a mais que a outra equipe. Ao todo, foram selecionados 33 servidores para as duas obras. Assim, pode-se afirmar que \_\_\_\_\_ servidores estão trabalhando na construção do viaduto e \_\_\_\_\_ servidores estão trabalhando na ampliação do terminal rodoviário.

Assinale a alternativa que apresenta os valores corretos para preencher os espaços vazios no parágrafo acima, ou seja, o número de servidores trabalhando nas equipes de construção do viaduto e de ampliação do terminal rodoviário, respectivamente.

- A) 20; 13.
- B) 10; 17.
- C) 13; 20.
- D) 22; 15.
- E) 33; 26.

**15** Uma das atribuições de um fonoaudiólogo é realizar exames de audiometria nos servidores da Prefeitura Municipal. Como possui outras atribuições, o fonoaudiólogo dedica três dias por semana para realizar os exames, e realiza, em média, 18 exames por semana. Considerando que a Prefeitura Municipal possui 258 servidores, assinale a alternativa que apresenta o tempo total para concluir todos os exames.

- A) 43 dias
- B) 40 dias
- C) 34 dias
- D) 28 dias
- E) 19 dias



**16** José Luís é Técnico em Construções da Prefeitura de Piraquara. Sua função inclui vistoria de obras. Atualmente ele está vistoriando três obras: uma reforma nos banheiros da Câmara Municipal de Piraquara (Obra 1), uma ampliação e modernização de todas as salas de reuniões da Prefeitura Municipal de Piraquara (Obra 2) e a restauração da fachada da Escola Municipal João Martins (Obra 3). Além da vistoria, ele precisa fazer a compra de material para cada obra. A tabela abaixo apresenta o custo de alguns materiais de construção orçados por José Luís.

Produtos	Embalagem	Preço
Cimento	Saco – 50 kg	R\$ 25,80
Azulejo	Caixa – 1 m <sup>2</sup>	R\$ 7,30
Massa Corrida	Tambor – 18 L	R\$ 69,90
Argamassa	Saco – 20 kg	R\$ 9,70
Tinta Branca	Tambor – 18 L	R\$ 143,20

A Obra 1 solicitou 20 m<sup>2</sup> de azulejo, 40 kg de argamassa e 36 L de tinta branca. A Obra 2 solicitou 300 kg de cimento, 54 L de massa corrida e 18 L de tinta branca. A Obra 3 solicitou 120 kg de argamassa, 40 m<sup>2</sup> de azulejo e 72 L de massa corrida. Com base nestas informações, assinale qual das alternativas abaixo está **INCORRETA**.

- A) Com o preço de uma embalagem de Tinta Branca pode-se comprar 5 embalagens de cimento.
- B) A diferença entre o maior e o menor custo de materiais entre as obras é de R\$ 178,00.
- C) O custo dos materiais solicitados na Obra 2, ampliação e modernização de todas as salas de reuniões da Prefeitura Municipal, é de R\$ 507,70.
- D) O custo dos materiais solicitados na Obra 1, reforma nos banheiros da Câmara Municipal, foi o menor dos três, totalizando R\$ 451,80.
- E) Se José Luís comprar apenas o cimento e a massa corrida solicitados pela Obra 2, gastará R\$ 365,40.

Observe as informações descritas abaixo e responda às questões 17 e 18 a seguir.

A Lei Municipal 911, de 24 de setembro de 2007, em seu Anexo 03, prevê a quantidade mínima de vagas de estacionamento para diversos tipos de edificações. O quadro abaixo apresenta algumas destas quantidades:

Tipo de Edificação	Número de Vagas
Prestação de Serviços	1 vaga a cada 50 m <sup>2</sup>
Comércio Varejista	1 vaga a cada 40 m <sup>2</sup>
Uso Religioso	1 vaga a cada 30 m <sup>2</sup>

Um Arquiteto da Prefeitura foi designado para avaliar os projetos apresentados para receber alvará de construção e verificar se estão adequados a esta legislação.

**17** Um dos projetos apresentados à Prefeitura para avaliação do Arquiteto é de um Supermercado que, segundo o projeto, será construído na forma de um galpão retangular com largura total de 28 m e comprimento total de 42 m. Assinale, então, a alternativa que apresenta a quantidade mínima de vagas de estacionamento que o Supermercado deverá disponibilizar para estar adequado à Lei Municipal 911/2007.

- A) 40 vagas
- B) 35 vagas
- C) 30 vagas
- D) 25 vagas
- E) 20 vagas

**18** Com base na Lei Municipal 911/2007 citada, analise os projetos abaixo quanto a sua adequação a esta legislação.

- I. O projeto de um salão de beleza apresenta área total edificada de 627 m<sup>2</sup>, e prevê 12 vagas de estacionamento.
- II. O projeto de uma igreja evangélica prevê 45 vagas de estacionamento e sua área total da edificação não ultrapassa 1350 m<sup>2</sup>.
- III. O projeto de uma loja de departamentos apresenta área total edificada de 1964,5 m<sup>2</sup> e prevê 45 vagas de estacionamento, logo serão necessárias ao menos 3 novas vagas.

Julgue os projetos acima e assinale a alternativa correta abaixo.

- A) Todos os projetos estão adequados à Lei Municipal 911/2007.
- B) Nenhum dos projetos está adequado à Lei Municipal 911/2007.
- C) Apenas o projeto I está adequado à Lei Municipal 911/2007.
- D) Apenas o projeto II está adequado à Lei Municipal 911/2007.
- E) Apenas o projeto III está adequado à Lei Municipal 911/2007.



**19** Eunice é Técnica em Higiene Dental em uma Unidade de Saúde de Piraquara. Certo dia, após a triagem, ficou definido que Eunice deveria atender 8 pacientes com as seguintes características: 2 pacientes encaminhados para remoção de placa e tártaro através de raspagem; 2 pacientes encaminhados para demonstração de técnicas de escovação visando prevenir a cárie dental; 3 pacientes encaminhados para polimento de restauração; 1 paciente encaminhado para remoção de sutura. Como nenhum caso apresentava urgência, Eunice sorteou dentre os oito casos qual seria o primeiro a ser atendido. Assinale a alternativa que apresenta a probabilidade de Eunice ter sorteado um paciente que necessita de polimento de restauração.

- A) 0,08
- B) 0,25
- C) 0,333
- D) 0,35
- E) 0,375

**20** César é Técnico em Enfermagem e recebeu as prescrições de um médico para administrar o medicamento ANTIDOREX em quatro pacientes diferentes (A, B, C e D). Este medicamento vem no estado líquido em um frasco de 50 mL, com a seguinte informação “ANTIDOREX 2,5 mg/mL” e para sua administração é diluído em soro e aplicado intravenoso. Abaixo está a prescrição, feita pelo médico responsável, para cada paciente.

Paciente	Idade / Doença	Prescrição
A	12 anos/Dor de cabeça	20 mg de ANTIDOREX
B	18 anos/Dor de dente	15 mg de ANTIDOREX
C	29 anos/Dor no joelho esquerdo	65 mg de ANTIDOREX
D	42 anos/Dor nas costas	100 mg de ANTIDOREX

Com base nessas informações, julgue os itens abaixo marcando Verdadeiro (V) ou Falso (F).

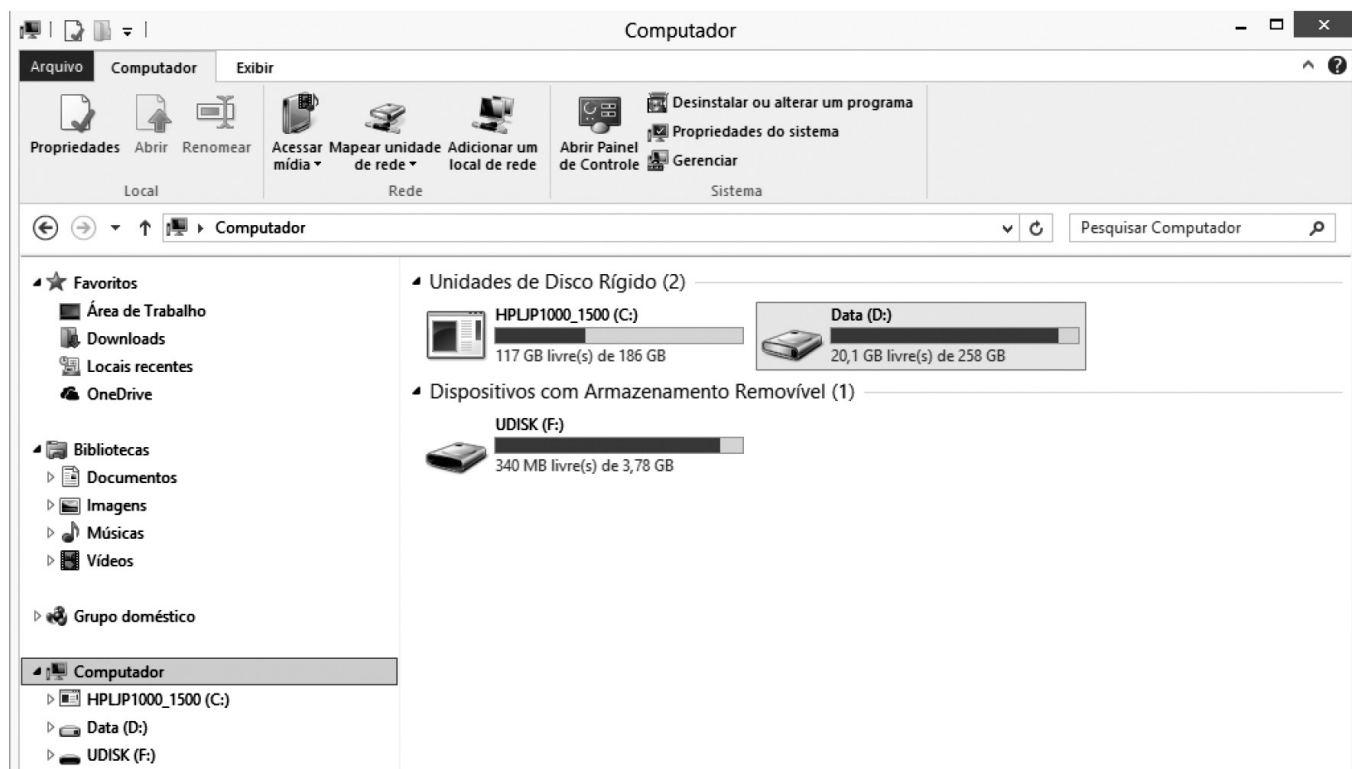
- ( ) César deverá administrar 9 mL de ANTIDOREX para o paciente A.
- ( ) César deverá administrar 6 mL de ANTIDOREX para o paciente B.
- ( ) César deverá administrar exatamente metade de um frasco de ANTIDOREX para o paciente C.
- ( ) César deverá administrar para o paciente D o quádruplo da dose administrada ao paciente A, ou seja, 40 mL de ANTIDOREX.
- ( ) Para administrar a medicação aos quatro pacientes, César necessita de 3 frascos de ANTIDOREX, ao menos, já que juntos os pacientes receberão mais que 100 mL do medicamento.

Assinale a alternativa que apresenta, de cima para baixo, a sequência correta:

- A) V – F – F – V – F
- B) F – V – F – V – F
- C) F – F – V – V – F
- D) V – V – V – F – V
- E) F – V – V – V – V



# INFORMÁTICA

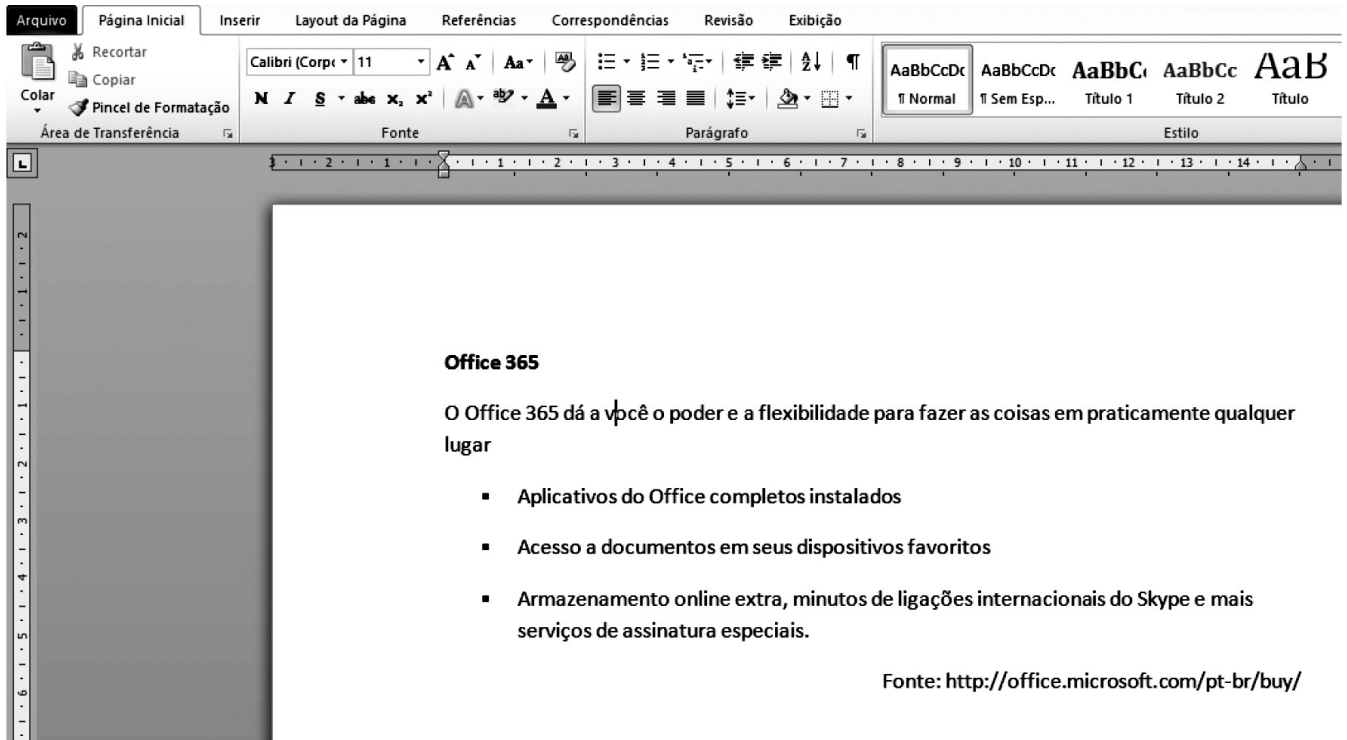


21 A figura acima mostra uma janela do Windows Explorer do Sistema Operacional Windows 8. Analisando a figura, pode-se afirmar corretamente que:








- A) o computador possui 3 ou mais unidades de HD instalados.
- B) há um dispositivo de armazenamento removível conectado ao computador.
- C) há um *pen drive* conectado ao computador por meio de uma porta AGP.
- D) não há *pen drive* algum conectado ao computador.
- E) não é possível abrir o Painel de Controle através dessa janela.

	A	B	C	D
1				
2	<b>Funcionário</b>	<b>Sexo</b>	<b>Idade</b>	
3	Ana Paula	F	24	
4	João Alfredo	M	36	
5	Luiz Guimarães	M	28	
6	Paula Fonseca	F	48	
7			34	





**22** Acerca do Microsoft Word 2010 e do texto digitado conforme mostra a figura acima, assinale a alternativa correta:

- A) A fonte utilizada no texto é Calibri (Corpo) tamanho 11.
- B) Para colocar o efeito sublinhado no título do texto e centralizá-lo, basta selecionar o título, pressionando as teclas  +  e, em seguida, clicando nos botões  e .
- C) Ao pressionar as teclas  +  e, em seguida, clicar no botão , será aplicado o efeito realce em todo o texto.
- D) A opção para Salvar o documento está na Guia Layout da Página, grupo Edições.
- E) Não é possível imprimir o documento sem antes salvá-lo em um dispositivo de armazenamento como o HD ou *pen drive*.

**23** Acerca da Internet e da Intranet, analise as afirmações a seguir:

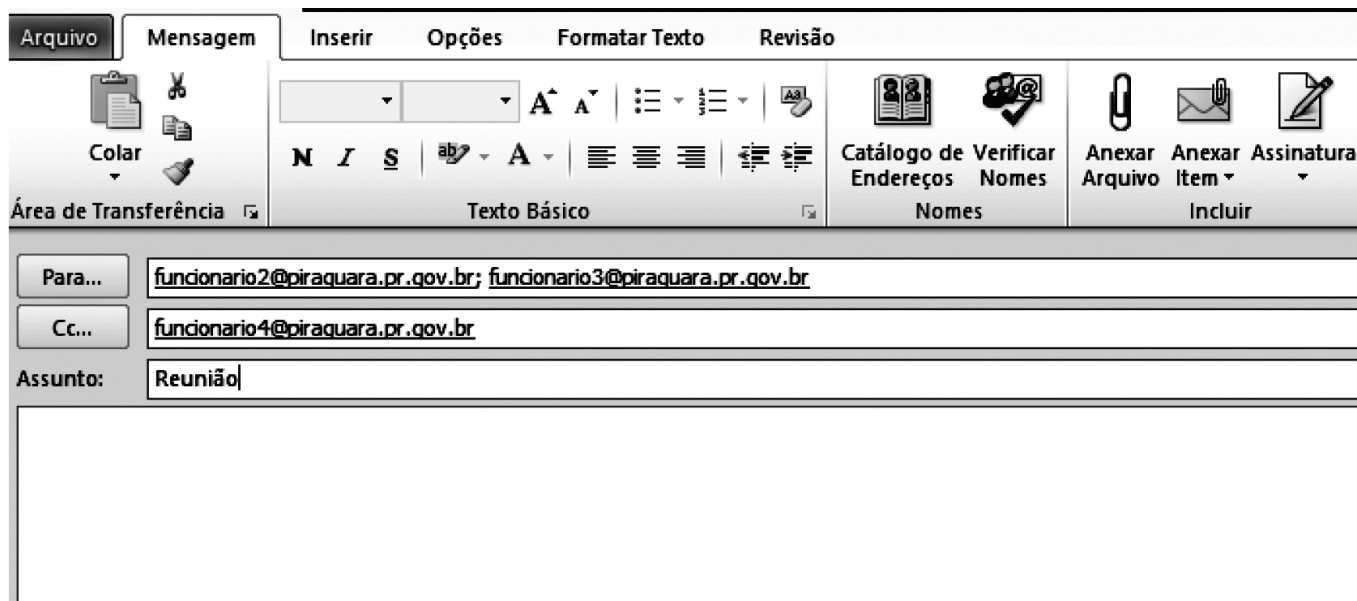
- I. A Internet é uma rede privada e a Intranet é uma rede pública na qual não é permitido o uso de servidores, pois cada máquina conectada na rede é denominada cliente.
- II. É o provedor que fornece o login e a senha para acesso à Internet.
- III. Na Internet, cada página www possui um endereço único, que é chamado URL.

**Assinale a alternativa correta:**


- A) Todas as afirmativas estão corretas.
- B) Todas as afirmativas estão incorretas.
- C) Somente as afirmativas II e III estão corretas.
- D) Somente as afirmativas I e II estão corretas.
- E) Somente a afirmativa I está correta.



**24** O correio eletrônico é um serviço que permite aos seus usuários trocarem mensagens entre si. Essa comunicação acontece porque cada um dos usuários possui um endereço único, que localiza um espaço conhecido como Caixa Postal. A caixa postal de um usuário apresenta um endereço no formato `usuario@dominio`. O funcionário1 da Prefeitura Municipal de Piraquara enviou um e-mail, utilizando o Microsoft Outlook 2010 para comunicar sobre a data de uma reunião. Ao analisar a imagem abaixo, é correto afirmar:




A) O destinatário `funcionario4@piraquara.pr.gov.br`, ao receber o e-mail, respondeu somente ao funcionário1,

clicando no botão  **Responder a Todos**.

B) Os destinatários `funcionario2@piraquara.pr.gov.br` e `funcionario3@piraquara.pr.gov.br` não sabem que o destinatário `funcionario4@piraquara.pr.gov.br` está participando da conversa, pois este é cópia oculta.

C) O destinatário `funcionario4@piraquara.pr.gov.br` está no campo Cópia Oculta de modo que se ele responder à

mensagem utilizando a opção  **Responder a Todos**, somente o `funcionario1@piraquara.pr.gov.br` receberá o e-mail.

D) O remetente `funcionario1@piraquara.pr.gov.br` poderá anexar arquivos utilizando esta janela do Microsoft Outlook 2010.

E) O remetente `funcionario1@piraquara.pr.gov.br` só poderá enviar a mensagem aos destinatários caso seus endereços eletrônicos estejam na lista de contatos do Microsoft Outlook 2010.

## CONHECIMENTOS ESPECÍFICOS

**25** Durante a Gestação, podem ocorrer algumas alterações no Sistema Digestório. A esse respeito, analise as proposições abaixo e, em seguida, assinale a alternativa que apresenta todas as corretas:

- I. São sintomas comuns no 1.º trimestre: náuseas, enjoo e vômitos matinais que podem vir a acarretar perda de apetite;
  - II. Dentre as alterações do Sistema digestório pode estar presente o retardo do trânsito intestinal (constipação intestinal e presença de hemorroidas);
  - III. Alterações gustativas e olfativas e alteração na preferência de alimentos como diminuição da sensibilidade ao sal, resultando em aumento do consumo;
  - IV. Ptialismo ou sialorreia (produção reduzida de saliva);
  - V. Picamalácia que seria a ingestão de substâncias não alimentares (gelo, argila, sabão e outros...).
- A) Somente I e III  
B) Somente I, II e V  
C) Somente II, III e V  
D) Somente II, III e IV  
E) Somente I, II, III e V

**26** Em relação às demandas energéticas e de nutrientes durante a gestação, é INCORRETO afirmar:

- A) Ocorre um aumento da Taxa Metabólica Basal para suprir necessidades do feto em 15 a 20% a partir do 2.º trimestre.
- B) O metabolismo glicídico garante a energia do feto, e 50 a 70% das calorias diárias ao feto no último trimestre (43 kcal/kg/dia) são derivadas da glicose.
- C) O metabolismo lipídico promove a conservação da glicose para o feto e para o sistema nervoso materno, promovendo também a mobilização de gordura corporal para produção de energia.
- D) Segundo a WHO (2007), recomenda-se um cálculo das necessidades proteicas com adicionais, e estes têm uma variação conforme os trimestres de gestação, sendo de 9 g/dia no primeiro e segundo trimestre e de 331 g/dia no terceiro trimestre.
- E) Recomenda-se que pelo menos 50% das proteínas ingeridas sejam de alto valor biológico.

**27** Em relação à importância do aleitamento materno, existem inúmeros fatores existentes relacionados aos seus benefícios, como:

- I. Crianças não amamentadas têm risco 3 vezes maior de desidratarem e morrerem por diarreia comparadas com as amamentadas.
- II. O aleitamento materno oferece inúmeros benefícios, porém não oferece proteção contra otites e pneumonias.
- III. Em relação ao sobrepeso e à obesidade na infância, observa-se menor frequência nas crianças que receberam aleitamento materno exclusivo, inclusive dados da OMS afirmam que estas crianças têm 22% menos chances de apresentar este diagnóstico.
- IV. É considerado o leite específico para a espécie humana, pois contém todos os nutrientes essenciais para o crescimento e desenvolvimento ótimos da criança; é mais bem digerido do que qualquer outro e supre todas as necessidades nutricionais da criança nos primeiros 6 meses.
- V. O ato de sugar traz para a criança o desenvolvimento adequado da cavidade oral, bem como melhor conformação do palato duro, o que é fundamental para o alinhamento correto dos dentes e uma boa oclusão dentária.

Assinale a alternativa que apresenta todos os itens corretos:

- A) Somente I e IV  
B) Somente I, II e V  
C) Somente I, III, IV e V  
D) Somente III e IV  
E) Somente II, III, IV e V

**28** Em relação à formação dos hábitos alimentares na alimentação complementar, assinale a alternativa INCORRETA.

- A) O profissional Nutricionista deve orientar aos pais que a rejeição inicial a um novo alimento é comum e não deve ser considerada uma aversão permanente.
- B) Os hábitos alimentares não sofrem influências genéticas e ambientais.
- C) Os pais são responsáveis pelo que é oferecido à criança, por isso é de suma importância que eles sejam orientados pelo profissional nutricionista.
- D) As crianças tendem a rejeitar alimentos que não lhes são familiares e, em média, são necessárias de 8 a 10 exposições a um mesmo alimento para que ele seja aceito pela criança.
- E) O profissional Nutricionista deve orientar aos pais que na maioria das vezes a criança tem autocontrole no consumo energético. Devido a isso, pais não devem insistir, superalimentar e utilizar de subterfúgios como chantagem, coação ou premiação.



**29** Existem diversos fatores que influenciam o funcionamento e a saúde da família. Assinale a alternativa INCORRETA.

- A) Os recursos disponíveis que um indivíduo tem (naturais, materiais, sociais, políticos, econômicos) determinam as condições de vida, porém não têm relação com a saúde desta pessoa.
- B) Em relação à saúde e à doença, os membros da família são interconectados e dependentes uns dos outros. Assim, ao ocorrer qualquer mudança na saúde de um dos seus membros, todos os demais são afetados e a unidade familiar como um todo será alterada.
- C) Cada indivíduo que compõe uma família está em constante desenvolvimento biológico e psicológico, e essas áreas de desenvolvimento são afetadas e afetam o desenvolvimento da família toda.
- D) Quando apoiado pela interação familiar, tanto o desenvolvimento individual quanto o familiar prosperam.
- E) Os problemas familiares resultam da maneira como os integrantes se relacionam uns com os outros, e não do comportamento de qualquer membro isolado.

**30** O ciclo de vida é uma ferramenta que auxilia o profissional nutricionista a compreender o paciente, devido a alguns fatores como:

- I. Dentre os estágios previsíveis do ciclo de vida estão: nascimento, infância, adolescência, saída de casa, vida adulta, aposentadoria, morte, dentre outros.
- II. Ao longo do tempo, todas as famílias atravessam uma série de estágios previsíveis, porém estes estágios não chegam a afetar e ter influência na organização e estrutura familiar.
- III. No ciclo de vida as gerações não se movem ao mesmo tempo; cada membro da família tem um movimento e uma adaptação independente dos outros membros da família.
- IV. A utilização da ferramenta do CICLO DE VIDA permite à equipe de saúde prever situações que podem alterar a dinâmica da família, preparando-a para o enfrentamento e resolução de conflitos, e desta forma diminuir os “motivos ocultos de consultas” ou os estressores previsíveis.

Assinale a alternativa que contém todos os itens corretos:

- A) Somente I e II
- B) Somente I, II e III
- C) Somente II e IV
- D) Somente I e IV
- E) Somente I e III

**31** Assinale a alternativa que completa corretamente o texto a seguir:

*Considerando as recomendações da Organização Mundial da Saúde – OMS e Organização Panamericana da Saúde – OPAS de fortificação de produtos alimentícios com ferro e ácido fólico e as atribuições emanadas da Comissão Interinstitucional de Condução e Implementação das Ações de Fortificação, coordenada pelo Ministério da Saúde e considerando que a anemia ferropriva representa um problema nutricional importante no Brasil, com severas consequências econômicas e sociais, a ANVISA, através da RESOLUÇÃO – RDC n.º 344, de 13 de dezembro de 2002, tornou obrigatória a adição de ferro e ácido fólico nos seguintes alimentos:*

- A) leite e pão.
- B) farinha de trigo e de milho.
- C) sal e farinha de trigo.
- D) leite e farinha de milho.
- E) feijão e leite.

**32** Quais são os grupos populacionais que mais necessitam de vitamina A

- A) Ocorre a distribuição gratuita de suplementos de ferro (para o público-alvo) na rede de saúde, em todos os municípios brasileiros.
- B) A redução da anemia por carência de ferro no Brasil está entre as diretrizes da Política Nacional de Alimentação e Nutrição.
- C) Ocorre a Suplementação parcial (apenas das que necessitam) de crianças de 6 a 18 meses, gestantes a partir da 20.ª semana e mulheres no pós-parto.
- D) A fortificação dos alimentos tem o objetivo de aumentar a disponibilidade de alimentos ricos em ferro e ácido fólico para a população brasileira.
- E) A redução da anemia por carência de ferro no Brasil está entre as diretrizes da Política Nacional de Alimentação e Nutrição.

**33** Quais são os grupos populacionais que mais necessitam de vitamina A e que são mais vulneráveis à deficiência dela?

- I. As gestantes e mulheres que amamentam (puérperas);
- II. As crianças de 0 a 05 anos;
- III. As mulheres que amamentam (puérperas);
- IV. As crianças a partir do 6.º mês até 5 anos ;
- V. Crianças de 05 a 10 anos e gestantes;

Assinale a alternativa que contém todos os itens corretos:

- A) Somente I e II
- B) Somente II e III
- C) Somente III e IV
- D) Somente III e V
- E) Somente I, II e III



**34** Sobre a utilização do Iodo, assinale a alternativa **INCORRETA**:

- A) As estratégias dirigidas a controlar a deficiência de iodo devem ser permanentes e fundamentalmente preventivas.
- B) O iodo é distribuído gratuitamente a toda a indústria salineira e, devido a isso, não é necessário ocorrer uma fiscalização severa.
- C) O público-alvo são gestantes, nutrizes e crianças menores de dois anos de idade.
- D) Deve haver a iodação do sal no Brasil, com uma legislação pertinente.
- E) A OMS determina que a iodação adequada do sal para consumo humano é a estratégia mais efetiva, de menor custo e de mais fácil implementação em quase todos os países.

**35** A Mini Avaliação Nutricional (MAN) provou ser um indicador prognóstico significativo para morbidade, mortalidade e outros desfechos adversos em idosos. Baixos escores da MAN foram associados com maior tempo de hospitalização, maior frequência de alta para instituições e mortalidade quase três vezes maior. Com relação aos parâmetros avaliados pela MAN e que se correlacionam ao nutricional do idoso, marque V (verdadeiro) ou F (falso):

- ( ) Hematológicos (hematócrito e hemoglobina);
- ( ) Ingestão energética e de nutrientes(carboidrato, fibra, cálcio, vitamina D, ferro, vitamina B6 e vitamina C);
- ( ) Dificuldades relacionadas ao autocuidado;
- ( ) Antropométricos (peso, altura, circunferência do braço, circunferência da panturrilha e circunferência abdominal);
- ( ) Teste ergométrico (prognóstico da doença arterial coronária, arritmias durante o esforço e comportamento da pressão arterial ao esforço);
- ( ) Dificuldades demastigação e deglutição, dentição inadequada e deficiência visual.

**Assinale a alternativa que, de cima para baixo, apresenta a sequência correta:**

- A) V – V – V – V – F – F
- B) F – V – F – V – V – V
- C) V – V – F – V – F – V
- D) V – V – F – V – V – V
- E) V – F – F – V – F – V

**36** Um indivíduo praticante de musculação procura um nutricionista para adequar sua dieta ao treinamento, pois tem interesse em ganhar massa muscular e reduzir o percentual de gordura. Analisando sua alimentação, o profissional diagnostica que sua dieta é hiperproteica com uso de suplementos de proteínas e aminoácidos e restritiva em carboidratos. Com base nos dados do caso apresentado, analise as afirmações abaixo.

- I. O padrão alimentar adotado contribui para o emagrecimento, visto que as proteínas não engordam tanto quanto os carboidratos.
- II. Visto que é praticante de musculação, um exercício anaeróbio, a dieta hipoglicídica adotada contribui para um ótimo desempenho da sua modalidade esportiva.
- III. O desequilíbrio na proporção dos nutrientes da sua dieta não obedece à 1.ª Lei Fundamental da Alimentação, que é a Lei da Harmonia.
- IV. Esta dieta pode ser danosa para os rins e fígado, devido à necessidade de eliminar a ureia sintetizada a partir do grupo amino dos aminoácidos.
- V. Para não prejudicar o ritmo de estudos do paciente, a nutricionista deverá oferecer carboidratos na forma de fibras para aumentar o fornecimento de energia para seu cérebro, sem prejudicar seu emagrecimento.

**Sobre o caso apresentado, assinale a alternativa correta:**

- A) Todas as afirmativas estão corretas.
- B) Estão corretas apenas as afirmações I, II e IV.
- C) Estão corretas apenas as afirmações II, IV e V.
- D) Está correta apenas a afirmação IV.
- E) Estão corretas apenas as afirmações I e V.

**37** Quanto ao dimensionamento de áreas em UAN, marque a alternativa **INCORRETA**:

- A) A Portaria 3.214 de 8/6/78 e a Norma Regulamentadora (NR) 24, que trata das condições sanitárias e de conforto dos locais de trabalho, estabelecem que empresas com mais de 300 funcionários devem possuir um “refeitório”.
- B) Esse salão deve prever, no mínimo, 1 m<sup>2</sup> por funcionário, podendo abrigar, de cada vez, 1/3 do total de funcionários (por turno).
- C) A NR 24 estabelece, ainda, que a área de produção das refeições deverá ter comunicação direta com o salão de refeições e pé direito mínimo de 3 m.
- D) A área mínima da área de produção deve ser de 35 % da do salão de refeições, e a área de estocagem deve ser de 20%.
- E) Parâmetros como número de refeições, padrão de cardápios, tipos de serviços oferecidos, sistema de distribuição, política de compras e abastecimento e as características específicas do estabelecimento não impactam diretamente no planejamento e definição das dimensões de uma UAN.



**38** Com base nos conteúdos estudados em “*Metodologia para pesos e medidas*”, analise as afirmativas e considere se são verdadeiras (V) ou falsas (F):

- ( ) São utensílios utilizados para a determinação das medidas caseiras: provetas, béqueres e recipientes graduados.
- ( ) Algumas vantagens da utilização das medidas caseiras são a disponibilidade destes utensílios e a facilidade da execução das medidas.
- ( ) Os utensílios usados para a determinação das medidas caseiras são geralmente de fácil acesso e de baixo custo.
- ( ) O estabelecimento das medidas caseiras têm a finalidade de padronizar as medidas dos ingredientes de receitas e a prescrição das orientações dietoterápicas.
- ( ) Farinhas ou grãos não devem ser pressionados para serem medidos; se estiverem encaroçados, peneirar ou usar uma colher para desmanchar os grumos.

**A sequência correta, de cima para baixo, é:**

- A) V – V – V – F – V
- B) V – F – V – F – V
- C) F – V – V – V – V
- D) F – V – V – V – F
- E) V – V – F – F – F

**39** A Ingestão Dietética de Referência – IDR ou DRI’s – Dietary Reference Intakes é um conjunto de quatro valores de referência correspondentes às estimativas quantitativas da ingestão de nutrientes para serem utilizados na avaliação e no planejamento de dietas e planos alimentares de indivíduos e grupos populacionais, segundo estágios do ciclo vital e gênero. Com base nesses dados, assinale a alternativa INCORRETA:

- A) Os valores de RDA indicam que a ingestão habitual neste nível ou acima dele mostra pouca probabilidade de ser inadequada para indivíduos e baixa prevalência de inadequação para grupos.
- B) As EAR’s são utilizadas para avaliar a adequação de ingestão em grupos populacionais ou prevalência de inadequação de ingestão.
- C) A AI é utilizada quando as RDA’s e EAR’s não podem ser determinadas por falta de dados.
- D) Os valores de UL não têm a intenção de ser “recomendados”; devem ser utilizados quando da avaliação de dietas com consumo de alimentos fortificados e suplementos.
- E) Para a avaliação e planejamento de planos alimentares para grupos, devem ser utilizadas as RDA e a AI.

**40** Considere o seguinte caso: Paciente do sexo masculino, 38 anos, advogado, 3 meses de pós-operatório de cirurgia bariátrica (realizou técnica cirúrgica de Capella, onde ocorre uma gastrectomia parcial e desvio de parte do duodeno). Sua dieta já atingiu a consistência sólida, sobre a qual ele refere consumo de todos os grupos alimentares, apresentando algum desconforto quando consome alguns tipos de carne. Seus exames apontam para uma anemia ferropriva e hipocalcemia. Considerando os aspectos que interferem nas fases da nutrição (alimentação, digestão, absorção, metabolização e excreção de nutrientes), considere as asserções abaixo e, em seguida, assinale a opção correta:

- I. A intolerância à carne se deve ao fato de que a digestibilidade das proteínas animais é inferior às proteínas de origem vegetais.
  - II. A anemia ferropriva e hipocalcemia justificam-se pela associação de fatores relacionados à alteração do pH gástrico, que por sua vez pode comprometer a absorção duodenal dos referidos nutrientes que dependem da acidez para se tornarem mais solúveis.
  - III. A anemia ferropriva e hipocalcemia ocorreram principalmente pela insuficiência de consumo de alimentos fontes de Ca e Fe, aliados à alta excreção urinária destes nutrientes.
  - IV. Dieta rica em cálcio e ferro aliado a suplementos orais de Ca e Fe contribuem intensamente para terapêutica da anemia e hipocalcemia no paciente.
  - V. Dieta líquida resolveria o problema, pois os nutrientes estarão mais hidrolisados e consequentemente serão mais bem absorvidos.
- A) Apenas I, II e IV estão corretas.
  - B) Apenas I, III e IV estão corretas.
  - C) Todas estão corretas.
  - D) Apenas V está incorreta.
  - E) Apenas II está correta.



