



PREFEITURA DE
PIRAQUARA

PREFEITURA MUNICIPAL DE PIRAQUARA

ESTADO DO PARANÁ

EDITAL DE CONCURSO PÚBLICO N.º 057/2014

PROFESSOR

INSTRUÇÕES

[Estas instruções passam a fazer parte do Edital n.º 057/2014 da Prefeitura Municipal de Piraquara.]

01. Deixe sobre a carteira escolar apenas o material estritamente necessário para a realização da prova (caneta, lápis, borracha e apontador) e a Cédula de Identidade.
02. No decorrer da prova, você assinará a **lista de presença**.
03. Você receberá do Fiscal os seguintes materiais:
 - a) **este caderno de prova**; e
 - b) **a folha de respostas**.

CADERNO DE PROVA

04. Este caderno de prova deve conter **40 (quarenta) questões**, numeradas de 01 a 40. Confira-o **antes** de iniciar a prova. Caso encontre algum defeito, levante o braço e aguarde a chegada do Fiscal. Após a prova ser iniciada, não será aceita qualquer reclamação sobre falhas na impressão e/ou montagem.
05. Em cada questão, somente **UMA alternativa será aceita como resposta**.
06. A interpretação das questões é parte integrante da prova. **Evite perguntas**.
07. A prova é **individual**. É vedada a comunicação entre os candidatos durante a prova.

FOLHA DE RESPOSTAS

08. **Confira se o seu nome, número de inscrição e número de sua identidade** estão corretos na folha de respostas. Caso contrário, notifique imediatamente o Fiscal.
 09. Não amasse, nem dobre a folha de respostas. **Preencha-a com caneta esferográfica azul ou preta, escrita grossa**. Não faça uso de borracha ou corretivo.
 10. A marcação na folha de respostas é de inteira **responsabilidade do candidato**.
 11. Procure **responder a todas as questões**. As questões não respondidas, com mais de uma resposta ou preenchidas em desacordo com as instruções da folha de respostas serão consideradas nulas.
 12. Ao terminar a prova, **devolva ao Fiscal a folha de respostas**. Após a entrega, **retire-se do local de prova**.
-
13. **Duração da prova**: 03h (três horas), já incluído o tempo destinado à identificação do candidato e ao preenchimento da folha de respostas.
 14. **Guarde o seu relógio** antes do início da prova. O tempo de realização da prova será controlado pelo Fiscal de sala.
 15. **Desligue o seu telefone celular** antes do início da prova e guarde-o.
 16. Você somente poderá **retirar-se da sala de provas** após decorrida 1 (uma) hora de seu início.
 17. Você poderá levar o seu caderno de prova **somente após duas horas do início da prova**.
 18. Os **03 (três) últimos candidatos** de cada sala deverão entregar a folha de respostas ao mesmo tempo, assinar o **Termo de Encerramento de Prova** e retirar-se, todos juntos, da sala.
 19. A **desobediência** a qualquer uma das determinações destas instruções ou das constantes da folha de respostas **poderá implicar a anulação da sua prova**.



Identidade com foto
sobre a carteira escolar



Não use



Não use



Não use



Elaboração: CEC – Núcleo de Concursos

É permitida a reprodução desse material, apenas para fins didáticos, desde que citada a fonte.

APLICAÇÃO: 19/10/2014

LÍNGUA PORTUGUESA

O texto a seguir servirá de base para você responder às questões de 1 a 3.

O MAPA DO CÉREBRO

Drauzio Varella

O cérebro humano é a estrutura mais complexa do Universo. Decifrar os mecanismos por meio dos quais ele consegue criar movimentos, percepções, pensamentos, memórias e a consciência é o maior desafio científico de todos os tempos.

Está prestes a ser criado o BAM – *Brain Activity Map* (Mapa da Atividade Cerebral) –, um megaprojeto organizado para desenvolver novas gerações de técnicas que permitam mapear a atividade de neurônio por neurônio, com precisão de milissegundos.

Parece pretensão paranoide, mas não é. A neurociência tem feito enormes avanços na tecnologia que tornou possível estudar as funções de neurônios isolados.

Imagens do cérebro em ação podem ser obtidas através da ressonância magnética funcional, método que consiste em injetar na veia glicose marcada com isótopos radioativos, e analisar através da ressonância sua distribuição pelas diferentes áreas cerebrais, enquanto a pessoa realiza funções como andar, rir, olhar para figuras que despertam compaixão, raiva, atração sexual, solidariedade.

Apesar desses avanços, os mecanismos responsáveis pela percepção, cognição e ação permanecem misteriosos porque resultam de interações em tempo real de grande número de neurônios, conectados em redes que formam circuitos de altíssima complexidade.

O projeto BAM propõe construir pontes que permitam descrever e manipular as atividades desses circuitos e redes de neurônios e até de cérebros inteiros, com a precisão em microescala de neurônio por neurônio.

O programa tem três objetivos:

- 1) Construir ferramentas capazes de, a um só tempo, obter imagens da maioria ou de todos os neurônios que fazem parte de cada circuito envolvido nas funções cerebrais;
- 2) Desenvolver métodos para interferir com o funcionamento de cada neurônio, desses circuitos;
- 3) Entender as funções essenciais de circuito por circuito.

Para atingir tais objetivos, é necessário criar programas de informática capazes de armazenar, mani-

pular e compartilhar dados de imagens e propriedades fisiológicas, em larga escala, que serão compartilhados com todos os investigadores participantes. Será obrigatoriamente um esforço de colaboração internacional entre neurocientistas, físicos, engenheiros e teóricos que trabalham na academia ou na indústria.

Dentro de cinco anos, vai ser possível monitorar ou controlar dezenas de milhares de neurônios. Ao redor dos dez anos, esse número terá sido multiplicado por dez.

Aos 15 anos, já poderemos observar a ação simultânea de um milhão de neurônios. Nessa fase, estaremos aptos a avaliar a função do cérebro inteiro do minúsculo peixe-zebra – usado como modelo em laboratório – ou de determinadas áreas do córtex cerebral de camundongos e de primatas.

Quando essa metodologia estiver disponível, poderá ser utilizada para diagnosticar e tratar distúrbios neuropsiquiátricos, ajudar na recuperação de funções perdidas depois de derrames cerebrais e criar teorias a respeito da cognição e do comportamento humano, baseadas em evidências.

Transtornos cerebrais devastadores como demências, esquizofrenia, depressão, autismo, epilepsia têm suas origens na desorganização das interações entre circuitos de neurônios, no interior do cérebro. Da mesma forma, as perdas de movimentos voluntários provocadas por derrames, paralisia cerebral, esclerose múltipla ou traumatismos medulares que desconectam os centros cerebrais do restante do corpo, poderão ser tratadas e corrigidas por meio dessas novas tecnologias.

As atividades econômicas envolvidas no BAM serão comparáveis às do Projeto Genoma, que exigiu investimentos da ordem de US\$ 3,8 bilhões, mas gerou US\$ 800 bilhões de impacto econômico. O financiamento deverá vir de fontes governamentais e da iniciativa privada.

Lamento não estarmos vivos – você e eu, leitor – para assistirmos à descrição das bases neurais da consciência, o desafio maior.

A consciência seria uma característica especial e exclusiva de nossa espécie ou apenas um subproduto natural de cérebros mais complexos, que emergiria como simples consequência da integração da experiência individual com as informações sensoriais?

Haverá resposta para indagações como essas?

VARELLA, Drauzio. O mapa do cérebro.
Folha de S. Paulo, 3 maio 2014.

01 Levando-se em conta as informações contidas no texto, analise as afirmações a seguir.

- I. O autor termina o seu texto se perguntando se a consciência seria algo inerente à nossa espécie ou se seria o resultado da interação entre as nossas informações sensoriais e nossas experiências individuais.
- II. A frase do antepenúltimo parágrafo (“Lamento não estarmos vivos – você e eu, leitor – para assistirmos à descrição das bases neurais da consciência, o desafio maior.”) expressa a total descrença do autor em relação ao projeto.
- III. A total ausência de vocativos indica que o autor, além de objetivo, não faz qualquer concessão no sentido de se dirigir ao leitor, o que mostra que se trata de um texto que se enquadra numa modalidade científica.

Está(ão) correta(s):

- A) somente I.
- B) somente II.
- C) somente III.
- D) somente I e II.
- E) somente II e III.

02 Levando-se em conta exclusivamente as informações do texto, assinale a afirmativa correta.

- A) O principal objetivo do BAM é o de injetar na veia glicose marcada com isótopos radioativos para analisar os neurônios.
- B) O BAM pretende analisar, através da ressonância, os neurônios das pessoas no momento em que estão realizando funções como andar, rir, olhar para pessoas que despertam compaixão.
- C) O autor do texto critica o projeto BAM por considerá-lo muito pretensioso.
- D) Apesar de já existirem ferramentas capazes de, simultaneamente, obter imagens de todos os neurônios do cérebro, o BAM pretende desenvolver também métodos para interferir no funcionamento de cada neurônio.
- E) Para a consecução do BAM, será necessária a colaboração de vários estudiosos e profissionais em escala internacional.

03 Observe a frase a seguir, retirada do texto-base.

As atividades econômicas envolvidas no BAM serão comparáveis às do Projeto Genoma, que exigiu investimentos da ordem de US\$ 3,8 bilhões, mas gerou US\$ 800 bilhões de impacto econômico.

Em qual das alternativas a seguir temos um uso de crase que tem a mesma justificativa que teria a da ocorrência de crase utilizada em “às” na frase acima?

- A) Ele assistiu **à** peça do seu melhor amigo.
- B) Ele se refere **à** que saiu, mas todos ainda ficaram em dúvida.
- C) A aula começou exatamente **às** dez horas da manhã.
- D) Ninguém foi **à** festa depois dos últimos acontecimentos.
- E) Logo **à** entrada da fazenda, ele encontrou o carro perdido.

04 No quarto parágrafo, temos uma vírgula antes do “E”, perfeitamente justificável em função do conjunto da frase e dos elementos que a compõem. Em qual das frases a seguir, pelo mesmo motivo, temos que adicionar uma vírgula antes do “E” para que a frase fique correta?

- A) A consciência ecológica, pressuposto tão importante, deve ser mais trabalhada com os alunos para que compreendam **e** saibam explicar com mais profundidade a razão da preservação da Terra.
- B) É importante ressaltar que, apesar de tudo, a conferência foi organizada sem o patrocínio da rede privada **e** sem que os participantes precisassem arcar com qualquer custo adicional.
- C) Muitas pesquisas são necessárias nas práticas médicas nas cidades **e** estados antes da realização dessas conferências.
- D) Temos de garantir que os médicos exerçam as suas funções de forma honesta, condição mínima para um bom tratamento **e** que estejam sempre acessíveis aos doentes.
- E) Os vencedores foram convidados a participar da conferência como convidados da comissão organizadora **e** solicitados a apresentar seus trabalhos na conferência, motivo pelo qual todos ficaram contentes.

05 Leia o trecho a seguir:

Da mesma forma, as **perdas** de movimentos voluntários provocadas por derrames, paralisia cerebral, esclerose múltipla ou traumatismos medulares que desconectam os centros cerebrais do restante do corpo, **poderão** ser tratadas e corrigidas por meio dessas novas tecnologias.

Quando lemos alguns textos, é comum encontramos construções em que há uma distância muito grande entre o sujeito da frase e o verbo que corresponde a ele. Na frase citada, por exemplo, o verbo “poder” vai para o plural (“poderão”) porque está concordando com o núcleo “perdas”, que aparece muitas palavras antes. Em função dessa distância ou da inversão da posição sujeito/verbo, é comum as pessoas errarem a concordância em algumas frases. Assinale a alternativa em que ocorreu um ERRO de concordância.

- A) Internacionalmente e também no Brasil vêm sendo discutidas as inconsistências da tentativa de utilizar uma diretriz de revisão ética única para todas as pesquisas em saúde.
- B) Embora tenha ocorrido apenas na esfera privada, esses problemas ainda permanecem sem solução, tanto aqui quanto na Europa.
- C) Trata-se, apesar de tudo, de questões essenciais para a saúde e o bom desempenho funcional dos indivíduos que trabalham nessa empresa.
- D) Já houve, tanto na esfera pública quanto na esfera privada, diversas manifestações de descontentamento com o salário que se paga aos funcionários.
- E) Intervêm, em situações muito semelhantes a essa, tantos fatores aleatórios que não há como prevê-los com muita antecedência.

06 Analise as frases a seguir.

- A. Não podemos afirmar por que o cliente está bravo.
- B. Não podemos afirmar porque o cliente está bravo.
- C. O cliente está bravo e não sabemos afirmar por quê.

Avalie os comentários sobre essas frases, assinando (V) para verdadeiro e (F) para falso.

- () Na frase A, não sabemos qual é a razão de o cliente estar bravo.
- () Na frase B, o motivo pelo qual não podemos afirmar algo é o fato de o cliente estar bravo.
- () A frase C tem o mesmo sentido que o da frase A.
- () A frase C está gramaticalmente incompleta.

Assinale a sequência correta, de cima para baixo.

- A) V – F – V – F
- B) V – F – F – F
- C) V – V – V – F
- D) F – V – F – V
- E) V – F – F – V

07 Leia com atenção o trecho a seguir.

A ambiguidade é um problema de construção na produção da mensagem. Ela se dá a partir de vários fatores.

Como você deve ter observado, o pronome “ela” pode ter vários referentes (pode ser “ambiguidade”, “construção”, “produção” ou “mensagem”), por isso, essa construção é considerada ambígua. Agora, analise as frases a seguir.

- I. Atlético quebra invencibilidade do São Paulo em casa.
- II. O deputado falou para os seus colegas que suas observações, quanto ao relatório apresentado, não deveriam ser revistas.
- III. Policial atira em assaltante com arma de brinquedo em São Paulo.

Assinale a alternativa que contém um comentário INCORRETO sobre essas frases.

- A) A frase I é ambígua e uma das possibilidades de reconstruí-la sem ambiguidade seria a seguinte: “Em casa, Atlético quebra invencibilidade do São Paulo”.
- B) A frase II é ambígua e uma das possibilidades de reconstruí-la sem ambiguidade seria a seguinte: “O deputado falou para os seus colegas que as observações dele, quanto ao relatório apresentado, não deveriam ser revistas”.
- C) A frase II é ambígua e uma das possibilidades de reconstruí-la sem ambiguidade seria a seguinte: “O deputado falou para os seus colegas que as observações deles, quanto ao relatório apresentado, não deveriam ser revistas”.
- D) A frase III é ambígua e uma das possibilidades de reconstruí-la sem ambiguidade seria a seguinte: “Policial atira em assaltante que estava com arma de brinquedo”.
- E) A frase III é ambígua e uma das possibilidades de reconstruí-la sem ambiguidade seria a seguinte: “Policial atira em assaltante portando uma arma de brinquedo”.

08 Observe a sequência de frases a seguir.

- I. A moça saiu ontem à tarde. Assisti ao filme da moça.
- II. A moça a cujo filme assisti saiu ontem à tarde.

Como você observou, houve adequação no uso do pronome relativo e obediência à regência verbal da norma padrão escrita. Assinale a alternativa em que houve erro em II na junção das frases contidas em I.

- A) I. A moça saiu ontem à tarde. Reconheci a moça durante a festa.
II. A moça que reconheci durante a festa saiu ontem à tarde.
- B) I. A moça saiu ontem à tarde. Simpatizei com as ideias da moça.
II. A moça com cujas ideias simpatizei saiu ontem à tarde.
- C) I. A moça saiu ontem à tarde. Todos dispuseram das brilhantes ideias da moça.
II. A moça de cujas brilhantes ideias todos simpatizaram saiu ontem à tarde.
- D) I. A moça saiu ontem à tarde. Concordo plenamente com as ideias da moça.
II. A moça cujas ideias concordo plenamente saiu ontem à tarde.
- E) I. A moça saiu ontem à tarde. Todos adoram a moça.
II. A moça que todos adoram saiu ontem à tarde.

09 Leia as palavras a seguir.

- I. fábrica
- II. revólver
- III. decretará

Assinale a alternativa que indica a(s) palavra(s) cuja retirada do acento implica mudança de classe gramatical.

- A) somente em I.
- B) somente em II.
- C) somente em III.
- D) somente em I e II.
- E) em I, II e III.

10 Leia os quadrinhos a seguir.



Laerte. In: <<http://literarizando.wordpress.com/2011/04/11/figuras-de-linguagem-ironia-e-eufemismo/>>

Assinale a alternativa que contém uma afirmação INCORRETA sobre os quadrinhos de Laerte.

- A) À medida que o personagem de óculos ameaça, o outro personagem (à esquerda de cada quadrinho) vai amenizando as acusações que faz contra ele.
- B) No terceiro quadrinho, o autor emprega a forma verbal “espera”. Mantendo a uniformidade de tratamento, caso quisesse substituir esse verbo pelo verbo “escutar”, empregaria a forma “escute”.
- C) O último quadrinho mostra a ironia do autor ao colocar o personagem da esquerda invertendo completamente aquilo que tinha a dizer sobre o outro.
- D) No terceiro e quarto quadrinhos, o autor transforma os pontos de exclamações em pontos de interrogações, transformando suas afirmações em indagações.
- E) No primeiro quadrinho, há uma acusação aberta contra o outro, mas, à medida que os quadrinhos evoluem, vai havendo uma suavização dessas mesmas acusações.

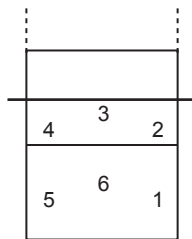
RACIOCÍNIO LÓGICO-MATEMÁTICO

11 Carlos é fisioterapeuta e trabalha em um Estúdio de Pilates. Ele atende até três pacientes por sessão e cada sessão dura 45 minutos. Carlos recebe R\$ 25,00 por sessão de Pilates de cada cliente atendido, independente do número de clientes na sessão. Certa manhã, Carlos observou que sua agenda estava praticamente lotada, pois tinha sessões programadas a partir das 8h 00min até as 12h 30min, sem intervalos, e que apenas na última sessão havia um único paciente para atender, sendo que nas demais sessões havia três pacientes. Assinale a alternativa que apresenta o valor total recebido, por Carlos, naquela manhã.

- A) R\$ 1.000,00
- B) R\$ 675,00
- C) R\$ 450,00
- D) R\$ 400,00
- E) R\$ 150,00

Observe a situação descrita abaixo e responda às questões 12 e 13 a seguir.

Filipe é o técnico de uma equipe de vôlei e escalou a equipe titular com os seguintes atletas: Joaquim, o Levantador; Jairo, o Oposto; Marcelo, Ricardo e Roberto, os Ponteiros; e Igor, o Meio de Rede. Para iniciar o jogo, Filipe precisa dispor os seis atletas em cada uma das seis possíveis posições, conforme figura ao lado. Porém, Joaquim e Jairo devem ficar em posições opostas (1 e 4, 3 e 6 ou 2 e 5).



12 Assinale a alternativa que apresenta o número máximo de disposições iniciais diferentes que Filipe pode fazer com estes seis titulares, atendendo à restrição de oposição entre Joaquim e Jairo.

- A) 200
- B) 144
- C) 125
- D) 75
- E) 36

13 Se Filipe desejar ainda que Igor, o Meio de Rede, inicie a partida na posição 3, assinale a alternativa que apresenta o número máximo de disposições iniciais diferentes que Filipe pode fazer com os outros cinco titulares, atendendo, ainda, à restrição de oposição entre Joaquim e Jairo.

- A) 120
- B) 48
- C) 24
- D) 20
- E) 5

14 Rogério é o Engenheiro Civil responsável por duas obras de mobilidade na cidade de Piraquara: a construção de um viaduto e a ampliação do terminal rodoviário. Ele montou duas equipes de servidores, uma para cada obra. Como a obra do viaduto é prioritária para a Prefeitura, a equipe do viaduto possui 7 servidores a mais que a outra equipe. Ao todo, foram selecionados 33 servidores para as duas obras. Assim, pode-se afirmar que _____ servidores estão trabalhando na construção do viaduto e _____ servidores estão trabalhando na ampliação do terminal rodoviário.

Assinale a alternativa que apresenta os valores corretos para preencher os espaços vazios no parágrafo acima, ou seja, o número de servidores trabalhando nas equipes de construção do viaduto e de ampliação do terminal rodoviário, respectivamente.

- A) 20; 13.
- B) 10; 17.
- C) 13; 20.
- D) 22; 15.
- E) 33; 26.

15 Uma das atribuições de um fonoaudiólogo é realizar exames de audiometria nos servidores da Prefeitura Municipal. Como possui outras atribuições, o fonoaudiólogo dedica três dias por semana para realizar os exames, e realiza, em média, 18 exames por semana. Considerando que a Prefeitura Municipal possui 258 servidores, assinale a alternativa que apresenta o tempo total para concluir todos os exames.

- A) 43 dias
- B) 40 dias
- C) 34 dias
- D) 28 dias
- E) 19 dias



16 José Luís é Técnico em Construções da Prefeitura de Piraquara. Sua função inclui vistoria de obras. Atualmente ele está vistoriando três obras: uma reforma nos banheiros da Câmara Municipal de Piraquara (Obra 1), uma ampliação e modernização de todas as salas de reuniões da Prefeitura Municipal de Piraquara (Obra 2) e a restauração da fachada da Escola Municipal João Martins (Obra 3). Além da vistoria, ele precisa fazer a compra de material para cada obra. A tabela abaixo apresenta o custo de alguns materiais de construção orçados por José Luís.

Produtos	Embalagem	Preço
Cimento	Saco – 50 kg	R\$ 25,80
Azulejo	Caixa – 1 m ²	R\$ 7,30
Massa Corrida	Tambor – 18 L	R\$ 69,90
Argamassa	Saco – 20 kg	R\$ 9,70
Tinta Branca	Tambor – 18 L	R\$ 143,20

A Obra 1 solicitou 20 m² de azulejo, 40 kg de argamassa e 36 L de tinta branca. A Obra 2 solicitou 300 kg de cimento, 54 L de massa corrida e 18 L de tinta branca. A Obra 3 solicitou 120 kg de argamassa, 40 m² de azulejo e 72 L de massa corrida. Com base nestas informações, assinale qual das alternativas abaixo está **INCORRETA**.

- A) Com o preço de uma embalagem de Tinta Branca pode-se comprar 5 embalagens de cimento.
- B) A diferença entre o maior e o menor custo de materiais entre as obras é de R\$ 178,00.
- C) O custo dos materiais solicitados na Obra 2, ampliação e modernização de todas as salas de reuniões da Prefeitura Municipal, é de R\$ 507,70.
- D) O custo dos materiais solicitados na Obra 1, reforma nos banheiros da Câmara Municipal, foi o menor dos três, totalizando R\$ 451,80.
- E) Se José Luís comprar apenas o cimento e a massa corrida solicitados pela Obra 2, gastará R\$ 365,40.

Observe as informações descritas abaixo e responda às questões 17 e 18 a seguir.

A Lei Municipal 911, de 24 de setembro de 2007, em seu Anexo 03, prevê a quantidade mínima de vagas de estacionamento para diversos tipos de edificações. O quadro abaixo apresenta algumas destas quantidades:

Tipo de Edificação	Número de Vagas
Prestação de Serviços	1 vaga a cada 50 m ²
Comércio Varejista	1 vaga a cada 40 m ²
Uso Religioso	1 vaga a cada 30 m ²

Um Arquiteto da Prefeitura foi designado para avaliar os projetos apresentados para receber alvará de construção e verificar se estão adequados a esta legislação.

17 Um dos projetos apresentados à Prefeitura para avaliação do Arquiteto é de um Supermercado que, segundo o projeto, será construído na forma de um galpão retangular com largura total de 28 m e comprimento total de 42 m. Assinale, então, a alternativa que apresenta a quantidade mínima de vagas de estacionamento que o Supermercado deverá disponibilizar para estar adequado à Lei Municipal 911/2007.

- A) 40 vagas
- B) 35 vagas
- C) 30 vagas
- D) 25 vagas
- E) 20 vagas

18 Com base na Lei Municipal 911/2007 citada, analise os projetos abaixo quanto a sua adequação a esta legislação.

- I. O projeto de um salão de beleza apresenta área total edificada de 627 m², e prevê 12 vagas de estacionamento.
- II. O projeto de uma igreja evangélica prevê 45 vagas de estacionamento e sua área total da edificação não ultrapassa 1350 m².
- III. O projeto de uma loja de departamentos apresenta área total edificada de 1964,5 m² e prevê 45 vagas de estacionamento, logo serão necessárias ao menos 3 novas vagas.

Julgue os projetos acima e assinale a alternativa correta abaixo.

- A) Todos os projetos estão adequados à Lei Municipal 911/2007.
- B) Nenhum dos projetos está adequado à Lei Municipal 911/2007.
- C) Apenas o projeto I está adequado à Lei Municipal 911/2007.
- D) Apenas o projeto II está adequado à Lei Municipal 911/2007.
- E) Apenas o projeto III está adequado à Lei Municipal 911/2007.



19 Eunice é Técnica em Higiene Dental em uma Unidade de Saúde de Piraquara. Certo dia, após a triagem, ficou definido que Eunice deveria atender 8 pacientes com as seguintes características: 2 pacientes encaminhados para remoção de placa e tártaro através de raspagem; 2 pacientes encaminhados para demonstração de técnicas de escovação visando prevenir a cárie dental; 3 pacientes encaminhados para polimento de restauração; 1 paciente encaminhado para remoção de sutura. Como nenhum caso apresentava urgência, Eunice sorteou dentre os oito casos qual seria o primeiro a ser atendido. Assinale a alternativa que apresenta a probabilidade de Eunice ter sorteado um paciente que necessita de polimento de restauração.

- A) 0,08
- B) 0,25
- C) 0,333
- D) 0,35
- E) 0,375

20 César é Técnico em Enfermagem e recebeu as prescrições de um médico para administrar o medicamento ANTIDOREX em quatro pacientes diferentes (A, B, C e D). Este medicamento vem no estado líquido em um frasco de 50 mL, com a seguinte informação "ANTIDOREX 2,5 mg/mL" e para sua administração é diluído em soro e aplicado intravenoso. Abaixo está a prescrição, feita pelo médico responsável, para cada paciente.

Paciente	Idade / Doença	Prescrição
A	12 anos/Dor de cabeça	20 mg de ANTIDOREX
B	18 anos/Dor de dente	15 mg de ANTIDOREX
C	29 anos/Dor no joelho esquerdo	65 mg de ANTIDOREX
D	42 anos/Dor nas costas	100 mg de ANTIDOREX

Com base nessas informações, julgue os itens abaixo marcando Verdadeiro (V) ou Falso (F).

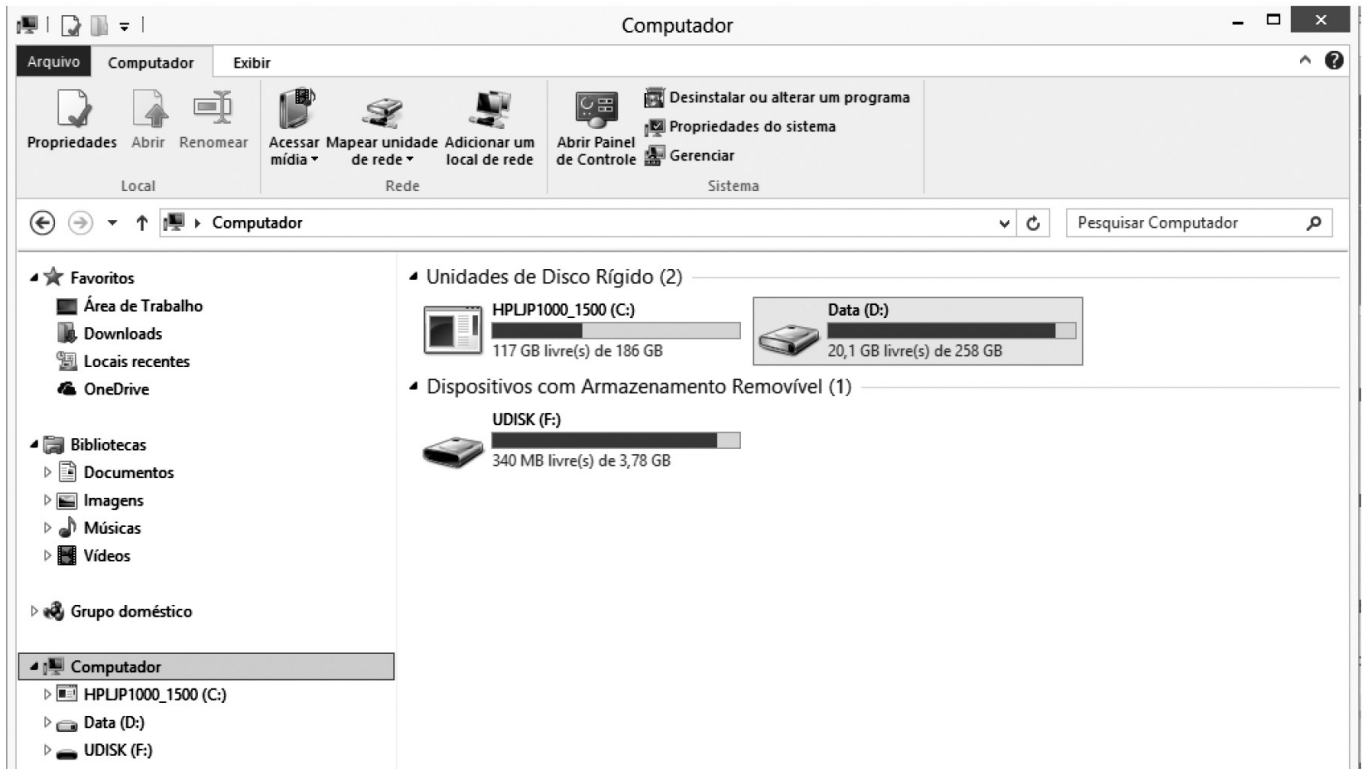
- () César deverá administrar 9 mL de ANTIDOREX para o paciente A.
- () César deverá administrar 6 mL de ANTIDOREX para o paciente B.
- () César deverá administrar exatamente metade de um frasco de ANTIDOREX para o paciente C.
- () César deverá administrar para o paciente D o quádruplo da dose administrada ao paciente A, ou seja, 40 mL de ANTIDOREX.
- () Para administrar a medicação aos quatro pacientes, César necessita de 3 frascos de ANTIDOREX, ao menos, já que juntos os pacientes receberão mais que 100 mL do medicamento.

Assinale a alternativa que apresenta, de cima para baixo, a sequência correta:

- A) V – F – F – V – F
- B) F – V – F – V – F
- C) F – F – V – V – F
- D) V – V – V – F – V
- E) F – V – V – V – V



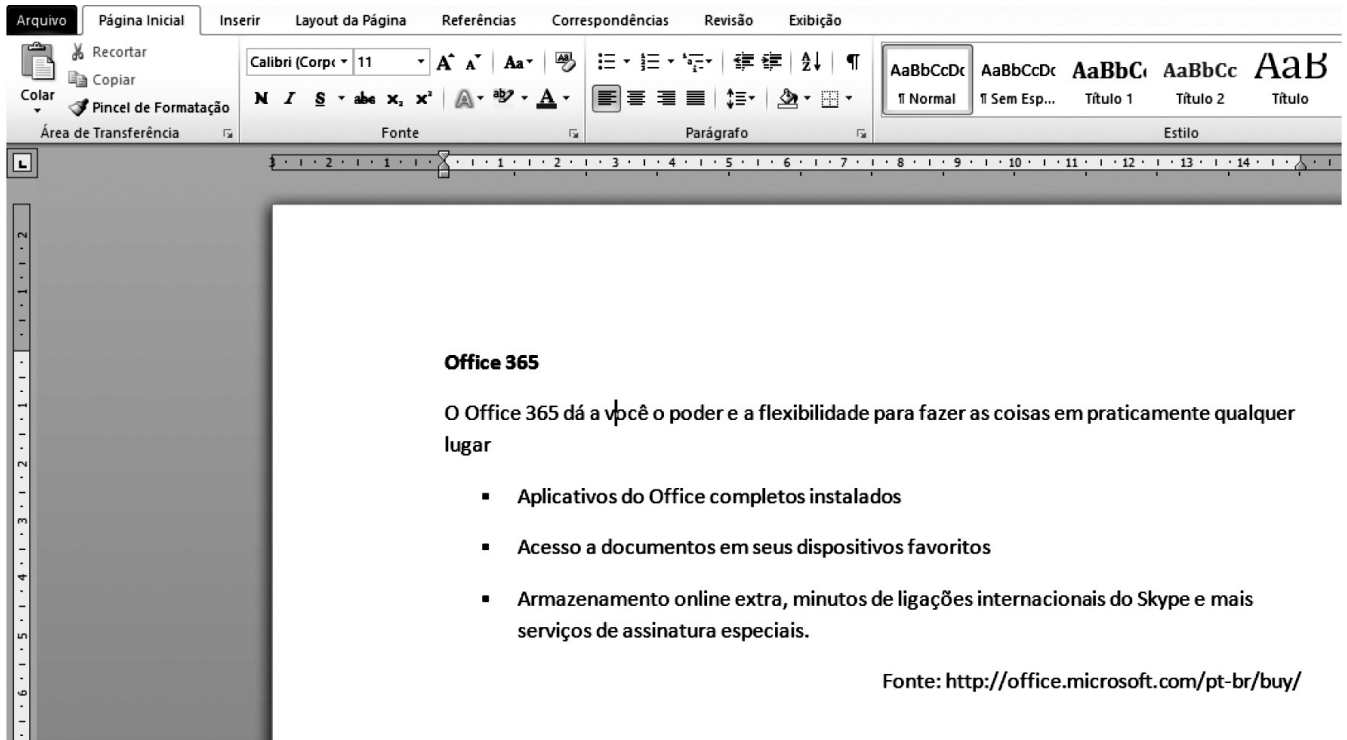
INFORMÁTICA










21 A figura acima mostra uma janela do Windows Explorer do Sistema Operacional Windows 8. Analisando a figura, pode-se afirmar corretamente que:

- A) o computador possui 3 ou mais unidades de HD instalados.
- B) há um dispositivo de armazenamento removível conectado ao computador.
- C) há um *pen drive* conectado ao computador por meio de uma porta AGP.
- D) não há *pen drive* algum conectado ao computador.
- E) não é possível abrir o Painel de Controle através dessa janela.

	A	B	C	D
1				
2	Funcionário	Sexo	Idade	
3	Ana Paula	F	24	
4	João Alfredo	M	36	
5	Luiz Guimarães	M	28	
6	Paula Fonseca	F	48	
7			34	



22 Acerca do Microsoft Word 2010 e do texto digitado conforme mostra a figura acima, assinale a alternativa correta:

- A) A fonte utilizada no texto é Calibri (Corpo) tamanho 11.
- B) Para colocar o efeito sublinhado no título do texto e centralizá-lo, basta selecionar o título, pressionando as teclas  +  e, em seguida, clicando nos botões  e .
- C) Ao pressionar as teclas  +  e, em seguida, clicar no botão , será aplicado o efeito realce em todo o texto.
- D) A opção para Salvar o documento está na Guia Layout da Página, grupo Edições.
- E) Não é possível imprimir o documento sem antes salvá-lo em um dispositivo de armazenamento como o HD ou *pen drive*.

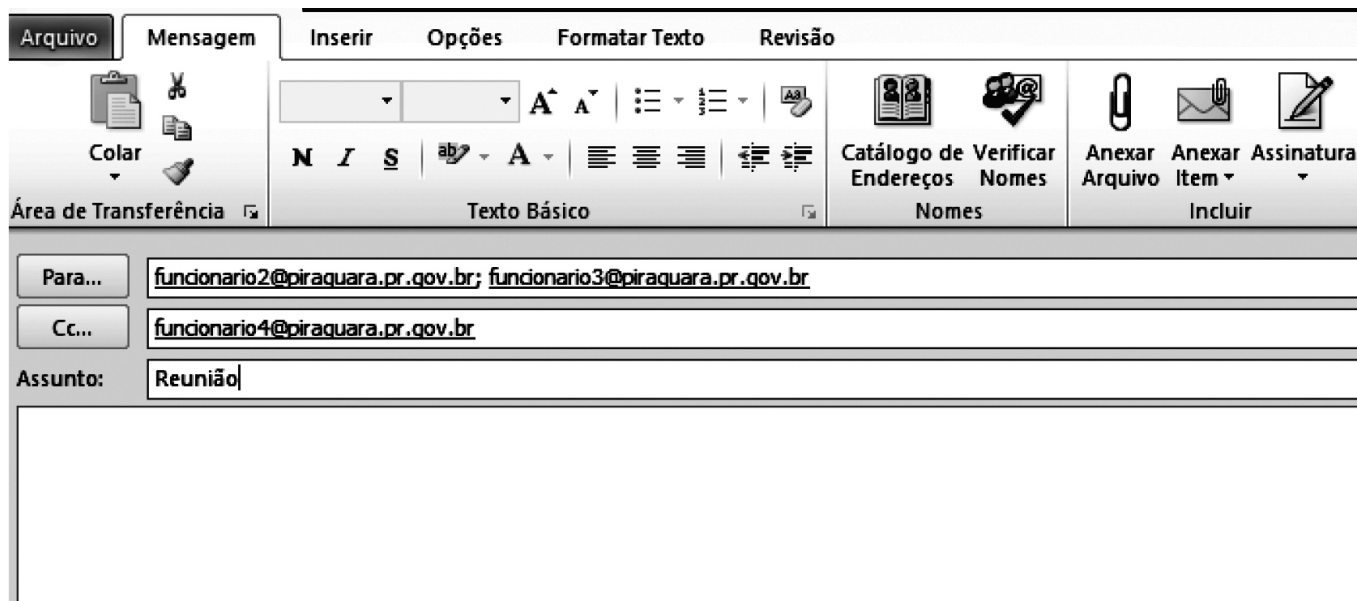
23 Acerca da Internet e da Intranet, analise as afirmações a seguir:

- I. A Internet é uma rede privada e a Intranet é uma rede pública na qual não é permitido o uso de servidores, pois cada máquina conectada na rede é denominada cliente.
- II. É o provedor que fornece o login e a senha para acesso à Internet.
- III. Na Internet, cada página www possui um endereço único, que é chamado URL.


Assinale a alternativa correta:

- A) Todas as afirmativas estão corretas.
- B) Todas as afirmativas estão incorretas.
- C) Somente as afirmativas II e III estão corretas.
- D) Somente as afirmativas I e II estão corretas.
- E) Somente a afirmativa I está correta.

24 O correio eletrônico é um serviço que permite aos seus usuários trocarem mensagens entre si. Essa comunicação acontece porque cada um dos usuários possui um endereço único, que localiza um espaço conhecido como Caixa Postal. A caixa postal de um usuário apresenta um endereço no formato `usuario@dominio`. O funcionário1 da Prefeitura Municipal de Piraquara enviou um e-mail, utilizando o Microsoft Outlook 2010 para comunicar sobre a data de uma reunião. Ao analisar a imagem abaixo, é correto afirmar:




A) O destinatário `funcionario4@piraquara.pr.gov.br`, ao receber o e-mail, respondeu somente ao funcionário1,

clicando no botão  **Responder a Todos**

B) Os destinatários `funcionario2@piraquara.pr.gov.br` e `funcionario3@piraquara.pr.gov.br` não sabem que o destinatário `funcionario4@piraquara.pr.gov.br` está participando da conversa, pois este é cópia oculta.

C) O destinatário `funcionario4@piraquara.pr.gov.br` está no campo Cópia Oculta de modo que se ele responder à

mensagem utilizando a opção  **Responder a Todos**, somente o `funcionario1@piraquara.pr.gov.br` receberá o e-mail.

D) O remetente `funcionario1@piraquara.pr.gov.br` poderá anexar arquivos utilizando esta janela do Microsoft Outlook 2010.

E) O remetente `funcionario1@piraquara.pr.gov.br` só poderá enviar a mensagem aos destinatários caso seus endereços eletrônicos estejam na lista de contatos do Microsoft Outlook 2010.

CONHECIMENTOS ESPECÍFICOS

25 O “Projeto Político Pedagógico” é o registro escrito da identidade da escola, como resultado de diálogo, reflexão e planejamento, uma construção coletiva de todos os agentes educacionais envolvidos com a instituição. Referente ao significado do próprio nome do documento, complete as frases a seguir com a palavra adequada e, a seguir, selecione a alternativa que indica, de cima para baixo, a sequência correta.

Fonte: LOPES, Noemia. O PPP define a identidade da escola e indica caminhos para ensinar com qualidade. Saiba como elaborar esse documento. Disponível: <http://gestaoescolar.abril.com.br/aprendizagem/projeto-politico-pedagogico-ppp-pratica-610995.shtml>.

É _____ porque define e organiza as atividades e os projetos educativos necessários ao processo de ensino e aprendizagem.

É _____ por considerar a escola como um espaço de formação de cidadãos conscientes, responsáveis e críticos, que atuarão individual e coletivamente na sociedade, modificando os rumos que ela vai seguir.

É _____ porque reúne propostas de ação concreta a executar durante determinado período de tempo.

- A) Projeto – Pedagógico – Político
- B) Pedagógico – Projeto – Político
- C) Projeto – Político – Pedagógico
- D) Político – Pedagógico – Político
- E) Pedagógico – Político – Projeto

26 Com base na Lei de Diretrizes e Bases da Educação Nacional n.º 9.394 de 1996, complete alguns dos princípios da educação abaixo com as palavras que se encontram nas alternativas. Assinale a alternativa que apresenta essas palavras na ordem, de cima para baixo:

- 1) _____ de condições para o acesso e permanência na escola.
 - 2) _____ de aprender, ensinar, pesquisar e divulgar a cultura, o pensamento, a arte e o saber.
 - 3) _____ de ideias e de concepções pedagógicas.
 - 4) _____ à liberdade e apreço à tolerância.
 - 5) _____ de padrão de qualidade.
- A) Garantia, Igualdade, Pluralismo, Respeito, Liberdade.
 - B) Garantia, Liberdade, Pluralismo, Respeito, Igualdade.
 - C) Igualdade, Liberdade, Pluralismo, Respeito, Garantia.
 - D) Liberdade, Garantia, Diversidade, Ideal, Igualdade
 - E) Igualdade, Garantia, Liberdade, Consideração, Ideal.

27 Conforme o PCN, fato histórico pode ser definido como uma ação, um acontecimento ou um evento causado, criado e/ou produzido pelo homem e que apresenta relevância e importância no decorrer da história. Tal fato histórico torna-se objeto de análise e estudo da educação por ser um marco do passado que influencia o presente e o futuro.

Nesta mesma linha, assinale a alternativa que apresenta informação INCORRETA acerca do conceito de sujeito histórico e suas vertentes, de acordo com o PCN.

- A) Indivíduo responsável por ações, pensamentos e palavras que interferiram de modo significativo no curso da história da humanidade, seja para sua permanência ou transformação.
- B) O saber histórico escolar, na sua relação com o saber histórico, compreende, de modo amplo, a delimitação de dois conceitos fundamentais: o de fato histórico e de sujeito histórico.
- C) Sujeitos históricos podem ser trabalhadores, patrões, escravos, reis, camponeses, políticos, prisioneiros, crianças, mulheres, religiosos, velhos, partidos políticos, etc.
- D) Sujeito histórico é um agente da ação social.
- E) A interferência do sujeito histórico tem viés social e se torna objeto de pesquisa e estudo histórico da educação.

28 A Emenda Constitucional n.º 59, de 11 de novembro de 2009, faz alteração na Constituição Federal, no que se refere à abrangência da educação básica obrigatória e gratuita, e também pontua que sua implementação deve ser progressiva, definindo um ano para que isso aconteça. Assinale a alternativa que descreve corretamente essa alteração:

- A) Educação básica obrigatória e gratuita dos 4 (quatro) aos 17 (dezessete) anos de idade e implementação até 2016.
- B) Educação básica obrigatória e gratuita dos 3 (três) aos 17 (dezessete) anos de idade e implementação até 2016.
- C) Educação básica obrigatória e gratuita dos 4 (quatro) aos 17 (dezessete) anos de idade e implementação até 2017.
- D) Educação básica obrigatória e gratuita dos 4 (quatro) aos 17 (dezessete) anos de idade e implementação até 2018.
- E) Educação básica obrigatória e gratuita dos 3 (três) aos 17 (dezessete) anos de idade e implementação até 2017.



29 O Referencial Curricular Nacional da Educação Infantil é um documento que “se constitui em um conjunto de referências e orientações pedagógicas que visam a contribuir com a implantação ou implementação de práticas educativas de qualidade que possam promover e ampliar as condições necessárias para o exercício da cidadania das crianças brasileiras”. Considerando as especificidades cognitivas, afetivas, emocionais e sociais das crianças de zero a cinco anos, o RCNEI (p. 13, 1998) descreve 5 (cinco) princípios norteadores para a prática educativa, que visam promover o exercício da cidadania. De acordo com esses princípios, selecione a alternativa que contempla de forma correta as expressões que designam essas categorias, na sequência em que estão colocadas a seguir.

- I. O respeito à dignidade e aos _____ das crianças, consideradas nas suas diferenças individuais, sociais, econômicas, culturais, étnicas, religiosas etc.;
 - II. O direito das crianças a _____, como forma particular de expressão, pensamento, interação e comunicação infantil;
 - III. O acesso das crianças aos _____ disponíveis, ampliando o desenvolvimento das capacidades relativas à expressão, à comunicação, à interação social, ao pensamento, à ética e à estética;
 - IV. A socialização das crianças por meio de sua participação e inserção nas mais diversificadas _____, sem discriminação de espécie alguma;
 - V. O atendimento aos cuidados essenciais associados à sobrevivência e ao desenvolvimento de sua _____.
- A) direitos, brincar, bens socioculturais, atividades culturais, cidadania.
B) deveres, estudar, livros, atividades culturais, identidade.
C) cuidados, interagir, livros, práticas sociais, cidadania.
D) direitos, brincar, bens socioculturais, práticas sociais, identidade.
E) deveres, brincar, livros, atividades culturais, cidadania.

30 O Referencial Curricular Nacional da Educação Infantil descreve que “a observação e o registro se constituem nos principais instrumentos de que o professor dispõe para apoiar sua prática. Por meio deles o professor pode registrar, contextualmente, os processos de aprendizagem das crianças; a qualidade das interações estabelecidas com outras crianças, funcionários e com o professor e acompanhar os processos de desenvolvimento obtendo informações sobre as experiências das crianças na instituição”.

Leia as sentenças a seguir referentes à avaliação na educação infantil e classifique-as com (V) Verdadeiras ou (F) Falsas. Em seguida, indique a alternativa que apresenta, de cima para baixo, a sequência correta.

- () Esta observação e seu registro fornecem aos professores uma visão integral das crianças, porém não revela as particularidades do educando.
() A Lei de Diretrizes e Bases da Educação, sancionada em dezembro de 1996, estabelece, na Seção II, referente à educação infantil, artigo 31 que: “... a avaliação far-se-á mediante o acompanhamento e registro do seu desenvolvimento, sem o objetivo de promoção, mesmo para o acesso ao ensino fundamental”.
() A avaliação é entendida, prioritariamente, como um conjunto de ações que auxiliam o professor a refletir sobre as condições de aprendizagem oferecidas e ajustar sua prática às necessidades colocadas pelas crianças.
() A avaliação é um elemento dissociável do processo educativo que possibilita ao professor definir critérios para planejar as atividades e criar situações que gerem avanços na aprendizagem das crianças.
() Para que possa se constituir como um instrumento voltado para reorientar a prática educativa, a avaliação deve se dar de forma sistemática e contínua, tendo como objetivo principal a melhoria da ação educativa.
- A) F – V – F – F – V
B) F – V – V – F – V
C) V – V – F – F – F
D) V – F – V – V – V
E) V – F – V – V – F



31 De acordo com os Parâmetros Curriculares Nacionais: Língua Portuguesa, “quando se pensa e se fala sobre a linguagem mesma, realiza-se uma atividade de natureza reflexiva, uma atividade de análise linguística”.

A partir desta reflexão, a qual é essencial para a ampliação da capacidade de criação, interpretação e produção textual, analise as sentenças a seguir e indique (V) verdadeiro ou (F) falso.

Em seguida, indique a alternativa que apresenta, de cima para baixo, a sequência correta.

- () A análise linguística refere-se a atividades que se pode classificar em epilinguísticas e metalinguísticas.
 - () Tanto a atividade epilinguística quanto a atividade metalinguística são atividades de reflexão sobre a língua e possuem a mesma finalidade.
 - () Nas atividades epilinguísticas a reflexão está voltada para o uso, no próprio interior da atividade linguística em que se realiza.
 - () As atividades metalinguísticas estão relacionadas a um tipo de análise voltada para a descrição, por meio da categorização e sistematização dos elementos linguísticos.
 - () Sendo o objetivo principal do trabalho de análise e reflexão sobre a língua a impressão de maior qualidade ao uso da linguagem, as situações didáticas devem, principalmente nos primeiros ciclos, centrar-se na atividade metalinguística.
- A) V – F – V – V – F
B) V – F – F – V – F
C) F – F – V – V – F
D) V – V – F – V – F
E) F – V – V – V – V

32 A seguir, estão listados alguns dos objetivos do ensino da Língua Portuguesa para o Ensino Fundamental.

Indique a alternativa que NÃO se refere a um desses objetivos, de acordo com os Parâmetros Curriculares Nacionais.

- A) Valorizar a leitura como fonte de informação, via de acesso aos mundos criados pela literatura e possibilidade de fruição estética, sendo capazes de recorrer aos materiais escritos em função de diferentes objetivos.
- B) Conhecer e analisar criticamente os usos da língua como veículo de valores e preconceitos de classe, credo, gênero ou etnia.
- C) Utilizar a linguagem como instrumento de aprendizagem, sabendo como proceder para ter acesso, compreender e fazer uso de informações contidas nos textos.
- D) Conhecer e respeitar as diferentes variedades linguísticas do português falado e escrito.
- E) Usar os conhecimentos adquiridos por meio da prática de reflexão sobre a língua para expandirem as possibilidades de uso da linguagem e a capacidade de análise crítica.

33 No Ensino Fundamental, o ensino da Matemática deve partir do conhecimento prévio do aluno, para que sejam contextualizadas as atividades de leitura, escrita, comparação e ordenação de notações numéricas. Segundo as diretrizes dos Parâmetros Curriculares Nacionais, publicado em 1997, sobre a disciplina de Matemática, assinale a alternativa INCORRETA sobre a prática do professor:

- A) Elabora um repertório de situações em que usam números.
- B) Pede aos alunos que recortem números em jornais e revistas e façam a leitura deles (do jeito que sabem).
- C) Elabora, com a classe, listas com números de linhas de ônibus da cidade, números de telefones úteis, números de placas de carros, e solicita a leitura deles.
- D) Orienta os alunos para que elaborem fichas onde cada um vai anotar os números referentes a si próprio, tais como: idade, data de nascimento, número do calçado, peso, altura, número de irmãos, número de amigos, etc.
- E) Trabalha diariamente com o calendário para identificar o dia do mês e registrar a data.

34 Os Parâmetros Curriculares Nacionais de Matemática descrevem os objetivos gerais que devem nortear o ensino da disciplina no Ensino Fundamental. Analise as proposições a seguir:

- I. Fazer observações sistemáticas de aspectos quantitativos e qualitativos do ponto de vista do conhecimento e estabelecer o maior número possível de relações entre eles, utilizando para isso o conhecimento matemático (aritmético, geométrico, métrico, algébrico, estatístico, combinatório, probabilístico); selecionar, organizar e produzir informações relevantes, para interpretá-las e avaliá-las criticamente.
- II. Comunicar-se matematicamente, ou seja, descrever, representar e apresentar resultados a partir de hipóteses e argumentar sobre suas conjecturas, fazendo uso da linguagem oral e estabelecendo relações entre ela e diferentes representações matemáticas.
- III. Sentir-se seguro da própria capacidade de construir conhecimentos matemáticos, desenvolvendo a autoestima e a perseverança na busca de soluções.

Assinale a alternativa que contempla os objetivos que estão de acordo com os princípios metodológicos do ensino de Matemática:

- A) Apenas II
- B) Apenas I e III
- C) Apenas II e III
- D) Apenas I e II
- E) Apenas III



35 O PCN de Ciências descreve que a instrução acerca de Ciências Naturais no Ensino Fundamental é contemplada para que o aluno desenvolva competências que lhe permitam compreender o mundo e atuar como cidadão. Com essa concepção, o Parâmetro Curricular de Ciências divide os conteúdos a serem trabalhados nos ciclos do Ensino Fundamental e tem por “intenção de que o ensino aconteça contemplando mais de um eixo e temas transversais em um mesmo tema de trabalho selecionado pelo professor”. Destacando alguns conteúdos trabalhados no Ensino Fundamental, relacione os conceitos aos temas de trabalho. Em seguida, assinale a alternativa que apresenta, de cima para baixo, a sequência correta:

(1) Sistema digestório () Nutrientes são a fonte da energia e das substâncias de construção para todo o corpo, os quais, associados à água, são absorvidos pelos capilares e chegam às células de todos os tecidos do corpo.

(2) Sistema respiratório () Conjunto de reações químicas, comum a todos os seres vivos aeróbios, em que oxigênio e certos nutrientes (como o açúcar) são os reagentes, e o gás carbônico e a água são produtos, juntamente com uma energia disponível para o ser vivo.

(3) Sistema circulatório () Compreender o alimento como fonte de matéria e energia para o crescimento e manutenção do corpo, e a nutrição como conjunto de transformações sofridas pelos alimentos no corpo humano.

- A) 1 – 2 – 3
- B) 1 – 3 – 2
- C) 2 – 3 – 1
- D) 2 – 1 – 3
- E) 3 – 2 – 1

36 O PCN de Geografia trata especificamente deste conteúdo dentro do terceiro e quarto ciclo do Ensino Fundamental.

Analise os eixos de conteúdos listados a seguir e identifique a que ciclo cada um deles pertence.

Em seguida, indique a alternativa que apresenta, de cima para baixo, a sequência correta:

- (1) Terceiro Ciclo
- (2) Quarto Ciclo
- () A Geografia como uma possibilidade de leitura e compreensão do mundo.
- () A cartografia como instrumento na aproximação dos lugares e do mundo.
- () A evolução das tecnologias e as novas territorialidades em redes.
- () Modernização, modo de vida e a problemática ambiental.
- () O campo e a cidade como formações socioespaciais.

- A) 1 – 1 – 1 – 2 – 1
- B) 2 – 1 – 2 – 1 – 2
- C) 1 – 1 – 2 – 2 – 1
- D) 2 – 1 – 2 – 1 – 1
- E) 2 – 1 – 2 – 2 – 2

37 A avaliação é uma “ação pedagógica guiada pela atribuição de valor apurada e responsável que o professor realiza das atividades dos alunos”. Definir os critérios da avaliação de acordo com os objetivos traçados previamente, considerando o modo de ensinar e o modo como os conteúdos são assimilados pelos alunos, é essencial, a fim de que o planejamento seja coerente, eficiente e eficaz.

Sendo assim, relacione os critérios de avaliação com sua modalidade artística. Em seguida, assinale a alternativa que apresenta, de cima para baixo, a sequência correta:

- (1) Artes visuais () Interpretar, improvisar e compor demonstrando alguma capacidade ou habilidade.
- (2) Dança () Identificar alguns elementos da linguagem visual que se encontram em múltiplas realidades.
- (3) Música () Compreender e estar habilitado para se expressar na linguagem dramática.
- (4) Teatro () Compreender a estrutura e o funcionamento do corpo e os elementos que compõem o seu movimento.

- A) 1 – 2 – 3 – 4
- B) 2 – 3 – 4 – 1
- C) 1 – 3 – 4 – 2
- D) 3 – 4 – 1 – 2
- E) 3 – 1 – 4 – 2



38 De acordo com o PCN: História para Ensino Fundamental, “A questão do tempo é fundamental no ensino de História[...]” e “dependendo do ponto de vista de quem o concebe, o tempo pode abarcar concepções múltiplas”, as quais, em suas dimensões, “só são compreendidas em todas suas complexidades pelo acesso dos alunos a conhecimentos adquiridos ao longo de uma variedade de estudos interdisciplinares durante sua escolaridade”.

Neste viés, é responsabilidade do docente lecionar de forma a abranger estes diversos aspectos (sem se deter em uma dimensão ou outra) por meio de estratégias didáticas diferenciadas que auxiliem o aluno neste processo de reflexão e desenvolvimento das concepções acerca da questão do tempo.

Analise as sentenças a seguir e marque (V) verdadeiro ou (F) falso para os exemplos de estratégias citados pelo PCN.

Em seguida, indique a alternativa que corresponde, de cima para baixo, à sequência correta:

- () Estudar e distinguir calendários de diferentes culturas.
 - () Identificar em linhas de tempo cronológicas as durações dos acontecimentos.
 - () Estudar conceitos historicamente construídos para o tempo, como no caso dos que foram delineados em épocas específicas por filósofos, historiadores, físicos (o conceito de tempo para Heráclito, Parmênides, Santo Agostinho, Bergson, Einstein e outros).
 - () Estudar tempos geológicos no planeta (as lentas transformações na crosta terrestre, na atmosfera, na erosão das rochas, na elevação ou rebaixamento das montanhas, nas erupções dos vulcões, na mudança das formas de vida sobre a Terra etc. geralmente durações de tempos medidas em eras).
 - () Identificar os ritmos de ordenação temporal das atividades das pessoas e dos grupos, a partir de predominâncias de ritmos de tempo, que mantêm relações com os padrões culturais, sociais, econômicos e políticos vigentes.
- A) V – V – V – V – V
B) V – F – V – F – V
C) F – V – V – V – F
D) F – V – V – F – V
E) V – V – V – F – V

39 A busca pela significação da vida e a compreensão do lugar do ser humano no universo têm sua necessidade respondida, tanto pela arte quanto pela ciência que, de acordo com o PCN Arte, “mediante a construção de objetos de conhecimento que, juntamente com as relações sociais, políticas e econômicas, sistemas filosóficos e éticos, formam o conjunto de manifestações simbólicas de uma determinada cultura”.

Conhecer algumas características do fenômeno artístico torna-se fator facilitador para a interação entre aprendizagem racional e estética, relacionando a arte com a formação integral do aluno.

Neste viés, analise as afirmativas listadas abaixo e, em seguida, assinale a alternativa correta.

- I. A obra de arte situa-se no ponto de encontro entre o particular e o universal da experiência humana.
 - II. A obra de arte revela para o artista e para o espectador uma possibilidade de existência e comunicação, além da realidade de fatos e relações normalmente desconhecidos.
 - III. O que distingue essencialmente a criação artística das outras modalidades de conhecimento humano é a qualidade de comunicação entre os seres humanos que a obra de arte propicia, por uma utilização particular das formas de linguagem.
 - IV. A percepção estética é a chave da comunicação artística.
- A) Apenas as afirmativas II e IV estão corretas.
B) Apenas as afirmativas I e III estão corretas.
C) Apenas as afirmativas II e III estão corretas.
D) Apenas as afirmativas I, III e IV estão corretas.
E) Apenas as afirmativas III e IV estão corretas.

40 Na História do Brasil, o Período Colonial é compreendido desde o ano de 1500 a 1822, e apresenta características específicas em sua economia.

Assinale a alternativa que contém essas características:

- A) Policultura e mão de obra escrava.
- B) Monocultura, agricultura de subsistência e mão de obra escrava.
- C) Policultura, exportação de produção e mão de obra livre.
- D) Economia e mão de obra livre em pequenas unidades agrícolas.
- E) Monocultura, agroexportação e mão de obra escrava.

