

Concurso Público

ASSISTENTE PREVIDENCIÁRIO

Data: 09/12/2012
Duração: 4 horas

Caro(a) Candidato(a), leia atentamente e siga as instruções abaixo.

01- A lista de presença deve, obrigatoriamente, ser assinada no recebimento do **Cartão de Respostas** e assinada novamente na sua entrega, na presença e nos locais indicados pelo fiscal da sala.

02- Você recebeu do fiscal o seguinte material:

a) Este **Caderno**, com 70 (setenta) questões da Prova Objetiva, sem repetição ou falha, assim distribuídas:

Língua Portuguesa	Informática	Raciocínio Lógico Quantitativo	Noções de Direito Constitucional e Administrativo	Noções de Direito Previdenciário	Noções de Economia	Noções de Administração Pública	Noções de Previdência Social
01 a 10	11 a 20	21 a 30	31 a 40	41 a 45	46 a 50	51 a 60	61 a 70

b) Um **Cartão de Respostas** destinado às respostas das questões objetivas formuladas nas provas.

03- Verifique se este material está em ordem e se o seu nome e número de inscrição conferem com os que aparecem no **Cartão de Respostas**. Caso contrário, notifique **imediatamente** o fiscal.

04- Após a conferência, o candidato deverá assinar no espaço próprio do **Cartão de Respostas**, com caneta esferográfica de tinta na cor **azul** ou **preta**.

05- No **Cartão de Respostas**, a marcação da alternativa correta deve ser feita cobrindo a letra e preenchendo todo o espaço interno do quadrado, com caneta esferográfica de tinta na cor **azul** ou **preta**, de forma contínua e densa.

Exemplo:

A	B	<input checked="" type="checkbox"/>	D	E
---	---	-------------------------------------	---	---

06- Para cada uma das questões objetivas, são apresentadas 5 (cinco) alternativas classificadas com as letras (A, B, C, D e E), mas só uma responde adequadamente à questão proposta. Você só deve assinalar **uma alternativa**. A marcação em mais de uma alternativa anula a questão, mesmo que uma das respostas esteja correta.

07- Será eliminado do Processo Seletivo o candidato que:

a) Utilizar ou consultar cadernos, livros, notas de estudo, calculadoras, telefones celulares, pagers, walkmans, réguas, esquadros, transferidores, compassos, MP3, Ipod, Ipad e quaisquer outros recursos analógicos.

b) Ausentar-se da sala, a qualquer tempo, portando o **Cartão de Respostas**.

Observações: Por motivo de segurança, o candidato só poderá retirar-se da sala após 1 (uma) hora a partir do início da prova.

O candidato que optar por se retirar sem levar seu Caderno de Questões não poderá copiar sua marcação de respostas, em qualquer hipótese ou meio. O descumprimento dessa determinação será registrado em ata, acarretando a eliminação do candidato.

Somente decorridas 3 horas de prova, o candidato poderá retirar-se levando o seu Caderno de Questões.

08- Reserve os 30 (trinta) minutos finais para marcar seu **Cartão de Respostas**. Os rascunhos e as marcações assinaladas no **Caderno de Questões** não serão levados em conta.

LÍNGUA PORTUGUESA

O NECESSÁRIO RESGATE DOS DIREITOS SOCIAIS

Para nós, no Brasil, onde não vivemos, ainda, um estado social efetivo, que fosse capaz de oferecer saúde, educação e previdência de qualidade para todos, o caminho para a inclusão e efetiva participação do nosso povo como cidadão é o da fragmentação coordenada do poder, a descentralização radical de competências, fortalecendo os estados e, principalmente, os municípios, assim como tornar permeável o poder, com a criação de canais de participação popular permanentes, como os conselhos municipais, o orçamento participativo e outros mecanismos de participação, além do incentivo permanente à organização da sociedade civil e o fortalecimento dos meios alternativos de comunicação como as rádios, jornais e televisões comunitárias. Podemos – e assim estamos fazendo – construir uma democracia social e participativa a partir do poder local.

No Brasil, menos de um ano após a promulgação da Constituição democrática e social de 1988, assistimos ao início do desmonte da nova ordem econômica e social prevista pela Constituição. Nesse mesmo momento, como suporte teórico do desmonte do estado social, cresceu a crítica simplificador e reducionista, importada dos Estados Unidos e de alguns autores europeus, proveniente do novo pensamento neoliberal e neoconservador e ratificada por parte da nova esquerda (como o novo trabalhismo de Tony Blair). Essa crítica ao estado social, que vem dar suporte ao seu desmonte, aponta o caráter assistencialista como gerador de um exército de clientes que se amparam no Estado, não mais produzindo, não mais criando. Criticam o estado social argumentando que este retira espaços de escolha individual, gerando o não cidadão uma vez que incentiva as pessoas a viverem à custa do Estado. Essa crítica, extremamente simplificador e parcial, que toma uma parte de um problema pontualmente localizado no tempo e no espaço como sendo regra para explicar a crise do estado social, ganhou força inclusive à esquerda, o que muito contribuiu para a desconstrução do estado de bem-estar social em diversas partes do globo. Segundo esse discurso simplificador, o Estado não deve sustentar os que não querem trabalhar, pois essa postura do Estado incentiva a expansão do não cidadão e sobrecarrega os que trabalham e o setor produtivo com uma alta carga tributária. Logo, pobre deve trabalhar para ter acesso ao que necessita, e como não há trabalho para todos – nem mesmo o trabalho indesejável e mal pago destinado a esses excluídos –, aumenta a população carcerária. O estado social assistencialista é substituído pelo estado penal da era neoliberal. O criticado cliente do assistencialismo da segurança social foi transformado em cliente do sistema penal da segurança policial.

Nesse novo paradigma, a pobreza não decorre das barreiras sociais e econômicas, mas sim do comportamento do pobre. O Estado não deve atrair as pessoas a uma conduta desejável através de reconhecimento, mas deve punir os que não agem como o desejado. O não trabalho passa a ser um ato político que exige o recurso à autoridade. O estado social passa a ser visto como permissivo, pois não exige uma obrigação de comportamento a seus beneficiários. A direita conservadora mais reacionária e a autoproclamada vanguarda da nova esquerda dão eco a vozes como a de Charles Murray, que afirma que as uniões ilegítimas e as famílias monoparentais seriam a causa da pobreza e do crime e, por sua vez, o estado social, com sua política permissiva, incentivava essas práticas. Além disso, a classe média produtiva se revolta cada vez mais com a obrigação de pagar tributos para sustentar essas práticas. Essa absurda tese, sem nenhuma base científica, defendia cortes radicais nos orçamentos sociais e a retomada, por parte da polícia, dos bairros antes operários, hoje ocupados pelos clientes preferenciais do sistema social que tem de deixar de existir.

O resultado dessas políticas (tanto da direita conservadora como da nova esquerda) é conhecido nosso no século XXI: mais exclusão, mais concentração econômica, mais violência, mais controle social, mais desemprego, menos estado de bem-estar

e mais estado policial. O mais grave é o fato de que, ainda hoje, vozes que se dizem democráticas continuam sustentando o mesmo discurso contra o estado social, defendendo uma sonhada e desejável democracia dialógica, construída pela sociedade civil livre, sem perceber que os novos excluídos, social e economicamente, estão excluídos do diálogo democrático, passando a fazer parte da crescente massa de clientes do sistema penal em expansão.

(...)

José Luiz Quadros de Magalhães (Adaptado de: www.comciencia.br)

01. De acordo com o texto, um exemplo de iniciativa que pode contribuir para um processo de inclusão social é:

- A) alteração dos princípios constitucionais vigentes
- B) fragmentação das alianças partidárias em período eleitoral
- C) fortalecimento dos meios de comunicação comunitários
- D) investimento em ações punitivas às condutas indesejadas
- E) redução dos benefícios a quem descumprir regras de concessão

02. Uma das consequências sugeridas, no segundo parágrafo, para o desmonte das políticas sociais pelo pensamento neoliberal é:

- A) reestruturação dos núcleos familiares monoparentais em todas as camadas da sociedade
- B) redução de comportamentos arduos ao trabalho valorizados pela permissividade do estado
- C) favorecimento ao estabelecimento de novas instituições financeiras com incentivos fiscais
- D) aumento da população carcerária em decorrência da criminalização dos pobres
- E) incremento das políticas sociais com eficácia na aplicação orçamentária

03. No segundo parágrafo, há um predomínio do seguinte modo de organização:

- A) descritivo, apresentando as características dos princípios constitucionais brasileiros
- B) narrativo, indicando o processo de formação da política brasileira contemporânea
- C) expositivo, evidenciando as adequações à introdução do país na nova ordem internacional
- D) dissertativo, valendo-se de hipóteses como principal estratégia de persuasão
- E) argumentativo, defendendo seu ponto de vista a partir de opinião contrária à sua

04. O trecho que melhor expressa a visão do autor sobre os beneficiários das políticas sociais é:

- A) “os novos excluídos, social e economicamente”
- B) “um exército de clientes que se amparam no Estado”
- C) “incentiva as pessoas a viverem à custa do Estado”
- D) “o Estado não deve sustentar os que não querem trabalhar”
- E) “cliente do assistencialismo da segurança social”

05. O pronome tem por função retomar toda uma ideia, expressa anteriormente em:

- A) “Nesse mesmo momento, como suporte teórico do desmonte do estado social, cresceu a crítica” (2º parágrafo)
- B) “por sua vez, o estado social, com sua política permissiva, incentivava essas práticas” (3º parágrafo)
- C) “assistimos ao início do desmonte da nova ordem econômica e social” (2º parágrafo)
- D) “Criticam o estado social argumentando que este retira espaços de escolha individual” (2º parágrafo)
- E) “Essa absurda tese, sem nenhuma base científica, defendia cortes radicais nos orçamentos sociais” (3º parágrafo)

06. O emprego de uma única palavra revela toda a carga negativa na visão do autor ao processo nomeado em:

- A) “efetiva participação do nosso povo como cidadão é o da fragmentação coordenada do poder”
- B) “assistimos ao início do desmonte da nova ordem econômica e social prevista pela Constituição”
- C) “fortalecendo os estados e, principalmente, os municípios, assim como tornar permeável o poder”
- D) “gerador de um exército de clientes que se amparam no Estado”
- E) “as uniões ilegítimas e as famílias monoparentais seriam a causa da pobreza e do crime”

07. “Para nós, no Brasil, onde não vivemos (...)”. O uso da 1ª pessoa do plural, nesse trecho, provoca o efeito de:

- A) incluir o autor e o leitor em um sujeito coletivo
- B) imprimir tom pessoal à confissão realizada pelo autor
- C) indicar um plural aparente como estratégia de polidez
- D) reforçar carga afetiva, com predomínio da função emotiva
- E) contrapor-se explicitamente à regra de impessoalidade nos textos

08. “Logo, pobre deve trabalhar para ter acesso ao que necessita, e como não há trabalho para todos – nem mesmo o trabalho indesejável e mal pago destinado a esses excluídos –, aumenta a população carcerária”. Nesse trecho, a palavra “como” expressa valor semântico de:

- A) consequência
- B) conformidade
- C) causa
- D) condição
- E) comparação

09. “Essa crítica ao estado social, que vem dar suporte ao seu desmonte, aponta o caráter assistencialista (...)”. O pronome relativo “que” pode ser substituído, mantendo-se a estrutura da frase, por:

- A) pelo que
- B) onde
- C) cuja
- D) a qual
- E) em que

10. De acordo com a variante de prestígio, a única palavra que **não** expressa a flexão nominal de plural exatamente como “participação” é:

- A) inclusão
- B) cidadão
- C) constituição
- D) promulgação
- E) desconstrução

INFORMÁTICA

11. Observe a figura abaixo, que representa um cabo utilizado na conexão de impressoras a um microcomputador.



Esse cabo é conhecido pela seguinte sigla:

- A) PCI
- B) HDMI
- C) USB
- D) SATA
- E) VGA

12. No sistema operacional *Windows 7 BR*, um clique na tecla




tem por finalidade:

- A) classificar os ícones da Área de Trabalho em ordem alfabética
- B) abrir a janela do browser Internet Explorer
- C) ativar a transmissão Wireless
- D) mostrar a tela de Setup
- E) acionar o botão Iniciar

13. No *Word 2010 BR*, os atalhos de teclado Ctrl + C e Ctrl + U correspondem, respectivamente, à execução dos seguintes procedimentos:

- A) copiar e localizar
- B) copiar e substituir
- C) cancelar e substituir
- D) colar e substituir
- E) colar e localizar

14. Observe o texto abaixo, digitado no *Word 2010 BR*.

A  tem por missão prestar serviços com excelência aos nossos clientes (servidores ativos, inativos, pensionistas e dependentes), com eficiência de atendimento, credibilidade, respeito e responsabilidade social, com administração transparente e eficaz do patrimônio, para o cumprimento das obrigações previdenciárias atuais e futuras e contribuir para a gestão fiscal responsável do Estado.






Verifica-se que ao texto foi aplicado um determinado tipo de alinhamento e um recurso que dá destaque à letra A. O alinhamento e o recurso são, respectivamente:

- A) centralizado e capitular
- B) justificado e capitular
- C) distribuído e capitular
- D) justificado e caixa de texto
- E) centralizado e caixa de texto

15. Para salvar uma planilha no *Excel 2010 BR* é utilizado o ícone



ou executado um atalho de teclado. De forma semelhante, pode ser utilizado um ícone ou o atalho de teclado *Ctrl + X* para recortar uma seleção, colocando-a na área de transferência. O atalho de teclado e o ícone são, respectivamente:

- A) Ctrl + B e 
- B) Ctrl + S e 
- C) Ctrl + S e 
- D) Ctrl + S e 
- E) Ctrl + B e 

16. Observe a planilha abaixo, criada no Excel 2010 BR.

	A	B	C	D	E	F	G
1	CAPACITAÇÃO						
3	NOTAS						
4	#	NOME	1	2	3	MÉDIA	SITUAÇÃO
5	123	Ana	6,3	7,5	8,8	7,5	APR
6	124	Berilo	3,1	5,8	4,9	4,6	REP
7	125	Claudia	8,0	6,0	4,0	6,0	APR
8	126	Débora	7,4	4,6	5,6	5,9	REP

Na planilha foram executados os procedimentos descritos a seguir:

- Em F5 foi inserida uma função que representa a média aritmética entre as notas mostradas em C5, D5 e E5. De forma análoga, foram determinados os valores em F6, F7 e F8.
- Em G5 foi inserida uma expressão que mostra "REP" para reprovado, se a média em F5 for menor que 6,0, e "APR" para aprovado, em caso contrário. Idem para G6, G7 e G8.

As expressões inseridas em F7 e G8 foram, respectivamente:

- A) =MÉDIA(C7\$E7) e =SE(F8<=6;"APR";"REP")
 B) =MÉDIA(C7;E7) e =SE(F8<=6;"APR";"REP")
 C) =MÉDIA(C7:E7) e =SE(F8>=6;"APR";"REP")
 D) =MÉDIA(C7%*E7) e =SE(F8>=6;"APR";"REP")
 E) =MÉDIA(C7&E7) e =SE(F8>=6?"APR"? "REP")

17. No Powerpoint 2010 BR, a orientação dos slides pode ser feita de duas formas, que são:

- A) normal e personalizado
 B) padrão e formatado
 C) horizontal e vertical
 D) retrato e paisagem
 E) carta e ofício

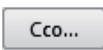
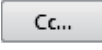



18. Um assistente previdenciário criou uma apresentação no Powerpoint 2010 BR, e, no momento, o software exibe o slide 8 em modo edição, de um total de 20. A apresentação dos slides pode ser feita a partir do começo (slide 1), por meio de um atalho de teclado AT1, ou a partir do slide atual (slide 8), por meio de outro atalho AT2. Nessas condições AT1 e AT2 são, respectivamente:

- A) F5 e Shift + F5
 B) F5 e Ctrl + F5
 C) F5 e Alt + F5
 D) F8 e Ctrl + F8
 E) F8 e Shift + F8

19. Um internauta está acessando o site <http://www.rioprevi-dencia.rj.gov.br/> no browser Google Chrome. Para visualizar a página corrente em modo tela inteira, ele deve clicar na seguinte tecla de função:

- A) F12
 B) F11
 C) F10
 D) F9
 E) F8

20. Uma característica do MSOffice Outlook 2010 BR está indicada na seguinte alternativa:

- A) Endereços de e-mail inseridos no campo  são vistos por todos os destinatários na recepção.
 B) O campo  tem por significado o envio de e-mails como cópia oculta
 C) A caixa  **Itens Enviados** tem por função armazenar e-mails lidos
 D) E-mails recebidos são armazenados na  **Caixa de entrada**
 E) No campo  deve ser inserido o e-mail de origem

RACIOCÍNIO LÓGICO-QUANTITATIVO

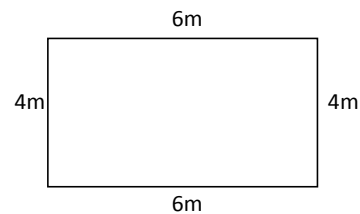
21. O preço de custo de um determinado bem é R\$80,00 e seu preço de venda, R\$100,00. Em uma dada semana, o preço de venda aumentou em 10% e, duas semanas depois, foi reduzido em 5%. Desse modo, em relação ao preço de custo, o lucro atual na venda desse bem é de:

- A) 30,000%
 B) 30,125%
 C) 30,625%
 D) 31,000%
 E) 31,125%

22. Sabe-se que 20 operários de uma construtora, trabalhando 8 horas por dia, constroem 20 casas em 8 meses. Desse modo, considerando o período de trabalho de 10 horas, o número de operários necessários para construir 30 casas em 6 meses é de:

- A) 20
 B) 24
 C) 30
 D) 32
 E) 36

23. Observe a figura abaixo:



Seu perímetro e área valem, respectivamente:

- A) 10m e 12m²
 B) 14m e 20m²
 C) 16m e 32m²
 D) 20m e 24m²
 E) 24m e 36m²

24. Dentre os números relacionados abaixo, o que **não** pertence ao conjunto dos números racionais é:

- A) 2,0
 B) 3,333...
 C) 12/19
 D) 2⁴
 E) $\sqrt{3}$

25. Observe os conjuntos abaixo:

$$A = \{1,5,6,7\}$$

$$B = \{2,5,6,8\}$$

$$C = \{1,5,6\}$$

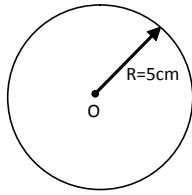
Os conjuntos $(A \cap B)$ e $(A \cup C)$ valem, respectivamente:

- A) $\{5,6\}$ e $\{1,5,6,7\}$
 B) $\{1,5,6\}$ e $\{1,2,5,6,7\}$
 C) $\{7\}$ e $\{1,5,6,7\}$
 D) $\{1,5,6,7\}$ e $\{1,5,7\}$
 E) $\{1,2,5,6,7,8\}$ e $\{1,5,6\}$

26. O número $(3^5)^2$ corresponde a:

- A) 3¹⁰
 B) 3²⁵
 C) 6¹⁰
 D) 6⁵
 E) 15²

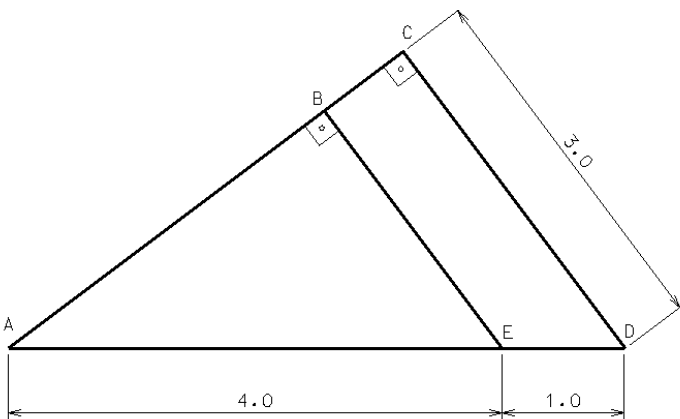
27. Observe o círculo abaixo, com centro O e raio R = 5cm.



O perímetro desse círculo vale:

- A) 5π
- B) 10π
- C) 15π
- D) 20π
- E) 25π

28. Observe a figura plana apresentada abaixo;



Nessa figura, a medida do segmento de reta AB é:

- A) 3,0
- B) 3,2
- C) 3,4
- D) 4,0
- E) 4,6

29. Observe a sequência abaixo:

0, 1, 1, 2, 3, 5, 8, x, 21

O número x vale:

- A) 9
- B) 11
- C) 13
- D) 15
- E) 19

30. De todos os subconjuntos de números naturais e primos formados por dois elementos, o subconjunto que apresenta soma dos elementos igual a 16, e o maior valor possível para seu produto, é aquele cuja diferença entre o maior e o menor elemento é igual a:

- A) 2
- B) 3
- C) 4
- D) 5
- E) 6

NOÇÕES DE DIREITO CONSTITUCIONAL E ADMINISTRATIVO

31. O Brasil é um estado federal, composto pela União, Estados, Distrito Federal e Municípios. A representação externa ocorre através da União Federal. Nesse modelo de estado, os entes federados são dotados de:

- A) soberania
- B) autonomia
- C) investidura
- D) colaboração
- E) absorção

32. No Brasil, é corriqueiro movimento pela adoção da pena de morte que, regra geral, não é admitida pela Constituição Federal. Admite-se a pena de morte no Brasil quando:

- A) houver comoção nacional interna declarada pelo Congresso Nacional
- B) existirem riscos na fronteira, reconhecidos pelo Ministério da Defesa
- C) houver guerra externa declarada, colocando em risco a nacionalidade
- D) ocorrer guerra interna, diante do surgimento de guerrilhas
- E) se der autorização do Presidente da República

33. No Rio de Janeiro, realizou-se passeata em apoio aos Ministros do Supremo Tribunal pelo resultado de determinado julgamento de extrema relevância. Esse ato tem por base o direito fundamental de:

- A) reunião
- B) associação
- C) cooperativismo
- D) coletivismo
- E) integridade

34. Quando Mévio apresenta sua opinião em meio de comunicação, criticando determinada atitude governamental ou privada, está exercendo o direito fundamental de:

- A) locomoção
- B) pensamento
- C) escolha
- D) iniciativa
- E) trabalho

35. Na organização do orçamento geral da União, consoante as regras constitucionais, a lei orçamentária anual englobará os seguintes orçamentos:

- A) fiscal, de investimentos das empresas, da seguridade social
- B) do Executivo, do Legislativo, do Judiciário, da Defensoria Pública
- C) tributário, de investimentos, de despesas públicas
- D) anual, bianual, quadrianual
- E) de impostos, de taxas, de segurança

36. No âmbito do ato administrativo delegado, quando a autoridade delegante resolve atrair para a sua esfera decisória a prática do ato objeto da delegação, ocorre o fenômeno da:

- A) nulidade
- B) anulabilidade
- C) perpetuação
- D) avocação
- E) integração

37. Nos contratos administrativos, as cláusulas que reconhecem as prerrogativas especiais conferidas à Administração Pública são conhecidas como:

- A) usuais
- B) naturais
- C) rescisórias
- D) exorbitantes
- E) extras

38. Dentre as características do uso comum do bem público estão arroladas as seguintes, **exceto**:

- A) generalidade na utilização
- B) indiscriminação dos administrados
- C) gratuidade do uso
- D) ausência de qualquer gravame
- E) especialização do uso

39. Dentre os meios legais que podem ser utilizados pelo administrador para atuar contra atos da Administração Pública, o que **não** pode ser utilizado por pessoa física é:

- A) Mandado de Segurança
- B) Ação Popular
- C) Ação Civil Pública
- D) Habeas Data
- E) Mandado de Injunção

40. Tendo a Administração Pública realizado licitação e não tendo ocorrido licitantes, está-se diante de uma licitação considerada:

- A) perfeita
- B) acabada
- C) inexigível
- D) dispensada
- E) deserta

NOÇÕES DE DIREITO PREVIDENCIÁRIO

41. No que concerne à Seguridade Social, é correto afirmar que:

- A) o regime geral é organizado pelo Instituto Nacional do Seguro Social, autarquia federal
- B) existem dois regimes gerais e dois regimes próprios de previdência, todos públicos
- C) os regimes próprios da previdência são mantidos pela União e pelas fundações previdenciárias
- D) os servidores militares federais e dos Estados pertencem ao regime geral da União e dos Estados
- E) os servidores civis estão incluídos no regime geral de previdência da União, Estados, Municípios e Distrito Federal

42. O princípio aplicável ao sistema previdenciário que permite o gozo de benefícios sem que haja contraprestação equivalente ao que será percebido durante a vida é o da:

- A) igualdade
- B) uniformidade
- C) solidariedade
- D) seletividade
- E) irredutibilidade

43. Nos termos da lei federal que regula o regime geral de previdência social, é considerado segurado especial o:

- A) trabalhador avulso
- B) meeiro
- C) doméstico
- D) sócio-gerente
- E) padre

44. Havendo transferência para a reserva remunerada e nova inserção no mercado de trabalho, com regular registro em carteira de trabalho, ocorrerá a inserção do servidor militar no regime previdenciário como segurado do seguinte tipo:

- A) facultativo
- B) alternativo
- C) solidário
- D) compulsório
- E) especial

45. Nos termos da legislação do Estado do Rio de Janeiro, o RIOPREVIDÊNCIA é:

- A) pessoa jurídica de direito privado equiparada a uma Fundação
- B) ente sem personalidade jurídica por ser um Fundo Especial
- C) empresa pública com capital cem por cento do Estado
- D) sociedade de economia mista com controle integral do Estado
- E) pessoa jurídica de direito público na modalidade autarquia

NOÇÕES DE ECONOMIA

46. Numa estrutura de mercado em concorrência perfeita, **não** se pode identificar a seguinte característica:

- A) As empresas vendedoras do bem ou serviço são tomadoras de preços.
- B) A presença de uma única empresa vendedora do bem ou serviço.
- C) Os produtos comercializados são homogêneos.
- D) Não existem barreiras à entrada de novas empresas neste mercado.
- E) As empresas tendem a apresentar lucros normais no longo prazo.

47. A curva de demanda de um mercado monopolista é representada pela função $P = 300 - 5Q$. Os custos totais deste mercado são representados por $CT = 100 + 50Q$. O preço que maximiza o lucro deste mercado é:

- A) 30
- B) 150
- C) 25
- D) 175
- E) 300

48. Com relação ao modelo clássico de determinação da renda, a alternativa correta é:

- A) os trabalhadores lutam por salários nominais.
- B) a curva de demanda agregada é infinitamente inelástica aos preços.
- C) a política monetária altera a renda da economia.
- D) a política fiscal altera o produto da economia.
- E) a moeda é neutra.

49. Assinale a alternativa que representa um exemplo de política fiscal expansionista:

- A) desvalorização cambial
- B) valorização cambial
- C) aumento dos gastos do Governo (G)
- D) redução dos gastos do Governo (G)
- E) aumento dos tributos (T)

50. O período de 1974-78 marca uma fase de acomodação aos novos preços do petróleo. Após o primeiro choque, a economia mundial foi afetada por uma série de mudanças importantes. Um dos efeitos mais imediatos desse choque, já em 1974, no Brasil foi:

- A) a fraca entrada de "petrodólares" no mercado financeiro internacional
- B) o surgimento de superávit comercial
- C) o surgimento de superávit na balança de serviços
- D) o financiamento do déficit em conta-corrente do Brasil através dos "petrodólares"
- E) o surgimento de superávit na conta-corrente.

NOÇÕES DE ADMINISTRAÇÃO PÚBLICA

51. A ética como padrão de comportamento no trabalho é uma das características mais importantes de um servidor público. A ética se constitui de:

- A) valores definidos pela religião de cada um
- B) valores pessoalmente definidos como éticos
- C) valores socialmente definidos como éticos
- D) critérios assumidos individualmente
- E) concepções adquiridas no ambiente familiar

52. Os princípios constitucionais da administração pública que se assemelham a características da burocracia weberiana são:

- A) dois, legalidade e impessoalidade
- B) três, moralidade, publicidade e impessoalidade
- C) quatro, moralidade, eficiência, impessoalidade e publicidade
- D) cinco, legalidade, publicidade, moralidade, eficiência e eficácia
- E) seis, publicidade, moralidade, eficiência, eficácia, impessoalidade e igualdade

53. Na administração pública, cargo em comissão declarado em lei de livre nomeação e exoneração deve ser ocupado:

- A) por promoção vertical
- B) sempre após concurso público
- C) por concurso público ou transferência de outro cargo em comissão
- D) por concurso específico em que se avalia o mérito para o cargo
- E) por decisão da autoridade superior que nomeia

54. Os servidores públicos fazem greve, mas na verdade, segundo a Constituição Federal do Brasil de 1988:

- A) Há termos, mas não há limites definidos, nem a Constituição exige isto
- B) Não há termos, nem limites para o direito de greve no serviço público
- C) O direito de greve só pode ser exercido nos termos e limites definidos em lei
- D) Não há direito de greve, mas sim de paralisação temporária, com data marcada para seu término
- E) Não há direito de greve, nem de paralisação temporária

55. O Tribunal de Contas é um órgão auxiliar:

- A) do Poder Executivo
- B) do Poder Legislativo
- C) do Poder Judiciário
- D) do Ministério Público
- E) da Controladoria Geral da União

56. Estado do Bem-Estar Social é:

- A) Um momento da vida de uma pessoa em que todas as suas necessidades sociais estão atendidas
- B) Uma ação organizada pelas Secretarias de Saúde dos Estados e Municípios no sentido de prover condições sanitárias adequadas a uma vida saudável
- C) Uma condição adquirida por algumas pessoas que alcançam um estado geral de elevado nível de saúde e educação
- D) Uma ação articulada pelo Estado no sentido de prover as pessoas das necessidades básicas para que elas se sintam indivíduos com futuro e cidadãos com direitos
- E) Unidade da federação em que o bem-estar da população alcançou o mais elevado índice.

57. As agências reguladoras criadas a partir dos anos 1990, são principalmente voltadas para acompanhar as delegações feitas através de:

- A) concessões
- B) autorizações e permissões
- C) autorizações
- D) permissões
- E) privatizações

58. A administração pública brasileira se estrutura, nos termos do Decreto-Lei 200/67, em:

- A) direta, indireta e semidireta
- B) burocrática e gerencialista
- C) Federal, estadual e municipal
- D) Federalista e unitária
- E) direta e indireta

59. A proteção social no Brasil é um sistema composto de:

- A) Educação, Saúde e Habitação
- B) Previdência Social, Saúde e Assistência Social
- C) Transporte, Saúde e Assistência Social
- D) Previdência, Assistência e Seguro Desemprego
- E) Seguro Desemprego, INSS e Fundo de Garantia por Tempo de Serviço

60. A teoria dos 3 poderes, defendida por Montesquieu há 3 séculos, considera que cada um dos poderes é freio e contrapeso dos demais. Ela:

- A) continua considerada em grande parte do mundo
- B) deixou de ser considerada a partir do final do século XIX
- C) deixou de ser considerada no século XXI
- D) é considerada apenas na França
- E) é considerada apenas na França e nos Estados Unidos da América

NOÇÕES DE PREVIDÊNCIA SOCIAL

61. No Brasil, constitui um marco comum para a Previdência Social a denominada lei Eloy Chaves que instituiu:

- A) Caixas de Aposentadoria e Pensão
- B) Fundações previdenciárias
- C) Fundos de pensão de empresas públicas
- D) Regimes geral e especial de previdência
- E) Institutos de apoio aos servidores militares

62. Nos termos da novel legislação que criou Fundações de Previdência no âmbito federal é correto afirmar que:

- A) as Fundações abrangeram os servidores dos três poderes da República e o Ministério Público
- B) houve a criação de um regime de previdência complementar do servidor público federal
- C) a natureza jurídica das Fundações é de direito público, criadas por lei especial
- D) por disposição legal todos os servidores da ativa estão integrados no novo regime de previdência
- E) admite a inserção dos servidores militares no novo regime de previdência dos servidores públicos

63. Nos termos da legislação atual que regula a previdência pública federal, é correto afirmar:

- A) as Fundações terão Conselho Deliberativo, Conselho Fiscal e Conselho de Auditoria
- B) os membros do Conselho Deliberativo serão indicados pelos Presidentes da República, do Supremo Tribunal Federal e do Senado Federal
- C) a Presidência do Conselho Deliberativo será exercida por membro indicado pelos patrocinados
- D) a Presidência do Conselho Fiscal será indicada pelo respectivo patrocinador
- E) as Diretorias Executivas serão compostas por quatro membros, no máximo

64. O Deputado Federal Eustáquio é originariamente servidor público estatutário do município J. Nos termos da legislação sobre o regime geral de previdência, ele será considerado como segurado de regime:

- A) obrigatório
- B) facultativo
- C) próprio
- D) especial
- E) complementar

65. Marcos, empregado regularmente registrado, contribuiu para a Previdência obtendo sua aposentadoria regular. Por força do aquecimento do mercado de trabalho, sua antiga empregadora, carente de mão de obra especializada, realizou novo contrato de trabalho com Marcos. Como ele já é aposentado pelo regime geral, a contribuição previdenciária dessa nova relação será:

- A) dispensada, diante da situação de aposentado de Marcos pelo regime geral
- B) devida, pois Marcos somente seria isento se fosse aposentado pelo regime especial
- C) dispensada, pois o reingresso no mercado de trabalho tem incentivo previdenciário
- D) devida, pois caracteriza-se situação de contribuinte obrigatório, aplicável o princípio da solidariedade
- E) dispensada, pois o empregado não recebe qualquer novo benefício do sistema para gerar tal contribuição.

66. No regime geral da Previdência Social, a aposentadoria por invalidez será reconhecida por:

- A) laudo de médico particular que assista o segurado
- B) exame realizado por Junta Médica indicada pelo órgão empregador
- C) médico vinculado à Previdência Social
- D) declaração do empregador quanto à saúde do empregado
- E) constatação de sucessivos períodos de auxílio-doença

67. A aposentadoria por idade, nos termos da lei geral de Previdência, será devida ao segurado empregado, inclusive o doméstico, a partir da data de:

- A) homologação da aposentadoria, quando não houver desligamento do emprego
- B) desligamento até cento e vinte dias, quando requerida após
- C) deferimento, quando não houver desligamento do emprego
- D) requerimento, quando houver desligamento do emprego
- E) desligamento do emprego, quando requerida até essa data

68. A lei geral de Previdência Social permite que a empresa requeira a aposentadoria do empregado. Desde que com o período de carência cumprido, isso é possível na seguinte situação:

- A) empregado com mais de setenta anos de idade
- B) empregada com sessenta anos de idade
- C) empregado com mais de sessenta e cinco anos de idade
- D) empregada com cinquenta anos de idade
- E) empregado ou empregada de qualquer idade

69. Na aposentadoria por tempo de serviço, consoante as regras da lei geral de Previdência Social funcionam as seguintes regras, quanto à renda mensal correspondente:

- A) para a mulher: 50% (cinquenta por cento) do salário de benefício aos 25 (vinte e cinco) anos de serviço, mais 10% (dez por cento) deste para cada novo ano completo de atividade, até o máximo de 100% (cem por cento) do salário de benefício aos 30 (trinta) anos de serviço
- B) para o homem: 60% (sessenta por cento) do salário de benefício aos 30 (trinta) anos de serviço, mais 10% (dez por cento) deste para cada novo ano completo de atividade, até o máximo de 100% (cem por cento) do salário de benefício aos 35 (trinta e cinco) anos de serviço
- C) para a mulher: 70% (setenta por cento) do salário de benefício aos 25 (vinte e cinco) anos de serviço, mais 6% (seis por cento) deste para cada novo ano completo de atividade, até o máximo de 100% (cem por cento) do salário de benefício aos 30 (trinta) anos de serviço
- D) para o homem: 50% (cinquenta por cento) do salário de benefício aos 30 (trinta) anos de serviço, mais 10% (dez por cento) deste para cada novo ano completo de atividade, até o máximo de 100% (cem por cento) do salário de benefício aos 35 (trinta e cinco) anos de serviço
- E) para a mulher: 50% (cinquenta por cento) do salário de benefício aos 20 (vinte) anos de serviço, mais 10% (dez por cento) deste para cada novo ano completo de atividade, até o máximo de 100% (cem por cento) do salário de benefício aos 25 (vinte e cinco) anos de serviço

70. No regime da Previdência Complementar, em caso de irregularidade ou insuficiência na constituição das reservas técnicas, provisões e fundos, ou na sua cobertura por ativos garantidores, sendo a entidade fechada, para resguardar os direitos dos participantes e assistidos poderá ocorrer o seguinte ato:

- A) concordata
- B) intervenção
- C) falência
- D) resgate
- E) aquisição