

GOVERNO DO DISTRITO FEDERAL

SECRETARIA DE ESTADO DE GESTÃO ADMINISTRATIVA

Concurso Público

Cargo 6:

Analista de Administração Pública

Especialidade: Direito e Legislação

Aplicação: 5/12/2004



CADERNO DE PROVAS



UNIVERSIDADE DE BRASÍLIA
Criando Oportunidades para Realizar Sonhos

LEIA COM ATENÇÃO AS INSTRUÇÕES ABAIXO.

- 1 Ao receber este caderno, confira se ele contém **cento e vinte** itens, correspondentes às provas objetivas, corretamente ordenados de **1 a 120**, e a prova discursiva, seguida de duas páginas para rascunho.
- 2 As páginas para rascunho são de uso opcional; não contarão, portanto, para efeito de avaliação.
- 3 Caso o caderno esteja incompleto ou tenha qualquer defeito, solicite ao fiscal de sala mais próximo que tome as providências cabíveis.
- 4 Não utilize nenhum material de consulta que não seja fornecido pelo CESPE.
- 5 Não serão distribuídas folhas suplementares para rascunho nem para texto definitivo.
- 6 Nos itens das provas objetivas, recomenda-se não marcar ao acaso: a cada item cuja resposta divirja do gabarito oficial definitivo, além de não marcar ponto, o candidato recebe pontuação negativa, conforme consta em edital.
- 7 Durante as provas, não se comunique com outros candidatos nem se levante sem autorização do chefe de sala.
- 8 A duração das provas é de **quatro horas e trinta minutos**, já incluído o tempo destinado à identificação — que será feita no decorrer das provas —, ao preenchimento da folha de respostas e à transcrição do texto definitivo para o caderno de texto definitivo da prova discursiva.
- 9 Na prova discursiva, não será avaliado texto escrito a lápis, em local indevido ou que tenha identificação fora do local apropriado.
- 10 Ao terminar as provas, chame o fiscal de sala mais próximo, devolva-lhe a sua folha de respostas e seu caderno de texto definitivo e deixe o local de provas.
- 11 A desobediência a qualquer uma das determinações constantes no presente caderno, na folha de rascunho, na folha de respostas ou no caderno de texto definitivo poderá implicar a anulação das suas provas.

AGENDA

- I **6/12/2004**, a partir das 10 h (horário de Brasília) – Gabaritos oficiais preliminares das provas objetivas: Internet — www.cespe.unb.br — e quadros de avisos do CESPE/UnB, em Brasília.
- II **7 a 9/12/2004** – Recursos (provas objetivas): formulários estarão disponíveis no Sistema Eletrônico de Interposição de Recurso, Internet — www.cespe.unb.br.
- III **11/1/2005** – Resultado final das provas objetivas e resultado provisório da prova discursiva: Diário Oficial do Distrito Federal e locais mencionados no item I.
- IV **12 a 14/1/2005** – Recursos (prova discursiva): em locais e horários que serão informados na divulgação do resultado provisório.
- V **28/1/2005** – Resultados finais da prova discursiva e do concurso: locais mencionados no item III.

OBSERVAÇÕES

- Não serão objeto de conhecimento recursos em desacordo com o item 10 do Edital n.º 1/2004 – SGA/ADM, de 15/9/2004.
- Informações adicionais: telefone 0(XX) 61 448 0100; Internet – www.cespe.unb.br.
- É permitida a reprodução deste material apenas para fins didáticos, desde que citada a fonte.

• De acordo com o comando a que cada um dos itens de 1 a 120 se refira, marque, na **folha de respostas**, para cada item: o campo designado com o código **C**, caso julgue o item **CERTO**; ou o campo designado com o código **E**, caso julgue o item **ERRADO**. A ausência de marcação ou a marcação de ambos os campos não serão apenadas, ou seja, não receberão pontuação negativa. Para as devidas marcações, use a folha de rascunho e, posteriormente, a **folha de respostas**, que é o único documento válido para a correção das suas provas.

• Nos itens que avaliam **Noções de Informática**, a menos que seja explicitamente informado o contrário, considere que todos os programas mencionados estão em configuração-padrão, em português, que o *mouse* está configurado para pessoas destros e que expressões como clicar, clique simples e clique duplo referem-se a cliques com o botão esquerdo do *mouse*. Considere também que não há restrições de proteção, de funcionamento e de uso em relação aos programas, arquivos, diretórios e equipamentos mencionados.

CONHECIMENTOS BÁSICOS

Texto para os itens de 1 a 20

Uma equipe vencedora

1 Nesses jogos olímpicos, os heróis do esporte terão sua
carreira analisada, seu percurso escrutinado, em busca das razões
de seu sucesso. Como resistir às pressões de uma empreitada
4 olímpica? Como manter o foco quando há tantas distrações? Até
onde esses seres especiais podem ter suas “cordas” esticadas por
seus treinadores? São perguntas que faço a mim mesmo. Estudar
7 a vida dos grandes campeões sempre me interessou — tenho
centenas de livros a respeito: muitos, por exemplo, sobre os
treinadores do esporte americano — e tem ajudado em minhas
10 tentativas de formar equipes vencedoras.

 Creio que há uma equação que descreve bem a trajetória
dos grandes campeões: dedicação + talento. A dedicação pode
13 ser definida como a força inesgotável que permite seguir em
frente. É a busca constante da capacitação através do treinamento
e da grande disciplina que esse processo exige. O segundo
16 elemento, o talento, também é muito importante. Certa dose é
necessária, mas nem sempre os grandes campeões são os mais
talentosos. São, isso sim, aqueles que conseguem usufruir e
19 desenvolver o dom que têm. Mas há um elemento que faz essa
equação realmente dar resultado: a paixão que observamos no
olhar dos grandes campeões, a intensidade em suas ações.
22 O principal exemplo, para nós, brasileiros, é Ayrton Senna.

 Além do fascínio que esses grandes campeões exercem
sobre as pessoas, há outro elemento no mundo olímpico que me
25 encanta ainda mais: os times campeões. É preciso buscar
entender como funcionam os mecanismos dessas equipes, a
importância e a função de seus elementos. Entender o papel e o
28 valor do líder, aquele que inspira, mesmo que assuma, em prol
do grupo, posições nem sempre populares. Que segredos, que
estratégias usam os grandes treinadores, os capitães com seus
31 times? Não adianta o líder gritar se não estiver envolvido, se não
souber ler os sinais que o atleta envia. Isso é um exercício diário.

 A importância dos supertalentos nas equipes é
34 proporcional à influência deles sobre os companheiros. O valor
de um Michael Jordan, por exemplo, não vinha apenas da
capacidade de fazer 60 pontos em um jogo, mas sim por fazer os
37 jogadores a sua volta atuarem melhor.

 De que forma grandes equipes constroem o
comprometimento necessário para dar consistência a sua
40 trajetória? A única resposta que encontro está no dia-a-dia do
treinamento intenso e obstinado, todos buscando a excelência
constantemente, entendendo que são peças fundamentais de uma
43 grande engrenagem. O esporte nos mostra que não há grandes
campeões que nunca tenham sido derrotados. Mas certamente
nunca deixaram de tentar novamente, com mais intensidade e de
46 formas diferentes.

Bernardinho. *Veja Olimpíadas* - Edição especial, ago./2004 (com adaptações).

De acordo com as idéias e a estrutura do texto, julgue os itens subsequentes.

- 1 Observando-se a macroestrutura do texto, constata-se que a dissertação é predominante.
- 2 As três indagações do primeiro parágrafo são respondidas, respectivamente, nos parágrafos seguintes.
- 3 Disciplina, esforço, vocação e caráter são, além do talento e da dedicação, requisitos essenciais para uma equipe ser vencedora.
- 4 Com o exemplo de Michael Jordan, o articulista reforça, além da dedicação e do talento, a importância da liderança entre os pares.
- 5 Os vocábulos “olímpica”, “trajetória”, “inesgotável” e “necessária” recebem acento grave em razão da mesma regra gramatical.
- 6 A expressão “tem ajudado em minhas tentativas” (l.9-10) refere-se a “livros (...) sobre treinadores” (l.8-9) e, como tal, a forma verbal “tem” (l.9) deveria estar grafada com acento circunflexo.
- 7 O sinal de “+” (l.12) corresponde, no contexto, ao emprego da conjunção coordenativa aditiva e.
- 8 A reescritura do conceito de “dedicação” (l.12) está correta da seguinte maneira: Dedicação é a força inabarcável que impulsiona o jogador para à frente; é a busca diuturna da qualificação, por intermédio de treinamento e de grande disciplina exigida.
- 9 Nas linhas de 15 a 18, o autor defende que, para os vencedores, é necessário um pouco de talento; nem sempre, todavia, os grandes campeões são mais talentosos do que os jogadores desconhecidos.
- 10 Os vocábulos “usufruir” (l.18) e “fascínio” (l.23) significam, no contexto, respectivamente, **aproveitar e admiração**.
- 11 Na linha 27, entre “elementos” e “Entender” a substituição do ponto por ponto-e-vírgula, com o necessário ajuste da inicial maiúscula, não fere o sentido do período nem acarreta desvio gramatical.
- 12 Com “Isso é um exercício diário” (l.32), o articulista está referindo-se às observações apresentadas no período anterior, “Não adianta o líder gritar se não estiver envolvido, se não souber ler os sinais que o atleta envia” (l.31-32), em que o termo “o líder” exerce a função sintática de sujeito do predicado constituído pela flexão do verbo gritar.

- 13 O período introdutório do quarto parágrafo (ℓ.33-34) é composto e inclui uma oração subordinada adverbial proporcional.
- 14 O vocábulo “dia-a-dia” (ℓ.40) está grafado com hífen porque é um substantivo, o que não aconteceria se a frase estivesse assim redigida: Dia a dia, o treinador se tornava mais obstinado, buscando a excelência de todos.
- 15 Na passagem “todos buscando a excelência” (ℓ.41), a substituição do componente sublinhado pelo pronome oblíquo correspondente gera a seguinte reescritura: todos lhe buscando.
- 16 Os dois períodos finais do texto, a partir de “O esporte” (ℓ.43), cabem no fechamento de um relatório acerca da participação brasileira em Atenas.

A partir do período “O esporte nos mostra que não há grandes campeões que nunca tenham sido derrotados” (ℓ.43-44) do texto, julgue os itens a seguir.

- 17 A estrutura sintática do período permanece correta com o deslocamento do pronome “nos” para após a forma verbal “mostra”, desde que o pronome átono esteja ligado ao verbo por hífen.
- 18 A oração subordinada “que não há grandes campeões” exerce a função sintática de complemento direto da forma verbal mostra.
- 19 A forma verbal “há” comporta a substituição pela forma **existe**, sem prejuízo sintático para o texto.
- 20 No contexto, está correta a substituição de “que nunca tenham sido derrotados” pela seguinte estrutura: cuja derrota nunca tenha ocorrido.

Com referência à redação oficial, julgue os itens que se seguem.

- 21 Ofício e memorando são expedientes que, circulando predominantemente em repartições públicas, diferem quanto à extensão e à complexidade do assunto.
- 22 Para prestar contas de eventos ou de processos já ocorridos na linha do tempo, pode-se utilizar tanto a ata quanto o relatório, indiferentemente.
- 23 O requerimento só pode ser utilizado quando o requerente tem convicção de que foi lesado em um direito constitucionalmente garantido.

O mato

1 Veio o vento frio, e depois o temporal noturno, e depois da lenta chuva que passou toda a manhã caindo e ainda voltou algumas vezes durante o dia, a cidade entardeceu
4 em brumas. Então o homem esqueceu o trabalho e as promissórias, esqueceu a condução e o telefone e o asfalto, e saiu andando lentamente por aquele morro coberto de um mato
7 viçoso, perto de sua casa. O capim cheio de água molhava seu sapato e as pernas da calça; o mato escurecia sem vagalumes nem grilos.

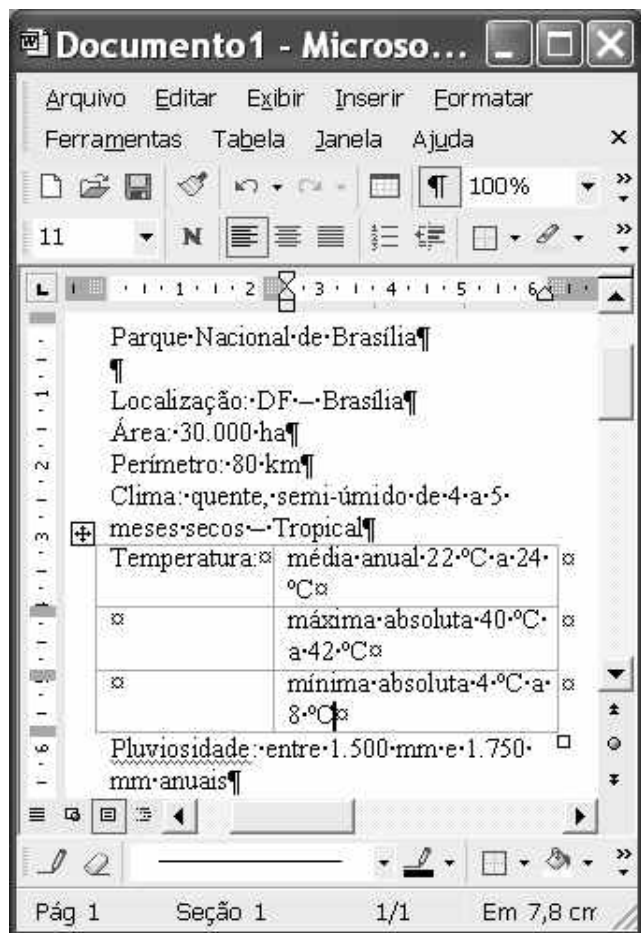
10 Pôs a mão no tronco de uma árvore pequena, sacudiu um pouco, e recebeu nos cabelos e na cara as gotas de água como se fosse uma bênção. Ali perto mesmo, a cidade
13 murmurava, estava com seus ruídos vespertinos, ranger de bondes, buzinar impaciente de carros, vozes indistintas; mas ele via apenas algumas árvores, um canto de mato, uma pedra
16 escura. Ali perto, dentro de uma casa fechada, um telefone batia, silenciava, batia outra vez, interminável, paciente, melancólico. Alguém, com certeza já sem esperança, insistia
19 em querer falar com alguém.

Por um instante o homem voltou seu pensamento para a cidade e sua vida. Aquele telefone tocando em vão era um
22 dos milhões de atos falhados da vida urbana. Pensou no desgaste nervoso dessa vida, nos desencontros, nas incertezas, no jogo de ambições e vaidades, na procura de amor e de
25 importância, na caça ao dinheiro e aos prazeres. Ele pouco a pouco foi sentindo uma paz naquele começo de escuridão, sentiu vontade de deitar e dormir entre a erva úmida, de se
28 tornar um confuso ser vegetal, um grande sossego, farto de terra e de água; ficaria verde, emitiria raízes e folhas, seu tronco seria um tronco escuro, grosso, seus ramos formariam
31 copa densa, e ele seria, sem angústia nem amor, sem desejo nem tristeza, forte, quieto, imóvel, feliz.

Rubem Braga. **200 crônicas escolhidas**. 6.ª ed. Rio de Janeiro: Record, 1978, p. 260-1 (com adaptações).

A partir do texto acima, julgue os itens seguintes.

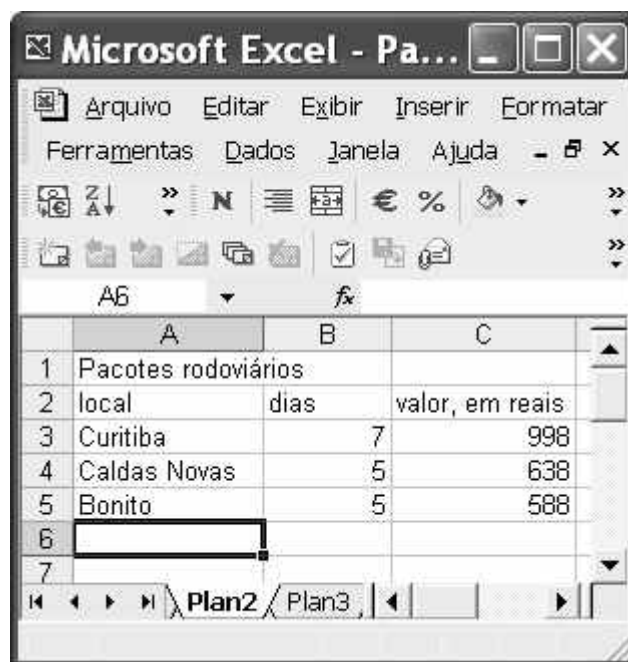
- 24 O primeiro período do texto é predominantemente descritivo; já o segundo apresenta passagens narrativas.
- 25 Quanto à circunstância temporal, o texto estrutura-se na seguinte seqüência: no primeiro parágrafo, predomina o presente; no segundo, o futuro; no terceiro, o passado.
- 26 O emprego das vírgulas antes do “e” (ℓ.1) está correto, pois elas estão separando orações com sujeitos distintos.
- 27 O sentido da passagem “molhava seu sapato e as pernas da calça” (ℓ.7-8) não se altera com a seguinte substituição: molhava-lhe o sapato e as pernas da calça.
- 28 A vírgula logo após “vespertinos” (ℓ.13) pode ser substituída por dois-pontos, sem que se alterem as relações entre os termos da oração.
- 29 Os adjetivos “interminável, paciente, melancólico” (ℓ.17-18) qualificam a forma pronominal “Alguém”, que os sucede.
- 30 Deduz-se do texto que só junto à natureza o ser humano vivencia as sensações de paz, felicidade, alegria e força para enfrentar os obstáculos cotidianos.



A figura acima ilustra uma janela do Word 2002 que contém um documento em elaboração. Considerando essa figura, julgue os itens a seguir, acerca do Word 2002.

- 31 É correto concluir que o trecho do documento iniciado em “Temperatura” e terminado em “8 °C” está inserido em uma tabela.
- 32 Caso se deseje eliminar o sublinhado no termo Pluviosidade, é suficiente selecionar o referido termo; clicar a opção Fonte no menu **Formatar**; na janela disponibilizada, desmarcar o campo apropriado; e clicar OK.
- 33 Considere a realização do seguinte procedimento: aplicar um clique duplo sobre “Parque”; pressionar e manter pressionada a tecla **Shift**; teclar **End**; liberar a tecla **Shift**; clicar em seqüência os botões **≡** e **N**. Após esse procedimento, a primeira linha mostrada do documento ficará selecionada, centralizada e com a fonte no estilo negrito.
- 34 O traço observado em “DF – Brasília” pode ter sido inserido no documento em edição por meio da escolha desse caractere entre os caracteres especiais encontrados na janela Símbolo, que é acessada por meio do menu **Inserir**.






- 35 Para que o trecho “mínima (...) 8 °C” seja alinhado com “Temperatura:”, é suficiente realizar as seguintes ações: clicar sobre uma palavra do referido trecho; clicar o botão **≡**.
- 36 Para se ocultar as marcas de parágrafo observadas no documento, é suficiente desabilitar a opção **Mostrar/Ocultar**, o que pode ser obtido clicando-se o botão **¶**.
- 37 Mediante opção encontrada no menu **Arquivo**, é possível salvar várias versões do documento em edição em um único arquivo. Por meio desse arquivo, é possível abrir, revisar, imprimir e excluir versões anteriores.



Considerando a figura acima, que ilustra uma janela do Excel 2002, julgue os itens subseqüentes.

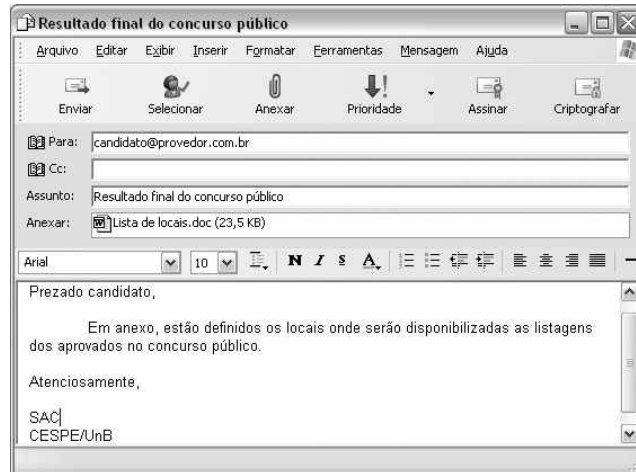
- 38 Considere a realização do seguinte procedimento: clicar a célula A1; pressionar e manter pressionada a tecla **Shift**; clicar a célula C1; clicar **↵**; liberar a tecla **Shift**. Após esse procedimento, as células A1, B1 e C1 ficarão mescladas, contendo o termo “Pacotes rodoviários”, que ficará centralizado na célula resultante.
- 39 Para determinar quanto, percentualmente, o pacote para “Caldas Novas” é mais caro que o pacote para “Curitiba” e pôr o resultado na célula A6, é suficiente realizar o seguinte procedimento: clicar o botão **%**; digitar **=C4/C5**; teclar **Enter**.
- 40 Considere que as células A3, A4 e A5 sejam selecionadas e, a seguir, o botão **Z ↓ A ↓** seja clicado. Na planilha resultante após esse procedimento, constará que o valor do pacote para Curitiba é igual a 588.
- 41 Por meio de opção encontrada no menu **Dados**, é possível inserir na célula selecionada um texto armazenado em arquivo do tipo txt.

Com relação ao Windows XP, julgue os itens seguintes, considerando que esse sistema operacional esteja sendo executado em um computador PC.





- 42 Caso haja duas janelas do Word 2002 em execução, aparecerão, na barra de tarefas do Windows XP, dois botões correspondentes a essas janelas. Os botões na barra de tarefas podem ser usados para se alternar entre as janelas, operação que pode também ser realizada usando-se uma combinação das teclas  e .
- 43 Ao se clicar o botão Iniciar do Windows XP, será exibido um *menu* com diversas opções. No Windows XP, há mais de uma opção de configuração para esse *menu*.
- 44 No Windows XP, a barra de tarefas se localiza sempre na parte inferior da tela do monitor de vídeo, não sendo possível mudá-la de lugar.
- 45 Caso haja um ícone correspondente a um arquivo do Word 2002 na *desktop*, para excluí-lo, é suficiente clicar sobre ele e, em seguida, pressionar simultaneamente as teclas ,  e .
- 46 Caso haja um ícone correspondente a um arquivo do Word 2002 na *desktop*, para se abrir esse arquivo, é suficiente aplicar um clique duplo sobre o referido ícone.

Acerca de conceitos de *hardware* e *software* de computadores do tipo PC, julgue os itens que se seguem.

- 47 Caso um computador esteja se tornando muito lento na execução de programas que requerem muito acesso ao disco rígido, a melhor solução para aumentar a velocidade de execução desses programas é diminuir a quantidade de memória *cache* instalada, de forma a sobrecarregar menos o microprocessador.
- 48 Caso seja necessário conectar um computador em uma rede do tipo *ethernet*, essa conexão deve ser feita por um periférico denominado *modem*, que permite integrar qualquer computador a esse tipo de rede.
- 49 Diversos modelos de impressora utilizam porta USB para realizar a comunicação com o computador.
- 50 Nos computadores, o sinal de som que vai para as caixas de som provém diretamente da porta serial.
- 51 O escâner é um periférico que permite que se crie um arquivo digital com informações que codificam figuras e textos contidos em papel, permitindo, posteriormente, ações como a visualização dessas imagens na tela de um computador ou mesmo sua impressão, por meio de uma impressora.
- 52 Os disquetes de 3½" mais utilizados atualmente permitem armazenar uma quantidade de informações superior a 1 milhão de *bytes*.
- 53 BIOS é o nome dado à placa controladora de vídeo dos atuais computadores do tipo PC.



Considerando que a janela do Outlook Express 6 (OE6) ilustrada acima esteja sendo executada em um computador PC e que uma mensagem de correio eletrônico esteja em processo de edição com o uso dos recursos do OE6 disponibilizados nessa janela, julgue os itens a seguir.

- 54 Caso se deseje editar o arquivo associado ao ícone  'Lista de locais.doc (23,5 KB)', utilizando-se o Word, é suficiente clicar o botão .
- 55 Ao se clicar o botão , a mensagem em edição será armazenada em arquivo específico do OE6 para envio posterior.
- 56 Caso o computador tenha disponível conexão ADSL com a Internet, ao se clicar o botão , é possível que se obtenham taxas de transferência de dados superiores a 36 MBps, caso a referida conexão utilize os recursos mais modernos da tecnologia ADSL.

Com relação a tecnologias da Internet, julgue os itens seguintes.

- 57 A tecnologia denominada *mobile IP* (IP móvel) permite que um *laptop* pertencente a uma LAN (*local area network*), quando conectado a outra LAN hospedeira, seja acessado pela Internet utilizando-se seu próprio número IP original, definido no escopo de sua rede LAN de origem.
- 58 A tecnologia denominada *bluetooth* permite que um dispositivo de comunicação móvel celular se conecte à Internet por meio de um *access point* de uma rede WLAN (*wireless LAN*), no padrão IEEE 802.11.b.
- 59 Atualmente, é possível, a partir de um dispositivo de comunicação celular que utilize a tecnologia GPRS, acessar recursos da Internet, como se comunicar com um servidor *http*.
- 60 O uso de *browser* permite explorar o protocolo *http* no acesso a páginas *web*. Atualmente, existem navegadores que possuem interface com ferramentas de correio eletrônico, permitindo, assim, a partir do navegador, o acesso a recursos dessa ferramenta.

CONHECIMENTOS ESPECÍFICOS

Em cada um dos itens seguintes, é apresentada uma situação hipotética, seguida de uma assertiva a ser julgada.

- 61 Lílian pretende doar gratuitamente um de seus rins a um sobrinho que necessita urgentemente do transplante para sobreviver. Nessa situação, a doação seria inconstitucional, porque o direito à integridade física, por ser um direito fundamental, é indisponível.
- 62 O governo de determinado estado brasileiro, no edital de um concurso para o provimento de cargos públicos, dispôs que, na prova de títulos, seria atribuído um ponto para cada ano em que o candidato demonstrasse ter residido naquele estado. Nessa situação, a referida disposição viola a Constituição da República.
- 63 Um deputado federal pelo Distrito Federal (DF) apresentou, individualmente, projeto de lei modificando a organização da Polícia Militar do Distrito Federal (PMDF). Nessa situação, o referido projeto de lei não deve ser apreciado pelo Congresso Nacional, pois compete privativamente ao DF legislar sobre a PMDF.
- 64 Determinada proposta de emenda constitucional foi aprovada pela Câmara dos Deputados e pelo Senado Federal. Nessa situação, a proposta deve ser submetida à apreciação do presidente da República, que disporá do prazo de quinze dias para sancioná-la ou vetá-la.
- 65 O Hospital Santo Aurélio é uma instituição privada de saúde com fins lucrativos. Nessa situação, é vedado a essa pessoa jurídica participar do Sistema Único de Saúde.

Julgue os itens a seguir, acerca do direito constitucional.

- 66 A Constituição da República atual veda a possibilidade de o DF dividir-se em municípios.
- 67 Considere que, após o decurso do prazo constitucionalmente definido para a contribuição provisória sobre movimentações financeiras, a União venha a editar lei complementar definindo um imposto federal incidente sobre movimentações financeiras. Nessa situação, tal instituição seria inconstitucional porque, como o texto da Constituição da República não atribui à União competência para instituir impostos sobre esse fato gerador, caberia aos estados a competência para instituir um imposto dessa natureza.
- 68 É vedado ao DF a instituição de contribuição de intervenção no domínio econômico, mesmo que o fato gerador dessa contribuição seja diverso dos fatos geradores de quaisquer tributos estaduais ou federais preexistentes.
- 69 Compete à Defensoria Pública do Distrito Federal a defesa judicial dos interesses coletivos da população do DF e ao Ministério Público do Distrito Federal e Territórios compete a defesa judicial dos interesses difusos dessa população.

A respeito do direito administrativo, julgue os itens subseqüentes.

- 70 O princípio da autotutela permite que a administração anule, de ofício, atos administrativos eivados de ilegalidade.
- 71 Considere que um jornalista tenha publicado artigo em que afirmasse que o tombamento é uma espécie de servidão administrativa voltada para a proteção do patrimônio histórico. Nessa situação, é tecnicamente incorreta a definição de tombamento utilizada pelo referido jornalista.
- 72 Considere que o DF tenha emitido alvará autorizando o funcionamento de um posto de abastecimento de combustíveis. Nessa situação, a emissão do referido alvará é ato administrativo que configura exercício de poder de polícia.
- 73 Nas tomadas de preço realizadas na modalidade técnica e preço, os aspectos técnicos devem ser avaliados na fase prévia de habilitação, na qual somente são habilitados os licitantes que preenchem os requisitos técnicos definidos no edital, e os aspectos econômicos são avaliados na fase de julgamento, em que a administração seleciona, entre os licitantes habilitados, aquele que houver oferecido o menor preço.
- 74 Seria incompatível com o princípio constitucional da publicidade restringir o acesso ao ato de abertura dos envelopes de habilitação de uma concorrência apenas aos licitantes.

Julgue os itens que se seguem, considerando que a Companhia Energética de Brasília (CEB) é uma sociedade de economia mista instituída pelo DF e que ela atualmente é concessionária dos serviços de energia elétrica no âmbito do DF.

- 75 A CEB tem personalidade jurídica de direito privado e, portanto, seria inadequado considerá-la como uma entidade integrante da administração pública indireta.
- 76 A CEB deve ter celebrado com o DF contrato administrativo de concessão de serviço público.

Determinado estado brasileiro desapropriou alguns imóveis urbanos que cumpriam sua função social, com a finalidade de implantar na área desapropriada uma rua que o governo local julgava necessária para melhorar o fluxo de trânsito na região.

Com referência a essa situação hipotética, julgue os itens a seguir.

- 77 O ato expropriatório constituiu exercício de poder administrativo discricionário.
- 78 É requisito de validade do ato expropriatório o pagamento em dinheiro de justa e prévia indenização aos proprietários dos imóveis desapropriados.

Adriana é servidora pública do DF dotada de estabilidade em seu atual cargo.

Acerca dessa situação hipotética, julgue os itens seguintes.

- 79 Adriana conta com mais de três anos de efetivo exercício no seu atual cargo.
- 80 Considere que Adriana venha a sofrer acidente em serviço que resulte no seu afastamento do exercício das atividades de seu cargo durante seis meses. Nessa situação, ela terá direito a licença por acidente em serviço e, durante o tempo que durar a licença, receberá mensalmente valor correspondente a 85% da sua remuneração normal.

Com relação aos negócios jurídicos, julgue os itens que se seguem.

- 81 Denomina-se lesão o defeito no negócio jurídico que se caracteriza pela situação em que um contratante, sob premente necessidade ou por inexperiência, se obriga a prestação manifestamente desproporcional à prestação do outro contratante.

- 82 Considere a seguinte situação hipotética.

Andrea, credora de Maurício em razão de uma obrigação vencida em 10/5/2004, ajuizou ação pauliana em face de Maurício, requerendo a invalidação de doação realizada por ele a Bernardo em 5/3/2004, doação essa que, conforme comprovado na instrução, levou Maurício à insolvência, com o prévio conhecimento de Bernardo.

Nessa situação, a ação pauliana deverá prosperar, por estarem presentes os requisitos necessários e suficientes para configurar a fraude contra credores.

Acerca dos princípios contratuais, julgue o item seguinte.

- 83 A revisão judicial de diversos contratos de *leasing* indexados ao dólar ocorrida no Brasil a partir de 1999, tendo em vista a alteração em janeiro daquele ano do regime cambial — passagem do sistema de bandas cambiais para o câmbio flutuante —, que gerou a notória e repentina desvalorização da moeda brasileira em relação à norte-americana, deu-se por aplicação da teoria da imprevisão.

Julgue o item abaixo, relativo aos efeitos dos atos jurídicos.

- 84 Para a configuração do abuso de direito, é indispensável a ocorrência de dolo ou culpa.

A respeito das normas vigentes relativas à prescrição e à decadência, julgue os seguintes itens.

- 85 No direito civil brasileiro, a prescrição ordinária ocorre em dez anos para as ações pessoais e reais, contados a partir da data em que poderiam ter sido propostas.
- 86 Ao contrário do que ocorre com a decadência legal, a decadência convencional não pode ser conhecida de ofício pelo juiz, devendo ser alegada pela parte a quem ela aproveita na primeira oportunidade de falar nos autos, sob pena de preclusão.

Em cada um dos itens a seguir, é apresentada uma situação hipotética, relativa às obrigações e à sua extinção e ao direito dos contratos, seguida de uma assertiva a ser julgada.

- 87 Carlos e João realizaram um contrato em que o primeiro se obrigava a entregar ao último, trinta dias após a assinatura, dez sacas de feijão ou dez sacas de arroz. No aludido contrato, constou cláusula que determinava que caberia a Patrícia, amiga de ambos, a escolha entre as duas prestações previstas. Nessa situação, é nula a referida cláusula, uma vez que a escolha deveria ser feita por Carlos ou por João.

- 88 Pedro realizou com o Banco Universitário S.A. contrato de financiamento para aquisição de um automóvel, com cláusula de alienação fiduciária em garantia. Descumprido o contrato por Pedro, propôs o Banco Universitário S.A. ação de busca e apreensão do citado automóvel, requerendo a concessão de medida liminar. O juiz, ao receber a petição inicial, indeferiu o pleito de medida liminar, uma vez que a notificação realizada para constituir Pedro em mora, a despeito de ter sido enviada ao endereço consignado no contrato, não fora por Pedro recebida e assinada, mas, sim, por terceira pessoa. Nessa situação, a decisão do juiz é contrária à atual jurisprudência do Superior Tribunal de Justiça (STJ) e do Tribunal de Justiça do Distrito Federal e Territórios (TJDFT).

- 89 Luiz, mediante contrato, emprestou gratuitamente a Tatiana, pelo prazo de 6 meses, um quadro de Salvador Dali para que ela o expusesse em seu escritório. Nessa situação, está-se diante de um empréstimo sob a modalidade de comodato, pois, para a caracterização da modalidade de mútuo, seria necessário que Tatiana pagasse uma quantia estipulada no mesmo contrato como contraprestação pelo empréstimo.

- 90 Antônio desejava comprar um terreno de Jonas pelo preço de R\$ 250.000,00. Na data marcada para a conclusão do negócio, Antônio descobriu que não estaria na cidade. Ele realizou, então, um contrato de mandato com Paulo, formalizado por procuração particular. Nessa situação, Paulo poderá ultimar o negócio e assinar a escritura de compra e venda do aludido terreno em nome de Antônio, utilizando-se da procuração particular outorgada.

A respeito dos critérios para a determinação da competência, julgue o item abaixo.

91 Em ação investigatória de paternidade cumulada com ação de alimentos, o foro competente é o do domicílio do réu.

Márcio propôs ação de indenização pelo procedimento comum ordinário contra Francisco, objetivando a condenação deste no valor de R\$ 50.000,00. O mandado de citação de Francisco foi juntado aos autos em 10/8/2004 e ambas as partes estavam devidamente representadas por advogados.

Com base nessa situação hipotética, julgue os itens subsequentes.

92 Considerando que, em 13/8/2004, Márcio e Francisco tenham peticionado em juízo, requerendo a suspensão do processo pelo prazo de 90 dias, findo tal prazo, Francisco terá mais 12 dias para apresentar a sua contestação.

93 Se, no curso da audiência de instrução, Márcio vier a falecer, determina o Código de Processo Civil que o juiz suspenda o processo imediatamente, uma vez que restará afetado o princípio da dualidade de partes que vigora no direito processual civil.

Ao receber a petição inicial de uma ação anulatória de contrato, proposta por um contratante em face dos demais 35 contratantes, o juiz determinou a separação dos réus em cinco processos diferentes, para não comprometer a rápida solução dos litígios.

Com referência a essa situação hipotética, julgue o item a seguir, a respeito dos sujeitos da relação processual.

94 Na situação considerada, a decisão do juiz foi incorreta, levando-se em consideração a espécie de litisconsórcio passivo formado.

Julgue o item seguinte, relativo ao pedido no processo de conhecimento.

95 Após a efetivação da citação, é lícito ao autor modificar o pedido a qualquer tempo, desde que o réu consinta.

Com relação a aspectos diversos no âmbito do direito processual civil, julgue os itens que se seguem.

96 No processo de conhecimento, tanto a incompetência absoluta como a relativa devem ser argüidas pelo réu em sua contestação.

97 A faculdade de remir bens no processo de execução é conferida ao devedor, a seu cônjuge, a seus ascendentes, a seus descendentes e a seus colaterais até o terceiro grau.

98 Com base no regramento processual vigente, o provimento da apelação fundamentado na ocorrência de julgamento *ultra petita* não deverá resultar na anulação da sentença, sendo lícito ao tribunal tão-somente decotar a parte do *decisum* que foi além do pedido apresentado a julgamento.

Julgue os itens a seguir, com fundamento na sistemática recursal no direito processual civil brasileiro.

99 Considere a seguinte situação hipotética.

O juiz de uma vara cível de Brasília – DF julgou procedente pedido realizado por José e condenou Fernanda ao pagamento de indenização no valor de R\$ 100.000,00. A sentença foi publicada no jornal oficial em 23/8/2004. Em 27/8/2004, o advogado de Fernanda interpôs apelação, realizando o pagamento do preparo e a juntada do respectivo comprovante somente em 30/8/2004.

Nessa situação, a apelação não deverá ser conhecida sob o fundamento da deserção.

100 Negado seguimento a recurso especial interposto contra acórdão prolatado por uma das turmas cíveis do TJDFT, caberá agravo de instrumento no prazo de dez dias, que deverá ser protocolado diretamente no STJ, cabendo ao agravante zelar para que a petição inicial esteja instruída com cópia das peças necessárias estatuídas na lei processual civil.

O juiz do trabalho pode indeferir, liminarmente, a petição inicial antes da citação, caso verifique que esta não atende aos requisitos do § 1.º do art. 840 da Consolidação das Leis do Trabalho (CLT), c/c o art. 295 do Código de Processo Civil. Com base nessas informações, julgue os itens que se seguem.

101 A petição inicial deve ser indeferida quando for inepta.

102 A petição inicial deve ser indeferida quando o juiz verificar, desde logo, a decadência.

Na justiça do trabalho, as ações individuais classificam-se em ações de conhecimento, de execução e cautelares, sendo os elementos da ação os sujeitos, o objeto e a causa de pedir. A respeito desse assunto, julgue os itens seguintes.

103 Ação de conhecimento é aquela por meio da qual o autor busca receber aquilo que já foi determinado pelo juiz em outra fase, quando se assegurou o direito material.

104 O trabalhador autônomo não tem direito de ação na justiça do trabalho.

João tem 35 anos de idade e Manoel, 52. Ambos são empregados de uma loja de departamentos de um *shopping center* de Brasília e entrarão em férias em janeiro próximo.

Com base nessa situação hipotética e na CLT, julgue os itens subsequentes.

105 João e Manoel, com o consentimento do seu empregador, podem parcelar as férias em dois períodos, gozando, por exemplo, 20 dias de férias em janeiro e deixando os outros 10 dias para julho.

106 Caso João requeira férias 20 dias antes do término do período aquisitivo, pode converter um terço do período de férias a que tem direito em abono pecuniário.

Paula, que é solteira e trabalha há 5 anos em uma fábrica de calçados, certo dia, contou para seu chefe que estava grávida e que iria se casar.

Considerando a situação hipotética apresentada, julgue os itens a seguir.

107 As leis brasileiras não permitem que Paula possa ser demitida, com ou sem justa causa, pelo seu empregador, até cinco meses após o parto.

108 Paula poderá trabalhar na fábrica até 4 semanas antes do parto e retornar ao trabalho 8 semanas após o nascimento do seu filho.

Acerca do processo judiciário do trabalho, julgue os seguintes itens.

109 Os empregados e os empregadores podem reclamar pessoalmente perante a justiça do trabalho, sem a necessidade de advogado, e acompanhar suas reclamações até o final.

110 Na justiça do trabalho, a prova das alegações incumbe à parte que as fizer.

Os elementos que se distinguem no Sistema Tributário Nacional incluem as limitações do poder de tributar (arts. 150 a 152 da Constituição Federal) e a discriminação da competência tributária (arts. 153 a 156 da Constituição Federal), devendo ser observados os princípios constitucionais da tributação. Com base nessas informações, julgue os itens a seguir.

111 De acordo com o princípio da reserva legal ou da legalidade estrita, a União, os estados, os municípios e o Distrito Federal (DF) somente podem aumentar ou instituir tributos mediante a edição de decreto específico para esse fim.

112 É de competência exclusiva da União instituir contribuições sociais, de intervenção no domínio econômico e de interesse das categorias profissionais ou econômicas, sendo autorizada, entretanto, aos estados, ao DF e aos municípios a instituição de contribuição cobrada de seus servidores para o custeio do sistema próprio de previdência e assistência social.

113 É vedado à União, aos estados e aos municípios instituir tratamento desigual entre contribuintes que se encontrem em situação equivalente, permitida, apenas, a distinção em razão de ocupação profissional ou função por eles exercida.

Julgue o item abaixo, relativo à legislação tributária.

114 Havendo lacuna na legislação tributária, devem ser utilizados a analogia, os princípios do direito tributário, os princípios gerais do direito público e a equidade, nessa ordem. Assim sendo, o emprego da analogia poderá resultar na exigência de tributo não previsto em lei.

Interpreta-se a norma tributária de acordo com a matéria por ela regulada. Acerca desse assunto, julgue os itens que se seguem.

115 A norma que dispõe sobre suspensão de crédito tributário deve ser interpretada literalmente.

116 Na lei tributária que define infrações, em caso de dúvida quanto à natureza do fato, a interpretação deve ser feita da forma mais favorável ao fisco.

Paulo, autoridade administrativa responsável pela fiscalização de tributos de determinada empresa, constatou que essa empresa deixou de cumprir suas obrigações tributárias.

A respeito dessa situação hipotética, julgue o item abaixo.

117 Caso Paulo verifique que a empresa teve motivos relevantes que a impossibilitaram de recolher seus tributos, poderá deixar de efetuar o lançamento do crédito tributário, desde que autorizado por seus superiores hierárquicos.

O art. 151 do Código Tributário Nacional elenca as causas de suspensão da exigibilidade do crédito tributário e o art. 156 elenca as causas de extinção. Considerando essa informação, julgue os itens seguintes.

118 A concessão de medida liminar ou de tutela antecipada em ação judicial, diversa de mandado de segurança, é causa de suspensão de exigibilidade do crédito tributário.

119 A transação é causa de suspensão da exigibilidade do crédito tributário.

120 A suspensão da exigibilidade do crédito tributário dá ensejo à expedição de certidão positiva com os mesmos efeitos da certidão negativa de débito.

PROVA DISCURSIVA

- Na questão da prova discursiva — que vale **10,0 pontos** —, faça o que se pede, usando as páginas correspondentes do presente caderno para rascunho. Em seguida, transcreva o texto para o **CADERNO DE TEXTO DEFINITIVO** da prova discursiva, no local apropriado, pois não serão avaliados fragmentos de texto escritos em locais indevidos.
- Utilize, no máximo, **sessenta** linhas, pois qualquer fragmento de texto além dessa extensão será desconsiderado.

ATENÇÃO! No **caderno de texto definitivo da prova discursiva**, identifique-se apenas no cabeçalho da primeira página, pois **não será avaliado** texto que tenha qualquer assinatura ou marca identificadora fora do local apropriado.

Considere a seguinte situação hipotética.

O Distrito Federal pretende transformar em fundação pública o Jardim Botânico de Brasília (JBB), que atualmente é um órgão da Secretaria de Estado do Meio Ambiente e Recursos Hídricos.

A partir dessa hipótese, redija um texto dissertativo, devidamente justificado, acerca do tema a seguir.

Procedimentos a serem adotados pelas autoridades do Poder Executivo do Distrito Federal para viabilizar, da maneira mais eficiente possível, a criação da Fundação Jardim Botânico do Distrito Federal (FJB), a realocação para a FJB dos servidores atualmente lotados no JBB e, finalmente, a extinção do órgão JBB.

RASCUNHO – 1/2

1	
2	
3	
4	
5	
6	
7	
8	
9	
10	
11	
12	
13	
14	
15	
16	
17	
18	
19	
20	
21	
22	
23	
24	
25	
26	
27	
28	
29	
30	

31	
32	
33	
34	
35	
36	
37	
38	
39	
40	
41	
42	
43	
44	
45	
46	
47	
48	
49	
50	
51	
52	
53	
54	
55	
56	
57	
58	
59	
60	