

GOVERNO DO DISTRITO FEDERAL

SECRETARIA DE ESTADO DE GESTÃO ADMINISTRATIVA

Concurso Público

Cargo 7:

Analista de Administração Pública

Especialidade: Economista

Aplicação: 5/12/2004



CADERNO DE PROVAS



UNIVERSIDADE DE BRASÍLIA
Criando Oportunidades para Realizar Sonhos

LEIA COM ATENÇÃO AS INSTRUÇÕES ABAIXO.

- 1 Ao receber este caderno, confira se ele contém **cento e vinte** itens, correspondentes às provas objetivas, corretamente ordenados de **1 a 120**.
- 2 Caso o caderno esteja incompleto ou tenha qualquer defeito, solicite ao fiscal de sala mais próximo que tome as providências cabíveis.
- 3 Recomenda-se não marcar ao acaso: a cada item cuja resposta divirja do gabarito oficial definitivo, além de não marcar ponto, o candidato recebe pontuação negativa, conforme consta em edital.
- 4 Não utilize nenhum material de consulta que não seja fornecido pelo CESPE.
- 5 Durante as provas, não se comunique com outros candidatos nem se levante sem autorização do chefe de sala.
- 6 A duração das provas é de **três horas e trinta minutos**, já incluído o tempo destinado à identificação — que será feita no decorrer das provas — e ao preenchimento da folha de respostas.
- 7 Ao terminar as provas, chame o fiscal de sala mais próximo, devolva-lhe a sua folha de respostas e deixe o local de provas.
- 8 A desobediência a qualquer uma das determinações constantes no presente caderno, na folha de rascunho ou na folha de respostas poderá implicar a anulação das suas provas.

AGENDA

- I **6/12/2004**, a partir das 10 h (horário de Brasília) – Gabaritos oficiais preliminares das provas objetivas: Internet — www.cespe.unb.br — e quadros de avisos do CESPE/UnB, em Brasília.
- II **7 a 9/12/2004** – Recursos (provas objetivas): formulários estarão disponíveis no Sistema Eletrônico de Interposição de Recurso, Internet — www.cespe.unb.br.
- III **11/1/2005** – Resultados finais das provas objetivas e do concurso: Diário Oficial do Distrito Federal e locais mencionados no item I.

OBSERVAÇÕES

- Não serão objeto de conhecimento recursos em desacordo com o item 10 do Edital n.º 1/2004 – SGA/ADM, de 15/9/2004.
- Informações adicionais: telefone 0(XX) 61 448 0100; Internet – www.cespe.unb.br.
- É permitida a reprodução deste material apenas para fins didáticos, desde que citada a fonte.

• De acordo com o comando a que cada um dos itens de 1 a 120 se refira, marque, na **folha de respostas**, para cada item: o campo designado com o código **C**, caso julgue o item **CERTO**; ou o campo designado com o código **E**, caso julgue o item **ERRADO**. A ausência de marcação ou a marcação de ambos os campos não serão apenadas, ou seja, não receberão pontuação negativa. Para as devidas marcações, use a folha de rascunho e, posteriormente, a **folha de respostas**, que é o único documento válido para a correção das suas provas.

• Nos itens que avaliam **Noções de Informática**, a menos que seja explicitamente informado o contrário, considere que todos os programas mencionados estão em configuração-padrão, em português, que o *mouse* está configurado para pessoas destros e que expressões como clicar, clique simples e clique duplo referem-se a cliques com o botão esquerdo do *mouse*. Considere também que não há restrições de proteção, de funcionamento e de uso em relação aos programas, arquivos, diretórios e equipamentos mencionados.

CONHECIMENTOS BÁSICOS

Texto para os itens de 1 a 20

Uma equipe vencedora

1 Nesses jogos olímpicos, os heróis do esporte terão sua
carreira analisada, seu percurso escrutinado, em busca das razões
de seu sucesso. Como resistir às pressões de uma empreitada
4 olímpica? Como manter o foco quando há tantas distrações? Até
onde esses seres especiais podem ter suas “cordas” esticadas por
seus treinadores? São perguntas que faço a mim mesmo. Estudar
7 a vida dos grandes campeões sempre me interessou — tenho
centenas de livros a respeito: muitos, por exemplo, sobre os
treinadores do esporte americano — e tem ajudado em minhas
10 tentativas de formar equipes vencedoras.

 Creio que há uma equação que descreve bem a trajetória
dos grandes campeões: dedicação + talento. A dedicação pode
13 ser definida como a força inesgotável que permite seguir em
frente. É a busca constante da capacitação através do treinamento
e da grande disciplina que esse processo exige. O segundo
16 elemento, o talento, também é muito importante. Certa dose é
necessária, mas nem sempre os grandes campeões são os mais
talentosos. São, isso sim, aqueles que conseguem usufruir e
19 desenvolver o dom que têm. Mas há um elemento que faz essa
equação realmente dar resultado: a paixão que observamos no
olhar dos grandes campeões, a intensidade em suas ações.
22 O principal exemplo, para nós, brasileiros, é Ayrton Senna.

 Além do fascínio que esses grandes campeões exercem
sobre as pessoas, há outro elemento no mundo olímpico que me
25 encanta ainda mais: os times campeões. É preciso buscar
entender como funcionam os mecanismos dessas equipes, a
importância e a função de seus elementos. Entender o papel e o
28 valor do líder, aquele que inspira, mesmo que assuma, em prol
do grupo, posições nem sempre populares. Que segredos, que
estratégias usam os grandes treinadores, os capitães com seus
31 times? Não adianta o líder gritar se não estiver envolvido, se não
souber ler os sinais que o atleta envia. Isso é um exercício diário.

 A importância dos supertalentos nas equipes é
34 proporcional à influência deles sobre os companheiros. O valor
de um Michael Jordan, por exemplo, não vinha apenas da
capacidade de fazer 60 pontos em um jogo, mas sim por fazer os
37 jogadores a sua volta atuarem melhor.

 De que forma grandes equipes constroem o
comprometimento necessário para dar consistência a sua
40 trajetória? A única resposta que encontro está no dia-a-dia do
treinamento intenso e obstinado, todos buscando a excelência
constantemente, entendendo que são peças fundamentais de uma
43 grande engrenagem. O esporte nos mostra que não há grandes
campeões que nunca tenham sido derrotados. Mas certamente
nunca deixaram de tentar novamente, com mais intensidade e de
46 formas diferentes.

Bernardinho. *Veja Olimpíadas* - Edição especial, ago./2004 (com adaptações).

De acordo com as idéias e a estrutura do texto, julgue os itens subsequentes.

- 1 Observando-se a macroestrutura do texto, constata-se que a dissertação é predominante.
- 2 As três indagações do primeiro parágrafo são respondidas, respectivamente, nos parágrafos seguintes.
- 3 Disciplina, esforço, vocação e caráter são, além do talento e da dedicação, requisitos essenciais para uma equipe ser vencedora.
- 4 Com o exemplo de Michael Jordan, o articulista reforça, além da dedicação e do talento, a importância da liderança entre os pares.
- 5 Os vocábulos “olímpica”, “trajetória”, “inesgotável” e “necessária” recebem acento grave em razão da mesma regra gramatical.
- 6 A expressão “tem ajudado em minhas tentativas” (l.9-10) refere-se a “livros (...) sobre treinadores” (l.8-9) e, como tal, a forma verbal “tem” (l.9) deveria estar grafada com acento circunflexo.
- 7 O sinal de “+” (l.12) corresponde, no contexto, ao emprego da conjunção coordenativa aditiva e.
- 8 A reescritura do conceito de “dedicação” (l.12) está correta da seguinte maneira: Dedicação é a força inacabável que impulsiona o jogador para à frente; é a busca diuturna da qualificação, por intermédio de treinamento e de grande disciplina exigida.
- 9 Nas linhas de 15 a 18, o autor defende que, para os vencedores, é necessário um pouco de talento; nem sempre, todavia, os grandes campeões são mais talentosos do que os jogadores desconhecidos.
- 10 Os vocábulos “usufruir” (l.18) e “fascínio” (l.23) significam, no contexto, respectivamente, **aproveitar e admiração**.
- 11 Na linha 27, entre “elementos” e “Entender” a substituição do ponto por ponto-e-vírgula, com o necessário ajuste da inicial maiúscula, não fere o sentido do período nem acarreta desvio gramatical.
- 12 Com “Isso é um exercício diário” (l.32), o articulista está referindo-se às observações apresentadas no período anterior, “Não adianta o líder gritar se não estiver envolvido, se não souber ler os sinais que o atleta envia” (l.31-32), em que o termo “o líder” exerce a função sintática de sujeito do predicado constituído pela flexão do verbo gritar.

- 13 O período introdutório do quarto parágrafo (ℓ.33-34) é composto e inclui uma oração subordinada adverbial proporcional.
- 14 O vocábulo “dia-a-dia” (ℓ.40) está grafado com hífen porque é um substantivo, o que não aconteceria se a frase estivesse assim redigida: Dia a dia, o treinador se tornava mais obstinado, buscando a excelência de todos.
- 15 Na passagem “todos buscando a excelência” (ℓ.41), a substituição do componente sublinhado pelo pronome oblíquo correspondente gera a seguinte reescritura: todos lhe buscando.
- 16 Os dois períodos finais do texto, a partir de “O esporte” (ℓ.43), cabem no fechamento de um relatório acerca da participação brasileira em Atenas.

A partir do período “O esporte nos mostra que não há grandes campeões que nunca tenham sido derrotados” (ℓ.43-44) do texto, julgue os itens a seguir.

- 17 A estrutura sintática do período permanece correta com o deslocamento do pronome “nos” para após a forma verbal “mostra”, desde que o pronome átono esteja ligado ao verbo por hífen.
- 18 A oração subordinada “que não há grandes campeões” exerce a função sintática de complemento direto da forma verbal mostra.
- 19 A forma verbal “há” comporta a substituição pela forma **existe**, sem prejuízo sintático para o texto.
- 20 No contexto, está correta a substituição de “que nunca tenham sido derrotados” pela seguinte estrutura: cuja derrota nunca tenha ocorrido.

Com referência à redação oficial, julgue os itens que se seguem.

- 21 Ofício e memorando são expedientes que, circulando predominantemente em repartições públicas, diferem quanto à extensão e à complexidade do assunto.
- 22 Para prestar contas de eventos ou de processos já ocorridos na linha do tempo, pode-se utilizar tanto a ata quanto o relatório, indiferentemente.
- 23 O requerimento só pode ser utilizado quando o requerente tem convicção de que foi lesado em um direito constitucionalmente garantido.

O mato

1 Veio o vento frio, e depois o temporal noturno, e depois da lenta chuva que passou toda a manhã caindo e ainda voltou algumas vezes durante o dia, a cidade entardeceu
4 em brumas. Então o homem esqueceu o trabalho e as promissórias, esqueceu a condução e o telefone e o asfalto, e saiu andando lentamente por aquele morro coberto de um mato
7 viçoso, perto de sua casa. O capim cheio de água molhava seu sapato e as pernas da calça; o mato escurecia sem vagalumes nem grilos.

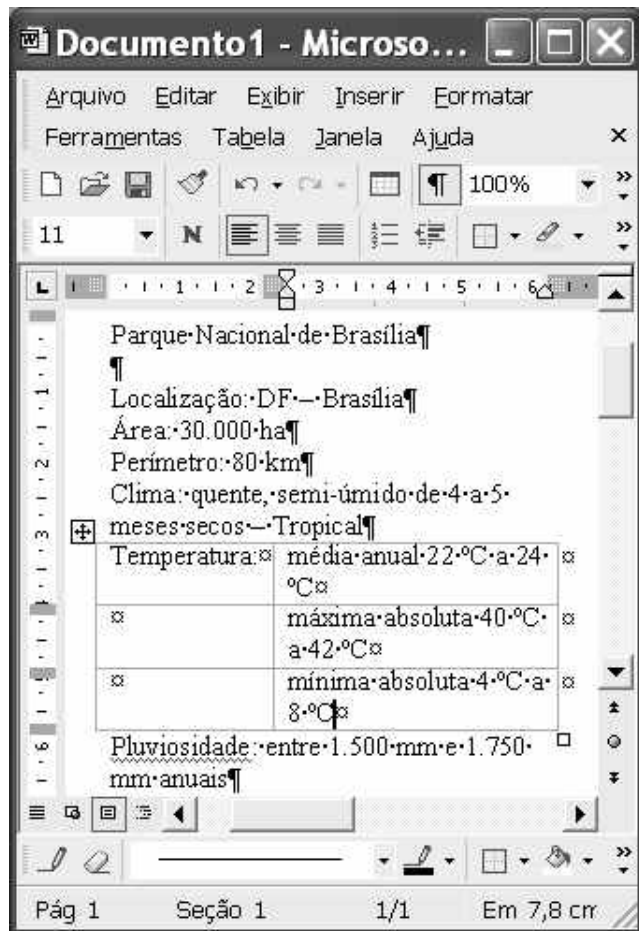
10 Pôs a mão no tronco de uma árvore pequena, sacudiu um pouco, e recebeu nos cabelos e na cara as gotas de água como se fosse uma bênção. Ali perto mesmo, a cidade
13 murmurava, estava com seus ruídos vespertinos, ranger de bondes, buzinar impaciente de carros, vozes indistintas; mas ele via apenas algumas árvores, um canto de mato, uma pedra
16 escura. Ali perto, dentro de uma casa fechada, um telefone batia, silenciava, batia outra vez, interminável, paciente, melancólico. Alguém, com certeza já sem esperança, insistia
19 em querer falar com alguém.

Por um instante o homem voltou seu pensamento para a cidade e sua vida. Aquele telefone tocando em vão era um
22 dos milhões de atos falhados da vida urbana. Pensou no desgaste nervoso dessa vida, nos desencontros, nas incertezas, no jogo de ambições e vaidades, na procura de amor e de
25 importância, na caça ao dinheiro e aos prazeres. Ele pouco a pouco foi sentindo uma paz naquele começo de escuridão, sentiu vontade de deitar e dormir entre a erva úmida, de se
28 tornar um confuso ser vegetal, um grande sossego, farto de terra e de água; ficaria verde, emitiria raízes e folhas, seu tronco seria um tronco escuro, grosso, seus ramos formariam
31 copa densa, e ele seria, sem angústia nem amor, sem desejo nem tristeza, forte, quieto, imóvel, feliz.

Rubem Braga. **200 crônicas escolhidas**. 6.ª ed. Rio de Janeiro: Record, 1978, p. 260-1 (com adaptações).

A partir do texto acima, julgue os itens seguintes.

- 24 O primeiro período do texto é predominantemente descritivo; já o segundo apresenta passagens narrativas.
- 25 Quanto à circunstância temporal, o texto estrutura-se na seguinte seqüência: no primeiro parágrafo, predomina o presente; no segundo, o futuro; no terceiro, o passado.
- 26 O emprego das vírgulas antes do “e” (ℓ.1) está correto, pois elas estão separando orações com sujeitos distintos.
- 27 O sentido da passagem “molhava seu sapato e as pernas da calça” (ℓ.7-8) não se altera com a seguinte substituição: molhava-lhe o sapato e as pernas da calça.
- 28 A vírgula logo após “vespertinos” (ℓ.13) pode ser substituída por dois-pontos, sem que se alterem as relações entre os termos da oração.
- 29 Os adjetivos “interminável, paciente, melancólico” (ℓ.17-18) qualificam a forma pronominal “Alguém”, que os sucede.
- 30 Deduz-se do texto que só junto à natureza o ser humano vivencia as sensações de paz, felicidade, alegria e força para enfrentar os obstáculos cotidianos.



A figura acima ilustra uma janela do Word 2002 que contém um documento em elaboração. Considerando essa figura, julgue os itens a seguir, acerca do Word 2002.

- 31 É correto concluir que o trecho do documento iniciado em “Temperatura” e terminado em “8 °C” está inserido em uma tabela.
- 32 Caso se deseje eliminar o sublinhado no termo Pluviosidade, é suficiente selecionar o referido termo; clicar a opção Fonte no menu **Formatar**; na janela disponibilizada, desmarcar o campo apropriado; e clicar OK.
- 33 Considere a realização do seguinte procedimento: aplicar um clique duplo sobre “Parque”; pressionar e manter pressionada a tecla **Shift**; teclar **End**; liberar a tecla **Shift**; clicar em seqüência os botões **≡** e **N**. Após esse procedimento, a primeira linha mostrada do documento ficará selecionada, centralizada e com a fonte no estilo negrito.
- 34 O traço observado em “DF – Brasília” pode ter sido inserido no documento em edição por meio da escolha desse caractere entre os caracteres especiais encontrados na janela Símbolo, que é acessada por meio do menu **Inserir**.






- 35 Para que o trecho “mínima (...) 8 °C” seja alinhado com “Temperatura:”, é suficiente realizar as seguintes ações: clicar sobre uma palavra do referido trecho; clicar o botão .
- 36 Para se ocultar as marcas de parágrafo observadas no documento, é suficiente desabilitar a opção **Mostrar/Ocultar**, o que pode ser obtido clicando-se o botão .
- 37 Mediante opção encontrada no menu **Arquivo**, é possível salvar várias versões do documento em edição em um único arquivo. Por meio desse arquivo, é possível abrir, revisar, imprimir e excluir versões anteriores.



Considerando a figura acima, que ilustra uma janela do Excel 2002, julgue os itens subsequentes.

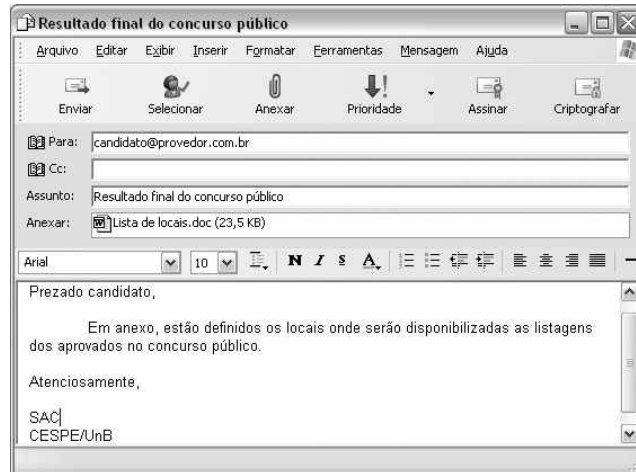
- 38 Considere a realização do seguinte procedimento: clicar a célula A1; pressionar e manter pressionada a tecla **Shift**; clicar a célula C1; clicar ; liberar a tecla **Shift**. Após esse procedimento, as células A1, B1 e C1 ficarão mescladas, contendo o termo “Pacotes rodoviários”, que ficará centralizado na célula resultante.
- 39 Para determinar quanto, percentualmente, o pacote para “Caldas Novas” é mais caro que o pacote para “Curitiba” e pôr o resultado na célula A6, é suficiente realizar o seguinte procedimento: clicar o botão ; digitar $=C4/C5$; teclar **Enter**.
- 40 Considere que as células A3, A4 e A5 sejam selecionadas e, a seguir, o botão seja clicado. Na planilha resultante após esse procedimento, constará que o valor do pacote para Curitiba é igual a 588.
- 41 Por meio de opção encontrada no menu **Dados**, é possível inserir na célula selecionada um texto armazenado em arquivo do tipo txt.

Com relação ao Windows XP, julgue os itens seguintes, considerando que esse sistema operacional esteja sendo executado em um computador PC.






- 42 Caso haja duas janelas do Word 2002 em execução, aparecerão, na barra de tarefas do Windows XP, dois botões correspondentes a essas janelas. Os botões na barra de tarefas podem ser usados para se alternar entre as janelas, operação que pode também ser realizada usando-se uma combinação das teclas  e .
- 43 Ao se clicar o botão Iniciar do Windows XP, será exibido um *menu* com diversas opções. No Windows XP, há mais de uma opção de configuração para esse *menu*.
- 44 No Windows XP, a barra de tarefas se localiza sempre na parte inferior da tela do monitor de vídeo, não sendo possível mudá-la de lugar.
- 45 Caso haja um ícone correspondente a um arquivo do Word 2002 na *desktop*, para excluí-lo, é suficiente clicar sobre ele e, em seguida, pressionar simultaneamente as teclas ,  e .
- 46 Caso haja um ícone correspondente a um arquivo do Word 2002 na *desktop*, para se abrir esse arquivo, é suficiente aplicar um clique duplo sobre o referido ícone.

Acerca de conceitos de *hardware* e *software* de computadores do tipo PC, julgue os itens que se seguem.

- 47 Caso um computador esteja se tornando muito lento na execução de programas que requerem muito acesso ao disco rígido, a melhor solução para aumentar a velocidade de execução desses programas é diminuir a quantidade de memória *cache* instalada, de forma a sobrecarregar menos o microprocessador.
- 48 Caso seja necessário conectar um computador em uma rede do tipo *ethernet*, essa conexão deve ser feita por um periférico denominado *modem*, que permite integrar qualquer computador a esse tipo de rede.
- 49 Diversos modelos de impressora utilizam porta USB para realizar a comunicação com o computador.
- 50 Nos computadores, o sinal de som que vai para as caixas de som provém diretamente da porta serial.
- 51 O escâner é um periférico que permite que se crie um arquivo digital com informações que codificam figuras e textos contidos em papel, permitindo, posteriormente, ações como a visualização dessas imagens na tela de um computador ou mesmo sua impressão, por meio de uma impressora.
- 52 Os disquetes de 3½" mais utilizados atualmente permitem armazenar uma quantidade de informações superior a 1 milhão de *bytes*.
- 53 BIOS é o nome dado à placa controladora de vídeo dos atuais computadores do tipo PC.



Considerando que a janela do Outlook Express 6 (OE6) ilustrada acima esteja sendo executada em um computador PC e que uma mensagem de correio eletrônico esteja em processo de edição com o uso dos recursos do OE6 disponibilizados nessa janela, julgue os itens a seguir.

- 54 Caso se deseje editar o arquivo associado ao ícone  Lista de locais.doc (23,5 KB), utilizando-se o Word, é suficiente clicar o botão .
- 55 Ao se clicar o botão , a mensagem em edição será armazenada em arquivo específico do OE6 para envio posterior.
- 56 Caso o computador tenha disponível conexão ADSL com a  Internet, ao se clicar o botão , é possível que se obtenham taxas de transferência de dados superiores a 36 MBps, caso a referida conexão utilize os recursos mais modernos da tecnologia ADSL.

Com relação a tecnologias da Internet, julgue os itens seguintes.

- 57 A tecnologia denominada *mobile IP* (IP móvel) permite que um *laptop* pertencente a uma LAN (*local area network*), quando conectado a outra LAN hospedeira, seja acessado pela Internet utilizando-se seu próprio número IP original, definido no escopo de sua rede LAN de origem.
- 58 A tecnologia denominada *bluetooth* permite que um dispositivo de comunicação móvel celular se conecte à Internet por meio de um *access point* de uma rede WLAN (*wireless LAN*), no padrão IEEE 802.11.b.
- 59 Atualmente, é possível, a partir de um dispositivo de comunicação celular que utilize a tecnologia GPRS, acessar recursos da Internet, como se comunicar com um servidor http.
- 60 O uso de *browser* permite explorar o protocolo http no acesso a páginas *web*. Atualmente, existem navegadores que possuem interface com ferramentas de correio eletrônico, permitindo, assim, a partir do navegador, o acesso a recursos dessa ferramenta.

CONHECIMENTOS ESPECÍFICOS

A teoria macroeconômica, que é o estudo do comportamento dos grandes agregados econômicos, aborda temas como inflação, desemprego, desequilíbrios externos e crescimento econômico. Utilizando os conceitos básicos dessa teoria, julgue os itens a seguir.

- 61 O produto interno bruto (PIB), que corresponde ao valor do produto fabricado em um país, é mensurado de três formas equivalentes: pelo valor adicionado na produção, pela renda dos fatores de produção e pelos gastos com a aquisição do produto final.
- 62 Em anos em que o desemprego é baixo, o seguro-desemprego contribui para elevar a renda e o produto nacional.
- 63 No modelo keynesiano, o consumo corrente é financiado pelo estoque de riqueza e pela renda gerada ao longo da vida dos consumidores.
- 64 Se os agentes econômicos poupassem mais, o investimento aumentaria e isso elevaria as taxas de crescimento da economia.
- 65 Quando a produtividade marginal do capital excede o custo do capital, as empresas tendem a aumentar o estoque de capital, elevando, assim, o investimento líquido.
- 66 Quando o governo conduz uma política fiscal em que aumenta os impostos e os gastos no mesmo montante, então, é correto afirmar que essa política é neutra quanto à demanda agregada e ao produto real da economia.
- 67 Na condução da política econômica, quando comparados aos keynesianos, os monetaristas atribuem pesos mais elevados aos custos da inflação em relação aos custos do desemprego.
- 68 Quando as expectativas de inflação diminuem, a curva de Phillips de curto prazo se desloca para baixo.
- 69 De acordo com a teoria monetária, devido ao fato de a velocidade de circulação da moeda ser constante, aumentos no estoque monetário implicam aumentos proporcionais na renda.
- 70 Nos países em desenvolvimento, o PIB *per capita* tende a subestimar os níveis de consumo *per capita* dessas economias.

A análise microeconômica compreende o estudo do comportamento individual dos agentes econômicos e, por essa razão, constitui um sólido fundamento à análise dos agregados econômicos. A esse respeito, julgue os itens seguintes.

- 71 Se carne bovina e pescado forem bens substitutos, então um aumento no preço do pescado deslocará, simultaneamente, para baixo e para a direita, as curvas de oferta e de demanda de lagostas.
- 72 A redução das contribuições sociais que incidem sobre a folha de pagamentos de uma empresa produtora de automóveis reduz os custos da empresa e, *ceteris paribus*, desloca a curva de oferta para baixo e para a direita, provocando, assim, um aumento da oferta desses produtos.
- 73 Considerando que a demanda de medicamentos é inelástica em relação ao preço, então um aumento no preço conduzirá a uma redução substancial nas vendas desses produtos.

- 74 Para um consumidor racional, a taxa marginal de substituição entre notas de cem reais e notas de cinquenta reais é decrescente e será tanto mais baixa quanto maior for seu nível de renda.
- 75 A combinação de produtos que maximiza a utilidade do consumidor estará sobre a curva de indiferença mais elevada que o consumidor conseguir atingir observada a sua restrição orçamentária.
- 76 Em muitos países, a cobrança de passagens de trem e metrô mais caras nos horários de pico do que durante o resto do dia quando viajam passageiros cuja demanda é mais preçoe-elástica constitui um exemplo de monopólio discriminador de preços.
- 77 O modelo de concorrência monopolística serve para descrever o ambiente de mercado em que atua o sistema bancário no Brasil, já que ele se caracteriza pela existência de concorrência acirrada entre bancos, manifestada por meio de publicidade agressiva e lançamento de novos produtos e serviços, com o intuito de atrair novos clientes.
- 78 Mantendo-se constantes todos os fatores produtivos exceto um, a lei dos retornos decrescentes postula que, além de certo nível do insumo variável, adições subsequentes desse insumo variável reduzem o seu produto marginal.

Em um mundo globalizado, as questões de economia internacional são cruciais à compreensão das economias de mercado. Com base nessa análise, julgue os itens subsequentes.

- 79 Quando turistas brasileiros compram equipamentos eletrônicos no Panamá, essas transações devem ser registradas como débito na conta de capital do balanço de pagamentos brasileiro.
- 80 Em uma economia aberta caracterizada pela existência de capacidade ociosa, um aumento das exportações líquidas expandirá a produção doméstica, reduzindo, assim, as taxas de desemprego.
- 81 Taxas de câmbio flutuantes reduzem o efeito de mudanças nas taxas de juros sobre a demanda agregada, porque não induzem mudanças de curto prazo no câmbio e nos níveis de competitividade.

O estudo da economia brasileira é importante para a compreensão da situação econômica atual. Com referência a esse assunto, julgue os itens que se seguem.

- 82 Após a reforma tributária de 1988, ocorreu um aumento expressivo da participação da tributação da renda — por meio do Imposto de Renda de Pessoa Física (IRPF) e do Imposto de Renda de Pessoa Jurídica (IRPJ) — na receita total da União.
- 83 A crise dos anos 60 do século XX, de acordo com a visão estagnacionista, deveu-se ao esgotamento do dinamismo do processo de substituição de importações.
- 84 O sistema de metas inflacionárias adotado em 1999 estabeleceu o Índice Geral de Preços de Mercado (IGP-M) como indicador para ser usado na condução da política monetária.

Com base nos conceitos básicos de matemática financeira, de análise de projetos e de administração financeira, julgue os itens subsequentes.

- 85 Considerando que 25 teares, funcionando 8 horas por dia, durante 10 dias, tecem 1.200 metros de certo tecido, é correto afirmar que 20 desses teares, funcionando 9 horas por dia durante 18 dias, produzirão 1.944 metros do mesmo tecido.
- 86 Considerando que a caderneta de poupança paga juros nominais de 6 % ao ano e, portanto, uma taxa mensal de 0,5 % ao mês, se os poupadores se dispuserem a não sacar nem o capital nem os rendimentos, ao longo de todo um ano, irão receber uma taxa efetiva de juros de 6,17% ao final de 12 meses.
- 87 Nos juros simples, um índice simples incide sobre o principal e sobre os juros vencidos, enquanto, nos juros compostos, esse índice aplica-se apenas aos juros vencidos.
- 88 Uma perpetuidade é um fluxo de caixa constante em intervalos regulares para sempre, cujo valor presente é tanto maior quanto maior for a taxa de juros.
- 89 No Sistema de Amortização Crescente (SACRE), adotado pelo Sistema Financeiro de Habitação (SFH), para liquidação da casa própria, as prestações não variam ao longo do tempo.
- 90 A taxa de desconto utilizada para atualizar o fluxo de caixa em que o desconto e a composição são feitos reflete três fatores: a preferência pelo consumo atual, a expectativa de inflação e a incerteza associada com os fluxos de caixa que estão sendo descontados.
- 91 Se a taxa de retorno de um investimento analisado for menor ou igual à taxa mínima de atratividade (TMA), deve-se aceitar o investimento independentemente da taxa de retorno incremental (TRI), que corresponde à taxa interna de retorno (TIR) referente ao incremento de receita de um investimento em relação a outro, considerando-se, para efeitos de cálculo, o investimento incremental.
- 92 O valor de um desconto simples de um título de R\$ 2.000,00, com vencimento para 90 dias, à taxa de 2,5% ao mês, é igual a R\$ 50,00.
- 93 Quando a necessidade de investimento em giro (NIG) é superior ao capital circulante líquido (CCL), isto implica que a empresa em questão é vulnerável do ponto de vista financeiro e necessita, constantemente, de investimentos e capital de terceiros para cobrir suas necessidades de capital de giro.
- 94 O grau de alavancagem financeira representa a relação entre a variação percentual no lucro líquido e a variação percentual no lucro operacional.
- 95 O fluxo de caixa livre da empresa analisa o equilíbrio operacional da empresa, sem levar em consideração como as atividades operacionais da empresa são financiadas, se com capital próprio ou com capital de terceiros. É composto pela soma do lucro antes de juros e imposto de renda menos o imposto de renda e contribuição social que a empresa pagaria se não possuísse dívidas, mais a depreciação, menos os investimentos e a variação do capital de giro.

Para uma melhor avaliação do alto grau de capitalização das empresas brasileiras nessas duas últimas décadas, verifica-se que o índice médio de endividamento de nossas companhias de capital aberto vem registrando uma média de 0,50, o que equivale a um ativo total financiado em 67% por capital próprio e 33% por recursos de terceiros. Padrões de endividamento em economias mais desenvolvidas elevam esse índice para 1,50, marca esta três vezes maior que a registrada por nossas empresas.

Assaf Neto. **Finanças corporativas e valor**. Atlas, 2003, p. 358 (com adaptações).

Considerando as informações contidas no texto acima, julgue os itens a seguir.

- 96 É correto representar o índice de endividamento pela expressão $\frac{P}{A-P}$, em que P é o passivo e A , o ativo.
- 97 Em economias mais desenvolvidas que a brasileira, predominam as companhias de capital aberto que registram capital próprio maior que o passivo exigível.
- 98 As contas fornecedores, imposto de renda a recolher e provisão para imposto de renda são classificáveis no passivo circulante.
- 99 Considere uma empresa em que o ativo total não é financiado por capital próprio e os recursos da entidade são captados integralmente de terceiros. Nesse caso, a empresa encontra-se em situação de passivo a descoberto.
- 100 Considere que um financiamento de R\$ 300.000,00 foi tomado à taxa de juros de 10% a.a. por uma entidade sujeita a alíquota de imposto de renda de 40%. Nesse caso, o custo de captação mensal líquido do imposto de renda é superior a 5%.

RASCUNHO

Tabela I

custo dos componentes	(em R\$)
variável	35
fixo	15
total por componente	50

Tabela II

custo das máquinas	(em R\$)
custo do componente	70
demais custos variáveis	100
custo fixo por máquina, para a capacidade de 2.000 máquinas por ano	40

A divisão Alfa de determinada companhia fabrica componentes para máquina perfuratriz, cujo custo é discriminado na tabela I acima.

Esses componentes são vendidos pela divisão Alfa por R\$ 70,00 a unidade, sendo parte da venda feita internamente para a divisão Beta, que os utiliza para a fabricação da máquina perfuratriz. Os custos associados à máquina perfuratriz para a divisão Beta são mostrados na tabela II e o preço de cada máquina é fixado em R\$ 240,00.

Com base nas informações acima, e considerando que a divisão Beta recebeu encomenda de 500 máquinas perfuratrizes de uma empresa no exterior que deseja pagar apenas R\$ 200,00 por unidade, julgue os itens seguintes.

- 101 Considere que ocorra uma redução tributária de R\$ 5.000,00 por lote de 500 unidades exportadas e que tanto a divisão Alfa como a divisão Beta tenham capacidade ociosa. Nesse caso, se a divisão Beta aceitar a encomenda de 500 unidades pelo valor oferecido, a companhia terá prejuízo.
- 102 Admitindo que a divisão Beta tenha capacidade ociosa, seria vantajoso, como centro de responsabilidade, que aceitasse a proposta quando o preço de venda excedesse a R\$ 210,00.
- 103 Admitindo a divisão Alfa como centro de custo, a otimização do lucro da companhia dependeria apenas da receita obtida pela divisão Beta.

Determinada empresa que vende apenas um produto registrou, no mês de novembro, vendas de R\$ 200.000,00 e despesas variáveis de R\$ 120.000,00. Sua margem de contribuição percentual manteve-se estável em 40%. Para o mês de dezembro, o orçamento de vendas prevê um acréscimo de 35% nas vendas brutas, tendo em vista a expectativa de aumento da demanda naquele mês.

Com base nessa situação hipotética e considerando os conceitos orçamentários, julgue os itens subseqüentes.

- 104 Para a previsão de vendas, a empresa utiliza o método de seqüências cíclicas, partindo de uma série básica de dados contábeis. Esse método usa uma análise estatística para medir a correlação entre a série básica e as vendas da empresa.

105 Caso ocorra o aumento esperado nas vendas em dezembro, e considerando que a empresa apresenta custos variáveis escalonados, estes, obrigatoriamente, aumentarão, mesmo que em proporção menor ao incremento observado nas vendas.

106 Considerando custos fixos unitários iguais a R\$ 50,00, custos variáveis totais de R\$ 150.000,00 e margem de contribuição percentual igual à de novembro, para que a empresa alcance um lucro líquido de R\$ 40.000,00 em dezembro, deverá vender 800 unidades do produto.

107 Se a margem de contribuição de 40% não for suficiente para cobrir as despesas fixas, a empresa apresentará prejuízo em novembro. Ao contrário, se for suficiente para cobrir as despesas fixas, a empresa apresentará lucro, a despeito do montante das despesas variáveis.

RASCUNHO

A demonstração do fluxo de caixa, embora ainda não seja exigida por lei no Brasil, é muito útil tanto internamente como para usuários externos interessados na entidade. Em relação a esse demonstrativo contábil, julgue os itens que se seguem.

108 A demonstração do fluxo de caixa evidencia a variação ocorrida no disponível, pela observação das atividades de investimento, operacionais e de operações financeiras ocorridas na entidade.

109 De posse de todos os demonstrativos contábeis exigidos pela legislação societária, é possível elaborar a demonstração do fluxo de caixa de determinada empresa, utilizando o método direto.

110 Considerando as informações da tabela a seguir, extraídas, de forma desordenada, da demonstração do fluxo de caixa de uma empresa, é correto afirmar que as atividades de investimento geraram um caixa negativo, enquanto a atividade operacional gerou um caixa positivo, e que a efetiva redução do saldo de caixa em relação ao período anterior foi inferior a R\$ 1.000,00.

	(em R\$)
aquisição de terrenos	5.500
lucro líquido do exercício	1.950
aumento de estoques	1.000
dividendos pagos	1.000
depreciação do período	250
aumento de impostos a pagar	700
integralização de capital	2.850
aumento de fornecedores	2.000
pagamento de empréstimos bancários	450
aumento de clientes	1.500
alienação de ações de outras empresas	2.100
saldo existente em 30/11/2003	1.700
saldo existente em 30/11/2004	

RASCUNHO

Alessandro, que é casado com Isabel e não tem filhos, completou recentemente cinco anos de exercício em um cargo público de provimento efetivo na administração pública do Distrito Federal.

Acerca dessa situação hipotética, julgue os itens que se seguem.

111 Alessandro tem estabilidade em seu cargo e, portanto, a ele não pode ser aplicada administrativamente penalidade disciplinar de demissão.

112 Considere que Alessandro solicite a concessão de licença remunerada de dois meses, para participar, na Espanha, de curso de capacitação em língua espanhola. Nessa situação, seria lícito ato da administração que indeferisse o pedido de Alessandro sob o argumento de que não há interesse da administração em que o servidor realize o referido curso.

113 Considere que Alessandro solicitou o parcelamento de suas próximas férias em três etapas, a serem gozadas em três meses diferentes. Nessa situação, a administração deve indeferir esse pedido, pois não há disposição legal que autorize o referido parcelamento.

114 Alessandro tem direito a receber adicional de tempo de serviço correspondente a 5% dos seus vencimentos.

115 Considere que Alessandro venha a falecer em razão de acidente em serviço. Nessa situação, Isabel fará jus a pensão mensal correspondente ao valor integral da remuneração que seria devida a Alessandro caso ele ainda exercesse seu cargo.

Em cada um dos itens a seguir, é apresentada uma situação hipotética acerca da ética no serviço público, seguida de uma assertiva a ser julgada.

116 Tadeu, funcionário de um órgão de atendimento ao público, exerce suas atribuições com agilidade e correção e procura prioritariamente atender aqueles usuários mais necessitados, conforme sua avaliação. Nessa situação, Tadeu apresenta comportamento antiético, pois privilegia o atendimento de uns em detrimento de outros.

117 Maria das Graças, no exercício de cargo de gerência pública distrital, atenta às ordens de seus superiores, dá pronto atendimento a elas, mesmo tendo de estabelecer prazos inexecutáveis para a execução das tarefas, impondo sobrecarga de trabalho a sua equipe. Nessa situação, Maria das Graças cumpre com ética o desempenho da função pública.

118 Adriana, competente nos aspectos técnicos e comportamentais, freqüentemente utiliza as prerrogativas de seu cargo público em razão de interesses pessoais. Nessa situação, Adriana faz uso dos direitos do funcionalismo público e age eticamente.

119 Márcio, servidor público, na certeza de que a sua ausência provoca danos ao trabalho e reflete negativamente em todo o sistema do órgão, é assíduo, pontual e produtivo. Nessa situação, Márcio apresenta conduta ética adequada ao serviço público.

120 Francisco, no exercício de cargo público, presenciou fraude praticada por seu chefe imediato no ambiente organizacional. Nessa situação, por ter consciência de que seu trabalho é regido por princípios éticos, Francisco agiu corretamente ao delatar seu chefe aos superiores.