

• De acordo com o comando a que cada um dos itens de 1 a 120 se refira, marque, na **folha de respostas**, para cada item: o campo designado com o código **C**, caso julgue o item **CERTO**; ou o campo designado com o código **E**, caso julgue o item **ERRADO**. A ausência de marcação ou a marcação de ambos os campos não serão apenadas, ou seja, não receberão pontuação negativa. Para as devidas marcações, use a folha de rascunho e, posteriormente, a **folha de respostas**, que é o único documento válido para a correção das suas provas.

• Nos itens que avaliam **Noções de Informática**, a menos que seja explicitamente informado o contrário, considere que todos os programas mencionados estão em configuração-padrão, em português, que o *mouse* está configurado para pessoas destros e que expressões como clicar, clique simples e clique duplo referem-se a cliques com o botão esquerdo do *mouse*. Considere também que não há restrições de proteção, de funcionamento e de uso em relação aos programas, arquivos, diretórios e equipamentos mencionados.

CONHECIMENTOS BÁSICOS

1 O Tribunal Superior do Trabalho começa a
colocar em prática uma série de iniciativas destinadas a
tornar a justiça mais rápida e eficaz. O Sistema Integrado
4 de Informática, um projeto audacioso de interligação de
todas as 1.135 varas do trabalho, tribunais regionais e o
TST, cuja execução já está em andamento, abriu o
7 caminho para o desenvolvimento de programas que
devem representar um salto de qualidade para a justiça do
trabalho.

10 É o caso do Peticionamento Eletrônico Nacional,
que possibilitará o uso do correio eletrônico para a prática
de atos processuais a partir de qualquer ponto do país, e
13 da Carta Precatória Nacional, por meio da qual o juiz do
trabalho poderá se comunicar com outro juiz, do mesmo
estado ou não, para requerer a citação de alguém, a
16 tomada de depoimentos de testemunhas ou até mesmo a
execução de bens. A idéia é facilitar o acesso ao Poder
Judiciário e fazer com que suas decisões tenham
19 efetividade no menor prazo possível.

Internet: <<http://www.tst.gov.br/noticias>>. Acesso em 25/10/2004 (com adaptações).

Em relação ao texto acima, julgue os itens a seguir.

- 1 Infere-se das informações do texto que a justiça não tem sido satisfatória e suficientemente rápida e eficaz.
- 2 O texto apresenta argumentos que explicam por que a informática é inadequada para utilização em certos atos processuais próprios da justiça do trabalho.
- 3 Há uma seleção de vocabulário e de estruturas sintáticas no texto que o torna incompatível com as exigências de formalidade da redação oficial.
- 4 Estaria gramaticalmente correta a substituição do trecho destacado em “para a justiça do trabalho” (ℓ.8-9) por qualquer uma das seguintes formas: **da, na, em relação à, quanto à**.
- 5 A vírgula após “alguém” (ℓ.15) justifica-se por marcar o primeiro elemento de uma enumeração de termos que têm a mesma função sintática.

Em cada item a seguir, são apresentadas duas versões de um fragmento de um texto adaptado. Julgue-os quanto à correção de ambas as versões.

6 O governo federal está combatendo com rigor, o trabalho escravo no país, prática condenada pela sociedade e que vêm causando grande indignação.

O governo federal está combatendo com rigor o trabalho escravo no país, prática que é condenada pela sociedade e que causa grande indignação.

7 Recentemente, o governo desapropriou uma fazenda de 9,9 mil hectares, localizada no município de Marabá, no sudeste do estado do Pará, onde foi constatada a existência de trabalho escravo.

Recentemente, foi desapropriada pelo governo uma fazenda de 9,9 mil hectares, localizada no município de Marabá, no sudeste do estado do Pará, em que se constatou a existência de trabalho escravo.

8 A fazenda foi declarada como de interesse social para fins de reforma agrária em decreto publicado no Diário Oficial.

A fazenda foi declarada como de interesse social para fins de reforma agrária por meio de decreto publicado no Diário Oficial.

9 De acordo com a Constituição Federal, propriedades rurais onde há incidência de trabalho escravo, crime ambiental ou improdutividade podem ser desapropriadas.

Pode ser desapropriada, de acordo com a Constituição Federal, propriedades rurais nas quais há incidência de trabalho escravo, crime ambiental ou improdutividade.

Itens adaptados. Internet: <<http://www.tst.gov.br/noticias>>. Acesso em 27/10/2004.

1 A fazenda que foi desapropriada recentemente pelo governo tem capacidade para o assentamento de 250 famílias e está situada numa região que registra os mais altos índices de
4 conflito agrário no país. Ela é a primeira propriedade da lista das 101 fazendas que utilizam mão-de-obra escrava no Brasil e que vão ser destinadas à reforma agrária. O decreto de
7 desapropriação é considerado uma vitória para os trabalhadores rurais e para a reforma agrária. Os movimentos sociais da região lutam pela obtenção da terra há pelo menos seis anos.

Internet: <<http://www.tst.gov.br/noticias>>. Acesso em 27/10/2004 (com adaptações).

Considerando as idéias e as estruturas do texto acima, julgue os itens a seguir.

- 10 Na linha 1, seria correto substituir “que” por **qual**.
- 11 A forma verbal “tem” (ℓ.2) também estaria correta se escrita com acento circunflexo: **têm**.
- 12 O texto permaneceria gramaticalmente correto se a forma verbal “utilizam” (ℓ.5) fosse substituída por **usam** ou por **fazem uso de**.

- 13 Na linha 6, de acordo com as normas de concordância, a expressão “vão ser” poderia ser substituída por **vão serem**, para concordar com a expressão “destinadas à reforma agrária”.
- 14 A substituição de “O decreto de desapropriação é considerado uma vitória” (l.6-7) por **Considera-se o decreto de desapropriação uma vitória** mantém o sentido geral do texto e a correção gramatical da frase.
- 15 O sentido e a correção gramatical do texto serão mantidos, caso a forma verbal “há” (l.9) seja substituída pela preposição **a**.

1 Para aperfeiçoar e democratizar os mecanismos de transparência da gestão pública e de combate à corrupção e à impunidade foi instalado o Conselho de Transparência Pública e Combate à Corrupção. Vinculado à Controladoria-Geral da União (CGU), o conselho irá consolidar a política do governo federal de combate ao mau uso dos recursos públicos e à impunidade e tem como atribuições sugerir e debater medidas de aperfeiçoamento dos métodos de controle, incrementar a transparência na administração pública e estimular estratégias de combate à corrupção.

Internet: <<http://www.tst.gov.br/noticias>>. Acesso em 27/10/2004 (com adaptações).


Em relação ao texto acima, julgue os itens que se seguem.

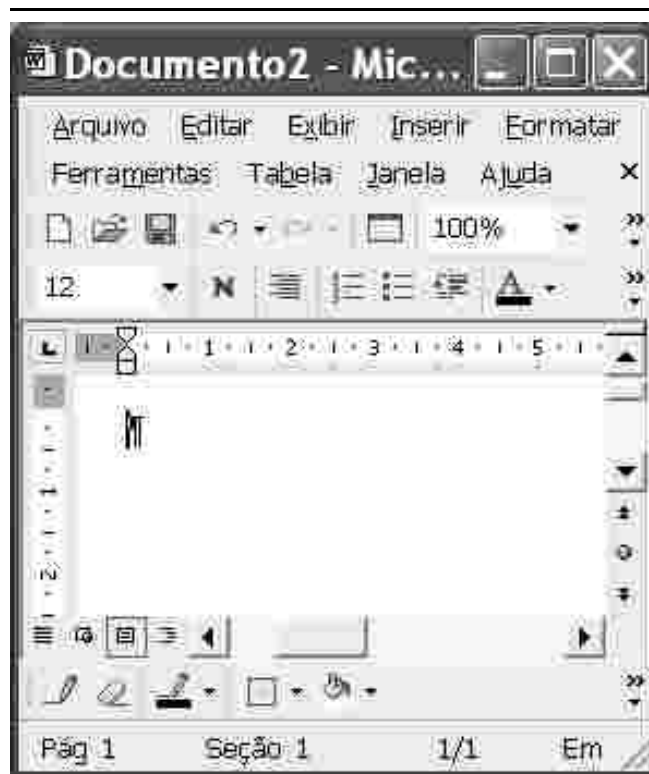
- 16 A substituição de “aperfeiçoar” (l.1) por **aperfeiçoarem** mantém a correção gramatical do período.
- 17 A palavra “Vinculado” (l.4) está no masculino singular para concordar com “conselho” (l.5).
- 18 A substituição de “irá consolidar a política” (l.5) por **consolidaria à política** preserva a correção gramatical do período.
- 19 O emprego de preposição em “ao mau uso” (l.6) e em “à impunidade” (l.6-7) é exigido pela regência da palavra “combate” (l.6).
- 20 Estaria gramaticalmente correto o emprego de sinal de dois-pontos após a palavra “atribuições” (l.7).



Considerando a figura acima, que ilustra uma janela do aplicativo OpenOffice.org 1.1, julgue os itens seguintes.

- 21 No menu **Arquivo**, encontra-se uma opção que permite enviar o documento em edição como arquivo do tipo PDF, anexado a uma mensagem de *e-mail*.

- 22 Ao se clicar o botão , será disponibilizada uma janela contendo algumas figuras geométricas elementares, como círculo, retângulo e elipse. A partir dessas figuras, é possível montar e inserir no documento em edição desenhos mais elaborados.



A figura acima mostra uma janela do Word 2002 sendo executada em um computador cujo sistema operacional é o Windows XP, contendo um documento em branco. Considerando essa figura, julgue os itens seguintes.


- 23 Caso seja inserido no documento em branco texto que ocupe um parágrafo com mais de uma linha, então, com base na figura ilustrada, é correto afirmar que o referido parágrafo estará alinhado à direita.
- 24 Considere que um parágrafo de texto seja inserido no documento com o estilo Normal. Então, caso se deseje modificar a formatação usada nesse estilo, é possível fazê-lo por meio da opção Estilo, encontrada no menu **Formatar**.



Com o objetivo de obter informações acerca de microprocessadores, um usuário acessou o sítio da Intel — <http://www.intel.com.br> — e, após algumas operações nesse sítio, obteve a página *web* mostrada na janela do Internet Explorer 6 (IE6) ilustrada acima. Considerando essa janela do IE6 e as informações nela contidas, julgue os itens seguintes.

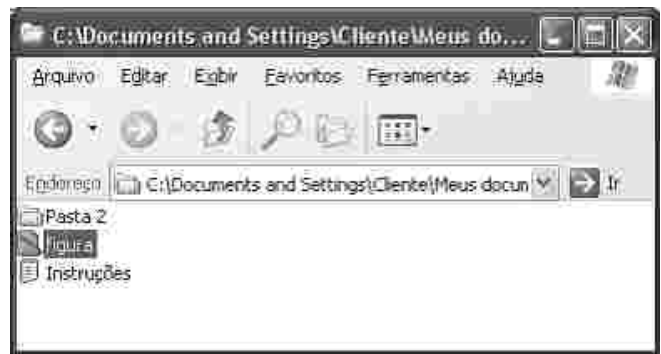
25 Ao especificar que o processador Intel Pentium 4 com tecnologia HT Extreme Edition possui **Cache L3** de 2 MB, é correto concluir que esse processador dispensa o uso de memória RAM, o que diminui o consumo de energia por parte do processador e pode, assim, constituir uma opção adequada para equipamentos do tipo *laptop*.

26 A janela ilustrada a seguir pode ser obtida a partir dos recursos

acessíveis ao se clicar o botão , desde que o IE6 esteja adequadamente configurado.



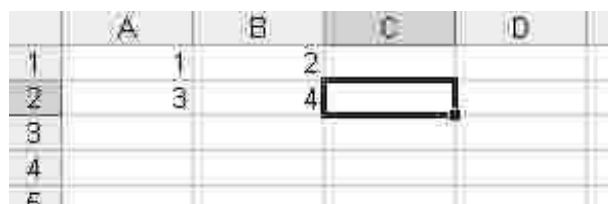
27 Por meio do *menu* **Ferramentas**, é possível verificar se a página *web* ilustrada contém vírus de computador anexados aos *hyperlinks* existentes nessa página.





A figura acima mostra uma janela do Windows XP. Com relação a essa figura e a esse *software*, julgue os itens seguintes.

28 Ao se clicar o *menu* **EXIBIR**, é exibida uma lista de opções, entre as quais a opção **Detalhes**, que permite que sejam mostradas algumas informações acerca dos arquivos contidos na pasta em exibição, como, por exemplo, o tamanho de cada arquivo.

29 Ao final da realização da seqüência de instruções a seguir, existirão duas cópias do arquivo **Instruções**, sendo uma na pasta cujo conteúdo está sendo exibido e outra, na pasta **Pasta 2**, posicionar o ponteiro do *mouse* sobre o ícone **Instruções**, pressionar e manter pressionado o botão esquerdo do *mouse*; mover o *mouse* de forma que seu ponteiro se posicione sobre o ícone **Pasta 2**, liberar o botão esquerdo do *mouse*.



A figura acima mostra parte de uma janela do Excel 2002, com uma planilha em processo de edição. Com relação a essa figura e ao Excel 2002, julgue o item seguinte.

30 Para se copiar o conteúdo da célula A1 para a célula C2, e centralizar o novo conteúdo da célula C2, é suficiente realizar a seguinte seqüência de ações: clicar a célula A1; clicar o *menu* **Editar**; na lista de opções decorrente dessa ação, clicar **Copiar**; clicar a célula C2; clicar o *menu* **Editar**; na lista de opções decorrente dessa ação, clicar **Copiar**; pressionar simultaneamente as teclas  e .

O presidente da Autoridade Nacional Palestina (ANP), Yasser Arafat, morreu aos 75 anos, após 13 dias internado no hospital militar Percy, perto de Paris. Seu cargo ficará com Rawhi Fattouh, presidente do Conselho Legislativo, até a realização de eleições, que por lei devem ocorrer em 60 dias. Arafat foi o principal e mais controverso líder palestino do século XX. Nascido em 1929 (no Cairo, segundo biógrafos; em Jerusalém, dizia ele), fundou em 1958 a organização clandestina Fatah, embrião da Organização para a Libertação da Palestina (OLP), surgida em 1964. Escapou de mais de 40 atentados. Suas ações foram do terrorismo aos acordos que fixaram um cronograma para o Estado palestino e renderam, em 1994, o Nobel da Paz a ele, Yitzhak Rabin (assassinado em 1995) e Shimon Peres. Eleito presidente da ANP em 1996, Arafat estava confinado por Israel ao seu quartel-general na Cisjordânia desde 2002.

Folha de S. Paulo, 12/11/2004, capa (com adaptações).

Tendo o texto acima como referência inicial e considerando a complexidade do tema por ele abordado, julgue os itens subsequentes.

- 31 Pelo que o texto informa, Arafat modificou-se ao longo de sua trajetória de militante e líder da causa palestina, indo das ações violentas ao estágio da negociação política.
- 32 O fato de a Palestina ainda não se constituir em Estado é um grave obstáculo à paz no Oriente Médio.
- 33 Por suas posições radicais, Arafat jamais encontrou interlocutor em Israel.
- 34 Já bastante debilitado fisicamente, em seus últimos anos de vida Arafat recebeu tratamento respeitoso e condescendente por parte do governo de Israel, o que incluía plena liberdade de locomoção.
- 35 Não há explicação lógica para que Arafat mentisse em relação à sua cidade natal, já que Jerusalém tem importância simbólica para cristãos e judeus, não para os muçulmanos.
- 36 Há, no texto, informação que indica a existência, entre os palestinos, de instituições políticas próprias das democracias, algo que não é comum entre os países árabes.
- 37 Do princípio ao fim, a liderança de Arafat foi unanimemente aceita pelas correntes políticas palestinas e, em geral, pelos demais países árabes.
- 38 O Oriente Médio é uma das mais explosivas regiões do mundo contemporâneo, na qual se mesclam interesses econômicos (petróleo, sobretudo) e profundas diferenças culturais-religiosas.
- 39 O atual governo israelense, chefiado por Ariel Sharon, é conhecido por suas posições duras, o que dificulta os já difíceis caminhos para a paz na região.
- 40 Israel viu sua posição enfraquecer-se nos últimos anos em face da retirada do apoio norte-americano que sempre tivera, em razão de decisão controvertida e inesperada do presidente George W. Bush.

Considere que em um escritório trabalham 11 pessoas: 3 possuem nível superior, 6 têm o nível médio e 2 são de nível fundamental. Será formada, com esses empregados, uma equipe de 4 elementos para realizar um trabalho de pesquisa. Com base nessas informações, julgue os itens seguintes, acerca dessa equipe.

- 41 Se essa equipe for formada somente com empregados de nível médio e fundamental, então essa equipe poderá ser formada de mais de 60 maneiras distintas.
- 42 Se essa equipe incluir todos os empregados de nível fundamental, então essa equipe poderá ser formada de mais de 40 maneiras distintas.
- 43 Formando-se a equipe com dois empregados de nível médio e dois de nível superior, então essa equipe poderá ser formada de, no máximo, 40 maneiras distintas.
- 44 Se a equipe for formada escolhendo-se as pessoas de maneira aleatória, então a probabilidade de que essa equipe contenha todos os empregados de nível superior será inferior a 0,03.
- 45 Se a equipe for formada escolhendo-se as pessoas de maneira aleatória, então a probabilidade de que essa equipe contenha pelo menos uma pessoa de nível fundamental será inferior a 0,55.

Considere uma sala na forma de um paralelepípedo retângulo, com altura igual 3 m e julgue os itens que se seguem.

- 46 Se as medidas dos lados do retângulo da base são 3 m e 5 m, então o volume da sala é superior a 44 m³.
- 47 Se as medidas dos lados do retângulo da base são 4 m e 5 m, então a área total do paralelepípedo é inferior a 93 m².
- 48 Se as medidas dos lados do retângulo da base são 6 m e 8 m, então a medida da diagonal desse retângulo é inferior a 9 m.
- 49 Supondo que o perímetro do retângulo da base seja igual a 26 m e que as medidas dos lados desse retângulo sejam números inteiros, então a área máxima possível para o retângulo da base é superior a 41 m².
- 50 Se as medidas dos lados do retângulo da base são 3 m e 4 m, então a medida da diagonal do paralelepípedo é inferior a 6 m.

RASCUNHO

CONHECIMENTOS ESPECÍFICOS

Acerca do direito constitucional e do direito administrativo, julgue os itens subseqüentes.

- 51 Compete ao Supremo Tribunal Federal julgar anualmente as contas prestadas pelo presidente da República.
- 52 Os decretos legislativos não são submetidos à sanção do presidente da República.
- 53 A edição de medidas provisórias é um ato de competência do presidente da República que ele pratica na qualidade de chefe de governo.
- 54 A Constituição da República confere vitaliciedade aos membros do Ministério Público do Trabalho e, portanto, seria inconstitucional uma disposição legal que estabelecesse para esses agentes públicos aposentadoria compulsória aos setenta anos de idade.
- 55 Compete à polícia federal a apuração de crime de corrupção que envolva juízes do trabalho.
- 56 A assistência e a previdência social têm caráter contributivo, ou seja, seus benefícios são prestados apenas às pessoas que contribuem para a seguridade social.

Em cada um dos itens a seguir, é apresentada uma situação hipotética, seguida de uma assertiva a ser julgada.

- 57 Luciano é um adolescente de 13 anos de idade. Nessa situação, a Constituição da República veda o trabalho de Luciano, salvo na condição de aprendiz.
- 58 Maurício nasceu na França, quando o pai e a mãe, brasileiros, estudavam em uma universidade em Paris. Com 15 anos de idade, Maurício veio ao Brasil pela primeira vez e fixou residência no país, onde mora há cinco anos. Nessa situação, mesmo que Maurício opte pela nacionalidade brasileira, ser-lhe-á vedado exercer cargo de ministro do Tribunal Superior do Trabalho, pois esse cargo é privativo de brasileiros natos.

Considerando que Adriano foi recentemente nomeado para cargo público de provimento em comissão no Ministério do Trabalho e Emprego, julgue os seguintes itens.

- 59 Para entrar em exercício, Adriano precisa apresentar declaração dos bens e valores que compõem seu patrimônio.
- 60 Adriano não é sujeito a estágio probatório.
- 61 Adriano responde, independentemente de culpa, pelos prejuízos que suas condutas em serviço causem, eventualmente, a terceiros.
- 62 Violaria o princípio administrativo da impessoalidade o fato de, no exercício do cargo, Adriano dar precedência aos interesses do partido a que é filiado, em detrimento do interesse público.

Julgue os itens que se seguem, considerando que Ronaldo celebrou contrato de trabalho com a Caixa Econômica Federal (CAIXA), que é uma empresa pública federal.

- 63 Ronaldo ocupa cargo público de provimento efetivo.
- 64 Ronaldo é empregado público na administração federal direta, pois a CAIXA é pessoa jurídica de direito público.

Márcio, servidor público federal ocupante de cargo comissionado, criticou abertamente uma decisão que havia sido tomada por Antônio, seu superior hierárquico direto. Ao saber das críticas que lhe haviam sido dirigidas, Antônio exonerou Márcio do seu cargo em comissão. Quinze dias depois, Antônio arrependeu-se de seu ato e decidiu anular o ato de exoneração.

Considerando a situação hipotética acima, julgue os itens a seguir.

- 65 O ato de exoneração de Márcio caracterizou exercício de poder administrativo vinculado.
- 66 Seria descabido que Antônio editasse ato administrativo anulando a exoneração de Márcio.

Acerca do direito das obrigações e dos contratos, julgue os itens a seguir.

- 67 Uma obrigação indivisível, seja física ou legal, somente admite ser cumprida em sua integridade. Mesmo havendo mais de um credor, ou mais de um devedor, a prestação não pode ser fracionada.
- 68 Nos contratos bilaterais, as prestações são recíprocas e, como consequência dessa reciprocidade, se ambas as partes tornarem-se inadimplentes, isso acarretará a resolução do contrato.
- 69 Considere a seguinte situação hipotética.

Maria, por meio de contrato de compra e venda, adquiriu uma propriedade rural denominada Fazenda Morro Alto, com mais ou menos 10 alqueires, por preço justo e acertado. Posteriormente, constatou que a medida de extensão não correspondia às dimensões dada pelo vendedor e que o referido imóvel possuía área total de 8 alqueires.

Nessa situação, Maria poderá exigir do vendedor a complementação da área, ou o abatimento do preço.

- 70 A entrega de veículo a manobrista, para estacioná-lo em local reservado, não caracteriza um contrato de depósito nem responsabiliza a empresa por eventual dano sofrido pelo proprietário do veículo por não ter o hotel assumido expressamente a responsabilidade de guardar a coisa e restituí-la no estado em que foi entregue.

Acerca das pessoas naturais e jurídicas, julgue os seguintes itens.

- 71 A associação civil é uma pessoa jurídica de direito privado, criada a partir de um patrimônio destinado por uma pessoa física ou jurídica para a realização de uma finalidade não-lucrativa.
- 72 A capacidade jurídica da pessoa natural é limitada, pois uma pessoa pode ter o gozo de um direito, sem ter o seu exercício, por ser incapaz.

Acerca da propriedade e dos direitos reais sobre coisas alheias, julgue os itens que se seguem.

- 73 O proprietário de um bem imóvel pode dá-lo em hipoteca para garantia de dívida contraída, autorizando expressamente o credor hipotecário a ficar com o objeto da garantia se a dívida não for paga no vencimento.
- 74 O usufruto vitalício constituído em favor de duas pessoas se extinguirá, em sua totalidade, quando o último usufrutuário falecer, restabelecendo-se, assim, a propriedade plena do nu-proprietário.

Em relação a partes, processo e procedimento, julgue os itens a seguir.

- 75 Em processo no qual litiga pessoa jurídica em um dos pólos, parte é a pessoa jurídica e não o seu representante, que simplesmente age em nome dela.
- 76 Tratando-se de ação de cobrança de taxas condominiais, o rito adequado é o sumário, qualquer que seja o valor da causa.
- 77 O procedimento comum pode ser classificado em ordinário, sumário e de execução.
- 78 Ação de indenização por dano moral, ainda que de pequeno valor, jamais pode tramitar pelo rito sumário, pois constitui questão relativa a direito de personalidade e, portanto, classifica-se como questão de estado.
- 79 O incapaz não tem capacidade de ser parte, e, portanto, qualquer ação na qual tenha interesse deve ser movida por seus representantes legais, ou contra esses representantes.
- 80 Quando o ato tiver de ser praticado em determinado prazo, por meio de petição, esta deverá ser apresentada no protocolo, dentro do horário de expediente, nos termos da lei de organização judiciária local.
- 81 Se o réu não for citado, mas comparecer espontaneamente no processo para se defender, o processo ainda assim será nulo, pois a citação é ato indispensável à validade do processo.
- 82 A ação rescisória, proposta contra sentença transitada em julgado, jamais é proposta originariamente em juízo de primeiro grau, mas sempre em tribunal.

Hoje presencia-se o fortalecimento do sindicalismo no país, tanto em suas estruturas quanto na sua representatividade. Essa robustez se faz urgente e necessária quando são debatidas alterações na legislação para a flexibilização das normas trabalhistas. Ocorre, contudo, que os sindicatos necessitam de recursos financeiros para adquirir tal solidez. Esses recursos decorrem de contribuições pagas pelas empresas e empregados. Acerca dessas contribuições, julgue os seguintes itens.

- 83 A contribuição sindical é obrigatória e independe da filiação do empregado ao respectivo sindicato que representa sua categoria.

84 Segundo entendimento do Superior Tribunal de Justiça, a contribuição assistencial tem natureza convencional, uma vez que depende da concordância dos associados do sindicato, alcançando apenas estes.

85 O pagamento da contribuição confederativa, desde que prevista em acordo, convenção coletiva ou sentença normativa, é obrigatório aos trabalhadores, inclusive aos não-sindicalizados, pois destina-se ao custeio do sistema confederativo, assistencial, e ao revigoramento e fortalecimento sindical.

86 A justiça do trabalho é incompetente para apreciar lide para cobrar a contribuição assistencial entre o sindicato patronal e a respectiva categoria econômica.

Joana foi contratada por Antonieta para exercer as funções de empregada doméstica em 13/1/2003. Deveria trabalhar de segunda a sábado das 7 h às 21 h 30 min, realizando as seguintes tarefas: lavar, passar, cozinhar, limpar banheiros e coletar o lixo residencial. Em 22/8/2004, Joana foi dispensada sem justa causa por sua empregadora. Contudo, quando o contrato de trabalho foi rescindido, Joana estava grávida, fato que era desconhecido por Antonieta.

Com base nessa situação hipotética, julgue os itens que se seguem.

- 87 O contrato não poderia ter sido rescindido, pois Joana tinha estabilidade garantida pela Constituição Federal.
- 88 Mesmo trabalhando mais de 44 horas semanais, Joana não faz jus ao pagamento de horas extraordinárias.
- 89 O fato de o empregador desconhecer a gravidez da empregada no ato da dispensa autoriza a rescisão imotivada do contrato, uma vez que, para garantir o emprego, a empregada gestante tem a obrigação de comunicar tal fato ao seu patrão.
- 90 Desde que constatado por laudo pericial, é devido a Joana o pagamento de adicional de insalubridade pela limpeza dos banheiros e pela coleta de lixo urbano.

Acerca de medidas preventivas adotadas em acervos arquivísticos semelhantes aos encontrados no TRT, julgue os itens a seguir.

- 91 Nos processos que tramitam no TRT, em virtude da inserção freqüente de novos documentos, é indicado o uso de hastes plásticas.
- 92 Os recursos técnicos da microfilmagem são contra-indicados para os processos que tramitam no TRT em virtude de os documentos serem originais.
- 93 Concluído o processo de microfilmagem de documentos, o filme original e o filme-cópia serão armazenados no mesmo local, devido à classificação que receberam.
- 94 A luz e a temperatura são alguns dos principais agentes de deterioração dos documentos de cunho arquivístico.

No que se refere à metodologia a ser adotada para o gerenciamento, a avaliação e o arquivamento dos processos e demais tipologias documentais acumuladas em órgãos, como é o caso do TRT, julgue os itens seguintes.

- 95 Os processos ultimatos, de procedência externa, serão transferidos ao arquivo de caráter permanente.
- 96 Um dos critérios estabelecidos nos processos de avaliação documental é indicar o descarte dos documentos que tenham sido produzidos no prazo superior a 20 anos.
- 97 Por suas características de produção, todos os processos constituídos no TRT são de guarda permanente.
- 98 É atribuída a guarda permanente aos atos normativos.

Em cada um dos itens a seguir, é apresentada uma situação hipotética acerca da ética e qualidade de atendimento no serviço público, seguida de uma assertiva a ser julgada.

- 99 Hélio é servidor público do setor de atendimento de um tribunal judiciário. Ele tem muitos afazeres e, por isso, deixa os clientes à espera de atendimento enquanto resolve os problemas internos do setor. Nessa situação, o comportamento de Hélio caracteriza atitude contrária à ética no serviço público.
- 100 Gabriel é um servidor público exemplar, cortês, disponível e atencioso no trabalho. Ele resiste a todas as pressões de seus superiores hierárquicos e não aceita nenhum presente de clientes em troca de suas ações no trabalho. Nessa situação, Gabriel está cumprindo com ética o desempenho de seu cargo público.
- 101 Marilena é servidora pública de um tribunal judiciário. Ela zela pelo material sob sua guarda, é assídua e pontual, respeita os colegas e privilegia o atendimento de seus superiores hierárquicos, demonstrando total prontidão às requisições deles em detrimento das solicitações de seus colegas e dos usuários do setor. Nessa situação, Marilena apresenta comportamento profissional ético e compatível com a função pública.
- 102 Rodrigo é servidor público e trabalha no setor de assistência social de um tribunal judiciário. Ele atende dezenas de pessoas por dia, é sempre cortês, justo e prestativo no atendimento, e mesmo quando não detém a informação solicitada pelo usuário, ele inova, sugerindo alguma alternativa conforme sua opinião. Nessa situação, o atendimento prestado por Rodrigo é de muita qualidade, pois atende às expectativas dos usuários.

No que se refere ao trabalho em equipe e ao relacionamento interpessoal, julgue os itens seguintes.

- 103 A eficácia do comportamento interpessoal aumenta na medida em que o indivíduo apresenta mais empatia nos relacionamentos pessoais e profissionais.
- 104 Para que o trabalho em equipe seja eficiente e eficaz, é necessário que seus membros tenham competências de integração, criem regras de convivência, não imponham limites e busquem o alcance das metas.
- 105 A opinião pública acerca de um determinado órgão é resultante da qualidade do atendimento prestado, do grau de confiabilidade das informações transmitidas, da adequação das instalações físicas, do nível das relações interpessoais e da prontidão do atendimento.

Com base nas formalidades da escrituração contábil, julgue o item abaixo.

- 106 Os livros contábeis obrigatórios e facultativos devem ser registrados na Junta Comercial, quando a sociedade for comercial, ou no Cartório de Registros Especiais, quando a sociedade for civil.

Com relação aos diferentes conceitos de capital, julgue o item a seguir.

- 107 O capital não subscrito corresponde à parcela do capital autorizado que ainda não foi colocada em circulação. Capital a integralizar corresponde à parcela da obrigação subscrita pelos sócios e ainda não realizada.

Acerca dos princípios contábeis, julgue o item seguinte.

- 108 O registro de um bem pelo seu custo de aquisição e a atualização periódica de seu valor, por efeito da inflação, estão em consonância com dois princípios contábeis: registro pelo valor original e atualização monetária.

A respeito dos critérios de registro e avaliação dos bens e direitos e obrigações, julgue o item abaixo.

- 109 O fundo de comércio, por ser um bem intangível ou incorpóreo, independentemente do valor pelo qual possa ter sido adquirido, não é passível de registro no ativo de seu detentor, não integrando o patrimônio contábil.

Em relação a uma operação convencional de desconto de títulos, julgue o item subsequente.

- 110 Considere a seguinte situação hipotética.

Uma empresa entregou ao banco duplicata no valor de R\$ 5.000,00, emitida em 1.º/10/2001, para ser descontada em 1.º/11/2001. A data de vencimento dessa duplicata é 31/1/2002, ou seja, 3 meses depois da data do desconto, e o banco cobra uma taxa de 5% ao mês, além de despesas bancárias de R\$ 300,00.

Nessa situação, o lançamento efetuado corretamente pela empresa, em 1.º/11/2001, foi o seguinte:

conta	valor (em R\$)
diversos	
a títulos descontados	
bancos – conta movimento	3.950,00
juros e descontos a vencer	750,00
despesas bancárias	300,00 5.000,00

RASCUNHO

ativo circulante	R\$	passivo circulante	R\$
bancos – conta movimento	3.000,00	fornecedores	2.000,00
duplicatas a receber	8.000,00	empréstimos	8.000,00
estoques	3.000,00	–	–
despesas antecipadas	1.000,00	–	–
TOTAL	15.000,00		10.000,00

Com base nos dados da tabela acima e considerando os indicadores mais utilizados na análise contábil, julgue os itens a seguir.

- 111 O quociente de liquidez seca é igual a 1,2.
- 112 A empresa tem R\$ 14.000,00 em disponíveis e a realizar, e R\$ 10.000,00 a pagar, a curto prazo. Entretanto, a capacidade de pagamento de todas as obrigações nos respectivos prazos de vencimento vai depender dos prazos médios de recebimento das vendas, de pagamento das compras e empréstimos, e da rotação dos estoques.

estoque inicial	600.000,00	vendas	2.400.000,00
estoque final	1.000.000,00	compras	2.400.000,00

Considerando os dados acima (em reais) e os critérios adotados para o cálculo da rotação de valores, julgue o item seguinte.

- 113 O quociente de rotação de estoques é igual a 3.

Acerca do regimento interno do TRT da 10.^a Região, julgue os itens seguintes.

- 114 O TRT da 10.^a Região tem duas seções especializadas, cada uma delas dividida em duas turmas.
- 115 Os magistrados que compõem o TRT da 10.^a Região são chamados de desembargadores trabalhistas.
- 116 Considere que atualmente o TRT tem todas as suas vagas ocupadas e que compareceram para uma reunião do Tribunal Pleno o presidente e outros sete magistrados. Nessa situação, o Tribunal Pleno não poderá deliberar, em virtude da falta de *quorum*.
- 117 Nos processos administrativos em que não houver relator designado, o presidente do tribunal deve proferir o primeiro voto.
- 118 Uma turma do TRT da 10.^a Região pode declarar a inconstitucionalidade de lei federal, desde que o faça pelo voto de pelo menos três dos seus componentes.
- 119 São órgãos da justiça do trabalho da 10.^a Região juntas de conciliação e julgamento compostas de um juiz do trabalho e dois juízes classistas temporários, representantes dos empregados e dos empregadores.
- 120 Para fins de promoção por merecimento, o percentual de sentenças que o juiz prolatou e que foram reformadas pelo tribunal é um critério inválido para aferir o seu mérito.

