




# Tribunal Regional do Trabalho

## 16.<sup>a</sup> Região

### Concurso Público Nível Superior

Aplicação: 24/7/2005



# Analista Judiciário

## Área: Apoio Especializado

## Especialidade: Biblioteconomia

Caderno

# Aluísio Azevedo

Cargo

# 4

# MANHÃ

**LEIA COM ATENÇÃO AS INSTRUÇÕES ABAIXO.**

- 1 Ao receber este caderno, confira atentamente se o tipo de caderno — Aluísio Azevedo — coincide com o nome que está registrado no cabeçalho de sua folha de rascunho, à direita, e se ele contém cento e vinte itens, correspondentes às provas objetivas, corretamente ordenados de 1 a 120.
- 2 Caso o caderno esteja incompleto ou tenha qualquer defeito, solicite ao fiscal de sala mais próximo que tome as providências cabíveis.
- 3 Recomenda-se não marcar ao acaso: em cada item, se a resposta divergir do gabarito oficial definitivo, o candidato receberá pontuação negativa, conforme consta em edital.
- 4 Não utilize material de consulta que não seja fornecido pelo CESPE.
- 5 Durante as provas, não se comunique com outros candidatos nem se levante sem autorização do chefe de sala.
- 6 A duração das provas é de **três horas e trinta minutos**, já incluído o tempo destinado à identificação — que será feita no decorrer das provas — e ao preenchimento da folha de respostas.
- 7 Ao terminar as provas, chame o fiscal de sala mais próximo, devolva-lhe a sua folha de respostas e deixe o local de provas.
- 8 A desobediência a qualquer uma das determinações constantes no presente caderno, na folha de rascunho ou na folha de respostas poderá implicar a anulação das suas provas.

#### AGENDA

- I **26/7/2005**, a partir das 10 h (horário de Brasília) — Gabaritos oficiais preliminares das provas objetivas: quadros de avisos do CESPE/UnB, em Brasília, e Internet — [www.cespe.unb.br/concursos/trt162005](http://www.cespe.unb.br/concursos/trt162005).
- II **27 e 28/7/2005** — Recursos (provas objetivas): formulários estarão disponíveis no Sistema Eletrônico de Interposição de Recurso, Internet — [www.cespe.unb.br](http://www.cespe.unb.br).
- III **26/8/2005** — Resultados finais das provas objetivas e do concurso: Diário Oficial da União e locais mencionados no item I.

#### OBSERVAÇÕES

- Não serão objeto de conhecimento recursos em desacordo com o item 14 do Edital n.º 1/2005 — TRT/16.ª REGIÃO, de 4/3/2005.
- Informações adicionais: telefone 0(XX) 61 3448 0100; Internet — [www.cespe.unb.br](http://www.cespe.unb.br).
- É permitida a reprodução deste material apenas para fins didáticos, desde que citada a fonte.

**CESPE**  
UNIVERSIDADE DE BRASÍLIA  
Criando Oportunidades para Realizar Sonhos

- De acordo com o comando a que cada um dos itens de **1 a 120** se refira, marque, na **folha de respostas**, para cada item: o campo designado com o código **C**, caso julgue o item **CERTO**; ou o campo designado com o código **E**, caso julgue o item **ERRADO**. A ausência de marcação ou a marcação de ambos os campos não serão apenadas, ou seja, não receberão pontuação negativa. Para as devidas marcações, use a folha de rascunho e, posteriormente, a **folha de respostas**, único documento válido para a correção das suas provas.
- Nos itens que avaliam **Noções de Informática**, a menos que seja explicitamente informado o contrário, considere que todos os programas mencionados estão em configuração-padrão, em português, que o *mouse* está configurado para pessoas destros e que expressões como clicar, clique simples e clique duplo referem-se a cliques com o botão esquerdo do *mouse*. Considere também que não há restrições de proteção, de funcionamento e de uso em relação aos programas, arquivos, diretórios e equipamentos mencionados.

## CONHECIMENTOS BÁSICOS

### Células que dormem

1 Um dos grandes entraves biológicos à conquista do  
 espaço são as viagens longas demais. Biólogos norte-  
 4 americanos anunciaram na semana passada os resultados de  
 uma pesquisa que pode resolver esse problema. Eles  
 colocaram ratos em estado de animação suspensa, um tipo de  
 hibernação no qual o organismo passa a funcionar de forma  
 7 tão lenta que a necessidade de oxigênio das células se reduz  
 drasticamente. A temperatura interna cai e as funções vitais  
 se reduzem a um ritmo mínimo, levando a um estado de sono  
 10 profundo, semelhante ao coma.

As aplicações dessa técnica em seres humanos  
 prometem revolucionar a medicina em várias frentes. Em  
 13 tese, seria possível combater o câncer com maior eficiência,  
 fazendo que as células sadias vizinhas dos tumores resistam  
 a doses mais altas de radiação. A hibernação pode também  
 16 ajudar a evitar os danos causados por infartos e derrames  
 cerebrais e a acelerar a cicatrização das feridas em diabéticos,  
 reduzindo os riscos de amputação. Na exploração do espaço,  
 19 a animação suspensa facilitaria o envio de missões tripuladas  
 a planetas distantes como Júpiter e Saturno. Em viagens como  
 essas, com duração maior do que sete anos, os astronautas  
 22 passariam boa parte do tempo dormindo. Eles não  
 precisariam de comida nem de água e não se submeteriam  
 ao enorme *stress* psicológico causado pelo interminável  
 25 confinamento.

Colocar seres humanos para hibernar não é fantasia do  
 cinema. Há registros de dezenas de pessoas que, devido a  
 28 acidentes, foram congeladas até o ponto de não mais respirar  
 e sobreviveram. Entender a ligação entre esses casos e a  
 técnica de indução à animação suspensa é um dos desafios de  
 31 biólogos e cientistas contemporâneos.

Veja, 27/4/2005, p.106 (com adaptações).

Com relação às idéias do texto acima e às estruturas gramaticais nele utilizadas, julgue os itens a seguir.

- 1 O texto trata de uma pesquisa em que o desenvolvimento de uma única técnica inovadora pode servir a dois propósitos distintos: a saúde e as conquistas espaciais.
- 2 O título “**Células que dormem**” é retomado no texto pelas expressões “animação suspensa” (l.5), “hibernação” (l.6) e “ritmo mínimo” (l.9).
- 3 A oração “que a necessidade de oxigênio das células se reduz drasticamente” (l.7-8) expressa uma conseqüência em relação à oração anterior.

- 4 As expressões verbais “levando” (l.9), “fazendo” (l.14) e “reduzindo” (l.18) podem ser substituídas, respectivamente, pelas estruturas alternativas **o que leva, o que faz e o que reduz**, sem comprometer o sentido das orações em que ocorrem.
- 5 O uso da expressão “Em tese” (l.12-13) indica que a técnica de hibernação ainda se encontra em um nível teórico, sem ter sido testada de fato na cura de doenças crônicas como o câncer.
- 6 Na passagem “resistam a doses mais altas” (l.14-15), a ausência de crase no “a” se deve ao fato de o verbo **resistir** não exigir preposição.
- 7 A palavra “*stress*” (l.24) está destacada, pois trata-se de um estrangeirismo e sua grafia não está registrada de acordo com as normas ortográficas da língua portuguesa.
- 8 Processos de hibernação nunca foram registrados nos seres humanos além dos limites da ficção cinematográfica.

Suponha que um grupo de cientistas deseje enviar os resultados de uma pesquisa para apreciação das instituições patrocinadoras e, para tanto, redija o documento seguinte.

Washington, 23 de abril de 2005.

Do Coordenador do Projeto Hibernação  
 Ao Sr. Patrocinador

Senhor Patrocinador,

Encaminho a Vossa Senhoria os resultados parciais do Projeto Hibernação desenvolvido por este núcleo de pesquisa para sua devida apreciação.

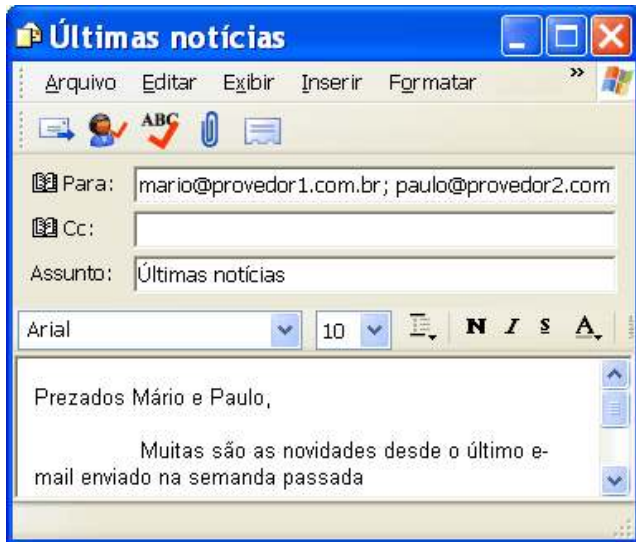
Aguardo manifestação por parte dessa instituição e coloco-me à disposição para os esclarecimentos que se fizerem necessários.

Cordialmente,



Fulano de Tal

Com relação à correspondência oficial acima, julgue os itens que se seguem.

- 9 O texto é um ofício, tipo de comunicação adequada ao encaminhamento de documentos entre instituições.
- 10 O uso da expressão “Cordialmente” está inadequado, pois o contexto exige um fechamento mais formal.

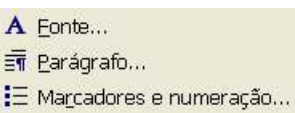


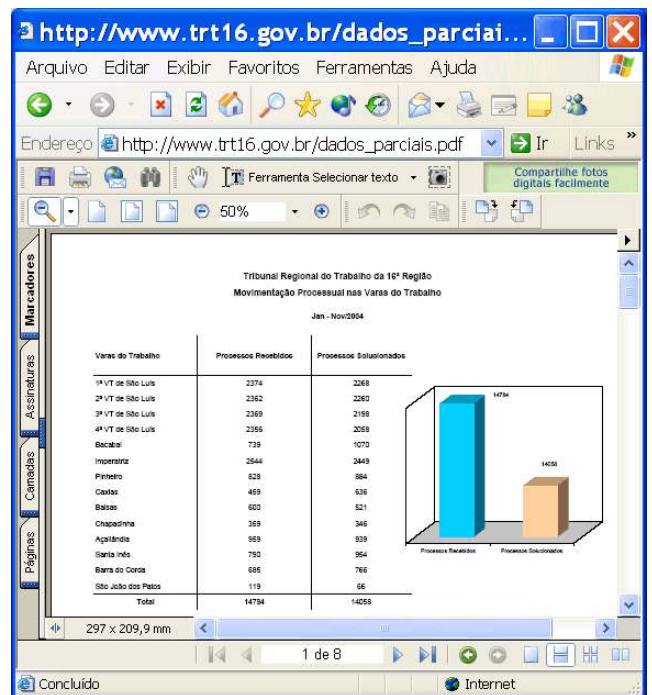
Com relação à janela do Outlook Express 6 (OE6) ilustrada acima, julgue os itens seguintes, considerando que a mensagem de correio eletrônico mostrada na janela esteja em processo de edição, em um computador PC, cujo sistema operacional é o Windows XP Professional.

- 11 Caso o botão  seja clicado, será iniciado processo de envio da mensagem de correio eletrônico que está sendo editada aos destinatários de endereços eletrônicos mario@provedor1.com.br e paulo@provedor2.com.
- 12 O erro de grafia presente em “semanda”, no texto da mensagem de correio eletrônico mostrado, pode ser encontrado com o auxílio do botão .




Julgue os itens a seguir, considerando a figura acima, que mostra parte de uma janela do Word 2000.

- 13 As opções encontradas no menu **Editar** incluem as mostradas a seguir.
- 
- 14 Caso se deseje abrir documento do Word armazenado em disquete ou no disco rígido do computador em uso, é possível fazê-lo por meio de opção encontrada no menu **Arquivo**.
- 15 Por meio de opção encontrada no menu **Ajuda**, é possível pesquisar na Internet páginas *web* relacionadas a determinada palavra selecionada no documento. Para isso, é necessário que o computador em uso tenha uma conexão do tipo ADSL.

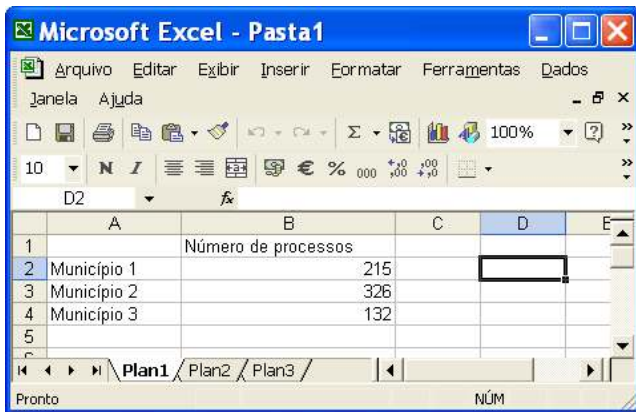


Considere que a janela do Internet Explorer 6 (IE6) ilustrada acima esteja em execução em um computador PC, cujo sistema operacional é o Windows XP Professional. Julgue o próximo item, considerando ainda a página *web* mostrada na janela do IE6.



- 16 Para visualizar o conteúdo da página *web* apresentada que não está sendo mostrado pelo fato de o tamanho da janela do IE6 não estar adequadamente ajustado, o IE6 disponibiliza ao usuário os recursos das barras de rolagem horizontal e vertical e o botão  **Ir**. Caso esse botão seja clicado, será possível ao usuário, ao mover o ponteiro do *mouse* sobre a área de páginas do IE6, posicionar a parte que se deseja visualizar da página *web* que está sendo visitada na região adequada da janela do IE6.

Com relação ao Windows XP Professional, julgue os itens subsequentes.

- 17 Caso haja uma janela do Word 2002, uma do Excel 2002 e uma do PowerPoint 2002 abertas, e a janela do Word esteja em primeiro plano, para se fazer que outra janela passe para o primeiro plano, é suficiente pressionar e manter pressionada a tecla **Ctrl** e, em seguida, pressionar a tecla **Alt**.
- 18 Como atualmente o Microsoft Office XP já é parte integrante do Windows XP Professional, esta versão do Windows não contém o acessório denominado Bloco de notas.



A figura acima mostra uma janela do Excel 2002 contendo uma planilha em processo de edição. Com relação a essa janela e ao Excel 2002, julgue os itens a seguir.

- 19 Para se mover os conteúdos das células A2, A3 e A4 para, respectivamente, as células D3, D4 e D5, é suficiente realizar a seguinte seqüência de ações: posicionar o ponteiro do *mouse* sobre o centro célula A2; pressionar e manter pressionado o botão esquerdo do *mouse*; posicionar o ponteiro do *mouse* no centro da célula A4; liberar o botão esquerdo do *mouse*; pressionar e manter pressionada a tecla **Ctrl**; teclar **X**; liberar a tecla **Ctrl**; clicar a célula D3; clicar .
- 20 Sabendo que as células A2 e B1 não estão formatadas como negrito, para se aplicar negrito aos conteúdos dessas células, é suficiente realizar a seguinte seqüência de ações: clicar a célula A2; clicar **N**; clicar ; clicar a célula B1.

Que o Brasil é um país desigual já se sabe. Mas o Instituto Brasileiro de Geografia e Estatística (IBGE) revelou uma nova faceta do problema: em 2002, nove cidades concentravam 25% do Produto Interno Bruto (PIB) brasileiro. Dos 5.600 municípios, 70 respondiam por metade de todos os bens e serviços produzidos no país. Nessas cidades, morava um terço da população brasileira. Em situação inversa, 1.272 cidades contribuía com só 1% do PIB, segundo a inédita publicação **Produto Interno Bruto dos Municípios (1999-2002)**.

As nove cidades com os maiores índices de PIB têm, juntas, apenas 14,7% dos habitantes do país. Segundo especialistas, essa concentração de poder econômico é reflexo direto do nível de industrialização. Os dados mostram que houve pequena desconcentração do PIB municipal. Em 1999, as sete cidades que respondiam por 25% da produção nacional eram capitais. Em 2002, Porto Alegre perdeu posição e cidades como Duque de Caxias – RJ, São José dos Campos – SP e Guarulhos – SP ingressaram no grupo de municípios com maior PIB. Há quem afirme ter ocorrido a “chamada desconcentração concentrada”. Ou seja: as atividades econômicas saem das maiores cidades e migram para locais do interior próximos e com boa rede de infra-estrutura e serviços.

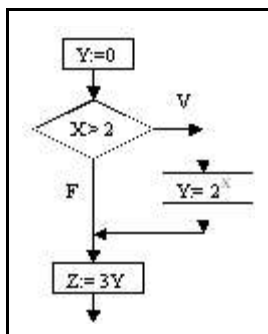
Folha de S. Paulo, 4/5/2005, p. B1 (com adaptações).

Tendo o texto acima como referência inicial e considerando a abrangência do tema que ele focaliza, julgue os itens de 21 a 30.

- 21 De acordo com os dados apresentados no texto, cerca de 1,3% dos municípios brasileiros é responsável por metade dos bens e serviços produzidos pelo país.
- 22 Infere-se do texto que as cidades que apresentam os maiores índices de PIB são as mesmas que, sozinhas, concentram a maior parte da população brasileira.
- 23 A industrialização, tal como mencionado no texto, amplia consideravelmente o potencial econômico dos municípios, entre outras razões, por se tratar de uma atividade que, além de seu próprio peso, agrega inúmeros outros serviços em torno de si.
- 24 Consultorias, instituições financeiras, empresas de segurança e fornecedores de maneira geral são exemplos expressivos e conhecidos de atividades econômicas que costumam fixar-se em áreas onde as fábricas se instalam.
- 25 A partir das informações contidas no texto, é correto afirmar que Manaus, localizada praticamente no coração da floresta amazônica, certamente tem um PIB bastante inferior aos dos centros urbanos industrializados do Centro-Sul do país.
- 26 A ‘desconcentração concentrada’ a que se refere o texto demonstra que a assimetria continua marcando a trajetória do Brasil. As cidades do interior que ingressaram no grupo das mais ricas, citadas no texto, estão localizadas no Sudeste do país, a reiterar as diferenças com outras regiões, como o Norte e o Nordeste.
- 27 Entre as conclusões possíveis que a leitura do texto propicia, uma salta aos olhos: em face da dimensão continental do país, quanto maior o número de municípios existentes no Brasil, maiores as possibilidades de se obter um desenvolvimento equânime, racional e nacionalmente bem distribuído.
- 28 Tendo um baixo índice de urbanização, com uma população majoritariamente rural, o Brasil ainda deverá levar anos para ter a solidez industrial que lhe permita situar-se entre as vinte economias mais poderosas do planeta.
- 29 De maneira geral, a frágil estrutura ferroviária e o sofrível estado de conservação das rodovias brasileiras são considerados entraves ao maior dinamismo da economia nacional, pois dificultam o transporte e majoram o preço final das mercadorias.
- 30 Integralmente construída e em plena operação, a Ferrovia Norte-Sul já desempenha o papel que dela se esperava: aproximar áreas produtoras e consumidoras do país e permitir o escoamento da produção brasileira, sobretudo a de grãos, pelos portos do Centro-Oeste, mais modernos e com menor custo operacional.

Considere a proposição: Se meu cliente fosse culpado, então a arma do crime estaria no carro. Simbolizando por P o trecho meu cliente fosse culpado e simbolizando por Q o trecho a arma estaria no carro, obtém-se uma proposição implicativa, ou simplesmente uma implicação, que é lida: Se P então Q, e simbolizada por  $P \rightarrow Q$ . Uma tautologia é uma proposição que é sempre V (verdadeira). Uma proposição que tenha a forma  $P \rightarrow Q$  é V sempre que P for F (falsa) e sempre que P e Q forem V. Com base nessas informações e na simbolização sugerida, julgue os itens subseqüentes.

- 31 A proposição “Se meu cliente fosse culpado, então a arma do crime estaria no carro. Portanto, se a arma do crime não estava no carro, então meu cliente não é culpado.” é uma tautologia.
- 32 A proposição “Se meu cliente fosse culpado, então a arma do crime estaria no carro. Portanto, ou meu cliente não é culpado ou a arma do crime estaria no carro.” não é uma tautologia.



O diagrama apresentado acima é percorrido de cima para baixo, seguindo-se as setas. As instruções escritas nos retângulos são atribuições, ou seja, o valor calculado na expressão à direita é atribuído à variável da esquerda do símbolo  $:=$ . A instrução escrita no losango é uma condição para se prosseguir na direção da seta V (verdadeiro) ou da seta F (falso). Com base nessas informações, julgue os itens a seguir.

- 33 Se  $X = 1$ , então o valor de Z será igual a 3.
- 34 Se  $X = \sqrt{5}$ , então  $Z = 6\sqrt{5}$ .

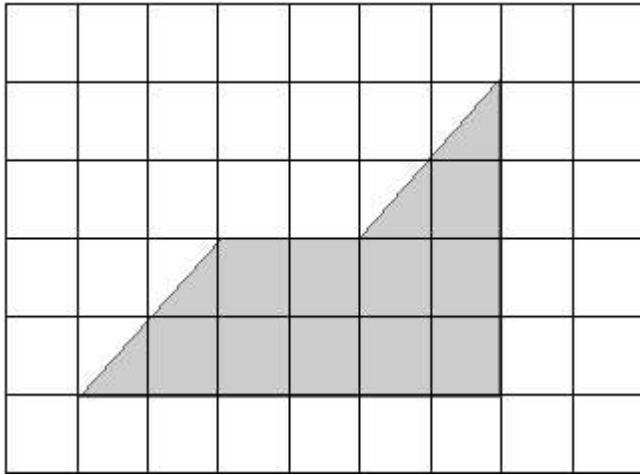
Julgue os itens que se seguem.

- 35 O número de cadeias binárias (que só contêm 0 e 1) de 8 dígitos, e que tenham exatamente 3 zeros, é superior a 50.
- 36 Considere que o gerente de um laboratório de computação vai cadastrar os usuários com senhas de 6 caracteres formadas pelas letras U, V e W e os números 5, 6 e 7. É permitida uma única duplicidade de caractere, se o usuário desejar, caso contrário, todos os caracteres têm de ser distintos. Nessa situação, o número máximo de senhas que o gerente consegue cadastrar é 2.880.

Uma moeda é jogada para o alto 10 vezes. Em cada jogada, pode ocorrer 1 (cara) ou 0 (coroa) e as ocorrências são registradas em uma seqüência de dez dígitos, como, por exemplo, 0110011010. Considerando essas informações, julgue os próximos itens.

- 37 O número de seqüências nas quais é obtida pelo menos uma cara é inferior a 512.
- 38 A probabilidade de serem obtidas seqüências nas quais ocorra coroa nas primeiras 3 jogadas é inferior a  $\frac{1}{4}$ .

RASCUNHO



Considere que a malha quadriculada acima é formada de células quadradas de lados medindo 0,5 cm. O desenho hachurado corresponde ao projeto de uma bancada de alvenaria, na proporção de 1 cm para 80 cm no modelo original. Com base nessas informações, julgue os itens seguintes.

- 39 O perímetro da bancada é superior a 7 m.  
 40 A área da superfície da bancada é superior a 2 m<sup>2</sup>.

Uma vez que o comportamento real dos seres humanos é afetado por considerações éticas, e influenciar a conduta humana é um aspecto central da ética, deve-se admitir que as concepções de bem-estar têm algum impacto sobre o comportamento real e, em consequência, devem ser importantes para a ética da logística moderna.

Amartya Sen. *Sobre ética e economia*. São Paulo: Schwarcz Ltda., 2002 (com adaptações).

Tendo o texto acima por referência inicial e considerando a ética no serviço público, julgue os itens que se seguem.

- 41 O exercício de cargo público deve ser pautado na verdade dos fatos. O servidor público não deve omitir a verdade, a menos que ela seja contrária a interesses da administração pública.  
 42 O trabalho executado por servidor público junto à comunidade é entendido como parte integrante de seu próprio bem-estar, visto que, como cidadão, o servidor que apresenta conduta ética terá o êxito do seu trabalho convertido em bem-estar da sociedade da qual faz parte.  
 43 A função pública é considerada exercício profissional. Portanto, a vida particular do servidor público e os atos observados em sua conduta do dia-a-dia não devem ser objetos de avaliação do conceito de sua vida funcional.

Em cada um dos itens que se seguem, é apresentada uma situação hipotética acerca do trabalho em equipe e do comportamento profissional, seguida de uma assertiva a ser julgada.

- 44 Ênio, gestor de qualidade de uma organização pública, tem empatia com seus colaboradores no trabalho. Nessa situação, Ênio é capaz de escutar ativamente, reconhecer as opiniões e influenciar o comportamento de seus colaboradores.  
 45 Bruno, administrador público, interage com os demais colaboradores de seu setor basicamente para compartilhar informações e tomar decisões que ajudem cada pessoa no seu desempenho funcional, no campo definido como de responsabilidade individual. Nessa situação, essa coletividade funcional com a qual Bruno interage é denominada equipe de trabalho.

- 46 Cleide, servidora pública, é lotada há 3 anos no mesmo setor e tem atitude favorável em relação ao seu trabalho. Nessa situação, é correto afirmar que a atitude de Cleide é resultado do julgamento positivo de seu trabalho com relação aos componentes cognitivo, afetivo e comportamental.  
 47 Vítor, diretor administrativo de uma empresa pública, tem 3 gerências sob seu comando direto. Vítor adota uma conduta de congruência entre seus objetivos e os dos gerentes, exercendo uma influência descendente sobre eles. Vítor incentiva seus gerentes a ter relação de independência em relação às decisões setoriais. Nessa situação, a conduta de Vítor, perante os gerentes, caracteriza uma relação de poder.  
 48 Alexandre, gerente de atendimento de um órgão do Poder Judiciário, pauta sua gestão nos princípios de confiabilidade e fidedignidade da informação, atenção e cortesia nas relações interpessoais, discrição e objetividade no tratamento das necessidades dos clientes e rapidez no atendimento. Nessa situação, é correto afirmar que os princípios que norteiam a conduta de Alexandre, como gestor, conferem eficiência e eficácia no atendimento ao público.  
 49 Pedro, analista judiciário de um tribunal do trabalho, está em exercício há 5 anos. Recentemente, Pedro foi convidado a assumir a gerência de seu setor devido a sua competência técnica e interpessoal. Em situações de conflito, Pedro busca identificar o problema e resolvê-lo por meio de discussão aberta, evitando o enfrentamento dos envolvidos, minimizando as diferenças entre as partes conflitantes, enfatizando os interesses comuns e propondo, quando necessário, a participação em treinamento de relações humanas. Nessa situação, é correto afirmar que Pedro é habilidoso na administração de conflitos interpessoais.  
 50 Ricardo, servidor público, tem entre suas atribuições a responsabilidade de fazer contatos internos e externos, ascendentes e descendentes. Nas comunicações ascendentes, Ricardo utiliza a filtragem de informações. Nessa situação, é correto afirmar que, fazendo uso dessa barreira à comunicação, Ricardo está praticando um recurso de redução de tensão ou de ansiedade para o receptor.

RASCUNHO

## CONHECIMENTOS ESPECÍFICOS

A respeito dos componentes de *hardware* e *software* de um sistema de informática utilizado em bibliotecas, julgue os itens a seguir.

- 51 Teclado, monitor e *mouse* são dispositivos usados para entrada de dados em um computador.
- 52 Os dispositivos de entrada convertem dados para uma forma legível por computador.
- 53 A unidade de controle existente em um computador decodifica mas não executa as instruções do programa.
- 54 Memória principal e unidade lógica e aritmética não são componentes da unidade central de processamento de um computador.

De acordo com as normas ABNT, julgue os itens seguintes.

- 55 Na forma de apresentação de referências, os elementos devem obedecer a uma seqüência padronizada e o espaçamento deve ser de espaço duplo, enquanto que, entre referências, o espaço deve ser simples.
- 56 Na entrada de entidade com denominação genérica, indique-se o nome da entidade precedido pelo nome do órgão superior, ou pelo nome da jurisdição à qual pertence.
- 57 Os títulos dos periódicos Boletim do STJ e Publicação de Administração Pública são corretamente abreviados, respectivamente, como Bol. STJ e Pub. Adm. Públ.
- 58 Segundo a ABNT, os elementos que compõem o sumário são título, indicativo da seção, título das seções e paginação.
- 59 Dedicatória, agradecimentos, epígrafe e resumo devem ser incluídos no sumário.
- 60 Nos guias de bibliotecas, centros de informação e documentação, devem constar informações como horário de atendimento, público a que serve e o tipo de biblioteca ou centro, entre outras.

No que se refere à indexação, julgue os próximos itens.

- 61 O conteúdo semântico de um conceito pode ser reexpresso pela combinação de outros conceitos.
- 62 O tema representado em um documento por um conceito ou combinação de conceitos é a definição de assunto.
- 63 O principal critério utilizado pelo indexador na seleção de conceitos deve ser sempre o valor de um conceito para a expressão e recuperação do assunto do documento.
- 64 Relações hierárquicas genéricas, específicas ou partitivas formam a estrutura básica de uma linguagem documentária.
- 65 Denomina-se indexação à operação de tradução de textos em linguagem controlada para uma linguagem documentária.
- 66 Ao contrário dos sistemas de classificação, as linguagens de indexação podem ser de dois tipos: pré e pós-coordenadas.
- 67 A síntese e a representação documentária têm no tesauro uma de suas formas de apresentação.
- 68 *Add notes*, os operadores booleanos e os símbolos +, / e : são exemplos de sintaxe das linguagens documentárias, respectivamente, na CDD, nos tesouros e na Classificação Decimal Universal (CDU).
- 69 Conforme a ABNT, índice é uma lista de entradas ordenadas segundo determinado critério, que localiza e remete para as informações contidas em um texto.

Julgue os itens que se seguem, relativos a resumos e CDU.

- 70 O resumo é uma operação elaborada com a intermediação de uma linguagem documentária.
- 71 A complexidade do conteúdo temático e a diversidade do mesmo são alguns dos fatores que influem na extensão do resumo.
- 72 Resumo indicativo é a condensação do conteúdo de um trabalho, incluindo dados quantitativos e qualitativos.
- 73 A CDU é um sistema semi-enumerativo, pois apresenta possibilidade de relacionamento de assuntos e maior escala de síntese.
- 74 A CDU, sistema rigidamente facetado, é composta de tabelas de assuntos, de subdivisões comuns e de subdivisões especiais.
- 75 Sabendo que o número CDU para tese universitária (forma) é 043.2 e o número para direito constitucional é 342, então o número 342:043.2 indica corretamente tese universitária sobre direito constitucional.
- 76 Sabendo que 342.9 é o número CDU para direito administrativo, (469) significa Portugal e (73) é o número CDU para Estados Unidos, então, está correta a formação 342.9=(469):(73) para direito administrativo em Portugal e nos Estados Unidos.

Acerca de catalogação descritiva, julgue os itens subseqüentes, considerando suas entradas, cabeçalhos e pistas, de acordo com as normas e diretrizes do AACR-2.

- 77 A catalogação do livro O poder econômico de Renato B. Caldas, publicado em 1983, da editora Casagrande, com 193 páginas, com ilustrações e com 21 cm está corretamente descrita a seguir.  
CALDAS, RENATO B. O poder econômico / Renato B. Caldas. – Rio de Janeiro: Casagrande, 1983. 193 p.; ill; 21 cm.
- 78 O livro A questão trabalhista, das autoras Augusta Villaça e Antonieta Vieira, publicado em Fortaleza, pela editora da Universidade Federal do Ceará, em 1999, com 215 páginas e 22 cm é catalogado corretamente assim:  
Villaça, Augusta; Vieira, Antonieta. A questão trabalhista / Augusta Villaça e Antonieta Vieira. – Fortaleza : UFCE, 1999. 215 p.; 22 cm.
- 79 A fonte principal de informação para a descrição bibliográfica varia em relação ao material a ser descrito.
- 80 O nível dois de catalogação é o que oferece oportunidade de descrição mais detalhada dos documentos.
- 81 O AACR-2 não admite o formato denominado *brick format*, que não observa parágrafos.

Com relação a *marketing* e organização e administração de bibliotecas, julgue os itens a seguir.

- 82 A informação constitui-se em denominador comum às funções administrativas.
- 83 Considerando que a informação é a base de todo ato administrativo, é correto afirmar que, na função planejamento, a informação é fundamental ao processo decisório.
- 84 Administração é a realização de determinadas atividades com e por meio de pessoas, em grupos informais, visando a um objetivo comum.
- 85 O emprego de técnicas mercadológicas e de *marketing* direto não é usual nas unidades de informação no Brasil.
- 86 Folhetos, cartazes, marcadores de livros, guias de bibliotecas, entre outros materiais, são utilizados para divulgação de produtos e(ou) serviços de informação.

Julgue os itens seguintes, relativos a fontes de informação.

- 87 Por sua natureza, as fontes primárias são dispersas e desorganizadas do ponto de vista da sua produção, divulgação e controle.
- 88 Enciclopédias, dicionários, tabelas, livros-textos e anuários são fontes de informação terciárias.
- 89 O LIS, banco de dados da legislação federal, criado e mantido pelo Supremo Tribunal Federal, oferece ao usuário texto integral de normas jurídicas.
- 90 A Revista Direito Federal é uma publicação da Ordem dos Advogados do Brasil.
- 91 A base de dados NJUR contém, entre outros, atos normativos de hierarquia superior e é alimentada pelo Senado Federal.

Acerca do Diário Oficial da União (DOU) e do Diário da Justiça, julgue os seguintes itens.

- 92 A seção 1 do DOU é destinada à publicação de atos de interesse dos servidores da administração pública federal.
- 93 Decretos, resoluções, leis e portarias são publicados na seção 2 do DOU.
- 94 Os atos do Tribunal Regional Eleitoral são publicados na seção 2 do Diário da Justiça.
- 95 O boletim da justiça federal não é publicado no Diário da Justiça.
- 96 A seção 1 do Diário da Justiça publica, entre outros, os atos dos tribunais superiores do Poder Judiciário.

Julgue os itens subseqüentes, acerca de referência.

- 97 A técnica conhecida como incidente crítico consiste em solicitar ao usuário entrevistado que descreva a última vez em que necessitou de uma informação ou que relate com detalhes a última vez em que usou um serviço específico da biblioteca.
- 98 Fator impacto é o número de vezes em que um documento é citado em determinado período de tempo.
- 99 Ao serviço de referência compete: realizar atividades direcionadas à prestação de serviços ao usuário da biblioteca; promover o uso de recursos disponíveis; realizar e orientar atividades de pesquisa e normalização de trabalhos científicos.
- 100 A finalidade essencial da instrução bibliográfica é o conhecimento do sistema de organização da biblioteca e a possibilidade de utilizar seus recursos.
- 101 A difusão da informação é o objetivo final do tratamento dos documentos e das informações.

Em relação a automação, formatos, bancos e bases de dados, julgue os próximos itens.

- 102 O formato LC MARC é uma evolução do formato original USMARC.
- 103 No formato MARC, os indicadores são números de dois dígitos.
- 104 A *Library of Congress* dos Estados Unidos da América (EUA) criou um grupo de trabalho objetivando reunir os principais formatos em um único formato, o *common communication format*.
- 105 A seção 1 do formato MARC não contém informações descritivas dos dados bibliográficos, pois registros não são um tipo de metadados.
- 106 Bases de dados fontes são documentos eletrônicos, cujo conteúdo inclui tabelas e gráficos e podem ser armazenadas em meio óptico.

Quanto a catálogos, bancos e bases de dados e bibliografia, julgue os itens que se seguem.

- 107 O catálogo coletivo identifica e localiza documentos de diversos tipos em mais de um acervo. Assim como as bases e bancos de dados, os catálogos de bibliotecas são fontes secundárias de informação.
- 108 Dialog, Questel, FirstSearch e STN são bases de dados referenciais. A rede BIBLIODATA, coordenada pela Fundação Getúlio Vargas, desenvolve e mantém uma metodologia para classificação seletiva.
- 109 Bibliografia nacional é a lista das publicações textuais e não-textuais produzidas em um país.
- 110 Bibliografias de artigos de periódicos, de modo geral, são especializadas.

Vários servidores públicos da Fundação Nacional de Saúde (FUNASA) foram candidatos a cargos eletivos nas últimas eleições. Alguns deles foram eleitos e outros, não, sendo que um deles, além de perder a eleição, perdeu um irmão em acidente automobilístico dias após as eleições.

Considerando a situação hipotética acima e o fato de que os servidores da FUNASA são regidos pela Lei n.º 8.112/1990, julgue os seguintes itens, relativos aos afastamentos dos servidores.

- 111 Se um dos servidores tiver sido eleito para o cargo de deputado federal, ele terá de ficar afastado do cargo efetivo durante a vigência de seu mandato eletivo.
- 112 Se for investido em mandato de prefeito, o servidor da FUNASA será afastado do cargo efetivo e receberá a remuneração do cargo eletivo.
- 113 O servidor que perdeu o irmão poderá, sem qualquer prejuízo, ausentar-se do serviço por cinco dias consecutivos em razão de falecimento.

Acerca dos tribunais e juízes do trabalho de acordo com o que é previsto na Constituição Federal, julgue os itens subseqüentes.

- 114 Compete à justiça do trabalho conciliar e julgar dissídios individuais e coletivos entre trabalhadores e empregadores, abrangidos os entes de direito público externo e da administração pública direta e indireta dos municípios, do Distrito Federal, dos estados e da União.
- 115 O Tribunal Superior do Trabalho é composto de 17 ministros, togados e vitalícios, escolhidos entre brasileiros com mais de 35 anos de idade e menos de 65 anos de idade.
- 116 Os tribunais regionais do trabalho são compostos de juízes nomeados pelo presidente da República, escolhidos entre juízes do trabalho, advogados e membros do Ministério Público do Trabalho e representantes das classes dos empregados e dos empregadores (classistas).

Acerca da Lei n.º 8.112/1990, que dispõe sobre o regime jurídico dos servidores públicos civis da União, das autarquias e das fundações públicas federais, julgue os itens a seguir.

- 117 A reversão é o retorno de servidor aposentado à atividade.
- 118 Recondução é o retorno do servidor estável ao cargo anteriormente ocupado.
- 119 O servidor que for nomeado, tomar posse e entrar em exercício em 1.º de julho de 2005 terá direito, ao final deste ano, a seis doze avos da remuneração a que fizer jus no mês de dezembro, a título de gratificação natalina.
- 120 As férias do servidor somente poderão ser interrompidas por motivo de calamidade pública, comoção interna, serviço militar ou eleitoral, por necessidade do serviço declarada pela autoridade máxima do órgão ou entidade, porém, não poderão ser interrompidas por motivo de convocação para fazer parte de júri.