



# ESTADO DE RORAIMA MUNICÍPIO DE BOA VISTA

## Concurso Público

Nível Médio

**CARGO 42**

## Técnico Municipal

Especialidade:

## Agente de Trânsito

Aplicação: 16/5/2004

# MANHÃ

**CESPE**  
UNIVERSIDADE DE BRASÍLIA  
Oficina Operacional para Realizar Serviços

### **LEIA COM ATENÇÃO AS INSTRUÇÕES ABAIXO.**

- 1 Ao receber este caderno, confira se ele contém **cem** itens, correspondentes às provas objetivas, corretamente ordenados de 1 a 100.
- 2 Caso o caderno esteja incompleto ou tenha qualquer defeito, solicite ao fiscal de sala mais próximo que tome as providências cabíveis.
- 3 Recomenda-se não marcar ao acaso: a cada item cuja resposta diverja do gabarito oficial definitivo, além de não marcar ponto, o candidato receberá pontuação negativa, conforme consta no Edital n.º 1/2004, de 12/3/2004.
- 4 Não utilize nenhum material de consulta que não seja fornecido pelo CESPE.
- 5 Durante as provas, não se comunique com outros candidatos nem se levante sem autorização do chefe de sala.
- 6 A duração das provas é de **três horas**, já incluído o tempo destinado à identificação — que será feita no decorrer das provas — e ao preenchimento da folha de respostas.
- 7 Ao terminar as provas, chame o fiscal de sala mais próximo, devolva-lhe a sua folha de respostas e deixe o local de provas.
- 8 A desobediência a qualquer uma das determinações constantes no presente caderno, na folha de rascunho ou na folha de respostas poderá implicar a anulação das suas provas.

#### AGENDA

- I **17/5/2004** — Divulgação, a partir das 10 h (horário de Brasília), dos gabaritos oficiais preliminares das provas objetivas, na Internet — no site <http://www.cespe.unb.br> —, e nos quadros de avisos do CESPE/UnB, em Brasília.
- II **18 e 19/5/2004** — Recebimento de recursos contra os gabaritos oficiais preliminares das provas objetivas, exclusivamente nos locais e no horário que serão informados na divulgação desses gabaritos.
- III **8/6/2004** — Data provável da divulgação (após a apreciação de eventuais recursos), no Diário do Município de Boa Vista e nos locais mencionados no item I, do resultado final das provas objetivas e da convocação para a avaliação de títulos.

#### OBSERVAÇÕES

- Não serão objeto de conhecimento recursos em desacordo com o estabelecido no item 13 do Edital n.º 1/2004, de 12/3/2004.
- Informações relativas ao concurso poderão ser obtidas pelo telefone 0(XX) 61 448 0100 ou pela Internet, no site <http://www.cespe.unb.br>.
- É permitida a reprodução deste material apenas para fins didáticos, desde que citada a fonte.

• De acordo com o comando a que cada um dos itens de 1 a 100 se refira, marque, na **folha de respostas**, para cada item: o campo designado com o código **C**, caso julgue o item **CERTO**; ou o campo designado com o código **E**, caso julgue o item **ERRADO**. A ausência de marcação ou a marcação de ambos os campos não serão apenadas, ou seja, não receberão pontuação negativa. Para as devidas marcações, use a folha de rascunho e, posteriormente, a **folha de respostas**, que é o único documento válido para a correção das suas provas.

• Nos itens que avaliam **Conhecimentos de Informática**, a menos que seja explicitamente informado o contrário, considere que todos os programas mencionados estão em configuração-padrão, em português, que o *mouse* está configurado para pessoas destreas e que expressões como clicar, clique simples e clique duplo referem-se a cliques com o botão esquerdo do *mouse*. Considere também que não há restrições de proteção, de funcionamento e de uso em relação aos programas, arquivos, diretórios e equipamentos mencionados.

## CONHECIMENTOS BÁSICOS

### Texto I – itens de 1 a 11

#### Ética para meu filho

1 Lendo o livro **Ética para meu Filho**, de Fernando Savater,  
resolvi fazer algumas considerações que achei importantes para a  
nossa reflexão. Analisando os ensinamentos do autor, vi o quanto é  
4 difícil entender o ser humano. Não existe receita para se educar um  
filho nem um conceito lógico do que seja bom ou mau. O que é bom  
para uns pode não ser bom para outros, e assim sucessivamente. Mas  
7 o que percebi, com clareza, é que somos humanos e devemos agir  
como tal, e tudo o que fizermos de bom ou de mau vai repercutir em  
nós mesmos.

10 Existem coisas que são fundamentais para nossa vida e que  
devemos saber. Se a nossa vida fosse algo determinado e fatal, não  
haveria o menor sentido. O que nos faz diferentes dos outros animais  
13 é a liberdade que nos é concedida para agir. É certo que não  
podemos fazer qualquer coisa que desejamos, mas também é certo  
que não somos obrigados a querer fazer uma única coisa. Ao  
16 contrário de outros seres, animados ou inanimados, nós podemos  
inventar e escolher, em parte, a nossa forma de vida. Desse modo,  
parece prudente nós atentarmos bem para o que fazemos, procurando  
19 adquirir um certo saber-viver, ou arte de viver. A isso Fernando  
Savater chama ética.

Para esse autor, moral e ética são equivalentes, do ponto de  
22 vista técnico, mas não têm significado idêntico. Para ele, moral é o  
conjunto de comportamentos e normas que algumas das pessoas que  
nos cercam costumam aceitar como válidos; ética é a reflexão sobre  
25 o porquê de os considerarmos válidos e a comparação com outras  
“morais” de pessoas diferentes. Às vezes os homens querem  
coisas contraditórias que entram em conflito umas com as outras.  
28 É importante ser capaz de estabelecer prioridades e de impor uma  
certa hierarquia entre aquilo de que se tem vontade imediatamente e  
o que se quer, em longo prazo.

31 A ética não é mais do que a tentativa racional de averiguar  
como viver melhor. Se vale a pena interessar-se pela ética é porque  
as pessoas gostam da vida boa. A vida boa humana é vida boa entre  
34 seres humanos. Para que os outros possam fazer-se humanos, têm de  
agir conscientemente e com responsabilidade. Ninguém recebe de  
presente a boa vida humana e ninguém consegue o que lhe convém  
37 sem coragem e esforço.

Dois dos princípios fundamentais da ética são “Não faças ao  
outro o que não queres que te façam” e “Tudo o que fazes aos outros  
40 fazes também a ti mesmo”. Portanto, a ética consiste em tentar  
colocar-se no lugar do outro, entendê-lo por dentro, adotar o seu  
próprio ponto de vista. Onde há troca, também há reconhecimento de  
43 que, de certo modo, pertencemos a quem está diante de nós e quem  
está diante de nós nos pertence. Devemos ser justos com os nossos  
semelhantes, porque grande parte da difícil arte de colocar-se no  
46 lugar do próximo tem a ver com a justiça.

Por isso, a ética é a arte de escolher o que mais nos convém  
e viver o melhor possível. Ninguém vive isolado, o importante é  
49 querer bem; a ética serve essencialmente para tentarmos melhorar a  
nós mesmos; não para reprendermos os nossos vizinhos.

Internet: <<http://www.ecc.conselhonacional.com.br>>. Acesso em abril/2004 (com adaptações).

A comunicação humana pode ser entendida como o processo de transferência e compreensão de mensagens. Relacionando essa afirmativa ao texto I, julgue os itens que se seguem.

- 1 Há, no texto, mais de um emissor de mensagens: o autor do livro **Ética para meu Filho** e quem redigiu as impressões acerca da leitura feita.
- 2 Depreende-se que a mensagem principal do livro de Fernando Savater, mencionado no texto, é o comportamento humano em um mundo conturbado por problemas antiéticos.
- 3 Por ética, segundo os parágrafos terceiro e quarto do texto, deve ser entendida a capacidade que as pessoas têm de poderem inventar e escolher a forma pessoal de vida.
- 4 As informações contidas no texto permitem concluir que as passagens ‘Não faças ao outro o que não queres que te façam’ (l.38-39) e ‘Tudo o que fazes aos outros fazes também a ti mesmo’ (l.39-40) estão entre aspas porque são títulos de capítulos do livro comentado.
- 5 Esse texto da Internet está redigido de forma expositiva, com algumas passagens argumentativas.

A partir das idéias e das estruturas do texto I, julgue os itens a seguir.

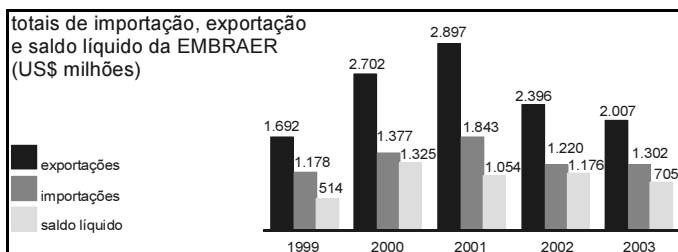
- 6 Mantém o sentido da passagem “o que fizermos de bom ou de mau vai repercutir em nós mesmos” (l.8-9) a seguinte reescritura: o que fizermos de bem ou de mal vai percutir em nós próprios.
- 7 Em “Se a nossa vida fosse algo determinado e fatal, não haveria o menor sentido” (l.11-12), há duas orações subordinadas, unidas pela relação de condição.
- 8 Em “É certo que não podemos fazer qualquer coisa que desejamos, mas também é certo que não somos obrigados a querer fazer uma única coisa” (l.13-15), as duas ocorrências do “que” classificam-se como conjunção integrante e apenas uma como pronome relativo.

- 9 Na passagem “Para esse autor, moral e ética são equivalentes, do ponto de vista técnico, mas não têm significado idêntico” (ℓ.21-22), os dois substantivos abstratos sublinhados exercem a função sintática de sujeito nas duas orações coordenadas.
- 10 A passagem “ética é a reflexão sobre o porquê de os considerarmos válidos” (ℓ.24-25) está correta na seguinte reescrita: ética é a reflexão a respeito do motivo de os considerarmos válidos.
- 11 A substituição por pronome oblíquo átono da parte sublinhada em “os homens querem coisas contraditórias” (ℓ.26-27) está correta em os homens querem-nas.

Julgue os itens seguintes quanto à correção gramatical.

- 12 A fim de que os outros possam se fazer humanos, têm de agir com consciência e com responsabilidade.
- 13 A ética não é mais, efetivamente, do que a tentativa feita pelo ser racional, de averiguar-se em função de como viver melhor.
- 14 Sabe-se: a gente deve ser justos com os semelhantes; isso por que parte da arte de conviver no lugar do próximo, tem haver com o senso de justiça.
- 15 Em que pesem algumas pessoas considerarem que a ética serve só e essencialmente para repreenderem os outros; em verdade, serve para tentarmos melhorar a nós mesmos.

A EMBRAER é uma empresa global. Suas exportações nos últimos nove anos significaram cerca de US\$ 5,3 bilhões de saldo líquido acumulado para a balança comercial brasileira, efetivamente transferindo riqueza de fora para dentro do Brasil.



Istoé. n.º 1.799, 31/3/2004 (com adaptações).

A partir das informações acima, relativas à EMBRAER, julgue os itens que se seguem.

- 16 Em 2000, o saldo líquido verificado pela EMBRAER foi superior ao dobro do saldo líquido em 2003.
- 17 A razão entre os valores totais das exportações da EMBRAER nos anos de 2002 e 2001 é maior do que a razão entre os valores totais das importações dessa empresa nesses mesmos anos.
- 18 De 1999 a 2002, os totais das exportações da EMBRAER cresceram a uma razão constante.
- 19 Em 2003, o valor total das exportações da EMBRAER superou o total das importações em mais de 50% deste.

Julgue os itens seguintes acerca de probabilidade e análise combinatória.

RASCUNHO

20 Considere a seguinte situação hipotética.

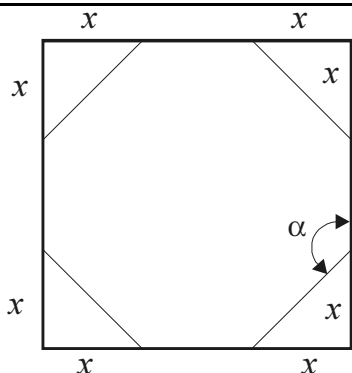
Em um concurso público, 25% dos candidatos tiraram nota baixa na prova de matemática, 15% tiraram nota baixa na prova de língua portuguesa e 10% tiraram nota baixa em ambas as provas.

Nessa situação, escolhendo-se ao acaso um candidato, a probabilidade de ele ter tirado nota baixa nas provas de matemática e de língua portuguesa é igual a  $\frac{1}{5}$ .

21 Considere a seguinte situação hipotética.

Para aliviar o estresse habitual nos concursos públicos, o órgão realizador resolveu escolher aleatoriamente um candidato e uma candidata e presentear-los com um brinde. Nesse concurso, 324 candidatos eram do sexo masculino enquanto 222 eram do sexo feminino.

Nessa situação, existem menos de 70.000 maneiras distintas de se escolher o casal de candidatos para ganhar os brindes.

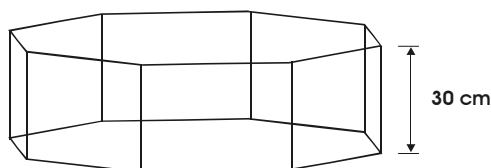


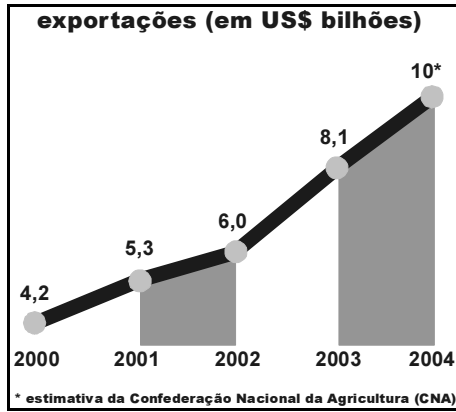
Um projetista de embalagens imaginou recortar os cantos de um quadrado de papelão, com 20 cm de lado, de modo a obter um octógono regular, conforme mostrado na figura acima. Considerando essas informações, julgue os itens a seguir.

22 O ângulo  $\alpha$  entre os lados do octógono regular resultante do recorte é menor do que  $125^\circ$ .

23 O valor de  $x$  em cada canto recortado é igual a  $10(2 - \sqrt{2})$  cm.

24 Se o projetista decidir usar octógonos regulares de lados de comprimentos iguais a  $4\sqrt{2}$  cm como base de embalagens em forma de um prisma de base octogonal com 30 cm de altura, conforme ilustrado na figura a seguir, então ele conseguirá confeccionar embalagens com capacidade superior a 5,5 L.





CONAB, CNA e Ministério do Desenvolvimento, Indústria e Comércio Exterior.

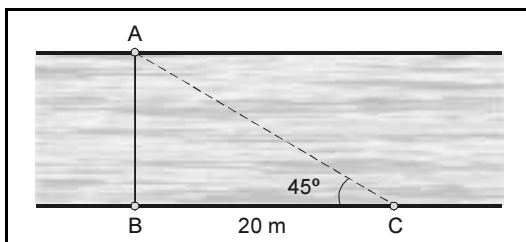
O gráfico acima mostra o valor, em bilhões de dólares, da exportação de soja do Brasil em 2000, 2001, 2002 e 2003, e o valor estimado para 2004. É possível modelar os dados desse gráfico por uma função do tipo  $g(t) = at + b$ , resolvendo-se o sistema  $\begin{cases} 14a + 6b = 42 \\ 6a + 4b = 24 \end{cases}$ . Nesse modelo,  $g(t)$  é uma aproximação do valor total das exportações de soja, em US\$ bilhões, e  $t$  é o número de anos transcorridos a partir de 2000.

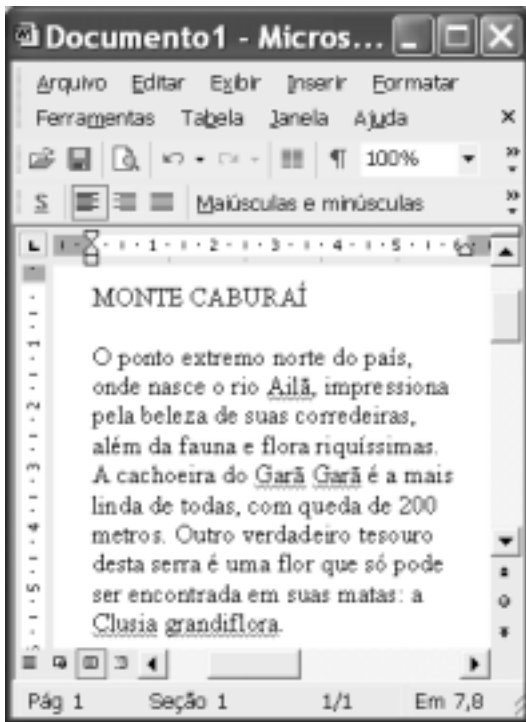
A partir dessas informações e considerando que o ano 2000 corresponde ao tempo inicial  $t = 0$ , o ano 2001 corresponde a  $t = 1$ , e assim sucessivamente, julgue os itens subseqüentes.

- 25 No modelo representado pela função  $g$ , o valor de  $b$  é uma aproximação do valor das exportações em 2001, ou seja, 5,3 bilhões de dólares.
- 26 O sistema acima corresponde à equação matricial  $MX = N$ , em que  $M = \begin{bmatrix} 14 & 6 \\ 6 & 4 \end{bmatrix}$ ,  $X = \begin{bmatrix} a \\ b \end{bmatrix}$  e  $N = \begin{bmatrix} 42 \\ 24 \end{bmatrix}$ .
- 27 As soluções do sistema acima são  $a = 1,2$  e  $b = 4,2$ .
- 28 De acordo com o modelo criado, o valor das exportações de soja em 2004 será igual à estimativa de 10 bilhões de dólares apresentada no gráfico.


Cada item abaixo apresenta uma situação hipotética, seguida de uma assertiva a ser julgada.

- 29 Um agricultor está vendendo sua produção de feijão a R\$ 2,00 o quilo. No entanto, para compras de 3 quilos ou mais, ele oferece um desconto de 10%. Nessa situação, a quantia  $q$ , em reais, recebida por esse agricultor pela venda de  $x$  quilos de feijão pode ser expressa pela função  $q(x) = 1,8x$ .
- 30 A figura abaixo representa o trecho de um rio. A distância do ponto C até o ponto B é igual a 20 m, o triângulo ABC é retângulo em B e o ângulo ACB é igual a  $45^\circ$ . Nessa situação, a largura entre os pontos A e B, que corresponde à largura do rio, é superior a 18 metros.






Considerando a figura ao lado, que ilustra uma janela do Word 2002 na qual encontra-se um documento em edição, julgue os itens a seguir, relativos ao Word 2002.

- 31 O menu **Arquivo** disponibiliza recurso por meio do qual é possível modificar configurações da página do documento em edição.
- 32 Por meio da janela *Fonte*, que pode ser executada a partir do menu **Formatar**, é possível modificar os formatos de espaçamento de caracteres e fonte de texto selecionado.
- 33 Para se alinhar às margens esquerda e direita o texto mostrado, é suficiente selecionar esse texto e clicar .
- 34 Caso se deseje conhecer o motivo pelo qual o Word 2002 sublinhou a palavra “grandiflora”, é suficiente clicar sobre essa palavra e, a seguir, clicar **Ajuda**.





Julgue os itens seguintes, relativos à Internet e ao Internet Explorer 6, tendo por referência a janela desse aplicativo ilustrada acima.

- 35 Os conteúdos de páginas previamente visitadas em uma sessão de uso do Internet Explorer 6 podem ser novamente acessados por meio do botão .
- 36 Para que se possa realizar com sucesso pesquisa de conteúdo na Internet por meio de um sítio de busca, é necessário que o computador a partir do qual essa pesquisa será realizada tenha instalado um *kit* multimídia e um dispositivo de acesso em banda larga, como um *modem* ADSL.







Com relação ao Outlook Express 6, julgue os itens subsequentes, tendo a janela desse aplicativo ilustrada acima como referência.

- 37 Ao se clicar o botão , será aberta uma janela que permite definir, com base no caderno de endereços do Outlook Express 6, outros contatos para os quais a mensagem mostrada poderá ser enviada.
- 38 Ao se enviar a mensagem de correio eletrônico mostrada acima, será também transmitido ao destinatário da mensagem, na forma de arquivo anexado, um arquivo de documento Word —  BV.doc.

	A	B	C	D	E
1		2/mar	4/mar	9/mar	11/mar
2	João da Silva	P	P	F	P
3	Mário Souza	P	P	P	P
4	Maria Lima	P	P	P	P
5					
6					

A figura acima mostra uma janela do Excel 2002 com uma planilha que está sendo elaborada por um professor, contendo dados relativos à frequência de alunos em um de seus cursos. Com relação a essa planilha e ao Excel 2002 e considerando a figura mostrada, julgue os itens que se seguem.

- 39 Para se aplicar negrito aos conteúdos das células A2, A3 e A4, é suficiente selecionar essas células e, em seguida, clicar .
- 40 Para se aumentar a largura da coluna B, é suficiente clicar o cabeçalho dessa coluna —  — e, em seguida, pressionar simultaneamente as teclas  e .

Coibir a grilagem, a violência, o desmatamento e a concentração de terra e renda, além de fazer investimentos em infra-estrutura, é, no entender da senadora Fátima Cleide (PT – RO), o caminho natural para que a Amazônia seja preservada e parta para um crescimento seguro, com justiça social.

O senador Augusto Botelho (PDT – RR) defendeu uma nova política indigenista, que, a seu ver, deverá passar, necessariamente, pelo crivo da vontade dos índios. Ele lembrou que a demarcação contínua da reserva Raposa/Serra do Sol não atende aos interesses dos indígenas que a habitam.

O senador João Capiberibe (PSB – AP) destacou a necessidade de ampliar o debate sobre a ausência do Estado como a causa primária dos conflitos que ocorrem tanto nas grandes cidades como no campo.

Segundo o senador Mozarildo Cavalcanti (PPS – RR), sob a bandeira da divisão dos índios em nações, e não em etnias, desmandos de toda ordem têm ocorrido, colocando em xeque o poder da União no controle da exploração das extensas áreas demarcadas para indígenas.

Jornal do Senado, 23/4/2004, p. 3 (com adaptações).

Tendo o texto acima como referência inicial e considerando os diversos aspectos que envolvem o tema nele tratado, julgue os itens seguintes.

- 41 Na atualidade, “crescimento seguro” — como aparece no texto — pode ser identificado como crescimento sustentado, ou seja, com base na tese de que o desenvolvimento não precisa destruir a natureza.
- 42 Quando se fala em preservação da Amazônia, o que se defende é o fim de qualquer atividade econômica na floresta.
- 43 De maneira geral, políticos e empresários roraimenses — de Boa Vista e do interior do estado — defendem uma área contínua para a reserva Raposa/Serra do Sol.
- 44 O texto informa que há quem considere que uma das causas para os atuais conflitos sociais no Brasil seja a fraca atuação governamental no atendimento às demandas feitas pelas populações urbanas e rurais.
- 45 A expressão grilagem de terra significa tomar posse de uma terra sem dono, com documentação fornecida pela justiça.
- 46 O quadro atual de violência não é exclusividade de determinada região ou apenas das grandes cidades brasileiras, como o Rio de Janeiro e São Paulo, estando presente em várias partes do país.
- 47 Atualmente, cresce a consciência de que o desmatamento descontrolado e irresponsável atinge mortalmente a natureza e contribui para piorar as condições de vida das populações.
- 48 Concentração de terra e de renda em mãos de poucos contribui para reduzir a desigualdade social na medida em que amplia a oferta de emprego.
- 49 Hoje, todos concordam que os índios formam nações diferentes e, como tal, devem ser respeitados.
- 50 Oficialmente, a política indigenista brasileira está a cargo da Fundação Nacional do Índio (FUNAI).

## CONHECIMENTOS ESPECÍFICOS

Considerando que Gabriel esteja conduzindo sua caminhonete por uma via rural não-pavimentada, a 80 km/h, julgue os itens a seguir.

- 51** Gabriel está conduzindo seu automóvel por uma estrada e não por uma rodovia.
- 52** Gabriel está cometendo infração de trânsito por dirigir acima da velocidade máxima permitida.
- 53** É obrigatório o uso de cinto de segurança tanto para Gabriel quanto para os passageiros que estejam com ele na caminhonete.
- 54** Se Gabriel for habilitado apenas na categoria B, ele estará dirigindo em condição irregular, pois ele precisaria estar habilitado na categoria C para conduzir caminhonetes.

Quando ao direito de trânsito, julgue os itens subseqüentes.

- 55** As infrações de trânsito são crimes de trânsito punidos apenas com multa.
- 56** Para recorrer de uma multa de trânsito, um motorista precisa pagar previamente a multa que lhe foi imposta.

Em relação à legislação de trânsito, cada um dos itens a seguir apresenta uma situação hipotética, seguida de uma assertiva a ser julgada.

- 57** Em 2003, Érica emprestou seu carro a João que, por ter estacionado o veículo em local proibido, causou a aplicação de uma multa. Indignada, Érica disse a João que ele deveria pagar a multa, por ter sido ele quem cometeu a infração. João, porém, disse que não assumiria a culpa. Com isso, até hoje, a multa não foi paga. Nessa situação, o veículo de Érica somente poderá ser licenciado após o pagamento da multa pendente.
- 58** Hugo residia no município de Trindade – RR, onde comprou um automóvel. Há dois meses, Hugo mudou-se definitivamente para Boa Vista – RR, trazendo consigo seu automóvel. Nessa situação, Hugo não precisa promover qualquer modificação no registro do veículo porque tanto Trindade quanto Boa Vista são municípios do estado de Roraima.
- 59** Daniela não tem Carteira Nacional de Habilitação (CNH), mas tem Permissão para Dirigir. Nessa situação, Daniela somente pode conduzir veículos quando acompanhada por uma pessoa devidamente habilitada.

**60** Flávia é uma motorista que está se aproximando de uma faixa de pedestres em que não há sinalização semafórica. Quando o veículo dirigido por Flávia está a vinte metros da faixa, um pedestre começa a atravessar a via sobre a referida faixa. Nessa situação, Flávia deve parar o seu carro, dando preferência ao pedestre.

**61** Tiago aproximou-se de um semáforo e notou que, apesar de o sinal estar vermelho, havia ao lado da via um agente de trânsito que ordenava aos motoristas que seguissem adiante. Nessa situação, Tiago não deve obedecer às ordens do referido agente porque elas não podem prevalecer sobre as indicações do semáforo.

Ricardo, agente de trânsito do município de Boa Vista, identificou que, há dez minutos, um motorista mantinha seu automóvel imobilizado em um local de estacionamento proibido.

Considerando essa situação hipotética, julgue os itens que se seguem.

**62** Se o motorista do referido automóvel fosse um deputado federal, Ricardo não poderia autuá-lo pela prática de infração de trânsito, pois os parlamentares são constitucionalmente protegidos por imunidade parlamentar.

**63** Ricardo não poderá autuar o motorista pela infração antes que ele saia do veículo, pois o fato de haver alguém dentro do automóvel faz que ele não seja considerado estacionado, mas apenas parado.

**64** Se Ricardo autuar o referido motorista, essa autuação será um exercício de poder de polícia administrativa.

**65** Se Ricardo autuar o referido motorista, essa autuação será um exercício de poder administrativo discricionário, pois cabe a Ricardo escolher os casos de infração de trânsito em que é oportuno e justo aplicar penalidades.

Uma autoridade de trânsito impôs a Luciano penalidade de suspensão do direito de dirigir. Após expedir a notificação da imposição da penalidade, a referida autoridade identificou que a aplicação da multa era ilegal porque a notificação da autuação não havia sido feita dentro do prazo legal.

Diante dessa situação hipotética, julgue os itens seguintes.

**66** Luciano não poderá impugnar judicialmente a imposição dessa penalidade porque somente os órgãos componentes do Sistema Nacional de Trânsito podem julgar recursos contra penalidades de infrações de trânsito.

**67** A referida autoridade pode anular a penalidade imposta a Luciano antes que ele entre com recurso contra essa imposição.



Acerca do direito brasileiro, em cada um dos itens a seguir, é apresentada uma situação hipotética, seguida de uma assertiva a ser julgada.

- 68** Após saber que seu recurso contra uma multa de trânsito havia sido indeferido, Marina compareceu à repartição pública em que estava o recurso, para tirar cópia da decisão. Porém, o funcionário que a atendeu disse que ela somente poderia levar o processo caso deixasse na repartição algum documento de identificação pessoal, o qual ficaria retido até que ela trouxesse o processo de volta. Nessa situação, seria ilícita a retenção do documento de identificação de Marina.
- 69** Um agente de trânsito prendeu em flagrante um motorista por estar dirigindo sem portar os certificados de registro e de licenciamento anual do veículo. Nessa situação, o agente de trânsito cometeu abuso de autoridade.
- 70** Juliano adquiriu substância entorpecente para consumo próprio. Nessa situação, Juliano não cometeu crime, pois a lei penal brasileira somente considera crime a aquisição de entorpecentes para fins de revenda.

No que se refere ao direito constitucional, julgue os itens a seguir.

- 71** Os municípios do estado de Roraima fazem parte do Estado brasileiro.
- 72** A Constituição da República proíbe que analfabetos e índios votem nas eleições para governador de estado.
- 73** Toda criança brasileira tem direito a acesso gratuito ao ensino fundamental.
- 74** No sistema constitucional brasileiro, o presidente da República é o chefe de Estado e o ministro-chefe da casa civil é o chefe de governo.
- 75** Um desempregado não tem direito a ser atendido gratuitamente nos hospitais públicos porque o direito à saúde somente é garantido para as pessoas que contribuem para a previdência social.
- 76** Não compete à Polícia Civil do Estado de Roraima realizar policiamento ostensivo para preservar a ordem pública e proteger os bens estaduais.
- 77** A Constituição da República atribui à Polícia Rodoviária Federal o dever de realizar o patrulhamento ostensivo das rodovias federais.

Considerando que a Diretoria Municipal de Trânsito (DMT) é o órgão executivo de trânsito do município de Boa Vista – RR e que esta diretoria faz parte da Secretaria Municipal de Serviços Públicos e Trânsito (SEMSPT), julgue os seguintes itens.

- 78** O DMT integra a administração direta do município de Boa Vista – RR.
- 79** Para ocupar cargo público de provimento efetivo no DMT, um cidadão precisa ter sido previamente aprovado em concurso público.
- 80** Servidores ocupantes de cargos públicos de provimento efetivo no DMT tornam-se estáveis no cargo a partir do momento de sua nomeação.

Em relação ao direito administrativo, julgue os itens subseqüentes.

- 81** Os serviços públicos devem ser prestados diretamente pelo Estado, sendo inadmissível a delegação a particulares do exercício de serviços públicos.
- 82** Considere a seguinte situação hipotética.
- Marcelo é funcionário público e trabalha em uma repartição pública na qual, durante o horário de trabalho, desapareceu uma câmera fotográfica no valor de R\$ 2.000,00. Apesar de o chefe de Marcelo ter coordenado uma investigação cuidadosa, não se descobriu quem foi o culpado pelo desaparecimento das referidas máquinas.
- Nessa situação, caso Marcelo fosse uma das dez pessoas que trabalharam na repartição na data do desaparecimento da câmera, ele teria o dever de pagar à União uma indenização no valor de R\$ 200,00.

Acerca da teoria geral do crime, julgue os seguintes itens.

- 83** Ilícitude é a característica da conduta em desacordo com a lei, além de ser um dos elementos do crime.
- 84** Considere a seguinte situação hipotética.
- Pedro e Paulo são amigos e residem no mesmo bairro. Depois de consumirem algumas doses de bebida alcoólica, já um tanto embriagados e armados de pistolas, assaltaram a residência do único médico da cidade.
- Nessa situação, no crime praticado por Pedro e Paulo houve o concurso de pessoas.
- 85** Considere a seguinte situação hipotética.
- Mário estava regando as plantas da varanda de seu apartamento, no segundo andar de um prédio, quando esbarrou em um vaso de violetas, que caiu, atingindo um transeunte que por ali passava, ferindo-o.
- Nessa situação, o crime praticado por Mário é culposos, já que ele quis o resultado e assumiu o risco de produzi-lo.

No referente aos crimes em espécie, julgue os itens que se seguem.

- 86** Considere a seguinte situação hipotética.
- Hugo, Ernesto e Ezequiel uniram-se e seqüestraram Joaquim, o dono da padaria do bairro. Exigiram e obtiveram como resgate um carro, além de certa quantia em dinheiro.
- Nessa situação, Hugo, Ernesto e Ezequiel praticaram o crime de extorsão indireta.
- 87** O homicídio simples é crime hediondo.
- 88** O abandono de função ou cargo públicos, fora dos casos permitidos em lei, é crime contra a administração pública.
- 89** Constitui crime de abuso de autoridade qualquer atentado abusivo contra a incolumidade física do indivíduo, perpetrado por autoridades no exercício de suas funções.
- 90** O crime de tráfico ilícito de substância entorpecente é de conteúdo variado.

Com relação ao código penal brasileiro e ao processo penal brasileiro, julgue os itens subseqüentes.

- 91** Todo indivíduo menor de 21 anos de idade é penalmente inimputável, ficando sujeito às normas estabelecidas na legislação especial.
- 92** O inquérito policial é elemento essencial para a promoção da ação penal, não podendo ser dispensado.
- 93** *Notitia criminis* é o conhecimento, por parte da autoridade policial, da prática da infração penal, podendo ser espontânea ou provocada, e serve de base para o início das investigações.
- 94** A ação penal pode ser pública ou privada. Quando pública, é promovida pelo Ministério Público, dependendo, quando a lei exigir, de representação do ofendido ou de requisição do Ministro da Justiça.
- 95** De acordo com a Constituição da República, o tribunal do júri tem competência para julgar tanto os crimes dolosos como os culposos contra a vida.
- 96** Havendo a confissão do acusado, se a infração deixar vestígios, será dispensável o exame de corpo de delito.
- 97** O *habeas corpus* é cabível quando alguém sofrer ou se achar na iminência de sofrer violência ou coação ilegal na sua liberdade de ir e vir, salvo nos casos de punição disciplinar.

Julgue os itens a seguir, relacionados às espécies de prisão.

**98** Cabe prisão em flagrante do indivíduo que está cometendo uma infração penal, ou acabou de cometê-la, quando o mesmo é perseguido em situação que faça presumir ser ele o autor da infração penal ou é encontrado, logo após, com objetos que façam presumir ser ele o autor da referida infração.

**99** A prisão temporária pode ser decretada de forma lícita durante o curso do inquérito policial ou do processo criminal.

**100** Considere a seguinte situação hipotética.

Gilson e Ana eram namorados há vários anos e planejavam se casar. Gilson, desconfiado da traição de Ana, atirou nela e desapareceu.

Nessa situação, a apresentação espontânea de Gilson à autoridade impedirá a decretação de sua prisão preventiva.

