



PREFEITURA MUNICIPAL DE RIO BRANCO

CONCURSO PÚBLICO
Nível Superior

Aplicação: 2/9/2007

Cargos :

14 – ENFERMEIRO – 30H

15 – ENFERMEIRO – 40H

Caderno M

MANHÃ

LEIA COM ATENÇÃO AS INSTRUÇÕES ABAIXO.

- 1 Ao receber este caderno, confira atentamente se o tipo de caderno — Caderno M — coincide com o que está registrado em sua folha de respostas. Em seguida, verifique se ele contém cento e vinte itens, correspondentes às provas objetivas, corretamente ordenados de 1 a 120.
- 2 Caso o caderno esteja incompleto ou tenha qualquer defeito, solicite ao fiscal de sala mais próximo que tome as providências cabíveis.
- 3 Não utilize lápis, lapiseira, borracha e(ou) qualquer material de consulta que não seja fornecido pelo CESPE/UnB.
- 4 Não se comunique com outros candidatos nem se levante sem autorização do chefe de sala.
- 5 Recomenda-se não marcar ao acaso, cada item cuja resposta diverja do gabarito oficial definitivo receberá pontuação negativa, conforme consta em edital.
- 6 A duração das provas é de **três horas e trinta minutos**, já incluído o tempo destinado à identificação — que será feita no decorrer das provas — e ao preenchimento da folha de respostas.
- 7 Você deverá permanecer obrigatoriamente em sala por, no mínimo, uma hora após o início das provas e poderá levar o seu caderno de provas somente no decurso dos últimos **quinze minutos** anteriores ao horário determinado para o término das provas.
- 8 Ao terminar as provas, chame o fiscal de sala mais próximo, devolva-lhe a sua folha de respostas e deixe o local de provas.
- 9 A desobediência a qualquer uma das determinações constantes no presente caderno ou na folha de respostas poderá implicar a anulação das suas provas.

AGENDA (datas prováveis)

- I **4/9/2007**, após as 19 h (horário de Brasília) – Gabaritos oficiais preliminares das provas objetivas: Internet — www.cespe.unb.br/concursos/pmrb2007.
- II **5 e 6/9/2007** – Recursos (provas objetivas): exclusivamente no Sistema Eletrônico de Interposição de Recurso, Internet, mediante instruções e formulários que estarão disponíveis nesse sistema.
- III **25/9/2007** – Resultado final das provas objetivas e convocação para a avaliação de títulos: Diário Oficial do Estado do Acre e Internet.

OBSERVAÇÕES

- Não serão objeto de conhecimento recursos em desacordo com o item 14 do Edital n.º 1 – PMRB, de 5/7/2007.
- Informações adicionais: telefone 0(XX) 61 3448-0100; Internet — www.cespe.unb.br/concursos/pmrb2007.
- É permitida a reprodução deste material apenas para fins didáticos, desde que citada a fonte.

- De acordo com o comando a que cada um dos itens de 1 a 120 se refira, marque, na **folha de respostas**, para cada item: o campo designado com o código **C**, caso julgue o item **CERTO**; ou o campo designado com o código **E**, caso julgue o item **ERRADO**. A ausência de marcação ou a marcação de ambos os campos não serão apenadas, ou seja, não receberão pontuação negativa. Para as devidas marcações, use a **folha de respostas**, único documento válido para a correção das suas provas.
- Nos itens que avaliam **Noções de Informática**, a menos que seja explicitamente informado o contrário, considere que todos os programas mencionados estão em configuração-padrão, em português, que o *mouse* está configurado para pessoas destros e que expressões como clicar, clique simples e clique duplo referem-se a cliques com o botão esquerdo do *mouse*. Considere também que não há restrições de proteção, de funcionamento e de uso em relação aos programas, arquivos, diretórios e equipamentos mencionados.

CONHECIMENTOS BÁSICOS

1 À semelhança do Brasil, o Acre compõe-se de uma
grande diversidade de povos indígenas, cujas situações frente
à sociedade nacional também são muito variadas. Enquanto
4 a grande maioria dos grupos se encontra em contato
permanente ou regular com a população regional (mestiça ou
branca), alguns ainda são classificados pelo órgão indigenista
7 como “isolados”.

As sociedades indígenas acreanas dividem-se de
maneira desigual em duas grandes famílias lingüísticas: Pano
10 e Arawak. Alguns desses povos encontram-se também nas
regiões peruanas e bolivianas fronteiriças ao Acre. Do ponto
de vista da antropologia, o conhecimento sobre as sociedades
13 indígenas do estado é muito desigual. Se alguns povos, como
os Kaxinawá ou os Ashaninka, atraíram o interesse de vários
pesquisadores, as informações etnográficas disponíveis sobre
16 a maior parte dos povos indígenas acreanos ainda são muito
incipientes.

Os povos indígenas ocuparam um lugar marginal na
19 historiografia do Acre. Como no resto da Amazônia, o
imaginário ocidental sobre a natureza e a alteridade humana
projetou seus fantasmas na região acreana e nos seus
22 primeiros habitantes indígenas. A “conquista do deserto
ocidental” e a incorporação do Acre à nação revelam alguns
mitos fundadores do pensamento ocidental e brasileiro sobre
25 a Amazônia e os povos indígenas.

José Pimenta. Internet: <ambienteacreano.blogspot.com> (com adaptações).

Em relação ao texto acima, julgue os itens que se seguem.

- 1 A substituição de “cujas” (l.2) por **as quais** mantém a correção gramatical do período e as relações lógicas originais.
- 2 Na linha 4, a forma verbal “encontra” está no singular para concordar com “a grande maioria”.
- 3 A substituição de “dividem-se” (l.8) por **são divididas** mantém a correção gramatical do período.
- 4 Em “encontram-se” (l.10), o pronome “se” indica que o sujeito da oração é indeterminado, o que contribui para a impessoalização do texto.
- 5 A palavra “incipientes” (l.17) está sendo empregada no sentido de **pouco confiáveis, suspeitos**.
- 6 O emprego da palavra “alteridade” (l.20) está relacionado ao sentido de **diferença, diversidade, distinção**, ou seja, ao sentido de **outro**.

1 Viajando pelas bocas dos rios Juruá e Purus no
início do século XIX, os naturalistas alemães Spix e Martius
anotaram, em seus diários, a presença de “índios selvagens”
4 e a falta de “civilização”, que, segundo os autores,
caracterizavam a região. Além da exploração da região e de
suas riquezas naturais, as primeiras expedições oficiais ao
7 Purus e ao Juruá, lideradas, respectivamente, por João
Rodrigues Cameté e Romão José de Oliveira, em meados do
século XIX, tinham como objetivo a atração e a pacificação
10 dos índios.

Essas *entradas* permaneceram limitadas, subindo os
rios apenas parcialmente, mas inauguraram uma série de
13 explorações da região durante as décadas de 50 e 60 do
século XIX. Entre essas expedições, destaca-se a viagem, a
mando da Royal Geographical Society de Londres, do
16 geógrafo inglês William Chandless, que subiu o Purus em
1864/65 e o Juruá em 1867. Todavia, a historiografia
regional consagrou os nomes de Manoel Urbano, explorador
19 do Purus em 1858, e de João da Cunha Corrêa, que percorreu
o Juruá em 1861, como os primeiros “desbravadores” e
“descobridores” das terras acreanas.

Idem, ibidem (com adaptações).

Considerando o texto acima, julgue os itens a seguir.

- 7 De acordo com o texto, os alemães Spix e Martius integraram as primeiras expedições oficiais aos rios Juruá e Purus.
- 8 Os objetivos das expedições lideradas por João Rodrigues Cameté e Romão José de Oliveira, de acordo com o texto, circunscreviam-se à pacificação dos índios da região.
- 9 O emprego de itálico em “*entradas*” (l.11) indica que essa expressão está sendo utilizada com sentido adaptado ao contexto, pois seu sentido original não abrange expedições da região Norte.
- 10 O uso de vírgula após “Chandless” (l.16) justifica-se por isolar oração subordinada adjetiva explicativa.
- 11 O termo “Todavia” (l.17) pode, sem prejuízo para a correção gramatical e para as informações originais do período, ser substituído por qualquer um dos seguintes: Porém, Contudo, Entretanto, No entanto, Porquanto, Conquanto.

Considerando que os fragmentos incluídos nos itens seguintes, na ordem em que são apresentados, são partes sucessivas de um texto de José Pimenta (Internet: <ambienteacreato.blogspot.com>), julgue-os quanto à correção gramatical.

- 12 Última tentativa do governo boliviano para ocupar a região acreana, a criação do Bolivian Syndicate exigiu da antiga colônia espanhola concessões enormes de soberania. Segundo os termos do contrato assinado em julho de 1901, a Bolívia oferecia a companhia internacional, compostas por grandes grupos financeiros, principalmente norte-americanos, uma concessão de trinta anos para a exploração da seringueira na região.
- 13 O consórcio capitalista dispunha de plena autoridade sobre o comércio da borracha e também de direitos políticos e judiciais essenciais. Ele usufruía o direito de compra e venda dos seringais, o direito de navegar e de controlar os rios por meio de uma polícia própria e o direito de estabelecer as leis e exercer a justiça. Em contrapartida, a Bolívia recebia 60% da arrecadação realizada pela companhia.
- 14 A criação do Bolivian Syndicate foi um dos momentos-chave do conflito acreano, um evento crítico que levou à incorporação do Acre ao Brasil. Para os seringueiros brasileiros, o Bolivian Syndicate surgiu como uma espécie de companhia colonial que controlava não só a terra, mas também toda a organização do trabalho extrativista da borracha. Essa situação revoltou a população acreana, que conseguiu superar suas divisões internas e se organizar contra o inimigo comum.
- 15 O sentimento do povo acreano espalhou-se além das bacias do Purus e do Juruá e comoveu o país que deu um apoio decisivo à luta dos seringueiros. A formação do Bolivian Syndicate criou um fervor nacionalista e patriótico que cimentou a nação, contra os inimigos do Brasil. Manifestações contra os americanos e bolivianos se organizaram em Manaus, Belém e Rio de Janeiro. Orgulho da nação, a Amazônia era novamente cobiçada pelo capital estrangeiro.

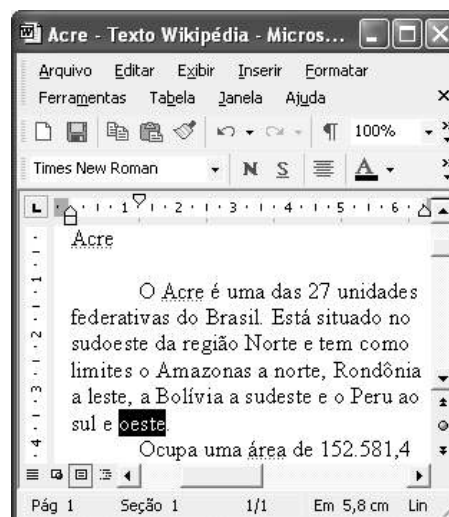
1 Poderíamos definir o *amazonismo* como um conjunto de idéias e de discursos, produzidos pelo imaginário ocidental sobre a Amazônia e as populações nativas, destinado a
4 viabilizar interesses políticos e econômicos. Como espaço imaginado pelo Ocidente, o *amazonismo* partilha muitas características com o *orientalismo*. Todavia, enquanto Said
7 nos apresenta um Oriente construído de maneira negativa por um Ocidente hegemônico, o *amazonismo* constituiu um campo ambíguo, catalisador de imagens e de discursos
10 contraditórios, que podem ser mobilizados para servir a interesses muito divergentes.

Primeiras testemunhas da Amazônia e de seus
13 habitantes, Carvajal (1542) e Acuña (1641) elaboraram relatos em que combinaram o fantástico e o exótico e edificaram as bases do *amazonismo*: mito das Amazonas, inferno verde,
16 Eldorado, seres canibais e nobre selvagem. A Amazônia e seus primeiros habitantes concentraram e continuam concentrando sentimentos e fantasias ocidentais. Símbolo de riqueza e
19 miséria, de medo e esperanças, de sonhos e pesadelos, de futuro e passado, de inferno e paraíso. A alteridade é o espelho invertido do ocidente e é manipulada conforme os interesses
22 em jogo. Essas imagens contraditórias acompanharam e informaram a conquista da América e o encontro com as populações indígenas. Além de legitimarem a ocupação e a
25 exploração econômica, os mitos também serviram para sustentar os interesses políticos e ideológicos da Europa.







Idem, ibidem (com adaptações).

Considerando o texto acima, julgue os itens de 16 a 20.

- 16 Pelo emprego de expressões coloquiais, pela informalidade, pelas escolhas lexicais e sintáticas, a linguagem do texto é inadequada para documentos oficiais.
- 17 O emprego do plural em “Poderíamos” (ℓ.1) é suficiente para se considerar o texto subjetivo e pessoal, em oposição a um texto impessoal, neutro, objetivo.
- 18 O termo “catalisador” (ℓ.9) está sendo empregado no mesmo sentido que tem na seguinte frase: O mito é catalisador de sentimentos e fantasias em relação ao universo amazônico.
- 19 O sinal de dois-pontos após “*amazonismo*” (ℓ.15) justifica-se por anteceder uma enumeração de itens.
- 20 O termo “manipulada” (ℓ.21) está no feminino singular para concordar com “alteridade” (ℓ.20).



A figura acima mostra uma janela do Word 2002, com parte de um texto em processo de edição, no qual a palavra “oeste” está destacada. Com relação a esse texto, ao Word 2002 e à situação ilustrada na figura, julgue os itens que se seguem.



- 21 Para se centralizar e aplicar negrito ao título do texto — “Acre” —, é suficiente aplicar um clique duplo entre duas letras desse título, clicar **N** e, a seguir, pressionar simultaneamente as teclas **Ctrl** e **C**.
- 22 Ao se clicar o botão , passam a ser exibidas algumas marcas de formatação, como, por exemplo, marcas de parágrafo. Embora essas marcas sejam exibidas na janela mostrada, elas não são impressas em papel quando é realizada impressão.
- 23 A ferramenta **100%**  permite ampliar ou reduzir a exibição do documento ativo.
- 24 Caso se pressione a tecla **Delete** , a palavra “oeste”, que está selecionada, será excluída do texto. Caso se deseje desfazer essa exclusão, é suficiente clicar, logo após a exclusão, o botão .
- 25 Para se copiar a palavra “Acre”, no título do texto, para o final do parágrafo iniciado em “O Acre é uma”, é suficiente: selecionar a referida palavra; clicar ; clicar onde se deseja colar a referida palavra, no final do parágrafo; clicar .

Com relação a conceitos de Internet e *intranet*, julgue os próximos itens.

- 26 Não é possível, em uma *intranet*, a troca de mensagens de correio eletrônico entre dois usuários de dois computadores pertencentes a essa *intranet*.
- 27 A seqüência de caracteres joao@empresa.com.br é um exemplo de URL, ou endereço de página da Web, e a seqüência de caracteres www.empresa.com.br é um exemplo de endereço de correio eletrônico.







A figura acima mostra uma janela do Internet Explorer 6 (IE6), em que é exibida uma página da Web. Com relação a essa figura, ao IE6 e à Internet, julgue os itens subseqüentes.

- 28 Ao se clicar o botão , é disponibilizada uma ferramenta que tem como função principal permitir ao usuário a visualização de detalhes na página em exibição.
- 29 Ao se clicar o botão , será exibida a página da Web que havia sido acessada anteriormente à atual.





A figura acima mostra uma janela do Excel 2002, com uma planilha contendo os preços, em reais, de vários componentes de um equipamento. Com relação a essa figura e ao Excel 2002, julgue os itens de 30 a 32.

- 30 Para se aplicar itálico ao conteúdo da célula A5, é suficiente clicar essa célula e, em seguida, clicar .
- 31 Para se calcular a soma dos preços contidos nas células de B2 a B5 e pôr o resultado na célula B6, é suficiente clicar essa célula, digitar =B2+B3+B4+B5 e, em seguida, teclar .
- 32 O botão  tem a função de permitir o salvamento de alterações em um arquivo que já havia sido salvo anteriormente, e ao qual já foi atribuído um nome. Já o botão , ao ser clicado, causa a abertura da janela Salvar como, que permite salvar apenas o arquivo que ainda não foi salvo, nem teve um nome atribuído a ele.



Considerando a figura acima, que mostra uma janela exibida em um computador cujo sistema operacional é o Windows XP, julgue os itens a seguir.

- 33 Ao se aplicar um clique com o botão esquerdo do *mouse* sobre o ícone , o arquivo do Word de nome Planejamento será aberto. Caso se clique com o botão direito, o ícone será excluído e enviado para a Lixeira.
- 34 Para se maximizar a janela mostrada, é suficiente clicar o botão .

Com relação a mensagens de correio eletrônico, julgue o item abaixo.

- 35 Normalmente, os programas que viabilizam o uso de correio eletrônico possuem funcionalidade que permite encaminhar uma mensagem recebida para um outro endereço de correio eletrônico.

A alta nos preços do petróleo e a necessidade de conter o aquecimento global estão fazendo os japoneses voltarem a olhar em direção ao Brasil, depois de 25 anos de afastamento nas relações bilaterais. Atendendo à solicitação do governo japonês e de empresários, o ministro de Negócios Estrangeiros, Taro Aso, chegou ao Brasil para conhecer de perto as etapas de produção e exportação do etanol.

Jornal do Brasil, 20/8/2007, p. A19 (com adaptações).

Tendo o texto acima como referência inicial e considerando a amplitude e a inserção do tema por ele focalizado no mundo contemporâneo, julgue os itens seguintes.

- 36** Após a derrota na Segunda Guerra Mundial, o Japão empreendeu vitorioso esforço de recuperação material, para o qual contou com apoio norte-americano. Em algumas décadas, o país se transformou em uma das maiores potências econômicas mundiais, posição que ainda preserva.
- 37** O texto menciona uma questão que está na ordem do dia do mundo atual e que se identifica com o perigoso aumento do efeito estufa, em larga medida gerado pela emissão descontrolada de gases poluentes na atmosfera.
- 38** O petróleo deixou de ser a base propulsora do sistema produtivo mundial a partir do momento em que a principal região produtora e exportadora, o Oriente Médio, viu-se em acentuada instabilidade política, com sucessivas guerras e a ação desvoluta de grupos terroristas.
- 39** A utilização da cana-de-açúcar para a produção de combustíveis é inovação brasileira recente, surgida após o fim do regime militar, possível graças à disponibilidade financeira decorrente da auto-suficiência de petróleo conquistada pelo Brasil.
- 40** Ao visitar recentemente o México e países da América Central, o presidente Lula enfatizou a importância da tecnologia brasileira para a produção do etanol e frisou que a expansão dessa atividade não implica redução da capacidade de produção de alimentos.

Poucos sabem que o aquecimento global também tem conseqüências positivas. Uma delas é permitir a agricultura em altas latitudes. Diante do impacto distinto em diferentes áreas do planeta, os cientistas, entre outros, apontam os perigos regionais como importantes. Em certas áreas, como o semi-árido, pode surgir o deserto, em outras, podem desaparecer ecossistemas inteiros.

Aqui no Brasil, determinamos que apenas 20% das propriedades na Amazônia podem ser exploradas. No cerrado, essa cota é de 35%. A medida conseguiu deter um pouco o desmatamento. Mas é questionada, porque 80% é um número cabalístico diante de uma região diversa. Daí a proposta de fazer zoneamento ecológico e econômico para precisar muito claramente o que se pode ou não se pode fazer.

Todas essas observações nos levam a reforçar uma tendência que já existe no Brasil, inspirada pelo geógrafo Milton Santos, que é a de colocar o território no centro das políticas públicas. Mesmo as cidades terão de ser delimitadas, claramente, para que se possa orientar o seu desenvolvimento sustentável.

Fernando Gabeira. Política e território. In: Folha de S.Paulo, 16/6/2007, p. A2 (com adaptações).

Tendo o texto acima como referência inicial e considerando as múltiplas implicações do tema por ele abordado, julgue os itens de **41 a 50**.

- 41** O fenômeno do aquecimento global é consensualmente considerado uma tragédia ambiental justamente porque deteriora, de maneira ampla e igualmente negativa, as condições de vida em todas as regiões do planeta.
- 42** Cientistas alertam para o fato de que o aquecimento global acarreta, entre outras conseqüências, o derretimento de geleiras, o que pode determinar a elevação do nível dos mares e seu potencial de destruição, particularmente nas zonas litorâneas.
- 43** Apesar do cenário de seca com o qual convive historicamente, o Nordeste brasileiro, segundo o texto, estaria a salvo de eventuais efeitos negativos causados pelo aquecimento global.
- 44** Ao se fixar na homogeneidade que caracteriza a Amazônia, o texto sugere que o percentual de área permitido à exploração econômica é compatível com as necessidades da região e positivo para o país.
- 45** A urbanização do Brasil contemporâneo, acompanhada de significativo despovoamento do campo, mostra-se demasiado rápida e, em geral, desprovida do necessário planejamento, o que contribui para a ampliação dos problemas que tendem a caracterizar, especialmente, as grandes regiões metropolitanas.
- 46** O conceito de desenvolvimento sustentável ganha força nos dias atuais e se fundamenta no princípio de que atender às necessidades do presente não pode significar a destruição dos recursos indispensáveis à vida das gerações futuras.
- 47** O Protocolo de Kyoto é um texto de abrangência que se pretende planetária, suscitado pela crescente compreensão de que algo precisa ser feito para minimizar as conseqüências negativas de um modelo de desenvolvimento econômico consagrado pela Revolução Industrial.
- 48** Ao propor medidas que levem à redução dos níveis de emissão de gases ampliadores do efeito estufa, o Protocolo de Kyoto foi referendado pelo conjunto dos Estados integrantes da Organização das Nações Unidas, a começar pelos sete países mais ricos (G-7).
- 49** Como reconhecido no texto, o Brasil não consegue deter a marcha do desmatamento de suas florestas, razão por que sofre pressão de setores ambientalistas, de organizações não-governamentais e de organismos multilaterais.
- 50** O texto salienta o que foi uma das grandes contribuições teóricas oferecidas por Milton Santos, geógrafo brasileiro falecido há poucos anos, cuja produção intelectual colheu reconhecimento internacional.

CONHECIMENTOS ESPECÍFICOS

Uma mulher de 35 anos de idade, apresentando índice de massa corporal superior a 40 kg/m², foi internada em um hospital para tratamento clínico. Foram prescritos para essa paciente quatro diferentes medicamentos a serem preparados e administrados durante o período de trabalho de uma enfermeira. O primeiro medicamento apresenta-se em frascos na forma liofilizada, cuja solução final obteve volume de 5 mL e deve ser administrado por via intramuscular. O segundo, que se apresenta em frascos com solução, deve ser aplicado por via subcutânea. O terceiro é para uso sublingual e o quarto medicamento deve ser administrado por via otológica.

Considerando a situação hipotética acima, julgue os itens que se seguem, quanto às ações de enfermagem na administração de medicamentos.

- 51** A injeção subcutânea deve ser aplicada com seringa pequena e agulha curta, na angulação de 15°.
- 52** A formação de bolha na pele da paciente à medida que se injeta o medicamento por via subcutânea é considerada normal.
- 53** Nesse caso, considerando a constituição física da paciente e as características da solução, o local mais indicado para aplicação da medicação por via intramuscular é o deltóide.
- 54** Na instilação auditiva, a enfermeira deve segurar a orelha externa da paciente e retificar o canal auditivo, puxando-o para baixo e para trás.
- 55** Para administrar o medicamento por via intramuscular, a enfermeira deve selecionar uma agulha fina e curta para se minimizar o trauma tecidual.

Acerca do descolamento prematuro da placenta (DPP), uma condição obstétrica que deve ser prontamente detectada, julgue os próximos itens.

- 56** A manifestação clínica mais evidente do DPP é a hemorragia vaginal indolor. Sua ocorrência se dá, com maior frequência, após o terceiro mês de gestação.
- 57** Na maior parte dos casos de DPP, há diminuição dos movimentos do feto e taquicardia fetal, além de amolecimento do miométrio e sinais de choque materno.
- 58** Toxemia da gravidez, amniorrexe abrupta e mau uso de oxitócicos na indução do parto são considerados fatores predisponentes do DPP.
- 59** Como medida de controle, verificam-se os sinais vitais e os batimentos cardíacos do feto, a fim de se detectar a vitalidade fetal, bem como possíveis complicações maternas.
- 60** No pós-parto, o débito urinário deve ser controlado devido aos riscos de uma insuficiência renal por necrose tubular aguda.

É de fundamental importância o correto manejo dos resíduos dos serviços de saúde (RSS), uma vez que as condições de segurança ambiental e ocupacional devem ser imprescindivelmente observadas por todos os que trabalham na área. Acerca desse tema julgue os itens subsequentes.

- 61** Atualmente, segundo as normas e resoluções existentes, os resíduos sólidos são classificados em função dos riscos potenciais ao meio ambiente e à saúde e em função de sua natureza e origem.

62 São considerados geradores de RSS todos os serviços relacionados ao atendimento à saúde, tanto humana quanto animal, inclusive os serviços de assistência domiciliar.

63 O risco no manejo de RSS está vinculado, principalmente, a acidentes causados por falhas no acondicionamento e na segregação de materiais perfurocortantes sem utilização de proteção mecânica.

64 Os geradores de RSS não podem terceirizar os serviços de limpeza, de coleta de resíduos, de tratamento, de disposição final ou de comercialização de materiais recicláveis, pois todo o processo, até o momento da disposição final do resíduo, está sob sua responsabilidade.

65 Um acondicionamento inadequado dos RSS compromete a segurança do processo e aumenta o risco de acidentes de trabalho.

Há dois anos, uma mulher de 62 anos de idade iniciou quadro de demência progressiva, sendo diagnosticada doença de Alzheimer. Atualmente, a paciente apresenta dificuldades para dormir, disfagia e incontinência. Devido à sua dependência para realizar atividades diárias, é cuidada pelos familiares em casa e irá receber a visita de uma enfermeira vinculada a um serviço de saúde domiciliar.

Levando em consideração a situação hipotética apresentada e as peculiaridades no cuidado domiciliar, julgue os itens a seguir.

66 Na visita, a enfermeira deve avaliar o estado geral da paciente, procurando verificar o seu grau de dependência, e encorajar os familiares a assumirem todas as atividades de cuidado da paciente, tendo em vista o fato de se tratar de uma doença debilitante.

67 Para a adequada nutrição dessa paciente, é importante avaliar o seu grau de disfagia, verificar a necessidade de adaptar a sua dieta, como, por exemplo, ofertando-lhe alimentos mais pastosos ou líquidos, e orientar os familiares quanto aos riscos de sufocação.

68 A dificuldade de dormir da paciente pode ser minimizada com orientação aos familiares para que evitem que a paciente tenha longos períodos de sono diurno, incentivando-a a praticar atividades físicas durante o dia, e adotem medidas que facilitem o sono noturno.

69 Para melhora da disfunção vesical, a enfermeira deve ensinar à própria paciente a técnica do autocateterismo intermitente, mostrando-lhe a necessidade de se esvaziar a bexiga periodicamente e a de se empregar técnica asséptica rigorosa.

70 A família deve receber apoio e educação, pois a doença da paciente exige cuidado e dedicação, sendo freqüente o cansaço físico e emocional dos cuidadores.

O desenvolvimento do Programa Nacional de Imunizações (PNI) é orientado por normas técnicas estabelecidas nacionalmente. Essas normas referem-se à conservação, ao transporte e à administração de imunobiológicos, assim como aos aspectos de programação e avaliação de vacinas. Acerca desse assunto, julgue os itens subsequentes.

71 Todos os imunobiológicos são sensíveis a agentes físicos como a luz e o calor e, por esse motivo, devem ser submetidos ao congelamento, devendo ser retirados do freezer somente no momento de sua utilização.

- 72** Nas instâncias locais onde são administrados os imunobiológicos, o refrigerador de estoque deve ser exclusivo e as vacinas nele contidas devem ser retiradas à medida que forem sendo necessárias, conforme a demanda da clientela.
- 73** Nas vacinas aplicadas pela via intradérmica, como a BCG, a solução é introduzida na camada superficial da pele, denominada derme.
- 74** Após a aplicação da vacina contra a hepatite B, a pessoa vacinada, ou o acompanhante, deve ser orientada a aplicar compressas quentes no local da aplicação da vacina caso haja dor ou vermelhidão.
- 75** A vacina tríplice viral é uma combinação dos vírus vivos atenuados do sarampo, da caxumba e da rubéola.

Uma lactente deu entrada em um hospital apresentando sinais e sintomas de insuficiência cardíaca congestiva. A mãe relatou que há 1 mês teve início quadro de taquipnéia, cianose e tosse após as mamadas e o choro. Antes desse período, a criança não tinha qualquer problema.

Com relação a essa situação hipotética, julgue os itens seguintes, no que diz respeito às medidas gerais a serem adotadas no cuidado da criança.

- 76** A temperatura corporal da criança deve ser mantida na faixa da normalidade a fim de se evitar maior consumo energético e de oxigênio.
- 77** A criança deve permanecer acordada o maior tempo possível para se avaliar o seu *status* neurológico. Para mantê-la acordada, deve-se estimular a realização de movimentos ativos de pés e braços.
- 78** A criança deve ser mantida em posição de decúbito dorsal a fim de reduzir a congestão pulmonar.
- 79** Nesse caso, a oxigenoterapia é contra-indicada, pois a criança apresenta cianose após as mamadas.
- 80** São indicadas, nesse caso, a infusão intravenosa de solução salina, para reposição de cloreto de sódio, e a oferta de uma dieta hipocalórica.

Julgue os próximos itens, que versam sobre os métodos empregados em epidemiologia.

- 81** Um estudo que pretende informar sobre as características demográficas e socioeconômicas de um grupo de pacientes chagásicos é do tipo coorte.
- 82** Considere a seguinte situação hipotética.
Uma pesquisa foi realizada para verificar o grau de eficácia de uma vacina contra a hepatite B. Para isso, indivíduos que apresentavam o mesmo risco de sofrer hepatite B foram divididos em dois grupos. Os indivíduos de um dos grupos receberam a vacina e os do outro grupo receberam um placebo. Após 12 meses de observação, esses indivíduos foram novamente avaliados quanto à incidência da doença.
Nessa situação, a pesquisa realizada foi um estudo experimental do tipo ensaio clínico randomizado.
- 83** Emprega-se o estudo de caso na investigação de um tema de saúde quando há limitações como falta de indivíduos-controle ou pequeno número de indivíduos para observação.
- 84** Em uma investigação do tipo caso-controle, parte-se do efeito para se chegar às causas.
- 85** Na pesquisa retrospectiva, diferentemente da pesquisa prospectiva, não há grupo controle.

Distúrbios de ansiedade são problemas psiquiátricos comuns e estão entre os que mais geram transtornos aos pacientes. Em relação a esse assunto, julgue os itens a seguir.

- 86** A ansiedade pode se expressar diretamente, por meio de alterações fisiológicas e comportamentais, ou indiretamente, por meio de sintomas ou mecanismos de adequação.
- 87** Utilizada para lidar com a ansiedade branda, a racionalização é um mecanismo de defesa do ego que se caracteriza por oferecer uma explicação socialmente aceitável para sentimentos ou comportamentos inaceitáveis.
- 88** Em casos de pânico da ansiedade, as intervenções de enfermagem devem ser de apoio e de proteção aos pacientes.
- 89** A atividade física não é recomendada a indivíduos que apresentem níveis de ansiedade moderada.
- 90** Hipertensão arterial, palpitações, tremores, fraqueza e falta de ar são algumas respostas fisiológicas desencadeadas pela ansiedade.

Um homem de 63 anos de idade, residente em um asilo, sem doença anterior, foi levado por um agente de saúde a um serviço de atendimento básico com queixas de tosse persistente, fraqueza e anorexia por mais de um mês. O paciente submeteu-se a avaliação médica, a exames radiológicos do tórax e a exames laboratoriais. A área de endurecimento formada para a leitura da prova tuberculínica foi de 9 mm. Após as avaliações, o paciente recebeu o diagnóstico médico de tuberculose.

Diante dessa situação hipotética, julgue os itens que se seguem.

- 91** Para confirmação do diagnóstico médico, é correta a realização de pesquisa bacteriológica por meio de baciloscopia direta do escarro.
- 92** O exame radiológico do tórax é pouco importante para o diagnóstico de tuberculose e é desnecessário quando a baciloscopia é positiva.
- 93** O resultado da prova tuberculínica realizada seria suficiente para o diagnóstico da tuberculose.
- 94** O paciente deve ser orientado a utilizar medicamentos paliativos para os sintomas de tosse e inapetência, uma vez que não existe tratamento específico nem cura para a tuberculose.
- 95** O papel do agente de saúde foi fundamental para a detecção da doença pulmonar considerada nessa situação.

Julgue os itens seguintes, que tratam de financiamento e gestão em saúde.

- 96** No que tange à saúde, inexistente qualquer determinação legal que estabeleça a participação orçamentária mínima obrigatória para os estados.
- 97** As sanções aplicadas aos municípios que destinam à saúde recursos inferiores ao mínimo fixado em lei são leves e não incluem a suspensão de repasses federais.
- 98** Por determinação legal, a gestão dos recursos financeiros da saúde pública se dá por meio dos fundos de saúde.
- 99** Transferências automáticas de recursos só podem ocorrer na vigência de convênios ou instrumentos similares.
- 100** O monitoramento dos recursos e das ações de saúde é de competência exclusiva da União.

Um homem de 46 anos de idade, fumante, internado para tratamento de hipertensão e diabetes, queixava-se de cefaléia moderada e dificuldades visuais e urinárias. Diabético há 5 anos, era insulino-dependente e já esteve internado por três vezes devido a episódios de hiperglicemia. Na atual internação, queixava-se de mal-estar geral, febre e dor ao urinar, chegando a apresentar perda de consciência. Na admissão, antes de se iniciar o tratamento com anti-hipertensivos, a pressão arterial era de 150 mmHg × 90 mmHg, a frequência respiratória, de 30 movimentos por minuto, a frequência cardíaca, de 105 batimentos por minuto e a temperatura axilar, de 37,7 °C.

Considerando o caso clínico hipotético descrito, julgue os itens subseqüentes acerca da assistência de enfermagem a ser instituída.

- 101** O quadro apresentado pelo paciente é raro, pois a associação entre diabetes e hipertensão arterial é pouco freqüente, havendo baixa relação entre essas doenças.
- 102** Tendo como base a classificação adotada pelo Ministério da Saúde, a hipertensão arterial apresentada pelo paciente classifica-se como hipertensão leve, podendo ser corretamente estratificada como grau de risco baixo.
- 103** O monitoramento dos níveis glicêmicos do paciente em tela e de sua temperatura corporal é um cuidado de enfermagem importante.
- 104** Como o tabagismo é um fator de risco que predispõe e agrava as doenças apresentadas pelo paciente, as intervenções de enfermagem devem-se direcionar também para orientação no sentido de redução ou abolição do fumo.
- 105** Deve-se avaliar o grau de conhecimento do paciente acerca dos sinais e sintomas da hiperglicemia, de complicações do diabetes e do monitoramento do controle glicêmico.

No que concerne ao papel do enfermeiro na prevenção e no controle de infecções hospitalares, julgue os itens a seguir.

- 106** Os cateteres intravenosos, por serem destinados a procedimentos invasivos no sistema vascular, devem ser tratados como artigos críticos e, portanto, requerem esterilização.
- 107** A limpeza rigorosa é condição básica para qualquer processo de desinfecção ou esterilização.
- 108** Falhas no processo de esterilização de materiais podem gerar elevação na taxa de infecção hospitalar.
- 109** Os patógenos veiculados pelo sangue podem ser transmitidos por várias rotas, como, por exemplo, por transfusões de sangue e derivados, por punções com materiais contaminados, bem como por equipamentos de diálise contaminados.
- 110** Pacientes infectados por microrganismos transmissíveis por via respiratória que necessitem deixar seus quartos devem ser orientados a utilizar luvas como medida de barreira.

Acerca dos aspectos éticos e legais da profissão de enfermeiro, julgue os próximos itens.

- 111** Na consulta de enfermagem, atividade privativa do enfermeiro, devem estar contempladas as etapas do processo de enfermagem.
- 112** O profissional de enfermagem tem o dever de facilitar a fiscalização do exercício profissional.
- 113** Sob quaisquer circunstâncias, o profissional de enfermagem que realizar procedimento que não seja de sua competência legal deve sofrer punições que incluem a suspensão de suas atividades profissionais.

A dependência e o consumo abusivo de álcool indicam condição grave e crescente, freqüentemente associada ao uso de outras substâncias como opiáceos, cocaína e psicomiméticos. Julgue os itens a seguir, que versam sobre esse assunto.

- 114** O consumo abusivo de álcool causa depressão das principais funções cerebrais, tais como humor, cognição, atenção e concentração.
- 115** Encefalopatia de Wernicke, esofagite, pancreatite, osteoporose, anemia e hepatite são alguns exemplos de complicações advindas do consumo crônico de álcool.
- 116** O *delirium tremens*, caracterizado por alucinações, apatia, sonolência e ataxia, é uma condição esperada após ingestão aguda de álcool.

Um homem de 59 anos de idade, com diagnóstico de câncer, iniciou quadro de dificuldade respiratória, sendo diagnosticada tromboembolia pulmonar (TEP). Realizou-se, nesse paciente, o teste do D-dímero (ou dímero-D).

Julgue os itens a seguir com base nos sinais e sintomas esperados para esse paciente hipotético e na assistência de enfermagem que deve ser dispensada a ele.

- 117** A dor torácica é pouco freqüente em situações como a descrita e a síncope associada a hipotensão indica bons prognósticos.
- 118** Não existe possibilidade de a TEP estar associada ao câncer que o paciente apresenta.
- 119** O procedimento para a realização do teste do D-dímero é de alto custo e exige grande habilidade técnica da equipe de enfermagem. Por isso, é realizado em poucas unidades de saúde.
- 120** Nessa situação, o tratamento de enfermagem deve envolver o monitoramento da terapia trombolítica, o alívio da ansiedade e o controle da terapia com oxigênio.