

- Nas questões a seguir, marque, para cada uma, a única opção correta, de acordo com o respectivo comando. Para as devidas marcações, use a **Folha de Respostas**, único documento válido para a correção das suas respostas.
- Nas questões que avaliarem **conhecimentos de informática** e(ou) **tecnologia da informação**, a menos que seja explicitamente informado o contrário, considere que todos os programas mencionados estão em configuração-padrão e que não há restrições de proteção, de funcionamento e de uso em relação aos programas, arquivos, diretórios, recursos e equipamentos mencionados.
- Eventuais espaços livres — identificados ou não pela expressão “**Espaço livre**” — que constarem deste caderno de provas poderão ser utilizados para rascunho.

-- PROVAS OBJETIVAS --

CONHECIMENTOS GERAIS

LÍNGUA PORTUGUESA

Texto CG1A1-I

No meio científico, a imaginação é conhecida como especulação e tratada com certa desconfiança — nas publicações, costuma ser acompanhada de uma advertência obrigatória. Parte da redação de uma pesquisa consiste em limpá-la de voos fantasiosos, de conversa fiada e dos milhares de tentativas e erros que dão origem até mesmo às menores descobertas. Nem todo mundo que lê um estudo quer atravessar muito espalhafato. Ainda, os cientistas precisam parecer confiáveis. Entre sorratamente nos bastidores da ciência e talvez você não encontre as pessoas em sua melhor aparência. Mesmo nos bastidores, nas reflexões noturnas que compartilhei com colegas, era incomum entrar em detalhes de como havíamos imaginado — de modo acidental ou deliberado — os organismos que estudamos, fossem eles peixes, bromélias, cipós, fungos ou bactérias. Havia algo embaraçoso em admitir que o emaranhado de nossas conjecturas, fantasias e metáforas sem fundamento pudesse ter ajudado a moldar a nossa pesquisa. Apesar disso, a imaginação faz parte da atividade cotidiana da pesquisa. A ciência não é um exercício de racionalidade a sangue-frio. Os cientistas são — e sempre foram — emocionais, criativos, intuitivos, seres humanos inteiros, lançando perguntas sobre um mundo que não foi feito para ser catalogado e sistematizado. Sempre que eu perguntava o que esses fungos faziam e elaborava estudos para tentar entender seu comportamento, precisava imaginá-los.

Merlin Sheldrake. **A trama da vida**. Como os fungos constroem o mundo. São Paulo: Fósforo/Ubu Editora, 2021, p. 29 (com adaptações).

Questão 1

Assinale a opção em que é corretamente resumida a posição assumida pelo autor na discussão desenvolvida no texto CG1A1-I.

- A transgressão às normas de objetividade das publicações científicas especializadas
- B oposição às normas de objetividade nas publicações científicas
- C crítica à falta de espaço para a imaginação nas comunicações entre cientistas
- D reprovação da racionalidade das práticas científicas
- E defesa do lugar da imaginação nas práticas científicas

Questão 2

Por meio do emprego do termo “Ainda”, no início do quarto período do texto CG1A1-I, o autor

- A assinala a persistência de um aspecto mencionado nos períodos anteriores.
- B expressa uma ressalva em relação à ideia veiculada no período anterior.
- C acrescenta outro motivo para a ideia apresentada nos períodos anteriores.
- D introduz uma conclusão sobre a ideia apresentada no período anterior.
- E pontua o tempo do raciocínio do autor nas etapas de exposição das ideias.

Questão 3

No texto CG1A1-I, ao qualificar o mundo estudado pelos cientistas como “um mundo que não foi feito para ser catalogado e sistematizado” (penúltimo período), o autor indica

- A certa distância entre os propósitos da ciência e os propósitos dos cientistas.
- B uma consequência da emotividade, criatividade e intuição dos cientistas.
- C uma concessão à emotividade dos cientistas.
- D uma justificativa para a emotividade, criatividade e intuição dos cientistas.
- E a contradição entre a sistematicidade da ciência e a emotividade dos cientistas.

Questão 4

Assinale a opção em que as duas formas verbais destacadas do texto CG1A1-I estão conjugadas no mesmo tempo e modo.

- A “quer” (terceiro período) e “parecer” (quarto período)
- B “Entre” (quinto período) e “encontre” (quinto período)
- C “precisam” (quarto período) e “foram” (penúltimo período)
- D “compartilhei” (sexto período) e “foi” (penúltimo período)
- E “havíamos imaginado” (sexto período) e “ter ajudado” (sétimo período)

Questão 5

Considerando as relações coesivas do texto CG1A1-I, assinale a opção correta.

- A No último período, “los”, em “imaginá-los” remete a “estudos”.
- B No segundo período, “la”, em “limpá-la”, retoma “imaginação” (primeiro período).
- C No sétimo período, o pronome “nossa” indica a relação de posse do autor do texto e de seus colegas com a pesquisa que cada um desenvolve.
- D A expressão “Apesar disso” (oitavo período) está empregada em relação a “algo embaraçoso” (sétimo período).
- E O segmento “esses fungos” (último período) retoma figuradamente “mundo” (penúltimo período).

Questão 6

Pela linguagem empregada no texto CG1A1-I, conclui-se, em relação ao gênero textual, que o fragmento apresentado faz parte de

- A um livro de divulgação científica.
- B um livro didático de ciências.
- C um artigo científico.
- D uma reportagem científica de jornal.
- E um relato de memórias de um cientista.

Questão 7

A palavra “espalhafato”, empregada no terceiro período do texto CG1A1-I, é sinônima de

- A minúcia.
- B titubeio.
- C devaneio.
- D casualidade.
- E alarde.

Questão 8

Considerando a correção gramatical das substituições propostas para vocábulos e trechos do texto CG1A1-I, julgue os itens seguintes.

- I “dos milhares” (segundo período) por **das milhares**
 II “parecer” (quarto período) por **parecerem**
 III “entrar” (sexto período) por **entrem**

Assinale a opção correta.

- A** Nenhum item está certo.
B Apenas o item I está certo.
C Apenas o item II está certo.
D Apenas os itens I e III estão certos.
E Todos os itens estão certos.

Texto CG1A1-II

A contínua ampliação das sociedades humanas no interior do universo “físico”, alheio ao homem, contribuiu para estimular um modo de falar que sugere que “sociedade” e “natureza” ocupariam compartimentos separados, impressão esta que foi reforçada pelo desenvolvimento divergente das ciências naturais e das ciências sociais. Todavia, o problema do tempo coloca-se em termos tais que não podemos esperar resolvê-lo, se explorarmos suas dimensões física e social independentemente uma da outra. Se transformarmos em verbo o substantivo “tempo”, constatamos de imediato que não se pode separar inteiramente a determinação temporal dos acontecimentos sociais e a dos acontecimentos físicos. Com o desenvolvimento dos instrumentos de medição do tempo fabricados pelo homem, a determinação do tempo social ganhou autonomia, certamente, em relação à do tempo físico. A relação entre as duas foi se tornando indireta, mas nunca foi totalmente rompida, porquanto não pode sê-lo. Durante muito tempo, foram as necessidades sociais que motivaram a mensuração do tempo dos “corpos celestes”. É fácil mostrar como o desenvolvimento desse segundo tipo de medida foi e continua a ser dependente do desenvolvimento do primeiro tipo, a despeito das influências recíprocas.

Norbert Elias. **Sobre o tempo**. Rio de Janeiro: Zahar, 1998, p. 38-9 (com adaptações).

Questão 9

De acordo com o texto CG1A1-II, a interdependência entre as determinações social e física do tempo caracteriza-se como uma hierarquia em posições que se

- A** mantêm antes e depois da invenção dos instrumentos de medição, já que são fatores sociais que impulsionam a determinação do tempo físico, e a determinação do tempo social depende ainda menos da do tempo físico ao ser mediada por esses instrumentos.
B invertem conforme duas etapas distintas, já que, antes da invenção dos instrumentos de medição, a determinação do tempo social se subordinava à do tempo físico, mas, após a invenção desses instrumentos, é a determinação do tempo físico que passa a se subordinar à do tempo social.
C invertem conforme duas etapas distintas, já que, antes da invenção dos instrumentos de medição, a determinação do tempo físico se subordinava à do tempo social, mas, após a invenção desses instrumentos, é a determinação do tempo social que passa a se subordinar à do tempo físico.
D mantêm antes e depois da invenção dos instrumentos de medição, já que são os fatores físicos que impulsionam a determinação do tempo social, mas a determinação do tempo social depende menos da do tempo físico ao passar a ser mediada por esses instrumentos.
E mantêm antes e depois da invenção dos instrumentos de medição, já que são fatores sociais que impulsionam a determinação do tempo físico, mas a determinação do tempo físico depende menos da do tempo social ao passar a ser mediada por esses instrumentos.

Questão 10

Considerando os sentidos do texto CG1A1-II, julgue os itens a seguir.

- I De acordo com o texto, a impressão de que “sociedade” e “natureza” são compartimentos distintos decorre de divergências entre os postulados das ciências sociais e os das ciências naturais.
 II No terceiro período, o autor emprega a primeira pessoa do plural para incluir o leitor em uma proposta de pensar o “tempo” como um processo em curso, em vez de um objeto imóvel.
 III Entende-se da leitura do último período que “o primeiro tipo” de medida corresponde à mensuração do tempo físico e “o segundo tipo”, à mensuração do tempo social.

Assinale a opção correta.

- A** Nenhum item está certo.
B Apenas o item II está certo.
C Apenas o item III está certo.
D Apenas os itens I e II estão certos.
E Todos os itens estão certos.

Questão 11

Assinale a opção em que é gramaticalmente correta a substituição de termo destacado do texto CG1A1-II.

- A** “alheio” (primeiro período) por **distante**
B “contribui” (primeiro período) por **ajudou**
C “constataremos” (terceiro período) por **perceberemos**
D “dependente” (último período) por **subordinado**
E “transformarmos” (terceiro período) por **transformássemos**

Questão 12

Assinale a opção em que a proposta de reescrita apresentada para trecho destacado do texto CG1A1-II mantém a correção gramatical e as ideias nele veiculadas.

- A** “que não podemos esperar resolvê-lo” (segundo período): **que não podemos o esperar resolver**
B “foi se tornando indireta” (quinto período): **foi tornando-se indireta**
C “foram as necessidades sociais que motivaram a mensuração” (sexto período): **as necessidades sociais é que motivou a mensuração**
D “impressão esta que foi reforçada” (primeiro período): **impressão na qual esta foi reforçada**
E “se explorarmos suas dimensões física e social (segundo período): **se caso exploramos sua dimensão física e a social**

Questão 13

No quinto período do texto CG1A1-II, o conector “porquanto” introduz segmento de sentido

- A** concessivo.
B conclusivo.
C opositivo.
D condicional.
E explicativo.

Questão 14

Acerca do emprego dos sinais de pontuação no texto CG1A1-II, julgue os itens a seguir.

- I No primeiro período, as aspas são usadas para assinalar que o autor se refere a um conceito particular, pessoal, de universo, sociedade e natureza.
- II O acréscimo de uma vírgula logo após “esta” (primeiro período) comprometeria a correção gramatical do texto.
- III Estaria mantida a correção gramatical do último período caso fosse inserido um travessão imediatamente depois da forma verbal “foi” e outro imediatamente depois de “ser”.

Assinale a opção correta.

- A** Nenhum item está certo.
- B** Apenas os itens I e II estão certos.
- C** Apenas os itens I e III estão certos.
- D** Apenas os itens II e III estão certos.
- E** Todos os itens estão certos.

Questão 15

Assinale a opção em que é apresentada proposta de reescrita gramaticalmente correta e coerente para o trecho “a despeito das influências recíprocas”, no último período do texto CG1A1-II.

- A** não obstante as influências recíprocas
- B** malgrado às influências recíprocas
- C** independentes da reciprocidade das influências
- D** ressalvado a reciprocidade das influências
- E** embora hajam influências recíprocas

RACIOCÍNIO LÓGICO**Texto CG1A2-I**

P: “Deus ajuda quem cedo madruga.”

Indicam-se, respectivamente, por *X*, *Y* e *Z* os conjuntos das pessoas para as quais são verdadeiras as afirmações “Deus ajuda essa pessoa”, “essa pessoa cedo madruga” e a afirmação presente em *P*, sendo os referidos conjuntos supostamente não vazios, e indica-se por $C_W S$ o complementar de *S* em *W*.

Questão 16

Assinale a opção em que é corretamente apresentada a relação determinada, no texto CG1A2-I, pela proposição *P* sobre os conjuntos *X* e *Y*.

- A** $X \cap Y = \{ \}$
- B** $X \subset Y$
- C** $Y \subset X$
- D** $X \cup Y = Z$
- E** $C_Z Y \subset C_Z X$

Questão 17

Considerando que, no texto CG1A2-I, João seja uma das pessoas que compõem o conjunto *Z*, assinale a opção em que a proposição apresentada pode ser falsa.

- A** Se Deus não o ajuda, João não madruga cedo.
- B** Se João cedo madruga, Deus o ajuda.
- C** João cedo madruga, ou Deus não o ajuda.
- D** Ou João cedo madruga, ou João não madruga cedo.
- E** João não madruga cedo, ou Deus o ajuda.

Questão 18

Assinale a opção em que é expressa corretamente a negação da proposição “Ser uma pessoa boa já é o suficiente.”.

- A** Não ser uma pessoa boa já não é o suficiente.
- B** Não ser uma pessoa boa já é o suficiente.
- C** Ser uma pessoa boa já não é o suficiente.
- D** Não ser uma pessoa ruim já é o suficiente.
- E** Ser uma pessoa ruim já é o suficiente.

Questão 19

Considere que, na elaboração de uma prova de concurso, as opções correspondentes aos gabaritos oficiais das questões tenham sido escolhidas de modo independente umas das outras. Nessa hipótese, se, ao responder a questão *X*, o candidato escolher aleatoriamente a opção que será marcada no caderno de respostas, desconsiderada aquela que escolheu na questão anterior à questão *X*, e supondo-se que o candidato acerte a questão anterior à questão *X*, a probabilidade de que ele erre a questão *X* é

- A** inferior a 50%.
- B** superior ou igual a 50% e inferior a 65%.
- C** superior ou igual a 65% e inferior a 70%.
- D** superior ou igual a 70 % e inferior a 85%.
- E** superior ou igual a 85%.

Questão 20

Ao investigar um possível crime de parcelamento irregular de terras, um agente de polícia identificou o seguinte padrão no comportamento do suspeito: este vendeu um lote por dia na primeira semana, três lotes por dia na segunda, cinco lotes por dia na terceira, seguindo esse mesmo padrão até o fim da quinta semana, quando então foi preso em flagrante.

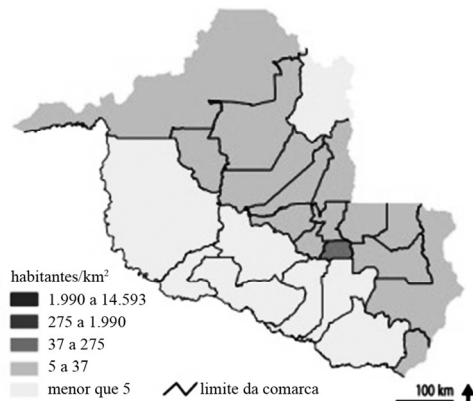
Nessa situação hipotética, supondo-se que tenham sido vendidos lotes todos os dias durante esse período, o total de lotes vendidos foi de

- A** 175.
- B** 25.
- C** 125.
- D** 63.
- E** 35.

Espaço livre

HISTÓRIA E GEOGRAFIA DE RONDÔNIA

Questão 21



Internet: <pesquisanacionaldefensoria.com.br> (com adaptações).

Tendo como referência o cartograma apresentado, que representa a distribuição da população por km² nas comarcas do estado de Rondônia com estimativa para o ano de 2021, assinale a opção correta.

- A A predominância do setor agropecuário, principal atividade econômica do estado, tem atraído pouca mão de obra e impactado o crescimento populacional dos municípios rondonienses, que apresentam taxas próximas de zero crescimento.
- B Em geral, os municípios rondonienses se caracterizam por baixas densidades demográficas, não havendo no estado de Rondônia nenhum município com densidade acima de 2.000 habitantes por km².
- C A distribuição da população pelos municípios rondonienses é relativamente equilibrada, havendo uma metrópole, a capital estadual, que concentra cerca de 50% da população do estado de Rondônia.
- D O município mais populoso do estado de Rondônia é a capital, Porto Velho, seguida pelas cidades médias Guajará Mirim, Primavera de Rondônia, Cacoal e Parecis.
- E Grande parte da população de Rondônia é originária do estado e seus grupos mais expressivos, na população local, são os indígenas.

Questão 22

“O ato que viria a instituir a liberdade de navegação no Amazonas partiria do Poder Executivo, através de um Decreto de 7 de dezembro de 1866, que abria, aos navios mercantes, o Amazonas até a fronteira, mas também o Tocantins até Cametá, o Tapajós até Santarém, o Madeira até Borba, o Negro até Manaus e o São Francisco até Penedo.”

Internet: <funag.gov.br> (com adaptações).

A abertura da bacia Amazônica à navegação internacional data do século XIX e, até a atualidade, tem representado um modal de transporte essencial ao desenvolvimento regional.

Considerando o fragmento de texto e as informações apresentadas anteriormente, assinale a opção correta em relação à abertura do rio Amazonas à navegação internacional.

- A Os Estados Unidos da América tinham interesse no controle da navegação na bacia amazônica, para defender os seus territórios na Guiana e no Panamá.
- B A abertura do rio Amazonas à navegação, em território brasileiro, de navios estrangeiros gerou um forte sentimento contrário ao Brasil nos países vizinhos, Bolívia, Equador, Colômbia e Venezuela, que proibiam esse tipo de navegação em seus territórios.
- C A enorme extensão territorial, o escasso povoamento e as dificuldades de controle do território eram vistos como ameaças de perda de domínio dos recursos da Amazônia diante de interesses estrangeiros.
- D Durante o século XIX a expansão das ferrovias e o interesse de investimento das empresas estrangeiras fizeram das ferrovias da Amazônia uma forte concorrente ao transporte fluvial.
- E Em relação à navegação na bacia amazônica, não havia um consenso entre os países da região, voltados mais ao oceano Pacífico do que ao Atlântico.

Questão 23

Considerando que o estado de Rondônia apresenta em sua formação socioespacial diversos grupos étnicos e comunidades tradicionais, assinale a opção correta a respeito da submissão e resistência desses grupos.

- A A expansão da agropecuária em território rondoniense afastou os grupos indígenas isolados para outros estados da Amazônia, resultando em migração forçada e ausência, na atualidade, de grupos indígenas no estado de Rondônia.
- B A colonização de Rondônia ocorreu no século XX, o que indica a inexistência de populações tradicionais no estado.
- C O Vale do Guaporé é a região de Rondônia com maior presença de terras remanescentes de quilombos, como a Comunidade de Jesus, primeiro território reconhecido como quilombola no estado.
- D Os grupos indígenas rondonienses passaram por processos de aculturação e de miscigenação com os colonizadores, perdendo assim sua identidade cultural e étnica.
- E Os indígenas em Rondônia não impuseram resistência ao contato com o colonizador, o que facilitou a demarcação de terras indígenas.

Questão 24



Internet: <www.brasil-turismo.com> (com adaptações).

A figura anterior retrata o traçado da ferrovia Madeira Mamoré, conforme o mapa da estrada de ferro Madeira-Mamoré, em 1937, parte do *Mappa da Viação Ferrea dos E.U. do Brasil*, Guia Levi.

Considerando a figura e as informações apresentadas, assinale a opção correta.

- A** A rota fluvial dos rios Madeira e Mamoré está mais próxima do oceano Atlântico, o que diminuiria os custos e facilitaria os processos de escoamento da produção boliviana e de importação de produtos para esse país sul-americano.
- B** A grande produção mineral boliviana de prata, cobre e lítio necessitava ser exportada para os mercados europeu e norte-americano, o que, por se tratar de produtos com elevado peso de carga, seria mais adequado ao transporte ferroviário e fluvial.
- C** A construção de outras duas ferrovias no território boliviano e as saídas para o Pacífico, através do Chile, tornaram a ferrovia Madeira Mamoré obsoleta e de alto custo, condenando-a ao abandono.
- D** A ferrovia Madeira Mamoré, inaugurada em 1910, foi a primeira linha férrea construída no Brasil.
- E** O Tratado de Ayacucho (1867) reconhecia a saída da Bolívia para o oceano Atlântico, através da ferrovia Madeira Mamoré, e a utilização de Porto Velho como aduana e porto binacional.

Questão 25

O rio Madeira constitui a principal bacia hidrográfica do estado de Rondônia e o rio Guaporé, com seus sete afluentes principais, foi, desde o período colonial, um eixo de ocupação do atual território rondoniense.

Considerando as informações apresentadas, assinale a opção correta a respeito do mercantilismo e das políticas de colonização dos vales dos rios Madeira e Guaporé.

- A** A ferrovia Madeira Mamoré foi projetada e construída para ser uma saída da Bolívia para o oceano Atlântico, após disputas da Bolívia com seus vizinhos, Peru e Chile, e após o litígio com o Brasil pelo território do Acre.
- B** Durante o período conhecido como primeiro ciclo da borracha, houve a criação das duas primeiras cidades do atual estado de Rondônia, as cidades de Porto Velho e Ji-Paraná.
- C** A definição das fronteiras entre Brasil e Bolívia ocorreu ainda no período imperial brasileiro (1888), com a incorporação dos territórios do Acre e do Guaporé (atual Rondônia) ao Brasil.
- D** O ciclo da borracha, entre o século XIX e o início do século XX, ocasionou o surgimento de cidades e polos industriais no vale dos rios Madeira e Guaporé, bem como fluxos migratórios que intensificaram o povoamento do estado de Rondônia.
- E** Após a independência do Brasil (1822) e da Bolívia (1825), os rios Madeira e Guaporé foram uma alternativa de baixo custo para o transporte hidroviário entre a Amazônia brasileira e a região do Beni, no país vizinho, rica em recursos minerais.

Questão 26

EVOLUÇÃO TERRITORIAL DO MUNICÍPIO DE PORTO VELHO

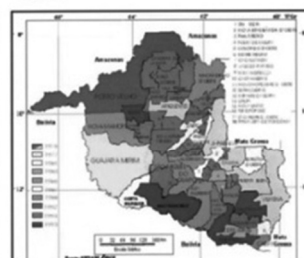
TERRITÓRIO FEDERAL DE RONDÔNIA - 1976

TERRITÓRIO FEDERAL DE RONDÔNIA - 1977



ESTADO DE RONDÔNIA - 1992

ESTADO DE RONDÔNIA - 2002



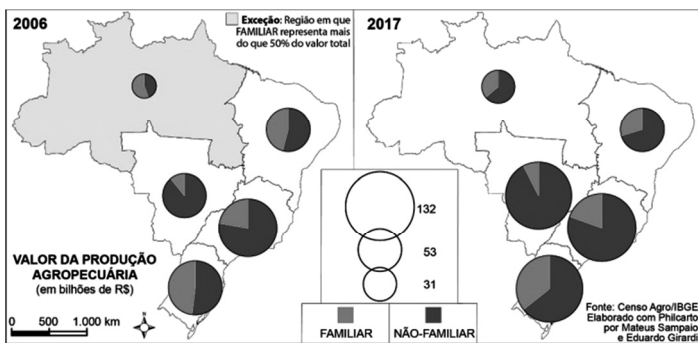
Internet: <sempog.portovelho.ro.gov.br> (com adaptações).

O conjunto de cartogramas apresentado retrata a evolução político administrativa do município de Porto Velho e do estado de Rondônia, desde o período em que o estado era território federal (1976) até o início do século XXI (2002).

Acerca da evolução político administrativa do estado de Rondônia, assinale a opção correta.

- A** A rede urbana de Rondônia em grande parte deriva de núcleos de povoamento criados, nos séculos XIX e XX, a partir das missões militares coordenadas pelo Marechal Rondon.
- B** O nome Rondônia foi dado em homenagem ao Marechal Rondon, a partir da criação do estado em 1956.
- C** A transformação do território federal em estado, em conjunto com diversas políticas de ocupação, possibilitou, a partir da segunda metade do século XX, a criação de diversos novos municípios.
- D** A construção da rodovia BR-364, popularmente chamada Cuiabá-Santarém, seguiu o traçado da expedição do Marechal Rondon e foi o eixo de criação de diversos municípios em Rondônia.
- E** As terras férteis e a extensa rede hidrográfica permitiram a colonização agrícola de Rondônia e a criação de diversos municípios a partir do governo Juscelino Kubistchek (1956-1960).

Questão 27



Internet: <journals.openedition.org> (com adaptações).

Considerando que os cartogramas anteriores representam as dinâmicas dos setores da agropecuária no território brasileiro, assinale a opção correta no que diz respeito especialmente ao estado de Rondônia, na Amazônia.

- A Nos dois períodos em análise verifica-se a expansão da produção de grãos em todas as regiões brasileiras, como a de soja e cana-de-açúcar em Rondônia.
- B A agricultura familiar tem sido reestruturada em Rondônia, contribuindo para a diversificação produtiva, o aumento da produção de commodities e a produção consorciada com a pecuária bovina.
- C O modelo de expansão da agropecuária, em Rondônia, ocorre a partir da agricultura familiar e da pequena propriedade rural.
- D Em Rondônia, a expansão dos setores produtivos da agropecuária tem intensificado a ocupação de áreas devolutas e vazios demográficos, cumprindo o papel de desenvolvimento regional e de resolução de conflitos no campo brasileiro.
- E No estado de Rondônia, o arco do desmatamento avança em paralelo à expansão da agropecuária e, nos demais estados da Amazônia, o arco do desmatamento avança especialmente em paralelo à expansão da pecuária bovina, que cria pastagens em áreas anteriormente de floresta.

Questão 28

Considerando que o processo de ocupação da Amazônia por populações de fora do território ocorre em diversos movimentos a partir do período colonial, assinale a opção correta em relação aos processos de exploração, conquista e colonização da Amazônia.

- A Na segunda metade do século XX, a ocupação do território da Amazônia ocorreu a partir da implantação de rodovias, em especial a Transamazônica, que criou frentes de ocupação do território, apesar de não ter sido concluída em seu projeto original.
- B A colonização da Amazônia, em especial no século XX, incorporou a noção de espaço transnacional, reconhecendo que outros países detêm territórios na região e reconhecendo também a necessidade de cooperação internacional com países de outros continentes.
- C A ocupação do território a partir de rodovias dá-se em paralelo à concessão de grandes áreas para exploração agropecuária e expansão da indústria sob comando de empresas transnacionais.
- D A colonização da Amazônia inicia-se no século XVIII sob o lema “integrar para não entregar”, criado pelo Primeiro Ministro de Portugal, o Marquês de Pombal, que temia a ocupação espanhola da região.
- E As rodovias Transamazônica e Cuiabá-Santarém integraram uma rede de cidades ribeirinhas, intensificando o processo de colonização da região a partir do início do século XX.

Questão 29

No que se refere aos ciclos da borracha, na Amazônia, assinale a opção correta.

- A Os ciclos da borracha na Amazônia atraíram migrantes de diversos países para o Brasil, com destaque para os japoneses, bolivianos e peruanos.
- B A exploração da borracha na Amazônia, durante os séculos XIX e XX, foi um projeto geopolítico nacional criado pela União para grupos privados nacionais.
- C O modelo de implantação dos seringais respeitou as terras indígenas previamente demarcadas, evitando assim o choque civilizatório entre o seringueiro e as tribos indígenas.
- D Os trabalhadores dos seringais eram submetidos a regimes de trabalho extenuantes e à intensa exploração de sua força de trabalho.
- E A popularização da borracha galvanizada ocorreu a partir do século XVIII, mediante a Revolução Industrial na Inglaterra, que utilizou essa matéria prima em diversos produtos.

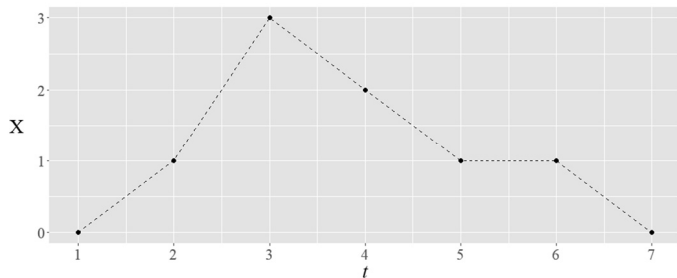
Questão 30

Nos últimos anos, os evangélicos pentecostais e neopentecostais têm crescido, em número de fiéis, no Brasil, especialmente nos estados amazônicos.

Internet: <revistasenso.com.br> (com adaptações).

Considerando as informações apresentadas, assinale a opção correta.

- A Nos estados da Amazônia ocidental, como Acre, Amazonas, Rondônia e Roraima, há forte difusão das igrejas neopentecostais em comunidades indígenas, o que representa uma ameaça à cultura tradicional desses povos.
- B A influência neopentecostal é maior nas cidades pequenas do interior da Amazônia, em razão da capilaridade de redes missionárias e templos, do que nas capitais e cidades médias, onde o catolicismo é um entrave a esse avanço.
- C A igreja metodista neopentecostal é a de maior número de fiéis, pois foi a primeira denominação a realizar evangelização no interior da Amazônia.
- D Na colonização, a Amazônia sofreu o processo de aculturação, a partir da entrada da Igreja Católica Apostólica Romana; já as igrejas protestantes iniciaram sua evangelização a partir da segunda metade do século XX, acompanhando as frentes pioneiras de ocupação do território da Amazônia.
- E São consideradas igrejas protestantes tradicionais as denominações Assembleia de Deus, Igreja Universal do Reino de Deus, Igreja Deus é Amor e Igreja Quadrangular, presentes em todos os estados da Amazônia.

-- CONHECIMENTOS ESPECÍFICOS --**NOÇÕES DE ESTATÍSTICA****Questão 31**

Conforme a figura precedente, que mostra os valores da variável X obtidos em uma amostra de tamanho $n = 7$, tem-se que a moda de X é igual a

- A** 0.
- B** 1.
- C** 1,5.
- D** 3.
- E** 2.

Questão 32

Para a estimação de uma proporção p por meio de amostragem aleatória simples (com reposição) de tamanho $n = 100$, considere que o estimador dessa proporção seja

$$\hat{p} = \frac{T}{100},$$

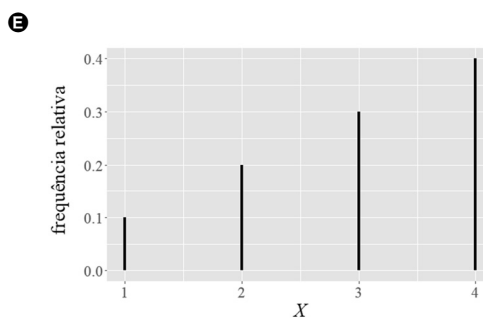
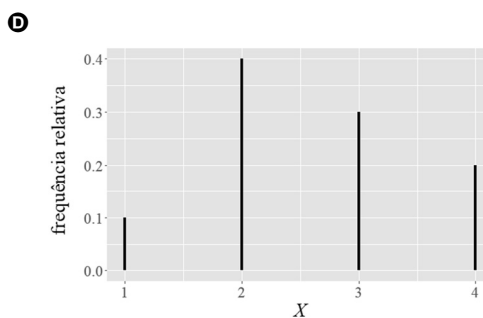
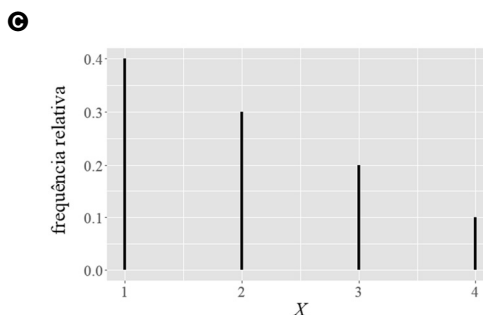
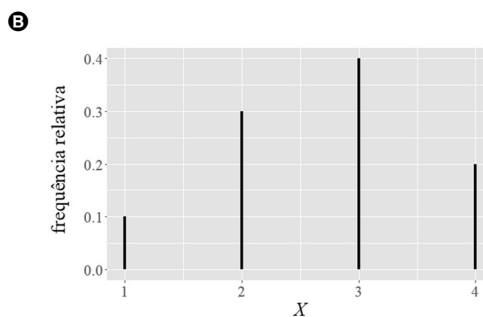
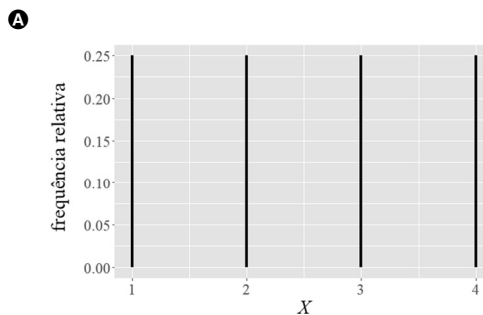
em que T representa uma soma de valores 1 (sucessos) ou 0 (fracassos). Se a estimativa da variância de \hat{p} for igual a 0,0025, então \hat{p} será igual a

- A** 0,95.
- B** 0,05.
- C** 0,25.
- D** 0,50.
- E** 0,75.

Espaço livre

Questão 33

A figura que representa a distribuição de uma variável X com média amostral e mediana amostral iguais a 3 é



Questão 34

Um andarilho pode chegar a determinado destino (C) partindo de uma origem A ou B. A probabilidade de ele chegar em C a partir de A é representada pela probabilidade condicional $P(C|A) = 0,3$, enquanto a probabilidade de ele chegar em C a partir de B é representada pela probabilidade condicional $P(C|B) = 0,2$.

Considerando-se a situação hipotética apresentada, e ainda que $P(A) = P(B) = 0,5$, é correto afirmar que $P(C)$ é igual a

- A 0,25.
- B 0,30.
- C 1,00.
- D 0,50.
- E 0,75.

Questão 35

Caso uma amostra aleatória simples (com reposição) de tamanho $n = 400$ seja retirada de uma população com média desconhecida e desvio padrão 6, então o erro padrão da média amostral será igual a

- A 6.
- B 0,3.
- C 1,8.
- D 1.
- E 0,9.

NOÇÕES DE INFORMÁTICA**Questão 36**

O dispositivo utilizado para se criar uma DMZ (zona desmilitarizada) e para se oferecer mais segurança ao ambiente de rede é chamado de

- A *firewall*.
- B antivírus.
- C *arpanet*.
- D *.mil*.
- E servidor.

Questão 37

Um tipo de *malware* que, ao infectar um computador, pode tanto criptografar dados de arquivos individuais quanto corromper algumas funções básicas do computador, realizando uma extorsão cuja recuperação é feita mediante algum tipo de resgate, é o

- A *backdoor*.
- B *rootkit*.
- C *screenlogger*.
- D *ransomware*.
- E *spyware*.

Questão 38

No Explorador de Arquivos do Windows, a opção que permite disponibilizar um arquivo na nuvem para um usuário, seja por meio do seu endereço de *email* ou envio do *link* de acesso ao arquivo, é

- A Exibir online.
- B Compartilhar.
- C Conceder acesso a.
- D Abrir com.
- E Enviar para.

Questão 39

O *backup* que se faz toda vez em que arquivos são alterados, copiando-se apenas os arquivos que foram alterados desde o último *backup*, seja ele incremental ou completo, chama-se de

- A incremental.
- B diferencial.
- C compactado.
- D completo.
- E espelhado.

Questão 40

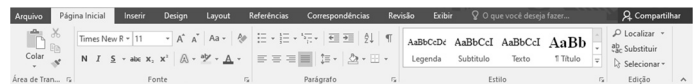
No MS Word, a orientação da página é um recurso de configuração de página adequado para permitir alternância entre os modos

- A recuo e espaçamento.
- B cabeçalho e rodapé.
- C A4 e carta.
- D linha e coluna.
- E retrato e paisagem.

Questão 41

Ao se revisar um texto no MS Word, é possível realizar alterações no texto e na formatação do documento de modo que tais mudanças fiquem visíveis para fins de rastreamento. Tal recurso chama-se

- A Salvar como.
- B Marcação Simples.
- C Mostrar Comentários.
- D Ortografia e Gramática.
- E Comparar.

**Questão 42**

No MS Word, o botão  indica o comando destinado a

- A alterar espaçamento de linha e parágrafo.
- B adicionar uma tabela.
- C ajustar layout de colunas.
- D definir margens personalizadas.
- E adicionar ou remover bordas.


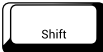













Questão 43

No MS Word, o botão  da barra de ferramentas permite o uso do recurso

- A Sublinhado.
- B Cor da Fonte.
- C Efeitos de Texto e Tipografia.
- D Limpar Toda Formatação.
- E Cor do Realce do Texto.

Questão 44

No MS Windows, o comando utilizado para se ausentar de uma sessão, de modo a bloquear a estação de trabalho contra acesso indevido, mantendo-se o computador ligado e os programas em uso ativos, é o

- A  +  + 
- B  +  +  e Trocar Usuário.
- C  +  +  e Gerenciador de Tarefas.
- D  +  +  e Bloquear.
- E  +  +  e Sair.

Questão 45

No MS Windows, uma das opções para se fazer o *backup* apenas das pastas e arquivos selecionados pelo usuário, indicando-se a periodicidade e o período de disponibilidade do *backup*, é chamada de

- A Fazer o backup de arquivos no OneDrive.
- B Fazer backup usando Histórico de arquivos.
- C Fazer backup agora.
- D Fazer backup em uma unidade diferente.
- E Restaurar arquivos de um backup atual.

NOÇÕES DE ADMINISTRAÇÃO**Questão 46**

Entre as abordagens adotadas na ciência da administração, aquela que integra o enfoque técnico ao enfoque comportamental é a abordagem

- A burocrática.
- B sistêmica.
- C científica.
- D clássica.
- E contingencial.

Questão 47

Na administração empreendedora, promovida durante a Reforma de 1995, adotava-se como princípio o governo

- A patrimonialista e orientado por missões.
- B catalisador e antecipatório.
- C burocrático e centralizado.
- D competitivo e patrimonial.
- E procedimental e descentralizado.

Questão 48

Faz parte do processo administrativo a função de planejamento, que prevê o(a)

- A definição de objetivos organizacionais.
- B definição dos padrões de desempenho individual.
- C atribuição de responsabilidades.
- D estabelecimento de ações corretivas.
- E preenchimento de cargos.

Questão 49

Considerando-se que a função organizacional de planejamento utiliza ferramentas permanentes e ferramentas de uso único, é correto afirmar que são exemplos de ferramentas permanentes e singulares, respectivamente,

- A cronogramas e calendários.
- B calendários e políticas organizacionais.
- C orçamentos e calendários.
- D missão organizacional e políticas organizacionais.
- E políticas organizacionais e orçamentos.

Questão 50

Quanto mais níveis de autoridade há em uma estrutura organizacional, mais

- A verticalizada ela é.
- B a departamentalização por cliente é adotada.
- C horizontalizada ela é.
- D a departamentalização funcional é adotada.
- E a departamentalização territorial é adotada.

Questão 51

Entre as funções de gestão de pessoas, destaca-se a de captação, que é responsável por atrair e reter talentos e engloba

- A o planejamento da sucessão.
- B o desenho de carreiras.
- C o desenho de cargos.
- D os estudos sobre cenários para mercado de trabalho.
- E a avaliação de desempenho.

Questão 52

Gestão de talentos e competências e definição de políticas para gestão de pessoas são atividades típicas de nível

- A estratégico.
- B gerencial.
- C administrativo.
- D operacional.
- E tático.

Questão 53

Na cultura organizacional, são exemplos de componentes observáveis e componentes não observáveis, respectivamente,

- A descrições de cargos e políticas de pessoal.
- B sentimentos e tecnologias.
- C valores e normas do grupo.
- D atitudes dos indivíduos e expectativas pessoais.
- E estrutura organizacional e relações afetivas.

Questão 54

A Agência Nacional de Cinema (ANCINE) e o Banco Central do Brasil (BACEN) são entes

- A da administração direta.
- B da administração funcional e indireta, respectivamente.
- C da administração funcional.
- D da administração indireta.
- E da administração direta e indireta, respectivamente.

Questão 55

Julgue os próximos itens, de acordo com o que prevê a Lei n.º 14.133/2021 (nova Lei de Licitações e Contratos), que rege a administração de recursos materiais no setor público e estabelece as normas para aquisição de bens e serviços necessários à prestação de serviços públicos no Brasil.

- I As determinações da Lei n.º 14.133/2021 se aplicam sempre que houver uso de recursos públicos por órgãos da administração direta, indireta, fundacional e por sociedades de economia mista.
- II As determinações da Lei n.º 14.133/2021 abrangem os fundos especiais e demais entidades sujeitas a controle direto ou indireto da administração pública.
- III As determinações da Lei n.º 14.133/2021 abrangem os órgãos do Poder Judiciário dos estados e municípios quando no desempenho de função administrativa.

Assinale a opção correta.

- A Apenas o item I está certo.
- B Apenas os itens I e III estão certos.
- C Apenas os itens I e II estão certos.
- D Apenas os itens II e III estão certos.
- E Todos os itens estão certos.

NOÇÕES DE CONTABILIDADE**Questão 56**

As características qualitativas fundamentais de informações financeiras úteis são

- A a relevância e a representação fidedigna.
- B a comparabilidade e a verificabilidade.
- C a tempestividade e a compreensibilidade.
- D a consistência e a confiabilidade.
- E a materialidade e o custo-benefício.

Questão 57

fornecedores	22.000
ativo imobilizado	35.000
caixa e equivalentes de caixa	10.000
depreciação acumulada	4.000
estoques	24.000
empréstimos a pagar no longo prazo	30.000

Considerando que as informações (em reais) acima se refiram ao primeiro exercício financeiro de determinada entidade, assinale a opção em que é apresentado corretamente o valor da situação líquida patrimonial desse período.

- A** negativa em R\$ 11.000,00
- B** negativa em R\$ 7.000,00
- C** positiva em R\$ 7.000,00
- D** positiva em R\$ 13.000,00
- E** positiva em R\$ 17.000,00

Questão 58

Assinale a opção em que o fato administrativo apresentado corresponde ao conceito de fato administrativo permutativo.

- A** venda de equipamento com desconto
- B** prestação de serviços com recebimento à vista
- C** recebimento de bem em doação
- D** pagamento de fornecedores
- E** baixa de bem inservível

Questão 59

Considerando os conceitos de débitos e créditos das contas contábeis, assinale a opção em que todas as contas contábeis relacionadas são de natureza credora.

- A** caixa e equivalentes de caixa; contas a receber; máquinas e equipamentos
- B** despesas com salários; máquinas e equipamentos; receita de vendas
- C** contas a receber; empréstimos a pagar; salários a pagar
- D** empréstimos a pagar; salários a pagar; receita de vendas
- E** caixa e equivalentes de caixa; despesas com salários; empréstimos a pagar

Questão 60

Assinale a opção que apresenta corretamente a classificação das contas especificadas em relação ao plano de contas.

- A** despesas de pessoal: resultado; imóveis: ativo; receita de vendas: resultado; fornecedores: passivo; caixa e equivalentes de caixa: ativo.
- B** despesas de pessoal: ativo; imóveis: ativo; receita de vendas: resultado; fornecedores: passivo; caixa e equivalentes de caixa: resultado.
- C** despesas de pessoal: resultado; imóveis: passivo; receita de vendas: resultado; fornecedores: ativo; caixa e equivalentes de caixa: passivo.
- D** despesas de pessoal: passivo; imóveis: resultado; receita de vendas: ativo; fornecedores: passivo; caixa e equivalentes de caixa: ativo.
- E** despesas de pessoal: ativo; imóveis: ativo; receita de vendas: passivo; fornecedores: passivo; caixa e equivalentes de caixa: resultado.

Questão 61

No que diz respeito ao registro contábil de uma compra de veículo à vista, é correto afirmar que uma conta de

- A** ativo será debitada e uma conta de passivo será creditada.
- B** ativo será debitada e uma conta de ativo será creditada.
- C** passivo será debitada e uma conta de resultado será creditada.
- D** resultado será debitada e uma conta de passivo será creditada.
- E** resultado será debitada e uma conta de ativo será creditada.

Questão 62

Ao realizar a conciliação bancária, o profissional contábil verificou que o extrato bancário da conta corrente da empresa X apresentava um saldo de R\$ 9.200,00 enquanto a razão contábil, na mesma data, apresentava um saldo de R\$ 6.450,00, tendo sido necessários os seguintes ajustes:

- 1 cobrança de despesa bancária de R\$ 100,00 pelo banco, ainda não contabilizada;
- 2 emissão de cheque já contabilizado pela empresa no valor de R\$ 1.400,00, ainda não sacado pelo favorecido; e
- 3 depósito de PIX à vista em favor da empresa no valor de R\$ 1.450,00, ainda não contabilizado.

Nessa situação, o valor em conta corrente após a conciliação bancária efetuada seria de

- A** R\$ 2.750,00.
- B** R\$ 6.350,00.
- C** R\$ 6.450,00.
- D** R\$ 7.800,00.
- E** R\$ 7.900,00.

Questão 63

De acordo com o disposto no Pronunciamento Técnico CPC 26 – Apresentação das Demonstrações Contábeis, o ativo não circulante, na composição do balanço patrimonial, deve ser subdividido em

- A** bens de infraestrutura, bens ambientais e bens culturais.
- B** bens próprios, bens de terceiros e bens a classificar.
- C** realizável a longo prazo, investimentos, imobilizado e intangível.
- D** móveis, imóveis, tangíveis e intangíveis.
- E** bens de uso administrativo, bens de uso comum e bens de uso especial.

Questão 64

Os seguintes eventos foram contabilizados na demonstração de resultado da empresa Y em determinado exercício financeiro:

- 1 receita de vendas R\$ 40.000,00;
- 2 despesas de pessoal R\$ 32.000,00;
- 3 descontos recebidos R\$ 2.000,00;
- 4 recebimento de bem em doação R\$ 28.000,00;
- 5 despesas de água, luz e telefone R\$ 6.000,00; e
- 6 baixa de bem inservível R\$ 14.000,00.

Nessa situação, o resultado no referido exercício indica

- A** prejuízo de R\$ 10.000,00.
- B** lucro de R\$ 2.000,00.
- C** lucro de R\$ 4.000,00.
- D** lucro de R\$ 8.000,00.
- E** lucro de R\$ 18.000,00.

Questão 65

Os estágios da execução da despesa orçamentária no setor público são

- A** lançamento, liquidação e recolhimento.
- B** empenho, liquidação, e pagamento.
- C** lançamento, arrecadação e recolhimento.
- D** fixação, descentralização e execução.
- E** previsão, fixação e pagamento.

**NOÇÕES DE DIREITO PENAL
E PROCESSUAL PENAL**

Questão 66

A prisão preventiva será admitida

- A** se houver dúvida sobre a identidade civil do suspeito ou quando este não fornecer elementos suficientes para esclarecê-la.
- B** nos crimes dolosos ou culposos punidos com pena privativa de liberdade máxima superior a quatro anos.
- C** pelo prazo máximo de cinco dias, prorrogável por igual período, em caso de extrema e comprovada necessidade.
- D** nos crimes punidos com reclusão, podendo ser decretada de ofício pelo juiz.
- E** nos crimes elencados em rol taxativo, durante o inquérito policial e no curso da ação penal.

Questão 67

Assinale a opção correta com relação à prisão em flagrante.

- A** O flagrante ilegal pode ser convertido em prisão preventiva.
- B** As infrações penais permanentes não admitem prisão em flagrante.
- C** A pessoa encontrada, logo depois do fato, com objetos que façam presumir ser ela autora da infração, pode ser considerada como em situação de flagrância.
- D** O auto de prisão em flagrante será encaminhado ao juiz, e, no mesmo dia em que efetuada sua prisão, serão comunicados o Ministério Público, a Defensoria Pública, a família ou a pessoa indicada pelo flagranteado.
- E** O flagrante após perseguição do autor é legal, desde que não seja efetuado depois de ultrapassadas vinte e quatro horas da infração penal.

Questão 68

Valdo está sendo investigado pelo crime de extorsão, em liberdade. Há indícios de que agiu com um comparsa.

Nessa situação hipotética, em tese,

- A** o crime imputado na investigação não preenche os requisitos de admissibilidade para decretação de prisão temporária.
- B** como Valdo está solto, o inquérito deverá terminar no prazo de trinta dias, podendo ser prorrogado.
- C** ao ser indiciado, Valdo deve ser ouvido e o termo, após ter sido lido em voz alta, deve ser assinado pelo escrivão, dispensando-se a assinatura por testemunhas, caso Valdo saiba ler e escrever.
- D** para a instauração do inquérito policial, é necessária representação da vítima de extorsão.
- E** caso Valdo denuncie o comparsa à autoridade, terá sua pena reduzida de um a dois terços.

Questão 69

A e B desejam a morte de C e ambos, sem saber da intenção do outro e sem combinação prévia, atiram contra a vítima. A vítima morre em decorrência de um dos tiros; o outro tiro, conforme verificado em exame pericial, atingiu a vítima de raspão. Não foi possível identificar a autoria do tiro mortal.

Na situação hipotética apresentada, A e B podem responder por

- A** homicídio culposo.
- B** lesão corporal seguida de morte.
- C** homicídio doloso tentado, com concurso de pessoas.
- D** homicídio doloso consumado, sem concurso de pessoas.
- E** homicídio doloso tentado, sem concurso de pessoas.

Questão 70

Em relação às excludentes de ilicitude, assinale a opção correta.

- A** A legítima defesa sucessiva é a que se origina após a agressão inicial e excede a causa.
- B** Os ofendículos são artefatos utilizados para defesa do bem jurídico e configuram estado de necessidade.
- C** O Código Penal não admite a legítima defesa real recíproca.
- D** Na legítima defesa, o excesso será punido apenas na modalidade dolosa.
- E** Na legítima defesa putativa, o agente responderá pelo crime doloso na modalidade tentada.

Questão 71

João foi preso logo após ter matado dolosamente a esposa, mãe de seu filho com dois meses de vida. Durante a lavratura do auto de prisão em flagrante, ele confessou que praticou o ato por ciúmes.

Considerando a situação hipotética apresentada, assinale a opção correta.

- A** Ao assumir a culpa, fica comprovada a autoria e materialidade do crime e justifica-se a manutenção da prisão.
- B** A criança ficará sob a guarda do Conselho Tutelar, já que, ao matar a esposa, João deixa de ser responsável por ela e não pode indicar alguém que o seja.
- C** Por ter filho menor de seis anos de idade sem outro representante legal, é inadmissível a decretação de prisão preventiva.
- D** A identificação datiloscópica será obrigatória e a oitiva de João durante a lavratura do auto não observa o procedimento do interrogatório judicial.
- E** A conduta de João configura o crime de feminicídio com uma causa específica de aumento de pena.

Questão 72

Em relação à prisão cautelar, assinale a opção correta.

- A** Qualquer agente policial poderá cumprir mandado de prisão registrado no Conselho Nacional de Justiça, desde que na competência territorial do juiz que o expediu.
- B** A prisão preventiva é admitida nos crimes dolosos e culposos com pena privativa de liberdade máxima superior a quatro anos.
- C** A prisão temporária pode ser decretada durante o inquérito ou ação penal por solicitação do delegado ou do Ministério Público nos crimes previstos no rol taxativo.
- D** Configura flagrante quando o executor persegue o autor do fato e, tendo-o avistado, vai no seu enalço sem interrupção.
- E** Em até 24 horas após o ocorrido, o auto de prisão em flagrante deverá ser encaminhado ao juiz e a nota de culpa para a Defensoria Pública.

Questão 73

Quanto ao inquérito policial, assinale a opção correta.

- A** Mesmo com a extinção da punibilidade do investigado, o delegado não pode arquivar o inquérito policial.
- B** O juiz pode fundamentar a sentença exclusivamente nos elementos informativos colhidos na investigação.
- C** No crime de estupro, a instauração do inquérito policial depende de representação da vítima no prazo legal.
- D** Em regra é cabível o desarquivamento do inquérito quando este tiver ocorrido por atipicidade do fato.
- E** O inquérito é um procedimento indispensável para reunir elementos para a propositura da ação penal.

Questão 74

De acordo com o que o Código Penal estabelece quanto ao concurso de pessoas, assinale a opção correta.

- A** Quem, de qualquer modo, concorre para o crime incide nas penas a este cominadas, na medida de sua punibilidade.
- B** Não se comunicam as circunstâncias e as condições de caráter pessoal, salvo quando elementares do crime.
- C** Em regra, a participação na modalidade de instigação é punida, ainda que o crime não seja sequer tentado.
- D** A mesma pena é aplicável a todos os coautores, ainda que a participação seja de menor importância.
- E** No caso de concorrente que quis participar de crime menos grave, o juiz pode deixar de aplicar a pena.

Questão 75

Considerando os crimes contra a administração pública, assinale a opção correta.

- A** É atípica a conduta do indivíduo que assume perante a autoridade policial a prática de contravenção penal cometida por outra pessoa.
- B** O indiciado por latrocínio que altera suas feições por cirurgia plástica para evitar ser responsabilizado criminalmente não comete crime.
- C** É isenta de pena a conduta da mãe do criminoso que, não sendo coautora ou receptadora, lhe presta auxílio para tornar seguro o proveito do crime.
- D** O crime de coação no curso do processo exige como elemento do tipo que a violência ocorra em processo judicial, penal ou civil, em curso.
- E** O preposto que promete dinheiro à testemunha para que esta minta em processo trabalhista responde como coautor do crime de falso testemunho.

NOÇÕES DE DIREITO CONSTITUCIONAL**Questão 76**

Segundo a Convenção Americana sobre Direitos Humanos, a Comissão Interamericana de Direitos Humanos é composta por

- A** 5 membros e tem competência para conhecer de qualquer caso relativo à interpretação e aplicação das disposições desta Convenção que lhe seja submetido.
- B** 9 membros e tem competência para conhecer de qualquer caso relativo à interpretação e aplicação das disposições desta Convenção que lhe seja submetido.
- C** 5 membros e tem a função principal de promover a observância e a defesa dos direitos humanos.
- D** 7 membros e tem competência para conhecer de qualquer caso relativo à interpretação e aplicação das disposições desta Convenção que lhe seja submetido.
- E** 7 membros e tem a função principal de promover a observância e a defesa dos direitos humanos.

Questão 77

Acerca da Convenção Americana sobre Direitos Humanos, julgue os seguintes itens.

- I Salvo em circunstâncias excepcionais, os processados devem ficar separados dos condenados.
- II Toda pessoa detida ou retida deve ser informada das razões da sua detenção, sem necessidade de ser notificada das acusações formuladas contra ela.
- III Permite-se a expulsão coletiva de estrangeiros.

Assinale a opção correta.

- A** Apenas o item I está certo.
- B** Apenas o item II está certo.
- C** Apenas os itens I e III estão certos.
- D** Apenas os itens II e III estão certos.
- E** Todos os itens estão certos.

Questão 78

Segundo a Constituição Federal de 1988, é assegurado à categoria dos trabalhadores domésticos o direito

- A** ao adicional de remuneração para as atividades penosas, insalubres ou perigosas.
- B** à proteção em face da automação.
- C** ao seguro-desemprego, em caso de desemprego involuntário.
- D** ao piso salarial proporcional à extensão e à complexidade do trabalho.
- E** à proteção do mercado de trabalho da mulher, mediante incentivos específicos.

Questão 79

De acordo com o texto constitucional, as normas definidoras dos direitos e garantias fundamentais têm aplicação

- A** mediata.
- B** imediata.
- C** diferida.
- D** limitada.
- E** indireta.

Questão 80

É símbolo da República Federativa do Brasil o(a)

- A** moeda.
- B** língua portuguesa.
- C** território.
- D** brasão.
- E** selo nacional.

Questão 81

No Brasil, é proibido qualquer trabalho a menor de

- A** dezoito anos, salvo na condição de aprendiz, a partir de dezesseis anos.
- B** dezesseis anos, salvo na condição de aprendiz, a partir de quatorze anos.
- C** dezesseis anos, salvo na condição de aprendiz, a partir de quinze anos.
- D** dezoito anos, salvo na condição de aprendiz, a partir de quatorze anos.
- E** dezoito anos, salvo na condição de aprendiz, a partir de quinze anos.

Questão 82

Segundo o texto constitucional, são necessariamente gratuitas as ações de

- A *habeas corpus* e *habeas data*.
- B mandado de segurança e mandado de injunção.
- C *habeas corpus* e ação popular.
- D *habeas corpus* e mandado de segurança.
- E mandado de segurança e ação popular.

Questão 83

É direito dos trabalhadores a ação, quanto aos créditos resultantes das relações de trabalho, com prazo prescricional de

- A dois anos para os trabalhadores urbanos e rurais, até o limite de um ano após a extinção do contrato de trabalho.
- B cinco anos para os trabalhadores urbanos e rurais, até o limite de um ano após a extinção do contrato de trabalho.
- C cinco anos para os trabalhadores urbanos e rurais, até o limite de dois anos após a extinção do contrato de trabalho.
- D dez anos para os trabalhadores urbanos e rurais, até o limite de dois anos após a extinção do contrato de trabalho.
- E dez anos para os trabalhadores urbanos e rurais, até o limite de um ano após a extinção do contrato de trabalho.

Questão 84

Acerca da ordem social prevista na Constituição Federal de 1988 (CF), julgue os itens a seguir.

- I As condutas lesivas ao meio ambiente sujeitarão os infratores, pessoas físicas ou jurídicas, a sanções penais e administrativas, independentemente da obrigação de reparar os danos causados.
- II Aos maiores de sessenta e cinco anos é garantida a gratuidade dos transportes coletivos urbanos.
- III Os índios são partes legítimas para ingressar em juízo em defesa de seus direitos, devendo o Ministério Público intervir em todos os atos do processo.

Assinale a opção correta.

- A Apenas o item I está certo.
- B Apenas os itens I e II estão certos.
- C Apenas os itens II e III estão certos.
- D Apenas os itens I e III estão certos.
- E Todos os itens estão certos.

Questão 85

Segundo a CF, é elegível o militar alistável, o qual

- A poderá afastar-se da atividade, se tiver menos de vinte anos de serviço.
- B não precisará afastar-se da atividade, se tiver menos de três anos de serviço.
- C não precisará afastar-se da atividade, se tiver menos de cinco anos de serviço.
- D precisará afastar-se da atividade, se tiver menos de dez anos de serviço.
- E poderá afastar-se da atividade, se tiver menos de quinze anos de serviço.

NOÇÕES DE DIREITO ADMINISTRATIVO**Questão 86**

De acordo com o previsto no Estatuto da Polícia Civil do Estado de Rondônia, o servidor policial civil preso preventivamente, em flagrante,

- A terá assistência jurídica do órgão garantida em qualquer caso.
- B ficará recolhido em prisão especial.
- C responderá a processo administrativo se condenado.
- D permanecerá no estabelecimento penal determinado pelo juiz.
- E responderá em liberdade se o crime for comum.

Questão 87

De acordo com o Regime Jurídico dos Servidores Públicos Civis do Estado de Rondônia, a forma originária de provimento dos cargos públicos é

- A a posse.
- B a lotação.
- C a nomeação.
- D a investidura.
- E o exercício.

Questão 88

O dever de a administração gerir, conservar e velar pelos bens públicos em prol da coletividade advém do princípio da

- A indisponibilidade.
- B razoabilidade.
- C eficiência.
- D confiança.
- E autotutela.

Questão 89

A necessidade de ser expressamente indicada na lei a atividade a ser exercida, descentralizadamente, pela entidade da administração indireta evidencia a obediência ao princípio

- A do controle.
- B da impessoalidade.
- C da reserva legal.
- D da especialidade.
- E da segurança jurídica.

Questão 90

O ato por meio do qual o presidente da República expede normas administrativas necessárias à execução da lei é denominado

- A decreto.
- B regulamento.
- C instrução normativa.
- D portaria.
- E resolução.

Questão 91

Os atos administrativos que regulam quantidade indeterminada de pessoas em idêntica situação jurídica são classificados como

- A compostos.
- B enunciativos.
- C vinculados.
- D gerais.
- E constitutivos.

Questão 92

O cargo de delegado de polícia tem natureza jurídica de

- A** gestor de segurança pública.
- B** militar.
- C** colaborador.
- D** agente político.
- E** servidor público.

Questão 93

Em regra, os atributos do poder de polícia incluem:

- I eficiência.
- II continuidade do serviço público.
- III discricionariedade.
- IV autoexecutoriedade.
- V coercibilidade.

Estão certos apenas os itens

- A** I e II.
- B** IV e V.
- C** I, II e IV
- D** II, III e V.
- E** III, IV e V.

Questão 94

A manifestação da vontade do Estado por meio de uma unidade que congrega atribuições exercidas pelos agentes públicos que a integram corresponde à teoria

- A** da imputação.
- B** da responsabilidade.
- C** do órgão.
- D** da representação.
- E** da outorga.

Questão 95

De acordo com o Estatuto da Polícia Civil do Estado de Rondônia, a contagem do prazo da prescrição da transgressão disciplinar consistente em apresentar-se ao trabalho alcoolizado terá início

- A** na data de abertura do processo administrativo.
- B** no dia em que a transgressão se consumou.
- C** na data do conhecimento do fato pela autoridade competente.
- D** no dia seguinte à notificação do acusado.
- E** no dia da notificação do acusado.

NOÇÕES DE MEDICINA LEGAL**Questão 96**

A perícia médico-legal que tem por finalidade o estudo do tempo da morte, a identificação do cadáver e a determinação da causa médica da morte é denominada

- A** biópsia.
- B** datiloscopia.
- C** cremação.
- D** exumação.
- E** necropsia.

Questão 97

A traumatologia forense é um ramo da medicina legal

- A** que estuda a cronotanatognose.
- B** também conhecido como lesonologia.
- C** que estuda as asfixias sob o ponto de vista médico e jurídico.
- D** responsável por estudar a parte de identificação médico-legal.
- E** que define as características antropológicas do ser humano.

Questão 98

No caso de perícia envolvendo situações de conjunção carnal, o perito médico-legista deve estar atento a determinados dados, para permitir que o delegado de polícia obtenha informações importantes na investigação criminal.

Considerando-se as informações apresentadas, é correto afirmar que no exame objetivo genérico

- A** serão consideradas as informações sobre o local e a hora em que o fato ocorreu.
- B** será destacada a forma pela qual a violência ou grave ameaça foi descrita pela vítima.
- C** serão considerados os aspectos gerais da vítima, tais como peso e altura.
- D** serão observados, cuidadosamente, o aspecto e a disposição dos elementos da genitália.
- E** serão consideradas as informações subjetivas relacionadas às condições psicológicas da vítima.

Questão 99

Durante uma perícia realizada em local de encontro de cadáver, numa árvore às margens do rio Jamari, na cidade de Ariquemes, o perito criminal identificou um indivíduo com características típicas de enforcamento típico completo.

Considerando-se a situação hipotética apresentada, bem como os sinais específicos da referida modalidade de asfixia, é correto afirmar que, nessa situação,

- A** os pés da vítima não tocam o solo.
- B** as mãos da vítima tocam o solo.
- C** as mãos da vítima necessariamente também são amarradas.
- D** os pés da vítima tocam o solo.
- E** os pés da vítima necessariamente também são amarrados.

Questão 100

Considerando os aspectos médico-legais do infanticídio, assinale a opção que indica corretamente um dos elementos que configuram essa prática criminoso.

- A** ponto de Beclard
- B** parafilias
- C** bandagismo
- D** estado puerperal
- E** necrofilia

Espaço livre