

- Nas questões a seguir, marque, para cada uma, a única opção correta, de acordo com o respectivo comando. Para as devidas marcações, use a **Folha de Respostas**, único documento válido para a correção das suas respostas.
- Nas questões que avaliarem **conhecimentos de informática** e(ou) **tecnologia da informação**, a menos que seja explicitamente informado o contrário, considere que todos os programas mencionados estão em configuração-padrão e que não há restrições de proteção, de funcionamento e de uso em relação aos programas, arquivos, diretórios, recursos e equipamentos mencionados.
- Eventuais espaços livres — identificados ou não pela expressão “**Espaço livre**” — que constarem deste caderno de provas poderão ser utilizados para rascunho.

-- PROVAS OBJETIVAS --

-- CONHECIMENTOS GERAIS --

HISTÓRIA E GEOGRAFIA DE RONDÔNIA

Questão 1

Cerca de seis anos antes de Pedro Álvares Cabral chegar ao Brasil, o território que viria a ser chamado de América foi dividido entre os dois países da Península Ibérica por meio do Tratado de

- A Ayacucho.
- B Santo Ildefonso.
- C Madri.
- D Tordesilhas.
- E Petrópolis.

Questão 2

Como governador da capitania de Mato Grosso, que englobava o território que viria a ser Rondônia, Dom Antônio Rolim de Moura Tavares notabilizou-se por

- A comandar a demarcação das fronteiras da região, seguindo as decisões do Tratado de Madri.
- B submeter-se a exigências bolivianas de desocupação da margem direita do rio Guaporé.
- C recusar-se a permitir a criação de núcleos populacionais para garantir a paz na região.
- D expulsar os bandeirantes paulistas que entraram nas terras sob sua jurisdição.
- E optar por não construir qualquer posto de vigilância ou fortificação na área.

Questão 3

A criação oficial do Território Federal de Guaporé ocorreu com a incorporação de partes do Amazonas e de Mato Grosso. A decisão do governo federal inscreve-se no projeto "Marcha para o Oeste", cujo objetivo era integrar o centro-norte ao restante do país. O período da Era Vargas (1930-1945) em que ocorreu esse fato denomina-se

- A Nova República.
- B Governo Provisório.
- C Governo Constitucional.
- D Estado Novo.
- E República Sindicalista.

Questão 4

As correntes migratórias, que contribuíram decisivamente para a efetiva ocupação do território de Rondônia, constituíram processo

- A proveniente, em larga escala, dos estados situados nas regiões Sul e Sudeste.
- B marcado pela atração exercida pela exploração da borracha em fins do século XX.
- C provindo de decisão política que vetou a presença de migrantes originários de qualquer estado nordestino.
- D que superou as barreiras impostas pelo regime militar, francamente contrário às migrações internas.
- E cujo objetivo estratégico era esvaziar demograficamente o centro-sul do país.

Questão 5

No que concerne a aspectos gerais da geografia de Rondônia, assinale a opção correta.

- A Os limites do território que viria a ser Rondônia foram modificados no regime militar instaurado em 1964 sob a justificativa de que o Acre havia sido prejudicado.
- B A agropecuária foi introduzida em Rondônia pelos imigrantes cearenses, com destaque para a criação de ovinos.
- C A população do estado de Rondônia é de pouco mais de um milhão de habitantes.
- D Além de ter uma fronteira internacional, Rondônia limita-se com os estados do Amazonas, de Mato Grosso e do Acre.
- E O estado de Rondônia tem a menor densidade demográfica da Região Amazônica e do país, em torno de 3,4 habitantes/km².

Questão 6

Situada a cerca de 100 quilômetros de São Miguel do Guaporé, a primeira comunidade quilombola reconhecida oficialmente em Rondônia denomina-se

- A Comunidade Príncipe da Beira.
- B Vale do Rio Madeira.
- C Comunidade Beneditina.
- D Vale dos jesuítas.
- E Comunidade de Jesus.

Questão 7

A atividade econômica que desempenhou, a partir da década de 70 do século XX, em pleno regime militar, importante papel no povoamento e no desenvolvimento de Rondônia foi

- A a extração da borracha.
- B a indústria.
- C a agropecuária.
- D o comércio.
- E a tecnologia da informação.

Questão 8

A criação da Província Estanífera de Rondônia foi decisão do governo federal em face da chegada de grande número de garimpeiros ao estado em busca da exploração de

- A borracha.
- B ouro.
- C diamante.
- D manganês.
- E cassiterita.

Questão 9

No que se refere a aspectos político-administrativos e econômicos da trajetória histórica de Rondônia, assinale a opção correta.

- A** No governo do presidente Juscelino Kubitschek de Oliveira, o Território Federal de Guaporé passou a denominar-se Território Federal de Rondônia.
- B** A ferrovia Madeira-Mamoré, popularmente chamada de Ferrovia do Diabo, decorreu do Tratado de Petrópolis, que determinou a incorporação de Rondônia ao território brasileiro.
- C** A transformação do território federal de Rondônia em estado de Rondônia foi iniciativa do breve governo de Jânio Quadros, aprovada pelo Congresso Nacional em votação simbólica.
- D** O nome do estado de Rondônia é uma homenagem ao Marechal Cândido da Silva Mariano Rondon, celebrado desbravador dos sertões nortistas e defensor da ocupação do território ainda que à custa do sacrifício indígena.
- E** O ciclo da borracha amazônica, do qual Rondônia foi expoente, expandiu-se no contexto da Segunda Guerra Mundial em contínuo e permanente crescimento.


Questão 10

Relativamente aos povos indígenas, em face da expansão do povoamento e das novas atividades econômicas em Rondônia, especialmente a partir das últimas décadas do século XX, assinale a opção correta.

- A** Embora a abertura e o posterior asfaltamento da rodovia BR-364 tenha atraído imigrantes para Rondônia, essa corrente migratória, vinda de várias partes do Brasil, não alterou o modo de vida das populações indígenas da região.
- B** Como reflexo da resistência indígena à ocupação de seus territórios, Rondônia conta, na atualidade, com mais de 50 terras indígenas, todas elas identificadas pela FUNAI, demarcadas e devidamente regularizadas.
- C** A Organização dos Povos Indígenas de Rondônia, Noroeste de Mato Grosso e Sul do Amazonas foi criada para defender os direitos indígenas, no que contou com o apoio de diversas organizações, a exemplo do Conselho Indigenista Missionário, da Igreja Luterana e da Pastoral Indígena.
- D** O Plano Agropecuário e Florestal de Rondônia cumpriu plenamente seus objetivos de responder satisfatoriamente às demandas sociais e ambientais suscitadas pelo Programa Polonoeste, ainda em vigor.
- E** As terras indígenas Karitiana e Karipuna foram preservadas em sua integridade territorial e cultural quando da construção das hidrelétricas de Santo Antônio e Jirau, tendo sido afastados da área madeireiros, garimpeiros e grileiros.

RACIOCÍNIO LÓGICO-MATEMÁTICO**Questão 11**

Para abrir um compartimento secreto, um perito deve digitar uma senha numérica de seis dígitos. A senha criptografada é:

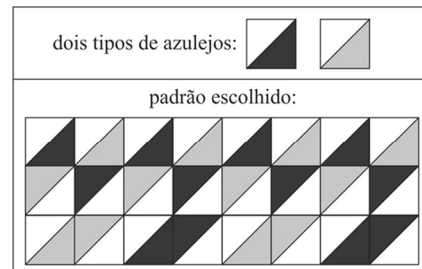


O perito sabe que esses símbolos representam números no conjunto $\{0, 1, 2, 3, 4, 5, 6, 7, 8, 9\}$ que obedecem às seguintes regras relativas à adição e multiplicação:

$$\begin{aligned} \heartsuit + \heartsuit &= \heartsuit \\ \star \times \star &= \star \\ \heartsuit + \heartsuit + \star + \star &= \blacktriangle \\ \blacktriangle \times \blacktriangle &= \hexagon \\ \heartsuit + \star + \blacktriangle + \hexagon &= \bullet \end{aligned}$$

Com base nessas informações, a senha é

- A** 0-2-3-5-2-1.
- B** 2-4-7-0-1-4.
- C** 1-3-5-4-2-3.
- D** 1-2-4-0-7-2.
- E** 2-4-0-7-1-4.

Questão 12

Um artista rondoniense criou um grande painel utilizando os dois tipos de azulejos descritos anteriormente. O painel contém 11 fileiras de azulejos paralelas, com 19 azulejos em cada uma. A figura precedente descreve o início das primeiras três fileiras, devendo ser repetido sempre que possível em todo o painel.

Com base nessas informações, o número de figuras do tipo

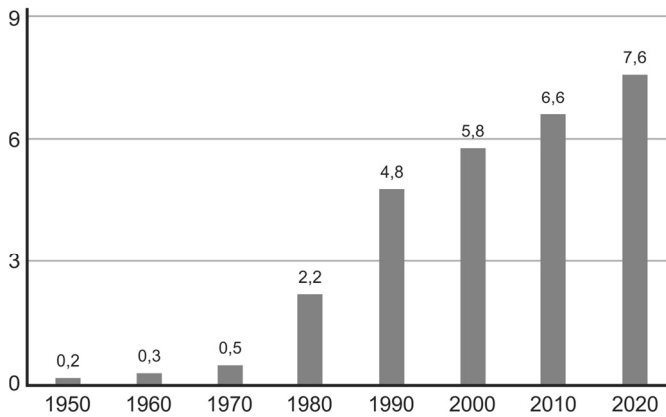


que aparecem nesse painel é igual a

- A** 20.
- B** 24.
- C** 28.
- D** 32.
- E** 36.

Gráfico CG1A3-I

evolução da densidade demográfica (hab/km²)
no estado de Rondônia



(fonte: IBGE – com adaptações).

O gráfico precedente apresenta a evolução da densidade populacional no estado de Rondônia no período entre 1950 e 2020. A densidade é determinada pelo número de habitantes por km², e a área de Rondônia é de 238 mil km².

Questão 13

Com base no gráfico CG1A3-I e nas informações a ele pertinentes, a diferença entre a população de Rondônia em 1950 e em 1980

- A é inferior a 409 mil habitantes.
- B está entre 410 mil e 449 mil habitantes.
- C está entre 450 mil e 480 mil habitantes.
- D está entre 489 mil e 539 mil habitantes.
- E é superior a 540 mil habitantes.

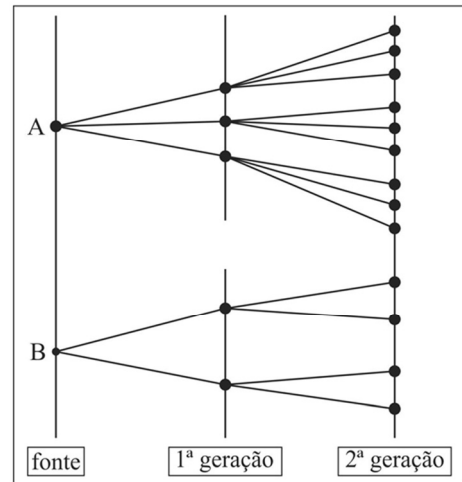
Questão 14

Ainda com base no gráfico CG1A3-I e nas informações a ele pertinentes, a média de valores da população de Rondônia nos anos de 2000, 2010 e 2020

- A é inferior a 1,3 milhão de habitantes.
- B está entre 1,31 e 1,39 milhão de habitantes.
- C está entre 1,4 e 1,4 milhão de habitantes.
- D está entre 1,5 e 1,59 milhão de habitantes.
- E é superior a 1,6 milhão de habitantes.

Questão 15

modelo de propagação



O diagrama precedente mostra a taxa de como determinada informação é propagada em uma rede a partir de dois pontos: A e B. A 1.^a geração indica que as informações das fontes A e B chegaram a 5 pontos de repetição; em seguida, essa informação foi enviada aos pontos de repetição representados na 2.^a Geração e assim sucessivamente.

Considerando que $N(T)$ é o número de pontos de repetição na T-ésima Geração, $N(1) = 5$. Nesse sentido, é correto afirmar que

- A $N(T+1) = 3N(T) + 2^T + 3^T$.
- B $N(T+1) = N(T) + N(T-1)$.
- C $N(T+1) = 3 N(T)$.
- D $N(T+1) = 6N(T)$.
- E $N(T+1) = 2N(T) + 3^T$.

Espaço livre

Figura CG1A3-I



Considere que uma equipe da polícia tenha entrado na área descrita pela planta anterior para busca e apreensão de drogas. A planta é composta de 7 quadrados de mesma medida e 2 retângulos. O objetivo é, a partir do ponto A, fazer a busca minuciosa no local até chegar ao ponto B.

Questão 16

A figura CG1A3-I apresenta um caminho possível a ser percorrido do ponto A até o ponto B. Sabendo-se que, para uma busca minuciosa ao longo desse caminho, a velocidade média de uma equipe de policiais é de 0,50 metro por segundo, é correto afirmar que o tempo médio para a equipe percorrer todo o caminho apresentado na figura é de

- A 56 minutos e 40 segundos.
- B 57 minutos e 20 segundos.
- C 58 minutos e 10 segundos.
- D 59 minutos e 30 segundos.
- E 59 minutos e 50 segundos.

Questão 17

Com base na figura CG1A3-I e nas informações a ela pertinentes, considerando que a equipe apresentada seja formada por 12 policiais e que, para otimizar o trabalho, essa equipe tenha sido dividida em quatro subequipes com três policiais cada, assinale a opção que corresponde ao número de maneiras de se escolher essas quatro subequipes.

- A $4(12!/9!3!)$
- B $(12! / (3!)^4)$
- C $(12!/4!)$
- D $(12! + 9! + 6!)/3!$
- E $(12! - 4!)/3!$

Questão 18

Ainda com base na figura CG1A3-I e nas informações a ela pertinentes, considere que mais policiais tenham sido convocados para essa busca, de maneira que a equipe agora tenha 135 policiais. Além disso, considere que três caminhos tenham sido selecionados como os mais prováveis de se encontrar as drogas escondidas. Esses caminhos foram denominados de R, S e T. Foi dada a liberdade para que cada policial escolhesse quais caminhos percorrer e, ao final de 5 horas, todos retornaram ao ponto de encontro. O seguinte relatório foi compilado: 70 policiais percorreram o caminho S; 40 percorreram somente o caminho T; 30 percorreram somente os caminhos R e S; 20 percorreram somente os caminhos S e T; 10 percorreram somente os caminhos R e T; e somente 10 percorreram os três caminhos.

Nessa situação hipotética, o número de policiais que percorreram somente o caminho R é igual a

- A 13.
- B 15.
- C 17.
- D 19.
- E 21.

Tabela CG1A3-I

conjunção \wedge	condicional \Rightarrow
disjunção \vee	Bicondicional \Leftrightarrow
negação \sim	

Considere que as proposições lógicas simples sejam representadas por letras maiúsculas e os símbolos lógicos usuais sejam representados de acordo com a tabela precedente.

Questão 19

Considerando a tabela CG1A3-I e as informações a ela relacionadas, é correto afirmar que a proposição lógica $\sim(((Q\vee R)\wedge T) \Rightarrow (P\wedge S))$ é equivalente à proposição lógica

- A $\sim((Q\vee R)\wedge T)\vee\sim(P\wedge S)$.
- B $((Q\wedge T)\vee(R\wedge T))\wedge(\sim P\vee\sim S)$.
- C $\sim((Q\vee R)\wedge T) \Rightarrow \sim(P\wedge S)$.
- D $\sim(P\wedge S) \Rightarrow \sim((Q\vee R)\wedge T)$.
- E $\sim(P\wedge S) \Rightarrow \sim((Q\vee T)\wedge(R\vee T))$.

Questão 20

Considerando a tabela CG1A3-I, as informações a ela relacionadas e que as primeiras três colunas da tabela-verdade da proposição lógica $P\wedge(Q \Rightarrow R)$ sejam iguais a

P	Q	R
V	V	V
V	V	F
V	F	V
V	F	F
F	V	V
F	V	F
F	F	V
F	F	F

a última coluna dessa tabela-verdade apresenta valores V ou F, tomados de cima para baixo, na sequência

- A V - F - V - V - F - F - F - F.
- B V - F - F - F - V - F - F - F.
- C V - V - F - F - V - V - F - F.
- D V - V - V - F - V - F - V - F.
- E V - F - V - F - V - F - V - F.

NOÇÕES DE INFORMÁTICA

Questão 21

Entre as funções de um sistema operacional, destaca-se a de exposição para o usuário de que o computador está executando várias tarefas simultaneamente. Essa exposição é chamada de

- A) gerenciamento de memória.
- B) interface gráfica de usuário.
- C) gerenciamento de processos.
- D) entrada e saída de dados.
- E) sistema de arquivos.

Questão 22

No MS Excel, a referência do endereço da célula L6 que fixa a linha e permite a variação da coluna é

- A) 6\$ L.
- B) L\$ 6.
- C) \$ 6L.
- D) \$ L6.
- E) \$ L\$ 6.

Questão 23

Em relação aos serviços de *cloud computing*, as suítes de escritório, como MS Office 365, são exemplos de

- A) Integrated Development Environment.
- B) Infrastructure as a Service.
- C) Plataforma as a Service.
- D) Azure Cloud Services.
- E) Software as a Service.

Questão 24

A praga virtual que bloqueia o computador, impedindo o acesso a seus arquivos, com o objetivo de exigir-se pagamento para liberação é conhecida como

- A) *bot*.
- B) *trojan*.
- C) *ransomware*.
- D) vírus.
- E) *worm*.

Questão 25

Assinale a opção que apresenta o tipo de *backup* utilizado como referência para os demais.

- A) incremental
- B) completo
- C) progressivo
- D) diferencial
- E) periódico

Questão 26

Considerando as técnicas de criptografia, assinale a opção que apresenta mecanismo que garante a identidade do emissor e é certificado por uma autoridade.

- A) criptografia de chave simétrica
- B) certificado digital
- C) assinatura digital
- D) função *hash*
- E) criptografia de chave assimétrica

Questão 27

Uma característica própria dos serviços de armazenamento de dados em nuvem (*cloud storage*) é a

- A) garantia de espaço ilimitado.
- B) execução de aplicações remotas.
- C) garantia de gratuidade.
- D) mobilidade facilitada para o usuário.
- E) codificação de linguagens de programação.

Questão 28

Um sistema antivírus pode funcionar como um IDS (Intruder Detection System), identificando desvios de comportamento no sistema computacional para gerar alertas de atividade maliciosa. Quando isso ocorre, o antivírus está atuando

- A) como detector de mau uso.
- B) com base em rede.
- C) com base em *host*.
- D) como detector de anomalias.
- E) de forma ativa.

Questão 29

Quando a primeira parte de um bloco de arquivo aponta para o bloco seguinte, o sistema de arquivos é de

- A) sequenciamento.
- B) alocação por lista encadeada.
- C) alocação contínua.
- D) *i-nodes*.
- E) alocação por tabela em memória.

Questão 30

Assinale a opção que apresenta a topologia de rede em que os *hosts* são conectados a um ponto central compartilhado.

- A) em barramento
- B) hierárquica
- C) em anel
- D) em estrela
- E) em malha

Espaço livre

-- CONHECIMENTOS ESPECÍFICOS PARA O CARGO --**NOÇÕES DE DIREITO CONSTITUCIONAL,
PENAL E PROCESSUAL PENAL****Questão 31**

Caso requeira, será brasileiro naturalizado aquele que for

- A** nascido no estrangeiro, de genitor brasileiro, que venha a residir no Brasil antes dos dezoito anos de idade.
- B** nascido no Brasil, filho de pais estrangeiros que não estejam a serviço de seu país.
- C** originário de país de língua portuguesa com residência no Brasil por um ano ininterrupto e com idoneidade moral.
- D** estrangeiro residente no Brasil há mais de dez anos ininterruptos e sem condenação penal.
- E** nascido no estrangeiro, de genitor brasileiro, registrado em repartição brasileira e que faça essa opção.

Questão 32

À luz do Código Penal, assinale a opção correta acerca dos crimes contra a pessoa.

- A** A mulher que, sob a influência do estado puerperal, matar o próprio filho durante o parto responderá por aborto provocado pela gestante.
- B** O agente que induzir ou instigar alguém a suicidar-se ou a praticar automutilação responderá por crime doloso contra a vida, punido com reclusão.
- C** A gravidade da lesão corporal será equivalente se ocorrer tanto a debilidade permanente quanto a perda ou a inutilização de membro, sentido ou função.
- D** O aborto necessário — quando não há outro meio de salvar a gestante — e o aborto no caso de gravidez decorrente de estupro excluem a ilicitude por inexigibilidade de conduta diversa.
- E** A circunstância de o crime de feminicídio ser praticado durante a gestação ou nos seis meses após o parto é qualificadora desse crime.

Questão 33

No que concerne aos crimes contra a incolumidade pública, assinale a opção correta.

- A** Pelo princípio da adequação social, atualmente são atípicas as condutas que correspondem aos crimes de curandeirismo e charlatanismo.
- B** Há previsão legal de exclusão de ilicitude no crime de omissão de notificação de doença quando o paciente for parente do médico ou enfermeiro.
- C** Admite a forma culposa o crime de falsificação, corrupção, adulteração ou alteração de substância ou produtos alimentícios.
- D** No intuito de coibir a imperícia, o crime de medicamento em desacordo com receita médica somente é punido na forma dolosa.
- E** É elemento constitutivo do tipo penal do delito de exercício ilegal da medicina, arte dentária ou farmacêutica a finalidade de lucro.

Questão 34

Lauro, condutor não habilitado, no intuito de se precaver em eventual fiscalização ao dirigir sua motocicleta pela cidade, foi até uma delegacia de polícia e registrou boletim de ocorrência de perda de CNH inexistente.

Nessa situação hipotética, a conduta de Lauro configurou

- A** falsidade ideológica.
- B** comunicação falsa de crime ou contravenção.
- C** falsidade de documento público.
- D** falsidade de documento particular.
- E** denúncia caluniosa.

Questão 35

Túlio pagou elevada quantia em dinheiro a Jânio, perito criminal, para que ele fizesse afirmação falsa em laudo anexado a investigação policial.

Nessa situação hipotética,

- A** Túlio responderá pela prática do crime de falso testemunho ou falsa perícia.
- B** a conduta de Jânio se tornará atípica se o pagamento recebido for integralmente devolvido.
- C** o fato de o laudo ter sido anexado a um inquérito policial não tem uma consequência específica no tipo penal.
- D** Jânio cometeu crime de menor potencial ofensivo, punível com pena mínima de dois anos.
- E** o fato deixará de ser punível se Jânio retratar-se do laudo antes da sentença de processo decorrente da citada investigação.

Questão 36

Em um crime em que a ação penal seja de iniciativa pública incondicionada,

- A** o inquérito policial só poderá ser instaurado após manifestação da vítima do crime, mas não poderá ser arquivado caso ela se retrate.
- B** o inquérito policial poderá ser dispensado se o Ministério Público entender que possui informações suficientes para oferecer a denúncia.
- C** o delegado deverá arquivar o inquérito policial quando, após o início das investigações, verificar que o fato criminoso não ocorreu.
- D** quando a vítima perdoar o autor do fato criminoso, ocorrerá desistência e faltará condição para o exercício da ação penal pública pelo titular.
- E** a vítima não tem legitimidade para propor a ação, ainda que o Ministério Público perca o prazo para oferecer a denúncia ou o inquérito policial seja arquivado.

Questão 37

Jorge foi preso em flagrante pela prática de estupro. Ao ser ouvido pela autoridade policial, ele apresentou seu documento de identidade, porém se recusou a responder as perguntas que lhe foram feitas. A vítima o identificou formalmente na delegacia e foi feito encaminhamento para perícia.

Nessa situação hipotética,

- A** o flagrante de Jorge por si só justifica a conversão de sua prisão em preventiva com fundamento em sua evidente culpa pela prática do crime.
- B** a autoridade policial pode interpretar desfavoravelmente o fato de Jorge ter optado por não responder as perguntas e considerá-lo como admissão da autoria.
- C** o exame de corpo de delito é dispensável, já que, mesmo em se tratando de crime que deixa vestígios, há o depoimento da vítima como prova testemunhal disponível.
- D** o reconhecimento na delegacia será válido e terá valor probatório pleno, desde que Jorge tenha sido colocado ao lado de pelo menos três pessoas.
- E** como Jorge identificou-se civilmente perante o delegado, a princípio não há motivo para submetê-lo à identificação criminal.

Questão 38

A etapa do rastreamento de vestígio na cadeia de custódia que se refere à descrição detalhada do vestígio, no laudo pericial, conforme ele se encontra no local de crime ou no corpo de delito, e à sua posição na área de exames, ilustrada por fotografias, filmagens ou croqui, é denominada

- A fixação.
- B reconhecimento.
- C coleta.
- D acondicionamento.
- E processamento.

Questão 39

Assinale a opção correta acerca das formas de restrição de liberdade.

- A O flagrante por perseguição configura-se válido desde que a prisão ocorra antes de se completarem 24 h do cometimento do crime.
- B A admissibilidade da prisão temporária restringe-se à investigação policial de crimes hediondos e de crimes equiparados a hediondos.
- C Após o prazo de cinco dias da prisão temporária, sem prorrogação ou novo mandado, o responsável pela custódia deverá liberar imediatamente o preso.
- D A prisão temporária do réu poderá ser decretada pelo juiz durante audiência de instrução em que a vítima declare estar sofrendo ameaças.
- E A prisão preventiva é admitida nos crimes culposos e dolosos punidos com pena privativa de liberdade mínima superior a quatro anos.

Questão 40

Acerca de busca e apreensão, assinale a opção correta.

- A Quando o delegado realizar pessoalmente a busca domiciliar, será dispensado o mandado judicial.
- B A busca domiciliar poderá ser feita durante a noite com autorização judicial.
- C Na busca pessoal, exige-se prévia expedição de mandado pela autoridade judiciária.
- D Se for recalcitrante o morador, será permitido usar força contra móveis da casa para localizar o que se quer apreender.
- E Em caso de flagrante delito, deve-se aguardar o amanhecer para se ingressar na residência e se efetuar a prisão.

LEGISLAÇÃO ESPECIAL E DIREITOS HUMANOS**Questão 41**

Na condução de um automóvel, é permitido ao motorista efetuar a troca de luz baixa e alta, de forma intermitente e por curto período de tempo, com o objetivo de advertir outros motoristas da

- A intenção de ultrapassar o veículo a sua frente.
- B existência de barreira eletrônica.
- C presença de barreira policial.
- D proximidade de posto policial.
- E necessidade de redução da velocidade.

Questão 42

Nas sanções derivadas de atividades lesivas ao meio ambiente, constitui circunstância que atenua a pena o(a)

- A inexistência de vantagem pecuniária.
- B pouca gravidade do fato.
- C baixo grau de instrução do infrator.
- D antecedente do infrator.
- E grau de culpa do infrator.

Questão 43

Aquele que alterar sinal de identificação de arma de fogo está sujeito à pena de

- A reclusão, apenas.
- B reclusão e à de multa.
- C detenção, apenas.
- D multa, apenas.
- E detenção e à de multa.

Questão 44

A internação involuntária do dependente de drogas

- A não poderá ser interrompida pela família.
- B dura apenas o tempo necessário à desintoxicação, por no máximo noventa dias.
- C será realizada após decisão escrita do responsável.
- D requer autorização do Ministério Público.
- E independe de avaliação da droga utilizada.

Questão 45

Ao perito oficial criminal concursado, é assegurada autonomia

- A apenas técnica.
- B apenas funcional.
- C técnica, científica e funcional.
- D apenas técnica e funcional.
- E apenas científica e funcional.

Questão 46

Será permitida a identificação criminal do indiciado em atestados de antecedentes após o(a)

- A oferecimento da denúncia.
- B prisão do acusado.
- C recebimento da denúncia.
- D trânsito em julgado da sentença condenatória.
- E audiência de instrução.

Questão 47

Para ser considerada organização criminosa, uma associação deverá ter, no mínimo,

- A 2 pessoas.
- B 3 pessoas.
- C 4 pessoas.
- D 5 pessoas.
- E 6 pessoas.

Questão 48

A Superintendência de Polícia Técnico-Científica do Estado de Rondônia é subordinada

- A à casa militar do governo do estado.
- B diretamente ao governador do estado.
- C à casa civil do governo do estado.
- D à polícia civil.
- E à Secretaria de Estado da Segurança, Defesa e Cidadania.

Questão 49

Constitui crime de abuso de autoridade cometido por agente público

- A decretar, de forma descabida, a condução coercitiva de testemunha.
- B deixar de comunicar ao juiz, sem justificativa, prisão em flagrante.
- C constranger a prestar depoimento pessoa que, em razão de função, ministério, ofício ou profissão, deva guardar segredo.
- D retardar o envio de pleito de preso à autoridade judiciária competente.
- E impedir a entrevista pessoal e reservada do preso com seu advogado.

Questão 50

De acordo com a Convenção Americana sobre Direitos Humanos, a pena não pode passar da pessoa do delinquente em razão do direito à(ao)

- A integridade pessoal.
- B reconhecimento da personalidade jurídica.
- C liberdade pessoal.
- D garantia judicial.
- E honra e dignidade.

NOÇÕES DE BIOSSEGURANÇA**Questão 51**

Considerando que a segurança no local de trabalho depende de toda a equipe, que deve planejar a tarefa a ser executada, verificar o funcionamento da aparelhagem a ser utilizada e conhecer o material a ser manipulado, assinale a opção correta a respeito da terminologia adotada na prevenção de riscos no ambiente de trabalho.

- A Agente de risco define-se como o processo de levantamento, avaliação e comunicação dos riscos.
- B Biossegurança é um conjunto de medidas voltadas para ações de prevenção, minimização ou eliminação de riscos.
- C Risco ocupacional é a capacidade de um agente biológico causar doença em um hospedeiro suscetível.
- D Classe de risco é o termo que descreve os métodos de segurança que devem ser utilizados na manipulação de agentes de risco.
- E Espécimes ou amostras para diagnóstico são circunstâncias acidentais passíveis de ocorrer durante o trabalho.

Questão 52

Em laboratórios biológicos, o nível de biossegurança

- A 3 corresponde ao trabalho com microrganismos da classe de risco 3 ou à manipulação de grandes volumes e altas concentrações de microrganismos da classe de risco 2.
- B 5 é o nível de contenção laboratorial que se aplica aos laboratórios de ensino básico onde são manipulados microrganismos pertencentes à classe de risco 5.
- C 2 identifica laboratório de contenção máxima e se destina à manipulação de microrganismos da classe de risco 1 – que demanda o mais alto nível de contenção –, além de representar uma unidade geográfica e funcionalmente independente de outras áreas.
- D 9 é destinado ao trabalho com microrganismos da classe de risco 2, para o qual deve ser mantido controle rígido quanto a operação, inspeção e manutenção das instalações e equipamentos.
- E 4 diz respeito ao laboratório em contenção, onde são manipulados microrganismos da classe de risco 7. Esse nível se aplica aos laboratórios clínicos ou hospitalares de níveis primários de diagnóstico.

Questão 53

O processo composto por um conjunto de medidas que visam impedir a introdução de germes patogênicos em determinado(s) organismo, ambiente ou objetos é denominado

- A desinfecção.
- B descontaminação.
- C assepsia.
- D esterilização.
- E antisepsia.

Questão 54

Tendo em vista que a higiene das mãos tem como objetivo eliminar a sujidade, a matéria orgânica, a flora transitória (causadora da maioria das infecções) e o máximo da flora residente, assinale a opção correta acerca da higienização simples das mãos com água e sabão.

- A Pode ser substituída pelo uso de luvas de látex.
- B Sua duração deve ser de 40 s a 60 s.
- C Deve ser feita somente após a ida do trabalhador ao banheiro.
- D É considerada uma ação coletiva e dispendiosa para prevenir a propagação das infecções.
- E Deve ser realizada antes das refeições, podendo ser dispensada depois.

Questão 55

Tendo em vista que métodos químicos de esterilização são indicados para artigos críticos e termosensíveis, ou seja, aqueles que não resistem às altas temperaturas dos processos físicos, e que, entre esses métodos, alguns podem ser utilizados tanto para desinfetar quanto para esterilizar, a depender apenas do tempo de exposição e concentração do agente, assinale a opção correta a respeito de produtos empregados nos referidos métodos.

- A Ácido peracético (água oxigenada) em concentração de 3% a 6% tem ação rápida, é biodegradável e atóxico, mas tem alta ação corrosiva.
- B Peróxido de hidrogênio tem ação rápida, baixa toxicidade e é biodegradável, porém, danifica metais.
- C Óxido de etileno é um gás vastamente utilizado na esterilização de materiais laboratoriais e hospitalares de uso único por causa da sua boa relação custo/benefício.
- D Formaldeído é um líquido com potente ação biocida e pode ser utilizado em materiais termosensíveis, mas requer um longo tempo de exposição para agir como esporicida.
- E Glutaraldeído pode ser utilizado na forma gasosa e líquida e, para ter ação esporicida, requer um longo tempo de exposição.

Questão 56

Considerando que, no processo de limpeza e desinfecção de materiais, os instrumentos utilizados na assistência à saúde são classificados segundo o risco e o potencial de contaminação, assinale a opção correta.

- A Os instrumentos críticos incluem aqueles que entram em contato com tecidos estéreis ou com o sistema vascular e os que penetram em órgãos e tecidos, bem como todos aqueles que possuem alto risco de causar infecção.
- B Os instrumentos não críticos são aqueles que entram em contato com mucosa e pele não íntegra do paciente ou com mucosas íntegras e que exigem desinfecção de médio ou alto nível ou esterilização.
- C Nos instrumentos críticos, o risco potencial de transmissão de infecção é baixo, porque as membranas apresentam certa resistência à entrada de esporos.
- D Os instrumentos semicríticos entram em contato com pele íntegra e superfícies e possuem risco de transmissão de infecção baixo.
- E Os instrumentos críticos demandam apenas a passagem por processo de desinfecção.

Questão 57

Na coleta seletiva de resíduos, as cores auxiliam na identificação e na destinação correta desses resíduos. Nesse sentido, conforme os princípios básicos de descarte de resíduos, o descarte de material radiativo deve ser efetuado no(a) coletor(lixeira) de cor

- A azul.
- B roxo.
- C marrom.
- D preto.
- E verde.

Questão 58

Considerando que equipamento de proteção individual (EPI) é todo dispositivo ou produto, de uso individual, destinado à proteção do trabalhador contra riscos, assinale a opção que apresenta um exemplo de EPI.

- A detector de fumaça
- B exaustor
- C protetor auricular
- D placas sinalizadoras
- E chuveiro de segurança

Questão 59

Acerca de aspectos pertinentes a prevenção e combate a incêndios, assinale a opção correta.

- A O combate ao fogo mediante o uso de água como agente extintor é uma opção indicada para o combate a princípio de incêndio em reservatório de material inflamável líquido.
- B No caso de princípio de incêndio em um transformador de energia elétrica, pode-se optar pelo combate ao fogo com água como agente extintor.
- C O acúmulo de lixo em locais não destinados para esse fim pouco ou nada pode contribuir para impulsionar um princípio de incêndio.
- D Tão logo ocorra um princípio de incêndio, deve-se combatê-lo de imediato e de qualquer maneira.
- E Na eventualidade da ocorrência de princípio de incêndio em um edifício comercial, deve-se providenciar, tão rapidamente quanto possível, a evacuação do prédio.

Questão 60

Para se ter biossegurança, é preciso que se adote um conjunto de medidas que busque minimizar os riscos inerentes a determinada atividade. Esses riscos podem afetar o profissional que desempenha essa atividade, bem como o meio ambiente e a saúde de pessoas sem envolvimento direto com essa atividade. Com relação a esse assunto, assinale a opção correta.

- A O plano de prevenção e combate a incêndios visa preservar a integridade física das pessoas, não sendo relevante a integridade patrimonial.
- B A inspeção predial nos componentes de prevenção e combate a incêndios dificulta a criação de uma cultura prevencionista por parte dos colaboradores.
- C A utilização correta dos sistemas de modo a evitar curtos-circuitos dispensa a realização de manutenções preventivas nas instalações elétricas e hidráulicas.
- D Óculos de proteção ou de segurança têm a função de proteger os olhos contra respingos de produtos químicos e outros materiais particulados.
- E A biossegurança não se inclui entre os instrumentos adequados à prevenção dos acidentes de trabalho em empresas, uma vez que não influencia nos seus resultados.

CRIMINALÍSTICA**Questão 61**

No exame pericial em local de crime, em uma breve análise do perito responsável, todos os tipos de objetos, marcas ou sinais sensíveis que possam ter relação com o fato investigado devem ser considerados

- A corpos de delito.
- B evidências.
- C vestígios.
- D provas indiciárias.
- E indícios.

Questão 62

Tendo em vista os indicadores gerais que devem ser considerados para se determinar, preliminarmente, a entrada e a saída, no corpo de vítima de morte violenta, de um projétil de arma de fogo com cano de alma raiada, assinale a opção correta.

- A Bordas com arrancamento de epiderme e orla de enxugo indicam um orifício de entrada.
- B Bordas superficiais com formato elíptico e halo de limpeza indicam um orifício de saída.
- C Bordas com zona de tatuagem incrustada com grãos de pólvora são indicativas de um orifício de saída.
- D Bordas ásperas ou com aspecto de explodidas são típicas de um orifício de entrada.
- E Bordas com zona de chamuscamento caracterizam um orifício de saída.

Questão 63

A rigidez cadavérica, sem qualquer fator que a comprometa, pode, geralmente, ser observada após

- A 1 h a 2 h após a morte, durando até 12 h.
- B 2 h a 3 h após a morte, durando até 24 h.
- C 5 h a 6 h após a morte, durando até 12 h.
- D 1 h a 2 h após a morte, durando até 24 h.
- E 2 h a 3 h após a morte, durando até 12 h.

Questão 64

Entre outras, as etapas da fase externa da cadeia de custódia incluem a

- A preservação do local de crime, a busca, o reconhecimento, a fixação e o registro da cadeia de custódia do vestígio.
- B preservação do local de crime, o reconhecimento, a conferência, a guarda e(ou) distribuição e a análise pericial do vestígio.
- C recepção, a conferência, a coleta, o acondicionamento e o registro do vestígio.
- D preservação do local de crime, a busca, o reconhecimento, a fixação e a coleta do vestígio.
- E recepção, a conferência, a classificação, a guarda e(ou) distribuição e a análise pericial do vestígio.

Questão 65

Um perito criminal compareceu a um local de morte cujas circunstâncias não se encontravam evidenciadas. Tratava-se de um cadáver do sexo feminino, em uma banheira cheia d'água, em banheiro equipado com aquecedor a gás.

Nessa situação hipotética, ante a possibilidade de morte por asfixia por monóxido de carbono, o perito, durante o exame perinecropsópico, deverá dedicar especial atenção aos livores de hipóstase, que, em casos tais, terão a tonalidade

- A verde arroxeadado.
- B vermelho acarminado.
- C rósea azulada.
- D amarelo arroxeadado.
- E branco amarelado.

Questão 66

Em caso de morte provocada por uma instalação elétrica doméstica – eletroplessão –, a identificação do ponto de contato da pele com a fonte de eletricidade poderá ser feita mediante a observação de lesão tecidual conhecida como

- A sinal de Bonnett.
- B úlcera de Röntgen.
- C marca de Jellineck.
- D sinal de Lichtenberg.
- E mancha de hipóstase.

Questão 67

No âmbito do processo criminal, o parecer técnico apresentado por um perito particular se diferencia do laudo pericial, porquanto o primeiro

- A aborda apenas situações hipotéticas, servindo tão somente de parâmetro para a análise de um fato concreto.
- B tem um destinatário específico e não atende a todas as partes do processo.
- C terá fé pública quando for exarado nos autos da ação penal, independentemente de seu destinatário.
- D impõe o compromisso, em termo próprio, de dizer a verdade, o que não é imposto ao perito oficial.
- E tem valor probatório, por si só, na ausência do laudo pericial oficial.

Questão 68

Uma equipe pericial foi encaminhada para local de homicídio perpetrado mediante o uso de arma de fogo, em via pública de determinada comunidade. O local abrangido pelo cadáver e os principais vestígios foram devidamente preservados; todavia, no decorrer do exame pericial, um popular encontrou estojos balísticos do mesmo calibre utilizado no crime, em área próxima, mas sem qualquer ligação geográfica com o local do delito.

Nessa situação hipotética, considerando a conceituação e a divisão doutrinária de local de crime, o perito deverá

- A desprezar os referidos estojos, porque eles constituem vestígios ilusórios sem nenhuma relação com o delito.
- B recolher os estojos citados após o levantamento pericial, porquanto eles foram encontrados em local denominado imediato.
- C recolher os estojos em questão após o levantamento pericial, visto que eles foram encontrados em local denominado mediato.
- D desprezar os referidos estojos, porque eles não estão relacionados geograficamente com o local do crime.
- E recolher os citados estojos após o levantamento pericial, porquanto eles foram encontrados em local denominado relacionado.

Questão 69

Em um local de furto mediante arrombamento, observou-se que os autores do delito, em busca de dinheiro e objetos de valor, reviraram todos os cômodos do imóvel e remexeram gavetas e armários, além de terem manuseado inúmeros documentos e papéis diversos. Por circunstâncias não determinadas, foram encontrados somente fragmentos papilares mínimos sobre as superfícies dos armários e gavetas, todavia sem possibilidade qualitativa de revelação e seleção.

Nessa situação hipotética, os papéis manuseados pelos autores do crime

- A não se prestam ao levantamento e à revelação de fragmentos papiloscópicos, por serem material poroso que absorve os elementos químicos expelidos pela pele humana.
- B se prestam ao levantamento e à revelação de fragmentos papiloscópicos mediante a utilização de reveladores sólidos e gasosos, como pó e cianoacrilato.
- C se prestam ao levantamento e à revelação de fragmentos papiloscópicos mediante a utilização de pós especiais com detergente e violeta de genciana, como agentes reveladores.
- D se prestam ao levantamento e à revelação de fragmentos papiloscópicos mediante a utilização de reveladores líquidos ou gasosos, como nitrato de prata e iodo.
- E não se prestam ao levantamento e à revelação de fragmentos papiloscópicos, porque o papel não permite uma exata classificação ou determinação da região papilar.

Questão 70

Entre os diversos tipos de lesões corporais, um ferimento dolosamente provocado, que ocasione perigo de vida demonstrado em laudo pericial, caracteriza

- A lesão corporal leve.
- B fator relevante para a tipificação da lesão corporal, desde que ocasione morte.
- C lesão corporal grave.
- D lesão corporal gravíssima.
- E fator irrelevante para a tipificação da lesão corporal.

CONHECIMENTOS ESPECÍFICOS POR ÁREA**Questão 71**

Com relação à fisiologia e anatomia respiratória, assinale a opção correta.

- A A capacidade vital, ou seja, o volume de ar inspirado após a expiração máxima, aumenta e alcança seu pico por volta dos cinco anos de idade.
- B A respiração para a fala é igual à respiração vital ou silente.
- C A fonação normal independe do equilíbrio entre as forças aerodinâmicas e as forças mioelásticas da laringe.
- D Quando o objetivo da respiração é a fala, é necessário que se forme pressão aérea capaz de fazer vibrar a mucosa das pregas vocais, ou que se expulse uma quantidade de ar suficiente para a produção, por exemplo, de uma consoante plosiva.
- E O tórax pode ser expandido em três dimensões: horizontal, transversal e anteroposterior.

Questão 72

Tendo em vista aspectos diversos relacionados à terapia fonoaudiológica, assinale a opção correta.

- Ⓐ A aquisição fonológica é um processo gradual e independe da associação de sensações sinestésicas e auditivas.
- Ⓑ Durante o tratamento de uma criança com desvios fonológicos, à medida que um processo fonológico vai sendo gradativamente suprimido, sua frequência de aplicação vai decrescendo e o sistema fonológico vai se tornando cada vez mais semelhante ao sistema-alvo adulto.
- Ⓒ Na abordagem de tratamento fonológico que utiliza os traços distintivos, esse enfoque baseia-se na premissa de que as crianças com desvios fonológicos não possuem representações limitadas de traços distintivos.
- Ⓓ A terapia com base nos traços distintivos dispensa a análise fonológica detalhada do sistema fonológico da criança.
- Ⓔ A habilidade de consciência fonológica não é trabalhada na criança com desvio fonológico, pois as crianças com esse tipo de desvio apresentam desempenho dentro da normalidade em tarefas de consciência fonológica.

Questão 73

Considerando as hipóteses estabelecidas por Bishop no que se refere ao déficit linguístico nos casos de distúrbios específicos de linguagem, assinale a opção correta.

- Ⓐ Não há alterações dos mecanismos expressivos.
- Ⓑ Os déficits de memória estão ausentes.
- Ⓒ A aprendizagem permanece dentro da normalidade.
- Ⓓ A memória operacional fonológica permanece dentro da normalidade.
- Ⓔ Há alteração isolada nos mecanismos linguísticos especializados no processamento da linguagem.

Questão 74

A capacidade não só de conhecer como de reconhecer fatos e proposições, saber decodificar o mundo, interagir para perceber e reagir no meio está relacionada ao conceito de

- Ⓐ raciocínio indutivo.
- Ⓑ raciocínio dedutivo.
- Ⓒ atenção.
- Ⓓ concentração.
- Ⓔ cognição.

Questão 75

A respeito das bases físicas da audição humana, assinale a opção correta.

- Ⓐ A cabeça não tem importância na localização da fonte sonora, pois sua forma gera uma semelhança de pressão sonora entre as orelhas, dependendo da origem do som, formando uma sombra sonora.
- Ⓑ O pescoço, os ombros e a orelha externa refletem, difratam e ressoam diferentes frequências sonoras.
- Ⓒ O som é transmitido até a membrana timpânica através do conduto auditivo interno, que também funciona como uma cavidade ressoante, assemelhando-se a um tubo aberto.
- Ⓓ A cóclea possui formato cônico; nela ocorre a transdução da onda hidráulico-mecânica em impulso nervoso, e os tons graves são captados pelas células que se encontram mais próximas à base.
- Ⓔ Quando as ondas sonoras percorrem determinado meio e atingem um outro, com elasticidade e densidade iguais, a maior parte do som será refletida, transmitindo-se para esse segundo meio apenas uma pequena quantidade de energia.

Questão 76

Na percepção auditiva dos sons, a sensação subjetiva de frequência (tonalidade) que ordena os sons em uma escala musical, variando de grave a agudo, está relacionada ao conceito de

- Ⓐ infra-som.
- Ⓑ *loudness*.
- Ⓒ timbre.
- Ⓓ duração.
- Ⓔ *pitch*.

Questão 77

Entre outras afecções, as lesões do nervo facial (VII par) podem acarretar a paralisia de Bell, cujos sintomas incluem

- Ⓐ capacidade de fechar as pálpebras e diminuição do tamanho da fissura palpebral.
- Ⓑ paralisia dos músculos faciais contralaterais, mantendo-se a normalidade do ângulo da boca e achatamento da prega nasolabial.
- Ⓒ perda do reflexo córneo-palpebral.
- Ⓓ sensibilidade a sons de alta frequência, sem paralisia do músculo estapédio na orelha média.
- Ⓔ produção de lágrimas em excesso, maior produção de saliva e perda do paladar nos dois terços ipsilaterais da língua.

Questão 78

Com relação ao desenvolvimento da laringe, assinale a opção correta.

- Ⓐ A laringe situa-se no pescoço, sendo conectada inferiormente pela faringe e abrindo-se superiormente na traqueia.
- Ⓑ Ao nascimento, a laringe apresenta uma posição elevada no pescoço, ao redor das vértebras cervicais C3 e C4.
- Ⓒ As cartilagens cuneiformes desenvolvem-se como derivados da língua.
- Ⓓ O epitélio da laringe, da traqueia, dos brônquios e dos pulmões é de origem mesodérmica.
- Ⓔ A musculatura da laringe deriva-se do mesoderma dos arcos branquiais I e II.

Questão 79

Alterações no processo de desenvolvimento da comunicação afetam a inserção social da criança e do adolescente, seu aprendizado escolar e, nos casos dos indivíduos adultos, sua integração na vida profissional. A respeito da aquisição e do desenvolvimento da linguagem, assinale a opção correta.

- Ⓐ O desenvolvimento do sistema fonológico da língua, incluindo o inventário fonético e as regras fonológicas, ocorre gradativamente até aproximadamente os três anos de idade.
- Ⓑ A ausência de variabilidades de gravidade e inteligibilidade de fala é um fator que contribui para a determinação exata das causas que dão origem aos distúrbios fonológicos.
- Ⓒ No primeiro ano de vida, o sistema fonológico é considerado pré-linguístico e caracteriza-se pela vocalização de sons existentes e não existentes na língua falada pelo adulto.
- Ⓓ Por volta dos três anos de idade, a criança desenvolve um vocabulário de, aproximadamente, cinquenta palavras, usadas de forma isolada.
- Ⓔ A fase de maior expansão do sistema fonológico ocorre dos quatro aos sete anos de idade, quando há aumento do inventário fonético, usado nas estruturas silábicas mais complexas e das palavras polissílabas.

Questão 80

Acerca da sensibilidade auditiva, assinale a opção correta.

- A A intensidade máxima na qual o indivíduo percebe a presença do som em determinada frequência é conhecida como limiar de audibilidade.
- B O sistema auditivo é sensível a variações sonoras no que se refere a algumas de suas características, tais como, amplitude, fase inicial, duração e frequência.
- C A curva mínima de audibilidade refere-se à maior intensidade na qual um grupo de indivíduos normais percebe o som em cada frequência.
- D O sistema auditivo possui uma área dinâmica de cerca de 80 dB que se refere à faixa de intensidade que um indivíduo possui em função de cada frequência, ou seja, o limite entre a curva de audibilidade mínima e a curva de conforto.
- E Os limites máximos de audição são descritos como os níveis de pressão sonora que causam sensação tátil ou conforto, chamados de limiar de tolerância.

Questão 81

Tendo em vista que a classificação dos pacientes afásicos baseia-se no grupo de sintomas de fala e linguagem associados a cada quadro, assinale a opção correta acerca desse assunto.

- A A característica mais evidente apresentada por pacientes com afasia de Wernick é uma deficiência na expressão da fala, que é articulada sem comprometimento na compreensão da linguagem.
- B A afasia transcortical motora, cujo traço mais marcante é a ecolalia, caracteriza-se por empobrecimento da compreensão e discurso pouco repetitivo e sem pausas.
- C O conteúdo do discurso do paciente com afasia de Broca é anormal e contaminado pela substituição de palavras por partes de palavras incorretas e(ou) expressões sem significado.
- D O paciente com afasia anômica caracteriza-se clinicamente por dificuldade na repetição, embora sua expressão oral seja fluente e sua compreensão oral seja pouco alterada.
- E A fala do paciente com afasia de condução não é fluente e sua compreensão escrita encontra-se preservada.

Questão 82

Assinale a opção que identifica as únicas lesões orgânicas localizadas fora da borda livre das pregas vocais, que ocorrem na região posterior das cordas vocais, na porção cartilaginosa e que, geralmente, estão associadas a fatores como refluxo gastroesofágico, trauma por entubação, abuso vocal e(ou) à combinação desses fatores.

- A nódulos de pregas vocais
- B cistos de pregas vocais
- C edema de Reinke
- D granulomas e úlceras de contato do processo vocal
- E pólipos de prega vocal

Questão 83

Acerca da mucosa das pregas vocais, que é a parte nobre no processo de vibração dessas pregas, julgue os itens a seguir.

- I A mucosa das pregas vocais é constituída de vasos sanguíneos que penetram nas suas terminações membranosas anterior e posterior.
- II A fibronectina é uma molécula de água que se expande e controla a viscosidade dos tecidos e que é encontrada na camada intermediária da lâmina própria da prega vocal.
- III A estrutura das pregas vocais modifica-se durante toda a vida, somente o epitélio escamoso mantém-se inalterado durante todo o processo de maturação.
- IV A liberação de fibronectina nas laringes infantis, nos quadros de disфонia, gera microalterações da estrutura de camadas e, nesses casos, o tratamento fonoaudiológico visa minimizar o atrito e os efeitos de longo prazo dessa substância.

Assinale a opção correta.

- A Apenas os itens I e III estão certos.
- B Apenas os itens I e IV estão certos.
- C Apenas os itens II e III estão certos.
- D Apenas os itens III e IV estão certos.
- E Todos os itens estão certos.

Questão 84

A traqueostomia, procedimento utilizado para melhorar a respiração, é uma abertura temporária na parte anterior do pescoço e da traqueia, que pode ser feita mediante a introdução de uma cânula. Com relação a essa intervenção cirúrgica, assinale a opção correta.

- A A cânula plástica é a única que tem incorporado o balão inflável que impede totalmente a passagem de ar da via aérea inferior para a superior, permitindo melhor ventilação pulmonar nos dependentes de respiração artificial.
- B O grau de fixação da traqueia à pele, causado pela cânula usada na traqueostomia, dependerá exclusivamente do tipo de incisão e das técnicas cirúrgicas que forem realizadas.
- C A troca diária da cânula e sua higienização são recomendadas e devem ser realizadas como medida preventiva contra infecção local, que está relacionada com maior incidência de estenose traqueal.
- D O desvio de ar pela cânula de traqueostomia leva ao aumento da sensibilidade da laringe e das pregas vocais, protegendo o paciente da broncoaspiração.
- E A aspiração está associada à presença da traqueostomia, razão por que todos os pacientes submetidos a esse procedimento cirúrgico apresentam dificuldade de deglutição.

Questão 85

Tendo em vista que a deglutição é um processo que, didaticamente, pode ser dividido em quatro fases, julgue os itens seguintes, relativos a essas fases.

- I A fase oral preparatória é consciente e voluntária e inicia-se com a apreensão dos alimentos, momento em que o bolo alimentar é misturado com a saliva e transformado em um bolo homogêneo.
- II A fase oral propriamente dita, que constitui a segunda fase da deglutição e é consciente e involuntária, inicia-se com o posicionamento do bolo alimentar sobre a língua e termina com a ejeção desse bolo para faringe.
- III Na fase faríngea, que é consciente e involuntária, o bolo alimentar desencadeia uma série de reflexos; nela, há o fechamento da nasofaringe pelo palato mole.
- IV A fase esofágica, que é inconsciente e involuntária, consiste na transferência do bolo alimentar do esôfago ao estômago, por meio de movimentos peristálticos.

Estão certos apenas os itens

- A I e II.
- B I e IV.
- C II e III.
- D I, III e IV.
- E II, III e IV.

Questão 86

O termo disfagia identifica um quadro patológico consistente em

- A um distúrbio da expressão verbal causado por alterações no controle muscular dos músculos da fala.
- B uma dificuldade de produção oral ocasionada por alterações anatômicas e(ou) fisiológicas dos órgãos articulatórios e cuja causa é de origem periférica.
- C uma dilatação sacular do ventrículo laríngeo, semelhante a um cisto, que pode envolver, além do ventrículo, outras estruturas supraglóticas.
- D um distúrbio da fluência da fala que se caracteriza pela interrupção de ritmo, mais ou menos brusca, da expressão verbal.
- E um distúrbio neurológico ou mecânico que acomete a laringe, causando falta de eficiência na sua função de proteger as vias aéreas contra o acesso de material carregado na deglutição.

Questão 87

Com relação ao tratamento e à avaliação da deglutição atípica, julgue os próximos itens.

- I O tratamento miofuncional visa adequar a propriocepção, as posturas de lábios, mandíbula e língua, a deglutição, a fala e o tônus e a mobilidade dos órgãos fonoarticulatórios.
- II O trabalho proprioceptivo deve ser desenvolvido conjuntamente com o postural. Nessa atividade, necessita-se da colaboração da criança, devendo-se lançar mão de todos os recursos para reforçá-la positivamente.
- III O tratamento miofuncional depende de uma equipe multidisciplinar, e o portador de deglutição atípica deve ser encaminhado ao otorrinolaringologista para que este certifique não haver qualquer obstrução das vias aéreas superiores.
- IV A automatização das posturas orais e da deglutição correta depende diretamente da boa aeração nasal. A má aeração nasal e eventuais causas de obstrução das vias aéreas superiores influenciam o trabalho miofuncional.

Assinale a opção correta.

- A Apenas os itens I e II estão certos.
- B Apenas os itens I e IV estão certos.
- C Apenas os itens II e III estão certos.
- D Apenas os itens III e IV estão certos.
- E Todos os itens estão certos.

Questão 88

Acerca dos hábitos parafuncionais prejudiciais à oclusão dental, assinale a opção correta.

- A De ocorrência mais comum na infância, a respiração bucal é uma síndrome que, se não for diagnosticada logo cedo, pode acarretar graves alterações oclusais, além de doenças respiratórias, otites, ronco e apneia.
- B A interposição lingual caracteriza-se pela pressão constante da língua contra os dentes, tanto anteriores quanto laterais, em uma ou ambas as arcadas. Os pacientes com esse quadro têm dificuldades para pronunciar corretamente o som de alguns fonemas, como /te/, /de/, /ne/, /se/ e /ze/.
- C A onicofagia, que é o apertamento ou ranger dos dentes durante movimentos não funcionais do sistema mastigatório, pode ocorrer durante o sono e constitui uma das parafunções mais comuns entre os pacientes.
- D A deglutição atípica acarreta problemas na função labial exclusivamente durante a fonação, além de interferir na posição dos dentes e na forma das arcadas, bem como no seu crescimento.
- E Identificado como sucção digital, o hábito de roer unhas geralmente aparece na infância e denota ansiedade, ocasionando estalidos na articulação temporomandibular ou dor pré-auricular, além de desgastes nas bordas incisais.

Questão 89

Assinale a opção correta acerca de condutas e métodos de avaliação aplicáveis ao paciente disfágico.

- Ⓐ Na reabilitação do paciente disfágico com rebaixamento cognitivo ou não colaborativo, é recomendado o uso de técnicas de reabilitação ativa direta.
- Ⓑ A videofluoroscopia ou videodeglutograma, apesar de ser um método invasivo, permite avaliar os estágios oral e faríngeo da deglutição.
- Ⓒ A ausculta cervical costuma ser realizada no leito ou durante as sessões de terapia, permitindo detectar a presença de deglutição e possível aspiração.
- Ⓓ Na avaliação da deglutição, deve-se buscar alimentos com consistência sólida utilizando o videodeglutograma para assegurar possíveis aspirações e penetrações.
- Ⓔ Dependendo do grau da disfagia do paciente, deve-se utilizar técnicas passivas, como, por exemplo, o treino da deglutição apenas com saliva.

Questão 90

Em relação às estratégias terapêuticas utilizadas no processo de reabilitação vocal de pacientes laringectomizados parciais verticais, assinale a opção correta.

- Ⓐ Estratégias com ataques vocais bruscos relacionados à função fonatória não são indicados para estimulação esfíncterica da laringe.
- Ⓑ Na reabilitação vocal do paciente submetido a laringectomia parcial vertical, é fundamental promover o aumento do grau do fechamento glótico e a diminuição do *loudness*, que é a sensação psicofísica de intensidade.
- Ⓒ A terapia dos pacientes em questão deve incluir manobras relacionadas ao desempenho das funções básicas da laringe, como a ação de proteção ao momento da deglutição, ao reflexo de tosse e ao mecanismo valvular para esforços físicos.
- Ⓓ Uma das estratégias utilizadas na terapia do paciente submetido a laringectomia parcial vertical é a manobra de cabeça tombada para trás, que se mostra útil para ativar a abertura à fonação, quando se associam emissões silábicas iniciadas com /g/.
- Ⓔ Ações mecânicas ou mudanças posturais que estimulem elementos intrínsecos à laringe para ativar a sua abertura são indicados na reabilitação de pacientes submetidos a laringectomias parciais verticais.

Questão 91

Acerca do processo de produção e desenvolvimento da voz e de assuntos correlatos, assinale a opção correta.

- Ⓐ O instrumento vocal do ser humano é composto por uma fonte de energia — os pulmões —, uma fonte vibratória — a laringe com as pregas vocais — e uma caixa ressoadora formada por faringe, boca e nariz.
- Ⓑ As pregas vocais aproximam-se na inspiração, quando o ar entra nos pulmões, e afastam-se na expiração, quando o ar sai dos pulmões, produzindo, assim, as vibrações que resultam no som da voz.
- Ⓒ As alterações da voz por uso inadequado dependem de um conjunto de fatores, entre os quais o tempo de uso da voz, considerado tolerável usar-se a fala por até 8 horas seguidas.
- Ⓓ A patologia da voz, ou disфония, classificada como funcional refere-se a defeito ou distúrbio no órgão ou no aparato vocal.
- Ⓔ O pólipos é um dos tipos de lesão mais comuns decorrentes do uso inadequado da voz.

Questão 92

Com referência a câncer de laringe, fatores de risco, laringectomia e afonia alaríngea, julgue os itens que se seguem.

- I Nas laringectomias parciais verticais, as queixas fonoaudiológicas estão mais relacionadas à disфония, ao passo que as horizontais promovem disfagia e disфония.
- II Nas cirurgias com remoção total da laringe, ou laringectomia total, há possibilidade de se comunicar pela laringe ou por outra forma de comunicação.
- III O fumo, o álcool e o uso de solventes orgânicos e de agrotóxicos são fatores de risco associados às causas do câncer de laringe.
- IV O câncer de laringe acarreta mitos e preconceitos relacionados à presença do traqueostoma, da sonda ou da gastrostomia para alimentação, decorrentes de dificuldades respiratórias, disfagia e disфония, que não resultam em sequelas definitivas para o paciente.

Estão certos apenas os itens

- Ⓐ I e II.
- Ⓑ I e III.
- Ⓒ I, II e III.
- Ⓓ I, II e IV.
- Ⓔ II, III e IV.

Questão 93

A respeito da psicolinguística, de noções básicas de construção e teorias de aquisição de linguagem e assuntos correlatos, assinale a opção correta.

- Ⓐ Entre as teorias de aquisição de linguagem, a mais aceita é a de Chomsky, que defende a aquisição de uma língua como resposta a estímulos.
- Ⓑ A criança apresenta, por volta dos dois anos de idade, elementos a partir dos quais já se pode afirmar, segundo Piaget, que o pensamento antecede a linguagem.
- Ⓒ A aquisição lexical inicia-se com a produção das primeiras palavras e estende-se por toda a vida, já que o ser humano sempre aprende novas palavras.
- Ⓓ Estudos longitudinais da aquisição da linguagem demonstram que a aquisição fonológica inicia-se por volta dos 12 meses de idade, período em que a criança mostra indícios de voltar-se para a fonologia da sua língua materna.
- Ⓔ Conforme a perspectiva interacionista, ainda que esteja vivendo na condição de isolamento social, a criança, por aptidão inata, constrói a linguagem e raramente apresenta atraso nessa aquisição.

Questão 94

Conforme a classificação dos retardos de aquisição da linguagem,

- Ⓐ a criança com retardo simples de linguagem com comprometimento nas capacidades comunicativas não possui condições cognitivas e representativas para adquirir linguagem.
- Ⓑ os distúrbios que mais afetam o desenvolvimento da criança pequena são as disartrias.
- Ⓒ as crianças começam a utilizar a linguagem sempre na mesma época, a partir do segundo ano de vida.
- Ⓓ as crianças divergem entre si quanto ao grau e à extensão de dificuldades encontradas.
- Ⓔ a criança consegue explorar e manipular objetos facilmente mesmo no retardo de linguagem com atraso global de desenvolvimento.

Questão 95

No que tange a distúrbios da leitura e da escrita e a transtornos aritméticos, assinale a opção correta.

- A** O diagnóstico de leitura e escrita será determinado por meio da comprovação de trocas grafêmicas e da posterior determinação da causa do distúrbio.
- B** As alterações de processamento auditivo em nada interferem nos distúrbios de aprendizagem e de leitura e escrita.
- C** A identificação das manifestações de alteração de leitura e escrita é suficiente para se determinar a natureza de suposto distúrbio nessa categoria.
- D** A disortografia é a troca de grafemas na representação de fonemas que têm semelhança auditiva.
- E** Os desvios no conteúdo da elaboração gráfica são percebidos precocemente nas dificuldades de leitura e escrita, em detrimento das alterações de forma.

Questão 96

Quanto aos distúrbios de origem psicológica e cognitiva de linguagem, assinale a opção correta.

- A** Os aspectos cognitivos devem ser dissociados dos aspectos emocionais no desenvolvimento da linguagem.
- B** O estabelecimento de relação afetiva com algum interlocutor preferencial (a mãe, no caso da criança) determinará padrões de comunicação simétricos.
- C** O uso de meios comunicativos gestuais e não verbais deve ser evitado para expressar funções específicas a crianças psicóticas.
- D** O fonoaudiólogo deverá estabelecer prioridades terapêuticas de linguagem e abordagens únicas, independentemente da alteração do quadro afetivo, cognitivo e social apresentado.
- E** Os aspectos morfológicos da linguagem estão mais comprometidos em crianças psicóticas.

Questão 97

Dados epidemiológicos têm demonstrado aumento do número de casos de câncer de laringe ou das vias aerodigestórias superiores. A esse respeito, assinale a opção correta.

- A** A voz esofágica pode ser conseguida com adaptação de uma prótese no traqueostoma sem que haja a necessidade de aprendizado.
- B** A maioria dos tumores de cabeça e pescoço é precedida por uma lesão precursora.
- C** O câncer de cabeça e pescoço acomete, em geral, indivíduos jovens fumantes ou alcoólicos.
- D** Disfluências e alterações de mordida, de deglutição e de comunicação sem diagnósticos e tratamentos adequados são exemplos de distúrbios a serem analisados como indícios do câncer de laringe.
- E** A continuidade da fonoterapia é recomendada nos casos de recidiva do câncer de laringe.

Questão 98

A respeito dos distúrbios de linguagem de leitura e escrita e de transtornos aritméticos, assinale a opção correta.

- A** Distúrbio de memória resulta de disfunções no sistema nervoso central e, em geral, a criança apresenta dificuldade auditiva e visual de reter informações, com dificuldade de reconhecer os sons e as letras.
- B** A dislexia do desenvolvimento com origem neurobiológica raramente está associada a déficits cognitivos, prematuridade e baixo peso ao nascer.
- C** Alterações na orientação espacial e temporal são insuficientes para prejudicar o desenvolvimento do aprendizado gráfico da escrita.
- D** As crianças que têm disgrafia não conseguem compreender os princípios matemáticos nem aprender os padrões motores para escrever letras e números.
- E** A criança com desordem de linguagem receptivoauditiva se sai bem em cálculos, mas tem desempenho inferior de raciocínio e em testes de vocabulário aritmético.

Questão 99

No que se refere a linguagem, conceito e formas de aquisição, assinale a opção correta.

- A** O modelo e o reforço à fala da criança são fatores importantes e únicos para a aquisição da fala e da linguagem, e a criança tem um papel passivo na aquisição (ouve e repete).
- B** Durante o desenvolvimento de fala e linguagem, a criança passa por etapas na aquisição fonético-fonológica (sons que compõem a fala), sintático-semântica (ordem das palavras e seu significado), lexicais, gramaticais e pragmáticas, mas a ordem de aquisição e a época não variam de acordo com o ritmo individual de desenvolvimento.
- C** As articulações dos sons da fala constituem uma função dos órgãos articuladores do sistema sensorio motor oral razão por que a função da articulação se reduz ao mecanismo dos órgãos fonoarticulatórios.
- D** No desenvolvimento de fala e linguagem, inicialmente, o choro caracteriza-se por um ato instintivo que não pode ser diferenciado até que se comece o balbucio.
- E** Para que haja comunicação entre duas ou mais pessoas, é necessário que se estabeleça a cadeia de fala, constituída pelo emissor (falante), pela mensagem (código linguístico em comum oral, gestual ou gráfico) e pelo receptor (ouvinte).

Questão 100

A qualidade da voz tem sido considerada um dos atributos mais completos do indivíduo, que pode revelar indícios sobre seus parâmetros físicos, psicológicos e sociais. As dificuldades na produção da emissão vocal denominam-se disfonia, que ocorre quando a voz não é produzida naturalmente. Acerca de disfonias, sinais e sintomas e classificação, assinale opção correta.

- Ⓐ Os sintomas vocais podem ser classificados como auditivos e proprioceptivos, os quais estão relacionados a rouquidão, voz fraca, tremor, dificuldade de atingir agudos, entre outros.
- Ⓑ Os sintomas vocais são incomensuráveis devido à falta de especificidade e sensibilidade para discriminar os pacientes disfônicos dos vocalmente saudáveis.
- Ⓒ O sintoma de rouquidão é o mais comum nos quadros de disfonia, não decorre do abuso vocal ou do uso inadequado da voz, além de não estar associado às alterações de vias aéreas superiores.
- Ⓓ As disfonias são manifestadas por meio de sintomas vocais definidos como queixas relacionadas à voz, que podem ser descritas e relatadas pelo próprio indivíduo e decorrer de fatores como distúrbios alérgicos, hábitos nocivos, fumo, álcool, entre outros.
- Ⓔ Os fatores etiológicos que ocasionam os distúrbios vocais não influenciam a autopercepção do paciente, pois ele percebe que, muitas vezes, realiza a emissão vocal com esforço e tensão.

Espaço livre