

- Nas questões a seguir, marque, para cada uma, a única opção correta, de acordo com o respectivo comando. Para as devidas marcações, use a **Folha de Respostas**, único documento válido para a correção das suas respostas.
- Nas questões que avaliarem **conhecimentos de informática** e(ou) **tecnologia da informação**, a menos que seja explicitamente informado o contrário, considere que todos os programas mencionados estão em configuração-padrão e que não há restrições de proteção, de funcionamento e de uso em relação aos programas, arquivos, diretórios, recursos e equipamentos mencionados.
- Eventuais espaços livres — identificados ou não pela expressão “**Espaço livre**” — que constarem deste caderno de provas poderão ser utilizados para rascunho.

-- PROVAS OBJETIVAS --

-- CONHECIMENTOS BÁSICOS --

Texto CG1A1

O capitalismo de vigilância é uma mutação do capitalismo da informação, o que nos coloca diante de um desafio civilizacional. As Big Techs — seguidas por outras firmas, laboratórios e governos — usam tecnologias da informação e comunicação (TIC) para expropriar a experiência humana, que se torna matéria-prima processada e mercantilizada como dados comportamentais. O usuário cede gratuitamente as suas informações ao concordar com termos de uso, utilizar serviços gratuitos ou, simplesmente, circular em espaços onde as máquinas estão presentes.

A condição para a emergência do capitalismo de vigilância foi a expansão das tecnologias digitais na vida cotidiana, dado o sucesso do modelo de personalização de alguns produtos no início dos anos 2000. No terço final do século XX, estavam criadas as condições para uma terceira modernidade, voltada a valores e expectativas dos indivíduos.

Outras circunstâncias foram ocasionais: o estouro da bolha da internet em 2000 e os ataques terroristas do 11 de setembro. A primeira provocou a retração dos investimentos nas *startups*, o que levou a Google a explorar comercialmente os dados dos usuários de seus serviços. Para se prevenir contra novos ataques, as autoridades norte-americanas tornaram-se ávidas de programas de monitoramento dos usuários da Internet e se associaram às empresas de tecnologia. Por sua vez, a Google passou a vender dados a empresas de outros setores, criando um mercado de comportamentos futuros. Assim, instaurou-se uma nova divisão do aprendizado entre os que controlam os meios de extração da mais-valia comportamental e os seus destinatários.

Ao se generalizar na sociedade e se aprofundar na vida cotidiana, o capitalismo de vigilância capturou e desviou o efeito democratizador da Internet, que abria a todos o acesso à informação. Ele passou a elaborar instrumentos para modificar e conformar os nossos comportamentos.

Internet: < www.scielo.br > (com adaptações).

Questão 1

Com relação às ideias do texto CG1A1, assinale a opção correta.

- Ⓐ O capitalismo da informação, uma mutação do capitalismo de vigilância, aproveita os dados cedidos gratuitamente pelos usuários da Internet.
- Ⓑ O sucesso do modelo de personalização de alguns produtos, no início dos anos 2000, se deu graças ao capitalismo de vigilância empreendido pelas *startups*.
- Ⓒ Para o usuário das TIC, é vantagem ceder gratuitamente suas informações, uma vez que, assim, ele pode utilizar serviços gratuitos e circular tranquilamente em espaços onde as máquinas estão presentes.
- Ⓓ O capitalismo de vigilância cria instrumentos para modificar e conformar os comportamentos dos usuários da Internet.
- Ⓔ O capitalismo de vigilância possui efeito democratizador, uma vez que abre a todos o acesso à informação, por meio do aprofundamento da vida cotidiana.

Questão 2

Em cada uma das opções a seguir, é apresentada uma proposta de reescrita do seguinte trecho do texto CG1A1 “As Big Techs — seguidas por outras firmas, laboratórios e governos — usam tecnologias da informação e comunicação (TIC) para expropriar a experiência humana, que se torna matéria-prima processada e mercantilizada como dados comportamentais.” (segundo período do primeiro parágrafo). Assinale a opção cuja proposta de reescrita, além de estar gramaticalmente correta, preserva os sentidos originais do texto.

- Ⓐ As Big Techs, seguidas de outras firmas, laboratórios e governos, usam tecnologias da informação e comunicação (TIC) para expropriar a experiência humana, que se torna matéria-prima processada e mercantilizada na forma de dados de comportamento.
- Ⓑ As Big Techs, seguidas por outras firmas, laboratórios e governos — usam tecnologias da informação e comunicação (TIC) para reaproveitar a experiência humana, que se torna eventos processados e vendidos como dados comportamentais.
- Ⓒ As Big Techs — acompanhadas por outras firmas, laboratórios e governos — usam tecnologias da informação e comunicação (TIC) para expropriar a experiência humana, que se tornam insumos processados e mercantilizados como dados comportamentais.
- Ⓓ As Big Techs — seguidas por outras firmas, laboratórios e governos — usam tecnologias da informação e comunicação (TIC) para expropriar a experiência humana, que se tornam elementos processados e mercantilizados como dados comportamentais.
- Ⓔ As Big Techs, bem como outras firmas, laboratórios e governos — aproveitam tecnologias da informação e comunicação (TIC) para recriar a experiência humana, que se torna matéria-prima processada e mercantilizada como dados comportamentais.

Questão 3

No que se refere aos aspectos linguísticos do texto CG1A1, assinale a opção correta.

- Ⓐ A inserção do sinal indicativo de crase em “as suas informações” (terceiro período do primeiro parágrafo) manteria a correção gramatical e o sentido original do texto, uma vez que seu emprego é facultativo.
- Ⓑ A flexão no plural da forma verbal “se associaram” (terceiro período do terceiro parágrafo) decorre da concordância com o sujeito “usuários da internet”, no mesmo período.
- Ⓒ A oração “onde as máquinas estão presentes” (terceiro período do primeiro parágrafo) qualifica e restringe o termo “espaços”, no mesmo período.
- Ⓓ A supressão de vírgula logo após “Internet” (primeiro período do quarto parágrafo) manteria o sentido original e a correção gramatical do texto.
- Ⓔ No terceiro período do primeiro parágrafo, a vírgula empregada logo após “simplesmente” poderia ser retirada, sem prejuízo da coesão e da correção gramatical do texto, uma vez que, no contexto dado, seu uso é facultativo.

Questão 4

Com referência à colocação e ao emprego dos pronomes no texto CG1A1, assinale a opção correta.

- A O pronome “Ele”, no início do segundo período do quarto parágrafo, funciona como elemento de coesão, uma vez que retoma a expressão “o efeito democratizador da Internet”, no período imediatamente anterior.
- B A próclise empregada em “nos coloca” (primeiro período do primeiro parágrafo) é opcional, de modo que o emprego da ênclise (coloca-nos) também seria correto.
- C O pronome “seus” (segundo período do terceiro parágrafo) funciona como elemento de coesão e retoma o termo “Google”, no mesmo período.
- D A correção gramatical do texto seria mantida se o vocábulo “que” (primeiro período do quarto parágrafo) fosse substituído por **onde**.
- E O pronome “nossos” em “nossos comportamentos” (segundo período do quarto parágrafo) tem valor demonstrativo.

Questão 5

O trecho “o estouro da bolha da internet em 2000 e os ataques terroristas do 11 de setembro” (primeiro período do terceiro parágrafo) exerce a função de

- A objeto direto.
- B objeto indireto.
- C sujeito.
- D complemento nominal.
- E aposto.

Questão 6

O termo “ávidas” (terceiro período do terceiro parágrafo) poderia ser substituído, sem alterar o sentido e a correção gramatical do texto CG1A1, por

- A menosprezadas.
- B avarentas.
- C desejosas.
- D mesquinhas.
- E fadadas.

Questão 7

Três analistas do Poder Judiciário — Ângela, Bianca e Cláudia —, com especialidades diferentes — contabilidade, medicina do trabalho e psicologia — e tempos de experiência diferentes — 12 anos, 15 anos e 20 anos —, foram designadas para emitir parecer técnico sobre um processo trabalhista. Cláudia não é a psicóloga e tem 12 anos de experiência, a contadora tem 20 anos de experiência e a psicóloga não é Bianca.

Considerando-se essa situação hipotética, é correto afirmar que

- A a médica do trabalho tem mais de 14 anos de experiência.
- B Cláudia é a médica do trabalho.
- C Bianca tem menos de 16 anos de experiência.
- D Ângela é a contadora.
- E a psicóloga tem mais de 17 anos de experiência.

Tabela CG1A2

Considere os conectivos lógicos usuais presentes na tabela a seguir e assuma que as letras maiúsculas representem proposições lógicas.

Conectivo	Símbolo
Conjunção	\wedge
Disjunção	\vee
Negação	\sim
Condicional	\Rightarrow
Bicondicional	\Leftrightarrow

Questão 8

Considere, ainda, o texto a seguir: O direito do trabalho e a justiça social são os pilares de uma organização de trabalho mais justa e igualitária, e, por essa razão, o currículo do ensino médio inclui disciplinas sobre cidadania, direitos humanos e empreendedorismo consciente.

Tendo em vista essas informações, o texto precedente pode ser expresso corretamente pela proposição lógica

- A P.
- B $P \wedge Q$.
- C $P \Rightarrow Q$.
- D $(P \wedge Q) \Rightarrow (R \wedge S \wedge T)$.
- E $(P \wedge Q) \Rightarrow R$.

Questão 9

Considere que as primeiras três colunas da tabela-verdade da proposição lógica $P \Leftrightarrow (Q \wedge R)$ sejam iguais a

P	Q	R
V	V	V
V	V	F
V	F	V
V	F	F
F	V	V
F	V	F
F	F	V
F	F	F

Assinale a opção que apresenta a sequência de valores V ou F da última coluna da tabela-verdade apresentada.

- A V V V V V F V V
- B V F F F F V V V
- C V V V V F F F V
- D V V V F V F V F
- E V V F V V F V F

Questão 10

Como os processos jurídicos são costumeiramente compostos de centenas de páginas e estudos indicam que mudar levemente a tonalidade das páginas pode facilitar a leitura, tomou-se uma decisão de que todo processo de determinado órgão será organizado de modo que as primeiras 25 páginas tenham fundo branco, as 20 seguintes tenham fundo bege, as 15 seguintes tenham fundo verde claro, com o referido procedimento sendo repetido de modo que as 25 páginas seguintes tenham fundo branco e assim sucessivamente.

Se um processo de 400 páginas já tiver sido organizado conforme esse procedimento,

- A a página 67 terá ficado com fundo bege e a página 97 terá ficado com fundo branco.
- B a página 117 terá ficado com fundo verde claro e a página 142 terá ficado com fundo bege.
- C a página 330 terá ficado fundo verde claro e a página 390 terá ficado fundo bege.
- D a página 156 terá ficado fundo bege e a página 230 terá ficado fundo verde claro.
- E a página 280 terá ficado com fundo branco e a página 317 terá ficado com fundo verde claro.

Questão 11

O Pará é um estado brasileiro onde há muitas festas, muitas danças e muitos ritmos populares. Ritmos famosos, como o carimbó, a lambada, a guitarrada, o calypso, o brega e o tecno-brega paraenses, fazem a alegria dos locais e dos turistas que visitam essa região. Uma pesquisa feita com vários grupos musicais que atuam nas grandes cidades do Pará revelou que, entre esses grupos musicais, 326 tocavam carimbó, 182 não tocavam lambada, 190 tocavam esses dois estilos de música e 148 tocavam apenas um desses dois estilos de música.

Tendo em vista essas informações, é correto afirmar que o número de grupos musicais que participaram dessa pesquisa está entre

- A 200 e 260.
- B 260 e 320.
- C 320 e 380.
- D 380 e 440.
- E 440 e 500.

Questão 12

No LibreOffice Writer, para atribuir determinado padrão de tamanho e formato de título de itens ou seções de um documento, a opção disponível é

- A Editar → Referência.
- B Estilos → Título.
- C Ferramentas → Estilos.
- D Editar → Título.
- E Formatar → Estilo de página padrão.

Questão 13

No LibreOffice Writer, é possível aumentar ou diminuir a distância entre parágrafos ou entre as linhas do documento em edição por meio do *menu*

- A Editar → Colar especial.
- B Exibir → Limites do texto.
- C Formatar disposição do texto.
- D Inserir → Quebra de página.
- E Formatar → Espaçamento.

Questão 14

No LibreOffice Calc, o assistente de funções é utilizado tanto para criar fórmulas na planilha quanto para verificar a construção da fórmula, identificadas, respectivamente, pelas guias

- A Fórmula e Resultado.
- B Soma e Argumento.
- C Categoria e Matriz.
- D Funções e Estrutura.
- E Tipos de funções e Operadores.

Questão 15

No LibreOffice Calc, a função que permite descartar as casas decimais de um número é

- A ARREDMULTB.
- B TETO.
- C TRUNCAR.
- D ALEATÓRIO.
- E TAN.

Questão 16

Em uma pesquisa avançada utilizando-se o sítio Google, para se recuperar conteúdos que contenham exatamente o mesmo termo escrito na pesquisa, deve-se usar o operador

- A intitle.
- B * (asterisco).
- C or.
- D “ ” (aspas).
- E related.

Questão 17

No Google Drive, um arquivo da área de armazenamento pode ser disponibilizado para outro usuário poder baixar, acessar ou editar por meio da opção

- A Fazer uma cópia.
- B Compartilhados comigo.
- C Compartilhar.
- D Disponível Offline.
- E Fazer download.

Questão 18

A Resolução 296/CSJT de 25/6/2021 dispõe sobre a padronização da estrutura organizacional e de pessoal e sobre a distribuição da força de trabalho nos órgãos da Justiça do Trabalho de primeiro e segundo grau. Essa resolução especifica que as funções comissionadas alocadas nas unidades de apoio judiciário têm o nível máximo

- A FC-1.
- B FC-2.
- C FC-4.
- D FC-6.
- E FC-5.

Questão 19

No Plano Estratégico da Justiça do Trabalho estabelecido pela Resolução 290/CSJT de 20/5/2021, existe um elemento que é identificado como sendo o que a organização pretende ser no futuro ao considerar as oportunidades futuras, as aspirações e o reconhecimento dos públicos interno e externo. Trata-se do elemento

- A objetivos.
- B visão.
- C valor.
- D missão.
- E cesta de indicadores estratégicos.

Questão 20

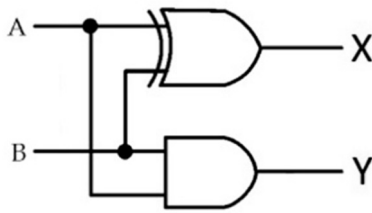
A respeito das finalidades que o Código de Ética dos Servidores do TRT da 8.^a Região busca atingir, julgue os itens a seguir.

- I Contribuir para transformar a visão, a missão e os valores institucionais do tribunal em atitudes, comportamentos, regras de atuação e práticas organizacionais.
- II Assegurar ao servidor a preservação de sua imagem e de sua reputação.
- III Reduzir a subjetividade das interpretações sobre os princípios e normas éticos adotados no tribunal.
- IV Estabelecer regras claras para a aplicação de penalidade administrativa disciplinar, respeitada a ampla defesa.

Assinale a opção correta.

- A** Apenas os itens I e II estão certos.
- B** Apenas os itens III e IV estão certos.
- C** Apenas os itens I, II e III estão certos.
- D** Apenas os itens II, III e IV estão certos.
- E** Os itens I, II, III e IV estão certos.

Espaço livre

-- CONHECIMENTOS ESPECÍFICOS --**▼ Questão 21**

É correto afirmar que o circuito apresentado na figura precedente pode ser utilizado como

- A** um subtrator completo.
- B** um meio-subtrator.
- C** um somador completo.
- D** um inversor completo.
- E** um meio-somador.

▼ Questão 22

Certo engenheiro eletricista deve escolher conversores analógico-digitais para duas aplicações. Na primeira aplicação deseja-se obter maior velocidade de conversão e na segunda aplicação busca-se produzir um fluxo de dados de um único *bit*.

Com base nessa situação, assinale a opção que corresponde à escolha do tipo correto de conversor para a primeira e segunda aplicação, respectivamente.

- A** conversor de aproximação sucessiva e conversor de dupla rampa
- B** conversor sigma-delta e conversor de aproximação sucessiva
- C** conversor de dupla-rampa e conversor simultâneo
- D** conversor sigma-delta e conversor de dupla-rampa
- E** conversor simultâneo e conversor sigma-delta

▼ Questão 23

O controlador que permite obter uma estabilização mais rápida e com erro em regime estacionário nulo é o

- A** proporcional.
- B** proporcional-integral-derivativo.
- C** integral.
- D** derivativo.
- E** proporcional-integral.

▼ Questão 24

Caso um material diamagnético seja inserido em um campo magnético de intensidade H , haverá a produção, por parte do material diamagnético, de um campo

- A** no mesmo sentido do campo H , mas não permanente.
- B** perpendicular ao campo H e permanente.
- C** alinhado ao campo H , mas não permanente.
- D** no mesmo sentido do campo H e permanente.
- E** oposto ao campo H . mas não permanente.

▼ Questão 25

Considere um elevador de carga que utiliza um motor CC para o seu deslocamento. Nas situações de subida com carga e descida com o melhor controle de velocidade, o referido motor deverá ser ligado, respectivamente, nas formas de ligação

- A** série e *shunt*.
- B** *compound* e série.
- C** *shunt* e *compound*.
- D** série e *compound*.
- E** *compound* e *shunt*.

▼ Questão 26

Em um sistema AM-DSB/SC, para se garantir que não haja a transmissão da portadora, é necessário que, no modulador balanceado,

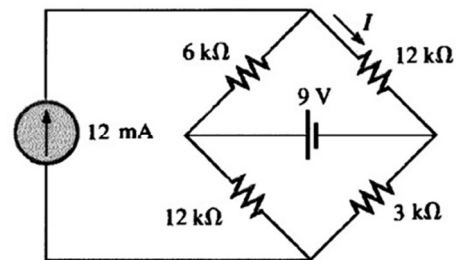
- A** seja utilizado um único modulador quadrático AM.
- B** seja utilizado um filtro RC em sua saída.
- C** o filtro da saída do modulador esteja sintonizado para a frequência da portadora.
- D** seja utilizada a soma do sinal de informação e da portadora em ambas as entradas.
- E** sejam utilizados transistores idênticos.

▼ Questão 27

Considere que uma onda TEM propaga-se em um guia de placas paralelas, que o comprimento do guia seja infinito e que sua largura seja muito maior que sua altura. Considere ainda que o guia esteja preenchido por um material sem perdas, de parâmetros (ϵ, μ) .

Nesse caso, a frequência de corte será

- A** igual a zero.
- B** inversamente proporcional a ϵ .
- C** inversamente proporcional a μ .
- D** inversamente proporcional à distância das placas.
- E** diretamente proporcional à largura das placas.

▼ Questão 28

Considerando-se o circuito apresentado na figura anterior, é correto afirmar que o valor da corrente I é

- A** 0,5 mA.
- B** 4,5 mA.
- C** 1,5 mA.
- D** 2,5 mA.
- E** 3,5 mA.

▼ Questão 29

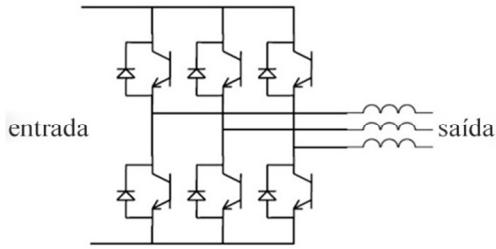
Um motor de 30 CV, oito polos, 220 V com frequência 60 Hz, com comando em 220 V e TAP de 80% é acionado por uma chave de partida compensadora. A corrente nominal do motor, a 220 V, é de 80 A; e a corrente para cálculo de proteção é de 500 A.

Com base nessas informações, o contator K1 deverá ser dimensionado para uma corrente de, no mínimo,

- A** 400 A.
- B** 80 A.
- C** 160 A.
- D** 240 A.
- E** 320 A.

Questão 30

O circuito apresentado na figura a seguir representa a topologia de um inversor trifásico.



Em relação ao conversor em questão, é correto afirmar que

- Ⓐ a entrada será em corrente alternada e a saída será em corrente alternada.
- Ⓑ a entrada será em corrente contínua e a saída será em corrente contínua.
- Ⓒ a entrada será em corrente alternada e a saída será em tensão contínua.
- Ⓓ a entrada será em tensão contínua e a saída será em tensão alternada.
- Ⓔ a entrada será em tensão alternada e a saída será em tensão contínua.

Questão 31

De acordo com a Lei n.º 14.133/2021, na instrução do processo licitatório, a definição do objeto para o atendimento da necessidade será feita por meio de

- Ⓐ plano de contratações anual e estudo técnico preliminar.
- Ⓑ plano de contratações anual, estudo técnico preliminar ou termo de referência.
- Ⓒ plano de contratações anual, estudo técnico preliminar e projeto executivo.
- Ⓓ termo de referência, anteprojeto, projeto básico ou projeto executivo, conforme o caso.
- Ⓔ anteprojeto, projeto básico ou projeto executivo.

Questão 32

Assinale a opção que apresenta a correta relação entre a tecla de função e seu respectivo comando do AutoCAD.

- Ⓐ F1 - Help
- Ⓑ F5 - AutoCAD Text Window
- Ⓒ F2 - Isoplane Right/Left/Top
- Ⓓ F3 - Tablet On/Off
- Ⓔ F4 - Osnap On/Off

Questão 33

O projeto básico, que se refere a um conjunto de elementos necessários e suficientes, com nível de precisão adequado, utilizado na definição e no dimensionamento da obra ou do serviço, contém

- Ⓐ a justificativa do programa de necessidades.
- Ⓑ a avaliação de demanda do público-alvo.
- Ⓒ o orçamento detalhado do custo global da obra.
- Ⓓ a identificação das especificações técnicas de serviços, materiais e equipamentos.
- Ⓔ a motivação técnico-econômico-social do empreendimento.

Questão 34

O ato administrativo normativo destinado a explicitar a lei para sua correta aplicação e a disciplinar os casos omissos é

- Ⓐ a decisão normativa.
- Ⓑ a resolução.
- Ⓒ o projeto.
- Ⓓ a proposta.
- Ⓔ o anteprojeto.

Questão 35

A certidão de acervo técnico (CAT) é o instrumento que certifica, para os efeitos legais, as atividades registradas no CREA que constituem o acervo técnico do profissional e

- Ⓐ representa o conjunto de atividades desenvolvidas pelo profissional compatíveis com suas competências e registradas no CREA por meio de anotações de responsabilidade técnica.
- Ⓑ apresenta prazo para emissão de, no máximo, trinta dias.
- Ⓒ não possibilita emissão pela Internet.
- Ⓓ pode ser emitida apenas com registro de atestado de atividade concluída ou em andamento.
- Ⓔ constitui prova da capacidade técnico-profissional da pessoa jurídica somente se o profissional estiver a ela vinculado como integrante de seu quadro técnico.

Questão 36

A Lei n.º 10.520/2002 dispõe acerca de impedimento de licitar e contratar com a União, os estados, o Distrito Federal ou os municípios, pelo prazo de até 5 anos, sem prejuízo das multas previstas em edital e no contrato e das demais cominações legais. Para que não sofra tal penalidade, caso não haja prazo de validade da proposta diverso fixado no edital, a empresa deverá honrar sua proposta no prazo de

- Ⓐ 20 dias.
- Ⓑ 40 dias.
- Ⓒ 100 dias.
- Ⓓ 60 dias.
- Ⓔ 80 dias.

Questão 37

Julgue os itens a seguir, com base na Lei n.º 8.666/1993 e em suas alterações, a respeito das situações específicas em que as obras poderão ser licitadas.

- I Quando houver previsão de 10% de recursos orçamentários que assegurem o pagamento das obrigações decorrentes de obras, conforme o respectivo cronograma.
- II Quando existir orçamento detalhado em planilhas que expressem a composição de todos os seus custos unitários.
- III Quando houver projeto básico aprovado pela autoridade competente e disponível para exame dos interessados em participar do processo licitatório.
- IV Quando o produto esperado da obra estiver contemplado nas metas estabelecidas na lei orçamentária anual.

Estão certos apenas os itens

- Ⓐ I e II.
- Ⓑ I e IV.
- Ⓒ II e III.
- Ⓓ I, III e IV.
- Ⓔ II, III e IV.

Questão 38

Julgue os próximos itens a respeito da contratação de obras de grande vulto, em conformidade com a Lei n.º 14.133/2021.

- I O edital contemplará, obrigatoriamente, matriz de alocação de riscos entre o contratante e o contratado nesse tipo de contratação.
- II São obras de grande vulto aquelas cujo valor estimado supera o total de R\$ 250.000.000,00 (duzentos e cinquenta milhões de reais).
- III O edital deverá prever, nesse tipo de contratação, a obrigatoriedade de implantação de programa de integridade pelo licitante vencedor, no prazo de um ano, contado da celebração do contrato.
- IV Poderá ser exigida, nesse tipo de contratação, a prestação de garantia, em percentual equivalente a até 30% do valor inicial do contrato.

Estão certos apenas os itens

- A I e II.
- B I e IV.
- C II e III.
- D I, III e IV.
- E II, III e IV.

Questão 39

De acordo com a lei aplicável, nos contratos de obras e serviços de engenharia, a frequência de realização de medições para verificar o andamento das etapas previstas da obra e para evitar que haja pagamentos antecipados ou indevidos é

- A diária.
- B semanal.
- C anual.
- D quinzenal.
- E mensal.

Questão 40

No que se refere à fiscalização de contratos, prevista na Lei n.º 8.666/1993, assinale a opção correta.

- A Todas as pendências de prazos e pagamentos relativas à execução dos serviços contratados deverão estar saneadas apenas quando se efetivar o recebimento definitivo.
- B Preposto é o representante da administração pública que deverá estar presente, de forma contínua, na obra para o atendimento das solicitações da empresa.
- C Consórcio é o instrumento utilizado pela empresa vencedora da licitação para repassar a outra empresa parcela da execução dos serviços.
- D A alteração unilateral é indicada quando for conveniente a substituição da garantia de execução.
- E Reajustamento é a forma de manutenção do equilíbrio econômico-financeiro de contrato que consiste na aplicação do índice de correção monetária previsto no contrato.

Questão 41

A Constituição Federal de 1988 poderá ser emendada mediante proposta

- A de três quintos, no mínimo, dos membros da Câmara dos Deputados ou do Senado Federal.
- B de um terço, no mínimo, dos membros da Câmara dos Deputados ou do Senado Federal.
- C do presidente do Senado Federal.
- D de um terço, no mínimo, das assembleias legislativas das unidades da Federação.
- E do presidente do Supremo Tribunal Federal.

Questão 42

A composição do Conselho Nacional de Justiça (CNJ) inclui um

- A juiz de Tribunal Regional Federal, indicado pelo Superior Tribunal de Justiça.
- B membro do Ministério Público da União, indicado pelo Procurador-Geral de Justiça.
- C desembargador do Tribunal de Justiça, indicado pelo Superior Tribunal de Justiça.
- D juiz estadual, indicado pelo Superior Tribunal de Justiça.
- E juiz federal, indicado pelo Supremo Tribunal Federal.

Questão 43

De acordo com a Constituição Federal de 1988, os Tribunais Regionais do Trabalho compõem-se de, no mínimo, sete julgadores, entre os quais se incluem

- A um quinto de advogados e membros da defensoria pública, com mais de dez anos de efetiva atividade profissional e de efetivo exercício, respectivamente.
- B um quinto de advogados e membros da defensoria pública, com mais de cinco anos de efetiva atividade profissional e efetivo exercício, respectivamente.
- C um quinto de advogados e membros do Ministério Público do Trabalho, com mais de dez anos de efetiva atividade profissional e de efetivo exercício, respectivamente.
- D um quinto de advogados e membros do Ministério Público do Trabalho, com mais de três anos de efetiva atividade profissional e de efetivo exercício, respectivamente.
- E um quinto de advogados e membros do Ministério Público do Trabalho, com mais de cinco anos de efetiva atividade profissional e de efetivo exercício, respectivamente.

Questão 44

Compete privativamente à União legislar sobre

- A juntas comerciais.
- B criação, funcionamento e processo do juizado de pequenas causas.
- C previdência social, proteção e defesa da saúde.
- D proteção e tratamento de dados pessoais.
- E proteção e integração social das pessoas portadoras de deficiência.

Questão 45

Acerca da fiscalização contábil, financeira e orçamentária, assinale a opção correta.

- A Os ministros do Tribunal de Contas da União terão as mesmas garantias, as mesmas prerrogativas, os mesmos impedimentos, os mesmos vencimentos e as mesmas vantagens dos ministros do Superior Tribunal de Justiça.
- B Os Tribunais de Contas dos Estados deverão ser integrados por nove Conselheiros em razão da simetria com o sistema federal.
- C A fiscalização contábil, financeira, orçamentária, operacional e patrimonial da União será exercida pelo Congresso Nacional, mediante controle interno, e pelo Tribunal de Contas da União, mediante controle externo.
- D O Tribunal de Contas da União encaminhará ao Congresso Nacional, semestralmente, relatório de suas atividades.
- E As competências do Tribunal de Contas da União incluem sustar, de plano, execução de contratos, comunicando a decisão à Câmara dos Deputados e ao Senado Federal.

Questão 46

De acordo com a Lei n.º 8.666/1993, a prorrogação dos contratos administrativos de serviços contínuos, incluindo-se o período excepcional, limita-se ao período de

- A 72 meses.
- B 60 meses.
- C 48 meses.
- D 66 meses.
- E 60 meses e cento e oitenta dias.

Questão 47

Na concessão de serviços públicos, para a escolha do concessionário, exige-se, como regra, licitação na modalidade

- A leilão.
- B concorrência.
- C pregão.
- D credenciamento.
- E consulta pública.

Questão 48

As autarquias federais

- A são subordinadas ao ministério competente.
- B não possuem patrimônio e receita próprios.
- C não possuem personalidade jurídica.
- D são criadas por lei.
- E são entes cuja gestão financeira está a cargo da União.

Questão 49

No direito administrativo, o silêncio administrativo não regulado por lei, em regra,

- A implica manifestação denegatória.
- B revela a prática de ato administrativo discricionário.
- C importa anuência tácita.
- D não produz efeitos jurídicos.
- E constitui fato jurídico administrativo.

Questão 50

Acerca do requisito competência dos atos administrativos, julgue os seguintes itens.

- I A legitimidade dos atos administrativos pressupõe competência definida em lei.
- II No silêncio das normas jurídicas, presumem-se competentes para aplicar sanções administrativas os agentes públicos executores, de plano hierarquicamente inferior.
- III A competência administrativa é improrrogável e inderrogável.
- IV É delegável a competência para a edição de atos normativos e para a decisão de recurso administrativo, desde que em primeira instância administrativa.

Estão certos apenas os itens

- A I e II.
- B I e III.
- C II e IV.
- D I, III e IV.
- E II, III e IV.

Questão 51

Ao ocupar um cargo público, a pessoa assume um conjunto de atribuições e responsabilidades, previstas em uma estrutura organizacional, cujo exercício deve observar padrões éticos. O servidor público, além de agir com retidão, também deve demonstrá-la para a sociedade. Essa busca de convergência entre a natureza da ação e a aparência da ação é denominada

- A *accountability*.
- B decoro.
- C imparcialidade.
- D probidade.
- E impessoalidade.

Questão 52

Os órgãos públicos, quanto à estrutura, podem ser classificados em simples (unitários) ou compostos. Acerca desse tema, é correto afirmar que os órgãos unitários

- I são constituídos por um único centro de atribuições.
- II possuem subdivisões internas.
- III incluem as secretarias de estado.
- IV incluem os ministérios.

Assinale a opção correta.

- A Nenhum item está certo.
- B Apenas o item I está certo.
- C Apenas o item II está certo.
- D Apenas o item III está certo.
- E Apenas o item IV está certo.

Questão 53

O *Balanced Score Card* é muito utilizado em todo o mundo, seja no âmbito privado ou público. Um dos motivos de seu sucesso se deve ao fato de que o *Balanced Score Card*

- A apresenta duas dimensões: perspectiva financeira e perspectiva governamental.
- B propicia a visão de conjunto dos fatores críticos de sucesso.
- C apresenta três dimensões: perspectiva financeira, perspectiva do cliente e perspectiva governamental.
- D apresenta quatro dimensões: perspectiva financeira, perspectiva do cliente, perspectiva interna, e perspectiva governamental.
- E enfatiza apenas o resultado financeiro final.

Questão 54

No contexto da liderança nas organizações, é comum a análise da Teoria Caminho – Meta ou Caminho – Objetivo, que elenca, entre os possíveis comportamentos do líder, o comportamento

- A autoritário-coercitivo, em que o líder decide todo o processo, o que será feito, quando será feito e como será feito.
- B benevolente, em que o líder toma as decisões com base na satisfação das necessidades dos subordinados.
- C diretivo, em que o líder deixa claro o que se espera dos liderados, organizando e proporcionando diretrizes claras sobre como as tarefas deverão ser realizadas.
- D consultivo, em que o líder compartilha as decisões com os subordinados, permitindo flexibilidade na realização das tarefas.
- E carismático, em que o líder motiva os subordinados em face de traços próprios de personalidade e comportamento.

Questão 55

No contexto da gestão pública, a competência interpessoal

- A é uma competência que não pode ser treinada, visto que seu desenvolvimento deve ocorrer em quatro níveis: o individual, o grupal, o organizacional e o governamental.
- B é a habilidade de lidar eficazmente com as relações interpessoais, sabendo tratar outras pessoas de forma adequada às necessidades de cada um e de acordo com a situação.
- C tem componentes relacionais, mas não compreende a dimensão emocional-afetiva.
- D é composta somente pela percepção.
- E não precisa ser considerada, em funções de liderança, visto que a competência técnica é suficiente para um desempenho total e eficaz.

Questão 56

Segundo a doutrina, quando o governo destina parcela do seu orçamento para o fornecimento de bens considerados não rivais e não excludentes, como a iluminação pública, ele está prioritariamente exercendo a função

- A** distributiva.
- B** compensativa.
- C** saneadora.
- D** alocativa.
- E** estabilizadora.

Questão 57

A Constituição Federal de 1988, a fim de conferir mais eficiência à execução orçamentária, previu como exceção ao princípio orçamentário da exclusividade (o qual prevê que a lei orçamentária anual — LOA — não contenha matéria estranha à previsão de receita e à fixação de despesa) a possibilidade de a LOA conter dispositivo que traga autorização para abertura de créditos

- A** especiais e contratação de operações de crédito, desde que para antecipação de receita.
- B** especiais e contratação de operações de crédito, exceto por antecipação de receita.
- C** especiais e contratação de operações de crédito, mesmo que por antecipação de receita.
- D** suplementares e contratação de operações de crédito, exceto por antecipação de receita.
- E** suplementares e contratação de operações de crédito, ainda que por antecipação de receita.

Questão 58

A LOA expressa a sua integração com o plano plurianual (PPA) por meio dos programas de duração continuada. Entre as ações orçamentárias que compõem um programa, conforme previsão contida no PPA, a ação que consiste em um conjunto de operações que se realizam de modo contínuo e permanente de que resulta um produto ou serviço necessário à manutenção da ação de governo é denominada

- A** atividade.
- B** operação especial.
- C** pesquisa.
- D** projeto.
- E** contingência.

Questão 59

Entre as peças orçamentárias que compõem a LOA, elaboradas em consonância e compatibilidade com as leis que instituíram o PPA e as diretrizes orçamentárias, a função de reduzir desigualdades inter-regionais, segundo o critério populacional, é exercida

- A** pelo orçamento fiscal e pelo orçamento de investimento das empresas estatais.
- B** pelo orçamento fiscal, somente.
- C** pelo orçamento da seguridade social, somente.
- D** pelo orçamento fiscal e pelo orçamento da seguridade social.
- E** pelo orçamento da seguridade social e pelo orçamento de investimento das empresas estatais.

Questão 60

Assinale a opção que contém instrumento com atribuição adicional feita à lei de diretrizes orçamentárias (LDO) — cujos regramentos gerais estão dispostos na CF/1988 — pela Lei Complementar n.º 101/2000 (Lei de Responsabilidade Fiscal).

- A** Relatório de fixação das despesas do Banco Central do Brasil relativas a pessoal, encargos sociais, custeio administrativo, inclusive os destinados a benefícios e assistência aos servidores, e investimentos.
- B** Anexo que contém, entre outros, a avaliação da situação financeira e atuarial do regime geral de previdência social e próprio dos servidores públicos.
- C** Documento que contém as medidas de compensação a renúncias de receita e a aumento de despesas obrigatórias de caráter continuado.
- D** Plano de estabelecimento de metas e prioridades para a administração pública federal.
- E** Demonstrativo da compatibilidade da programação dos orçamentos com os objetivos e as metas deles constantes.

Espaço livre