



PREFEITURA MUNICIPAL DE SÃO BENEDITO – CE

CONCURSO PÚBLICO – EDITAL 001/2015

ASSISTENTE SOCIAL

NOME DO CANDIDATO: _____

RG: _____ ÓRGÃO EXPEDIDOR: _____

Nº DE INSCRIÇÃO

| | | | | | | | | | |
|--|--|--|--|--|--|--|--|--|--|
| | | | | | | | | | |
|--|--|--|--|--|--|--|--|--|--|

ASSINATURA: _____

LEIA COM ATENÇÃO E SIGA RIGOROSAMENTE ESTAS INSTRUÇÕES:

1. Este caderno contém 60 (sessenta) questões de múltipla escolha, numeradas de 01 a 60.
2. Cada uma das questões apresenta um enunciado seguido de 5 (cinco) alternativas, das quais somente uma deve ser assinalada.
3. Examine se a prova está completa, com a sequência numérica das questões, se há falhas ou imperfeições gráficas que causem dúvidas. Qualquer reclamação deverá ser feita durante os 20 minutos iniciais. Após esse tempo, qualquer reclamação será desconsiderada.
4. Depois de decorridas 2 (duas) horas do início da prova, será distribuído o cartão-resposta, o qual será o único documento válido para a correção da prova. Ao recebê-lo, verifique se seu nome e seu número de inscrição estão corretos. Reclame imediatamente se houver discrepância.
5. O cartão-resposta não pode ser dobrado, amassado, rasurado ou manchado. Exceto sua assinatura e inscrição, nada deve ser escrito ou registrado fora dos locais destinados às respostas. Tenha muita atenção ao marcar seu cartão-resposta, pois não haverá substituição por erro do candidato. Marque sua resposta pintando completamente o espaço correspondente à alternativa de sua opção.

Ex.: A ○ B ● C ○ D ○ E ○
6. A leitora de marcas não registrará as respostas em que houver falta de nitidez, uso de corretivo, marcação a lápis ou marcação de mais de uma letra. Não serão computadas questões não assinaladas.
7. Durante a prova, é proibido o intercâmbio e o empréstimo de material de qualquer natureza entre os candidatos. A tentativa de fraude, a indisciplina e o desrespeito às autoridades encarregadas dos trabalhos são faltas que implicarão a desclassificação do(a) candidato(a).
8. Qualquer forma de comunicação entre candidatos implicará a eliminação de ambos do certame.
9. Não será permitido ao candidato, durante a realização das provas, portar armas, aparelhos eletrônicos de qualquer natureza, relógios, bolsas, livros, jornais e impressos em geral; bonés, chapéus, lenço de cabelo, bandanas etc.
10. É vedado o uso de telefone celular ou de qualquer outro meio de comunicação. O candidato que for flagrado portando aparelho celular, durante o período de realização da prova, ou, ainda, aquele cujo aparelho celular tocar, será sumariamente eliminado do certame.
11. Em caso de dúvida, durante a prova, levante o braço para solicitar atendimento da fiscalização. Jamais pergunte em voz alta.
12. O candidato que permanecer na sala de provas, por mais de 3h45min, poderá levar consigo a cópia do gabarito, em formulário específico, fornecido pela **ORGANIZADORA**.
13. Ao terminar a resolução da prova, entregue-a ao fiscal de sala juntamente com o **cartão-resposta** (devidamente assinado). Não se esqueça, também, de **assinar a folha de frequência**.
14. As provas terão duração de 4 (quatro) horas. Turno da Manhã com início às 08h00min e término às 12h00min. Turno da Tarde com início às 14h00min e término às 18h00min. O candidato só poderá ausentar-se da sala depois de decorridas duas horas do início das provas.
15. Os **Gabaritos Preliminares das Provas Objetivas** serão divulgados 72 (setenta e duas) horas após a realização das mesmas.

CONHECIMENTOS GERAIS

Leia o Texto I, para responder às questões 1 a 6.

**TEXTO I
TOCANDO EM FRENTE**

Ando devagar porque já tive pressa
E levo esse sorriso porque já chorei demais
Hoje me sinto mais forte, mais feliz,
Quem sabe eu só levo a certeza
De que muito pouco eu sei
Ou nada sei.

Conhecer as manhas e as manhãs,
O sabor das massas e das maçãs.
É preciso amor para poder pulsar,
É preciso paz para poder sorrir,
É preciso chuva para florir.

Penso que cumprir a vida seja simplesmente
Compreender a marcha e ir tocando em frente.
Como um velho boiadeiro levando a boiada,
Eu vou tocando os dias pela longa estrada, eu sou
Estrada eu vou.

Todo mundo ama um dia
Todo mundo chora um dia
A gente chega e no outro vai embora
Cada um de nós compõe a sua história
E cada ser em si
Carrega o dom de ser capaz
E ser feliz

(Almir Sater / Renato Teixeira)

1. Os versos “Ando devagar porque já tive pressa / E levo esse sorriso porque já chorei demais” denotam

- alegria.
- experiência.
- tristeza.
- sagacidade.
- popularidade.

2. Segundo o Texto I, a felicidade depende

- do amor.
- do sorriso.
- de cada ser.
- das manhas e das manhãs.
- da compreensão.

3. O tema central do Texto I é o(a)

- boiada.
- amor.
- felicidade.
- vida.
- conhecimento.

4. De acordo com o Texto I, marque a opção CORRETA.

- Nem todas as pessoas têm a oportunidade de amar.
- Poucas pessoas sofrem na vida.
- Os dias são todos iguais.
- Não somos responsáveis pelo que acontece conosco.
- A felicidade está em cada um de nós.

5. Os versos “Como um velho boiadeiro levando a boiada, / Eu vou tocando os dias pela longa estrada” estabelecem uma circunstância de

- comparação.
- causa.
- consequência.
- condição.
- proporção.

6. Indique a opção CORRETA em relação ao período “...muito pouco eu sei / Ou nada sei”.

- É composto por subordinação e tem oração concessiva.
- É composto por coordenação e tem oração alternativa.
- É composto por coordenação e tem oração aditiva.
- É composto por subordinação e tem oração predicativa.
- É um período simples.

7. Em relação à correlação entre tempos verbais, marque a opção INCORRETA.

- Se eu tiver condições, ficarei aqui por alguns meses.
- Se eu tivesse condições, ficaria aqui por alguns meses.
- Se você tem condições, fique aqui por alguns meses.
- Se nós temos condições, ficamos aqui por alguns meses.
- Se eu tivesse condições, ficava aqui por alguns meses.

8. Marque a opção que contém apenas pronomes indefinidos.

- que / qual / muito / um.
- este / aquele / o / isso.
- algum / outrem / alguém / cada.
- que / qual / quanto / quem.
- minha / nossas / seu / vosso.

9. Em qual das alternativas a conjunção “e” exerce valor adversativo?

- Casou e viajou.
- A casa era antiga e muito conservada.
- Juçara fuma, e não traga.
- “Dá-me um ponto de apoio, e suspenderei a terra.”
- Precisamos esclarecer isso, e logo.

Leia o Texto II, para responder às questões 10 a 13.

TEXTO II

Pode dizer-se que a presença do negro representou sempre fator obrigatório no desenvolvimento dos latifúndios coloniais. Os antigos moradores da terra foram, eventualmente, prestimosos colaboradores da indústria extrativa, na caça, na pesca, em determinados ofícios mecânicos e na criação do gado.

Difícilmente se acomodavam, porém, ao trabalho acurado e metódico que exige a exploração dos canaviais. Sua tendência espontânea era para as atividades menos sedentárias e que pudessem exercer-se sem regularidade forçada e sem vigilância e fiscalização de estranhos.

(Sérgio Buarque de Holanda, in Raízes)

10. “Prestimosos colaboradores”, linhas 3 e 4, é o mesmo que

- importantes colaboradores.
- inúteis colaboradores.
- muitos colaboradores.
- velozes colaboradores.
- infinitos colaboradores.

11. De acordo com o Texto II, os antigos moradores da terra não tinham

- habilidades.
- trabalho.
- disposição.
- preguiça.
- responsabilidade.

12. Marque a opção CORRETA quanto à função sintática do termo “Os antigos moradores da terra...”, no primeiro parágrafo.

- Sujeito composto.
- Sujeito simples cujo núcleo é moradores.
- Sujeito simples cujo núcleo é antigos.
- Sujeito oracional.
- Sujeito indeterminado.

13. Em “Difícilmente se acomodavam...” o termo destacado é

- advérbio de tempo.
- adjetivo.
- adjunto adnominal.
- adjunto adverbial de tempo.
- advérbio de modo.

14. Marque a alternativa CORRETA quanto à concordância.

- Há menos gente na cidade hoje.
- Conheci bastante pessoas na festa.
- Ela anda meio desanimada.
- Comprei duzentas gramas de queijo.
- Ela disse muito obrigado ao rapaz que a ajudou.

15. Pela mesma regra de pássaro e júri devem ser acentuadas as seguintes palavras:

- Pessegue e gari.
- Relampago e taxi.
- Desemprego e iris.
- Bussola e caju.
- Armazem e vi.

16. Marque a opção em que a palavra foi formada por aglutinação.

- Girassol.
- Desconforto.
- Refazer.
- Vinagre.
- Amanhecer.

17. Calcule o juro simples referente a um capital de R\$ 2.400,00 nas seguintes condições: taxa de juros 21% a.a. e prazo: 32 dias.

- R\$ 44,80.
- R\$ 52,40.
- R\$ 58,90.
- R\$ 72,00.
- R\$ 84,70.

18. Considere dois números inteiros, "a" e "b", consecutivos e positivos. Qual das expressões corresponde, necessariamente, a um número par em seu resultado?

- $1 + a + b$.
- $2a + b$.
- $a + b$.
- $1 + ab$.
- $2 + a + b$.

19. Num grupo de pessoas, verificou-se que 310 leram apenas um dos gibis A ou B; 270, o gibi B; 80, os dois gibis, A e B; e 340 não leram o gibi A. O número de estudantes desse grupo é igual a

- 480.
- 380.
- 540.
- 610.
- 430.

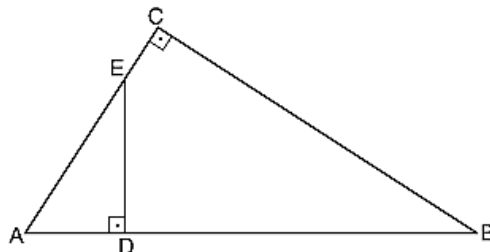
20. A loja de computadores instrui seus vendedores para calcularem o preço de uma mercadoria nas compras com cartão de crédito, dividindo o preço à vista por 0,75. Dessa forma, pode-se concluir que o valor da compra com cartão de crédito em relação ao preço à vista apresenta um

- desconto de 33,33%
- aumento de 25%
- desconto de 75%
- aumento de 33,33%
- aumento de 75%

21. Se f é uma função do primeiro grau tal que $f(12) = 45$ e $f(15) = 54$, então $f(18)$ é igual a

- 60.
- 61.
- 62.
- 63.
- 65.

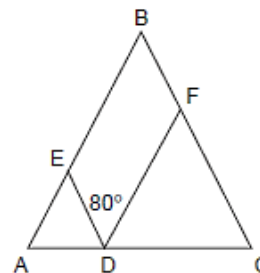
22. Na figura, $AC = 5$, $BC = 6$ e $DE = 3$.



A área do triângulo ADE é

- 10.
- 15.
- $15/2$.
- $15/4$.
- $15/8$.

23. Na figura a seguir, tem-se que $AD = AE$, $CD = DF$ e $BA = BC$ e o ângulo EDF mede 80° .



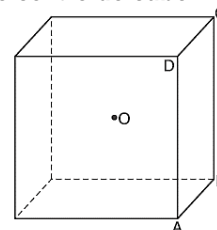
Quanto mede o ângulo ABC?

- 90°
- 60°
- 20°
- 30°
- 50°

24. João encontrou um paralelepípedo retangular com lados de 2, 3 e 6 cm. A distância máxima entre dois vértices desse paralelepípedo, em cm, é

- 11.
- 10.
- 7.
- 8.
- 9.

25. Na figura, O é o centro do cubo.



Se o volume do cubo é 1, o volume da pirâmide de base ABCD e vértice O é

- $1/2$.
- $1/3$.
- $1/4$.
- $1/6$.
- $1/8$.

26. Um trabalho pode ser feito em 2 horas por Pedro, em 3 horas por Maria e em 6 horas por Juquinha. Em quanto tempo será feito pelos 3 juntos?

- 1h.
- $1/2$ h.
- 2h e $1/2$.
- 1h e $1/2$.
- 2h.

27. A fração $\frac{0,65}{0,0104}$ é equivalente a

- 1/15.
- 1/50.
- 2/125.
- 3/45.
- 9/125.

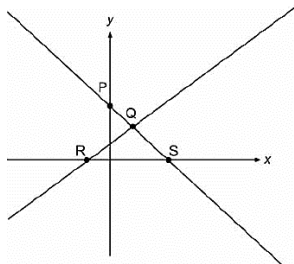
28. Calcule o Mínimo Múltiplo Comum (MMC) de (18, 75, 250) e marque a opção que apresenta o resultado CORRETO.

- 1.570.
- 2.135.
- 2.250.
- 3.350.
- 4.570.

29. Se o conserto de $\frac{2}{3}$ de um carro foi realizado em 5 dias por 8 mecânicos trabalhando 6 horas por dia, o restante do conserto, agora, com 6 mecânicos, trabalhando 10 horas por dia será feito em quantos dias?

- 1.
- 2.
- 3.
- 4.
- 9.

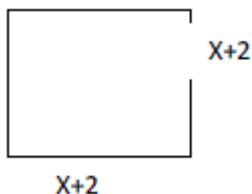
30. Observe a figura.



As retas da figura representam graficamente um sistema de duas equações do 1º grau com duas incógnitas, cuja solução pode ser representada pelo ponto

- P.
- R.
- S.
- Y.
- Q.

31. A área do seguinte quadrado é 49 cm^2 .



O valor de X, em cm, é

- 3.
- 6.
- 5.
- 9.
- 11.

32. A base de uma pirâmide é um triângulo equilátero de lado $L = 6 \text{ cm}$ e arestas laterais das faces $A = 4 \text{ cm}$. Calcule a altura da pirâmide em cm.

- 1.
- 2.
- 3.
- 4.
- 5.

33. Observe a charge:



A charge denuncia o(a)

- morte da ética em Brasília.
- sepultamento da ética no Planalto.
- falta de ética dos representantes do povo.
- ausência de ética nas deliberações do Congresso.
- morte do principal princípio de governo.

34. Na página, Sorriso Pensante por Ivan Cabral, um leitor registrou:

Sr. Ivan Cabral,

sou professor de Sociologia em Escola Pública do D.F. e peço autorização para utilizar sua charge em atividade de sala de aula.

A atitude do leitor

- demonstra simpatia pelo trabalho criativo do autor.
- é pedagógica por aplicar charge em atividade discente.
- coloca em dúvida sua atuação como professor, por solicitar produção alheia.
- compromete o conteúdo da Sociologia por não estar relacionado à charges.
- apresenta um comportamento ético em relação à autoria da charge.

Leia a notícia a seguir para responder às questões 35 e 36.

A ecologia integral do Papa Francisco

Correm rumores de que a ecologia integral é o tema central da encíclica sobre a ecologia e o clima do **Papa Francisco**, a ser publicada nos próximos meses. A Igreja aconselhará o seu 1,2 bilhão de membros sobre questões morais prementes. A eminente encíclica já gerou um considerável impacto na mídia, grande parte do qual pode ser seguido no sítio eletrônico do **Fórum Yale sobre Religião e Ecologia**.

<http://ihu.unisinos.br/noticias/543131-a-ecologia-integral-do-papa-francisco>

35. O "integral" no termo ecologia integral é a novidade. Nessa abordagem podemos esperar que o Papa refira-se em prioridade sobre a(s)

- bondade de Deus ao criar a natureza para o homem.
- responsabilidade de todos na proteção do Planeta.
- questões de igualdade e justiça social.
- desigualdade econômica extrema.
- competição desenfreada pelo recurso.

36. Encíclica, linhas 2 e 5, é

- o nível mais alto e o mais abrangente de ensinamento da Igreja Católica.
- o instrumento principal pelo qual a palavra do Papa se torna lei.
- a intenção de trabalho do cristão, ditada pelo Papa.
- o mandamento da era moderna para os cristãos.
- um pronunciamento do Papa que orienta cardeais e bispos.

Leia o Texto III, para responder à questão 37.

TEXTO III

Imigração no Brasil: Ilegais provocam crise humanitária no Acre

19/04/2013 08h03

Vivendo em condições precárias, imigrantes haitianos aguardam visto provisório em Brasília no estado do Acre.

O Brasil sempre foi conhecido por ser um país aberto aos demais povos, não impondo restrições em suas fronteiras. Nos últimos anos, porém, o crescimento da economia, em meio à crise financeira que atingiu a Europa e os Estados Unidos, tornou o país atrativo para uma massa de imigrantes vindos de países pobres.

"É como se estivesse formada uma rota internacional migratória que se associa à crise social grave que vive o povo do Haiti e a Polícia Federal tem tratado essa questão com bastante cuidado", diz Tião Viana.

A questão é que muitos Estados, principalmente da região Norte, não possuem estrutura de apoio para receber esses imigrantes, a maioria ilegais. E a política da nação acolhedora acaba gerando uma crise social.

<http://vestibular.uol.com.br/resumo-das-disciplinas/atualidades/imigracao-no-brasil-ilegais-provocam-crise-humanitaria-no-acre.htm>

37. Considerando o Texto III, analise as afirmações a seguir.

- I. A situação é mais grave onde cerca de 1,3 mil refugiados vivem em condições precárias, em abrigos improvisados, sem assistência médica ou alimentação adequada.
- II. O fluxo de estrangeiros aumentou no último mês e levou o governador do Acre, Tião Viana, a decretar situação de emergência humanitária no Estado.
- III. A rota imigratória começou em 2010, quando um terremoto devastou o Nepal, matando cerca de 200 mil habitantes.
- IV. Após a tragédia, muitos habitantes do Nepal deixaram a ilha e vieram para o Brasil em busca de emprego, aqui eles recebem um "visto humanitário"
- V. A rota aberta pelos haitianos também atraiu imigrantes de outras nacionalidades, como senegaleses, nigerianos, dominicanos e indianos.
- VI. No caso de estrangeiros vindos de países africanos em guerra, a documentação é diferente, a condição é de refugiados.

Marque a opção que apresenta as afirmativas CORRETAS.

- a) I – III – V – VI
- b) III – IV – V – VI
- c) I – II – III – IV
- d) I – II – V – VI
- e) II – III – IV – VI.

38. Leia a notícia:

Quando lembramos dos atletas olímpicos, logo vem à mente a referência da perseverança, disciplina, dedicação e força de vontade. Conquistas que seguem como exemplo para todo o mundo. Estar em contato, sintonia e respeito com o meio ambiente também faz parte dos bons exemplos a serem seguidos pelos estudantes dos Jogos Escolares da Juventude 2015 que estiveram, na manhã desta sexta-feira (4/9), em visita ao Parque Ecológico do Cocó, em Fortaleza.

(<http://www.ceara.gov.br/component/content/article/13955/13955>).

Os referidos atletas estiveram no Ceará para participar do(da)s

- a) Fórum Pró-Olimpíadas 2016.
- b) treinos de diversas modalidades classificatórias.
- c) disputas de atletismo a nível nacional.
- d) competições internacionais de *badminton*.
- e) Jogos Escolares da Juventude.

39. São Benedito tem muitos filhos ilustres que se destacaram em várias áreas do conhecimento, além de exercerem funções na política, na educação e na cultura. Um deles foi filósofo e escritor, catedrático do Colégio Pedro II no Rio de Janeiro, formado como bacharel em direito, possui monumento em sua homenagem, dentre outras ações. Essa é parte da biografia de

- a) Adolfo Correia de Araujo.
- b) Raimundo de Farias Brito.
- c) Claudio de Sá do Amaral.
- d) Mons. Tibúrcio Alves.
- e) Luiz Gonzaga Pinto de Araujo.

40. A bandeira de São Benedito tem por lema "Virtus et Labor" que significa

- a) Vitória e Liberdade.
- b) Virtude e Trabalho.
- c) Vitória e Lealdade.
- d) Virtude e Liberdade.
- e) Valentia e Trabalho.

CONHECIMENTOS ESPECÍFICOS

41. Assinale a alternativa INCORRETA no que compete à Lei de Regulamentação da Profissão de Assistente Social.

- a) Poderão exercer a profissão de assistente social, os possuidores de diploma de curso superior em Serviço Social, em nível de graduação ou equivalente, expedido por estabelecimento de ensino sediado em países estrangeiros, obrigatoriamente conveniado com o governo brasileiro, desde que devidamente revalidado e registrado em órgão competente no Brasil.
- b) O exercício da profissão de assistente social requer prévio registro nos Conselhos Regionais que tenham jurisdição sobre a área de atuação do interessado nos termos dessa lei.
- c) Cabe ao Conselho Federal de Serviço Social (CFESS) e aos Conselhos Regionais de Serviço Social (CRESS), representar, em juízo e fora dele, os interesses gerais e individuais dos assistentes sociais no cumprimento da lei.
- d) Os Conselhos Regionais poderão constituir, dentro de sua própria área de jurisdição, delegacias seccionais para desempenho de suas atribuições executivas e de primeira instância nas regiões em que forem instalados, desde que a arrecadação proveniente dos profissionais, nelas atuantes, seja suficiente para sua própria manutenção.
- e) A Carteira de Identificação Profissional, expedida pelos Conselhos Regionais de Serviço Social (CRESS), servirá de prova para fins de exercício profissional e de Carteira de Identidade Pessoal e terá fé pública em todo o território nacional.

42. Segundo a Lei de Regulamentação da Profissão de Assistente Social, analise as afirmativas a seguir, assinalando (V) para as VERDADEIRAS e (F) para as FALSAS.

- () Constitui uma das atribuições privativas do assistente social encaminhar providências e prestar orientação social a indivíduos, grupos e à população.
- () Constitui uma das competências do assistente social assessoria e consultoria a órgãos da administração pública direta e indireta, a empresas privadas e a outras entidades, em matéria de serviço social.
- () A duração do trabalho do assistente social é de 30 (trinta) horas semanais.
- () Consiste em uma das atribuições do Conselho Regional de Serviço Social, estabelecer os sistemas de registro dos profissionais habilitados.
- () Consiste em uma das atribuições do CRESS expedir carteiras profissionais de assistentes sociais, fixando a respectiva taxa.

Marque a opção que apresenta a sequência CORRETA.

- a) V – V – V – F – F
- b) F – F – F – V – V
- c) F – F – V – V – V
- d) V – V – V – F – V
- e) V – F – F – V – V.

43. A lei 8.662, de 7 de junho de 1993 dispõe sobre o(a)(s)

- a) organização da assistência social e dá outras providências.
- b) Estatuto da Criança e do Adolescente e dá outras providências.
- c) condições para a promoção, proteção e recuperação da saúde, a organização e o funcionamento dos serviços correspondentes e dá outras providências.
- d) profissão de assistente social e dá outras providências.
- e) Estatuto do Idoso e dá outras providências.

44. De acordo com a Política Nacional de Humanização, analise a afirmativa a seguir.

Lançada em _____, a Política Nacional de Humanização (PNH) busca pôr em prática os princípios _____ no cotidiano dos serviços de saúde, produzindo mudanças nos modos de _____ e _____.

Marque a opção que preenche CORRETA e respectivamente, as lacunas.

- a) 2003 / do SUS / gerir / cuidar.
- b) 1988 / da Constituição Federal / planejamento / desenvolvimento.
- c) 2002 / e atribuições / gestão / cuidado.
- d) 2007 / da LOAS / atendimento / organização.
- e) 2010 / e diretrizes / atuação / desenvolvimento.

45. O Estatuto da Criança e do Adolescente estabelece os princípios que devem ser adotados por entidades que desenvolvam programas de acolhimento familiar ou institucional. Segundo esses princípios, assinale a alternativa CORRETA.

- a) Integração em família substituta quando esgotados os recursos de manutenção na família natural ou extensa.
- b) Preservação dos vínculos familiares, evitando, porém, a reintegração familiar.
- c) Estimular, sempre que possível, a transferência para outras entidades de crianças e adolescentes abrigados.
- d) Desmembramento de grupos de irmãos.
- e) Preparação imediata para o desligamento.

46. Baseado na Lei 8.069 de 13/07/1990, relacione a Coluna B pela Coluna A.**COLUNA A**

- I. O direito à liberdade.
- II. O direito ao respeito.
- III. Castigo físico.
- IV. Guarda.
- V. Tratamento cruel ou degradante.

COLUNA B

() Ação de natureza disciplinar ou punitiva aplicada com o uso da força física sobre a criança ou o adolescente que resulte em sofrimento físico ou lesão.

() A inclusão da criança ou do adolescente em programas de acolhimento familiar terá preferência a seu acolhimento institucional, observado, em qualquer caso, o caráter temporário e excepcional da medida nos termos dessa Lei.

() Opinião e expressão.

() Conduta ou forma cruel de tratamento em relação à criança ou ao adolescente que humilhe, ameace gravemente, ou ridicularize.

() Consiste na inviolabilidade da integridade física, psíquica e moral da criança e do adolescente, abrangendo a preservação da imagem, da identidade, da autonomia, dos valores, ideias e crenças, dos espaços e objetos pessoais.

Marque a opção que apresenta a sequência CORRETA.

- a) II – V – I – IV – III
- b) III – IV – I – V – II
- c) V – IV – II – III – I
- d) I – III – V – II – IV
- e) III – V – II – I – IV.

47. Segundo a Lei 8.069, a adoção se reger-se à EXCETO:

- a) O adotando deve contar com, no máximo, vinte e um anos à data do pedido, salvo se já estiver sob a guarda ou tutela dos adotantes.
- b) Não podem adotar os ascendentes e os irmãos do adotando.
- c) Podem adotar os maiores de 18 (dezoito) anos, independentemente do estado civil.
- d) A adoção atribui a condição de filho ao adotado, com os mesmos direitos e deveres, inclusive sucessórios, desligando-o de qualquer vínculo com pais e parentes, salvo os impedimentos matrimoniais.
- e) O adotante há de ser, pelo menos, dezesseis anos mais velho do que o adotando.

48. Segundo o Estatuto do Idoso, analise as afirmativas a seguir, assinalando (V) para as VERDADEIRAS e (F) para as FALSAS.

() Nenhum idoso será objeto de qualquer tipo de negligência, discriminação, violência, crueldade ou opressão, e todo atentado aos seus direitos, por ação ou omissão, será punido na forma da lei.

() É dever do Estado e da família prevenir a ameaça ou a violação aos direitos do idoso.

() Todo cidadão tem o dever de comunicar à autoridade competente qualquer forma de violação a essa lei que tenha testemunhado ou de que tenha conhecimento.

() É obrigação da sociedade, garantir à pessoa idosa a proteção à vida e à saúde, mediante efetivação de políticas sociais públicas que permitam um envelhecimento saudável e em condições de dignidade.

() O direito ao respeito consiste na inviolabilidade da integridade física, psíquica e moral, abrangendo a preservação da imagem, da identidade, da autonomia, de valores, ideias e crenças, dos espaços e dos objetos pessoais.

Marque a opção que apresenta a sequência CORRETA

- a) F – V – F – V – F
- b) V – V – V – F – F
- c) F – F – V – V – V
- d) V – V – F – V – F
- e) V – F – V – F – V.

49. No que compete à Lei 10.741 de 01/10/2003 em seu Título I, Art. 3º, Parágrafo Único, a garantia de prioridade compreende, EXCETO:

- a) prioridade no recebimento da restituição do Imposto de Renda.
- b) viabilização de formas alternativas de participação, ocupação e convívio do idoso com as demais gerações.
- c) garantia de acesso à rede de serviços de saúde e de assistência social locais.
- d) faculdade de ir, vir e estar nos logradouros públicos e espaços comunitários, ressalvadas as restrições legais.
- e) preferência na formulação e na execução de políticas sociais públicas específicas.

50. Baseado na Lei 8.842 de 04/01/1994, relacione a Coluna B pela Coluna A.**COLUNA A**

- I. Dos Princípios.
- II. Das Disposições Gerais.
- III. Da Finalidade.
- IV. Da Organização e Gestão.
- V. Das Diretrizes.

COLUNA B

() Considera-se idoso, para os efeitos desta lei, a pessoa maior de sessenta anos de idade.

() Implementação de sistema de informações que permita a divulgação da política, dos serviços oferecidos, dos planos, programas e projetos em cada nível de governo.

() As diferenças econômicas, sociais, regionais e, particularmente, as contradições entre o meio rural e o urbano do Brasil deverão ser observadas pelos poderes públicos e pela sociedade em geral, na aplicação desta lei.

() Os recursos financeiros necessários à implantação das ações afetas às áreas de competência dos governos federal, estaduais, do Distrito Federal e municipais serão consignados em seus respectivos orçamentos.

() Os ministérios das áreas de saúde, educação, trabalho, previdência social, cultura, esporte e lazer devem elaborar proposta orçamentária, no âmbito de suas competências, visando ao financiamento de programas nacionais compatíveis com a política nacional do idoso.

Marque a opção que apresenta a sequência CORRETA.

- a) I – III – V – II – IV
- b) III – V – I – II – IV
- c) II – IV – III – I – V
- d) V – II – III – IV – I
- e) IV – II – I – V – III.

51. No que compete ao Estatuto do Idoso, assinale a alternativa INCORRETA.

- a) O envelhecimento é um direito personalíssimo e a sua proteção um direito humano, nos termos desta Lei e da legislação vigente
- b) É instituído o Estatuto do Idoso, destinado a regular os direitos assegurados às pessoas com idade igual ou superior a 60 (sessenta) anos.
- c) É dever de todos zelar pela dignidade do idoso, colocando-o a salvo de qualquer tratamento desumano, violento, aterrorizante, vexatório ou constrangedor
- d) Se o idoso ou seus familiares não possuírem condições econômicas de prover o seu sustento, impõe-se ao Poder Público esse provimento, no âmbito da assistência social
- e) Incumbe ao Poder Público fornecer aos idosos, gratuitamente, medicamentos, especialmente os de uso continuado, assim como próteses, órteses e outros recursos relativos ao tratamento, habilitação ou reabilitação.

52. No que compete o artigo 6º da Lei 8.080 de 19 de setembro de 1990, está incluída no campo de atuação do Sistema Único de Saúde (SUS), EXCETO o(a)

- a) vigilância nutricional e a orientação alimentar.
- b) incremento, em sua área de atuação, do desenvolvimento científico e tecnológico.
- c) formulação e execução da política de sangue e seus derivados.
- d) participação na formulação da política e na execução de ações de saneamento básico.
- e) de assistência terapêutica integral, com exceção da farmacêutica.

53. Segundo a Lei 8.080 de 19 de setembro de 1990, analise as afirmativas a seguir, assinalando (V) para as VERDADEIRAS e (F) para as FALSAS.

() Os níveis de saúde expressam a organização social e econômica do País, tendo a saúde como determinante e condicionante, e entre outros, a alimentação, a moradia, o saneamento básico, o meio ambiente, o trabalho, a renda, a educação, a atividade física, o transporte, o lazer e o acesso aos bens e serviços essenciais.

() As ações e serviços de saúde, executados pelo Sistema Único de Saúde (SUS), seja diretamente ou mediante participação complementar da iniciativa privada, serão organizados de forma regionalizada e hierarquizada em níveis de complexidade crescente.

() Essa lei regula, em todo o território nacional, as ações e os serviços de saúde, executados isolada ou conjuntamente, em caráter permanente ou eventual, por pessoas naturais ou jurídicas de direito público ou privado.

() O conjunto de ações e serviços de saúde, prestados por órgãos e instituições públicas federais, estaduais e municipais da administração direta e indireta e das fundações mantidas pelo poder público e privado, constitui o Sistema Único de Saúde (SUS).

() O dever do Estado de garantir a saúde consiste na formulação e execução de políticas econômicas e sociais que visem à redução de riscos de doenças e de outros agravos e no estabelecimento de condições que assegurem acesso individualizado e diferenciado às ações e aos serviços para a sua promoção, proteção e recuperação.

Marque a opção que apresenta a sequência CORRETA

- a) F – F – F – V – V
- b) F – V – F – V – F
- c) V – F – F – V – V
- d) V – V – V – F – F
- e) V – F – V – F – V.

54. No que compete a Lei Orgânica da Saúde em seu Art. 13, a articulação das políticas e dos programas, a cargo das comissões intersetoriais, abrangerá, em especial, as seguintes atividades, EXCETO:

- a) saneamento e meio ambiente.
- b) saúde do idoso e da criança.
- c) alimentação e nutrição.
- d) ciência e tecnologia.
- e) vigilância sanitária e farmacoe epidemiologia.

55. Baseado na Lei Orgânica da Assistência Social em seu Art. 2º, marque opção INCORRETA em relação aos objetivos da assistência social.

- a) Garantia de 1 (um) salário-mínimo de benefício mensal à pessoa com deficiência e ao idoso que comprovem não possuírem meios de prover a própria manutenção ou de tê-la provida por sua família.
- b) Proteção à família, à maternidade, à infância, à adolescência e à velhice.
- c) Primazia da responsabilidade do Estado na condução da política de assistência social em cada esfera de governo.
- d) Amparo às crianças e aos adolescentes carentes.
- e) Habilitação e reabilitação das pessoas com deficiência e a promoção de sua integração à vida comunitária.

56. No que compete à LOAS, marque a opção INCORRETA segundo os princípios que regem a assistência social.

- a) Espeito à dignidade do cidadão, à sua autonomia e ao seu direito a benefícios e serviços de qualidade, bem como à convivência familiar e comunitária, vedando-se qualquer comprovação vexatória de necessidade.
- b) Divulgação ampla dos benefícios, serviços, programas e projetos assistenciais, bem como dos recursos oferecidos pelo Poder Público e dos critérios para sua concessão.
- c) Supremacia do atendimento às necessidades sociais sobre as exigências de rentabilidade econômica.
- d) Descentralização político-administrativa para os Estados, o Distrito Federal e os Municípios, e comando único das ações em cada esfera de governo.
- e) Igualdade de direitos no acesso ao atendimento, sem discriminação de qualquer natureza, garantindo-se equivalência às populações urbanas e rurais.

57. Quando o trabalho é ético, sua produção traz benefícios para o(as)

- a) trabalhador e sua promoção.
- b) desenvolvimento da empresa.
- c) pessoas, a humanidade e o Planeta.
- d) mercado de trabalho.
- e) questões trabalhistas.

58. Em relação a finalidade do código de ética, marque a opção CORRETA.

- a) Documento que orienta a dignidade humana.
- b) Conjunto de normas que torna o trabalho emancipatório.
- c) Normas a serem obedecidas pelo funcionário público.
- d) Benefícios profissionais do trabalhador obedecidos por lei.
- e) Conjunto de princípios a serem observados no exercício profissional.

59. Sobre o SUS, marque (V) para as afirmativas VERDADEIRAS e (F) para as FALSAS.

() Segundo o princípio da **equidade**, a saúde é um direito de todos, sendo providas ações e serviços pelo Poder Público, ofertando saúde a todos que dela necessitam.

() Reduzir as disparidades sociais e regionais do nosso país, buscando um maior equilíbrio entre elas, é uma necessidade regida pelo princípio da **universalidade**.

() Por causa da **integralidade**, estruturam-se redes de maneira hierarquizada.

() Uma política adotada, para garantir o princípio da **equidade**, é a incorporação tecnológica e o investimento estratégico e prioritário no combate de situações agudas ou extremas.

Marque a opção que apresenta a sequência CORRETA.

- a) V – V – V – V
- b) F – F – V – V
- c) V – V – F – F
- d) F – F – V – F
- e) F – F – F – V.

60. Sobre o SUS, analise as assertivas a seguir.

- I. A saúde é entendida como o resultado de políticas econômicas e sociais, um direito de todos e um dever do Estado.
- II. As demandas do movimento sanitário foram transpostas para o SUS que se organizou pelos princípios da descentralização, do atendimento integral e da participação da comunidade.
- III. Associando-se à democracia, o princípio da descentralização ampliou os direitos sociais da cidadania e se estendeu também às competências e receitas tributárias, descentralizando-a, com opção preferencial pela municipalização.
- IV. O Pacto pela Vida, o Pacto em Defesa do SUS e o Pacto de Gestão são os três componentes que constituem o Pacto pela Saúde, um movimento de mudança consolidado pelo SUS que possibilita a efetivação de acordos entre as três esferas de gestão para a reforma de aspectos institucionais vigentes.

Marque a opção que apresenta as afirmativas CORRETAS.

- a) I – II – III
- b) III – IV
- c) II – III
- d) I – II – III – IV
- e) II – IV.