



PREFEITURA MUNICIPAL DE JUAZEIRO DO NORTE – CE

CONCURSO PÚBLICO – EDITAL 001/2019

ECONOMISTA

NOME DO CANDIDATO: _____

RG: _____ ÓRGÃO EXPEDIDOR: _____

Nº DE INSCRIÇÃO

--	--	--	--	--	--	--	--	--	--

ASSINATURA: _____

LEIA COM ATENÇÃO E SIGA RIGOROSAMENTE ESTAS INSTRUÇÕES:

1. Este caderno contém 60 (sessenta) questões de múltipla escolha, numeradas de 1 (um) a 60 (sessenta).
2. Cada uma das questões apresenta um enunciado seguido de 5 (cinco) alternativas, das quais somente uma deve ser assinalada.
3. Examine se a prova está completa com a sequência numérica das questões, se há falhas ou imperfeições gráficas que causem dúvidas. Qualquer reclamação deverá ser feita durante os 20 minutos iniciais. Após esse tempo, qualquer reclamação será desconsiderada.
4. Depois de decorridas 2 (duas) horas do início da prova, será distribuído o cartão-resposta, o qual será o único documento válido para a correção. Ao recebê-lo, verifique se seu nome e seu número de inscrição estão corretos. Reclame imediatamente se houver discrepância.
5. A folha de respostas não pode ser dobrada, amassada, rasurada ou manchada. Exceto escrever uma frase com 5 (cinco) palavras no local pré-determinado, nada deve ser escrito ou registrado fora dos locais destinados às respostas. Tenha muita atenção ao marcar sua folha de respostas, pois não haverá substituição por erro do candidato. Marque sua resposta pintando completamente o espaço correspondente à alternativa de sua opção.

Ex.: A B C D E
6. A leitora de marcas não registrará as respostas em que houver falta de nitidez, uso de corretivo, marcação a lápis ou marcação de mais de uma letra. Não serão computadas questões não assinaladas.
7. Durante a prova, é proibido o intercâmbio e o empréstimo de material de qualquer natureza entre os candidatos. A tentativa de fraude, a indisciplina e o desrespeito às autoridades encarregadas dos trabalhos são faltas que implicarão a desclassificação do candidato.
8. Qualquer forma de comunicação entre candidatos implicará a eliminação de ambos do certame.
9. Não será permitido ao candidato, durante a realização das provas, portar armas, aparelhos eletrônicos de qualquer natureza, relógios, bolsas, livros, jornais e impressos em geral; bonés, chapéus, lenço de cabelo, bandanas etc.
10. É vedado o uso de telefone celular ou de qualquer outro meio de comunicação. O candidato que for flagrado portando aparelho celular ou qualquer outro meio de comunicação, durante o período de realização da prova, e/ou o aparelho celular tocar será sumariamente eliminado do certame.
11. Em caso de dúvida, durante a prova, levante o braço para solicitar atendimento da fiscalização. Jamais pergunte em voz alta.
12. Ao terminar a resolução da prova, entregue-a ao fiscal de sala juntamente com **a folha de respostas**. Não se esqueça de **assinar a folha de frequência**.
13. O candidato que permanecer na sala de provas, por mais de 3h30min, poderá levar consigo o caderno de provas, fornecido pela **ORGANIZADORA**.
14. As provas terão duração de 4 (quatro) horas com início às 08h e término às 12h. O candidato só poderá ausentar-se da sala depois de decorridas duas horas do início das provas.
15. Os **Gabaritos Preliminares das Provas Objetivas** serão divulgados 72 (setenta e duas) horas após a realização das mesmas.

RASCUNHO

CONHECIMENTOS GERAIS

Leia o texto para responder às questões 1 a 10.

Soneto

Aquela triste e leda madrugada,
cheia toda de mágoa e piedade,
enquanto houver no mundo saudade,
quero que seja sempre celebrada.

Ela só, quando amena e marchetada
saía, dando ao mundo claridade,
viu apartar-se duma outra vontade,
que nunca poderá ser apartada.

Ela só viu as lágrimas em fio,
que duns e doutros olhos derivadas,
se acrescentaram em grande largo rio.

Ela viu as palavras magoadas
que puderam tornar o fogo frio,
e dar descanso às almas condenadas.

Luís Vaz de Camões.

Com base no texto e em seus conhecimentos, responda às questões a seguir.

1. O soneto trata de uma dor. É a dor de um(a)

- a) ausência de viagem.
- b) desencontro fortuito.
- c) prejuízo financeiro.
- d) separação amorosa.
- e) conversa interrompida.

2. A dor de que fala o soneto está descrita nos versos

- a) 1/2.
- b) 3/4.
- c) 5/6.
- d) 7/8.
- e) 12/13.

3. O sentido de fogo no texto é o de um(a)

- a) fogueira muito grande.
- b) brasa fumegante.
- c) simples elemento da natureza.
- d) grande paixão amorosa.
- e) imensa dor

4. No primeiro verso, a figura nele existente é chamada

- a) catacrese.
- b) eufemismo.
- c) antítese.
- d) hipérbole.
- e) metonímia.

5. Quando o autor fala da madrugada, percebe-se aí que há uma

- a) ironia.
- b) alusão.
- c) simpatia.
- d) personificação.
- e) revolta.

6. A repetição do pronome ela no início das três últimas estrofes constitui uma

- a) anáfora.
- b) onomatopéia.
- c) metonímia.
- d) elipse.
- e) hipérbato.

7. A expressão [...] às almas condenadas exerce a função sintática de

- a) adjunto adnominal.
- b) adjunto adverbial.
- c) complemento nominal.

- d) objeto direto.
- e) objeto indireto.

8. Ela, nas três últimas estrofes, é sujeito e refere-se à

- a) claridade.
- b) vontade.
- c) madrugada.
- d) saudade.
- e) piedade.

9. No primeiro quarteto, é CORRETO afirmar que existe(m)

- a) dois períodos simples.
- b) um objeto direto oracional.
- c) um pronome relativo.
- d) uma oração coordenada adversativa.
- e) objeto indireto.

10. Está CORRETA a análise sintática de um dos trechos extraídos do soneto

- a) ... enquanto houver no mundo saudade, – oração coordenada adversativa.
- b) ... quero que seja sempre lembrada. – oração principal.
- c) ... que puderam tornar o fogo frio – oração subordinada adjetiva.
- d) ... as palavras magoadas – sujeito simples.
- e) .. que nunca poderá ser apartada – oração subordinada substantiva

11. Há vocábulos da Língua Portuguesa que podem ser escritos com ou sem acento gráfico sem mudança de sentido. Assinale a alternativa em que não pode ocorrer esta duplicidade.

- a) Boêmia / boemia.
- b) Ômega / omega.
- c) Rúbrica / rubrica.
- d) Hieróglifo / hieroglifo.
- e) Ortoépia / ortoepia.

12. Só em uma alternativa, todos os vocábulos estão acentuados corretamente. Assinale-a.

- a) Feiúra / epopéia / saúde.
- b) Projétil / ínterim / vôo.
- c) Tórax / álcool / mártir.
- d) Cárie / júnior / gratuito.
- e) Nóbél / íbero / fortuíto.

13. Não há antonímia em

- a) Declive / aclave.
- b) Medroso / intemerato.
- c) Inópia / abundância.
- d) Soberba / humildade.
- e) Ratificar / vetar.

14. Está CORRETA a classificação morfológica dos vocábulos retirados do texto.

- a) ... enquanto (v. 3) – advérbio de dúvida.
- b) ... que (v. 4) – pronome relativo.
- c) ... quando (v. 5) – conjunção temporal.
- d) ... que (v. 8) – conjunção integrante.
- e) ... só (v. 9) – pronome demonstrativo.

15. Está INCORRETA a afirmação sobre verbo.

- a) Haver e ir são verbos regulares; reaver e precaver-se, anômalos.
- b) Os tempos compostos são formados com os verbos ter e haver.
- c) Existem dois tipos de voz passiva: a analítica e a sintética.
- d) Voz passiva e passividade não devem ser confundidas.
- e) As vozes verbais são: ativa, passiva e reflexiva.

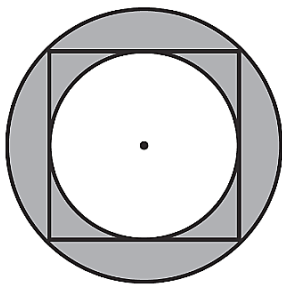
16. Está INCORRETA a conjugação verbal em

- Certos motoristas só freiam em cima do obstáculo.
- O juiz medeia as discussões.
- Os manifestantes incendiam os ônibus.
- Nós receamos viajar de avião.
- Minha irmã nunca se maquia.

17. Fiz um teste com meu carro para saber se o marcador de combustível estava informando uma leitura correta. Quando o marcador indicava $\frac{1}{4}$ (um quarto), eu fui ao posto de combustível e completei o tanque inserindo 40 litros de gasolina. O manual do veículo dizia que o tanque é de 50 litros, então pude concluir que

- o marcador mostra o volume correto.
- está indicando menos combustível do que deveria mostrar.
- está indicando o dobro de combustível do que deveria mostrar.
- está indicando a metade de combustível do que deveria mostrar.
- está indicando mais combustível do que deveria mostrar.

18. Na figura a seguir, o quadrado tem lado igual a 4cm.



Qual é o valor da área destacada em cinza?

- $2\pi \text{ cm}^2$.
- 4 cm^2 .
- $4\pi \text{ cm}^2$.
- $8\pi \text{ cm}^2$.
- 8 cm^2 .

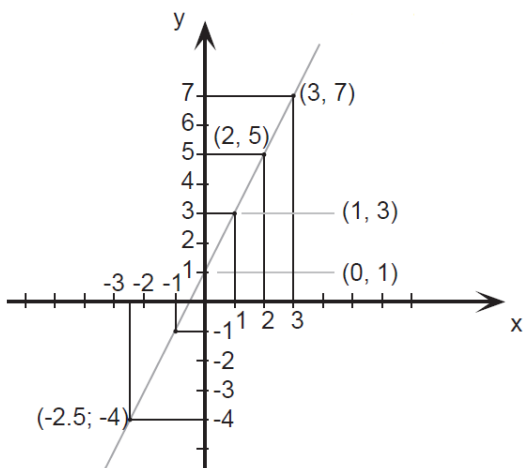
19. O valor de uma bola que eu quero comprar é representado pelo produto das raízes da equação

$$x^2 - 9x + 20 = 0$$

Logo o valor da bola é

- 10.
- 20.
- 30.
- 40.
- 50.

20. Esse é o gráfico representa alguns pontos e um segmento traçado da função $f(x) = 2x + 1$. Julgue as afirmações a seguir.



Assinale a alternativa CORRETA.

A: $f(x)$ é uma função crescente.

B: $f(x)$ é uma função par.

C: $f(0) = 0$.

- A – verdadeira / B – falsa / C – verdadeira.
- A – verdadeira / B – falsa / C – falsa.
- A – falsa / B – falsa / C – falsa.
- A – verdadeira / B – verdadeira / C – falsa.
- A – verdadeira / B – verdadeira / C – verdadeira.

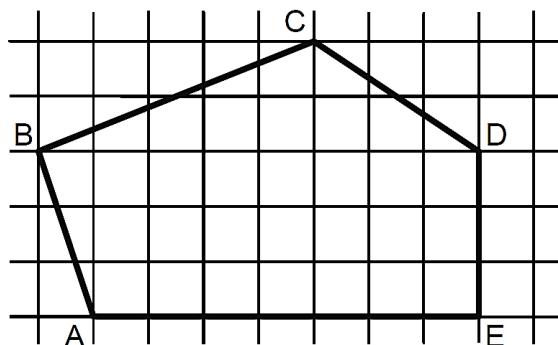
21. Seja $A = \left(1 + \frac{r}{n}\right)^n$. Se o valor de $r = 2$ e $n = 4$, essa expressão vale

- 4.
- 4,5.
- 2,25.
- 9.
- 1,5.

22. Uma indústria farmacêutica desenvolveu um novo remédio líquido o qual irá vender em frascos com capacidade de 16 mililitros cada. Para embalar 800 litros desse novo remédio, o número mínimo de frascos necessários é

- 50.000.
- 15.000.
- 500.000.
- 5.000.
- 100.000.

23. Sabendo que a área de cada quadrado formado pelas linhas finas é igual a 2m^2 , qual é a área do polígono ABCDE destacado pelas linhas grossas?



- 60m^2 .
- 32m^2 .
- 56m^2 .
- 51m^2 .
- 61m^2 .

24. Um clube com 180 sócios está elegendo o novo presidente por meio de votação. São apenas dois candidatos: candidato A e Candidato B. No momento, o candidato A possui $\frac{1}{4}$ dos votos e o candidato B $\frac{2}{5}$. Se todos os votos restantes forem para o candidato A, e se nenhum sócio deixar de votar, então ele será eleito com uma quantidade de votos a mais que o candidato B igual a

- 36.
- 12.
- 50.
- 77.
- 72.

25. Sabe-se que $1.000 \text{ litros} = 1 \text{ m}^3$. Então qual é o volume de água de uma caixa d'água de base retangular de $0,5\text{m}$ por $1,2\text{m}$ e altura de 2m ?

- 1500 litros.
- 1200 litros.
- 2400 litros.
- 1000 litros.
- 1400 litros.

26. Três plantações de cana-de-açúcar são pulverizadas por 3 aviões diferentes em horários, também, diferentes. O primeiro avião pulveriza de 4 em 4 horas, o segundo, de 5 em 5 horas e o terceiro de 7 em 7 horas. Todos decolaram no mesmo horário. Quantas horas depois eles decolarão juntos pela 3ª vez?

- 280 horas.
- 140 horas.
- 420 horas.
- 70 horas.
- 200 horas.

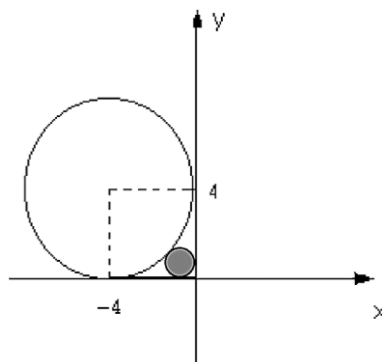
27. Quatro funcionários de uma empresa são capazes de atender, em média, 35 pessoas por hora. Diante disso, espera-se que sete funcionários, com a mesma capacidade operacional dos primeiros, sejam capazes de atender, por hora, uma média de

- 18.
- 36.
- 12.
- 20.
- 42.

28. Em uma eleição, à qual concorriam três candidatos, votaram 1.500 eleitores. O candidato A obteve 376 votos, o B, 645 votos e o C 299 votos. A porcentagem de votos brancos ou nulos foi de

- 12%.
- 10%.
- 15%.
- 18%.
- 22%.

29. Qual expressão representa a área do círculo, destacado em cinza, da figura a seguir? Obs: O círculo destacado tangencia os eixos e a circunferência maior.



- $\pi(2(\sqrt{2}))^2$.
- $\pi(4(\sqrt{2}-1))^2$.
- $\pi(2(\sqrt{2}-1))^{1/2}$.
- $\pi(2(\sqrt{2}-2))^2$.
- $\pi(2(\sqrt{2}-1))^2$.

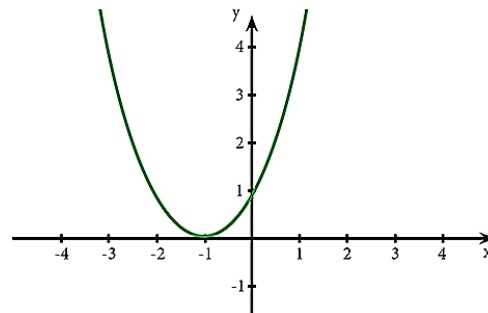
30. Reduzindo a expressão numérica $\frac{25}{\sqrt{3}} - \frac{5}{2\sqrt{3}} + \frac{10}{4\sqrt{3}}$ obtemos o valor.

- $\frac{5}{\sqrt{3}}$.
- $\frac{25}{3}$.
- $\frac{100}{\sqrt{3}}$.
- $\frac{20}{\sqrt{3}}$.
- $\frac{90}{\sqrt{3}}$.

31. Saíram, de Fortaleza para Juazeiro do Norte, três ônibus, simultaneamente transportando 138 passageiros. Sabe-se que no primeiro ônibus viajaram 9 passageiros a mais do que no segundo e, neste, 3 passageiros a menos que no terceiro. Nessas condições, é correto afirmar que o número de passageiros transportados em um dos ônibus é

- 45.
- 40.
- 38.
- 30.
- 35.

32. Para o gráfico de uma equação de segundo grau a seguir, assinale a afirmação verdadeira relativo ao seu valor de delta Δ .



- $\Delta =$ indeterminado.
- $\Delta = 1$.
- $\Delta < 0$.
- $\Delta = 0$.
- $\Delta > 0$.

33. A produção, conservação e transmissão da cultura popular é o objetivo principal dos Mestres da Cultura no Ceará. Em Juazeiro do Norte encontram-se entre alguns de seus representantes e suas respectivas atividades:

- Mestre Pedro Bandeira representou Juazeiro em 2017 com as atividades de cantoria, repente e atividade de cordel.
- Mestre Tico no ano de 2015 tornou-se Mestre da Cultura com reisado.
- Mestre Geraldo Ramos foi considerado Mestre da Cultura com a atividade artesanato de relojoaria de torre, coluna e sinos de igreja.
- Mestre Maurício Flandeiro destacou-se em 2010 na arte de trabalhar com flandres.

Marque a opção que apresenta as afirmativas CORRETAS.

- I – II – III – IV.
- II – III – IV.
- I – II.
- I – III – IV.
- I – II – IV.

34. A Secretaria da Cultura do Estado do Ceará (Secult) Com o Edital do Tesouros Vivos da Cultura 2018, contemplou 11 (onze) novos Mestres e Mestras da Cultura. Entre eles são de Juazeiro do Norte

- Francisco Gildamir de Sousa Chagas, Edite Dias de Oliveira Silva e José Maria Pereira dos Santos.
- Adrião Sisnando de Araújo, Antônio Ferreira Evangelista e Expedito Antonio do Nascimento.
- Maria Josefa da Conceição, Raimunda Rodrigues Teixeira e João Pedro de Carvalho Neto.
- Francisco Alves de Freitas, Aécio Rodrigues de Oliveira e Antônio Ferreira Evangelista.
- Edite Dias de Oliveira Silva, Adrião Sisnando de Araújo e João Pedro de Carvalho Neto.

35. Sobre a emancipação política de Juazeiro do Norte, analise as afirmativas a seguir.

- I. Uma das causas que contribuiu para a emancipação de Juazeiro do Norte da condição de distrito do Crato foi a popularidade de Padre Cícero e o grande contingente de viajantes que o religioso atraía. Tal fato se intensificou após o chamado “Milagre” de Juazeiro que acirrou ainda mais a rivalidade com o Crato que temia perder sua hegemonia no vale do Cariri.
- II. Apesar da forte influência religiosa, Padre Cícero Romão Batista não teve uma forte atuação nos movimentos de emancipação de Juazeiro, temendo criar rugas com os oligarcas do Crato com os quais tinha uma boa relação.
- III. Após a emancipação de Juazeiro em 1911, Padre Cícero tornou-se intendente de Juazeiro, manobra que buscava apaziguar os conflitos entre coronéis do Crato e de Juazeiro.

Marque a opção que indica a(s) afirmativa(s) CORRETA(S).

- a) I.
- b) II.
- c) I – II – III.
- d) I – II.
- e) I – III.

36. As Cidades de Quixadá e Juazeiro do Norte estão respectivamente localizadas a que posição cartográfica da cidade de Fortaleza?

- a) Sul / sul.
- b) Leste / norte.
- c) Sudeste / sul.
- d) Norte / sudeste.
- e) Sul / sudeste.

37. Leia o texto a seguir.

“Penso que, se formos realistas, somos capazes de chegar a um acordo sobre a primeira etapa dessas negociações, o tratado sobre o Brexit, dentro de seis a oito semanas”, disse Barnier numa conferência na Eslovênia. “O Reino Unido decidiu sair em março do próximo ano”, 29 de março, referiu. “Tendo em conta o processo de ratificação da Câmara dos Comuns por um lado, do Parlamento Europeu e do Conselho por outro, devemos chegar a um acordo antes do princípio de novembro. Penso que é possível”, acrescentou. O objetivo inicial das negociações era chegar a um acordo antes da Cimeira europeia de 18 de outubro em Bruxelas, ou seja, dentro de menos de seis semanas. A principal questão por resolver nas negociações é a da fronteira entre a província britânica da Irlanda do Norte e a República da Irlanda, membro da UE. Observadores admitem que, na Cimeira prevista para 20 de setembro em Salzburgo, na Áustria, os líderes europeus anunciem uma Cimeira extraordinária sobre o Brexit para novembro.

(Extraído de <https://24.sapo.pt/actualidade/artigos/uniao-europeia-considera-realista-acordo-para-o-brexit-dentro-de-seis-a-oito-semanas>)

Segundo o texto, podemos depreender que os(a)

- a) blocos econômicos não possuem nenhum tipo de conflito político.
- b) União Europeia apenas se preocupa com ideais da Inglaterra e Alemanha.
- c) conflitos espaciais e econômicos continuam, mesmo na implantação de blocos econômicos.
- d) saída do Reino Unido exclusivamente deve-se à xenofobia, característica de países mais desenvolvidos.
- e) pressão dos EUA fez com que o Reino Unido saísse da União Europeia pela falta de competitividade econômica.

38. Sobre a estimativa da população em 2018 que foi divulgada pelo Instituto Brasileiro de Geografia e Estatística (IBGE), Fortaleza destacou-se como a 6ª Região Metropolitana mais populosa do Brasil, com 4.074.730 milhões de habitantes. A líder da lista é São Paulo com 21.571.281 milhões. Fortaleza tem a maior Região Metropolitana do Nordeste à frente de Recife (PE) e Salvador (BA).

Segundo o texto, a Cidade de Fortaleza é uma das maiores cidades, em população, do Brasil. Neste quesito, quais fatores demográficos podem ser associados?

- a) Proximidade do litoral, favorecendo o maior aproveitamento da cidade devido aos ventos e à pluviometria.
- b) A forte migração do século XX, resultante principalmente da rápida urbanização e do êxodo rural.
- c) Pela industrialização e a urbanização rápidas que favoreceram maior número de empregos na RMF para populações que possuíam exclusivamente ensinos mais avançados.
- d) Pela RMF ser uma das metrópoles mais avançadas do Planeta, sendo, assim, atrator de vários migrantes de vários países.
- e) Pelas políticas públicas que obrigavam vários interioranos a morarem em Fortaleza.

39. Leia as afirmativas a seguir.

- I. A Ética constitui o momento objetivo da vivência e da experiência dos valores. Consiste, assim, no conjunto de valores que são criados por determinada sociedade.

NESSE SENTIDO:

- II. A moral expressaria o momento subjetivo de um comportamento ético; moral seria a capacidade do indivíduo de formular suas próprias opiniões e pautas de comportamento (com base nos valores éticos estabelecidos) e optar por aquele que considerar mais correto e justo.

Marque a opção que apresenta a afirmativa CORRETA.

- a) A afirmativa I é correta e a afirmativa II é incorreta.
- b) A afirmativa I é incorreta e a afirmativa II é correta.
- c) Ambas as afirmativas I e II estão incorretas.
- d) As afirmativas I e II estão corretas e entre elas há uma relação de complementariedade.
- e) As afirmativas I e II estão corretas, mas a II afirmativa não estabelece nenhuma relação com a I afirmativa.

40. São características da Ética e da Moral.

- I. A Ética, em sua dimensão teórica, não é uma prescrição de princípios definidos abstratamente. Seu conteúdo é a prática ético-moral dos homens.
- II. A Ética é a referência valorativa que estabelece os parâmetros das relações dos indivíduos com a sociedade.
- III. A reflexão ética é construída, historicamente, no âmbito da Filosofia, tendo por objeto a moral.
- IV. A moral tem sua gênese na capacidade ética de criar valores que servem de referência à conduta dos indivíduos em sua convivência social.
- V. Todo ato moral supõe uma relação moral com o outro, com os grupos ou com a comunidade.

Marque a opção que apresenta as afirmativas CORRETAS.

- a) I – II – III.
- b) II – III – IV.
- c) I – II – III – V.
- d) I – III – IV.
- e) I – II – III – IV – V.

CONHECIMENTOS ESPECÍFICOS

41. Analise as afirmativas a seguir sobre a Macroeconomia e seus conceitos.

- I. A Macroeconomia existe em função do consumo agregado, que evidencia a relação entre o consumo agregado e a renda agregada.
- II. A variação do consumo provocada por uma variação na renda denomina-se propensão marginal a consumir.
- III. A variação do consumo provocada por uma variação na renda denomina-se consumo incremental.

Marque a opção que indica a(s) afirmativa(s) CORRETA(S).

- a) I.
- b) II.
- c) III.

- d) I – II.
e) I – II – III.

42. Se a renda líquida recebida do exterior é igual à depreciação, temos Produto

- a) Interno Bruto = Produto Nacional Líquido.
b) Interno Bruto > Produto Nacional Líquido.
c) Interno Bruto < Produto Nacional Líquido.
d) Nacional Líquido < Produto Interno Bruto.
e) Nacional Líquido > Produto Interno Bruto.

43. Sobre a Lei de Responsabilidade Fiscal, analise as afirmativas a seguir e marque (V) para as VERDADEIRAS e (F) para as FALSAS, quanto aos seus mecanismos de transparência.

() As contas apresentadas pelo Chefe do Poder Executivo ficarão disponíveis durante todo o exercício, no respectivo Poder Legislativo.

() As contas apresentadas pelo Chefe do Poder Executivo ficarão disponíveis durante todo o exercício, no respectivo Poder Judiciário.

() A prestação de contas da União conterà demonstrativos do Tesouro Nacional e das agências financeiras oficiais de fomento.

() A transparência será assegurada também mediante incentivo à participação popular e a realização de audiências públicas, durante os processos de elaboração e de discussão dos planos, a Lei de Diretrizes Orçamentárias e dos orçamentos.

Marque a alternativa que apresenta a sequência CORRETA.

- a) F – F – V – F.
b) V – F – V – V.
c) V – F – V – F.
d) V – V – F – F.
e) F – V – F – F.

44. Em relação ao Mercado de Câmbio, podemos afirmar que o(os)(a)

- I. ingresso ou saída de capitais estrangeiros no País não influenciam o valor da taxa de câmbio.
II. taxa de câmbio no Brasil é definida como o preço da divisa estrangeira expressa em moeda nacional.
III. importadores são ofertantes nesse mercado.

Marque a opção que indica a(s) afirmativa(s) CORRETA(S).

- a) I.
b) II.
c) III.
d) I – II – III.
e) I – II.

45. Acerca da Quase Moeda, analise as afirmativas a seguir e marque (V) para as VERDADEIRAS e (F) para as FALSAS.

() Inclui apenas ativos que, no Brasil, podem ser emitidos por bancos comerciais e múltiplos

() Pode ser entendida como qualquer título de crédito que tenha valor conversível em moeda corrente

() Possui as mesmas características de meio de troca, unidade de conta e reserva de valor encontrado na moeda.

Marque a alternativa que apresenta a sequência CORRETA.

- a) V – V – V.
b) V – F – V.
c) V – F – F.
d) F – V – V.
e) F – F – F.

46. Acerca da política do Conselho Monetário Nacional, analise as afirmativas a seguir sobre seus objetivos.

- (2) Regular o valor interno da moeda.
(4) Coordenar as políticas monetária, creditícia, orçamentária, fiscal e a dívida pública, interna e externa.
(8) Propiciar o aperfeiçoamento das instituições e dos instrumentos financeiros.
(16) Efetuar o controle dos capitais estrangeiros.

Marque a opção que apresenta a soma das afirmativas CORRETAS.

- a) 6.
b) 10.
c) 14.
d) 16.
e) 26.

47. Sobre as causas da inflação, analise as afirmativas a seguir.

- (2) Excesso de demanda.
(4) Memória inflacionária.
(8) Inflação de expectativas.
(16) Choques de oferta.

Marque a opção que apresenta a soma das afirmativas CORRETAS.

- a) 10.
b) 12.
c) 24.
d) 28.
e) 30.

48. Qual inflação é responsável pelos aumentos salariais acima dos níveis de produtividade?

- a) Inflação Inercial.
b) Inflação Monetária.
c) Inflação Comercial.
d) Estagflação.
e) Inflação de Custos.

49. De acordo com a Teoria Quantitativa da Moeda, analise as afirmativas a seguir.

- I. A Teoria Quantitativa da Moeda, segundo a versão de Cambridge, argumenta que a demanda de saldos reais é proporcional à renda permanente dos indivíduos
II. A Teoria Quantitativa da Moeda foi formalmente apresentada, pela primeira vez, por Adam Smith, o qual relacionou a elevação de preços com choques de produtividade
III. A Teoria Quantitativa da Moeda sustenta que a moeda é neutra no longo prazo.

Marque a opção que indica a(s) afirmativa(s) CORRETA(S).

- a) I.
b) II.
c) III.
d) I – II – III.
e) II – III.

50. Com relação aos Modelos de Crescimento Econômico Endógeno, analise as afirmativas a seguir.

(2) – O resíduo de crescimento atribuído ao progresso técnico, no modelo de crescimento neoclássico de Solow é modelado endogenamente.

(4) – O crescimento não é limitado pela taxa de juros real praticada na economia.

(8) – A explicação dos ciclos e das flutuações econômicas baseia-se em fatores reais e não monetários.

(16) – A taxa de crescimento da economia, no estado estacionário, é igual à taxa de crescimento demográfico da população.

Marque a opção que apresenta a soma das afirmativas CORRETAS.

- a) 02.
b) 10.
c) 12.
d) 14.
e) 16.

51. Acerca do Equilíbrio Geral, analise as afirmativas a seguir e marque (V) para as VERDADEIRAS e (F) para as FALSAS.

() O primeiro Teorema da Teoria Econômica do Bem-Estar afirma que o equilíbrio competitivo é ineficiente, no sentido de Pareto.

() Uma alocação eficiente ocorre quando nenhum consumidor pode aumentar sua satisfação por meio de trocas, sem prejudicar algum outro consumidor.

() Numa alocação eficiente de Pareto, as taxas marginais de substituição devem ser iguais entre si e iguais à razão de preços

() O Equilíbrio Geral refere-se ao estudo de como a economia pode ajustar-se para igualar a demanda e a oferta em todos os mercados ao mesmo tempo.

Marque a alternativa que apresenta a sequência CORRETA.

- a) V – F – V – F
- b) V – F – F – F
- c) F – F – V – F
- d) F – F – V – V
- e) V – V – F – F

52. O primeiro teorema do Bem-Estar determina que todo(a)

- a) equilíbrio de mercado não competitivo é eficiente no sentido de Pareto.
- b) alocação eficiente de Pareto é uma alocação de equilíbrio de mercado para uma redistribuição de dotações e preferências convexas.
- c) equilíbrio de mercado competitivo é ineficiente no sentido de Pareto.
- d) alocação eficiente de Pareto é uma alocação de equilíbrio de mercado para uma redistribuição de dotações e preferências não convexas.
- e) equilíbrio de mercado competitivo é eficiente no sentido de Pareto.

53. A Teoria da Economia do Bem-Estar utiliza, como medida do bem-estar econômico de uma sociedade, o(a)

- a) soma dos excedentes do produtor e dos excedentes do consumidor.
- b) soma dos excedentes do produtor e dos excedentes do produtor.
- c) excedente do produtor.
- d) excedente do consumidor.
- e) excedente do produtor e do consumidor.

54. Sobre os bens públicos, analise as afirmativas a seguir.

(2) – Um bem é exclusivo quando as pessoas não podem ser impedidas de consumi-lo.

(4) – O seu uso é divisível e os consumidores fazem lances, revelando as suas preferências por eles.

(8) – O seu uso é indivisível e os consumidores fazem lances, revelando as suas preferências por eles.

(16) – O seu uso é indivisível, ou seja, é praticamente impossível se excluir um indivíduo do seu usufruto.

Marque a opção que apresenta a soma das afirmativas CORRETAS.

- a) 06.
- b) 10.
- c) 16.
- d) 18.
- e) 24.

55. São tributos.

- a) Impostos, taxas, custas processuais.
- b) Impostos, tarifas públicas, custas processuais.
- c) Taxas, tarifas públicas, impostos
- d) Taxas, contribuições de melhoria, juros bancários
- e) Tarifas públicas, juros bancários, impostos

56. Acerca do papel do Governo na economia, analise as afirmativas a seguir e marque (V) para as VERDADEIRAS e (F) para as FALSAS.

() As políticas macroeconômicas envolvem o poder de cobrar impostos e a determinação da oferta de moeda e da sensibilidade da economia às taxas de juros.

() As falhas de mercado levam à desigualdade na distribuição da riqueza, porém não estão relacionadas aos objetivos do Estado, quais sejam: eficiência, equidade e estabilidade.

() Um governo que tem como finalidade da política econômica melhorar a distribuição equitativa da renda, deve adotar tributos indiretos e taxas proporcionais

() As políticas macroeconômicas de estabilização e crescimento econômico incluem as políticas fiscal e monetária.

Marque a alternativa que apresenta a sequência CORRETA.

- a) V – V – F – F.
- b) V – F – V – F.
- c) F – V – F – V.
- d) F – F – V – V.
- e) V – F – F – V.

57. Com relação ao déficit e à dívida pública, analise as afirmativas a seguir e marque (V) para as VERDADEIRAS e (F) para as FALSAS.

() Entre os objetivos da dívida pública interna, encontra-se a captação de recursos para investimentos prioritários, considerando o giro da própria dívida.

() O déficit fiscal, como proporção do PIB, corresponde ao déficit primário acrescido dos juros sobre o estoque da dívida, sendo que o Governo financia esse déficit aumentando o endividamento em títulos públicos e não considerando a expansão monetária

() Embora os impostos constituam a principal fonte de receita do Governo, o aumento na alíquota de impostos aumenta a receita tributária até certo ponto, a partir do qual o aumento da alíquota reduz a arrecadação.

() A mensuração do déficit com base na execução orçamentária corresponde à medição do déficit pelo lado do financiamento, ou seja, pela forma como o déficit foi financiado.

Marque a alternativa que apresenta a sequência CORRETA.

- a) F – F – V – F.
- b) F – F – F – V.
- c) V – F – V – F.
- d) V – V – F – F.
- e) F – V – V – F.

58. Qual dos princípios relacionados a seguir NÃO é orçamentário?

- a) Entidade.
- b) Exclusividade.
- c) Especificação.
- d) Equilíbrio Orçamentário.
- e) Unidade.

59. Sobre o Plano Plurianual e suas características, analise os itens a seguir e marque (V) para as VERDADEIRAS e (F) para as FALSAS.

() É instrumento de formulação e adaptação de leis, normas e regulamentos e instruções para aquisição de bens e serviços durante a vigência de um governo

() É instrumento de planejamento que explicita o modo como o Governo enxerga e procura construir o desenvolvimento do Estado

() Terá vigência de 2 (dois) anos.

() É o instrumento para disciplinar despesas com o custeio da máquina pública.

Marque a opção que indica a sequência CORRETA.

- a) V – V – F – F.
- b) V – V – V – F.
- c) F – F – V – V.
- d) V – V – F – V.
- e) F – F – F – F.

60. Sobre o Ciclo Orçamentário do setor público marque a alternativa CORRETA.

- a) O Plano Plurianual considera as despesas de duração continuada.
- b) O Plano Plurianual considera as receitas e despesas de duração continuada.
- c) O Plano Plurianual fixa o planejamento para o curto e médio prazos.
- d) O Plano Plurianual fixa o planejamento para o curto, médio e longo prazos.
- e) A Lei de Diretrizes Orçamentárias não se comunica com a Lei Orçamentária Anual.