



PREFEITURA MUNICIPAL DE JUAZEIRO DO NORTE – CE

CONCURSO PÚBLICO – EDITAL 001/2019

JORNALISTA

NOME DO CANDIDATO: _____

RG: _____ ÓRGÃO EXPEDIDOR: _____

Nº DE INSCRIÇÃO

--	--	--	--	--	--	--	--	--	--

ASSINATURA: _____

LEIA COM ATENÇÃO E SIGA RIGOROSAMENTE ESTAS INSTRUÇÕES:

1. Este caderno contém 60 (sessenta) questões de múltipla escolha, numeradas de 1 (um) a 60 (sessenta).
2. Cada uma das questões apresenta um enunciado seguido de 5 (cinco) alternativas, das quais somente uma deve ser assinalada.
3. Examine se a prova está completa com a sequência numérica das questões, se há falhas ou imperfeições gráficas que causem dúvidas. Qualquer reclamação deverá ser feita durante os 20 minutos iniciais. Após esse tempo, qualquer reclamação será desconsiderada.
4. Depois de decorridas 2 (duas) horas do início da prova, será distribuído o cartão-resposta, o qual será o único documento válido para a correção. Ao recebê-lo, verifique se seu nome e seu número de inscrição estão corretos. Reclame imediatamente se houver discrepância.
5. A folha de respostas não pode ser dobrada, amassada, rasurada ou manchada. Exceto escrever uma frase com 5 (cinco) palavras no local pré-determinado, nada deve ser escrito ou registrado fora dos locais destinados às respostas. Tenha muita atenção ao marcar sua folha de respostas, pois não haverá substituição por erro do candidato. Marque sua resposta pintando completamente o espaço correspondente à alternativa de sua opção.

Ex.: A B C D E
6. A leitora de marcas não registrará as respostas em que houver falta de nitidez, uso de corretivo, marcação a lápis ou marcação de mais de uma letra. Não serão computadas questões não assinaladas.
7. Durante a prova, é proibido o intercâmbio e o empréstimo de material de qualquer natureza entre os candidatos. A tentativa de fraude, a indisciplina e o desrespeito às autoridades encarregadas dos trabalhos são faltas que implicarão a desclassificação do candidato.
8. Qualquer forma de comunicação entre candidatos implicará a eliminação de ambos do certame.
9. Não será permitido ao candidato, durante a realização das provas, portar armas, aparelhos eletrônicos de qualquer natureza, relógios, bolsas, livros, jornais e impressos em geral; bonés, chapéus, lenço de cabelo, bandanas etc.
10. É vedado o uso de telefone celular ou de qualquer outro meio de comunicação. O candidato que for flagrado portando aparelho celular ou qualquer outro meio de comunicação, durante o período de realização da prova, e/ou o aparelho celular tocar será sumariamente eliminado do certame.
11. Em caso de dúvida, durante a prova, levante o braço para solicitar atendimento da fiscalização. Jamais pergunte em voz alta.
12. Ao terminar a resolução da prova, entregue-a ao fiscal de sala juntamente com **a folha de respostas**. Não se esqueça de **assinar a folha de frequência**.
13. O candidato que permanecer na sala de provas, por mais de 3h30min, poderá levar consigo o caderno de provas, fornecido pela **ORGANIZADORA**.
14. As provas terão duração de 4 (quatro) horas com início às 08h e término às 12h. O candidato só poderá ausentar-se da sala depois de decorridas duas horas do início das provas.
15. Os **Gabaritos Preliminares das Provas Objetivas** serão divulgados 72 (setenta e duas) horas após a realização das mesmas.

RASCUNHO

CONHECIMENTOS GERAIS

Leia o texto para responder às questões 1 a 10.

Soneto

Aquela triste e leda madrugada,
cheia toda de mágoa e piedade,
enquanto houver no mundo saudade,
quero que seja sempre celebrada.

Ela só, quando amena e marchetada
saía, dando ao mundo claridade,
viu apartar-se duma outra vontade,
que nunca poderá ser apartada.

Ela só viu as lágrimas em fio,
que duns e doutros olhos derivadas,
se acrescentaram em grande largo rio.

Ela viu as palavras magoadas
que puderam tornar o fogo frio,
e dar descanso às almas condenadas.

Luís Vaz de Camões.

Com base no texto e em seus conhecimentos, responda às questões a seguir.

1. O soneto trata de uma dor. É a dor de um(a)

- a) ausência de viagem.
- b) desencontro fortuito.
- c) prejuízo financeiro.
- d) separação amorosa.
- e) conversa interrompida.

2. A dor de que fala o soneto está descrita nos versos

- a) 1/2.
- b) 3/4.
- c) 5/6.
- d) 7/8.
- e) 12/13.

3. O sentido de fogo no texto é o de um(a)

- a) fogueira muito grande.
- b) brasa fumegante.
- c) simples elemento da natureza.
- d) grande paixão amorosa.
- e) imensa dor

4. No primeiro verso, a figura nele existente é chamada

- a) catacrese.
- b) eufemismo.
- c) antítese.
- d) hipérbole.
- e) metonímia.

5. Quando o autor fala da madrugada, percebe-se aí que há uma

- a) ironia.
- b) alusão.
- c) simpatia.
- d) personificação.
- e) revolta.

6. A repetição do pronome ela no início das três últimas estrofes constitui uma

- a) anáfora.
- b) onomatopéia.
- c) metonímia.
- d) elipse.
- e) hipérbato.

7. A expressão [...] às almas condenadas exerce a função sintática de

- a) adjunto adnominal.
- b) adjunto adverbial.
- c) complemento nominal.

- d) objeto direto.
- e) objeto indireto.

8. Ela, nas três últimas estrofes, é sujeito e refere-se à

- a) claridade.
- b) vontade.
- c) madrugada.
- d) saudade.
- e) piedade.

9. No primeiro quarteto, é CORRETO afirmar que existe(m)

- a) dois períodos simples.
- b) um objeto direto oracional.
- c) um pronome relativo.
- d) uma oração coordenada adversativa.
- e) objeto indireto.

10. Está CORRETA a análise sintática de um dos trechos extraídos do soneto

- a) ... enquanto houver no mundo saudade, – oração coordenada adversativa.
- b) ... quero que seja sempre lembrada. – oração principal.
- c) ... que puderam tornar o fogo frio – oração subordinada adjetiva.
- d) ... as palavras magoadas – sujeito simples.
- e) .. que nunca poderá ser apartada – oração subordinada substantiva

11. Há vocábulos da Língua Portuguesa que podem ser escritos com ou sem acento gráfico sem mudança de sentido. Assinale a alternativa em que não pode ocorrer esta duplicidade.

- a) Boêmia / boemia.
- b) Ômega / omega.
- c) Rúbrica / rubrica.
- d) Hieróglifo / hieroglifo.
- e) Ortoépia / ortoepia.

12. Só em uma alternativa, todos os vocábulos estão acentuados corretamente. Assinale-a.

- a) Feiúra / epopéia / saúde.
- b) Projétil / ínterim / vôo.
- c) Tórax / álcool / mártir.
- d) Cárie / júnior / gratuito.
- e) Nóbél / íbero / fortuíto.

13. Não há antonímia em

- a) Declive / aclave.
- b) Medroso / intemerato.
- c) Inópia / abundância.
- d) Soberba / humildade.
- e) Ratificar / vetar.

14. Está CORRETA a classificação morfológica dos vocábulos retirados do texto.

- a) ... enquanto (v. 3) – advérbio de dúvida.
- b) ... que (v. 4) – pronome relativo.
- c) ... quando (v. 5) – conjunção temporal.
- d) ... que (v. 8) – conjunção integrante.
- e) ... só (v. 9) – pronome demonstrativo.

15. Está INCORRETA a afirmação sobre verbo.

- a) Haver e ir são verbos regulares; reaver e precaver-se, anômalos.
- b) Os tempos compostos são formados com os verbos ter e haver.
- c) Existem dois tipos de voz passiva: a analítica e a sintética.
- d) Voz passiva e passividade não devem ser confundidas.
- e) As vozes verbais são: ativa, passiva e reflexiva.

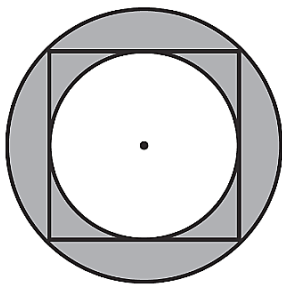
16. Está INCORRETA a conjugação verbal em

- Certos motoristas só freiam em cima do obstáculo.
- O juiz medeia as discussões.
- Os manifestantes incendiam os ônibus.
- Nós receamos viajar de avião.
- Minha irmã nunca se maquia.

17. Fiz um teste com meu carro para saber se o marcador de combustível estava informando uma leitura correta. Quando o marcador indicava $\frac{1}{4}$ (um quarto), eu fui ao posto de combustível e completei o tanque inserindo 40 litros de gasolina. O manual do veículo dizia que o tanque é de 50 litros, então pude concluir que

- o marcador mostra o volume correto.
- está indicando menos combustível do que deveria mostrar.
- está indicando o dobro de combustível do que deveria mostrar.
- está indicando a metade de combustível do que deveria mostrar.
- está indicando mais combustível do que deveria mostrar.

18. Na figura a seguir, o quadrado tem lado igual a 4cm.



Qual é o valor da área destacada em cinza?

- $2\pi \text{ cm}^2$.
- 4 cm^2 .
- $4\pi \text{ cm}^2$.
- $8\pi \text{ cm}^2$.
- 8 cm^2 .

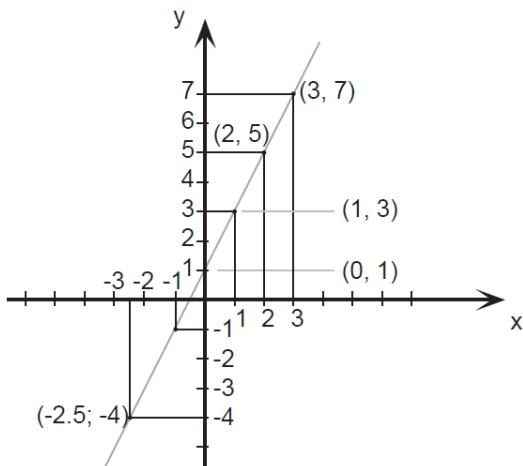
19. O valor de uma bola que eu quero comprar é representado pelo produto das raízes da equação

$$x^2 - 9x + 20 = 0$$

Logo o valor da bola é

- 10.
- 20.
- 30.
- 40.
- 50.

20. Esse é o gráfico representa alguns pontos e um segmento traçado da função $f(x) = 2x + 1$. Julgue as afirmações a seguir.



Assinale a alternativa CORRETA.

A: $f(x)$ é uma função crescente.

B: $f(x)$ é uma função par.

C: $f(0) = 0$.

- A – verdadeira / B – falsa / C – verdadeira.
- A – verdadeira / B – falsa / C – falsa.
- A – falsa / B – falsa / C – falsa.
- A – verdadeira / B – verdadeira / C – falsa.
- A – verdadeira / B – verdadeira / C – verdadeira.

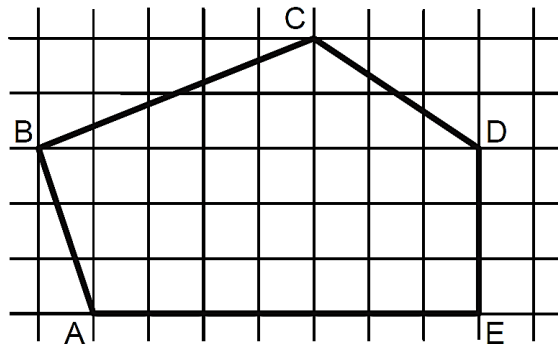
21. Seja $A = \left(1 + \frac{r}{n}\right)^n$. Se o valor de $r = 2$ e $n = 4$, essa expressão vale

- 4.
- 4,5.
- 2,25.
- 9.
- 1,5.

22. Uma indústria farmacêutica desenvolveu um novo remédio líquido o qual irá vender em frascos com capacidade de 16 mililitros cada. Para embalar 800 litros desse novo remédio, o número mínimo de frascos necessários é

- 50.000.
- 15.000.
- 500.000.
- 5.000.
- 100.000.

23. Sabendo que a área de cada quadrado formado pelas linhas finas é igual a 2m^2 , qual é a área do polígono ABCDE destacado pelas linhas grossas?



- 60m^2 .
- 32m^2 .
- 56m^2 .
- 51m^2 .
- 61m^2 .

24. Um clube com 180 sócios está elegendo o novo presidente por meio de votação. São apenas dois candidatos: candidato A e Candidato B. No momento, o candidato A possui $\frac{1}{4}$ dos votos e o candidato B $\frac{2}{5}$. Se todos os votos restantes forem para o candidato A, e se nenhum sócio deixar de votar, então ele será eleito com uma quantidade de votos a mais que o candidato B igual a

- 36.
- 12.
- 50.
- 77.
- 72.

25. Sabe-se que $1.000 \text{ litros} = 1 \text{ m}^3$. Então qual é o volume de água de uma caixa d'água de base retangular de $0,5\text{m}$ por $1,2\text{m}$ e altura de 2m ?

- 1500 litros.
- 1200 litros.
- 2400 litros.
- 1000 litros.
- 1400 litros.

26. Três plantações de cana-de-açúcar são pulverizadas por 3 aviões diferentes em horários, também, diferentes. O primeiro avião pulveriza de 4 em 4 horas, o segundo, de 5 em 5 horas e o terceiro de 7 em 7 horas. Todos decolaram no mesmo horário. Quantas horas depois eles decolarão juntos pela 3ª vez?

- 280 horas.
- 140 horas.
- 420 horas.
- 70 horas.
- 200 horas.

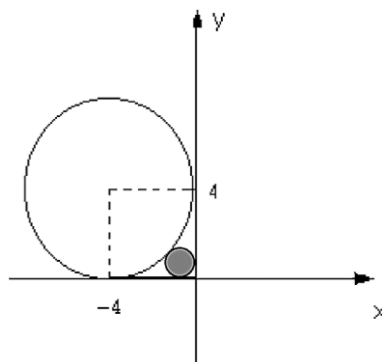
27. Quatro funcionários de uma empresa são capazes de atender, em média, 35 pessoas por hora. Diante disso, espera-se que sete funcionários, com a mesma capacidade operacional dos primeiros, sejam capazes de atender, por hora, uma média de

- 18.
- 36.
- 12.
- 20.
- 42.

28. Em uma eleição, à qual concorriam três candidatos, votaram 1.500 eleitores. O candidato A obteve 376 votos, o B, 645 votos e o C 299 votos. A porcentagem de votos brancos ou nulos foi de

- 12%.
- 10%.
- 15%.
- 18%.
- 22%.

29. Qual expressão representa a área do círculo, destacado em cinza, da figura a seguir? Obs: O círculo destacado tangencia os eixos e a circunferência maior.



- $\pi(2(\sqrt{2}))^2$.
- $\pi(4(\sqrt{2}-1))^2$.
- $\pi(2(\sqrt{2}-1))^{1/2}$.
- $\pi(2(\sqrt{2}-2))^2$.
- $\pi(2(\sqrt{2}-1))^2$.

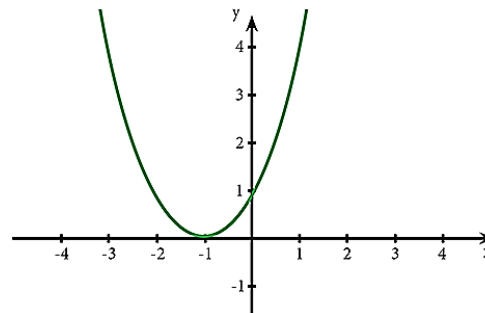
30. Reduzindo a expressão numérica $\frac{25}{\sqrt{3}} - \frac{5}{2\sqrt{3}} + \frac{10}{4\sqrt{3}}$ obtemos o valor.

- $\frac{5}{\sqrt{3}}$.
- $\frac{25}{3}$.
- $\frac{100}{\sqrt{3}}$.
- $\frac{20}{\sqrt{3}}$.
- $\frac{90}{\sqrt{3}}$.

31. Saíram, de Fortaleza para Juazeiro do Norte, três ônibus, simultaneamente transportando 138 passageiros. Sabe-se que no primeiro ônibus viajaram 9 passageiros a mais do que no segundo e, neste, 3 passageiros a menos que no terceiro. Nessas condições, é correto afirmar que o número de passageiros transportados em um dos ônibus é

- 45.
- 40.
- 38.
- 30.
- 35.

32. Para o gráfico de uma equação de segundo grau a seguir, assinale a afirmação verdadeira relativo ao seu valor de delta Δ .



- $\Delta =$ indeterminado.
- $\Delta = 1$.
- $\Delta < 0$.
- $\Delta = 0$.
- $\Delta > 0$.

33. A produção, conservação e transmissão da cultura popular é o objetivo principal dos Mestres da Cultura no Ceará. Em Juazeiro do Norte encontram-se entre alguns de seus representantes e suas respectivas atividades:

- Mestre Pedro Bandeira representou Juazeiro em 2017 com as atividades de cantoria, repente e atividade de cordel.
- Mestre Tico no ano de 2015 tornou-se Mestre da Cultura com reisado.
- Mestre Geraldo Ramos foi considerado Mestre da Cultura com a atividade artesanato de relojoaria de torre, coluna e sinos de igreja.
- Mestre Maurício Flandeiro destacou-se em 2010 na arte de trabalhar com flandres.

Marque a opção que apresenta as afirmativas CORRETAS.

- I – II – III – IV.
- II – III – IV.
- I – II.
- I – III – IV.
- I – II – IV.

34. A Secretaria da Cultura do Estado do Ceará (Secult) Com o Edital do Tesouros Vivos da Cultura 2018, contemplou 11 (onze) novos Mestres e Mestras da Cultura. Entre eles são de Juazeiro do Norte

- Francisco Gildamir de Sousa Chagas, Edite Dias de Oliveira Silva e José Maria Pereira dos Santos.
- Adrião Sisnando de Araújo, Antônio Ferreira Evangelista e Expedito Antonio do Nascimento.
- Maria Josefa da Conceição, Raimunda Rodrigues Teixeira e João Pedro de Carvalho Neto.
- Francisco Alves de Freitas, Aécio Rodrigues de Oliveira e Antônio Ferreira Evangelista.
- Edite Dias de Oliveira Silva, Adrião Sisnando de Araújo e João Pedro de Carvalho Neto.

35. Sobre a emancipação política de Juazeiro do Norte, analise as afirmativas a seguir.

- I. Uma das causas que contribuiu para a emancipação de Juazeiro do Norte da condição de distrito do Crato foi a popularidade de Padre Cícero e o grande contingente de viajantes que o religioso atraía. Tal fato se intensificou após o chamado “Milagre” de Juazeiro que acirrou ainda mais a rivalidade com o Crato que temia perder sua hegemonia no vale do Cariri.
- II. Apesar da forte influência religiosa, Padre Cícero Romão Batista não teve uma forte atuação nos movimentos de emancipação de Juazeiro, temendo criar rugas com os oligarcas do Crato com os quais tinha uma boa relação.
- III. Após a emancipação de Juazeiro em 1911, Padre Cícero tornou-se intendente de Juazeiro, manobra que buscava apaziguar os conflitos entre coronéis do Crato e de Juazeiro.

Marque a opção que indica a(s) afirmativa(s) CORRETA(S).

- a) I.
- b) II.
- c) I – II – III.
- d) I – II.
- e) I – III.

36. As Cidades de Quixadá e Juazeiro do Norte estão respectivamente localizadas a que posição cartográfica da cidade de Fortaleza?

- a) Sul / sul.
- b) Leste / norte.
- c) Sudeste / sul.
- d) Norte / sudeste.
- e) Sul / sudeste.

37. Leia o texto a seguir.

“Penso que, se formos realistas, somos capazes de chegar a um acordo sobre a primeira etapa dessas negociações, o tratado sobre o Brexit, dentro de seis a oito semanas”, disse Barnier numa conferência na Eslovênia. “O Reino Unido decidiu sair em março do próximo ano”, 29 de março, referiu. “Tendo em conta o processo de ratificação da Câmara dos Comuns por um lado, do Parlamento Europeu e do Conselho por outro, devemos chegar a um acordo antes do princípio de novembro. Penso que é possível”, acrescentou. O objetivo inicial das negociações era chegar a um acordo antes da Cimeira europeia de 18 de outubro em Bruxelas, ou seja, dentro de menos de seis semanas. A principal questão por resolver nas negociações é a da fronteira entre a província britânica da Irlanda do Norte e a República da Irlanda, membro da UE. Observadores admitem que, na Cimeira prevista para 20 de setembro em Salzburgo, na Áustria, os líderes europeus anunciem uma Cimeira extraordinária sobre o Brexit para novembro.

(Extraído de <https://24.sapo.pt/actualidade/artigos/uniao-europeia-considera-realista-acordo-para-o-brexit-dentro-de-seis-a-oito-semanas>)

Segundo o texto, podemos depreender que os(a)

- a) blocos econômicos não possuem nenhum tipo de conflito político.
- b) União Europeia apenas se preocupa com ideais da Inglaterra e Alemanha.
- c) conflitos espaciais e econômicos continuam, mesmo na implantação de blocos econômicos.
- d) saída do Reino Unido exclusivamente deve-se à xenofobia, característica de países mais desenvolvidos.
- e) pressão dos EUA fez com que o Reino Unido saísse da União Europeia pela falta de competitividade econômica.

38. Sobre a estimativa da população em 2018 que foi divulgada pelo Instituto Brasileiro de Geografia e Estatística (IBGE), Fortaleza destacou-se como a 6ª Região Metropolitana mais populosa do Brasil, com 4.074.730 milhões de habitantes. A líder da lista é São Paulo com 21.571.281 milhões. Fortaleza tem a maior Região Metropolitana do Nordeste à frente de Recife (PE) e Salvador (BA).

Segundo o texto, a Cidade de Fortaleza é uma das maiores cidades, em população, do Brasil. Neste quesito, quais fatores demográficos podem ser associados?

- a) Proximidade do litoral, favorecendo o maior aproveitamento da cidade devido aos ventos e à pluviometria.
- b) A forte migração do século XX, resultante principalmente da rápida urbanização e do êxodo rural.
- c) Pela industrialização e a urbanização rápidas que favoreceram maior número de empregos na RMF para populações que possuíam exclusivamente ensinos mais avançados.
- d) Pela RMF ser uma das metrópoles mais avançadas do Planeta, sendo, assim, atrator de vários migrantes de vários países.
- e) Pelas políticas públicas que obrigavam vários interioranos a morarem em Fortaleza.

39. Leia as afirmativas a seguir.

- I. A Ética constitui o momento objetivo da vivência e da experiência dos valores. Consiste, assim, no conjunto de valores que são criados por determinada sociedade.

NESSE SENTIDO:

- II. A moral expressaria o momento subjetivo de um comportamento ético; moral seria a capacidade do indivíduo de formular suas próprias opiniões e pautas de comportamento (com base nos valores éticos estabelecidos) e optar por aquele que considerar mais correto e justo.

Marque a opção que apresenta a afirmativa CORRETA.

- a) A afirmativa I é correta e a afirmativa II é incorreta.
- b) A afirmativa I é incorreta e a afirmativa II é correta.
- c) Ambas as afirmativas I e II estão incorretas.
- d) As afirmativas I e II estão corretas e entre elas há uma relação de complementariedade.
- e) As afirmativas I e II estão corretas, mas a II afirmativa não estabelece nenhuma relação com a I afirmativa.

40. São características da Ética e da Moral.

- I. A Ética, em sua dimensão teórica, não é uma prescrição de princípios definidos abstratamente. Seu conteúdo é a prática ético-moral dos homens.
- II. A Ética é a referência valorativa que estabelece os parâmetros das relações dos indivíduos com a sociedade.
- III. A reflexão ética é construída, historicamente, no âmbito da Filosofia, tendo por objeto a moral.
- IV. A moral tem sua gênese na capacidade ética de criar valores que servem de referência à conduta dos indivíduos em sua convivência social.
- V. Todo ato moral supõe uma relação moral com o outro, com os grupos ou com a comunidade.

Marque a opção que apresenta as afirmativas CORRETAS.

- a) I – II – III.
- b) II – III – IV.
- c) I – II – III – V.
- d) I – III – IV.
- e) I – II – III – IV – V.

CONHECIMENTOS ESPECÍFICOS

41. O jornalismo impresso tem encontrado, cada vez mais, dificuldade de dar continuidade à circulação por diversos motivos, sobretudo, devido à velocidade que informação ganhou através de diversos canais digitais. Um dos primeiros veículos e mais tradicionais do mundo, com 30 anos de existência, a migrar 100% do impresso para o online, com anúncio claro através da manchete “Stop press 1896-2016” (“Parem as máquinas”) foi o

- a) americano The New York Times.
- b) espanhol El País.
- c) inglês The Independent.
- d) alemão Frankfurter Rundschau.
- e) americano The Wall Street Journal.

42. As primeiras noções de jornalismo foram desenvolvidas por Johannes Gutenberg, na Idade Média. De acordo com a História, ele foi o responsável pela criação da prensa tipográfica e a ideia do conhecimento ser passado de forma sistemática, com as primeiras técnicas de divulgação. Por mais que sejam raros os documentos da época sobre sua vida, os registros apontam que ele era de nacionalidade

- a) francesa.
- b) alemã.
- c) inglesa.
- d) brasileira.
- e) Portuguesa.

43. O aplicativo Instagram que, inicialmente, foi projetado apenas para o compartilhamento de fotos aleatórias, virou um grande aliado da imprensa para a divulgação de notícias. E como forma de centrar as atenções no conteúdo que cada usuário posta, anunciou que vai mudar alguns detalhes que sempre fizeram parte das estratégias de engajamento. Essas mudanças são

- a) omissão de comentários.
- b) bloqueio de curtidas.
- c) fim das curtidas e views (visualizações) para fotos e vídeos, respectivamente.
- d) eliminação de perfis falsos.
- e) permissão de curtidas e views (visualizações) apenas de perfis verificados.

44. Como forma de combater o compartilhamento de notícias falsas, o aplicativo Whatsapp limitou o número de envios de mensagens aos contatos. O encaminhamento foi reduzido tanto para quem usa o sistema Android quanto o iOS, ou seja, cada grupo pode ter até 256 membros. Uma mensagem pode ser encaminhada para 1.280 usuários de uma vez, contra 5.120 seguindo a regra anterior. O número atual de envios é de

- a) 10.
- b) 5.
- c) 8.
- d) 4.
- e) 20.

45. A TV Digital aberta é o que há de mais moderno em termos de qualidade de imagem. Esse novo tipo de sinal que os canais estão oferecendo à população brasileira proporciona exibição de alta definição através de aparelhos televisores mais novos com tal tecnologia já implantada, ou reforço de antenas e conversores especiais. Enquanto a imagem de TV comum tem 640 pixels na direção horizontal e 480 pixels na direção vertical, essa proposta Full HD possui

- a) 3.840 pixels na direção horizontal e 2.160 pixels na vertical.
- b) 5.760 pixels na direção horizontal e 3.240 pixels na vertical.
- c) 4.400 pixels na direção horizontal e 2.200 pixels na vertical.
- d) 3.327 pixels na direção horizontal e 7.889 pixels na vertical.
- e) 1.920 pixels na direção horizontal e 1.080 pixels na vertical.

46. Um minuto pode não parecer muito coisa, mas de acordo com dados compilados por Lori Lewis e Officially Chadd, na Visual Capitalist, na Internet representa cerca de 1 milhão de logins no Facebook, 4,5 milhões de vídeos assistidos no YouTube, 1,4 milhão de perfis jogados para a direita ou para a esquerda no Tinder e um total de 41,6 milhões de mensagens enviadas no WhatsApp e no Facebook Messenger. Em termos de movimentação no Google e no Instagram o volume é cerca de

- a) 3,8 milhões de consultas ao Google, 347.222 posts visualizados no Instagram e quase um milhão de dólares gastos online.
- b) 1,9 milhões de consultas ao Google, 694.222 posts visualizados no Instagram e quase um milhão de dólares gastos online.

- c) 11,4 milhões de consultas ao Google, 763.222 posts visualizados no Instagram e quase um milhão de dólares gastos online.
- d) 5,2 milhões de consultas ao Google, 112.000 posts visualizados no Instagram e quase um milhão de dólares gastos online.
- e) 4,4 milhões de consultas ao Google, 881.110 posts visualizados no Instagram e quase um milhão de dólares gastos online.

47. De acordo com registros históricos, os egípcios foram os responsáveis por desenvolverem o papiro que serviu, durante muito tempo, para suporte da escrita. Na sequência de avanços e substituições de materiais mais estruturados, evoluiu para o pergaminho para, por fim, chegar às técnicas do papel. Essa transição foi realizada, respectivamente, entre os séculos

- a) XV e XVI.
- b) I e II.
- c) IV e XIII.
- d) V e III.
- e) III e X.

48. A revolução digital, que o mundo tem desenvolvido nos últimos anos, tem levado o jornalista a se reinventar diante de cobrança multidisciplinar para dar conta de veículos com diferentes apelos e formas de comunicação cada vez mais ágeis e interativas. Os influenciadores digitais, por sua vez, terminam por confundir o público principalmente através de

- a) matérias publicitárias vendidas aos leitores como conteúdo jornalístico.
- b) jabás e trocas de favores.
- c) looks do dia.
- d) excesso de detalhes em diferentes recursos de mídia.
- e) conteúdo patrocinado.

49. A chegada das novas plataformas de comunicação, principalmente no segmento digital, reformulou a maneira como o Jornalismo é desenvolvido. Podemos destacar que uma das principais mudanças no perfil dos leitores, sobretudo, diante da vida corrida para estar constantemente atualizado é centrar as atenções em

- a) textos mais curtos e manchetes objetivas.
- b) inserções de diversas fontes.
- c) conteúdo apenas com suporte de vídeos e fotos.
- d) material desenvolvido por vários jornalistas.
- e) número de likes e views (visualizações).

50. Com a disseminação das informações nas plataformas digitais 24h por dia, de domingo a domingo, houve uma grande abertura para que a sociedade, como um todo, pudesse mostrar seu lado jornalístico e contribuir com sugestões de pautas sobre diversos assuntos. Essa proposta de enviar/receber informações, fotos, vídeos ou mesmo mostrar a opinião em fóruns e transmissões ao vivo categoriza Jornalismo

- a) Persuasivo.
- b) Colaborativo.
- c) Defensivo.
- d) Social.
- e) Sensacionalista.

51. O hipertexto é um recurso utilizado como uma das formas de atrair a atenção do público em espaços digitais. Diferente do impresso que não permite interatividade, o online permite esse recurso em pautas com informações complementares através de links ao longo da postagem. No entanto, um dos principais cuidados com essa inserção deve ser

- a) prezar apenas por hiperlinks com detalhes relacionados.
- b) poucos links.
- c) explorar ao máximo a inserção de links.

- d) investir em pop-ups (banners publicitários), além dos links.
e) chamar para outras editorias.

52. O Google é uma plataforma que permite diversos tipos de atividades. Ao fazer uma busca, geralmente, são exibidas inúmeras informações, cujas combinações podem envolver resultados orgânicos (gratuitos) e anúncios pagos. No entanto, as três primeiras opções que surgem assim como as sugestões na coluna da lateral direita do buscador são definidas como

- a) palavras chaves.
b) índice de qualidade do anúncio.
c) remarketing.
d) Google Analytics.
e) links patrocinados.

53. Um dos prêmios mais importantes do Jornalismo internacional é o Pulitzer que também contempla honrarias dentro de diversos campos como a literatura e a música. Tal premiação, que foi instituída em 1917 por Joseph Pulitzer, jornalista e editor de grande sucesso, teve origem em qual país?

- a) Alemanha.
b) Estados Unidos.
c) Inglaterra.
d) Lituânia.
e) República Tcheca.

54. Muitos jornalistas têm encontrado, nas redes sociais, uma oportunidade de se manterem no mercado de trabalho. Plataformas como Facebook e Instagram permitem diversas informações para orientarem os usuários, principalmente aqueles com perfis públicos. Neste sentido, qual a diferença entre alcance e impressões, respectivamente?

- a) Número de pessoas que visualizaram o conteúdo e número de vezes em que foi exibido para alguém.
b) Número de curtidas e comentários.
c) Número de cliques no conteúdo e número de comentários.
d) Informações fornecidas mediante pagamento.
e) Número de vezes em que foi exibido para alguém e de pessoas que visualizaram o conteúdo.

55. Apresentador, humorista, escritor, ator, dramaturgo e diretor de teatro, entre outras coisas. José Eugênio Soares, ou apenas Jô Soares, tinha o sonho de ser diplomata. Tal desejo, quando criança, fez o carioca estudar vários idiomas. No programa de entrevistas que comandava, chegou a mostrar a fluência em algumas delas, que além do Português, totalizam

- a) 6.
b) 4.
c) 3.
d) 5.
e) 7.

56. A afirmação “Uma imagem vale mais do que mil palavras” representa uma definição das mais conhecidas sobre fotojornalismo que é a missão de prospectar imagem e sentimento às notícias e ajudar na compreensão de situações de forma mais completa, trabalhando em parceria com as palavras. Entre os principais nomes mundiais nesse segmento, podemos citar

- a) Henri Cartier-Bresson e Sebastião Salgado.
b) JR Duran e Bob Wolfenson.
c) Mario Testino e Walter Firmo.
d) Raul Aragão e Gleyson Ramos.
e) Terry Richardson e Patrick Demarchelier.

57. Por que o colonismo social é chamado de imprensa rosa?

- a) Pelo estilo de vida glamoroso de artistas, celebridades, empresários e pessoas que o chamam atenção.
b) Pela vida retratada ser completamente fora dos padrões comuns.
c) Por não contribuir com o conhecimento empírico.
d) Por causa dos comentários irônicos sobre pessoas públicas.
e) Porque Maneco Müller, que foi o primeiro colonista social brasileiro, referia-se dessa forma.

58. O texto jornalístico deve ter, como base, um direcionamento chamado lide que elenca a organização das informações básicas no primeiro e no segundo parágrafo. Esse conceito, também entendido como pirâmide invertida, compreende seis elementos. Marque (V) para as afirmativas VERDADEIRAS e (F) para as FALSAS.

- () O quê, quem, quando, porque, como e onde.
() Quem, horário, participações, porque, onde e perfil.
() Quantas pessoas, cenário, data, consequências, vítimas e transgressores.
() Necessidades, dinâmica, local, participações, porque e hora.

Marque a opção que apresenta a sequência CORRETA.

- a) V – F – F – F.
b) V – V – V – V.
c) F – F – F – V.
d) V – V – F – F.
e) F – V – F – V.

59. A assessoria de imprensa compreende um conjunto de atividades que são desenvolvidas com a finalidade de estreitar o relacionamento de uma pessoa ou empresa com um ou vários veículos de comunicação, especialmente aqueles de caráter jornalístico. Marque (V) para as afirmativas VERDADEIRAS e (F) para as FALSAS.

- () O plano de divulgação contempla sugestões de notas, pautas, fotos e disparo de releases.
() Eventos de relacionamento como cafés da manhã, almoços, jantares e coletivas de imprensa.
() Interface com influenciadores digitais para apresentação dos detalhes para divulgação do projeto em questão.
() Contatos pessoais e por telefone para motivar os jornalistas à publicação de matérias e afins sobre o cliente em questão.

Marque a opção que apresenta a sequência CORRETA.

- a) V – F – V – V.
b) F – F – F – F.
c) V – V – F – V.
d) V – V – V – F.
e) V – V – V – V.

60. O Supremo Tribunal Federal (STF) decidiu, em 2009, derrubar a exigência do diploma para exercícios da profissão de jornalista. A declaração “A formação específica em cursos de jornalismo não é meio idôneo para evitar eventuais riscos à coletividade ou danos a terceiros” foi dita pelo(a)

- a) Ministra Carmem Lúcia.
b) Ministro Ricardo Lewandowski.
c) Ministro Gilmar Mendes.
d) Magistrado Celso de Mello.
e) Jurista Carlos Ayres Britto.