



Leia o texto abaixo para responder às questões de 1 a 3.

**Quem dorme até tarde não é vagabundo, diz ciência**

Segundo neurologistas, o que essas pessoas têm é distúrbio do sono atrasado

Pessoas com o gene da “vespertilidade” têm predisposição para acordar tarde.

Alvo de críticas de familiares e amigos, quem gosta de ficar na cama até a hora do almoço pode ter um motivo científico para a “vagabundagem”: o distúrbio do sono atrasado. O assunto foi um dos temas abordados no 6º Congresso Brasileiro do Cérebro, Comportamento e Emoções, que aconteceu recentemente em Gramado.

O organismo humano tem um ciclo diário, de modo que os níveis hormonais e a temperatura do corpo se alteram ao longo do dia e da noite. Depois do almoço, por exemplo, o corpo trabalha para fazer a digestão e, conseqüentemente, a temperatura sobe, o que pode causar sonolência.

Quando dormimos, a temperatura do corpo diminui e começamos a produzir hormônios de crescimento. Se dormirmos durante a noite, no escuro, produzimos também um hormônio específico chamado melatonina, responsável por comandar o ciclo do sono e fazer com que sua qualidade seja melhor, que seja mais profundo.

Pessoas vespertinas, que têm o hábito de ir para a cama durante a madrugada e dormir até o meio-dia, por exemplo, só irão começar a produzir seus hormônios por volta das 5 da manhã. Isso fará com que tenham dificuldade de ir para a cama mais cedo no outro dia e, conseqüentemente, de acordar mais cedo. É um hábito que só tende a piorar, porque a pessoa vai procurar fazer suas atividades durante o final da tarde e à noite, quando tem mais energia.

O pesquisador Luciano Ribeiro Jr., da Universidade Federal de São Paulo (Unifesp), especialista em sono, explica que esse distúrbio pode ser genético: “Pessoas com o gene da ‘vespertilidade’ têm predisposição para serem vespertinas. É claro que fator social e educação também podem favorecer”. Mas não se sabe ainda até que ponto o comportamento social pode influenciar o problema.

A questão, na verdade, é que o vespertino não se encaixa na rotina que consideramos normal e acaba prejudicado em muitos aspectos. O problema surge na infância. A criança prefere estudar durante a tarde e não consegue praticar muitas atividades de manhã. Na adolescência, a doença é acentuada, uma vez que os jovens tendem a sair à noite e dormir até tarde com mais frequência.

A característica vira um problema quando persiste na fase adulta. “O vespertino é aquele que já saiu da adolescência. Pessoas acima de 20 anos de idade que não conseguem se acostumar ao ritmo de vida que a maioria está acostumada”, diz Luciano. Segundo ele, cerca de 5% da população sofre de transtorno da fase atrasada do sono em diferentes graus e apenas uma pequena parcela acaba se adaptando à rotina contemporânea.

O pesquisador conta também que, além do preconceito sofrido pelos pais, professores e, mais tarde, pelos colegas de trabalho, o vespertino sofre de problemas psiquiátricos com maior frequência: depressão, bipolaridade, hiperatividade, déficit de atenção são os mais comuns. Além disso, a privação do sono profundo,

quando sonhamos, faz com que a pessoa tenha maior suscetibilidade a vários problemas de saúde: no sistema nervoso, endócrino, renal, cardiovascular, imunológico, digestório, além do comportamento sexual.

O tratamento não envolve apenas remédios indutores do sono, como se fosse uma insônia comum. É necessária uma terapia comportamental complexa, numa tentativa de mudar o hábito, procurando antecipar o horário do sono. Envolve estímulo de luz, atividades físicas durante a manhã e, principalmente, um trabalho de reeducação.

E as pessoas que têm o hábito de acordar às 4 ou 5 horas da manhã? “O lado oposto do vespertino é o que a gente chama de avanço de fase. Só que esse não tem o problema maior no sentido social. Ele está mais adaptado aos ritmos sociais e profissionais. Os meus pacientes deste tipo têm orgulho, já ouvi mais de uma vez eles dizendo ‘Deus ajuda quem cedo madruga’.”, diz o neurologista.

Bruna Bernacchio. Revista Galileu. Adaptado.

1. De acordo com o texto, é correto afirmar que

- (A) todas as pessoas vespertinas têm o hábito de ir para a cama durante a madrugada e dormir até o meio-dia, o que faz com que tenham dificuldade de ir para a cama mais cedo no outro dia.
- (B) por não se encaixar na rotina considerada normal, o vespertino acaba prejudicando outras pessoas.
- (C) ao se privar do sono profundo, o vespertino tem mais chance de apresentar problemas endócrinos, cardiovasculares, renais, entre outros.
- (D) o vespertino necessariamente sofre de problemas psiquiátricos, sendo depressão, bipolaridade, hiperatividade e déficit de atenção os mais comuns.

Leia o trecho abaixo para responder à questão 2.

“Se dormirmos durante a noite, no escuro, produzimos também um hormônio específico chamado melatonina, responsável por comandar o ciclo do sono e fazer com que sua qualidade seja melhor, que seja mais profundo.”

2. O trecho acima pode ser substituído sem prejuízo semântico pelo(s) seguinte(s) trecho(s):

- I. quando dormirmos à noite, no escuro, produzimos também, um hormônio específico chamado melatonina, responsável por comandar o ciclo do sono e fazer com que sua qualidade seja melhor, que seja mais profundo.
- II. se dormirmos enquanto é noite, no escuro, produzimos também um hormônio próprio chamado melatonina, responsável pelo comando do ciclo do sono e fazendo com que este seja mais profundo e de maior qualidade.
- III. ao dormirmos durante a noite, no escuro, produzimos, também, um hormônio específico chamado melatonina, que é responsável por comandar o ciclo do sono e fazer com que este tenha melhor qualidade e seja mais profundo.

É correto o que se apresenta em

- (A) I, apenas.
- (B) I e II, apenas.
- (C) II e III, apenas.
- (D) I, II e III.

3. De acordo com o trecho: “**O lado oposto do vespertino** é o que a gente chama de avanço de fase.”, assinale a alternativa cujo termo destacado equivale sintaticamente a **O lado oposto do vespertino**.
- (A) “**Depois do almoço**, por exemplo, o corpo trabalha para fazer a digestão [...].”
- (B) “**Pessoas vespertinas**, que têm o hábito de ir para a cama durante a madrugada e dormir até o meio-dia, por exemplo, só irão começar a produzir seus hormônios por volta das 5 da manhã.”
- (C) “**Quando dormimos**, a temperatura do corpo diminui e começamos a produzir hormônios de crescimento.”
- (D) “A característica vira **um problema** quando persiste na fase adulta.”
4. De acordo com o contexto, assinale a alternativa correta em relação à ortografia.
- (A) Faltou ao trabalho, pois estava com desinteria.
- (B) Carlos reiterou o fato de não poder ser feita a avaliação esta semana.
- (C) O perfume das flores impreguinou, em pouco tempo, os cômodos da casa.
- (D) Aja o que houver, ninguém sairá daqui antes de finalizar suas tarefas.
5. Assinale a alternativa correta em relação à pontuação.
- (A) A vida não é a que a gente viveu: e sim a que a gente recorda e como recorda para contá-la.
- (B) A vida não é, a que a gente viveu e, sim, a que a gente recorda; e como recorda para contá-la.
- (C) A vida não é a que a gente viveu, e sim a que a gente recorda, e como recorda para contá-la.
- (D) A vida, não é a que a gente viveu e sim a que a gente recorda e, como, recorda para contá-la.

Leia o trecho abaixo para responder à questão 6.

Mesmo que **tivesse pesquisado** sobre o assunto, não seria poupado de refazer o trabalho.

6. Assinale a alternativa em que o termo destacado apresenta o mesmo tempo verbal do termo em destaque no trecho acima.
- (A) Espero que **tenha ido** ao teatro mesmo sem companhia.
- (B) Quando **houver concluído** o mestrado, viajará para a Europa.
- (C) As palestras **tinham recebido** mais participantes do que o esperado.
- (D) Se **houvessem estudado**, teriam conquistado um ótimo resultado.
7. Assinale a alternativa em que a ocorrência da crase está **incorreta**.
- (A) Estava disposto à voltar para seu trabalho, assim que sua saúde melhorasse.
- (B) À esquerda, estão em exposição os novos equipamentos de pesquisa.
- (C) Foram àquela biblioteca em busca de novas informações.
- (D) À proporção que os dias passavam, ficava ainda mais ansioso para rever seus amigos.

8. Leia as orações abaixo e, em seguida, assinale a alternativa que preenche correta e respectivamente as lacunas.
1. Estava com os pés in\_\_ados de tanto andar.
  2. Os primeiros aborí\_\_enes possuíam armamento limitado, muitos feitos de madeira e pedra, que os auxiliavam a conseguir alimento.
  3. Não conseguia mais pensar, estava com en\_\_aqueca.
  4. Não conseguia \_\_ntitular o novo texto.
- (A) x/ j/ ch/ e  
(B) ch/ g/ x/ i  
(C) ch/ j/ x/ i  
(D) x/ g/ x/ e
9. De acordo com a norma-padrão da Língua Portuguesa e em relação às concordâncias verbal e nominal, assinale a alternativa **incorreta**.
- (A) O que nos preocupava eram as atitudes daquele rapaz.  
(B) Os ponteiros do relógio marcavam meio-dia e meia.  
(C) Haja vista os argumentos apresentados, os suspeitos devem ser soltos.  
(D) Deveriam haver muitas pessoas interessadas na vaga.
10. De acordo com a norma-padrão da Língua Portuguesa e em relação à concordância nominal, assinale a alternativa correta.
- (A) É proibido a entrada de pessoas com animais neste recinto.  
(B) Após descer do brinquedo, Maria ficou meia tonta.  
(C) Seguem anexas as duplicatas.  
(D) Ela mesmo resolveu o problema.
11. Sobre o memorando, marque V para verdadeiro ou F para falso e, em seguida, assinale a alternativa que apresenta a sequência correta.
- ( ) É a modalidade de comunicação entre unidades administrativas de um mesmo órgão, que podem estar hierarquicamente em mesmo nível ou em níveis diferentes.  
( ) Trata-se de uma forma de comunicação eminentemente interna.  
( ) Pode ter caráter meramente administrativo, ou ser empregado para a exposição de projetos, ideias, diretrizes etc. a serem adotados por determinado setor do serviço público.
- (A) V/ F/ V  
(B) F/ F/ F  
(C) F/ V/ V  
(D) V/ V/ V

12. Sobre as partes do documento no padrão ofício, analise as assertivas abaixo.

- I. Destinatário: o nome e o cargo da pessoa a quem é dirigida a comunicação. No caso do ofício, deve ser incluído também o endereço.
- II. Deve conter a assinatura do autor da comunicação e identificação do signatário.
- III. Deve conter local e data em que foi assinado, por extenso, com alinhamento à esquerda.

É correto o que se afirma em

- (A) I e II, apenas.
- (B) II e III, apenas.
- (C) I e III, apenas.
- (D) I, II e III.

13. O pronome de tratamento “Vossa Excelência” deve ser utilizado para, entre outras, as seguintes autoridades, **exceto**

- (A) Presidente da República.
- (B) Vice-Presidente da República.
- (C) Ministros de Estado.
- (D) Reitores de universidade.

14. Assinale a alternativa que apresenta **erro** na pontuação.

- (A) José, Maria e João, filhos de Joaquim, viajam todos os dias para estudar.
- (B) Por favor, você sabe onde fica esta rua?
- (C) Muitas das pessoas que chegaram atrasadas, ficaram sem convite.
- (D) Quando seu pai chegar, vou contar a ele o ocorrido.

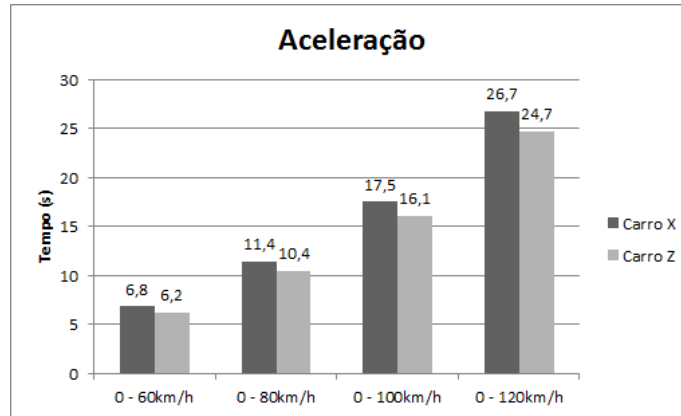
15. Assinale a alternativa correta em relação à ortografia.

- (A) Os trajes mulçumanos são muito bonitos.
- (B) A largatixa correu e sumiu no vão da parede.
- (C) Embreagou-se e depois dormiu.
- (D) Era um exímio corredor.

## MATEMÁTICA/RACIOCÍNIO LÓGICO

Observe as informações abaixo para responder às questões 16 e 17.

As informações abaixo mostram os resultados dos testes realizados com dois modelos de carros 1.0, 16 válvulas.



Consumo	Carro X	Carro Z
Em estrada	13,4km/ℓ	13,9km/ℓ
Autonomia aproximada em estrada	603km	695km

16. Leia o trecho abaixo e, em seguida, assinale a alternativa que preenche correta e respectivamente as lacunas.

“No tanque de combustível do carro Z cabem \_\_\_\_ litros \_\_\_\_\_ do que no tanque do carro X.”

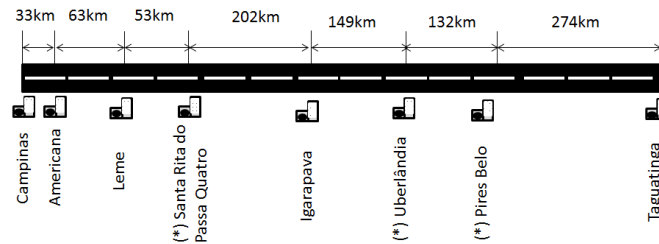
- (A) 5/ a mais
- (B) 10/ a menos
- (C) 5/ a menos
- (D) 10/ a mais

17. Assinale a alternativa que apresenta o carro mais rápido para acelerar de 0 a 100km/h e a diferença em segundos.

- (A) Carro X/ 1,4 segundos.
- (B) Carro Z/ 1,4 segundos.
- (C) Carro X/ 1,6 segundos.
- (D) Carro Z/ 1,6 segundos.

Observe as informações abaixo para responder às questões 18, 19 e 20.

Uma família fez uma viagem de carro de Campinas (SP) a Taguatinga (DF), seguindo o roteiro mostrado na figura.



Em relação à viagem, considere as seguintes circunstâncias.

- |      |  |
|------|--|
| I.   | A família saiu às 5h da manhã de Campinas com o tanque cheio de combustível.   |
| II.  | O carro utilizado possuía um tanque de combustível com capacidade para 48 litros e, em média, o rendimento do carro foi de 15 quilômetros por litro.   |
| III. | As três paradas realizadas para alimentação foram feitas nas cidades indicadas com um (*) e cada uma teve duração de 40 minutos.   |
| IV.  | Eles chegaram à Santa Rita do Passa Quatro às 7 horas. A família gastou 4,5 horas para percorrer a segunda etapa da viagem, 2,5 horas para percorrer a terceira etapa e 3 horas para percorrer a última etapa. |

18. A distância de Campinas a Taguatinga é de, aproximadamente,

- (A) 806km.
- (B) 896km.
- (C) 906km.
- (D) 996km.

19. Sabendo que eles completaram o tanque de combustível em Uberlândia e que o preço do combustível era de R\$2,49, assinale a alternativa que apresenta o valor aproximado que foi pago ao posto.

- (A) R\$75,00.
- (B) R\$79,00.
- (C) R\$80,00.
- (D) R\$83,00.



20. A família chegou em Taguatinga às

- (A) 14 horas.
- (B) 17 horas.
- (C) 19 horas.
- (D) 22 horas.

21. Se um caminhão cuja carga máxima é de 6,5 toneladas transportasse 37 caixas de 189kg cada uma, então a carga excedente seria igual a

- (A) 493kg.
- (B) 491kg.
- (C) 483kg.
- (D) 481kg.

Leia o texto e observe a tabela abaixo para responder às questões 22 e 23.

Numa loja de eletrodomésticos, cada vendedor recebe R\$225,00 por semana e mais uma comissão de R\$32,00 por refrigerador que vender. A tabela abaixo mostra quantos refrigeradores dois vendedores desta loja venderam durante o mês de junho de 2012.

<b>Junho/2012</b>	<b>Vendedor 1</b>	<b>Vendedor 2</b>
1ª semana	4	6
2ª semana	3	2
3ª semana	8	7
4ª semana	5	8

22. Sobre a comissão do mês de junho, é correto afirmar que

- (A) o vendedor 2 recebeu R\$64,00 a mais do que o vendedor 1.
- (B) o vendedor 1 recebeu R\$96,00 a menos do que o vendedor 2.
- (C) se o vendedor 1 tivesse vendido mais 4 refrigeradores, teria recebido a mesma comissão do vendedor 2.
- (D) o vendedor 2 recebeu R\$900,00 de comissão.

23. Do salário mensal é descontado um total de R\$123,42. Logo, o vendedor 1 e o vendedor 2 receberam, respectivamente, no mês de junho,

- (A) R\$1.416,58 e R\$1.512,58.
- (B) R\$1.317,58 e R\$1.413,58.
- (C) R\$1.316,58 e R\$1.412,58.
- (D) R\$1.417,58 e R\$1.513,58.

24. Fátima bebe 3 copos de água a cada 45 minutos a partir do momento que acorda. Ela acorda todos os dias às 7h e vai dormir às 22h. Sabendo que cada copo de água tem  $75\text{m}\ell$ , em 15 dias, ela terá bebido
- (A) 14,500 litros.
  - (B) 23,625 litros.
  - (C) 67,500 litros.
  - (D) 70,875 litros.
25. Certa empresa daria um aumento de 4% a seus funcionários, mas devido à intervenção do sindicato, os funcionários conseguiram mais 140% de aumento sobre o percentual original de 4%. Portanto, o percentual de reajuste conseguido foi de
- (A) 5,4%.
  - (B) 6,2%.
  - (C) 9,6%.
  - (D) 12,8%.
26. Ao ser questionado sobre o número de primos e primas, Lucas disse: “Dos 16 primos que possuo, apenas 6,25% são homens”. Logo, o número de mulheres é
- (A) 12.
  - (B) 13.
  - (C) 14.
  - (D) 15.
27. No esquema abaixo, observe que há certa relação entre as duas primeiras palavras.

RAPOSA – TIGRE :: LOBO – ?

A mesma relação deve existir entre a terceira palavra e a quarta palavra que está faltando. Logo, a quarta palavra é

- (A) CAVALO.
  - (B) ONÇA.
  - (C) SERPENTE.
  - (D) ARARA.
28. Sandra estuda tanto quanto Vera e menos do que Maria. Aline estuda tanto quanto Maria. Logo,
- (A) Aline estuda menos do que Vera.
  - (B) Maria estuda menos do que Sandra.
  - (C) Maria estuda menos do que Vera.
  - (D) Aline estuda mais do que Sandra.

29. Foram entrevistadas 100 pessoas acerca de seus hábitos alimentares. O resultado da pesquisa revelou que 43 pessoas consomem massas e carne vermelha. 77 consomem massa e 66 consomem carne vermelha. Uma pessoa que respondeu a essa pesquisa foi sorteada ao acaso. Sendo assim, a probabilidade de ela consumir exclusivamente carne vermelha é de

- (A) 23%.
- (B) 34%.
- (C) 38%.
- (D) 61%.

30. Considere a sequência de retângulos com os respectivos números e letras (alfabeto de 23 letras) que obedecem a uma lei de formação.

Z	U	Q	L	...
236	229	220	209	

Assinale a alternativa que apresenta o próximo retângulo.

- (A) 

E
195
- (B) 

D
196
- (C) 

E
196
- (D) 

D
197

## INFORMÁTICA

31. Geraldo criou uma planilha no Microsoft Excel 2007 com os seguintes dados:

	A	B
1	3	
2	6	
3	2	
4	9	
5	1	
6		
7		

Agora, ele precisa criar uma fórmula, na célula A6, que faça a seguinte operação: calcule a soma dos valores digitados nas células acima (A1 até A5) e desconte, dessa soma, o maior valor entre aqueles que foram utilizados na soma. Desse modo, assinale a alternativa que apresenta a fórmula que deveria ser utilizada, lembrando que, no futuro, Geraldo pode alterar os valores contidos nas células e a fórmula deve continuar funcionando.

- (A) = SOMA(A1:A5) – MÁXIMO(A1:A5)  
(B) = SOMA(A1:A5 – MÁXIMO(A1:A5))  
(C) = MÁXIMO(A1:A5) – SOMA(A1:A5)  
(D) = SOMA (A1:A5) – (MÁXIMO(A1) + MÁXIMO(A2) + MÁXIMO(A3) + MÁXIMO(A4) + MÁXIMO(A5))
32. Marília vai elaborar uma carta utilizando o Microsoft Word 2007, e gostaria que os parágrafos tivessem a aparência do exemplo abaixo, com um espaço de 1cm no início do texto do parágrafo.

Venho por meio desta apresentar meu pedido formal de desculpas pelo ocorrido na semana passada. Gostaria de esclarecer que não houve intenção de causar quaisquer danos à propriedade. Foi apenas uma fatalidade.

Assinale a alternativa que apresenta como Marília poderia aplicar esse formato aos parágrafos de sua carta.


- (A) Deve-se aplicar, no parágrafo, um valor de 1cm para o recuo, *Esquerda*.  
(B) Deve-se inserir um caractere especial de *Espaço de parágrafo*.  
(C) Deve-se aplicar, no parágrafo, um recuo do tipo *Primeira Linha* de 1cm.  
(D) Deve-se aplicar, no parágrafo, o efeito de *Capitulação*.

33. Maurício está navegando pela Internet e encontra um site muito interessante. Nesse site, ele encontra *links* com diversas outras páginas, que também são do seu interesse. Assinale a alternativa que apresenta como Maurício poderia acessar alguns desses *links*, sem deixar de lado esse primeiro site encontrado, levando em consideração que o navegador Microsoft Internet Explorer 9 está sendo usado.
- (A) Escolhendo a opção *Múltiplas páginas* no menu *Opções* do navegador.
  - (B) Clicando com o botão direito do mouse sobre a página aberta e escolhendo a opção *Exibir Lado a Lado* no menu que surgir.
  - (C) Abrindo essas páginas como novas guias no navegador.
  - (D) Não é possível fazer isso, pois somente é possível acessar uma página de cada vez, já que, para abrir outra página, é preciso fechar a página anteriormente acessada.
34. Joaquim está começando a criar uma apresentação utilizando o Microsoft PowerPoint 2007. Ele começou com um slide vazio, em branco, e inseriu um retângulo com um texto no slide. Agora, Joaquim gostaria de centralizar automaticamente, tanto na horizontal quanto na vertical, esse retângulo no slide com um único comando. Assinale a alternativa que apresenta como isso pode ser feito.
- (A) Clicar no retângulo e escolher a opção *Centralizar* na guia *Formatar*.
  - (B) Clicar com o botão direito do mouse sobre o retângulo e escolher a opção *Centralizar no Slide* no menu que surgir.
  - (C) Clicar no retângulo e escolher a opção *Centralizar Imagem* na guia *Exibição*.
  - (D) Não existe opção para centralizar automaticamente uma imagem no slide nos dois sentidos.
35. Em relação aos navegadores de Internet, analise as assertivas abaixo.
- I. A maioria dos navegadores atuais permite bloquear *pop-ups*, que são janelas extras que aparecem sobre a janela do navegador.
  - II. *Cookies* são pequenos arquivos criados nos computadores quando estes acessam determinados sites da web. Esses arquivos armazenam dados sobre os hábitos dos usuários do site e podem ser lidos pelo site em acessos posteriores do navegador.
  - III. Os navegadores permitem que o usuário confira se o *link* que aparece na página web vai direcioná-lo realmente para o endereço indicado. Para isso, eles apresentam o endereço do *link* quando o mouse é passado sobre ele.
- É correto o que se afirma em
- (A) I, apenas.
  - (B) II e III, apenas.
  - (C) I e III, apenas.
  - (D) I, II e III.



36. Olívia acabou de comprar um computador com o sistema operacional Microsoft Windows 7 instalado. Ela deseja saber quais são os programas que já estão instalados no seu computador. Assinale a alternativa que apresenta como Olívia pode obter esta informação.
- (A) Clicando em *Iniciar* e observando todos os programas instalados no computador.
  - (B) Clicando em *Iniciar*, escolhendo a opção *Todos os programas* e observando os programas instalados no computador.
  - (C) Clicando em *Iniciar*, escolhendo a opção *Programas instalados* e observando os programas instalados no computador.
  - (D) Clicando em *Iniciar*, digitando, no campo *Pesquisar programas e arquivos*, o termo “todos os arquivos” e observando a lista de programas apresentados pela pesquisa.

37. Flávio precisa classificar os dados em uma planilha do Microsoft Excel 2007. Os dados a serem classificados são os seguintes:

	A	B	
1	3		
2	7		
3	2		
4	H		
5	C		
6			

Flávio selecionou todas as células contendo os dados, de A1 até A5, e clicou no botão *Classificar de A a Z* na guia “*Dados*” (  ). Após essa operação realizada por Flávio, assinale a alternativa que apresenta o resultado final dos conteúdos das células.

- (A) A1 = 2/ A2 = 3/ A3 = 7/ A4 = C/ A5 = H
  - (B) A1 = H/ A2 = C/ A3 = 7/ A4 = 3/ A5 = 2
  - (C) A1 = C/ A2 = H/ A3 = 2/ A4 = 3/ A5 = 7
  - (D) A1 = 7/ A2 = 3/ A3 = 2/ A4 = H/ A5 = C
38. Rodolfo recebeu uma mensagem de correio eletrônico e precisa encaminhá-la para seu diretor. Entretanto, ele não gostaria que o conteúdo da mensagem recebida fosse apresentado, diretamente, junto com o texto da mensagem de encaminhamento. Assinale a alternativa que apresenta como Rodolfo pode fazer isso.
- (A) Copiando todo o conteúdo da mensagem recebida e colando na mensagem que vai ser encaminhada.
  - (B) Utilizando a opção de encaminhar a mensagem como anexo.
  - (C) Colocando o endereço do novo destinatário como sendo oculto.
  - (D) Encaminhando normalmente a mensagem para o novo destinatário, uma vez que o texto da mensagem encaminhada nunca é exibido diretamente.

39. Ênio inseriu uma foto em um slide de uma apresentação do Microsoft PowerPoint 2007, entretanto, essa foto apresenta a imagem de dois prédios e ele gostaria de apresentar somente o prédio que se encontra à esquerda da foto. Para isso, Ênio deverá
- (A) clicar sobre a imagem com o botão direito do mouse e escolher a opção *Dividir Imagem*. Então, excluir a imagem da direita.
  - (B) selecionar a imagem e utilizar a opção *Escolher metade esquerda* do grupo *Tamanho* da guia *Formatar*.
  - (C) selecionar a imagem e clicar, arrastando com o mouse a alça de redimensionamento, da direita para a esquerda.
  - (D) selecionar a imagem e, em seguida, a opção *Cortar* do grupo *Tamanho* da guia *Formatar*. Depois disso, clicar, arrastando com o mouse a alça de redimensionamento da direita para a esquerda, ocultando a parte que não interessa da imagem.
40. O Microsoft Word 2007 está indicando que existe excesso de espaços entre duas palavras, por meio de uma linha ondulada verde sob o espaço. Contudo, o usuário deseja colocar exatamente dois espaços entre elas. Desta forma, é possível saber a quantidade exata de espaços que existe entre essas duas palavras
- (A) clicando no botão *Mostrar Tudo* () e contando os asteriscos que representam os espaços entre as palavras.
  - (B) clicando no botão *Mostrar Tudo* () e contando os pontos que representam os espaços entre as palavras.
  - (C) selecionando a opção *Contar Palavras* da guia *Revisão* e observar, na janela resultante dessa operação, os dados sobre os espaços entre palavras.
  - (D) clicando com o botão direito do mouse sobre a indicação de excesso de espaços (linha ondulada verde) e escolhendo a opção *Quantidade de espaços* no menu resultante.

## CONHECIMENTOS GERAIS

41. De acordo com Noções de Direito Penal – Dos crimes contra a Administração Pública, artigo 321, patrocinar, direta ou indiretamente, o interesse privativo perante a administração pública, valendo-se da qualidade de funcionário, terá como penalidade
- (A) detenção, de 1 (um) a 4 (quatro) anos.
  - (B) reclusão, de 2 (dois) a 3 (três) meses.
  - (C) reclusão, de 1 (um) a 3 (três) meses, e multa.
  - (D) detenção, de 1 (um) a 3 (três) meses, ou multa.
42. Segundo a Lei Orgânica do Município de Campinas, artigo 131, assinale a alternativa correta.
- (A) Os cargos em comissão e as funções de confiança serão exercidos, preferencialmente, por servidores ocupantes de cargo de carreira técnica ou profissional, nos casos e condições previstos na lei.
  - (B) Servidores, mesmo sob a pena de demissão, poderão ser diretores ou integrar conselho de empresa fornecedora, ou que realize qualquer modalidade de contrato com o Município.
  - (C) A lei reservará percentual de cargos para as pessoas portadoras de deficiência, mas não poderá definir os critérios de sua admissão.
  - (D) Os cargos e funções públicas são acessíveis a todos os brasileiros, independentemente dos requisitos estabelecidos em lei.

43. Sobre a Constituição Federal de 1988, em relação aos Direitos e Garantias Fundamentais, marque V para verdadeiro ou F para falso e, em seguida, assinale a alternativa que apresenta a sequência correta.
- ( ) É assegurado o direito de resposta, proporcional ao agravo, além da indenização por dano material, moral ou à imagem.
  - ( ) É livre a expressão da atividade intelectual, artística, científica e de comunicação, independentemente de censura ou licença.
  - ( ) A lei excluirá da apreciação do Poder Judiciário lesão ou ameaça a direito.
  - ( ) São assegurados, nos termos da lei, o direito de fiscalização do aproveitamento econômico das obras que criarem ou de que participarem aos criadores e aos intérpretes, exceto às respectivas representações sindicais e associativas.
- (A) V/ V/ F/ V  
(B) F/ F/ V/ F  
(C) V/ V/ F/ F  
(D) F/ V/ F/ V
44. Sobre o que dispõe a Constituição Federal de 1988, é vedado à União, aos Estados, ao Distrito Federal e aos Municípios
- I. estabelecer cultos religiosos ou igrejas, subvencioná-los, embaraçar-lhes o funcionamento ou manter com eles ou seus representantes relações de dependência ou aliança, ressalvada, na forma da lei, a colaboração de interesse público.
  - II. recusar fé aos documentos públicos.
  - III. criar distinções entre brasileiros ou preferências entre si.
- É correto o que está contido em
- (A) I, II e III.
  - (B) II e III, apenas.
  - (C) III, apenas.
  - (D) I e II, apenas.
45. Em dezembro de 2011, a Agência Nacional de Saúde Suplementar (ANS) elaborou uma nova resolução a fim de ser aplicada nas empresas de planos de saúde. Sobre esta resolução, assinale a alternativa correta.
- (A) As empresas de saúde terão de agendar consultas médicas de especialistas, como cardiologista, em até 14 dias úteis.
  - (B) Para consultas básicas (pediatria, clínica médica, cirurgia geral, ginecologia e obstetrícia), o prazo para agendamento é de 10 dias corridos.
  - (C) Mesmo em casos de urgência e emergência, a consulta será agendada em até 7 dias úteis.
  - (D) As empresas de saúde terão de trocar seus equipamentos obsoletos por outros modernos no prazo de 3 meses.



46. Durante a Rio+20, foram discutidos variados assuntos, nos quais a sustentabilidade foi o foco principal. Sobre os problemas ambientais apontados na Eco92 e as questões discutidas na Rio+20, analise as assertivas abaixo.

- I. Segundo dados do Instituto Nacional de Pesquisas Espaciais (Inpe), a taxa anual de desmatamento na Amazônia Legal em 1992 foi mais que o dobro da registrada em 2011.
- II. A Eco92 estimulou o aumento do número de organizações sem fins lucrativos voltadas para o meio ambiente e proteção dos animais no Brasil, tendo o IBGE registrado que, entre 1991 e 2005, 2.215 entidades desse tipo surgiram no País.
- III. Durante a Eco92, assuntos como chuvas ácidas, o aumento do buraco na camada de ozônio e a extinção de espécies nativas terrestres constituíam as grandes e principais preocupações, as quais se mantiveram até os dias atuais e ainda são as mais discutidas durante as conferências sobre sustentabilidade.

É correto o que se afirma em

- (A) I, II e III.
- (B) II e III, apenas.
- (C) III, apenas.
- (D) I e II, apenas.

47. Os servidores públicos devem agir conforme um conjunto de regras de conduta tiradas da disciplina interior na Administração. Pela natureza de sua função, pressupõe-se que o agente administrativo, como ser humano dotado da capacidade de atuar, deve, necessariamente, distinguir o Bem do Mal, o honesto do desonesto, baseando suas decisões nesse discernimento. Desta forma, assinale a alternativa que apresenta o princípio administrativo que traduz o dever do servidor de agir com probidade, respeitando a ética inerente à sua posição.

- (A) Legalidade.
- (B) Impessoalidade.
- (C) Moralidade.
- (D) Eficiência.

48. A respeito da ética na publicidade dos atos administrativos, leia o trecho abaixo e, em seguida, assinale a alternativa que preenche correta e respectivamente as lacunas.

A publicidade dos atos, programas, obras, serviços e campanhas dos órgãos públicos deverá ter caráter \_\_\_\_\_, informativo ou de \_\_\_\_\_ social, dela não podendo constar \_\_\_\_\_, símbolos ou imagens que caracterizem \_\_\_\_\_ de autoridades ou servidores públicos.

- (A) cogente/ disciplina/ privação/ abstenção de ato
- (B) educativo/ disciplina/ nomes/ promoção pessoal
- (C) cogente/ orientação/ privação/ abstenção de ato
- (D) educativo/ orientação/ nomes/ promoção pessoal

49. A respeito do Processo Administrativo Disciplinar, assinale a alternativa correta.

- (A) A autoridade que tiver ciência de irregularidade no serviço público pode promover a sua apuração a qualquer tempo, mediante sindicância ou processo administrativo disciplinar, assegurada ao acusado ampla defesa.
- (B) As denúncias sobre irregularidades serão objeto de apuração, desde que contenham a identificação e o endereço do denunciante e sejam formuladas por escrito, confirmada a autenticidade.
- (C) Da sindicância poderá resultar arquivamento do processo, ou aplicação de penalidade de advertência, ou suspensão de até 2 (dois) anos, e terá prazo de no máximo 5 (cinco) dias sem prorrogação.
- (D) Sempre que o ilícito praticado pelo servidor público ensejar a imposição de penalidade de advertência simples será obrigatória a instauração de processo disciplinar.

50. O funcionário público que se apropriar de dinheiro, valor ou qualquer outro bem móvel, público ou particular, de que tem a posse em razão do cargo, ou desviá-lo, em proveito próprio ou alheio, sofrerá, na forma da lei, punição de

- (A) restrição do direito de frequentar repartições públicas.
- (B) prisão administrativa.
- (C) reclusão, podendo chegar a doze anos, mais multa.
- (D) censura escrita.