



Nível Médio

Fiscal de Tributos

Leia estas instruções:

- 1 Confira se os dados contidos na parte inferior desta capa estão corretos e, em seguida, assine no espaço reservado para isso. Caso se identifique em qualquer outro local deste Caderno, você será eliminado do Concurso.
- 2 Este Caderno contém, respectivamente, **uma** proposta de Redação, e **trinta** questões de múltipla escolha assim distribuídas: 01 a 20 → Conhecimentos Específicos, 21 a 30 → Informática Básica.
- 3 Se o Caderno contiver alguma imperfeição gráfica que impeça a leitura, comunique isso imediatamente ao Fiscal.
- 4 Na Redação, você será avaliado **exclusivamente** por aquilo que escrever dentro do espaço destinado ao texto definitivo.
- 5 Escreva de modo legível. Dúvida gerada por grafia ou rasura implicará redução de pontos.
- 6 Cada questão de múltipla escolha apresenta apenas uma resposta correta.
- 7 Os rascunhos e as marcações feitas neste Caderno não serão considerados para efeito de avaliação.
- 8 Interpretar as questões faz parte da avaliação; portanto, não adianta pedir esclarecimentos aos Fiscais.
- 9 Utilize qualquer espaço em branco deste Caderno para rascunhos e não destaque nenhuma folha.
- 10 Você dispõe de, no máximo, três horas e meia para elaborar, em caráter definitivo, a Redação, responder às questões de múltipla escolha e preencher a Folha de Respostas.
- 11 O preenchimento da Folha de Respostas é de sua inteira responsabilidade.
- 12 Antes de retirar-se definitivamente da sala, devolva ao Fiscal a Folha de Respostas e este Caderno.

Assinatura do Candidato: _____

Prova de Redação

- Elabore um artigo de opinião no qual você se posicione, fundamentado em argumentos, em relação à seguinte afirmação:

Saúde é direito de todos e dever do Estado.

OBSERVAÇÕES:

- O texto deverá ser redigido em prosa, no registro padrão da língua portuguesa escrita, de forma coesa e coerente.
- Ao texto com **menos de 15 (quinze) linhas**, será atribuído **zero**.
- **NÃO assine** a Redação.

ESPAÇO DESTINADO À REDAÇÃO DEFINITIVA

1

2

3

4

5

6

7

8

9

10

11

12

13

14

15

16

17

18

19

20

21

22

23

24

25

26

27

28

29

30

31

32

33

34

35

NÃO assine a Redação.

Conhecimentos Específicos ⇨ 01 a 20

As questões de 01 a 05 devem ser respondidas com base no Código Tributário do Município de Pau dos Ferros.

01. É de competência municipal o imposto sobre a
- A) propriedade rural.
 - B) propriedade predial e territorial urbana.
 - C) circulação de mercadorias.
 - D) industrialização de produtos.
02. O imposto sobre transmissão intervivos de bens imóveis, por ato oneroso, tem como fato gerador a
- A) transferência de títulos de posse de semoventes.
 - B) transmissão de dívidas ativas sobre imóveis, exceto as vencidas.
 - C) transferência de domicílio fiscal do contribuinte.
 - D) transmissão de direitos reais sobre imóveis, exceto os de garantia.
03. No caso da construção civil, para efeito de incidência do ISS,
- A) opta-se pelo domicílio fiscal do contratante do serviço.
 - B) considera-se o domicílio fiscal do prestador do serviço.
 - C) opta-se pelo endereço fixo da matriz do prestador do serviço.
 - D) considera-se o local onde se efetua a prestação do serviço.
04. As alíquotas para cálculo do Imposto Sobre Serviços de Qualquer Natureza são
- A) 5% e 7%.
 - B) 3% e 5%.
 - C) 5% e 6%.
 - D) 3% e 6%.
05. São devidas ao município as taxas de
- A) iluminação pública, licença e serviços diversos.
 - B) licença, limpeza pública e serviços diversos.
 - C) licença, limpeza pública e iluminação pública.
 - D) iluminação pública, serviços diversos e limpeza pública.

O Balancete de Verificação da Comercial Santos Ltda. apresentava os saldos das contas abaixo em 30 de setembro de 2007. A partir dessas informações, responda às questões 06 a 10.

Capital	35.000,00
Caixa	500,00
Mercadorias	6.500,00
Contas a receber	10.000,00
Lucros	5.000,00
Móveis e utensílios	3.000,00
Capital a integralizar	4.000,00
Imóveis	11.300,00
Fornecedores	2.300,00
Banco	16.000,00
Contas a pagar	3.000,00
Depreciação acumulada	4.000,00
Impostos a recolher	2.000,00

06. O valor total do capital próprio é:

- A) R\$ 36.000,00.
- B) R\$ 39.000,00.
- C) R\$ 31.000,00.
- D) R\$ 35.000,00.

07. É correto afirmar que o capital circulante líquido

- A) é positivo.
- B) é negativo.
- C) corresponde a R\$ 500,00.
- D) corresponde a R\$ 15.000,00.

08. O capital de terceiros vale

- A) R\$ 5.000,00.
- B) R\$ 3.000,00.
- C) R\$ 7.300,00.
- D) R\$ 2.300,00.

09. A soma das aplicações de recursos é de

- A) R\$ 35.500,00.
- B) R\$ 46.000,00.
- C) R\$ 35.000,00.
- D) R\$ 43.300,00.

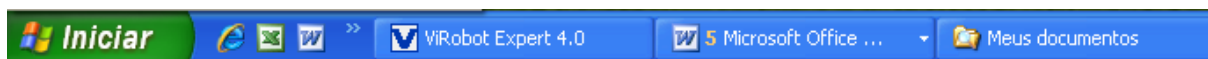
10. A soma dos valores absolutos dos saldos de todas as contas retificadoras atinge

- A) R\$ 4.000,00.
- B) R\$ 8.000,00.
- C) R\$ 10.000,00.
- D) R\$ 2.000,00.

11. O Princípio Fundamental da Contabilidade que determina que as receitas e despesas de um período devem ser contabilizadas quando da ocorrência de seus fatos geradores, independentemente de recebimentos ou pagamentos, denomina-se princípio da
- A) prudência.
 - B) competência.
 - C) materialidade.
 - D) uniformidade.
12. A depreciação de um veículo é registrada numa conta retificadora desse ativo, tendo sua contrapartida lançada como
- A) prejuízo operacional.
 - B) reserva de capital.
 - C) despesa do período.
 - D) provisão para perdas.
13. Na análise de demonstrações financeiras, quando o índice de liquidez corrente é maior que 1, é correto afirmar que o
- A) patrimônio líquido é maior que o ativo.
 - B) ativo circulante é menor que o passivo circulante.
 - C) valor dos impostos a recuperar é negativo.
 - D) capital circulante líquido é positivo.
14. As naturezas das contas retificadoras do ativo e do passivo são, **respectivamente**,
- A) credora e devedora.
 - B) devedora e credora.
 - C) credora e credora.
 - D) devedora e devedora.
15. No balanço patrimonial, as contas do ativo são apresentadas
- A) em ordem crescente de valores.
 - B) por grupos de contas credoras.
 - C) em ordem decrescente de liquidez.
 - D) por espécie de dívidas contraídas.
16. O valor investido em regime de capitalização simples, a uma taxa de 2,5% ao mês, que irá gerar um rendimento de R\$ 200,00 após um bimestre, é
- A) R\$ 5.000,00.
 - B) R\$ 2.000,00.
 - C) R\$ 2.500,00.
 - D) R\$ 4.000,00.

17. O plano de contas de uma entidade é o
- A) elenco de contas com funções previamente determinadas, destinado a conduzir o registro sintético e analítico dos fatos contábeis ocorridos no patrimônio da entidade.
 - B) instrumento cuja composição é imutável, uma vez que foi previamente estabelecido para abranger todas as operações da entidade, desde sua fundação.
 - C) espelho da estrutura patrimonial e financeira das contas que compõem o investimento inicial dos proprietários e, por essa razão, é fundamental para a consolidação dos dados gerados.
 - D) plano de investimentos necessários para a criação de um novo empreendimento, prevendo todas as contas que necessitam ser pagas até a abertura do negócio.
18. O sistema de amortização que apresenta prestações constantes ao longo de todo o período do financiamento é conhecido como
- A) Sistema de Amortização Constante.
 - B) Sistema Price.
 - C) Sistema de Períodos Perenes.
 - D) Sistema Alemão.
19. O pagamento do IPTU correspondente ao período de um ano, em uma única parcela, de acordo com o regime de competência, deve ser contabilizado no ato como
- A) uma despesa operacional.
 - B) um ativo circulante.
 - C) uma despesa não-operacional.
 - D) um passivo circulante.
20. Um investimento de R\$ 4.000,00, a uma taxa de 3% ao mês, renderá, ao final de um trimestre, em regime de capitalização composta,
- A) R\$ 400,80.
 - B) R\$ 360,50.
 - C) R\$ 370,90.
 - D) R\$ 410,30.

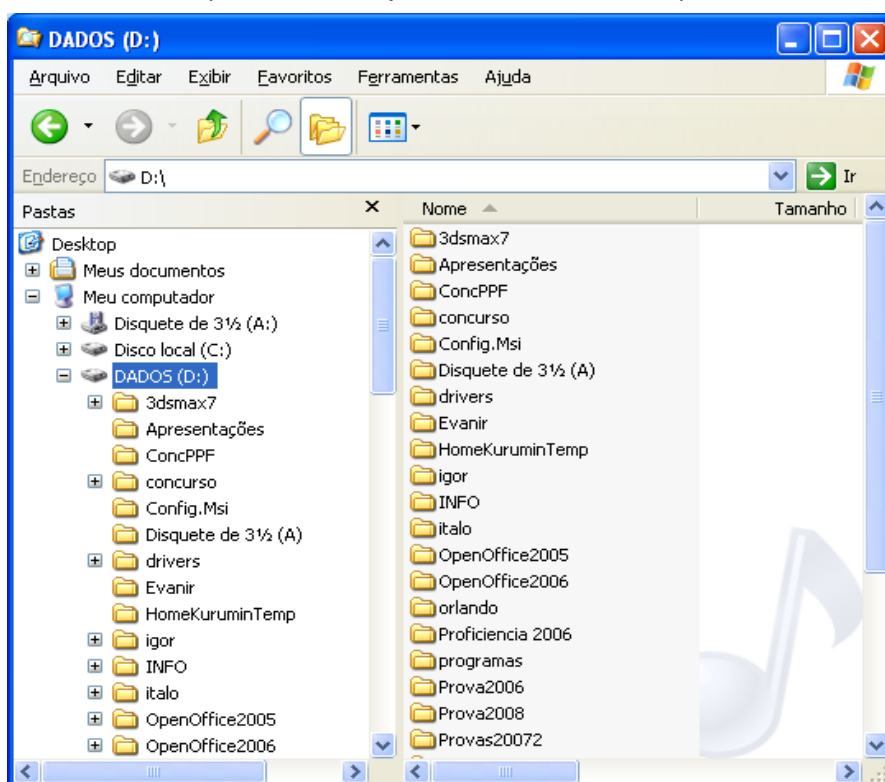
21. A figura abaixo mostra parte da barra de tarefas do MS Windows XP.



Considerando-se a figura e informações sobre o MS Windows XP, é correto afirmar:

- A) O programa “Meus documentos” foi executado.
- B) A janela principal do MS Excel se encontra aberta.
- C) O *menu* iniciar se encontra aberto.
- D) Existem 5 arquivos abertos com o MS Word.

22. A figura abaixo mostra parte de uma janela do Windows Explorer.



Com base na figura e em informações sobre o MS Windows XP, analise as afirmativas:

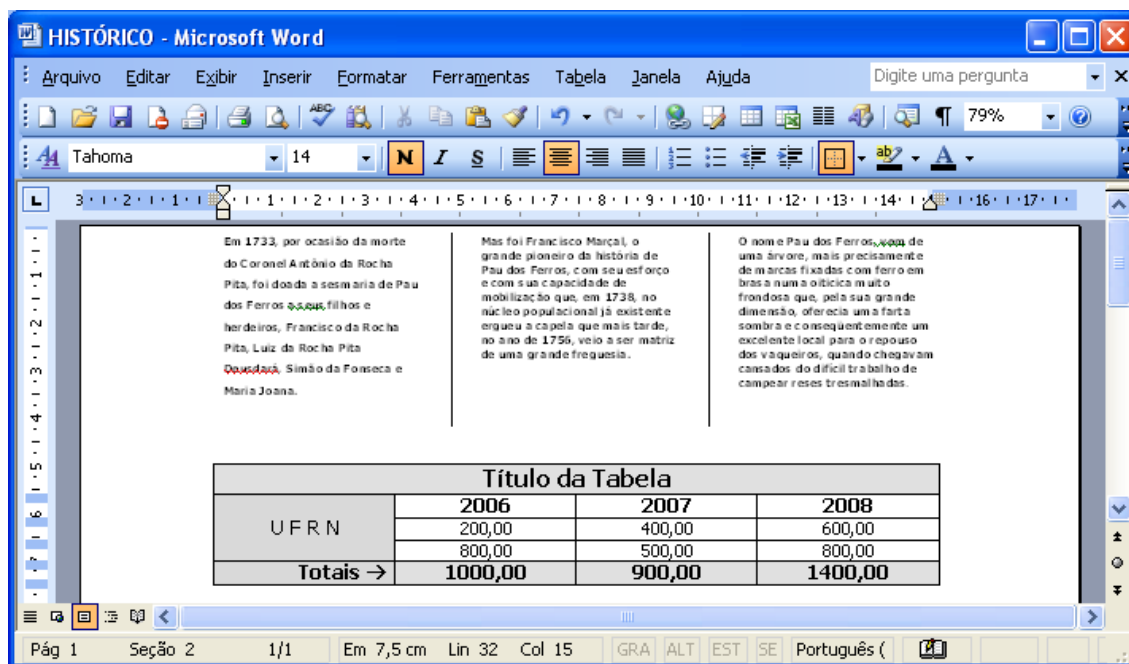
I	O modo de exibição de arquivos e pastas usado é Detalhes.
II	O disco DADOS (D) possui apenas pastas.
III	A pasta “Meus documentos” possui subpastas.
IV	A janela do Windows Explorer está maximizada.
V	A opção “Pastas”, na barra de ferramenta do Explorer está ativa.

A opção em que todas as afirmativas são corretas é:

- A) I, III e V
- B) I, II e IV
- C) II, III e V
- D) I, II, e V

23. Para que as informações digitadas em um aplicativo possam ser recuperadas posteriormente e manipuladas novamente, devem ser guardadas, num meio de armazenamento permanente:
- A) na área de transferência.
 - B) na Barra de Tarefas.
 - C) no Menu Iniciar.
 - D) em um arquivo.

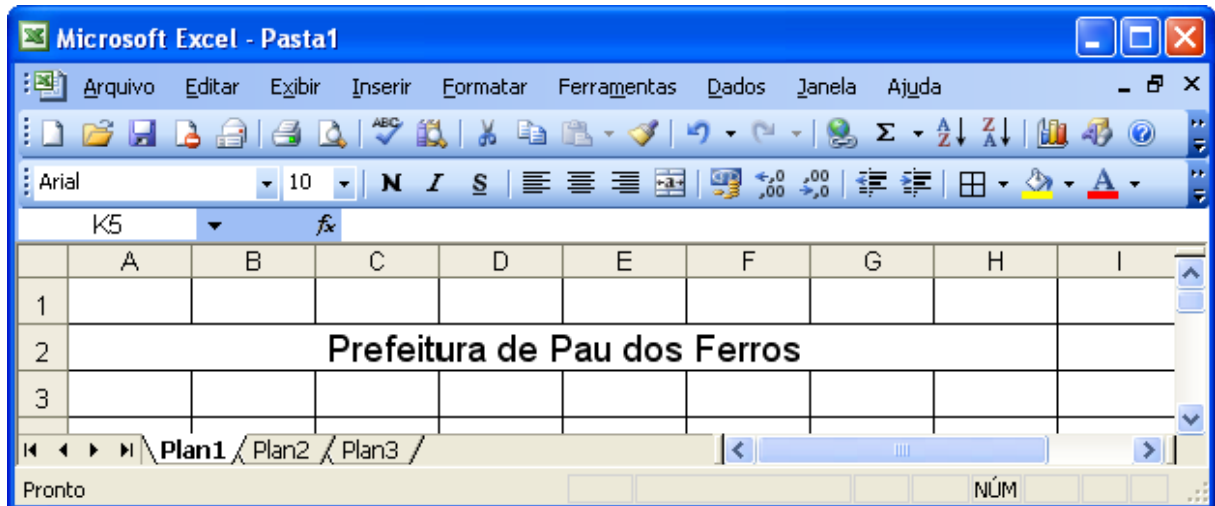
24. Observe a figura abaixo:



De acordo com a figura e com informações sobre o MS Word 2003, pode-se afirmar:

- A) O cursor (ponto de inserção) se encontra no texto, na coluna do meio.
 - B) O cursor (ponto de inserção) se encontra na linha Título da Tabela.
 - C) Para se somarem os valores na linha Totais, é necessário usar-se o MS Excel.
 - D) O parágrafo onde se encontra o cursor está alinhado à esquerda.
25. Área de transferência é um espaço de memória RAM gerenciado pelo MS Windows. A área de transferência do MS Word 2003 pode armazenar
- A) 24 objetos diferentes ao mesmo tempo.
 - B) apenas um objeto de cada vez.
 - C) 14 objetos diferentes ao mesmo tempo.
 - D) um número qualquer de objetos ao mesmo tempo.

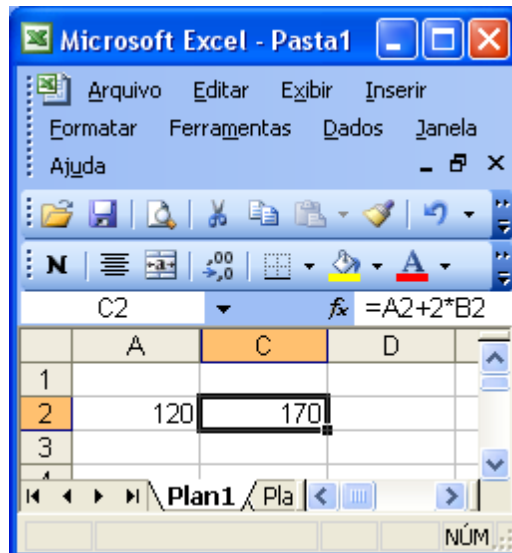
26. Observe, abaixo, a linha 2 da figura do MS Excel 2003.



No MS Excel 2003, a tarefa de unir duas ou mais células em uma só é chamada de

- A) alinhar células.
- B) unir células.
- C) mesclar células.
- D) somar células.

27. A figura abaixo mostra trecho de uma planilha do MS Excel 2003 que contém, na célula C2, a fórmula $=A2+2*B2$, na qual, o conteúdo de B2 não está sendo mostrado.



Com base na figura e em informações sobre o MS Excel 2003, é correto afirmar:

- A) É impossível saber o conteúdo de B2.
- B) O valor na célula B2 é 50.
- C) O valor na célula B2 é 0.
- D) O valor na célula B2 é 25.

28. A tabela a seguir representa os dados de uma planilha do MS Excel 2003 com informações sobre os jogadores de um campeonato fictício:

	A	B	C	D
1				
2	Jogador	Idade	Altura	Situação
3	Nadir	20	1,5	
4	Ana	18	1,7	
5	Mara	16	1,5	
6	Pedro	19	1,8	
7	Fabio	17	1,6	
8				

Sabendo-se que, na célula D3, foi digitada a fórmula: **=SE(B3>=16; SE(C3>=1,6;"Compete";"Não Compete"); "Não Compete")**, a qual, em seguida, foi copiada para os demais jogadores, pode-se afirmar que os competidores serão:

- A) Ana, Mara e Fábio.
- B) Ana, Pedro e Fábio.
- C) Nadir, Mara e Pedro.
- D) Nadir, Ana e Pedro.

29. A tabela ao lado representa dados fictícios de uma planilha do MS Excel 2003 com informações sobre os clientes, valor pago e situação do pagamento.

Na célula B8, foi digitada a fórmula: **=SOMASE(C3:C7;"PG";B3:B7)** e, em seguida, teclado Enter; na célula C8, foi digitada a fórmula: **=CONT.SE(C3:C7;"PG")** e, em seguida, teclado Enter.

Considerando-se essas informações, os valores que devem aparecer nas células B8 e C8 são, **respectivamente**,



- A) 850 e 3.
- B) 750 e 3
- C) 350 e 3
- D) 950 e 2

	A	B	C	D
1				
2	Cliente	Valor (R\$)	Situação	
3	Marta	250,00		
4	Fabio	450,00	PG	
5	Luiz	500,00		
6	Ana	250,00	PG	
7	Beth	150,00	PG	
8				
9				

30. A figura abaixo mostra a janela do Internet Explorer 7 exibindo o site oficial da Prefeitura Municipal de Pau dos Ferros.



Em relação à figura e às regras de navegação na Internet, é correto afirmar:

- A) Um clique sobre o botão  retorna à segunda página visitada anteriormente.
- B) Ao colocar o ponteiro do *mouse* sobre um *link*, o conteúdo da página aparece em seguida.
- C) O ponteiro do *mouse* se encontra no *link* Página Inicial.
- D) Um clique sobre o botão  mostra o histórico.