

ESTADO DE PERNAMBUCO
PREFEITURA MUNICIPAL DE CARNAÍBA

CONCURSO PÚBLICO

PROVA PARA CARGO DE:

FISCAL DE TRIBUTOS

* ATENÇÃO - CONFIRA SE ESTA PROVA CORRESPONDE AO CARGO QUE VOCÊ CONCORRE

* Neste Caderno de Questões, você encontra:

- 20 questões ESPECÍFICAS
- 10 questões de Português
- 10 questões de Matemática

* Só inicie a prova após a autorização do Fiscal de Sala.

* Duração da prova: 3 horas. O Candidato só poderá retirar-se do recinto das provas após 01 hora, contada a partir do seu efetivo início.

* O candidato só terá o direito de levar o caderno de prova após 02:00 horas do início dos trabalhos, e deixará apenas o Cartão de Respostas.

* Caso o candidato opte em sair antes de 02:00 horas do início dos trabalhos; NÃO será permitido a anotação do gabarito seja qual for a forma.

* Os Fiscais de Sala não estão autorizados a prestar quaisquer esclarecimentos sobre a resolução das questões; esta tarefa é obrigação do candidato.

* Não é permitido que os candidatos se comuniquem entre si. É proibida também a utilização de quaisquer equipamentos eletrônicos.

* O candidato receberá do Fiscal de Sala, 01 (hum) Cartão de Respostas correspondente às questões objetivas.

* Assine o seu Cartão de Respostas (Gabarito). Assinale apenas uma opção em cada questão. Não deixe questão em branco, nem assinale mais de uma opção, para seu Cartão não ter questões anuladas.

* O seu Cartão de Respostas é pessoal e insubstituível. Portanto, CUIDADO, não rasure, dobre ou amasse seu Cartão de Respostas pois em hipótese alguma ele será substituído, salvo por erro do fiscal ou por falha de impressão. Confira seus dados, leia as instruções para seu preenchimento e assinale no local indicado.

* A assinatura no Cartão de Respostas é obrigatória.

* O Gabarito desta prova estará disponível no dia 26/11/2012, no site www.compass.com.br.

* Para exercer o direito de recorrer contra qualquer questão, o candidato deve seguir as orientações constantes da Cláusula XI do Edital do Concurso Público nº 001/2012 da PREFEITURA MUNICIPAL DE CARNAÍBA de 17/09/2012.

* Após o término da prova, o candidato deverá deixar a sala e em hipótese alguma poderá permanecer no estabelecimento onde realizou a mesma.

BOA PROVA!!

DATA: 25 DE NOVEMBRO DE 2012

COMPASS

Concursos Públicos
e Assessorias

PARTE I – FISCAL DE TRIBUTOS

01 - São imposto que tem o seu lançamento tributário por Auto-lançamento:

- A) ISS, IR e ICMS.
- B) IGF, II, e IPTU.
- C) ITBI, IPTU e ISS.
- D) ISS, IPVA e IR.
- E) IPI, IPTU e IPVA.

02 - São causas de extinção do credito tributário:

- A) Mandando de segurança e anistia.
- B) Pagamento e parcelamento.
- C) Compensação e Remissão
- D) Prescrição e Isenção
- E) Transação e Moratória

03 - Templos religiosos gozam de imunidade tributária, marque a alternativa que contempla a imunidade:

- A) São imunes quanto ao IPTU sobre bens alugados.
- B) São imunes quanto à renda obtida pelo padre com a prática de ensino em escola particular.
- C) São imunes quanto ao IPVA do automóvel pertencente ao padre ou pastor.
- D) São imunes quando IPTU de um imóvel doado a igreja que será utilizado para práticas diversas da finalidade de igreja.
- E) São imunes com relação a renda obtida nas quermesses para manutenção da igreja.

04 - João fora acometido de uma doença muito grave passou mais de 1 ano no Hospital, sua família muito preocupada com a situação de João não pagou os tributos devidos. Após a recuperação de João, ao chegar em casa, verifica que existe uma intimação sobre débitos tributários não pagos. Com base a situação exposta assinale a alternativa CORRETA:

- A) João deverá levar todos os comprovantes para demonstrar a sua incapacidade momentânea e sanar o problema
- B) João não poderá fazer nada, pois a capacidade tributária independe da capacidade civil do contribuinte
- C) O governo agiu de má-fé, pois João estava em estado muito grave e não é obrigado a pagar tributo
- D) Caso João fosse menor de idade a cobrança seria ilegal, mas como João é maior de idade deveria ter sido pago de alguma forma
- E) Tratando-se de doenças graves, todos os portadores, mesmo em caráter temporário gozam de imunidade pelo o tempo de duração da doença

05 - A competência para a instituição de taxas é comum à União, aos Estados, ao Distrito Federal e aos Municípios, não podendo estes, entretanto:

- A) Lançá-las contra pessoas jurídicas
- B) Cobrá-las uns aos outros
- C) Cobrá-las uns aos outros e cobrá-las com base de cálculo idêntica à que corresponda aos impostos
- D) Cobrá-las com base de cálculo idêntica à que corresponda aos impostos
- E) Cobrá-las uns aos outros e lançá-las contra pessoas jurídica

06 - João vai se aposentar para ficar apenas pescando, para alcançar tal objetivo João teve que vender sua empresa a Carlos. Após algum tempo um fiscal de tributos ao realizar a fiscalização de rotina constatou varias irregularidades tributárias na empresa anteriores a data da compra realizada por Carlos e lavrou um auto de infração. Com base no Código Tributário Nacional quem é responsável pelo pagamento do auto de infração:

- A) Solidária de ambos, cabendo, porém o benefício de ordem.
- B) De ambos, proporcionalmente à participação de cada qual.
- C) Ao atual proprietário Carlos, pois João se aposentou.
- D) Principal do proprietário da quota majoritária e subsidiária do outro.
- E) De ambos, proporcionalmente aos recursos de cada um.

07 - Para efeito de incidência do imposto de renda, assinale a alternativa CORRETA:

- A) Só pode haver tributação sobre atos lícitos.
- B) O imposto não incide sobre ganhos com atividades que visem o bem social.
- C) Todos os que tenham renda devem pagar imposto de renda, sem exceções.
- D) A receita advinda do imposto deve ser utilizada preferencialmente na saúde e educação.
- E) Independe de licitude do fato gerador para ser tributado sobre a renda.

08 - João, proprietário de uma loja de máquinas fotográficas, está decidido a deixar de vender o produto e passar a oferecer serviços de assistência técnica a equipamentos fotográficos. Nessa situação, caso João, de fato, passe a oferecer somente esse novo serviço, ele deixará de pagar

- A) IPI e passará a pagar ICMS.
- B) IPI e passará a pagar ISS.
- C) Imposto de renda sobre o lucro real e passará a pagar o imposto sobre o lucro presumido
- D) ICMS e passará a pagar ISS.
- E) Imposto de renda sobre o lucro real e passará a pagar o imposto sobre o lucro Simples.

09 - Duas pessoas são co-proprietárias em parcelas desiguais de um imóvel urbano. Em se tratando de IPTU, pode-se afirmar que seu pagamento é da responsabilidade

- A) Solidária de ambos, cabendo, porém, para o minoritário, o benefício de ordem
- B) De ambos, podendo ser exigida de cada um deles a dívida toda
- C) De ambos, proporcionalmente à participação de cada qual
- D) Principal do proprietário da quota majoritária e subsidiária do outro.
- E) De ambos, proporcionalmente aos recursos de cada um.

10 - Causa de extinção do crédito tributário que ocorre antes o lançamento tributário é:

- A) Decadência
- B) Prescrição
- C) Consignação em pagamento
- D) Remissão
- E) Liminar em mandado de segurança

11 - Extingue-se o crédito tributário, EXCETO:

- A) Pelo parcelamento.
- B) Pelo pagamento.
- C) Pela prescrição e decadência.
- D) Pela conversão de depósito em renda.
- E) Decisão Administrativa Definitiva.

12 - Observe as seguintes proposições e verifique se cada uma delas é verdadeira (V) ou falsa (F). Em seguida, assinale a opção que ofereça a sequência correta.

- I. O ITBI é um imposto de competência Estadual.
 - II. O ITR, é um imposto de competência Federal, mas o Município pode ficar com 100% da arrecadação caso exercer a fiscalização e arrecadação do mesmo.
 - III. Segundo decorre a contrario sensu da letra do Código Tributário Nacional, isoladamente considerada, pode ser admitida proposta, em concorrência pública junto ao Estado, de quem deva tributos somente à União.
- A) V, V, V
 - B) F, F, F
 - C) V, F, F
 - D) F, V, V
 - E) F, F, V

13 - A origem da obrigação tributária se dá com a ocorrência do(a):

- A) Lançamento tributário
- B) Base de cálculo do tributo
- C) Fato gerador
- D) Hipótese de incidência do tributo
- E) Ato infra-legal

14 - Havendo lei complementar, autoriza a cobrança de:

- A) Taxa
- B) Imposto
- C) Contribuição de melhoria
- D) Contribuição especial
- E) Empréstimo compulsório

15 - O tributo, que pode ter sua alíquota alterada através de ato infra-legal:

- A) Venda a varejo de combustíveis líquidos e gasosos
- B) Propriedade Territorial Rural
- C) Grandes fortunas
- D) Operações de crédito, câmbio e seguro relativas a títulos ou valores mobiliários
- E) Renda e proventos de qualquer natureza

16 - Um Município qualquer não possui capacidade impositiva de cobrar o imposto sobre a propriedade predial e territorial urbana relativo ao prédio de propriedade da União em face da Constituição estabelecer a:

- A) Imunidade tributária recíproca
- B) Personalização do imposto
- C) Capacidade contributiva
- D) Isenção tributária
- E) Não incidência legal

17 - Segundo o CTN Contribuinte é:

- A) E quem deve pagá-lo em face de previsão em lei
- B) Quando tenha relação pessoal e direta com a situação que constitua o respectivo fato gerador
- C) E quem efetivamente o paga
- D) E quem paga na condição de responsável tributário
- E) E quem mesmo sendo terceira pessoa desvinculada do fato gerador, a lei lhe atribua tal condição

18 - A extinção do crédito tributário por a diminuta importância do crédito tributário, denomina-se:

- A) Pagamento
- B) Transação
- C) Consignação em pagamento
- D) Remissão
- E) Compensação

19 - Fiscal de tributos no exercício de suas funções poderá utilizar força policial, quando:

- A) O contribuinte não der a atenção devida
- B) For expressamente autorizada por seus superiores hierárquicos
- C) Desejar dar demonstração de força ao contribuinte
- D) For vítima impedimentos ou desacato no exercício de suas funções
- E) Tiver dificuldades para exercer suas atividades

20 - O fato gerador de qualquer tributo:

- A) Determina a natureza jurídica do mesmo
- B) É irrelevante para qualificar sua natureza jurídica
- C) É fundamental para caracterizar a natureza jurídica apenas das taxas
- D) Diz respeito somente aos tipos de impostos federais
- E) É relevante para determinação da natureza jurídica das contribuições

PARTE II - PORTUGUÊS

As questões 21 e 22 referem-se ao texto seguinte:

Passei a vida atrás de eleitores e agora busco os leitores.

(José Sarney, na Veja, dez/97)

21- Das afirmações seguintes:

I- Através do texto é possível deduzir uma mudança na vida profissional.

II- O vocábulo “recentemente” pode substituir o termo “AGORA” sem alteração semântica.

III- Infere-se do texto que a atividade inicial do autor foi passageira.

- A) Estão corretos os itens I e II.
- B) Estão corretos os itens I e III.
- C) Estão corretos os itens II e III.
- D) Todos estão corretos.
- E) Apenas o item I está correto.

22- O autor do texto sugere estar passando de:

- A) senador a escritor
- B) político a romancista
- C) político a escritor
- D) político a jornalista
- E) escritor a político

As questões 23 e 24 referem-se a tira seguinte:



23- Das afirmações seguintes:

I- Podemos afirmar que há nos quadrinhos uma crítica em relação a alguns problemas da sociedade moderna.

II- O autor refere-se a certos fatos da vida social e econômica do brasileiro que ocorrem constantemente, exceto o mau humor que raramente ocorre.

III- De acordo com o primeiro quadrinho a suposição de que o valor do real possa se equiparar ao do dólar constituiu uma esperança remota na sociedade brasileira.

- A) Estão corretos apenas os itens I e III.
- B) Estão corretos apenas os itens I e II.
- C) Estão corretos apenas os itens II e III.
- D) Todos estão corretos.
- E) Apenas o item I está correto.

24- Os vocábulos seguintes, presentes no texto, são substantivos abstratos, exceto:

- A) milagres
- B) transformação
- C) aparição
- D) multiplicação
- E) policial

25- Assinale a alternativa cuja classificação do elemento mórfico destacado está incorreto:

- A) inquietar (vogal temática)
- B) esclarecimento (radical)
- C) relembando (prefixo)
- D) cafeteria (sufixo)
- E) supersensível (vogal de ligação)

26- Assinale a única alternativa que apresenta erro no que diz respeito ao gênero das palavras:

- A) A derme
- B) O comichão
- C) O eczema
- D) O clã
- E) A omoplata

27- Assinale a alternativa correta quanto à concordância:

- A) O motorista foi um dos que ajudou os acidentados.
- B) Haviam instrumentos exóticos na orquestra.
- C) Necessitam-se de corretores experientes.
- D) Fazem dias que chegaram os convites para a exposição.
- E) Duas folhas eram bastante para o relatório.

28- Identifique a alternativa em que o emprego do hífen está incorreto:

- A) anti-higiênico
- B) Grã-Bretanha
- C) pan-africano
- D) anti-religioso
- E) couve-flor

29- Identifique nas frases seguintes, a que apresenta o vocábulo destacado empregado de forma incorreta:

- A) Com o calor ele passou a suar mais.
- B) Saiu sem dar um cumprimento sequer.
- C) Aquela atitude não sortiu efeito.
- D) Esse produto difere muito daquele que eu costume usar.
- E) Por causa do peso, o teto arriou.

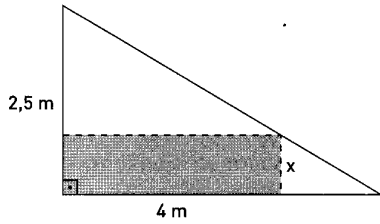
30- A crase foi usada de forma correta apenas em:

- A) Esta é a cidade à que iremos.
- B) Este é o autor à cuja obra me refiro.
- C) Esta é a posição à que aspiro.
- D) Vou à Brasília.
- E) Esta comida é igual à que comprei.

PARTE III - MATEMÁTICA

31 - Uma chapa de aço na forma de triângulo retângulo de catetos 4 m e 2,5 m será recortada de modo a obter uma placa retangular como indica a figura. Qual a área máxima que esta placa retangular pode ter?

- A) 2,5 m²
- B) 3,5 m²
- C) 1,5 m²
- D) 2,0 m²
- E) 3,0 m²

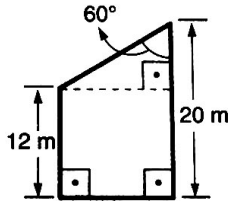


32 - A assinatura mensal de um telefone celular na empresa "Roubotel" é de R\$ 36,00 e cada minuto falado custa R\$ 3,00. Qual o limite máximo de minutos que posso usar durante um mês para que a conta seja inferior a R\$ 72,00?

- A) 15 minutos
- B) 12 minutos
- C) 10 minutos
- D) 20 minutos
- E) 24 minutos

33 - Qual a área do trapézio abaixo em m² ?

- A) 128√3
- B) 160√3
- C) 60√3
- D) 120√3
- E) 64√3



34 - Quando estamos caminhando é possível observar, nas calçadas, algumas fissuras deixadas de propósito durante sua construção. Essas fissuras são necessárias devido a um fenômeno físico chamado dilatação térmica, o qual consiste no aumento ou diminuição do tamanho de um sólido de acordo com a temperatura em que é submetido. Consideremos uma placa de concreto cujo comprimento (l) varia de acordo com a temperatura (T) em que é submetida. Sabendo que:

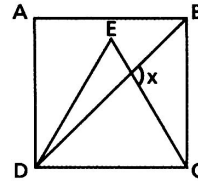
- T₁ = 25 °C e l₁ = 31,15 cm;
- T₂ = 100 °C e l₂ = 31,25 cm;

Determine a função afim que expresse l em função de T.

- A) $l(T) = 750T + \frac{1867}{60}$
- B) $l(T) = \frac{1}{70}T + \frac{1867}{70}$
- C) $l(T) = \frac{1}{750}T + \frac{1867}{750}$
- D) $l(T) = \frac{1}{750}T + \frac{1867}{60}$
- E) $l(T) = \frac{7}{750}T + \frac{1867}{60}$

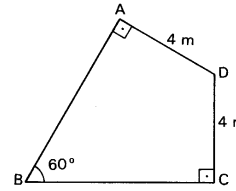
35 - Na figura, ABCD é um quadrado e CDE é um triângulo equilátero. A medida do ângulo x é:

- A) 105°
- B) 45°
- C) 60°
- D) 75°
- E) 110°



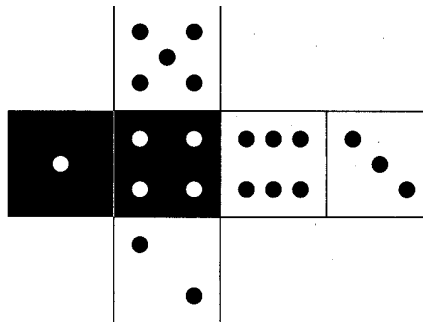
36 - A área do quadrilátero abaixo, em m², é ?

- A) 4√3
- B) 20√3
- C) 8√3
- D) 25√3
- E) 16√3



37 - A tabela abaixo indica as apostas feitas por 5 amigos em relação ao resultado decorrente do lançamento de um dado, cuja planificação está indicada na figura a seguir.

Ana	Face branca ou número par.
Bruna	Face branca ou número 5.
Carlos	Face preta ou número menor que 2.
Diego	Face preta ou número maior que 2.
Érica	Face branca ou número menor que 4.

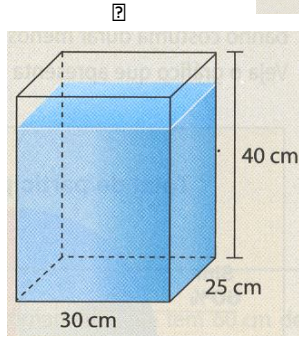
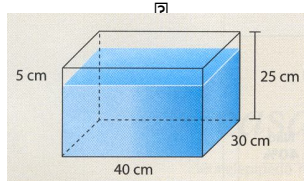


Se trocarmos o conectivo "ou" pelo conectivo "e" na aposta de cada um, o jogador que terá maior redução em suas chances de acertar o resultado, em decorrência dessa troca, será:

- A) Ana
- B) Bruna
- C) Carlos
- D) Diego
- E) Érica

38 - Temos uma caixa de vidro inteiramente fechada e quase cheia de água, como mostra a figura 1. Observe que o nível da água está a 5 cm abaixo do máximo. Agora, vamos colocar a caixa em pé, como mostra a figura 2, para que ela fique com 40 cm de altura. Nesse caso, o nível da água ficará quantos centímetros abaixo do máximo?

- A) 5 cm
- B) 6 cm
- C) 8 cm
- D) 10 cm
- E) 4 cm



39 - Em 2010, a seleção brasileira de vôlei conquistou o mundial masculino pela terceira vez consecutiva. O feito tem um sabor especial, já que o time de Bernardinho se igualou à rival Itália em número de conquistas, e ainda por cima fez isso na casa dos italianos, passando por eles na semifinal.

Disponível em:

<http://www.esporteinterativo.com.br/brasil-de-ouro/conheca-os-jogadores-campeoes-do-mundial-masculino-de-volei-na-italia/> Acesso em: 12 nov. 2011

A média das alturas dos jogadores brasileiros está entre as mais altas das seleções participantes do mundial. Veja na tabela a seguir as alturas dos jogadores que foram campeões mundiais em 2010:

Jogadores	Altura
Alan	1,89 m
Bruno	1,90 m
Giba	1,92 m
João Paulo Bravo	1,96 m
João Paulo Tavares	2,04 m
Leandro Vissotto	2,11 m
Lucas	2,09 m
Mario Jr.	1,92 m
Marlon	1,90 m
Murilo	1,90 m
Rodrigão	2,05 m
Sidão	2,03 m
Théo	1,99 m

Qual é a alternativa correta?

- A) A média dessa seleção é de 2,10 m.
- B) Se os jogadores Alan, Giba, Marlon, Rodrigão, Theo e Murilo fossem retirados dessa lista, a média das alturas seria de 2,10 m.
- C) A mediana das alturas é menor que a média se tirarmos os jogadores Alan e Bruno.
- D) A média dos cinco jogadores mais altos é de 2,02 m.
- E) A moda das alturas sem os jogadores Giba, Sidão e Leandro Vissotto seria 1,90 m.

40 - O esquema abaixo representa parte do mapa de uma cidade. Nele, podemos observar um terreno retangular que será vendido em lotes menores, também retangulares. Um desses lotes está indicado em **cinza** no esquema.



Para que a área restante do terreno seja 1750 m^2 , qual deve ser a medida x ?

- A) 30 metros
- B) 20 metros
- C) 25 metros
- D) 45 metros
- E) 15 metros