




CONCURSO PÚBLICO
EDITAL Nº 001/2007
CHESF
Companhia Hidro Elétrica
do São Francisco



CONSULPLAN CONSULTORIA Ltda.
www.consulplan.net
atendimento@consulplan.com

S
M
O
S
-
I
S
T
O
S
D
E
O
Z
E
R
N
O
D
E
A
C

INSTRUÇÕES

- 01 - Material a ser utilizado: caneta esferográfica azul ou preta. Os objetos restantes devem ser colocados em local indicado pelo fiscal da sala, inclusive aparelho celular desligado, devidamente identificado com etiqueta.
- 02 - Não é permitido consulta, utilização de livros, códigos, dicionários, apontamentos, apostilas, calculadoras e etc. Bips e telefones celulares, devem ser mantidos **desligados**, ou qualquer outro material. É expressamente proibido ao candidato entrar ou permanecer com armas no local de realização das provas. Caso o candidato detenha o porte legal de arma e esteja de posse da mesma; deverá entregá-la na Coordenação, buscando-a ao término das provas.
- 03 - Durante a prova, o candidato não deve levantar-se, comunicar-se com outros candidatos e nem fumar.
- 04 - A duração da prova é de 03 (TRÊS) horas e 30 (TRINTA) minutos, já incluído o tempo destinado à identificação - que será feita no decorrer da prova - e ao preenchimento da FOLHA DE RESPOSTAS (GABARITO).
- 05 - Somente em caso de urgência pedir ao fiscal para ir ao sanitário, devendo no percurso permanecer absolutamente calado, **podendo** antes e depois da entrada no sanitário sofrer revista através de detector de metais. Ao término da prova ao sair da sala, não poderá utilizar os sanitários. Caso ocorra uma emergência, o fiscal deverá ser comunicado.
- 06 - O caderno de provas consta de: **40 (QUARENTA)** questões objetivas de múltipla escolha para Nível Superior, **30 (TRINTA)** questões objetivas de múltipla escolha para os Níveis Fundamental, Médio e Médio Técnico. Leia atentamente e marque apenas uma alternativa.
- 07 - As questões das provas objetivas serão do tipo múltipla escolha, com cinco opções (A a E) e uma única resposta correta. Haverá na folha de respostas para cada questão, um campo designado com o código SR, cujo significado é “sem resposta”, que servirá somente para caracterizar que o candidato desconhece a resposta correta. Portanto, a sua marcação não implicará em penalização ao candidato.**
- 08 - Deve-se marcar na FOLHA DE RESPOSTAS (GABARITO) apenas uma opção em cada questão, com caneta azul ou preta, SEM RASURAS, SEM AMASSÁ-LA, SEM PERFURÁ-LA. Caso contrário, a questão será anulada.
- 09 - Ao terminar a conferência do caderno de provas, caso o mesmo esteja incompleto ou tenha qualquer defeito, o candidato deverá solicitar ao fiscal de sala que o substitua, não cabendo reclamações posteriores neste sentido. Inclusive devendo o candidato verificar se o cargo/função em que se inscreveu encontra-se devidamente identificado no caderno de provas na parte superior esquerda da folha nº 02.
- 10 - Os fiscais não estão autorizados a emitir opinião nem prestar esclarecimentos sobre o conteúdo das provas. Cabe, única e exclusivamente ao candidato, interpretar e decidir.
- 11 - O candidato somente poderá retirar-se do local de realização das provas **após 90 (noventa) minutos** de seu início e só poderá levar o Caderno de Provas no decurso dos últimos **60 (sessenta) minutos** anteriores ao horário previsto para o seu término.
- 12 - É proibida a reprodução total ou parcial deste material, por qualquer meio ou processo, sem autorização expressa da **Consulplan Consultoria**. Em nenhuma hipótese a **Consulplan Consultoria** informará o resultado por telefone.
- 13 - A desobediência a qualquer uma das recomendações constantes nas presentes instruções poderá implicar na anulação da prova do candidato.

RESULTADOS E RECURSOS

- Os gabaritos oficiais das provas escritas objetivas de múltipla escolha estarão disponíveis no site www.consulplan.net a partir das 14:00 horas do dia subsequente à realização das provas objetivas.
- Os recursos deverão ser apresentados conforme determinado no **item 10** do Edital 001/2007, não esquecendo, principalmente dos seguintes aspectos:
- a) Caberá recurso contra questões das provas e contra erros ou omissões no gabarito, até 02(dois) dias úteis, a contar do dia subsequente ao da divulgação desses gabaritos, **iniciando-se às 14:00 horas do dia 23 de Julho de 2007 e encerrando-se às 14:00 horas do dia 25 de Julho de 2007 (Conforme Retificação nº IV de 21/05/2007).**
- b) A decisão proferida pela Banca Examinadora tem caráter irrecorrível na esfera administrativa, razão pela qual não caberão recursos adicionais.
- c) Os recursos somente poderão ser feitos via Internet, apenas no prazo recursal, à CONSULPLAN CONSULTORIA, em requerimento próprio disponibilizado no link correlato ao Concurso Público no site www.consulplan.net.
- d) Serão rejeitados os recursos não fundamentados, enviados via postal, via fac-símile (fax) e os que não contiverem dados necessários à identificação do candidato.

CARGO: ASSISTENTE TÉCNICO A – TÉCNICO EM CONTABILIDADE

TEXTO:

O vento que vinha trazendo a lua

Eu estava no apartamento de um amigo, no Posto 6, e quando cheguei à janela vi a lua: já havia nascido toda e subido um pouco sobre o horizonte marinho, avermelhada. Meu amigo fora lá dentro buscar alguma coisa e eu ficara ali, sozinho, naquela janela, presenciando a ascensão da lua cheia.

CONCURSO PÚBLICO – CHESF (Companhia Hidro Elétrica do São Francisco)

Havia certamente todos os ruídos da cidade lá embaixo, havia janelas acesas e apartamentos. Mas a presença da lua fazia uma espécie de silêncio superior e de majestade plácida; era como se Copacabana regressasse ao seu antigamente sem casas, talvez apenas alguma cabana de índio humilde entre cajueiros e pitangueiras e árvores de mangue, talvez nem cabana de índio nenhum, índio não iria morar ali sem ter perto água doce. Mas dava essa impressão de coisa antiga, esse mistério remoto. Era um acontecimento silencioso e solene pairando na noitinha e no tempo, alguma coisa que irmana o homem e o bicho, a árvore e a água – a lua...

Foi então que passou por mim a brisa da terra; e essa brisa que esbarrava em tantos ângulos de cimento para chegar até mim ainda tinha, apesar de tudo, um vago cheiro de folhas, um murmúrio de grilos distantes, um segredo de terra anoitecendo.

E pensei em uma pessoa; e sonhei que poderíamos estar os dois juntos, vendo a ascensão da lua; deslembrados, inocentes, puros, na doçura da noitinha como dois bichos mansos vagamente surpreendidos e encantados perante o mistério e a beleza eterna da lua.

(Rubem Braga, in *O Estado de S. Paulo*, dez. 1990)

- 01) “Mas a presença da lua fazia uma espécie de silêncio superior e de majestade plácida...” A palavra que NÃO pode substituir o termo plácida é:
A) Serena. B) Tranqüila. C) Sossegada. D) Calma. E) Límpida.
- 02) Pela descrição da brisa da terra podemos inferir que o autor:
A) Menosprezava a brisa por lhe desviar a atenção da lua.
B) Reconhecia que os edifícios alteravam as características da brisa.
C) Reconhecia que cheiro de folhas é próprio de toda brisa.
D) Não gostava do progresso urbano.
E) Intentava descobrir algum segredo naquela brisa.
- 03) O texto possui um tom de:
A) Tristeza. B) Otimismo. C) Humorismo. D) Alumbramento. E) Angústia.
- 04) “Mas dava essa impressão de coisa antiga, esse mistério remoto.” A mesma regra de acentuação que vale para mistério vale também para:
A) Ruídos. B) Índio. C) Árvore. D) Idéia. E) Poderíamos.
- 05) Observe estas orações: “... e essa brisa que esbarrava em tantos ângulos de cimento para chegar até mim...” A relação existente entre elas é de:
A) Lugar. B) Finalidade. C) Causa. D) Modo. E) Conformidade.

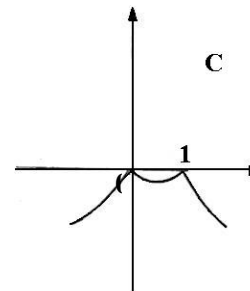
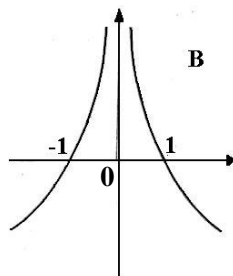
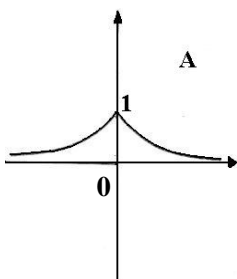
MATEMÁTICA

- 06) Um levantamento efetuado entre 600 contribuintes do INSS mostrou que muitos deles mantinham convênio com duas empresas particulares de assistência médica, A e B conforme o quadro. Analisando-o, podemos concluir que o número de contribuintes simultâneos às duas empresas, A e B, é:
A) 30 D) 50
B) 90 E) N.R.A
C) 40

Convênio com A	Convênio com B	Contribuintes somente do INSS
430	160	60

- 07) Um ônibus percorre a distância de 100km em 4 dias, à razão de 2 horas por dia. Em quantos dias faria uma viagem de 150km percorrendo 6h por dia?
A) 1 dia. B) 3 dias. C) 2 dias. D) 5 dias. E) N.R.A.

- 08) Considerando os gráficos abaixo, é correto afirmar que:



A) O gráfico A representa a função $f(x) = 2^{-|x|}$.

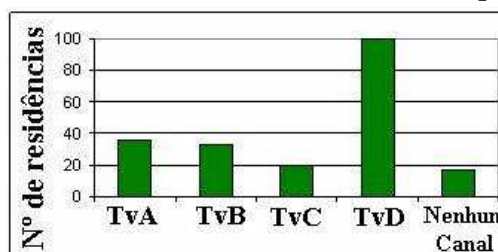
D) O gráfico B representa a função $f(x) = |x - 1|$.

B) O gráfico B representa a função $f(x) = |x + 1|$.

E) O gráfico C representa a função $f(x) = |x^2 - 1|$.

C) O gráfico C representa a função $f(x) = -|x^2 - 1|$.

- 09) Uma pesquisa de opinião foi realizada para avaliar os níveis de audiência de alguns canais de televisão, entre 20 horas e 21 horas, durante uma determinada noite. Os resultados obtidos estão representados no gráfico de barras a seguir:



A percentagem total de entrevistados, que declararam estar assistindo à TvB é aproximadamente igual a:

- A) 15% B) 20% C) 22% D) 27% E) 30%

10) Hoje, 50% da produção de uma fábrica de sucos é de suco de laranja e 50% é de suco de manga. Se a produção de suco de laranja aumentar em 10% ao mês e a de suco de manga aumentar em 20% ao mês, daqui a dois meses a porcentagem de suco de manga produzido, em relação ao total produzido no mês, será de aproximadamente:

- A) 52% B) 54,3% C) 57,3% D) 60,5% E) 72%

CONHECIMENTOS ESPECÍFICOS

11) Um equipamento é vendido a prazo por uma entrada de R\$ 151,50 mais três prestações de R\$ 100,00 mensais, sendo a primeira paga 30 dias após a data da compra (postecipada). Qual o valor à vista do equipamento, considerando que no pagamento a prazo estão embutidos juros compostos de 10% ao mês? (Desprezar os centavos na resposta)

- A) R\$ 451,00 B) R\$ 406,00 C) R\$ 400,00 D) R\$ 375,00 E) R\$ 360,00

12) A operação de crédito tipicamente do sistema bancário, que envolve principalmente duplicatas e notas promissórias, na qual a Instituição Financeira concede o empréstimo mediante a garantia de um título representativo de um crédito futuro, é conhecida por:

- A) Concessão bancária. D) Desconto bancário.
B) Antecipação bancária. E) N.R.A.
C) Redesconto bancário.

13) O orçamento geral é composto por orçamentos específicos e envolve a projeção de cenários econômicos. Estabelecidos os cenários econômicos e as premissas básicas, desenvolve-se a fase de projeções e simulações de resultados. A finalidade dos orçamentos de vendas e de investimento são respectivamente:

- A) Determinar a quantidade e o valor total dos produtos a vender, bem como calcular os impostos a partir de projeções de vendas elaboradas pelas unidades de vendas e/ou Marketing e determinar os valores de aquisições e baixas do Ativo Permanente, bem como apurar as cotas de depreciação, exaustão e amortização.
B) Determinar a quantidade e o valor total dos produtos a vender, bem como calcular os impostos, a partir de projeções de vendas elaboradas pelas unidades de vendas e/ou Marketing e determinar as faltas e sobras de caixa e dimensionar os recursos necessários para financiar as atividades de operações e investimentos, bem como apurar as receitas e despesas financeiras.
C) Determinar a quantidade e o valor total dos produtos a vender, bem como calcular os impostos, a partir de projeções de vendas elaboradas pelas unidades de vendas e/ou Marketing e determinar a quantidade de produtos que devem ser produzidos em função das vendas planejadas, considerando-se as políticas de estoques de produtos acabados.
D) Determinar a quantidade e o valor total dos produtos a vender, bem como calcular os impostos, a partir de projeções de vendas elaboradas pelas unidades de vendas e/ou Marketing e determinar a quantidade e o valor das matérias-primas a consumir e a comprar, bem como calcular os impostos incidentes sobre as compras.
E) N.R.A.

14) O Imposto sobre Circulação de Mercadorias e Prestação de Serviços de Transporte Interestadual e Intermunicipal e de Comunicação é de esfera estadual e NÃO possui como fato gerador:

- A) A venda de mercadorias de estabelecimento comercial, industrial ou produtor.
B) A entrada em estabelecimento comercial, industrial ou produtor de mercadoria importada do exterior.
C) A entrada de bens do ativo imobilizado, oriundo de outros estados ou distrito federal e que seja utilizada na atividade produtiva.
D) A prestação de serviços de qualquer natureza.
E) N.R.A.

15) A Empresa Beta possui o seguinte patrimônio: 1 casa = R\$ 1.400.000,00 / 1 carro = R\$ 100.000,00 / Saldo bancário = R\$ 5.000,00 / Dívida com o SFH da casa = R\$ 1.100.000,00.

Considerando a equação fundamental da contabilidade, a riqueza efetiva líquida da Empresa é:

- A) R\$ 1.505.000,00 B) R\$ 405.000,00 C) R\$ 1.500.000,00 D) R\$ 100.000,00 E) N.R.A.

16) Os atos praticados pelos administradores ou donos da empresa que afetam o Patrimônio Empresarial são denominados fatos administrativos ou contábeis. Uma série de atos praticados, mas que não afetam imediatamente o Patrimônio, não serão considerados fatos. Considere:

- I.** Entrada de capital inicial em dinheiro. **IV.** Rendimento creditado de aplicação financeira.
II. Aumento de capital em bens. **V.** Compra a prazo de três carros.
III. Depósito em banco.

São considerados modificativos, respectivamente:

- A) I, II e IV B) I, III e V C) II, III e IV D) II, IV e V E) N.R.A.

CONCURSO PÚBLICO – CHESF (Companhia Hidro Elétrica do São Francisco)

17) Contas é a representação contábil de elementos patrimoniais de natureza igual ou semelhante. Algumas são criadas para registrar os fatos nos livros contábeis representando os elementos do Ativo e Passivo, outras são criadas para explicar os gastos e perdas. Portanto, criam-se contas para representar as principais despesas e as principais receitas. O valor final da conta é denominada de saldo da conta e portanto:

- A) A diferença entre o saldo inicial e o saldo final da conta é denominado de movimento contábil da conta, podendo ser movimento a crédito (aumento de saldos devedores e diminuição de saldos credores) e movimento a débito (aumento de saldos credores e diminuição de saldos devedores).
- B) A diferença entre o saldo inicial e o saldo final da conta é denominado de movimento contábil da conta, podendo ser movimento a débito (diminuição de saldos credores e aumento de saldos devedores) e movimento a crédito (diminuição de saldos credores e aumento de saldos devedores).
- C) A diferença entre o saldo inicial e o saldo final da conta é denominado de movimento contábil da conta, podendo ser movimento a débito (aumento de saldos devedores e diminuição de saldos credores) e movimento a crédito (aumento de saldos credores e diminuição de saldos devedores).
- D) A diferença entre o saldo inicial e o saldo final da conta é denominado de movimento contábil da conta, podendo ser movimento a débito (aumento dos saldos devedores e credores) e movimento a crédito (diminuição dos saldos credores e devedores).
- E) N.R.A.

18) O Plano de Contas é o conjunto de contas criado pelo Contador para atender às necessidades de registros dos fatos administrativos e possui como função básica prover o registro dos fatos administrativos de forma a criar ótimas condições de classificação e acumulação de dados. Quanto ao funcionamento das contas, é INCORRETO afirmar que:

- A) Deve possuir seqüência de codificação denominada graduação do plano. Assim, a primeira codificação (1,2,3 e 4) para o Ativo, Passivo, Despesas e Receitas é chamada de Plano de Contas de primeiro grau.
- B) As contas podem ser analíticas e sintéticas. As contas analíticas representam os elementos patrimoniais em seu menor grau de detalhamento. As contas sintéticas se constituem nos planos de maior grau de detalhamento.
- C) As contas podem associar-se, formando árvores ou hierarquia, que dão origem aos Planos de Contas.
- D) As contas podem ser Patrimoniais denominadas também de permanentes e de resultados, denominadas contas transitórias.
- E) N.R.A.

19) Podemos definir lançamento como escrituração ou registro de cada transação de cada evento econômico nos livros contábeis. Um lançamento deve conter os elementos intrínsecos do mesmo que deverão ser apresentados no livro Diário, na seguinte ordem:

- A) Dados suficientes para a individualização do fato contábil somente com a descrição das contas de débito e crédito.
- B) Dados suficientes para a individualização do fato contábil sem o histórico.
- C) Data, conta que recebe o débito, conta que recebe o crédito, histórico e valor.
- D) Dados suficientes para a individualização do fato contábil tendo como primeira informação o saldo de débito e de crédito.
- E) N.R.A.

20) Conforme os dados abaixo, correspondentes à data do encerramento do período, o valor da provisão para férias e para encargos sociais sobre férias, considerando que esses últimos correspondem, hipoteticamente, a 20% do total das férias provisionadas, são respectivamente em R\$:

Funcionários	Nº. de meses	Salário Mensal
Joaquim da Silva	18	R\$ 1500,00
Márcia Neves	5	R\$ 2700,00

- A) R\$ 4.500,00 e R\$ 900,00
- B) R\$ 3.150,00 e R\$ 630,00
- C) R\$ 4.200,00 e R\$ 840,00
- D) R\$ 3.375,00 e R\$ 675,00
- E) N.R.A.

21) Sobre o Balancete de Verificação, analise as seguintes afirmativas:

- I.** O Balancete nada mais é, do que a simples listagem das contas, contendo o nome delas e o seu saldo, colocando os saldos devedores numa coluna e os saldos credores em outra.
- II.** A palavra verificação vem do fato de que o Balancete também serve para, em um primeiro momento e em uma análise bastante superficial, verificarmos se o total dos saldos devedores é igual ao total dos saldos credores.
- III.** Verifica se o método das partidas dobradas foi obedecido em todos os lançamentos e que deram origem aos saldos das contas.
- IV.** Sua periodicidade é regulamentada por Lei, não podendo ser antecipada e nem postergada sua apresentação.

Está(ão) correta(s) apenas a(s) afirmativa(s):

- A) I, III e IV
- B) I, II e III
- C) I, II e IV
- D) II, III e IV
- E) N.R.A.

22) O Balanço Patrimonial tem por finalidade:

- A) Apresentar a posição financeira e patrimonial da empresa em determinada data, representando portanto, uma posição estática. No Balanço, os elementos básicos são: as aplicações de recursos normalmente em bens e direitos e os financiamentos (exigibilidades e obrigações) através dos capitais de terceiros e com o capital próprio.

CONCURSO PÚBLICO – CHESF (Companhia Hidro Elétrica do São Francisco)

30) Na planilha do MS Excel 2003 abaixo, selecione a célula A1, posicione o cursor no canto inferior direito de A1 até aparecer a “cruzinha” como na figura abaixo, pressione e mantenha pressionado o botão esquerdo do mouse e arraste até A3. Repita os mesmos procedimentos para B1 até B3 e para C1 até C3. Quais serão, respectivamente, os conteúdos de A2, B2 e C2?

Figura



	A	B	C
1	36880-000	36.880-000	36880000
2			
3			

- A) **A2** = 36880-000; **B2** = 36.880-000 e **C2** = 36880000
B) **A2** = 36880-001; **B2** = 36.880-001 e **C2** = 36880000
C) **A2** = 36880-001; **B2** = 36.880-001 e **C2** = 36880001

- D) **A2** = 36880-000; **B2** = 36.880-001 e **C2** = 36880000
E) **A2** = 36880-000; **B2** = 36.880-000 e **C2** = 36880001

OBSERVAÇÃO: FOLHA DE RASCUNHO EM ANEXO.