



CONCURSO PÚBLICO

PREFEITURA MUNICIPAL DE CONGONHAS

ESTADO DE MINAS GERAIS

EDITAL N.º. 001/2009

INSTRUÇÕES

- 01 - Material a ser utilizado: caneta esferográfica azul ou preta. Os objetos restantes devem ser colocados em local indicado pelo fiscal da sala, inclusive aparelho celular desligado e devidamente identificado com etiqueta.
- 02 - Não é permitido consulta, utilização de livros, códigos, dicionários, apontamentos, apostilas, calculadoras e etc. Não é permitido ao candidato ingressar na sala de provas sem a respectiva identificação e o devido recolhimento de telefone celular, bip e outros aparelhos eletrônicos.
- 03 - Durante a prova, o candidato não deve levantar-se, comunicar-se com outros candidatos e nem fumar.
- 04 - A duração da prova é de 04 (quatro) horas, exceto para os candidatos ao cargo de Técnico em Enfermagem, que realizarão também, provas discursivas, sendo concedido o acréscimo de 01 (uma) hora para a realização das mesmas, perfazendo assim, um total de 05 (cinco) horas para a realização das provas objetivas e discursivas.
- 05 - Somente em caso de urgência pedir ao fiscal para ir ao sanitário, devendo no percurso permanecer absolutamente calado, podendo antes e depois da entrada sofrer revista através de detector de metais. Ao sair da sala no término da prova, o candidato não poderá utilizar o sanitário. Caso ocorra uma emergência, o fiscal deverá ser comunicado.
- 06 - O Caderno de Provas consta de 60 (sessenta) questões de múltipla escolha. Leia-o atentamente.
- 07 - As questões das provas objetivas são do tipo múltipla escolha, com 05 (cinco) opções (A a E) e uma única resposta correta.**
- 08 - Ao receber o material de realização das provas, o candidato deverá conferir atentamente se o Caderno de Provas corresponde ao cargo a que está concorrendo, observando o nome do cargo na parte superior da próxima página, bem como se os dados constantes na Folha de Respostas (Gabarito) que lhe foi fornecida, estão corretos. Caso os dados estejam incorretos, ou o material esteja incompleto ou tenha qualquer imperfeição, o candidato deverá informar tal ocorrência ao fiscal.
- 09 - Os fiscais não estão autorizados a emitir opinião e prestar esclarecimentos sobre o conteúdo das provas. Cabe única e exclusivamente ao candidato interpretar e decidir.
- 10 - O candidato somente poderá retirar-se do local de realização das provas levando o Caderno de Provas no decurso dos últimos 30 (trinta) minutos anteriores ao horário previsto para o seu término. O candidato, também, poderá retirar-se do local de provas somente a partir dos 90 (noventa) minutos após o início de sua realização, contudo não poderá levar consigo o caderno de provas.
- 11 - Ao terminar a prova, o candidato entregará obrigatoriamente ao fiscal de sala, o Cartão de Respostas devidamente assinado no local indicado e o Formulário de Resposta da Prova Discursiva (somente para o cargo de Técnico em Enfermagem).

RESULTADOS E RECURSOS

- Os gabaritos oficiais preliminares das provas objetivas serão divulgados na Internet, no site www.consulplan.net, no Quadro de Avisos da Prefeitura e no Diário Oficial do Estado de Minas Gerais, a partir 09h00min do dia subsequente ao da realização da prova escrita.
- Os recursos deverão ser apresentados, conforme determinado no item 8 do Edital N.º. 001/2009, sendo observados os seguintes aspectos:
 - a) O candidato que desejar interpor recursos contra os gabaritos oficiais preliminares das provas objetivas via Internet disporá de **48 (quarenta e oito) horas ininterruptas, iniciando-se às 09h00min do dia 20 de setembro de 2010 e encerrando-se às 09h00min do dia 22 de setembro de 2010**, via fax, ou em requerimento próprio disponibilizado no link correlato ao Concurso Público no site www.consulplan.net. A interposição de recursos no Protocolo Geral da Prefeitura Municipal poderá ser feita nos dias **20 a 22 de setembro de 2010, no horário de expediente, de 12:00 às 18:00 horas.**
 - b) A interposição de recursos poderá ser realizada das seguintes formas: a) via Internet, através do Sistema Eletrônico de Interposição de Recursos, com acesso pelo candidato com o fornecimento de dados referentes à sua inscrição, apenas no prazo recursal, à CONSULPLAN, conforme disposições contidas no site www.consulplan.net, no link correspondente ao Concurso Público; ou b) na Prefeitura Municipal de Congonhas/MG, por meio de requerimento, protocolado no Protocolo Geral.

TEXTO:

Onde fica o gol?

Em função da mobilização com a Copa do Mundo, andei me lembrando de uma conversa que tive com um amigo, anos atrás. Ele liderava uma equipe numa agência de publicidade e trabalhava em ritmo alucinado. No decorrer do papo, ele desabafou dizendo que era difícil conviver com colegas que não sabiam para que lado ir, o que fazer, como agir, e que, por causa dessas incertezas, perdiam tempo e faziam os outros perderem também. E exemplificou:

– Sabe por que eu sempre gostei do Pelé? Porque o Pelé pegava a bola em qualquer lugar do gramado e ia com ela reto para o gol. Ele sabia exatamente para onde tinha que chutar.

Isso que você nem é muito fã do esporte. – Comentei.

– Pois é, não jogo futebol, mas tenho alma de artilheiro: entro em campo e já saio perguntando onde é que é o gol. É pra lá? Então é pra lá que eu vou, sem desperdiçar meu tempo, sem ficar enfeitando.

Táí o que a gente precisa se perguntar todo dia quando acorda: onde é que é o gol?

Muitas pessoas vivem suas vidas como se dopadas, chutando para todos os lados, sem nenhuma estratégia, contando apenas com a sorte. Elas acreditam que, uma hora dessas, de repente, quem sabe, a bola entrará. E até que isso aconteça, esbanjam energia à toa.

Goal, em inglês significa objetivo. Você deve ter um. Conquistar um cliente, ser o padeiro mais conceituado do bairro, melhorar a aparência, sair de uma depressão, ganhar mais dinheiro, se aproximar dos seus pais. Pode até ser algo mais simples: comprar as entradas para um show, visitar um amigo doente, trocar o óleo do carro, levar flores para sua mulher. Ou você faz sua parte para colocar a bola dentro da rede ou seguirá chutando para as laterais, catimbando, sem atingir nenhum resultado.

Quase invejo quem tem tempo a perder: sinal de que é alguém irritantemente jovem, que ainda não se deu conta da ligeireza da vida. Já os veteranos não podem se dar ao luxo de acordar tarde, e, no caso, “acordar tarde” não significa dormir até meio-dia: significa dormir no ponto, comer mosca. Não dá. Depois de uma certa idade, é preciso ser mais atento e proativo.

Parece um jogo estafante, nervoso, mas não precisa ser. O gol que você quer marcar talvez seja justamente aprender a ter um dia a dia mais calmo, mais focado em seus reais prazeres e afetos, sem estresse. É uma meta tão valiosa quanto qualquer outra. Só que não pode ser um “quem sabe”, tem que ser um gol feito.

Esta é a diferença entre aqueles que realizam as coisas e os que ficam só empatando.

(Revista O Globo, 04 de julho de 2010, Martha Medeiros)

01) **Infere-se do texto que:**

- I. Há pessoas que vivem contando apenas com a sorte na vida.
- II. Deve-se ter um objetivo na vida.
- III. Depois de uma certa idade, é preciso ser mais atento e proativo.

Está(ão) correta(s) apenas a(s) afirmativa(s):

- A) I, II B) II, III C) I D) II E) I, II, III

02) **De acordo com o texto “Onde fica o gol?”, marque V para as afirmativas verdadeiras e F para as falsas:**

- () Há pessoas que vivem a vida sem estratégia, sem objetivo.
- () Há pessoas que esbanjam energia à toa na vida, sem atingir nenhum resultado.
- () Deve-se viver calmamente, focando nos prazeres reais e afetos, sem estresse.

A sequência está correta em:

- A) F, V, F B) V, V, V C) V, V, F D) F, F, V E) V, F, V

03) **– Sabe por que eu sempre gostei do Pelé?” O sinal de pontuação travessão (–) foi utilizado anteriormente para:**

- A) Encerrar qualquer tipo de período.
- B) Marcar uma pausa de curta duração.
- C) Indicar que alguém está falando de viva voz (discurso direto).
- D) Substituir a dupla vírgula.
- E) Isolar explicações.

04) **“Depois de uma certa idade, é preciso ser mais atento e proativo.” As palavras destacadas apresentam respectivamente, como significados corretos:**

- A) estulto, tolo / alguém que não age corretamente.
- B) cuidadoso, ponderado / alguém que antecipa futuros problemas, necessidades ou mudanças; é ser ágil e competente.
- C) fraco, débil / inopinado, inesperado.
- D) feito com intenção / equipamento de ideias.
- E) degradado / alguém derribado.



CONCURSO PÚBLICO – PREFEITURA MUNICIPAL DE CONGONHAS/MG

- 05) No trecho “*E até que isso aconteça, esbanjam energia à toa.*” o sinal indicativo da crase foi utilizado corretamente. Assinale a alternativa em que isso NÃO acontece:
- A) Fui à feira. D) Dirijo-me à Vossa Excelência.
B) Sentaram-se à sombra. E) Assisti àquele filme ontem.
C) Voltamos cedo à casa dos amigos.
- 06) “*Você deve ter um.*” No trecho anterior, o ponto final (.) foi utilizado para:
- A) Separar expressões de caráter explicativo. D) Isolar uma palavra estranha à língua culta.
B) Marcar a omissão do verbo. E) Marcar uma pequena pausa.
C) Encerrar o período.
- 07) “*– Pois é, não jogo futebol, mas tenho alma de artilheiro...*” a palavra destacada anteriormente exprime ideia de:
- A) Escolha. D) Explicação.
B) Contraste, oposição. E) Soma, adição.
C) Finalidade.
- 08) Assinale a afirmativa que apresenta a forma verbal adequada:
- A) Naquele dia, faltou dez pessoas. D) Haviam muitas pessoas nesse lugar.
B) O pessoal gritavam. E) Paulo eram as alegrias daquela família.
C) Ainda não chegaram os documentos.
- 09) Quanto à regência, assinale a afirmativa INCORRETA:
- A) Os amigos foram ao teatro. D) Lá em casa, somos três.
B) João namora com Maria. E) Nós aspiramos a uma boa faculdade.
C) Prefiro cinema a teatro.
- 10) “*É uma meta tão valiosa quanto qualquer outra.*” As palavras destacadas apresentam, respectivamente:
- A) dígrafo / encontro vocálico e tritongo D) ditongo / hiato e encontro vocálico
B) encontro vocálico / dígrafo e encontro vocálico E) hiato / encontro consonantal e hiato
C) hiato / ditongo e encontro consonantal

RACIOCÍNIO LÓGICO

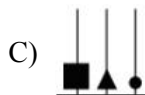
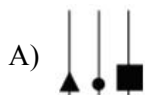
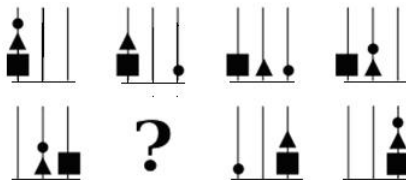
- 11) Dionísio tem uma fazenda, na qual existem várias macieiras com maçãs verdes e vermelhas. Numa caminhada pela fazenda, ele resolveu colher maçãs, de tal forma que o número de frutas colhidas num pé seria sempre o dobro do número colhido no pé anterior. Ele começou retirando apenas uma maçã no primeiro pé, e no segundo retirou duas maçãs, passando a ter 3 maçãs. No próximo pé, colheu quatro maçãs, ficando com um total de sete maçãs, e assim sucessivamente... Dionísio pretende distribuir todas as frutas colhidas em caixas que juntas comportam no máximo 2000 maçãs. Desejando não deixar frutas fora das caixas e respeitando as condições de colheita, indique o maior número de árvores que Dionísio pode ter utilizado na referida colheita:
- A) 12 B) 11 C) 10 D) 9 E) 13
- 12) Em uma concessionária de veículos há carros de duas e quatro portas, sendo 25% destes, de quatro portas. Após serem vendidos alguns carros de duas portas verificou-se que 37,5% daqueles que continuaram no estacionamento eram de quatro portas. Marque a afirmativa verdadeira:
- A) 40% dos carros de duas portas que havia nesta concessionária foram vendidos.
B) Mais da metade de todos os carros que havia nesta concessionária foram vendidos.
C) Foram vendidos 1/3 dos carros de duas portas que havia nesta concessionária.
D) 25% de todos os carros que havia nesta concessionária foram vendidos.
E) Foram vendidos 4/9 dos carros de duas portas que havia nesta concessionária.
- 13) Numa rua há 4 prédios: Edifício Solar, Edifício Independência, Edifício Aquarius e Edifício Novo Horizonte. Sabe-se que o número de andares do Solar é inferior ao do Novo Horizonte. O Independência não é o mais alto e o Aquarius não é o mais baixo. O número de andares do Independência é superior ao do Solar. O Novo Horizonte é o segundo mais alto. Qual das alternativas apresenta os edifícios em ordem crescente de altura?
- A) Edifício Novo Horizonte, Edifício Independência, Edifício Aquarius, Edifício Solar
B) Edifício Aquarius, Edifício Independência, Edifício Solar, Edifício Novo Horizonte
C) Edifício Solar, Edifício Independência, Edifício Novo Horizonte, Edifício Aquarius
D) Edifício Independência, Edifício Solar, Edifício Novo Horizonte, Edifício Aquarius
E) Edifício Solar, Edifício Independência, Edifício Aquarius, Edifício Novo Horizonte
- 14) Na sequência a seguir, quais letras correspondem às lacunas “-”, respectivamente:
- A L ! B K @ C - # D I \$ - H % F
- A) T, U B) J, E C) J, J D) Q, I E) E, J



CONCURSO PÚBLICO – PREFEITURA MUNICIPAL DE CONGONHAS/MG

- 15) Renato esqueceu sua senha bancária que possui 4 caracteres, sendo cada um deles uma letra ou um número. Porém, Renato sabe que apenas uma das informações a seguir é verdadeira. Assinale-a:
- A) A senha é composta por 3 algarismos pares distintos e 1 ímpar.
 - B) A senha apresenta 2 letras e 2 algarismos.
 - C) A senha é formada por 2 consoantes e 2 vogais.
 - D) A senha apresenta 4 algarismos distintos.
 - E) A senha apresenta 2 consoantes e 2 algarismos pares.

- 16) Marque a alternativa que corresponde à figura omitida em “?” na gravura apresentada:



- 17) Cosme, Emiliano e Damião frequentam uma famosa padaria da cidade. Cada um fez seu pedido, um delicioso doce e uma saborosa bebida. Entretanto, o distraído atendente Gomes não anotou corretamente os lanches. Não obstante, Gomes conhece bem os três amigos e facilmente deduziu o que cada um pediu. Gomes sabe que:
- Quem come pudim bebe café.
 - Damião sempre pede alfajor.
 - Cosme não pediu suco.
 - Aquele que come brigadeiro não bebe capuccino.

Logo:

- A) Cosme pediu pudim e café, Damião pediu alfajor e capuccino, Emiliano pediu brigadeiro e suco.
 - B) Cosme pediu pudim e capuccino, Damião pediu alfajor e café, Emiliano pediu brigadeiro e suco.
 - C) Damião pediu pudim e café, Emiliano pediu alfajor e capuccino, Cosme pediu suco e brigadeiro.
 - D) Emiliano pediu pudim e suco, Damião pediu alfajor e capuccino, Cosme pediu brigadeiro e café.
 - E) Cosme pediu alfajor e café, Damião pediu pudim e suco, Emiliano pediu brigadeiro e capuccino.
- 18) Numa cozinha, existem 48 copos distribuídos sobre a mesa, sobre a pia e guardados no armário. Sabe-se que o número de copos sobre a pia é igual à metade dos copos guardados no armário e o número de copos sobre a mesa é igual à metade do número de copos existentes nesta cozinha. Quantos copos estão guardados no armário?
- A) 14 B) 16 C) 18 D) 17 E) 19

- 19) Analise as proposições a seguir:

I. - + = 14

II. + - = 2

III.
$$\frac{\begin{array}{c} \text{Smiley face} + \text{Sad face} \\ \hline \text{Smiley face} \end{array}}{=} = 2$$

IV. x x = ?

Assinale a alternativa que corresponde ao valor de IV:

- A) 440 B) 480 C) 630 D) 450 E) 810



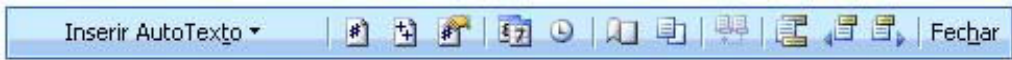
CONCURSO PÚBLICO – PREFEITURA MUNICIPAL DE CONGONHAS/MG

- 20) Laura comprou três calçados para presentear seu marido Lucas, sua filha Luana e seu filho Leandro, sendo estes calçados: um par de sandália, um par de tênis e um par de sapato não necessariamente nesta ordem. Sabe-se que estes calçados estavam em caixas de cores verde, azul e cinza. Analise as afirmativas:
- I. Lucas não ganhou o tênis.
 - II. O sapato estava na caixa azul.
 - III. A caixa verde foi entregue a filha de Laura.
 - IV. Leandro ganhou a sandália.
- Logo:**
- A) A sandália estava na caixa verde.
 - B) Luana ganhou o sapato.
 - C) O filho de Laura ganhou a caixa cinza.
 - D) O presente de Luana não estava na caixa verde.
 - E) O marido de Laura não ganhou a caixa azul.

INFORMÁTICA BÁSICA

- 21) A opção que descreve corretamente as teclas de atalho e suas respectivas funções no Microsoft Word 2003 (configuração padrão), é:
- A) F6 – Verificar ortografia e gramática.
 - B) Ctrl + N – Arquivo novo.
 - C) Ctrl + A – Abrir documento.
 - D) Ctrl + S – Salvar.
 - E) F2 – Ajuda.
- 22) No Microsoft Excel 2003 (configuração padrão), o caminho para a Importação de dados externos, é:
- A) Menu Arquivo, opção Importar dados externos.
 - B) Menu Dados, opção Importar dados externos.
 - C) Menu Inserir, opção Importar dados externos.
 - D) Menu Formatar, opção Importar dados externos.
 - E) Menu Ferramentas, opção Importar dados externos.
- 23) Com relação ao uso do Microsoft Excel 2003 (configuração padrão), analise o fragmento de planilha:

	A	B	C	D
1	4	2	8	
2	7	3	2	
3	9	6	4	
4				

- Ao ser aplicada na célula D4, a fórmula =MÉDIA(A1:C3)*2, obtém-se como resultado o valor de:
- A) 8
 - B) 10
 - C) 12
 - D) 14
 - E) 16
- 24) No Microsoft Word 2003 (configuração padrão), os ícones da figura apresentada são componentes da seguinte barra de ferramentas:
- 
- A) Padrão.
 - B) Formatação.
 - C) Formulários.
 - D) Desenho.
 - E) Cabeçalho e rodapé.
- 25) Na manipulação de arquivos, a partir do Windows Explorer, assinale a função da combinação das teclas Ctrl + X:
- A) Copiar arquivo ou pasta selecionada.
 - B) Selecionar todos arquivos e pasta do diretório atual.
 - C) Recortar arquivo ou pasta selecionada.
 - D) Renomear arquivo ou pasta selecionada.
 - E) Excluir arquivo ou pasta selecionada.
- 26) No Microsoft Word 2003 (configuração padrão), tem-se um documento de 100 páginas. Sabe-se que a intenção é imprimir da página 30 a 50. O preenchimento do intervalo de páginas no assistente do comando Imprimir deve ser:
- A) 30:50
 - B) 30;50
 - C) 30a50
 - D) 30-50
 - E) 30#50
- 27) Na estrutura de pastas do Windows Explorer (Windows XP Professional), o conteúdo da área de trabalho é armazenado no Item:
- A) Meus locais de rede.
 - B) Painel de controle.
 - C) Desktop.
 - D) Todos os programas.
 - E) Lixeira.
- 28) No Microsoft Word 2003 (configuração padrão), o ícone da barras de ferramentas Padrão referente ao comando visualizar impressão, é:

- A) 
- B) 
- C) 
- D) 
- E) 



CONCURSO PÚBLICO – PREFEITURA MUNICIPAL DE CONGONHAS/MG

29) São categorias de funções do Microsoft Excel (versão 2003 / configuração padrão), EXCETO:

- A) Financeira. B) Data e hora. C) Geometria. D) Estatística. E) Lógica.

30) Analise o fragmento de planilha do Microsoft Excel 2003 (configuração padrão):

	D4			
	A	B	C	D
1	1	3	1	
2	2	2	2	
3	3	1	3	
4				

Ao ser aplicada na célula D4, a fórmula: =SOMA(A1:A3;C1:C3)^2, obtém-se como resultado o valor de:

- A) 16 B) 24 C) 64 D) 144 E) 388

CONHECIMENTOS ESPECÍFICOS

31) Em HTML, qual tag permite exibir mais de um documento HTML na mesma janela do navegador?

- A) B) <fr> C) <frame> D) <form> E) <strike>

32) A linguagem PHP:

- I. Possui scripts que são executados no servidor.
 II. Suporta vários bancos de dados exceto Informix e Solid.
 III. É um software livre.
 IV. Possui somente a extensão .php

Está(ão) correta(s) apenas a(s) afirmativa(s):

- A) I B) I, II, III C) IV D) I, III E) III

33) Na linguagem PHP, qual o operador representa o operador lógico AND?

- A) !! B) || C) % D) && E) +

34) Qual instrução SQL é usada para atualizar os dados em um banco de dados?

- A) SAVE AS B) SAVE C) MODIFY D) UPDATE E) SELECT

35) Qual sintaxe é utilizada no PHP para a função de conexão com o MySql Database?

- A) mysql(username,password,servername) D) connect (servername,password, username)
 B) mysql_connect(servername,username,password) E) mysql_connect(servername, password, username)
 C) mysql_connect(username,password,servername)

36)

Tabela: Vendas

ID	Data	Valor_Compra	Cliente
1	10/02/2009	1000	Correa
2	23/10/2009	1600	Pedro
3	09/02/2010	800	Correa
4	09/03/2010	200	Correa
5	30/08/2009	2000	Cooperativa
6	10/04/2010	100	Pedro

Query:

```
SELECT Cliente, SUM(Valor_Compra) FROM Vendas
GROUP BY Cliente
HAVING SUM(Valor_Compra)<2000
```

Qual a resposta correta para a query?

A)

Cliente	SUM(Valor_Compra)
Pedro	1700
Correa	1900

D)

Cliente	SUM(Valor_Compra)
Pedro	1800

B)

Cliente	SUM(Valor_Compra)
Pedro	1700

E)

Cliente	SUM(Valor_Compra)
Pedro	1700
Correa	2000
Cooperativa	2000

C)

Cliente	SUM(Valor_Compra)
Correa	2000
Cooperativa	2000



CONCURSO PÚBLICO – PREFEITURA MUNICIPAL DE CONGONHAS/MG

- 37) Em HTML, qual alternativa define corretamente o que faz a tag <area>?
- A) Um mapa de imagem. D) Uma área com tamanho definido para a tabela.
B) Uma imagem. E) Uma área não clicável dentro de um mapa.
C) Uma área clicável dentro de um mapa de imagem.
- 38) Qual instrução SQL é usada para inserir novos dados em uma tabela do banco de dados?
- A) ADD NEW D) INSERT NEW
B) ADD RECORD E) INSERT
C) INSERT INTO
- 39) Com SQL, assinale a sintaxe utilizada para selecionar a coluna chamada Nome de uma tabela chamada Alunos:
- A) EXTRACT Nome FROM Alunos D) FIND Nome FROM Alunos
B) SELECT Alunos.Nome E) EXTRACT Alunos FROM Nome
C) SELECT Nome FROM Alunos
- 40) MySQL realiza comparações de acordo com as seguintes regras:
- I. Se um ou ambos os argumentos são NULL, o resultado da comparação é NULL, exceto para o operador <=>.
II. Se ambos os argumentos em uma comparação são strings, eles são comparados como strings.
III. Valores hexadecimais são tratados como strings binárias, se não comparadas a um número.
IV. Se um dos argumentos é uma coluna TIMESTAMP ou DATETIME e o outro argumento é uma constante, a constante é convertida para um timestamp antes da comparação ser realizada.
- Está(ão) correta(s) apenas a(s) afirmativa(s):
- A) I B) I, II, IV C) I, III, IV D) IV E) I, II, III, IV
- 41) Quais os parâmetros necessários para remover totalmente um pacote, utilizando o comando apt-get no Linux Debian?
- A) apt-get remove <pacote> D) apt-get --remove <pacote>
B) apt-get --purge <pacote> E) apt-get purge <pacote>
C) apt-get remove --purge <pacote>
- 42) Qual comando deve ser executado para iniciar o sistema X Window no Linux Debian?
- A) xhost + B) exec startx C) xterm D) exec xhost E) exec xterm
- 43) Quais os parâmetros necessários para instalar uma versão específica de um pacote, utilizando o comando apt-get no Linux Debian ?
- A) apt-get install <pacote>=<versao> D) apt-get install <pacote> -version <versao>
B) apt-get install <pacote> version <versao> E) apt-get install <pacote> -v <versao>
C) apt-get -install <pacote> -version <versao>
- 44) Qual a combinação de teclas para terminar o programa servidor do X Window no Linux Debian?
- A) Ctrl-Alt-x D) Ctrl-Alt-Backspace
B) Ctrl-Shift-x E) Ctrl-Shift-Backspace
C) Ctrl-x
- 45) Quais permissões um arquivo terá, após a execução do comando chmod 641, no Linux Debian?
- A) -rw-r--r-- B) -rw--w-r-- C) -rw-r----x D) -rw-r--r-x E) -r-xr-xr--
- 46) Qual a sintaxe, para que após a execução com sucesso de um comando, seja executado um segundo comando no Linux Debian?
- A) comando1 | comando2 D) comando1 || comando2
B) comando1 << comando2 E) comando1 && comando2
C) comando1 >> comando2
- 47) Qual a linha de comando correta para listar apenas os processos que contenham a palavra start, no Linux Debian?
- A) ps -ef | grep start D) ps | grep start
B) ps -Ef >> grep start E) ps -f << grep start
C) ps -f & grep start
- 48) Qual operador deve ser usado dentro de um shell script, para verificar se um arquivo é executável no Linux Debian?
- A) -e B) -ex C) -x D) -r E) -ef



CONCURSO PÚBLICO – PREFEITURA MUNICIPAL DE CONGONHAS/MG

- 49) Os atos administrativos de competência do Prefeito devem ser expedidos com observância de algumas normas, conforme dispõe a Lei Orgânica de Congonhas. O uso de Portaria se dará nos seguintes casos, EXCETO:
- A) Provimento e vacância de cargos públicos.
 - B) Criação de comissões e designação de seus membros.
 - C) Regulamentação da lei instituída pelo Executivo.
 - D) Designação para função gratificada.
 - E) Abertura de sindicância e processo administrativo e aplicação de penalidades.
- 50) “O município manterá os livros necessários ao registro de seus serviços.” Considerando esta afirmativa, nas alternativas abaixo, marque V para as verdadeiras e F para as falsas:
- () Os livros poderão ser substituídos por fichas ou sistema informatizado, com garantia de fidedignidade.
 - () Os livros deverão ser abertos, rubricados e encerrados pelo Prefeito e pelo Secretário desta.
 - () Os livros, fichas ou outro sistema, estarão abertos a consultas de qualquer cidadão, desde que lhe seja deferida em requerimento fundamentado.
- A sequência está correta em:
- A) V, V, F
 - B) V, F, V
 - C) V, V, V
 - D) F, F, F
 - E) F, V, V

CONHECIMENTOS GERAIS

- 51) “As conquistas alcançadas pelas minorias ocorrem sempre envolvidas em polêmicas e grandes desdobramentos que se tornam parte da história de um povo. Em meio a muita discussão, manifestações contrárias ou a favor, no dia 15 de julho de 2010, o Senado da Argentina aprovou uma lei por 33 votos a favor, 27 contra e 3 abstenções, que coloca esta nação em posição única na América Latina, embora duas outras (Colômbia e Uruguai) já tenham apresentados avanços no que diz respeito a mesma questão. Hoje, a Argentina se inclui num grupo onde se encontram países como Holanda, Bélgica, Espanha, Canadá, África do Sul, Portugal e Suécia.” O enunciado trata-se de:
- A) Legalização do aborto como uma intervenção natural de responsabilidade e escolha da mulher.
 - B) Liberação do jogo e da abertura de negócios específicos a essa prática, como os cassinos.
 - C) Reconhecimento dos crimes cometidos pela Ditadura Militar da década de 1970 e 1980, e do ressarcimento financeiro das famílias que tiveram vítimas do regime.
 - D) Lei que autoriza o matrimônio de pessoas do mesmo sexo no país.
 - E) Legalização do consumo de drogas, como a maconha, cocaína, sintéticas, entre outras, que passam a ser comercializadas livremente em drogarias e mercados específicos.
- 52) Existem grandes distorções quanto às nomenclaturas “Comunidade Britânica”, “Reino Unido”, “Grã-Bretanha” e “Inglaterra”, já que muitas pessoas acreditam tratar-se de sinônimos. Sobre esses conceitos, marque V para as afirmativas verdadeiras e F para as falsas:
- () A Grã-Bretanha é formada por Inglaterra, Escócia e País de Gales que se encontram situados numa mesma ilha.
 - () O Reino Unido é formado pela Inglaterra, Escócia, País de Gales, Irlanda e Irlanda do Norte.
 - () A moeda corrente no Reino Unido é o Euro, com exceção da Inglaterra que mantém a libra até 2012, quando fará um plebiscito popular.
 - () A Comunidade Britânica é formada por 53 estados independentes – o Reino Unido está incluído como um único estado – dentre os quais podemos destacar Austrália, África do Sul e Índia.
- A sequência está correta em:
- A) V, V, F, F
 - B) V, F, V, F
 - C) V, F, F, V
 - D) F, F, V, V
 - E) F, V, F, V

- 53) Uma equipe da Universidade Hebraica de Jerusalém descobriu em escavações em *Tel Hazor*, no norte de Israel, o fragmento de uma tábua cuneiforme que apresenta semelhanças com o conteúdo e o momento da escritura do *Código de Hamurabi*, um dos mais antigos conjuntos de leis escritas que pregava, segundo a Bíblia, principalmente:
- A) “Olho por olho, dente por dente.”
 - B) “A defesa é o mais legítimo direito dos homens.”
 - C) “Todo homem luta com mais bravura pelos seus interesses que pelos seus direitos.”
 - D) “Faça sendo, aprenda fazendo.”
 - E) “O homem é responsável por si mesmo.”

- 54) “Sabe no futebol, quando você está naquela pressão dos minutos de acréscimo? É assim que me sinto”, disse ao G1 Efraim Zuroff, o maior caçador de nazistas do mundo, com uma risada desesperada ao telefone. Ele se referia ao pouco tempo que tem para colocar no banco dos réus alguns nazistas suspeitos — e até já condenados — por atos criminosos durante a Segunda Guerra Mundial. Na semana passada, Adolf Storms, um dos homens mais procurados por Zuroff, morreu na Alemanha, aos 90 anos. Infelizmente, muito infelizmente, ele morreu sem ser julgado”, disse o historiador.
- (Giovana Sanchez, Do G1)



CONCURSO PÚBLICO – PREFEITURA MUNICIPAL DE CONGONHAS/MG

60) Analise as afirmativas correlatas:

- I.** *A Cachoeira de Santo Antônio está localizada no Parque da Cachoeira, que é um dos principais pontos de lazer e descanso diurno dos moradores de Congonhas.*
- II.** *O Parque está inserido na sub-bacia do rio Soledade, que passa pelo distrito de Lobo Leite e deságua no rio Maranhão.*

Assinale a alternativa correta:

- A) As duas afirmativas estão totalmente corretas.
- B) Apenas a primeira afirmativa está totalmente correta.
- C) Apenas a segunda afirmativa está totalmente correta.
- D) As duas afirmativas estão totalmente incorretas.
- E) A segunda afirmativa está correta e a primeira está parcialmente incorreta.

