

0 075006 461223



Conselho Federal de Serviço Social - CFESS

CONCURSO PÚBLICO Nº 001/2016



Analista

Manhã ÚNICO

Organizadora:



LÍNGUA PORTUGUESA**São só contas de vidro**

Os índios ficaram deslumbrados com as contas de vidro que os portugueses lhes davam. Por quê? Por causa da beleza dessas contas de vidro? Pouco provável. Para encontrar coisas belas, tudo o que os nativos tinham de fazer era olhar ao redor: as árvores, os pássaros, as flores. Mas as contas de vidro representavam duas coisas. Em primeiro lugar, eram novidade, coisa desconhecida por ali. Em segundo lugar, eram novidade, de uma tecnologia que os índios não dominavam e que, por isso, admiravam. Mais de cinco séculos se passaram e continuamos dominados pela mesma reverência à tecnologia. Exemplo: o automóvel tem absoluta prioridade em relação aos pedestres, mesmo em situações em que estes são vários e em que o veículo transporta uma única pessoa. Muitos brasileiros ficam assombrados ao saber que em Brasília os motoristas respeitam a faixa de segurança. Em outras cidades, faixa de segurança é mero detalhe, pouco importante diante da potência que é o automóvel. Isso também explica a quantidade de acidentes de trânsito que temos; a sensação de poder de que goza o motorista muitas vezes perturba sua capacidade de discernimento.

O verdadeiro progresso traz junto consigo os mecanismos de controle para esses excessos. Na Europa e nos Estados Unidos, os motoristas, em geral (claro que há numerosas exceções), dirigem com cautela, pela simples razão de que podem responder no tribunal por qualquer problema, até mesmo psicológico, que venham a causar a outras pessoas. A noção de espaço público lá está muito presente. No Brasil é diferente. Se o espaço é público, isso não significa que é de todos, que todos têm de cuidar dele; não, se o espaço é público, ele não é de ninguém. Nos cinemas brasileiros, celulares tocam com frequência e às vezes seus proprietários mantêm longas conversas, em voz alta, durante a exibição do filme. Os outros espectadores que se lixem. Existe aí um motivo adicional, além do desrespeito ao local coletivo. O telefone, no Brasil, ainda guarda a aura de um passado em que era privilégio de poucos. Conseguir uma linha era missão quase impossível. Quem tinha telefone tinha poder, e esta imagem, de certo modo, persiste. Infelizmente, porque poucos meios de comunicação são tão invasivos. Cartas e *e-mails* ficam pacientemente à nossa espera. O telefone, não. O telefone soa insistentemente, e temos de atender, não importa o que estejamos fazendo no momento – almoçando, tomando banho, fazendo amor. E quem liga também não dá bola para esses detalhes. A elementar pergunta – “Você pode falar?” – raramente é feita. Ligação telefônica desloca para um segundo plano qualquer outra coisa. Digamos que você esteja sendo atendido por um funcionário no banco. Se tocar o telefone, você e todos os outros que estão esperando terão de se conformar: o funcionário atenderá à chamada, não raro longa.

O celular é ótima coisa. Pessoas que, por falta de telefone, ficavam em verdadeiro estado de marginalização social, agora podem se comunicar facilmente. Existe hoje uma verdadeira cultura do celular, mas ela, infelizmente, ainda não inclui a noção de respeito ao outro. Chegaremos lá, claro, se não mediante leis, como fazem os países mais adiantados, então pela evolução natural da arte do convívio. As pessoas aprendem. E um dia descobrem que as brilhantes contas de vidro são só isto: contas de vidro.

(SCLIAR, Moacyr. Do jeito que nós vivemos. Belo Horizonte: Ed. Leitura, 2007.)

01

Como assunto principal que motiva o autor a realizar a discussão apresentada pode-se apontar:

- A) O comportamento da sociedade atual em relação à tecnologia.
- B) Os meios necessários para que o equilíbrio entre o tradicional e o novo seja alcançado.
- C) O deslumbramento dos índios com aquilo que era até então desconhecido, apresentado pelos portugueses.
- D) A relação entre beleza natural, elemento integrante da realidade indígena, e a imposição da cultura europeia.

02

De acordo com as ideias trazidas ao texto, pode-se afirmar em relação ao título apresentado que

- A) o termo “só” produz um efeito de sentido quantitativo em relação às “contas de vidro”.
- B) é possível identificar uma orientação argumentativa através do emprego do termo “só”.
- C) a caracterização do objeto “contas” demonstra a intenção de ressaltar sua relevância no discurso.
- D) a substituição da locução adjetiva empregada por adjetivo correspondente atribuiria maior ênfase ao objeto que determina.

09

Em “*Se o espaço é público, isso não significa que é de todos, que todos têm de cuidar dele; não, se o espaço é público, ele não é de ninguém.*” (2º§), o autor expõe seu ponto de vista acerca do espaço público

- A) através de uma oposição de ideias.
- B) empregando linguagem conotativa, valorizando seus argumentos.
- C) a partir de uma condição para que o espaço seja considerado público.
- D) utilizando negações expressas de formas diferentes, mas que possuem o mesmo significado.

10

Assinale a alteração para a frase: “*Existe aí um motivo adicional, além do desrespeito ao local coletivo.*” (3º§) cuja correção linguística pode ser observada:

- A) Existe aí motivos adicionais, além do desrespeito ao local coletivo.
- B) Haveriam aí motivos adicionais, além do desrespeito ao local coletivo.
- C) Deve haver aí motivos adicionais, além do desrespeito ao local coletivo.
- D) Devem haver aí motivos adicionais, além do desrespeito ao local coletivo.

RACIOCÍNIO LÓGICO














11

Uma família de 5 pessoas consome 250 g de arroz por dia. Quantos pacotes de arroz de 2 kg serão necessários para servir uma família com 8 pessoas num período de 30 dias?

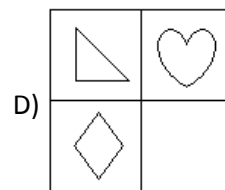
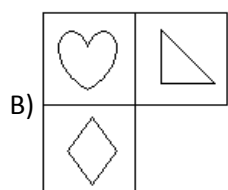
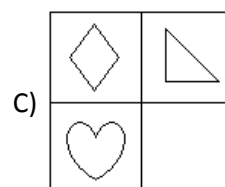
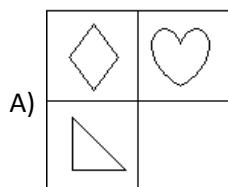
- A) 4.
- B) 5.
- C) 6.
- D) 7.

12

Observe as figuras no quadro a seguir.

Qual das figuras preenche corretamente os espaços em branco no quadro apresentado?



13

Num certo ano o primeiro dia caiu numa quarta-feira e o último dia caiu numa quinta-feira. Neste ano, o dia do trabalho, ou seja, 1º de maio caiu num(a):

- A) Quarta-feira.
- B) Quinta-feira.
- C) Sexta-feira.
- D) Sábado.

14

Júlia, Paula e Fernanda são irmãs e sobre suas idades sabe-se que:

- a soma de suas idades é igual a 82 anos;
- um terço da idade de Júlia é igual a dois quintos da idade de Fernanda; e,
- três quintos da idade de Júlia são iguais a dois terços da idade de Paula.

A diferença de idade entre a irmã mais velha e a mais nova é de:

- A) 3 anos. B) 4 anos. C) 5 anos. D) 6 anos.

15

Em um grupo de pessoas tem-se que:

- 30% delas são canhotas;
- há 12 homens a mais que mulheres;
- 10 homens são canhotos e 14 mulheres são destrás; e,
- o número de mulheres canhotas corresponde a 10% das pessoas.

Escolhendo uma pessoa desse grupo, a probabilidade de que ela seja um homem destro é de:

- A) 36%. B) 38%. C) 42%. D) 46%.

CONHECIMENTOS GERAIS

16



(Disponível em: <http://www.portaldotocantins.com/2015/06/25/fi-pelo-crime.>)

Substantivo masculino

“Crime que consiste na subtração ou desvio, por abuso de confiança, de dinheiro público ou de coisa móvel apreciável, para proveito próprio ou alheio, por funcionário público que os administra ou guarda; abuso de confiança pública.”

(Disponível em: [http://www.infoescola.com/direito/peculato/.](http://www.infoescola.com/direito/peculato/))

Através da análise da imagem e do fragmento de texto anteriores, é correto afirmar que trata-se do crime:

- A) Peculato. B) Concussão. C) Sonegação. D) Prevaricação.

17

“As bandeiras tarifárias são uma forma diferente de apresentar um custo que hoje já está na conta de energia de todo país, mas, geralmente, não é percebido pelo consumidor. Anteriormente, os custos com compra de energia pelas distribuidoras eram incluídos no cálculo das tarifas dessas distribuidoras e repassados aos consumidores até um ano depois de sua ocorrência, quando a tarifa era reajustada.”

(Disponível em: https://www.cemig.com.br/pt-br/atendimento/Paginas/Bandeiras_tarif%C3%A1rias.aspx.)

Em relação às bandeiras tarifárias das contas de energia, analise as afirmativas a seguir.

- Com as bandeiras, a sinalização mensal do custo de geração da energia elétrica que é cobrado do consumidor passa a constar nas faturas, com acréscimo já no mês da ocorrência.
- Na bandeira verde, que representa condições favoráveis de geração de energia, a tarifa sofre o maior acréscimo, embora não faça parte permanente na conta da luz.
- A cor das bandeiras tarifárias é definida pela Agência Nacional de Energia Elétrica (Aneel), de acordo com as condições de geração energética.
- A bandeira vermelha, que indica condições mais custosas de geração de energia, faz com que a tarifa não sofra acréscimo e mantém o consumidor isento das taxas do mês seguinte.

Estão corretas apenas as afirmativas

- A) I e II. B) I e III. C) II e IV. D) II, III e IV.

18

“Corpo que se para de funcionar provoca / um grave acontecimento na família: / sem ele não há José Ribamar Ferreira / não há Ferreira Gullar / e muitas pequenas coisas acontecidas no planeta / estarão esquecidas para sempre.”

(GULLAR, Ferreira. Trecho do “Poema sujo”. Disponível em: <http://oglobo.globo.com/cultura/morre-poeta-ferreira-gullar-aos-86-anos-20586864>.)

Falecido no início do mês de dezembro de 2016, autor de inúmeras obras, tais como: “Resmungos” e “Em alguma parte alguma”, livros premiados, nacional e internacionalmente, o escritor é um dos fundadores, no Brasil, do movimento:

- A) Parnasiano. B) Modernista. C) Neoconcretista. D) Ultrarromântico.

19

Com 100% da urnas apuradas, o “não” venceu o “sim” por 60% contra 40%. O comparecimento às urnas foi de 70%. Opositores da proposta do referendo na Itália questionavam a falta de consenso político e social para passar uma reforma dessa proporção. Eles criticavam o acontecimento e aguardavam o resultado com ansiedade. Dentre os principais objetivos do referendo italiano estava:

- A) A mudança do sistema de governo italiano, da atual monarquia, para presidencialismo bicameral.
B) A saída definitiva da Itália da União Europeia, da qual já está afastada desde o *Brexit*, em julho deste ano.
C) O retorno do euro como moeda de transação comercial na Itália, substituído pelo marco italiano, desde a crise da União Europeia.
D) A maior reforma constitucional do país desde 1948. Se fosse aprovada, resultaria na modificação de 46 dos 138 artigos da Constituição italiana.

20

Brasil cai em ranking mundial de educação em ciências, leitura e matemática

Dados do Pisa, prova feita em 70 países, foram divulgados nesta terça; Brasil ficou na 63ª posição em ciências, na 59ª em leitura e na 66ª colocação em matemática.

“Os resultados do Brasil no Programa Internacional de Avaliação de Estudantes (Pisa, na sigla em inglês), divulgados na manhã desta terça-feira (6), mostram uma queda de pontuação nas três áreas avaliadas: ciências, leitura e matemática. A queda de pontuação também refletiu uma queda do Brasil no *ranking* mundial: o país ficou na 63ª posição em ciências, na 59ª em leitura e na 66ª colocação em matemática.”

(Disponível em: <http://g1.globo.com/educacao/noticia/brasil-cai-em-ranking-mundial-de-educacao-em-ciencias-leitura-e-matematica.ghtml>.)

Sobre a prova do PISA é correto afirmar que:

- A) Do resultado da avaliação do Pisa depende o resultado de aprovação ou reprovação de cada aluno em sua respectiva série.
B) A aplicação do Pisa é 100% por meio do computador, desde a sua criação, em todos os países em que acontece, para evitar diferenciações de país para país.
C) A avaliação envolve todos os estudantes do ensino fundamental de cada país, distribuídos em todos os estados, incluindo escolas estaduais e particulares.
D) É uma iniciativa de avaliação, para estudantes na faixa dos 15 anos, idade em que se pressupõe o término da escolaridade básica obrigatória na maioria dos países.

CONHECIMENTOS ESPECÍFICOS

21

Uma indústria pretende investir em maquinário com vistas a aumentar sua produção. Para tanto, adquire uma máquina a prazo, cujo valor foi dividido em três parcelas mensais iguais de R\$ 10.000,00, postecipadas. Considerando que a taxa de juros do fornecedor é de 10% a.m., o valor à vista desta máquina, em R\$, é:

(No valor à vista da máquina, ignorar as casas decimais.)

- A) 24.868,00. B) 24.962,00. C) 25.104,00. D) 25.234,00.

22

Uma instituição financeira trabalha com uma taxa de desconto simples comercial de 3% a.m. para desconto de notas promissórias à micro e pequenas empresas. Assim, o valor líquido recebido por uma empresa ao descontar uma nota promissória com valor de face de R\$ 4.200,00, 40 dias antes de seu vencimento, em R\$, é:

- A) 3.996,00. B) 4.032,00. C) 4.084,00. D) 4.102,00.

23

Uma empresa irá quitar um empréstimo de R\$ 100.000,00 através do Sistema de Amortizações Constantes (SAC), em cinco prestações mensais, à taxa de 5% a.m.. Considerando que o credor ofereceu dois meses de carência para o pagamento da primeira amortização, que será paga, portanto, somente no terceiro mês, mas que não há carência para o pagamento mensal dos juros, então o valor total pago pelo empréstimo, em R\$, será:

- A) 117.750,00. B) 120.250,00. C) 122.500,00. D) 125.000,00.

24

Analise as afirmativas sobre a ferramenta *Microsoft Office Word 2007* (configuração padrão).

- I. O recurso de espaçamento entre linhas está localizado no grupo Estilo da guia Início.
II. O recurso caixa de texto está localizado no grupo Texto da guia Inserir.
III. O recurso ortografia e gramática está localizado no grupo Revisão de Texto da guia Revisão.

Está(ão) correta(s) apenas a(s) afirmativa(s)

- A) I. B) II. C) III. D) II e III.

25

Analise as seguintes afirmativas sobre funções na ferramenta *Microsoft Office Excel 2007* (configuração padrão).

- I. A função *SOMA* é utilizada para somar todos valores as células especificadas por um determinado critério ou condição.
II. A função *TRUNCAR* arredonda um número até uma quantidade especificada de dígitos.
III. A função *INT* arredonda um número para baixo até o número inteiro mais próximo.

Está(ão) correta(s) apenas a(s) afirmativa(s)

- A) I. B) II. C) III. D) II e III.

26

O maior objetivo de qualquer serviço logístico é o de alcançar a qualidade no fluxo de bens e serviços prestados aos seus clientes. Para alcançar esta qualidade, é necessário que diversos processos inerentes à cadeia logística sejam executados de forma satisfatória. O nível de serviço logístico é, portanto, um conjunto de diversos elementos que podem ser agrupados em três diferentes estágios durante a aquisição de um produto ou serviço: pré-transação, transação e pós-transação. Sobre os diversos elementos que compõem o “nível de serviço logístico”, classifique-os em: 1 – elementos pré-transação; 2 – elementos de transação; e, 3 – elementos de pós-transação.

- () Disponibilidade de estoque.
() Políticas de entrega e devoluções.
() Rede de atendimento para garantia e reparos.
() Tempo de entrega do pedido.
() Sistema de rastreamento do produto.
() Opções de transporte para a entrega.

A sequência está correta em

- A) 2, 1, 3, 2, 3, 2. B) 1, 2, 2, 3, 1, 3. C) 2, 3, 2, 1, 3, 2. D) 3, 3, 2, 1, 2, 3.

27

As organizações estão inseridas atualmente em um ambiente em que as mudanças acontecem de uma forma cada vez mais rápida. É constante a necessidade de que as empresas se adaptem a novos padrões, metodologias e, principalmente, a novas tecnologias. Diante disso, é fundamental que os gestores estejam sempre atentos com relação ao treinamento e desenvolvimento de seus colaboradores, fator essencial para a sobrevivência da empresa em um mercado dinâmico e competitivo. De acordo com as quatro etapas que compõem o processo de treinamento, relacione-as adequadamente às suas características.

1. Diagnóstico. () Elaboração do programa de treinamento para atender às necessidades diagnosticadas.
2. Desenho. () Verificação dos resultados obtidos com o treinamento.
3. Implementação. () Aplicação e condução do programa de treinamento.
4. Avaliação. () Levantamento das necessidades de treinamento a serem satisfeitas.

A sequência está correta em

- A) 3, 1, 2, 4. B) 2, 4, 3, 1. C) 4, 2, 3, 1. D) 2, 3, 4, 1.

28

Para que uma organização possa implementar suas atividades administrativas, de vendas ou de produção de forma satisfatória, um fator determinante é o atendimento eficiente às necessidades de suprimentos da empresa. O setor de compras é o responsável por suprir a organização de todas as suas necessidades materiais, sendo, portanto, considerado de natureza estratégica. Sobre as atividades centrais de um departamento de compras, assinale a alternativa **INCORRETA**.

- A) Verificar as notas fiscais.
- B) Selecionar fontes de suprimento.
- C) Manter relacionamento com vendedores.
- D) Receber de cada setor solicitante os preços a serem pagos pelas mercadorias compradas.

29

A seleção de modais de transporte depende de uma série de fatores de mercado, como o custo, a disponibilidade, a capacidade ou a sua adequação ao produto transportado, dentre outros. É certo que a escolha correta de um modal de transporte é determinante para o preço final do produto e para o nível de serviço prestado em um determinado mercado consumidor. Sobre os diversos modais de transporte disponíveis no mercado, bem como suas principais características, analise as afirmativas a seguir, marque **V** para as verdadeiras e **F** para as falsas.

- () O modal rodoviário é mais adequado para rotas curtas de produtos acabados ou semiacabados. Oferece entregas razoavelmente mais rápidas e confiáveis de cargas parceladas.
- () O modal ferroviário é considerado o mais rápido e recomendado para o transporte de pequenas cargas em pequenas distâncias.
- () O modal aéreo é considerado um transporte de baixo valor de frete, sendo recomendado, portanto, para produtos de baixo valor agregado.
- () O modal dutoviário, apesar de lento, pode funcionar durante 24 horas sem descanso. Possui alto investimento de construção mais baixo investimento de manutenção.

A sequência está correta em

- A) F, F, V, V.
- B) V, V, F, F.
- C) V, F, F, V.
- D) F, F, F, V.

30

Um dos principais objetivos da correta gestão de estoques é evitar que produtos armazenados, com baixa rotatividade, possam se deteriorar ou ficarem obsoletos. O principal método para se identificar materiais com baixa rotatividade é através do cálculo do “giro de estoques”. Assim, considere que “a empresa ‘Mix Produtos’ atua no setor de autopeças, tendo vendas anuais em torno de R\$ 1.850.000,00, sendo que o seu custo anual de vendas é de R\$ 581.000,00 e o seu lucro anual é de R\$ 85.000,00 e tendo em seus estoques um investimento de R\$ 140.000,00”. Com base nos dados disponibilizados, qual é o giro de estoque?

- A) 3,18 vezes ao ano.
- B) 4,15 vezes ao ano.
- C) 5,87 vezes ao ano.
- D) 6,83 vezes ao ano.

31

As organizações e as pessoas não se encontram ao acaso. As empresas recrutam no mercado de trabalho pessoas que se encaixam em suas políticas, em suas crenças, em suas estratégias organizacionais e, principalmente, pessoas com o perfil desejado para a execução de determinadas funções. Trata-se de uma escolha recíproca, que depende de diversas circunstâncias e que pode ser influenciada pela “lei da oferta e da procura”. Com relação às diferentes formas de recrutamento, classifique as afirmativas em “recrutamento interno” ou “recrutamento externo”.

- “Recrutamento _____: os cargos vagos são preenchidos pelos próprios funcionários que são selecionados e promovidos dentro da organização.”
- “Recrutamento _____: os candidatos são desconhecidos pela organização e precisam ser testados e avaliados pelo processo seletivo.”
- “Recrutamento _____: as oportunidades de emprego são oferecidas ao mercado, cujos candidatos podem disputá-las.”
- “Recrutamento _____: os candidatos já são conhecidos pela organização, pois já foram avaliados, já passaram por testes e por programas de treinamento anteriores.”

Assinale a alternativa que completa correta e sequencialmente as afirmativas anteriores.

- A) interno / externo / externo / interno
- B) interno / externo / interno / externo
- C) externo / interno / externo / interno
- D) externo / interno / interno / externo

32

Nos últimos anos, as organizações vêm investindo cada vez mais em seu patrimônio de maior valor: as pessoas. O capital humano vem se consolidando como o ativo mais importante nas empresas, uma vez que são as pessoas que detêm o conhecimento, as habilidades e as técnicas necessárias para a implementação dos diversos processos organizacionais, por isso as organizações acompanham de perto, através da avaliação de desempenho, a produtividade de seus colaboradores frente às suas atribuições. Com relação às principais razões pelas quais as empresas estão preocupadas em avaliar o desempenho de seus funcionários estão, EXCETO:

- A) Fundamentar a aplicação de sanções, punições, perseguições e assédios a seus funcionários.
- B) Permitir que os funcionários conheçam aquilo que os seus superiores sabem sobre o seu desempenho.
- C) Proporcionar um julgamento sistemático para fundamentar aumentos salariais, promoções, transferências ou até mesmo demissões.
- D) Comunicar com seus funcionários sobre como estão indo em seu trabalho, sugerindo quais as mudanças que são necessárias em seu comportamento, atitudes etc.

33

Lidar com dados e informações de forma confiável e segura é estratégico para as organizações atuais, para tanto é essencial que as empresas possuam sistemas de informações que interliguem as diversas funções e processos que são executados rotineiramente, permitindo que os diferentes níveis organizacionais possam acessá-los e utilizá-los para subsidiar o processo de tomada de decisão. Sobre alguns dos diversos bancos de dados que devem ser interligados e que são utilizados para o funcionamento eficiente de um setor de gestão de pessoas, assinale a alternativa INCORRETA.

- A) Cadastro de pessoal: com os dados pessoais de cada funcionário.
- B) Cadastro de candidatos: com os dados de candidatos a emprego.
- C) Cadastro de benefícios: com os dados sobre os benefícios e serviços sociais.
- D) Cadastro do perfil econômico: com os dados sobre o perfil de consumo e gastos familiares de seus funcionários.

34

A Empresa Mais S/A apresentou os seguintes saldos de contas ao final do exercício de 2015:

Despesas com juros	R\$ 500,00	Custo da mercadoria vendida	R\$ 200.000,00
Tributos sobre vendas	R\$ 25.000,00	Despesa com <i>marketing</i>	R\$ 5.000,00
Despesas com material de limpeza	R\$ 2.000,00	Receita bruta de vendas	R\$ 500.000,00
Receitas de aplicações financeiras	R\$ 1.000,00	Receitas com aluguel	R\$ 10.000,00
Devoluções de vendas	R\$ 2.000,00		

Neste caso, desconsiderando a incidência de Imposto de Renda e da Contribuição Social, o resultado bruto apurado foi de:

- A) R\$ 271.000,00.
- B) R\$ 273.000,00.
- C) R\$ 276.000,00.
- D) R\$ 276.500,00.

35

Ao final do exercício de 2015, a empresa Cravo S/A apurou, através do seu departamento jurídico, que havia 3 processos trabalhistas contra ela: ficou evidente que no processo 1 era provável que a empresa tivesse um gasto de R\$ 20.000,00; no processo 2 era possível que a empresa tivesse um gasto de R\$ 30.000,00; e, no processo 3 era remota a possibilidade de um gasto. A empresa deverá realizar a seguinte ação em relação a provisão:

- A) Não reconhecer uma provisão.
- B) Reconhecer uma provisão de R\$ 20.000,00.
- C) Reconhecer uma provisão de R\$ 30.000,00.
- D) Reconhecer uma provisão de R\$ 50.000,00.

36

Determinado órgão público iniciou um processo licitatório na modalidade pregão eletrônico e colocou, entre as exigências para a participação, que o concorrente garantisse sua proposta. O ato do órgão público está:

- A) Errado, porque o órgão não pode fazer pregão eletrônico.
- B) Errado, porque é vedada a exigência de garantia de proposta.
- C) Correto, pois nesta modalidade de licitação pode-se fazer tal exigência.
- D) Correto, sendo o valor da licitação muito pequena pode-se fazer tal exigência.

PROVA DISCURSIVA

ORIENTAÇÕES GERAIS

- A Prova Discursiva é de caráter eliminatório e classificatório, constituída de 1 (uma) redação.
- A resposta à Prova Discursiva deverá ser manuscrita em letra legível, com caneta esferográfica de corpo transparente, de tinta azul ou preta, não sendo permitida a interferência e/ou a participação de outras pessoas, salvo em caso de candidato na condição de pessoa com deficiência que esteja impossibilitado de redigir textos, como também no caso de candidato que solicitou atendimento especial para este fim, nos termos do Edital. Nesse caso, o candidato será acompanhado por um fiscal da CONSULPLAN devidamente treinado, para o qual deverá ditar o texto, especificando oralmente a grafia das palavras e os sinais gráficos de pontuação.
- A resposta à Prova Discursiva deverá ter a extensão mínima de 20 (vinte) e máxima de 30 (trinta) linhas para o texto. Será desconsiderado, para efeito de avaliação, qualquer fragmento de texto que for escrito fora do local apropriado ou que não atingir a extensão mínima ou ultrapassar a extensão máxima permitida. O candidato não poderá efetuar consulta a quaisquer fontes ou meios de consulta para auxílio na elaboração da redação.
- O candidato receberá nota zero na Prova Discursiva em casos de não atendimento ao conteúdo avaliado, de não haver texto, de manuscrito em letra ilegível ou de grafar por outro meio que não o determinado no item anterior, bem como no caso de identificação em local indevido.
- A Prova Discursiva terá o valor de 40 (quarenta) pontos.
- Para efeito de avaliação da Prova Discursiva serão considerados os seguintes elementos de avaliação:

ELEMENTOS DE AVALIAÇÃO DA PROVA DISCURSIVA		
Critérios	Elementos da Avaliação	
Aspectos Formais e Aspectos Textuais	Observância das normas de ortografia, pontuação, concordância, regência e flexão, paragrafação, estruturação de períodos, coerência e lógica na exposição das ideias.	12 pontos
Aspectos Técnicos	Pertinência da exposição relativa ao tema, à ordem de desenvolvimento proposto e ao conteúdo programático proposto.	28 pontos
TOTAL DE PONTOS:		40 pontos

Texto I

Indígenas, negros e mulheres são mais afetados por pobreza e desemprego no Brasil, diz CEPAL

Em relatório divulgado na terça-feira (1), a Comissão Econômica para a América Latina e Caribe (CEPAL) alerta que indígenas, negros e mulheres estão mais vulneráveis ao desemprego e à pobreza em países latino-americanos.

No Brasil, índice de pobreza entre os afrodescendentes chega à média de 22%, valor duas vezes maior que entre os brancos (10%).

A pesquisa do organismo regional identifica o que chama de “eixos estruturantes” da desigualdade social, como gênero e aspectos étnico-raciais.

Com base em dados de 2014 do Instituto Brasileiro de Geografia e Estatística (IBGE), a CEPAL calculou que a porcentagem de indígenas brasileiros vivendo em situação de pobreza extrema — 18% — é seis vezes maior do que a proporção verificada no restante da população do país. Entre os negros, a taxa é menor (6%), mas representa o dobro do índice de indigência entre os brancos.

As disparidades atravessam outros níveis de renda. No Brasil, 49% dos indígenas e 33% dos afrodescendentes pertencem à quinta parte mais pobre da população. Vinte e quatro por cento dos indivíduos brancos estão entre os 20% mais ricos da sociedade. O valor é três vezes maior do que a participação dos negros (8%) e dos indígenas (7%) nesse grupo mais abastado.

As desigualdades nacionais acompanham padrões regionais, segundo a CEPAL. Em média, na América Latina 37% dos indígenas e 34% dos negros fazem parte dos 20% mais pobres e taxa de participação desses grupos nas camadas mais ricas equivale a aproximadamente metade dos índices calculados para os brancos.

(Disponível em: <https://nacoesunidas.org/indigenas-negros-e-mulheres-sao-mais-afetados-por-pobreza-e-desemprego-no-brasil-diz-cepal/>. Publicado em 02/11/2016. Adaptado.)

Texto II

A marginalização dos negros ocorre dentro de um contexto histórico, processo de abolição da escravidão e formação econômica moderna, onde a estrutura de classes da sociedade nacional está se constituindo e como consequência teremos o posicionamento desfavorável dos negros, devido à forma de inserção desigual na estrutura de classes, no que se refere à renda, escolaridade e ocupação.

Em outros termos, poderíamos dizer que o Estado a partir da segunda metade do século XIX, pós-1850, e, principalmente, início do século XX, até meados dos anos 40, foi o veículo primordial da formação de um mercado de trabalho fundado na exclusão dos negros e descendentes.

Esse mercado de trabalho, estruturado de cima para baixo pelo poder estatal, privilegiava os indivíduos brancos e dificultava o acesso de outros grupos raciais tendo em vista a crença, então em voga por aqui, a respeito da superioridade dos brancos. Essa ideologia racial irá, evidentemente, dificultar a inserção dos negros no nascente mercado de trabalho tendo em vista sua suposta inferioridade e a discriminação racial será, então, uma das marcas visíveis que o negro encontrará na busca por trabalho.

*(SANTOS, Cleito Pereira dos. Economista e Sociólogo. Mestre em Sociologia/UFMG.
Disponível em: <https://www.espacoacademico.com.br/033/33csantos.htm>.)*

Texto III

A lógica destrutiva do capital aprofunda a concentração de renda, acirra as desigualdades, agudiza a pobreza e o desemprego e precariza as condições de vida e de trabalho. [...]

Em uma conjuntura assim, o Conjunto CFESS-CRESS reafirma e fortalece, em sua programática, o debate e ações estratégicas em torno da valorização da ética, da socialização da riqueza e da defesa dos direitos, na perspectiva de reconhecer, analisar e se contrapor às formas de mercantilização de todas as dimensões da vida social.

(Frentes de atuação e comissões de trabalho. Disponível em: <http://www.cfess.org.br/visualizar/menu/local/frentes-de-atuacao-e-comissoes-fragmento>.)

A partir dos textos motivadores redija um texto dissertativo-argumentativo sobre o tema:

“Inclusão no mercado de trabalho e a necessária redução das desigualdades sociais”.

REDAÇÃO

01	
02	
03	
04	
05	
06	
07	
08	
09	
10	
11	
12	
13	
14	
15	
16	
17	
18	
19	
20	
21	
22	
23	
24	
25	
26	
27	
28	
29	
30	

INSTRUÇÕES

1. Material a ser utilizado: caneta esferográfica de tinta azul ou preta, feita de material transparente e de ponta grossa. Os objetos restantes devem ser colocados em local indicado pelo fiscal da sala, inclusive aparelho celular desligado e devidamente identificado.
2. Não é permitida, durante a realização das provas, a comunicação entre os candidatos nem a utilização de calculadoras e/ou similares, livros, anotações, impressos ou qualquer outro material de consulta, protetor auricular, lápis, borracha ou corretivo. Especificamente, não é permitido que o candidato ingresse na sala de provas sem o devido recolhimento, com respectiva identificação, dos seguintes equipamentos: *bip*, telefone celular, *walkman*, agenda eletrônica, *notebook*, *palmtop*, *ipod*, *ipad*, *tablet*, *smartphone*, mp3, mp4, receptor, gravador, calculadora, câmera fotográfica, controle de alarme de carro, relógio de qualquer modelo etc.
3. Não será permitido ao candidato realizar anotação de informações relativas às suas respostas (cópia de gabarito) no comprovante de inscrição ou em qualquer outro meio.
4. A duração da prova é de 4 (quatro) horas, já incluindo o tempo destinado à entrega do Caderno de Provas e à identificação – que será feita no decorrer da prova – e ao preenchimento do Cartão de Respostas (Gabarito) e Folha de Texto Definitivo (somente para o cargo de Analista).
5. Com vistas à garantia da segurança e integridade desse certame, os candidatos serão submetidos ao sistema de detecção de metais no ingresso e na saída de sanitários. Excepcionalmente poderão ser realizados, a qualquer tempo durante a realização das provas, outros procedimentos de vistoria além do descrito. Ao término da prova o candidato deverá se retirar do recinto de aplicação, não lhe sendo mais permitido o ingresso aos sanitários.
6. O Caderno de Provas consta de 40 (quarenta) itens. Leia-o atentamente.
7. **Os itens das provas objetivas são do tipo múltipla escolha, com 04 (quatro) opções (A a D) e uma única resposta correta.**
8. Será aplicada prova discursiva de caráter eliminatório e classificatório, somente para o cargo de Analista, constituída de 1 (uma) redação.
9. Ao receber o material de realização das provas, o candidato deverá conferir atentamente se o Caderno de Provas corresponde ao cargo a que está concorrendo, bem como se os dados constantes no Cartão de Respostas (Gabarito) e Folha de Texto Definitivo (somente para o cargo de Analista) que lhe foram fornecidos estão corretos. Caso os dados estejam incorretos, ou o material esteja incompleto, ou tenha qualquer imperfeição, o candidato deverá informar tal ocorrência ao fiscal.
10. Os fiscais não estão autorizados a emitir opinião e prestar esclarecimentos sobre o conteúdo das provas. Cabe única e exclusivamente ao candidato interpretar e decidir.
11. O candidato somente poderá retirar-se do local de realização das provas levando o Caderno de Provas no decurso dos últimos 30 (trinta) minutos anteriores ao horário previsto para o seu término. O candidato, também, poderá retirar-se do local de provas somente a partir dos 90 (noventa) minutos após o início de sua realização, contudo, não poderá levar consigo o Caderno de Provas.
12. Os 3 (três) últimos candidatos de cada sala somente poderão sair juntos. Caso algum destes candidatos insista em sair do local de aplicação antes de autorizado pelo fiscal, será lavrado Termo de Ocorrência, assinado pelo candidato e testemunhado pelos 2 (dois) outros candidatos, pelo fiscal da sala e pelo Coordenador da Unidade, para posterior análise pela Comissão de Acompanhamento do Concurso.

RESULTADOS E RECURSOS

- Os gabaritos oficiais preliminares das provas objetivas serão divulgados na *internet*, no site www.consulplan.net, a partir das 16h00min do dia subsequente ao da realização das provas.
- O candidato que desejar interpor recursos contra os gabaritos oficiais preliminares das provas objetivas disporá de 2 (dois) dias úteis, a partir do dia subsequente à divulgação, em requerimento próprio disponibilizado no *link* correlato ao Concurso Público no site www.consulplan.net.
- A interposição de recursos deverá ser feita via *internet*, através do Sistema Eletrônico de Interposição de Recursos, com acesso pelo candidato ao fornecer dados referentes à sua inscrição apenas no prazo recursal, à CONSULPLAN, conforme disposições contidas no site www.consulplan.net, no *link* correspondente ao Concurso Público.