



CONCURSO PÚBLICO - PROVA OBJETIVA

ASSINATURA DO(A) CANDIDATO

Nº DE INSCRIÇÃO

CONTEMAX

CONSULTORIA TÉCNICA E PLANEJAMENTO LTDA

CONCURSO PÚBLICO CÂMARA MUNICIPAL DE SANTA TEREZINHA

CARGO: AUXILIAR ADMINISTRATIVO

INSTRUÇÕES:

VERIFIQUE SE ESTE CADERNO:

- Corresponde a sua opção de cargo.
- Contém 40 (quarenta) questões, numeradas de 01 a 40, caso contrário reclame ao fiscal da sala outro caderno. **NÃO** serão aceitas reclamações posteriores.
- Para cada questão existe apenas **UMA** resposta certa.
- Você deve ler cuidadosamente cada uma das questões e escolher a resposta certa.
- A alternativa escolhida deve ser marcada na **FOLHA DE RESPOSTAS** que você recebeu.

VOCÊ DEVE:

- Procurar na **FOLHA DE RESPOSTAS**, o número da questão que você está respondendo.
- Verificar no caderno de prova qual a letra (A, B, C, D, E) da resposta que você escolheu.
- Marcar essa letra na **FOLHA DE RESPOSTAS**, conforme o exemplo: [■].

ATENÇÃO:

- Marque as respostas com caneta esferográfica azul ou preta.
- Marque apenas uma letra para cada questão, mais de uma letra assinalada implicará nota zero à questão.
- Não será permitida qualquer espécie de consulta, nem o uso de máquina calculadora.
- Você terá 3 (três) horas para responder a todas as questões e preencher a folha de respostas.
- Devolva esse caderno de prova ao aplicador, juntamente com a sua folha de respostas.
- Proibida a divulgação ou impressão parcial ou total da presente prova. **Direitos Reservados.**

RASCUNHO

QUESTÕES - LÍNGUA PORTUGUESA
(1 – 10) 02 PONTOS

“SOBRE ÉTICA E IMPRENSA”

Texto incita jornalistas à saudável autocrítica

As acusações de espionagem contra o físico Wen Ho Lee, divulgadas este ano pelo mais respeitado jornal dos EUA, "The New York Times", depois comprovadas como falsas, provocaram recentemente intenso debate público sobre ética e imprensa nesse país e resultaram num editorial de "mea culpa" do diário.

Outros episódios (os equívocos das redes de TV na boca de urna da eleição presidencial, por exemplo) têm colocado a prática do jornalismo no centro das atenções da sociedade americana.

Erros comparáveis ou até mais graves no Brasil dificilmente motivam discussões similares entre jornalistas, "interna corporis" ou - muito menos - diante dos consumidores de informação.

A ausência desse tipo de autoexame pelos jornalistas brasileiros só empobrece seu ofício e fornece munição aos que tentam desacreditá-lo diante da sociedade.

Essa é uma das razões por que o lançamento de "Sobre Ética e Imprensa", de Eugênio Bucci, é um sinal de alento. O fato de um dirigente de primeiro escalão de uma das mais importantes empresas jornalísticas do país se dispor a gastar parte de seu tempo na reflexão sobre questões éticas da profissão e, mais ainda, a reparti-las com o público (com todos os riscos naturais da empreitada) só merece elogios.

Ainda mais quando o produto final é um texto bem escrito, embasado em sólida pesquisa, comedido e, muitas vezes, corajoso.

Para fazer justiça completa ao autor e aceitar os desafios que ele mesmo propõe, uma resenha de seu trabalho deve, no entanto, dar mais destaque às divergências que ele suscita do que aos elogios. Por isso, seguem-se alguns pontos defendidos por Bucci no livro a respeito dos quais discordo, ao menos do modo como os expôs.

O primeiro é que Bucci parece fazer uma distinção entre as exigências da separação entre opinião e informação feitas a veículos de comunicação diversos. Ele demonstra ter muito mais tolerância com as revistas do que com a TV; condena com grande vigor o comportamento do telejornalismo da Rede Globo na eleição presidencial de 89, mas quase justifica o da revista "Exame" na de 94.

As justificativas para esse tratamento diferenciado vão desde o que Bucci classifica de "traço de nasença" das revistas, que a seu ver lhes permite editorializar a notícia, até o fato de a TV atingir muito maior número de pessoas, muitas das quais analfabetas e sem outras fontes de informação.

São argumentos duvidosos, ainda que dignos de consideração. Ninguém está à mercê da televisão. Mesmo os mais pobres e ignorantes dispõem de meios de apreensão da realidade que se confrontam com o mundo apresentado nas telas.

A Rede Globo, por mais poderosa que fosse, não impediu que Leonel Brizola se elegeisse duas vezes governador do Rio. Quanto às revistas, elas podem ser consumidas por menos pessoas, mas elas são líderes de opinião; portanto o seu efeito social pode ser até mais poderoso do que o da TV.

Em relação a outros assuntos que deveriam receber tratamento igual, Bucci adota graus de flexibilidade bastante variados, sem apresentar muitos argumentos que expliquem seu procedimento diferenciado. Por exemplo, é muito mais compreensivo com os conflitos de convicção e consciência dos jornalistas do que com suas necessidades econômicas.

É possível depreender de seu raciocínio, por exemplo, que um repórter ou editor só pode ser eticamente condenado se tiver um cargo remunerado num partido político e trabalhar num jornal ou revista; mas, se ele agir na imprensa em favor de uma causa ideológica em que acredita sem ser pago por uma organização que a represente, sua falta é mais leve.

Bucci afirma que o jornalista "não tem autorização ética para perseguir outros fins que não (o de bem informar o público)". Pode ser assim no mundo ideal. Mas há muitas situações no Brasil em que essa exigência é cruel. Por exemplo, em muitas cidades do Nordeste, em que o salário do jornalista não garante sobrevivência digna, exigir dele que não tenha "duplo emprego" (muitas vezes no governo e num jornal) só é justificável como sonho.

Aqui e ali, Bucci revela alguma ingenuidade. Como ao achar que o fim da condescendência com a aceitação de viagens e favores para a produção de reportagens de turismo é uma "questão de (pouco) tempo", em aparente demonstração de fé numa espécie de teoria evolucionista da imprensa. Ele mesmo argumenta, com razão, ao longo

do livro, que o processo de aperfeiçoamento ético depende de muito esforço e encontra sérias resistências não apenas no interior das empresas jornalísticas, mas também (e talvez mais) na própria corporação profissional.

Outras mostras de boa-fé excessiva aparecem nas frequentes referências ao sistema de comunicação dos EUA como exemplo de preservação da "diversidade".

Embora haja legislação (contestada seriamente nesta década e já em estado de caduquice) para impedir a concentração excessiva de meios de comunicação nas mãos de um mesmo proprietário em uma só cidade, a uniformidade do jornalismo americano é dramática. Para o consumidor, importa pouco que suas emissoras de TV pertençam a donos diferentes se os telejornais que tem disponíveis são idênticos em todos os canais.

Se o livro se referisse mais a exemplos concretos (apesar de fictícios, se fosse necessário não atizar suscetibilidades), talvez muitas das posições do autor tivessem ficado mais claras.

A primeira metade do trabalho é especialmente abstrata e, por isso, ainda que útil para provocar o pensamento, pouco prática para o debate do procedimento ético. Com frequência, quando cita exemplos, o autor mostra dois possíveis comportamentos antagônicos e não diz qual deles é o mais recomendável na sua opinião, o que, de novo, ajuda a refletir, mas não a discutir.

Louve-se, no entanto, a coragem de algumas opiniões, como as que cobram, com absoluta clareza, que as empresas jornalísticas adotem práticas compatíveis com a ética que exigem de seus jornalistas no dia a dia.

Mais do que isso, como já dito antes, "Sobre Ética e Imprensa" merece aplausos por incitar os jornalistas brasileiros ao saudável exercício da autocrítica, tão desprezada entre eles pela posição de arrogância e de anti-intelectualismo arraigado que ainda é hegemônica na corporação.

SILVA, Carlos Eduardo Lins da. Disponível em: <https://www1.folha.uol.com.br/fsp/ilustrad/fq3012200017.htm>

01. O texto apresenta, em sua majoritariedade, o emprego da linguagem formal. No entanto, há marcas pontuais da variante informal da língua; uma delas está presente na alternativa:

- a) "(...) provocaram recentemente intenso debate público sobre ética e imprensa nesse país e resultaram num editorial de "mea culpa" do diário." (1ª parágrafo).
- b) "Erros comparáveis ou até mais graves no Brasil dificilmente motivam discussões similares entre jornalistas, (...)" (3º parágrafo).
- c) "Por isso, seguem-se alguns pontos defendidos por Bucci no livro a respeito dos quais discordo, ao menos do modo como os expôs." (7º parágrafo).
- d) "O primeiro é que Bucci parece fazer uma distinção entre as exigências da separação entre opinião e informação feitas a veículos de comunicação diversos." (8º parágrafo).
- e) "Em relação a outros assuntos que deveriam receber tratamento igual, Bucci adota graus de flexibilidade bastante variados, (...)" (12º parágrafo).

02. Levando-se em consideração o texto tratar-se do gênero resenha, o que foi declarado internamente, assinale a alternativa em cuja passagem há julgamento do autor dessa resenha:

- a) "As acusações de espionagem contra o físico Wen Ho Lee, divulgadas este ano pelo mais respeitado jornal dos EUA, "The New York Times", depois comprovadas como falsas, provocaram recentemente intenso debate público sobre ética e imprensa (...)" (1º parágrafo).
- b) "Ele demonstra ter muito mais tolerância com as revistas do que com a TV; (...)" (8º parágrafo).
- c) "As justificativas para esse tratamento diferenciado vão desde o que Bucci classifica de "traço de nascença" das revistas, que a seu ver lhes permite editorializar a notícia, (...)" (9º parágrafo).
- d) "É possível depreender de seu raciocínio, por exemplo, que um repórter ou editor só pode ser eticamente condenado se tiver um cargo remunerado num partido político e trabalhar num jornal ou revista; (...)" (13º parágrafo).
- e) "A primeira metade do trabalho é especialmente abstrata e, por isso, ainda que útil para provocar o pensamento, pouco prática para o debate do procedimento ético." (18º parágrafo).

03. O papel sintático do termo destacado no excerto "*Ele demonstra ter muito mais tolerância com as revistas do que com a TV; (...)" (8º parágrafo) está corretamente apontado na opção:*

- a) Objeto indireto.
- b) Complemento nominal.

- c) Adjunto adnominal.
- d) Objeto direto.
- e) Adjunto adverbial.

04. Caso o verbo destacado na passagem “*Mesmo os mais pobres e ignorantes **dispõem** (...)*” (10º parágrafo) fosse flexionado no pretérito imperfeito do subjuntivo na mesma pessoa, a forma verbal resultante estaria correta na alternativa:

- a) Dispusessem.
- b) Dispossem.
- c) Disporiam.
- d) Dispuserem.
- e) Disporem.

05. Uma informação correta sobre o texto só está presente na opção:

- a) Como conclusão, pode-se dizer que, para o autor, a obra de Eugenio Bucci é inapropriada mediante as falhas analisadas por ele mesmo.
- b) A avaliação do autor sobre a obra de Eugenio Bucci é unicamente positiva, uma vez que ele afirma que só há elogios para tal escrito.
- c) No percurso de análise da obra de Eugenio Bucci, o autor emprega diversas estratégias, dentre elas a contra-argumentação.
- d) Há, como estratégia argumentativa, a exploração abundante de dados estatísticos quantitativos por parte do autor.
- e) Em analogia ao Brasil, debates públicos sobre ética e imprensa são suscitados frequentemente também em outros países, como nos Estados Unidos da América.

06. Os conectivos destacados nos excertos abaixo recebem a mesma classificação morfológica, pois apresentam uma mesma relação semântica, **MENOS** o que se encontra na alternativa:

- a) “A Rede Globo, **por mais** poderosa **que** fosse, não impediu que Leonel Brizola se elegeisse duas vezes governador do Rio.” (10º parágrafo).
- b) “**Embora** haja legislação (contestada seriamente nesta década e já em estado de caduquice) para impedir a concentração excessiva de meios de comunicação (...)” (17º parágrafo).
- c) “Se o livro se referisse mais a exemplos concretos (**apesar de** fictícios, se fosse necessário não aticar suscetibilidades), (...)” (18º parágrafo).
- d) “A primeira metade do trabalho é especialmente abstrata e, por isso, **ainda que** útil para provocar o pensamento, pouco prática para o debate do procedimento ético.” (19º parágrafo).
- e) “Louve-se, **no entanto**, a coragem de algumas opiniões, (...)” (20º parágrafo).

07. O processo de formação do vocábulo destacado em “*A ausência desse tipo de autoexame pelos jornalistas brasileiros só **empobrece** seu ofício (...)*” (4º parágrafo) está corretamente identificado na opção:

- a) Prefixação.
- b) Sufixação.
- c) Conversão.
- d) Parassíntese.
- e) Aglutinação.

08. Sobre as vírgulas presentes na passagem “*Ainda mais quando o produto final é um texto bem escrito, embasado em sólida pesquisa, comedido (...)*” (6º parágrafo), assinale o comentário correto:

- a) Foram empregadas de forma inadequada, de acordo com as regras gramaticais.
- b) Atendem a regras distintas de uso sintático.
- c) Justificam-se, por separarem termos deslocados com valor adverbial.

- d) Foram empregados consoante regras gramaticais idênticas.
- e) Separam orações adjetivas explicativas.

09. O acento grave indicativo de crase empregado no fragmento “Ninguém está à mercê da televisão.” (10º parágrafo) deve ser classificado como:

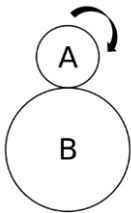
- a) Inadequado, de acordo com as regras gramaticais.
- b) Adequado, pois atende à regra geral de regência verbal diante de palavra feminina que exige artigo.
- c) Correto, já que atende à regra da locução prepositiva com palavra feminina.
- d) Adequado, uma vez que seu uso é facultativo no contexto em que se insere.
- e) Inadequado, na medida em que se trata de uso estilístico.

10. O vocábulo “*autoexame*”, retirado do 4º parágrafo, está corretamente grafado; o mesmo ocorre em:

- a) Anti-queda.
- b) Interregional.
- c) Super-legal.
- d) Co-habitante.
- e) Hipersensível.

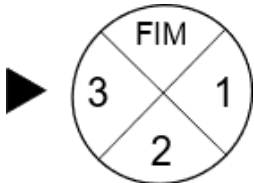
QUESTÕES - RACÍCIO LÓGICO
(11 – 15) 02 PONTOS

11. Considere uma moeda A que possui $\frac{1}{4}$ do raio de uma moeda B. A moeda A gira em torno da moeda B uma vez até atingir o ponto de partida. Quantas vezes a moeda A girará no total?



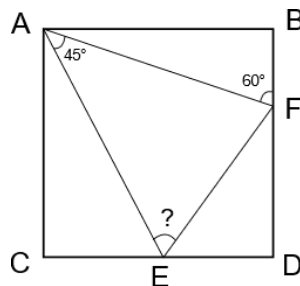
- a) 3
- b) 4
- c) 5
- d) 6
- e) 7

12. Uma roleta possui 4 possibilidades igualmente prováveis: 1, 2, 3 e FIM. Se a roleta parar no 1, você recebe R\$ 1,00 e continua jogando. Se parar no 2, você recebe R\$ 2,00 e continua jogando. Se parar no 3, você recebe R\$ 3,00 e continua jogando. Se parar em FIM, você finaliza o jogo e recebe todo prêmio acumulado. Você deve continuar o jogo até o FIM. Quantos reais você espera ganhar nesse jogo?



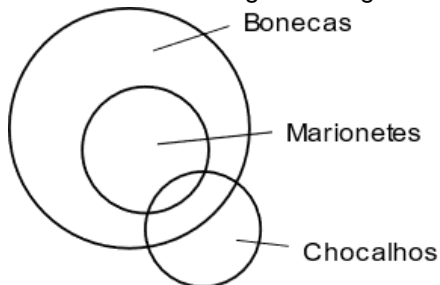
- a) R\$ 3,00
- b) R\$ 6,00
- c) R\$ 10,00
- d) R\$ 100,00
- e) Infinito

13. Considere o quadrado ABCD e os ângulos $\angle EAF = 45^\circ$ e $\angle AFB = 60^\circ$. Quanto vale o ângulo $\angle AEF$?



- a) 45°
- b) 50°
- c) 65°
- d) 75°
- e) 80°

14. Considere o seguinte diagrama de Venn.



Qual afirmação a respeito dos conjuntos é FALSA?

- a) Alguns chocalhos são marionetes
- b) Algumas bonecas são marionetes
- c) Nenhuma marionete é não boneca
- d) Nenhum chocalho é não marionete
- e) Algumas bonecas são marionetes e chocalhos

15. Um trabalhador é contratado nas seguintes condições: Seu salário no primeiro dia será de R\$ 1,00, no segundo dia R\$ 2,00, no terceiro dia R\$ 4,00 e assim sucessivamente. Quanto tempo levará para ele ganhar R\$ 32.767,00?

- a) 12 dias
- b) 13 dias
- c) 14 dias
- d) 15 dias
- e) 16 dias

QUESTÕES – ATUALIDADES
(16 – 20) 02 PONTOS

16. Geoparques Globais são áreas definidas pela UNESCO com importância geológica a nível global e tem como objetivo preservar a região. Sobre esses locais, no Brasil:

- a) foram nomeados dois novos Geoparques no Brasil no início de 2022.
- b) não existe nenhum Geoparque no Brasil.
- c) existe apenas um Geoparque no Brasil reconhecido desde 2019, na região de Minas Gerais.
- d) existem mais de 10 Geoparques; o Brasil é um país rico em geodiversidade e reconhecido por todo mundo.
- e) existem 3 novos Geoparques no Brasil, nomeados em 2022.

17. A invasão militar da Ucrânia está acontecendo pela Rússia, um país com muito poder bélico. Qual é o nome do governante da Rússia que deu início a invasão?

- a) Joe Biden.
- b) Volodymyr Zelenski.
- c) Vladimir Putin.
- d) Emmanuel Macron
- e) José Mujica.

A Invasão na Ucrânia é comandada pelo presidente Vladimir Putin.

18. A pobreza menstrual é um caso agravante no Brasil; a cada ano milhares de pessoas são prejudicadas por conta da ausência de políticas públicas para acabar com esse cenário. Essas políticas deveriam:

- a) Garantir acesso ao conhecimento sobre o assunto para todos.
- b) Garantir acesso a absorventes gratuitos para todas as pessoas que precisarem.
- c) Garantir a dignidade da mulher em seu período menstrual.
- d) Garantir assistência ginecológica básica gratuita.
- e) Todas as opções acima.

19. Todo ano nos tradicionais desfiles das escolas de samba no Brasil as escolas apresentam nas avenidas temas de enorme importância. Esse ano os desfiles foram tardios por conta da pandemia. Mas a escola campeã de um dos maiores desfiles do Brasil feito no Rio de Janeiro; apresentando para todo país um assunto que precisava de visibilidade. Qual foi o assunto que a Grande Rio trouxe para as avenidas em 2022?

- a) A comunidade LGBT, que luta pelos seus direitos desde sempre.
- b) Conflitos armados, trazendo beleza a esse assunto tão sério.
- c) Exu, uma importante figura das religiões de matrizes africanas.
- d) Religião, tratando de diversos pontos de vista o assunto polêmico.
- e) A luta da comunidade negra.

20. A erupção vulcânica em uma ilha próxima a Tonga, em janeiro deste ano, foi tão potente quando a erupção do Krakatoa, na Indonésia, em 1883, uma das mais mortais e mais destrutivas já registradas. A pequena ilha é localizada na:

- a) Ásia.
- b) América Central.
- c) América do Sul.
- d) África.
- e) Oceania.

QUESTÕES - CONHECIMENTOS ESPECÍFICOS
(21 – 40) 03 PONTOS

21. É um relato fiel de fatos que ocorreram e decisões que foram feitas durante reuniões e assembleias, segundo uma pauta previamente estabelecida, garantindo a posterior execução dos acordos ali tratados. Além disso, vale lembrar que é geralmente registrada em livro próprio e, ao final da reunião, costuma ser assinada pelos participantes.

O texto acima é a definição de qual documento oficial?

- a) Memorando.
- b) Circular.
- c) Comunicado.
- d) Ata.
- e) Portaria.

22. Observe a figura a seguir:

**SINDICATO DOS TRABALHADORES NAS INDÚSTRIAS
METALÚRGICAS, MECÂNICAS E DE MATERIAL
ELÉTRICO DE PORTO ALEGRE**

com base em Goiânia, Cachoeirinha, Alvorada, Gravataí e Viamão
Av. Francisco Trein, 116 – Fone 341-1900 – 91350 – PORTO ALEGRE – RS

CONVOCAÇÃO

No uso de minhas atribuições legais e estatutárias, convoco todos os trabalhadores da Empresa X S/A, associados e não-associados, para uma sessão de ASSEMBLÉIA GERAL EXTRAORDINÁRIA, que será realizada no próximo dia 29 de maio de 1998 (sexta-feira), com primeira convocação às 18h30min e, em segunda e última convocação, às 19h para apreciação da seguinte ordem do dia:

- Definição do rol de reivindicações a ser encaminhado à respectiva Empresa, com vistas à revisão salarial e contratual coletiva para o período 1998/1999;
- Definição dos percentuais a serem descontados do salário de cada trabalhador, sócio e não sócios do Sindicato, a título de contribuição assistencial de dissídio;
- Concessão de poderes à Diretoria do Sindicato para negociar a pauta de reivindicações com a Empresa, firmar acordo coletivo, convenção coletiva de trabalho, ajustar na Justiça do Trabalho Revisão de Dissídio Coletivo, bem como adaptar a pauta de reivindicações às alterações da legislação;
- Campanha salarial, organização de mobilização e forma de luta.

Porto Alegre, 21 de maio de 1998.

Jairo Santos Silva Carneiro
Presidente

Disponível em: <https://sousecretaria.com.br/documentos-oficiais-veja-quais-sao-os-tipos-e-quando-usa-los/>

A figura acima é um modelo de qual documento oficial?

- a) Atestado.
- b) Convite.
- c) Ofício.
- d) Edital.
- e) Carta.

23. Assinale "D" para órgãos da Administração Direta e "I" para órgãos da Administração Indireta nos parênteses abaixo, após, assinale a alternativa que apresenta sequencia correta assinalada nos parênteses.

- () Forças Armadas.
- () Autarquias.
- () Ministérios.
- () Empresas Públicas.
- () Sociedades de Economia Mista.
- () Receita Federal.

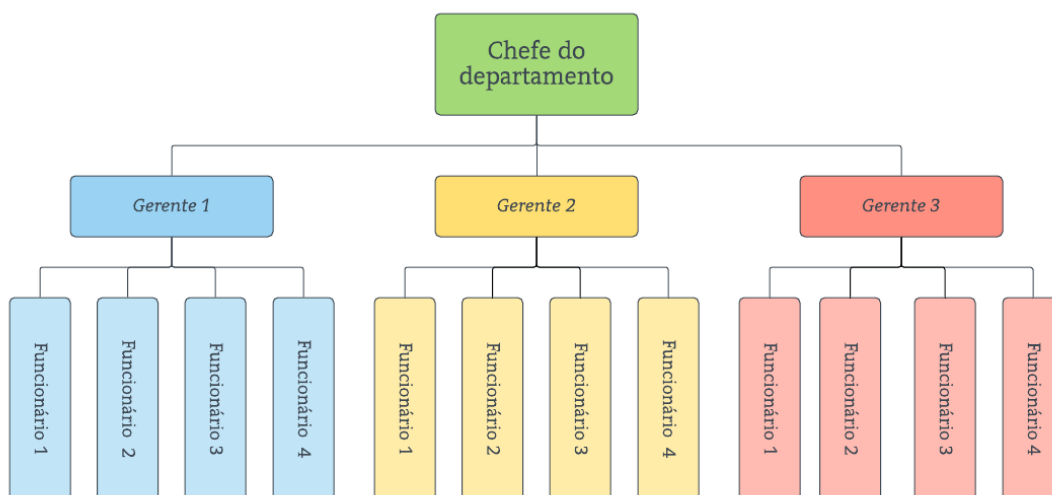
- a) D – I – I – D – I – I.
- b) I – D – I – D – D – I.
- c) D – I – D – I – I – D.
- d) I – D – D – D – I – I.
- e) I – I – D – D – I – I.

24. São entidades que não têm fins lucrativos e realizam diversos tipos de ações solidárias para públicos específicos. Elas podem atuar nas áreas da saúde, educação, assistência social, economia, ambiente, entre outras, em âmbito local, estadual, nacional e até internacional. A atuação acontece na esfera pública, embora não estatal.

O texto acima se refere a qual tipo de organização?

- a) Organizações Empresariais.
- b) Organizações Sociais.
- c) Organizações Governamentais.
- d) Organizações Públicas.
- e) Organizações Não-Governamentais.

25. Observe a figura abaixo:



Disponível em: <https://www.lucidchart.com/pages/pt/estrutura-organizacional>

A figura acima é a representação gráfica de uma:

- a) Estrutura organizacional linear (ou hierárquica, ou vertical).
- b) Estrutura organizacional funcional.
- c) Estrutura organizacional matricial.
- d) Estrutura organizacional horizontal.
- e) Estrutura organizacional circular ou radial.

26. É o processo de arrumar o local, a autoridade, os membros e os recursos disponíveis em uma organização, de modo que todo o conjunto, em uníssono, trabalhe para alcançar o objetivo desejado. Nesta função administrativa, o gestor coloca em práticas as ações que irão viabilizar a realização do plano traçado. Esta é o momento de o administrador definir o que deve ser feito, quem irá ser responsável pelo trabalho, como esse trabalho deverá ser executado, a quem os empregados devem se reportar e tudo que deve ser feito para a conclusão da tarefa. Para tanto, o administrador desenha o projeto, delega atividades, pessoas responsáveis e realiza investimentos para tirar do papel o projeto planejado.

O texto acima se refere a qual função administrativa?

- a) Organizar.
- b) Planejar.
- c) Executar.
- d) Controlar.
- e) Dirigir.

27. Não é um método de fácil execução por ser necessário que o arquivista, para elaborar a tabela de classificação de assunto, conheça bem a organização da instituição, além de ter que possuir a capacidade de interpretação dos documentos a serem analisados. É aconselhado nos casos de grandes massas documentais. A qual método de arquivamento o texto acima se refere:

- a) Método Geográfico.
- b) Método Ideográfico.
- c) Método Numérico.
- d) Método Alfabético.
- e) Método Padronizado.

28. Para que o ato administrativo se aperfeiçoe, reunindo condições de eficácia para a produção de efeitos jurídicos válidos, a sua estrutura deverá ser composta por certos requisitos. Não é um requisito do ato administrativo o que se afirma em:

- a) Competência.
- b) Finalidade.
- c) Forma.
- d) Objetivo.
- e) Motivo.

29. Segundo a LEI Nº 8.666, DE 21 DE JUNHO DE 1993, em seu Art. 22: São modalidades de licitação, exceto:

- a) Pregão.
- b) Tomada de preços.
- c) Convite.
- d) Concurso.
- e) Leilão.

30. Segundo o DECRETO Nº 7.892, DE 23 DE JANEIRO DE 2013, em seu Art. 3º: O Sistema de Registro de Preços poderá ser adotado nas seguintes hipóteses:

- I. quando, pelas características do bem ou serviço, não houver necessidade de contratações frequentes.
- II. quando for conveniente a aquisição de bens com previsão de entregas parceladas ou contratação de serviços não-remunerados por unidade de medida ou em regime de tarefa.
- III. quando for conveniente a aquisição de bens ou a contratação de serviços para atendimento a somente um órgão ou entidade, ou a programas de governo; ou
- IV. quando, pela natureza do objeto, for possível definir previamente o quantitativo a ser demandado pela Administração.

Assinale a alternativa correta:

- a) Somente os incisos I e III estão corretos.
- b) Somente os incisos II e III estão corretos.
- c) Somente os incisos III e IV estão corretos.
- d) Todos os incisos estão corretos.
- e) Nenhum inciso está correto.

31. Considere as seguintes afirmações

I – A internet evoluiu a partir da rede militar conhecida como ARPANET

II – A extranet é uma rede mundial que liga diferentes tipos de computadores

III – FTP é um protocolo de transferência de arquivos que permite a troca de arquivos na internet

Estão corretas apenas:

- a) I e II
- b) I e III
- c) II e III
- d) I, II e III
- e) III

32. Qualquer computador que acessa o servidor é conhecido como _____.

- a) Servidor web
- b) Navegador web
- c) Usuário
- d) Cliente
- e) Público

33. São exemplos de hardware

- a) Mouse, Memória RAM e Sistema Operacional
- b) Mousepad, Teclado e Monitor
- c) Placa de Vídeo, SSD e Cooler
- d) HD, Touchpad e Bootloader
- e) Placa de rede, GRUB e Teclado

34. São exemplos de software

- a) S.O., Gerenciador de redes e Explorador de arquivos
- b) Cooler, Gerenciador de inicialização e MS Office
- c) Paint, Bootloader e Placa mãe
- d) Windows Media Player, Memória SWAP e Scanner
- e) Gerenciador de Impressão, Impressora e Scanner

35. Considere as seguintes definições sobre redes de computadores

I – WAN: acrônimo para Rede de Área Local, em inglês. Esta rede é confinada a pequenos espaços geográficos como bibliotecas, lojas, departamentos de empresas, etc.

II – MAN: acrônimo para Rede de Área Metropolitana, em inglês. Esta rede é limitada a grandes áreas geográficas como cidades e regiões metropolitanas

III – LAN: acrônimo para Rede de Longa distância, e, inglês. Este tipo de rede é responsável pela conexão em grandes áreas, tais como países e até mesmo o planeta

Relacione verdadeiro (V) ou falso (F) a cada um dos itens.

- a) I – V; II – V; III – V
- b) I – V; II – F; III – V
- c) I – V; II – V; III – F
- d) I – V; II – F; III – V
- e) I – F; II – V; III – F

36. Qual o atalho do MS-Word para exibir a caixa de diálogo de FONTE?

- a) Ctrl + D
- b) Ctrl + P
- c) Ctrl + B
- d) Ctrl + Q
- e) Ctrl + Z

37. Considere a seguinte imagem retirada de uma planilha do MS Excel.

	A	B	C	D
1	Nome	Departamento	Cidade	Salário
2	Benício	RH	Campina Grande	R\$ 3.500,00
3	Antônio	Vendas	Campina Grande	R\$ 4.500,00
4	Jefferson	Manutenção	João Pessoa	R\$ 3.000,00
5	Lúcia	Vendas	Patos	R\$ 5.500,00
6	João	Comercial	Souza	R\$ 4.000,00
7	Tânia	TI	Santa Terezinha	R\$ 5.500,00
8				
9				
10	João	=PROCV(A10;A2:D7;4;0)		

Qual o resultado da função da célula B10?

- a) R\$ 3.000,00
 - b) R\$ 4.000,00
 - c) R\$ 5.500,00
 - d) Santa Terezinha
 - e) Souza
38. Qual efeito se aplica quando é necessário adicionar movimento a diferentes objetos em um slide do Microsoft PowerPoint?
- a) Transição de Slides
 - b) Design de Slides
 - c) SmartArt
 - d) Animações
 - e) WordArt
39. São dispositivos de armazenamento eletrônico
- a) CD, DVD e SSD
 - b) HD, disquete e memória flash
 - c) Cartão de memória, pen-drive e SSD
 - d) CD-R, pen-drive e Google Drive
 - e) Google Drive, Dropbox, OneDrive
40. São benefícios da computação em nuvem
- a) Grande capacidade de Backup e armazenamento de dados
 - b) Alta confiabilidade e capacidade dos servidores
 - c) Utilização de software como serviço
 - d) Produtividade Incremental
 - e) Todas as respostas anteriores