

CADERNO

217

FADENOR
FUNDAÇÃO DE APOIO AO DESENVOLVIMENTO DO ENSINO SUPERIOR DO NORTE DE MINAS

180 . 1 . 401

PROCESSO SELETIVO SIMPLIFICADO PARA CONTRATAÇÃO DE PESSOAL DA PREFEITURA MUNICIPAL DE BRASÍLIA DE MINAS

Professor 2- P2B (Professor dos Anos Finais do Ensino Fundamental – Geografia)

ORIENTAÇÕES

- 01 - Este caderno contém questões do tipo múltipla escolha.
- 02 - Verifique se o caderno contém falhas: folhas em branco, má impressão, páginas trocadas, numeração errada, etc. Encontrando falhas, levante a mão. O Fiscal o atenderá e trocará o seu caderno.
- 03 - Não marque mais de uma resposta para a mesma questão, nem deixe nenhuma delas sem resposta. Se isso acontecer, a resposta não será computada.
- 04 - Para marcar as respostas, use preferencialmente caneta esferográfica com tinta azul ou preta. **NÃO** utilize caneta com tinta vermelha. Assinale a resposta certa, preenchendo toda a área da bolinha.
- 05 - Tenha cuidado na marcação da Folha de Respostas, pois ela não será substituída em hipótese alguma.
- 06 - Confira e assine a Folha de Respostas, antes de entregá-la ao Fiscal. **NA FALTA DA ASSINATURA, A SUA PROVA SERÁ ANULADA.**
- 07 - Não se esqueça de assinar a Lista de Presenças.
- 08 - Após UMA HORA, a partir do início das provas, você poderá retirar-se da sala, SEM levar este caderno.
- 09 - Após DUAS HORAS, a partir do início das provas, você poderá retirar-se da sala, levando este caderno.

DURAÇÃO DESTAS PROVAS: TRÊS HORAS

OBS.: Candidatos com cabelos longos deverão deixar as orelhas totalmente descobertas durante a realização das provas. É proibido o uso de boné.

NOME:

Nº DO PRÉDIO:

SALA:

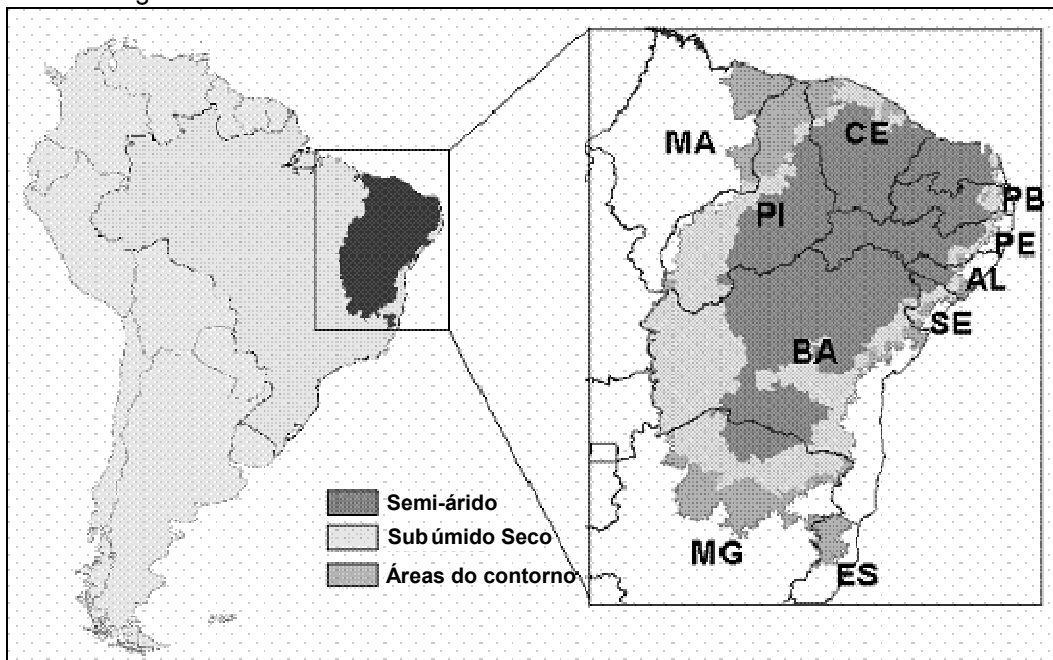
ASSINATURA

COTEC
CONCURSOS
TÉCNICOS

PROVA DE CONHECIMENTOS ESPECÍFICOS
Questões numeradas de 01 a 10

QUESTÃO 01

Analise a figura:



Fonte: Brasil, 2008.

Os climas semiárido e subúmido no Brasil estão concentrados numa porção específica do país. Dessa forma, assinale a alternativa **CORRETA**, sobre a situação representada na figura.

- A) O clima semiárido, no Brasil, está restrito aos estados da região Nordeste, devido ao baixo índice pluviométrico e à baixa amplitude térmica.
- B) Os climas semiárido e subúmido tornam as áreas em que há sua ocorrência, propensos ao processo de desertificação, haja vista a sua fragilidade ambiental devido à escassez hídrica.
- C) Os municípios do semiárido brasileiro, devido à sua condição natural e social, recebem a maior quantidade de verbas do Governo Federal.
- D) O cultivo da monocultura de soja no semiárido, desde a década de 1990, mudou o cenário agrícola dessa região, que antes se dedicava principalmente à agricultura familiar.
- E) Os rios dessa região são predominantemente perenes, haja vista a concentração de água no freático, como o aquíferos Guarani.

QUESTÃO 02

Leia o fragmento do texto:

Comprar e vender é essencial para que qualquer país possa desenvolver sua economia e manter boas relações com nações estrangeiras. Nem sempre isso acontece como deveria, como é o caso da recente guerra comercial entre EUA e China. Mas, desentendimentos fazem parte do jogo, no qual os dois lados procuram as melhores condições para favorecer seu povo e sua economia. E o Brasil não é um jogador fraco nesse jogo que já dura centenas de anos.

Apesar de ser um país relativamente jovem e que ainda tem muito a aprender com nações mais desenvolvidas em diversos aspectos, possuímos uma boa reputação internacional. Considerada a 24.^a maior economia de exportação no mundo, o Brasil tem como principais exportações a soja, o minério de ferro, o açúcar bruto e a carne de aves, enquanto petrolíferos refinados, peças de veículos, medicamentos, telefones e carros constituem as principais importações do país.

Disponível em: www.folhadocomercio.com.br. Acesso 12/12/2019.

Sobre a relação do Brasil no contexto do comércio internacional, pode-se afirmar que:

- A) A diferença político-ideológica entre os governos dos Estados Unidos e Brasil gerou crise na relação comercial desses países, o que fez com que o país Norte Americano boicotasse produtos agrícolas brasileiros.
- B) O principal destino dos produtos brasileiros, na América Latina, é o Chile, que compra mais da metade da proteína animal do Brasil, haja vista que o território chileno é montanhoso e impróprio para a pecuária.
- C) A China é a principal parceira comercial do Brasil, haja vista que é a maior importadora de produtos brasileiros, destacando a soja, a carne, o minério de ferro, entre vários outros itens.
- D) O Brasil, por discordar das posições políticas e ideológicas, não mantém relação comercial com os países Árabes do oriente médio.
- E) O maior responsável pelo superávit da balança comercial brasileira, nos últimos anos, é o setor secundário, devido à exportação de produtos industrializados com alta tecnologia.

QUESTÃO 03

Claude Raffestin (1993) afirma que o território surge no espaço e partir dele, sendo que um espaço é territorializado no momento em que um ator sintagmático se apropria desse espaço, de forma concreta ou abstrata. Esse ator sintagmático pode ser qualquer organização ou grupo da sociedade, desde que sua produção seja fruto de articulações sucessivas (manifestação de poder) no interior de um processo.

Diante da proposição de Raffestin (1993), pode-se afirmar que:

- A) As características sociais e naturais do espaço permitem a diferenciação do mesmo, ou seja, essa é a ideia de território.
- B) O território, a partir dos seus usos econômicos, definirá as categorias de análise do espaço, como região, paisagem e lugar.
- C) A territorialização do espaço é algo que independe da sociedade, ou seja, do homem, pois os aspectos naturais é que definem o território.
- D) A categoria geográfica território foi a responsável pela sistematização da geografia, pois, na escola de origem da geografia, a Francesa, essa era a base dos estudos da geografia.
- E) O espaço é a categoria base da geografia, pois dele deriva as outras categorias, como o território, em que há apropriação por parte da sociedade.

QUESTÃO 04

A escala cartográfica é um importante elemento presente nos mapas, sendo utilizada para representar a relação de proporção entre a área real e a sua representação. É a escala que indica o quanto um determinado espaço geográfico foi reduzido para “cabem” no local em que ele foi confeccionado em forma de material gráfico.

Sabemos que os mapas são reproduções reduzidas de uma determinada área. Mas essa redução não ocorre de forma aleatória, e sim de maneira proporcional, ou seja, resguardando uma relação entre as medidas originais e suas representações. A expressão numérica dessa proporção é a escala.

Fonte: www.brasilecola.uol.com.br. Acesso:17/12/2019

Sobre esse elemento cartográfico, assinale a alternativa **CORRETA**.

- A) A escala classificada como grande possui denominador maior que a escala classificada como pequena, pois o espaço real sofreu mais redução para ser representada no plano.
- B) Tomando dois mapas como referência, sendo esses com escalas 1:1.000.000 e 1:1.000, o primeiro tem mais detalhes, pois trata-se de uma escala grande.
- C) Para calcular o comprimento de um rio em um mapa é necessário que esse mapa tenha a escala numérica, pois, assim, usando apenas uma régua, será encontrado o comprimento preciso do rio.
- D) As terminologias dos produtos cartográficos, como mapa, carta, planta e croqui, independe da escala, pois a diferença desses produtos se dá pelo espaço mapeado.
- E) A escala gráfica tem a vantagem de aumentar e reduzir juntamente ao mapa, ou seja, ao transferir um mapa que estava em um papel menor para um pôster grande, a escala continuará correta.

QUESTÃO 05

Leia o fragmento do texto:

Desmatamento no Cerrado se concentrou no MATOPIBA

Mais da metade dos 6.484 km² de desmatamento aconteceu na região de maior expansão agropecuária do Bioma. “O Cerrado já perdeu cerca de metade de sua vegetação nativa original. Em um contexto de emergência climática e rápida perda da biodiversidade, é preciso zerar o desmatamento no bioma. No entanto, nada tem sido feito por governos e pelo setor privado”, afirma Cristiane Mazzetti, da campanha de florestas do Greenpeace Brasil.

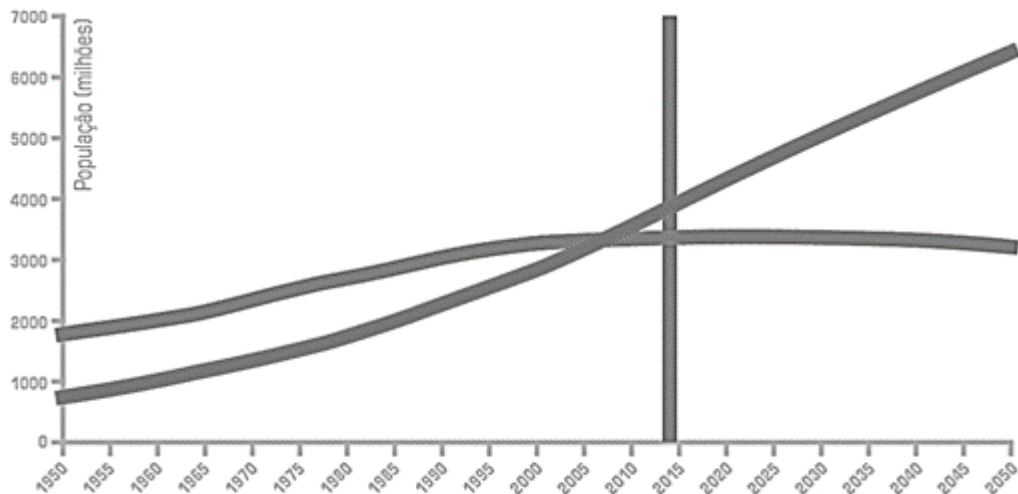
Fonte: Greenpeace Brasil. 18/12/2019.

Sobre a situação anunciada no texto, assinale a alternativa **CORRETA**.

- A) O Cerrado é o bioma brasileiro com menor percentual de vegetação nativa ainda existente, sendo que a urbanização intensa a partir da década de 1970 foi a principal causa da supressão dessa vegetação.
- B) A região do MATOPIBA apresentou, nos últimos anos, baixo crescimento econômico, devido à influência do clima seco, sendo assim, foram dados incentivos fiscais da SUDENE para a industrialização, por isso ocorreu essa elevada taxa de desmatamento.
- C) A região conhecida como MATOPIBA, isto é, parte dos estados do Maranhão, do Tocantins, do Piauí e da Bahia, converteu área da vegetação natural do Cerrado em cultivo, devido ao agronegócio.
- D) A expansão do agronegócio no Brasil se concentrou apenas no Cerrado, por isso outros Biomas, como a Floresta Amazônica, obteve redução significativa do desmatamento em 2019.
- E) A produção agropecuária da região denominada de MATOPIBA consiste em produtos de subsistência, pois destina-se ao mercado consumidor do Nordeste, em que predomina a população de baixa renda.

QUESTÃO 06

Observe o gráfico:



População urbana e rural no mundo 1950-2050

Fonte: ONU, 2017.

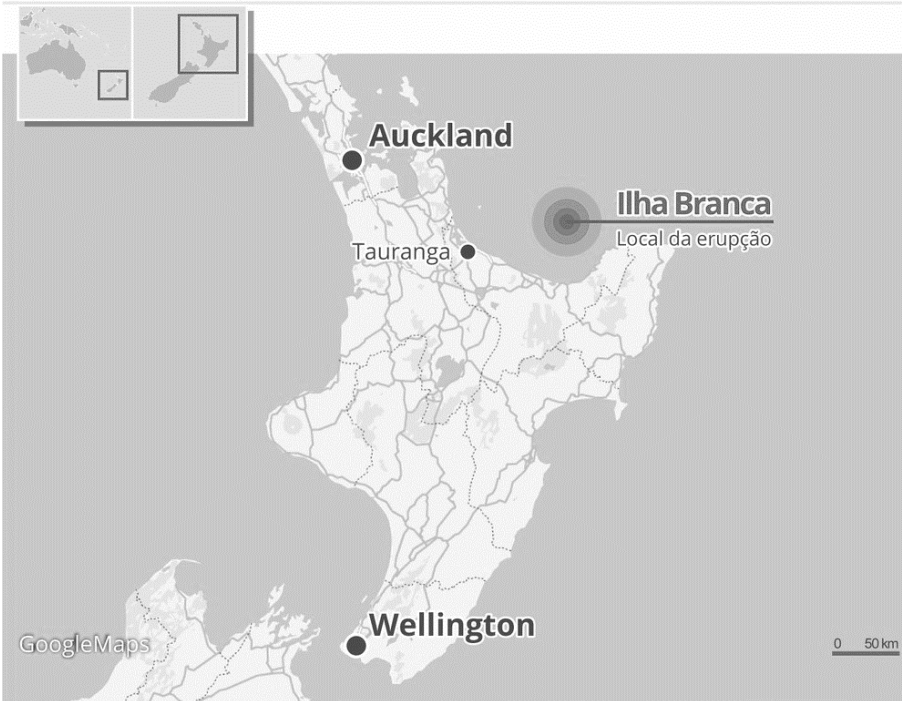
- Com base em seus conhecimentos sobre a população mundial, podemos afirmar que o gráfico acima mostra que a
- A) população mundial no século XXI está, em maior parte, concentrada nas cidades, enquanto a população rural está em ritmo de diminuição.
 - B) população rural é maior que a urbana no mundo, além disso, essa situação tende a se agravar no futuro.
 - C) busca pela qualidade de vida da população dos países ricos fez com que a migração para o campo reduzisse a população das cidades.
 - D) população da zona rural está concentrada nos países em desenvolvimento, pois a modernização agrícola nessas áreas ainda é pequena.
 - E) população na cidade é maior que a população rural em todos os países do mundo, por isso a urbanização tende a aumentar.

QUESTÃO 07

Observe a figura:

Vulcão entra em erupção na Nova Zelândia

Atividade em ilha turística deixou mortos e feridos



Fonte: www.g1.globo.com. Acesso: 09/12/2019

Sobre a situação apresentada na figura acima, assinale a alternativa **CORRETA**.

- A) Esse evento sísmico provocou ondas gigantes, denominada de Tsunami, que atingiu as grandes cidades da Nova Zelândia, por isso esse elevado número de mortos e feridos.
- B) A Oceania, devido a sua localização geográfica, é o único local do planeta Terra em que existe vulcões ativos, que provocam erupções e expelem lava.
- C) Apesar de o vulcão estar em uma pequena Ilha da Nova Zelândia, a maior destruição da erupção ocorreu na capital desse país, Wellington.
- D) A erupção aconteceu na área de maior ocorrência de atividades sísmicas do Planeta, no chamado Círculo de Fogo do Pacífico, onde estão localizadas as ilhas da Nova Zelândia.
- E) Essa erupção vulcânica é considerada a mais forte da história geológica da Terra, pois provocou a destruição completa da Ilha Branca, na Nova Zelândia.

QUESTÃO 08

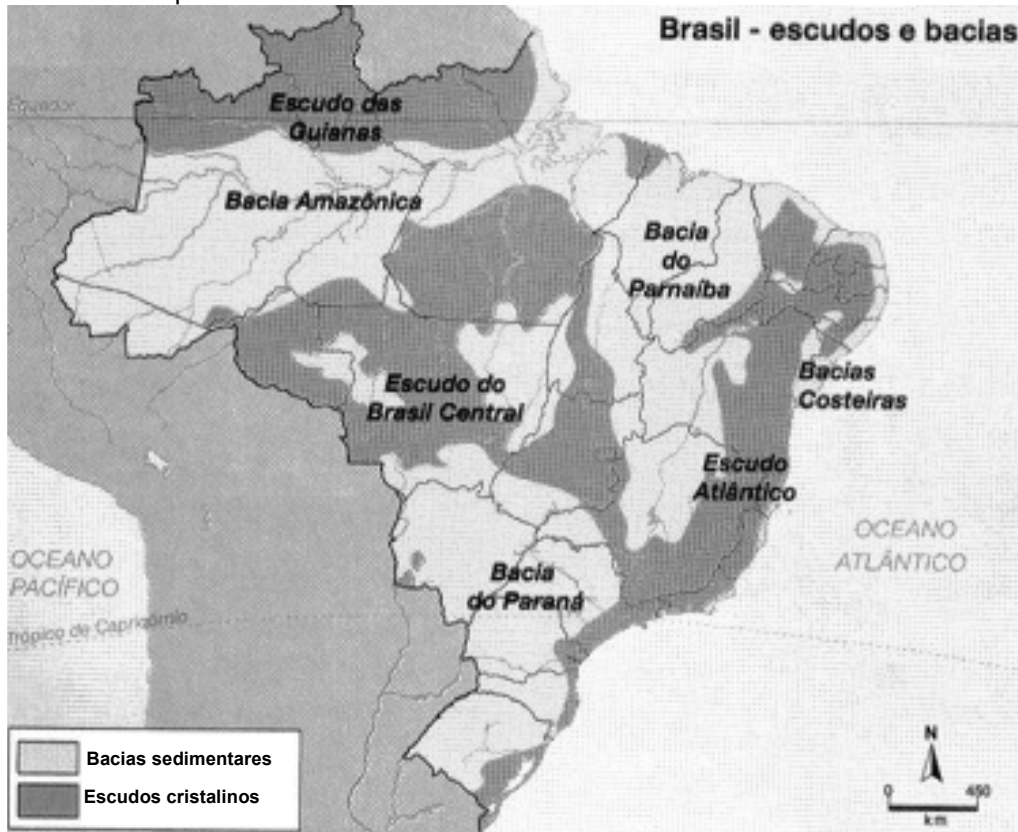
O desenvolvimento da Geografia brasileira, inicia como forte mecanismo estatal para sistematizar informações sobre o território brasileiro. No entanto, a influência de outras escolas geográficas fez com que a Geografia brasileira se desenvolvesse e se diversificasse, com isso se destacou como uma importante escola dessa ciência.

Sobre a história da Geografia brasileira, assinale a alternativa **CORRETA**.

- A) A introdução da ciência geográfica, no Brasil, foi responsabilidade de uma comitiva alemã, liderada pelo geógrafo Karl Ritter, que trouxe métodos de pesquisas baseados na teoria marxista.
- B) A criação do IBGE expõe como o início da Geografia brasileira está inserida em uma política do Estado que consistia em aplicar os conhecimentos geográficos na busca de levantar informações espaciais sobre o território brasileiro.
- C) A Geografia Crítica foi um movimento que surgiu no Brasil para conter a doutrinação dos geógrafos pela ideologia comunista, em que a China era o polo de difusão.
- D) A geografia Quantitativa não conseguiu penetrar no Brasil, haja vista a grande influência da geografia humanística, que contava com apoio dos Estados Unidos para sua divulgação.
- E) A escola francesa, denominada de Possibilista, chegou ao Brasil por meio do Governo Militar, que usava os conhecimentos sobre o espaço para planejar ações de dominação do território, bem como da sociedade.

QUESTÃO 09

Observe o mapa:



Fonte: Ferreira, G. M. L.; Martinelli, M. Atlas geográfico. Editora Moderna, 2015.

Sobre a estrutura geológica e os recursos naturais, assinale a alternativa **CORRETA**.

- A) A Bacia Amazônica se destaca na produção de combustível fóssil em área continental, pois encontra-se, nessa área, a província petrolífera de Urucu.
- B) O Projeto Carajás, maior jazida de minério de ferro do Brasil, está localizado na Bacia Sedimentar Amazônica, o que permite a ocorrência desse minério.
- C) O Quadrilátero Ferrífero, no estado de Minas Gerais, com produção de minério de ferro, está sobre a bacia sedimentar do São Francisco.
- D) O estado do Mato Grosso do Sul possui a maior produção de manganês, haja vista que a maior parte do seu território está na área de escudo cristalino.
- E) A maior produção de carvão mineral ocorre no estado do Pará, devido à presença da Floresta Amazônica em bacia sedimentar.

QUESTÃO 10

Leia a citação.

"[...] a segregação é um processo segundo o qual diferentes classes ou camadas sociais tendem a se concentrar cada vez mais em diferentes regiões gerais ou conjuntos de bairros da metrópole." (VILLAÇA, 2001, p. 142).

O fenômeno citado por Villaça está presente nas metrópoles, bem como em outras tipologias de cidades. Sobre esse fenômeno, pode-se afirmar que:

- A) Os imigrantes estrangeiros no Brasil, diferentemente do que ocorre nos EUA, são incorporados pela sociedade, por isso não são segregados em determinadas áreas das cidades brasileiras.
- B) A segregação é imposta à população de alta renda, que é obrigada a se isolar das demais classes sociais, devido aos problemas sociais das cidades, como a violência.
- C) A segregação socioespacial urbana faz com que a população de menor renda tenda a se concentrar em áreas mais distantes do local de trabalho, o que eleva o gasto com deslocamento.
- D) A favelização é um exemplo de auto-segregação ou espontânea, haja vista que os moradores optam por morar nesses espaços, uma vez que são moradias de baixo custo.
- E) O fenômeno da segregação social ocorre em áreas comerciais da cidade, em espaços nos quais determinados tipos de atividades do setor terciário se concentram em um determinado local.

PROVA DE LÍNGUA PORTUGUESA
Questões numeradas de 11 a 20

Como cumprir promessas de ano novo, segundo a ciência

- 1 Guardar dinheiro, fazer as pazes com a balança, ler mais livros, arrumar um novo emprego, começar a fazer exercício. Qualquer pessoa que se preze carrega uma lista de resoluções de ano novo na ponta da língua. Segundo um levantamento divulgado pelo Google, 55% dos brasileiros buscavam na internet por alguma meta do tipo, ao final de 2017.
- 5 O problema é que tirar a vontade de mudança do papel costuma ser mais complicado do que parece. Uma pesquisa mostrou que 88% das pessoas costumam abandonar o novo hábito já em fevereiro do ano seguinte. Outro estudo, feito na Universidade de Scranton, nos EUA, foi além, cravou que só 8% de fato conseguem levar à frente suas promessas. Isso faz com que certos desejos se repitam ano após ano, sem jamais deixar o rol de metas a cumprir.
- 10 Isso acontece porque costumamos superestimar nossa capacidade de mudança. Assim, acabamos traçando metas irreais. De tão comum, a coisa ganhou nome: “síndrome da falsa esperança”, como descreve uma dupla de pesquisadores da Universidade de Toronto, no Canadá, nesse artigo científico. A boa notícia é que, além de apontar o dedo para a sua incapacidade de levantar o traseiro do sofá, a ciência também tem algumas dicas para aumentar suas chances de sucesso. Vamos a elas.
- 15 Sua lista de promessas tem mais de 10 itens? Vale a pena quebrar a cabeça para reduzi-la. Como cada meta demanda boa dose de tempo e energia para vingar, acumular muitas aspirações pode significar não fazer nada direito. Uma boa pedida é simplificar as coisas, focando em uma meta só, específica, e, principalmente, razoável. É melhor colocar na cabeça: “Vou correr 10 quilômetros” do que simplesmente “Vou começar a correr”, é claro. Só que, ao mesmo tempo, vale o questionamento: “Conseguo mesmo correr 10 quilômetros sem morrer no processo?”. Começar com treinos mais curtos e, com o tempo, ir apertando o passo, tende a facilitar as coisas e a dar a impressão de que você está progredindo.
- 20 Autor do livro *Smart Change*, Art Markman ressalta a importância de tornar novos hábitos mais fáceis de se executar e, ao mesmo tempo, dificultar hábitos antigos. Quer começar a correr após o expediente? Deixe o tênis e a roupa de academia sempre na mochila. Deseja ser menos consumista? Evite gastar tanto tempo namorando aquela
- 25 lojinha on-line ou passeando pelo shopping.
- Contar a um amigo ou postar nas redes sociais sobre uma resolução de ano novo é como assumir um compromisso. Isso pode servir de motivação: ao ter uma recaída na dieta ou falhar em terminar a leitura programada para o mês, você pode pensar que estará decepcionando não só a si próprio, mas também alguém que te apoia. Um tanto dramático, talvez. Mas funciona.

Disponível em: super.abril.com.br/comportamento/como-cumprir-promessas-de-ano-novo-segundo-a-ciencia/.
Acesso em 5 de jan. de 2020. Adaptado.

QUESTÃO 11

Tomando como base dados apresentados no texto, pode-se afirmar que

- A) A maioria das pessoas consegue atingir, no ano seguinte, as metas traçadas no final do ano anterior.
- B) Somente a minoria das pessoas não consegue cumprir as metas traçadas no final do ano anterior.
- C) A maioria das pessoas que assume novos hábitos no final do ano os abandonam em pouco tempo.
- D) Ao final de 2017, a maioria dos brasileiros tinha cumprido as metas traçadas no final de 2016.
- E) Nos EUA, a maioria das pessoas consegue levar adiante as metas traçadas no final do ano anterior.

QUESTÃO 12

A alternativa que extrapola as ideias defendidas no texto quanto às razões de as pessoas não atingirem os objetivos traçados é

- A) a criação de falsa expectativa de alcançar objetivos inatingíveis.
- B) a supervalorização da própria capacidade de operar mudanças.
- C) a elevação do grau de dificuldade da meta a ser alcançada.
- D) a falta de vontade de operar mudanças de antigos hábitos.
- E) o acúmulo de um grande número de objetivos a serem alcançados.

QUESTÃO 13

A alternativa que contraria as ações citadas pelo texto para eliminar velhos hábitos é

- A) começar aos poucos e aumentar gradativamente a prática de exercícios físicos.
- B) contar a conhecidos os objetivos traçados para firmar o compromisso de mudar.
- C) escolher objetivos específicos e focar somente em um desses objetivos de cada vez.
- D) não se deixar levar pela “síndrome da falsa esperança”, ou seja, não traçar metas irreais.
- E) passear pelo shopping ou visitar lojas via internet para evitar o consumismo.

QUESTÃO 14

Entre os objetivos que as pessoas traçam ao final de cada ano, foram excluídos do texto os de natureza

- A) cultural.
- B) voluntariada.
- C) financeira.
- D) salutar.
- E) profissional.

QUESTÃO 15

No texto, observa-se o uso de alguns recursos de argumentação entre os quais se nota a **ausência** de

- A) dados estatísticos.
- B) intertextualidade.
- C) interrogação.
- D) função apelativa.
- E) epígrafe.

QUESTÃO 16

Sobre os tipos de linguagem, é **CORRETO** afirmar que predomina no texto o uso da linguagem

- A) denotativa.
- B) informal.
- C) conotativa.
- D) regional.
- E) técnica.

QUESTÃO 17

Considere o trecho: “Guardar dinheiro, fazer as pazes com a balança, ler mais livros, arrumar um novo emprego, começar a fazer exercício. Qualquer pessoa que se preze carrega uma lista de resoluções de ano novo na ponta da língua. Segundo um levantamento divulgado pelo Google, 55% dos brasileiros buscavam na internet por alguma meta do tipo, ao final de 2017.” (Linhas 1-4)

Sobre a organização morfossintática desse trecho, é **CORRETO** afirmar:

- A) A próclise do pronome “se” é facultativa, uma vez que não se verifica presença de palavra atrativa.
- B) O uso do verbo “buscavam” no plural é facultativo, já que o núcleo do seu sujeito é uma porcentagem.
- C) Todos os períodos que compõem o trecho foram formados por orações coordenadas sindéticas.
- D) As vírgulas, no primeiro período, foram usadas para separar orações coordenadas assindéticas.
- E) A vírgula usada depois do termo “Google” é facultativa, de acordo com a Gramática Normativa.

QUESTÃO 18

Considere o trecho: “[...] você pode pensar que estará decepcionando não só a si próprio, **mas também** alguém que te apoia [...]” (Linha 28)

O termo “mas também” insere no trecho uma ideia de

- A) adição.
- B) adversidade.
- C) concessão.
- D) explicação.
- E) consequência.

QUESTÃO 19

Considere o trecho: “Isso acontece porque costumamos **superestimar** nossa capacidade de mudança.” (Linha 10)

O prefixo que forma o antônimo da palavra “superestimar” é

- A) sob.
- B) in.
- C) des.
- D) hipo.
- E) sub.

QUESTÃO 20

Considere o trecho: “Outro estudo, feito na Universidade de Scranton, nos EUA, foi além, cravou que só 8% de fato conseguem levar à frente suas promessas.” (Linhas 6-8)

O sinal indicativo de crase foi usado no trecho acima porque se verifica a ocorrência de

- A) fusão de ‘a’ (preposição) + ‘a’ (artigo feminino).
- B) locução conjuntiva feminina.
- C) locução adverbial feminina.
- D) locução prepositiva feminina.
- E) locução adjetiva feminina.

PROVA DE NOÇÕES DE INFORMÁTICA
Questões numeradas de 21 a 30

QUESTÃO 21

Sobre organização e gerenciamento de informações, arquivos, pastas e programas, analise as seguintes afirmações e assinale **V** para as verdadeiras e **F** para as falsas.

- () - Arquivos ocultos são arquivos que normalmente são relacionados ao sistema. Eles ficam ocultos, pois alterações podem danificar o Sistema Operacional.
- () - Existem vários tipos de arquivos, como arquivos de textos, arquivos de som, imagem, planilhas, sendo que o arquivo .rtf só é aberto com o Wordpad.
- () - Nas versões Vista, 7, 8 e 10 do Windows, é possível usar criptografia para proteger todos os arquivos que estejam armazenados na unidade em que o Windows esteja instalado.
- () - O Windows Explorer é um gerenciador de informações, arquivos, pastas e programas do sistema operacional Windows da Microsoft.
- () - São bibliotecas padrão do Windows: Programas, Documentos, Imagens, Músicas, Vídeos.

A sequência **CORRETA** das afirmações é:

- A) F, V, V, F, F.
- B) V, F, V, V, F.
- C) V, F, F, V, V.
- D) F, V, F, F, V.
- E) V, V, F, V, F.

QUESTÃO 22

Sobre sistema de ficheiros ou sistema de arquivos, pode-se afirmar que é:

- A) A forma de organização de dados em algum meio de armazenamento de dados em massa, frequentemente feito em discos magnéticos.
- B) Um formato de armazenamento exclusivo dos Sistemas Windows.
- C) Uma representação dos arquivos presentes no computador, que se faz por meio de pastas dinâmicas.
- D) Um método de encontrar os arquivos presentes no computador, por meio de pesquisas computadorizadas.
- E) Uma coleção de arquivos dinâmicos que está presente no computador, encontradas no Windows Explorer.

QUESTÃO 23

Acerca do Windows Explorer, analise as seguintes afirmações e assinale **V** para as verdadeiras e **F** para as falsas.

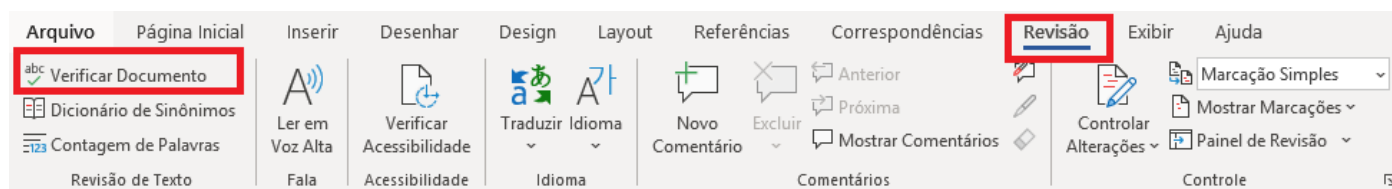
- () - A partir da versão do Windows 10 em diante, a ferramenta Windows Explorer passou a se chamar Navegador de Arquivos.
- () - É considerada uma das ferramentas mais importantes do Sistema Operacional Windows.
- () - Existem basicamente três formas de acessá-lo: no Menu Iniciar, acionando as teclas do Windows + a letra E ou clicando no ícone com o desenho de uma pasta, localizada na Barra de Tarefas.
- () - Tem recebido novos incrementos a cada nova versão, passando a oferecer também suporte a novos recursos, como reprodução de áudio e vídeo.
- () - Trata-se de uma espécie de pasta utilizada somente para movimentar os arquivos do computador.

A sequência **CORRETA** das afirmações é:

- A) F, V, F, V, F.
- B) V, F, F, V, V.
- C) F, V, V, V, F.
- D) F, V, F, F, V.
- E) V, V, V, F, F.

QUESTÃO 24

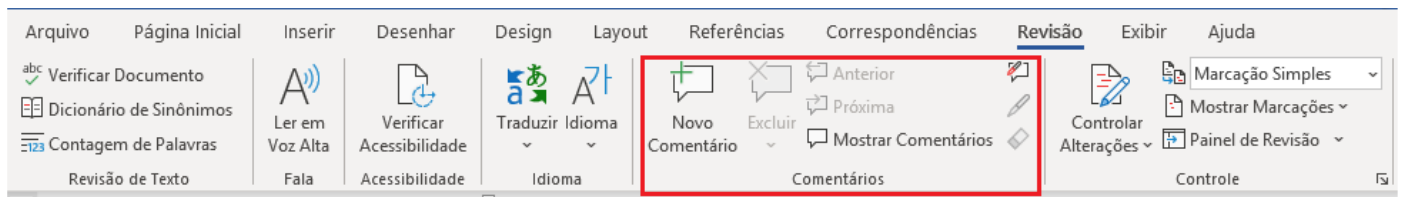
O que significa acionar o menu Revisão na opção verificar documento, do Microsoft Word como destacado na figura?



- A) Acionar a revisão do documento na questão de ordem alfabética.
- B) Verificar se o documento possui palavras estrangeiras incorretas.
- C) Verificar se o documento possui comentários inadequados.
- D) Verificar se as alterações de formatação foram realizadas com sucesso.
- E) Acionar um sistema de verificação e correção, com um suporte gramatical e ortográfico.

QUESTÃO 25

No menu Revisão do Microsoft Word existe a opção Comentários, como consta na figura. Analise as afirmações e assinale **V** para as verdadeiras e **F** para as falsas.



- () - Não é possível inserir um comentário na área de cabeçalho ou de rodapé de um documento.
- () - Para imprimir documento sem imprimir os comentários no Microsoft Word 2010, basta clicar em Mostrar Marcações no grupo Controle e desmarcar a caixa de seleção comentários.
- () - Para responder a um comentário no Microsoft Word 2010 ou 2007, basta clicar em Controlar Alterações no grupo Controle.
- () - Para ver o nome do autor, a data e a hora em que o comentário foi feito, é só acionar Verificar Acessibilidade no grupo Acessibilidade.
- () - Um comentário é uma anotação ou anotação que um autor ou revisor pode adicionar a um documento, exibido no painel de revisão ou em um balão na margem do documento.

A sequência **CORRETA** das afirmações é:

- A) V, F, V, F, V.
- B) F, F, V, V, F.
- C) F, V, F, V, F.
- D) V, F, F, V, V.
- E) V, V, F, F, V.

QUESTÃO 26

Com base na figura, identifique a fórmula **CORRETA** para o cálculo da soma de todas as vendas do mês superiores ao total de R\$ 50.000,00 para constar na célula B9:

	A	B	C	D
1	VENDEDOR	VENDAS MÊS	COMISSÃO	% DE DESCONTOS
2	João	R\$ 55.000,00	R\$ 1.100,00	3%
3	José	R\$ 60.000,00	R\$ 1.200,00	4%
4	Maria	R\$ 57.000,00	R\$ 1.140,00	2%
5	Joana	R\$ 63.000,00	R\$ 1.260,00	5%
6	Valentina	R\$ 23.000,00	R\$ 460,00	2%
7	Pedro	R\$ 34.000,00	R\$ 680,00	3%
8				
9	Subtotal			

- A) =SOMA(B2:B5).
- B) =SOMASE(B2:B7; ">50.000").
- C) =B2+B3+B4+B5.
- D) =TOTAL (SOMA B2:B5).
- E) =SOMA(>50.000).

QUESTÃO 27

Supondo que, com os dados dispostos na figura, queira-se conceder um bônus de R\$ 500,00 para Maria por ter um total de vendas no mês superior aos R\$ 50.000. A fórmula que melhor exemplifica essa situação é:

	A	B	C	D
1	VENDEDOR	VENDAS MÊS	COMISSÃO	% DE DESCONTOS
2	João	R\$ 55.000,00	R\$ 1.100,00	3%
3	José	R\$ 60.000,00	R\$ 1.200,00	4%
4	Maria	R\$ 57.000,00	R\$ 1.140,00	2%
5	Joana	R\$ 63.000,00	R\$ 1.260,00	5%
6	Valentina	R\$ 23.000,00	R\$ 460,00	2%
7	Pedro	R\$ 34.000,00	R\$ 680,00	3%
8				
9	Subtotal			

- A) CONCEDE (B4=50000, "BÔNUS R\$500,00"; "NÃO TEM BÔNUS").
- B) CALCULABONUS (B4>=50000; SIM, NÃO).
- C) BONUS (500,00; SE (B4>=50000)).
- D) SE(B4>=50000; "BÔNUS R\$500,00"; "NÃO TEM BÔNUS").
- E) CONCEDE (BONUS (500); SE(B4>=50000)).

QUESTÃO 28

Nome	Altura	Nascimento
Mário	1,76	28/1/95
João	0,98	10/10/06
Laura	1,60	13/4/98
Alberto	1,72	10/2/88
Maria	1,65	09/5/65
Cláudia	1,70	23/9/87
*	0,00	

Campo:	Nome	Altura	Nascimento
Tabela:	Tabela1	Tabela1	Tabela1
Classificação:		Decrescente	
Mostrar:	<input checked="" type="checkbox"/>	<input checked="" type="checkbox"/>	<input checked="" type="checkbox"/>
Critério:		>=1,7	
ou:			

Com base nas figuras apresentadas de utilização do Microsoft Access, a consulta realizada na Tabela 1 retornaria:

- A) 1,76; 1,72; 1,70; 1,65; 1,60; 0,98.
- B) Alberto, Cláudia, João, Laura, Maria, Mário.
- C) Mário 1,76 28/1/95; Alberto 1,72 10/2/88; Cláudia 1,70 23/9/87.
- D) Mário, Maria, Laura, João, Cláudia, Alberto.
- E) Mário 1,76, Maria 1,65, Laura 1,60, João 0,98, Cláudia 1,70, Alberto 1,72.

QUESTÃO 29

Faça a associação entre os nomes dos protocolos de internet e suas respectivas descrições.

- A - IP () Forma padronizada de comunicação para os computadores na internet. Faz a divisão dos dados que será enviada em segmentos de dados.
- B - TCP
- C - HTTP () Usado para fazer o acesso a WWW (WORLD WIDE WEB) como protocolo de cliente/servidor. Se na barra de endereços do navegador não especificar outro recurso, esse protocolo será tido como padrão.
- D - FTP
- E - SSL () É o protocolo pelo qual os dados são enviados a partir de um computador para outro na Internet. É responsável pelo envio e endereçamentos dos pacotes TCP.
- () Esse é um protocolo de segurança que permite a confirmação da identidade de um servidor, verificando o nível de confiança.
- () Recurso utilizado para transferências de arquivos pela internet. Esse protocolo permite apenas o envio e o recebimento dos arquivos, no entanto, para a leitura, serão necessários outros programas.

A alternativa que contém a sequência **CORRETA** é:

- A) A, B, C, D, E.
B) B, A, C, D, E.
C) A, D, B, E, C.
D) B, C, A, E, D.
E) C, E, A, D, B.

QUESTÃO 30

Leia as afirmações a seguir:

- I - É registrada a data e a hora de envio da mensagem.
- II - As mensagens devem ser lidas periodicamente para não acumular.
- III - Não indicado para assuntos confidenciais.
- IV - Utilizada para comunicações internacionais e regionais, economizando despesas com telefone e evitando problemas com fuso horário.
- V - As mensagens podem ser arquivadas e armazenadas, permitindo-se fazer consultas posteriores.

São vantagens do correio eletrônico aquelas dispostas em apenas:

- A) I, IV e V.
B) I, III e IV.
C) II, III e V.
D) II, IV e V.
E) III, IV e V.

