



**PREFEITURA MUNICIPAL DE
SAPÉ - PB**

NÍVEL MÉDIO

CARGO:

TÉCNICO EM EDIFICAÇÕES

EXAME GRAFOTÉCNICO:

(Transcreva a frase abaixo no local indicado na sua Folha de Respostas)

"No meio da dificuldade encontra-se a oportunidade." Albert Einstein (1879-1955)

INSTRUÇÕES:

- 01 Verifique se este caderno de provas contém **40 (quarenta)** questões de múltipla escolha, sendo Português de **01 a 15**, Informática de **16 a 25** e Conhecimentos Específicos de **26 a 40**.
- 02 Observe se há falhas ou imperfeições gráficas que causem dúvidas. Caso existam, comunique imediatamente ao Fiscal de Sala.
- 03 Verifique se os dados existentes na Folha de Respostas conferem com os dados do Cartão de Inscrição e da etiqueta afixada na sua carteira.
- 04 Esta Prova tem duração de **4 (quatro)** horas. Não é permitida a saída do candidato antes de esgotado o tempo mínimo de **2 (duas)** horas.
- 05 É vetado, durante a prova, o intercâmbio ou empréstimo de material de qualquer natureza entre os candidatos, bem como o uso de celulares, calculadoras e/ou qualquer outro tipo de equipamento eletrônico. A fraude, ou tentativa, a indisciplina e o desrespeito às autoridades encarregadas dos trabalhos são faltas que eliminam o candidato.
- 06 **Assine**, ao sair da sala, a **Lista de Presença** e entregue o seu Caderno de Prova e a Folha de Respostas, devidamente assinados, ao Fiscal de Sala.





PORTUGUÊS

Ler com atenção cada um dos textos abaixo e responder o que se pede.

Texto I

Os erros mais comuns de quem estuda para concursos públicos.

Se você tinha facilidade para estudar para provas quando estava na escola, nada garante que saiba como se preparar para um concurso público.

É que os processos seletivos para conquistar uma vaga na máquina pública são muito mais complexos - e diferentes entre si - do que os exames acadêmicos a que somos submetidos ao longo da vida.

Para começar, diz Nestor Távora, coordenador do curso preparatório LFG, há um elemento único, desconhecido pela maioria das pessoas, que faz toda a diferença para o sucesso do candidato: o edital.

O problema é que o documento, que compila informações como a sequência, o conteúdo e o peso de cada prova, não recebe atenção suficiente da maioria dos candidatos. “Parece um erro bobo, mas muita gente já começa a abrir os livros sem ter familiaridade com o edital, o que compromete toda a sua estratégia de estudo”, diz Távora.

Mas as falhas na preparação para a grande prova vão muito além disso. Veja a seguir as mais frequentes, segundo professores ouvidos por EXAME.com:

1. Não estabelecer um ritmo para os estudos. A preparação para um concurso público pode ser tão cansativa quanto uma bateria de exercícios na academia. Por isso, calibrar a intensidade e a frequência das sessões de estudo é fundamental. De acordo com Távora, alguns candidatos vão ao esgotamento total num único dia, só para depois passar semanas sem tocar nos livros. “Você precisa planejar um cronograma que seja, ao mesmo tempo, constante e saudável”, afirma o professor.

2. Estudar por materiais “duvidosos”. Pela pressa ou desconhecimento, é comum que o concurseiro confie em livros, videoaulas e cursos de má qualidade. “Além de incompletos, eles podem não estar atualizados de acordo com as últimas retificações do edital”, diz Rodrigo Menezes, diretor do site Concurso Virtual. Estudar por material desatualizado é “cair em casca de banana na certa”, segundo Rodrigo Lelis, professor do Universo do Concurso. Isso porque os avaliadores “adoram” fazer pegadinhas que envolvam a mudança trazida por uma lei recentemente atualizada.

3. Começar a preparação só depois da publicação do edital. De acordo com Marcus Bittencourt, advogado da União e professor do Damásio Educacional, muitos candidatos esperam a publicação do edital para abrir os livros. O problema é que o documento costuma sair poucos meses antes da primeira prova do concurso - um prazo muito curto para a preparação. Por isso, é melhor começar a estudar com base em editais anteriores. “Quando for publicado o novo, você terá tempo para fazer as adaptações necessárias e revisar os pontos já estudados, dando ênfase nas disciplinas de maior peso”, explica o professor.

4. Não distribuir bem as matérias ao longo da semana. Segundo Távora, muitos candidatos estudam de forma aleatória e caótica. O risco dessa atitude é chegar à prova sem ter coberto todos os assuntos mais importantes de cada área. Não adianta estudar só as matérias que você adora, porque assuntos importantes vão ficar de fora. Também não vale se dedicar apenas aos conteúdos mais difíceis, diz o professor, porque você vai se cansar. A melhor tática é estabelecer para a semana um “mix de disciplinas” completo, equilibrado e minimamente agradável.

5. Desconhecer a banca examinadora. Cada concurso é um universo com regras próprias. A maior parte das peculiaridades de cada processo seletivo se deve ao estilo dos avaliadores. Se você desconhece o estilo e as preferências dos seus avaliadores, horas e horas de estudo podem ser desperdiçadas. Enquanto algumas bancas gostam de elaborar provas enxutas e apegadas ao texto da lei, outras preferem exames mais longos e baseados em jurisprudência, exemplifica Távora. A Cespe/UnB, por exemplo, é uma banca que costuma elaborar exames em que cada resposta errada anula uma certa. Ignorar as regras de contagem de pontos, nesse caso, é fatal.

6. Estudar até a exaustão. No afã de conquistar a aprovação, muita gente estuda de manhã, à tarde e à noite, sem pausas. “É uma grande loucura”, diz Lelis, do Universo do Concurso. “É uma rotina que acaba com o equilíbrio emocional e gera muito estresse”. Segundo o professor, qualidade vale mais do que quantidade: é preferível estudar pouco, mas com afinco, do que passar por horas e horas debruçado sobre os livros. “O candidato exausto e estressado tem muito mais chances de ter um 'branco' ou até passar mal no dia da prova”, afirma o professor.

7. Não treinar. Outro erro frequente é restringir a sua preparação à leitura da matéria. “Claro que você precisa estudar textos, doutrinas e leis, mas não pode acreditar que isso será suficiente”, afirma Távora. Fazer exercícios e simulados é fundamental para a aprovação, e não só para testar o seu conhecimento. O treino também ajuda a se preparar para o formato das questões e dominar o tempo disponível para resolvê-las.

8. Estudar pensando em curto prazo. Segundo Rodrigo Menezes, diretor do site Concurso Virtual, outro erro frequente é esquecer que alguns editais demoram anos para ser publicados. A depender do seu objetivo, é preciso estudar com o foco no longo prazo. “O ideal para esse caso é usar técnicas de resumo e revisões para que o conteúdo não seja esquecido após um tempo”, afirma o especialista.

Disponível em: ><http://exame.abril.com.br/carreira/noticias/os-erros-mais-comuns-de-quem-estuda-para-concursos-publicos>. <. Data da consulta: 23/02/2016.



Texto II



Disponível em:

><https://www.google.com.br/search?q=charges+sobre+concursos+publicos&espv=2&biw=1366&bih=667&tbm=isch&imgil=Qav7flmV-<>. Data da consulta: 23/02/2016.

Leia com atenção as assertivas acerca dos textos I e II e em seguida responda o que se pede.

- I. Embora tratem da mesma temática, concurso público, os textos I e II abordam distintas vertentes do tema: o primeiro se refere às estratégias e metodologias de estudo para passar nos concursos. O foco está nestes; já no segundo texto, passar nos concursos é meio para se atingir os fins: ser funcionário público.
- II. As temáticas são completamente distintas. O primeiro se refere às estratégias e metodologias de estudo para passar nos concursos. O foco está nestes; já no segundo texto, o foco está no sonho de ser funcionário público, prescindindo o candidato, para tal, dos concursos públicos.
- III. Por se enquadrarem em categorias de gêneros textuais completamente distintos - um em prosa, outro tirinha, misto de verbal e não verbal – os textos acima não poderiam, a princípio, tratar do mesmo tema.
- IV. As eventuais falhas de estudo e preparação para concursos públicos, mostradas no texto I, não são diagnosticadas por autoridades no assunto, daí a razão de não poderem ser levadas a sério pelos concurreseiros.

1ª QUESTÃO

Está CORRETO apenas o que se afirma em:

- | | |
|----------------|-----------------|
| a) III e IV | d) II, III e IV |
| b) I e IV | e) I |
| c) I, II e III | |

2ª QUESTÃO

De acordo com o que se deduz da tese implícita no texto II, assinale a alternativa CORRETA:

- a) Este concurreseiro prioriza seu foco de escolha da sua profissão principalmente na área de trabalho em que pretende atuar, em detrimento do tipo de emprego.
- b) As eventuais escolhas, sonhos, conflitos, aspirações e aptidões deste concurreseiro, por exemplo, quando o assunto é profissão, são rigorosamente vivenciados: prioriza-se, em tese, o real desejo do concurreseiro de ser funcionário público por vocação, amor, determinação e compromisso com o Brasil.
- c) A tese, na tira, da não escolha, por parte do concurreseiro, da área na qual vai atuar é absolutamente irrelevante para o efeito final de sentido do texto.
- d) A tese, na tira, da não escolha, por parte do concurreseiro, da área na qual ele vai atuar é absolutamente indiferente para o efeito final de sentido do texto.
- e) As eventuais escolhas, sonhos, conflitos, aspirações e aptidões deste concurreseiro, por exemplo, quando o assunto é profissão, são completamente anulados pelo simples desejo de ser funcionário público, profissão histórica e culturalmente vista no Brasil de ganho fácil e de pouco trabalho.

3ª QUESTÃO

Assinale a alternativa na qual todas as palavras estão em consonância, quando o assunto tem a ver com as estratégias eficazes de estudos preparatórios para os concursos públicos, presentes no texto I:

- a) Planejamento de estudo de curto prazo, treino, indisciplina no estudo, organização, conhecimento profundo do edital e foco no pequeno prazo.
- b) Planejamento de estudo de longo prazo, treino, disciplina no estudo, organização, foco no longo prazo e conhecimento profundo do edital.
- c) Planejamento de estudo de curto prazo, treino, indisciplina no estudo, organização, foco no longo prazo e conhecimento superficial do edital.
- d) Planejamento de estudo de longo prazo, treino, indisciplina no estudo, organização, falta de foco no longo prazo e conhecimento superficial do edital.
- e) Planejamento de estudo de curto prazo, treino, disciplina no estudo, organização, falta de foco, conhecimento profundo do edital e foco.



4ª QUESTÃO

A presença do pronome *VOCÊ* no texto I dá a este um caráter de:

- a) Informalidade e estratégia do leitor de provocar adesão de quem escreve.
- b) Bastante formalidade e estratégia de quem escreve de provocar adesão do leitor.
- c) Bastante formalidade e tentativa quase ausente de provocar adesão do leitor.
- d) Informalidade e estratégia de quem escreve de provocar adesão do leitor.
- e) Informalidade, necessária sempre que se trate de textos de natureza argumentativa.

5ª QUESTÃO

A expressão sublinhada em “Estudar por materiais ‘duvidosos’” pode significar, no contexto:

- a) Cujas questões geram dúvidas na elaboração e interpretação.
- b) De qualidade questionável.
- c) De qualidade desabonadora.
- d) Cujas questões são concisas demais.
- e) De qualidade editorial e gráfica comprometedora.

6ª QUESTÃO

Sobre as expressões, extraídas do texto I, “casca de banana”, “pegadinhas”, “branco” e “mix”, no contexto, é verdadeiro se afirmar que, do ponto de vista de variação linguística:

- a) Fazem parte da linguagem dos concurrenseiros, por isso são prescindíveis e dispensáveis à compreensão do texto.
- b) São gírias que, nas circunstâncias textuais, são impróprias e impertinentes como estratégias linguísticas de tentativa de interação e adesão de quem escreveu ao leitor.
- c) São regionalismos que, nas circunstâncias textuais, são irrelevantes como estratégias linguísticas de tentativa de interação e adesão de quem escreveu ao leitor.
- d) São gírias que, nas circunstâncias textuais, são importantes como estratégias linguísticas de tentativa de interação e adesão de quem escreveu ao leitor.
- e) Pelo uso cristalizado socialmente já fazem parte da norma padrão, institucionalizada nos manuais oficiais e gramáticas normativas.

Atentar à tira abaixo e responder o que se pede:

Texto III



Disponível em: >

<https://www.google.com.br/search?q=charges+sobre+concursos+publicos&espv=2&biw=1366&bih=667&tbn=isch&imgil>. Data da consulta: 23/02/2016

7ª QUESTÃO

Acerca da tira anterior (Texto III), é CORRETO se afirmar que:

- a) A expressão “rede de direitos humanos,” cujos significados das palavras no contexto estão sendo 'deformados', é utilizada em sentido figurado.
- b) A expressão “rede de direitos humanos,” cujos significados das palavras no contexto estão sendo 'deformados', é utilizada em sentido real, isto é, denotativo.
- c) A expressão “*rede de direitos humanos*”, por ser uma gíria, está inapropriada nestas circunstâncias de uso.
- d) Na expressão “*outros estão fazendo este mesmo trabalho em outras cidades*” a parte sublinhada exerce a função sintática de objeto direto do verbo fazer.
- e) Na expressão “*outros estão fazendo este mesmo trabalho em outras cidades*” a parte sublinhada exerce a função sintática de sujeito da oração.

8ª QUESTÃO

Na expressão “Alguns candidatos vão ao esgotamento total num único dia”, extraída do texto I, é CORRETO se afirmar que:

- a) O sujeito sintático da oração presente se classifica como composto e está representado pela expressão ALGUNS CANDIDATOS.
- b) A parte sublinhada é composta por um pronome indefinido e um substantivo que, no contexto, não exercem função sintática.
- c) A parte sublinhada é composta por um pronome indefinido e um substantivo que, no contexto, exercem a função sintática de sujeito da oração.
- d) O sujeito sintático da oração presente se classifica como simples e está representado pela expressão ESGOTAMENTO TOTAL.
- e) O núcleo do sujeito está representado pela expressão ALGUNS.

Atentar às placas abaixo e responder o que se pede:

Texto IV



Placa 01

Texto V



Placa 02

Com base nas placas acima, julgue cada uma das afirmações abaixo e em seguida responda o que se pede:

- I. A concordância verbal presente na placa 01 respeita a norma padrão. Por sua vez o sujeito da sentença é PESSOAS COM PRÁTICA EM ÓTICA.
- II. A concordância verbal presente na placa 01 desrespeita a norma padrão. Apesar disso o sujeito sintático da sentença é PESSOAS COM PRÁTICA EM ÓTICA.
- III. A concordância nominal presente na placa 02 desrespeita a norma padrão.
- IV. A concordância nominal presente na placa 02 respeita a norma padrão.

9ª QUESTÃO

Está CORRETO apenas o que se afirma em:

- a) I e IV
- b) I, II e III
- c) I e III
- d) II e III
- e) I e II



Atente à tirinha e responda o que se pede:

Texto VI



Disponível

em: ><https://www.google.com.br/search?q=charges+sobre+concursos+publicos&espv=2&biw=<>. Data da consulta: 24/02/2016.

10ª QUESTÃO

Observando-se atentamente o texto acima (Texto VI), é CORRETO se afirmar que:

- a) A fala presente no primeiro balãozinho enquadra-se completamente na variante padrão.
- b) Há uma transgressão explícita à regência verbal do verbo ASSISTIR, no contexto. Por estar no sentido de ver, exigiria preposição obrigatória, por ser o verbo de classificação transitiva indireta.
- c) O núcleo do sujeito da oração presente no primeiro balãozinho é GLOBAL.
- d) De acordo com a norma padrão as expressões TELA QUENTE E TEMPERATURA MÁXIMA, do segundo balãozinho, exercem a função sintática de objeto direto.
- e) De acordo com a norma padrão as expressões TELA QUENTE E TEMPERATURA MÁXIMA, do segundo balãozinho, exercem a função sintática de adjuntos adnominais.

Analise a tirinha abaixo e responda o que se pede:

Texto VII



Disponível em:>

<https://www.google.com.br/search?q=charges+sobre+concursos+publicos&espv=2&biw=1366&bih=667&source=inms&tbm=isch&s=<>. Data da consulta: 24/02/2016.

11ª QUESTÃO

É CORRETO se afirmar, em relação à tirinha anterior (Texto VII), que:

- a) O sujeito sintático de SEJA SINCERA é “TU”.
- b) Do ponto de vista regencial, a sentença respeita com rigor a norma padrão.
- c) Há explícita transgressão à norma padrão do ponto de vista regencial, já que o verbo namorar, por ser transitivo direto, não admite preposição obrigatória.
- d) A expressão MINHA CARTEIRA, no contexto, exerce a função sintática, de acordo com a norma padrão, de objeto indireto da forma verbal “está”.
- e) A expressão MINHA CARTEIRA, no contexto, exerce a função sintática, de acordo com a norma padrão, de sujeito.

Atente às sentenças a seguir e responda o que se pede:

- I. Devo ir à Fortaleza e em seguida à Curitiba.
- II. O investigador ficou a mercê do bandido na esquina
- III. Nunca mais fico a noite, a partir das 11, na rua.
- IV. Refiro-me, na política, às pessoas hipócritas e mentirosas.

12ª QUESTÃO

Pode-se afirmar que o uso CORRETO do acento marcador da crase se apresenta apenas na(s) sentença(s):

- a) II e IV
- b) I e IV
- c) I, II, III
- d) IV
- e) III e IV

Ler com cuidado o texto abaixo e responder o que se pede:

Texto VIII

A diretora-geral da Organização Mundial da Saúde (OMS), Margaret Chan, e a diretora da Opas (Organização Pan-Americana de Saúde) e da regional da OMS para as Américas, Carissa Etienne, visitaram nesta quarta-feira (24) o Instituto Materno Infantil, um dos primeiros locais a ser credenciado para atender a crianças com microcefalia em Pernambuco, (01) Estado (02) com o maior número de casos de má-formação: 209 dos 583 confirmados no país.

Durante a visita, ela (03) disse que este é "um momento de solidariedade" e evitou fazer críticas ao governo brasileiro. Nós estamos lidando com um inimigo formidável, que é o mosquito Aedes, e com um vírus, que não sabemos o que ele (04) vai fazer, é cheio de truques”.

Disponível em:> <http://noticias.uol.com.br/saude/ultimas-noticias/redacao/2016/02/24/nao-sabemos-o-que-o-zika-vai-fazer-e-cheio-de-truques-diz-diretora-da-oms.htm<>.

Data da consulta: 24/02/2016. (Adaptado).



13ª QUESTÃO

Sobre o texto anterior (Texto VIII) é CORRETO afirmar que:

- a) Há um problema claro de coesão textual no fragmento, que compromete a clareza e, com efeito, a sua coerência: não há clareza, no texto, da presença do referente coesivo da expressão ELA (03), já que há dois possíveis referentes desse pronome citados no início do fragmento.
- b) Há um problema claro de coesão textual no fragmento, que compromete a clareza e, com efeito, a sua coerência: não há clareza, no texto, da presença do referente coesivo da expressão ELE (04).
- c) Há um problema claro de coesão textual no fragmento, que compromete a clareza e, com efeito, a sua coerência: não há clareza, no texto, da presença do referente coesivo da expressão ESTADO (02).
- d) Há um problema claro de coesão textual no fragmento, que compromete a clareza e, com efeito, a sua coerência: não há clareza, no texto, da presença do referente coesivo da expressão UM DOS PRIMEIROS LOCAIS A SER CREDENCIADO PARA ATENDER A CRIANÇAS COM MICROCEFALIA EM PERNAMBUCO (01).
- e) O fragmento goza de perfeita clareza e coesão textual.

Atente ao poema abaixo e responda o que se pede:

Texto IX

Catar Feijão

Catar feijão se limita com escrever:
joga-se os grãos na água do alguidar
e as palavras na folha de papel;
e depois, joga-se fora o que boiar.
Certo, toda palavra boiará no papel,
água congelada, por chumbo seu verbo:
pois para catar esse feijão, soprar nele,
e jogar fora o leve e oco, palha e eco.

Ora, nesse catar feijão entra um risco:
o de que entre os grãos pesados entre
um grão qualquer, pedra ou indigesto,
um grão imastigável, de quebrar dente.
Certo não, quando ao catar palavras:
a pedra dá à frase seu grão mais vivo:
obstrui a leitura fluviante, flutual,
açula a atenção, isca-a como o risco.

(João Cabral de Melo Neto).

14ª QUESTÃO

Sobre o poema acima, é CORRETO se afirmar que:

- a) A comparação do fazer poético com o ato de catar feijão leva-nos ao entendimento da metapoesia, isto é, o poema, enquanto linguagem, falando do próprio ato de se fazer, característica da função meramente mecânica e referencial da linguagem.
- b) A comparação do fazer poético com o ato de catar feijão leva-nos ao entendimento da metapoesia, isto é, o poema, enquanto linguagem, falando do próprio ato de se fazer, característica da função apelativa da linguagem.
- c) A comparação do fazer poético com o ato de catar feijão leva-nos ao entendimento da metapoesia, isto é, o poema, enquanto linguagem, falando do próprio ato de se fazer, característica da função metalinguística da linguagem.
- d) A comparação do fazer poético com o ato de catar feijão leva-nos ao entendimento da metapoesia, isto é, o poema, enquanto linguagem, falando do próprio ato de se fazer, característica da função fática da linguagem.
- e) Não se registra, no poema em análise, nenhuma função da linguagem.

15ª QUESTÃO

Na sentença “*Não faça, por favor!*”, se mudarmos a posição da vírgula para antes do verbo fazer, é CORRETO afirmarmos que:

- a) A nova sentença ficará incoerente.
- b) Não teremos mudanças substanciais de sentido na nova sentença.
- c) Teremos mudanças substanciais de sentido na nova sentença, inclusive com modificações também na regência do verbo fazer.
- d) Teremos mudanças substanciais de sentido na nova sentença, com modificações também na classificação do sujeito do verbo fazer.
- e) Teremos mudanças substanciais de sentido na nova sentença.



INFORMÁTICA

16ª QUESTÃO

Ao ligarmos um computador, uma grande quantidade de operações pré-gravadas de fábrica são executadas, dentre elas, o carregamento do sistema operacional. Essas instruções estão disponíveis no(a):

- a) CONFIG.SYS
- b) CPU
- c) CMOS
- d) BIOS
- e) RAM

17ª QUESTÃO

A Unidade Central de Processamento (UCP ou CPU) é a unidade mais importante de um sistema computacional, conhecida como o “cérebro” do computador. Qual parte da UCP ou CPU é responsável por selecionar, interpretar e executar as instruções de um programa?

- a) ULA
- b) Unidade de controle
- c) Registradores
- d) RAM
- e) BIOS

18ª QUESTÃO

No Microsoft Windows 7 é possível organizar e acessar arquivos, independentemente de onde eles estejam armazenados, através das *Bibliotecas*. Ao instalar o Windows 7, em português, as *Bibliotecas* padrão são:

- a) Downloads, Imagens, Músicas e Vídeos
- b) Área de Trabalho, Documentos, Programas e Downloads
- c) Documentos, Imagens, Músicas e Vídeos
- d) Arquivos, Imagens, Pastas e Programas
- e) Área de Trabalho, Documentos, Downloads e Rede

19ª QUESTÃO

Com relação a sistemas operacionais, analise as seguintes afirmações:

- I. Um *driver* é um programa que permite que um hardware conectado ao computador, por exemplo, uma placa de vídeo ou uma impressora, funcione corretamente.
- II. *Bluetooth* é uma tecnologia de comunicação sem fio que permite conectar ao computador outros dispositivos, tais como: telefones celulares, teclados, mouses sem fio, entre outros.
- III. *Plugin* é um software que permite rastrear programas maliciosos que visam roubar número de cartão de crédito, senhas, logins, entre outros, instalados no seu computador.

Está(ão) CORRETA(S) apenas:

- a) I
- b) I e II
- c) I e III
- d) II e III
- e) II

20ª QUESTÃO

Um usuário pretende utilizar uma planilha do MS-Office Excel 2010, em português, para registrar seus gastos trimestrais, conforme a figura abaixo:

	A	B	C	D	E
1	Despesas	Jan	Fev	Mar	Total
2	Alimentação	420,00	400,00	455,00	1275,00
3	Educação	350,00	350,00	350,00	1050,00
4	Moradia	800,00	800,00	800,00	2400,00
5	Saúde	650,00	575,00	600,00	1825,00
6	Água e Luz	175,50	210,30	192,40	578,20
7	Transporte	123,30	150,00	175,00	448,30
8	Total de Despesas	2518,80	2485,30	2572,40	
9			Média Trimestral		2525,50

Ao construir sua planilha, na célula E9 o usuário calculou a média dos seus gastos trimestrais. Este valor pode ser obtido digitando a seguinte fórmula:

- a) =MÉDIA(E2:E7)
- b) =MÉDIA(B8:D8)
- c) =MÉDIA(B2:D7)
- d) =MÉDIA(B2:B7)
- e) =MÉDIA(SOMA(B2:D7))



21ª QUESTÃO

Acerca do MS-Office Word 2010, em português, assinale a alternativa INCORRETA:

- a) Para inserir comentários em um documento é necessário habilitar o controle de alterações a partir da guia *Revisão*.
- b) Os documentos podem ser divididos em várias seções, o que permite a aplicação de cabeçalhos e rodapés diferentes, desde que a opção vincular ao anterior não esteja habilitada.
- c) Tabulação é um recurso que permite alinhar textos em diversas posições. Quando um novo documento em branco é criado, por padrão, já existe uma tabulação à direita na régua.
- d) Os documentos podem conter dois tipos de *hiperlinks*: absolutos e relativos.
- e) Para acessar a operação substituir um texto no documento o usuário pode digitar as teclas de atalho Ctrl+U.

22ª QUESTÃO

Os atalhos de teclado consistem na combinação de duas ou mais teclas para execução de uma determinada tarefa. No *Windows Explorer* do Microsoft Windows 7, em português, quais teclas de atalho devem ser combinadas para alterar o tamanho e a aparência dos ícones de arquivos e pastas?

- a) Shift + roda de rolagem do mouse
- b) Ctrl + roda de rolagem do mouse
- c) Alt + roda de rolagem do mouse
- d) Ctrl + Shift + roda de rolagem do mouse
- e) Ctrl + Alt + roda de rolagem do mouse

23ª QUESTÃO

Cada computador ligado à *Internet* possui um endereço IP, responsável por identificá-lo exclusivamente. Para facilitar a navegação, alguns computadores também possuem nomes que são derivados de um sistema de nomes conhecido como:

- a) HTTPS
- b) FTP
- c) DNS
- d) HTML
- e) XLS

24ª QUESTÃO

Considerando as opções abaixo, qual tarefa é recomendada para proteger os arquivos armazenados em um disco rígido (HD)?

- a) Execução do antivírus diariamente.
- b) Desfragmentação de disco periodicamente.
- c) Execução do *ScanDisk* pelo menos uma vez por semana.
- d) Execução do comando *chkdsk* pelo menos uma vez por semana.
- e) Realização de *backups* regulares.

25ª QUESTÃO

Com relação à segurança da informação, analise as afirmações abaixo:

- I. O *firewall* é um software que permite prevenir, detectar e eliminar vírus e outros programas maliciosos de um computador.
- II. As URLs de sites de acesso seguro têm no seu início “https://”, em que é possível se estabelecer uma conexão criptografada e realizar a autenticação do servidor e do cliente por meio de certificados digitais.
- III. Uma recomendação em relação aos backups é mantê-los no mesmo local físico em que os dados originais.

Está(ão) CORRETA(S):

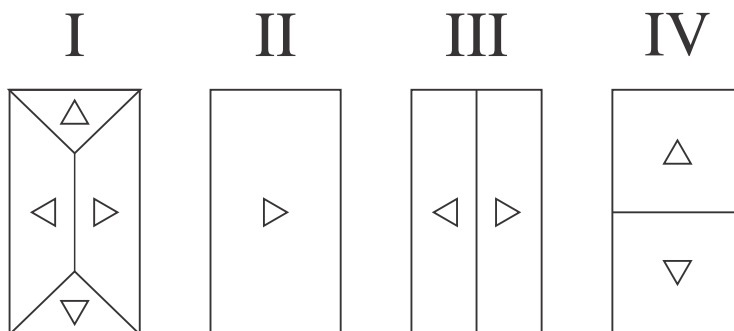
- a) I, II e III.
- b) Apenas I.
- c) Apenas I e III.
- d) Apenas II e III.
- e) Apenas II.



CONHECIMENTOS ESPECÍFICOS

26ª QUESTÃO

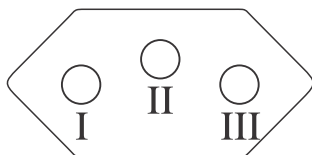
Atualmente as coberturas das residências e edifícios estão se tornando verdadeiras obras de artes devido a suas formas e estruturas cada vez mais complexas e que chamam a atenção das pessoas. Assinale a alternativa que apresenta a sequência CORRETA dos diferentes tipos de coberturas de residências.



- a) I = Telhado de 04 águas. II = Telhado de 01 água. III = Laje com manta asfáltica de duplo caimento. IV = Laje com manta asfáltica de duplo caimento.
- b) I = Telhado de 04 águas. II = Laje impermeabilizada. III = Telhado de 02 águas. IV = Telhado de 02 águas.
- c) I = Telhado de 04 águas. II = Laje impermeabilizada. III = Telhado de 02 águas. IV = Laje impermeabilizada com Platibanda.
- d) I = Telhado de 04 águas. II = Laje impermeabilizada. III = Laje impermeabilizada com Platibanda. IV = Laje impermeabilizada com Platibanda.
- e) I = Telhado de 04 águas. II = Telhado de 01 água. III = Telhado de 02 águas. IV = Telhado de 02 águas.

27ª QUESTÃO

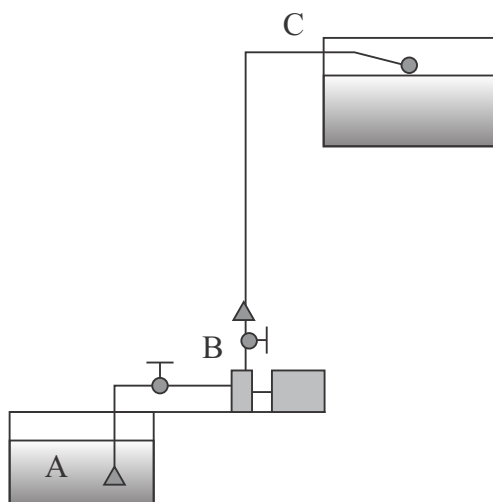
No Brasil, desde o dia 1º de julho de 2011, a NBR 14136 (baseada na norma internacional IEC 60906-1) é o padrão oficial de tomadas elétricas. Segundo o novo padrão, assinale a alternativa que indica a posição adequada dos fios na nova tomada.



- a) I = Neutro. II = Fase. III = Terra.
- b) I = Fase. II = Terra. III = Neutro.
- c) I = Neutro. II = Terra. III = Fase.
- d) I = Terra. II = Neutro. III = Fase.
- e) I = Terra. II = Fase. III = Neutro.

28ª QUESTÃO

Nos sistemas de abastecimento de água fria nas residências e nos edifícios, um conjunto de tubulações e equipamentos é utilizado para elevar água do reservatório inferior até o reservatório superior. Dado o sistema abaixo, assinale a alternativa que indica a sequência CORRETA das tubulações e equipamentos utilizados para elevar a água desde o reservatório inferior até o reservatório superior.



- a) Válvula de retenção. Tubulação de sucção, Registro de globo. Bomba centrífuga. Registro de gaveta. Válvula de retenção. Tubulação de recalque. Medidor de nível automático.
- b) Válvula de retenção. Tubulação de sucção, Registro de gaveta. Bomba centrífuga. Registro de gaveta. Válvula de pé e crivo. Tubulação de recalque. Boia.
- c) Válvula de pé e crivo. Tubulação de sucção, Registro de gaveta. Bomba centrífuga. Registro de gaveta. Válvula de retenção. Tubulação de recalque. Boia.
- d) Válvula de pé e crivo. Tubulação de sucção, Registro de gaveta. Bomba de sucção de eixo helicoidal. Registro de globo. Válvula de retenção. Tubulação de recalque. Boia.
- e) Válvula de pé e crivo. Tubulação de recalque, Registro de gaveta. Bomba centrífuga. Registro de gaveta. Válvula de retenção. Tubulação de sucção. Boia.



29ª QUESTÃO

Utilizando o software AutoCAD (um dos softwares mais utilizados na área de edificações), assinale a alternativa que indica a sequência CORRETA para interligar as linhas do ponto A ao ponto B.



- a) Digitar o comando LINE. Ativar a opção ENDPPOINT em Object Snap. Clicar no ponto A. Clicar no ponto B. Digitar C de Closed.
- b) Digitar o comando LINE. Ativar a opção PERPENDICULAR em Object Snap. Clicar no ponto A. Clicar no ponto B. Digitar ESC.
- c) Digitar o comando POLYLINE. Ativar a opção NODE em Object Snap. Clicar no ponto B. Clicar no ponto A. Digitar Enter.
- d) Digitar o comando LINE. Ativar a opção ORTOGONAL. Clicar no ponto A. Clicar no ponto B. Digitar Enter.
- e) Digitar o comando LINE. Ativar a opção ENDPPOINT em Object Snap. Clicar no ponto A. Clicar no ponto B. Digitar Enter.

30ª QUESTÃO

A produção de mapas e o georreferenciamento de imóveis rurais são de extrema importância para garantir a divisão territorial do país com vistas às mais variadas áreas, como por exemplo, a busca por terras improdutivas, etc. A geração da informação espacial, baseada no Georreferenciamento da informação, pode ser realizada com base em uma série de Sistemas Geodésicos de Referência, o que gera grande dificuldade na junção dos diversos dados. Diante disso, assinale a alternativa que apresenta a definição de um Marco Geodésico.

- a) O Marco Geodésico é um ponto cujas coordenadas planimétricas e altimétricas são altamente precisas, sendo estes materializados no terreno por meio de uma Chapa de Bronze.
- b) O Marco Geodésico é um ponto cujas coordenadas planimétricas não são altamente precisas, sendo estes materializados no terreno por meio de uma Chapa de Bronze.
- c) O Marco Geodésico é um ponto cujas coordenadas altimétricas não são altamente precisas, sendo estes materializados no terreno por meio de uma Chapa de Bronze.
- d) O Marco Geodésico é uma superfície imaginária utilizada por equipamentos como Estação Total, GPS Geodésico, etc., que se baseia no Geoide da Terra.
- e) O Marco Geodésico é um ponto cuja altitude se encontra na linha imaginária do Geoide da Terra.

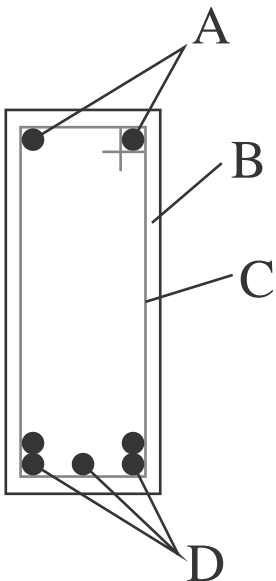
31ª QUESTÃO

Vários são os tipos de fundações utilizadas para a construção de casas, edifícios, pontes e viadutos, além de outras. Assinale a alternativa que apresenta apenas exemplos de fundações superficiais.

- a) Sapatas isoladas, estacas associadas, vigas de fundação e sapatas corridas, os blocos, os radiers.
- b) Sapatas associadas, sapatas isoladas, vigas de fundação e sapatas corridas, os tubulões, os radiers.
- c) Estacas isoladas, sapatas associadas, vigas de fundação e sapatas corridas, os blocos, os radiers.
- d) Sapatas isoladas, sapatas associadas, vigas de fundação e sapatas corridas, os blocos, os radiers.
- e) Sapatas isoladas, estacas associadas, vigas de fundação e sapatas corridas, os blocos, os tubulões.

32ª QUESTÃO

Dada a seção de uma viga de concreto armado, assinale a alternativa que identifica a estrutura.




- a) A = Armadura de aço positiva. B = Recobrimento de concreto da armadura. C = Estribo. D = Armadura de aço negativa (combate a tração).
- b) A = Armadura de aço negativa. B = Recobrimento de concreto da armadura. C = Estribo. D = Armadura de aço positiva (combate a tração).
- c) A = Armadura de aço negativa. B = Recobrimento de concreto da armadura. C = Armadura de aço positiva (combate a tração). D = Estribo.
- d) A = Armadura de aço de costela (combate o cisalhamento). B = Recobrimento de concreto da armadura. C = Estribo. D = Armadura de aço positiva (combate a tração).
- e) A = Armadura de aço de costela (combate o cisalhamento). B = Forma de madeira. C = Estribos. D = Armadura de aço positiva (combate a tração).



33ª QUESTÃO

Dada a figura abaixo assinale a alternativa que indica o tipo de alvenaria a ser utilizado em uma obra.



- a) A = Alvenaria de fundação e estrutural (Tijolos deitados) e B = Alvenaria de meia vez (Tijolo em pé).
- b) A = Alvenaria de uma vez (Tijolos deitados) e B = Alvenaria estrutural (Tijolo em pé).
- c) A = Alvenaria de uma vez (Tijolos deitados) e B = Alvenaria de meia vez (Tijolo em pé).
- d) A = Alvenaria de duas vezes (Tijolos deitados) e B = Alvenaria de uma vez (Tijolo em pé).
- e) A = Alvenaria estrutural (Tijolos deitados) e B = Alvenaria de meia vez (Tijolo em pé).

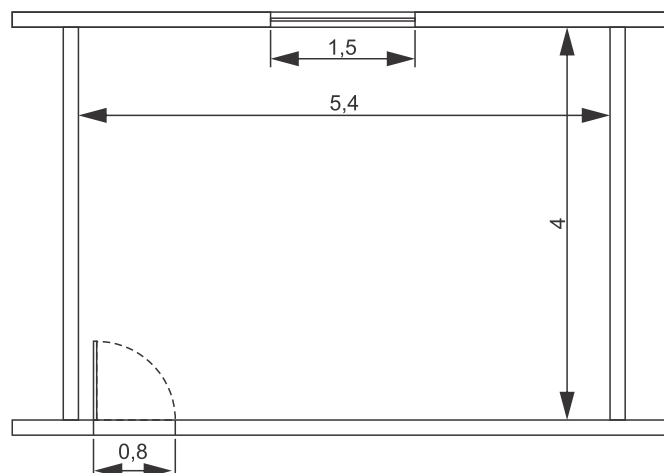
34ª QUESTÃO

Em cidades onde não existe coleta de esgoto público torna-se necessária a utilização de equipamentos sanitários capazes de receber os efluentes hídricos gerados nas residências e que proporcionem a melhoria na qualidade da água e o seu destino final. Assinale a alternativa que indica adequadamente o sistema utilizado para o lançamento dos efluentes de uma unidade habitacional em uma cidade que não possua coleta de esgoto público.

- a) Em sistemas de atendimento unifamiliar o lançamento dos esgotos domésticos gerados por uma unidade habitacional usualmente devem ser lançados em fossas sépticas seguidas de dispositivos de infiltração no solo como sumidouros, irrigação superficial, etc.
- b) Em sistemas de atendimento unifamiliar o lançamento dos esgotos domésticos gerados por uma unidade habitacional usualmente devem ser lançados em sumidouros.
- c) Em sistemas de atendimento unifamiliar o lançamento dos esgotos domésticos gerados por uma unidade habitacional usualmente devem ser lançados em valas de infiltração.
- d) Em sistemas de atendimento unifamiliar o lançamento dos esgotos domésticos gerados por uma unidade habitacional usualmente devem ser lançados em tanques de aeração seguidos por fossas sépticas e sumidouro.
- e) Em sistemas de atendimento unifamiliar o lançamento dos esgotos domésticos gerados por uma unidade habitacional usualmente devem ser lançados em lagoas de estabilização e por fim nos sumidouros.

35ª QUESTÃO

Você foi selecionado para realizar o levantamento dos quantitativos de materiais que serão utilizados para a construção da nova secretaria da escola municipal da sua cidade. O projeto da nova sala está apresentado na figura abaixo. Considerando que o pé direito da nova sala será de 2,80 m e que serão utilizados tijolos de 08 furos, assinale a alternativa que indica o número de tijolos necessários para a construção da nova sala. Considerar um índice de desperdício de 10% (Dados: Janela 1,50 x 1,0. Porta 0,80 x 2,10):



- a) Serão necessários 1500 tijolos de 8 furos.
- b) Serão necessários 1316 tijolos de 8 furos.
- c) Serão necessários 1236 tijolos de 8 furos.
- d) Serão necessários 1360 tijolos de 8 furos.
- e) Serão necessários 1200 tijolos de 8 furos.



36ª QUESTÃO

Considere as seguintes configurações de obras de diferentes portes que estão sendo executadas em sua cidade: Obra A – 08 pedreiros, 20 serventes, 03 carpinteiros, 01 mestre de obras e 01 engenheiro. Obra B - 22 pedreiros, 40 serventes, 08 carpinteiros, 01 mestre de obras e 01 engenheiro. Obra C - 13 pedreiros, 30 serventes, 05 carpinteiros, 01 mestre de obras e 01 engenheiro. Considerando a NR18, assinale a alternativa que indica as obras onde será necessária a instalação de um ambulatório.

- a) Será necessária a instalação de um ambulatório apenas na obra B.
- b) Será necessária a instalação de um ambulatório nas obras A e C.
- c) Será necessária a instalação de um ambulatório nas obras A e B.
- d) Será necessária a instalação de um ambulatório nas obras B e C.
- e) Será necessária a instalação de um ambulatório apenas na obra C.

37ª QUESTÃO

Alguns equipamentos são de extrema importância nas construções, principalmente nas fases iniciais da obra. Dentre eles podem-se destacar o nível e o prumo. Assinale a alternativa que indica o uso correto desses equipamentos em uma determinada construção.

- a) O **NÍVEL** e o **PRUMO** são equipamentos que garantem a verticalidade dos alicerces, estrutura e das alvenarias, bem como, a verticalidade de portas e janelas em sua instalação.
- b) O **NÍVEL** é um equipamento que garante a verticalidade dos alicerces, estrutura e das alvenarias, bem como, a verticalidade de portas e janelas em sua instalação. O **PRUMO** é um equipamento necessário para garantir que os alicerces fiquem absolutamente nivelados e, dessa forma, permita que as alvenarias, ao serem levantadas, também permaneçam niveladas, evitando, no futuro, problemas de acabamentos tortos e gastos desnecessários.
- c) O **NÍVEL** é um equipamento necessário para medir a altitude da fundação em relação a outra fundação existente na edificação, indicando suas posições geográficas. O **PRUMO** é um equipamento que garante a horizontalidade da estrutura e dos alicerces, estrutura e das alvenarias, bem como, a verticalidade de portas e janelas em sua instalação.
- d) O **NÍVEL** é um equipamento utilizado para fazer medições topográficas e não é utilizado em pequenas edificações ou em edifícios. O **PRUMO** só é utilizado em grandes edificações.
- e) O **NÍVEL** é um equipamento necessário para garantir que os alicerces fiquem absolutamente nivelados e, dessa forma, permite que as alvenarias, ao serem levantadas, também permaneçam niveladas, evitando, no futuro, problemas de acabamentos tortos e gastos desnecessários. O **PRUMO** é um equipamento que garante a verticalidade dos alicerces, estrutura e das alvenarias, bem como, a verticalidade de portas e janelas em sua instalação.

38ª QUESTÃO

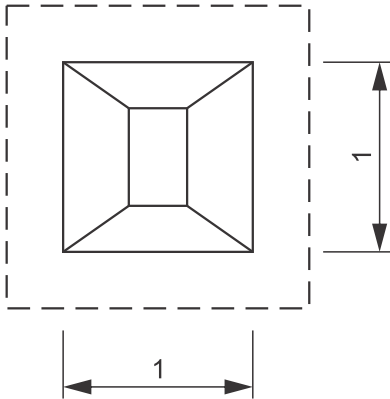
Na maioria das construções de residências e em edifícios, observa-se tanto na parte superior das portas como na parte superior e inferior das janelas, pequenas fissuras nas alvenarias que se apresentam na maioria das vezes de forma diagonal em virtude de forças de cisalhamento que ocorrem nas alvenarias. Muitas vezes essas fissuras ocorrem por falta da instalação de uma pequena estrutura nas partes superiores de janelas e portas, como também na parte inferior das janelas. Assinale a alternativa que corresponde às estruturas necessárias para evitar fissuras nas alvenarias próximas às portas e janelas.

- a) Na parte superior de portas e janelas instalam-se as Vergas e na parte inferior de janelas instalam-se as Contravergas.
- b) Na parte superior de portas e janelas instalam-se as Contravergas e na parte inferior de janelas instalam-se as Vergas.
- c) Na parte superior de portas e janelas instalam-se as Vergas e na parte inferior de janelas não se instala nenhuma estrutura.
- d) Na parte superior de portas e janelas instalam-se as cortinas e na parte inferior de janelas instala-se o peitoril.
- e) Na parte superior de portas e janelas instalam-se alvenaria estrutural e na parte inferior de janelas instalam-se as Contravergas.



39ª QUESTÃO

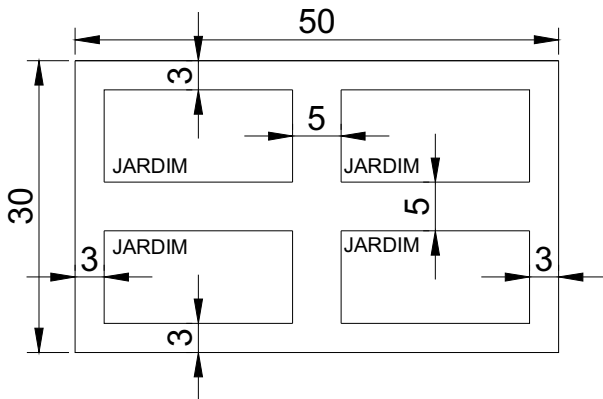
Uma nova escola será construída no município e será necessário construir 18 pilares. Cada pilar terá uma fundação de 1 m^2 conforme a figura abaixo. Considerando que, para a construção de cada fundação, será necessária uma escavação de no mínimo 30 cm a mais para garantir a trabalhabilidade dos funcionários, e que a profundidade de escavação para cada fundação será de 2,30 m, assinale a alternativa que indica o volume de solo a ser escavado para construir as fundações de todos os pilares.



- a) Aproximadamente $5,90 \text{ m}^3$ de solo serão escavados.
- b) Aproximadamente 106 m^3 de solo serão escavados.
- c) Aproximadamente 100 m^3 de solo serão escavados.
- d) Aproximadamente $2,56 \text{ m}^3$ de solo serão escavados.
- e) Aproximadamente $41,4 \text{ m}^3$ de solo serão escavados.

40ª QUESTÃO

A praça central do município será reformada e todo o piso será substituído por um material mais resistente. Assinale a alternativa que indica a área de piso a ser comprada. Acrescentar 10% de desperdício à área calculada.



- a) $759,00 \text{ m}^2$.
- b) $835,00 \text{ m}^2$.
- c) $800,00 \text{ m}^2$.
- d) $538,00 \text{ m}^2$.
- e) $760,00 \text{ m}^2$.