

CADERNO DE PROVAS


ASSISTENTE ADMINISTRATIVO

LEIA ATENTAMENTE AS INSTRUÇÕES A SEGUIR:

1. A duração máxima da prova será de **3h00 (três horas)**.
2. Os candidatos poderão entregar o Caderno de Provas somente **1h30 (uma hora e trinta minutos)** após o início da mesma.
3. **O caderno de provas poderá ser levado pelo candidato somente após 2h00 (duas horas)** contadas a partir do efetivo início das mesmas.
4. **Ao término da prova, o Cartão de Respostas OBRIGATORIAMENTE deve ser devolvido para o fiscal responsável pela sala independente do horário.**
5. A prova contém 50 (cinquenta) questões com 5 (cinco) alternativas de resposta cada. Leia atentamente cada questão e assinale no Cartão de Respostas (gabarito) a alternativa correta.
6. Qualquer dúvida dirija-se somente a um dos fiscais de sua sala.
7. O **Cartão de Respostas** deverá ser preenchido do campo 01 (um) ao 50 (cinquenta).
8. Verifique se os seus dados estão corretos no **Cartão de Respostas (gabarito)** e na **Lista de Presença** e assinar ambos. Os dados incorretos deverão ser corrigidos somente na **Lista de Presença**.
9. Para marcar as RESPOSTAS no Cartão de Respostas, utilize caneta esferográfica preferencialmente de tinta **PRETA** fabricada **OBRIGATORIAMENTE** em material transparente.
10. No Cartão de Respostas, faça as marcas de acordo com o exemplo abaixo:

FORMA CORRETA

(A) (B) ● (D)




FORMA ERRADA

(A) ● (C) (D)

⊗ (B) (C) (D)

(A) (B) ⊗ (D)



Marcas mal feitas não são lidas pelo sistema de correção automático, invalidando a questão.
11. A marcação no **CARTÃO DE RESPOSTAS** é definitiva, não admitindo rasuras. Marque apenas uma resposta para cada questão. Duas ou mais marcações anularão a sua resposta. Não risque, não amasse, não dobre e não suje o Cartão de Respostas.

LÍNGUA PORTUGUESA**15 (questões)**

O poema abaixo “A onda” de Manuel Bandeira diz respeito às questões de 01 a 03. Leia-o atentamente antes de respondê-las.

A ONDA

a onda anda
aonde anda
 a onda?
a onda ainda
ainda onda
ainda anda
 aonde?
aonde?
a onda anda?

(Manuel Bandeira)

01. O poema de Manuel Bandeira é recheado de figuras de linguagem, sabendo disso, assinale a alternativa correta quanto ao uso que o poeta fez no poema acima:

- a) Paronomásia – Anáfora.
- b) Onomatopeia – Comparação.
- c) Metáfora – Eufemismo.
- d) Antítese – Antonomásia.
- e) Anáfora – Hipérbole.

02. A palavra que serve de base para as variações sonoras:

- a) Anda.
- b) Onda.
- c) Aonde.
- d) Ainda.
- e) A.

03. No poema de Manuel Bandeira há erro quanto à regência verbal no verso “aonde anda a onda?”, assinale a alternativa em que esse erro é corrigido de acordo com as regras gramaticais:

- a) Por aonde anda a onda?
- b) Até aonde anda a onda?
- c) Para aonde anda a onda?
- d) Como aonde anda a onda?
- e) De aonde anda a onda?

As questões de 04 a 07 dizem respeito ao soneto abaixo *Mudam-se os tempos, mudam-se as vontades* de Luís Vaz de Camões, importante poeta português. Leia-o atentamente antes de respondê-las.

Mudam-se os tempos, mudam-se as vontades,
Muda-se o ser, muda-se a confiança;
Todo o mundo é composto de mudança,
Tomando sempre novas qualidades.

Continuamente vemos novidades,
Diferentes em tudo da esperança;
Do mal ficam as mágoas na lembrança,
E do bem, se algum houve, as saudades.

O tempo cobre o chão de verde manto,
Que já coberto foi de neve fria,
E enfim converte em choro o doce canto.

E, afora este mudar-se cada dia,
Outra mudança faz de mor espanto:
Que não se muda já como soía.

04. A partir da leitura que fez do poema acima, assinale a alternativa que traz a ideia principal:

- a) A origem da conservação do tempo.
- b) A demanda de imprudência do tempo.
- c) A mudança causada pelo tempo.
- d) A ação da celebração do tempo.
- e) A precipitação em relação ao tempo.

05. No verso “E enfim converte em choro o doce canto” presente na 3ª estrofe, o termo destacado refere-se à (ao):

- a) Confiança.
- b) Neve fria.
- c) Chão.
- d) Mágoas.
- e) Tempo.

06. No último verso da 4ª estrofe “Que não se muda já como soía.”, o termo destacado tem como sinônima:

- a) Costumava.
- b) Elogiava.
- c) Doía.
- d) Lutava.
- e) Desabava.

07. No primeiro verso da 2ª estrofe “Continuamente vemos novidades”, o verbo destacado conjugado na 1ª pessoa do plural no Pretérito Imperfeito é:

- a) Veremos.
- b) Víramos.
- c) Veríamos.
- d) Víamos.
- e) Viram.

As questões 08 e 09 dizem respeito ao trecho do poema *Morte do leiteiro* de Carlos Drummond de Andrade, importante poeta brasileiro. Leia-o atentamente antes de respondê-las.

“Mas este acordou em pânico
(ladrões infestam o bairro),
não quis saber de mais nada.
O revólver da gaveta
saltou para sua mão.
Ladrão? se pega com tiro.
Os tiros na madrugada
liquidaram meu leiteiro.
Se era noivo, se era virgem,
se era alegre, se era bom,
não sei,
é tarde para saber.”

08. Em “Os tiros na madrugada liquidaram meu leiteiro.”, acerca dos seus conhecimentos sobre colocação pronominal, assinale a alternativa correta quanto à posição do pronome “*meu*” no verso citado:

- a) Próclise.
- b) Possessivo.
- c) Demonstrativo.
- d) Ênclise.
- e) Mesóclise.

09. No trecho “Se era noivo, se era virgem, se era alegre, se era bom, não sei, é tarde para saber.”, os verbos destacados podem ser classificados como:

- a) Verbo transitivo.
- b) Verbo Intransitivo.
- c) Verbo de ligação.
- d) Verbo transitivo direto.
- e) Verbo transitivo indireto.

10. Na frase “Normalmente falam pelas costas por ser mais conveniente”, pode-se afirmar que o sujeito do verbo existente é:

- a) Elíptico.
- b) Indeterminado.
- c) Inexistente.
- d) Simples.
- e) Oracional.

11. Levando-se em consideração os conceitos de frase, oração e período, analise o trecho a seguir:

“Moleque Nicanor arregalou os olhos, e eu pensei que ia ouvir as pancadas do seu coração.”

O trecho acima é considerado um (a):

- a) Período, pois é composto por três orações.
- b) Oração, pois possui sentido completo.
- c) Frase, pois possui sentido completo.
- d) Oração, pois possui pausa marcada pela vírgula.
- e) Período, pois possui uma unidade de sentido completo.

12. “Nós, os mais velhos, temos o hábito de nos irritar facilmente com os mais novos.”, pode-se afirmar que as vírgulas empregadas no trecho acima têm a função de:

- a) Isolar um aposto.
- b) Isolar um vocativo.
- c) Isolar o predicativo.
- d) Isolar a locução adverbial.
- e) Isolar o adjetivo.

13. Leia o trecho abaixo:

“Desde que eu me casei com o Pedro tenho ficado em casa todos os finais de semana, no entanto, a minha vontade é de sair todos os dias.”

Dos elementos que compõem a oração acima, é correto afirmar que o termo que exerce a função de conjunção é:

- a) Desde.
- b) Com.
- c) Em.
- d) No entanto.
- e) Todos.

14. Acerca de seus conhecimentos sobre Figuras de Linguagem, analise as proposições abaixo:

I- “Meus pais me trincam de orgulho” – é um exemplo de eufemismo;

II- “Embarcaremos em junho rumo à Bahia” – é um exemplo de catacrese;

III- “Caramba! Faz mil anos que não te vejo!” – é um exemplo de hipérbole;

IV- “Eu amo brócolis, ele, pizza” – é um exemplo de elipse.

Dos itens acima:

- a) Apenas o item I está correto.
- b) Apenas o item III está correto.
- c) Apenas os itens I e IV estão corretos.
- d) Apenas os itens II e III estão corretos.
- e) Todos estão corretos.

15. Analise os trechos e assinale a alternativa que completa corretamente as lacunas:

Ele _____ como pôde as características do agressor.

_____ iremos comemorar o nosso aniversário de casamento?

Luiz vive _____ seus funcionários de preguiçosos.

- a) Descreveu – Aonde – Tachando.
- b) Discreveu – Aonde – Taxando.
- c) Descreveu – Onde – Tachando.
- d) Discreveu – Onde – Taxando.
- e) Descreveu – Aonde – Taxando.

MATEMÁTICA

10 (questões)

16. Obtenha o resultado da operação abaixo e assinale a alternativa correta:

$$\frac{30}{19} \left(\frac{3}{5} + 2 - \frac{4}{3} \right) = ?$$

- a) 2
- b) -3
- c) 0
- d) 4
- e) 7

17. A distância entre dois pontos distintos em um mapa, com escala é 1:20.000, é 7 cm. Pode-se dizer que o tamanho real referente a esta distância é:

Dado: $1 \text{ km} = 1000 \text{ m} = 100.000 \text{ cm}$

- a) 70 km.
- b) 280 m.
- c) 21 cm.
- d) 2,8 km
- e) 1,4 km.

18. Assinale a alternativa que contém uma medida de capacidade volumétrica:

- a) 30 mm.
- b) $2,5 \text{ m}^3$.
- c) 180 km/h.
- d) 745 s.
- e) 4,5 kg.

19. O perímetro, em m, de um hexágono regular de lado 3 m é:

- a) 12
- b) 15
- c) 18
- d) 24
- e) 36

20. Felipe possui dois carregadores de celular diferentes. Se utilizasse o primeiro, o tempo para carregamento completo do aparelho seria 3h08min. Se utilizasse o segundo, o tempo seria reduzido para 2h24min. Pode-se dizer que, ao utilizar o segundo carregador, o tempo reduzido, em minutos, foi de:

- a) 16
- b) 8
- c) 18
- d) 32
- e) 44

21. Um objeto maciço de formato cilíndrico, de raio igual a 4 cm e altura igual a 10 cm, terá toda a sua superfície coberta com tinta. Pode-se dizer que a área superficial, em cm^2 , a ser pintada é de:

Dado: $\pi = 3$.

- a) 64
- b) 128
- c) 256
- d) 336
- e) 512

22. Analise as afirmações abaixo:

I- $5 + 7 = 12 \Rightarrow 3 \cdot 3 = 5$

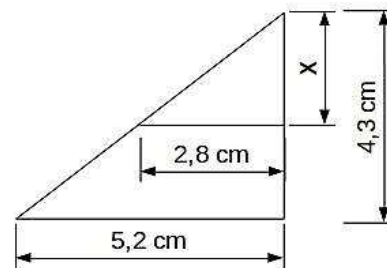
II- $2 - 1 = 1 \Rightarrow 5 + 5 = 2 \cdot 5$

III- $7 \leq 5 \Leftrightarrow 7 - 3 \geq 6$

Pode-se dizer que:

- a) Apenas o item I é uma proposição verdadeira.
- b) Apenas os itens I e II apresentam proposições verdadeiras.
- c) Apenas os itens I e III apresentam proposições verdadeiras.
- d) Apenas os itens II e III apresentam proposições verdadeiras.
- e) Todos os itens apresentam proposições verdadeiras.

23. Considere a figura a seguir.



O valor de x é, aproximadamente:

- a) 0,8 cm
- b) 1,5 cm.
- c) 2,3 cm.
- d) 2,9 cm.
- e) 3,8 cm.

24. Considere a seguinte equação: $5x + 3(x - 1) = -5$.

I- Trata-se de uma equação do 1º grau;

II- O valor de x que satisfaz a equação é $x = -0,25$;

III- A equação não possui solução.

Dos itens acima,

- a) Apenas o item I está correto.
- b) Apenas o item II está correto.
- c) Apenas o item III está correto.
- d) Apenas itens I e II estão corretos.
- e) Apenas itens I e III estão corretas.

25. O valor de 30% de 20% de 500 é:

- a) 30
- b) 50
- c) 95
- d) 115
- e) 250

CONHECIMENTOS ESPECÍFICOS 25 (questões)

26. Dentre os fundamentos da República Federativa do Brasil, existe um, que caracteriza regra matriz dos direitos fundamentais, que pode ser bem definido como o núcleo essencial do constitucionalismo moderno e, diante de colisões, serve para orientar as necessárias soluções de conflitos. Tal fundamento é denominado:

- a) Soberania.
- b) Construção de uma sociedade livre, justa e solidária.
- c) Cidadania.
- d) Dignidade da pessoa humana.
- e) Moralidade.

27. Acerca dos direitos e garantias fundamentais estabelecidos na Constituição Federal de 1988, assinale a alternativa correta:

- a) A competência constitucional do tribunal do júri prevalece sobre o foro por prerrogativa de função estabelecido pela Constituição Federal ou Estadual.
- b) A locomoção no território nacional, a qualquer tempo, é livre, podendo qualquer pessoa, nos termos da lei, nele entrar, permanecer ou dele sair com seus bens.
- c) Ninguém poderá ser compelido a associar-se e, uma vez associado, será livre, também, para decidir se permanece associado ou não.
- d) Independentemente de autorização, as entidades associativas têm legitimidade para representar seus filiados judicial ou extrajudicialmente.
- e) Aos autores pertence o direito temporário de utilização, publicação ou reprodução de suas obras, intransmissível aos herdeiros.

28. O art. 18, § 4, da CF/88, com a redação dada pela EC nº 15/96, fixa as regras para a criação, incorporação, fusão e desmembramento de Municípios, e estabelece como primeira etapa desses processos a:

- a) Determinação, por lei complementar federal, do período para a mencionada criação, incorporação, fusão ou desmembramento de Municípios, bem como o procedimento.
- b) Realização de referendo às populações locais interessadas.
- c) Apresentação, publicação e divulgação, na forma da lei, de estudo demonstrando a viabilidade da criação, incorporação, fusão ou desmembramento de Municípios.
- d) Realização de consulta às populações dos Municípios envolvidos para aprovarem ou não a criação, incorporação, fusão ou desmembramento, através de plebiscito.
- e) Criação, incorporação, fusão ou desmembramento dos Municípios, através de lei estadual.

29. Josuel, servidor público da administração autárquica federal, foi investido no mandato de Prefeito. Nesse caso, de acordo com as regras constitucionais, Josuel:

- a) Não precisará ser afastado de seu cargo, uma vez que o cargo eletivo é da esfera municipal, sendo-lhe facultado optar pela remuneração.
- b) Será afastado do cargo, sendo-lhe facultado optar pela sua remuneração.
- c) Havendo compatibilidade de horários, perceberá as vantagens de seu cargo, sem prejuízo da remuneração do cargo eletivo.
- d) Não havendo compatibilidade de horários, perceberá as vantagens de seu cargo, com prejuízo da remuneração do cargo eletivo.
- e) Será afastado do cargo, não lhe sendo facultado optar pela sua remuneração.

30. Sobre os princípios da administração pública, analise as afirmativas abaixo e assinale a alternativa correta:

I- O controle da moralidade não se confunde com o mérito administrativo e, por isso, pode ser fundamento autônomo para invalidação de ato administrativo, por meio inclusive da ação popular;

II- Aplica-se à administração pública o princípio da legalidade estrita, que, por seu turno, é absoluto, na medida em que não existe qualquer previsão de exceção constitucional;

III- O concurso público objetiva assegurar que a seleção dos titulares de cargo de provimento efetivo oriente-se pelo princípio da impessoalidade.

Dos itens acima:

- a) Apenas o item II está correto.
- b) Apenas os itens I e II estão corretos.
- c) Apenas os itens I e III estão corretos.
- d) Apenas os itens II e III estão corretos.
- e) Todos os itens estão corretos.

31. A punição sumária de servidor público, sem que se tenha instaurado o necessário processo disciplinar com a garantia da ampla defesa e do contraditório, é um exemplo de vício no seguinte elemento do ato administrativo:

- a) Forma, que enseja a anulação do ato, por tratar-se de procedimento previsto em lei como necessário.
- b) Finalidade, que enseja a anulação do ato, por tratar-se de procedimento previsto em lei como necessário.
- c) Objeto, que enseja a anulação do ato, por tratar-se de procedimento previsto em lei como necessário.
- d) Objeto, que poderá ensejar a convalidação do ato, por não se tratar de procedimento previsto em lei como necessário.
- e) Motivo, que poderá ensejar a convalidação do ato, por não se tratar de procedimento previsto em lei como necessário.

32. Acerca do regramento sobre as autarquias, assinale a alternativa incorreta:

- a) Os bens das autarquias abrigam os mesmos meios de proteção atribuídos aos bens públicos em geral, destacando-se entre eles a impenhorabilidade e a imprescritibilidade.

- b) Sendo criadas por lei, têm o início de sua existência no mesmo momento em que se inicia a vigência da lei criadora.
- c) As autarquias, conquanto dotadas de personalidade jurídica de direito público, praticam, como todas as demais pessoas dessa categoria, atos administrativos típicos e atos de direito privado.
- d) As autarquias federais, nos litígios comuns, sendo autoras, rés, assistentes ou oponentes, têm suas causas processadas e julgadas na Justiça Comum.
- e) As autarquias respondem pelos danos que seus agentes, nessa qualidade, causarem a terceiros.

33. De acordo com a Lei nº 8.666/93, é correto afirmar que, na alienação de bens imóveis, cuja avaliação é de R\$ 600.000,00, adquiridos em procedimento judicial ou através de dação em pagamento:

- a) Deverá ser adotada a modalidade tomada de preços, cujos participantes básicos são os candidatos previamente registrados nas repartições públicas.
- b) Deverá ser adotada a modalidade concorrência, em que sempre é exigível uma fase inicial de habilitação preliminar, na qual são aferidas as condições de cada participante.
- c) Poderá ter a licitação dispensada, caso haja na praça menos de três licitantes interessados.
- d) Deverá ter a licitação dispensada, por tratar-se de hipótese prevista entre os casos de dispensa de licitação da Lei nº 8.666/93.
- e) Poderá ser adotada a modalidade leilão, desde que haja avaliação dos bens alienáveis e comprovação da necessidade ou utilidade da alienação.

34. Conforme a Lei nº 12.527/11, a qualidade da informação coletada na fonte, com o máximo de detalhamento possível, sem modificações, é denominada:

- a) Integridade.
- b) Primariedade.
- c) Autenticidade.
- d) Disponibilidade.
- e) Fidedignidade.

35. O projeto de lei orçamentária anual de determinado ente público apresentou as seguintes características:

I- Dispôs sobre as normas relativas ao controle de custos e à avaliação dos resultados dos programas financiados com recursos dos orçamentos;

II- Não consignou dotação para investimento com duração superior a um exercício financeiro que não estivesse previsto no plano plurianual ou em lei que autorizasse a sua inclusão;

III- Foi acompanhado de medidas de compensação a renúncias de receita e ao aumento de despesas obrigatórias de caráter continuado.

Está de acordo com a Lei Complementar nº 101/00 apenas o disposto:

- a) No item I.
- b) No item II.

- c) No item III.
- d) Nos itens I e II.
- e) Nos itens II e III.

36. As diretrizes nacionais para o saneamento básico definidas na Lei nº 11.445/07 determinam que a prestação regionalizada de serviços públicos de saneamento básico tem como característica, entre outras, a seguinte:

- a) Vários prestadores de serviço para vários Municípios, contíguos ou não.
- b) Uniformidade de fiscalização e regulação dos serviços, exceto em relação à remuneração.
- c) Possibilidade de obedecer ao plano de saneamento básico elaborado para o conjunto de Municípios atendidos.
- d) Proibição de cooperação técnica do respectivo Estado para elaboração das atividades de planejamento dos serviços.
- e) Proibição de uso de estudos fornecidos pelos prestadores para elaboração das atividades de planejamento dos serviços.

37. Poderá se cadastrar no programa de Tarifa Social, definido pela Lei nº 14.374/07, o usuário residencial com ligação simples de água que esteja adimplente com o SAAE (Serviço Autônomo de Água e Esgoto de São Carlos) e que atenda o seguinte requisito:

- a) Comprove renda familiar mensal superior a 1 (um) salário mínimo.
- b) Seja morador de habitação com área de até 89 (oitenta e nove) metros quadrados e comprove o consumo médio mensal de até 80 (oitenta) kWh/mês de energia elétrica.
- c) Tenha membro na família portador de deficiência e a renda familiar total não ultrapasse 1 (um) salário mínimo.
- d) Esteja cadastrado no Benefício de Prestação Continuada (Amparo Assistencial ao Idoso e ao Deficiente).
- e) Seja pensionista, independentemente da renda mensal.

38. De acordo com a Lei Municipal nº 10.955/94, é correto afirmar que a tarifa de coleta de esgoto corresponderá à seguinte porcentagem do consumo de água fornecida pelo SAAE (Serviço Autônomo de Água e Esgoto de São Carlos) ou proveniente de sistema próprio:

- a) 40%
- b) 50%
- c) 60%
- d) 70%
- e) 80%

39. Sobre a organização administrativa do Serviço Autônomo de Água e Esgoto de São Carlos - SAAE, o seu plano de carreira e a remuneração dos seus servidores autárquicos, conforme definido na Lei nº 14.375/07, assinale a alternativa correta:

- a) É assegurada a revisão anual da remuneração dos servidores do SAAE, sempre na mesma data e sem distinção de índices.
- b) A remoção dos servidores de unidade de lotação dar-se-á a pedido, por necessidade de serviço ou adequação de quadro.
- c) As contratações por tempo determinado não serão precedidas de processo seletivo, sendo efetuada a partir de critérios objetivos de seleção.
- d) O vencimento dos servidores contratados por tempo determinado deverá ser inferior ao dos demais servidores do SAAE, sem os benefícios previstos em Lei.
- e) A progressão do servidor para o nível 02 (dois) implicará no aumento de 3% (três por cento) em seu vencimento.

40. A estrutura administrativa do SAAE é composta de órgãos hierarquizados, mediante relações de subordinação entre níveis, em que o segundo escalão é denominado:

- a) Gerência, à qual compete assinar os contratos, convênios, acordos, ajustes e congêneres.
- b) Superintendência, à qual compete planejar, coordenar, supervisionar e fazer executar as ações relativas à administração de recursos humanos do SAAE.
- c) Superintendência, à qual compete coordenar a elaboração dos planos e dos programas anuais de trabalho, dirigindo e fiscalizando sua execução.
- d) Gerência, à qual compete coordenar as relações do SAAE com outros órgãos públicos e privados, inclusive a Câmara Municipal.
- e) Setor, ao qual compete avaliar o cumprimento das metas previstas nos planos plurianuais e a execução dos programas de investimentos e do orçamento.

41. A partir da última edição do Manual de Redação da Presidência da República, aboliu-se a distinção entre aviso, ofício e memorando e passou-se a utilizar o termo ofício nas três hipóteses. Sobre o documento padrão ofício, assinale a alternativa incorreta:

- a) O cabeçalho é utilizado apenas na primeira página do documento, centralizado na área determinada pela formatação, devendo constar, entre outros elementos, o brasão de Armas da República.
- b) Os documentos oficiais devem ser identificados da seguinte maneira: nome do documento, indicação da numeração, informações do documento e alinhamento.
- c) O endereçamento é a parte do documento que informa nome da cidade onde foi expedido o documento, seguido de vírgula.
- d) O assunto deve dar uma ideia geral do que trata o documento, de forma sucinta.
- e) O fecho das comunicações oficiais objetiva, além da finalidade óbvia de arrematar o texto, saudar o destinatário.

42. No Microsoft Word, a ativação do recurso "Controlar Alterações" oferece aos usuários do trabalho uma

maneira de fazer alterações fáceis de identificar. Sobre esse recurso, é correto afirmar que:

- a) Quando o recurso está ativado, as exclusões ficam marcadas com um tachado, e as adições com um sublinhado.
- b) Quando o recurso está desativado, o Word para de marcar as alterações e os sublinhados e tachados coloridos não permanecem no documento.
- c) Quando o recurso está ativado, todas as alterações de diferentes autores são indicadas pela cor azul.
- d) Para revisar as alterações, indicadas por uma linha vermelha na margem, deve-se escolher "Todas as Marcações".
- e) Para ver os detalhes das alterações, deve-se escolher "Marcação Simples".

43. O método de arquivamento é determinado pela natureza dos documentos a serem arquivados e pela estrutura da entidade, sendo dividido em duas classes: básicos e padronizados. Assim, assinale a alternativa que apresenta um método padronizado de arquivamento:

- a) Ideográfico.
- b) Geográfico.
- c) Numérico.
- d) Alfabético.
- e) Mnemônico.

44. Sobre a política nacional de arquivos públicos e privados (Lei nº 8.159/91), analise as afirmativas abaixo e assinale a alternativa correta:

I- Considera-se gestão de documentos o conjunto de procedimentos e operações técnicas à sua produção, tramitação, uso, avaliação e arquivamento em fase corrente e intermediária, visando a sua eliminação ou recolhimento para guarda permanente;

II- É dever do Poder Público a gestão documental e a de proteção especial a documentos de arquivos, como instrumento de apoio à administração, à cultura, ao desenvolvimento científico e como elementos de prova e informação;

III- Os arquivos públicos são os conjuntos de documentos produzidos e recebidos, no exercício de suas atividades, por órgãos públicos de âmbito federal, estadual, do Distrito Federal e municipal em decorrência de suas funções administrativas, legislativas e judiciárias.

Dos itens acima:

- a) Apenas o item II está correto.
- b) Apenas os itens I e II estão corretos.
- c) Apenas os itens I e III estão corretos.
- d) Apenas os itens II e III estão corretos.
- e) Todos os itens estão corretos.

45. Os documentos podem ser classificados de acordo com o gênero. Nessa classificação, os documentos micrográficos são definidos como:

- a) Documentos em películas cinematográficas e fitas magnéticas.

- b) Documentos em suporte fílmico resultantes da microimpressão de imagens, mediante utilização de técnicas específicas.
- c) Documentos produzidos, tratados ou armazenados em computador.
- d) Documentos manuscritos, datilografados ou impressos.
- e) Documentos em suportes sintéticos (fotografias, desenhos, gravuras...).

46. Para fechar o item ativo ou sair do aplicativo ativo, no Windows 10, usa-se o atalho:

- a) Alt+F2.
- b) Alt+F3.
- c) Alt+F4.
- d) Alt+F5.
- e) Alt+F6

47. Na internet, cada computador conectado à rede tem um:

- a) Endereço Fixo, chamado host.
- b) Endereço de serviço.
- c) Protocolo URL fixo.
- d) Protocolo DNS numerado.
- e) Endereço IP.

48. No Sistema Operacional Windows 10, para selecionar um conjunto de arquivos intercalados, na pasta Documentos, deve-se:

- a) Manter a tecla CTRL pressionada.
- b) Manter a tecla TAB pressionada.
- c) Manter a tecla ALT pressionada.
- d) Mantermos a tecla SHIF+ALT pressionadas.
- e) Manter a tecla Windows pressionada.

49. No MS-Excel 2010 se digitarmos na Barra de Fórmulas $=20/2+10-8*2$ e apertarmos ENTER, qual será o resultado?

- a) 10.
- b) 24.
- c) #VALOR.
- d) 4.
- e) 8.

50. O alinhamento à esquerda, no MS-Word 365, costuma ser usado para texto do corpo e facilita a leitura do documento. Para alinhar um texto selecionado, à esquerda, usa-se o atalho:

- a) CTRL+W.
- b) CTRL+Q.
- c) CTRL+T.
- d) CTRL+E.
- e) CTRL+F.