

CONCURSO PÚBLICO DA COMPANHIA DE SANEAMENTO DO PARÁ – COSANPA
PROVA OBJETIVA: 18 de junho de 2017

MOTORISTA OPERADOR (NÍVEL MÉDIO)

Nome do Candidato: _____

Nº de Inscrição: _____

Assinatura

INSTRUÇÕES AO CANDIDATO

- 1. Confira se o Boletim de questões que você recebeu corresponde ao cargo/nível de escolaridade ao qual você está inscrito, conforme consta no seu cartão de inscrição e cartão resposta. Caso contrário comunique imediatamente ao fiscal de sala.**
- 2. Confira se, além deste BOLETIM DE QUESTÕES, você recebeu o CARTÃO RESPOSTA, destinado à marcação das respostas das questões objetivas.**
- 3. Este BOLETIM DE QUESTÕES contém a Prova Objetiva com 50 (cinquenta) questões, sendo 10 de Língua Portuguesa, 05 de Noções de Saneamento Básico, 05 de Informática, 05 de Raciocínio Lógico, 05 de Atualidades e 20 de Conhecimentos Específicos. Caso exista alguma falha de impressão, comunique imediatamente ao fiscal de sala. Na prova há espaço reservado para rascunho. **Esta prova terá duração de 04 (quatro) horas, tendo seu início às 8:00h e término às 12:00h (horário local).****
- 4. Cada questão objetiva apresenta 04 (quatro) opções de resposta, identificadas com as letras (A), (B), (C) e (D). Apenas uma responde adequadamente à questão, considerando a numeração de 01 a 50.**
- 5. Confira se seu nome, número de inscrição, cargo de opção e data de nascimento, consta na parte superior do CARTÃO RESPOSTA que você recebeu. Caso exista algum erro de impressão, comunique imediatamente ao fiscal de sala, a fim de que o fiscal registre no formulário de Correção de Dados a devida correção.**
- 6. O candidato deverá permanecer, obrigatoriamente, no local de realização da prova por, no mínimo, uma hora após o início da prova. A inobservância acarretará a eliminação do concurso.**
- 7. É obrigatório que você assine a LISTA DE PRESENÇA e o CARTÃO RESPOSTA do mesmo modo como está assinado no seu documento de identificação.**
- 8. A marcação do CARTÃO RESPOSTA deve ser feita somente com caneta esferográfica de tinta preta ou azul, pois lápis não será considerado.**
- 9. A maneira correta de marcar as respostas no CARTÃO RESPOSTA é cobrir totalmente o espaço correspondente à letra a ser assinalada, conforme o exemplo no CARTÃO RESPOSTA.**
- 10. Em hipótese alguma haverá substituição do CARTÃO RESPOSTA por erro do candidato. A substituição só será autorizada se for constatada falha de impressão.**
- 11. O BOLETIM DE QUESTÕES e o CARTÃO RESPOSTA deverão ser devolvidos ao final da sua prova.**
- 12. O CARTÃO RESPOSTA é o único documento válido para o processamento de suas respostas.**
- 13. Será automaticamente eliminado do Concurso Público da Companhia de Saneamento do Pará o candidato que durante a realização da prova descumprir os procedimentos definidos no Edital nº 001/2017-COSANPA.**

Boa Prova.

FADESP

LÍNGUA PORTUGUESA

A prova de Língua Portuguesa foi elaborada com base em dois textos de Carpinejar: *Prepotência e Descurtir mil vezes*. Leia-os com atenção para responder às questões de 1 a 10.

Texto 1 – Questões 1 a 5

Prepotência

1 A soberba não vem de quem nunca erra, vem de quem erra e se envergonha de
2 seu erro a ponto de disfarçar a gravidade do que aconteceu. Fica imensamente
3 encabulado por ser pego em flagrante. Em vez de oferecer desculpa e conforto, ataca e
4 caça tristezas anteriores de sua companhia como equivalência. Seu discurso é: eu errei,
5 mas você também já errou antes, portanto não tem o direito de apontar agora o meu erro.

6 Não admite ser nunca menos, mesmo quando foi menos. Interpreta a sua própria
7 omissão como natural, indiferente ao estrago emocional proporcionado na vida do outro.

8 A prepotência não surge de quem nunca falha, e sim daquele que falha e não faz
9 nada para corrigir a dor que causou. Porque a pessoa não está preocupada se magoou
10 com uma brincadeira maldosa, uma grosseria ou um desleixo, está preocupada
11 unicamente consigo, em manter sua imagem e rebater as críticas. Não tem a empatia do
12 sofrimento, não se imagina no lugar do outro, não se coloca numa posição honestamente
13 falível.

14 Aquele que ama pensa primeiro na dor que provocou em sua companhia para
15 depois cuidar de si. Vai telefonar correndo, vai vir correndo, socorrer a aflição de seu par.

16 - Desculpa, imagino o que está sofrendo, imagino o que entendeu.

17 A humildade generosa provará que foi um deslize e jamais será um hábito. A
18 humildade generosa tratará de contornar, prontamente, o revés.

19 Já o arrogante é o que procura ter razão, não importa de que jeito, quando deveria
20 ter somente sentimento naquela hora. E não se mexe para recuperar a dignidade de suas
21 palavras.

CARPINEJAR. *Para onde vai o amor?* Rio de Janeiro: Bertrand Brasil, 2015, p. 86-87.

01 Para defender seu ponto de vista, o autor do texto

- (A) relata um fato que exemplifica a soberba.
- (B) enumera várias ações características da soberba.
- (C) descreve o perfil da companhia do homem prepotente.
- (D) faz uma comparação entre os soberbos e os humildes.

02 Na visão de Carpinejar, a pessoa soberba nunca

- (A) comete erros.
- (B) rebate as críticas.
- (C) ataca e acusa seu parceiro.
- (D) procura corrigir a dor que causou.

03 O enunciado “não se coloca numa posição honestamente falível” (l. 12 e 13) significa que a pessoa soberba

- (A) jamais deixa de ter empatia pelo outro.
- (B) preocupa-se por ter errado e melindrado o outro.
- (C) não consegue desculpar-se, embora saiba ter errado.
- (D) considera-se infalível e, por isso, não pede desculpas.

04 A sequência em que todas as palavras pertencem ao mesmo campo semântico de “soberba” é

- (A) galhardia, desprezo, vergonha.
- (B) altivez, superioridade, empatia.
- (C) egocentrismo, tirania, grosseria.
- (D) prepotência, orgulho, arrogância.

05 As formas verbais “provará” e “será”, no enunciado “A humildade generosa provará que foi um deslize e jamais será um hábito. A humildade generosa tratará de contornar, prontamente, o revés” (l. 17 e 18), expressam um(a)

- (A) futuro certo.
- (B) probabilidade futura.
- (C) posterioridade a certo momento do futuro.
- (D) futuro certo, mas dependente de uma condição.

Texto 2 – Questões 6 a 10

Descurtir mil vezes

1 Uma amiga estava no começo do namoro quando seu namorado ciclista
2 perguntou se ela andava de bicicleta. Ela respondeu que não gostava. Ele não aceitou, e
3 foi taxativo: vou te fazer gostar.
4 A guria murchou, com toda razão.
5 Vou te fazer gostar é tudo o que você não deve dizer numa relação, para nada.
6 Ele não perguntou: gostaria de um dia pedalar comigo?
7 Não, já decretou: vou te fazer gostar.
8 Ele não vai ensinar para que possa escolher ou não gostar, ele afirma que vai
9 gostar de qualquer jeito. É obrigada a gostar. É condenada a gostar. É anular o direito de
10 ter a própria opinião e personalidade.
11 Tem uma prepotência nesta frase. Um autoritarismo. Um exibicionismo. Uma
12 ausência de carinho e respeito, como se fosse o melhor professor do mundo. Como se
13 sua namorada jamais tivesse tentado e não curtido. Abstrai a experiência e o passado de
14 sua companhia. Cria uma antipatia.
15 Vou te fazer gostar de política.
16 Vou te fazer gostar de cinema chinês.
17 Vou te fazer gostar de comida japonesa.
18 Vou te fazer gostar de funk.
19 Vou te fazer gostar de dançar.
20 Vou te fazer gostar de Carpinejar.
21 Pode-se inspirar com o exemplo, com a alegria, jamais com a obrigação.
22 Obrigar o outro é desamor.

CARPINEJAR. *Para onde vai o amor?* Rio de Janeiro: Bertrand Brasil, 2015, p. 72-73.

06 Em “Descurtir mil vezes”, Carpinejar dá a entender que **não** devemos

- (A) compreender e aceitar a falta de afinidade entre parceiros.
- (B) depreciar a semelhança de gostos e interesses em casais.
- (C) admitir o comportamento daqueles que querem impor seus gostos.
- (D) acreditar na tendência de os parceiros cultivarem os mesmos gostos e interesses.

07 A tese que o autor defende é explicitada no enunciado

- (A) “Obrigar o outro é desamor” (l. 22).
- (B) “Tem uma prepotência nesta frase” (l. 11).
- (C) “Vou te fazer gostar de Carpinejar” (l. 20).
- (D) “Ele não perguntou: gostaria de um dia pedalar comigo?” (l. 6).

08 Uma das características do texto de Carpinejar é a presença de frases curtas, simples e incompletas do ponto de vista sintático, como as que ocorrem no seguinte período:

- (A) “Vou te fazer gostar é tudo o que você não deve dizer numa relação” (l. 5).
- (B) “Pode-se inspirar com o exemplo, com a alegria, jamais com a obrigação” (l. 21).
- (C) “Ela respondeu que não gostava. Ele não aceitou, e foi taxativo: vou te fazer gostar” (l. 2 e 3).
- (D) “Uma amiga estava no começo do namoro quando seu namorado ciclista perguntou se ela andava de bicicleta” (l. 1 e 2).

09 O enunciado em que o segmento proposto (em itálico) **não** completaria coerente e corretamente as ideias do texto é

- (A) “*Dizer essa frase cria uma antipatia*” (l. 14).
- (B) “*É obrigada a gostar de andar de bicicleta*” (l. 9).
- (C) “*Como se sua namorada jamais tivesse tentado aprender com você*” (l. 12 e 13).
- (D) “*Não, em lugar de lhe perguntar se ela gostaria de pedalar com ele, já decretou: vou te fazer gostar*” (l. 7).

10 A reformulação do fragmento do texto que **não** mantém o sentido original é

- (A) “a garota perdeu a graça” (l. 4).
- (B) “Ele não se conformou, e foi categórico” (l. 2 e 3).
- (C) “Leva em consideração a experiência e o passado de sua companhia” (l. 13 e 14).
- (D) “Implica invalidar o direito de ter seu próprio ponto de vista e modo de ser” (l. 9 e 10).

NOÇÕES DE SANEAMENTO BÁSICO

11 Não deve(m) ser considerada(s), no estudo de concepção de um sistema de abastecimento de água,

- (A) a planta de localização com topografia, principais vias e geologia.
- (B) as atividades econômicas e os indicadores sócio-econômicos.
- (C) a vazão de infiltração da rede coletora.
- (D) a definição da existência e característica de energia elétrica no local.

12 O parâmetro DBO é utilizado no tratamento de esgoto para determinar a quantidade de matéria orgânica presente. Com base em seus conceitos, é correto afirmar que

- (A) a DQO é considerada padrão de lançamento de efluentes em corpos d’água.
- (B) sua determinação é importante para se conhecer o grau de poluição de uma água residuária e a eficiência de uma ETE.
- (C) o padrão para um esgoto predominantemente doméstico está em torno de 300 gDBO/hab.dia.
- (D) uma das vantagens da realização deste teste é a rapidez com que o resultado é conhecido, facilitando o controle operacional de uma ETE.

13 Fazem parte do projeto de microdrenagem urbana os seguintes dispositivos hidráulicos:

- (A) sarjetões.
- (B) bocas de lobo.
- (C) galerias subterrâneas com diâmetros superiores a 2,0 metros.
- (D) poços de visitas.

14 O gerenciamento integrado do lixo municipal deve começar pela sua caracterização. Entre os fatores que não influenciam este fato, destaca(m)-se

- (A) o número de habitantes do município.
- (B) o poder aquisitivo, os hábitos e costumes da população.
- (C) o nível educacional e as condições climáticas.
- (D) a quantidade de garis.

15 Com base na Lei nº 12.305, de 2 de agosto de 2010, que institui a Política Nacional de Resíduos Sólidos, pode-se afirmar que

- (A) não é instrumento da Política Nacional de Resíduos Sólidos a educação ambiental.
- (B) um dos objetivos da Política Nacional de Resíduos Sólidos é gestão integrada de resíduos sólidos.
- (C) um dos princípios da Política Nacional de Resíduos Sólidos é o desenvolvimento sustentável.
- (D) a União elaborará, sob a coordenação do Ministério do Meio Ambiente, o Plano Nacional de Resíduos Sólidos, com vigência por prazo indeterminado e horizonte de vinte anos, a ser atualizado a cada quatro anos.

INFORMÁTICA

16 Para efetuar a exclusão dos arquivos temporários, *cookies*, senhas salvas, histórico e informações de formulários da Web no Microsoft Internet Explorer 11 (instalação padrão), é necessário acessar o menu “Ferramentas”, clicar na opção “Opções da Internet”, a qual mostrará a Janela “Opções da Internet”, e pressionar o botão “Excluir...” na guia

- (A) “Privacidade”.
- (B) “Conteúdo”.
- (C) “Geral”.
- (D) “Segurança”.

17 Informando os valores 10, 12, 13 e 17, respectivamente, nas células A1, A2, A3 e A4, numa planilha eletrônica que está sendo editada no Microsoft Office Excel 2013, e aplicando a seguinte fórmula na célula A5, o resultado obtido é

Fórmula: célula A5
=SOMA(SOMA(A1;A3)+MÉDIA(A2:A4);A3;A4)

- (A) 72.
- (B) 67.
- (C) 54.
- (D) 81

18 O recurso presente no Microsoft Windows 7 (instalação padrão) que possibilita o redimensionamento das janelas, permitindo, por meio do *mouse* ou do teclado, organizá-las rapidamente dentro da área de trabalho é o

- (A) SNAP.
- (B) GADGET.
- (C) MPA.
- (D) AERO.

19 As palavras reservadas do “Google” (ferramenta de busca de dados na Internet) devem ter suas sintaxes com letras minúsculas e ser seguidas de um caractere “.” (dois pontos). Para exibir *links* de arquivos no formato “pdf”, cujo texto, título ou URL contenha a expressão exata “concurso público”, é necessário utilizar a sintaxe

- (A) “concurso público” typetext: “pdf”.
- (B) “concurso público” filetype: pdf.
- (C) “concurso público” typetitle: “pdf”.
- (D) “concurso público” fileurl: pdf.

20 Clicando-se, com o botão direito do *mouse*, sobre um arquivo selecionado no Windows Explorer do Microsoft Windows 7 (instalação padrão), abre-se um menu que não possui a opção

- (A) “Criar atalho”.
- (B) “Propriedades”.
- (C) “Enviar para”.
- (D) “Formatar”.

RASCUNHO

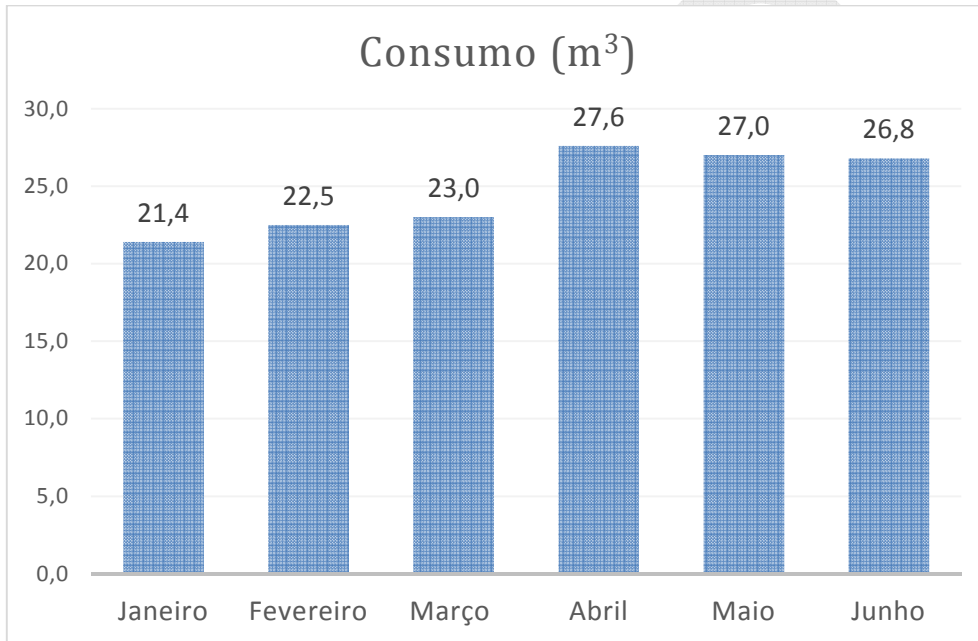
RACIOCÍNIO LÓGICO

21 Segundo dados da FAO – Organização das Nações Unidas para a Alimentação e a Agricultura –, em 2015, no Brasil, de cada 1.000 habitantes, 981 tinham acesso à água potável. Os dados informam também que a população brasileira era de 207.848.000 habitantes. Com base nesses dados, o número de habitantes brasileiros que em 2015 **ainda não tinham acesso à água potável** era

Disponível em: <http://www.fao.org/nr/water/aquastat/data/query/index.html?lang=en>

- (A) 203.898.888
- (B) 20.389.888
- (C) 3.949.112
- (D) 394.911

22 O gráfico abaixo apresenta o consumo de água de uma residência no primeiro semestre de 2016.

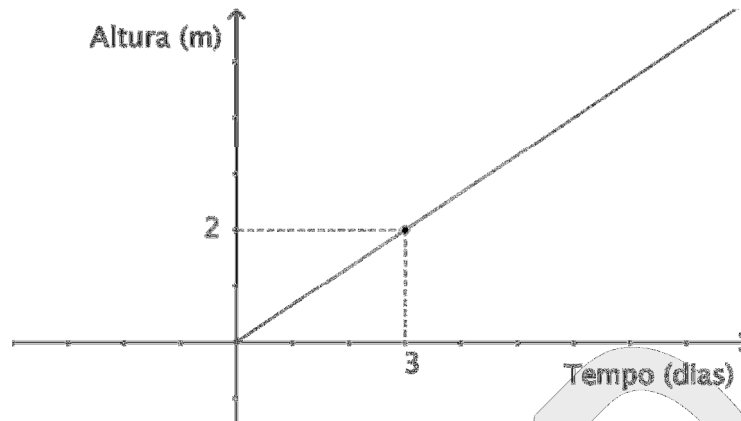


Com base nas informações apresentadas no quadro, é correto afirmar que

- (A) o mês de maior consumo foi junho.
- (B) o consumo de água teve crescimentos mensais de janeiro a abril.
- (C) a maior queda no consumo foi registrada entre os meses de março e abril.
- (D) o consumo total de água durante o semestre foi igual a 27,6 m³.

RASCUNHO

23 Um reservatório em formato de cilindro é abastecido por uma fonte a vazão constante e tem a altura de sua coluna d'água (em metros), em função do tempo (em dias), descrita pelo seguinte gráfico:



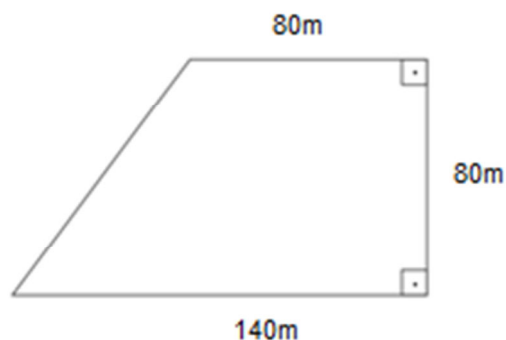
Sabendo que a altura do reservatório mede 12 metros, o **número de dias** necessários para que a fonte encha o reservatório inicialmente vazio é

- (A) 18
- (B) 12
- (C) 8
- (D) 6

24 O Lago Bolonha é o principal reservatório de abastecimento de água da Região Metropolitana de Belém, e o controle da quantidade de algas e bactérias que nele habitam é importante. Sabe-se que, em condições favoráveis, o número de bactérias em uma colônia cresce segundo uma progressão geométrica. Se uma certa colônia, inicialmente com cerca de 1.000 bactérias, quadruplica seu número de bactérias a cada 24 horas, o número de bactérias ultrapassará 1.000.000 no decorrer do

- (A) terceiro dia.
- (B) quarto dia.
- (C) quinto dia.
- (D) décimo dia.

25 A plantação de um agricultor fica em um terreno em forma de trapézio retangular, cujas dimensões constam da figura a seguir



Sabendo que este agricultor utiliza diariamente, para irrigação, **quatro litros de água por metro quadrado de plantação**, a quantidade total de água utilizada em um dia para irrigar a plantação é, em litros,

- (A) 35,2
- (B) 120
- (C) 1.200
- (D) 35.200

ATUALIDADES

26 A Proposta de Emenda Constitucional do fim do foro privilegiado foi aprovada, em primeiro turno, pelo Senado Federal. Na prática, esta PEC busca alterar a regra que vigora atualmente, a qual estabelece que

- (A) prefeitos de municípios de grande porte ou de capitais não sejam julgados.
- (B) governadores recebam benefícios fundiários após o término de seus mandatos.
- (C) políticos em exercício possam receber verbas públicas em negócios particulares.
- (D) senadores podem ser investigados e julgados apenas pelo Supremo Tribunal Federal.

27 No mês de abril, várias lideranças indígenas tentaram entrar no Congresso Nacional em Brasília com a finalidade de

- (A) exigir celeridade no julgamento dos envolvidos na morte do índio Pataxó Galdino.
- (B) garantir o direito de explorar com fins extrativistas as reservas naturais de suas propriedades.
- (C) reivindicar a continuidade no processo de demarcação de terras indígenas.
- (D) denunciar a contaminação de áreas indígenas por substâncias utilizadas por mineradoras.

28 Recentemente, em votação do Supremo Tribunal Federal, decidiu-se que as universidades públicas brasileiras poderão cobrar mensalidade dos alunos matriculados em cursos de

- (A) especialização.
- (B) mestrado.
- (C) graduação.
- (D) doutorado.

29 Há poucos meses, os Estados Unidos da América lançaram a bomba GBU-43 sobre uma região afegã. A justificativa oficial para o uso de tal armamento foi

- (A) realizar testes de novos modelos de bombas produzidos por ordem do presidente Donald Trump.
- (B) destruir a rede de túneis e as cavernas utilizadas por extremistas do grupo Estado Islâmico.
- (C) impedir que os terroristas sérvios pudessem levar armamentos e alimentos para os rebeldes da região.
- (D) retaliar aquele país, devido às medidas impostas pelo presidente afegão Ashraf Ghani às importações norte-americanas.

30 No início de abril, a Corte Especial do Tribunal Regional Federal da 1ª Região suspendeu uma liminar que garantia à Usina Hidrelétrica de Belo Monte o seu funcionamento. De acordo com o órgão, o reservatório da usina não pode ser formado até que

- (A) a época de cheia na bacia do Rio Xingu atinja um índice necessário para que os espécimes de peixes naturais da região encontrem local seguro para desova.
- (B) os Estados do sudeste beneficiados pela energia gerada pela Usina de Belo Monte realizem o depósito financeiro correspondente ao impacto ambiental da obra.
- (C) o município de Altamira receba tratamento de saneamento básico adequado, conforme prescrição da licença de operação concedida pelo IBAMA.
- (D) os linhões que transmitem a energia elétrica gerada pela Usina de Belo Monte sejam transferidos para locais que não afetem comunidades camponesas residentes no local.

RASCUNHO

CONHECIMENTOS ESPECÍFICOS

31 O equipamento mais adequado às operações de terraplenagem destinadas à implantação dos caminhos de serviço é/são o(s)/a

- (A) tratores de esteira com lâmina angulável.
- (B) escavadeira com caçamba de arrasto.
- (C) escavadeira hidráulica.
- (D) caminhão caçamba.

32 Sobre os equipamentos de terraplenagem considere as afirmativas a seguir:

I. A motoniveladora é empregada para deslocar lateralmente grandes quantidades de materiais e para arrumação de superfícies e taludes. Tem como função escavar, deslocar e nivelar uma superfície de terra.

II. Os tratores podem ser de rodas, de esteiras ou combinados. Os tratores de esteiras são mais indicados para terrenos de fraca declividade ou de alta capacidade de sustentação, por ter melhor aderência e flutuação.

III. As escavadeiras ou pás-mecânicas são equipamentos que giram em torno de seu eixo vertical, trabalham estacionadas e podem ser de rodas ou de esteira. A retroescavadeira destina-se à operação abaixo do nível de seu plano de apoio, por isso é muito utilizada para escavação de valas.

Estão corretas as afirmativas

- (A) I e II.
- (B) I e III.
- (C) II e III.
- (D) I, II e III.

33 São consideradas unidades transportadoras utilizadas em operações de terraplenagem

- (A) motoniveladora e caminhão basculante.
- (B) trator de pneus e “dumpers”.
- (C) caminhão caçamba e carregadeiras.
- (D) vagão e caminhão basculante.

34 Relacione os implementos de equipamentos de terraplenagem com suas características.

() é montado(a) em um aro metálico giratório, podendo assumir inúmeras posições de trabalho e tem um giro de 360°, no plano horizontal e um giro de até 90°, no plano vertical.

() permite uma desagregação do material do solo, procedimento comum na recomposição de estradas de terra.

() é a parede traseira da caçamba, tem um movimento para frente ou para traz. A finalidade é mover o material no interior da caçamba para esvaziá-la durante a descarga.

- (1) escarificador.
- (2) ejetor.
- (3) avental.
- (4) lâmina.

A sequência correta é

- (A) 4, 1 e 2.
- (B) 4, 3 e 2.
- (C) 3, 1 e 2.
- (D) 3, 2 e 4.

RASCUNHO

35 Durante o processo de implantação de uma rede de abastecimento de água, a escolha da localização do canteiro de obras deve

- (A) interferir com espécies vegetais raras ou em extinção.
- (B) situar-se próxima a nascentes de cursos d'água.
- (C) ser dimensionada de maneira a atender às suas finalidades específicas proporcionar, em termos de desmatamento, a menor degradação possível.
- (D) ser instalada sobre sistemas naturais que se constituam em espaço domiciliar de espécies da fauna.

36 O setor de transporte é considerado o maior poluidor ambiental nos centros urbanos. São duas as formas diretas desta poluição: poluição atmosférica e poluição sonora. A poluição atmosférica é proveniente da emissão de gases e partículas sólidas na atmosfera, com efeitos graves na saúde da população. Para eliminar este poluidor nas cidades a frota de veículos teria que utilizar como combustíveis

- (A) etanol e gasolina.
- (B) eletricidade e hidrogênio.
- (C) gás natural e eletricidade.
- (D) biodiesel e diesel.

37 Com relação aos Direitos e Deveres estabelecidos na Constituição Federal do Brasil, analise as afirmativas a seguir:

- I. homens e mulheres são considerados iguais em direitos e obrigações.
- II. a liberdade de consciência e de crença é inviolável, sendo assegurado o livre exercício dos cultos religiosos.
- III. a tortura ou qualquer outro tratamento desumano deve ser praticado somente nos casos previstos em lei.
- IV. o exercício de qualquer trabalho, ofício ou profissão é livre, desde que sejam atendidas as qualificações profissionais que a lei estabelecer.

Estão corretas as afirmativas

- (A) I, II e III.
- (B) I e IV.
- (C) I, II e IV.
- (D) I, II, III e IV.

38 Numa situação de conflito entre funcionários do setor operacional da Cosanpa, a capacidade de colocar-se no lugar do colega para entender seu comportamento e suas ideias, de forma a melhorar a convivência no ambiente de trabalho, é conhecida como

- (A) *feedback*.
- (B) apatia.
- (C) postura.
- (D) empatia.

39 Analise as afirmativas a seguir, sobre segurança no trabalho:

- I. São atividades da segurança do trabalho prevenção de acidentes, promoção da saúde e prevenção de incêndios.
- II. Instalações elétricas inadequadas representam uma condição de vulnerabilidade de acidente.
- III. As cores dos equipamentos de segurança devem ser escolhidas pelo engenheiro de segurança da empresa.
- IV. A ocorrência de um acidente de trabalho provoca danos e perdas somente à empresa.

Estão corretas as afirmativas

- (A) I e II.
- (B) II e IV.
- (C) I, II e IV.
- (D) I, II, III e IV.

- 40** Os procedimentos de primeiros socorros a uma vítima de acidente de trânsito NÃO devem ser os seguintes:
- (A) os sinais vitais respiração, a pulsação e a temperatura devem ser averiguados quando a vítima estiver inconsciente.
 - (B) mesmo a vítima apresentando os sinais vitais, deve-se acompanhar o ritmo da respiração, porque a respiração curta ou acelerada pode ser indício de parada cardiorrespiratória, convulsão ou desmaio.
 - (C) em caso de convulsão deve-se apenas observar a vítima.
 - (D) em caso de parada cardiorrespiratória deve-se aplicar técnicas de reanimação, como respiração boca a boca e massagem cardíaca.
- 41** Em caso de necessidade de sinalizar um acidente de trânsito ocorrido no período noturno em uma rodovia com velocidade máxima permitida de 100 quilômetros por hora, a distância correta para iniciar a sinalização e o procedimento adequado no caso de haver uma curva antes de completar a medida necessária são, respectivamente,
- (A) 200 passos longos; reiniciar a contagem a partir da curva.
 - (B) 100 passos longos; reiniciar a contagem a partir da curva.
 - (C) 200 passos longos; desconsiderar a curva.
 - (D) 100 passos longos; desconsiderar a curva.
- 42** Muitas lesões da coluna vertebral são consequências de acidentes de trânsito. Assim, para não agravar a lesão, o socorrista deve
- (A) deitar a vítima.
 - (B) evitar movimentar a vítima e aguardar socorro profissional.
 - (C) retirar o capacete se a vítima for motociclista.
 - (D) soltar o cinto de segurança.
- 43** Com relação à sinalização viária é INCORRETO afirmar que
- (A) a sinalização semafórica é composta por dois grupos, sendo eles: sinalização semafórica de regulamentação e sinalização semafórica de advertência.
 - (B) para a sinalização de obras, a sinalização vertical de advertência e as placas de orientação de destino são utilizadas as combinações das cores laranja e preta.
 - (C) os sinais de regulamentação R-1 (parada obrigatória) e R-2 (Dê a Preferência) constituem exceções quanto à forma e não podem receber informação complementar.
 - (D) a sinalização de indicação tem por finalidade informar aos usuários as condições, proibições, obrigações ou restrições no uso das vias.
- 44** Conforme a classificação da espécie dos veículos, o caminhão e o trator de esteiras são considerados pelo Código de Trânsito Brasileiro
- (A) ambos de tração.
 - (B) de carga e de tração.
 - (C) ambos automotores.
 - (D) de carga e especial.
- 45** De acordo com as Normas Gerais de Circulação e Conduta, é correto afirmar que
- (A) à noite, se o veículo estiver parado para o embarque ou desembarque de passageiros, o condutor deve manter acesas as luzes de posição.
 - (B) a velocidade mínima nas vias não pode ser inferior a 30 quilômetros por hora, respeitadas as condições operacionais de trânsito e da via.
 - (C) a velocidade máxima permitida para os ônibus, em rodovias rurais de pista dupla, é de 80 quilômetros por hora, caso não exista sinalização regulamentadora.
 - (D) em uma pista de rolamento que comporta várias faixas de tráfego no mesmo sentido, os veículos mais lentos e de menor porte devem circular na faixa da direita.

46 No período de quatro meses, um determinado condutor foi notificado da autuação de duas infrações de natureza grave e uma infração de natureza gravíssima. Este condutor teve computados

- (A) treze pontos.
- (B) quinze pontos.
- (C) dezessete pontos.
- (D) dezenove pontos.

47 A sinalização vertical que proíbe o trânsito de tratores e máquinas de obras é uma sinalização de

- (A) advertência.
- (B) regulamentação.
- (C) indicação.
- (D) identificação.

48 Analise as afirmativas a seguir, sobre direção defensiva:

- I. Sonolência é um dos fatores que retardam os reflexos de condutores.
- II. A manutenção preventiva não interfere no risco de acidente de trânsito.
- III. A calibragem incorreta dos pneus compromete a vida útil e a estabilidade do veículo.
- IV. Em descidas acentuadas, o câmbio deve ser engatado numa marcha reduzida.

Estão corretas as afirmativas

- (A) I e II.
- (B) II e IV.
- (C) I, III e IV.
- (D) I, II, III e IV.

49 Constitui condição adversa do veículo que pode contribuir para a ocorrência de acidentes no trânsito o/a

- (A) sistema de direção e suspensão alinhados.
- (B) direção com folga.
- (C) ocorrência de chuva.
- (D) estado de pavimentação da via.

50 Numa rodovia devidamente sinalizada e em boas condições de tráfego, num determinado momento, o veículo colide com o veículo que está à sua frente. O acidente ocorreu em razão de

- (A) a distância de parada ser maior do que a distância de seguimento.
- (B) a distância de frenagem ser maior do que a distância de reação.
- (C) a distância de frenagem ser menor do que a distância de parada.
- (D) a distância de parada ser menor do que a distância de seguimento.

RASCUNHO