

ESTADO DE SANTA CATARINA
MUNICÍPIO DE ARARANGUÁ
CONCURSO PÚBLICO
EDITAL N° 01/2016

CONTADOR



FAEPESUL

FUNDAÇÃO DE APOIO À EDUCAÇÃO, PESQUISA E EXTENSÃO DA UNISUL

Abril/2016

AVALIAÇÃO ESCRITA OBJETIVA
LEIA ATENTAMENTE AS INSTRUÇÕES ABAIXO

1. Você recebeu do fiscal o seguinte material:
 - a) Este **CADERNO DE PROVAS** com 10 (dez) questões de Língua Portuguesa, 10 (dez) questões de Matemática e 20 (Vinte) questões Específicas para o cargo de **CONTADOR**, sem repetição ou falha.
 - b) 1 (um) **CARTÃO RESPOSTA** relacionado a Avaliação para este cargo.
2. Verifique se este material está em ordem e se o seu nome e o seu número de inscrição conferem com os que aparecem no **CARTÃO RESPOSTA**. Caso contrário, notifique o fato **IMEDIATAMENTE** ao fiscal.
3. Após a conferência, o candidato deverá assinar, no espaço próprio do **CARTÃO RESPOSTA**, com caneta esferográfica transparente de tinta na cor preta ou azul.
4. Tenha muito cuidado com o **CARTÃO RESPOSTA**, para não o **DOBRAR, AMASSAR** ou **MANCHAR**.
5. **SERÁ ELIMINADO** deste Processo Seletivo Público o candidato que:
 - a) Se utilizar, durante a realização da prova, de máquinas e/ou relógios de calcular, bem como de rádios gravadores, headphones, telefones celulares ou fontes de consultas de qualquer espécie.
 - b) Se ausentar da sala em que se realiza a prova levando consigo **CADERNO DE PROVA** e/ou **CARTÃO RESPOSTA**.
 - c) Se recusar a entregar o **CADERNO DE PROVAS** e/ou o **CARTÃO RESPOSTA** quando terminar o tempo estabelecido.
 - d) Não assinar a **LISTA DE PRESENÇA** e/ou o **CARTÃO RESPOSTA**.
6. O Candidato somente poderá se ausentar do local de aplicação das provas após **1 (uma)** hora contada a partir do efetivo início.
7. O **CADERNO DE PROVAS** não poderá ser levado pelo Candidato, em qualquer momento.
8. Quando terminar, entregue ao fiscal, sob pena de eliminação, o **CADERNO DE PROVAS** e o **CARTÃO RESPOSTA**.
9. O tempo disponível para realização desta Avaliação é de até **04h00min. (quatro horas)** para os candidatos que escolheram mais de uma opção, estando compreendido, neste período, o preenchimento do **CARTÃO RESPOSTA**.
10. As questões desta Avaliação estarão disponíveis, no primeiro dia útil após a sua realização no endereço eletrônico: **www.fapesul.org.br/concursos**.

Boa Prova!

LÍNGUA PORTUGUESA

Texto para as questões 1 a 5:

Canção Amiga

Carlos Drummond de Andrade

Eu preparo uma canção
em que minha mãe se reconheça,
todas as mães se reconheçam,
e que fale como dois olhos.

Caminho por uma **rua**
que passa em muitos **países**.
Se não se **vêem**, eu vejo
e **saúdo** velhos amigos.

Eu distribuo um segredo
como quem anda ou sorri.
No jeito mais natural
dois carinhos se procuram.

Minha vida, nossas vidas
formam um só diamante.
Aprendi novas palavras
e tornei outras mais belas.

Eu preparo uma canção
que faça acordar os homens
e adormecer as crianças.

1. O eu lírico está fortemente marcado nesses versos. Quando Drummond prepara “uma canção amiga”, ele quer nos falar sobre qual tema?

- A) O segredo das canções de ninar.
- B) A naturalidade e a harmonia da vida.
- C) A aquisição da linguagem na infância.
- D) Amizades e saudades da infância.
- E) Diversidade cultural e social.

2. Considerando as palavras em destaque (negrito) na segunda estrofe do poema:

- I. “Rua” é uma palavra paroxítona, não acentuada porque termina em vogal A.
- II. “Países” é uma paroxítona, mas sua acentuação justifica-se pelo hiato formado no interior dessa palavra.
- III. “Vêem” é uma palavra paroxítona que também concentra um hiato. Com a Reforma Ortográfica em vigor a partir de 2016, esse acento será abolido.
- IV. “Saúdo” é uma palavra paroxítona, cuja acentuação está explicada pela presença do hiato.

Sobre essas afirmações, é correto dizer:

- A) Apenas a III está correta.
- B) Apenas I e III estão corretas.
- C) Apenas II e IV estão corretas.
- D) Todas estão incorretas.
- E) Todas estão corretas.

3. Nos versos “Eu preparo uma canção / que faça acordar os homens / e adormecer as crianças.”, as palavras “acordar e adormecer” são a chave de uma figura de linguagem. Indique-a entre as alternativas abaixo:

- A) Antítese.
- B) Metonímia.
- C) Metáfora.
- D) Catacrese.
- E) Anacoluto.

4. E quanto às funções da linguagem, qual é o objetivo principal nesse poema de Drummond? Marque a função da linguagem predominante.

- A) Poética.
- B) Conativa.
- C) Emotiva.
- D) Denotativa.
- E) Fática.

5. Carlos Drummond de Andrade, um nome gigante da literatura brasileira. Além de funcionário público, um cronista, jornalista e principalmente poeta. E a qual movimento literário pertence Drummond?

- A) Concretismo.
- B) Pré-Modernismo.
- C) Pós-Modernismo.
- D) Modernismo.
- E) Literatura Contemporânea.

Texto para as questões 6 e 7:

“Assim que Joãozinho chegou em casa, sua mãe perguntou:

- Oi, filho, como foi a aula hoje?

E o menino respondeu sem muito entusiasmo:

- Foi bem!

- Que bom! Tem certeza de que aprendeu tudo?

- Acho que não, mãe, amanhã vou ter que ir de novo.”

6. Na oração “Oi, filho, como foi a aula hoje?”, os termos em destaque exercem a função sintática de, respectivamente:

- A) Sujeito / Complemento verbal.
- B) Aposto / Complemento nominal.
- C) Vocativo / Adjunto adverbial.
- D) Agente da Passiva / Adjunto adnominal.
- E) Sujeito / Predicativo do objeto.

7. Em “Tem certeza de que aprendeu tudo?”, a classificação da oração sublinhada nesse período é:

- A) Subordinada Substantiva Completiva Nominal.
- B) Subordinada Substantiva Predicativa.
- C) Subordinada Substantiva Apositiva.
- D) Subordinada Substantiva Objetiva Direta.
- E) Subordinada Substantiva Objetiva Indireta.

8. Analise as palavras abaixo quanto a presença de Encontros Vocálicos, Encontros Consonantais e Dígrafos:

QUAISQUER – GLICOSE – MOSQUITO – GRAVIDADE - PISCINA

Sobre essas palavras, é CORRETO afirmar:

- A) Há presença de Tritongo e Ditongo na palavra “quaisquer”.
- B) Há um exemplo de Ditongo e dois Dígrafos.
- C) “Glicose” e “gravidade” contêm Dígrafos.
- D) Apenas a palavra “mosquito” é exemplo de Encontro Consonantal.
- E) Nenhuma delas apresenta Hiato ou Ditongo.

9. É comum no cotidiano encontrarmos desvios gramaticais relacionados à regência verbal, ora pela presença, ora pela ausência da preposição junto aos verbos em seus complementos. Com base nisso, assinale a alternativa CORRETA:

- A) A curiosidade dos amigos era descobrir com quem ela estava namorando.
- B) Na viagem à Argentina, assistimos a belos espetáculos musicais.
- C) Diante de tamanha arrogância, não me simpatizo com o novo diretor geral.
- D) Muitos ainda não obedecem a Nova Ortografia da Língua Portuguesa.
- E) Com tantos dias de calor, preferi mais as saladas do que as massas.

Texto para a questão 10:



(Fonte: www.google.com.br/cartumdehubert)

10. O humor, como se pode perceber acima, nem sempre cumpre apenas o papel de diversão ou entretenimento. Nesse cartum, há uma proposta temática que denuncia a nossa realidade. Identifique-a em uma das alternativas abaixo:

- A) O espaço da mulher na mídia.
- B) Escravidão na atualidade.
- C) Desemprego no Brasil.
- D) Desigualdade social.
- E) A identidade cultural brasileira.

MATEMÁTICA

11. Assinale a alternativa que apresenta o(s) possível(eis) valor(es) de m para que a equação $x^2 - 4x + (m - 6) = 0$ possua *duas raízes reais e distintas*.

- A) $S = \{10\}$
- B) $S = \{m \in \mathbb{R} \mid m \leq 10\}$
- C) $S = \{m \in \mathbb{R} \mid m < 10\}$
- D) $S = \{m \in \mathbb{R} \mid m > 10\}$
- E) $S = \{m \in \mathbb{R} \mid m \geq 10\}$

12. Considere as proposições:

I. $\det(A) = \det(A^T)$, para toda matriz A quadrada de ordem n .

II. $\begin{vmatrix} 1 & 0 & 0 & 0 \\ 0 & -2 & 0 & 0 \\ 0 & 0 & 3 & 0 \\ 0 & 0 & 0 & 7 \end{vmatrix} = -42$

III. $\det(I_n) = 1$, em que I_n é a matriz identidade de ordem n .

IV. Se A e B são matrizes quadradas de ordem n , então é sempre verdade que $\det(A + B) = \det(A) + \det(B)$

Assinale a alternativa em que apresenta a quantidade de proposição(ões) CORRETA(S):

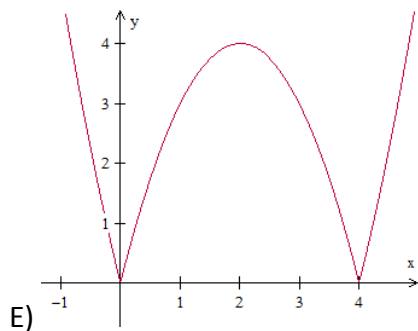
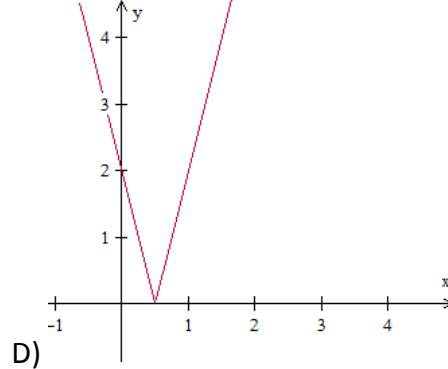
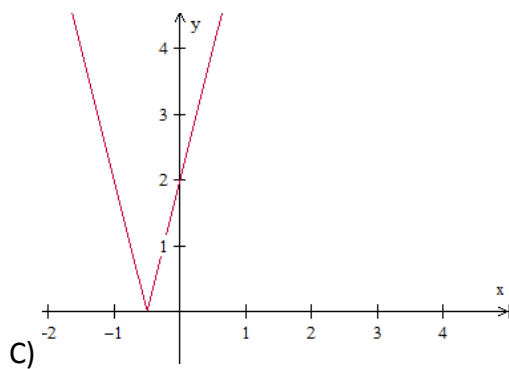
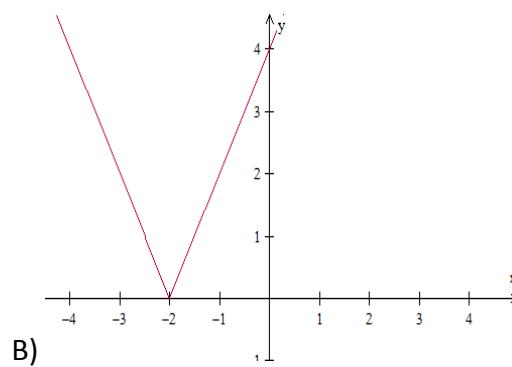
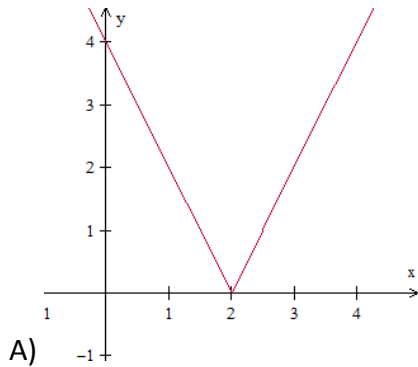
- A) 4
- B) 0
- C) 1
- D) 2
- E) 3

13. Assinale a alternativa em que apresenta o conjunto solução da inequação $x^2 \leq 4$.

- A) $S = \emptyset$
- B) $S = \{x \in \mathbb{R} \mid x \leq 2\}$
- C) $S = \{x \in \mathbb{R} \mid x \geq 2\}$
- D) $S = \{x \in \mathbb{R} \mid x \leq -2 \text{ ou } x \geq 2\}$

E) $S = \{x \in \mathbb{R} \mid -2 \leq x \leq 2\}$

14. Assinale a alternativa em que apresenta o gráfico da função f definida de \mathbb{R} em \mathbb{R} em que $y = f(x) = |2x - 4|$.



15. Resolva, em \mathbb{R} , a equação $\begin{vmatrix} -2 & -7 & 13 \\ 0 & x & -6 \\ 0 & 0 & x \end{vmatrix} = 8x + \begin{vmatrix} 2 & 0 \\ 11 & -5 \end{vmatrix}$ e, assinale a alternativa CORRETA acerca do conjunto solução:

- A) $S = \{-1, 5\}$
- B) $S = \{1\}$
- C) $S = \{-5\}$
- D) $S = \{1, -5\}$
- E) $S = \emptyset$

16. Assinale a alternativa que apresenta o valor do $\det(A \cdot I_4)$ em que $A =$

$$\begin{bmatrix} 0 & 0 & 0 & 0 & 7 \\ 0 & 0 & 0 & 4 & 0 \\ 0 & 0 & -3 & 0 & 0 \\ 0 & 1 & 0 & 0 & 0 \\ -2 & 0 & 0 & 0 & 0 \end{bmatrix} \text{ e } I_4 \text{ é a matriz identidade de quarta ordem, ou seja, } I_4 = \begin{bmatrix} 1 & 0 & 0 & 0 & 0 \\ 0 & 1 & 0 & 0 & 0 \\ 0 & 0 & 1 & 0 & 0 \\ 0 & 0 & 0 & 1 & 0 \\ 0 & 0 & 0 & 0 & 1 \end{bmatrix}.$$

- A) 168
- B) -168
- C) 0
- D) -1
- E) -243

17. Considere as proposições:

- () As sequências *monótonas* ou *constantes* são progressões aritméticas de razão nula e progressões geométricas de razão unitária.
- () O 13º termo da sequência (3, 5, 9, 17, 33, ...), em que a partir do segundo termo, cada termo é o dobro do anterior subtraído de um, é dado por $2^{13} + 1$.
- () A PG (-2, 4, -8, 16, -32, ...) é crescente de razão $q = -2$.
- () Em uma PA com uma quantidade ímpar de termos, a média aritmética entre o primeiro e o último termo desta sequência resulta no termo central.

Julgue V para as proposições verdadeiras e F para as falsas, e assinale a sequência CORRETA de cima para baixo:

- A) V - F - F - V
- B) V - V - F - V
- C) F - V - F - V
- D) F - F - F - V
- E) V - V - V - V

18. Considere as proposições:

I. $\sqrt[4]{32} = 2\sqrt{2}$

II. $\sqrt{\sqrt[3]{4096}} = 2$

III. $\sqrt[11]{-1} = -1$

III. $\left(\frac{3}{4}\right)^{-2} = \frac{9}{16}$

Assinale a alternativa que apresenta a quantidade de proposição(ões) CORRETA(S):

- A) 3
- B) 0
- C) 1
- D) 2
- E) 4

19. Assinale a alternativa INCORRETA:

- A) A diferença entre dois números naturais pode não ser um número natural.
- B) O produto entre dois números racionais é sempre um número racional.
- C) A soma entre dois números irracionais é sempre um número irracional.
- D) 0,845 e 1,7454545 ... são números racionais.
- E) $\sqrt{2}$, $\sqrt[3]{4}$ e π são números irracionais.

20. Simplificando a expressão $\frac{(n+2)!+(n+1)!}{(n+1)!}$, para todo $n \in \mathbb{N}$, obtemos:

- A) $n + 3$
- B) $(n + 2)!$
- C) $n + 2$
- D) $(n + 1)!$
- E) $(n + 3)!$

ESPECÍFICAS

21. A depreciação do período de um ativo imobilizado caracteriza uma:

- A) mutação passiva.
- B) mutação ativa.
- C) variação patrimonial quantitativa.
- D) receita orçamentária efetiva.
- E) despesa orçamentária efetiva.

Para responder às questões 22, 23 e 24 utilize as informações abaixo, de acordo com a Lei Federal 4.320/64. Foram extraídas dos Balanços Patrimonial e Orçamentário do exercício 2015 de um determinado Ente público as seguintes contas contábeis:

Contas Contábeis	Valores
Débitos de Tesouraria	70
Bens de Natureza Industrial	80
Resto a Pagar	130
Caixa	150
Bens Imóveis	200
Banco Conta Movimento	250
Dívida Fundada Interna	300
Abertura de Créditos Especiais	350
Despesas Orçamentárias Executadas	1.000
Receitas Orçamentárias Previstas	1.300
Receitas Orçamentárias Executadas	1.900

22. O excesso de arrecadação verificada no exercício de 2011 é de:

- A) 600
- B) 100
- C) 300
- D) 700
- E) 900

23. O ativo Financeiro Totaliza:

- A) 220
- B) 400
- C) 250
- D) 320
- E) 470

24. O valor do passivo não circulante (permanente) é de:

- A) 300
- B) 200
- C) 370
- D) 430
- E) 500

25. A Prefeitura PMA apresentou as seguintes informações relativas a Receitas e Despesas:

Em R\$ (mil):

- IPTU vencido em 2012 recebido em 2013 R\$ 10.000,00
- ISS de 2013 recebido em 2013 R\$ 20.000,00
- Despesa empenhada em 2012 e paga em 2013 R\$ 15.000,00
- Despesa empenhada em 2013 e paga em 2013 R\$ 5.000,00

Com base nessas informações e de acordo com o regime contábil misto, o resultado do exercício de 2013 foi, em R\$ (mil):

- A) 10.000,00
- B) 25.000,00
- C) 15.000,00
- D) 20.000,00
- E) 5.000,00

26. No que se refere aos Sistemas de Escrituração, o sistema que não produz variação patrimonial de imediato e fazem contrapartida consigo mesmas, são os bens, direitos e obrigações potenciais.

- A) Variação Patrimonial.
- B) Patrimonial.
- C) Financeiro.
- D) Compensação.
- E) Orçamentária.

27. De acordo com os Sistemas de Escrituração, qual sistema registra os recebimentos e pagamentos de receitas e despesas orçamentárias e extra-orçamentários e ativos e passivos circulante:

- A) Financeiro.
- B) Patrimonial.
- C) Compensação.
- D) Variação Patrimonial.
- E) Orçamentária.

28. As despesas empenhadas durante um determinado exercício financeiro, liquidadas e não pagas até 31 de dezembro, denominam-se:

- A) dívidas flutuante.
- B) restos a pagar não processados.
- C) dívidas fundadas.
- D) dívidas ativas.
- E) restos a pagar processados.

29. De acordo com os créditos adicionais, informe qual que se destina a atender as despesas para as quais não haja dotação orçamentária específica.

- A) Suplementar.
- B) Não orçamentário.
- C) Especial.
- D) Extraordinário.
- E) Extra-orçamentário.

30. Para registrar a transferência de recursos financeiros entre duas unidades integrantes é utilizado no SIAFI o documento:

- A) Nota de Empenho.
- B) Nota de Movimentação de Crédito.
- C) Nota de Dotação.
- D) Nota de Programação Financeira.
- E) Ordem Bancária.

31. Em relação ao Plano de Contas da Administração Pública Federal, os controles da execução orçamentária da receita, são registrados nos grupos de contas denominados:

- A) Ativo circulante e passivo circulante.
- B) Ativo permanente e patrimônio líquido.
- C) Ativo e passivo compensado.
- D) Ativo realizável a longo prazo e passível exigível a longo prazo.
- E) Resultado de patrimônio líquido e exercícios futuros.

32. Depois que ocorrer o cancelamento da inscrição da despesa inscrita em Resto a Pagar, o pagamento que vier a ser reclamado poderá ser atendido à conta de dotação destinada a:

- A) Despesas vinculadas a resto a pagar.
- B) Despesa extra-orçamentária.
- C) Despesas de exercícios anteriores.
- D) Depósitos de diversas origens.
- E) Obrigações de exercícios anteriores.

33. O empenho por estimativa é:

- A) Somente para uma parte da empresa.
- B) Vedado, em qualquer hipótese.
- C) Comum, porém ilegal.
- D) Viável e admitido pela lei.
- E) Não viável e admitido em lei.

34. No que diz a Receita Corrente Líquida (RCL), será obtida através da soma das receitas:

- A) tributárias, de contribuições, patrimoniais, industriais, agropecuárias, de serviços, transferências correntes, outras receitas correntes, operação de crédito, alienação de bens móveis, excluindo as duplicidades.
- B) tributárias, de contribuições, patrimoniais, industriais, agropecuárias, de serviços, transferências correntes e outras receitas correntes, excluindo as duplicidades.
- C) tributárias, de contribuições, patrimoniais.
- D) transferências correntes.
- E) industriais, agropecuárias, de serviços, transferências correntes.

35. Na assertiva “é vedada a realização de despesa ou assunção de obrigações diretas que excedem os créditos orçamentários ou adicionais”. Refere-se uma consequência da aplicação do princípio:

- A) Orçamento Bruto.
- B) Exclusividade.
- C) Economicidade.
- D) Equilíbrio.
- E) Universalidade.

36. O objetivo principal deste princípio é vedar as autorizações globais, devendo a despesa ser classificada com um nível de detalhamento, que facilite a análise por parte das pessoas:

- A) Princípio do equilíbrio.
- B) Princípio da exclusividade.
- C) Princípio da universalidade.
- D) Princípio da unidade.
- E) Princípio da especificação.

37. Este princípio avaliará todos os assuntos referentes ao orçamento, sendo vedado conter matérias estranhas a ele:

- A) Princípio da universalidade.
- B) Princípio da unidade.
- C) Princípio da especificação.
- D) Princípio da exclusividade.
- E) Princípio do equilíbrio.

38. A respeito das receitas extra-orçamentárias, considere:

- I. Sua arrecadação não depende de lei específica.
- II. Somam-se às disponibilidades financeiras do Tesouro, porém têm em contrapartida um passível exigível que será resgatado quando da realização da correspondente despesa extra-orçamentárias.
- III. Correspondem às receitas de capital, operações de antecipação de receita orçamentária e operações de crédito.

Está CORRETO o que consta em:

- A) III, apenas.
- B) I, II e III.
- C) I e III, apenas.
- D) II e III, apenas.
- E) I e II, apenas.

39. De acordo com a Constituição Federal, o Governo utiliza para seu planejamento estratégico a Lei:

- A) do Plano Plurianual.
- B) de Responsabilidade Fiscal.
- C) do Orçamento de Investimentos.
- D) de Diretrizes Orçamentárias.
- E) do Planejamento Estratégico.

40. “Tomar medidas para acompanhamentos de compensação, por meio do aumento de receita, proveniente da elevação de alíquotas, ampliação da base de cálculo, majoração ou criação de tributo ou contribuição” é condição exigida pela Lei de Responsabilidade Fiscal para:

- A) previsão de receita.
- B) renúncia de receita.
- C) renúncia de receita e ascensão de dívida.
- D) previsão de receita e renúncia de dívida.
- E) todas estão corretas.

RASCUNHO DE GABARITO

	A	B	C	D	E
1					
2					
3					
4					
5					
6					
7					
8					
9					
10					
11					
12					
13					
14					
15					
16					
17					
18					
19					
20					

	A	B	C	D	E
21					
22					
23					
24					
25					
26					
27					
28					
29					
30					
31					
32					
33					
34					
35					
36					
37					
38					
39					
40					

