

INSTITUTO DE PREVIDÊNCIA DOS SERVIDORES DO MUNICÍPIO DE TIBAGI PARANÁ

Nome do Candidato _____			Nº Inscrição _____	Nº Prova 3463538
Documento _____	Tipo _____	Local _____		

LEIA ATENTAMENTE AS INSTRUÇÕES ABAIXO

1. Este Caderno de Questões é composto por **40 (quarenta)** questões objetivas e não deve ser folheado antes da autorização do Fiscal.
2. Observe se o **Cargo** especificado no Caderno de Questões é o correspondente ao Cargo para o qual você fez a inscrição.
3. Utilize Caneta Esferográfica Transparente com tinta preta na marcação da Folha de Respostas.
4. Ao receber a Folha de Respostas, realize a conferência de seus dados e quaisquer divergências comunique o fiscal.
5. Leia atentamente cada questão da prova objetiva e preencha na Folha de Respostas a única alternativa que a responda corretamente.
6. A Folha de Respostas não pode ser dobrada, amassada, rasurada ou conter qualquer marcação fora dos campos destinados.
7. Você dispõe de **04 (quatro)** horas para fazer a prova, incluindo a marcação da Folha de Respostas.
8. Após devidamente identificado e acomodado na sala designada para a realização da prova, o candidato poderá ausentar-se da sala **90 (noventa)** minutos após o início da prova e, em caso de ausência temporária em que o candidato ainda não tiver terminado a sua prova, deverá fazê-lo acompanhado de um Fiscal. Exclusivamente, nos casos de alteração psicológica e/ou fisiológica temporária e necessidade extrema, em que o candidato necessite ausentar-se da sala **antes dos 60 (sessenta)** minutos após o início da prova, poderá fazê-lo, desde que acompanhado de um Fiscal.
9. O candidato poderá entregar sua Folha de respostas e deixar definitivamente o local de realização da prova somente depois de decorridos, no mínimo, **60 (sessenta) minutos** do seu início, porém, não poderá levar consigo o Caderno de Questões.
10. Após o término da prova, entregue ao Fiscal a **FOLHA DE RESPOSTAS** devidamente preenchida e assinada.
11. Somente será permitido levar o **CADERNO DE QUESTÕES** se o candidato permanecer na sala, até os últimos 60 (sessenta) minutos que antecedem o encerramento da prova objetiva.
12. A liberação dos candidatos após o término da prova será autorizada pelo fiscal de sala, após a realização dos procedimentos administrativos necessários. O candidato que terminou sua prova deverá permanecer aguardando em sua carteira e somente poderá levantar-se para a entrega do material se solicitado pelo fiscal.
13. **SERÁ ELIMINADO** do Concurso Público o candidato que:
 - a) Deixar o local de realização da prova objetiva sem a devida autorização.
 - b) Faltar com o devido respeito para com qualquer membro da equipe de aplicação das provas, com as autoridades presentes ou com os demais candidatos.
 - c) Proceder de forma a tumultuar a realização da prova objetiva.
 - d) Estabelecer comunicação com outros candidatos ou com pessoas estranhas, por quaisquer meios, e usar de meios ilícitos para obter vantagens para si ou para outros.
 - e) For surpreendido portando ou manuseando quaisquer dispositivos eletrônicos, tais como: máquinas calculadoras, wearable tech, agendas eletrônicas ou similares, telefones celulares, smartphones, tablets, iPods®, pen drives, mp3 player ou similar, gravadores, relógios, alarmes de qualquer espécie, chaves com dispositivo eletrônico, fones de ouvido ou qualquer transmissor, gravador ou receptor de dados, imagens, vídeos e mensagens, livros, anotações, régua de cálculo, dicionários, códigos e/ou legislação, impressos que não estejam expressamente permitidos ou qualquer outro material de consulta, canetas de material não transparente, Carteira de bolso, lapiseira, corretivos, óculos escuros, artigos de chapelaria, tais como: boné, chapéu, viseira, gorro ou similares. Os itens descritos, que devem ser obrigatoriamente acondicionado em envelope porta-objeto fornecido pela instituição organizadora.
 - f) Ausentar-se da sala, a qualquer tempo, portando a Folha de Respostas.
14. Os **03 (três) últimos candidatos** só poderão sair da sala juntos, após o fechamento e assinatura do envelope de retorno.
15. Está disponível abaixo um gabarito para ser preenchido e destacado. Este poderá ser levado pelo candidato.

.....
DESTAQUE AQUI
.....

GABARITO

Instituto dos Servidores do Município de Tibagi – Paraná
<http://www.fundacaofafipa.org.br>

1.	2.	3.	4.	5.	6.	7.	8.	9.	10.
11.	12.	13.	14.	15.	16.	17.	18.	19.	20.
21.	22.	23.	24.	25.	26.	27.	28.	29.	30.
31.	32.	33.	34.	35.	36.	37.	38.	39.	40.



Língua Portuguesa

TEXTO 01

O texto seguinte servirá de base para responder às questões de 01 a 05.

Letra de médico

Na farmácia, presencio uma cena curiosa, mas não rara: balconista e cliente tentam, inutilmente, decifrar o nome de um medicamento na receita médica. Depois de várias hipóteses acabam desistindo. O resignado senhor que porta a receita diz que vai telefonar ao seu médico e voltará mais tarde. "Letra de doutor", suspira o balconista, com compreensível resignação. Letra de médico já se tornou sinônimo de hieróglifo, de coisa indecifrável.

Um fato tanto mais intrigante quando se considera que os médicos, afinal, passaram pelas mesmas escolas que outros profissionais liberais. Exercício da caligrafia é uma coisa que saiu de moda, mas todo aluno sabe que precisa escrever legivelmente, quando mais não seja, para conquistar a boa vontade dos professores. A letra dos médicos, portanto, é produto de uma evolução, de uma transformação. Mas que fatores estariam em jogo atrás dessa transformação?

Que eu saiba, o assunto ainda não foi objeto de uma tese de doutorado, mas podemos tentar algumas explicações. A primeira, mais óbvia (e mais ressentida), atribui os garranchos médicos a um mecanismo de poder. Doutor não precisa se fazer entender: são os outros, os seres humanos comuns, que precisam se familiarizar com a caligrafia médica. Quando os doutores se tornarem mais humildes, sua letra ficará mais legível.

Pode ser isso, mas acho que não é só isso. Há outros componentes: a urgência, por exemplo. Um doutor que atende dezenas de pacientes num movimentado ambulatório de hospital não pode mesmo caprichar na letra. Receita é uma coisa que ele precisa fornecer - nenhum paciente se considerará atendido se não levar uma receita. A receita satisfaz a voracidade de nossa cultura pelo remédio, e está envolta numa aura mística: é como se o doutor, através dela, acompanhasse o paciente. Mágica ou não, a receita é, muitas vezes, fornecida às pressas; daí a ilegibilidade.

Há um terceiro aspecto, mais obscuro e delicado. É a relação ambivalente do médico com aquilo

que ele receita - a sua dúvida quanto à eficácia (para o paciente, indiscutível) dos medicamentos. Uma dúvida que cresce com o tempo, mas que é sinal de sabedoria. Os velhos doutores sabem que a luta contra a doença não se apoia em certezas, mas sim em tentativas: "*dans la médecine comme dans l'amour, ni jamais, ni toujours*", diziam os respeitados clínicos franceses: na medicina e no amor, "sempre" e "nunca" são palavras proibidas. Daí a dúvida, daí a ansiedade da dúvida, da qual o doutor se livra pela escrita rápida. E pouco legível.

[...]

SCLIAR, Moacyr. A face oculta ? inusitadas e reveladoras histórias da medicina. Porto Alegre: Artes e Ofícios, 2001. [adaptado]

Questão 01

O autor do texto, ao presenciar cliente e balconista da farmácia tentando compreender o que o médico escrevera na receita, constata que:

- (A) A cena presenciada ocorre esporadicamente.
- (B) Aquele tipo de cena é corriqueira.
- (C) Médicos preferem dificultar a leitura do que escrevem.
- (D) O balconista se irritou com aquela situação.
- (E) Tanto o balconista quanto o cliente sentiram-se humilhados pela situação.

Questão 02

O texto traz suposições acerca dos motivos pelos quais a caligrafia dos médicos seria fruto de uma evolução (ou transformação). Sobre essas teorias, assinale a alternativa que encontra embasamento no texto:

- (A) Uma das teorias se baseia na tese de doutorado e atribui a letra ilegível dos médicos ao fato de sua suposta superioridade intelectual em relação a outros profissionais.
- (B) O autor acredita que médicos que conscientemente escrevem de forma ilegível não têm dúvidas sobre a eficácia dos medicamentos que estão prescrevendo.
- (C) Uma das teses afirma que a "letra ilegível" do médico se dá devido a correria em que o médico fornece a receita, por ter que atender muitos pacientes.

- (D) Uma suposição levantada pelo autor é a de que os pacientes não dão credibilidade a médicos que têm a letra ilegível, por isso, é necessário que a prescrição seja datilografada.
- (E) Em uma das teorias, o fator humildade é descartado como fator predominante para a letra ilegível, sendo questionado se todos os profissionais têm essa característica.

Questão 03

"O **resignado** senhor que porta a receita diz que vai **telefonar** ao seu médico e voltará mais tarde." O termo destacado tem como sinônimo:

- (A) Designado.
(B) Indiferente.
(C) Indignado.
(D) Obstinado.
(E) Conformado.

Questão 04

Observe o período a seguir: "**Quando os doutores se tornarem mais humildes, sua letra ficará mais ilegível.**" A oração destacada é classificada como:

- (A) Oração Subordinada Adverbial Temporal.
(B) Oração Subordinada Adjetiva Restritiva.
(C) Oração Subordinada Adverbial Conformativa.
(D) Oração Subordinada Adjetiva Explicativa.
(E) Oração Subordinada Substantiva Objetiva Direta.

Questão 05

"[...] **balconista** e cliente tentam, **inutilmente**, decifrar o nome de um medicamento na receita **médica**."

As palavras destacadas no trecho anterior são classificadas, no seu contexto de uso, respectivamente como:

- (A) Advérbio, adjetivo e preposição.
(B) Adjetivo, conjunção e substantivo.
(C) Substantivo, preposição e adjetivo.
(D) Adjetivo, conjunção e substantivo.
(E) Substantivo, advérbio e adjetivo.

Matemática/Raciocínio Lógico

Questão 06

A função afim é do tipo polinomial do primeiro grau definida como: $f : \mathbb{R} \rightarrow \mathbb{R}$ tal que $f(x) = ax + b$ ou $y = ax + b$, com a e b números reais e $a \neq 0$. Em relação a esta função, classifique cada afirmação como verdadeira (V) ou falsa (F) e, em seguida, assinale a alternativa com a sequência CORRETA:

- () A representação da função, por meio de um gráfico, é uma reta.
() A representação da função, por meio de um gráfico, é uma parábola.
() Se o valor de b for zero a equação continua sendo definida de primeiro grau.
() O valor de b na função afim determina sua classificação em: crescente, decrescente e constante.
() A raiz, ou seja, o valor de x desta função é dada por $x = -b/a$.

- (A) V - F - V - F - V.
(B) V - F - V - V - V.
(C) V - V - F - F - V.
(D) V - V - V - V - V.
(E) V - F - V - V - F.

Questão 07

Maria comprou um celular e para realizar o pagamento, que foi à vista, utilizou apenas cédulas de R\$ 50,00 e de R\$ 100,00. O valor do celular foi de R\$ 1400,00, e Maria usou um total de 15 cédulas para o pagamento.

Com base nessas informações, observe as alternativas e marque aquela que representa a quantidade de cédulas de cada valor utilizada por Maria para o pagamento:

- (A) 14 cédulas de R\$50,00 e 1 cédula de R\$ 100,00.
(B) 13 cédulas de R\$50,00 e 2 cédulas de R\$ 100,00.
(C) 11 cédulas de R\$50,00 e 4 cédulas de R\$ 100,00.
(D) 4 cédulas de R\$50,00 e 11 cédulas de R\$ 100,00.
(E) 13 cédulas de R\$100,00 e 2 cédulas de R\$ 50,00.

Questão 08

Considere os pontos A e B e suas respectivas coordenadas dadas da seguinte forma: A ($m+2n;-4$) e B ($8;2n$). Sabe-se que A e B representam o mesmo ponto do plano cartesiano. Baseando-se nessas informações, assinale a alternativa que corresponde ao produto de m por n:

- (A) - 8.
- (B) 8.
- (C) 10.
- (D) - 24.
- (E) 24.

Questão 09

O plano cartesiano é um sistema no qual podemos localizar pontos através de suas coordenadas, que são dadas por pares ordenados. Foi desenvolvido pelo filósofo e matemático francês René Descartes (1596-1650). Esse sistema de coordenadas é formado por duas retas perpendiculares, chamadas de eixos cartesianos. O plano cartesiano é dividido em quatro quadrantes. Em relação ao plano cartesiano, analise as assertivas:

I.O ponto A (5, 3) é um ponto do terceiro quadrante.

II.O eixo horizontal é conhecido também como eixo das abscissas.

III.Se $x>0$ e $y<0$, o ponto P(x,y) pertence ao 4º quadrante.

IV.Um ponto que pertence ao 2º quadrante tem valores de x e y negativos.

V.O ponto P(0,0) é o ponto em que o eixo das abscissas e ordenadas se interceptam.

Está CORRETO o que se afirma em:

- (A) II, III e V, apenas.
- (B) I, apenas.
- (C) II, apenas.
- (D) I e III e IV, apenas.
- (E) I e IV, apenas.

Questão 10

Hércules é um produtor rural e precisa comprar um caminhão para o transporte de sua produção.

Após realizar várias pesquisas, encontrou a seguinte proposta: um caminhão no valor de R\$ 250.500,00 financiado ou um desconto de 30%, se o pagamento for à vista. Como Hércules optou pelo pagamento à vista, assinale a alternativa que representa o valor pago por ele no caminhão.

- (A) R\$ 175.350,00.
- (B) R\$ 325.650,00.
- (C) R\$ 242.985,00.
- (D) R\$ 175.150,00.
- (E) R\$ 250.500,00.

Informática

Questão 11

Um usuário utiliza o MS-Excel 2016 Pt-Br para suas atividades diárias e uma das funções que mais utiliza é a de Classificar e Filtrar. Esta funcionalidade está disponível na Guia:

- (A) Página Inicial.
- (B) Layout da Página.
- (C) Revisão.
- (D) Acrobat.
- (E) Fórmulas.

Questão 12

O Google Chrome, navegador muito utilizado por milhares de usuários, traz a opção de navegação anônima. Quando o usuário utiliza a opção anônima, o navegador garante descrição em algumas atividades, com exceção de:

- (A) O Chrome não vai salvar os downloads, favoritos e itens da lista de leitura
- (B) O Chrome não vai salvar cookies e dados de sites
- (C) O Chrome não vai salvar informações inseridas em formulários
- (D) O Atalho para o Google Chrome é CTRL+SHIFT+N
- (E) O Chrome não vai salvar seu histórico de navegação

Questão 13




Durante o uso do Microsoft Word 2016 Pt-Br, Joana utiliza constantemente a combinação da

teclas Ctrl+Z (o sinal + significa apenas que as duas teclas devem ser pressionadas simultaneamente). A tecla citada tem como funcionalidade:

- (A) Salvar o documento.
- (B) Realizar uma cópia do documento.
- (C) Desfazer a última ação.
- (D) Imprimir a página.
- (E) Copiar uma palavra.

Questão 14

No Navegador Google Chrome, para conferir a segurança de um site, é possível observar tal informação próximo à URL da página. É de grande importância para o usuário verificar se há informações de segurança sobre o site que está acessando. O Chrome mostra um alerta quando não é possível visitar um site de forma segura ou particular. No Chrome, para conferir a segurança de um site, a página traz informativos ao usuário. Assinale abaixo a alternativa CORRETA:

- (A) Não existe nenhuma informação de segurança.
- (B)  Seguro
 Informações ou Não seguro
 Não seguro ou Perigoso
- (C) X - Não Recomendado
V - Aprovado
XX - Alerta Vermelho
- (D) Site Bloqueado Navegação LivreWeb em
- (E) SITE SEGURO ACESSO

Questão 15

No Windows 10 Pro, a combinação de teclas que agiliza acesso ao Gerenciador de Tarefas é:

- (A) Ctrl+Alt+Del
- (B) Ctrl+G+T
- (C) Alt+Shift+G
- (D) Tecla Windows + Del
- (E) Shift+Alt+Del

Conhecimentos Gerais

Questão 16

O aquecimento global é um fenômeno caracterizado pelo aumento das temperaturas médias da Terra, sendo esta em torno de 15° C. Isso ocorre porque gases formam uma camada que aprisiona parte do calor do Sol em nossa atmosfera. Se não fossem esses gases, a Terra seria um ambiente gelado, com temperatura média de -17° C. Esse fenômeno natural é chamado de efeito estufa e se não fosse por ele, a vida na Terra não teria tamanha diversidade.

Sobre o aquecimento global, analise as alternativas e assinale a INCORRETA:

- (A) O Brasil está entre os maiores poluidores do mundo. No estudo, que leva em consideração o desmatamento ao contabilizar a liberação de CO₂, o Brasil aparece em quarto lugar no ranking de emissões desde 1850.
- (B) Dados de 2021 confirmaram que os Estados Unidos se mantiveram em primeiro lugar no ranking dos maiores emissores de gases poluentes nos últimos 160 anos.
- (C) Os países mais pobres e que têm uma responsabilidade menor pelas emissões dos gases causadores das mudanças climáticas são os que sofrerão mais. E eles são os que têm menos dinheiro para investir em infraestrutura de adaptação aos impactos do aquecimento global.
- (D) Entre as consequências do aquecimento global, temos as transformações estruturais e sociais do planeta provocadas pelo aumento das temperaturas.
- (E) Os principais gases que formam a camada que aprisiona o calor do Sol em nossa atmosfera é o nitrogênio, carbono e oxigênio.

Questão 17

Analise as assertivas sobre o Município de Tibagi:

I.A história do município se iniciou com a chegada dos senhores escravocratas, construída pelo tropeirismo e pelo ciclo do garimpo de diamante. traços presentes na miscigenação da população que vive hoje, principalmente da agricultura e do turismo.

II. Uma das praças mais importantes da cidade, Leopoldo Mercer, já foi sede do Cemitério Municipal. A Praça tem o traçado dos pontos cardeais e, em 1996, foi construído o Monumento das águas, com desenhos em baixo relevo, retratando os ciclos da vida econômica e cultural do município.

III. Palácio do Diamante, a atual Sede da Prefeitura Municipal, foi uma casa de padres por 50 anos e é objeto de permuta entre a diocese de Ponta Grossa e o Poder Executivo desta cidade para que o prédio continue pertencendo à população tibagiana.

IV. Segundo o censo demográfico (IBGE) de 2021, a população estimada do município de Tibagi é de 30.688 habitantes.

V. A origem do município vem de seu desmembramento de Telêmaco Borba, em 27/12/1897, tendo como data de comemoração de aniversário do município o dia 18 de março.

Pode-se afirmar que:

- (A) Somente as assertivas I e II são corretas.
- (B) Todas as assertivas são corretas.
- (C) Todas as assertivas são incorretas.
- (D) Somente a assertiva V está incorreta.
- (E) Somente as assertivas I, II e III estão corretas.

Questão 18

Sobre a exploração e ocupação do Estado do Paraná, analise as assertivas abaixo:

I. A primeira fase da ocupação do território paranaense ocorreu do litoral em direção ao Terceiro Planalto. Nos primeiros anos do século XVI, a região sul ficou relegada a um plano secundário na colonização portuguesa em terras brasileiras, pois os interesses da corte estavam voltados para as zonas produtoras de cana-de-açúcar.

II. Em 1640, Gabriel de Lara fundou a vila de Paranaguá e, de acordo com os registros feitos em São Paulo, de 27 de novembro de 1649, foi o primeiro a registrar a existência de ouro na cidade.

III. O início do ciclo do ouro em Minas Gerais em nada alterou a mineração na região paranaense, levando grandes levas da população ao enriquecimento e tornando a região do Paraná ao

destaque nacional.

IV. O Arquivo Histórico Ultramarino, em Lisboa, guarda um dos mais antigos documentos cartográficos referentes à Baía de Paranaguá. A confecção desses documentos remontam o ano de 1653, e nesse mapa já aparecem mapeadas as principais minas de ouro da região.

V. A aprendizagem e a experiência adquirida com a mineração por quase um século fez do Paraná uma espécie de protótipo para que se desenvolvesse a tecnologia necessária a essa atividade, e permitiu que depois ela fosse aplicada em outras regiões.

Pode-se afirmar que:

- (A) Somente as assertivas I, II e V são corretas.
- (B) Todas as assertivas são incorretas.
- (C) Somente as assertivas I e II são corretas.
- (D) Todas as assertivas são corretas.
- (E) Somente a assertiva III está incorreta.

Questão 19

O terrorismo tem sua origem com os sicários. Estes eram grupos de judeus que lutavam contra a dominação romana da Palestina, fazendo uso de violência contra pessoas que estivessem supostamente ligadas aos romanos. Sicário significa "homem de punhal". Sobre o terrorismo, é CORRETO afirmar que:

- (A) Al Qaeda é um grupo terrorista afegão. Foi fundado em 1788, no contexto da Segunda Guerra Mundial, por Osama Bin Laden, sendo parceiro dos Estados Unidos no combate às tropas soviéticas que invadiram o país.
- (B) Os movimentos de libertação nacional dos anos 50 a 70 na África e sudeste asiático, e o terrorismo dos anos 90 e 2001 foram ações contra um inimigo invasor e opressor.
- (C) Após os ataques contra os Estados Unidos em 2001, a classificação de terrorismo foi dividida em 4: Terrorismo revolucionário, Terrorismo nacionalista, Terrorismo de Estado e Terrorismo de organizações criminosas.
- (D) Apesar das sucessivas vitórias militares, Israel mantém suas dimensões territoriais tal como estabelecido pela resolução de 1947, aprovada pela ONU.

- (E) Os conflitos entre os norte-americanos e os islâmicos fundamentalistas têm suas raízes na pretensão da ONU de organizar, no Islão, um Estado centralizado, nos moldes do Estado de Israel.

Questão 20

Em 1912, José Maria, um beato e curandeiro de ervas, liderou um movimento de sertanejos entre os estados do Paraná e Santa Catarina, o Contestado, que persistiu até ser esmagado violentamente em 1916 por tropas governamentais. Sobre o Contestado, é **CORRETO** afirmar:

- (A) O movimento promoveu a ocupação de terras e lutou contra o apoio do governo republicano às madeireiras e às companhias de colonização.
- (B) Apesar do cunho contestatório, a simpatia para com a República é uma característica continuamente presente no movimento do Contestado.
- (C) A "Guerra do Contestado" chegou ao fim por meio de um acordo entre os governos federais e estaduais e as lideranças do movimento, no qual foram assegurados os direitos de propriedade aos rebeldes.
- (D) A exploração das terras do Contestado pela Brazil Railway contribuiu para a integração e crescimento econômico da região, gerando emprego e renda para todos os caboclos e sertanejos do Contestado.
- (E) Os sertanejos do Contestado não chegaram a entrar em conflito armado com as forças legais, tendo em vista os acordos sobre a concessão de terras aos posseiros, legitimados pelo governo federal.

Conhecimentos Específicos

Questão 21

De acordo com o Pronunciamento Contábil nº 16 (Estoques), o critério PEPS pressupõe que os itens de estoque que foram comprados ou produzidos primeiro sejam vendidos em primeiro lugar e, conseqüentemente, os itens que permanecerem em estoque no fim do período sejam os mais recentemente comprados ou produzidos.

Neste contexto, supondo que você é o

responsável pelo controle de estoque da empresa Tibagi Alimentos Ltda, o estoque é controlado pelo método PEPS e, em abril de 2021, ocorreram as seguintes operações:

- Saldo anterior em 30/03/2021 - 5.000 caixas ao preço unitário de R\$ 2,00.
- 02/04/2021 - aquisição de 3.000 caixas ao preço unitário de R\$ 1,20.
- 05/04/2021 - aquisição de 2.000 caixas ao preço unitário de R\$ 2,00.
- 13/04/2021 - venda de 4.000 caixas.
- 18/04/2021 - aquisição de 2.000 caixas ao preço unitário de R\$ 1,80.
- 19/04/2021 - venda de 1.000 caixas.
- 24/04/2021 - aquisição de 5.000 caixas ao preço unitário de R\$ 1,65.
- 28/04/2021 - venda de 8.000 caixas.

A partir dos dados apresentados, assinale a alternativa **CORRETA**:

- (A) O Custo Da Mercadoria Vendida (CMV) foi de R\$ 15.000,00.
- (B) O estoque final foi de R\$ 6.000,00.
- (C) O preço unitário do saldo final do estoque foi de R\$ 1,80.
- (D) O Custo Da Mercadoria Vendida (CMV) foi de 10.000 unidades.
- (E) O total de compras foi de R\$ 19.450,00.

Questão 22

De acordo com o CPC 16 (R1) - Estoques, pelo critério do custo médio ponderado, o custo de cada item é determinado a partir da média ponderada do custo de itens semelhantes no começo de um período e do custo dos mesmos itens comprados ou produzidos durante o período. A média pode ser determinada em base periódica ou à medida que cada lote seja recebido, dependendo das circunstâncias da entidade.

O sr. Everaldo é encarregado pelo departamento de estoques da empresa HGM gêneros alimentícios LTDA. Sabe-se que tal empresa adota o critério de custo médio ponderado e em junho de 2020 realizou as seguintes operações:

- Saldo anterior em 30/05/2020 - 2.000 unidades ao

preço unitário de R\$ 2,00.

-04/06/2020 - compra de 2.000 unidades ao preço unitário de R\$ 2,40.

-12/06/2020 - venda de 1.000 unidades.

-19/06/2020 - venda de 2.000 unidades.

-27/06/2020 - compra de 4.000 unidades ao preço unitário de R\$ 2,80.

A partir dos dados apresentados, assinale a alternativa CORRETA:

- (A) O Custo Da Mercadoria Vendida (CMV) foi de R\$ 6.600,00.
- (B) O total de saídas foi de R\$ 6.400,00.
- (C) O estoque final foi de 4.500 unidades.
- (D) O preço unitário final foi de R\$ 2,58.
- (E) O Custo Da Mercadoria Vendida (CMV) foi de 2.500 unidades.

Questão 23

No dia 12 de maio de 2022, a empresa Brasil Comércio Ltda. recebeu um aviso bancário do Banco Paraná S/A, informando que as duplicatas que estavam em seu poder para recebimento foram liquidadas no dia 31/04/2022. Na ocasião, o valor dos juros apropriados na conta Empréstimos a Pagar - Desconto de Duplicatas foi de R\$2.000,00.

Na operação junto ao Banco Paraná S/A, não houve a transferência dos riscos e benefícios da propriedade. Logo, o lançamento contábil dos juros pagos pela Brasil Comércio Ltda. será de:

- (A) D - Juros Ativos a Vencer
C - Bancos Conta Movimento
- (B) D - Bancos conta Movimento
C - Juros Passivos a Vencer
- (C) D - Despesas de Juros
C - Duplicatas Descontadas
- (D) D - Juros Passivos
C - Juros Passivos a Vencer
- (E) D - Juros Ativos a Vencer
C - Juros Passivos

Questão 24

De acordo com o CPC 02 (R2) - Efeitos das Mudanças nas Taxas de Câmbio e Conversão de Demonstrações Contábeis - Uma entidade pode

manter atividades em moeda estrangeira de duas formas. Ela pode ter transações em moedas estrangeiras ou pode ter operações no exterior. Adicionalmente, a entidade pode apresentar suas demonstrações contábeis em uma moeda estrangeira. O objetivo deste Pronunciamento Técnico é orientar acerca de como incluir transações em moeda estrangeira e operações no exterior nas demonstrações contábeis da entidade e como converter demonstrações contábeis para moeda de apresentação.

Determinada empresa brasileira do setor agrário contraiu, junto ao Banco Norte-Americano S/A, um empréstimo, em dólar, a fim de adquirir maquinários e implementos agrícolas diretamente da China. O valor do empréstimo concedido pela Norte-Americano S/A foi de \$50.000,00, em 15 de janeiro de 2020, para ser quitado em outubro do mesmo ano. O dólar apurado nesta operação estava cotado a \$2,70 e o valor da dívida nessa data foi estimada em R\$135.000,00. Em outubro, ao realizar o pagamento, via banco, constatou-se uma desvalorização do real em relação ao dólar cotado a \$3,60. Dessa forma, o valor do empréstimo passou para R\$180.000,00, havendo uma variação cambial de R\$45.000,00.

Em consonância com pronunciamento contábil nº 02, os lançamentos contábeis referentes ao pagamento do empréstimo registrado na empresa foram:

- (A) D - Variação Cambial Ativa R\$135.000,00
D - Financiamento a Pagar R\$45.000,00
C - Bancos Conta Movimento R\$180.000,00
- (B) D - Financiamentos R\$180.000,00
C - Bancos Conta Movimento R\$180.000,00
- (C) D - Financiamentos a Pagar R\$135.000,00
D - Variação Cambial Passiva R\$45.000,00
C - Bancos Conta Movimento R\$180.000,00
- (D) D - Bancos Conta Movimento R\$135.000,00
D - Variação Cambial Ativa R\$45.000,00
C - Financiamento a Pagar R\$180.000,00
- (E) D - Bancos Conta Movimento R\$180.000,00
C - Financiamentos a Pagar R\$180.000,00

Questão 25

A Demonstração do Resultado, também conhecida como DR, é um demonstrativo contábil cujo objetivo é detalhar a formação do resultado

líquido de determinado período através da confrontação das receitas, custos e despesas de uma entidade, apuradas segundo o regime de competência. Resumidamente, tal demonstrativo evidencia as receitas e as despesas decorrentes das operações realizadas pela entidade, durante o exercício social, com o objetivo de demonstrar a composição do resultado líquido do período.

Neste contexto, em consonância com o CPC 26 (R1) - Apresentação das Demonstrações, considere as assertivas a seguir:

I. Na DR, o lucro bruto é resultado da dedução dos custos dos produtos vendidos da receita líquida de venda.

II. Na elaboração da DR, as receitas e as despesas devem ser apropriadas ao resultado do período em função de sua incorrência e da vinculação da despesa à receita, independentemente de seus reflexos nas disponibilidades.

III. O valor da receita líquida das vendas é apurado antes do valor do lucro bruto.

IV. A DR evidencia que, para a apuração do lucro bruto, deve-se fazer a subtração das despesas financeiras e a adição das receitas financeiras.

Estão CORRETAS as assertivas:

- (A) I e IV, apenas.
- (B) I, III e IV, apenas.
- (C) II, III e IV, apenas.
- (D) I, II e III, apenas.
- (E) I, II e IV, apenas.

Questão 26

O patrimônio líquido corresponde à riqueza de uma empresa, aquilo que realmente pertence aos seus acionistas. Em termos mais técnicos, é um indicador contábil que representa a diferença entre o ativo e o passivo da organização. Neste contexto, o CPC 26 (R1) - Apresentação das demonstrações contábeis, esclarece que o patrimônio líquido deve apresentar o capital social, as reservas de capital, os ajustes de avaliação patrimonial, as reservas de lucros, as ações ou quotas em tesouraria, os prejuízos acumulados, se legalmente admitidos os lucros acumulados e as demais contas exigidas pelos Pronunciamentos Técnicos.

Em dezembro de 2021, a empresa Santos &

Oliveira Ltda, registrou as seguintes movimentações ocorridas em seu patrimônio líquido:

1. Aumento de capital com subscrição em dinheiro no valor de R\$ 20.000,00.
2. Lucro líquido do exercício auferido em 2021 na quantia de R\$ 15.000,00.
3. Reversão de reservas de lucros no valor de R\$ 2.000,00.
4. Distribuição de dividendos no valor de R\$ 11.000,00.
5. Constituição de reservas de lucros no valor de R\$ 6.000,00.
6. Aumento de capital, utilizando-se o valor de reservas e lucros da própria empresa no valor de R\$ 25.000,00.
7. Registro de receitas do ano de 2020, que, por equívoco, não foram lançadas no período correto, no valor de R\$ 3.000,00.

Com base nos dados apresentados, é possível evidenciar que a variação no saldo do patrimônio líquido foi de:

- (A) R\$ 24.000,00.
- (B) R\$ 30.000,00.
- (C) R\$ 27.000,00.
- (D) R\$ 21.000,00.
- (E) R\$ 33.000,00.

Questão 27

No final do exercício social de 2019, o contador da empresa LSA Ltda., ao preparar os documentos contábeis e demais papéis de trabalho para o encerramento do exercício e evidenciação das demonstrações contábeis obrigatórias, identificou as seguintes movimentações ocorridas no patrimônio líquido da empresa:

1. Apuração do resultado do período com a obtenção de lucro líquido na quantia de R\$ 300.000,00.
2. Distribuição de dividendos no valor de R\$ 75.000,00.
3. Constituição de reserva legal no valor de R\$ 10.000,00.
4. Constituição de reserva estatutária no valor de

R\$ 30.000,00.

5. Constituição de reserva de contingências no valor de R\$ 15.000,00.

6. Aumento de capital social no valor total de R\$ 120.000,00, sendo integralizado da seguinte forma: R\$ 50.000,00 com reserva de retenção e R\$ 70.000,00 por meio de equipamentos de informática que serão utilizados na empresa.

Com base nas informações supracitadas, após a elaboração da DMPL, é possível evidenciar que ocorreu um aumento no patrimônio líquido inicial da empresa, no valor total de:

- (A) R\$ 320.000,00.
- (B) R\$ 295.000,00.
- (C) R\$ 225.000,00.
- (D) R\$ 310.000,00.
- (E) R\$ 300.000,00.

Questão 28

De acordo com o Pronunciamento Contábil nº 27, os ativos imobilizados podem ser classificados conforme suas especificidades, pois são bens de características bastantes variadas, indo desde terrenos até computadores. Assim, o ativo imobilizado faz parte dos ativos não circulantes e trata-se de um grupo de ativos em que são classificadas as contas representadas pelos bens em uso da empresa e que correspondem aos bens utilizados para desenvolver suas atividades.

Neste contexto, conforme o CPC nº 27 (Ativo Imobilizado), são exemplos de custos diretamente atribuíveis ao ativo imobilizado, EXCETO:

- (A) Custos de preparação do local.
- (B) Custos de frete e de manuseio.
- (C) Custos de benefícios aos empregados decorrentes diretamente da aquisição do ativo imobilizado.
- (D) Custos de instalação e montagem.
- (E) Custos de abertura de nova instalação.

Questão 29

De acordo com o CPC nº 27 - Ativo Imobilizado, após o reconhecimento, o item do ativo imobilizado cujo valor justo possa ser mensurado confiavelmente pode ser apresentado pelo seu valor reavaliado, correspondente ao seu valor justo à data da reavaliação menos qualquer depreciação e perda por redução ao valor

recuperável acumuladas subsequentes. A reavaliação deve ser realizada com suficiente regularidade para assegurar que o valor contábil do ativo não apresente divergência relevante em relação ao seu valor justo na data do balanço.

Sobre a forma correta de lançamento de uma reavaliação de imobilizado, analise as assertivas a seguir marcando verdadeiro (V) ou falso (F):

- () Debitando a conta do bem reavaliado.
- () Creditando na conta do patrimônio líquido.
- () Creditando a conta do bem reavaliado.
- () Debitando na conta ajuste de avaliação do PL.

Assinale a alternativa com a sequência CORRETA:

- (A) V, F, V, F.
- (B) V, V, F, V.
- (C) V, V, V, F.
- (D) V, V, F, F.
- (E) F, F, F, V.

Questão 30

As políticas contábeis adotadas pelas entidades podem ser alteradas conforme o julgamento do administrador ou por imposição normativa. Essa mudança deve ser realizada de forma retrospectiva, visando a garantir a comparabilidade da informação contábil, a não ser que existam regras transitórias. As estimativas fazem parte das práticas contábeis, envolvendo um nível de incerteza em relação às operações empresariais, podendo ser alteradas também. A mudança de política ou estimativa não representa um erro contábil, pois este é uma inconsistência de informações que demanda correção.

Neste contexto, o Pronunciamento Contábil nº 23 - Políticas contábeis, mudança de estimativa e retificação de erro - apresenta algumas definições importantes para a aplicação da norma.

Sobre essas definições, analise as assertivas a seguir e assinale a CORRETA:

I. As estimativas contábeis compreendem os princípios, as bases, as convenções, as regras e as práticas específicas adotados pela entidade na elaboração e na apresentação de demonstrações contábeis.

II. A mudança na política contábil é um ajuste nos saldos contábeis de ativo ou de passivo, ou nos montantes referentes ao consumo periódico de ativo decorrente da avaliação da situação atual e das obrigações e dos benefícios futuros esperados associados aos ativos e passivos.

III. Os erros de períodos anteriores correspondem a omissões e incorreções nas demonstrações contábeis da entidade de um ou mais períodos passados, resultantes da falta de uso e da utilização incorreta de informação confiável.

IV. A aplicação retrospectiva se refere a períodos passados e a aplicação prospectiva abrange períodos correntes e futuros.

- (A) Apenas I e IV estão corretas.
- (B) Apenas I, III e IV estão corretas.
- (C) Apenas II e III estão corretas.
- (D) Apenas I, II e III estão corretas.
- (E) Apenas III e IV estão corretas.

Questão 31

O Pronunciamento Contábil nº 23 - Políticas contábeis, mudança de estimativa e retificação de erro - visa a estabelecer critérios para a seleção e a aplicação das políticas contábeis, o método e a divulgação da mudança nas políticas contábeis e a retificação de erro. Dessa forma, as demonstrações contábeis da entidade se tornam mais relevantes e confiáveis, podendo ser comparadas ao longo do tempo com as demonstrações contábeis de outras entidades. De acordo com o CPC 23, os "erros de períodos anteriores são omissões e incorreções nas demonstrações contábeis da entidade de um ou mais períodos anteriores decorrentes da falta de uso, ou uso incorreto, de informação confiável".

Em relação à retificação de erro, é CORRETO afirmar que:

- (A) A correção de erros imateriais involuntários de períodos passados deve ser realizada de forma retrospectiva.
- (B) A retificação de erros do período corrente deve ser realizada depois de autorizada a publicação das demonstrações contábeis.
- (C) A retificação de erros imateriais intencionais de períodos passados deve ser realizada de forma prospectiva.

(D) A retificação de erros de períodos anteriores deve ser prospectiva quando a reapresentação retrospectiva for impraticável.

(E) A correção de erros materiais de períodos passados deve ser realizada de forma prospectiva.

Questão 32

De acordo com o CPC 01 (R1) Redução ao Valor Recuperável de Ativos - o teste de recuperabilidade pretende evitar que um ativo seja registrado com um valor maior que o valor recuperável. Assim, esse teste buscará uma forma de verificar se o ativo não está sendo desvalorizado em relação ao seu valor real. Com base na breve definição apresentada sobre teste de recuperabilidade, analise as assertivas a seguir:

I. Todos os bens e direitos do ativo estão sujeitos ao teste de recuperabilidade.

II. Apenas os bens estão sujeitos ao teste de recuperabilidade.

III. Os direitos não estão sujeitos ao teste de recuperabilidade.

IV. Os estoques não estão sujeitos ao teste de recuperabilidade.

Analisando as afirmativas apresentadas, assinale a alternativa CORRETA:

- (A) Apenas a afirmativa III está correta.
- (B) Apenas as afirmativas II e III estão corretas.
- (C) Apenas a afirmativa II está correta.
- (D) Apenas a afirmativa IV está correta.
- (E) Apenas a afirmativa I está correta.

Questão 33

Em janeiro de 2022, a indústria Ferros & Latas Ltda. apresentou as seguintes informações patrimoniais:

-Ativo circulante: R\$ 24.000,00

-Ativo realizável a longo prazo: R\$ 26.000,00

-Estoques: R\$ 9.000,00

-Disponível: R\$ 3.000,00

-Passivo circulante: R\$ 18.000,00

-Passivo não circulante: R\$ 32.000,00

Com base nas informações apresentadas, analise

as afirmações a seguir:

- I. A liquidez corrente é de 0,83.
- II. A liquidez imediata é de 0,17.
- III. A liquidez seca é de 1,33.
- IV. A liquidez geral é de 1,00.

Estão CORRETAS as assertivas:

- (A) II e IV, apenas.
- (B) I e III, apenas.
- (C) II e III, apenas.
- (D) I e II, apenas.
- (E) I e IV, apenas.

Questão 34

Os indicadores de liquidez são índices financeiros utilizados para verificar como está o crédito da empresa, sua capacidade monetária para cumprir com as obrigações compreendidas no passivo circulante. Portanto, são índices extremamente importantes para acompanhar a saúde financeira da empresa. Neste contexto, considere que em fevereiro de 2022, determinada empresa apresentou as seguintes informações:

- Liquidez imediata de 0,50
- Liquidez corrente de 1,0
- Liquidez seca de 0,80

No período, a empresa apresentou um passivo circulante no valor de R\$ 48.000,00 e não divulgou as despesas pagas antecipadamente no período. Calcule o valor dos estoques em fevereiro de 2022:

- (A) R\$ 24.000,00.
- (B) R\$ 48.000,00.
- (C) R\$ 86.400,00.
- (D) R\$ 9.600,00.
- (E) R\$ 33.600,00.

Questão 35

A Indústria de Móveis Madeira Ltda, produz um único produto e apresentou o seguinte balanço patrimonial e Demonstração do Resultado em 31 de dezembro de 2019:

BALANÇO PATRIMONIAL		
	12/31/2019	12/31/2018
Ativo circulante	5.196.406	3.877.418
Caixa	270.650	224.750
Bancos Conta Movimento	1.029.076	870.108
Estoques	3.014.440	2.264.860
Duplicatas a receber	882.260	517.700
Ativo não circulante	9.035.880	5.580.000
Imobilizado	9.035.880	5.580.000
Móveis e utensílios	3.100.000	3.100.000
Máquinas e equipamentos	8.060.000	3.720.000
(-) Depreciação acumulada	(2.124.120)	(1.240.000)
Total Ativo	14.232.286	9.457.418
Passivo circulante	2.196.062	1.644.860
Fornecedores	1.324.320	1.644.860
Impostos a recolher	871.742	-
Passivo não circulante	2.531.460	-
Empréstimos bancários	2.531.460	-
Patrimônio líquido	9.504.764	7.812.558
Capital Social	5.952.000	5.952.000
Reservas de Lucros	3.552.764	1.860.558
Total Passivo + Patrimônio líquido	14.232.286	9.457.418

DEMONSTRAÇÃO DO RESULTADO DO EXERCÍCIO	
	12/31/2019
Receita operacional líquida	8.841.200
(-) Custo das mercadorias vendidas	(3.536.480)
(=) Resultado bruto	5.304.720
(-) Despesas com depreciação	(884.120)
(-) Despesa com pessoal	(1.414.592)
(-) Despesa com aluguel	(442.060)
= Resultado antes do Imposto de Renda e Contribuição Social	2.563.948
(-) Despesa com IR e CSLL	(871.742)
(=) Lucro líquido do exercício	1.692.206

Considerando os dados apresentados e levando em consideração que houve compras no período no valor de R\$ 2.400.000, pode-se afirmar que a Indústria de Móveis Madeira Ltda:

- (A) Demora, em média, 260 dias para fabricar seu único produto.

- (B) Demora, em média, 230 dias para fabricar seu único produto.
- (C) Espera, em média, 29 dias para receber pelas vendas realizadas.
- (D) Demora, em média, 220 dias para pagar seus fornecedores.
- (E) Espera, em média, 69 dias para receber pelas vendas realizadas.

Questão 36

Em 31 de dezembro de 201, a indústria ABC Ltda. divulgou as seguintes informações:

Receita operacional líquida - R\$ 726.000,00

Custo das mercadorias vendidas - R\$ 288.000,00

Estoque médio anual - R\$ 44.000,00

Fornecedores a pagar (médio) - R\$ 147.000,00

Compras anuais - R\$ 245.000,00

Com base nas informações apresentadas, pode-se afirmar que o tempo médio de renovação dos estoques da indústria ABC Ltda. é de:

- (A) 1 mês.
- (B) 5 meses e 5 dias.
- (C) 2 meses.
- (D) 21 dias.
- (E) 1 mês e 25 dias.

Questão 37

A empresa Brasil Locações Ltda. apresentou as seguintes informações referentes aos seus exercícios sociais de 2020 e 2021:

Balanco Patrimonial	2020	2021
Ativo circulante	R\$ 90.000,00	R\$ 85.000,00
Ativo não circulante	R\$ 60.000,00	R\$ 90.000,00
Passivo circulante	R\$ 60.000,00	R\$ 100.000,00
Passivo não circulante	R\$ 40.000,00	R\$ 25.000,00
Patrimônio líquido	R\$ 50.000,00	R\$ 50.000,00

Analisando os dados supracitados, assinale a alternativa que representa o capital de giro da empresa nos dois anos:

- (A) O capital de giro líquido da Múltipla foi de R\$ 15.000,00 (negativo) em 2020 e de R\$ 15.000,00 (negativo), em 2021.

- (B) O capital de giro líquido da Múltipla foi de R\$ 30.000,00 (positivo) em 2020 e de R\$ 15.000,00 (negativo), em 2021.

- (C) O capital de giro líquido da Múltipla foi de R\$ 30.000,00 (positivo) em 2020 e de R\$ 25.000,00 (negativo), em 2021.

- (D) O capital de giro líquido da Múltipla foi de R\$ 30.000,00 (negativo) em 2020 e de R\$ 25.000,00 (positivo), em 2021.

- (E) O capital de giro líquido da Múltipla foi de R\$ 30.000,00 (negativo) em 2020 e de R\$ 15.000,00 (positivo), em 2021.

Questão 38

Orçamento público é um plano governamental que se renova a cada ano, envolvendo os interesses da população em geral, independentemente de classe social, além dos interesses dos setores produtivos do país, como a agricultura, a indústria e os serviços. Atualmente, o orçamento deixou de ser mero documento de caráter contábil e administrativo, para espelhar toda a vida econômica da sociedade, constituindo-se em um importante instrumento dinâmico do estado a orientar sua atuação sobre a economia.

Considerando as características do orçamento público, analise as afirmativas a seguir:

I. Funciona como um plano para ordenar e coordenar o funcionamento estatal, direcionando e dando previsibilidade às ações governamentais.

II. O particular não detém condições de tomar decisões, haja vista que o orçamento público tem um caráter sigiloso, devendo seu controle e seu acompanhamento serem feitos pelo respectivo órgão público.

III. É um instrumento hábil que produz influências na economia e na sociedade, conforme os interesses e as ações do poder público.

IV. É um mecanismo utilizado para organizar as receitas e despesas públicas, que são considerados meios para a concretização dos planos governamentais.

Assinale a alternativa com as assertivas CORRETAS:

- (A) I, II e III, apenas.
- (B) I, III e IV, apenas.
- (C) I, II e IV, apenas.
- (D) II, III e IV, apenas.
- (E) I, II, III e IV.

Questão 39

O ciclo orçamentário é o conjunto de etapas que são efetuadas para que ocorra a efetivação do orçamento público. Assim, não podemos considerar o orçamento uma programação financeira de um ano apenas, apesar de ser este o prazo de vigência da lei orçamentária. Isso porque ele é afetado pelo orçamento do ano anterior e influencia o orçamento do ano seguinte, criando uma sequência ininterrupta de programas que se ajustam constantemente de acordo com as necessidades públicas e conforme as políticas estabelecidas por cada governante.

Considerando as etapas do ciclo orçamentário, analise o rol listado a seguir:

- Controle da execução do orçamento e parecer final sobre as contas por parte do Tribunal de Contas.
- Proposta do Poder Executivo, sob a supervisão política do presidente da República.
- Julgamento das contas pelo Congresso Nacional, podendo rejeitá-las ou aprová-las.
- Sanção pelo presidente da República.
- Discussão e aprovação do projeto no Congresso Nacional.

Assinale a alternativa que contenha a ordem CORRETA do ciclo orçamentário:

- (A) 4, 1, 5, 3, 2.
- (B) 4, 1, 2, 5, 3.
- (C) 4, 1, 3, 5, 2.
- (D) 5, 1, 4, 3, 2.
- (E) 5, 1, 3, 2, 4.

Questão 40

O Orçamento Público é o instrumento de gestão de maior relevância e provavelmente o mais antigo da administração pública. É um instrumento que os governos usam para organizar os seus recursos financeiros. Partindo

da intenção inicial de controle, o orçamento público tem evoluído e vem incorporando novas instrumentalidades, tais como o Plano Plurianual e Lei de diretrizes Orçamentárias, apresentados na Constituição Federal de 1988.

Considerando as características do orçamento público, analise as assertivas a seguir:

I. Os orçamentos fiscais e da seguridade social serão utilizados para programas de distribuição de renda, a fim de erradicar a desigualdade inter-regional, no prazo de até 10 anos da elaboração da CF/88.

II. O projeto do plano plurianual, para vigência até o final do primeiro exercício financeiro do mandato presidencial subsequente, será encaminhado até quatro meses antes do encerramento do primeiro exercício financeiro e devolvido para sanção até o encerramento da sessão legislativa.

III. O projeto de lei de diretrizes orçamentárias será encaminhado até oito meses e meio antes do encerramento do exercício financeiro e devolvido para sanção até o encerramento do primeiro período da sessão legislativa.

IV. O projeto de lei orçamentária da União será encaminhado até quatro meses antes do encerramento do exercício financeiro e devolvido para sanção até o encerramento da sessão legislativa.

Assinale a alternativa que apresenta as assertivas CORRETAS:

- (A) I, II e III, apenas.
- (B) I, III e IV, apenas.
- (C) II, III e IV, apenas.
- (D) I, II e IV, apenas.
- (E) II e IV, apenas.