

LÍNGUA PORTUGUESA

78% dos brasileiros temem desenvolver Alzheimer, aponta estudo

Uma pesquisa publicada pela Alzheimer's Disease International (ADI) -- uma federação de associações que trabalham na conscientização, no combate à doença e no apoio a pacientes e famílias -- aponta que 78% dos brasileiros estão preocupados quanto a desenvolver demência em algum momento e 95% dos participantes acreditam que irão desenvolver demência durante algum momento da vida.

Além disso, uma em cada quatro pessoas acredita que não há nada que se possa fazer em relação à demência. Mais de 85% dos entrevistados que vivem com demência afirmam que sua opinião não é levada a sério e cerca de 20% dos entrevistados manteriam em segredo seu diagnóstico.

Uma questão muito recorrente é que a maioria das pessoas não vê a demência como uma doença, mas, sim, como uma consequência normal do envelhecimento. Para a médica geriatra Aishá Wenzinger, ainda existe um grande "estigma" sobre as pessoas com Alzheimer.

De acordo com ela, ainda existe a ideia de que as pessoas que vivem com a doença são 'um peso para a família', ou para o sistema de saúde, e que são pessoas 'sem esperança' ou incapazes de falar por si mesmas.

Para reduzir esse estigma, as estratégias mais eficazes -- ressalta a médica geriatra -- têm sido oferecer educação especializada sobre a demência; ter contato social com pessoas que vivem com demência; defender publicamente os direitos dessas pessoas e criar políticas públicas para essas pessoas.

Fonte: Renato Barcellos, da CNN. Disponível no endereço eletrônico: <https://www.cnnbrasil.com.br/saude/2021/07/09/78-dos-brasileiros-temem-desenvolver-alzheimer-aponta-estudo> Acesso em 09 de julho de 2021.

01) Assinale a alternativa INCORRETA de acordo com as informações presentes no texto:

- (A) A maioria das pessoas consideram a demência uma consequência normal do envelhecimento.
- (B) Na opinião da médica geriatra Aishá Wenzinger existem estratégias para reduzir o estigma existente sobre as pessoas portadoras de Alzheimer.
- (C) Mais da metade dos brasileiros temem

desenvolver Alzheimer segundo a pesquisa citada no texto.

(D) Para reduzir o risco de demência pode-se, entre outras estratégias, oferecer educação especializada e ter contato social com pessoas que vivem com demência.

(E) A maioria das pessoas que vivem com demência acredita que sua opinião não é levada a sério.

02) Assinale a alternativa cuja palavra seja acentuada pela mesma regra da palavra públicas:

- (A) Demência.
- (B) Saúde.
- (C) Diagnóstico.
- (D) Têm.
- (E) Consequência.

03) Assinale a alternativa que NÃO apresente um sinônimo para o termo em destaque no período, uma questão muito recorrente é que a maioria das pessoas não vê a demência como uma doença, mas, sim, como uma consequência normal do envelhecimento:

- (A) relativa.
- (B) habitual.
- (C) costumeira.
- (D) usual.
- (E) comum.

04) Assinale a alternativa cujo termo em destaque no trecho seja um pronome indefinido:

- (A) Para reduzir esse estigma...
- (B) ... que sua opinião não é levada a sério...
- (C) ...manteriam em segredo seu diagnóstico.
- (D) ...criar políticas públicas para essas pessoas.
- (E) ... em algum momento...

05) Assinale a alternativa que apresente o sujeito e justifique a concordância verbal da forma têm no último parágrafo do texto:

- (A) estigma.
- (B) estratégias.
- (C) médica.
- (D) pessoas.
- (E) direitos.

MATEMÁTICA/RACIOCÍNIO LÓGICO

06) No vôlei de praia as duplas trocam de lado

da quadra a cada 7 pontos disputados. Se em uma partida um set (atingir 21 pontos com pelo menos dois pontos de vantagem em relação ao adversário) teve o placar de 21 a 16, a quantidade de vezes em que trocaram o lado da quadra foi de:

- (A) 3.
- (B) 4.
- (C) 5.
- (D) 6.
- (E) 7.

07) Na comunidade de Berk existem 2800 pessoas aptas a serem vacinadas contra uma determinada variação de gripe. Após uma semana de campanha já vacinou 1750 pessoas deste grupo. Percentualmente ainda faltam para serem vacinados um total de:

- (A) 37,50%.
- (B) 42,50%.
- (C) 32,50%.
- (D) 47,50%.
- (E) 63,75%.

08) A soma das faces opostas de um dado (cubo com suas faces numeradas de 1 a 6) sempre somam o mesmo valor que igual a 7. Se nas faces superiores de três dados lançados sobre uma mesa aparecem os números 3, 5 e 4, se multiplicarmos os números que estão nas faces opostas destes três dados vamos obter como resposta um valor igual a:

- (A) 28.
- (B) 16.
- (C) 20.
- (D) 24.
- (E) 12.

09) Para se deslocar da cidade A para a cidade B existem três praças de pedágio. Os valores cobrados são R\$ 9,60; R\$ 15,30 e R\$ 13,40. Se um vendedor precisa percorrer esta distância entre as cidades 5 vezes ao mês (ida e volta). Qual o valor gasto com pedágio por mês neste trajeto?

- (A) R\$ 360,00.
- (B) R\$ 180,00.
- (C) R\$ 256,00.
- (D) R\$ 415,00.
- (E) R\$ 383,00.

10) Um pintor utilizou 18 litros de tinta para pintar uma área de 216 metros quadrados. Foi solicitado que pintasse uma outra área com

43,2 metros quadrados com características similares as do primeiro trabalho, se usar como a base a quantidade de tinta gasta neste primeiro trabalho, vai precisar de quantos litros para pintar esta outra área:

- (A) 2 litros.
- (B) 1,2 litros.
- (C) 4,5 litros.
- (D) 3,6 litros.
- (E) 4,2 litros.

CONHECIMENTOS GERAIS/ATUALIDADES

11) Um reality show é um tipo de programa de televisão que faz sucesso no Brasil. Qual o reality show de maior média de audiência na televisão aberta brasileira em 2020? Assinale a alternativa correta:

- (A) Esquadrão da Moda.
- (B) Casa dos Artistas.
- (C) A Fazenda.
- (D) Big Brother Brasil.
- (E) Irmãos a obra.

12) Qual das mulheres paranaenses abaixo foi atleta olímpica? Assinale a alternativa correta:

- (A) Natália Falavigna.
- (B) Graciela Inês Bolzon De Muniz.
- (C) Leda de Oliveira Pinto.
- (D) Márcia Regina Munaro Pepino.
- (E) Elisabete França.

13) Qual das personalidades políticas abaixo foi juiz federal ligado à operação Lava Jato, para depois ocupar um cargo no executivo federal? Assinale a alternativa correta:

- (A) Marcos Pontes.
- (B) Sérgio Moro.
- (C) Ricardo Velez.
- (D) Abraham Weintraub.
- (E) Ricardo Salles.

14) O local onde fica o município de Lidianópolis nem sempre teve este nome. Em que ano o nome da localidade se transformou oficialmente de Ubá do Sul para Lidianópolis? Assinale a alternativa correta:

- (A) 1889.
- (B) 1964.
- (C) 1979.
- (D) 1908.
- (E) 1992.

15) De qual dos municípios abaixo

Lidianópolis foi desmembrada na década de 1990? Assinale a alternativa correta:

- (A) Pitanga.
- (B) Campo Mourão.
- (C) Jardim Alegre.
- (D) Turvo.
- (E) Maringá.

CONHECIMENTOS ESPECÍFICOS

16) Neste modelo de rolo compactador:



Há aproximadamente quantos pontos de engaxe?

- (A) Menos de 4 pontos.
- (B) Entre 22 e 31 pontos.
- (C) Entre 12 e 21 pontos.
- (D) Mais de 32 pontos.
- (E) Entre 5 e 10 pontos.

17) Hipoteticamente trabalhando pela prefeitura você foi designado a enterrar um cavalo, qual dos seguintes maquinários é o mais eficiente a realizar tal função?

- (A) Pá carregadeira.
- (B) Retroescavadeira.
- (C) Trator bob cat.
- (D) Trator esteira.
- (E) Motoniveladora.

18) Compare as seguintes alternativas e indique a que tem maior capacidade em termos volumétricos:

- (A) Concha traseira da retroescavadeira.
- (B) Concha dianteira da retroescavadeira.
- (C) Concha da pá carregadeira.
- (D) Concha da escavadeira hidráulica.
- (E) Concha do trator bobcat.

19) Nos maquinários da prefeitura, a manutenção preventiva (engraxe, conferência






de óleos e água de arrefecimento) deve ser realizada:

- (A) Diariamente.
- (B) Semanalmente.
- (C) Mensalmente.
- (D) Semestralmente.
- (E) Anualmente.

20) A faixa ideal de trabalho, que vai de 1.100 a 1.600 RPM, onde o consumo de óleo diesel é moderado, recebe a definição de:

- (A) Faixa de torque.
- (B) Faixa de Perigo.
- (C) Faixa de Potência.
- (D) Faixa de Marcha Lenta.
- (E) Faixa longitudinal.

21) Qual dos seguintes símbolos indica ao condutor/operador de máquinas a obrigatoriedade de seguir em frente?

- (A) 
- (B) 
- (C) 
- (D) 
- (E) 

22) Analise:

Conduzir combinação de veículos em que a unidade tratora se enquadre nas categorias B, C ou D e cuja unidade acoplada, reboque, semirreboque, trailer ou articulada tenha 6.000 kg (seis mil quilogramas) ou mais de peso bruto, ou cuja lotação exceda a 8 (oito) lugares, equivale à habilitação na categoria:

- (A) A.
- (B) E.
- (C) F.
- (D) G.
- (E) H.

23) Produzido pela queima de qualquer produto orgânico e também no processo de respiração de animais e vegetais, O dióxido de carbono:

- (A) Causa irritação do aparelho respiratório e provoca ou agrava tosse, bronquite, asma e outras mazelas do aparelho respiratório.
- (B) É um gás letal que mata por asfixia química, impedindo o oxigênio de chegar às células.
- (C) Ao escapar para o meio ambiente, causa uma reação em cadeia, destruindo parte da camada de ozônio.
- (D) Apesar de não ser tóxico, o seu excesso na atmosfera é responsável pelo efeito estufa, fenômeno que está aumentando a temperatura média da Terra e provocando alterações indesejáveis no clima.
- (E) Esse gás combinado com a água na atmosfera, forma ácido sulfúrico, altamente tóxico e corrosivo, que se precipitam ao solo nas chamadas chuvas ácidas.

24) Será obrigatória a expedição de novo Certificado de Registro de Veículo quando:

- I - For transferida a propriedade.**
- II - O proprietário mudar o Município de domicílio ou residência.**
- III - For alterada qualquer característica do veículo.**
- IV - Houver mudança de categoria.**

Analise fidedignamente as preposições acima e escolha a assertiva correta:

- (A) Somente as afirmativas ímpares são corretas.
- (B) Somente as afirmativas pares são corretas.
- (C) Somente a afirmativa é III incorreta.
- (D) Somente as afirmativas I, II e III são corretas.
- (E) Todas as afirmativas são corretas.

25) Fazer ou deixar que se faça reparo em veículo em via urbana arterial, salvo nos casos de impedimento absoluto de sua remoção e em que o veículo esteja devidamente sinalizado, constitui infração de natureza:

- (A) Leve.
- (B) Média.
- (C) Grave.
- (D) Gravíssima.
- (E) Gravíssima com seu valor multiplicado por três vezes.

26) No quesito valor, qual das infrações a seguir gera mais custo ao condutor infrator?

- (A) Recusar-se a ser submetido a teste, exame clínico, perícia ou outro procedimento que permita certificar influência de álcool ou outra substância psicoativa.
- (B) Dirigir sob a influência de álcool ou de qualquer outra substância psicoativa que determine dependência.
- (C) Usar qualquer veículo para, deliberadamente, interromper, restringir ou perturbar a circulação na via sem autorização do órgão ou entidade de trânsito com circunscrição sobre ela.
- (D) Forçar passagem entre veículos que, transitando em sentidos opostos, estejam na iminência de passar um pelo outro ao realizar operação de ultrapassagem.
- (E) Disputar corrida em vias públicas.

27) Planejar e implantar medidas para redução da circulação de veículos e reorientação do tráfego, com o objetivo de diminuir a emissão global de poluentes é competência:

- (A) Aos órgãos e entidades executivos de trânsito dos Municípios, no âmbito de sua circunscrição.
- (B) Às Polícias Militares dos Estados e do Distrito Federal.
- (C) Aos órgãos ou entidades executivos de trânsito dos Estados e do Distrito Federal, no âmbito de sua circunscrição.
- (D) Aos órgãos e entidades executivos rodoviários da União, dos Estados, do Distrito Federal e dos Municípios, no âmbito de sua circunscrição.
- (E) À Polícia Rodoviária Federal, no âmbito das rodovias e estradas federais.

28) A velocidade máxima permitida para a via será indicada por meio de sinalização, obedecidas suas características técnicas e as condições de trânsito, onde não existir sinalização regulamentadora, a velocidade máxima nas vias urbanas será de:

- (A) (90 km/h) noventa quilômetros por hora, nas vias de trânsito rápido.

- (B) (80 km/h) oitenta quilômetros por hora, nas vias arteriais.
- (C) (50 km/h) cinquenta quilômetros por hora, nas vias coletoras.
- (D) (60 km/h) sessenta quilômetros por hora, nas vias coletoras.
- (E) (30 km/h) trinta quilômetros por hora, nas vias locais.

29) A combinação de veículos acoplados, sendo um deles automotor, recebe a definição de:

- (A) VEÍCULO CONJUGADO.
- (B) VEÍCULO DE COLEÇÃO.
- (C) VEÍCULO ARTICULADO.
- (D) VEÍCULO DE PASSAGEIROS.
- (E) VEÍCULO MISTO.

30) Fiscalizar o nível de emissão de poluentes e ruído produzidos pelos veículos automotores ou pela sua carga, além de dar apoio às ações específicas de órgão ambiental local, quando solicitado. É uma competência:

- (A) Do Departamento Nacional de Trânsito.
- (B) Do Conselho Nacional de Trânsito.
- (C) Do Sistema Nacional de Trânsito.
- (D) Dos órgãos e entidades executivos de trânsito dos Municípios.
- (E) Do Departamento Estadual de Trânsito.