



TRIBUNAL REGIONAL DO TRABALHO DA 11ª REGIÃO

Concurso Público para provimento de cargos de

Técnico Judiciário - Área Serviços Gerais

Especialidade Transporte

Prova Cargo MR13, Tipo 1
000000000000000000

00001-001-001

Nº de Inscrição
MODELO

P R O V A

Conhecimentos Gerais
Conhecimentos Específicos

INSTRUÇÕES

- Verifique se este caderno:
 - corresponde a sua opção de cargo.
 - contém 60 questões, numeradas de 1 a 60.

Caso contrário, reclame ao fiscal da sala um outro caderno.

Não serão aceitas reclamações posteriores.

- Para cada questão existe apenas UMA resposta certa.
- Você deve ler cuidadosamente cada uma das questões e escolher a resposta certa.
- Essa resposta deve ser marcada na FOLHA DE RESPOSTAS que você recebeu.

VOCÊ DEVE:

- procurar, na FOLHA DE RESPOSTAS, o número da questão que você está respondendo.
- verificar no caderno de prova qual a letra (A,B,C,D,E) da resposta que você escolheu.
- marcar essa letra na FOLHA DE RESPOSTAS, fazendo um traço bem forte no quadrinho que aparece abaixo dessa letra.

ATENÇÃO

- Marque as respostas primeiro a lápis e depois cubra com caneta esferográfica de tinta preta.
- Marque apenas uma letra para cada questão, mais de uma letra assinalada implicará anulação dessa questão.
- Responda a todas as questões.
- Não será permitida qualquer espécie de consulta, nem o uso de máquina calculadora.
- Você terá 3 horas para responder a todas as questões e preencher a Folha de Respostas.
- Devolva este caderno de prova ao aplicador, juntamente com sua Folha de Respostas.
- Proibida a divulgação ou impressão parcial ou total da presente prova. Direitos Reservados.

CONHECIMENTOS GERAIS

Atenção: As questões de números 1 a 8 baseiam-se no texto apresentado abaixo.

No caldeirão em que se misturam 240 000 índios, 2 500 empresas madeireiras, 3 000 religiosos, outros tantos cientistas e centenas de organizações não-governamentais, também se encontram histórias que demonstram a possibilidade de aproveitar recursos da floresta com bom senso ambiental. A chamada bioindústria é um exemplo. Ela resulta de acordos de empresas interessadas em adicionar charme e exotismo a seu **marketing** com comunidades que podem explorar, controladamente, produtos que a mata oferece. A grife inglesa de cosméticos **The Body Shop** há quinze anos começou a comprar óleo de castanha-do-pará produzido por índios caiapós. Desde 1997, os índios iauanauás vendem urucum para a companhia americana **Aveda**, do mesmo ramo. Como nem índios nem empresas têm interesse em multiplicar a produção – o que derrubaria os preços –, quem sai ganhando é a floresta.

Até nas cidades da região podem-se achar soluções. É emblemático o caso de Manaus. A cidade faliu depois do ciclo da borracha. Naufragou de novo quando a abertura das importações abalou a Zona Franca. E agora renasce com uma alternativa que, em vez de incentivos fiscais, usa investimentos em tecnologia e em infra-estrutura para produzir e escoar produtos eletrônicos de alto valor. A capital ajuda a diminuir a pressão sobre a floresta ao atrair mão-de-obra, além de gerar impostos – 8,5 bilhões de reais – que podem ser aplicados em comunidades mais distantes.

(Veja, São Paulo, n. 1893, p. 60, fev. 2005)

1. De acordo com o texto, está correta a seguinte afirmativa:

- (A) O exotismo da região amazônica, com sua imensa variedade ambiental e a múltipla formação de seus habitantes, reflete-se no aproveitamento total dos recursos da floresta.
- (B) As comunidades indígenas da Amazônia só conseguirão sobreviver com dignidade se permanecerem associadas aos interesses capitalistas de empresas estrangeiras.
- (C) A frase inicial do texto remete, de maneira implícita, aos constantes conflitos econômicos e sociais, derivados de interesses diversos, na região amazônica.
- (D) A exploração comercial de produtos que utilizam matéria-prima da floresta amazônica, por empresas não brasileiras, constitui um dos fatores de destruição do meio ambiente.
- (E) As organizações não-governamentais exercem papel importante na região amazônica, na tentativa de conciliar interesses divergentes, especialmente entre líderes religiosos e cientistas.

2. Segundo o texto, a bioindústria

- (A) aporta recursos para as comunidades da Amazônia com produtos que utilizam matéria-prima da região, sem destruir a floresta.
- (B) explora os recursos oferecidos pela floresta amazônica sem maior preocupação, a não ser com sua própria imagem comercial.
- (C) resulta de interesses econômicos internacionais, que exploram em benefício próprio os conhecimentos tradicionais dos índios.
- (D) depende de investimentos em tecnologia e em infra-estrutura para desenvolver-se convenientemente na região.
- (E) oferece produtos com preços bem mais acessíveis que os demais, por aproveitar matéria-prima oferecida pela floresta.

3. A frase que traduz corretamente a idéia central do texto é:

- (A) Há exploração indevida da mão-de-obra indígena, desqualificada para concorrer num mercado internacional.
- (B) Interesses econômicos alheios ao Brasil favorecem a exploração predatória da floresta amazônica.
- (C) Incentivos fiscais, de larga aplicação na Amazônia, seriam a solução mais adequada para a geração de recursos em toda a região.
- (D) É possível haver atividade econômica rentável para a população da Amazônia, sem haver necessariamente a destruição da floresta.
- (E) As necessidades de sobrevivência de uma excessiva população instalada na Amazônia prejudicam a preservação dos recursos naturais.

4. É emblemático o caso de Manaus. (2º parágrafo)

Considere a frase transcrita acima e o que diz o Dicionário Houaiss, a respeito do vocábulo **emblema**.

1. sentença ou mote que encerra uma idéia moral, numa imagem ou gravura e em versos que explicam o sentido inerente a ambas; 2. figura simbólica, ser ou objeto concreto representativo de uma idéia abstrata; 3. p.ext. distintivo ou insígnia de instituição, sociedade, associação etc, utilizada no traje ou em objetos a ela relativos...

É correto afirmar, pois, que o ÚNICO sentido que não deve ser aplicado ao adjetivo **emblemático**, grifado na frase acima, é

- (A) simbólico.
- (B) incomum.
- (C) marcante.
- (D) relevante.
- (E) exemplar.

5. A substituição dos segmentos grifados nas frases que seguem está feita de maneira INCORRETA em:

- (A) *aproveitar recursos da floresta* = aproveitá-los.
- (B) *os índios iauanauás vendem urucum* = vendem-no.
- (C) *o que derrubaria os preços* = o que os derrubaria.
- (D) *usa investimentos em tecnologia* = usa-os.
- (E) *ao atrair mão-de-obra* = ao atrair-lhe.

6. – o que derrubaria os preços –
– 8,5 bilhões de reais –

O uso de travessões nos dois segmentos transcritos acima aponta o fato de que

- (A) esses sinais são utilizados habitualmente para assinalar repetição de idéias.
- (B) ambos os sinais de pontuação introduzem, no contexto, uma enumeração.
- (C) os mesmos sinais de pontuação podem isolar segmentos de diferente valor informativo.
- (D) eles podem, normalmente, introduzir informações desnecessárias no contexto.
- (E) eles assinalam uma ruptura na estrutura das frases, com prejuízo da seqüência lógica das idéias.

7. ... quando a abertura das importações abalou a Zona Franca. (2º parágrafo)

Transpondo-se a frase acima para a voz passiva, a forma verbal passa a ser

- (A) foi abalada.
- (B) foram abaladas.
- (C) tinha abalado.
- (D) seria abalada.
- (E) estava abalando.

8. A concordância, verbal ou nominal, está correta na frase:

- (A) Algumas comunidades indígenas, orientadas por ambientalistas, sobrevivem com a exploração de recursos que a floresta lhe oferecem.
- (B) A geração de impostos podem contribuir para melhorar as condições de vida em locais mais afastados, onde vivem população carente.
- (C) As condições do frágil equilíbrio ecológico amazônico exige uma atividade econômica que aumentem os rendimentos das famílias, sem destruição da natureza.
- (D) Os inúmeros conflitos de interesses na Amazônia torna muito difícil as tentativas de organização socioeconômica da região.
- (E) Existem muitos casos de exploração, em toda a região amazônica, em que se desrespeitam os limites do que a natureza é capaz de repor.

Atenção: As questões de números 9 a 13 baseiam-se no texto apresentado abaixo.

Os trabalhadores brasileiros tiveram no ano passado mais dinheiro para gastar, graças à criação de empregos e a um começo de recuperação de salários. Os acordos salariais foram os melhores desde 1996. Em 81% das negociações, o reajuste foi igual ou superior à inflação de 12 meses medida pelo Índice Nacional de Preços ao Consumidor (INPC). A recomposição foi parcial, mesmo no caso dos acordos mais favoráveis, porque as perdas se acumularam durante vários anos. Mas novos ganhos deverão ocorrer neste e nos próximos anos, se a economia continuar em crescimento, mais empregos de qualidade forem criados e a inflação permanecer controlada.

Os acordos foram melhorando ao longo de 2004, na medida em que aumentou a confiança na reativação da economia. Essa mudança é visível no levantamento realizado pelo Departamento Intersindical de Estatísticas e Estudos Socioeconômicos (Dieese). O otimismo crescente refletiu-se na criação de empregos, na recomposição de salários e na progressão do investimento produtivo.

A evolução do mercado de trabalho fortaleceu a indústria de bens de consumo e deu novo impulso à produção de bens não duráveis, mais dependente das condições de emprego e salário. A de bens duráveis já vinha sendo estimulada pela expansão do crédito ao consumo.

Os efeitos sobre a indústria teriam sido maiores, no entanto, se os aumentos de tarifas dos serviços de utilidade pública não tivessem continuado a sugar uma grande parte do rendimento das famílias.

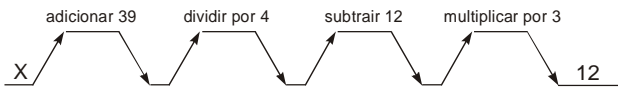
(Adaptado de **O Estado de S.Paulo**, 3 de abril de 2005, A3)

9. A explicação apresentada no texto para uma recuperação ainda parcial dos salários está

- (A) na ausência de acordos salariais mais favoráveis ao trabalhador.
- (B) no acúmulo de perdas salariais que vêm ocorrendo há algum tempo.
- (C) no descontrole, ainda que pequeno, de um ritmo inflacionário na economia.
- (D) na desconfiança de empresários, principalmente os estrangeiros, nos rumos da economia nacional.
- (E) na falta de uma mão-de-obra mais qualificada, em vista das exigências do mercado de trabalho.

<p>10. Considerando-se o assunto principal do texto, o último parágrafo</p> <p>(A) reafirma, de forma coerente, os argumentos propostos no desenvolvimento do texto.</p> <p>(B) conclui positivamente a visão otimista das informações prestadas anteriormente.</p> <p>(C) introduz um comentário que não apresenta ligação alguma com o contexto.</p> <p>(D) apresenta restrições que limitam as informações assinaladas no contexto.</p> <p>(E) usa um exemplo para justificar a afirmativa feita no parágrafo anterior.</p>	<p>13. A frase redigida com clareza, lógica e correção é:</p> <p>(A) Melhorando as condições de trabalho, o mercado refletiu-se também no aumento dos empregos com carteira assinada, onde aumentou mais de 1,5 milhão de postos criados no ano passado.</p> <p>(B) A melhora das condições do mercado de trabalho refletiu-se também no aumento dos empregos com carteira assinada, já que mais de 1,5 milhão de postos foram criados no ano passado.</p> <p>(C) Tanto à melhora das condições de trabalho quanto desse mercado refletiu-se também no aumento dos empregos com carteira assinada, desde que foi criado mais de 1,5 milhão de postos no ano passado.</p> <p>(D) A melhora das condições de trabalho e do mercado refletiram-se também no aumento dos empregos com carteira assinada, sendo que, ano passado, teve criação de mais de 1,5 milhão de postos.</p> <p>(E) As condições do mercado de trabalho melhorou, refletindo-se no aumento dos empregos também com carteira assinada, no entanto no ano passado, mais de 1,5 milhão de postos foram criados.</p>
<p>11. Os efeitos sobre a indústria <u>teriam sido maiores...</u> (início do último parágrafo)</p> <p>A forma verbal grifada assinala, considerando-se o contexto,</p> <p>(A) uma situação possível sob certas condições.</p> <p>(B) uma dúvida real, a partir de um fato concreto.</p> <p>(C) a certeza da realização de um fato no passado.</p> <p>(D) a condição básica de um fato a ocorrer no futuro.</p> <p>(E) um fato que se repete até o momento presente.</p>	<p>14. Todas as palavras estão escritas corretamente na frase:</p> <p>(A) Há uma crescente apreensão na economia mundial, como consequência da retração nos Estados Unidos e o aumento do desemprego na União Européia.</p> <p>(B) Economistas reconhecem que o movimento de expansão do crédito, como o consignado, contradis o esforço de conter a inflação.</p> <p>(C) A expectativa de crescimento nas exportações de calçados foi afetada pelo comportamento do dólar, mudando o cenário otimista do pólo atacadista do setor.</p> <p>(D) Algumas medidas governamentais tentam regular a bioprospeção, que viza o desenvolvimento de produtos apartir de recursos genéticos de plantas e de animais.</p> <p>(E) A quantidade e a variedade de opções oferecidas pela região amazônica permitem atender aos interesses diversificados de viajantes, estrangeiros ou não.</p>
<p>12. O segmento grifado está empregado corretamente na frase:</p> <p>(A) Levantamentos estatísticos reconhecem <u>em que</u> está ocorrendo uma recuperação da atividade econômica, atualmente.</p> <p>(B) São várias as opiniões de especialistas <u>que</u> deve haver maior qualificação da mão-de-obra para as exigências atuais do mercado.</p> <p>(C) A recuperação salarial, <u>a que</u> se referem os pesquisadores, é ainda parcial, porém demonstra a reativação da economia.</p> <p>(D) O crescimento da economia, <u>do qual</u> se esperava há muito, fez aumentarem os investimentos em modernização da indústria.</p> <p>(E) Foram concedidos os reajustes salariais <u>com que</u> batalhavam especialmente os trabalhadores da indústria.</p>	<p>15. Ambientalistas que passaram lutar pelo controle do desmatamento na Amazônia são vistos como inimigos serem neutralizados, originando-se daí os assassinatos relacionados luta pela posse da terra.</p> <p>As lacunas da frase acima serão corretamente preenchidas por</p> <p>(A) à - à - a</p> <p>(B) à - a - a</p> <p>(C) a - à - à</p> <p>(D) a - a - à</p> <p>(E) a - à - a</p>

16. No esquema seguinte têm-se indicadas as operações que devem ser sucessivamente efetuadas, a partir de um número X, a fim de obter-se como resultado final o número 12.



É verdade que o número X é

- (A) primo.
 - (B) par.
 - (C) divisível por 3.
 - (D) múltiplo de 7.
 - (E) quadrado perfeito.
17. Na figura abaixo tem-se um quadrado mágico, ou seja, um quadrado em que os três números dispostos nas celas de cada linha, coluna ou diagonal têm a mesma soma.

X	$\frac{9}{2}$	-2,5
Y	$\frac{1}{2}$	Z
$\frac{7}{2}$	T	1,5

Nessas condições, os números X, Y, Z e T devem ser tais que

- (A) $X < Y < Z < T$
 - (B) $T < Y < X < Z$
 - (C) $T < X < Z < Y$
 - (D) $Z < T < X < Y$
 - (E) $Z < Y < X < T$
18. Pretendendo incentivar seu filho a estudar Matemática, um pai lhe propôs 25 problemas, prometendo pagar R\$ 1,00 por problema resolvido corretamente e R\$ 0,25 de multa por problema que apresentasse solução errada. Curiosamente, após o filho resolver todos os problemas, foi observado que nenhum devia nada ao outro. Se x é o número de problemas que apresentaram solução errada, então
- (A) $x > 18$
 - (B) $12 < x < 18$
 - (C) $8 < x < 12$
 - (D) $4 < x < 8$
 - (E) $0 < x < 4$

19. Na oficina de determinada empresa há um certo número de aparelhos elétricos a serem reparados. Incumbidos de realizar tal tarefa, dois técnicos dividiram o total de aparelhos entre si, na razão inversa de seus respectivos tempos de serviço na empresa: 8 anos e 12 anos. Assim, se a um deles coube 9 aparelhos, o total reparado foi

- (A) 21
- (B) 20
- (C) 18
- (D) 15
- (E) 12

20. Os originais de um texto tinham 690 páginas, com 25 linhas em cada uma, e, após digitados, resultaram em um livro de 630 páginas, cada qual com 30 linhas. Dispondo-se dos originais de outro texto, contendo 276 páginas, com 30 linhas em cada uma, será possível obter um livro de mesmo formato do primeiro, com número de páginas igual a

- (A) 238
- (B) 230
- (C) 224
- (D) 218
- (E) 210

21. Duas lojas têm o mesmo preço de tabela para um mesmo artigo e ambas oferecem dois descontos sucessivos ao comprador: uma, de 20% e 20%; e a outra, de 30% e 10%. Na escolha da melhor opção, um comprador obterá, sobre o preço de tabela, um ganho de

- (A) 34%
- (B) 36%
- (C) 37%
- (D) 39%
- (E) 40%

22. Qual é o capital que, investido a juros simples e à taxa anual de 15%, se elevará a R\$ 17 760,00 ao fim de 1 ano e 4 meses ?

- (A) R\$ 14 500,00
- (B) R\$ 14 800,00
- (C) R\$ 15 200,00
- (D) R\$ 15 500,00
- (E) R\$ 15 600,00

23. Certo dia, durante o almoço, o restaurante de uma empresa distribuiu aos usuários 15 litros de suco de frutas, que vem acondicionado em pacotes que contêm, cada um, $\frac{1}{3}$ de litro. Se todos os freqüentadores tomaram suco, 17 dos quais tomaram cada um 2 pacotes e os demais um único pacote, o total de pessoas que lá almoçaram nesse dia é

(A) 23
(B) 25
(C) 26
(D) 28
(E) 32

24. Um técnico administrativo foi incumbido de arquivar 120 processos em X caixas, nas quais todos os processos deveriam ser distribuídos em quantidades iguais. Entretanto, ao executar a tarefa, ele usou apenas X-3 caixas e, com isso, cada caixa ficou com 9 processos a mais que o previsto inicialmente. Nessas condições, o número de processos colocados em cada caixa foi

(A) 24
(B) 22
(C) 21
(D) 17
(E) 15

25. Para percorrer um mesmo trajeto de 72 900 metros, dois veículos gastaram: um, 54 minutos, e o outro, 36 minutos. A diferença positiva entre as velocidades médias desses veículos, nesse percurso, em quilômetros por hora, era

(A) 11,475
(B) 39,25
(C) 40,5
(D) 42,375
(E) 45,5

Atenção: As questões de números 26 a 30 referem-se ao Regime Jurídico Único dos Servidores Públicos Civis da União.

26. A posse em cargo público ocorrerá no prazo

(A) de trinta dias, contados da publicação do ato de provimento.
(B) de quinze dias, prorrogável por igual período, contados a partir da nomeação.
(C) fixado no edital do concurso público, o qual não poderá ser superior a trinta e inferior a quinze dias.
(D) de até quarenta e cinco dias, contados da nomeação ou da ascensão.
(E) de quarenta e cinco dias, contados do efetivo exercício.

27. A reintegração

(A) constitui forma de investidura do servidor em cargo de atribuições e responsabilidades compatíveis com a limitação que tenha sofrido em sua capacidade física ou mental verificada em inspeção médica.
(B) caracteriza-se pelo retorno à atividade do servidor aposentado por invalidez, quando, por junta oficial, forem declarados insubsistentes os motivos da aposentadoria.
(C) ocorre com o retorno do servidor estável ao cargo anteriormente ocupado, em face da sua inabilitação em estágio probatório relativo a outro cargo.
(D) é a reinvestidura do servidor estável no cargo anteriormente ocupado, ou no cargo resultante de sua transformação, quando invalidada a sua demissão por decisão administrativa ou judicial, com ressarcimentos de todas as vantagens.
(E) decorre do deslocamento do servidor, estável ou não, a pedido ou de ofício, no âmbito do mesmo quadro, com ou sem mudança de sede.

28. A pena de advertência será aplicada ao servidor que

(A) valer-se do cargo para lograr proveito pessoal, em detrimento da dignidade da função pública.
(B) aceitar comissão de estado estrangeiro.
(C) coagir ou aliciar subordinados no sentido de filiarem-se a associação profissional.
(D) praticar usura sob qualquer de suas formas.
(E) utilizar pessoal ou recursos materiais da repartição em serviços particulares.

29. Será concedida ao servidor licença para tratamento de saúde, a pedido ou de ofício, com base em perícia médica,

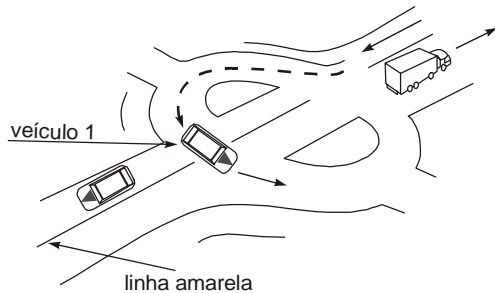
(A) com prejuízo da remuneração após o décimo quinto dia de licença.
(B) sem prejuízo da remuneração a que fizer jus.
(C) sem prejuízo dos vencimentos, mas com prejuízo das demais verbas que compõem a remuneração.
(D) com prejuízo dos vencimentos, após o decurso do prazo de trinta dias de licença.
(E) sem prejuízo dos vencimentos, mas com prejuízo das demais verbas que compõem a remuneração, após o trigésimo dia de licença.

30. Além de outras, constituem formas de provimento de cargo público:

(A) permuta e promoção.
(B) nomeação e ascensão.
(C) transferência e readaptação.
(D) recondução e transposição.
(E) promoção e recondução.

CONHECIMENTOS ESPECÍFICOS

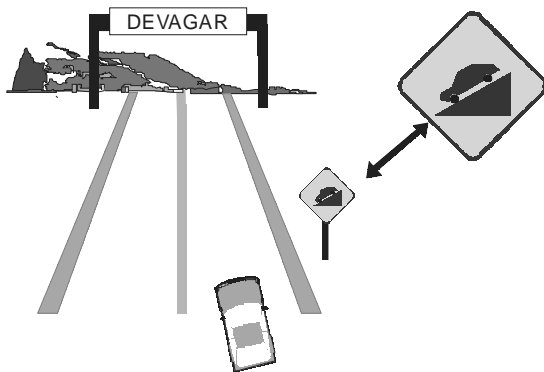
31. A figura abaixo mostra que o condutor do veículo, identificado com o número 1, fez uma manobra em uma rodovia desprovida de acostamento.



De acordo com o Código de Trânsito Brasileiro, o condutor deste veículo

- (A) cometeu uma infração de natureza gravíssima.
- (B) não cometeu uma infração passível de multa, apenas de advertência.
- (C) efetuou uma manobra legal e prevista no Código.
- (D) cometeu uma infração de natureza média.
- (E) não cometeu infração mas desrespeitou os usuários da via.

32. Considere a figura abaixo.



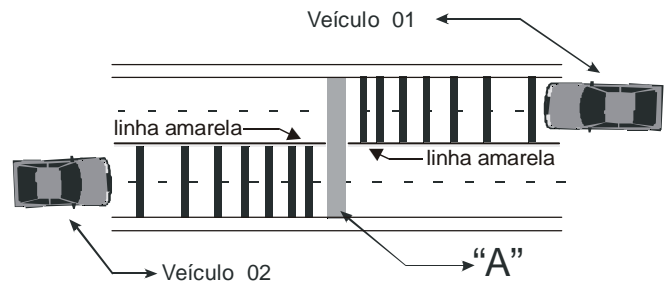
A placa de sinalização em destaque está informando a existência adiante de trecho com

- (A) aclive acentuado.
- (B) piso escorregadio.
- (C) barreira à direita.
- (D) estreitamento ao centro.
- (E) declive acentuado.

33. De acordo com o Código de Trânsito Brasileiro, uma via que tem, entre suas funções, distribuir o trânsito que tenha necessidade de entrar ou sair das vias de trânsito rápido ou arterial, possibilitando o trânsito dentro das regiões da cidade e, quando não sinalizada, a velocidade máxima não poderá ultrapassar 40 km/h, é caracterizada como

- (A) preferencial.
- (B) coletora.
- (C) local.
- (D) secundária radial.
- (E) expressa.

34. Considere a figura abaixo.



As linhas transversais no solo informam que, ao se aproximar do obstáculo "A", os condutores deverão

- (A) aumentar a velocidade e manter-se à direita.
- (B) manter-se à esquerda e acelerar.
- (C) estacionar a partir do ponto "A".
- (D) diminuir a velocidade de seus veículos.
- (E) dar preferência de passagem ao veículo que estiver mais próximo de "A".

35. A ilustração mostra um veículo de pequeno porte, efetuando uma manobra.



Em relação às regras de preferência e uso da via pública, o Código de Trânsito Brasileiro estabelece que os veículos de

- (A) maior porte sempre serão responsáveis pelos de menor porte, em qualquer situação de trânsito.
- (B) maior porte sempre serão responsáveis pelos de menor porte, somente quando estiverem nas rodovias.
- (C) menor porte serão responsáveis pelos de maior porte, quando estiverem apenas circulando em rodovias.
- (D) menor porte serão responsáveis pelos de maior porte, por causa de suas características.
- (E) maior porte ou de menor porte não terão responsabilidade solidária, cabendo essa função, à autoridade competente pelo trânsito local.

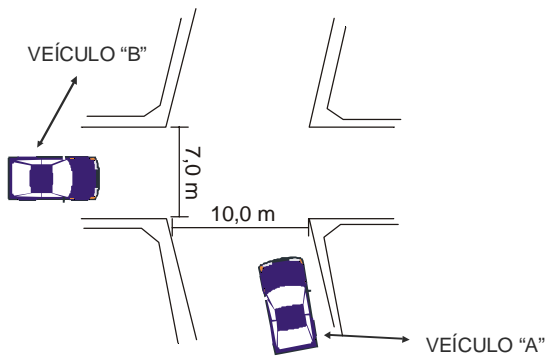
36. Considere a figura.



A não observação a uma placa indicativa de sentido, instalada ao longo de uma rodovia, ao condutor, poderá implicar

- (A) penalidade com multa e apreensão do veículo.
- (B) apreensão do veículo, mas não terá penalidade.
- (C) advertência e anotação no prontuário.
- (D) erro em seu trajeto, mas não terá penalidade.
- (E) penalidade com multa e apreensão da Carteira de Habilitação.

37. Considere a figura abaixo.



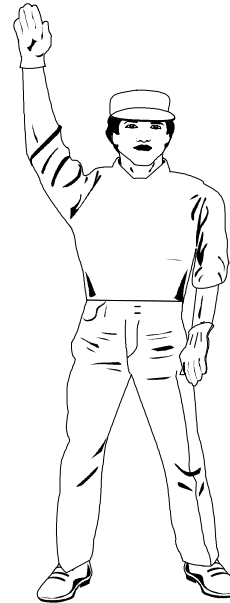
Os veículos A e B aproximam-se de um cruzamento urbano, sem sinalização. Neste caso, para evitar acidentes, o Código de Trânsito Brasileiro estabelece que tem direito de passagem o veículo

- (A) B, pois está à esquerda do veículo A.
- (B) A, pois está à direita do veículo B.
- (C) B, pois vem da rua mais estreita.
- (D) A, pois vem da rua mais larga.
- (E) B, pois tem menor visão.

38. De acordo com o Código de Trânsito Brasileiro, o condutor de um veículo que não respeitar a sinalização que tem por finalidade alertar os usuários da via sobre as condições potencialmente perigosas, indicando sua natureza de risco,

- (A) não terá punição alguma em sua carteira, embora sua atitude possa gerar riscos para si e para os demais usuários da via.
- (B) terá sua carteira de habilitação apreendida e será obrigado a freqüentar o curso de reciclagem para motoristas.
- (C) não terá punição em sua carteira, mas terá o veículo apreendido e retido pela autoridade de trânsito.
- (D) será multado com infração de natureza leve e estará passível de sofrer advertência pela autoridade de trânsito.
- (E) terá seu veículo apreendido e será multado com infração gravíssima.

39. Considere a figura abaixo.



De acordo com o Código de Trânsito Brasileiro, as ordens emanadas por gestos dos agentes de trânsito, prevalecem sobre as demais normas de circulação. O agente está emanando a seguinte ordem para os condutores:

- (A) sigam pela direita os veículos de passeio.
- (B) entrem à esquerda os veículos de carga.
- (C) sigam em frente os veículos de transporte coletivo.
- (D) parada por cinco minutos para os veículos de carga.
- (E) parada obrigatória para todos os veículos.

40. Um condutor ao utilizar-se de veículo para, em via pública, demonstrar ou exibir manobra perigosa, arrancada brusca, derrapagem ou frenagem com deslizamento ou arrastamento de pneus,

- (A) estará cometendo uma infração de natureza média.
- (B) estará cometendo uma infração de natureza leve.
- (C) estará cometendo uma infração de natureza gravíssima.
- (D) estará cometendo uma infração de natureza grave.
- (E) não estará cometendo uma infração.

<p>41. O socorrista precisa ter consciência de que, para ajudar, é necessário respeitar as seguintes regras:</p> <p>I. quem não sabe o que fazer, deve liderar os socorristas.</p> <p>II. não entrar em pânico.</p> <p>III. pensar na conduta a ser tomada.</p> <p>Está correto o que se afirma em</p> <p>(A) I, II e III.</p> <p>(B) II e III, apenas.</p> <p>(C) I e III, apenas.</p> <p>(D) I e II, apenas.</p> <p>(E) II, apenas.</p>	<p>45. Uma pessoa é atropelada e apresenta grande perda de sangue. Nesse caso, é preciso rapidez no atendimento porque uma hemorragia não controlada pode trazer como consequência mais grave</p> <p>(A) derrame cerebral.</p> <p>(B) dificuldade para respirar.</p> <p>(C) anemia.</p> <p>(D) a morte.</p> <p>(E) perda da consciência.</p>
<p>42. As vítimas de uma colisão de dois carros estão desacordadas e, ao redor delas, curiosos olhando e palpitando. Um motorista que passa pelo local quer ajudar. Para isso, ele deve</p> <p>(A) verificar se o Serviço de Resgate já foi solicitado.</p> <p>(B) colocar os triângulos de sinalização ao redor das vítimas.</p> <p>(C) acionar o pisca-alerta dos veículos acidentados.</p> <p>(D) manter o veículo do acidentado em funcionamento.</p> <p>(E) juntar-se ao grupo de curiosos, para não caracterizar omissão de socorro.</p>	<p>46. No caso de um acidentado apresentar sangramento na perna direita e presença de cacos de vidro na lesão, o socorrista deve</p> <p>(A) orientar o acidentado para apoiar a perna direita no chão.</p> <p>(B) aplicar compressas mornas no local do sangramento.</p> <p>(C) manter elevada a perna direita do acidentado.</p> <p>(D) forçar a retirada dos cacos de vidro.</p> <p>(E) manter ambas as pernas do acidentado em nível mais baixo que o corpo.</p>
<p>43. Ao atender um acidentado com suspeita de fratura no braço esquerdo a mais ou menos 5 cm do punho, o socorrista deve</p> <p>(A) posicionar as talas de forma a abranger somente o punho.</p> <p>(B) amarrar as talas, após alinhar os ossos, com ataduras ou tiras de pano, apertando-as bem.</p> <p>(C) usar uma tipóia, após imobilizar o braço esquerdo.</p> <p>(D) manter a mão do braço esquerdo voltada para baixo, antes de fazer a imobilização.</p> <p>(E) manter a mão do braço esquerdo voltada para baixo, após fazer a imobilização.</p>	<p>47. No atendimento de um acidentado, para verificar se há respiração, o socorrista deve</p> <p>(A) colocar o queixo do acidentado voltado para baixo, levantando-o suavemente em seguida, para poder sentir a saída do ar.</p> <p>(B) colocar uma das mãos em forma de concha, próxima ao nariz do acidentado, e a outra mão apoiada em seu peito.</p> <p>(C) verificar a saída de ar com uma mão, após apertar com a outra o peito do acidentado.</p> <p>(D) colocar o acidentado deitado de lado, aproximar do nariz e da boca uma das mãos para sentir a respiração.</p> <p>(E) aproximar o seu rosto do rosto do acidentado para ouvir e sentir a respiração, e ver os movimentos respiratórios.</p>
<p>44. Um motociclista acidenta-se. Ao cair, bate a cabeça no chão. Queixa-se de formigamento nos braços e pernas e apresenta fratura exposta no braço direito, com abundante perda de sangue. Um socorrista deve, como conduta prioritária,</p> <p>(A) transferir o acidentado para um local confortável, de preferência sentado.</p> <p>(B) retirar o capacete do acidentado.</p> <p>(C) pedir ao acidentado para fazer movimentos de abrir e fechar as mãos.</p> <p>(D) comprimir com gaze o local do sangramento, após colocar o osso para dentro.</p> <p>(E) manter a cabeça do acidentado imobilizada.</p>	

48. As três figuras abaixo mostram socorristas realizando a massagem cardíaca em acidentados adultos.

I



II



III



Está correta a técnica apresentada em

- (A) I, apenas, porque os dedos estão entrelaçados e afastados das costelas.
- (B) II, apenas, porque a massagem cardíaca realizada com somente uma das mãos evita a fratura óssea.
- (C) III, apenas, porque as mãos estão apoiadas no osso externo e nas costelas.
- (D) II e III, apenas, porque as mãos estão apoiadas no osso externo e nas costelas.
- (E) I, II e III, porque os braços estão esticados e comprimindo o coração.

49. Considere as seguintes afirmativas:

- I. Se a queimadura localizar-se no braço direito, mantê-lo mais elevado em relação ao resto do corpo.
- II. Proteger a área queimada com algodão e enfaixar com atadura.
- III. Para apagar o fogo de uma vítima em chamas, uma das medidas recomendadas é envolvê-la com tapete ou cobertor.

Com relação aos primeiros socorros à vítima de queimaduras, está correto o que se afirma APENAS em

- (A) I.
- (B) I e II.
- (C) I e III.
- (D) II e III.
- (E) III.

50. Um motorista de caminhão, vítima de uma explosão, sofre queimaduras extensas e está muito sonolento. O socorrista deve

- (A) mantê-lo com o mínimo de roupas.
- (B) mantê-lo coberto para evitar a perda do calor do corpo.
- (C) aplicar pasta de dente para aliviar a dor das queimaduras mais superficiais.
- (D) descolar, imediatamente, a roupa que ficou grudada nas queimaduras.
- (E) despi-lo e envolver a área queimada com algodão.

51. O aditivo utilizado em sistemas de arrefecimento de motores de combustão interna tem como principal finalidade

- (A) diminuir o ponto de ebulição da água.
- (B) aumentar a densidade da água.
- (C) diminuir a densidade da água.
- (D) aumentar o ponto de ebulição da água.
- (E) diminuir a densidade e o ponto de ebulição da água.

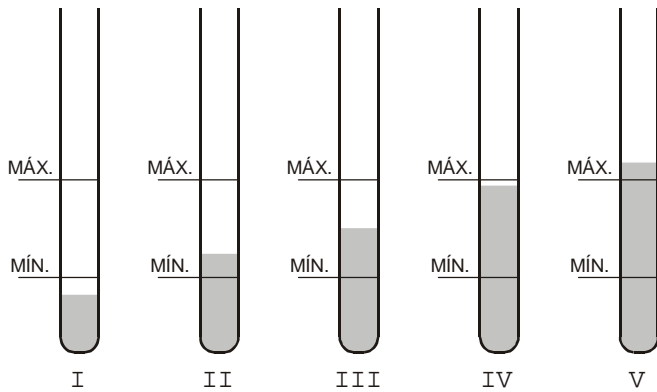
52. A ausência da válvula termostática faz com que o motor do veículo, em percursos livres de trânsito pesado, apresente

- (A) nível de líquido de arrefecimento acima do normal.
- (B) temperatura abaixo da normal.
- (C) temperatura acima da normal.
- (D) vazamento de líquido de arrefecimento.
- (E) alta pressurização no sistema de arrefecimento.

53. O nível de óleo lubrificante do motor deve ser verificado com o motor

- (A) funcionando em rotação de marcha lenta.
- (B) funcionando em 1500 rpm.
- (C) parado e frio antes da primeira partida do dia.
- (D) quente imediatamente após ter sido desligado.
- (E) quente aproximadamente vinte minutos após ter sido desligado.

54. Considere a representação abaixo.



O óleo do motor deve ser completado quando o nível estiver semelhante ao representado na vareta de óleo de número

- (A) I.
- (B) II.
- (C) III.
- (D) IV.
- (E) V.

55. A ordem de ignição mais comum dos motores atuais de combustão interna do ciclo Otto, a gasolina, de 4 cilindros é:

- (A) 2 - 3 - 4 - 1
- (B) 3 - 2 - 1 - 4
- (C) 1 - 3 - 4 - 2
- (D) 4 - 3 - 1 - 2
- (E) 3 - 1 - 4 - 2

56. Verifica-se, periodicamente, nos veículos automotores, pequeno consumo de óleo de motor. Visualmente, não havendo vazamento, esse consumo é

- (A) consequência, sempre, de vazamentos internos no motor, não identificados externamente.
- (B) sinal de algum problema sério no motor, pois somente motores desgastados consomem óleo.
- (C) um alerta para que se substitua o óleo do motor que está apresentando excesso de contaminação por combustível.
- (D) normal, pois até o próprio fabricante do veículo especifica no manual a proporção de consumo por quilômetros rodados.
- (E) normal quando o óleo aplicado é de viscosidade acima da recomendada pelo fabricante.

57. Com a finalidade de eliminar as bolhas de ar do sistema de freio, deve-se

- (A) ajustar o assentamento das sapatas.
- (B) trocar as pastilhas de freio.
- (C) ajustar a regulagem do freio de estacionamento.
- (D) trocar os tambores e cilindros da roda.
- (E) executar a sangria do sistema.

58. A função do catalisador no sistema de escapamento é

- (A) melhorar a eficiência do motor.
- (B) controlar a potência do motor, tornando o veículo mais econômico.
- (C) diminuir a emissão de poluentes.
- (D) reduzir os ruídos do motor, diminuindo a poluição sonora.
- (E) garantir que a compressão do motor seja ideal.

59. A função de reduzir as oscilações da mola de suspensão é

- (A) dos amortecedores.
- (B) das barras estabilizadoras.
- (C) dos braços superiores da suspensão.
- (D) dos braços inferiores da suspensão.
- (E) das buchas dos braços de suspensão.

60. Quando a bateria do veículo está descarregada a ponto de não permitir mais a partida, deve-se fazer o veículo pegar no "tranco" (empurrar o veículo com a ignição ligada e a marcha engatada até que pegue). Esse recurso

- (A) é recomendável para veículos equipados com carburador.
- (B) não é recomendável para qualquer tipo de veículo.
- (C) é recomendável para veículos que possuem correia dentada.
- (D) é recomendável para qualquer tipo de veículo.
- (E) é recomendável para veículos equipados com injeção eletrônica.