



## Concurso Público para provimento de cargos vagos Analista Administrativo

Nome do Candidato

Caderno de Prova 'A', Tipo 001

Nº de Inscrição

MODELO

Nº do Caderno

TIPO-001

Nº do Documento

0000000000000000

ASSINATURA DO CANDIDATO

# PROVA

## Conhecimentos Gerais Conhecimentos Específicos

### INSTRUÇÕES

- Verifique se este caderno:
  - corresponde à sua opção de cargo.
  - contém 60 questões, numeradas de 1 a 60.Caso contrário, solicite imediatamente ao fiscal da sala a substituição do caderno.  
Não serão aceitas reclamações posteriores.
- Para cada questão existe apenas UMA resposta certa.
- Leia cuidadosamente cada uma das questões e escolha a resposta certa.
- Essa resposta deve ser marcada na FOLHA DE RESPOSTAS que você recebeu.

### VOCÊ DEVE

- Procurar, na FOLHA DE RESPOSTAS, o número da questão que você está respondendo.
- Verificar no caderno de prova qual a letra (A,B,C,D,E) da resposta que você escolheu.
- Marcar essa letra na FOLHA DE RESPOSTAS, conforme o exemplo: (A) ● (C) (D) (E)

### ATENÇÃO

- Marque as respostas com caneta esferográfica de material transparente e tinta preta ou azul. Não será permitida a utilização de lápis, lapiseira, marca-texto, régua ou borracha durante a realização da prova.
- Marque apenas uma letra para cada questão. Será anulada a questão em que mais de uma letra estiver assinalada.
- Responda a todas as questões.
- Não será permitida nenhuma espécie de consulta ou comunicação entre os candidatos, nem a utilização de livros, códigos, manuais, impressos ou quaisquer anotações, máquina calculadora ou similar.
- A duração da prova é de 3 horas, para responder a todas as questões e preencher a Folha de Respostas.
- Ao término da prova, chame o fiscal da sala para devolver o Caderno de Questões e a Folha de Respostas.
- É proibida a divulgação ou impressão parcial ou total da presente prova. Direitos Reservados.

**CONHECIMENTOS GERAIS****Português**

**Atenção:** Para responder às questões de números 1 a 6, baseie-se no texto abaixo.

**A crônica em sua função**

A palavra **crônica** é conhecida e designa um gênero de texto. Vem por vezes acompanhada de adjetivo: política, esportiva, social, policial etc. Se vier desacompanhada de qualquer qualificativo, é porque ela serve a um cronista não especializado, um escritor de linguagem cativante que pode falar de qualquer coisa que desperte o interesse do leitor. Não há jornal ou revista que dispense esse tipo de cronista. Que função terá essa modalidade de crônica, livre que está para abordar não importa o que seja?

Quando, ao ler um jornal, nos detemos nela, é porque sabemos que a mão do escritor, com leveza de estilo, com algum humor, com um mínimo de sabedoria e perspicácia, nos conduzirá por um texto que nos poupa da gravidade dos grandes assuntos da política ou da economia e chamará nossa atenção para algum assunto que, não sendo manchete, diz respeito à nossa vida pequenina, ao nosso cotidiano, aos nossos hábitos, aos nossos valores mais íntimos. Uma crônica pode falar de uma dor de dente, de um incidente na praia, de um caso de amor, de uma viagem, de um momento de tédio ou até mesmo da falta de assunto. O importante é que o cronista faça de seu texto um objeto hipnótico, do qual não se consegue tirar os olhos. Para isso, há que haver talento.

Entre nós, pontifica até hoje o nome do cronista Rubem Braga (1913-1990). É uma unanimidade: todos o consideram o maior de todos, o mestre do gênero. De fato, Rubem Braga cumpriu com excelência o alcance de um cronista: deu-nos poesia, reflexão, análise, lucidez, ironia, humor – tudo numa linguagem de exemplar clareza e densidade subjetiva. A crônica de Rubem Braga cumpriu à perfeição o papel fundamental desse gênero literário pouco homenageado. Nas palavras do crítico Antonio Candido, uma crônica “pega o miúdo da vida e mostra nele uma grandeza, uma beleza ou uma singularidade insuspeitadas. Isto acontece porque ela não tem a pretensão de durar, uma vez que é filha do jornal e da era da máquina, onde tudo acaba tão depressa”. O crítico não tem dúvida em considerar que as boas crônicas, “por serem leves e acessíveis talvez comuniquem, mais do que poderia fazer um estudo intencional, a visão humana do homem na sua vida de todo dia”. Não é pouca coisa. Vida longa aos bons cronistas.

(Jeremias Salustiano, inédito)

1. No primeiro parágrafo do texto, informa-se que a crônica
  - (A) deve atender a uma função específica e especializada para ser reconhecida como um gênero literário.
  - (B) caracteriza-se pela liberdade que tem de explorar todo e qualquer assunto, rejeitando qualquer particularização.
  - (C) passa a interessar o leitor na medida em que seu gênero se determine por um dos qualificativos citados.
  - (D) pode se constituir como um gênero textual com liberdade para falar sobre assunto que cativa a atenção do leitor.
  - (E) requer um escritor sem qualificação especial, de vez que deverá focalizar-se em assuntos indeterminados.

---

2. No segundo parágrafo do texto, considera-se que na crônica de um autor talentoso
  - (A) uma questão pouco relevante pode de súbito transformar-se num assunto de máxima gravidade.
  - (B) as manchetes do dia adquirem especial sabor pelo fato de que são apresentadas com irônica leveza.
  - (C) elementos cotidianos sem especial relevância ganham o dom de atrair para si a atenção concentrada do leitor.
  - (D) a gravidade de um fato é tratada pelo cronista de modo que o leitor não se dê conta da magnitude desse fato.
  - (E) há qualidade hipnótica tão intensa que o leitor desavisado não percebe quão banal é a linguagem que o atrai.

---

3. No terceiro parágrafo do texto, verificam-se estas duas preocupações essenciais:
  - (A) reverenciar o estilo profundo e claro de Rubem Braga e considerar na crônica a beleza de um gênero desprezioso.
  - (B) lembrar a limitação específica da linguagem de Rubem Braga e mostrar como a crônica pode servir aos grandes temas.
  - (C) tomar um conhecido cronista como representante de um gênero menor e elencar as miudezas de que se ocupa a crônica.
  - (D) mostrar a adaptação de um grande escritor ao gênero menor da crônica e revelar sua estratégia para essa adaptação.
  - (E) demonstrar a intenção da crônica em exaltar os valores humanos e reconhecer no crítico citado essa mesma faculdade.



4. Considerando-se o contexto, traduz-se adequadamente o sentido de um segmento do texto em:
- (A) *designa um gênero de texto* (1º parágrafo) = arbitra um componente textual.
  - (B) *nos poupa da gravidade* (2º parágrafo) = dispensa-nos da austeridade.
  - (C) *diz respeito à nossa vida pequenina* (2º parágrafo) = incita à pequenez do saber.
  - (D) *há que haver talento* (2º parágrafo) = dispor-se a valorizar, se possível.
  - (E) *cumpriu à perfeição o papel* (3º parágrafo) = difundiu bem seu dom.
- 
5. Há ocorrência de forma verbal na **voz passiva** e plena observância das normas de **concordância** na frase:
- (A) Muitas vezes ocorrem que o gênero crônica diga respeito a um texto de assunto bastante especializado.
  - (B) Não cumprem observar, para a criação das boas crônicas, nenhum estilo previamente demarcado.
  - (C) São várias as qualidades pelas quais se deixam marcar, em sua genialidade, a crônica de Rubem Braga.
  - (D) Antonio Candido faz questão de deixar patente na crônica de Rubem Braga suas altas virtudes estilísticas.
  - (E) Exaltam-se numa boa crônica aqueles aspectos mínimos da vida que podem ganhar plena relevância.
- 
6. Está clara e correta a **redação** deste livre comentário sobre o texto:
- (A) Se nas manchetes o assunto de que tratam no jornal tem gravidade, nas crônicas sucedem muitas vezes que a importância esteja nos pormenores.
  - (B) Continua viva e atraente nos periódicos de hoje a presença de crônicas que nos atraiam pela leveza e pela vivacidade de estilo.
  - (C) Não devem haver assuntos que uma boa crônica não possa tratar, ao lhes dar uma importância que julgávamos desmerecida.
  - (D) Pouco importam que os assuntos tratados numa crônica tenham relevância, uma vez que é ela mesma que os concede com seu talento.
  - (E) O autor do texto não considera de somenas importância o fato de que as crônicas alcancem uma grandeza humana pouco intencional.
- 

Atenção: Para responder às questões de números 7 a 12, baseie-se no texto abaixo.

### Duas revoluções da humanidade

*Estamos hoje na confluência de duas imensas revoluções. Por um lado, biólogos estão decifrando os mistérios do corpo humano, particularmente do cérebro e dos sentimentos. Ao mesmo tempo, os cientistas da computação estão nos dando um poder de processamento de dados sem precedente. Quando a revolução na biotecnologia se fundir com a revolução na tecnologia da informática, essa fusão produzirá algoritmos de longo alcance capazes de monitorar e compreender nossos sentimentos muito melhor do que nós mesmos, e então a autoridade decisiva passará dos humanos para os computadores.*

*Nossa ilusão de que detemos uma total e livre capacidade de escolha, a que damos o nome de livre arbítrio, provavelmente vai se desintegrar à medida que nos depararmos, diariamente, com instituições, corporações e agências do governo que compreendem e manipulam o que era, até então, do domínio do nosso inacessível reino interior.*

*Isso já está acontecendo no campo da medicina. As decisões médicas mais importantes de nossa vida se baseiam não na sensação de estarmos doentes ou saudáveis, nem mesmo nos prognósticos informados por nosso médico – mas nos cálculos de computadores que entendem do nosso corpo muito melhor do que nós. Eles serão capazes de monitorar nossa saúde 24 horas por dia, sete dias por semana. Serão capazes de detectar, logo em seu início, a gripe, o câncer, o mal de Alzheimer, muito antes de sentirmos que há algo errado conosco. Poderão então recomendar tratamentos adequados, dietas e regimes diários, sob medida para nossa compleição física, nosso DNA e nossa personalidade, que são únicos.*

(Adaptado de: HARARI, Yuval Noah. **21 lições para o século 21**. São Paulo: Companhia das Letras, 2018, p. 74-75)

7. É uma hipótese do texto a ideia de que aquilo a *que damos o nome de livre arbítrio* (2º parágrafo) deverá se extinguir em razão do
- (A) melhor entendimento e domínio que passaremos a ter dos nossos próprios sentimentos.
  - (B) aperfeiçoamento de uma tecnologia que expandirá nossa liberdade de escolha.
  - (C) maior grau de influência comportamental que terão sobre todos as agências estatais.
  - (D) poder que passarão a exercer a biotecnologia e a informática, uma vez associadas.
  - (E) aprimoramento das faculdades naturais do homem, promovido por normas éticas ideais.
-



8. Uma revolução que vem ocorrendo no campo da medicina é expressa pelo que se encontra no seguinte segmento:

- (A) *cálculos de computadores* (3<sup>o</sup> parágrafo)
- (B) *livre capacidade de escolha* (2<sup>o</sup> parágrafo)
- (C) *domínio do nosso inacessível reino interior* (2<sup>o</sup> parágrafo)
- (D) *sensação de estarmos doentes ou saudáveis* (3<sup>o</sup> parágrafo)
- (E) *prognósticos informados por nosso médico* (3<sup>o</sup> parágrafo)

9. Nossa ilusão de que detemos uma livre capacidade de escolha vai se desintegrar.

Uma nova redação da frase acima, na qual se conservam seu sentido básico e a correção gramatical, apresenta-se em:

- (A) Deixará de se expandir nossa ilusão e a plena capacidade de escolha que contemos em nós.
- (B) Nossa pretensão de escolhermos tudo o que se queira, da qual temos a ilusão, haverá de ruir-se impreterivelmente.
- (C) Nosso dom de escolher a bel prazer o que quisermos deixará de se expandir enquanto ilusão nossa.
- (D) A ilusão de cuja nos alimentamos quanto à escolher tudo o que quisermos deverá se retrair drasticamente.
- (E) Irá se extinguir nossa ilusão de que possuímos a faculdade de arbitrar livremente nossas decisões.

10. Há pleno atendimento às normas de concordância e adequada articulação entre os tempos verbais na frase:

- (A) Se não confluir a biotecnologia e a ciência da computação, estaria prejudicado, como previsão, a tese defendida no texto.
- (B) Caso venham a escapar do nosso domínio o que decidem as instituições públicas, nos sujeitamos ao controle das novas tecnologias.
- (C) Mesmo que muitos alimentem a ilusão do contrário, parece que logo estaremos todos submetidos ao poder das novas tecnologias.
- (D) Ainda que não fosse tão decisivo em seu poder revolucionário, as tecnologias deverão ocupar um espaço de decisão muito maior.
- (E) Muitos males que têm assolado a humanidade possivelmente serão vencidos se viessem a ocorrer tudo o que se preveem nas novas tecnologias.

11. Atente para as seguintes orações:

- I. Está havendo uma revolução no campo da medicina.
- II. A revolução no campo da medicina é devida aos avanços da biotecnologia.
- III. Os avanços da biotecnologia permitem tratamentos médicos mais avançados.

Essas orações articulam-se de modo correto e coerente neste período único:

- (A) Tratamentos médicos mais avançados, a par de uma revolução no campo da medicina, concorrem para os avanços da biotecnologia.
- (B) Em que pese haverem avanços no campo da medicina, a revolução da biotecnologia acompanha tratamentos médicos mais adequados.
- (C) Em função de tratamentos médicos mais avançados, constata-se também os avanços revolucionários da biotecnologia.
- (D) Os avanços da biotecnologia permitem tratamentos médicos mais avançados, uma verdadeira revolução no campo da medicina.
- (E) Representa uma verdadeira revolução no campo da medicina, os avanços da biotecnologia com os tratamentos médicos.

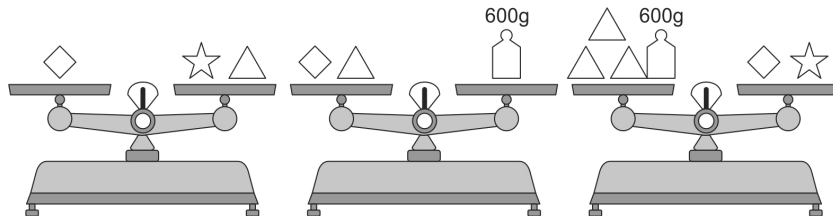
12. Está correto o emprego do elemento sublinhado na frase:

- (A) Se os cientistas não disporem-se à criar, quem se responsabilizará pelos avanços da ciência?
- (B) Caso não lhes detêssemos a tempo, os obscurantistas de sempre continuariam a administrar a ciência.
- (C) Atribue-se nos avanços da biotecnologia a razão da obsolescência de certos tratamentos médicos.
- (D) No último simpósio de biotecnólogos, alguns não conviram de assumir as novas responsabilidades que lhes foram atribuídas.
- (E) À medida que se propuserem a cumprir as novas metas da nova ciência, serão reconhecidos por toda a comunidade médica.



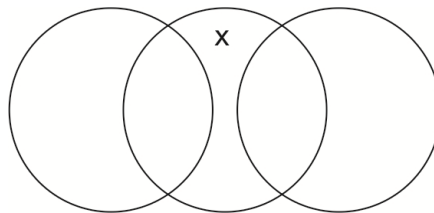
**Raciocínio Lógico-Matemático**

13. Sabe-se que objetos iguais têm o mesmo peso e que uma balança de pratos está em equilíbrio quando, sobre cada um de seus dois pratos, há o mesmo peso. Na figura, abaixo, veem-se três balanças sobre cujos pratos foram colocados objetos na forma de quadriláteros, estrelas e triângulos, além de pesos de 600 g.




Se as três balanças da figura estão em equilíbrio, então a soma dos pesos de um quadrilátero, um triângulo e uma estrela é

- (A) 1.500 g.
  - (B) 1.000 g.
  - (C) 1.200 g.
  - (D) 900 g.
  - (E) 1.800 g.
- 
14. Com 64 cubinhos brancos, de dimensões  $1 \times 1 \times 1$ , montou-se um cubo de dimensões  $4 \times 4 \times 4$ . As faces do cubo grande foram pintadas de azul. O número de cubinhos que ficaram sem nenhuma face pintada de azul é
- (A) 32.
  - (B) 8.
  - (C) 16.
  - (D) 27.
  - (E) 4.
- 
15. Na figura, abaixo, há três círculos que determinam 5 regiões.



Para que os números 1, 2, 3, 4 e 5 sejam colocados nessas regiões, sem repetição, de maneira que a soma dos números dentro de cada círculo seja igual a 6, o valor de X deve ser

- (A) 4.
  - (B) 2.
  - (C) 3.
  - (D) 1.
  - (E) 5.
- 
16. Seu João observou que em seu armário da cozinha há duas pilhas de copos, com borda, idênticos: uma com 3 copos cuja altura é de 9,5 cm e outra com 5 copos e cuja altura é de 10,5 cm, conforme a figura, abaixo.



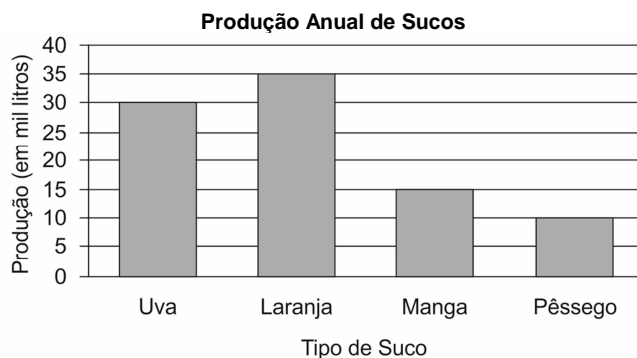
A altura de 1 copo, em centímetros, é

- (A) 7,5.
- (B) 6,5.
- (C) 8,0.
- (D) 7,0.
- (E) 8,5.



17. No período de 9 dias, Marcos caminhou, ao todo, 198 km. A cada dia caminhou 1 km a mais do que no dia anterior. O número de quilômetros que Marcos caminhou no último dia foi
- (A) 18.  
(B) 28.  
(C) 24.  
(D) 26.  
(E) 22.

18. A produção anual de sucos de uma indústria está representada no gráfico de barras abaixo.



A produção anual de suco de

- (A) laranja somada à produção anual de suco de pêssego equivale à metade da produção anual total de sucos dessa indústria.  
(B) manga é metade da produção anual de suco de laranja.  
(C) pêssego é um quarto da produção anual de suco de uva.  
(D) manga somada à produção anual de suco de pêssego é maior do que a produção anual de suco de laranja.  
(E) manga é menor do que a produção anual de suco de pêssego.

#### Noções dos Direitos das Pessoas com Deficiência

19. Cristina é pessoa com deficiência e estuda em instituição privada de ensino há um ano. Ao consultar a Lei nº 13.146/2015, Cristina observa, dentre outras, medida concernente ao direito à educação da pessoa com deficiência, qual seja, a *inclusão em conteúdos curriculares, em cursos de nível superior e de educação profissional técnica e tecnológica, de temas relacionados à pessoa com deficiência nos respectivos campos de conhecimento*. A propósito do tema, a citada medida é
- (A) facultativa tanto para as instituições públicas de ensino, quanto para as instituições privadas, de qualquer nível e modalidade de ensino; no entanto, caso adotada, admite a cobrança de valor adicional para o cumprimento da determinação.  
(B) vedada para qualquer instituição de ensino, por caracterizar conduta discriminatória dos direitos da pessoa com deficiência.  
(C) obrigatória tanto para as instituições públicas de ensino, quanto para as instituições privadas, de qualquer nível e modalidade de ensino, sendo vedada a cobrança de valores adicionais de qualquer natureza para o cumprimento dessa determinação.  
(D) obrigatória para as instituições públicas de ensino e facultativa para as instituições privadas, sendo vedada a cobrança de valores adicionais de qualquer natureza para o cumprimento dessa determinação.  
(E) obrigatória tanto para as instituições públicas de ensino, quanto para as instituições privadas, de qualquer nível e modalidade de ensino, sendo admitida na hipótese a cobrança de valor adicional para o cumprimento dessa determinação.
20. Carlos é deficiente visual e possui cartão de crédito e de movimentação bancária com caracteres de identificação em braille. Manoel, seu colega e também deficiente visual, pretende obter o mesmo *kit* de Carlos, que contém os seguintes itens: etiqueta em braille; identificação do tipo de cartão em braille; fita adesiva e porta-cartão. A propósito do tema e nos termos da Lei nº 10.098/2000,
- (A) a identificação do tipo de cartão em braille corresponde ao primeiro dígito, da esquerda para a direita, identificador do tipo de cartão.  
(B) o *kit* a que se refere o enunciado deverá conter, no máximo, os quatro itens citados, quais sejam, etiqueta em braille; identificação do tipo de cartão em braille; fita adesiva e porta-cartão.  
(C) o porta-cartão deverá possuir tamanho suficiente para que constem todas as informações necessárias, não sendo indicado ao transporte pela pessoa com deficiência visual.  
(D) a etiqueta em braille corresponde a filme transparente fixo ao cartão com informações em braille, com a identificação do tipo do cartão e os quatro dígitos finais do número do cartão.  
(E) o *kit* a que se refere o enunciado deve ser garantido às pessoas com deficiência, quando por elas solicitado, havendo, no entanto, custo adicional para seu fornecimento.

**CONHECIMENTOS ESPECÍFICOS****Noções de Administração Pública**

21. A Administração Pública deve voltar-se exclusivamente para o interesse público e não para o interesse privado, vedando-se, assim, o favorecimento a alguns indivíduos em detrimento de outros. Portanto, o alvo a ser alcançado pela Administração é somente o interesse público. Trata-se de aplicação do princípio da
- (A) eficiência.
  - (B) autotutela.
  - (C) impessoalidade.
  - (D) razoabilidade.
  - (E) especialidade.

22. Sobre desconcentração e descentralização administrativa, considere:

- I. São conceitos distintos, embora possuam um ponto comum, qual seja, ambas pressupõem pessoas jurídicas diversas: uma que originariamente tem a titulação sobre certa atividade e outra à qual foi atribuído o desempenho da atividade.
- II. A distribuição interna de competências decisórias, agrupadas em órgãos públicos, denomina-se desconcentração.
- III. A descentralização pressupõe, dentre outros requisitos, o reconhecimento de personalidade jurídica ao ente descentralizado.
- IV. Os entes descentralizados não estão sujeitos a controle ou tutela, vez que possuem independência e autonomia em sua atuação.

Está correto o que consta APENAS de

- (A) I e IV.
- (B) I e III.
- (C) I, II e III.
- (D) II e III.
- (E) II e IV.

23. No que concerne ao tema da Administração Pública Direta e Indireta,

- (A) a empresa pública, entidade integrante da Administração Indireta, poderá organizar-se sob qualquer das formas admitidas em direito.
- (B) compõem a Administração Indireta somente pessoas jurídicas de direito público, sob pena de desvirtuar o conceito do instituto e admitir que entidades privadas, prestadoras de atividade econômica, façam parte de tal conceito.
- (C) quando o Estado executa tarefas por meio de seus órgãos internos, está diante da Administração Direta estatal no desempenho de atividade descentralizada.
- (D) a autarquia, entidade integrante da Administração Indireta, tem as mesmas prerrogativas e sujeições da Administração Direta, inclusive capacidade política.
- (E) o princípio da reserva legal só se aplica às autarquias; assim, a sociedade de economia mista, por exemplo, não necessita de lei autorizando sua instituição.

24. Constitui característica convergente entre a gestão pública e a gestão privada:

- (A) atividade regida por recursos oriundos de contribuições compulsórias dos cidadãos e empresas, que devem ser direcionados para a prestação do serviço público e do bem comum.
- (B) subordinação à supremacia do interesse público e à obrigação da continuidade da prestação do serviço.
- (C) possibilidade de fazer tudo aquilo que não estiver proibido por lei.
- (D) busca pelo lucro financeiro e por formas de garantir a sustentabilidade do negócio.
- (E) preocupação com a produtividade, eficiência, eficácia e efetividade de suas ações.

25. Considere:

- I. A organização que implementa os departamentos de recursos humanos, jurídico e de finanças para o seu funcionamento, adota o critério de departamentalização funcional.
- II. A estrutura de uma organização será horizontal quando estiver assentada em diversos e bem delimitados níveis hierárquicos.
- III. A departamentalização por projetos funda-se em atividades permanentes desenvolvidas por determinada organização.

Está correto o que consta de

- (A) I e II, apenas.
- (B) I, II e III.
- (C) III, apenas.
- (D) I, apenas.
- (E) II, apenas.

**Noções sobre Licitações e Contratos Administrativos**

26. A Administração Municipal encontra determinado imóvel que, por suas características e localização, mostra-se ideal para a instalação de órgão municipal dedicado à vigilância sanitária. Consultado o proprietário, este afirma que não tem interesse na venda do imóvel, mas que possui interesse em terreno de propriedade do Município, estando disposto a realizar uma permuta. Em avaliação realizada, verificou-se que ambos os imóveis possuem valor de mercado equivalente. Em vista de tal situação e à luz do que dispõe a Lei nº 8.666/1993, o Município
- (A) deverá desapropriar o imóvel que é de seu interesse, visto que a lei não autoriza a permuta.
  - (B) deve promover licitação para a venda de imóvel e, caso o proprietário seja vencedor, poderá utilizar o valor da venda para comprar o imóvel de seu interesse.
  - (C) poderá realizar permuta entre os imóveis, sem a necessidade de licitação, mas deverá providenciar autorização legislativa para tanto.
  - (D) poderá determinar a locação compulsória do imóvel do particular, em vista da recusa por ele manifestada, dispensada a licitação para tal finalidade.
  - (E) poderá adquirir o imóvel por inexigibilidade de licitação e promover a dação em pagamento por meio do terreno, desde que obtenha autorização legislativa.
- 
27. Sobre a formalização do contrato administrativo, a Lei nº 8.666/1993 prescreve que
- (A) pode ser feita antes mesmo da adjudicação, desde que não haja recursos em relação às fases precedentes de habilitação e julgamento.
  - (B) é cláusula essencial do contrato a garantia de execução contratual, que sempre deverá ser exigida.
  - (C) deve haver a fixação de cláusula penal pecuniária em desfavor da contratante e da contratada.
  - (D) dele deverá constar necessariamente cláusula que declare competente o foro da sede da Administração para dirimir qualquer questão contratual, sem exceções.
  - (E) a publicação resumida do instrumento de contrato ou de seus aditamentos na imprensa oficial, que é condição indispensável para sua eficácia, deve ser providenciada pela Administração até o quinto dia útil do mês seguinte ao de sua assinatura.
- 
28. Uma empresa produtora de equipamentos de saúde foi contratada pela Secretaria Estadual de Saúde para fornecer ventiladores pulmonares para o Hospital Estadual. Todavia, dois dias antes de esgotar o prazo de entrega dos equipamentos, a empresa teve os ventiladores requisitados pelo Ministério da Saúde, o que impossibilitou a execução do objeto no prazo contratualmente fixado. Diante de tal situação,
- (A) a empresa deve sofrer sanção pelo descumprimento contratual, pois trata-se de caso fortuito, circunstância que deve ser suportada pela contratada.
  - (B) trata-se de situação extracontratual e imprevista, retardadora do cumprimento da obrigação contratual, justificando a prorrogação do prazo de execução.
  - (C) a empresa deve receber quitação das suas obrigações contratuais, visto que a natureza hierarquizada e unificada do Sistema Único de Saúde cria situação de solidariedade entre os entes federativos.
  - (D) trata-se de circunstância de força maior, justificadora de anulação do contrato, visto que o objeto se tornou inexequível.
  - (E) deve haver revogação unilateral do contrato pela Administração, em razão do perecimento do objeto.

**Finanças Públicas**

29. O Anexo de Riscos Fiscais é um importante documento para o planejamento da ação estatal, pois nele são avaliados os passivos contingentes e outros riscos capazes de afetar as contas públicas, informando as providências a serem tomadas, caso se concretizem. Tal documento deve integrar
- (A) a Lei Orçamentária Anual.
  - (B) o Plano Plurianual.
  - (C) a Lei de Diretrizes Orçamentárias.
  - (D) o Decreto anual de execução orçamentária.
  - (E) a Exposição de Motivos da Lei Orçamentária Anual.





30. Acerca da despesa pública, a Lei nº 4.320/1964 estatui que
- (A) reserva é o ato emanado de autoridade competente que cria para o Estado obrigação de pagamento pendente ou não de implemento de condição.
  - (B) é dispensada a emissão da nota de empenho para realização da despesa em casos especiais previstos na legislação específica.
  - (C) o regime de adiantamento é sistema de pagamento antecipado de despesas, quando as características do contrato assim o justificarem, por exemplo, nas compras internacionais sujeitas à variação cambial.
  - (D) a liquidação do pagamento deve ser feita, ainda que haja total inadimplência por parte do contratado, como medida prévia ao cancelamento do empenho.
  - (E) um servidor pode se responsabilizar por, no máximo, três adiantamentos.

---

#### Relações Trabalhistas. Legislações

31. O contrato de trabalho temporário, com relação ao mesmo empregador, não poderá exceder o prazo de cento e oitenta dias, consecutivos ou não. Comprovada a manutenção das condições que o ensejaram, nos termos da Lei nº 13.429/2017, além desse prazo, o contrato
- (A) poderá ser prorrogado por até noventa dias, consecutivos ou não.
  - (B) não poderá ser prorrogado por expressa vedação legal.
  - (C) poderá ser prorrogado por até cento e vinte dias, necessariamente consecutivos.
  - (D) poderá ser prorrogado por até cento e oitenta dias, consecutivos ou não.
  - (E) poderá ser prorrogado por até sessenta dias, necessariamente consecutivos.

32. Nos termos da Lei nº 13.467/2017, a pretensão quanto a créditos resultantes das relações de trabalho prescreve em cinco anos para os trabalhadores urbanos e rurais, até o limite de dois anos após a extinção do contrato de trabalho. O ajuizamento de reclamação trabalhista interromperá a prescrição
- (A) desde que em juízo competente, podendo ser extinta com ou sem resolução de mérito, produzindo efeitos em relação a todos os pedidos, idênticos ou não.
  - (B) desde que em juízo competente, devendo ser extinta com resolução de mérito, produzindo efeitos apenas em relação aos pedidos idênticos.
  - (C) mesmo que em juízo incompetente, ainda que venha a ser extinta sem resolução do mérito, produzindo efeitos apenas em relação aos pedidos idênticos.
  - (D) mesmo que em juízo incompetente, devendo ser extinta com resolução do mérito, produzindo efeitos em relação a todos os pedidos, idênticos ou não.
  - (E) desde que em juízo competente, podendo ser extinta com ou sem resolução de mérito, produzindo efeitos apenas em relação aos pedidos idênticos.

---

#### Noções de Direito Administrativo

33. Cássio era servidor do Tribunal de Justiça do Estado e foi demitido do cargo, em razão da acusação de ter emitido um alvará de soltura e falsificado a assinatura do juiz da Comarca, o que possibilitou a fuga de um preso perigoso. Concomitantemente, no processo penal ajuizado contra Cássio, o juiz absolveu-o da acusação, indicando que o alvará falsificado fora emitido por outro servidor, de nome João, tendo transitado em julgado a sentença absolutória dias após a decisão final do processo administrativo.

No caso em questão,

- (A) a decisão judicial não beneficiará Cássio, dado o princípio da independência das instâncias de responsabilização.
- (B) a decisão apenas afastará a responsabilidade civil, mas não exculpará Cássio no processo administrativo, dada a natureza soberana da decisão ali adotada.
- (C) Cássio deverá ajuizar ação de reintegração de posse, visto que a Administração não pode rever o ato, que está sob o manto da coisa julgada administrativa.
- (D) a Administração deverá promover a revisão de sua decisão, visto que a sentença absolutória que nega o fato ou a autoria deve ser acatada na esfera administrativa.
- (E) deve ser anulado o processo administrativo disciplinar desde a citação inicial, retomando-se a partir daí sua instrução e proferindo-se nova decisão.



34. Nos termos do Estatuto dos Servidores Públicos do Estado de Santa Catarina (Lei nº 6.745/1985), a estabilidade
- (A) é condição necessária para o progresso funcional.
  - (B) diz respeito ao cargo e não ao serviço público.
  - (C) propicia a aposentadoria compulsória, em caso de extinção do cargo.
  - (D) é o direito que todo servidor estatutário adquire, após aprovação em avaliação especial de desempenho, ao final do período de estágio probatório.
  - (E) é condição necessária para a concessão de licença para fins eleitorais.
- 
35. A Lei Complementar nº 491/2010 estabelece o Estatuto Jurídico Disciplinar aplicável na Administração Direta e Indireta do Estado de Santa Catarina. Consoante tal diploma,
- (A) admite-se a adoção do ajustamento de conduta, como medida disciplinar alternativa, para qualquer infração aos deveres funcionais.
  - (B) a sindicância pode ter natureza punitiva, no caso de aplicação de penalidade de suspensão de até 30 dias.
  - (C) para infrações como abandono de cargo, acumulação ilegal e inassiduidade, adota-se procedimento disciplinar de natureza sumária, em que é dispensada a instrução processual.
  - (D) a autoridade que, de qualquer modo, tiver conhecimento de irregularidade no serviço público tem a discricionariedade de determinar a apuração dos fatos.
  - (E) em caso de revelia, será designado um servidor, obrigatoriamente bacharel em direito, como defensor do acusado.
- 
36. Silas era titular em cargo efetivo de assistente de educação, na Secretaria da Educação do Estado, e foi aprovado em concurso público de provas e títulos para cargo de técnico judiciário auxiliar do Tribunal de Justiça do Estado. Em vista da aprovação, exonerou-se do primeiro cargo e, após nomeação e formalidades de praxe, tomou posse do cargo pertencente ao Tribunal de Justiça. Durante o estágio probatório, soube-se que assediou uma estagiária do Tribunal e, por força dessa conduta, instaurou-se processo administrativo disciplinar. Nesse ínterim, em razão da avaliação final no estágio probatório, Silas foi exonerado do cargo, antes que fosse concluído o processo administrativo disciplinar.
- Diante de tal situação,
- (A) a exoneração foi nula, em razão de vício do motivo, pois a Administração deveria aguardar o término do processo disciplinar.
  - (B) o processo administrativo disciplinar deve ser transferido para a Secretaria de Educação, em vista da recondução do servidor ao cargo de origem.
  - (C) não deveria ter sido aberto processo administrativo disciplinar, pois esse só se aplica aos servidores que já alcançaram a estabilidade.
  - (D) não deveria ter sido exonerado o servidor, aguardando-se o término do processo administrativo disciplinar, ainda que após o período de estágio probatório.
  - (E) a exoneração do servidor, caso condenado no processo administrativo disciplinar, será convertida em demissão.
- 
37. Nos termos do Regimento Interno do Tribunal de Justiça de Santa Catarina, compete ao Presidente do Tribunal
- (A) aprovar o regimento interno do Conselho da Magistratura.
  - (B) disciplinar a eleição dos cargos de direção e das funções administrativas do Tribunal de Justiça.
  - (C) indicar ao presidente da República os nomes de cidadãos de notável saber jurídico e idoneidade moral e seus suplentes para compor o Tribunal Regional Eleitoral na classe de jurista.
  - (D) exercer a correição permanente do Tribunal.
  - (E) dar posse aos juízes substitutos.
- 
38. Acerca da Divisão e Organização Judiciária do Estado de Santa Catarina, o Código regente (Lei nº 5.624/1979) estatui que
- (A) a direção do Foro, nas comarcas onde houver mais de um juiz, será exercida preferencialmente pelo magistrado mais antigo que aceite a indicação, com mandato de 2 anos.
  - (B) as Comarcas são classificadas em 4 entrâncias comuns e uma entrância especial.
  - (C) o juiz substituto não vitalício terá função itinerante, com exercício em qualquer comarca ou vara do Estado, mediante designação do Presidente do Tribunal, tendo competência limitada, pois não poderá praticar os atos reservados por lei ao juiz vitalício.
  - (D) o Tribunal de Justiça poderá reunir duas ou mais comarcas para que constituam uma "comarca integrada", o que significa que haverá um único juiz oficiante para as comarcas reunidas.
  - (E) o Tribunal de Justiça, órgão supremo do Poder Judiciário do Estado, compõe-se de 26 desembargadores, sendo que seu Órgão Especial é formado pelos 13 membros mais antigos da Corte.

**Noções de Direito Constitucional**

**Atenção:** Para responder às questões de números 39 a 43, considere a Constituição Federal de 1988.

39. Maria, 11 anos, nasceu no Líbano, filha de pais brasileiros que estavam passando suas férias no país e lá acabaram fixando residência após o seu nascimento, onde vivem todos até o momento. Roberto, advogado, é originário de país de língua portuguesa, possui idoneidade moral e reside no Brasil há sete meses ininterruptos. Dirk, engenheiro, é alemão, não possui condenação penal e reside no Brasil há 11 anos ininterruptos.

Considerando apenas os dados fornecidos, Maria será brasileira nata

- (A) se tiver sido registrada em repartição brasileira competente ou vier a residir na República Federativa do Brasil e optar, em qualquer tempo, depois de atingida a maioridade, pela nacionalidade brasileira; Roberto poderá adquirir a nacionalidade brasileira, na forma da lei, já que exigidas aos originários de língua portuguesa residência no Brasil por seis meses ininterruptos e idoneidade moral; e Dirk poderá se naturalizar brasileiro já que residente na República Federativa do Brasil há mais de dez anos ininterruptos e sem condenação penal, desde que requeira a nacionalidade brasileira.
- (B) se tiver sido registrada em repartição brasileira competente ou vier a residir na República Federativa do Brasil e optar, em qualquer tempo, depois de atingida a maioridade, pela nacionalidade brasileira; Roberto ainda não pode adquirir a nacionalidade brasileira, já que exigida aos originários de língua portuguesa residência no Brasil por um ano ininterrupto; e Dirk, se requerer a naturalização brasileira, não a terá deferida, já que residente na República Federativa do Brasil há menos de quinze anos ininterruptos.
- (C) apenas se tiver sido registrada em repartição brasileira competente; Roberto poderá adquirir a nacionalidade brasileira, na forma da lei, já que exigidas aos originários de língua portuguesa residência por seis meses ininterruptos e idoneidade moral; e Dirk não poderá se naturalizar brasileiro, já que residente na República Federativa do Brasil há menos de quinze anos ininterruptos.
- (D) pois é filha de pais brasileiros, independentemente de registro em repartição brasileira competente; Roberto não poderá adquirir a nacionalidade brasileira, já que exigida aos originários de língua portuguesa residência no Brasil por um ano ininterrupto; e Dirk poderá se naturalizar brasileiro já que residente na República Federativa do Brasil há mais de dez anos ininterruptos e sem condenação penal, desde que requeira a nacionalidade brasileira.
- (E) pois é filha de pais brasileiros independentemente de registro em repartição brasileira competente; Roberto poderá adquirir a nacionalidade brasileira, na forma da lei, já que exigidas aos originários de língua portuguesa residência por seis meses ininterruptos e idoneidade moral; e Dirk não poderá se naturalizar brasileiro, já que residente na República Federativa do Brasil há menos de quinze anos ininterruptos.
- 
40. Ana Carolina, com 32 anos de idade, é Prefeita de um município brasileiro e deseja se candidatar ao cargo de Governadora do seu Estado. Em vista disso, Ana Carolina
- (A) não pode concorrer ao Governo do Estado porque tem menos de 35 anos de idade.
- (B) deve renunciar ao mandato de Prefeita até seis meses antes do pleito para concorrer ao Governo do Estado.
- (C) deve renunciar ao mandato de Prefeita pelo menos um ano antes do pleito para concorrer ao Governo do Estado.
- (D) pode concorrer ao Governo do Estado independentemente de renúncia ao cargo de Prefeita que exerce.
- (E) pode concorrer ao Governo do Estado, independentemente de renúncia, desde que se licencie de seu mandato três meses antes do pleito.
- 
41. Cristina requereu a um determinado órgão público informação de interesse coletivo. Cristina
- (A) tem direito a receber essa informação, independentemente de ser ela considerada sigilosa por ser imprescindível à segurança do Estado, já que se trata de interesse da coletividade.
- (B) não tem direito a receber essa informação. Teria direito apenas se referida informação fosse de seu interesse particular, salvo se seu sigilo fosse imprescindível à segurança da sociedade e do Estado.
- (C) não tem direito a receber essa informação. Teria direito apenas se referida informação fosse de seu interesse particular, independentemente de ser ela considerada sigilosa por ser imprescindível à segurança do Estado, já que seria de cunho privado.
- (D) não tem direito a receber essa informação. Contudo, caso o órgão público, por mera liberalidade, entender que referida informação é relevante para a coletividade, independente de ser ela considerada sigilosa por ser imprescindível à segurança do Estado, poderá fornecê-la a qualquer tempo.
- (E) tem direito a receber essa informação, salvo se seu sigilo for imprescindível à segurança da sociedade e do Estado.



42. Denise é servidora pública da união, titular de cargo efetivo, abrangida por regime próprio de previdência social e sofreu acidente doméstico que a incapacitou permanentemente para o trabalho. Denise será aposentada por incapacidade permanente para o trabalho, no cargo em que está investida,
- (A) se insuscetível de readaptação, o que será apurado mediante laudo médico, sendo definitiva e permanente a aposentadoria, não havendo necessidade de realização de avaliações periódicas.
  - (B) mesmo que suscetível de readaptação, hipótese em que será obrigatória a realização de avaliações periódicas para verificação da continuidade das condições que ensejaram a concessão da aposentadoria.
  - (C) mesmo que suscetível de readaptação, hipótese em que será obrigatória a apresentação de laudo médico atestando a incapacidade de Denise e realização de uma única avaliação após 5 anos para confirmação da permanência de sua condição de incapacidade.
  - (D) se insuscetível de readaptação, hipótese em que será obrigatória a realização de avaliações periódicas para verificação da continuidade das condições que ensejaram a concessão da aposentadoria.
  - (E) mesmo que suscetível de readaptação, hipótese em que não será obrigatória a realização de avaliações periódicas para verificação da continuidade das condições que ensejaram a concessão da aposentadoria.

43. Com relação ao Poder Judiciário, considere:

- I. Ingresso na carreira da Magistratura, cujo cargo inicial será o de juiz substituto, mediante concurso público de provas e títulos, com a participação da Ordem dos Advogados do Brasil em todas as fases, exigindo-se do bacharel em direito, no mínimo, três anos de atividade jurídica e obedecendo-se, nas nomeações, à ordem de classificação.
- II. Compete ao Supremo Tribunal Federal, precipuamente, a guarda da Constituição Federal, cabendo-lhe processar e julgar, originariamente, a extradição solicitada por Estado estrangeiro.
- III. O Superior Tribunal de Justiça compõe-se de, no mínimo, trinta Ministros, os quais serão nomeados pelo Presidente da República, dentre brasileiros com mais de trinta e cinco e menos de setenta anos, de notável saber jurídico e reputação ilibada, depois de aprovada a escolha pela maioria absoluta do Senado Federal.
- IV. O Tribunal de Justiça poderá funcionar descentralizadamente, constituindo Câmaras regionais, a fim de assegurar o pleno acesso do jurisdicionado à justiça em todas as fases do processo.

É correto o que consta de

- (A) I, II e IV, apenas.
- (B) I, II, III e IV.
- (C) I e III, apenas.
- (D) III e IV, apenas.
- (E) II e IV, apenas.

### Fundamentos e Teorias Administrativas

44. A tabela abaixo apresenta a relação de itens em hipotético estoque na Divisão de Almoxarifado do Tribunal de Justiça.

Código Sku	Utilização Anual por Unidade	Custo por Unidade (\$)
1	55	8,00
2	30	80,00
3	50	8,00
4	650	2,00
5	67	100,00
6	10	50,00
7	800	30,00
8	50	4,00
9	100	4,00
10	200	10,00
<b>TOTAL</b>	<b>2,012</b>	

O analista da divisão utilizou-se da classificação ABC com base na "Lei de Pareto" aplicada à gestão de estoques. Portanto os itens que correspondem à curva "A" estão expressos, apenas, nos códigos SKU

- (A) 5 e 7.
- (B) 4; 5 e 7.
- (C) 2; 5 e 6.
- (D) 2 e 5.
- (E) 4 e 10.



45. O Balanced Scorecard (BSC), por meio de seus indicadores de desempenho, organizados em torno de quatro perspectivas, permite um desdobramento mais efetivo do planejamento estratégico de uma organização. Todo o indicador de desempenho selecionado para o BSC tem como principal característica
- (A) não contemplar indicadores “não financeiros”.
  - (B) possuir somente orientação de curto prazo.
  - (C) fazer parte de uma cadeia de relação de causa e efeito.
  - (D) ser elaborado sem o envolvimento da alta direção.
  - (E) não requerer revisão periódica do planejamento estratégico.
- 
46. Em uma situação hipotética, após completar uma semana de expediente no Tribunal de Justiça, um analista se colocou em uma situação de tentar decifrar a cultura daquela organização. Contudo, com pouco tempo de admissão, ele constatou que aquilo que ele podia ver e decifrar estava restrito aos “artefatos”, que são representados por
- (A) filosofias, estratégias e objetivos.
  - (B) pressuposições básicas.
  - (C) valores compartilhados.
  - (D) percepções, pensamentos e sentimentos.
  - (E) ritos e símbolos.
- 
47. O quadro abaixo apresenta as cinco disciplinas de uma “organização que aprende” e suas principais características.

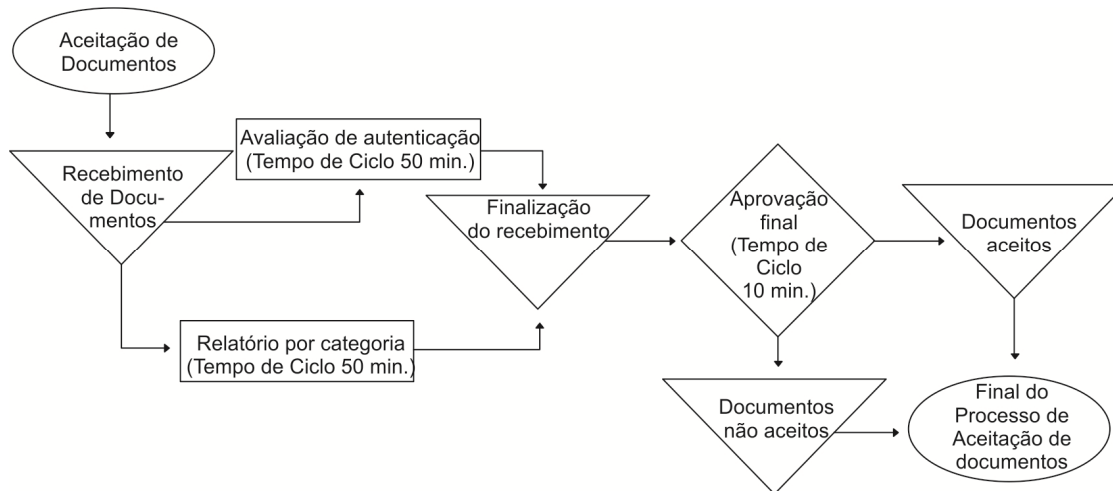
Disciplinas	Características
1. Domínio pessoal	X. Visa estabelecer objetivos comuns e criação de imagens de um futuro que se pretende alcançar.
2. Modelos Mentais	Y. Consiste em aprender a gerar e manter um clima de tensão criativa nas pessoas.
3. Visão Compartilhada	Z. Orienta as pessoas para uma visão global e à solução de problemas interdependentes e inter-relacionados.
4. Aprendizado em Equipe	W. Tem por objetivo interação grupal para desenvolver uma inteligência e capacidade maior do que a soma dos talentos individuais.
5. Raciocínio Sistêmico	K. Consiste nas pessoas ajustarem suas imagens internas do mundo para melhorar suas ações e decisões.

A correlação correta entre as colunas está expressa na alternativa:

- (A) 1–K; 2–Z; 3–X; 4–Y; 5–W.
  - (B) 1–Z; 2–W; 3–K; 4–Y; 5–X.
  - (C) 1–W; 2–K; 3–Z; 4–X; 5–Y.
  - (D) 1–Y; 2–K; 3–X; 4–W; 5–Z.
  - (E) 1–Y; 2–W; 3–Z; 4–K; 5–X.
- 
48. De acordo com o PMBOK, mobilizar, desenvolver e gerenciar a equipe do projeto são atividades que fazem parte do agrupamento de processos de gerenciamento de projetos denominado Grupo de Processos de
- (A) monitoramento e controle.
  - (B) planejamento.
  - (C) execução.
  - (D) iniciação.
  - (E) comunicação.



49. A figura abaixo apresenta um Diagrama de fluxo do processo de serviço.



Com base no diagrama, o conteúdo total de mão de obra direta equivale a

- (A) 80 minutos.
  - (B) 90 minutos.
  - (C) 10 minutos.
  - (D) 50 minutos.
  - (E) 30 minutos.
- 
50. Ao comparar a pirâmide de necessidades de Maslow com o modelo de fatores de higiene-motivação de Herzberg, as *políticas administrativas e empresariais* equivalem, para ambos os modelos, respectivamente, às necessidades
- (A) fisiológicas e aos fatores higiênicos.
  - (B) sociais e aos fatores motivacionais.
  - (C) de segurança e aos fatores higiênicos.
  - (D) de autorrealização e aos fatores motivacionais.
  - (E) de estima e aos fatores motivacionais.
- 
51. Os Fundamentos da Gestão para Excelência são um composto de valores e princípios que revelam padrões culturais internalizados nas organizações. Esses fundamentos são distribuídos em Temas. O atributo que o "Fundamento Desenvolvimento Sustentável" tem como um dos seus Temas é o
- (A) Aprendizado Organizacional.
  - (B) Produto.
  - (C) Relacionamento com as partes interessadas.
  - (D) Olhar para o futuro.
  - (E) Econômico-financeiro.

### Administração Financeira

52. Considere, abaixo, alguns dados da Demonstração dos Resultados da empresa "XYZ".

Demonstração dos Resultados Empresa "XYZ"	
	Em 31/12/2019 (R\$ mil)
Receita com Vendas	10.000
Custo dos Produtos Vendidos	7.000
Despesas Operacionais:	-
Despesas com vendas	500
Despesas Administrativas	200
Despesas com depreciação	300
Despesas com Juros	200
Imposto de Renda	300

Com base nesses dados, a Margem Operacional da empresa "XYZ" é de

- (A) 30%.
- (B) 20%.
- (C) 18%.
- (D) 25%.
- (E) 35%.



53. Na estrutura de capital de uma empresa, a alavancagem operacional leva em consideração:
- (A) A relação entre as vendas da empresa e o seu Lucro Antes dos Juros e Imposto de Renda (Lajir).
  - (B) O relacionamento entre o Lucro Antes dos Juros e Imposto de Renda (Lajir) da empresa e seus resultados por ação sobre ações ordinárias (LPA).
  - (C) O relacionamento entre as receitas de vendas da empresa e o Lucro por Ação.
  - (D) A relação entre as vendas da empresa e os custos dos produtos vendidos.
  - (E) A relação entre o Lucro Líquido da empresa e o Custo Médio Ponderado de Capital (CMPC).
- 
54. A entrada-chave para o processo de planejamento financeiro a curto prazo e, posteriormente, o orçamento de caixa é o
- (A) plano de financiamento.
  - (B) plano de produção.
  - (C) prognóstico de vendas.
  - (D) plano de dispêndio de capital.
  - (E) balanço patrimonial do período atual.
- 

#### Noções de Matemática Financeira

55. A Comissão de Gestão Socioambiental do Tribunal de Justiça, em uma situação hipotética, recebeu um relatório setorial informando que, no segundo semestre de 2019, o desmatamento no Estado aumentara 32%. Somando-se a esse número, um aumento de 25% do primeiro semestre do mesmo ano, a porcentagem da variação total daquele ano foi de
- (A) 57%.
  - (B) 65%.
  - (C) 7%.
  - (D) 28%.
  - (E) 71%.
- 
56. Em uma situação hipotética, um servidor do Tribunal de Justiça pretende iniciar um investimento de R\$ 25.000 a 12% de juro composto ao ano, pensando em sua aposentadoria. Esse investimento ultrapassará R\$ 250.000 após
- (A) 21 anos.
  - (B) 20 anos.
  - (C) 26 anos.
  - (D) 12 anos.
  - (E) 31 anos.
- 
57. Um analista administrativo do Tribunal de Justiça, em uma situação hipotética, deparou-se com a necessidade de calcular a Taxa Percentual Anual (TPA) de juros de uma conta de depósito que tem taxa nominal de 9% composta mensalmente. Sendo assim, a TPA correta é igual a:
- (A) 9%.
  - (B) 10%.
  - (C) 8,7%.
  - (D) 9,4%.
  - (E) 9,8%.
-



## Noções de Estatística

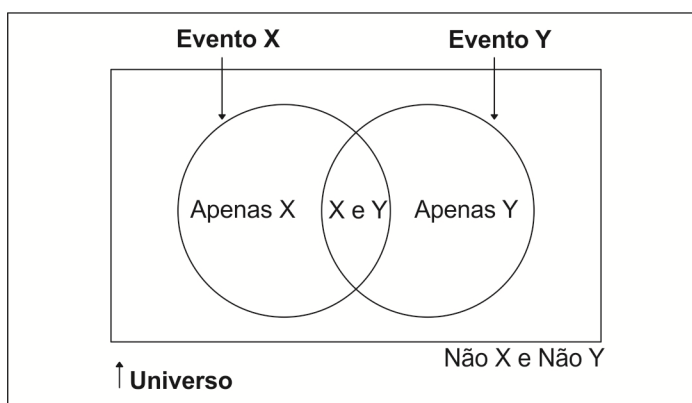
58. O número de processamento de documentos da Divisão de Pesquisa e Informação do Tribunal de Justiça requer uma análise refinada de variáveis quantitativas. Dentre os procedimentos analíticos, indicam-se as medidas de dispersão, representadas por
- (A) Média harmônica e Média geométrica.
  - (B) Amplitude total e Desvio médio absoluto.
  - (C) Moda e Mediana.
  - (D) Média aritmética simples e Média aritmética ponderada.
  - (E) Mediana para dados agrupados em classes e Mediana para dados não agrupados.

59. Em uma situação hipotética, a Divisão de Licitação e Compras Diretas do Tribunal de Justiça precisa importar um dos cinco equipamentos de tecnologia disponíveis. Os resultados associados à importação de cada um dos equipamentos dependem, além dos preços (\$), do comportamento do câmbio, que poderá se mostrar valorizado, com probabilidade igual a 60%, ou desvalorizado, com probabilidade igual a 40%, conforme apresentados na tabela abaixo.

Alternativa de Decisão (Equipamentos)	Resultados Possíveis e Probabilidade	
	Câmbio Valorizado (Probabilidade = 60%)	Câmbio Desvalorizado (Probabilidade = 40%)
EKIP 938z	\$95	\$60
EKIP 745w	\$105	\$55
EKIP 369y	\$110	\$45
EKIP 477h	\$98	\$28
EKIP 299x	\$120	\$30

A decisão que fornece o maior valor esperado envolve a importação do equipamento:

- (A) EKIP 938z.
  - (B) EKIP 299x.
  - (C) EKIP 369y.
  - (D) EKIP 745w.
  - (E) EKIP 477h.
60. Uma forma fácil e simples de representar probabilidades é feita com o auxílio da figura abaixo.



Trata-se de um Diagrama de

- (A) Ocorrência.
- (B) Classes.
- (C) Gantt.
- (D) Pareto.
- (E) Venn.