

# CÂMARA MUNICIPAL DE CONSELHEIRO LAFAIETE

## Contador

### INSTRUÇÕES GERAIS

1. A prova terá, no máximo, 4 (quatro) horas de duração, incluído o tempo destinado à transcrição do gabarito na Folha de Respostas, único documento válido para correção.
2. O candidato deverá conferir os seus dados pessoais na Folha de Respostas, em especial seu nome e o número do documento de identidade.
3. Não haverá substituição da Folha de Respostas por erro do candidato ou por qualquer outro dano.
4. O candidato só poderá se retirar do recinto após 1 (uma) hora, contada a partir do efetivo início da prova.
5. Este caderno contém 40 questões de múltipla escolha, assim distribuídas: Língua portuguesa (numeradas de 01 a 10), Conhecimentos gerais sobre o Município (numeradas de 11 a 20) e Conhecimentos específicos (numeradas de 21 a 40).
6. Cada questão apresenta 5 alternativas, de (a) a (e). O candidato deverá lê-las, atentamente, antes de responder a elas.
7. Caso o Caderno não corresponda ao cargo de inscrição, esteja incompleto ou com defeito, o candidato deverá solicitar ao aplicador, durante os primeiros 20 minutos, as providências cabíveis.
8. O candidato deverá entregar ao aplicador este caderno de provas e a Folha de Respostas.
9. O candidato passará o gabarito para a Folha de Respostas, utilizando caneta esferográfica azul ou preta.

**ATENÇÃO: FOLHA DE RESPOSTAS SEM ASSINATURA NÃO TEM VALIDADE**

**A folha de respostas não deve ser dobrada, amassada ou rasurada**

---

Nome do candidato

Por favor, abra somente quando autorizado.



**O GABARITO E O CADERNO DE PROVAS SERÃO DIVULGADOS NO ENDEREÇO ELETÔNICO:**

**CONCURSO.FUNDACAOCEFETMINAS.ORG.BR**



## LÍNGUA PORTUGUESA

AS QUESTÕES 01 A 05 SE REFEREM AO TEXTO A SEGUIR.

Adicto\*

Fraga\*\*

Refleti muito antes de revelar: também sou usuário de droga. Pense! A mais traiçoeira. Sim, sou dependente químico, como tantos em nossa época, mundo a fora.

Entenda. Eu aspiro oxigênio. Vulgo ar. Aí. Pronto, falei!

Antes de me abrir, pensei primeiro em me tratar. A vergonha me impediu de procurar ajuda. Do ridículo de não ser compreendido ao denunciar esse vício terrível, do qual a sociedade global parece nem tomar conhecimento. Imagine chegar num AA (Aspiradores Anônimos) e declarar: Hoje fiquei quase 3 minutos sem aspirar ar. E anunciar a meta triunfal para a próxima semana: Talvez 4 minutos!

Puizé, aspiro ar desde bebê. Desconfio que minha mãe também consumia doses cavalares de ar durante a gestação. Assim fui contaminado. Ainda bem que na maternidade suspeitaram e logo me entubaram.



Vício remoto da espécie, de quando um anfíbio saiu d'água. Dizem que hoje já somos mais de 7 bilhões de viciados. Até os animais dependem dessa droga. As plantas preferem gás carbônico.

Qualquer viciado em ar sabe como é inflar os pulmões, a ânsia frenética, incessante, ah!, aquela sensação contínua de bem-estar. Vício estúpido, sei. Porque é fatal para todos, questão de tempo. Ninguém sai vivo desse hábito.

Usamos as narinas no piloto automático, nem pensamos no que fazemos. Tem gente até que respira pela boca, forma ainda mais perigosa de ingerir ar, já que a droga leva pra dentro de nós micróbios, vírus e bactérias. Ar é tão perigoso que certas bactérias o evitam, preferem a saudável vida anaeróbica.

Há casos de gente que tenta permanecer o maior tempo possível sem ar; são capazes de mergulho em apneia a grandes profundidades até quase estourarem os pulmões. Não se curam, apenas entram no Livro Guinness. Alpinistas são outros que sobem a alturas com ar rarefeito e lá em cima, narinas semi-abertas, suportam momentos terríveis de falta de ar. Experimentam uma vitória ínfima, só para contar para seus familiares que tentaram, mas, infelizmente, esse gás maldito que envolve o planeta os venceu mais uma vez. Nem o Everest consola.

Taí o problema desse vício: a abundância da substância ao nosso redor. Tal fartura impede, pelo menos, o tráfico. Somos viciados em qualquer ar: aspiramos no trânsito, em meio a plantações regadas a agrotóxicos e ao ar viciado de elevadores e ônibus lotados, recintos fechados.

As autoridades sanitárias nunca tentaram entender tamanha adição. Saber porque as crises de abstinência são tão dramáticas, às vezes poucos segundos. E mesmo como pacientes terminais, ainda assim nos agarramos às máscaras: ar, mais ar, mais, mais!

E nem o irrespirável clima do país em meio a campanhas políticas arrefece o vício. Acho que o ar não será criminalizado.

\* Dependente; submisso.

\*\* Autor do texto e colunista no jornal Extraclasse.

(Disponível em: <<https://www.extraclasse.org.br/edicoes/2018/09/adicto/>>. Acesso em: 04 jan. 2019. Adaptado.)

## QUESTÃO 01

Após a leitura atenta da crônica, é correto afirmar que

- a) o texto é parte de um discurso argumentativo, em que o autor, por meio de um depoimento, expõe seu ponto de vista de forma reverenciosa.
- b) o cronista, no título, projeta uma contradição acerca do que vai expor e, com isso, a ideia central se destaca na mensagem passada literalmente.
- c) a primeira frase do texto contém uma expressão de sentido ambíguo, resultado de um cuidadoso planejamento do autor para obter a adesão do leitor.
- d) o produtor do texto narra um episódio cotidiano de modo isento e imparcial, requisitos da linguagem própria do gênero textual crônica jornalística.
- e) o autor do texto usa como recurso evidente para a progressão temática o estabelecimento de relações de condição entre as informações na defesa de seu ponto de vista.

## QUESTÃO 02

Toda língua se encontra em constante alteração, evolução e atualização, não sendo um sistema estático e fechado. O uso faz a regra e os falantes utilizam a língua de modo a suprir suas necessidades comunicativas, adaptando-a conforme suas intenções e necessidades.

A esse respeito, leia o texto escrito por Fraga e avalie as afirmações apresentadas sobre variação linguística.

- I. Observa-se que, embora o texto se apresente em registro escrito, há ocorrências de características típicas da linguagem oral.
- II. Ocorre um distanciamento entre autor e leitor, provocado pelo emprego de palavras com significados pouco conhecidos.
- III. São amostras do português culto urbano a maneira de estruturar as frases, o vocabulário e, em algumas passagens, o significado das palavras.
- IV. Verifica-se, na construção do texto, uma inadequação vocabular, demonstrada pela seleção de palavras e expressões como, por exemplo, “pui-zé” e “Vulgo ar”.
- V. Identifica-se a variação situacional porque, de acordo com o contexto, há momentos em que é utilizado um registro formal e outros em que se usa o coloquialismo.

Está correto apenas o que se afirma em

- a) I, III e V.
- b) I, III e IV.
- c) II, IV e V.
- d) II, III e IV.
- e) I, IV e V.

## QUESTÃO 03

Um texto sempre é construído com base na leitura de mundo do autor, ou seja, ao se reportar a outros textos, estabelece com eles uma relação direta ou indireta.

Com base na leitura do texto, informe se é verdadeiro (V) ou falso (F) o que se afirma.

- ( ) A criação da sigla AA (Aspiradores Anônimos) remete a uma bricolagem em relação ao texto-fonte, pois alude a uma irmandade que ajuda pessoas a se recuperarem do alcoolismo.
- ( ) A noção de dialogismo, pela presença de diferentes vozes no texto, está exemplificada em frases como «Usamos as narinas no piloto automático» e «Acho que o ar não será criminalizado».
- ( ) A menção ao “Livro Guinness” é um exemplo de intertextualidade explícita, que, no texto em questão, tem como objetivo conferir atenção não só à informação, mas também à sua fonte.
- ( ) O uso adequado de signos verbais e não verbais nesse tipo de texto permite que se elimine um dos códigos, porque as informações são fornecidas pelo outro e há dissintonia dialógica entre eles.

De acordo com as afirmações, a sequência correta é

- a) F, V, V, F.
- b) F, V, F, F.
- c) V, V, F, V.
- d) V, F, V, F.
- e) F, F, V, V.

#### QUESTÃO 04

Quando lemos um texto, é possível determinar funções da linguagem com base nas características do discurso e nas intenções do locutor. Nesse sentido, a linguagem desempenha uma, outra ou várias funções, de acordo com o elemento de comunicação posto em foco pelo produtor do texto.

Considere esse princípio e identifique corretamente qual a função da linguagem predominante na crônica.

- Poética, pois existe um cronista que busca informar sobre sua maneira de lidar com os problemas advindos do ar contaminado.
- Fática, uma vez que se centra na expressão dos sentimentos, emoções e opiniões do autor, sendo um texto muito pessoal e subjetivo.
- Conativa, visto que o locutário (receptor) é o foco, pois o locutor busca convencê-lo dos males que afetam sua saúde e seu bem-estar.
- Metalinguística, já que há um trabalho sugestivo com a sonoridade e as imagens das palavras utilizadas e com a maneira como estão dispostas no papel.
- Expressiva, porque o produtor do texto, ao transmitir uma informação objetiva da realidade, coloca em evidência o referente, ou seja, o assunto ao qual a mensagem se refere.

#### QUESTÃO 05

Segundo o Novo Acordo Ortográfico da Língua Portuguesa, está correto o que se afirma em

- Na frase “Sim, sou dependente químico, como tantos em nossa época, mundo a fora”, a expressão sublinhada possui hífen.
- Na estrutura frasal “Puizé, aspiro ar desde bebê”, está prevista a dupla grafia para a palavra “bebê”, que recebe o acento circunflexo no Brasil e o acento agudo em Portugal.
- Na sentença “Alpinistas são outros que sobem a alturas com ar rarefeito e lá em cima, narinas semi-abertas, suportam momentos terríveis de falta de ar”, o termo em destaque está grafado corretamente.
- No período “... permanecer o maior tempo possível sem ar; são capazes de mergulho em apneia a grandes profundidades”, o termo “sem ar” teve sua grafia alterada e deveria ser escrito com hífen.

- Em “Até os animais dependem dessa droga. As plantas preferem gás carbônico, a expressão em destaque deve ser hifenizada, pois as palavras que a constituem são compostas por **aglutinação**.

#### QUESTÃO 06

##### O slogan e o hino

**Carlos Bozzo Junior**

Em 04 de janeiro, o slogan “Pátria Amada Brasil” e a logomarca – uma bandeira do país estilizada, que remete ao nascer do sol – do novo governo presidido por Jair Bolsonaro foram anunciados via redes sociais. Reafirmando o discurso nacionalista manifesto durante sua campanha, o presidente eleito usa o último verso do Hino Nacional brasileiro como marca



da recém-iniciada administração.

Símbolos patrióticos oficiais, os hinos nacionais surgiram no final do século 18 para despertar o sentimento de identidade nacional. Tanto faz se é uma marcha simples, que sua letra seja trivial, rebuscada, cheia de metáforas, pretensiosa, ou escrita no estilo parnasiano, como é o caso do hino brasileiro. Em ocasiões como a Copa do Mundo ou Olimpíadas, muitos entoam o hino com orgulho e respeito à nação que há dentro de nós.

(Folha de São Paulo, 9. Jan. 2019, p. B8. Adaptado.)

Preencha corretamente as lacunas, observando o que está em discussão.

Se o slogan do governo federal “Pátria Amada Brasil” fosse transcrito rigorosamente do Hino Nacional Brasileiro e obedecesse à gramática, ele deveria conter um (a) \_\_\_\_\_ antes do nome do país, porque nessa estrutura frasal, “Pátria amada” é o \_\_\_\_\_ e “Brasil”, o \_\_\_\_\_.

A sequência que preenche corretamente as lacunas do texto é

- vírgula / vocativo / aposto.
- reticências / vocativo / vocativo.
- ponto e vírgula / aposto / vocativo.
- ponto de exclamação / aposto / aposto.
- ponto de interrogação / vocativo / vocativo.

## QUESTÃO 07

A leitura é a prática letrada mais frequente na vida social de todas as pessoas, que leem textos em diferentes situações de interação linguística.

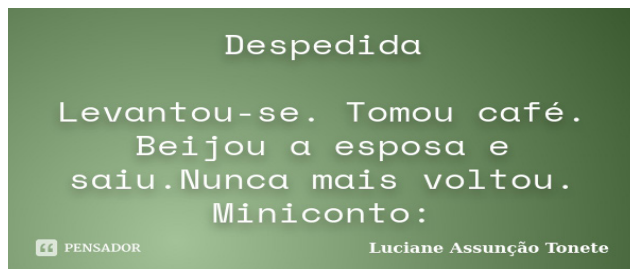
A esse respeito, leia os textos seguintes.

### Texto 1

Leitor proficiente é aquele que não só decodifica as palavras que compõem o texto escrito, mas também constrói sentidos de acordo com as condições de funcionamento do gênero em foco, mobilizando, para isso, um conjunto de saberes (sobre a língua, outros textos, o gênero textual, o assunto focalizado, o autor do texto, o suporte, os modos de leitura). No processamento do texto, portanto, são articulados os elementos linguísticos que compõem a materialidade desse texto e o contexto de produção e de leitura.

(Disponível em: <<http://www.ceale.fae.ufmg.br/app/webroot/glossario-ceale/verbetes/leitor-proficiente>>. Acesso em: 04 jan. 2019. Adaptado.)

### Texto 2



(Disponível em: <<https://www.pensador.com/frase/MTk2MjkzOA/>>. Acesso em: 04 jan. 2019.)

Considerando a variedade de tipos e de gêneros textuais que circulam no dia a dia, o conceito de leitor mencionado no Texto 1 e a produção de sentidos que dele será exigida em relação ao Texto 2, é correto afirmar que o segundo texto, fundamentalmente,

- expõe o assunto utilizando argumentações, para abordar o tema e seu ponto de vista.
- emprega linguagem expositiva e descritiva e o objetivo é informar algo que aconteceu.
- é escrito em linguagem informal e tem como destinatário a própria pessoa que escreve.
- apresenta relato curto, breve e conciso, foco em um fato, com unidade de ação e de tempo.
- registra detalhes, lembranças e desabafos cotidianos do autor sobre uma experiência vivida.

## QUESTÃO 08

Os fragmentos de textos a seguir foram transcritos e adaptados de sites diversos, que tratam de fatos científicos curiosos e, ao mesmo tempo, surpreendentes.

Após a leitura, é correto afirmar que aquele em que o articulador destacado estabelece uma relação sintático-semântica de adição entre as frases é

- O Bitcoin encontra-se em uma posição legal precária, e não mostra. Depois que descobriram links para pornografia infantil escondidos dentro do código blockchain, o futuro dessa criptomoeda está em jogo.
- As camas dos orangotangos são obras de engenharia. Já os gorilas, como os pássaros, dormem em ninhos construídos por eles mesmos. Os machos repousam no chão, mas as fêmeas em ninhos suspensos, presos em árvores.
- O cientista não é dono da verdade, antes orienta: se você jogar uma bola de aço e uma de vidro em uma superfície super-resistente, elas vão pular bem mais alto do que uma bola de futebol. Apesar de parecer loucura, isso é pura física.
- Os estudantes foram mal na prova, quando poderiam ter acertado aquela questão. Não acreditaram que a efervescência do champanhe só existe porque há sujeira ou poeira na taça utilizada para bebê-la. Se o copo estiver 100% limpo, não haverá espuma alguma.
- A noite permanecia quieta. Nenhum rumor na rua deserta, até que se ouviu o barulho ruidoso do despertador. O homem não costumava acordar cedo e naquele dia quase madrugou.



## QUESTÃO 09

Na sintaxe da língua portuguesa, a colocação pronominal diz respeito ao modo como se dispõem os pronomes em relação aos demais elementos de uma oração. Há três tipos de posição que os pronomes átonos podem ocupar na oração: antes (próclise), depois (ênclise) e no meio (mesóclise) do verbo.

A esse respeito, leia a tirinha.



(Disponível em: <<http://atl.clicrbs.com.br/pretinhobasico/2010/07/13/tirinhas-de-deus/>>. Acesso em: 04 jan. 2019. Adaptado.)

Analise as asserções a seguir e a relação proposta entre elas.

- I. No primeiro quadrinho, segundo os gramáticos, a colocação do pronome oblíquo átono está correta

**PORQUE,**

- II. na frase em que foi empregada, a próclise é preferida, pois o verbo vem antecedido do advérbio “que”.

Sobre as asserções, é correto afirmar que

- a) as duas são falsas.
- b) a primeira é falsa e a segunda é verdadeira.
- c) a primeira é verdadeira e a segunda é falsa.
- d) as duas são verdadeiras e a segunda é uma justificativa correta da primeira.
- e) as duas são verdadeiras, mas a segunda não é uma justificativa da primeira.

## QUESTÃO 10

Um folheto, ou panfleto, constitui um excelente meio de divulgação de uma ideia ou de informações importantes. Panfletos são muito utilizados para atingir grande número de pessoas em tempo mínimo.

Considere o folheto e avalie os aspectos fonéticos, de ortografia e de acentuação das afirmações a seguir.

### Serviços essenciais X pacote padronizado

Essas duas opções devem ser oferecidas por todos os bancos. Veja quais as operações inclusas:

**Serviços essenciais:**  
**GRATUITO**

<b>4</b> saques	<b>2</b> transferências entre contas do mesmo banco
<b>2</b> extratos do mês anterior	<b>1</b> extrato anual
	<b>10</b> folhas de cheque*

Consulta ao site do banco **ilimitada**  
\*Se o correntista preencher os requisitos exigidos pelo banco

---

**Pacote padronizado:**  
**TARIFADO LIVREMENTE**

<b>8</b> saques	<b>4</b> transferências entre contas do mesmo banco
<b>2</b> extratos do mês anterior	Confecção e renovação de cadastro

(Disponível em: <<http://dhoneboteirogalvao.blogspot.com/2015/11/conta-corrente-gratuita-e-sem-taxas-e.html>>. Acesso em: 04 jan. 2019.)

- I. O vocábulo “livremente” quanto à acentuação tônica é paroxítono e apresenta um acento principal e outro secundário.
- II. A separação silábica da palavra CON-FE-CCÃO está correta e se explica pela presença de um dífono, ou seja, a letra “c” é pronunciada com o som de /cs/ ou /ks/.
- III. As palavras “operações”, “essenciais” e “anual”, considerando-se a posição do acento tônico, são oxítonas; em relação ao número de sílabas, nem todas são polissílabas.
- IV. A unidade lexical “pelo” [ê] (por+o) e o termo “pelo” (flexão de *pelar*) são homógrafas paroxítonas e, segundo o Novo Acordo, não se distinguem mais pelo acento diferencial.
- V. A pronúncia culta de “gratuito” é *gratúito*, com a tônica no *u* do ditongo *ui*; por conta disso, há um erro na sua grafia, identificado pela ausência do acento agudo na letra “i” para consolidar o hiato.

Está correto apenas o que se afirma em

- a) I, III e V.
- b) I, III e IV.
- c) II, IV e V.
- d) II, III e IV.
- e) I, II, IV e V.

## CONHECIMENTOS GERAIS SOBRE O MUNICÍPIO

### QUESTÃO 11

A bacia hidrográfica da qual fazem parte os rios que atravessam o município de Conselheiro Lafaiete é a bacia do Rio

- a) Negro.
- b) Grande.
- c) das Velhas.
- d) Arrudas.
- e) São Francisco.

### QUESTÃO 12

Segundo Lobo, Matos e Carvalho (2016), do ponto de vista da mobilidade pendular e infraestrutura rodoviária, a microrregião de Conselheiro Lafaiete pode ser caracterizada por

- a) alta mobilidade e infraestrutura rodoviária “deficitária”.
- b) baixa mobilidade e infraestrutura rodoviária “deficitária”.
- c) alta mobilidade e infraestrutura rodoviária com “densa malha”.
- d) baixa mobilidade e infraestrutura rodoviária com “densa malha”.
- e) média mobilidade e infraestrutura adequada.

### QUESTÃO 13

O trabalho de Alvim et al. (2012) propõe uma análise de hierarquia urbana para a compreensão da microrregião de Conselheiro Lafaiete. Nessa análise, o município de Conselheiro Lafaiete é classificado como um *lugar central de*

- a) alta ordem.
- b) média ordem.
- c) baixa ordem.
- d) baixíssima ordem.
- e) nula ordem.

### QUESTÃO 14

Segundo o Atlas de Desenvolvimento Humano (PNUD, 2013), o Índice de Desenvolvimento Humano Municipal (IDHM) de Conselheiro Lafaiete situa-se na faixa de desenvolvimento

- a) muito alto (acima de 0,800).
- b) alto (0,700 a 0,799).
- c) médio (0,600 a 0,699).
- d) baixo (0,500 a 0,599).
- e) muito baixo (inferior a 0,499).

### QUESTÃO 15

Segundo o Atlas de Desenvolvimento Humano (PNUD, 2013), o município de Conselheiro Lafaiete ocupa a \_\_\_\_\_ posição no ranking do IDHM (Índice de Desenvolvimento Humano Municipal). O melhor desempenho do município foi no quesito \_\_\_\_\_ e o pior no quesito \_\_\_\_\_. Entre os anos de 1991 e 2010, o valor do IDHM de Conselheiro Lafaiete \_\_\_\_\_.

A sequência que preenche corretamente as lacunas do texto é

- a) 350ª / longevidade / educação / subiu
- b) 450ª / renda / educação / subiu
- c) 250ª / educação / renda / diminuiu
- d) 550ª / longevidade / renda / permaneceu estável
- e) 650ª / educação / longevidade / diminuiu

### QUESTÃO 16

De acordo com o Relatório de Programas e Ações do Ministério do Desenvolvimento Social (MDS) para Conselheiro Lafaiete, havia no município, em dezembro de 2018, aproximadamente \_\_\_\_\_ famílias beneficiárias do Programa Bolsa Família, cerca de \_\_\_\_\_ da população. O benefício médio mensal pago foi de pouco mais de \_\_\_\_\_. Para acessar o Programa Bolsa Família é preciso, primeiro, estar cadastrado no CadÚnico. O Relatório estima que, em Conselheiro Lafaiete, há \_\_\_\_\_ pessoas cadastradas no CadÚnico do que a meta do Ministério do Desenvolvimento Social, calculada a partir ao perfil socioeconômico da população obtido no último censo.

A sequência que preenche corretamente as lacunas do texto é

- a) 2.000 / 5% / R\$ 125 / menos
- b) 4.000 / 10% / R\$ 250 / menos
- c) 6.000 / 15% / R\$ 375 / mais
- d) 8.000 / 20% / R\$ 500 / mais
- e) 10.000 / 25% / R\$625 / mais



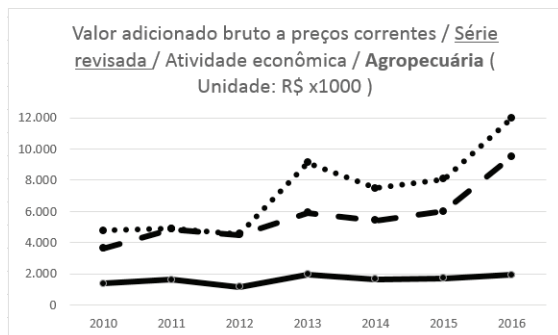
## QUESTÃO 17

Segundo o Instituto Estrada Real (2019), que reúne informações turísticas, históricas e culturais dos municípios mineiros, os moradores de Conselheiro Lafaiete se orgulham em dizer que um grande romance da literatura brasileira foi escrito no local, em um Solar à rua Barão de Suassuí. Esse famoso livro é

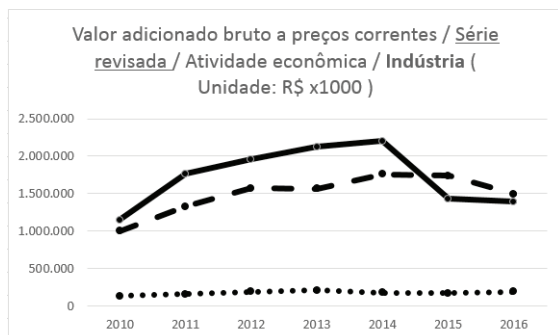
- a) Memórias de um sargento de milícias, de Manuel Antônio de Almeida.
- b) Escrava Isaura, de Bernardo Guimarães.
- c) O guarani, de José de Alencar.
- d) Memórias Póstumas de Brás Cubas, de Machado de Assis.
- e) O Cortiço, de Aloísio de Azevedo.

## QUESTÃO 18

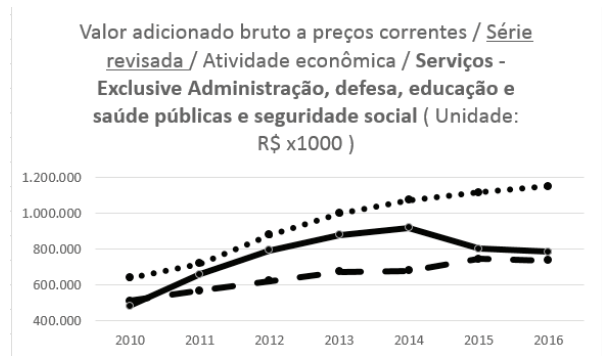
Os gráficos a seguir representam dados do IBGE Cidades para a série revisada do valor adicionado bruto, a preços correntes, da atividade econômica dos setores: agropecuário, industrial e de serviços das cidades de Congonhas, Ouro Branco e Conselheiro Lafaiete. O nome dos municípios está oculto nos gráficos.



Fonte: IBGE Cidades. Disponível em <https://cidades.ibge.gov.br/brasil/mg/conselheiro-lafaiete/>. Acesso em 28/02/2019 9 (Adptado)



Fonte: IBGE Cidades. Disponível em <https://cidades.ibge.gov.br/brasil/mg/conselheiro-lafaiete/>. Acesso em 28/02/2019 (Adptado)



Fonte: IBGE Cidades. Disponível em <https://cidades.ibge.gov.br/brasil/mg/conselheiro-lafaiete/>. Acesso em 28/02/2019 (Adptado)

A partir de seus conhecimentos sobre a economia da região, é possível dizer que o município de Conselheiro Lafaiete, na comparação com os demais, possui

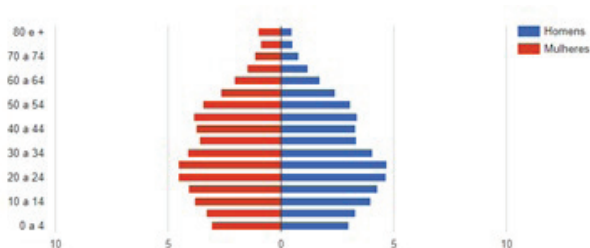
- a) menor valor adicionado à produção agropecuária e ao setor de serviços, e maior valor adicionado ao setor industrial.
- b) maior valor adicionado ao setor industrial, menor valor no setor de serviços e valor intermediário no setor agropecuário.
- c) menor valor adicionado à produção agropecuária e valores intermediários nas atividades industrial e de serviços.
- d) maior valor adicionado à produção agropecuária e ao setor de serviços e menor valor adicionado ao setor industrial.
- e) idênticos valores adicionados aos três setores (agrícola, industrial e de serviços).

### QUESTÃO 19

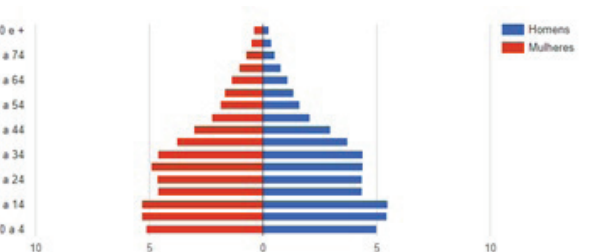
Segundo o Atlas de Desenvolvimento Humano (PNUD, 2014), entre 1991 e 2010, a taxa de natalidade caiu e a longevidade da população lafaietense cresceu.

O gráfico que melhor representa a estrutura etária da população de Conselheiro Lafaiete no ano do último censo (2010) é:

a)



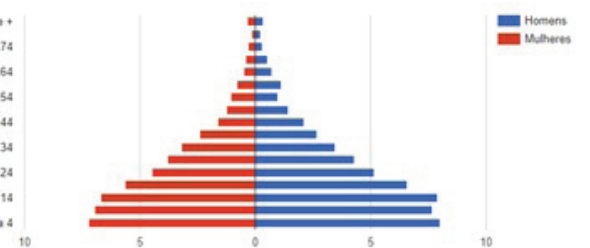
b)



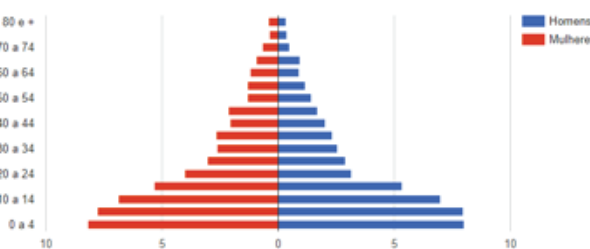
c)



d)



e)



### QUESTÃO 20

A Lei 1.116/70, disponível no Portal da Câmara de Conselheiro Lafaiete, dispõe sobre a forma e a apresentação dos símbolos do município.

**NÃO** é parte do Brasão do município de Conselheiro Lafaiete

- a) o metal argente (prata) de campo do escudo, que simboliza em heráldica paz, trabalho, amizade, prosperidade, religiosidade e pureza.
- b) o escudete posto em abismo (centro ou coração de escudo) com as armarias da família Rodrigues Pereira, que lembra no brasão a figura de Conselheiro Lafaiete Rodrigues Pereira.
- c) o topônimo identificador “Conselheiro Lafaiete”, acompanhado dos milésimos “1890” de sua elevação a Município e “1966”, quando recebeu feros de cidade.
- d) acantonados em Chefe as Comendas das Ordens de Gran-Cruz do Cristo e a Rosa, outorgados ao ilustre estadista e jurisconsulto nascido na própria cidade que hoje lhe empresta o nome.
- e) oito torres, das quais apenas cinco são visíveis em perspectiva no desenho, classifica a cidade representada na Segunda Grandeza, ou seja, sede de Comarca.

## CONHECIMENTOS ESPECÍFICOS

### QUESTÃO 21

Considerando a Estrutura Conceitual para Elaboração e Divulgação de Relatório Contábil-Financeiro, associe corretamente as características qualitativas da informação contábil da informação contábil-financeira útil às suas respectivas descrições.

Características	Descrições
1) Relevância	( ) Representa com fidedignidade o fenômeno a que se propõe representar.
2) Representação fidedigna	( ) Torna a informação clara e concisa, passível de classificação e de caracterização.
3) Comparabilidade	( ) Capaz de fazer diferença nas decisões se tiver valor preditivo, valor confirmatório ou ambos.
4) Verificabilidade	( ) Permite que os usuários identifiquem e compreendam similaridades dos itens e diferenças entre eles.
5) Tempestividade	( ) Disponibiliza a informação para tomadores de decisão a tempo de poder influenciá-los em suas decisões.
6) Compreensibilidade	( ) Ajuda a assegurar aos usuários que a informação representa fidedignamente o fenômeno econômico a que se propõe representar.

A sequência correta é

- a) 2, 6, 3, 5, 4, 1.
- b) 2, 3, 6, 4, 5, 1.
- c) 2, 6, 1, 3, 5, 4.
- d) 4, 6, 1, 3, 5, 2.
- e) 4, 3, 1, 6, 5, 2.

### QUESTÃO 22

De acordo com NBC TG 47 – Receita de Contrato com Cliente, a entidade deve reconhecer receitas quando

- a) houver o recebimento pela venda do ativo.
- b) identificar o preço do ativo a ser transferido.
- c) transferir o bem ou serviço ao cliente.
- d) identificar quais os custos envolvidos na transação.
- e) identificar quais as despesas envolvidas na transação.

### QUESTÃO 23

A Cia. Alfa recebeu adiantamento de clientes referente a mercadorias que serão entregues futuramente no valor de R\$20.000,00.

Considerando essa operação, analise as afirmativas a seguir.

- I. Houve aumento do passivo simultaneamente ao aumento do ativo.

#### PORQUE

- II. A conta Adiantamento de clientes é uma conta redutora de ativo.

Sobre as afirmativas, é correto afirmar que

- a) ambas estão erradas.
- b) a primeira está correta e a segunda errada.
- c) a segunda está correta e a primeira errada.
- d) ambas estão corretas e a segunda justifica a primeira.
- e) ambas estão corretas, mas a segunda não justifica a primeira.

### QUESTÃO 24

Uma empresa adquiriu mercadorias para revenda no valor de R\$20.000,00, sendo R\$10.000,00 à vista e o restante a prazo.

Sobre essa operação, é correto afirmar que

- a) apenas o ativo aumentou em R\$20.000,00.
- b) apenas o ativo aumentou em R\$10.000,00.
- c) apenas o passivo aumentou em R\$10.000,00.
- d) o ativo e o passivo aumentaram no valor de R\$10.000,00 cada um.
- e) o ativo aumentou em R\$20.000,00 e o passivo aumentou em R\$10.000,00.

### QUESTÃO 25

No dia 31/12/2018, a Cia Beta verificou a necessidade de contabilizar o valor de R\$6.000,00 referente à depreciação de móveis e utensílios utilizados na parte administrativa da entidade. Um dos colaboradores da Cia. Beta sugeriu que fosse feito o seguinte lançamento contábil referente a esse evento: Débito na conta Despesa com depreciação e Crédito na conta Imobilizado – Móveis e utensílios, ambos os lançamentos no valor de R\$6.000,00.

Sobre a sugestão de contabilização, é correto afirmar que

- a) está correta, uma vez que há um débito e um crédito no valor de R\$6.000,00.
- b) está correta, pois é necessário mostrar que houve uma redução no valor do Imobilizado da entidade.
- c) está errada, pois a conta a ser creditada é a conta de Depreciação acumulada de móveis e utensílios.
- d) está errada, pois é necessário apenas fazer a contabilização na conta de Despesa com depreciação.
- e) está errada, pois o valor da despesa com depreciação precisa ser debitado na conta Custo dos produtos vendidos.

### QUESTÃO 26

Uma empresa adquiriu equipamentos no valor de R\$36.000,00, cujo valor residual é de R\$6.000,00. Para colocá-lo em condições de uso, foram necessários gastos de instalações no valor de R\$1.200,00. Esses bens ficaram disponíveis para uso 30 dias após sua aquisição. Com base apenas nesses dados, analise as afirmativas a seguir e marque (V) para Verdadeiro ou (F) para falso.

- ( ) Os gastos com as instalações devem ser reconhecidos no Ativo Imobilizado.
- ( ) O período de contagem para fins de cálculo de depreciação dos equipamentos deve se iniciar a partir da data da aquisição dos mesmos.
- ( ) a depreciação dos bens deve ser estimada de acordo com sua vida útil.
- ( ) O valor depreciável dos equipamentos é de R\$36.000,00.

A sequência correta é

- a) V, F, V, F.
- b) F, V, V, F.
- c) V, F, V, V.
- d) V, F, F, V.
- e) V, V, F, F.

### QUESTÃO 27

Se uma entidade obtém em determinado período

- a) receitas menores do que suas despesas, ela obterá prejuízo e, conseqüentemente, redução de seu patrimônio líquido.
- b) receitas menores do que suas despesas, ela obterá lucro e, conseqüentemente, redução de seu patrimônio líquido.
- c) receitas menores do que suas despesas, ela obterá lucro e, conseqüentemente, aumento de seu patrimônio líquido.
- d) receitas maiores do que suas despesas, ela obterá lucro e, conseqüentemente, redução de seu patrimônio líquido.
- e) receitas maiores do que suas despesas, ela obterá prejuízo e, conseqüentemente, aumento de seu patrimônio líquido.

### QUESTÃO 28

De acordo com a NBC TG 26 (R4) – Apresentação das Demonstrações Contábeis, analise as afirmativas a seguir.

- I. O Balanço Patrimonial deve apresentar as contas de ativo e passivo classificadas em circulante e não circulante.
- II. As demonstrações contábeis devem ser elaboradas no pressuposto da continuidade, mesmo que a administração tenha intenção de liquidar a entidade ou cessar seus negócios.
- III. Os ativos que compõem o imobilizado podem ser mensurados por critérios diferentes, nesses casos eles devem ser apresentados em contas separadas.
- IV. Um ativo que está mantido essencialmente com o propósito de ser negociado deve ser classificado como circulante.
- V. As Notas explicativas não compõem o conjunto completo das demonstrações contábeis, uma vez que apenas trazem detalhes sobre as informações contidas em cada uma dessas demonstrações.

Está correto apenas o que se afirma em

- a) I, II, IV.
- b) I, III, IV.
- c) I, IV e V.
- d) II, III e V.
- e) II, IV e V.

### QUESTÃO 29

A seguir, são apresentados saldos de contas patrimoniais das Empresas A, B e C em 31/12/2018.

	Empresa A	Empresa B	Empresa C
Ativo			
Ativo circulante	20.000,00	60.000,00	40.000,00
Ativo não circulante	80.000,00	40.000,00	60.000,00
Passivo			
Passivo circulante	30.000,00	55.000,00	10.000,00
Passivo não circulante	40.000,00	15.000,00	5.000,00
Patrimônio líquido	30.000,00	30.000,00	85.000,00

Com base nos dados fornecidos, analise as afirmativas a seguir.

- I. A Empresa C possui o maior quociente de liquidez corrente

#### PORQUE

- II. A Empresa C se mostra menos dependente de capital de terceiros do que as demais empresas.

Sobre as afirmativas, é correto afirmar que

- a) ambas são falsas.  
b) a primeira é verdadeira e a segunda é falsa.  
c) a segunda é verdadeira e a primeira é falsa.  
d) ambas são verdadeiras e a segunda justifica a primeira.  
e) ambas são verdadeiras, mas a segunda não justifica a primeira.

### QUESTÃO 30

De acordo com a NBC TG 03 (R3) – Demonstração dos Fluxos De Caixa, caixa recebido pela emissão de ações ou outros instrumentos patrimoniais, e caixa recebido pela emissão de debêntures são exemplos de caixa

- a) gerado por atividades operacionais.  
b) gerado por atividades de investimento.  
c) gerado por atividades de financiamento.  
d) consumido por atividades de investimento.  
e) consumido por atividades de financiamento.

### QUESTÃO 31

De acordo com as leis e as normas que regem a Contabilidade Aplicada ao Setor Público, avalie as informações do quadro abaixo:

Descrição	Valor (em reais)
Receitas previstas	32.000.000,00
Receitas realizadas	29.000.000,00
Dotação atualizada	32.300.000,00
Despesas empenhadas	29.800.000,00
Despesas liquidadas	27.200.000,00
Despesas pagas	26.000.000,00

Considerando que tais informações pertençam ao Balanço Orçamentário anual de uma entidade pública, avalie as afirmativas a seguir:

- I. Há um déficit orçamentário de R\$ 800.000,00.  
II. Há excesso de arrecadação de R\$ 3.000.000,00.  
III. Há insuficiência de arrecadação de R\$ 300.000,00.  
IV. Os restos a pagar processados são de R\$ 1.200.000,00.

Está correto apenas o que se afirma em

- a) I.  
b) I e IV.  
c) II e III.  
d) II e IV.  
e) III e IV.

### QUESTÃO 32

A respeito das variações patrimoniais em entidades do setor público, é **INCORRETO** afirmar que

- a) o reconhecimento de uma despesa deve ser classificado como uma variação patrimonial qualitativa, pois representa uma permuta entre itens do ativo e do passivo.
- b) o registro da depreciação de um bem é um exemplo de uma variação patrimonial quantitativa diminutiva, por representar uma diminuição do ativo e, conseqüentemente, da situação líquida patrimonial.
- c) a alienação de bens que gerar arrecadação de recursos pela entidade (entrada de recursos no caixa) pelo mesmo valor que o bem está registrado contabilmente não provoca alteração na situação líquida patrimonial, ou seja, deve ser classificada como uma variação patrimonial qualitativa.
- d) o recebimento de um veículo por uma entidade pública, por meio de doação de uma entidade privada, deve ser classificado como uma variação patrimonial quantitativa, por representar um acréscimo patrimonial, mesmo não tendo envolvido o dispêndio de recursos públicos.
- e) o registro de pagamento de uma parcela de uma dívida pública de longo prazo, contratada junto a uma instituição financeira há cerca de três anos e corretamente contabilizada, cujo valor se refere apenas à amortização do principal, deve ser classificado como variação patrimonial qualitativa.

### QUESTÃO 33

Preencha corretamente as lacunas do texto a seguir quanto ao que se afirma sobre o Plano de Contas Aplicado ao Setor Público (PCASP) e os lançamentos contábeis típicos da Contabilidade Aplicada ao Setor Público.

O lançamento a \_\_\_\_\_ na conta de código 1.1.1.1.1.xx.xx – Caixa e Equivalentes de Caixa em Moeda Nacional (F) e a \_\_\_\_\_ na conta de código 1.1.2.2.x.xx.xx Créditos Tributários a Receber (P) constitui a \_\_\_\_\_ de um direito e registra informação de natureza \_\_\_\_\_. Já o lançamento a \_\_\_\_\_ na conta de código 2.1.3.x.x.xx.xx – Fornecedores e Contas a Pagar a Curto Prazo (F) e a \_\_\_\_\_ na conta 1.1.1.1.1.xx.xx Caixa e Equivalentes de Caixa em Moeda Nacional (F) se refere a um pagamento e registra informação de natureza \_\_\_\_\_.

A seqüência que preenche corretamente as lacunas do texto é

- a) débito / crédito / inscrição / financeira / débito / crédito / patrimonial
- b) crédito / débito / inscrição / patrimonial / crédito / débito / financeira
- c) débito / crédito / baixa / patrimonial / débito / crédito / patrimonial
- d) crédito / débito / baixa / financeira / débito / crédito / patrimonial
- e) débito / crédito / baixa / financeira / crédito / débito / financeira

### QUESTÃO 34

De acordo com as leis e as normas vigentes, o campo de aplicação da Contabilidade Aplicada ao Setor Público obrigatoriamente abrange

- a) todas as fundações privadas sem fins lucrativos.
- b) entidades governamentais, inclusive as estatais independentes.
- c) todas as entidades públicas ou privadas que atendam interesses políticos.
- d) as organizações da sociedade civil, desde que declaradas de interesse público.
- e) câmara municipal e fundações públicas municipais pertencentes à administração indireta.

### QUESTÃO 35

A respeito das receitas públicas orçamentárias, analise as afirmativas a seguir:

- I. Receita Patrimonial arrecadada por entidade estadual deve ser registrada como Receita de Capital.
- II. Receita de Serviços, desde que arrecada pelo município, deve ser registrada como Receita de Capital.
- III. Receita de Taxas e Contribuição de Melhoria arrecadadas pelo município devem ser registradas como Receita Corrente.
- IV. Receita Agropecuária, arrecadada por entidade pública municipal, pertencente à administração indireta, deve ser registrada como Receita Corrente.

Está correto apenas o que se afirma em

- a) I e II.
- b) I e III.
- c) II e III.
- d) II e IV.
- e) III e IV.



### QUESTÃO 36

De acordo com as leis e as normas que regem a Contabilidade Aplicada ao Setor Público, avalie as informações do quadro abaixo:

Descrição	Valor (em reais)
Receitas Orçamentárias Previstas	8.000.000,00
Receitas Orçamentárias Realizadas	7.500.000,00
Transferências Financeiras Recebidas para a Execução Orçamentária	1.200.000,00
Saldo do Exercício Anterior em Caixa e Equivalentes de Caixa	650.000,00
Despesas Orçamentárias Autorizadas	7.500.000,00
Despesas Orçamentárias Pagas	5.500.000,00
Transferências Financeiras Concedidas para a Execução Orçamentária	1.050.000,00

Considerando que tais informações pertençam a uma entidade pública, o saldo para o exercício seguinte em “Caixa e Equivalentes de Caixa” será de

- a) 650.000,00.
- b) 1.850.000,00.
- c) 2.650.000,00.
- d) 2.800.000,00.
- e) 3.200.000,00.

### QUESTÃO 37

A respeito dos instrumentos de planejamento público, analise as afirmativas a seguir.

- I. O projeto de lei orçamentária anual, de iniciativa do Poder Legislativo, deve apresentar diretrizes, objetivos e metas da administração pública para o período de um ano.
- II. Por meio da Lei de Diretrizes Orçamentárias (LDO), são definidas quais ações do Plano Plurianual receberão prioridade para execução no exercício seguinte.
- III. Os investimentos cuja duração ultrapasse um exercício financeiro só poderão ser iniciados se estiverem previstos no Plano Plurianual ou em lei que autorize sua inclusão.
- IV. A Lei Orçamentária Anual (LOA) deve conter estimativa de receitas e previsão de despesas para um exercício e compor-se-á de três partes: orçamento fiscal, orçamento social e orçamento previdenciário.
- V. O Plano Plurianual (PPA) de cada município deve refletir os programas já aprovados e em execução no PPA do respectivo Estado a que pertence e do governo federal, sob pena de bloqueio de recursos em caso de incompatibilidade.

Está correto apenas o que se afirma em

- a) I e II.
- b) II e III.
- c) I, III e V.
- d) II, III e IV.
- e) III, IV e V.

### QUESTÃO 38

A respeito dos regimes contábeis aplicados à Contabilidade Aplicada ao Setor Público, analise as afirmativas a seguir.

- I. Sob o enfoque orçamentário, aplica-se o regime de caixa, enquanto no enfoque patrimonial, aplica-se o regime de competência.
- II. A inscrição de despesas em Restos a Pagar Não Processados se deve em razão da observância ao regime contábil de caixa, que se aplica à despesa.
- III. O pagamento de um tributo municipal por um contribuinte, no exercício seguinte ao do respectivo fato gerador, será registrado como receita orçamentária no exercício de pagamento, devido ao regime de caixa, gerando uma baixa no direito registrado em conta do Ativo do Balanço Patrimonial.

Está correto apenas o que se afirma em

- a) I.
- b) II.
- c) III.
- d) I e II.
- e) II e III.

### QUESTÃO 39

Analise as afirmativas abaixo com relação ao Manual de Contabilidade Aplicada ao Setor Público (MCASP) e assinale (V) para verdadeiro ou (F) para falso.

- ( ) O Plano de Contas Aplicado ao Setor Público (PCASP) está estruturado segundo a natureza das informações contábeis e está dividido em 8 (oito) classes, sendo as contas contábeis das classes de código 7 (sete) e 8(oito) identificadas como sendo da natureza Controle.
- ( ) Com o intuito de permitir a consolidação das contas públicas e atender as finalidades previstas, o PCASP possui mecanismo para identificar e segregar o valor das transações que serão incluídas ou excluídas quando ocorrer a consolidação das contas públicas. Este mecanismo consiste na utilização de determinado nível das contas de classe 1 a 4 do PCASP.
- ( ) Por se tratar de informação exclusivamente orçamentária e ainda em caráter apenas estimativo, as receitas previstas e as despesas fixadas na Lei Orçamentária Anual não são objeto de lançamentos contábeis, utilizando-se contas do PCASP. Tais informações passam a integrar os registros contábeis apenas após o início da execução orçamentária.
- ( ) A estruturação do PCASP em classes e natureza das informações permite organizar os registros e, conseqüentemente, facilitar o processo de controle e evidenciação das informações contábeis. Embora os lançamentos contábeis devam ser feitos pelo método das partidas dobradas, os débitos e créditos podem envolver contas de classes diferentes, assim como contas de natureza da informação diferentes.

A sequência correta é

- a) V, V, F, F.
- b) F, F, V, V.
- c) F, V, F, V.
- d) V, F, V, F.
- e) V, F, F, V.

### QUESTÃO 40

Sobre as Demonstrações Contábeis Aplicadas ao Setor Público (DCASP), analise as afirmativas a seguir.

- I. O quadro da Execução dos Restos a Pagar Não Processados compõe o Balanço Orçamentário.
- II. As Notas Explicativas têm por objetivo facilitar a compreensão das demonstrações contábeis por parte de seus usuários e são consideradas parte integrante das demonstrações.
- III. O resultado patrimonial do período é apurado na Demonstração das Variações Patrimoniais pelo confronto entre as variações patrimoniais quantitativas e qualitativas ocorridas. Em razão da padronização dos procedimentos contábeis, o resultado apurado será idêntico ao apresentado no Balanço Orçamentário para o mesmo período.
- IV. A Demonstração dos Fluxos de Caixa segrega as entradas e saídas de caixa em fluxo operacional, de investimento e de financiamento. Para um período analisado, a soma dos três fluxos deve ser correspondente à diferença existente entre os saldos iniciais e finais de Caixa e Equivalentes de Caixa.

Está correto apenas o que se afirma em

- a) I.
- b) II e III.
- c) II e IV.
- d) I, II e IV.
- e) II, III e IV.

CONCURSO DA CÂMARA MUNICIPAL DE CONSELHEIRO LAFAIETE  
2018

Contador

GABARITO (RASCUNHO)

LÍNGUA PORTUGUESA

- 01  A  B  C  D  E
- 02  A  B  C  D  E
- 03  A  B  C  D  E
- 04  A  B  C  D  E
- 05  A  B  C  D  E
- 06  A  B  C  D  E
- 07  A  B  C  D  E
- 08  A  B  C  D  E
- 09  A  B  C  D  E
- 10  A  B  C  D  E

CONHECIMENTOS GERAIS  
SOBRE O MUNICÍPIO

- 11  A  B  C  D  E
- 12  A  B  C  D  E
- 13  A  B  C  D  E
- 14  A  B  C  D  E
- 15  A  B  C  D  E
- 16  A  B  C  D  E
- 17  A  B  C  D  E
- 18  A  B  C  D  E
- 19  A  B  C  D  E
- 20  A  B  C  D  E

CONHECIMENTOS  
ESPECÍFICOS

- 21  A  B  C  D  E
- 22  A  B  C  D  E
- 23  A  B  C  D  E
- 24  A  B  C  D  E
- 25  A  B  C  D  E
- 26  A  B  C  D  E
- 27  A  B  C  D  E
- 28  A  B  C  D  E
- 29  A  B  C  D  E
- 30  A  B  C  D  E
- 31  A  B  C  D  E
- 32  A  B  C  D  E
- 33  A  B  C  D  E
- 34  A  B  C  D  E
- 35  A  B  C  D  E
- 36  A  B  C  D  E
- 37  A  B  C  D  E
- 38  A  B  C  D  E
- 39  A  B  C  D  E
- 40  A  B  C  D  E

***ATENÇÃO:***  
AGUARDE AUTORIZAÇÃO  
PARA VIRAR O CADERNO DE PROVA.