

# Secretaria de Estado da Fazenda

Concurso Público

Edital SEF nº 002/2010



# Caderno de Prova



2 de maio



das 15 às 19 h



4 horas \*

## P2 Analista Financeiro do Tesouro Estadual



**Confira o número que você obteve no ato da inscrição com o que está indicado no cartão-resposta.**

\* A duração da prova inclui o tempo para o preenchimento do cartão-resposta.

### Instruções

Para fazer a prova você usará:

- este **caderno de prova**;
- um **cartão-resposta** que contém o seu nome, número de inscrição e espaço para assinatura.

Verifique, no caderno de prova, se:

- faltam folhas e a sequência de 75 questões está correta.
- há imperfeições gráficas que possam causar dúvidas.

**Comunique imediatamente ao fiscal qualquer irregularidade.**

### Atenção!

- Não é permitido qualquer tipo de consulta durante a realização da prova.
- Para cada questão são apresentadas 5 (cinco) alternativas diferentes de respostas (a, b, c, d, e). Apenas uma delas constitui a resposta correta em relação ao enunciado da questão.
- A interpretação das questões é parte integrante da prova, não sendo permitidas perguntas aos fiscais.
- Não destaque folhas da prova.

Ao terminar a prova, entregue ao fiscal o caderno de prova completo e o cartão-resposta devidamente preenchido e assinado.

O gabarito será divulgado em: <http://analistasef.fepese.ufsc.br>



## Parte 2

(75 questões)

### Matemática Financeira

(10 questões)

#### Formulário

$$VF = VP(1 + i \cdot n)$$

$$VF = VP(1 + i)^n$$

$$J = VP \cdot i \cdot n$$

$$VPL = -I + \frac{FC_1}{(1+k)} + \frac{FC_2}{(1+k)^2} + \frac{FC_3}{(1+k)^3} + \dots + \frac{FC_n}{(1+k)^n}$$

$$Dc = N[1 - d \cdot n]$$

$$SD_t = P \left[ \frac{(1+i)^n - (1+i)^t}{(1+i)^n - 1} \right]$$

$$A = \frac{P}{n}$$

$$D_r = \frac{N \times i \times n}{1 + i \times n}$$

1. Um Capital de \$ 5.000,00, aplicado a juros simples de 60% ao ano, rendeu \$ 1.250,00.

Assinale a alternativa que indica quanto tempo (em meses) esse capital ficou aplicado.

- a. ( ) 3 meses
- b. (X) 5 meses
- c. ( ) 7 meses
- d. ( ) 9 meses
- e. ( ) 12 meses

2. Um capital de \$ 2.000,00 foi aplicado no dia 24 de abril a juros simples de 0,3% ao dia. Seu resgate ocorreu no dia 24 de setembro do mesmo ano.

Considerando o ano civil (365 dias), assinale a alternativa que indica o valor final do título resgatado.

- a. ( ) \$ 2.008,00
- b. ( ) \$ 2.098,00
- c. ( ) \$ 2.189,00
- d. (X) \$ 2.918,00
- e. ( ) \$ 3.819,00

3. Um título com vencimento em 25 de outubro, foi descontado por \$ 3.000,00 em 28 de maio do mesmo ano. Considere o ano civil (365 dias) e uma taxa de juros simples de 2% ao mês.

Assinale a alternativa que indica o valor do resgate (valor nominal) do título, utilizando o Desconto Racional Simples (desconto por dentro).

- a. ( ) \$ 2.500,00
- b. ( ) \$ 2.680,00
- c. (X) \$ 3.300,00
- d. ( ) \$ 4.300,00
- e. ( ) \$ 5.200,00

4. Um título, com vencimento em 25 de outubro, foi descontado por \$ 3.000,00 em 28 de maio do mesmo ano. Considere o ano civil (365 dias) e uma taxa de juros simples de 2% ao mês.

Assinale a alternativa que indica o valor do resgate (valor nominal) do título, utilizando o Desconto Comercial Simples (desconto por fora).

- a. ( ) \$ 2.222,22
- b. (X) \$ 3.333,33
- c. ( ) \$ 4.444,44
- d. ( ) \$ 5.555,55
- e. ( ) \$ 6.666,66

5. Assinale a alternativa que indica o montante de um capital de \$ 60.000,00 que ficou aplicado a juros compostos de 5% ao mês, durante três meses.

- a. ( ) \$ 60.457,50
- b. ( ) \$ 61.457,50
- c. ( ) \$ 62.457,50
- d. ( ) \$ 64.457,50
- e. (X) \$ 69.457,50

## Concurso Público

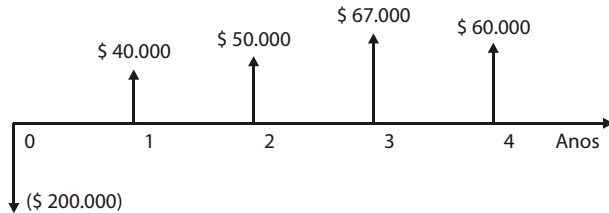
6. Assinale a alternativa que indica a taxa de juro composto de um capital de \$ 93.914,35, que rendeu \$ 31.085,65 em três meses.

- a.  8%
- b.  10%
- c.  12%
- d.  14%
- e.  16%

7. Um banco cobra juros efetivos de 100% ao ano. Considerando neste caso o ano com 360 dias, qual será a taxa cobrada para 180 dias?

- a.  14,42%
- b.  24,42%
- c.  34,42%
- d.  41,42%
- e.  54,42%

8. Um determinado projeto, cujo investimento inicial foi de \$ 200.000,00, apresentou o fluxo de caixa abaixo.



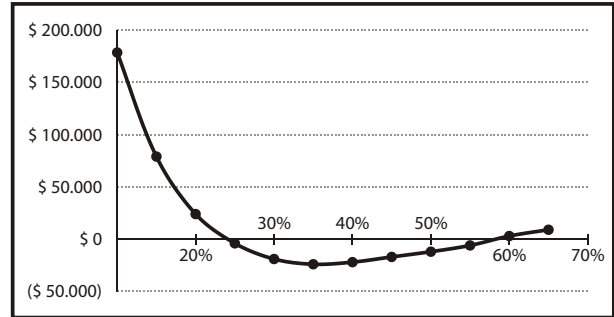
Considerando uma taxa requerida (TMA) de 15% ao ano, assinale a alternativa que indica o valor do VPL (Valor Presente Líquido) deste projeto.

- a.  \$ 94.051,40
- b.  \$ 49.051,40
- c.  (\$ 17.051,40)
- d.  (\$ 49.051,40)
- e.  (\$ 60.657,40)

9. Geralmente utilizamos a TIR (Taxa Interna de Retorno) para análise e avaliação de projetos simples.

Quando um projeto apresenta mais de uma mudança de sinais no seu fluxo de caixa, este projeto poderá ter mais de uma TIR.

Analisar a figura abaixo.



Assinale a alternativa que indica o número de TIR que o projeto representado nessa figura apresenta.

- a.  Uma TIR
- b.  Duas TIR
- c.  Três TIR
- d.  Quatro TIR
- e.  Cinco TIR

10. Um financiamento de \$ 10.000,00 foi contratado a juros efetivos de 2% ao mês e será pago em quatro prestações mensais com carência de quatro meses.

Assinale a alternativa que indica o Valor da amortização pelo Sistema de Amortização Constante (SAC).

- a.  \$ 2.653,02
- b.  \$ 3.653,02
- c.  \$ 4.653,02
- d.  \$ 5.653,02
- e.  \$ 6.543,02

**Raciocínio Lógico**

(10 questões)

**11.** Analise a afirmação abaixo.

“Nenhum número natural é primo e é par”.

Assinale a alternativa que indica a negação dessa afirmação.

- a. ( ) Existe um número natural primo que é par.  
 b. ( ) Todo número natural não é primo e não é par.  
 c. (X) Existe um número natural que é primo ou é par.  
 d. ( ) Nenhum número natural é par ou não é primo.  
 e. ( ) Existe um número natural ímpar que não é primo ou não é par.

**12.** Considere como conjunto universo o conjunto dos números inteiros positivos menores ou iguais a vinte e quatro.

Neste universo, assinale o conjunto verdade da sentença aberta:

$$x^2 < 30 \text{ ou } x - 1 \text{ é divisor de } 30$$

- a. ( )  $V = \{1, 2, 4, 5, 6, 11, 16\}$   
 b. ( )  $V = \{2, 3, 4, 6, 7, 11, 16\}$   
 c. (X)  $V = \{1, 2, 3, 4, 5, 6, 7, 11, 16\}$   
 d. ( )  $V = \{1, 2, 3, 5, 6, 7, 10, 15, 30\}$   
 e. ( )  $V = \{0, 1, 2, 3, 4, 5, 6, 7, 11, 16\}$

**13.** Assinale a conclusão que torna válido o argumento:

Todos os cronópios são ferozes. Todos os coelhos são cronópios. Logo...

- a. (X) Todos os coelhos são ferozes.  
 b. ( ) Todos os cronópios são coelhos.  
 c. ( ) Todos os animais ferozes são coelhos.  
 d. ( ) Existe um coelho que não é cronópio.  
 e. ( ) Nenhum cronópio é coelho e feroz.

Nas questões 14 e 15, considere a notação  $\neg X$  para a negação da proposição X.**14.** Considere as proposições a e b e assinale a expressão que é logicamente equivalente a  $(a \wedge b) \vee (a \wedge \neg b)$ .

- a. ( )  $\neg a \wedge \neg b$   
 b. ( )  $\neg a \vee \neg b$   
 c. ( )  $\neg a \vee b$   
 d. ( )  $a \vee \neg b$   
 e. (X) a

**15.** Considere as proposições x e y e assinale a expressão que corresponde a uma tautologia.

- a. ( )  $x \wedge \neg x$   
 b. ( )  $[\neg(x \rightarrow y)] \wedge y$   
 c. (X)  $[x \wedge (x \rightarrow y)] \rightarrow y$   
 d. ( )  $[y \wedge (x \rightarrow y)] \rightarrow x$   
 e. ( )  $(x \wedge y) \rightarrow \neg y$

**16.** Assinale o argumento que **não** é válido.

- a. ( ) Se um animal voa, ele é um pássaro. Se o animal é um pássaro, ele come minhocas. Este animal não come minhocas. Logo, este animal não voa.  
 b. ( ) Toda planta necessita de sol. Alguns calindrós não necessitam de sol. Logo, alguns calindrós não são plantas.  
 c. ( ) Todo círculo é redondo. Nenhum retângulo é redondo. Logo, nenhum retângulo é círculo.  
 d. ( ) Todas as línguas são ilógicas. Todas as coisas lógicas são fáceis de aprender. Logo, não é fácil aprender uma língua.  
 e. (X) Alguns insetos são venenosos. Alguns insetos têm oito patas. Logo, alguns insetos com oito patas são venenosos.

## Concurso Público

17. Em relação à afirmação

$$\text{Se } x = 16 \text{ e } y \geq 7 \text{ então } x \cdot y \geq 112$$

pode-se concluir que:

- a. (X) Se  $x \cdot y < 112$  então  $x \neq 16$  ou  $y < 7$ .
- b. ( ) Se  $x \cdot y = 112$  então  $x \neq 16$  e  $y < 7$ .
- c. ( ) Se  $x \cdot y \geq 112$  então  $x = 16$  e  $y \geq 7$ .
- d. ( )  $x \cdot y \geq 112$  e  $x \neq 16$  e  $y < 7$ .
- e. ( ) Nada se pode concluir.

---

18. Marina tem três blusas. Uma é preta, uma é branca e outra é vermelha, não necessariamente nesta ordem.

Uma e somente uma das afirmações a seguir é verdadeira:

- a blusa A é preta;
- a blusa B não é preta;
- a blusa C não é vermelha.

Quais as cores das blusas A, B e C nesta ordem?

- a. ( ) Preta, vermelha, branca.
- b. ( ) Branca, preta, vermelha.
- c. ( ) Branca, vermelha, preta.
- d. (X) Vermelha, preta, branca.
- e. ( ) Vermelha, branca, preta.

---

19. A afirmação condicional equivalente a "Todos os cangurus usam bolsa" é:

- a. ( ) Se algo usa bolsa, então é um canguru.
- b. (X) Se algo não usa bolsa então não é um canguru.
- c. ( ) Se algo é uma bolsa, então é usada por um canguru.
- d. ( ) Se algo não é um canguru, então não usa bolsa.
- e. ( ) Se algo não é um canguru, também não é uma bolsa.

20. Quatro crianças jogavam futebol em uma rua; ao dar um chute mais forte, uma delas quebrou o parabrisas de um carro. O dono do carro indagou:

- "Quem quebrou o parabrisas do meu carro?"
- "Não fui eu", disse Pedro.
- "Foi o Marcos", disse Mário.
- "Foi o Mário", diz o Carlos.
- "O Carlos mentiu", diz o Marcos.

Só um deles mentiu.

Quem quebrou o parabrisas do carro?

- a. ( ) Carlos
- b. (X) Marcos
- c. ( ) Mário
- d. ( ) Pedro
- e. ( ) Não há dados suficientes para a conclusão.

## Economia

(10 questões)

21. Em análise de regressão múltipla, o teorema de Gauss-Markov significa:

- a. ( ) O método de mínimos quadrados ordinários produz estimadores eficientes, não-viesados e consistentes na classe de estimadores lineares e não-lineares.
- b. ( ) O coeficiente de determinação ajustado converge ao valor do coeficiente de ajustamento quando o tamanho da amostra tende ao infinito.
- c. ( ) A distribuição de probabilidade do teste que avalia se o parâmetro estimado é estatisticamente igual a zero assume um formato t de student quando os erros são normalmente distribuídos.
- d. ( ) O coeficiente de determinação ajustado diminui à medida que se aumenta o número de parâmetros a serem estimados.
- e. (X) O método de mínimos quadrados ordinários produz o estimador de variância mínima na classe de estimadores lineares e não-viesados.

**22.** Suponha dois modelos de previsão de arrecadação tributária com as seguintes características:

$n$  = tamanho da amostra (observações para estimar os parâmetros dos modelos).

$m$  = observações para a previsão.

Resultados

Estatística	AR(1)	AR(2)
R <sup>2</sup> -ajustado	0,97	0,92
Raiz do Erro Quadrado Médio (REQM)	0,52	0,41
Erro Absoluto Médio (EAM)	0,23	0,16

AR(1) = Modelo Autoregressivo de primeira ordem

AR(2) = Modelo Autoregressivo de segunda ordem

Com base nestes resultados, pode-se afirmar:

- a. ( X ) O modelo AR(2) produz melhores previsões para o período  $m$ .
- b. ( ) O modelo AR(2) é mais bem ajustado aos dados para o período  $n$ .
- c. ( ) A estatística EAM é preferível à REQM, pois a primeira penaliza, amplia o efeito de erros absolutos de grande magnitude.
- d. ( ) O R<sup>2</sup>-ajustado é uma das estatísticas de dentro da amostra para seleção de modelos de previsão, o qual indica a melhor performance do modelo AR(1).
- e. ( ) A capacidade de previsão dos modelos (performance no período  $m$ ) depende do grau de ajustamento dos modelos aos dados (performance no período  $n$ ).

**23.** Sobre as curvas de custo de curto prazo de uma firma em concorrência perfeita, é **verdadeiro** afirmar:

- a. ( ) O custo marginal é mínimo quando este é igual ao custo variável médio.
- b. ( ) A curva de oferta da firma coincide com a curva de custo variável médio quando este é superior ao custo marginal.
- c. ( X ) A firma decide fechar quando o preço for inferior ao custo variável médio.
- d. ( ) O lucro máximo da firma ocorre quando o custo variável médio é mínimo.
- e. ( ) O lucro máximo da firma ocorre quando o custo variável médio é igual ao preço.

**24.** Uma pesquisadora estima a seguinte relação com base em dados de corte transversal:

$$i. \text{icms}_i = \beta_0 + \beta_1 \text{ProdInd}_i + \mu_i$$

$$ii. E\mu_i = \sigma^2 \Omega$$

Considere que ICMS<sub>*i*</sub> é o valor do imposto sobre circulação de mercadorias e serviços do município *i*; ProdInd<sub>*i*</sub> é a produção industrial do município *i*;  $\mu$  é o erro;  $\sigma^2$  é a variância do erro; e  $\Omega$  é uma matriz diagonal em que os elementos não são a unidade.

Logo, é **verdadeiro** afirmar:

- a. ( ) O problema descrito na equação (ii) é chamado de heteroscedasticidade e diz respeito ao fato de que o erro corrente é correlacionado com o erro anterior.
- b. ( ) A estimação do modelo descrito em (i) e (ii) por mínimos quadrados ordinários produz estimadores viesados que não podem ser adotados para previsão.
- c. ( ) Uma das alternativas para superar o problema de regressão descrito em (ii) é a adoção do procedimento de Cochrane-Orcutt.
- d. ( ) Dentre os principais testes para avaliar o problema de regressão descrito em (ii) está o teste de Durbin-Watson.
- e. ( X ) A aplicação do método de mínimos quadrados ordinários no modelo acima produz estimadores não eficientes.

**25.** Assinale a afirmação abaixo que descreve características de um monopólio.

- a. ( ) Curva de demanda quebrada.
- b. ( ) Modelos de competição de Bertrand e de Cournot.
- c. ( X ) Na situação de lucro máximo, o custo marginal é igual ao preço e a receita marginal é menor que o preço.
- d. ( ) A diferença entre a quantidade produzida em monopólio e em concorrência perfeita é menor quando a demanda pelo produto é pouco elástica em relação à situação em que a demanda pelo produto é muito elástica.
- e. ( ) Em um monopólio natural, a curva de custo médio de longo prazo tem um formato de U dentro do intervalo relevante de produção da firma.

## Concurso Público

26. Considerando as características de oferta e demanda de cigarros, um aumento do imposto sobre o preço do produto resulta em:

- a. ( ) um aumento do preço do cigarro tanto ao nível do produtor como do consumidor.
- b. ( ) uma retração da curva de demanda por cigarros, o que resulta em uma menor quantidade demandada e um preço do cigarro mais baixo.
- c. ( ) uma redução do peso morto da economia, dado pela diferença entre a redução do excedente do consumidor e do produtor e o aumento da receita do governo.
- d. (X) uma queda do excedente do consumidor maior do que a queda do excedente do produtor.
- e. ( ) um deslocamento para a direita da curva de oferta de cigarros, o que evidencia o poder de mercado dos produtores.

---

27. Sobre crescimento econômico e progresso tecnológico, é **verdadeiro** afirmar:

- a. (X) Um aumento da taxa de poupança resulta em um aumento do nível de produto por trabalhador no estado de crescimento equilibrado.
- b. ( ) O produto por trabalhador e o capital por trabalhador, no estado de crescimento equilibrado, crescem a uma taxa igual e dada pela diferença entre a taxa de crescimento do progresso tecnológico e a taxa de crescimento da população.
- c. ( ) No estado de crescimento equilibrado, um aumento da taxa de poupança resulta em um aumento da taxa de crescimento do produto.
- d. ( ) O nível de fertilidade dos gastos de pesquisa e desenvolvimento são independentes do regime de apropriabilidade dos resultados da pesquisa, como leis de patentes.
- e. ( ) A convergência de produto per capita entre países ricos e pobres no período 1950-1990 deveu-se mais à rápida acumulação de capital do que ao progresso tecnológico.

28. A partir de um equilíbrio inicial, a adoção de uma política monetária contracionista seguida de uma política fiscal expansionista resulta:

- a. ( ) primeiramente, em um deslocamento da curva da LM para a direita e, em seguida, um deslocamento da curva IS para a esquerda.
- b. ( ) primeiramente, em um deslocamento da curva IS para a esquerda e, em seguida, um deslocamento da curva IS para a direita, de modo que o produto e a taxa de juros de equilíbrio não se alteram.
- c. ( ) em uma situação que pode ser descrita como sendo de estagflação.
- d. ( ) em um equilíbrio em que o produto cai em relação à situação inicial e o impacto sobre a taxa de juros é inconclusiva.
- e. (X) em um equilíbrio em que a taxa de juros é mais elevada do que a inicial e o impacto sobre o produto é inconclusivo.

---

29. Sobre a teoria quantitativa da moeda (TQM), é **verdadeiro** afirmar:

- a. (X) A TQM sustenta que a moeda é neutra no longo prazo.
- b. ( ) A TQM segundo a versão de Cambridge, argumenta que a demanda de saldos reais é proporcional à renda permanente dos indivíduos.
- c. ( ) A TQM foi formalmente apresentada, pela primeira vez, por Adam Smith, o qual relacionou a elevação de preços com choques de produtividade.
- d. ( ) Na versão da TQM de equação de trocas, o nível de preços é determinado por choques de custos e pressões de demanda.
- e. ( ) Na versão da TQM de equação de trocas, argumenta-se que existe uma relação de bicausalidade no curto prazo entre nível de preços e moeda.



**30.** Um aumento do déficit público, no conceito de necessidade de financiamento do setor público (NFSP) nominal, pode ser:

- a. ( ) financiado pela compra de títulos do governo.
- b. ( ) financiado pela contração do meio circulante.
- c. (X) financiado por venda de ativos do governo.
- d. ( ) consequência da redução do saldo do balanço de pagamentos.
- e. ( ) consequência de mudanças nas expectativas e retração dos investimentos privados.

## **Mercado Financeiro**

(15 questões)

**31.** Qual das afirmativas abaixo expressa **corretamente** a relação entre mercado de crédito a instituição financeira?

- a. ( ) No mercado de crédito são realizadas operações de curto prazo, de compra e venda de moeda estrangeira.
- b. ( ) No mercado de crédito são realizadas operações de curto e curtíssimo prazo com títulos públicos.
- c. ( ) No mercado de crédito, a instituição financeira é parte nas relações jurídicas junto aos agentes econômicos superavitários e deficitários, contudo, sem assumir os riscos, os direitos e as obrigações respectivos, uma vez que o detentor e o tomador dos recursos não se relacionam diretamente.
- d. (X) No mercado de crédito, a instituição financeira é parte nas relações jurídicas junto aos agentes econômicos superavitários e deficitários, assumindo os riscos e os direitos e obrigações respectivas, uma vez que o detentor e o tomador dos recursos não se relacionam diretamente.
- e. ( ) No mercado de crédito, a instituição financeira é parte credora junto aos agentes econômicos deficitários, assumindo os riscos e os direitos e obrigações respectivas, uma vez que o detentor e o tomador dos recursos não se relacionam diretamente.

**32.** Quanto ao Código de autorregulação, pode-se afirmar que os fundos devem se orientar visando, principalmente, a estabelecer os parâmetros seguintes, **exceto**:

- a. ( ) a concorrência leal.
- b. ( ) a padronização de seus procedimentos.
- c. ( ) a maior qualidade e disponibilidade de informações sobre eles.
- d. ( ) a elevação dos padrões fiduciários e a promoção das melhores práticas do mercado.
- e. (X) trocar informações entre eles sobre quais foram os investimentos efetuados, especialmente quanto às taxas de rentabilidade.

**33.** No mercado de capitais podem ser distinguidos dois segmentos: o mercado primário e o mercado secundário.

Quanto a isto, pode-se afirmar:

- a. ( ) No mercado secundário ocorrem as emissões públicas de novos valores mobiliários, mediante a mobilização da poupança popular. É no mercado primário que se atende a finalidade principal do mercado de capitais, que é de permitir a captação de recursos públicos.
- b. (X) No mercado primário ocorrem as emissões públicas de novos valores mobiliários, mediante a mobilização da poupança popular. É no mercado primário que se atende a finalidade principal do mercado de capitais, que é de permitir a captação de recursos públicos.
- c. ( ) No mercado primário não ocorrem as emissões públicas de novos valores mobiliários. É no mercado primário que se atende a finalidade principal do mercado de capitais, que é de permitir a captação de recursos públicos.
- d. ( ) Sem a existência de um mercado primário ativo, ficariam muito prejudicadas as operações de captações de novos recursos no mercado secundário.
- e. ( ) A função essencial do mercado primário é a de conferir liquidez aos valores mobiliários, permitindo que os seus adquirentes possam vendê-los rapidamente.

## Concurso Público

**34.** O sistema financeiro é segmentado nos seguintes subsistemas:

- a. ( ) O mercado de crédito formal e o mercado de crédito informal.
  - b. ( ) O mercado financeiro; o mercado de capital; o mercado monetário e não monetário; o mercado cambial; o mercado de capitais; e o mercado bancário.
  - c. (X) O mercado de crédito; o mercado monetário; o mercado cambial; e o mercado de capitais (ou mercado de valores mobiliários).
  - d. ( ) O mercado monetário e não monetário; o mercado cambial; o mercado interbancário; o mercado de ações.
  - e. ( ) O mercado de crédito (governos e bancos); mercado de plástico (cartões); mercado acionário; e mercado interbancário.
- 

**35.** No mercado cambial são efetuadas operações:

- a. ( ) De curto prazo, de compra e venda de moeda estrangeira, dispensando a intermediação de instituições financeiras, que se destinam a viabilizar o fluxo de capitais para dentro e para fora do País.
- b. ( ) De curto e longo prazo, de compra e venda de moeda estrangeira, sem necessidade de intermediação de bancos e corretoras de valores mobiliários, com objetivo de viabilizar o fluxo de capitais para fora do País.
- c. ( ) De curto e curtíssimo prazo com moedas estrangeiras e títulos públicos registrados no exterior.
- d. (X) De curto prazo, de compra e venda de moeda estrangeira, sendo sempre necessária a intermediação de instituições financeiras, que se destinam a viabilizar o fluxo de capitais para dentro e para fora do País.
- e. ( ) Típicas do mercado de crédito, como por exemplo, operações bancárias e de captação de recursos externos.

**36.** Quanto às espécies de ações, pode-se afirmar:

- a. (X) As ações ordinárias outorgam aos seus titulares todos os direitos comuns de um acionista, isto é, os direitos ordinários de sócio, sem restrições ou privilégios. Pode-se dizer que o principal direito conferido ao titular de uma ação ordinária é o direito de voto.
  - b. ( ) As ações preferenciais outorgam aos seus titulares todos os direitos comuns de um acionista, isto é, os direitos de acionista preferencial, sem restrições ou privilégios. Pode-se dizer que o principal direito conferido ao titular de uma ação preferencial é o direito de voto.
  - c. ( ) As ações ordinárias são aquelas que conferem aos seus titulares determinadas preferências ou vantagens, que devem ser definidas pelo estatuto, principalmente concernentes ao direito de receber preferencialmente, antes dos outros acionistas, os dividendos.
  - d. ( ) As ações ordinárias com dividendo fixo ou mínimo são aquelas cuja vantagem consiste no direito de o seu titular receber, antes que haja qualquer distribuição de dividendos entre os demais acionistas, um montante previamente quantificado nos estatutos sociais.
  - e. ( ) Pode-se dizer que o principal direito conferido ao titular de uma ação preferencial é o direito de voto.
- 

**37.** Um dos participantes abaixo não opera por meio de depósitos à vista.

Assinale a alternativa que indica esse participante.

- a. ( ) Banco comercial
- b. (X) Banco de desenvolvimento
- c. ( ) Banco múltiplo com carteira comercial
- d. ( ) Caixa Econômica Federal
- e. ( ) Cooperativa de crédito

**38.** Quanto ao cheque é **incorreto** afirmar:

- a. ( ) O cheque é pagável à vista. Considera-se não escrita qualquer menção em contrário.
  - b. ( ) A apresentação do cheque à câmara de compensação equivale à apresentação a pagamento.
  - c. ( ) A morte do emitente ou sua incapacidade superveniente à emissão não invalida os efeitos do cheque.
  - d. ( ) O cheque apresentado para pagamento antes do dia indicado como data de emissão é pagável no dia da apresentação.
  - e. (X) O cruzamento é especial se entre os dois traços não houver nenhuma indicação ou existir apenas a indicação "banco", ou outra equivalente. O cruzamento é geral se entre os dois traços existir a indicação do nome do banco.
- 

**39.** Qual das explicações abaixo **não** está correta?

- a. (X) Os contratos futuros não têm a característica da intercambialidade, ou seja, comprar um contrato de venda não anula a compra de um contrato de compra, e vice-versa.
- b. ( ) CDBs (Certificado de Depósito Bancário) são títulos emitidos pelos bancos comerciais e de investimentos, que pagam taxas de juros em determinado vencimento para seus compradores. O dinheiro captado nos CDBs é usado para as operações de crédito do banco.
- c. ( ) As debêntures são títulos de renda fixa emitidos por sociedade anônima para tomar empréstimos no mercado. Seu lançamento pode ser público ou particular.
- d. ( ) Derivativos são contratos cujo valor tem como base o preço de um determinado ativo. Por exemplo, um contrato futuro de café é um derivativo porque seu valor depende ("deriva") do preço do café. Os mercados de derivativos se compõem de contratos futuros, de opções, a termo e de swaps (troca).
- e. ( ) As operações a termo e futuro consistem numa compra ou venda de uma determinada quantidade de ativos financeiros, por um preço previamente estabelecido, para liquidação numa data específica no futuro, a contar da data da operação.

**40.** Assinale a alternativa que apresenta a definição **incorreta**.

- a. ( ) Benchmarking é um termo utilizado como padrão de referência no mercado financeiro para se comparar a rentabilidade entre investimentos, títulos, taxas, etc.
  - b. ( ) A subscrição é o lançamento de novas ações por uma sociedade anônima com o objetivo de obter recursos necessários para um investimento. É um direito aberto também aos acionistas para aquisição de ações da empresa, quando esta decide fazer essas novas emissões de ações para aumentar seu capital.
  - c. ( ) A Taxa Interna de Retorno (TIR), em inglês IRR (Internal Rate of Return), é a taxa necessária para igualar o valor de um investimento (valor presente) com os seus respectivos retornos futuros ou saldos de caixa. Sendo usada em análise de investimentos, significa a taxa de retorno de um projeto.
  - d. (X) O preço sujo é o preço inflacionado por fatores relacionados com a especulação de agentes através da utilização de informação privilegiada.
  - e. ( ) O preço limpo leva em conta que um investidor, que tenha mantido o título em carteira, deva receber a pró-rata dos juros, mais amortizações, mais capitalizações a serem pagas na próxima data de cupom.
- 

**41.** O cheque pode ser emitido:

- a. ( ) sempre ao portador.
- b. ( ) apenas por conta de terceiro.
- c. ( ) apenas à ordem do próprio sacador.
- d. ( ) à ordem do próprio sacador e por conta de terceiro.
- e. (X) à ordem do próprio sacador; por conta de terceiro; contra o próprio banco sacador, desde que não ao portador.

## Concurso Público

42. Quanto ao CDB, é **incorreto** afirmar:

- a. ( ) Estes certificados de depósitos bancários são títulos nominativos emitidos pelos bancos e vendidos ao público como forma de captação de recursos.
- b. ( X ) O CDB pré-fixado não possui nenhuma restrição em relação a resgates antecipados, enquanto o CDB pós-fixado não pode ser resgatado antecipadamente.
- c. ( ) No CDB pré-fixado, o cliente já sabe quanto vai receber no vencimento do título, pois o percentual de remuneração é definido no fechamento da aplicação. No CDB pós-fixado, a remuneração do título é composta por um percentual do CDI, porém não é possível saber o valor futuro deste índice, ou informar o valor que será resgatado no seu vencimento.
- d. ( ) Os CDBs pré-fixados são títulos que não têm prazo mínimo, não podendo ter o seu vencimento em sábados, domingos, ou feriados. A rentabilidade destes títulos é determinada na hora da aplicação, e portanto, você saberá previamente o quanto irá receber no vencimento. Nos momentos de crise, com tendência à queda das taxas de juros, os bancos darão preferência à captação de recursos em CDB pré-fixado de prazo longo.
- e. ( ) Os CDBs pós-fixados podem ser oferecidos pelos bancos com ou sem liquidez diária, rendem de acordo com o desempenho de indicadores como os Certificados de Depósito Interbancário (CDI) ou a Taxa de Referência (TR). Estes títulos são populares em momentos onde existe perspectiva de aumento dos juros.

43. Quanto ao RDB (Recibo de Depósito Bancários) pode-se afirmar:

- a. ( ) Os RDBs são títulos de renda fixa emitidos por sociedade anônima para tomar empréstimos no mercado. Seu lançamento pode ser público ou particular.
- b. ( ) Os Recibos de Depósitos Bancários são títulos de renda variável, representativos de depósitos à vista, utilizados pelos bancos comerciais como mecanismos de captação de recursos a longo prazo. Estes tipos de investimento envolvem uma promessa de pagamento futuro do valor investido, acrescido da taxa pactuada no momento da transação.
- c. ( X ) Os Recibos de Depósitos Bancários são títulos de renda fixa, representativos de depósitos a prazo, utilizados pelos bancos comerciais como mecanismos de captação de recursos. Estes tipos de investimento envolvem uma promessa de pagamento futuro do valor investido, acrescido da taxa pactuada no momento da transação.
- d. ( ) Os Recibos de Depósitos Bancários são títulos de renda variável, representativos de depósitos à vista, utilizados pelos bancos de investimento como mecanismos de captação de recursos. Estes tipos de investimento podem ou não envolver uma promessa de pagamento futuro do valor investido.
- e. ( ) Os RDBs pós-fixados podem ser oferecidos pelos bancos com ou sem liquidez diária, rendem de acordo com o desempenho de indicadores como os Certificados de Depósito Interbancário (CDI), a Taxa de Referência (TR), ou a Variação cambial. Estes títulos são considerados populares em momentos onde existe perspectiva de aumento dos juros e inflação.

**44.** Quanto à marcação a mercados, é **incorreto** afirmar:

- a. ( ) O conceito de marcação a mercado (MaM) consiste em estabelecer o preço atual de uma operação de tal forma que sua reposição permita ao adquirente os mesmos resultados de uma nova operação com características de fluxos de caixa e prazos remanescentes, iguais ao da operação original.
- b. ( ) A Marcação a Mercado (MaM) é o procedimento de se ajustar o preço de um ativo existente na carteira à cotação do mercado, ajustando o seu valor à nova realidade, evitando assim a transferência de riqueza entre os diversos cotistas do fundo. Dessa maneira, o valor apurado de uma carteira reflete o quanto ela valeria caso todos os ativos fossem vendidos naquela data.
- c. ( ) A marcação a mercado (MaM) tem como principal objetivo evitar a transferência de riquezas entre os diversos cotistas de um fundo de investimento, sendo um procedimento essencial para a identificação dos verdadeiros valores dos ativos, ou seja, a obtenção do valor de um ativo pelo qual ele pode ser negociado no mercado.
- d. (X) A Marcação a Mercado (MaM) consiste em registrar todos os ativos pelos preços negociados no momento da compra desses ativos, ou seja, pelo seu preço de custo, ajustados pelas variações médias decorrentes das taxas de câmbio e variações de mercado do ativo.
- e. ( ) A Marcação a Mercado (MaM) tem como principal objetivo evitar a transferência de riqueza entre os cotistas dos fundos de investimento, além de dar maior transparência aos riscos embutidos nas posições, uma vez que as oscilações de mercado dos preços dos ativos ou dos fatores determinantes destes estarão refletidas nas cotas, melhorando assim a comparabilidade entre suas performances.

**45.** Quanto às letras de câmbio, podemos afirmar que:

- a. ( ) reúnem as mesmas características de negociação do CDB pós fixado; no entanto, são intransferíveis e negociáveis.
- b. (X) são ordens de pagamentos, à vista ou a prazo, sacadas por um credor contra seu devedor, em favor de alguém, que pode ser um terceiro ou o próprio sacador
- c. ( ) são títulos de renda fixa, representativos de depósitos a prazo, utilizados pelos bancos comerciais como mecanismos de captação de recursos. Estes tipos de investimento envolvem uma promessa de pagamento futuro do valor investido, acrescido da taxa pactuada no momento da transação.
- d. ( ) podem ser oferecidas pelos bancos com ou sem liquidez diária, rendem de acordo com o desempenho de indicadores como os Certificados de Depósito Interbancário (CDI) ou a Taxa de Referência (TR).
- e. ( ) são uma ordem de pagamento que o sacado dirige ao sacador (credor) para que este pague uma importância consignada a um terceiro denominado tomador.

### **Legislação Estadual**

(5 questões)

**46.** Conforme disposto no Estatuto dos Servidores Públicos Civis do Estado de Santa Catarina, assinale a alternativa **correta**.

- a. ( ) É permitida a acumulação de férias.
- b. ( ) A gratificação natalina não é devida ao funcionário exonerado.
- c. (X) Para efeito de promoção, a antiguidade é determinada pelo tempo de serviço no cargo.
- d. ( ) A nomeação será feita em caráter efetivo para os cargos declarados em lei de livre nomeação e exoneração.
- e. ( ) Considera-se trabalho noturno o prestado entre 21 (vinte e uma) horas e 06 (seis) horas do dia seguinte.

## Concurso Público

47. De acordo com a Lei Complementar nº 381, de 7 de maio de 2007, é **correto** afirmar:

- a. ( ) As empresas públicas e as sociedades de economia mista adquirem personalidade jurídica com a publicação da lei que as criar.
- b. ( ) As fundações públicas de direito privado adquirem personalidade jurídica com o arquivamento e registro de seus atos constitutivos na Junta Comercial do Estado de Santa Catarina (JUCESC).
- c. ( ) As autarquias e as fundações públicas de direito público adquirem personalidade jurídica com a inscrição da escritura pública de sua institucionalização e estatuto no registro civil de pessoas jurídicas.
- d. ( ) A Assembleia Legislativa disporá sobre a organização e o funcionamento dos órgãos da Administração Direta.
- e. (X) As entidades compreendidas na Administração Indireta serão vinculadas à Secretaria de Estado em cuja área de competência estiver enquadrada sua principal atividade.

---

48. Conforme a Lei Complementar nº 412, de 26 de junho de 2008, é **correto** afirmar:

- a. (X) O servidor pertencente a outro ente da Federação, quando cedido a poder ou órgão do Estado de Santa Catarina, com ou sem ônus, permanecerá vinculado ao seu regime de origem.
- b. ( ) Considera-se dependente para os fins de Regime Próprio de Previdência dos Servidores do Estado de Santa Catarina o filho solteiro menor de 24 (vinte e quatro) anos.
- c. ( ) Ocorre perda da condição de segurado do Regime Próprio de Previdência dos Servidores do Estado de Santa Catarina na hipótese de doença grave.
- d. ( ) A contribuição previdenciária será devida ao Regime Próprio de Previdência dos Servidores do Estado de Santa Catarina pelos segurados e pensionistas, com alíquota de 8% (oito por cento) calculada sobre o salário de contribuição.
- e. ( ) A contribuição previdenciária não incide sobre a gratificação natalina.

49. Nos termos do Regimento Interno da Secretaria de Estado da Fazenda, aprovado pelo Decreto nº 2.762, de 19 de novembro de 2009, é **incorreto** afirmar:

- a. ( ) Compete à Secretaria de Estado da Fazenda desenvolver as atividades relacionadas com tributação, arrecadação e fiscalização.
- b. ( ) A Companhia de Desenvolvimento do Estado de Santa Catarina (CODESC) constitui entidade vinculada à estrutura organizacional da Secretaria de Estado da Fazenda.
- c. ( ) Para o exercício do cargo de provimento em comissão de Consultor Jurídico, deverá o seu ocupante possuir formação em curso superior de graduação em Direito, com registro na Ordem dos Advogados do Brasil (OAB).
- d. (X) A Corregedoria da Secretaria de Estado da Fazenda (COSEF) reger-se-á por regulamento próprio, aprovado por decreto da Assembleia Legislativa.
- e. ( ) O Conselho Estadual de Contribuintes tem a sua organização, competência e funcionamento estabelecidos em regulamento próprio, aprovado por ato do Chefe do Poder Executivo Estadual.

---

50. A instituição do Sistema Financeiro de Conta Única, abrangente de todas as fontes de recursos da Administração Direta, das Autarquias, das Fundações, dos Fundos Especiais e das Empresas Estatais Dependentes, destina-se ao cumprimento do princípio:

- a. ( ) da anualidade.
- b. ( ) da programação.
- c. (X) de unidade de tesouraria.
- d. ( ) do equilíbrio orçamentário.
- e. ( ) da exclusividade.

**Estatística**

(10 questões)

**51.** Certo supermercado calculou medidas de síntese para as compras realizadas por seus clientes em um mês típico, obtendo:

- mediana = R\$ 120,00;
- quartil inferior = R\$ 40,00;
- quartil superior = R\$ 200,00.

A interpretação dos resultados das três medidas de síntese seria, respectivamente:

- a. ( ) 25% dos clientes gastaram até R\$ 120,00 e 75%, acima de R\$ 120,00; 50% dos clientes gastaram até R\$ 200,00 e 50%, acima de R\$ 200,00; 75% dos clientes gastaram até R\$ 40,00 e 25%, acima de R\$ 40,00.
- b. ( ) 25% dos clientes gastaram até R\$ 200,00 e 75%, acima de R\$ 200,00; 50% dos clientes gastaram até R\$ 40,00 e 50%, acima de R\$ 40,00; 75% dos clientes gastaram até R\$ 40,00 e 25%, acima de R\$ 40,00.
- c. ( ) 50% dos clientes gastaram até R\$ 40,00 e 50%, acima de R\$ 40,00; 25% dos clientes gastaram até R\$ 200,00 e 75%, acima de R\$ 200,00; 75% dos clientes gastaram até R\$ 120,00 e 25%, acima de R\$ 120,00.
- d. ( X ) 50% dos clientes gastaram até R\$ 120,00 e 50%, acima de R\$ 120,00; 25% dos clientes gastaram até R\$ 40,00 e 75%, acima de R\$ 40,00; 75% dos clientes gastaram até R\$ 200,00 e 25%, acima de R\$ 200,00.
- e. ( ) 75% dos clientes gastaram até R\$ 120,00 e 25%, acima de R\$ 120,00; 50% dos clientes gastaram até R\$ 40,00 e 50%, acima de R\$ 40,00; 25% dos clientes gastaram até R\$ 200,00 e 75%, acima de R\$ 200,00.

**52.** Observe a tabela a seguir com as frequências e percentuais do tipo de empresa atuante em um município:

Tipo de empresa	Frequências	Percentuais
Indústria	200	10,00%
Comércio	1200	60,00%
Serviços	600	30,00%
Total	2000	100,00%

Fonte: dados fictícios

Se houvesse interesse em representar a tabela acima de uma forma gráfica, qual seria o gráfico mais apropriado?

- a. ( ) Histograma.
- b. ( X ) Gráfico em setores.
- c. ( ) Diagrama em caixas.
- d. ( ) Diagrama de pontos.
- e. ( ) Diagrama de dispersão.

**53.** Imagine um conjunto de dados referente a uma variável quantitativa. Todos os valores do conjunto são iguais a 4.

Neste caso, a média, a mediana e o desvio padrão do conjunto seriam, respectivamente:

- a. ( X ) 4; 4; 0
- b. ( ) 4; 4; 1
- c. ( ) 4; 4; 4
- d. ( ) 4; 0; 4
- e. ( ) 4; 0; 0

**54.** Seja a variável aleatória discreta  $X$  número de acidentes em um cruzamento registrado em um mês. A probabilidade de que  $X$  seja menor ou igual a 2 (ou seja, que ocorram até 2 acidentes no cruzamento em um mês) vale 0,0015.

Qual é a probabilidade de que ocorram mais de 2 acidentes no cruzamento em um mês?

- a. ( ) 0,0015
- b. ( ) 0,85
- c. ( ) 0,985
- d. ( ) 0,995
- e. ( X ) 0,9985

## Concurso Público

**55.** Há interesse em estudar o comportamento da ocorrência de erros em formulários de pedidos de um órgão público. Admite-se que o número de erros encontrados por formulário seja uma variável aleatória discreta  $X$ , e que devido ao treinamento dado aos funcionários do referido órgão público a ocorrência de erro pode ser considerado um evento raro.

Com base nas informações anteriores, qual é o melhor modelo probabilístico para a variável aleatória  $X$ ?

- a.  Poisson.
  - b.  Normal
  - c.  Binominal
  - d.  Exponencial
  - e.  Qui-quadrado
- 

**56.** Suponha-se que as alturas dos catarinenses adultos do sexo masculino podem ser aproximadas por uma distribuição normal com média e desvio padrão conhecidos.

Seleciona-se por sorteio um catarinense adulto do sexo masculino. Se a sua altura estiver a 3,5 ou mais desvios padrões acima da média, tal resultado poderá ser considerado:

- a.  Bem improvável, e trata-se de um sujeito bem baixo para os padrões catarinenses.
  - b.  Bem improvável, e trata-se de um sujeito bem alto para os padrões catarinenses.
  - c.  Bem provável, e trata-se de um sujeito bem alto para os padrões catarinenses.
  - d.  Bem provável, e trata-se de um sujeito bem baixo para os padrões catarinenses.
  - e.  Bem provável, e trata-se de um sujeito bem semelhante aos padrões catarinenses.
- 

**57.** A amostragem estratificada proporcional, a amostragem por cotas e a amostragem por conglomerados são, respectivamente, amostragem:

- a.  Não Casual, Casual e Casual.
- b.  Não Casual, Não Casual e Casual.
- c.  Casual, Não Casual e Não Casual.
- d.  Casual, Não Casual e Casual.
- e.  Casual, Casual e Casual.

**58.** Uma pesquisa de opinião eleitoral foi conduzida através de amostragem casual, indicando que certo candidato a cargo majoritário é indicado como o preferido por uma proporção de 30% dos eleitores, com uma margem de erro de 2,5%, para uma confiança de 95%.

Isso significa que:

- a.  Há 5% de probabilidade de que o intervalo entre 27,5% e 32,5% contenha a proporção populacional de eleitores que preferem o candidato.
  - b.  Há 5% de probabilidade de que o intervalo entre 29,25% e 30,75% contenha a proporção populacional de eleitores que preferem o candidato.
  - c.  Há 95% de probabilidade de que o intervalo entre 27,5% e 32,5% contenha a proporção populacional de eleitores que preferem o candidato.
  - d.  Há 95% de probabilidade de que o intervalo entre 29,5% e 30,5% contenha a proporção populacional de eleitores que preferem o candidato.
  - e.  Há 95% de probabilidade de que o intervalo entre 29,25% e 30,75% contenha a proporção populacional de eleitores que preferem o candidato.
- 

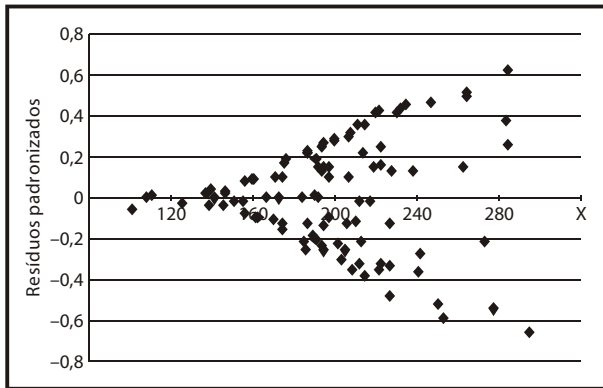
**59.** Determinada variável apresenta tradicionalmente média igual a 10. Um pesquisador pretende realizar uma pesquisa por amostragem casual medindo esta variável, sob influência de novos fatores, em indivíduos de uma amostra. Ele tem razões para supor que a média sofrerá uma redução em relação ao valor tradicional.

As hipóteses estatísticas corretas para o teste de hipóteses da média da variável seriam:

- a.  Hipótese nula: média  $\geq 10$ ;  
Hipótese alternativa: média  $< 10$
- b.  Hipótese nula: média  $\neq 10$ ;  
Hipótese alternativa: média  $< 10$
- c.  Hipótese nula: média  $= 10$ ;  
Hipótese alternativa: média  $\neq 10$
- d.  Hipótese nula: média  $\neq 10$ ;  
Hipótese alternativa: média  $> 10$
- e.  Hipótese nula: média  $\leq 10$ ;  
Hipótese alternativa: média  $> 10$



60. Considere que um modelo de regressão qualquer gerou resíduos padronizados que estão representados no diagrama de dispersão a seguir, em função dos valores da variável independente:



Sobre o modelo de regressão que gerou os resíduos padronizados mostrados no diagrama acima, pode-se afirmar que:

- a. ( ) É adequado para representar o relacionamento entre as variáveis, pois seus resíduos padronizados apresentam heterocedasticidade.
- b. ( ) É adequado para representar o relacionamento entre as variáveis, pois seus resíduos padronizados apresentam homocedasticidade.
- c. ( ) É inadequado para representar o relacionamento entre as variáveis, pois seus resíduos padronizados apresentam homocedasticidade.
- d. ( ) É adequado para representar o relacionamento entre as variáveis, pois seus resíduos padronizados apresentam padrão não aleatório.
- e. (X) É inadequado para representar o relacionamento entre as variáveis, pois seus resíduos padronizados apresentam heterocedasticidade.

## Finanças e Orçamento Público (15 questões)

61. Relacione o planejamento financeiro no âmbito governamental aos níveis de planejamento tradicionalmente conhecidos na administração geral.

### Planejamento financeiro

1. Lei de Diretrizes Orçamentárias.
2. Plano Diretor.
3. Plano Plurianual.

### Níveis de planejamento

- ( ) Planejamento Estratégico.
- ( ) Planejamento Operacional.
- ( ) Planejamento Tático ou Gerencial.

Assinale a alternativa que indica a sequência **correta**, de cima para baixo.

- a. ( ) 1 – 2 – 3
- b. ( ) 1 – 3 – 2
- c. ( ) 2 – 3 – 1
- d. (X) 3 – 1 – 2
- e. ( ) 3 – 2 – 1

62. Assinale a alternativa correta sobre Securitização de Dívidas Públicas (SDP).

- a. (X) SDP são processos de renegociação de dívidas geralmente vencidas e não pagas.
- b. ( ) SDP são garantias de quitação dos saldos devedores remanescentes de contratos de financiamento habitacional.
- c. ( ) SDP são liquidações das obrigações remanescentes do extinto seguro de crédito do SFH (Sistema Financeiro Habitacional).
- d. ( ) SDP são títulos emitidos para a cobertura do FCVS (Fundo de Compensação das Variações Salariais), conforme Resolução 25 do BNH (Banco Nacional de Habitação).
- e. ( ) SDP são processos de troca de ativos de longo prazo por ativos de curto prazo.

## Concurso Público

63. Assinale a alternativa que identifica os créditos adicionais extraordinários.

- a. ( ) Serão abertos por Decreto Presidencial, no caso federal, e por decreto do Poder Legislativo para os demais entes, dando imediato conhecimento deles ao Poder Judiciário.
- b. ( ) Poderão ter vigência além do exercício em que forem autorizados, independente da data de sua promulgação.
- c. (X) São destinados a despesas urgentes e imprevisíveis, tais como em caso de guerra ou calamidade pública, conforme art. 167 CF/88.
- d. ( ) São os destinados a despesas, para as quais não haja dotação orçamentária específica, devendo ser autorizados por lei.
- e. ( ) São os destinados a reforço de dotação orçamentária

---

64. Partindo-se das seguintes premissas:

- O PIB (Produto Interno Bruto) é obtido pela fórmula  $PIB = (C) + (I) + (G) + (X)$ , onde: valores monetários do consumo = (C); investimento bruto = (I); compras de bens e serviços efetuadas pelo Estado = (G); exportações líquidas = (X);
- O PIB do Brasil em 2009 foi de R\$ 3 trilhões;
- A relação histórica entre investimento privado e investimento governamental é de  $3 \times 1$ ;
- Todas as variáveis da fórmula do PIB se mantêm inalteradas de 2009 para 2010, exceto o investimento bruto (I);
- O Crescimento populacional esperado é de 3% ao ano.

Assinale a alternativa **correta** quanto ao investimento bruto que o governo deve realizar, durante o ano de 2010, para que o PIB acompanhe o crescimento populacional, sem alterar a relação  $3 \times 1$  citada.

- a. (X) R\$ 30 bilhões.
- b. ( ) R\$ 60 bilhões
- c. ( ) R\$ 90 bilhões.
- d. ( ) R\$ 120 bilhões.
- e. ( ) R\$ 300 bilhões.

65. A classificação da receita por natureza busca a melhor identificação da origem do recurso segundo seu fato gerador.

Assinale a alternativa que identifica os elementos que formam o código identificador da receita, na seguinte ordem/estrutura: **XYZWTTKK**.

- a. ( ) Origem; Espécie; Rubrica; Alínea; Subalínea; Categoria Econômica.
- b. (X) Categoria Econômica; Origem; Espécie; Rubrica; Alínea; Subalínea.
- c. ( ) Espécie; Rubrica; Alínea; Subalínea; Categoria Econômica; Origem.
- d. ( ) Rubrica; Alínea; Subalínea; Categoria Econômica; Origem; Espécie.
- e. ( ) Alínea; Subalínea; Categoria Econômica; Origem; Espécie; Rubrica.

---

66. Tratando-se das Finanças Públicas, identifique os itens abaixo como Permitido (P) ou Vedado (V).

- ( ) Concessão ou utilização de créditos ilimitados.
- ( ) Lei complementar sobre Dívida pública externa e interna, incluída a das autarquias, fundações e demais entidades controladas pelo Poder Público.
- ( ) Lei complementar sobre emissão e resgate de títulos da dívida pública.
- ( ) Transposição, o remanejamento ou a transferência de recursos de uma categoria de programação para outra ou de um órgão para outro, sem prévia autorização legislativa.
- ( ) Utilização, sem autorização legislativa específica, de recursos dos orçamentos fiscal e da seguridade social para suprir necessidade ou cobrir déficit de empresas, fundações e fundos, inclusive dos mencionados no art. 165, § 5º.

Assinale a alternativa que indica a sequência correta, de cima para baixo.

- a. ( ) V – V – P – P – P
- b. ( ) P – P – P – P – V
- c. (X) V – P – P – V – V
- d. ( ) P – V – P – V – P
- e. ( ) V – P – V – P – V

**67.** Conforme consta no Art. 29-A da Constituição Federal, o total da despesa do Poder Legislativo Municipal, incluídos os subsídios dos Vereadores e excluídos os gastos com inativos, não poderá ultrapassar os seguintes percentuais, relativos ao somatório da receita tributária e das transferências efetivamente realizadas no exercício anterior, para Municípios com população de até 100.000 habitantes.

- a.  7%
- b.  14%
- c.  17%
- d.  27%
- e.  70%

---

**68.** A lei orçamentária anual da União:

1. compreenderá o orçamento fiscal referente aos Poderes da União, seus fundos, órgãos e entidades da administração direta e indireta, inclusive fundações instituídas e mantidas pelo Poder Público.
2. compreenderá o orçamento de investimento das empresas em que a União, direta ou indiretamente, detenha a maioria do capital social com direito a voto.
3. compreenderá o orçamento da seguridade social, abrangendo todas as entidades e órgãos a ela vinculados, da administração direta ou indireta, bem como os fundos e fundações instituídos e mantidos pelo Poder Público.
4. não conterá dispositivo estranho à previsão da receita e à fixação da despesa, não se incluindo na proibição a autorização para abertura de créditos suplementares e contratação de operações de crédito, ainda que por antecipação de receita, nos termos da lei.

Assinale a alternativa que indica todos os itens **corretos**.

- a.  São corretos apenas os itens 1 e 2.
- b.  São corretos apenas os itens 1, 2 e 3.
- c.  São corretos apenas os itens 1, 2 e 4.
- d.  São corretos apenas os itens 2, 3 e 4.
- e.  São corretos os itens 1, 2, 3 e 4.

**69.** Conforme consta na Constituição Federal, constitui crime de responsabilidade do Prefeito Municipal:

- a.  legislar sobre assuntos de interesse local.
- b.  suplementar a legislação federal e a estadual no que couber.
- c.  criar, organizar e suprimir distritos, observada a legislação estadual.
- d.  não enviar o repasse das despesas do Poder Legislativo Municipal até o dia vinte de cada mês.
- e.  instituir e arrecadar os tributos de sua competência, bem como aplicar suas rendas, sem prejuízo da obrigatoriedade de prestar contas e publicar balancetes nos prazos fixados em lei.

---

**70.** Analise as afirmativas abaixo relativo às Receitas Públicas Originárias.

1. Ingressos Extra-Orçamentários possuem caráter temporário, não se incorporando ao patrimônio público.
2. Ingressos Extra-Orçamentários integram o orçamento público e constituem passivos exigíveis do ente, de tal forma que o seu pagamento não está sujeito à autorização legislativa.
3. São exemplos de Ingressos Intra-Orçamentários: depósito em caução, Antecipação de Receitas Orçamentárias (ARO), Emissão de Moeda e outras.
4. Ingressos Intra-Orçamentários são receitas oriundas de operações realizadas entre órgãos e demais entidades da Administração Pública integrantes do orçamento fiscal e da seguridade social de uma mesma esfera de governo.

Assinale a alternativa que indica todas as afirmativas **corretas**.

- a.  São corretas apenas as afirmativas 1 e 3.
- b.  São corretas apenas as afirmativas 1, 2 e 3.
- c.  São corretas apenas as afirmativas 1, 2 e 4.
- d.  São corretas apenas as afirmativas 2, 3 e 4.
- e.  São corretas as afirmativas 1, 2, 3 e 4.

## Concurso Público

71. Analise o texto abaixo.

“As disponibilidades de caixa da União serão depositadas .....(1).....; as dos Estados, do Distrito Federal, dos Municípios e dos órgãos ou entidades do Poder Público e das empresas por ele controladas, em instituições financeiras .....(2)....., .....(3).....”

Assinale a alternativa que completa **corretamente** as lacunas numeradas do texto.

- a. ( ) (1) no Banco do Brasil; (2) brasileiras; (3) ou estrangeiras.
- b. (X) (1) no Banco Central; (2) oficiais; (3) ressalvados os casos previstos em lei.
- c. ( ) (1) em Caixa Econômica; (2) do Brasil; (3) ou estrangeiras.
- d. ( ) (1) no Banco Central; (2) brasileiras ou estrangeiras; (3) conforme o caso.
- e. ( ) (1) no Banco do Brasil; (2) brasileiras; (3) ressalvados os casos previstos em lei.

---

72. A fiscalização contábil, financeira, orçamentária, operacional e patrimonial da União e das entidades da administração direta e indireta, quanto à legalidade, legitimidade, economicidade, aplicação das subvenções e renúncia de receitas, será exercida:

- a. ( ) pelos Tribunais de Contas Estaduais mediante controle externo.
- b. ( ) pelo Ministério da Fazenda, mediante controle externo, e pelo sistema de controle interno.
- c. ( ) pela Secretaria do Tesouro Nacional, em conjunto com o Tribunal da Contas do Distrito Federal, mediante controle externo.
- d. ( ) pela Secretaria do Tesouro Nacional mediante controle externo, e pelo sistema de controle interno.
- e. (X) pelo Congresso Nacional, mediante controle externo, e pelo sistema de controle interno de cada Poder.

73. Tributo é:

1. instituído em lei e cobrado mediante atividade administrativa plenamente vinculada.
2. sanção de ato ilícito.
3. toda prestação pecuniária compulsória em moeda ou cujo valor nela se possa exprimir.

Assinale a alternativa que indica todas as afirmativas **corretas**.

- a. ( ) É correta apenas a afirmativa 1.
- b. ( ) São corretas apenas as afirmativas 1 e 2.
- c. (X) São corretas apenas as afirmativas 1 e 3.
- d. ( ) São corretas apenas as afirmativas 2 e 3.
- e. ( ) São corretas as afirmativas 1, 2 e 3.

---

74. É vedado à União, aos Estados, ao Distrito Federal e aos Municípios:

1. instituir ou majorar tributos sem que a lei o estabeleça.
2. cobrar imposto sobre o patrimônio e a renda com base em lei anterior à data inicial do exercício financeiro a que corresponda.
3. estabelecer limitações ao tráfego, no território nacional, de pessoas ou mercadorias, por meio de tributos interestaduais ou intermunicipais.
4. cobrar imposto sobre o patrimônio, a renda ou os serviços uns dos outros e de templos de qualquer culto.

Assinale a alternativa que indica todas as afirmativas **corretas**.

- a. ( ) São corretas apenas as afirmativas 2 e 3.
- b. ( ) São corretas apenas as afirmativas 1, 2 e 3.
- c. (X) São corretas apenas as afirmativas 1, 3 e 4.
- d. ( ) São corretas apenas as afirmativas 2, 3 e 4.
- e. ( ) São corretas as afirmativas 1, 2, 3 e 4.

**75.** O imposto, de competência da União, sobre a importação de produtos estrangeiros tem como fato gerador:

- a. ( ) o fechamento do câmbio.
- b. (X) a entrada destes no território nacional.
- c. ( ) a emissão do "*pro forma invoice*" pelo exportador.
- d. ( ) a solicitação do câmbio por parte do comprador.
- e. ( ) a solicitação de câmbio por parte do vendedor.

**Página  
em Branco.  
(rascunho)**





**FEPESE • Fundação de Estudos e  
Pesquisas Sócio-Econômicos**  
Campus Universitário • UFSC  
88040-900 • Florianópolis • SC  
Fone/Fax: (48) 3953-1000  
<http://www.fepese.ufsc.br>