

CADERNO DE PROVA

MS3

Auditor Fiscal Municipal

• ÁREA DE ESPECIALIZAÇÃO CONTROLE URBANO

Instruções



Confira o número que você obteve no ato da inscrição com o que está indicado no cartão-resposta.

* A duração da prova inclui o tempo para o preenchimento do cartão-resposta.

Para fazer a prova você usará:

- este **caderno de prova**.
- um **cartão-resposta** que contém o seu nome, número de inscrição e espaço para assinatura.

Verifique, no caderno de prova, se:

- faltam folhas e a sequência de questões está correta.
- há imperfeições gráficas que possam causar dúvidas.

Comunique imediatamente ao fiscal qualquer irregularidade!

Atenção!

- Não é permitido qualquer tipo de consulta durante a realização da prova.
- Para cada questão são apresentadas 5 alternativas diferentes de respostas (a, b, c, d, e). Apenas uma delas constitui a resposta correta em relação ao enunciado da questão.
- A interpretação das questões é parte integrante da prova, não sendo permitidas perguntas aos fiscais.
- Não destaque folhas da prova.

Ao terminar a prova, entregue ao fiscal o caderno de prova completo e o cartão-resposta devidamente preenchido e assinado.



16 de fevereiro



60 questões



8 às 13h



5h de duração*



CONCURSO PÚBLICO



FEPese

FUNDAÇÃO DE ESTUDOS E PESQUISAS SOCIOECONÔMICOS

Língua Portuguesa

10 questões

Texto 1

Utilize o texto abaixo para responder às questões 1, 2 e 3.

Naquela mulata estava o grande mistério, a síntese das impressões que¹ ele recebeu chegando aqui: ela era a luz ardente do meio-dia; ela era o calor vermelho das sestras da fazenda; era o aroma quente dos trevos e das baunilhas, que² o atordoara nas matas brasileiras; era a palmeira virginal e esquiva que³ se não torce a nenhuma planta; era o veneno e era o açúcar gostoso; era o sapoti mais doce que⁴ o mel e era a castanha de caju, que⁵ abre feridas com seu azeite de fogo; ela era a cobra verde...

Aluísio Azevedo. O cortiço.

1. Analise as afirmativas feitas sobre o texto 1.

1. As palavras “ardente, calor, vermelho, aroma, quente, palmeira, virginal, veneno, açúcar, gostoso, mel, azeite, fogo, cobra” trazem conotações de prazer e erotismo na descrição da mulata.
2. A descrição da mulata também evoca sensações gustativas.
3. Considerando-se que “sapoti” é descrito como mais doce que o mel, tem-se que ele é um doce semelhante a ele, apenas menos adocicado.
4. Azeite é veneno e abriu feridas de fogo no personagem masculino citado no texto.
5. O verbo “atordoara” está no pretérito mais-que-perfeito do indicativo e, como tal, expressa um fato ocorrido antes de outro fato já terminado. Pode ser substituído por “tinha atordoado”.

Assinale a alternativa que indica todas as afirmativas **corretas**.

- a. São corretas apenas as afirmativas 3 e 4.
- b. São corretas apenas as afirmativas 4 e 5.
- c. São corretas apenas as afirmativas 1, 2 e 3.
- d. São corretas apenas as afirmativas 1, 2 e 5.
- e. São corretas apenas as afirmativas 3, 4 e 5.

2. Assinale a alternativa **correta**, de acordo com o texto 1.

- a. Se a mulata era uma palmeira esquiva, ela era desconcertante para o narrador.
- b. A expressão “que se não torce” tem problemas de sintaxe, considerando a articulação frasal.
- c. O texto constitui-se em uma só frase que pode ser classificada com período composto por coordenação.
- d. Considerando a expressão “o calor vermelho das sestras da fazenda”, infere-se que o personagem masculino presente no texto chegou em um dia quente, quando percebeu a mulata.
- e. Na frase do texto “Ela era a luz ardente do meio-dia”, a expressão sublinhada é uma qualificação da mulata e tem a função de predicativo do sujeito.

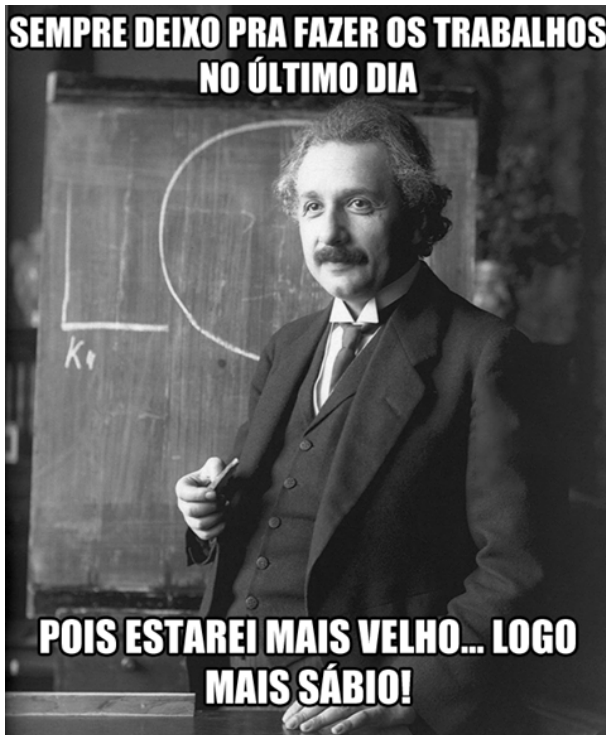
3. Considerando que um recurso coesivo no texto 1, representado pela palavra “que”, é usada cinco vezes, assinale a alternativa **correta**.

- a. Em (1), ela pode ser substituída por “as quais”.
- b. Em (3), ela retoma a palavra “mulata”.
- c. Em (4), ela conecta uma ideia adversativa.
- d. Em (2) e (5), retoma apenas a palavra imediatamente anterior a ela e pode ser substituída por “a qual”.
- e. Em todas as vezes pode ser considerada um pronome relativo.

4. Assinale a alternativa **correta**, considerando as frases: “Meu primo, que mora em Itajaí, veio me visitar” e “Meu primo que mora em Itajaí, veio me visitar”.

- a. A frase colocada entre vírgulas é subordinada adjetiva restritiva.
- b. A frase colocada entre vírgulas é subordinada adjetiva explicativa.
- c. As duas frases têm o mesmo sentido e as vírgulas são opcionais.
- d. Não há necessidade do uso da vírgula antes da palavra “que”.
- e. A oração principal é “Meu primo que mora em Itajaí”.

5. Identifique abaixo as afirmativas verdadeiras (V) e as falsas (F) considerando o meme.



- () O texto da propaganda inicia com um adjunto adverbial de tempo.
- () O primeiro período colocado depois da imagem tem sentido de explicação.
- () O termo “logo” é uma conjunção coordenativa com valor de conclusão.
- () A expressão “mais velho” completa o sentido do verbo “estar”; é, pois, um objeto direto.
- () O sujeito em todas as orações do “meme” é classificado como implícito ou subentendido, mas a imagem altera essa classificação para “sujeito simples”, pois por ela (a imagem) ele se torna visível.

Assinale a alternativa que indica a sequência **correta**, de cima para baixo.

- a. V • V • V • F • F
- b. V • V • F • F • F
- c. V • F • F • V • V
- d. F • F • V • V • F
- e. F • F • F • F • V

6. Escolha a palavra adequada, colocada entre parênteses, de modo a estabelecer a correta coesão textual.

- Para expressar uma condição: (Quando/Se) vocês arrumarem o quarto, terão uma surpresa.
- Para expressar simples adição de ações: Não quero saber de política (nem/apenas) de entender de filosofia.
- Para expressar oposição: Meu colega aceitou o novo emprego, (porquanto/porém) não está feliz.
- Para expressar contradição: (Embora/Ao passo que) estivesse atrasado, parou para ver a cena.
- Para estabelecer finalidade: Fiz um sinal (afim de que/que) lhe calasse.

Assinale a alternativa que indica as palavras **corretas**, de cima para baixo.

- a. Se • nem • porém • Embora • que
- b. Se • nem • porquanto • ao passo que • que
- c. Se • nem • porquanto • Embora • afim de que
- d. Quando • apenas • porém • Embora • que
- e. Quando • apenas • porém • Embora • afim de que

7. Considerando que na Semântica a relação de sentido entre as palavras pode ser classificada em: sinonímia, antonímia, paronímia, hiperonímia e hiponímia, assinale a alternativa que em que essa relação, posta em 1 e 2, está **corretamente** indicada.

- a. [1. bondoso] [2. malvado] (parônimo/antônimo)
- b. [1. Discriminar/discriminar] [2. diferenciar, distinguir, discernir] (parônimos/heterônimos)
- c. [1. almoçar] [2. almoço] (homônimo/sinônimo)
- d. [1. letra em: a letra da música] [2. letra em: a letra do aluno, a letra de câmbio] (polissemia/sinônimos)
- e. [1. automóvel] [2. carro, moto, avião] (hiperônimo e hipônimos)

Texto 2

Leia o texto para responder às questões 8 e 9.

Um dia, numa expedição na África, um cachorrinho começa a brincar de caçar mariposas e quando se dá conta já está muito longe do grupo do safari. Nisso vê bem perto uma pantera correndo em sua direção.

Ao perceber que a pantera vai devorá-lo pensa rápido no que fazer. Vê uns ossos de um animal morto e se coloca a mordê-los. Então, quando a pantera está a ponto de atacá-lo, o cachorrinho diz:

“Ah, que delícia esta pantera que acabo de comer!”

A pantera para bruscamente e sai apavorada correndo do cachorrinho, pensando:

“Que cachorro bravo! Por pouco não come a mim também!”

Um macaco que estava trepado em uma árvore perto e que havia visto a cena, sai correndo atrás da pantera para lhe contar como ela foi enganada pelo cachorro. O macaco alcança a pantera e lhe conta toda a história. Então, a pantera furiosa diz:

“Cachorro maldito! Vai me pagar! Agora vamos ver quem come quem!”

“Depressa!”, disse o macaco. “Vamos alcançá-lo”.

E saem correndo para buscar o cachorrinho.

O cachorrinho vê que a pantera vem atrás dele de novo e desta vez traz o macaco montado em suas costas.

“Ah, macaco desgraçado! O que faço agora?”, pensa o cachorrinho.

Ao invés de sair correndo, o cachorrinho fica de costas como se não estivesse vendo nada e, quando a pantera está a ponto de atacá-lo de novo, o cachorrinho diz:

“Maldito macaco preguiçoso! Faz meia hora que eu o mandei me trazer outra pantera e ele ainda não voltou!”

autor desconhecido

8. Analise as afirmativas abaixo em relação ao texto 2.

1. Em “Vê uns ossos de um animal morto”, as palavras sublinhadas exercem a mesma função sintática e possuem a mesma classificação morfológica.
2. A frase “Faz meia hora” tem como sujeito simples a expressão “meia hora”.
3. A frase sublinhada no texto completa o sentido do verbo “ver” e, como tal, é uma oração subordinada substantiva objetiva direta.
4. Compare as frases: “A pantera furiosa diz: cachorro maldito!” e “Diz furiosa a pantera: maldito cachorro!”. A ordem das palavras foi alterada e, mesmo assim, as palavras sublinhadas continuam a exercer a mesma função sintática: complemento nominal das palavras a que se referem.
5. Em “A pantera para bruscamente e sai apavorada” os dois verbos são intransitivos e as palavras que a eles se referem são adjuntos adverbiais.

Assinale a alternativa que indica todas as afirmativas **corretas**.

- a. São corretas apenas as afirmativas 3 e 4.
- b. São corretas apenas as afirmativas 4 e 5.
- c. São corretas apenas as afirmativas 1, 2 e 4.
- d. São corretas apenas as afirmativas 1, 3 e 5.
- e. São corretas apenas as afirmativas 2, 3 e 4.

9. Assinale a alternativa **correta** em relação ao texto 2.

- a. Em “pensa rápido” temos um complemento verbal na palavra sublinhada.
- b. Em “lhe conta toda a história” temos um objeto direto e indireto, respectivamente, em relação ao verbo “contar”.
- c. A norma culta aceita, na linguagem escrita, a expressão “Vamos alcançar ele”. Assim, é optativo o uso do pronome oblíquo como na frase “Vamos alcançá-lo”.
- d. A frase “Por pouco não come a mim também!” pode ser reescrita da seguinte forma: Por pouco não me come também! Isso é possível haja vista os termos sublinhados em ambas as frases receberem a mesma classificação morfológica: pronomes oblíquos átonos.
- e. A oração do primeiro parágrafo “correndo em sua direção” pode ser substituída por “que corria em sua direção” e que o verbo no gerúndio faz dela uma oração subordinada reduzida.

10. Assinale a alternativa **correta** quanto à análise morfológica do termo sublinhado.

- a. A tua beleza me encanta. (adjetivo)
- b. Entreguei o presente a ela. (preposição)
- c. Eu a vi em conversa com meu chefe. (artigo)
- d. Psju! Este ambiente requer silêncio. (advérbio)
- e. Não me sai da cabeça aquele problema. (conjunção)

Raciocínio Lógico

10 questões

11. Uma pessoa vai a uma feira onde tem a sua disposição 8 tipos de frutas e 7 tipos de verduras.

De quantas maneiras diferentes esta pessoa pode montar uma cesta, consistindo em 3 frutas de tipos distintos e 2 verduras de tipos distintos?

- a. Mais de 1300
- b. Mais de 1200 e menos de 1300
- c. Mais de 1100 e menos de 1200
- d. Mais de 1000 e menos de 1100
- e. Menos de 1000

12. Assinale a alternativa que representa uma afirmação logicamente equivalente a “Se Victor é inteligente e Joana não é ponderada, então Sabrina é bonita ou Bernardo é narcisista”.

- a. Se Sabrina não é bonita ou Bernardo não é narcisista, então Victor não é inteligente e Joana é ponderada.
- b. Se Victor não é inteligente e Joana é ponderada, então Sabrina não é bonita ou Bernardo não é narcisista.
- c. Se Victor não é inteligente ou Joana é ponderada, então Sabrina não é bonita e Bernardo não é narcisista.
- d. Se Sabrina não é bonita e Bernardo não é narcisista, então Victor não é inteligente ou Joana é ponderada.
- e. Se Sabrina é bonita ou Bernardo é narcisista, então Victor é inteligente e Joana não é ponderada.

13. Em um restaurante a quilo são oferecidos 5 tipos de comida sem glúten e 8 tipos com glúten. Uma pessoa deseja montar uma marmita com 3 tipos distintos de comida, de maneira que no máximo uma contenha glúten.

Quantas marmitas diferentes esta pessoa pode montar, obedecendo às restrições descritas anteriormente?

- a. Mais de 105
- b. Mais de 95 e menos de 105
- c. Mais de 85 e menos de 95
- d. Mais de 75 e menos de 85
- e. Menos de 75

14. Em uma academia com 80 alunos, dos quais 50 são mulheres e 30 são homens, são sorteadas duas massagens para pessoas distintas.

A probabilidade de as duas pessoas sorteadas serem mulheres é:

- a. Maior que 40%.
- b. Maior que 37,5% e menor que 40%.
- c. Maior que 35% e menor que 37,5%.
- d. Maior que 32,5% e menor que 35%.
- e. Menor que 32,5%.

15. Se Gisele não é persistente e José é ousado, então Tiago é trapaceiro. Se Tiago é trapaceiro, então Beatriz não é bonita. Sabe-se que Beatriz é bonita.

Logo, podemos afirmar, **corretamente**, que:

- a. Tiago é trapaceiro.
 - b. Gisele não é persistente.
 - c. Gisele não é persistente e José é ousado.
 - d. Gisele é persistente e José não é ousado.
 - e. Gisele é persistente ou José não é ousado.
-

16. Dois irmãos vão viajar em um ônibus com 32 assentos. Os assentos do ônibus estão dispostos em fileiras com 4 assentos, contando com um corredor separando dois assentos para um lado e dois assentos para o outro lado.

Assumindo que todos os assentos estão disponíveis, de quantas maneiras diferentes os irmãos podem escolher seus assentos, de maneira que viajem juntos (ou seja, sem corredor os separando e na mesma fileira)?

- a. Mais de 35
 - b. Mais de 30 e menos de 35
 - c. Mais de 25 e menos de 30
 - d. Mais de 20 e menos de 25
 - e. Menos de 20
-

17. Em uma urna encontram-se 16 bolas, numeradas de 11 a 26. Retirando-se simultaneamente, ao acaso, duas bolas da urna, a probabilidade de a soma dos números constantes nas bolas ser menor ou igual a 25 é:

- a. Maior que 6%.
- b. Maior que 5% e menor que 6%.
- c. Maior que 4% e menor que 5%.
- d. Maior que 3% e menor que 4%.
- e. Menor que 3%.

18. Paulo passeia em uma loja de eletrônicos e considera comprar alguns itens. Sabe-se que a probabilidade de Paulo comprar uma TV é de 30%, a probabilidade de comprar um rádio é de 15% e a probabilidade de comprar um telefone é 60%.

Logo, a probabilidade de Paulo não comprar uma TV nem comprar um rádio e nem comprar um telefone é:

- a. Maior que 27,5%.
 - b. Maior que 25% e menor que 27,5%.
 - c. Maior que 22,5% e menor que 25%.
 - d. Maior que 20% e menor que 22,5%.
 - e. Menor que 20%.
-

19. Ao jogar simultaneamente um dado de seis faces (numeradas de 1 a 6) e uma moeda (com um lado numerado 2 e outro 3), a probabilidade de o produto do número na face superior do dado e de o número da face superior da moeda ser par é:

- a. Maior que 72,5%.
 - b. Maior que 70% e menor que 72,5%.
 - c. Maior que 67,5% e menor que 70%.
 - d. Maior que 65% e menor que 67,5%.
 - e. Menor que 65%.
-

20. Sete atletas disputam uma prova de natação, com iguais chances de vencer.

De quantos modos diferentes pode ocorrer a chegada dos quatro primeiros colocados?

- a. Mais de 900
- b. Mais de 850 e menos de 900
- c. Mais de 800 e menos de 850
- d. Mais de 750 e menos de 800
- e. Menos de 750

Conhecimentos Específicos

40 questões

21. Com base no Estatuto da Cidade, consubstanciado na Lei nº 10.257, de 10 de julho de 2001, analise as afirmativas abaixo sobre o direito de superfície.

1. O proprietário urbano poderá conceder a outrem o direito de superfície do seu terreno, apenas por tempo determinado, mediante instrumento particular.
2. A concessão do direito de superfície não poderá ser gratuita.
3. Extingue-se o direito de superfície pelo descumprimento das obrigações contratuais assumidas pelo superficiário.
4. Por morte do superficiário, os seus direitos não se transmitem a seus herdeiros.

Assinale a alternativa que indica todas as afirmativas **corretas**.

- a. É correta apenas a afirmativa 3.
- b. São corretas apenas as afirmativas 1 e 3.
- c. São corretas apenas as afirmativas 2 e 4.
- d. São corretas apenas as afirmativas 1, 2 e 3.
- e. São corretas apenas as afirmativas 2, 3 e 4.

22. De acordo com a Lei nº 10.257, de 10 de julho de 2001, que trata do Estatuto da Cidade, o estudo de impacto de vizinhança será executado de modo a contemplar os efeitos positivos e negativos do empreendimento ou atividade quanto à qualidade de vida da população residente na área e suas proximidades, incluindo a análise das seguintes questões:

1. adensamento populacional.
2. valorização imobiliária.
3. uso e ocupação do solo.
4. ventilação e iluminação.

Assinale a alternativa que indica todas as afirmativas **corretas**.

- a. São corretas apenas as afirmativas 1, 2 e 3.
- b. São corretas apenas as afirmativas 1, 2 e 4.
- c. São corretas apenas as afirmativas 1, 3 e 4.
- d. São corretas apenas as afirmativas 2, 3 e 4.
- e. São corretas as afirmativas 1, 2, 3 e 4.

23. Assinale a alternativa **correta** considerando o disposto na Lei nº 2.734, de 29 de junho de 1992, que instituiu o Código de Posturas do Município de Itajaí.

- a. Fica expressamente proibido, em logradouros públicos, estacionar, por mais de 12 horas, os veículos equipados para atividade comercial.
- b. É permitida a colocação de anúncios e propagandas, mesmo que sejam escandalosos ou atentem contra a moral.
- c. Não será permitido o comércio ambulante de aguardente ou quaisquer bebidas alcoólicas diretamente ao consumidor.
- d. Nos logradouros públicos são permitidas concentrações para comícios políticos, festividades religiosas e cívicas, independentemente de aprovação pela Prefeitura, quanto à localização.
- e. É proibido podar, cortar, derrubar ou sacrificar as árvores da arborização pública, inclusive com autorização e consentimento expresso da Prefeitura.

24. Analise as afirmativas abaixo a respeito da construção de calçadas no Município de Itajaí, considerando o disposto na Lei Complementar nº 114, de 17 de agosto de 2007.

1. O subsolo das calçadas pertence ao proprietário do terreno confrontante.
2. Nenhuma edificação ou loteamento será aprovado sem o projeto da calçada.
3. As esquinas deverão estar livres de obstáculos, sendo vedada a instalação de mobiliário.
4. As edificações receberão "Habite-se" somente após a execução das calçadas.

Assinale a alternativa que indica todas as afirmativas **corretas**.

- a. São corretas apenas as afirmativas 1, 2 e 3.
- b. São corretas apenas as afirmativas 1, 2 e 4.
- c. São corretas apenas as afirmativas 1, 3 e 4.
- d. São corretas apenas as afirmativas 2, 3 e 4.
- e. São corretas as afirmativas 1, 2, 3 e 4.

25. Conforme dispõe a Lei Complementar nº 215, de 31 de dezembro de 2012, que institui as normas para o Código de Zoneamento, Parcelamento e Uso do Solo no Município de Itajaí, analise as afirmativas abaixo a respeito da classificação de uso do solo.

1. Permissíveis – usos já existentes ou não, adequados às categorias e subcategorias à zona a que pertencem.
2. Permitidos – usos já existentes legalmente, que não se enquadram às categorias e subcategorias permitidas à zona a que pertencem, aceitando-se a sua permanência desde que não haja aumento das áreas edificadas.
3. Tolerados – compreendem as atividades cujo grau de adequação à zona a que pertencem dependerá de análise ou regulamentação específica para cada caso.
4. Proibidos – compreendem as atividades que por sua categoria, porte ou natureza são incompatíveis com as finalidades urbanísticas da zona correspondente.

Assinale a alternativa que indica todas as afirmativas **corretas**.

- a. É correta apenas a afirmativa 4.
- b. São corretas apenas as afirmativas 1 e 2.
- c. São corretas apenas as afirmativas 1, 2 e 3.
- d. São corretas apenas as afirmativas 1, 2 e 4.
- e. São corretas as afirmativas 1, 2, 3 e 4.

26. De acordo com a Lei Federal nº 6.766, de 19 de dezembro de 1979, que dispõe sobre o Parcelamento do Solo Urbano, é **correto** afirmar que o loteador, após sua respectiva aprovação, deverá submeter o projeto de loteamento ou desmembramento ao registro imobiliário, sob pena de caducidade, dentro do prazo de:

- a. 15 dias.
- b. 30 dias.
- c. 60 dias.
- d. 90 dias.
- e. 180 dias.

27. Em conformidade com a Lei nº 2.763, de 26 de outubro de 1992, que institui o Código de Obras do Município de Itajaí, assinale a alternativa **correta** a respeito das condições relativas às obras:

- a. Os andaimes deverão ocupar 1,0 metro, no máximo, em relação à largura do passeio.
- b. Após o término das obras, os tapumes deverão ser retirados no prazo máximo de 2 dias.
- c. Após a conclusão das obras, deverá ser requerida vistoria à Prefeitura, no prazo de 30 dias.
- d. Tratando-se de edificação com mais de 4 pavimentos, a demolição só poderá ocorrer mediante responsabilidade de profissional legalmente habilitado.
- e. Em obras próximas a estabelecimentos hospitalares, é proibido executar qualquer serviço que produza ruídos excessivos, antes das 8 e depois das 21 horas.

28. De acordo com a Lei Complementar nº 94, de 22 de dezembro de 2006, o Plano Diretor do Município de Itajaí será revisto sempre que mudanças significativas na evolução urbana o recomendarem ou a cada:

- a. 2 anos.
- b. 5 anos.
- c. 8 anos.
- d. 10 anos.
- e. 15 anos.

29. Nas rotas de acesso, o mobiliário urbano deve atender aos princípios do desenho universal.

Assinale a alternativa que corresponde a um parâmetro ao qual o mobiliário urbano deve atender para ser considerado acessível, conforme a NBR 9050.

- a. O mobiliário deve ser projetado de modo a ter cantos vivos.
- b. O mobiliário deve estar localizado afastado a uma rota acessível.
- c. O mobiliário deve estar localizado dentro da faixa livre para circulação de pedestre.
- d. O mobiliário deve assegurar dimensão e espaço apropriado para aproximação, alcance e uso.
- e. O mobiliário deve ser projetado de modo a se constituir em obstáculo suspenso.

30. Para garantir uma melhor acessibilidade, a NBR 9050 descreve dois tipos de vagas reservadas: para os veículos que conduzam ou sejam conduzidos por idosos e por pessoas com deficiência.

Assinale a alternativa **correta** sobre a condição da vaga reservada.

- a. A vaga deve estar vinculada à rota acessível que as interligue aos polos de atração.
- b. A vaga deve estar localizada de forma a ampliar a circulação entre veículos.
- c. A vaga deve contar com um espaço adicional de circulação com no mínimo 1,60 m de largura, quando afastadas da faixa de travessia de pedestres.
- d. A vaga pode ter um piso inclinado e irregular, desde que não atinjam o valor máximo apresentado pela norma.
- e. O percurso máximo entre a vaga e o acesso à edificação deve ser de no máximo 120 m.

31. Em um projeto arquitetônico, a planta de cobertura tem como função apresentar o sistema de cobertura que deve proteger a edificação contra intempéries.

Assinale alternativa que corresponde a cada um dos planos inclinados de um telhado, concorrentes em linha de cumeeira ou espigão.

- a. rufo
- b. água
- c. ático
- d. beiral
- e. rincão

32. De acordo com a NBR 6492, assinale a alternativa que corresponde à vista superior do plano secante horizontal, localizado a, aproximadamente, 1,50 m do piso em referência.

- a. Corte
- b. Fachada
- c. Planta de locação
- d. Planta de situação
- e. Planta de edificação

33. Os sanitários, banheiros e vestiários, para serem considerados acessíveis, devem obedecer aos parâmetros quanto às quantidades mínimas necessárias.

Conforme a NBR 9050, em edificações de uso(1)....., o número mínimo de sanitários acessíveis deve ser de(2)..... do total de cada peça sanitária, com no mínimo(3)..... .

Assinale a alternativa que completa **corretamente** as lacunas numeradas do texto.

- a. (1) coletivo existentes • (2) 5% • (3) dois, onde houver sanitários
- b. (1) privado a ser ampliada • (2) 5% • (3) um por bloco
- c. (1) privado existentes • (2) 8% • (3) um, onde houver sanitários
- d. (1) público existentes • (2) 8% • (3) dois, onde houver sanitários
- e. (1) público a ser construída • (2) 15% • (3) um, onde houver sanitários

34. A representação de diferentes elementos presentes nos projetos arquitetônicos pode acarretar numa eventual coincidência de duas ou mais linhas de diferentes tipos.

Assinale a alternativa que apresenta a ordem **correta** das prioridades de linhas coincidentes.

- a. 1. contornos visíveis, 2. superfícies de cortes, 3. contornos não visíveis, 4. linhas de centro
- b. 1. linhas de centro, 2. contornos visíveis, 3. superfícies de cortes, 4. contornos não visíveis
- c. 1. linhas de centro, 2. contornos não visíveis, 3. contornos visíveis, 4. superfícies de cortes,
- d. 1. contornos visíveis, 2. contornos não visíveis, 3. superfícies de cortes, 4. linhas de centro
- e. 1. superfícies de cortes, 2. contornos visíveis, 3. linhas de centro, 4. contornos não visíveis

35. Nos sanitários acessíveis, junto à bacia sanitária, devem ser instaladas barras para apoio e transferência, além de outros dispositivos.

Assinale a alternativa **correta** sobre estes itens, conforme a NBR 9050.

- a. Os lavatórios podem ser equipados com torneiras acionadas por alavancas, com esforço máximo de 45 Newton, ou por torneiras com ciclo automático, com o tempo de fechamento superior a 30 segundos.
- b. O acionamento da válvula de descarga deve estar alinhado à bacia sanitária, com uma altura máxima de 1,20 m e a força de acionamento deve ser inferior a 45 Newton.
- c. No caso da instalação de barras nas paredes laterais, a distância entre esta barra e o eixo da bacia deve ser de, no mínimo, 30 cm e sua extremidade deve estar a 10 cm da borda frontal da bacia.
- d. Na parede do fundo, deve ser instalada uma barra reta com comprimento mínimo de 60 cm, posicionada horizontalmente, a 50 cm de altura do piso acabado.
- e. As barras de apoio dos lavatórios podem ser horizontais e verticais, garantindo o alcance manual da torneira de, no máximo, 0,50 m, medido da borda frontal do lavatório até o eixo da torneira.

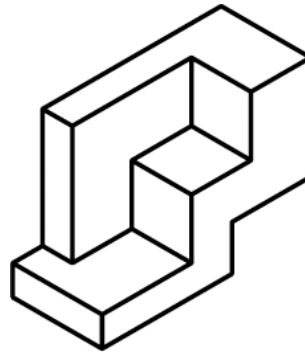
36. O Sistema de Projeção Universal Transversa de Mercator (UTM) é um sistema utilizado internacionalmente para representação da superfície da Terra.

Considere que as coordenadas dos pontos A e B estão na mesma zona, A = (731243 m E; 7020650 m S) e B = (791243 m E; 7100650 m S)

Assinale a alternativa que apresenta **corretamente** a distância linear entre os pontos A e B.

- a. 60 km
- b. 80 km
- c. 100 km
- d. 120 km
- e. 140 km

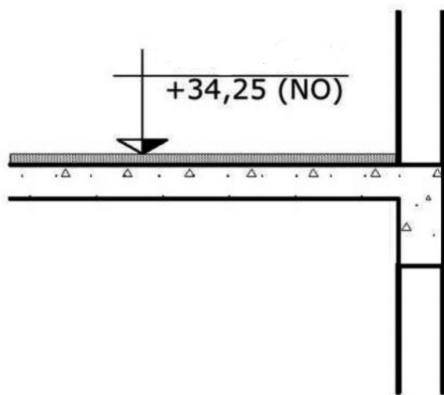
37. Analise a peça abaixo:



Assinale a alternativa que apresenta **corretamente** as vistas da peça apresentada.

- | | | | |
|--|--|--|--|
| a. <input type="checkbox"/> | | | |
| b. <input type="checkbox"/> | | | |
| c. <input type="checkbox"/> | | | |
| d. <input checked="" type="checkbox"/> | | | |
| e. <input type="checkbox"/> | | | |

38. Analise a imagem abaixo:



Assinale a alternativa correspondente ao nível indicado na imagem.

- a. Nível em osso
- b. Nível acabado
- c. Nível de operação
- d. Nível de ocupação
- e. Nível de orientação

39. Para garantir a acessibilidade do usuário, as informações devem ser completas, precisas e claras, sendo transmitidas por meios de sinalizações visuais, táteis e sonoras.

Assinale a alternativa **correta** sobre as sinalizações descritas na NBR 9050.

- a. A sinalização informativa é utilizada para indicar as rotas de fuga das edificações.
- b. A sinalização informativa é utilizada para indicar a direção de um percurso de uma edificação.
- c. A sinalização apresenta 3 categorias: informativa, direcional e de emergência.
- d. A sinalização direcional é utilizada para identificar os diferentes ambientes de uma edificação.
- e. A sinalização tátil é composta por mensagens lisas de textos, símbolos e figuras.

40. Existem muitas dificuldades enfrentadas diariamente pelas pessoas com deficiência ou com mobilidade reduzida no transporte público. O número mínimo de assentos preferenciais nas plataformas e locais para cadeirantes dentro dos trens deve variar de acordo com o intervalo entre trens.

De acordo com a NBR 14021, assinale a alternativa **correta**.

- a. Em plataformas com operações de intervalo entre trens maiores que 10 minutos, devem existir no mínimo 2 assentos preferenciais por plataforma.
- b. Em plataformas com operações de intervalo entre trens menores que 10 minutos, deve existir no mínimo 1 assento preferencial por plataforma.
- c. Em trens com operações de intervalo entre trens maiores que 10 minutos, deve ser previsto no mínimo 1 local para posicionamento da pessoa em cadeira de rodas por trem.
- d. Em trens com operações de intervalo entre trens menores que 10 minutos, deve ser previsto no mínimo 1 local para posicionamento da pessoa em cadeira de rodas por trem.
- e. Em plataformas com operações de intervalo entre trens maiores que 10 minutos, deve existir no mínimo 1 assento preferencial por plataforma.

41. A projeção de um objeto em um único plano não é suficiente para a determinação da forma e da posição deste objeto no espaço.

Assinale a alternativa que corresponde à perspectiva onde os eixos x, y e z têm a mesma inclinação de 120° em relação ao plano vertical.

- a. perspectiva cônica
- b. perspectiva cavaleira
- c. perspectiva cilíndrica
- d. perspectiva trimétrica
- e. perspectiva isométrica

42. Relacione as colunas 1 e 2 abaixo, quanto às propriedades das projeções cartográficas.

Coluna 1 Projeções cartográficas

1. Conformes
2. Equidistantes
3. Equivalentes
4. Afiláticas

Coluna 2 Propriedades

- () Têm a propriedade de não alterarem as áreas.
- () Representam sem deformação, todos os ângulos e formas.
- () Não apresentam deformações lineares, sendo representado em escala uniforme.
- () As áreas, os ângulos e os comprimentos não são conservados.

Assinale a alternativa que indica a sequência **correta**, de cima para baixo.

- a. 1 • 2 • 3 • 4
- b. 3 • 1 • 2 • 4
- c. 3 • 4 • 2 • 1
- d. 4 • 2 • 1 • 3
- e. 4 • 3 • 1 • 2

43. Um levantamento topográfico gerou um produto cartográfico referenciado a um Datum.

Assinale a alternativa que corresponde ao atual referencial geodésico oficial para Geodésia e Cartografia no Brasil, de acordo com Instituto Brasileiro de Geografia e Estatística (IBGE).

- a. ED50
- b. SAD 69
- c. WGS-84
- d. NAD-83
- e. SIRGAS2000

44. Assinale a alternativa **correta** sobre os atos administrativos:

- a. Atos administrativos discricionários não estão sujeitos a controle judiciário.
- b. A anulação do ato administrativo pela Administração Pública produz efeitos ex tunc.
- c. A autoexecutoriedade é atributo do ato que confere o pressuposto de conformidade à lei.
- d. O ato administrativo praticado mediante ilegalidade ou desvio de finalidade deverá ser revogado.
- e. A finalidade é requisito do ato administrativo que corresponde à situação fática ou jurídica que ampara a vontade do agente público em sua prática.

45. Analise as afirmativas abaixo a respeito dos contratos administrativos, conforme disposto na legislação brasileira.

1. O contratado, na execução do contrato, sem prejuízo das responsabilidades contratuais e legais, poderá subcontratar partes da obra, do serviço ou do fornecimento, até o limite admitido pela Administração.
2. Os contratos e seus aditamentos serão lavrados nas repartições interessadas, as quais manterão um arquivo cronológico dos seus autógrafos e o registro sistemático do seu extrato, inclusive aqueles relativos a direitos reais sobre imóveis.
3. É permitido a qualquer licitante o conhecimento dos termos do contrato e do respectivo processo licitatório e, a qualquer interessado, a obtenção de cópia autenticada, mediante o pagamento dos emolumentos devidos.
4. O contratado é responsável pelos encargos trabalhistas, previdenciários, fiscais e comerciais resultantes da execução do contrato.

Assinale a alternativa que indica todas as afirmativas **corretas**.

- a. São corretas apenas as afirmativas 1, 2 e 3.
- b. São corretas apenas as afirmativas 1, 2 e 4.
- c. São corretas apenas as afirmativas 1, 3 e 4.
- d. São corretas apenas as afirmativas 2, 3 e 4.
- e. São corretas as afirmativas 1, 2, 3 e 4.

46. Assinale a alternativa **correta** a respeito das formas de controle da Administração Pública.

- a. O controle poderá ser judicial e administrativo, sendo vedado o controle legislativo.
- b. O controle externo não atinge os atos administrativos vinculados.
- c. O controle jurisdicional é exercido com o auxílio dos Tribunais de Contas.
- d. O Poder Judiciário exerce o controle interno, analisando o mérito do ato administrativo.
- e. O controle interno decorre do poder de autotutela da Administração sobre os seus atos e agentes.

47. Considerando as normas constitucionais a respeito da administração pública, é correto afirmar que se aplicam as seguintes disposições ao servidor público da administração direta, autárquica e fundacional, no exercício de mandato eletivo:

1. Tratando-se de mandato eletivo federal, estadual ou distrital, ficará afastado de seu cargo, emprego ou função.
2. Em qualquer caso que exija o afastamento para o exercício de mandato eletivo, seu tempo de serviço será contado para todos os efeitos legais, exceto para promoção por merecimento.
3. Na hipótese de ser segurado de regime próprio de previdência social, permanecerá filiado a esse regime, no ente federativo de origem.
4. Investido no mandato de Prefeito, será afastado do cargo, emprego ou função, sendo-lhe vedado optar pela sua remuneração.

Assinale a alternativa que indica todas as afirmativas **corretas**.

- a. São corretas apenas as afirmativas 1, 2 e 3.
- b. São corretas apenas as afirmativas 1, 2 e 4.
- c. São corretas apenas as afirmativas 1, 3 e 4.
- d. São corretas apenas as afirmativas 2, 3 e 4.
- e. São corretas as afirmativas 1, 2, 3 e 4.

48. Analise as afirmativas abaixo com base na Lei Orgânica do Município de Itajaí.

1. É permitida a retenção especulativa do solo urbano não construído.
2. A alteração do zoneamento deverá ser precedida de um estudo de impacto ambiental.
3. Os terrenos de marinha são “non aedificandi”, salvo indicações específicas do Plano Diretor.
4. Para assegurar as funções sociais da cidade e da propriedade, o poder público usará, dentre outros instrumentos, a desapropriação por interesse social ou utilidade pública.

Assinale a alternativa que indica todas as afirmativas **corretas**.

- a. São corretas apenas as afirmativas 1, 2 e 3.
- b. São corretas apenas as afirmativas 1, 2 e 4.
- c. São corretas apenas as afirmativas 1, 3 e 4.
- d. São corretas apenas as afirmativas 2, 3 e 4.
- e. São corretas as afirmativas 1, 2, 3 e 4.

49. Analise as afirmativas abaixo com base na Lei Federal nº 9.784/1999, que regula o processo administrativo no âmbito da Administração Pública Federal.

1. São capazes, para fins de processo administrativo, os maiores de 16 anos, ressalvada previsão específica em ato normativo.
2. Entende-se por “órgão” a unidade de atuação dotada de personalidade jurídica.
3. O processo administrativo deve iniciar-se mediante pedido de interessado, sendo vedada a deflagração de ofício.
4. Os atos do processo administrativo não dependem de forma determinada senão quando a lei expressamente a exigir.

Assinale a alternativa que indica todas as afirmativas **corretas**.

- a. É correta apenas a afirmativa 4.
- b. São corretas apenas as afirmativas 3 e 4.
- c. São corretas apenas as afirmativas 2 e 3.
- d. São corretas apenas as afirmativas 1, 2 e 3.
- e. São corretas apenas as afirmativas 1, 3 e 4.

50. Assinale a alternativa **correta** conforme a Lei nº 2.960, de 1995, que dispõe sobre o Regime Jurídico Único dos Servidores Públicos Civis da Administração Direta, das Autarquias e Fundações Públicas do Município de Itajaí.

- a. A nomeação é a investidura do cidadão em cargo público.
- b. O Secretário de Administração Municipal é competente para dar posse aos cargos em comissão.
- c. Exercício é o efetivo desempenho das atribuições inerentes ao cargo.
- d. São requisitos mínimos obrigatórios para a investidura em cargo público, dentre outros, o gozo dos direitos políticos e a idade mínima de 21 anos completos.
- e. A nomeação far-se-á em comissão, quando se tratar de cargo isolado de provimento efetivo ou de carreira.

51. Assinale a alternativa **correta** considerando o disposto na Lei Federal 9.784, de 29 de janeiro de 1999, que trata do processo administrativo federal.

- a. A Administração tem o prazo de até 15 dias para proferir decisão, prorrogável por igual período, depois de concluída a instrução de processo administrativo.
- b. Salvo comprovada má-fé, o direito de anular os atos administrativos de que decorram efeitos favoráveis para os destinatários decai em 10 anos, contados da data em que foram praticados.
- c. Terão prioridade na tramitação, em qualquer órgão ou instância, os procedimentos administrativos em que figure como parte pessoa com idade superior a 55 anos.
- d. O prazo para interposição de recurso administrativo, salvo disposição diversa, é de 10 dias, contado a partir da ciência ou divulgação oficial da decisão recorrida.
- e. O órgão competente determinará a intimação do interessado para ciência de decisão ou efetivação de diligências, com antecedência mínima de 15 dias úteis em relação à data de comparecimento.

52. De acordo com a Lei Orgânica do Município de Itajaí, a Portaria são atos administrativos de competência do Prefeito que devem ser expedidas, dentre outros, nos seguintes casos:

- a. fixação e alteração de preços.
- b. permissão de uso dos bens municipais.
- c. lotação e relocação nos casos de pessoal.
- d. medidas executórias do Plano Diretor do Município.
- e. admissão de servidores para serviços de caráter temporário.

53. De acordo com o Estatuto dos Servidores Públicos Municipais de Itajaí, consubstanciado na Lei nº 2.960, de 1995, o retorno do servidor estável ao cargo anteriormente ocupado em decorrência de inabilitação em estágio probatório relativo a outro cargo é chamado:

- a. Reversão.
- b. Recondição.
- c. Readaptação.
- d. Reintegração.
- e. Remoção.

54. De acordo com a Constituição Federal, a casa é o asilo inviolável do indivíduo, ninguém nela podendo penetrar sem consentimento do morador, salvo:

1. em caso de averiguação sanitária
2. em caso de desastre
3. para prestar socorro
4. por determinação administrativa.

Assinale a alternativa que indica todas as afirmativas **corretas**.

- a. São corretas apenas as afirmativas 1 e 2.
- b. São corretas apenas as afirmativas 2 e 3.
- c. São corretas apenas as afirmativas 3 e 4.
- d. São corretas apenas as afirmativas 1, 2 e 3.
- e. São corretas apenas as afirmativas 2, 3 e 4.

55. Sobre a organização dos poderes, é **correto** afirmar.

- a. Cada Estado e o Distrito Federal elegerão três Senadores, com mandato de oito anos.
- b. Cada Senador será eleito com um suplente.
- c. As deliberações do legislativo serão tomadas por maioria absoluta de seus membros.
- d. Nenhuma unidade da Federação terá menos de 15 Deputados.
- e. A Câmara dos Deputados compõe-se de representantes dos Estados e do Distrito Federal, eleitos segundo o princípio majoritário.

56. De acordo com a Constituição Federal, assinale a alternativa que indica **corretamente** o cargo privativo de brasileiro nato.

- a. ministro da fazenda
- b. carreira diplomática
- c. governador do estado
- d. ministro de tribunal superior
- e. presidente da assembleia legislativa

57. É **correto** afirmar sobre a vigência e revogação da norma, conflito de normas no tempo e no espaço.

- a. É vedada a edição de legislação com prazo determinado de validade.
- b. A meras correções ao texto de lei já em vigor não serão consideradas nova lei.
- c. Nos Estados, estrangeiros, a obrigatoriedade da lei brasileira, quando admitida, se inicia três meses depois de oficialmente publicada.
- d. A nova legislação entrará em vigência no prazo máximo de quarenta e cinco dias da sua publicação.
- e. A lei revogadora que tiver cessada a sua eficácia, restaura, imediatamente, os efeitos da lei revogada.

58. De acordo com o Código Civil, é **correto** afirmar.

- a. Os negócios jurídicos benéficos e a renúncia interpretam-se estritamente.
- b. O silêncio da parte deve ser respeitado, não podendo ser considerado como anuência.
- c. Os usos e costumes não poderão ser utilizados como elemento de interpretação do negócio jurídico.
- d. As declarações de vontade não poderão estar dissociadas do sentido literal da linguagem.
- e. É expressamente vedado pactuar regras de interpretação e de integração dos negócios jurídicos diversas daquelas previstas em lei.

59. Assinale a alternativa **correta** a respeito dos princípios do direito penal, conforme previsto na Constituição Federal de 1988.

- a. A prática do racismo constitui crime afiançável.
- b. Admite-se no direito brasileiro, excepcionalmente, juízo ou tribunal de exceção.
- c. A lei penal jamais retroagirá, nem mesmo para beneficiar o réu.
- d. Ninguém será considerado culpado até o trânsito em julgado de sentença penal condenatória.
- e. São cabíveis, no processo, as provas obtidas por meios ilícitos.

60. De acordo com a Lei nº 8.429, de 2 de junho de 1992 (Lei de Improbidade), configura ato de improbidade administrativa que causa prejuízo ao Erário:

- a. retardar ou deixar de praticar, indevidamente, ato de ofício.
- b. frustrar a licitude de concurso público.
- c. perceber vantagem econômica para intermediar a liberação ou aplicação de verba pública de qualquer natureza.
- d. deixar de cumprir a exigência de requisitos de acessibilidade previstos na legislação.
- e. ordenar ou permitir a realização de despesas não autorizadas em lei ou regulamento.

**Página
em Branco.
(rascunho)**

**Página
em Branco.
(rascunho)**

GRADE DE RESPOSTAS

Utilize a grade ao lado para anotar as suas respostas.

Não destaque esta folha. Ao entregar sua prova, o fiscal irá destacar e entregar esta grade de respostas que você poderá levar para posterior conferência.



| | | | | |
|----|--|---|-----|--|
| 1 | | MS3 Auditor Fiscal Municipal • Área de Especialização Controle Urbano | 31 | |
| 2 | | | 32 | |
| 3 | | | 33 | |
| 4 | | | 34 | |
| 5 | | | 35 | |
| 6 | | | 36 | |
| 7 | | | 37 | |
| 8 | | | 38 | |
| 9 | | | 39 | |
| 10 | | | 40 | |
| 11 | | | 41 | |
| 12 | | | 42 | |
| 13 | | | 43 | |
| 14 | | | 44 | |
| 15 | | | 45 | |
| 16 | | | 46 | |
| 17 | | | 47 | |
| 18 | | | 48 | |
| 19 | | | 49 | |
| 20 | | | 50 | |
| 21 | | | 51. | |
| 22 | | | 52. | |
| 23 | | | 53. | |
| 24 | | | 54. | |
| 25 | | | 55. | |
| 26 | | | 56. | |
| 27 | | | 57. | |
| 28 | | | 58. | |
| 29 | | | 59. | |
| 30 | | | 60. | |



FEPese

FUNDAÇÃO DE ESTUDOS E PESQUISAS SOCIOECONÔMICOS

Campus Universitário • UFSC
88040-900 • Florianópolis • SC
Fone/Fax: (48) 3953-1000
<http://www.fepese.org.br>