

**Técnico de Fomento C – TFC****Analista de Risco de Crédito****Informações Gerais:**

1. Você está recebendo do fiscal de sala o seguinte material:
  - a) o caderno de prova, com o enunciado das 70 (setenta) questões, sem repetição ou falha.
  - b) a folha de repostas.
2. Ao receber a folha de respostas, é obrigação do candidato:
  - a) conferir se seu nome, número de inscrição e cargo escolhido estão corretos;
  - b) ler atentamente as instruções para seu preenchimento;
  - c) assinar a folha de respostas.
3. A folha de respostas será o único documento válido para a correção da prova.
4. O preenchimento da folha de respostas deverá ser feito com a utilização de caneta esferográfica de tinta azul ou preta, sendo de inteira responsabilidade do candidato.
5. Em hipótese alguma haverá substituição da folha de respostas por erro do candidato.
6. As questões da prova são identificadas pelo número que se situa acima do enunciado.
7. O tempo estabelecido para essa prova, incluindo o tempo para a marcação da folha de respostas, é de 4 (quatro) horas.
8. Durante as primeiras duas horas, o candidato não poderá deixar o recinto de realização da prova, salvo por motivo de força maior.
9. O candidato não pode anotar as marcações das questões da prova senão na folha de repostas e no caderno de questões.
10. O candidato somente poderá levar consigo este caderno de questões se permanecer em sala até 30 (trinta) minutos antes do término do horário previsto.



## Língua Portuguesa

### Jeitinho

O jeitinho não se relaciona com um sentimento revolucionário, pois aqui não há o ânimo de se mudar o *status quo*. O que se busca é obter um rápido favor para si, às escondidas e sem chamar a atenção; por isso, o jeitinho pode ser também definido como "molejo", "jogo de cintura", habilidade de se "dar bem" em uma situação "apertada".

Em sua obra *O Que Faz o Brasil, Brasil?*, o antropólogo Roberto DaMatta compara a postura dos norte-americanos e a dos brasileiros em relação às leis. Explica que a atitude formalista, respeitadora e zelosa dos norte-americanos causa admiração e espanto aos brasileiros, acostumados a violar e a ver violadas as próprias instituições; no entanto, afirma que é ingênuo creditar a postura brasileira apenas à ausência de educação adequada.

O antropólogo prossegue explicando que, diferente das norte-americanas, as instituições brasileiras foram desenhadas para coagir e desarticular o indivíduo. A natureza do Estado é naturalmente coercitiva; porém, no caso brasileiro, é inadequada à realidade individual. Um curioso termo – Belíndia – define precisamente esta situação: leis e impostos da Bélgica, realidade social da Índia.

Ora, incapacitado pelas leis, descaracterizado por uma realidade opressora, o brasileiro buscará utilizar recursos que vençam a dureza da formalidade se quiser obter o que muitas vezes será necessário à sua sobrevivência. Diante de uma autoridade, utilizará termos emocionais, tentará descobrir alguma coisa que possuam em comum - um conhecido, uma cidade da qual gostam, a "terrinha" natal onde passaram a infância - e apelará para um discurso emocional, com a certeza de que a autoridade, sendo exercida por um brasileiro, poderá muito bem se sentir tocada por esse discurso. E muitas vezes conseguirá o que precisa.

Nos Estados Unidos da América, as leis não admitem permissividade alguma e possuem franca influência na esfera dos costumes e da vida privada. Em termos mais populares, diz-se que, lá, ou "pode" ou "não pode". No Brasil, descobre-se que é possível um "pode-e-não-pode". É uma contradição simples: acredita-se que a exceção a ser aberta em nome da cordialidade não constituiria pretexto para outras exceções. Portanto, o jeitinho jamais gera formalidade, e essa jamais sairá ferida após o uso desse atalho.

Ainda de acordo com DaMatta, a informalidade é também exercida por esferas de influência superiores. Quando uma autoridade "maior" vê-se coagida por uma "menor", imediatamente ameaça fazer uso de sua influência; dessa forma, buscará dissuadir a autoridade "menor" de aplicar-lhe uma sanção.

A fórmula típica de tal atitude está contida no golpe conhecido por "carteirada", que se vale da célebre frase "você sabe com quem está falando?". Num exemplo clássico, um promotor público que vê seu carro sendo multado por uma autoridade de trânsito imediatamente fará uso (no caso, abusivo) de sua autoridade: "Você sabe com quem está falando? Eu sou o promotor público!". No entendimento de Roberto DaMatta, de qualquer forma, um "jeitinho" foi dado.

(In: [www.wikipedia.org](http://www.wikipedia.org) - com adaptações.)

### 1

De acordo com o texto, é correto afirmar que:

- o jeitinho brasileiro é um comportamento motivado pelo descompasso entre a natureza do Estado e a realidade observada no plano do indivíduo.
- as instituições norte-americanas, bem como as brasileiras, funcionam sem permissividade porque estão em sintonia com os anseios e atitudes do cidadão.
- a falta de educação do brasileiro deve ser atribuída à incapacidade de o indivíduo adequar-se à lei, uma vez que ele se sente desprotegido pelo Estado.
- a famosa "carteirada" constitui uma das manifestações do jeitinho brasileiro e define-se pelo fato de dois poderes simetricamente representados entrarem em tensão.
- nos Estados Unidos da América, as leis influem decisivamente apenas na vida pública do cidadão, ao contrário do que ocorre no Brasil, onde as leis logram mudar comportamentos no plano dos costumes e da vida privada.

### 2

Com relação à estruturação do texto e dos parágrafos, analise as afirmativas a seguir.

- O primeiro parágrafo introduz o tema, discorrendo sobre a origem histórica do jeitinho.
- A tese, apresentada no segundo parágrafo, encontra-se na frase iniciada por *no entanto*.
- O quarto parágrafo apresenta o argumento central para a sustentação da tese.

Assinale:

- se somente a afirmativa I estiver correta.
- se somente a afirmativa II estiver correta.
- se somente a afirmativa III estiver correta.
- se somente as afirmativas II e III estiverem corretas.
- se todas as afirmativas estiverem corretas.

### 3

Assinale a alternativa que identifique a composição tipológica do texto "Jeitinho".

- Descritivo, com sequências narrativas.
- Expositivo, com sequências argumentativas.
- Injuntivo, com sequências argumentativas.
- Narrativo, com sequências descritivas.
- Argumentativo, com sequências injuntivas.

### 4

Analise o fragmento a seguir.

*Explica que a atitude formalista, respeitadora e zelosa dos norte-americanos causa admiração e espanto aos brasileiros, acostumados a violar e a ver violadas as próprias instituições.*

Assinale a alternativa que apresente as propostas de substituição dos trechos sublinhados nas quais se preserva a correção estabelecida pela norma gramatical.

- Causa-lhe admiração e espanto / a vê-la violadas.
- Causa-os admiração e espanto / a ver-lhes violadas.
- Causa-los admiração e espanto / a ver-lhe violadas.
- Causa-os admiração e espanto / a vê-as violadas.
- Causa-lhes admiração e espanto / a vê-las violadas.

**5**

A natureza do Estado é naturalmente coercitiva; porém, no caso brasileiro, é inadequada à realidade individual.

A respeito do uso do vocábulo *porém* no fragmento acima, é correto afirmar que se trata de uma conjunção:

- (A) subordinativa que estabelece conexão entre a oração principal e a adverbial concessiva.
- (B) integrante que estabelece conexão entre períodos coordenados com valor de consequência.
- (C) coordenativa que estabelece conexão entre as orações introduzindo oração de valor adversativo.
- (D) integrante que estabelece conexão entre a oração principal e a oração objetiva direta.
- (E) coordenativa que estabelece conexão entre as orações introduzindo oração com valor explicativo.

**6**

A construção da frase “*tentará descobrir alguma coisa que possuam em comum – um conhecido, uma cidade da qual gostam”*, está correta em relação à regência dos verbos *possuir* e *gostar*.

De acordo com a norma padrão, assinale a alternativa que apresente **erro** de regência.

- (A) Apresentam-se algumas teses a cujas ideias procuro me orientar.
- (B) As características pelas quais um povo se identifica devem ser preservadas.
- (C) Esse é o projeto cujo objetivo principal é a reflexão sobre a brasilidade.
- (D) Eis os melhores poemas nacionalistas de que se tem conhecimento.
- (E) Aquela é a livraria onde foi lançado o romance recorde de vendas.

**7**

Quanto à correspondência oficial do tipo *memorando*, assinale a afirmativa correta.

- (A) Tem como característica principal a complexidade.
- (B) Diferencia-se do ofício mais pela finalidade do que pela forma.
- (C) Presta-se exclusivamente à comunicação externa.
- (D) Dispensa a identificação do órgão expedidor.
- (E) Deve identificar o destinatário pelo nome completo.

**8**

Na frase “*é ingênuo creditar a postura brasileira apenas à ausência de educação adequada*” foi corretamente empregado o acento indicativo de crase.

Assinale a alternativa em que o acento *indicativo de crase* está corretamente empregado.

- (A) O memorando refere-se à documentos enviados na semana passada.
- (B) Dirijo-me à Vossa Senhoria para solicitar uma audiência urgente.
- (C) Prefiro montar uma equipe de novatos à trabalhar com pessoas já desestimuladas.
- (D) O antropólogo falará apenas àquele aluno cujo nome consta na lista.
- (E) Quanto à meus funcionários, afirmo que têm horário flexível e são responsáveis.

**9**

Assinale a alternativa em que a *vírgula* está corretamente empregada.

- (A) O jeitinho, essa instituição tipicamente brasileira pode ser considerado, sem dúvida, um desvio de caráter.
- (B) Apareciam novos problemas, e o funcionário embora competente, nem sempre conseguia resolvê-los.
- (C) Ainda que os níveis de educação estivessem avançando, o sentimento geral, às vezes, era de frustração.
- (D) É claro, que se fôssemos levar a lei ao pé da letra, muitos sofreriam sanções diariamente.
- (E) O tempo não para as transformações sociais são urgentes mas há quem não perceba esse fato, que é evidente.

**10**

Observando a frase “*buscará dissuadir a autoridade ‘menor’ de aplicar-lhe uma sanção*” (L.46-47), assinale a alternativa em que a substituição da palavra sublinhada mantenha o sentido que se deseja comunicar no texto.

- (A) obrigar.
- (B) desaconselhar.
- (C) persuadir.
- (D) convencer.
- (E) coagir.

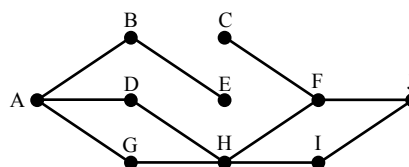
## Raciocínio Lógico-matemático

**11**

Daqui a 15 dias, Márcia fará aniversário. Paula fez aniversário há 8 dias. Júlia fará aniversário 6 dias antes de Márcia.

Se Paula faz aniversário no dia 25 de abril, é correto concluir que:

- (A) hoje é dia 02 de maio.
- (B) hoje é dia 05 de maio.
- (C) Júlia fará aniversário no dia 09 de maio.
- (D) Júlia fará aniversário no dia 12 de maio.
- (E) Márcia fará aniversário no dia 15 de maio.

**12**

A figura acima ilustra uma construção formada por 10 pontos e 11 segmentos. Cada segmento liga exatamente 2 pontos. Um caminho de A a J é uma sucessão de segmentos interligados que começa no ponto A e termina no ponto J, sem que se passe mais de uma vez por um mesmo ponto. Observe que:

- AD + DH + HF + FJ é um caminho de A até J, formado por 4 segmentos;
- AD + HF + FJ **não** é um caminho de A até J, porque AD e HF não são segmentos interligados.

Assinale a alternativa que indique quantos caminhos existem de A até J.

- (A) 5
- (B) 4
- (C) 3
- (D) 2
- (E) 1

**13**

Em uma fila, denominamos *extremos* o primeiro e o último elementos e *equidistantes* os elementos que estão à mesma distância dos extremos.

A distância entre dois elementos consecutivos dessa fila é sempre a mesma, quaisquer que sejam esses dois elementos.

Sabendo que essa fila é formada por 52 elementos, o 8º elemento é equidistante ao:

- (A) 44º elemento.
- (B) 45º elemento.
- (C) 46º elemento.
- (D) 47º elemento.
- (E) 48º elemento.

**14**

Dado um conjunto A, chamamos *subconjunto próprio não vazio* de A a qualquer conjunto que pode ser formado com *parte* dos elementos do conjunto A, desde que:

- algum elemento de A seja escolhido;
- não sejam escolhidos todos os elementos de A.

Sabemos que a quantidade de subconjuntos próprios não vazios de A é 14. A quantidade de elementos de A é igual a:

- (A) 4
- (B) 5
- (C) 6
- (D) 7
- (E) 8

**15**

Mariano distribuiu 3 lápis, 2 borrachas e 1 caneta pelas 3 gavetas de sua cômoda. Adriana, sua esposa, abriu uma das gavetas e encontrou, dentro dela, 2 lápis e 1 caneta. Sabendo-se que nenhuma das 3 gavetas está vazia, analise as afirmativas a seguir:

- I. É possível garantir que, abrindo-se qualquer outra gaveta, encontra-se pelo menos uma borracha.
- II. É possível garantir que, abrindo-se qualquer outra gaveta, encontra-se um único lápis.
- III. É possível encontrar, em uma das gavetas, mais de uma borracha.

Assinale:

- (A) se somente a afirmativa I estiver correta.
- (B) se somente a afirmativa II estiver correta.
- (C) se somente a afirmativa III estiver correta.
- (D) se somente as afirmativas I e III estiverem corretas.
- (E) se somente as afirmativas II e III estiverem corretas.

**16**

Certo dia, três amigos fizeram, cada um deles, uma afirmação:

Alúcio: – *Hoje não é terça-feira.*

Benedito: – *Ontem foi domingo.*

Camilo: – *Amanhã será quarta-feira.*

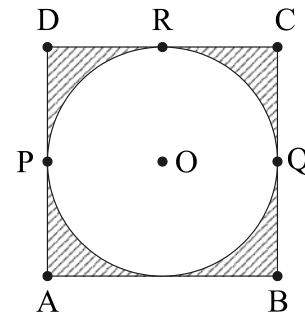
Sabe-se que um deles mentiu e que os outros dois falaram a verdade.

Assinale a alternativa que indique corretamente o dia em que eles fizeram essas afirmações.

- (A) sábado.
- (B) domingo.
- (C) segunda-feira.
- (D) terça-feira.
- (E) quarta-feira.

**17**

Uma circunferência de centro em O está inscrita em um quadrado de vértices A, B, C e D, como ilustrado. P, Q e R são pontos em que a circunferência toca o quadrado.



Com relação à figura, analise as afirmativas a seguir:

- I. A área interior ao quadrado e exterior à circunferência é menor do que a metade da área total do quadrado.
- II. A distância de A até O é menor do que a metade da medida do lado do quadrado.
- III. O percurso **PRQ**, quando feito por cima da circunferência, é mais curto do que o feito por sobre os lados do quadrado.

Assinale:

- (A) se somente a afirmativa I estiver correta.
- (B) se somente a afirmativa II estiver correta.
- (C) se somente a afirmativa III estiver correta.
- (D) se somente as afirmativas I e III estiverem corretas.
- (E) se somente as afirmativas II e III estiverem corretas.

**18**

Um número N acrescido de 20% vale 36, o mesmo que um número P reduzido de 10%. A soma de N e P é:

- (A) 60
- (B) 65
- (C) 70
- (D) 75
- (E) 80

**19**

Um dado é dito "comum" quando faces opostas somam sete. Deste modo, num dado comum, o 1 opõe-se ao 6, o 2 opõe-se ao 5 e o 3 opõe-se ao 4.

Lançando-se duas vezes seguidas um mesmo dado comum, os resultados obtidos são descritos por um par ordenado (a,b), em que a é o resultado obtido no 1º lançamento e b, o resultado obtido no 2º lançamento.

Assinale a alternativa que indique, corretamente, quantos pares ordenados diferentes podem ser obtidos de modo que a soma dos resultados seja sempre igual a 8.

- (A) 2
- (B) 3
- (C) 4
- (D) 5
- (E) 6

**20**

Ao caminhar, Márcia e Paula dão sempre passos uniformes. O passo de Márcia tem o mesmo tamanho do de Paula. Mas, enquanto Paula dá cinco passos, Márcia, no mesmo tempo, dá três passos.

No início da caminhada, Márcia estava 20 passos à frente de Paula. Se elas caminharem sem parar, Paula, para alcançar Márcia, deverá dar o seguinte número de passos:

- (A) 20
- (B) 25
- (C) 30
- (D) 40
- (E) 50

## Noções de Informática











**21**

A conexão de dispositivos de entrada e/ou saída de dados e consequente configuração em *notebooks* e microcomputadores do tipo desktop, é realizada por meio da utilização de conectores específicos.

A impressora Multifuncional ilustrada na figura a seguir, utiliza conectores USB tipo A do lado do microcomputador e USB do tipo B do lado da impressora.



As imagens para esses conectores são, respectivamente:

- (A)  e       (B)  e 
- (C)  e       (D)  e 
- (E)  e 

**22**

A figura a seguir exemplifica o uso da janela do *Windows Explorer* no sistema operacional *Windows 7 BR Ultimate*, de forma semelhante ao que acontece com outros sistemas da linha *Windows*.



Um usuário deseja selecionar todos os arquivos e pastas em Documentos. Para isso, ele deve marcar a pasta "Documentos" e pressionar, simultaneamente, as teclas:

- (A) Ctrl e A  
 (B) Alt e A  
 (C) Ctrl e S  
 (D) Alt e T  
 (E) Ctrl e T

**23**

Nas distribuições *Linux*, as principais bibliotecas de sistema e os arquivos de configuração e *scripts* de inicialização ficam armazenados nos seguintes diretórios:

- (A) /bib e /cfg  
 (B) / bib e /etc  
 (C) /lib e /scr  
 (D) /lib e /etc  
 (E) /lib e /cfg

**24**

*BROffice.org* 3.1 é um pacote integrado no contexto do *software livre* para a edição de textos, planilhas, apresentações, gráficos e banco de dados, dentre outros recursos, podendo ser empregado nas áreas administrativa, educacional e financeira.

Além do *Writer* como processador de textos, o *Calc* como *software* para manipulação de planilhas e *Impress* como programa para apresentações, o *BROffice.org* 3.1 também oferece *softwares* para:

- I. gerenciar bancos de dados, criar consultas e relatórios e rastrear e gerenciar informações.
- II. criar e editar desenhos, fluxogramas e logotipos.
- III. criar e ditar fórmulas científicas e equações.

Os *softwares* que atendem aos requisitos indicados nas afirmativas I, II e III são, respectivamente:

- (A) *Base*, *Flow* e *Math*.  
 (B) *Base*, *Draw* e *Math*.  
 (C) *dBase*, *Draw* e *Equation*.  
 (D) *dBase*, *Design* e *Mapper*.  
 (E) *Clipper*, *Flow* e *Equation*.

**25**

Observe o texto a seguir, referente à Agência de Fomento do Estado de Santa Catarina S.A – BADESC, elaborado no *Word 2007 BR*.

**A** Agência de Fomento do Estado de Santa Catarina S.A. - BADESC - sociedade de economia mista, de capital autorizado, criada pela Lei nº 4.950, de 11/11/1973 e instalada oficialmente em 01/08/1975, com o objetivo de promover o desenvolvimento econômico e social do Estado de Santa Catarina, mediante a prática da aplicação de recursos financeiros no âmbito de sua competência, definida pela Legislação Federal pertinente.



A partir da Lei nº 10.917 de 15 de setembro de 1998, oficialmente instalada em ata do Conselho de Administração no dia 19 de janeiro de 1999, foi transformada de "banco de desenvolvimento" em "agência de fomento", nos termos da Resolução 2828/98, do Banco Central do Brasil.

Assinale a alternativa que indique, corretamente, os recursos aplicados no texto.

- (A) capitular / alinhamento equidistante / gótico / *ClipArt*  
 (B) mesclar / alinhamento equidistante / itálico / *WordArt*  
 (C) capitular / alinhamento justificado / itálico / *WordArt*  
 (D) mesclar / alinhamento equidistante / gótico / *WordArt*  
 (E) capitular / alinhamento justificado / gótico / *ClipArt*

**26**

As planilhas BADESC11 e BADESC22 foram criadas no Excel 2007 BR. Na BADESC11, em D5 foi inserida uma expressão para determinar a soma entre os números contidos nas células A3 e C3 e, em D7 a função =MOD(D5;8).

Para finalizar, foi inserida uma fórmula para transportar o conteúdo de D7 da planilha BADESC11 para a célula D3 na planilha BADESC22.

	A	B	C	D
1	Planilha BADESC11			
2				
3	3	11	19	37
4				
5			Soma =	22
6				
7			Função MOD ...	6
8				

e

	A	B	C	D
1	Planilha BADESC22			
2				
3			Transporte de BADESC11 =	6
4				

Nessas condições, as expressões inseridas nas células D5 de BADESC11 e D3 de BADESC22, são, respectivamente:

- (A) =SOMA(A3;D3) e =BADESC11&D7  
 (B) =SOMA(A3;C3) e =BADESC11!D7  
 (C) =SOMA(A3:D3) e =BADESC11% D7  
 (D) =SOMA(A3:D3) e =BADESC11!D7  
 (E) =SOMA(A3;D3) e =BADESC11!D7

**27**

Um usuário da Internet está navegando por meio do *browser Mozilla Firefox 3.6* e tem a possibilidade de usar ícones ou atalhos de teclado nessa atividade.

Assinale a alternativa que indique o atalho de teclado e seu significado correto.

- (A) Ctrl + C / mostrar código-fonte em nova janela.  
 (B) Ctrl + F / adicionar página a favoritos.  
 (C) Ctrl + E / exibir página em tela inteira.  
 (D) Ctrl + S / localizar *string* na página.  
 (E) Ctrl + T / abrir nova aba.

**28**

Existem, pelo menos, duas maneiras de se gerenciar o acesso às mensagens de correio eletrônico: a primeira, por meio de um serviço embutido num *site*, como por exemplo, o Gmail; e a segunda, por meio do emprego de *software* específico direcionado para o gerenciamento de *e-mails*.

São exemplos desse tipo de *software*:

- (A) o *Microsoft Outlook* e o *Mozilla Thunderbird*.  
 (B) o *Mozilla Thunderbird* e o *Google Safari*.  
 (C) o *Netscape Flash* e o *Microsoft Outlook*.  
 (D) o *Mac Chrome* e o *Netscape Flash*.  
 (E) o *Google Safari* e o *Mac Chrome*.

**29**

A respeito das características do *software* livre, analise as afirmativas a seguir.

- I. É disponibilizado com a permissão para qualquer um usá-lo, copiá-lo, e distribuí-lo, seja na sua forma original ou com modificações, seja gratuitamente ou com custo.
- II. É gratuito com a permissão para qualquer um usá-lo ou copiá-lo, exclusivamente na sua forma original, não podendo ser modificado.
- III. É *freeware* disponível com a permissão para qualquer pessoa usá-lo e modificá-lo, não podendo ser copiado ou distribuído.

Assinale:

- (A) se somente a afirmativa I estiver correta.  
 (B) se somente as afirmativas I e II estiverem corretas.  
 (C) se somente as afirmativas I e III estiverem corretas.  
 (D) se somente as afirmativas II e III estiverem corretas.  
 (E) se todas as afirmativas estiverem corretas.

**30**

Observe as figuras a seguir:



Figura 1



Figura 2

O conector ilustrado na figura 1 e o cabo ilustrado na figura 2 são empregados na implementação de redes de computadores padrão Ethernet e que normalmente acessam a Internet.

Esse conector é conhecido pela sigla:

- (A) PCI-11  
 (B) RG-58  
 (C) RJ-45  
 (D) DDR-3  
 (E) SATA-2

**Conhecimentos Específicos****31**

A estratégia de enfoque apresenta o risco de:

- (A) as mudanças tecnológicas anularem os investimentos anteriores.
- (B) a empresa ser incapaz de enxergar as mudanças necessárias nos produtos, em virtude de viés financeiro.
- (C) a empresa encontrar compradores mais sofisticados no mercado.
- (D) os concorrentes encontrarem submercados dentro do alvo estratégico da empresa.
- (E) os concorrentes inovarem com base em imitações.

**32**

Com relação ao *benchmarking*, analise as afirmativas a seguir.

- I. O *benchmarking* é uma atividade de curto prazo para evitar defasagem de dados.
- II. O *benchmarking* enfatiza, como pressuposto, o aspecto processual.
- III. O *benchmarking* é aplicado somente entre organizações do mesmo setor de atuação, sob pena de análises enviesadas.

Assinale:

- (A) se somente a afirmativa I estiver correta.  
 (B) se somente a afirmativa II estiver correta.  
 (C) se somente a afirmativa III estiver correta.  
 (D) se somente as afirmativas I e II estiverem corretas.  
 (E) se somente as afirmativas II e III estiverem corretas

**33**

A Teoria dos Jogos **não** é aplicável quando:

- (A) cada participante conhece os cursos de ação ao seu alcance.
- (B) cada participante possui um número finito de cursos de ação possíveis.
- (C) a quantidade de participantes é infinita.
- (D) o jogo é de “soma zero”.
- (E) cada participante conhece os cursos de ação ao alcance do adversário.

**34**

As alternativas a seguir apresentam exemplo de comunicação eficaz, **à exceção de uma**. Assinale-a.

- (A) O significado da mensagem é consistente.
- (B) Há consequências após a comunicação.
- (C) O canal de comunicação não tem ruído.
- (D) O destinatário fornece retroação ao emissor.
- (E) A comunicação é totalmente completada.

**35**

Com relação ao *conhecimento tácito* e ao *conhecimento explícito*, analise as afirmativas a seguir.

- I. O conhecimento tácito é simples de ser articulado na linguagem formal.
- II. O conhecimento tácito possui natureza intangível e pessoal.
- III. Os conhecimentos tácito e explícito são complementares e suas interações proporcionam dinamismo às organizações.

Assinale:

- (A) se somente a afirmativa I estiver correta
- (B) se somente a afirmativa II estiver correta
- (C) se somente a afirmativa III estiver correta
- (D) se somente as afirmativas I e II estiverem corretas
- (E) se somente as afirmativas II e III estiverem corretas

**36**

Com relação ao *funcionamento da administração pública*, analise as afirmativas a seguir.

- I. A administração pública, em sentido formal, é o conjunto de órgãos instituídos para a consecução dos objetivos do governo.
- II. A administração pública executa, técnica e legalmente, os atos de governo.
- III. A administração pública executa, com responsabilidade constitucional e política, os projetos governamentais.

Assinale:

- (A) se somente a afirmativa I estiver correta.
- (B) se somente a afirmativa II estiver correta.
- (C) se somente a afirmativa III estiver correta.
- (D) se somente as afirmativas I e III estiverem corretas.
- (E) se todas as afirmativas estiverem corretas.

**37**

Considere o seguinte demonstrativo financeiro hipotético:

Receita tributária .....	201.070,00;
Operação de crédito .....	810.832,10;
Alienação de bens .....	2.405,50;
Receita patrimonial .....	43.917,20;
Receita industrial .....	513,00;
Receita de serviços .....	25.941,50.

Com base nesses dados, assinale a alternativa que apresenta o valor correto do total das receitas de capital.

- (A) 70.371,70.
- (B) 72.777,20.
- (C) 271.441,70.
- (D) 813.237,60.
- (E) 857.154,80.

**38**

Com relação à concepção neoliberal do Estado **não** é correto afirmar que:

- (A) o Estado deve se manter isolado das pressões do setor privado.
- (B) o Estado deve reduzir o tamanho da administração pública.
- (C) o Estado deve reduzir o tamanho do setor público.
- (D) o Estado deve apoiar-se em decisões discricionárias do que em regras.
- (E) o Estado deve delegar as decisões a unidades independentes que não cedam às pressões políticas.

**39**

De acordo com a perspectiva das mudanças organizacionais e seu conceito subjacente de ciclo de vida das organizações, as crises de necessidade de delegação e necessidade de revitalização dizem respeito, respectivamente, aos seguintes estágios:

- (A) de coletividade e empreendedor.
- (B) de coletividade e de elaboração.
- (C) de elaboração e empreendedor.
- (D) de formalização e empreendedor.
- (E) de formalização e de elaboração.

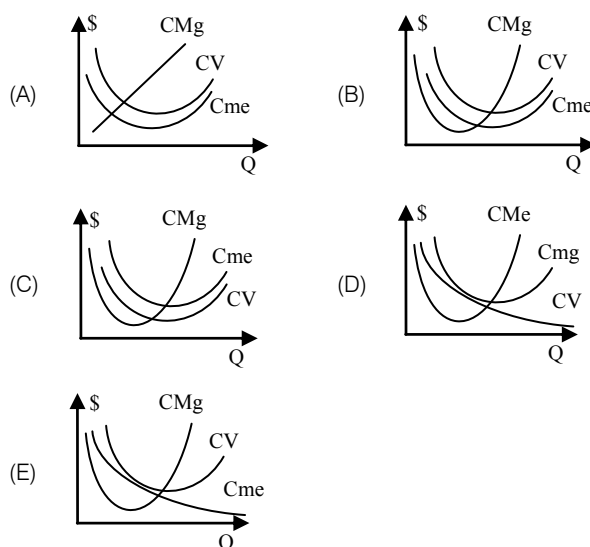
**40**

Assinale a alternativa que apresente uma característica da abordagem por competências na captação de pessoas.

- (A) O perfil procurado é para um cargo específico.
- (B) As ferramentas de escolha são testes de conhecimento, habilidades e atitudes necessárias.
- (C) O contrato psicológico construído visa à determinada posição na organização.
- (D) O horizonte profissional leva em consideração a carreira da pessoa na organização.
- (E) O processo de escolha considera a adequação para um cargo.

**41**

Segundo a *teoria dos custos de produção de curto prazo*, assinale a alternativa que indique o gráfico que melhor representa a relação entre as curvas de custo marginal (CMg), custo variável médio (CV) e custo médio (Cme).



**42**

A empresa Lando fabrica controles. Cada unidade produzida de controle apresenta um custo variável unitário de R\$ 2,00 e é vendida por R\$ 4,00. Os custos fixos da empresa totalizam R\$ 50.000,00.

Se a empresa exigir uma lucratividade de 50% dos custos fixos, o ponto de equilíbrio econômico da empresa é:

- (A) R\$ 18.750,00
- (B) R\$ 25.000,00
- (C) R\$ 37.500,00
- (D) R\$ 50.000,00
- (E) R\$ 75.000,00

**43**

Com relação aos efeitos das políticas fiscal, monetária e cambial na economia, analise as afirmativas a seguir.

- I. Uma política monetária expansionista resulta em desvalorização cambial e no aumento da relação entre o montante da dívida pública e o PIB.
- II. Uma política fiscal contracionista diminui a relação entre o montante da dívida pública e o PIB e também ajuda no combate à inflação.
- III. Uma política de desvalorização cambial gera aumento nos índices de inflação e no nível de atividade econômica.

Assinale:

- (A) se somente as afirmativas I e II estiverem corretas.
- (B) se somente as afirmativas I e III estiverem corretas.
- (C) se somente a afirmativa III estiver correta.
- (D) se somente as afirmativas II e III estiverem corretas.
- (E) se todas as afirmativas estiverem corretas.

**44**

A relação entre dívida pública e PIB no Brasil apresenta períodos de aumento e períodos de queda.

As causas do aumento da relação dívida pública / PIB são:

- (A) a política fiscal contracionista, a esterelização da entrada de dólares e o aumento da taxa de juros.
- (B) a política fiscal expansionista, o aumento dos subsídios e a diminuição da taxa de juros.
- (C) o aumento do Investimento Direto Estrangeiro, a remessa de juros ao exterior e a política monetária expansionista.
- (D) a emissão de títulos públicos, a política monetária contracionista e o aumento de impostos.
- (E) o aumento de impostos, a política monetária contracionista e o aumento dos subsídios.

**45**

Em relação ao equilíbrio em diferentes estruturas de mercado, é correto afirmar que:

- (A) para uma firma que opere em concorrência perfeita, a condição para a maximização dos lucros, de preço igual ao custo médio, impõe lucros econômicos nulos ao produtor.
- (B) em concorrência monopolística, a condição de equilíbrio na qual o preço é igual ao custo marginal implica que o produtor usufruirá lucro econômico estritamente nulo.
- (C) no modelo de Cournot-Nash de oligopólio, as funções de reação das empresas são simétricas e, portanto, o lucro econômico a ser dividido é igual à metade do lucro de monopólio.
- (D) para um monopsonista, a curva de custo marginal apresenta inclinação positiva, de forma que o equilíbrio de mercado se dá no ponto em que o preço iguala o custo variável unitário.
- (E) como o preço de mercado, em uma situação de monopólio, encontra-se acima do custo marginal, o equilíbrio desse mercado não é Pareto-Ótimo.

**46**

No ano de 2009, a renda do Sr. Rozier aumentou de \$ 30.000 para \$ 45.000. Nesse ano, suas compras de livros aumentaram de 20 para 25.

A elasticidade-renda da demanda do Sr. Rozier para o consumo de livros é:

- (A) 0,25.
- (B) 0,50.
- (C) 1,00.
- (D) 2,00.
- (E) 4,00.

**47**

Analise os lançamentos no Balanço de Pagamentos de um país durante um ano.

Exportação de bens .....	152.994
Importação de bens .....	-127.647
Transferências Unilaterais Correntes .....	2.314
Viagens internacionais .....	-5.593
Investimento brasileiro direto .....	10.084
Investimento estrangeiro direto .....	25.948
Royalties e licenças .....	-2.078
Lucros e dividendos .....	-17.765

O saldo em transações correntes desse país é:

- (A) 2.225.
- (B) -5.106.
- (C) -2.792.
- (D) 1.535.
- (E) 8.414.

**48**

Com relação ao conceito de estrutura a termo da taxa de juros, analise as afirmativas a seguir.

- I. A estrutura a termo da taxa de juros estabelece a relação entre as taxas de juros de curto e longo prazos.
- II. Para que a estrutura a termo da taxa de juros apresente uma inclinação constante, as taxas de curto e de longo prazo devem ser iguais.
- III. Uma estrutura a termo da taxa de juros, com inclinação negativa, significa que a taxa de juros real da economia é negativa.

Assinale:

- (A) se somente as afirmativas I e II estiverem corretas.
- (B) se somente as afirmativas I e III estiverem corretas.
- (C) se somente a afirmativa I estiver correta.
- (D) se somente as afirmativas II e III estiverem corretas.
- (E) se todas as afirmativas estiverem corretas.

**49**

Um investidor deseja depositar uma determinada quantia em um banco para ter o direito de retirar R\$ 10.000,00 no prazo de um ano e mais R\$ 10.000,00 no prazo de quatro anos.

Sabendo-se que o banco remunera seus depósitos com uma taxa de juros simples de 6,25% ao trimestre, o menor valor presente a ser depositado por esse investidor é:

- (A) R\$ 6.667,66.
- (B) R\$ 10.000,00.
- (C) R\$ 13.000,00.
- (D) R\$ 14.535,32.
- (E) R\$ 30.250,00.



**50**

Com relação às características da *Lei de Responsabilidade Fiscal* analise as afirmativas a seguir:

- I. A despesa total com pessoal, em cada período de apuração e em cada ente da Federação, não pode ultrapassar 50% da receita corrente líquida.
- II. É vedada a realização de operação de crédito entre um ente da Federação e outro, inclusive suas entidades da administração indireta.
- III. A operação de crédito por antecipação de receita destina-se a atender insuficiência de caixa durante o exercício financeiro.

Assinale:

- (A) se somente as afirmativas I e II estiverem corretas.
- (B) se somente as afirmativas I e III estiverem corretas.
- (C) se somente a afirmativa II estiver correta.
- (D) se somente as afirmativas II e III estiverem corretas.
- (E) se todas as afirmativas estiverem corretas.

**51**

O conceito de *Deflator Implícito* do PIB relaciona:

- (A) o PNB Real com o PIB Real.
- (B) o PIB Nominal com o PIB Real.
- (C) o PNB Nominal com o PIB Nominal.
- (D) o PIL Nominal com o PIB Nominal.
- (E) o PNB Nominal com o PIB Real.

**52**

Um bem com valor de R\$ 28.000,00 tem vida útil de 7 anos. Usando o método de depreciação pela soma dos dígitos dos anos, com depreciação crescente, a depreciação acumulada ao final de 3 anos é:

- (A) R\$ 3.000,00.
- (B) R\$ 5.000,00.
- (C) R\$ 6.000,00.
- (D) R\$ 13.000,00.
- (E) R\$ 18.000,00.

**53**

Um monopolista apresenta uma função Custo Total tal que  $CT(y) = 500y$  e uma função Receita Marginal igual a  $Rmg = 500 - y^2 + 140y$ . Em ambos os casos,  $y$  é a quantidade produzida.

A condição de maximização de lucros, para esse monopolista, é tal que a quantidade a ser produzida é:

- (A) 140.
- (B) 200.
- (C) 345.
- (D) 440.
- (E) 500.

**54**

A respeito dos projetos de lei relativos ao plano plurianual, às diretrizes orçamentárias, ao orçamento anual e aos créditos adicionais, é correto afirmar que:

- (A) é vedada a realização de operações de créditos que excedam o montante das despesas de capital.
- (B) é vedado o término de programas ou projetos de exercícios anteriores.
- (C) é vedada a concessão ou utilização de créditos.
- (D) é vedada a transferência de recursos e a concessão de empréstimos para outros entes da federação.
- (E) é vedado estabelecer normas de gestão financeira e patrimonial da administração direta e indireta.

**55**

As funções do governo são:

- X. alocativa;
- Y. distributiva;
- Z. estabilizadora.

Em relação a essas funções são feitas as afirmativas a seguir.

- I. Utiliza os instrumentos macroeconômicos para manter adequado o nível de utilização dos recursos produtivos, sem criar problemas inflacionários
- II. Deve contrabalançar os princípios da equidade e eficiência de forma a não criar incentivos perversos para os recipientes ou financiadores de políticas sociais.
- III. Estabelece incentivos para resolver problemas de ineficiência em determinados mercados microeconômicos.

Assinale a alternativa que apresenta a combinação correta entre as funções e as afirmativas.

- (A) X-I, Y-II e Z-III
- (B) X-III, Y-II e Z-I
- (C) X-I, Y-III e Z-II
- (D) X-II, Y-I e Z-I
- (E) X-III, Y-I e Z-II

**A tabela a seguir refere-se às questões 56 e 57.**

Despesas antecipadas de seguros .....	3.000
Duplicatas a receber C/P .....	10.000
Bancos c/Movimento .....	15.000
Caixa .....	5.000
Despesas antecipadas de juros .....	7.000
Duplicatas a pagar C/P .....	6.000
Fornecedores .....	9.000
Imóveis de uso .....	12.000
Capital Social .....	48.000
Impostos a pagar .....	7.000
Matéria prima – Estoques .....	13.000
Financiamentos L/P .....	8.000
Salários a pagar .....	11.000
Veículos .....	8.000
Máquinas e equipamentos .....	16.000

**56**

Assinale a alternativa que apresente o *índice de liquidez corrente*:

- (A) 1,60
- (B) 1,21
- (C) 1,51
- (D) 1,30
- (E) 1,29

**57**

Assinale a alternativa que contenha o *quociente de endividamento*:

- (A) 0,77
- (B) 0,46
- (C) 0,37
- (D) 1,00
- (E) 1,13

**A tabela a seguir refere-se às questões 58 e 59.**

Vendas brutas.....	10.000
Custos das mercadorias vendidas.....	5.000
Deduções de vendas.....	1.000
Despesas operacionais.....	2.000
Contribuições sociais e imposto de renda.....	500
Resultados não operacionais.....	200

**58**

Com base nas informações da tabela acima, calcule a taxa de retorno sobre as vendas líquidas.

- (A) 0,22  
(B) 0,20  
(C) 0,42  
(D) 0,17  
(E) 0,18

**59**

Com base nos dados da questão anterior calcule a taxa de retorno operacional.

- (A) 0,20  
(B) 0,50  
(C) 0,22  
(D) 0,13  
(E) 0,18

**60**

Considere as informações a seguir:

Estoque de matéria prima.....	13.000
Índice de liquidez seca.....	0,50
Ativo circulante.....	53.000

Assinale a alternativa que apresente o índice de liquidez corrente.

- (A) 0,66  
(B) 0,72  
(C) 0,55  
(D) 0,70  
(E) 0,59

**61**

As alternativas a seguir apresentam regras estabelecidas na Lei 4320/64, à exceção de uma. Assinale-a.

- (A) A contabilidade evidenciará a situação de todos quantos, de qualquer modo, arrecadem receitas, efetuem despesas, administrem ou guardem bens pertencente à fazenda pública.
- (B) Os serviços de contabilidade serão organizados de forma a permitir o acompanhamento da execução orçamentária, o conhecimento da composição patrimonial, a determinação dos custos dos serviços industriais, o levantamento dos balanços gerais, a análise e a interpretação dos resultados econômicos e financeiros.
- (C) A contabilidade evidenciará os fatos ligados à administração orçamentária, financeira, patrimonial e industrial e a escrituração sintética das operações financeiras e patrimoniais efetuar-se-á pelo método das partidas dobradas.
- (D) A contabilidade deverá evidenciar, em seus registros, o montante dos créditos orçamentários vigentes, a despesa empenhada e a despesa realizada, à conta dos mesmos créditos e as dotações disponíveis.
- (E) O registro contábil da receita e da despesa far-se-á de acordo com as especificações constantes no plano de contas patrimonial, seguindo as especificações da Lei de Orçamento e dos créditos adicionais, adotando-se o sistema de contas múltiplo.

**62**

O demonstrativo da contabilidade pública responsável por evidenciar as alterações resultantes ou independentes da execução orçamentária verificadas no patrimônio e indicará o resultado patrimonial do exercício, é denominado:

- (A) demonstração da mutações do patrimônio líquido.  
(B) demonstração do resultado do exercício.  
(C) balanço patrimonial.  
(D) demonstração das variações patrimoniais.  
(E) balanço financeiro.

**63**

Analise as informações contábeis a seguir.

Receitas previstas.....	100.000
Despesas fixadas.....	100.000
Despesa empenhada.....	80.000
Receita arrecadada.....	120.000
Despesa liquidada.....	70.000
Despesa paga.....	65.000
Restos a pagar pagos.....	50.000

De acordo com as regras da lei 4320/64, assinale a alternativa que apresente o resultado da execução orçamentária.

- (A) 20.000  
(B) 40.000  
(C) 35.000  
(D) 30.000  
(E) 5.000

**64**

Analise as informações a seguir, que constam no balanço financeiro de um órgão público.

Receitas de impostos.....	20.000
Inscrição em restos a pagar.....	5.000
Receitas de alugueis.....	10.000
Despesas com pessoal.....	12.000
Obrigações patronais.....	4.000
Alienação de bens.....	20.000
Recebimento de cauções.....	3.000
Amortização da dívida.....	6.000
Devolução de cauções.....	2.000
Saldos das disponibilidades do exercício anterior.....	10.000

Assinale a alternativa que apresente o valor das disponibilidades para o exercício seguinte.

- (A) 40.000  
(B) 29.000  
(C) 24.000  
(D) 34.000  
(E) 36.000

**65**

Segundo a Lei 4320/64, as contas do grupo do ativo permanente compreendem:

- (A) os créditos e valores realizáveis cuja mobilização ou alienação independa de autorização legislativa.  
(B) os bens, créditos e valores cuja mobilização ou alienação dependa de autorização legislativa.  
(C) os bens móveis, imóveis e intangíveis cuja mobilização ou alienação independam de autorização legislativa.  
(D) os créditos e valores cujo pagamento dependa de autorização legislativa para ser realizado.  
(E) as contas representativas de situações que imediata ou indiretamente possam afetar o patrimônio.

**66**

De acordo com a Lei de Responsabilidade Fiscal, o demonstrativo relativo aos resultados primário e nominal integrará:

- (A) o relatório resumido da execução orçamentária.
- (B) o anexo de metas fiscais.
- (C) o relatório da gestão fiscal.
- (D) o balanço financeiro.
- (E) a lei de diretrizes orçamentárias.

**67**

A respeito da *Lei de Responsabilidade Fiscal*, é correto afirmar que:

- (A) estabelece as metas do planejamento governamental para as despesas de capital e outras delas decorrentes, fixando limites para o endividamento.
- (B) estabelece diretrizes, objetivos, metas e programas de duração continuada para o exercício financeiro e para os dois exercícios seguintes.
- (C) estabelece um código de conduta para os administradores públicos para promover ação planejada e transparente na busca do equilíbrio das contas públicas.
- (D) estabelece as metas e prioridades da administração pública, dispõe sobre as alterações tributárias e define a política de aplicação das agências financeiras oficiais de fomento.
- (E) estabelece a previsão das receitas, a fixação das despesas e as metas de resultado primário e nominal, bem como define os parâmetros para o cálculo da reserva de contingência.

**68**

As alternativas a seguir apresentam assuntos que são tratados na Lei de Responsabilidade Fiscal, **à exceção de uma**. Assinale-a.

- (A) a despesa total com pessoal será apurada somando-se a realizada no mês em referência com as dos onze imediatamente anteriores, adotando-se o regime de competência.
- (B) a disponibilidade de caixa constará de registro próprio, de modo que os recursos vinculados a órgão, fundo ou despesa obrigatória fiquem identificados e escriturados de forma individualizada.
- (C) a despesa e a assunção de compromisso serão registradas segundo o regime de caixa, apurando-se, em caráter complementar, o resultado dos fluxos financeiros pelo regime de competência.
- (D) as demonstrações contábeis compreenderão, isolada e conjuntamente, as transações e operações de cada órgão, fundo ou entidade da administração direta, autárquica e fundacional, inclusive empresa estatal dependente.
- (E) a demonstração das variações patrimoniais dará destaque à origem e ao destino dos recursos provenientes da alienação de ativos.

**69**

A respeito da *corrente líquida*, assinale a afirmativa **incorreta**.

- (A) Servirá de parâmetro para o cálculo do limite da despesa com pessoal e para o limite do montante da dívida consolidada da União, Estados e Municípios.
- (B) Na União, no seu cálculo será deduzida a parcela transferida aos municípios a título de Fundo de Participação dos Municípios.
- (C) Nos Estados, no seu cálculo serão deduzidas as parcelas entregues aos Municípios por determinação constitucional.
- (D) Nos Municípios, no seu cálculo serão incluídas as contribuições dos servidores para o custeio do seu sistema de previdência e assistência social.
- (E) Será apurada somando-se as receitas arrecadadas no mês em referência e nos onze anteriores, excluídas as duplicidades.

**70**

O *relatório da gestão fiscal* conterá o comparativo dos limites relacionados nas alternativas a seguir, **à exceção de uma**. Assinale-a.

- (A) Despesa total com pessoal, distinguindo a realizada com inativos e pensionistas.
- (B) Dívidas consolidada e mobiliária.
- (C) Concessão de garantias.
- (D) Operações de crédito, inclusive por antecipação de receita.
- (E) Receitas e despesas previdenciárias.

Realização:



**F U N D A Ç Ã O**  
**GETULIO VARGAS**  

---

***FGV PROJETOS***