

Nível Superior – Trabalhadores de Saúde

Engenheiro Eletricista

TIPO 1 – BRANCA

Informações Gerais

- Você receberá do fiscal de sala:
 - uma folha de respostas destinada à marcação das respostas das questões objetivas;
 - esse caderno de prova contendo **60 (sessenta)** questões objetivas, cada qual com **cinco** alternativas de respostas (A, B, C, D e E).
- Verifique se seu caderno está completo, sem repetição de questões ou falhas. Caso contrário, notifique imediatamente o fiscal de sala para que sejam tomadas as devidas providências.
- As questões objetivas são identificadas pelo número situado acima do seu enunciado.
- Ao receber as folhas de respostas da prova objetiva você deve:
 - conferir seus dados pessoais, em especial seu nome, número de inscrição e o número do documento de identidade;
 - ler atentamente as instruções para o preenchimento da folha de respostas;
 - marcar nas folhas de respostas da prova objetiva o campo relativo à confirmação do tipo/cor de prova, conforme o caderno que você recebeu;
 - assinar seu nome, apenas nos espaços reservados, com caneta esferográfica de tinta azul ou preta.
- Durante a aplicação da prova não será permitido:
 - qualquer tipo de comunicação entre os candidatos;
 - levantar da cadeira sem a devida autorização do fiscal de sala;
 - portar aparelhos eletrônicos, tais como *bipe*, telefone celular, agenda eletrônica, *notebook*, *palmtop*, receptor, gravador, máquina de calcular, máquina fotográfica digital, controle de alarme de carro etc., bem como relógio de qualquer modelo, óculos escuros ou quaisquer acessórios de chapelaria, tais como chapéu, boné, gorro etc. e, ainda, lápis, lapiseira (grafite), corretor líquido e/ou borracha. Tal infração poderá acarretar a eliminação sumária do candidato.
- O preenchimento das respostas da prova objetiva, de inteira responsabilidade do candidato, deverá ser feito com caneta esferográfica de tinta indelével de cor preta ou azul. **Não será permitida a troca da folha de respostas por erro do candidato.**
- O tempo disponível para a realização da prova é de **4 (quatro) horas, já incluído** o tempo para a marcação da folha de respostas da prova objetiva.
- Reserve tempo suficiente para o preenchimento de suas respostas. Para fins de avaliação, serão levadas em consideração apenas as marcações realizadas nas folhas de respostas da prova objetiva, não sendo permitido anotar informações relativas às suas respostas em qualquer outro meio que não seja o próprio caderno de provas.
- Somente após decorrida **2 (duas) horas** do início da prova você poderá retirar-se da sala de prova, contudo sem levar o caderno de provas.
- Somente no decorrer dos últimos **sessenta minutos** do período da prova, você poderá retirar-se da sala levando o caderno de provas.
- Ao terminar a prova, entregue a folha de respostas ao fiscal da sala e deixe o local de prova. Caso você se negue a entregar, será eliminado do concurso.
- A FGV realizará a coleta da impressão digital dos candidatos na folha de respostas.
- Os candidatos poderão ser submetidos a sistema de detecção de metais quando do ingresso e da saída de sanitários durante a realização das provas. Ao sair da sala, ao término da prova, o candidato não poderá usar o sanitário.
- Os gabaritos preliminares das provas objetivas serão divulgados no dia **20/05/2014**, no endereço eletrônico www.fgv.br/fgvprojetos/concursos/susam.
- O prazo para interposição de recursos contra os gabaritos preliminares será das 0h00min do dia **21/05/2014** até às 23h59min do dia **22/05/2014**, observado o horário oficial de Manaus, no endereço www.fgv.br/fgvprojetos/concursos/susam, por meio do Sistema Eletrônico de Interposição de Recurso.

Língua Portuguesa

Acredite, progredimos sim

Faz hoje exatos 50 anos do chamado Comício da Central do Brasil, que funcionou como acelerador para a conspiração já em andamento que acabaria por depor o presidente constitucional João Belchior Marques Goulart, apenas 18 dias depois.

É bom olhar para trás para verificar que, pelo menos no terreno institucional, o país progrediu bastante desde que chegou ao fim o ciclo militar, há 29 anos. É um dado positivo em uma nação com tão formidável coleção de problemas e atraso em tantas áreas como o Brasil.

Ajuda-memória: o comício foi organizado pelo governo Goulart. Havia uma profusão de bandeiras vermelhas pedindo a legalização do ainda banido Partido Comunista Brasileiro, o que era o mesmo que acenar para o conservadorismo civil e militar com o pano vermelho com que se atíça o touro na arena.

Se fosse pouco, havia também faixas cobrando a reforma agrária, anátema para os poderosos latifundiários e seus representantes no mundo político.

Para completar, Jango aproveitou o comício para assinar dois decretos, ambos tomados como “comunizantes” pelos seus adversários: o que desapropriava refinarias que ainda não eram da Petrobrás e o que declarava de utilidade pública para fins de desapropriação terras rurais subutilizadas.

Na visão dos conspiradores, eram dois claros atentados à propriedade privada e, como tais, provas adicionais de que o governo preparava a comunização do país.

Cinquenta anos depois, é um tremendo progresso, do qual talvez nem nos damos conta, o fato de que bandeiras vermelhas – ou azuis ou amarelas ou verdes ou brancas ou pretas – podem ser tranquilamente exibidas em atos públicos sem que se considere estar ameaçada a ordem estabelecida.

Reforma agrária deixou de ser um anátema, e a desapropriação de terras ociosas é comum mesmo em governos que a esquerda considera de direita ou conservadores.

Continua, é verdade, a batalha ideológica entre ruralistas e o Movimento dos Trabalhadores Sem Terra, mas ela se dá no campo das ideias, sem que se chame a tropa para resolvê-la. Pena que ainda continuemos primitivos o suficiente para que haja mortes no campo (além de trabalho escravo), mas, de todo modo, ninguém pensa em chamar o Exército por causa dessa carência.

Nos quase 30 anos transcorridos desde o fim do ciclo militar, foi possível, dentro da mais absoluta ordem e legalidade, promover o *impeachment* de um presidente, ao contrário do ocorrido em 1964, ano em que Jango foi impedido à força de exercer o poder.

Votei pela primeira vez para presidente em 1989, quando já tinha 46 anos. Meus filhos também votaram pela primeira vez naquela ocasião, o que significa que uma geração inteira teve capada parte essencial de sua cidadania durante tempo demais.

Hoje, votar para presidente é tão rotineiro que ficou até meio monótono. Democracia é assim mesmo.

Pena que esse avanço institucional inegável não tenha sido acompanhado por qualidade das instituições. Espero que esse novo passo não leve 50 anos.

(Clovis Rossi, Folha de São Paulo, 13/03/2014)

01

O texto começa pela recordação do comício do ex-presidente João Goulart.

Essa recordação tem a finalidade de

- (A) servir de ponto de referência para avaliação do avanço institucional do Brasil.
- (B) criticar nosso passado político em função de um imenso atraso ideológico.
- (C) mostrar como esse ato político teve importância na nossa história política.
- (D) indicar a oposição, ainda existente, entre reacionários e progressistas.
- (E) atuar como ponto de comparação com o progresso na qualidade das instituições.

02

“Faz hoje exatos 50 anos do chamado Comício da Central do Brasil, que funcionou como acelerador para a conspiração já em andamento que acabaria por depor o presidente constitucional João Belchior Marques Goulart, apenas 18 dias depois”.

Pelas informações contidas nesse parágrafo do texto, podemos inferir que

- (A) o Comício da Central do Brasil foi o causador direto da deposição do presidente.
- (B) a realização do Comício deu início a uma conspiração subversiva.
- (C) a deposição do presidente João Goulart foi um ato contra as instituições.
- (D) o tempo entre o Comício e a deposição é visto hoje como bastante longo.
- (E) o Comício foi organizado com a finalidade de acelerar a deposição do presidente.

03

“É bom olhar para trás para verificar que, pelo menos no terreno institucional, o país progrediu bastante desde que chegou ao fim o ciclo militar, há 29 anos. É um dado positivo em uma nação com tão formidável coleção de problemas e atraso em tantas áreas como o Brasil”.

Nesse parágrafo do texto, o autor emite uma série de opiniões pessoais. Entre essas opiniões, aquela que se refere à própria estratégia do texto é

- (A) “É bom olhar para trás”.
- (B) “o país progrediu bastante”.
- (C) “É um dado positivo”.
- (D) “formidável coleção de problemas”.
- (E) “atraso em tantas áreas”.

04

As opções a seguir mostram algumas funções do título do texto – *Acredite, progredimos sim* –, **à exceção de uma**. Assinale-a.

- (A) crítica aos órgãos oficiais e autoridades, que mascaram realidades desagradáveis.
- (B) reforço de uma opinião do próprio autor do texto, diante do ceticismo geral.
- (C) ironia, já que o tema abordado no texto não indica qualquer progresso.
- (D) destaque de um ponto positivo em meio a uma realidade negativa.
- (E) alerta contra as informações oficiais divulgadas.

05

“É bom olhar para trás para verificar...”.

Sobre as ocorrências do vocábulo sublinhado, assinale a afirmativa correta.

- (A) As duas ocorrências mostram o mesmo valor semântico.
- (B) A primeira ocorrência tem valor de finalidade.
- (C) A segunda ocorrência tem sentido de direção.
- (D) A primeira ocorrência equivale a “sobre”.
- (E) A segunda ocorrência equivale a “a fim de”.

06

“Ajuda-memória: o comício foi organizado pelo governo Goulart. Havia uma profusão de bandeiras vermelhas pedindo a legalização do ainda banido Partido Comunista Brasileiro, o que era o mesmo que acenar para o conservadorismo civil e militar com o pano vermelho com que se atica o touro na arena”.

Sobre as formas verbais desse segmento do texto, assinale a afirmativa correta.

- (A) A frase “o comício foi organizado pelo governo Goulart” está na voz passiva e sua forma ativa correspondente é “o governo Goulart organizou o comício”.
- (B) A forma verbal “havia” não tem sujeito expresso e equivale a “existiam”.
- (C) A forma verbal “pedindo” equivale a “que embora pedissem”.
- (D) A forma verbal “acenar” equivale à forma desenvolvida “estar acenando”.
- (E) A forma verbal “se atica” exemplifica o que se denomina construção com sujeito indeterminado.

07

“...o que era o mesmo que acenar para o conservadorismo civil e militar com o pano vermelho com que se atica o touro na arena”.

A comparação feita nesse segmento do texto equivale a dizer que o ato referido funcionaria como

- (A) apoio ao conservadorismo.
- (B) incentivo à ação militar.
- (C) crítica à atitude militar.
- (D) apelo à ajuda da classe militar.
- (E) crítica à violência da ditadura.

08

“Faz hoje exatos 50 anos”; “há 29 anos”. Sobre as estruturas gramaticais dessas duas frases do texto, assinale a afirmativa correta.

- (A) A primeira frase também poderia estar escrita “Fazem hoje exatos 50 anos”.
- (B) A segunda frase também poderia estar escrita “Devem haver hoje 29 anos”.
- (C) As duas formas verbais não podem ser flexionadas em número.
- (D) As duas formas verbais se referem a tempo passado.
- (E) Só a primeira frase está escrita de forma gramaticalmente errada.

09

“Se fosse pouco...”

Esse segmento inicial do quarto parágrafo poderia ser reescrito, mantendo-se o seu sentido original, da seguinte forma:

- (A) “Embora fosse pouco...”
- (B) “A fim de que fosse pouco...”
- (C) “Sem que fosse pouco...”
- (D) “Como se ainda fosse pouco...”
- (E) “Caso fosse pouco...”

10

“Na visão dos conspiradores, eram dois claros atentados à propriedade privada e, como tais, provas adicionais de que o governo preparava a comunização do país”.

Em relação à forma ou ao conteúdo do segmento destacado, assinale a opção cujo comentário é **inadequado**.

- (A) O trecho “na visão dos conspiradores” mostra distanciamento do autor em relação a essa visão.
- (B) A comunização do Brasil está claramente relacionada ao atentado contra a propriedade privada.
- (C) O vocábulo “tais” é anafórico, isto é, se refere especificamente a “atentados à propriedade privada”.
- (D) O adjetivo “adicionais” se justifica por já existirem outros sinais da aludida comunização.
- (E) A comunização do país representaria a causa dos atentados do governo e a consequência do movimento revolucionário ocorrido a seguir.

11

“Cinquenta anos depois, é um tremendo progresso, do qual talvez nem nos damos conta, o fato de que bandeiras vermelhas – ou azuis ou amarelas ou verdes ou brancas ou pretas – podem ser tranquilamente exibidas em atos públicos...”.

O fato citado pelo autor do texto de que bandeiras de várias cores podem ser exibidas em atos públicos mostra

- (A) a perda do valor politicamente simbólico das cores.
- (B) a formação de uma maior variedade de partidos políticos.
- (C) a liberdade da existência de tendências políticas variadas.
- (D) o progresso da população brasileira quanto à conscientização política.
- (E) o caos político dos tempos atuais, sem distinção ideológica entre partidos.

12

Assinale a opção que indica a frase do texto em que a forma verbal sublinhada está **incorreta**.

- (A) “Na visão dos conspiradores, eram dois claros atentados à propriedade privada e, como tais, provas adicionais de que o governo preparava a comunização do país”.
- (B) “Cinquenta anos depois, é um tremendo progresso, do qual talvez nem nos damos conta...”
- (C) “... o fato de que bandeiras vermelhas – ou azuis ou amarelas ou verdes ou brancas ou pretas – podem ser tranquilamente exibidas em atos públicos...”
- (D) “...sem que se considere estar ameaçada a ordem estabelecida”.
- (E) “Reforma agrária deixou de ser um anátema, e a desapropriação de terras ociosas é comum mesmo em governos que a esquerda considera de direita ou conservadores”.

13

“Reforma agrária deixou de ser um anátema, e a desapropriação de terras ociosas é comum mesmo em governos que a esquerda considera de direita ou conservadores”.

A melhor definição para o vocábulo “anátema”, no contexto em que se insere, é

- (A) expulsão do seio da igreja, excomunhão.
- (B) maldição, execração, opróbio.
- (C) reprovação branda e familiar.
- (D) excitação nas funções orgânicas ou nos sentidos.
- (E) estado de pessoa irritada, encolerizada.

14

Não deve ser considerado como avanço institucional inegável o seguinte ponto:

- (A) a possibilidade de depor-se um presidente por meio de um *impeachment*.
- (B) a não interferência da força policial em caso de mortes no campo.
- (C) a discussão puramente ideológica entre ruralistas e o MST.
- (D) a coexistência pacífica de forças políticas antagônicas.
- (E) a conquista da possibilidade de votar-se democraticamente.

15

Todas as frases a seguir mostram uma forma verbal de infinitivo sublinhada. A forma de sua nominalização só **não** está adequada em

- (A) "...que acabaria por depor o presidente constitucional João Belchior Marques Goulart, apenas 18 dias depois" / acabaria no depoimento do presidente...
- (B) "É bom olhar para trás para verificar que, pelo menos no terreno institucional, o país progrediu bastante..." / para a verificação de que...
- (C) "...o que era o mesmo que acessar para o conservadorismo civil e militar..." / era o mesmo que o aceno...
- (D) "...Jango aproveitou o comício para assinar dois decretos..." / para a assinatura de dois decretos...
- (E) "...sem que se chame a tropa para resolver-la..." / para a sua resolução...

16

"Votei pela primeira vez para presidente em 1989, quando já tinha 46 anos. Meus filhos também votaram pela primeira vez naquela ocasião, o que significa que uma geração inteira teve capada parte essencial de sua cidadania durante tempo demais".

Infere-se desse segmento do texto que

- (A) o autor do texto deve ter enfrentado problemas políticos durante a ditadura.
- (B) a ditadura foi um momento político de frequentes atos subversivos.
- (C) a "geração capada" aludida no texto é a dos jovens filhos do autor.
- (D) o vocábulo "já" indica o atraso no ato de votar.
- (E) a "parte essencial da cidadania" aludida é a possibilidade de candidatar-se.

17

"É bom olhar para trás para verificar que, pelo menos no terreno institucional, o país progrediu bastante desde que chegou ao fim o ciclo militar, há 29 anos. É um dado positivo em uma nação com tão formidável coleção de problemas e atraso em tantas áreas como o Brasil".

Todos os termos sublinhados mostram apreciações de valor.

Assinale a opção em que a estratégia de valorização está identificada corretamente.

- (A) Bom / matiza positivamente uma ação.
- (B) Bastante / indica a grande dimensão de uma qualidade.
- (C) Positivo / mostra qualidade surpreendente.
- (D) Formidável / refere-se a quantidades pequenas, mas significativas.
- (E) Atraso / alude a quantidades e qualidades negativas.

18

"Espero que esse novo passo não leve 50 anos".

A forma verbal sublinhada pertence ao presente do subjuntivo do verbo "levar". Assinale a opção que indica a forma verbal que está **incorretamente** conjugada nesse mesmo tempo e pessoa.

- (A) Requeira (requerer).
- (B) Intervenha (intervir).
- (C) Entretenha (entreter).
- (D) Frequente (frequentar).
- (E) Antepõe (antepor).

A charge a seguir se refere às questões 19 e 20.



(Miguel Paiva)

19

A frase dita pelo homem indica

- (A) uma real indicação de progresso social.
- (B) um provável elogio às autoridades.
- (C) uma crítica ao discurso oficial.
- (D) uma informação sobre novas medidas governamentais.
- (E) um argumento contrário ao pessimismo nacional.

20

A frase dita pela mulher mostra

- (A) uma crítica ao analfabetismo nacional.
- (B) um elogio ao marido por sua preocupação familiar.
- (C) um apoio às medidas governamentais anunciadas.
- (D) uma constatação da alienação dos cidadãos.
- (E) um alerta contra a argumentação política.

Princípios e Organização do SUS

21

A Constituição Federal de 1988 foi um marco na redefinição das prioridades da política do Estado na área da Saúde Pública com a criação do SUS.

A esse respeito assinale V para a afirmativa verdadeira e F para a falsa.

- () O texto constitucional demonstra claramente que a concepção do SUS estava baseada num modelo de saúde voltado para as necessidades da população, procurando resgatar o compromisso do Estado para com o bem-estar social.
- () O texto constitucional permite que as instituições privadas participem de forma complementar do Sistema Único de Saúde, tendo preferência absoluta as entidades filantrópicas.
- () O texto constitucional estabelece que a saúde é um direito de todos os cidadãos, sendo dever do Estado garantir sua promoção, proteção e recuperação.

As afirmativas são, respectivamente,

- (A) F, V e F.
- (B) V, V e F.
- (C) V, F e V.
- (D) F, V e V.
- (E) F, F e V.

22

A transferência de recursos pelo Fundo Nacional de Saúde para os Municípios, os Estados e o Distrito Federal, de forma regular e automática, corresponde à execução do princípio da

- (A) universalidade.
- (B) descentralização.
- (C) hierarquização.
- (D) integralidade.
- (E) regionalização.

23

A respeito das competências e atribuições da União, dos Estados, do Distrito Federal e dos Municípios, dispostas na Lei nº 8.080/90, analise as afirmativas a seguir.

- I. São atribuições específicas da União e dos Estados definir as instâncias e os mecanismos de controle, de avaliação e de fiscalização das ações e dos serviços de saúde.
- II. Os Municípios são responsáveis por celebrar contratos e convênios com entidades prestadoras de serviços privados de saúde, bem como controlar e avaliar sua execução.
- III. Compete à direção estadual do SUS acompanhar, controlar e avaliar as redes hierarquizadas do Sistema Único de Saúde.

Assinale:

- (A) se somente a afirmativa I estiver correta.
- (B) se somente a afirmativa II estiver correta.
- (C) se somente a afirmativa III estiver correta.
- (D) se somente as afirmativas I e II estiverem corretas.
- (E) se somente as afirmativas II e III estiverem corretas.

24

Segundo os critérios estabelecidos na Lei Complementar nº 141/2012, **não** é considerada uma despesa com ações e serviços públicos de saúde aquela referente

- (A) à capacitação do pessoal de saúde do Sistema Único de Saúde.
- (B) à ação de vigilância em saúde, incluindo a epidemiológica e a sanitária.
- (C) ao manejo ambiental vinculado diretamente ao controle de vetores de doenças.
- (D) à assistência à saúde que não atenda ao princípio de acesso universal.
- (E) ao saneamento básico dos distritos sanitários especiais indígenas.

25

Considerando o disposto na Lei nº 8.142/90 a respeito dos Conselhos e Conferências de Saúde, assinale V para a afirmativa verdadeira e F para a falsa.

- () O Conselho de Saúde se reúne a cada 4 anos para avaliar a situação de saúde e propor as diretrizes para a formulação da política de saúde nos níveis correspondentes.
- () A representação dos usuários nos Conselhos e Conferências de Saúde deve ser paritária em relação ao conjunto dos demais segmentos.
- () A Conferência de Saúde atua na formulação de estratégias e no controle da execução da política de saúde na instância correspondente, inclusive nos aspectos econômicos e financeiros.

As afirmativas são, respectivamente,

- (A) V, F e V.
- (B) F, F e V.
- (C) F, V e F.
- (D) V, V e F.
- (E) F, V e V.

26

O Contrato Organizativo da Ação Pública de Saúde – COAP deve conter as disposições essenciais relacionadas a seguir, **à exceção de uma**. Assinale-a.

- (A) Identificação das necessidades de saúde locais e regionais.
- (B) Estratégias para a melhoria das ações e serviços de saúde.
- (C) Orientação e ordenação dos fluxos das ações e dos serviços de saúde.
- (D) Investimentos na rede de serviços e nas respectivas responsabilidades.
- (E) Critérios de avaliação dos resultados e forma de monitoramento permanente.

27

O Conselho Nacional de Saúde é responsável por estabelecer

- (A) as regras de monitoramento e de acesso às ações e aos serviços de saúde.
- (B) as diretrizes a serem observadas na elaboração dos planos de saúde.
- (C) os critérios para escolha dos indicadores e das metas para a saúde.
- (D) os critérios para o diagnóstico da doença ou do agravo à saúde.
- (E) as normas para instituição das redes e regiões de saúde.

28

A respeito da atuação das Comissões Intergestores, analise as afirmativas a seguir.

- I. As Comissões Intergestores Bipartite e Tripartite são reconhecidas como foros de negociação e pactuação entre gestores quanto aos aspectos operacionais do Sistema Único de Saúde (SUS).
- II. As Comissões Intergestores Tripartite devem pactuar as diretrizes gerais sobre Regiões de Saúde, a integração de limites geográficos e suas referências e contrarreferências.
- III. A Comissão Intergestores Regional – CIR é vinculada à Secretaria Estadual de Saúde para efeitos administrativos e operacionais.

Assinale:

- (A) se somente a afirmativa I estiver correta.
- (B) se somente a afirmativa II estiver correta.
- (C) se somente a afirmativa III estiver correta.
- (D) se somente as afirmativas I e II estiverem corretas.
- (E) se todas as afirmativas estiverem corretas.

29

De acordo com o Decreto nº 7.508/11, o “espaço geográfico contínuo constituído por agrupamentos de Municípios limítrofes, delimitado a partir de identidades culturais, econômicas e sociais, e de redes de comunicação e infraestrutura de transportes compartilhados, com a finalidade de integrar a organização, o planejamento e a execução de ações e serviços de saúde” corresponde à definição de

- (A) Rede de Atenção à Saúde.
- (B) Distrito Sanitário.
- (C) Região Adstrita.
- (D) Mapa da Saúde.
- (E) Região de Saúde.

30

Considerando as normas para a aplicação e repasse de recursos destinados às ações e aos serviços de saúde pelos entes públicos, analise as afirmativas a seguir.

- I. Os recursos da União serão repassados ao Fundo Nacional de Saúde e às demais unidades orçamentárias que compõem o órgão Ministério da Saúde, para aplicação em ações e serviços públicos de saúde.
- II. Os Estados e o Distrito Federal aplicarão, anualmente, em ações e serviços públicos de saúde, no mínimo, 12% (doze por cento) da arrecadação dos impostos sobre propriedade predial e territorial urbana.
- III. O Distrito Federal aplicará, anualmente, em ações e serviços públicos de saúde, no mínimo, 15% (quinze por cento) do produto da arrecadação direta dos impostos que não possam ser segregados em base estadual e em base municipal.

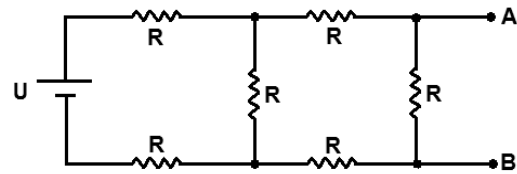
Assinale:

- (A) se somente a afirmativa I estiver correta.
- (B) se somente a afirmativa II estiver correta.
- (C) se somente a afirmativas III estiver correta.
- (D) se somente as afirmativas I e II estiverem corretas.
- (E) se somente as afirmativas II e III estiverem corretas.

Conhecimentos Específicos

31

A figura a seguir apresenta um circuito composto de uma fonte e seis resistores.



Sabe-se que a ddp da fonte é igual a U e que os resistores são todos iguais a R . O equivalente de Thèvenin, visto dos pontos A e B, é composto por

- (A) uma fonte de tensão U e um resistor R
- (B) uma fonte de tensão $3U/7$ e um resistor $3R/11$.
- (C) uma fonte de tensão $U/11$ e um resistor $8R/11$.
- (D) uma fonte de tensão $5U/9$ e um resistor $7R/9$.
- (E) uma fonte de tensão $7U/9$ e um resistor $9R/13$.

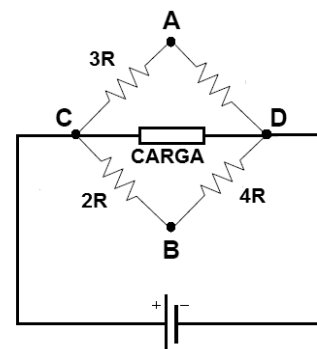
32

Um circuito elétrico é composto de uma fonte com ddp igual a U alimentando dois resistores em série iguais a R . O equivalente de Norton, visto pelos terminais de um dos resistores, é composto por

- (A) uma fonte de corrente igual a U/R em paralelo com um resistor de $2R$.
- (B) uma fonte de corrente igual a U/R em paralelo com um resistor de $R/2$.
- (C) uma fonte de corrente igual a U/R em paralelo com um resistor de $R/4$.
- (D) uma fonte de corrente igual a $2U/R$ em paralelo com um resistor de $2R$.
- (E) uma fonte de corrente igual a $2U/R$ em paralelo com um resistor de $R/2$.

33

A figura abaixo apresenta um circuito composto por uma fonte, quatro resistores e uma carga elétrica.



O valor do resistor conectado entre os pontos A e D, a fim de que a potência na carga elétrica seja igual a zero, deve ser igual a

- (A) R .
- (B) $2R$.
- (C) $4R$.
- (D) $6R$.
- (E) $8R$.

34

Considere um circuito elétrico composto por uma fonte senoidal monofásica com valor médio de tensão igual a 60 V, alimentando dois resistores iguais de 10 Ω ligados em série. O valor da tensão eficaz em um dos resistores é, em volts, é igual a

- (A) $15\sqrt{2}\pi$.
- (B) $7,5\sqrt{2}\pi$.
- (C) $0,6\sqrt{2}\pi$.
- (D) 15π .
- (E) $7,5\pi$.

35

A relação do número de espiras entre o primário e o secundário (N_1 / N_2) de um transformador trifásico na configuração estrela-delta é igual a α . A tensão de alimentação está na sequência ABC, sendo a tensão \vec{V}_{AB} do primário igual a $\sqrt{3}V\angle 0^\circ$. A tensão \vec{V}_{BC} do secundário é igual a

- (A) $V/\alpha\angle -30^\circ$
- (B) $\alpha V\angle -150^\circ$
- (C) $\alpha V\angle -0^\circ$
- (D) $\alpha V\angle -30^\circ$
- (E) $V/\alpha\angle -150^\circ$

36

Uma fonte elétrica senoidal alimenta uma carga composta por um resistor de valor R e uma reatância de valor X, ligados em série. A potência aparente solicitada da fonte por essa carga é 1 kVA. Sabendo-se que R/X é igual a $\sqrt{3}/3$, a potência ativa, em Watts, solicitada por essa carga é igual a

- (A) 500.
- (B) 480.
- (C) 450.
- (D) 400.
- (E) 390.

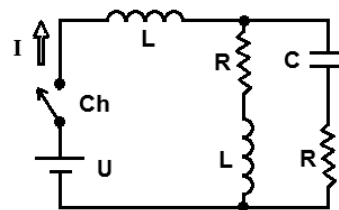
37

Assinale a alternativa correta a respeito das características e das propriedades dos diversos materiais.

- (A) Os materiais dielétricos não podem armazenar energia em seu interior.
- (B) Os materiais metálicos diminuem a resistência com o aumento da temperatura.
- (C) Os materiais diamagnéticos apresentam magnetização alinhada ao campo magnético.
- (D) Os materiais paramagnéticos tem sua magnetização diminuída na presença de um campo magnético externo.
- (E) Os materiais ferromagnéticos desmagnetizam quando submetidos a uma temperatura acima da temperatura de Curie.

38

Considere a figura a seguir que apresenta uma fonte contínua com ddp igual a U, alimentando um circuito composto de dois resistores de valores R, dois indutores de valores L e um capacitor de valor C.



No instante em que a chave Ch é ligada e após o circuito entrar em regime permanente, a corrente I assume, respectivamente, os valores

- (A) $U/(R/2)$ e $U/(R/2)$.
- (B) U/R e U/R .
- (C) $U/(R/2)$ e zero.
- (D) zero e $U/(R/2)$.
- (E) zero e U/R .

39

Considere as afirmativas abaixo a respeito das arquiteturas dos processadores RISC (*Reduced Instruction Set Computer*) e CISC (*Complex Instruction Set Computer*):

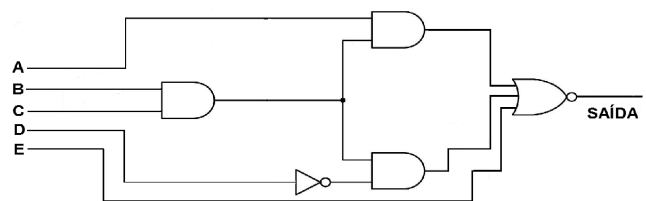
- I. As operações dos processadores RISC envolvendo a memória principal são restritas a transferências (LOAD, STORE).
- II. Os processadores CISC possuem reduzidos custos de desenvolvimento de *software*.
- III. Os processadores RISC e CISC possuem muitos modos de endereçamento.

Assinale:

- (A) se somente a afirmativa I estiver correta.
- (B) se somente a afirmativa II estiver correta.
- (C) se somente a afirmativa III estiver correta.
- (D) se somente as afirmativas I e II estiverem corretas.
- (E) se somente as afirmativas I e III estiverem corretas.

40

Considere o circuito digital a seguir:

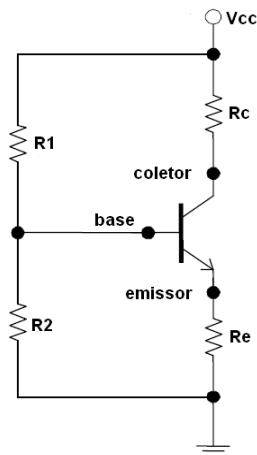


Uma das combinações nas entradas A, B, C, D e E que determinam uma saída igual a um é

- (A) 1 1 1 0 1
- (B) 0 1 1 1 0
- (C) 0 1 1 0 1
- (D) 0 0 1 0 1
- (E) 0 0 0 0 1

41

Considere a polarização de um transistor apresentado no circuito abaixo:



A tensão V_{cc} desse circuito é de 12 V e a corrente no emissor é igual a 4mA. Os resistores R_e e R_c são iguais, respectivamente, a $200\ \Omega$ e a $1200\ \Omega$. As quedas de tensão, em volts, nos resistores R_e e R_c são, respectivamente, iguais a

- (A) 0,8 e 4,8.
- (B) 0,8 e 5,2.
- (C) 1,0 e 4,8.
- (D) 1,0 e 5,8.
- (E) 1,0 e 6,2.

42

As grandezas fasoriais de um sistema trifásico podem ser decompostas em componentes simétricos. Considerando o operador $\alpha = 1\angle 120^\circ$, a tensão \vec{V}_C , em função de seus componentes simétricos, é igual a

- (A) $\vec{V}_0 + \alpha\vec{V}_1 + \alpha^2\vec{V}_2$
- (B) $\vec{V}_0 + \alpha^2\vec{V}_1 + \alpha\vec{V}_2$
- (C) $\alpha\vec{V}_0 + \vec{V}_1 + \vec{V}_2$
- (D) $\alpha\vec{V}_0 + \alpha^2\vec{V}_1 + \alpha\vec{V}_2$
- (E) $\alpha\vec{V}_0 + \alpha^2\vec{V}_1 + \alpha\vec{V}_2$

43

A velocidade do rotor de um motor de indução que opera na frequência de 50 Hz é 980 rpm. Sabendo-se que o seu escorregamento é de 2 %, assinale a opção que indica o número de polos desse motor.

- (A) 2.
- (B) 4.
- (C) 6.
- (D) 8.
- (E) 10.

44

Sob o ponto de vista de segurança em instalações elétricas de baixa tensão, o esquema de aterramento mais seguro é o

- (A) TN-C.
- (B) TN-S.
- (C) TN-C-S.
- (D) IT.
- (E) TT.

45

Os dispositivos de proteção existentes nos geradores elétricos síncronos de grande porte visam preservar o equipamento e manter a segurança dos operadores.

Na situação da perda de campo do gerador, deve entrar em operação a proteção

- (A) sobretensão.
- (B) sobrevelocidade.
- (C) potência reversa.
- (D) subtensão.
- (E) subexcitação.

46

Um dado equipamento, cujos valores nominais de potência e tensão são 5 MVA e 50 kV, está localizado no setor de um sistema, onde os valores de potência e tensão de bases são iguais a 1 MVA e 10 kV.

Sabendo-se que a reatância desse equipamento é 0,1 p.u., o valor dessa reatância ajustada para as bases é

- (A) 0,0008 p.u.
- (B) 0,02 p.u.
- (C) 0,1 p.u.
- (D) 0,5 p.u.
- (E) 12,5 p.u.

47

A respeito de um sistema trifásico estrela-estrela, analise as afirmativas a seguir.

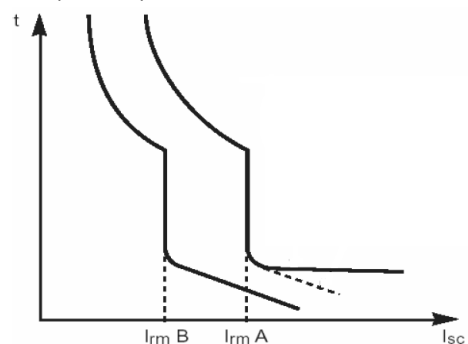
- I. Na configuração a três fios equilibrado, as tensões de fase da fonte são diferentes das tensões de fase da carga.
- II. Na configuração a quatro fios equilibrado, a corrente de neutro é zero.
- III. Na configuração a três fios desequilibrado, o somatório das correntes no neutro da carga é zero.

Assinale

- (A) se somente a afirmativa I estiver correta.
- (B) se somente a afirmativa II estiver correta.
- (C) se somente a afirmativa III estiver correta.
- (D) se somente as afirmativas I e III estiverem corretas.
- (E) se somente as afirmativas II e III estiverem corretas.

48

A seletividade do sistema de proteção de uma instalação elétrica é a propriedade de isolar o setor faltoso, de modo que o sistema fique o mais operante possível.



As curvas dos relés A e B apresentadas acima correspondem ao tipo de seletividade para correntes de curto-circuito baseada em

- (A) degrau de corrente absoluta.
- (B) degrau de corrente parcial.
- (C) diferença de tempo.
- (D) nível de energia de arco.
- (E) retardo de tempo.

49

Uma carga trifásica de 8.000 VA possui fator de potência indutivo igual a 0,866. Sabe-se que a potência reativa resultante para que o fator de potência se eleve a 0,92 capacitivo, é de 3.126 Var.

O banco de capacitores necessário para esse novo fator de potência é

- (A) 850 Var.
- (B) 3.126 Var.
- (C) 4.000 Var.
- (D) 4.874 Var.
- (E) 7.126 Var.

50

Um sistema elétrico trifásico teve em sua linha de distribuição um curto-circuito (falta) em uma de suas fases para o terra. A tensão de base no local da falta é de 220 V e a tensão de pré-falta igual a 198 V. Sabe-se que o somatório das resistências de seqüências zero, positiva e negativa é igual a 96,8 Ω, visto do ponto da falta.

Sabendo-se que a potência de base é igual a 1.000 VA, a corrente de falta, em p.u., é

- (A) 0,20.
- (B) 0,45.
- (C) 0,62.
- (D) 0,77.
- (E) 0,80.

51

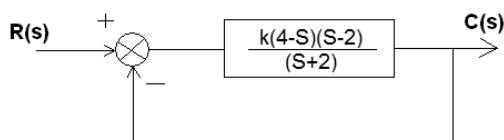
Um circuito terminal de uma instalação elétrica de baixa tensão com esquema de aterramento TN-S alimenta um equipamento elétrico. A configuração da fonte de alimentação é estrela e esse equipamento é alimentado por duas fases, sendo a tensão de fase da fonte igual a 127 V. Sabe-se que uma das fases que alimenta esse equipamento entra em contato franco com a carcaça, fazendo com que o operador desse equipamento seja submetido a um choque elétrico através dessa carcaça.

Desprezando qualquer resistência de contato e que a resistência entre os pés do operador e o terra é desprezível, a ddp desse choque, em volts, é

- (A) 220.
- (B) 127.
- (C) 110.
- (D) 63,5.
- (E) 50,5.

52

Considere as afirmativas a respeito do sistema abaixo:



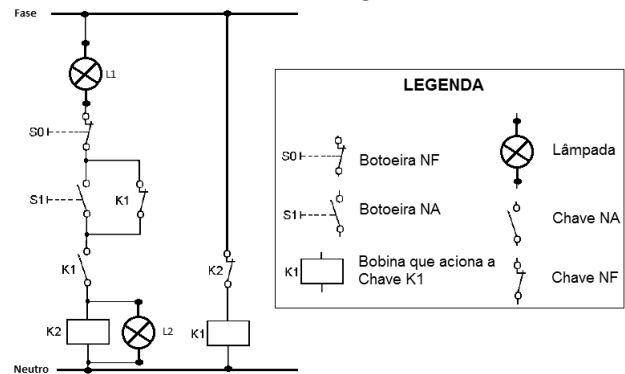
- I. O sistema é instável.
- II. O sistema possui um polo igual a -2.
- III. O sistema é criticamente estável.

Assinale:

- (A) se somente a afirmativa I estiver correta.
- (B) se somente a afirmativa II estiver correta.
- (C) se somente a afirmativa III estiver correta.
- (D) se somente as afirmativas I e II estiverem corretas.
- (E) se somente as afirmativas II e III estiverem corretas.

53

Considere o circuito de comando a seguir.



Os estados das lâmpadas L1 e L2 em regime permanente, antes e depois do acionamento da botoeira S0 (botoeira NF), são, respectivamente,

- (A) L1 apagada; L2 acesa e L1 acesa; L2 apagada.
- (B) L1 acesa; L2 apagada e L1 acesa; L2 apagada.
- (C) L1 acesa; L2 apagada e L1 e L2 apagadas.
- (D) L1 e L2 apagadas e L1 e L2 acesas.
- (E) L1 e L2 apagadas e L1 e L2 apagadas.

54

Uma carga elétrica monofásica residencial, de 3960 W e fator de potência de 0,9, é alimentada por um circuito de 20 m de comprimento. Sabendo-se que a tensão de alimentação é 110 V e que a queda de tensão deve ser no máximo igual a 2%, a queda de tensão unitária máxima, em V/(A.km), do fio desse circuito é

- (A) 1,50.
- (B) 2,75.
- (C) 3,25.
- (D) 3,75.
- (E) 4,25.

55

Um circuito elétrico alimenta um motor trifásico que opera em regime permanente em sua potência mecânica máxima de 10 HP. Sabe-se que a tensão de alimentação desse motor é de 200 V, o rendimento 0,8 e o fator de potência 0,625.

A corrente elétrica solicitada por esse motor e sua potência elétrica ativa são, respectivamente, iguais a

Dado: 1 HP = 746 W

- (A) 74,6 A e 7.460 W.
- (B) 74,6 A e 14.920 W.
- (C) 74,6 A e 9.325 W.
- (D) 46,6 A e 14.920 W.
- (E) 46,6 A e 9.325 W.

56

O método PERT/CPM permite o controle de uma obra ou projeto no tempo. Uma dada atividade de uma obra possui tempos otimista, pessimista e mais provável, de 6, 8 e 16 unidades de tempo – u.t..

Para essa atividade, o tempo mais provável e a variância, em unidades de tempo, são iguais a

- (A) 9 e 25/9.
- (B) 9 e 16/9.
- (C) 10 e 25/9.
- (D) 8 e 25/9.
- (E) 8 e 16/9.

57

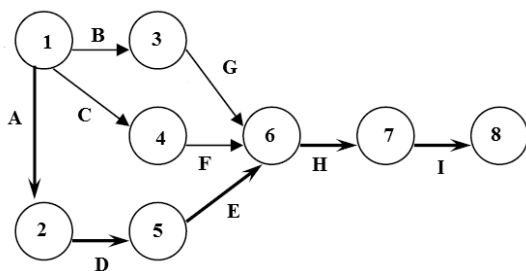
Um sistema trifásico estrela-delta (fonte em estrela e carga em delta) é constituído por uma fonte simétrica e uma carga desequilibrada.

A respeito desse sistema, assinale a afirmativa correta.

- (A) A tensão de fase da carga é igual à tensão de linha.
 (B) A tensão de linha é igual à tensão de fase da fonte.
 (C) A corrente de linha é maior que a corrente de fase da fonte.
 (D) A corrente de fase da carga é igual a corrente de linha.
 (E) A potência de cada uma das cargas monofásicas que constituem a carga trifásica são iguais entre si.

58

Considere o Diagrama PERT/CPM e o quadro de atividades, referentes a execução de uma obra. O quadro de atividades apresenta as atividades e os tempos esperado e acelerado para cada atividade.



Atividade	Tempo Esperado	Tempo Acelerado
A	3	2
B	4	3
C	5	2
D	3	1
E	4	1
F	4	2
G	3	2
H	3	2
I	3	2

O tempo de execução dessa obra e o tempo após a aceleração em três unidades de tempo – u.t. da atividade E são iguais a

- (A) 10 e 9.
 (B) 13 e 10.
 (C) 13 e 12.
 (D) 16 e 13.
 (E) 16 e 15.

59

O tempo esperado para a conclusão de um dado projeto é de 93 em unidades de tempo - u.t. com uma variância de 9 u.t.. O fator de probabilidade Z da tabela de distribuição normal, a fim de que esse projeto seja concluído no tempo estabelecido com uma probabilidade de 84%, é igual a 1 (um).

O tempo estabelecido para a conclusão desse projeto, e, u.t., é

- (A) 93.
 (B) 94.
 (C) 96.
 (D) 98.
 (E) 100.

60

O trabalhador para exercer suas atividades em eletricidade deve atender a alguns requisitos.

Com relação a esses requisitos, assinale V para a afirmativa verdadeira e F para a falsa.

- () O trabalhador deverá realizar um treinamento de reciclagem a cada cinco anos.
 () O trabalhador é considerado qualificado se tiver a comprovação de conclusão de curso específico na área elétrica reconhecido pelo Sistema Oficial de Ensino.
 () O trabalhador é considerado legalmente habilitado se for previamente qualificado.

As afirmativas são, respectivamente,

- (A) F, F e V.
 (B) F, V e F.
 (C) V, V e F.
 (D) V, F e V.
 (E) F, V e V.

Realização

