



PMS – BA 2019

Prefeitura Municipal do Salvador - Estado da Bahia

TARDE

TÉCNICO EM SEGURANÇA DO TRABALHO

Typo 1 – BRANCA



SUA PROVA

- As questões objetivas têm cinco alternativas de resposta (A, B, C, D, E) e somente uma delas está correta;
- Além deste caderno de prova, contendo sessenta questões objetivas e uma questão discursiva, você receberá do fiscal de sala:
 - a folha de respostas das questões objetivas
 - a folha de texto definitivo para as respostas das questões discursivas



TEMPO

- Você dispõe de **3h30min** para a realização da prova, já incluído o tempo para a marcação da folha de respostas;
- **3 horas** após o início da prova é possível retirar-se da sala, sem levar o caderno de prova;
- **30 minutos** antes do término do período de prova é possível retirar-se da sala **levando o caderno de provas**.



NÃO SERÁ PERMITIDO

- Qualquer tipo de comunicação entre os candidatos durante a aplicação da prova;
- Anotar informações relativas às respostas em qualquer outro meio que não seja o caderno de prova;
- Levantar da cadeira sem autorização do fiscal de sala;
- Usar o sanitário ao término da prova, após deixar a sala.



INFORMAÇÕES GERAIS

- Verifique se seu caderno está completo, sem repetição de questões ou falhas. Caso contrário, notifique imediatamente o fiscal da sala, para que sejam tomadas as devidas providências;
- Confira seus dados pessoais, especialmente nome, número de inscrição e documento de identidade e leia atentamente as instruções para preencher a folha de respostas;
- Use somente caneta esferográfica, fabricada em material transparente, com tinta preta ou azul;
- Assine seu nome apenas no(s) espaço(s) reservado(s);
- Confira seu cargo, cor e tipo do caderno de provas. Caso tenha recebido caderno de cargo ou cor ou tipo **diferente** do impresso em sua folha de respostas, o fiscal deve ser **obrigatoriamente** informado para o devido registro na ata da sala;
- Reserve tempo suficiente para o preenchimento da sua folha de respostas. O preenchimento é de sua responsabilidade e não será permitida a troca da folha de respostas em caso de erro;
- Para fins de avaliação, serão levadas em consideração apenas as marcações realizadas na folha de respostas;
- A FGV coletará as impressões digitais dos candidatos na lista de presença;
- Os candidatos serão submetidos ao sistema de detecção de metais quando do ingresso e da saída de sanitários durante a realização das provas;
- **Boa sorte!**

MÓDULO I

Língua Portuguesa

1

“Um estudo realizado pela oncologista Luciana Landeiro, da equipe do Núcleo de Oncologia da Bahia (NOB)/Grupo Oncoclínicas, revela que mulheres com diagnóstico de câncer de mama, mesmo aquelas que já enfrentaram a doença, têm menos chances no mercado de trabalho. O estudo “Retorno ao trabalho após o diagnóstico do câncer de mama: Estudo prospectivo observacional no Brasil” é resultado da tese de doutorado da médica na Faculdade de Medicina da Universidade de São Paulo (USP) e foi publicada na Revista Câncer, publicação científica norte-americana e uma das principais revistas internacionais na área de oncologia”.

Tribuna da Bahia, 23/11/2018.

O segmento aborda estudo ligado à oncologia, “estudo do câncer”.

Assinale a opção que indica o vocábulo formado por esse mesmo radical e mostra seu significado corretamente.

- (A) Filologia: estudo das relações sociais.
- (B) Biologia: estudo dos *habitats*.
- (C) Pneumologia: estudo dos vários tipos de borracha.
- (D) Ideologia: estudo de deficiências mentais.
- (E) Andrologia: estudo físico do homem.

2

A notícia dada a seguir é veiculada como possibilidade, e não como certeza.

Araguinha: a cidade brasileira que está no centro da maior cratera de asteroide na América do Sul.

Estudos apontam que o impacto pode ter provocado a maior extinção de vida na Terra - maior, inclusive, que a dos dinossauros. A colisão teria destruído, imediatamente, tudo o que estava num raio de até 250 quilômetros e, posteriormente, gerado um rápido e fatal aquecimento global, causando tsunamis e terremotos...

Uol, 23/11/2018.

Assinale a opção que indica os meios linguísticos que produzem essa noção de possibilidade.

- (A) Informações dadas a partir de estudos / exagero na enunciação dos fatos.
- (B) Exagero na enunciação dos fatos / citação da provável extinção dos dinossauros.
- (C) Citação da provável extinção dos dinossauros / emprego do verbo “poder”.
- (D) Emprego do verbo “poder” / utilização do futuro do pretérito.
- (E) Emprego do futuro do pretérito / informações dadas a partir de estudos.

3

Crise no emprego eleva em 1,4 milhão o número de consultas psiquiátricas

Entre 2014 e 2017, a busca por atendimentos avançou 54%; afastamentos já têm alta de 12% no ano.

Folha de São Paulo, 23/11/2018.

Sobre os componentes estruturais desse segmento de texto, assinale a afirmativa correta.

- (A) A “crise no emprego” se refere a problemas advindos da vida diária na atividade de trabalho.
- (B) A “crise no emprego” mostra a consequência advinda do aumento de consultas psiquiátricas.
- (C) O “Entre 2014 e 2017” indica momento passado, por isso, a informação perde atualidade.
- (D) O “já” mostra que o crescimento dos atendimentos também está acima do esperado.
- (E) O “têm alta de 12% no ano” indica que o número de altas médicas também cresceu no período.

4

Assinale a opção que mostra a frase cuja lacuna deve ser preenchida com a primeira das formas entre parênteses.

- (A) “_____ é um homem que jamais bate numa mulher sem primeiro tirar o chapéu”. (cavaleiro / cavalheiro)
- (B) “A indústria do _____ se beneficia do sexo, ou você acha que as pessoas andariam com os jeans apertados desse jeito se não fosse pela conotação sexual?”. (vestiário/vestuário)
- (C) “A diminuição _____ do nível da água dos reservatórios trazia preocupação aos governadores de Estado”. (eminente/imminente)
- (D) “As mudanças no Código Penal incluem possibilidades de _____ penas mais duras aos criminosos”. (infligir/infringir)
- (E) “As novas medidas presidenciais vieram _____ o acerto das votações no Congresso Nacional”. (retificar / ratificar)

5

Há conjuntos de palavras que podem ser consideradas sinônimas em alguns contextos; assim ocorre com “despedir”, “exonerar”, “demitir”, “mandar embora”, “dispensar”.

Assinale a opção que apresenta a frase cuja lacuna deve ser preenchida com o verbo “**exonerar**” em forma verbal adequada.

- (A) O governo decidiu _____ funcionários públicos.
- (B) O novo gerente _____ vários funcionários.
- (C) O novo governo pretende _____ alguns ministros.
- (D) O diretor do colégio pode _____ alguns professores.
- (E) A gerente _____ a empregada mal-educada.

6

As frases a seguir criticam alguma característica ou procedimento humano. Assinale a opção que indica a frase que tem essa característica identificada **erroneamente**.

- (A) “Camarão que dorme a correnteza leva” / inércia.
- (B) “Quem fica olhando o vento jamais semeará, quem fica olhando as nuvens jamais ceifará” / indiferença.
- (C) “Os bispos são, no jogo de xadrez, os que estão mais próximos dos reis” / interesse.
- (D) “Todo homem tem seu preço. E alguns até dão desconto” / corrupção.
- (E) “O tempo é um grande professor, mas infelizmente ele mata todos os seus discípulos” / brevidade da vida.

7

Não foi para isso

“Não sei se é verdade. Dizem que Santos-Dumont suicidou-se quando soube que, durante a Guerra Mundial, a primeira, de 1914 a 1918, estavam usando aviões para bombardear cidades indefesas. Não fora para isso -- pensava ele -- que inventara a navegabilidade no ar, façanha que ninguém lhe contesta, tampouco inventara o avião, cuja autoria lhe é indevidamente negada pelos norte-americanos.

Excetuando o Dr. Guilhotin, que construiu um aparelho específico para matar mais rapidamente durante os anos do Terror, na Revolução Francesa, em geral o pessoal que inventa alguma coisa pensa em beneficiar a humanidade, dotando-a de recursos que tornam a vida melhor, se possível para todos”.

Carlos Heitor Cony, *in Folha de São Paulo*. 27/12/2007.

Esse fragmento de uma crônica de Cony é um exemplo de texto

- (A) didático, pois ensina algo sobre personagens famosos.
- (B) descritivo, pois fornece dados sobre as invenções citadas.
- (C) narrativo, pois relata a história da criação do avião e da guilhotina.
- (D) argumentativo, pois apresenta fato que comprova o título da crônica.
- (E) histórico, pois traz informações sobre o passado a fim de registrá-lo.

8

Assinale a opção que mostra uma frase **incoerente**.

- (A) Diplomacia é a arte de saber o que não dizer.
- (B) São necessários 20 anos de paz para formar um homem e, apenas, 20 segundos para destruí-lo.
- (C) A seda foi inventada para que as mulheres pudessem sair desnudas com vestidos.
- (D) Cada um se defende como pode. Cachorro morde. Boi chifra. Deputado vota contra.
- (E) A paz não é feita com amigos; é feita com inimigos.

9

O ex-presidente Kennedy disse, certa vez, que “*A paz mundial, como a paz em uma comunidade, não necessita que cada um ame o seu vizinho – mas que vivam com mútua tolerância, submetendo suas disputas a um acordo justo e pacífico*”.

Sobre a estruturação desse pensamento, assinale a afirmativa **inadequada**.

- (A) “como a paz em uma comunidade” mostra uma comparação entre duas circunstâncias de paz.
- (B) “não necessita que cada um ame o seu vizinho” contraria um pensamento bastante corrente.
- (C) “mas que vivam com mútua tolerância” indica uma oposição à frase anterior.
- (D) “submetendo suas disputas a um acordo justo e pacífico” faz uma alusão a grandes organismos internacionais.
- (E) “não necessita que cada um ame seu vizinho” refere-se exclusivamente à última paz citada.

10

“*Esse mundo é o grande ateliê de um escultor. Somos as estátuas, e corre por aqui um intenso rumor de que alguns de nós um dia vamos ganhar a vida*”.

C. S. Lewis

O problema estrutural que ocorre nesse fragmento de texto diz respeito

- (A) ao emprego de demonstrativos.
- (B) à pontuação.
- (C) à seleção vocabular.
- (D) à regência.
- (E) à concordância.

11

Um texto publicitário da Febraban (Federação Brasileira de Bancos) diz o seguinte:

“*Ao escrever as regras da autorregulação bancária, os bancos criaram, proativamente, regras mais rigorosas do que as próprias leis do país.*

E o consumidor ganhou na prática:

- * *relações de consumo mais claras e transparentes;*
- * *regras para renegociação de dívidas;*
- * *iniciativas para prevenir a lavagem de dinheiro;*
- * *compromisso com a sustentabilidade ambiental*”. (adaptado)

O texto só **não** privilegia

- (A) a segurança dos negócios.
- (B) a preocupação moral.
- (C) o cuidado com o meio ambiente.
- (D) a preocupação com o consumismo.
- (E) as medidas anticorrupção.

12

Um candidato a um concurso público foi encarregado de escrever um texto cujo tema era a violência.

Selecionando previamente o que poderia ser enquadrado na tipologia da violência, o candidato apontou cinco fatores.

Assinale a opção que indica não um tipo de violência, mas uma causa.

- (A) Os abusos sexuais de pais contra filhas.
- (B) A presença de cenas violentas nos filmes e programas de TV.
- (C) As agressões de pais contra filhos.
- (D) As violências praticadas contra as mulheres.
- (E) Os assaltos à mão armada.

Raciocínio Lógico

13

Sobre uma mesa, há 3 caixas coloridas: uma verde, uma amarela e uma azul. Três bolas, numeradas com 1, 2 e 3, foram colocadas uma em cada caixa. Sabe-se que a bola 3 não está na caixa amarela e que a bola da caixa azul é a de número par.

Estão nas caixas verde, amarela e azul, nessa ordem, as bolas

- (A) 1, 2 e 3.
- (B) 1, 3 e 2.
- (C) 2, 1 e 3.
- (D) 3, 2 e 1.
- (E) 3, 1 e 2.

14

Suponha que você, a partir de um ponto inicial, desloque-se 3 metros para o norte; a seguir, 4 metros para o oeste; e, finalmente, 5 metros para o sul.

Em relação ao ponto inicial, sua posição final está

- (A) 4 metros a oeste e 2 metros ao sul.
- (B) 3 metros a oeste e 3 metros ao sul.
- (C) 2 metros a leste e 3 metros ao sul.
- (D) 4 metros a leste e 2 metros ao sul.
- (E) 3 metros a leste e 3 metros ao norte.

15

Maria, Carla e Daniela marcaram um encontro às 19h. Maria chegou às 18h48, Carla chegou 27 minutos depois de Maria e Daniela chegou às 19h12.

É correto afirmar que

- (A) Carla chegou antes de Daniela.
- (B) Carla chegou às 19h05.
- (C) Daniela chegou 7 minutos antes de Carla.
- (D) Daniela chegou 22 minutos depois de Maria.
- (E) Daniela chegou 3 minutos antes de Carla.

16

O Partido A tinha 9 deputados a mais do que o Partido B. Quatro deputados do Partido A se transferiram para o Partido B. Não houve outras transferências.

O Partido A agora tem a mais do que o Partido B

- (A) 5 deputados.
- (B) 4 deputados.
- (C) 3 deputados.
- (D) 2 deputados.
- (E) 1 deputado.

17

Pedro tem 33 moedas e um tabuleiro quadriculado com 5 linhas e 10 colunas. Após Pedro colocar todas as suas moedas no tabuleiro, uma por quadrícula, é verdade que

- (A) nenhuma linha do tabuleiro ficou vazia.
- (B) pelo menos uma linha do tabuleiro ficou vazia.
- (C) alguma linha do tabuleiro ficou com exatamente 3 moedas.
- (D) alguma linha do tabuleiro ficou com mais de 6 moedas.
- (E) alguma linha do tabuleiro ficou com exatamente 6 moedas.

18

Considere a sequência infinita de letras ONDINAONDINAONDINAOND...

A 2019ª letra dessa sequência é

- (A) O.
- (B) N.
- (C) D.
- (D) I.
- (E) N.

19

Dizemos que um número de 5 algarismos é “soterônês” se a soma de seus algarismos é 18, os 5 algarismos são diferentes e o número é ímpar.

Assinale a opção que mostra um número “soterônês”.

- (A) 23456.
- (B) 12456.
- (C) 65421.
- (D) 65321.
- (E) 54623.

20

Se **não** é verdade que “Todo soterônito é soterônoso”, então é correto afirmar que

- (A) “Nenhum soterônito é soterônoso”.
- (B) “Todo soterônoso é soterônito”.
- (C) “Algum soterônito não é soterônoso”.
- (D) “Algum soterônoso não é soterônito”.
- (E) “Algum soterônito é soterônoso”.

MÓDULO II

Informática Básica

21

O Windows 10 apresenta uma mensagem pedindo para o usuário escolher o que fazer com unidades removíveis quando um *pen drive* formatado com FAT-32 é inserido na interface USB do computador.

Considerando a configuração padrão, uma das opções válidas é:

- (A) ejetar dispositivo.
- (B) formatar *pen drive*.
- (C) mudar o nome lógico do *drive*.
- (D) abrir pasta para exibir arquivos.
- (E) trocar letra associada ao dispositivo.

22

Assinale a opção que contém somente dispositivos que podem ser utilizados para carga do sistema operacional.

- (A) Disco óptico, disco rígido e *pen drive*.
- (B) Disco óptico, *pen drive* e *plotter*.
- (C) Disco óptico, *pen drive* e *scanner*.
- (D) Disco rígido, *plotter* e *scanner*.
- (E) *Pen drive*, *plotter* e *scanner*.

23

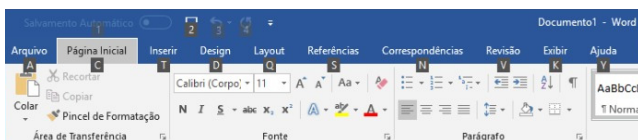
No Windows 10, o usuário abriu a “Lixeira” e moveu um arquivo de lá para a “Área de Trabalho”.

Assinale a opção que indica o resultado dessa operação.

- (A) O arquivo permanecerá na “Lixeira”, mas o seu “Local Original” passará a ser a “Área de Trabalho”.
- (B) O arquivo será recuperado e armazenado na “Área de Trabalho”.
- (C) O arquivo será recuperado e armazenado no “Local Original”.
- (D) O arquivo será recuperado e o Windows irá perguntar onde armazenar o arquivo.
- (E) O arquivo será removido definitivamente.

24

Observe a figura a seguir representando um fragmento de um aplicativo para Windows. Note os números e as letras apresentados junto às opções de menu.



Para fazer com que esses números e letras aparecessem, o usuário precisou

- (A) apertar a tecla “Windows” (também chamada de “Iniciar”).
- (B) apertar a tecla Alt.
- (C) apertar a tecla Ctrl.
- (D) configurar no “Painel de Controle” a opção de mostrar atalhos nos aplicativos.
- (E) instalar a última versão do pacote *Office* com opção de acessibilidade.

25

Analise a figura a seguir, que mostra algumas células do Excel do MS Office.

	A	B	C	D	E
1	1	2	4		
2	8	16	32		
3	64	128	256		

Se o conteúdo da célula G1 (mostrado como equação na figura) for copiado por meio de Ctrl+C e Ctrl+V para a célula H2, o valor da célula H2 será

- (A) 3.
- (B) 12.
- (C) 20.
- (D) 40.
- (E) 48.

26

Alguns dispositivos de armazenamento USB, conhecidos como *pen drives*, possuem uma chave de proteção contra gravação na parte lateral ou inferior.

A opção de proteção contra gravação é útil para

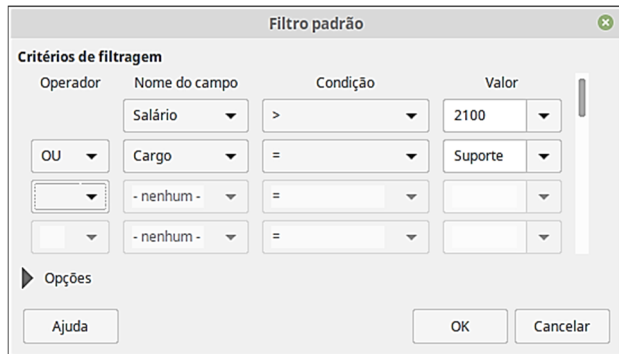
- (A) impedir a leitura dos arquivos deste *pen drive*.
- (B) impedir que o dispositivo seja reconhecido pelo computador hospedeiro.
- (C) impedir que os arquivos do *pen drive* sejam copiados para o computador hospedeiro.
- (D) impedir que um aplicativo seja executado a partir deste *pen drive*.
- (E) proteger o dispositivo contra a gravação de um vírus ou *malware*.

27

A figura a seguir mostra uma planilha criada no LibreOffice Calc contendo a relação de empregados de uma empresa.

	A	B	C
1	Nome	Cargo	Salário
2	João	Analista	R\$ 2.000,00
3	Pedro	Vendedor	R\$ 3.000,00
4	Daniel	Suporte	R\$ 1.500,00
5	Rafael	Suporte	R\$ 1.900,00
6	Thiago	Vendedor	R\$ 2.800,00
7	Paula	Analista	R\$ 2.200,00
8	Fernanda	Analista	R\$ 1.900,00
9	Cláudia	Analista	R\$ 3.000,00
10	Henrique	Suporte	R\$ 2.350,00
11	César	Vendedor	R\$ 5.000,00

A esta tabela foi aplicado o filtro padrão a seguir.



Assinale a opção que indica o número de empregados visíveis na planilha após a aplicação do filtro.

- (A) 6.
- (B) 7.
- (C) 8.
- (D) 9.
- (E) 10.

28

No Windows 10 BR, com as configurações padrão inalteradas, você mantém a tecla Shift pressionada enquanto exclui um arquivo por meio da tecla Delete.

Assinale a opção que indica o resultado desse procedimento.

- (A) O arquivo será enviado para a lixeira.
- (B) Será exibida uma caixa de diálogo perguntando se o arquivo deve ser enviado para a lixeira.
- (C) O arquivo será excluído sem passar pela lixeira.
- (D) Será exibida uma caixa de diálogo perguntando se o arquivo deve ser excluído permanentemente.
- (E) O arquivo será excluído temporariamente, passando pela lixeira.

29

O texto a seguir foi utilizado no LibreOffice Writer para gerar uma tabela por meio do recurso “Converter de texto para tabela”.

Fundo;mar/19;abr/19
 Devant Solidus Cash;0,50%;0,48%
 AF Invest Geraes 30;0,63%;0,54%
 Quasar Advantage FIRF LP;0,53%;0,47%
 ARX Hedge Deb Inc;0,52%;0,43%

A tabela resultante é mostrada a seguir.

Fundo	mar/19	abr/19
Devant Solidus Cash	0,50%	0,48%
AF Invest Geraes 30	0,63%	0,54%
Quasar Advantage FIRF LP	0,53%	0,47%
ARX Hedge Deb Inc	0,52%	0,43%

A opção do diálogo “Converter texto em tabela” utilizada foi:

- (A) Separar texto em: Tabulações.
- (B) Separar texto em: Ponto e vírgula.
- (C) Separar texto em: Parágrafo.
- (D) Separar texto em: Outra (espaço em branco).
- (E) Separar texto automaticamente.

30

Relacione as teclas de atalho do Windows 10 BR, listadas a seguir, às suas respectivas funções associadas.

1. Tecla do Windows + E
 2. Tecla do Windows + Ctrl + D
 3. Tecla do Windows + D
 4. Tecla do Windows + R
- () Abre o Explorador de Arquivos
 - () Cria uma nova área de trabalho virtual
 - () Executa um comando
 - () Mostra a área de trabalho

Assinale a opção que mostra a relação correta, na ordem apresentada.

- (A) 1, 2, 4 e 3
- (B) 2, 1, 4 e 3
- (C) 4, 1, 3 e 2
- (D) 3, 1, 2 e 4
- (E) 2, 4, 1 e 3

Atualidades

31

A respeito da iniciativa chinesa conhecida como "Um Cinturão e Uma Rota" (*One Belt One Road – Obor*), são corretas as afirmativas a seguir, à exceção de uma. Assinale-a.

- (A) Pode reconfigurar o comércio global e revolucionar as dinâmicas geopolíticas da Ásia e de seu entorno.
- (B) Inspira-se na histórica Rota da Seda, à qual acrescentou uma rota marítima para os países do Oceano Índico.
- (C) Anuncia a abertura da China para uma economia de mercado, passando a ser o primeiro país socialista com livre iniciativa.
- (D) Possui um eixo terrestre, da China até a Escandinávia, e um marítimo, do Sul da China ao Mediterrâneo.
- (E) Inclui países da Ásia, África e Europa, englobando boa parte do PIB mundial e da população do planeta.

32

Relacione os marcadores econômicos às suas respectivas definições.

1. Taxa de câmbio
 2. Taxa SELIC
 3. Risco de crédito
 4. Índice IPCA
- () Referência padrão para medir a inflação de produtos e serviços relativos ao consumo pessoal das famílias.
- () Taxa de juros básicos que indexa os empréstimos em dinheiro feitos pelo governo aos bancos.
- () Medida de confiança dos investidores internacionais na economia de um determinado país.
- () Valor pelo qual a moeda nacional é trocada por moedas estrangeiras, em geral pelo dólar.

Assinale a opção que apresenta a relação correta, segundo a ordem apresentada.

- (A) 1, 3, 2 e 4.
 (B) 1, 4, 2 e 3.
 (C) 4, 2, 3 e 1.
 (D) 2, 4, 3 e 1.
 (E) 4, 3, 2 e 1.

33



Marepe, *Doce céu de Santo Antônio*, performance de 2001
 (Foto: Marcondes Dourado)

Observe a sequência de fotos que registra a performance do artista baiano Marepe com chumaços de algodão doce.

A respeito dessa obra, analise as afirmativas a seguir.

- I. O movimento dos braços do artista mistura os planos da figura e do fundo, dando a impressão de que toca as nuvens.
- II. A sequência de fotos narra uma história poética, na qual o artista aparece como um gigante que se alimenta de nuvens.
- III. A performance produz uma metáfora visual baseada em coisas simples do cotidiano, como um doce e um céu azul com nuvens.

Está correto o que se afirma em

- (A) I, apenas.
 (B) I e II, apenas.
 (C) I e III, apenas.
 (D) II e III, apenas.
 (E) I, II e III.

34



Agência: Butter Berlim / Anunciante: ONG Bund - Amigos da Terra

A campanha publicitária da ONG alemã *Bund – Amigos da Terra*

- (A) alerta para a necessidade de zelar pelas condições de conservação dos veículos circulantes.
- (B) critica o uso de carros individuais como principal meio de transporte nas grandes cidades.
- (C) demonstra a ineficácia de iniciativas pessoais de preservação do meio-ambiente.
- (D) denuncia a ação poluente dos carros e o impacto da emissão de gás carbônico para o planeta.
- (E) estimula as pesquisas em busca de novas tecnologias em substituição aos motores a combustão.

35



“What is the color of my skin? / Qual é a cor da minha pele?”

Moisés Patrício e Paulo Nazareth, 2013, performance, fotografia, 30 x 30 cm.

Nessa ação performática, os artistas incentivam um debate sobre a sociedade brasileira e

- (A) promovem o etnocentrismo.
 (B) refletem sobre a discriminação racial.
 (C) reforçam a estratificação social.
 (D) protestam contra a exclusão linguística.
 (E) exaltam a pátria latina.

Legislação Específica

36

João, cidadão brasileiro, tomou conhecimento de que determinado agente público estava lesando o patrimônio público, o que ocorria com o desvio de vultosos recursos para sua conta particular.

Com o objetivo de responsabilizar o agente público, de modo que ele fosse obrigado a devolver os valores desviados, João, por intermédio de seu advogado, poderia ajuizar

- (A) Mandado de Injunção.
- (B) *Habeas Data*.
- (C) Mandado de Segurança.
- (D) Ação Popular.
- (E) Reclamação.

37

Maria soube da promulgação da Lei nº 123 e ficou preocupada com a possibilidade de que pudesse ser afetada a propriedade de determinado veículo automotor já incorporado à sua esfera jurídica em momento anterior.

Seu advogado tranquilizou-a, informando que o seu direito estava protegido pela “coisa julgada”, o que significa dizer que

- (A) houve uma decisão judicial em benefício de Maria, da qual não cabia mais recurso.
- (B) o direito de Maria estava materializado em uma “coisa”, que foi objeto de julgamento.
- (C) a Lei nº 123 não seria aplicada a “coisas”, somente a pessoas.
- (D) houve um julgamento que afastou as “coisas” do alcance da Lei nº 123.
- (E) a Lei nº 123 somente poderia modificar a decisão judicial que beneficiou Maria caso o previsse expressamente.

38

A Antônio, servidor público municipal, foi informado que o Município era responsável pelo atendimento de diversos direitos relacionados à seguridade social.

Ao questionar seu superior hierárquico sobre que direitos seriam estes, foi-lhe informado corretamente que, à luz da Constituição da República, eles abrangeriam

- (A) educação, previdência e assistência social.
- (B) saúde, segurança pública e seguros.
- (C) previdência, saúde e assistência social.
- (D) assistência social, seguros e educação.
- (E) segurança pública, previdência e saúde.

39

Ivo, servidor público do Município do Salvador, praticou a infração disciplinar de corrupção. Ocorre que o processo administrativo a que respondia somente foi concluído após a sua passagem para a inatividade.

Nesse caso, é correto afirmar que, de acordo com a sistemática da Lei Complementar nº 1/1991, do Município do Salvador, Ivo

- (A) não pode sofrer qualquer sanção disciplinar.
- (B) pode sofrer a sanção de demissão.
- (C) pode sofrer a sanção de disponibilidade.
- (D) pode sofrer a sanção de cassação de aposentadoria.
- (E) pode sofrer a sanção de extinção de vínculo.

40

Determinado Secretário do Município de Salvador solicitou que sua assessoria, considerando o disposto na Lei Orgânica do Município, analisasse a possibilidade de doação dos bens do Município, bem como a existência de balizamentos quanto aos beneficiários.

A assessoria respondeu corretamente que a doação

- (A) não pode ser realizada, pois a dilapidação do patrimônio municipal configura crime de responsabilidade do respectivo autor.
- (B) pode ser realizada e alcançar qualquer beneficiário, pessoa natural ou jurídica, pública ou privada, sendo exigida autorização legislativa.
- (C) pode ser realizada, mas somente pode beneficiar entes públicos, instituições de assistência social e cooperativas de interesse social, exigida a autorização legislativa.
- (D) pode ser realizada e alcançar qualquer beneficiário, pessoa natural ou jurídica, pública ou privada, não sendo exigida autorização legislativa.
- (E) pode ser realizada, mas somente pode beneficiar entes públicos, instituições de assistência social e cooperativas de interesse social, não sendo exigida a autorização legislativa.

MÓDULO III

Conhecimentos Específicos

41

O acidente é um evento que provoca lesão corporal ou perturbação funcional, podendo levar à morte ou à redução da capacidade da pessoa.

No que diz respeito às doenças, assinale a opção que indica as que são consideradas Acidente de Trabalho.

- (A) As que não produzam incapacidades laborativas.
- (B) As decorrentes de atividades laborais.
- (C) As inerentes aos grupos etários.
- (D) As degenerativas.
- (E) As endêmicas.

42

João trabalha em uma empresa como motorista. Em função dos prazos apertados para a entrega dos produtos, João dirigiu o caminhão por 16 horas consecutivas até sofrer um acidente. Diante do exposto, o fator que provocou esse acidente é

- (A) social.
- (B) físico.
- (C) psicológico.
- (D) fenotípico.
- (E) químico.

43

Em uma indústria hipotética, aconteceram 7 acidentes no mês de abril. Sabendo-se que, nesse mês, os trabalhadores foram expostos ao risco durante 20.000 horas, a taxa de frequência dos acidentes foi de

- (A) 250.
- (B) 350.
- (C) 150.
- (D) 225.
- (E) 325.

44

Em Higiene Ocupacional, os fatores ou agentes de risco podem ser classificados, de acordo com sua natureza ou suas características básicas, em

- (A) físicos, químicos e espaciais.
- (B) físicos, químicos e dinâmicos.
- (C) físicos, químicos e biológicos.
- (D) físicos e ergonômicos, apenas.
- (E) químicos e ergonômicos, apenas.

45

Higiene ocupacional é a ciência responsável por avaliar e analisar os riscos ocupacionais, assim como promover medidas corretivas e preventivas relacionadas ao ambiente de trabalho, assegurando a saúde do servidor.

Assinale a opção que apresenta os objetivos do PPRA.

- (A) Identificar e controlar os riscos provenientes do trabalho.
- (B) Avaliar e relatar os riscos provenientes do trabalho.
- (C) Antecipar, reconhecer, avaliar e controlar os riscos provenientes do trabalho.
- (D) Avaliar e mensurar os riscos provenientes do trabalho.
- (E) Antecipar, reconhecer e mensurar os riscos provenientes do trabalho.

46

O uso de Equipamento de Proteção Respiratória (EPR) tem como objetivo principal prevenir a exposição por inalação de substâncias perigosas e/ou ar com deficiência de oxigênio. O uso de EPR é considerado o último recurso na hierarquia das medidas de controle e deve ser adotado somente após cuidadosa avaliação dos riscos.

Sobre as situações em que ainda é necessário o uso do respirador, analise as afirmativas a seguir.

- I. A exposição por inalação está dentro dos limites de exposição e as medidas de controle necessárias não estão sendo implantadas.
- II. A exposição por inalação é ocasional e de curta duração, sendo impraticável a implantação de medidas de controle permanentes.
- III. A exposição por inalação excede os limites de exposição e as medidas de controle necessárias não estão sendo implantadas.

Está correto o que se afirma em

- (A) I, apenas.
- (B) II, apenas.
- (C) III, apenas.
- (D) I e II, apenas.
- (E) II e III, apenas.

47

Os funcionários que trabalham em empresas que desenvolvem o Programa de Conservação Auditiva (PCA) são beneficiados diretamente com a prevenção da perda auditiva. Os exames de rotina do PCA melhoram a qualidade de vida, diminuem o nervosismo, o estresse, as doenças cardiovasculares, as cefaleias, além de aumentar a habilidade de dar e receber orientações, utilizar o telefone, ouvir sinais de alerta (incêndio ou alertas de máquinas) e a prevenir problemas auditivos de origem não ocupacional.

Assinale a opção que indica a norma regulamentadora que norteia os parâmetros para implementação do PCA dentro da empresa.

- (A) NR 11.
- (B) NR 9.
- (C) NR 8.
- (D) NR 4.
- (E) NR 6.

48

Sobre as medidas de controle de que trata a NR 10, assinale a afirmativa correta.

- (A) As empresas estão obrigadas a manter esquemas bifilares atualizados das suas instalações elétricas, com as especificações do sistema de aterramento e demais equipamentos e dispositivos de proteção.
- (B) Nas intervenções em instalações elétricas devem ser adotadas medidas preventivas de controle do risco elétrico e de outros riscos adicionais, mediante técnicas de análise de risco, de forma a garantir a segurança e a saúde no trabalho.
- (C) As medidas de controle adotadas devem ser individualizadas e não relacionadas às demais iniciativas da empresa, no âmbito da preservação da segurança, da saúde e do meio ambiente do trabalho.
- (D) Os estabelecimentos com carga instalada superior a 100 kW devem constituir e manter o Prontuário de Instalações Elétricas.
- (E) O uso de EPI elimina a necessidade de se usar o EPC nos serviços nas instalações elétricas.

49

Sobre os trabalhos a quente que utilizem gases, assinale a afirmativa correta.

- (A) Pode ser utilizado qualquer gás inflamável.
- (B) Devem ser usados reguladores de pressão calibrados e em conformidade com o gás carbônico.
- (C) É permitida a instalação de adaptadores entre o cilindro e o regulador de pressão.
- (D) Devem seguir as determinações indicadas na Ficha de Informação de Segurança de Produtos Químicos – FISPQ.
- (E) No caso de equipamento de oxiacetileno, não deve ser utilizado dispositivo contra retrocesso de chama nas alimentações da mangueira e do maçarico.

50

Leia o trecho a seguir.

De acordo com a NR 35, considera-se trabalho em altura toda atividade executada _____ do nível inferior em que haja risco de queda. Considera-se trabalhador capacitado para o trabalho em altura aquele que foi submetido e aprovado em treinamento, teórico e prático, com carga horária mínima de _____.

Assinale a opção que completa de forma correta as lacunas do trecho acima.

- (A) a partir de 1,50m – 8 horas.
- (B) acima de 3 metros – 36 horas.
- (C) acima de 2 metros – 40 horas.
- (D) acima de 2 metros – 8 horas.
- (E) acima de 3 metros – 40 horas.

51

A Segurança do Trabalho tem por objetivo proteger o trabalhador em seu ambiente de trabalho, buscando minimizar e/ou evitar acidentes de trabalho e doenças ocupacionais. No Brasil, a segurança e a saúde ocupacionais estão regulamentadas em uma Portaria do Ministério do Trabalho e Emprego (MTE) e na Norma Regulamentadora nº 4 (NR-4).

De acordo com o que preconiza a NR-4, os Serviços Especializados em Engenharia de Segurança e em Medicina do Trabalho devem ser compostos por

- (A) Médico do Trabalho, Engenheiro de Segurança do Trabalho, Técnico de Segurança do Trabalho, Enfermeiro do Trabalho e Auxiliar ou Técnico em Enfermagem do Trabalho.
- (B) Médico do Trabalho, Engenheiro Civil, Técnico de Segurança do Trabalho, Enfermeiro do Trabalho e Auxiliar ou Técnico em Enfermagem do Trabalho.
- (C) Médico do Trabalho, Engenheiro de Segurança do Trabalho, Técnico em Edificações, Enfermeiro do Trabalho e Auxiliar ou Técnico em Enfermagem do Trabalho.
- (D) Médico do Trabalho, Engenheiro de Segurança do Trabalho, Técnico de Segurança do Trabalho, Fisioterapeuta do Trabalho e Auxiliar ou Técnico em Fisioterapia do Trabalho.
- (E) Médico do Trabalho, Engenheiro de Segurança do Trabalho, Técnico em Enfermagem, Enfermeiro do Trabalho e Auxiliar ou Técnico em Edificações.

52

Segundo a NR-23, todos os estabelecimentos, mesmo os dotados de chuveiros automáticos, deverão ser providos de extintores portáteis, a fim de combater o fogo em seu início. Tais aparelhos devem ser apropriados à classe do fogo a extinguir.

O extintor tipo dióxido de carbono deve ser usado

- (A) nos fogos das Classes B e C. As unidades de tipo maior, de 60 a 150 kg, devem ser montadas sobre rodas.
- (B) nos fogos Classe A, com capacidade variável entre 10 (dez) e 18 (dezoito) litros.
- (C) preferencialmente, nos fogos das Classes B e C, embora possa ser usado também nos fogos de Classe A, em seu início.
- (D) somente no fogo de categoria A.
- (E) nos fogos de Classe A e B.

53

Um trabalhador sofreu um acidente dentro da empresa em seu horário de trabalho, mas o acidente não foi classificado como acidente de trabalho.

Diante do exposto, pode-se concluir que o acidente foi decorrente de

- (A) agressão de um companheiro de serviço.
- (B) imperícia no exercício de sua função.
- (C) inundação, desabamento ou incêndio.
- (D) ofensa física intencional por motivo de disputa relacionada ao trabalho.
- (E) sabotagem ou terrorismo.

54

Dos equipamentos de proteção listados a seguir, assinale a opção que indica o equipamento de proteção coletiva.

- (A) Protetor auricular.
- (B) Luva.
- (C) Calçado.
- (D) Respirador de fuga.
- (E) Chuveiro lava-olhos.

55

Os Equipamentos de Proteção Individual - EPI - devem ser fornecidos aos empregados pelas empresas sempre que necessário.

No que se refere aos EPI's, assinale a afirmativa correta.

- (A) O fornecimento dos EPI's deve ocorrer na implantação das medidas de proteção coletiva.
- (B) O fornecimento dos EPI's substitui as medidas de proteção coletiva.
- (C) Os EPI's importados podem ser utilizados sem restrições.
- (D) O uso dos EPI's é obrigatório somente para emergências.
- (E) As empresas não podem produzir seus EPI's.

56

Um funcionário de uma empresa contraiu dengue após ser transferido para uma nova filial, onde há uma epidemia de dengue. Nessa localidade, sua função é realizar trabalhos de campo voltados ao levantamento das condições socioeconômicas da população.

Diante do exposto, analise as afirmativas a seguir.

- I. A doença contraída pelo funcionário não pode ser caracterizada como doença do trabalho, porque é endêmica na localidade em que ele trabalha.
- II. A doença contraída pelo funcionário é caracterizada como doença do trabalho.
- III. A doença não pode ser caracterizada por doença do trabalho, uma vez que a dengue é uma doença característica da faixa etária do funcionário.

Está correto o que afirma em

- (A) I, apenas.
- (B) II, apenas.
- (C) III, apenas.
- (D) I e III, apenas.
- (E) II e III, apenas.

57

O Perfil Profissiográfico Previdenciário – PPP - constitui-se em um documento histórico-laboral do trabalhador que reúne, entre outras informações, dados administrativos, registros ambientais e resultados de monitoração biológica, durante todo o período em que este exerceu suas atividades na respectiva empresa.

O PPP tem por objetivo primordial

- (A) fornecer informações para o empregador quanto às condições ambientais de trabalho.
- (B) fornecer informações para o trabalhador quanto ao tempo de serviço para a aposentadoria.
- (C) fornecer informações para o trabalhador quanto às condições ambientais de trabalho, principalmente no requerimento de aposentadoria especial.
- (D) fornecer informações ao empregador quanto ao estado atual de saúde do empregado a ser contratado.
- (E) fornecer informações para o MTE, quanto às condições de trabalho do trabalhador.

58

A NR 17 visa a estabelecer parâmetros que permitam a adaptação das condições de trabalho às características psicofisiológicas dos trabalhadores, de modo a proporcionar um máximo de conforto, segurança e desempenho eficiente.

Sobre o mobiliário nos postos de trabalho, assinale a afirmativa correta.

- (A) Sempre que o trabalho puder ser executado na posição em pé, o posto de trabalho deve ser planejado ou adaptado para esta posição.
- (B) As cadeiras e mesas serão fixas, sem regulagens de altura ou encosto.
- (C) Para as atividades em que o trabalho deva ser realizado de pé, devem ser colocados assentos que possam ser utilizados por todos os trabalhadores durante as pausas.
- (D) Quando mulheres e trabalhadores jovens forem designados para o transporte manual de cargas, o peso mínimo dessas cargas deve ser nitidamente inferior àquele admitido para os homens.
- (E) O trabalhador, sem necessidade de treinamento prévio, poderá movimentar carga somente dentro da empresa.

59

Nos locais de trabalho em que são executadas atividades que exijam solicitação intelectual e atenção constantes, como salas de controle, laboratórios, salas de desenvolvimento ou análise de projetos, dentre outros, são recomendadas as seguintes condições de conforto:

- (A) níveis de ruído de acordo com o estabelecido na NBR 10122, norma brasileira registrada no INMETRO.
- (B) índice de temperatura efetiva entre 20° C e 23° C.
- (C) velocidade do ar não superior a 0,25m/s.
- (D) umidade relativa do ar não inferior a 20 (vinte) por cento.
- (E) índice de temperatura efetiva entre 23° C e 25° C.

60

A Comissão Interna de Prevenção de Acidentes - CIPA - tem como objetivo a prevenção de acidentes e doenças decorrentes do trabalho, de modo a tornar compatível, permanentemente, o trabalho com a preservação da vida e a promoção da saúde do trabalhador.

Em relação à conformidade do mobiliário dos postos de trabalho, a CIPA deve seguir a

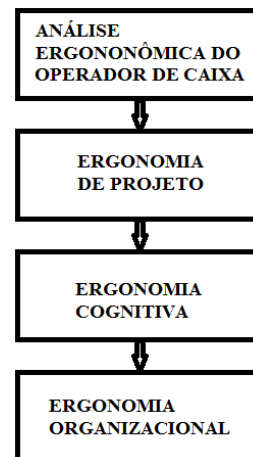
- (A) NR 5.
- (B) NR 7.
- (C) NR 9.
- (D) NR 17.
- (E) NR 4.

Questão Discursiva

1

Os profissionais operadores de caixa (*checkout*) em supermercados enfrentam muitas dificuldades no que diz respeito ao posicionamento físico propiciados pelas estações de trabalho, tendo em vista que a grande maioria das lojas não prevê um estudo ergonômico adequado.

Considere o fluxograma a seguir, a fim de estabelecer uma diretriz para a realização do estudo ergonômico em uma estação de *checkout* de um supermercado.



- A) Explique de que maneira cada um dos elementos do fluxograma contribui para a melhoria das condições de trabalho dos operadores de caixa.
- B) Estabeleça elos de ligação entre os elementos.

Realização

