

ENGENHEIRO - QUÍMICO

Tipo 1 – BRANCA



SUA PROVA

- As questões objetivas têm cinco alternativas de resposta (A, B, C, D, E) e somente uma delas está correta;
- Além deste caderno de questões, contendo sessenta questões objetivas e o tema de redação, você receberá do Fiscal de Sala:
 - o cartão-resposta das questões objetivas;
 - a folha de texto definitivo para a redação.



TEMPO

- Você dispõe de **4h** para a realização da prova, já incluído o tempo para a marcação do cartão-resposta e preenchimento da folha de texto definitivo;
- **3 horas** após o início da prova é possível retirar-se da sala, sem levar o caderno de questões.
- Faltando **30 minutos** para o final da prova é possível retirar-se da sala levando o caderno de questões.



NÃO SERÁ PERMITIDO

- Qualquer tipo de comunicação entre os candidatos durante a aplicação da prova;
- Levantar da cadeira sem autorização do Fiscal de Sala;
- Usar o sanitário ao término da prova, após deixar a sala.



INFORMAÇÕES GERAIS

- Verifique se seu caderno está completo, sem repetição de questões ou falhas. Caso contrário, notifique imediatamente o Fiscal da Sala, para que sejam tomadas as devidas providências;
- Confira seus dados pessoais, especialmente nome, número de inscrição e documento de identidade e leia atentamente as instruções para preencher o cartão-resposta;
- Use somente caneta esferográfica, fabricada em material transparente, com tinta preta ou azul;
- Assine seu nome apenas no(s) espaço(s) reservado(s);
- Confira sua cor e tipo do caderno de questões. Caso tenha recebido caderno de cor ou tipo **diferente** do impresso em seu cartão-resposta, o fiscal deve ser **obrigatoriamente** informado para o devido registro na Ata da Sala;
- Reserve tempo suficiente para o preenchimento do seu material. O preenchimento é de sua responsabilidade e não será permitida a troca do cartão-resposta ou folha de texto definitivo em caso de erro;
- Para fins de avaliação, serão levadas em consideração apenas as marcações realizadas no cartão-resposta e na folha de texto definitivo;
- Os candidatos serão submetidos ao sistema de detecção de metais quando do ingresso e da saída de sanitários durante a realização das provas;
- **Boa sorte!**

Língua Portuguesa

1

Um grande filósofo disse:

“Nem todo problema que se tem com a namorada se deve necessariamente ao modo capitalista de produção”.

Com essa frase, o autor pretende criticar

- (A) o sistema capitalista.
- (B) a mistura indevida de planos diferentes.
- (C) o envolvimento pessoal na argumentação.
- (D) a visão sentimental da economia capitalista.
- (E) a indicação de uma só causa para todos os fatos.

As DUAS questões a seguir devem ser respondidas a partir do fragmento a seguir.

“O boi, substantivo masculino, com que nós acudimos às urgências do estômago, pai do rosbife, rival da garoupa, entre pacífico e filantrópico, não é justo que viva... isto é, que morra obscuramente nos matadouros.” (Machado de Assis)

2

Considerando esse fragmento como argumentativo, sua tese seria:

- (A) Devemos acabar com os matadouros.
- (B) Precisamos modificar nossa alimentação.
- (C) Não é justo matar o boi nos matadouros.
- (D) É justo matar bois para a alimentação humana.
- (E) Deve-se usar carne e peixe em nossa alimentação.

3

Sobre o fragmento, assinale a afirmação **inadequada**.

- (A) “isto é” foi empregado para justificar um termo anterior.
- (B) a preposição “com” mostra valor de “meio ou instrumento”.
- (C) os substantivos “pai” e “rival” estão empregados em sentido figurado.
- (D) “substantivo masculino” indica a classe e o gênero do vocábulo “boi”.
- (E) justifica-se o adjetivo “filantrópico” pelo fato de o boi ceder sua carne para a alimentação humana.

4

Os segmentos machadianos a seguir têm o amor por tema. Assinale a opção que mostra uma visão positiva desse sentimento.

- (A) “O amor é cego.”
- (B) “O amor é fecundo de ilusões.”
- (C) “Os amores novos fazem esquecer os velhos.”
- (D) “O amor para mim é o idílio de um semestre, um curto período sem chamuscas nem lágrimas.”
- (E) “O amor não nasce de uma circunstância fortuita, nem de uma longa intimidade, é uma harmonia entre duas naturezas, que se reconhecem e completam.”

5

“Os deuses certamente não revelaram tudo aos mortais desde o princípio, mas, procurando os homens encontram pouco a pouco o melhor.” (Xenófanes, poeta e filósofo grego)

As opções a seguir mostram mudanças vocabulares que mantêm seu sentido original, **à exceção de uma**. Assinale-a.

- (A) certamente / com certeza.
- (B) desde o princípio / primitivamente.
- (C) mas / todavia.
- (D) procurando / com a procura.
- (E) pouco a pouco / paulatinamente.

6

“São todos descobridores ruins, que pensam que não há terra quando conseguem ver apenas o mar.” (Francis Bacon)

Assinale a opção que mostra um problema lógico desse pensamento.

- (A) Não conseguir distinguir causa e consequência.
- (B) Ser incapaz de organizar cronologicamente os fatos.
- (C) Fazer uma dedução fundamentada em falsa oposição.
- (D) Não levar em conta o conhecimento tradicional.
- (E) Desacreditar as opiniões de autoridades.

7

“A ciência é a inteligência do mundo; a arte, o seu coração”.

(M. Gorki)

A oposição entre ciência e arte nessa frase está, respectivamente, nos seguintes valores:

- (A) entendimento X sentimento.
- (B) observação X interpretação.
- (C) repetição X criatividade.
- (D) fatos X hipóteses.
- (E) verdade X ilusão.

8

Alguém definiu o especialista como um homem que conhece cada vez mais sobre cada vez menos; essa definição mostra um problema do conhecimento moderno, que é

- (A) a falta de critério na análise dos fatos.
- (B) a incapacidade dos estudiosos de hoje.
- (C) a impossibilidade de conhecer-se a realidade.
- (D) a ausência de um estudo verdadeiro dos fatos.
- (E) a enorme quantidade de informações sobre cada tema.

9

Todas as frases a seguir estruturaram-se em duas partes. Assinale a opção em que a segunda parte mostra uma intensificação da primeira.

- (A) “Valoriza-te para mais; os outros se ocuparão em abaixar o preço.”
- (B) “Quem conhece os outros é sábio; quem conhece a si mesmo é iluminado.”
- (C) “Diz-se da melhor companhia: sua conversa é instrutiva, seu silêncio, formativo.”
- (D) “Nenhum homem é uma ilha autossuficiente; cada um é parte do continente.”
- (E) “O problema da vida é este: como romper a própria solidão, como comunicar-se com os outros.”

10

“Um governo que se sustenta é um governo que cai.”

Assinale a opção que mostra um problema de estruturação da afirmativa acima.

- (A) A repetição do termo “governo”.
- (B) A ambiguidade do termo “se sustenta”.
- (C) O duplo sentido da expressão “que cai”.
- (D) A ausência de vírgula antes da oração “que cai”.
- (E) A falta de vírgula antes da oração “que se sustenta”.

11

Leia o fragmento a seguir.

“A história é a mãe da verdade, depositária das ações, testemunha do passado, vida da memória, anúncio do presente.”

Assinale a opção que apresenta os dois termos que desempenham a mesma função, por serem complementos do vocábulo anterior.

- (A) a verdade / das ações.
- (B) das ações / do passado.
- (C) da verdade / da memória.
- (D) do passado / do presente.
- (E) da memória / do presente.

12

Assinale a opção que apresenta a frase inteiramente construída com vocábulos em sentido lógico, não figurado.

- (A) “Os olhos são a morada da vergonha.”
- (B) “A juventude é a embriaguez sem vinho.”
- (C) “A velhice é o abrigo de todos os males.”
- (D) “Realizando coisas justas, tornamo-nos justos.”
- (E) “A consciência é um Deus para todos os mortais.”

13

A frase a seguir que foi estruturada a partir de outra bastante conhecida (intertextualidade) é:

- (A) “A pressa é inimiga da refeição.”
- (B) “Quem não fez nada, não sabe nada.”
- (C) “A pressa gera o erro em todas as coisas.”
- (D) “Em toda iniciativa pensa bem aonde queres chegar.”
- (E) “Sem entusiasmo nunca se realizou nada de grandioso.”

14

Assinale a opção que apresenta a frase em que o termo “onde” não é empregado corretamente.

- (A) “Não sei mais onde amarrei meu burro.”
- (B) “Onde falta o dinheiro, tudo desmorona.”
- (C) “Nunca se vai ao lugar onde mora a fera.”
- (D) “Em toda iniciativa pensa bem onde queres chegar.”
- (E) “Quem tem fome não tem escolha: seu espírito não vem de onde ele gostaria, mas da fome.”

15

“Os negociantes não têm amigos, apenas clientes.”

Nesta frase há uma ligação semântica entre negócios/clientes, ligação essa que não se repete de forma adequada em

- (A) Santos têm devotos.
- (B) Ladrões têm furtos.
- (C) Políticos têm eleitores.
- (D) Escritores têm leitores.
- (E) Artistas têm admiradores.

Raciocínio Lógico-Matemático

16

Euclides dispõe de 20 varetas cujos comprimentos, em centímetros, são, respectivamente, os números inteiros de 1 a 20. Ele pega as varetas de comprimentos 6 cm e 13 cm e deseja formar um triângulo em que essas varetas sejam dois dos lados. Entre as varetas restantes, o número de escolhas que Euclides tem para o terceiro lado do triângulo é

- (A) 18.
- (B) 12.
- (C) 11.
- (D) 10.
- (E) 9.

17

Em um supermercado há uma promoção de chocolates: cada chocolate, vendido separadamente, custa R\$ 8,00; pacotes com 2 chocolates, custam R\$ 15,00 e pacotes com 4 chocolates, custam R\$ 28,00. Com R\$ 250,00, compra-se o número máximo de chocolates que se pode comprar nessa promoção pagando a menor quantia possível.

Sobram

- (A) R\$ 2,00.
- (B) R\$ 3,00.
- (C) R\$ 4,00.
- (D) R\$ 5,00.
- (E) R\$ 6,00.

18

Joana deu $\frac{1}{4}$ das cartas que possuía para Ângela. Das cartas que sobraram, ela deu $\frac{1}{3}$ para Roberto. Finalmente, das cartas restantes ela deu a metade para Júlia.

Em relação à quantidade inicial, assinale a opção que indica a quantidade de cartas, em porcentagem, que sobrou para Joana.

- (A) 10.
- (B) 20.
- (C) 25.
- (D) 30.
- (E) 35.

19

Mário pensou em um número de dois algarismos, multiplicou por 3, somou 17, inverteu a ordem dos algarismos e obteve um número do conjunto {63, 64, 65, 66, 67}.

O número que Mário pensou foi

- (A) 12.
- (B) 13.
- (C) 14.
- (D) 15.
- (E) 16.

20

Carlos tem cartas azuis e vermelhas, apenas. O número de cartas azuis é o triplo do número de cartas vermelhas. Carlos dá 8 cartas de cada cor para sua irmã Glória. Agora, o número de cartas azuis que Carlos tem é o quádruplo do número de cartas vermelhas.

O número de cartas azuis que Carlos tem agora é

- (A) 25.
- (B) 30.
- (C) 35.
- (D) 40.
- (E) 45.

21

Trinta estudantes praticam judô, natação e basquete, sendo que todos eles praticam pelo menos um desses esportes. Há 15 que praticam judô, 17 que praticam natação e 12 que praticam basquete. Há 10 estudantes que praticam pelo menos dois esportes.

O número de estudantes que praticam os três esportes é

- (A) 4.
- (B) 5.
- (C) 6.
- (D) 7.
- (E) 8.

22

Considere a sentença:

“Qualquer que seja x real, se $x > 0$, então $x^2 \geq x$ ”.

Um contraexemplo para essa sentença é

- (A) $x = -1$.
- (B) $x = 0$.
- (C) $x = 1$.
- (D) $x = 0,5$.
- (E) $x = 1,5$.

23

Um professor afirmou:

“*Quem acertar todas as questões de múltipla-escolha vai tirar conceito A.*”

Alberto é um de seus alunos.

Uma consequência lógica da sentença do professor é:

- (A) se Alberto tirou conceito A, então ele acertou todas as questões de múltipla-escolha.
- (B) se Alberto não tirou conceito A, então ele acertou todas as questões de múltipla-escolha.
- (C) se Alberto não tirou conceito A, então ele errou todas as questões de múltipla-escolha.
- (D) se Alberto não tirou conceito A, então ele errou exatamente uma questão de múltipla-escolha.
- (E) se Alberto não tirou conceito A, então ele errou pelo menos uma questão de múltipla-escolha.

24

Uma lista de 2021 números inteiros positivos tem uma única moda (estatística) que ocorre exatamente 15 vezes.

O número mínimo de inteiros distintos que ocorre nessa lista é

- (A) 141.
- (B) 142.
- (C) 143.
- (D) 144.
- (E) 145.

25

Seja **A** a área de um quadrado. Aumenta-se cada lado do quadrado original de 25%. Seja **N** a área do novo quadrado.

É correto afirmar que

- (A) $16N = 25A$.
- (B) $25N = 16A$.
- (C) $4N = 5A$.
- (D) $5N = 4A$.
- (E) $9N = 16A$.

26

Duas urnas contêm a mesma quantidade de fichas. Nas duas urnas só há fichas vermelhas ou azuis. Na primeira urna, a razão do número de fichas vermelhas para o número de fichas azuis é de 5:1 e, na segunda urna, de 3:1.

No total, há 45 fichas azuis.

O total de fichas vermelhas é

- (A) 180.
- (B) 175.
- (C) 171.
- (D) 165.
- (E) 162.

27

Considere a lista de cinco números reais: 2, 9, 4, 10, x .

Sabe-se que a mediana desses números é igual à média deles.

A soma dos possíveis valores de x é:

- (A) 22,5.
- (B) 21,25.
- (C) 20,75.
- (D) 19,5.
- (E) 17,5.

28

Três dados, um vermelho, um azul e um amarelo, são lançados. O número de possibilidades de que a soma dos três números sorteados seja igual a 7 é

- (A) 15.
- (B) 14.
- (C) 13.
- (D) 12.
- (E) 10.

29

Marcela é praticante de tiro ao alvo. Quando ela acerta um tiro no alvo, a probabilidade de ela acertar o tiro seguinte é de 90%. Quando ela erra um tiro, a probabilidade de ela acertar o próximo tiro é de 80%.

Hoje, Marcela errou o primeiro tiro. A probabilidade de ela acertar o terceiro tiro é de

- (A) 80%.
- (B) 84%.
- (C) 86%.
- (D) 88%.
- (E) 90%.

30

Os 16 números inteiros de -6 até 9 são arrumados em uma tabela 4×4 , de tal maneira que as somas dos números em cada linha sejam todas iguais.

O valor dessa soma que é sempre a mesma é

- (A) 4.
- (B) 5.
- (C) 6.
- (D) 7.
- (E) 8.

Noções de Informática

31

Considere um disco rígido (HD) com capacidade de armazenagem de 1TB, inteiramente vazio, e uma coleção de 500.000 arquivos que devem ser copiados para esse disco. Sabe-se que o tamanho médio desses arquivos é aproximadamente X .

Assinale o valor máximo de X para que haja espaço no disco para todos esses arquivos.

- (A) 256KB
- (B) 512KB
- (C) 1MB
- (D) 2MB
- (E) 4MB

32

No Windows, o usuário de nome *Fulano* criou uma pasta denominada *Seguros* no seu *desktop*, na qual armazenou arquivos variados.

No contexto do aplicativo *Explorador de Arquivos* do Windows, assinale o endereço que corresponde à referida pasta.

- (A) C:\Users\Fulano\Desktop\Seguros
- (B) C:\Fulano\Desktop\Seguros
- (C) C:\Desktop\Fulano\Seguros
- (D) C:\Users\Fulano\Seguros
- (E) C:\Fulano\Seguros

33

No contexto do Windows 10, assinale a opção que contém um nome de arquivo inválido.

- (A) [novo
- (B) (novo)
- (C) muito*novo
- (D) muito_novo
- (E) muito-novo

34

Rodrigo preparou um documento no LO Writer, no qual inseriu trechos oriundos da Internet, copiando e colando, sendo que alguns desses trechos tinham diferentes estilos de formatação. Para manter a uniformidade do documento, Rodrigo executou as operações usando o recurso do Writer denominado

- (A) Alterar Estilos.
- (B) Colar Especial.
- (C) Copiar Especial.
- (D) Converter em Texto.
- (E) Pincel de Formatação.

35

No contexto das interfaces de servidores de *e-mail*, assinale a opção que descreve corretamente o significado do termo *rascunho*.

- (A) Uma mensagem deletada.
- (B) Uma mensagem caracterizada como *spam*.
- (C) Uma mensagem que ainda não foi enviada.
- (D) Uma mensagem contendo pendências ortográficas.
- (E) Uma mensagem recebida que tenha sido marcada como *no reply*.

36

Considere uma planilha que exibe nas células B1 e B2, respectivamente, os valores 36 e 14.

Nessas células foram digitadas, na ordem, as fórmulas

=SOMA(A1:A3)
=SE(B1>20;A3;A1)

Assinale a opção que mostra os valores que devem estar contidos nas células de A1 até A3, na ordem.

- (A) 10; 14; 12
- (B) 10; 15; 11
- (C) 12; 10; 14
- (D) 12; 14; 10
- (E) 15; 15; 6

37

Gabriela preparou uma planilha no MS Excel para lançar as notas de seus alunos. Durante a digitação das notas, Gabriela gostaria de controlar automaticamente as seguintes regras:

1. Aceitar somente notas entre 0 e 10;
2. Ressaltar, com cor diferenciada, as notas menores que 5.

Assinale a opção que indica os recursos do MS Excel que Gabriela deverá usar para obter esse controle.

- (A) Validação de dados / Formatação condicional.
- (B) Formatação condicional / Classificar e Filtrar.
- (C) Verificação de erros / Teste de hipóteses.
- (D) Teste de hipóteses / Verificação de erros.
- (E) Classificar e Filtrar / Validação de dados.

38

Em alguns documentos, é preciso incluir quebras de texto forçadas. Um exemplo disso é iniciar um capítulo em uma nova página.

Com referência às características das quebras de seção no MS Word, analise as afirmativas a seguir.

- I. Possibilitam alterar o conteúdo de cabeçalhos e rodapés.
 - II. Permitem quebras de avanço para páginas ímpares ou pares.
 - III. Permitem que uma nova seção inicie na página corrente.
- Está correto o que se afirma em
- (A) I, somente.
 - (B) II, somente.
 - (C) III, somente.
 - (D) II e III, somente.
 - (E) I, II e III.

39

No contexto das planilhas eletrônicas, analise a fórmula a seguir.

=B\$2+\$C3

Considere que a célula localizada na primeira coluna da primeira linha de uma planilha, contendo a fórmula acima, tenha sido copiada e colada na célula localizada na terceira coluna da décima linha.

Ao final da operação de copiar e colar, a fórmula na célula que recebeu a cópia será

- (A) =B2+C3
- (B) =D\$2+\$C12
- (C) =D\$2+\$C13
- (D) =D\$3+\$C12
- (E) =D\$3+\$C13

40

No MS Power Point, a guia *Transições* permite

- (A) a formatação do *Slide* Mestre.
- (B) o uso de áudio e vídeo nos *slides*.
- (C) preparar um arquivo de apresentação do PP.
- (D) atualizar os recursos utilizados em versões antigas.
- (E) definir eventuais efeitos gráficos na troca de *slides*.

Conhecimentos Específicos

41

Sobre a tabela periódica, importante ferramenta para organizar os elementos, assinale a afirmativa correta.

- (A) As propriedades dos elementos variam ao longo do grupo.
- (B) O Lítio e o Sódio estão em grupos diferentes e no mesmo período.
- (C) Elementos de períodos diferentes possuem propriedades semelhantes.
- (D) Os elementos da mesma coluna possuem propriedades semelhantes.
- (E) Os elementos da mesma linha contêm o mesmo número de elétrons em seus orbitais do nível mais externo.

42

A respeito das ligações químicas entre átomos e moléculas, assinale a afirmativa correta.

- (A) As substâncias líquidas com baixo ponto de ebulição possuem ligações covalentes fortes de suas moléculas isoladas.
- (B) A boa condutividade térmica dos metais é devido às ligações iônicas de seus átomos.
- (C) As substâncias com ligação iônica possuem baixo ponto de fusão.
- (D) As ligações covalentes intermoleculares são ligações fortes.
- (E) O grafite possui moléculas isoladas com ligações fortes.

43

Durante a reação química do $\text{AgNO}_3(\text{aq}) + \text{NaCl}(\text{aq})$, ocorre uma reação de precipitação.

Assinale a opção que indica a equação iônica completa dessa reação.

- (A) $\text{Ag}^+(\text{aq}) + \text{Cl}^-(\text{aq}) \rightarrow \text{AgCl}(\text{s})$
- (B) $\text{AgNO}_3(\text{aq}) + \text{NaCl}(\text{aq}) \rightarrow \text{AgCl}(\text{s}) + \text{NaNO}_3(\text{aq})$.
- (C) $\text{AgNO}_3(\text{aq}) + \text{NaCl}(\text{aq}) \rightarrow \text{AgCl}(\text{aq}) + \text{NaNO}_3(\text{s})$.
- (D) $\text{Ag}^+(\text{aq}) + \text{NO}_3^-(\text{aq}) + \text{Na}^+(\text{aq}) + \text{Cl}^-(\text{aq}) \rightarrow \text{AgCl}(\text{aq}) + \text{Na}^+(\text{s}) + \text{NO}_3^-(\text{aq})$.
- (E) $\text{Ag}^+(\text{aq}) + \text{NO}_3^-(\text{aq}) + \text{Na}^+(\text{aq}) + \text{Cl}^-(\text{aq}) \rightarrow \text{AgCl}(\text{s}) + \text{Na}^+(\text{aq}) + \text{NO}_3^-(\text{aq})$.

44

A respeito dos ácidos e das bases, analise as afirmativas a seguir.

- I. A eletronegatividade interfere na força de um oxiácido.
- II. Ácidos podem ser definidos como doadores de prótons e bases como aceitadores de prótons.
- III. Num grupo da tabela periódica, a basicidade dos óxidos tende a aumentar de baixo para cima.

Está correto o que se apresenta em

- (A) I, somente.
- (B) I e II, somente.
- (C) I e III, somente.
- (D) II e III, somente.
- (E) I, II e III.

45

O processo de restauro da ductibilidade, quando um metal trabalhado a frio é aquecido, de modo que ocorram algumas mudanças nas propriedades desse metal, sem, contudo, apresentar alterações microestruturais pronunciadas, é denominado

- (A) precipitação.
- (B) recuperação.
- (C) encruamento.
- (D) recristalização.
- (E) crescimento de grãos.

46

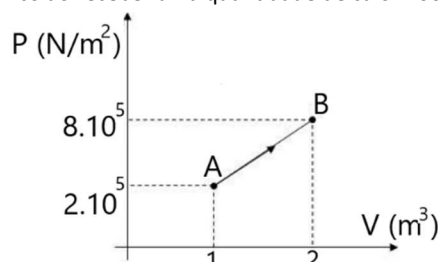
Um vaso de volume V contém um gás ideal a 100 K e 10 atm. Esse vaso é conectado a um vaso de volume $4V$ que contém o mesmo gás a uma pressão de 2 atm. e 800 K.

Sabendo-se que a temperatura de cada vaso é mantida constante, a pressão final em cada vaso, após a mistura será, em atm., igual a

- (A) 3,45.
- (B) 5,22.
- (C) 6,00.
- (D) 7,33.
- (E) 9,50.

47

O gráfico a seguir apresenta a transformação de um gás ideal monoatômico ao receber uma quantidade de calor 2000 kJ.

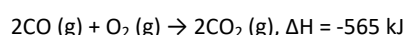
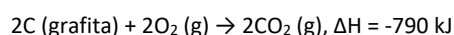


A variação de energia interna do gás, em kJ, é igual a

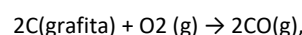
- (A) 500.
- (B) 1000.
- (C) 1250.
- (D) 1500.
- (E) 2000.

48

Considere as equações a seguir com suas respectivas variações de Entalpia.



A variação da Entalpia da equação

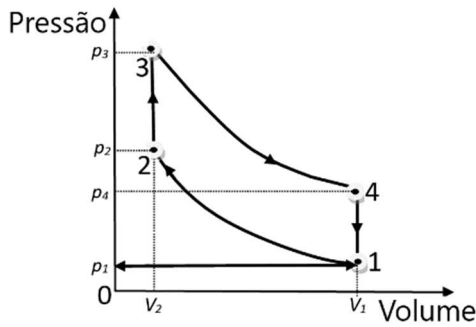


em kJ, é igual a

- (A) -1355.
- (B) -790.
- (C) -225.
- (D) +225.
- (E) +565.

49

A figura a seguir apresenta o Ciclo Otto com seus diversos processos.



A respeito dos processos desse ciclo, assinale a afirmativa correta.

- (A) 4-1: ocorre a queima dos gases a volume constante.
- (B) 2-3: ocorre a expulsão dos gases a volume constante.
- (C) 1-2: o pistão se desloca do seu ponto superior até o inferior.
- (D) 3-4: ocorre o trabalho por meio da expansão dos gases da combustão.
- (E) 1-0: momento em que a válvula de admissão se abre para que o pistão atinja seu ponto mais baixo.

50

Uma máquina de Carnot absorve 1,5 kJ de calor de um reservatório, à temperatura de 600 K. Após realizar o trabalho, descarta calor para um reservatório a 500 K.

O rendimento dessa máquina é igual a

- (A) 0,50.
- (B) 0,42.
- (C) 0,32.
- (D) 0,25.
- (E) 0,17.

51

Um recipiente é aquecido em um fogão para ferver água. Sabe-se que o calor é transferido do fogão para a panela a uma taxa de 1000 W.

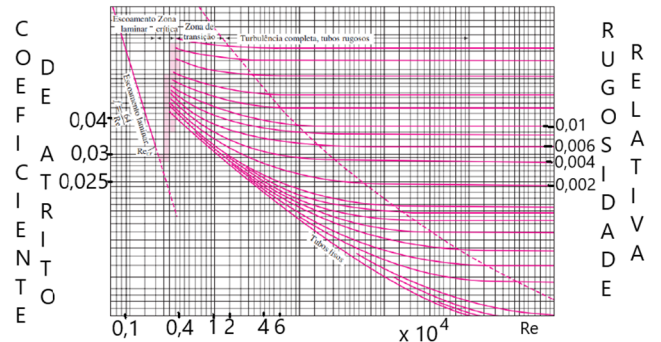
Quando a superfície da base do recipiente, que está exposta ao fogão, alcança 105° C, a temperatura do fundo que está em contato com a água, em °C, é de

Dados: - diâmetro do fundo do recipiente (D): 400 mm;
 - espessura do fundo do recipiente (e): 2π mm;
 - condutividade do material do recipiente (k): 100 W/mK.

- (A) 104,5.
- (B) 104,0.
- (C) 103,9.
- (D) 103,5.
- (E) 103,0.

52

Um líquido flui por uma tubulação de 10 metros de comprimento com 20 mm de diâmetro. A velocidade do líquido é de 2 m/s.



Sabendo-se que a rugosidade do material da tubulação é igual a 0,12 mm e considerando o Diagrama de Moody acima, a perda de carga normal, em metros, é de

Dados: - massa específica do líquido (ρ): 1000kg / m³;
 - viscosidade do líquido (μ): 1 x 10⁻³ N.s / m²;
 - aceleração da gravidade (g): 10m/s².

- (A) 1,2.
- (B) 2,6.
- (C) 3,4.
- (D) 4,2.
- (E) 5,3.

53

O trocador de calor pode ser do tipo Contato Direto ou Contato Indireto. Essas classificações dizem respeito à (ao)

- (A) compacticidade.
- (B) tipo de construção.
- (C) disposição das correntes.
- (D) processo de transferência de calor.
- (E) mecanismo de transferência de calor.

54

A *transferência de massa* é o processo de transporte em que existe a migração de uma ou mais espécies químicas em um dado meio, podendo esse ser sólido, líquido ou gasoso.

O mecanismo de transferência de massa molecular resulta

- (A) da convecção natural.
- (B) de um gradiente de temperatura.
- (C) da transferência de massa entre as fases.
- (D) da transferência de massa por convecção forçada.
- (E) de correntes de redemoinho existente em um fluido.

55

Assinale a opção que indica a reação eletroquímica que exemplifica uma corrosão por um processo anódico.

- (A) 2 H⁺ + 2e → H₂.
- (B) Cu²⁺ + 2e → Cu.
- (C) O₂ + 4 H⁺ + 4e → 2 H₂O.
- (D) 2 H₂O - 4e → O₂ + 4 H⁺.
- (E) O₂ + 2 H₂O + 4e → 4 OH.

56

A *extração líquido-líquido* é um método para separar compostos de uma mistura com componentes de diferentes características de solubilidade.

A respeito do solvente nesse processo, analise as afirmativas a seguir.

- I. É desejável que tenha uma grande diferença de densidade em relação ao diluente.
- II. É desejável que tenha baixa solubilidade no diluente.
- III. É desejável que tenha a mesma volatilidade do soluto.

Está correto o que se apresenta em

- (A) I, somente.
- (B) II, somente.
- (C) III, somente.
- (D) I e II, somente.
- (E) II e III, somente.

57

Um controlador de temperatura possui um *range* que varia de 100 K a 500 K. Ao medir uma temperatura com valor desejável igual a 400 K, verificou-se o valor de 405 K.

O erro percentual é de

- (A) -1,25.
- (B) +1,25.
- (C) -2,50.
- (D) +2,50.
- (E) +3,00.

58

A respeito das técnicas de tratamento de água, analise as afirmativas a seguir.

- I. No processo de flotação, as impurezas são depositadas no fundo do reservatório.
- II. A maior parte das Estações de Tratamento de água utilizam o Sistema convencional.
- III. O processo de coagulação deve ocorrer juntamente com a decantação.

Está correto o que se apresenta em

- (A) I, somente.
- (B) II, somente.
- (C) III, somente.
- (D) I e II, somente.
- (E) II e III, somente.

59

Considere a reação de primeira ordem irreversível $A \rightarrow B$. Essa reação foi realizada em um reator operado em batelada a uma temperatura constante.

Sabendo-se que a cinética da reação é de $0,08 \text{ s}^{-1}$, o tempo necessário para a obtenção de 80% de conversão do reagente A é

- (A) $-12,5 \ln 0,2$
- (B) $-1,25 \ln 0,8$
- (C) $-12,5 \ln 0,8$
- (D) $+1,25 \ln 1,8$
- (E) $+12,5 \ln 1,8$

60

Materiais explosivos muito sensíveis, que podem explodir sob a ação do fogo ou pelo impacto de um golpe, são definidos como

- (A) propelentes.
- (B) baixo explosivos.
- (C) explosivos primários.
- (D) explosivos de ruptura.
- (E) explosivos secundários.

Redação

Leia os textos motivadores a seguir, que exploram a existência e a aplicação de leis no Brasil.

Texto I

Lei mais que seca

Um cidadão honesto e decente, que não mete a mão no dinheiro alheio, não bate na mulher nem cospe no chão, pode, de repente, transformar-se num perigo para a comunidade e para si mesmo? Todo mundo sabe a resposta: pode sim, quando enche a cara e se arrisca a voltar para casa pilotando um automóvel.

No Brasil, dirigir embriagado é crime, mas há um problema que reduz consideravelmente a eficácia da legislação: a prova do pileque é atestada pelo bafômetro. E ninguém pode ser obrigado a produzir prova contra si mesmo. O que é compreensível em muitos outros casos, mas complica um bocado a eficácia da legislação que visa a impedir acidentes nas estradas.

O problema é sério, como mostram os números sobre a situação nas estradas do Estado do Rio. Nos últimos três anos, mais de 600 mil motoristas foram abordados em *blitzes* da polícia e 47 mil deles se recusaram a passar pelo bafômetro – e não há punição para isso.

A situação pode melhorar com um projeto que está sendo discutido pelo governo e o Congresso. A ideia é não limitar a prova do pileque ao teste do bafômetro: o estado do motorista seria atestado por filmagens, fotos ou depoimentos de testemunhas. Nada demais: é o que acontece com muitos outros crimes. E o castigo será consideravelmente mais pesado, com multa maior, mais tempo com a carteira suspensa e até três anos de cadeia. Em suma, é uma lei consideravelmente muito mais seca.

Luiz Garcia, *O Globo*, 03/02/2013.

Texto II

Quinze minutos para ser atendido no banco e um para cancelar o contrato com a operadora de telefone. Não ter que ligar para reclamar daquele seguro de perda e roubo do cartão de crédito que você nunca pediu e completar 65 anos com a tranquilidade de ser atendido preferencialmente no caixa do supermercado. O cenário parece impossível, mas cada uma das situações acima é amparada por uma lei específica no país. O que não acontece por aqui é o cumprimento da legislação. Vezes porque não há fiscalização e outras por desconhecimento do brasileiro, que sem saber dos seus direitos, não exerce a devida cobrança e, quando lesado, não sabe a quem recorrer.

O Estado de Minas, 20/01/2015.

Texto III

Contrariando a consagrada frase “faça uma lei apenas se estiver disposto a morrer por ela”, o Brasil tem incríveis mais de 200 mil leis. No entanto, a aplicabilidade delas é reduzida, estimulando a criação de novas legislações: um levantamento apontou que, em média, são criadas 18 novas leis por dia no país. Muitas são inconstitucionais, outras “não pegam” e parcela considerável gera consequências perversas e destoantes das intenções iniciais. Mas, afinal, por que tantas leis e por que elas são tão ruins e “doidas”?

Instituto Mercado Popular, 22/08/2016.

Produza um texto argumentativo, sobre o tema:

O que fazer para as leis funcionarem?

Com base em argumentos convincentes, seu texto deve ser formulado em língua culta e ter entre 20 e 30 linhas.

01	
02	
03	
04	
05	
06	
07	
08	
09	
10	
11	
12	
13	
14	
15	
16	
17	
18	
19	
20	
21	
22	
23	
24	
25	
26	
27	
28	
29	
30	

BRASGUMINO

Realização

