



GOVERNO DO ESTADO DO AMAPÁ
SECRETARIA DE ESTADO DA ADMINISTRAÇÃO
(EDITAL Nº 001/2022)
EDUCAÇÃO

PROFESSOR DA EDUCAÇÃO BÁSICA E PROFISSIONAL
CIÊNCIAS
TIPO 1 – BRANCA



SUA PROVA

- Além deste caderno contendo **60 (sessenta)** questões objetivas e **1 (uma)** questão discursiva, você receberá do fiscal de prova o cartão-resposta e uma folha de textos destinada à resposta definitiva da questão discursiva.



TEMPO

- Você dispõe de **4 (quatro) horas** para a realização da prova, já incluído o tempo para a marcação do cartão-resposta e preenchimento da folha de textos definitivos.
- **2 (duas) horas** após o início da prova é possível retirar-se da sala, sem levar o caderno de prova.
- A partir dos **30 minutos** anteriores ao término da prova é possível retirar-se da sala **levando o caderno de provas**.



NÃO SERÁ PERMITIDO

- Qualquer tipo de comunicação entre os candidatos durante a aplicação da prova.
- Anotar informações relativas às respostas em qualquer outro meio que não seja o caderno de prova.
- Levantar da cadeira sem autorização do fiscal de sala.
- Usar o sanitário ao término da prova, após deixar a sala.



INFORMAÇÕES GERAIS

- Verifique se seu caderno de provas está completo, sem repetição de questões ou falhas. Caso contrário, notifique imediatamente o fiscal da sala, para que sejam tomadas as devidas providências.
- Confira seus dados pessoais, especialmente nome, número de inscrição e documento de identidade e leia atentamente as instruções para preencher o cartão-resposta e a folha de textos definitivos.
- Use somente caneta esferográfica, fabricada em material transparente, com tinta preta ou azul.
- Assine seu nome apenas no(s) espaço(s) reservado(s).
- Confira seu cargo, cor e tipo do caderno de provas. Caso tenha recebido caderno de cargo ou cor ou tipo **diferente** do impresso em seu cartão-resposta, o fiscal deve ser **obrigatoriamente** informado para o devido registro na ata da sala.
- Reserve tempo suficiente para o preenchimento do seu cartão-resposta e da folha de textos definitivos. O preenchimento é de sua responsabilidade e **não** será permitida a troca do cartão-resposta e da folha de textos definitivos em caso de erro do candidato.
- Para fins de avaliação, serão levadas em consideração apenas as marcações realizadas no cartão-resposta e na folha de textos definitivos.
- A FGV coletará as impressões digitais dos candidatos na lista de presença.
- Os candidatos serão submetidos ao sistema de detecção de metais quando do ingresso e da saída de sanitários durante a realização das provas.
- **Boa sorte!**

Língua Portuguesa

1

Uma das marcas da textualidade é a coerência. Entre as frases abaixo, assinale aquela que se mostra **incoerente**.

- (A) O caminho que desce e o caminho que sobe são os mesmos.
- (B) Há coisas que são tão sérias, que você tem que rir delas.
- (C) Se o mundo fosse bom, o dono morava nele.
- (D) Eu não creio em Deus, mas tenho medo dele.
- (E) O problema com as crianças é que elas não são retornáveis.

2

Nas frases abaixo, foi empregada a preposição COM, com valor nocional.

Assinale a frase cujo valor semântico da preposição está corretamente indicado.

- (A) Ler um livro, para mim, é ausentar-me com o autor / modo.
- (B) O livro é um pássaro com mais de cem asas para voar / companhia.
- (C) Decidi sair do jogo enquanto estou com a bola, em vez de esperar que ela me escape / estado.
- (D) Quando você possuiu um livro com mente e espírito, você enriqueceu / tempo.
- (E) Fotografe com a cabeça e não só com a câmera: seja repórter 24h por dia / matéria.

3

Entre as opções abaixo, assinale aquela em que o aumentativo sublinhado perdeu o valor de aumentativo, designando uma outra realidade.

- (A) O entregador tocou a campainha e ficou esperando no portão.
- (B) O fazendeiro tinha um cachorrão para vigiar a plantação.
- (C) O panelão da feijoada já estava sobre o fogão.
- (D) O apartamento tinha um varandão na frente.
- (E) Na parte de trás, havia um terreno para o plantio de frutas.

4

Todas as frases abaixo foram reescritas após um deslocamento de termos, com a finalidade de criar-se um pleonasma.

Assinale a opção em que essa modificação foi feita de forma adequada.

- (A) Quem não está comigo está contra mim / Está contra mim aquele que não está comigo.
- (B) Aceite meu conselho. Eu não o uso mesmo / Meu conselho, aceite-o. Eu não o uso mesmo.
- (C) Os amigos são como os táxis, quando faz mau tempo, escasseiam / Escasseiam os amigos quando faz mau tempo, como os táxis.
- (D) A amizade é um comércio desinteressado entre amigos / A amizade, entre amigos, é um comércio desinteressado.
- (E) Escreva na areia as falhas de teu amigo / As falhas de teu amigo, escreva-lhes na areia.

5

Assinale a frase em que a troca de posição dos termos sublinhados **modifica** o sentido original da frase.

- (A) As principais ameaças nessa vida são as pessoas que querem mudar tudo.
- (B) A dificuldade reside não nas novas ideias, mas em escapar das velhas.
- (C) A mais curta distância entre dois pontos está sob construção.
- (D) Trabalho duro e uma atitude apropriada preparam você para os golpes de sorte.
- (E) O preço da liberdade é a eterna vigilância.

6

Assinale a frase abaixo que exemplifica uma interrogação direta e não uma interrogação indireta ou retórica.

- (A) Quem pode orgulhar-se de nunca se ter enganado?
- (B) Já não te disse isso antes?
- (C) Quem virá à festa?
- (D) O senhor pode andar mais depressa?
- (E) Você pode me dar licença?

7

Em todas as opções abaixo há uma oração reduzida de infinitivo, que foi modificada, respectivamente, para uma oração desenvolvida e, a seguir, para uma estrutura nominal.

Assinale a opção em que houve **erro** numa dessas modificações.

- (A) Poucas palavras têm o poder de “meu” para afastar as pessoas / Poucas palavras têm o poder de “meu” para que afaste as pessoas / Poucas palavras têm o poder de “meu” para o afastamento das pessoas.
- (B) Algumas pessoas estão vivas apenas porque é ilegal matá-las / Algumas pessoas estão vivas apenas porque é ilegal que as matem / Algumas pessoas estão vivas apenas porque é ilegal a sua morte.
- (C) A boa educação consiste em ocultar o alto conceito que temos a nosso respeito / A boa educação consiste em que se oculte o alto conceito que temos a nosso respeito / A boa educação consiste no ocultamento do alto conceito que temos a nosso respeito.
- (D) Nunca acreditei em nada até ser oficialmente negado / Nunca acreditei em nada até que fosse oficialmente negado / Nunca acreditei em nada até a negação oficial.
- (E) Chamávamos de céticos aqueles que tinham ilusões diferentes das nossas sem nos preocupar em saber se eles tinham outras / Chamávamos de céticos aqueles que tinham ilusões diferentes das nossas sem que nos preocupemos em saber se eles tinham outras / Chamávamos de céticos aqueles que tinham ilusões diferentes das nossas sem a preocupação de saber se eles tinham outras.

8

Em todas as opções abaixo, há um termo ou segmento sublinhado; assinale a opção em que esse termo ou segmento **não** mostra duplicidade de sentido em referência ao conteúdo da frase.

- (A) Não há nenhum futuro em viagem no tempo.
- (B) Não ligue para os problemas da vida, pois eles não têm telefone.
- (C) O futuro é apenas outro nome para um presente que ainda não desembulhamos.
- (D) Tempo é um oceano, mas ele termina na costa.
- (E) O governo não devia preocupar-se com o meio ambiente, mas com o ambiente inteiro.

9

Na frase “Não se deliberam sentimentos; ama-se ou aborrece-se, conforme o coração quer”, as três formas do vocábulo SE são respectivamente classificadas como

- (A) pronome apassivador / indeterminador do sujeito / indeterminador do sujeito.
- (B) pronome apassivador / pronome apassivador / pronome apassivador.
- (C) indeterminador do sujeito / indeterminador do sujeito / indeterminador do sujeito.
- (D) pronome reflexivo / pronome apassivador / indeterminador do sujeito.
- (E) pronome apassivador / pronome reflexivo / pronome reflexivo.

10

Em todas as frases abaixo há comparações; assinale a opção em que a comparação estabelecida **não** está explicada.

- (A) Os homens são como os livros, muitas vezes são apreciados tarde em demasia.
- (B) Homens são como traduções. Os bonitos não são fiéis. E os fiéis não são bonitos.
- (C) Os homens mais felizes, assim como as nações mais felizes, não têm história.
- (D) Os homens, como sonho, nunca são como imaginamos.
- (E) Como Miss América, meu objetivo é trazer a paz para o mundo inteiro.

Legislação Educacional

11

Com base na Lei nº 9.394/96, de Diretrizes e Bases da Educação Nacional, as seguintes afirmativas acerca da educação básica estão corretas, **à exceção de uma**. Assinale-a.

- (A) A educação básica tem por finalidades desenvolver o educando, assegurar-lhe a formação comum indispensável para o exercício da cidadania e fornecer-lhe meios para progredir no trabalho e em estudos posteriores.
- (B) São objetivos precípuos da educação básica a alfabetização plena e a formação de leitores.
- (C) A escola poderá reclassificar os alunos tendo como base as normas curriculares gerais, exceto quando se tratar de transferências entre estabelecimentos situados no País e no exterior.
- (D) A carga horária mínima anual será de oitocentas horas para o ensino fundamental e para o ensino médio, distribuídas por um mínimo de duzentos dias de efetivo trabalho escolar, excluído o tempo reservado aos exames finais, quando houver.
- (E) Nos estabelecimentos que adotam a progressão regular por série, o regimento escolar pode admitir formas de progressão parcial, desde que preservada a sequência do currículo, observadas as normas do respectivo sistema de ensino.

12

Avalie, com base na Lei nº 9.394/96, de Diretrizes e Bases da Educação Nacional, se o ensino será ministrado, entre outros, nos seguintes princípios:

- I. Gratuidade do ensino público em estabelecimentos oficiais.
- II. Valorização do profissional da educação escolar.
- III. Valorização da experiência extraescolar.
- IV. Consideração com a diversidade étnico-racial.

Estão corretos:

- (A) I e II, apenas.
- (B) III e IV, apenas.
- (C) I, II e III, apenas.
- (D) II, III e IV, apenas.
- (E) I, II, III e IV.

13

Avalie, com base no Estatuto da Criança e do Adolescente – ECA – Lei nº 8.069/90, se as afirmativas a seguir são falsas (F) ou verdadeiras (V).

- () A Lei nº 8.069/90 dispõe sobre a proteção integral à criança e parcial ao adolescente.
- () Considera-se criança, para os efeitos da Lei nº 8.069/90, a pessoa até doze anos de idade incompletos, e adolescente aquela entre doze e dezoito anos de idade.
- () A criança e o adolescente gozam de todos os direitos fundamentais inerentes à pessoa humana.

As afirmativas são, respectivamente,

- (A) V, V e V.
- (B) F, V e V.
- (C) V, F e F.
- (D) F, V e F.
- (E) F, F e F.

14

Com base na Lei nº 9.394/96, de Diretrizes e Bases da Educação Nacional, o ensino médio, etapa final da educação básica, com duração mínima de três anos, terá as seguintes finalidades, **à exceção de uma**. Assinale-a.

- (A) A consolidação e o aprofundamento dos conhecimentos adquiridos no ensino fundamental, possibilitando o prosseguimento de estudos.
- (B) A preparação básica para o trabalho e a cidadania do educando, para continuar aprendendo, de modo a ser capaz de se adaptar com flexibilidade a novas condições de ocupação ou aperfeiçoamento posteriores.
- (C) O aprimoramento do educando como pessoa humana, incluindo a formação ética e o desenvolvimento da autonomia intelectual e do pensamento crítico.
- (D) A compreensão dos vínculos de família e dos laços de convivência humana.
- (E) A compreensão dos fundamentos científico-tecnológicos dos processos produtivos, relacionando a teoria com a prática, no ensino de cada disciplina.

15

“Art. 15. A criança e o adolescente têm direito à liberdade, ao respeito e à dignidade como pessoas humanas em processo de desenvolvimento e como sujeitos de direitos civis, humanos e sociais garantidos na Constituição e nas leis”.

(Estatuto da Criança e do Adolescente)

Avalie se o direito à liberdade compreende, entre outros, os seguintes aspectos:

- I. Ir, vir e estar, sem restrições legais ou impostas, nos logradouros públicos e espaços comunitários.
- II. Opinião e expressão.
- III. Brincar, praticar esportes e divertir-se.
- IV. Buscar refúgio, auxílio e orientação.

Estão corretos os itens:

- (A) I e II, apenas.
- (B) III e IV, apenas.
- (C) II, III e IV, apenas.
- (D) I, II e III, apenas.
- (E) I, II, III e IV.

16

De acordo com o Plano Nacional da Educação em Direitos Humanos, a educação em direitos humanos é compreendida como um processo sistemático e multidimensional que orienta a formação do sujeito de direitos, articulando as seguintes dimensões, à exceção de uma, que está errada. Assinale-a.

- (A) Apreensão de conhecimentos historicamente construídos sobre direitos humanos e a sua relação com os contextos internacional, nacional e local.
- (B) Afirmção de valores, atitudes e práticas sociais que expressem a cultura dos direitos humanos em todos os espaços da sociedade.
- (C) Formação de uma consciência cidadã capaz de se fazer presente em níveis cognitivo, social, ético e político.
- (D) Desenvolvimento de processos metodológicos exclusivistas e de construção individualizada, que usam linguagens e materiais didáticos descontextualizados.
- (E) Fortalecimento de práticas individuais e sociais que gerem ações e instrumentos em favor da promoção, da proteção e da defesa dos direitos humanos, bem como da reparação das violações.

17

Com base no Art. 3º da Lei 0949/2005, avalie se a carreira dos profissionais da educação básica da Rede Pública Estadual de Ensino objetiva:

- I. A profissionalização e valorização do servidor.
- II. A melhoria do desempenho e da qualidade dos serviços de educação prestados ao conjunto da população do Estado do Amapá.
- III. A fixação de padrões e critérios de desenvolvimento funcional para as carreiras que compõem o Quadro de Pessoal dos Profissionais da Educação Básica Pública, de modo a reconhecer a qualificação profissional.
- IV. A implementação de política de pessoal, com vistas a promover o desempenho profissional, a motivação, a qualidade da educação, a eficiência, e a valorização do servidor pelo tempo de serviço.
- V. O comprometimento do profissional da Educação Básica Pública.

Estão corretos os itens:

- (A) I, III e V, apenas.
- (B) II, IV e V, apenas.
- (C) I, II e III, apenas.
- (D) II, III e IV, apenas.
- (E) I, II, III, IV e V.

18

Avalie se a Lei 0949/2005 prevê, entre outros, os seguintes direitos especiais dos profissionais da educação:

- I. Efetiva qualificação permanente, garantida pelo Estado, mediante cursos, estágios, aperfeiçoamento, especialização e atualização técnico-pedagógica sem prejuízo da sua remuneração.
- II. Dispor no ambiente de trabalho de instalações adequadas e ter a seu alcance informações educacionais, bibliotecas atualizadas, material didático, técnico-pedagógico e outros instrumentos em quantidade suficiente e apropriada, bem como contar com assessoria pedagógica que auxilie e estimule a melhoria do seu desempenho profissional e ampliação dos seus conhecimentos.
- III. Liberdade na escolha dos conteúdos e processos didáticos de acordo com a proposta pedagógica das escolas e orientação curricular do sistema estadual de ensino.
- IV. Ser defendido pela direção do estabelecimento de ensino, se ela assim entender pertinente, quando, no regular exercício de suas atividades, for agredido moralmente no ambiente de trabalho.

Estão corretos os itens

- (A) I e II, apenas.
- (B) III e IV, apenas.
- (C) I, II e III, apenas.
- (D) II, III e IV, apenas.
- (E) I, II, III e IV.

19

Avalie, com base no Art. 37 da Lei estadual nº 0066/1993 (RJU), se as seguintes afirmativas acerca do estágio probatório estão corretas:

- I. Ao entrar em exercício, o servidor nomeado para cargo em provimento efetivo ficará sujeito a estágio probatório por período de vinte e quatro meses, durante o qual a sua aptidão e capacidade serão objeto de avaliação para desempenho do cargo.
- II. No estágio probatório, serão observados os seguintes fatores: assiduidade; disciplina; capacidade de iniciativa; produtividade; responsabilidade.
- III. O servidor não aprovado no estágio probatório será exonerado ou, se estável, reconduzido ao cargo anteriormente ocupado.

Está correto o que se afirma em

- (A) I, apenas.
- (B) I e II, apenas.
- (C) II e III, apenas.
- (D) I e III, apenas.
- (E) I, II e III.

20

De acordo com o Art. 53 da Lei estadual nº 0949/2005, que trata dos deveres especiais dos profissionais da educação, no desempenho das atividades que lhe são próprias, o profissional da educação deverá agir de modo a concorrer para os objetivos a seguir, **à exceção de um**. Assinale-o.

- (A) A diluição do sentimento de nacionalidade.
- (B) O resgate e a preservação do patrimônio cultural, artístico, popular e ambiental.
- (C) A vivência e convivência em função das ideias da comunidade.
- (D) Promover o desenvolvimento do senso crítico e da consciência política do aluno.
- (E) Respeitar o aluno como sujeito do processo educacional e comprometer-se com a eficiência de seu aprendizado.

História do Amapá

21

A região fronteira entre a Guiana Francesa e o Amapá tem um histórico marcado por disputas territoriais, que foram enfrentadas em tratados como o Provisional (1700), Utrecht (1713) e Berna (1900), com soluções diferentes a cada vez, ora optando-se pela condição de neutralidade, ora pela condição de separação.

Assinale a opção que identifica corretamente a condição do Tratado Provisional.

- (A) Condição fronteira de separação, ao redistribuir as terras a revelia dos interesses dos países litigiosos.
- (B) Condição fronteira de neutralidade, ao proibir o uso do território pelos dois países.
- (C) Condição fronteira de separação, ao estabelecer limites territoriais específicos entre os dois países.
- (D) Condição fronteira de neutralidade, ao definir as terras em disputa como área internacional.
- (E) Condição fronteira de separação, ao promover a divisão das terras por tempo de posse.

22

Leia a carta do rei de Portugal de 21 de dezembro de 1686, ao então governador do Maranhão:

“Vos valereis ao mesmo tempo dos Missionários Capuchos de Santo Antônio, que têm as Missões do Cabo do Norte, e dos Padres da Companhia de Jesus, que forem mais a propósito a este fim, avisando-os da minha parte do que devem fazer, para se conservar sem desconfiança a sujeição dos índios das Aldeias, e se tratar e ajustar com segurança e paz e amizade do Gentio que não estiver domesticado. Com o cuidado destes Missionários podereis conseguir que os Missionários franceses não adquiram a prática dos Aruazes [Aruã], e que os Índios não busquem a comunicação alheia, esquecidos da própria e natural do meu domínio”.

(Adaptado de ANDRADE E SILVA, José Justino de. *Collecção Cronologica da Legislação Portuguesa. 1683-1700*. Lisboa: Imprensa Nacional, 1859.)

Com base no texto, analise as afirmativas a seguir.

- I. A carta relata a disputa pelo controle dos súditos e das terras do Cabo Norte entre as ordens religiosas vinculadas diretamente ao papado e os representantes político-militares do império português.
- II. A carta manifesta o desejo de impedir que missionários franceses catequizassem os Aruã, uma vez que a adoção do calvinismo pelos ameríndios aumentaria sua hostilidade histórica em relação aos portugueses.
- III. A carta se refere à presença “estrangeira” como ameaça ao domínio político, econômico e religioso dos portugueses, que buscavam manter os índios em aldeamentos e estabelecer alianças com os não catequizados.

Está correto o que se afirma em

- (A) I, apenas.
- (B) II, apenas.
- (C) III, apenas.
- (D) I e III, apenas.
- (E) I, II e III.

23

Na segunda metade do século XX, o governo federal promoveu uma política de reordenamento econômico e territorial do Amapá mediante investimentos em infraestrutura.

Assinale a afirmativa que exemplifica corretamente obras estratégicas de infraestrutura que impactaram na reordenação socioespacial do Amapá.

- (A) A partir dos anos 1950, os rios foram complementados pelo transporte rodoviário: enquanto a malha hidrográfica servia para as longas distâncias, as estradas conectavam vilas e cidades.
- (B) Nos anos 1940, o governo do Amapá assinou o contrato de prospecção de manganês em Cassiporé e Calçoene com a Indústria de Comércio de Minérios (ICOMI).
- (C) Na década de 1950, foi construída a Estrada de Ferro do Amapá com o objetivo de transportar a borracha extraída na região do Cajari, ligando Mazagão ao porto de Santana.
- (D) Durante o regime militar (1964-1985), a política de integração nacional estimulou a construção das rodovias BR-156 e BR-210, como instrumentos de colonização e integração.
- (E) Na década de 1990, as usinas termoeletricas movidas a óleo diesel foram substituídas pelas hidrelétricas de Coaracy Nunes e Santo Antônio do Jari.

24

Em fins da década de 1980, o Amapá foi elevado à condição de estado membro da federação pela Constituição Federal (1988), o que gerou importantes transformações nos âmbitos político-administrativo e econômico.

As afirmativas a seguir indicam corretamente os impactos da estadualização do Amapá, à exceção de uma. Assinale-a.

- (A) No campo político, a representação parlamentar passou a ser de 8 vagas para a Câmara Federal e 3 para o Senado, além de ampliar o processo eleitoral para todos os níveis.
- (B) No campo econômico, a autonomia administrativa coincidiu com a descoberta de novas jazidas manganêsíferas e com a ampliação das atividades da ICOMI.
- (C) No campo político-administrativo, o Amapá adquiriu a autonomia e a capacidade de se auto-organizar e elaborar seu "Programa de Governo".
- (D) No campo das finanças públicas, o Amapá passou a arrecadar suas próprias receitas, embora continue recebendo transferências da União.
- (E) No campo do uso e ocupação das terras, ocorreram um aumento da fiscalização nacional e internacional e a implementação de legislações ambientais.

25

A Fortaleza de São José de Macapá foi tombada pelo Iphan, em 1950, em reconhecimento de sua relevância histórica e arquitetônica, sendo uma das principais edificações militares existentes no Brasil e um dos mais importantes monumentos do século XVIII.

A respeito desse patrimônio do Amapá, assinale (V) para a afirmativa verdadeira e (F) para a falsa.

- () É uma fortaleza complexa do ponto de vista da engenharia militar, com baluartes nos ângulos, fosso, redente, revelim e caminho coberto.
- () É uma fortificação que serviu como posto avançado para controlar a circulação de embarcações holandesas ou espanholas junto aos rios Negro, Solimões e Amazonas.
- () É uma grande fortificação que, a par do Real Forte do Príncipe da Beira (RO), simbolizava posse política do território, no contexto da política pombarina.

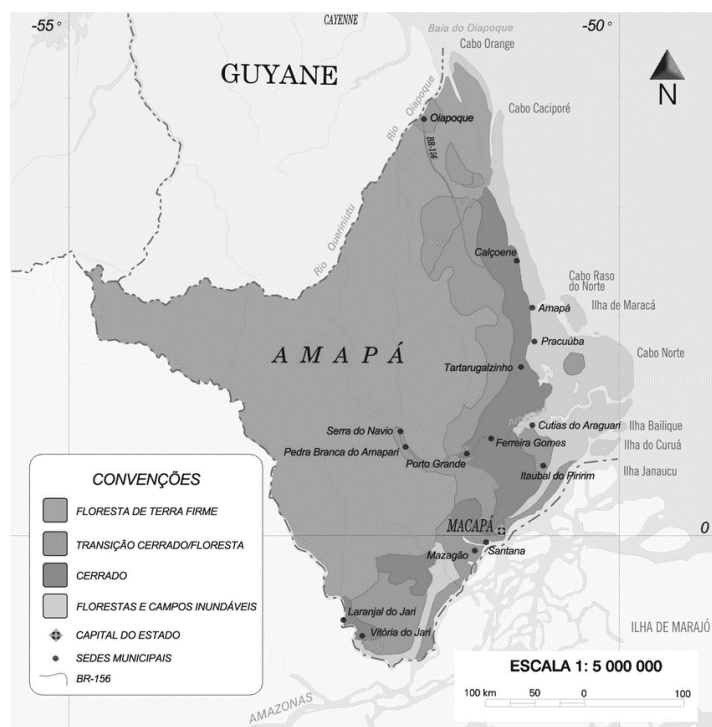
As afirmativas são, respectivamente,

- (A) V – V – F.
- (B) V – F – F.
- (C) F – V – F.
- (D) V – F – V.
- (E) V – V – V.

Geografia do Amapá

26

Mais de 70% da área do Amapá está coberta pela *floresta de terra-firme* e o estado é o que apresenta a menor taxa de desmatamento, em torno de 1%.



Sobre a floresta de terra-firme, assinale a afirmativa correta.

- (A) Caracteriza-se por ser homogênea sob o ponto de vista florístico, havendo um pequeno número de espécies por hectare.
- (B) Possui uma grande massa foliar que, através do processo de evapotranspiração, atua na manutenção do equilíbrio hídrico reinante.
- (C) Desenvolve-se em áreas que estão sujeitas a inundações periódicas, por estar situada nas planícies aluvionais que margeiam os rios.
- (D) Mostra grande densidade de árvores em que as copas frondosas formam um dossel contínuo que permite a forte insolação do solo.
- (E) Apresenta crescimento contínuo permanecendo verde durante todo o ano, mas perde as folhas durante o período mais seco, no outono.

27

Em relação aos serviços de saneamento básico no estado do Amapá, analise as afirmativas a seguir e assinale (V) para a verdadeira e (F) para a falsa.

- () A escassez de investimentos públicos tem limitado a expansão dos serviços de saneamento, o que impede que eles atendam à demanda.
- () O lançamento de esgoto doméstico sem tratamento nos cursos d'água tem agravado a poluição dos recursos hídricos, o que torna a água um veículo de doenças.
- () O uso de metais pesados nos garimpos tem contaminado os corpos d'água, o que expõe a fauna aquática e as populações ribeirinhas a graves riscos sanitários.

As afirmativas são, na ordem apresentada, respectivamente,

- (A) V – F – V.
- (B) F – V – V.
- (C) V – V – V.
- (D) V – V – F.
- (E) F – V – F.

28

Sobre as consequências ambientais do uso das áreas de *ressacas* para habitação, analise as afirmativas a seguir.

- I. Representa uma perda da biodiversidade, uma vez que se faz necessário o desmatamento de grandes áreas.
- II. Reduz a velocidade do escoamento das águas superficiais, uma vez que são feitos aterramentos para a instalação da infraestrutura urbana.
- III. Aumenta as variações da temperatura ao longo do ano, uma vez que facilita a circulação dos ventos de nordeste provenientes do oceano.

Está correto o que se afirma em

- (A) I, apenas.
- (B) I e II, apenas.
- (C) I e III, apenas.
- (D) II e III, apenas.
- (E) I, II e III.

29

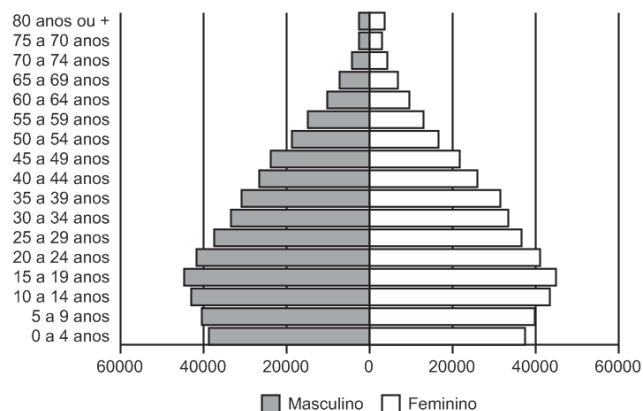
Em 2010, o Produto Interno Bruto (PIB) do estado do Amapá representava 3,5% do PIB total da Região Norte e 0,2% do PIB total do país, segundo o IPEA. Em que pese a pequena contribuição para o PIB brasileiro, a economia amapaense tem crescido acima da média nacional.

Sobre a economia do estado do Amapá, assinale a afirmativa correta.

- (A) A geração de empregos na administração pública, mediante a realização de concursos públicos, tem estimulado fluxos de migrantes mais qualificados.
- (B) A instalação da infraestrutura viária tem ampliado o mercado de trabalho fora do eixo Macapá/Santana, o que tem promovido a interiorização do povoamento.
- (C) A expansão da agricultura empresarial nas áreas de cerrado tem atraído novos investimentos, o que tem aumentado a participação da agricultura no PIB.
- (D) A ligação ao sistema integrado nacional de eletricidade permitiu a instalação de setores industriais intensivos em energia, como a metalurgia do manganês.
- (E) A ampliação das atividades terciárias superiores – comércio e transportes - dão origem a novas funções urbanas, o que tem diminuído a ação polarizante de Macapá.

30

Analise a pirâmide etária do estado do Amapá (2019), a seguir.



(Fonte: DATASUS, 2019. Adaptado)

Sobre a pirâmide etária do Amapá, assinale a afirmativa correta.

- (A) A maior longevidade feminina é explicada pelos melhores salários recebidos pelas mulheres.
- (B) O desequilíbrio entre o contingente de homens e o de mulheres sugere uma queda nas taxas de fecundidade.
- (C) A chegada dos fluxos de imigrantes diminui a expectativa de vida e justifica o pequeno contingente de jovens.
- (D) O estreitamento da base é explicado pela adoção de procedimentos antinatalistas e de planejamento familiar.
- (E) O numeroso contingente de adultos gera uma crise no mercado de trabalho devido à menor oferta de mão de obra.

Conhecimentos Específicos Fundamentos da Educação

31

A avaliação formativa vem ganhando espaço nas discussões pedagógicas, impulsionada pelo uso da tecnologia no cenário de pandemia, e pela necessidade de contribuir de modo equânime para a aprendizagem de cada aluno. Na avaliação formativa, o professor busca promover momentos de maior proximidade com cada estudante, entendendo suas necessidades específicas, seus avanços e refletindo junto com ele sobre estratégias para seguir se desenvolvendo, de acordo com o desejado. Trata-se de uma modalidade avaliativa para acolher e atender os estudantes que mais precisam, sendo fundamental para combater as desigualdades de aprendizagem que afetam, principalmente, estudantes em situações de maior vulnerabilidade.

Adaptado de <https://observatoriodeeducacao.institutounibanca.org.br/>

Com base no texto, assinale a afirmativa que identifica corretamente objetivos da avaliação formativa.

- (A) Motivar o aprendizado e premiar a eficiência.
- (B) Lidar com o erro e acelerar a assimilação de conteúdos.
- (C) Identificar e corrigir as principais falhas de conhecimento.
- (D) Classificar os rendimentos e destacar talentos individuais.
- (E) Personalizar a aprendizagem e reduzir as desigualdades.

32

Leia o fragmento a seguir sobre as características distintivas dos Direitos Humanos.

Tais direitos são _____, pois se estendem a todo gênero humano, em todo tempo e lugar.

São _____, porque seu respeito se pode exigir de qualquer pessoa, autoridade ou comunidade inteira, diferente daqueles emanados das relações contratuais, que somente podem ser exigidos de quem contratou a obrigação correspondente.

São _____, pois nenhuma pessoa ou autoridade pode atentar legitimamente contra eles, sem prejuízo das justas limitações que podem se impor a seu exercício, de acordo com as exigências do bem comum da sociedade.


São _____, pois pertencem à essência do ser humano de forma indissociável, assim não se pode renunciar, transferir ou transmitir, sob nenhum título, como ocorre com os demais direitos que são objetos de transações jurídicas.

Assinale a opção cujos itens completam corretamente as lacunas do fragmento acima.

- (A) necessários – inatos – absolutos – invioláveis.
- (B) imprescritíveis – invioláveis – absolutos – necessários.
- (C) universais – absolutos – invioláveis – inalienáveis.
- (D) congênitos – imprescritíveis – necessários – absolutos.
- (E) universais – inalienáveis – necessários – inatos.

33

Observe a charge “Justiça Injusta”.



Adaptado de <http://observacoeseducacionais.blogspot.com>

É correto afirmar que a situação ironizada na charge pode ser corrigida com base no princípio de

- (A) respeito à diversidade, pelo que entende-se justiça como distribuição uniforme de ferramentas e assistência para os mais variados tipos de pessoas.
- (B) equidade, pelo que entende-se justiça como fomento de oportunidades iguais, considerando as diferenças entre os indivíduos e suas características e necessidades.
- (C) igualdade de oportunidades, pelo que entende-se justiça como estímulo à superação das incapacidades de cada indivíduo para que todos alcancem a mesma meta.
- (D) meritocracia, pelo que entende-se justiça como oferecimento de acesso igualitário às oportunidades, de modo a corrigir as desigualdades sociais.
- (E) personalização do ensino, pelo que entende-se justiça como reconhecimento das capacidades individuais de aprendizado para selecionar os mais capazes.

34

A seleção de atividades no planejamento didático é baseada em princípios teóricos no campo da educação.

A esse respeito, leia os exemplos a seguir.

- I. Pré-avaliação dos alunos para estabelecer o ponto de partida do processo de aprendizagem e o uso de reforços/recompensas tangíveis para aumentar o rendimento.
- II. Ênfase na participação ativa dos alunos nos processos de aprendizagem e na conscientização do ato de aprender, mediante estratégias de autoavaliação, conceituação e revisão.
- III. Valorização da identificação do contexto significativo em que a competência deve ser adquirida e sucessivamente aplicada para que os alunos possam ir além das informações fornecidas.

Assinale a afirmativa que identifica corretamente os fundamentos teóricos das atividades de planejamento descritas em I, II e III, respectivamente.

- (A) Behaviorismo – Construtivismo – Cognitivism.
- (B) Construtivismo – Cognitivism – Behaviorismo.
- (C) Cognitivism – Construtivismo – Behaviorismo.
- (D) Cognitivism – Behaviorismo – Construtivismo.
- (E) Behaviorismo – Cognitivism – Construtivismo.

35

Leia o trecho a seguir, que descreve uma tendência pedagógica e seu impacto para fundamentar o currículo escolar.

O fundamento desse currículo é a seleção e redefinição dos conteúdos de ensino, de modo a atribuir-lhes um sentido prático. Ele pretende superar a preeminência dos saberes das disciplinas escolares, ao privilegiar o “como ensinar”. Nele abre-se espaço para atividades e situações concretas, a partir das quais os alunos devem desenvolver habilidades específicas.

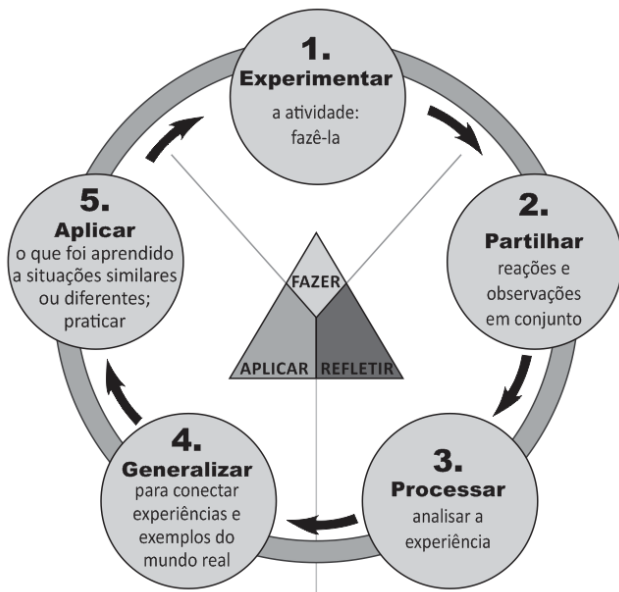
No entender de alguns educadores, esse currículo promove o encontro entre formação e emprego, mantendo-se afinado com as necessidades do mercado de trabalho.

Assinale a opção que identifica corretamente a concepção de currículo descrita acima.

- (A) Currículo idealista.
- (B) Currículo por competência.
- (C) Currículo sociocrítico.
- (D) Currículo como produção cultural.
- (E) Currículo globalizado.

36

O diagrama a seguir ilustra a relação entre experiência, inteligência e conhecimento.



Adaptado de <https://www.pedagogy4change.org/>

A respeito dessa relação, assinale a afirmativa que indica a visão pedagógica coerente com o diagrama.

- (A) A reconstrução e reorganização da experiência levam a uma maior percepção do seu sentido, habilitando as pessoas a dirigir melhor o curso das suas experiências futuras.
- (B) A capacidade de aprender depende do ensino formal e, sobretudo, do nível de competência cognitiva de que se dispõe para executar as atividades propostas.
- (C) A experiência serve para identificar os condicionamentos próprios do processo universal de aprendizagem e permite substituir respostas inadequadas por outras adequadas.
- (D) A aquisição de habilidades para fortalecer e disciplinar a mente pode ser obtida pelo uso das faculdades mentais de conceituar e esquematizar relações espaço-temporais.
- (E) A aprendizagem ocorre quando a informação é armazenada e organizada de modo significativo na memória, em um processo sequenciado de reconhecimento e assimilação.

37

Trata-se de um conceito formulado originalmente por Lev Vygotsky, na década de 1920, e serve para explicar como a aprendizagem da criança se desenvolve com a ajuda dos outros. Com esse conceito, indica-se a distância entre o nível de performance atual, determinado pela capacidade de resolver tarefas de forma independente, e o nível de performance potencial, determinado por desempenhos possíveis, com ajuda de adultos ou de colegas mais avançados ou mais experientes.

O texto refere-se ao conceito de

- (A) escrita coletiva.
- (B) situação comunicativa.
- (C) acomodação e assimilação.
- (D) estágio operatório-concreto.
- (E) zona de desenvolvimento proximal.

38

Um professor adota a metodologia da “gamificação”, usando um aplicativo que simula a vida em uma cidade. Ele separa a classe em pequenos grupos, que devem escolher o cenário – uma cidade rural, litorânea ou metrópole – e três áreas prioritárias. Os estudantes são desafiados a decidir o que é melhor para sua cidade, face aos indicadores financeiros, à média da satisfação popular e à eficácia da infraestrutura do município. Cada decisão impacta diretamente nos indicadores e abre a possibilidade de debater impostos, transportes, educação e saúde, dentre outros temas, tendo em vista os conteúdos trabalhados nas aulas de biologia, filosofia, matemática, geografia e história.

Com base no relato e considerando a “gamificação” como estratégia com objetivos pedagógicos no caso citado, assinale (V) para a afirmativa verdadeira e (F) para a falsa.

- () A “gamificação” serviu para exercitar a imaginação e estimulou os alunos a inventar cidades fictícias, sem desigualdades socioeconômicas.
- () O uso de “games” de simulação estimulou o raciocínio lógico e exercitou a capacidade de se posicionar em relação a políticas públicas, considerando seus impactos na vida coletiva.
- () A atividade desenvolveu competências socioemocionais e ligadas ao pensamento estratégico, ao engajar os alunos em uma ação de modo interativo e com responsabilidade social.

As afirmativas são, respectivamente,

- (A) V – V – F.
- (B) V – F – V.
- (C) F – V – V.
- (D) F – V – F.
- (E) V – V – V.

39

A gestão escolar, comprometida com uma educação de qualidade, exige o envolvimento e a participação da comunidade nos processos de planejamento e avaliação dos resultados alcançados, ao mesmo tempo que descentraliza as tomadas de decisão e divide responsabilidades, com intuito de envolver todos os segmentos interessados na construção coletiva das propostas de educação.

A partir do texto, analise as afirmativas a seguir a respeito da relação entre gestão escolar e compromisso com a qualidade de ensino.

- I. A verticalização da gestão escolar é uma medida administrativa que agiliza a tomada de decisão para atender com eficiência todos os envolvidos na escola.
- II. O engajamento de todos os setores na elaboração do projeto político-pedagógico, fortalece a autonomia da escola e o compromisso com a qualidade do aprendizado.
- III. A gestão democrática da escola favorece a socialização de saberes e a interação comunitária fomentando a participação coletiva para a definição da identidade da escola.

Está correto o que se afirma em:

- (A) II, apenas.
- (B) I e II, apenas.
- (C) II e III, apenas.
- (D) I e III, apenas.
- (E) I, II e III.

40

Como chamar as pessoas que têm deficiência?

Pessoas com capacidades especiais”, “pessoas com eficiências diferentes”, “pessoas com habilidades diferenciadas”, “pessoas portadoras de deficiência”, “pessoas com disfunção funcional”... Na primeira década do século XXI, a Declaração de Salamanca preconizou a expressão “pessoas com deficiência”, com a qual o valor agregado às pessoas com deficiência passou a ser o do empoderamento e o da responsabilidade de contribuir com seus talentos para mudar a sociedade rumo à inclusão de todas as pessoas, com ou sem deficiência. Os movimentos mundiais de pessoas com deficiência, incluindo os do Brasil, já fecharam a questão: querem ser chamados de “pessoas com deficiência”, em todos os idiomas. Esse termo faz parte do texto da convenção sobre os direitos das pessoas com deficiência, adotado pela ONU em 2006, e promulgado por decreto no Brasil em 2009.

Adaptado de SASSAKI, Romeu Kazumi.
Como chamar as pessoas que têm deficiência? (2014)

As afirmativas a seguir descrevem corretamente os princípios básicos que levaram à defesa da terminologia “pessoas com deficiência”, **à exceção de uma**. Assinale-a.

- (A) Valorizar as diferenças e necessidades decorrentes da deficiência.
- (B) Combater eufemismos que tentam diluir ou camuflar as diferenças.
- (C) Defender a igualdade entre pessoas com deficiência e sem deficiência.
- (D) Responsabilizar a sociedade pela invalidez de uma parte de seus membros.
- (E) Reivindicar a eliminação das restrições à participação das pessoas com deficiência na vida social.

Ciências

41

Durante uma atividade prática, os alunos coletaram diversas amostras de água com o objetivo de verificar seu pH. Após as medições, o valor de pH obtido para a água da chuva causou bastante surpresa, estimulando o grupo a aprofundar-se no conteúdo da aula: ácidos, bases e escala de pH.

Com relação aos temas acima, assinale V para a afirmativa verdadeira e F para a falsa.

- () O pH da água da chuva é naturalmente ácido, com valor em torno de 5,6. Essa acidez é devida à reação entre a água e o gás carbônico presente na atmosfera que origina, assim, o ácido carbônico (H_2CO_3).
- () Chuvas ácidas resultantes da ação antrópica ocorrem apenas em regiões industrializadas, onde a queima de combustíveis por automóveis e indústrias libera óxidos, como o SO_2 , que reage com a água na atmosfera formando H_2SO_4 .
- () Em uma aula prática pode-se utilizar o suco de repolho roxo ou o extrato de açaí como indicador de pH. Esses vegetais possuem antocianina, substância que muda de cor em meio ácido ou básico.

As afirmativas são, respectivamente,

- (A) F, V e F.
- (B) F, V e V.
- (C) V, F e V.
- (D) V, V e F.
- (E) F, F e V.

42

A tabela a seguir mostra a composição da atmosfera de três planetas rochosos. Nela, o nome de alguns gases foi omitido.

	Vênus	Terra	Marte
A	96,5%	0,03%	95%
B	3,5%	78%	2,7%
C	Traço	21%	0,13%
Argônio (Ar)	0,007%	0,9%	1,6%
Metano (CH_4)	0	0,002%	0

Com relação à tabela e à composição atmosférica dos planetas apresentados, analise as afirmativas a seguir:

- I. As letras A, B e C correspondem, respectivamente, aos gases dióxido de carbono, oxigênio e nitrogênio. O nitrogênio gasoso é fundamental à vida, pois é usado diretamente pelas plantas na produção de proteínas.
- II. O gás “A” é responsável pela elevada temperatura observada na superfície do planeta Vênus. Na Terra, além de “A”, o gás metano também contribui para reter a energia térmica proveniente do Sol.
- III. A tabela constitui uma ferramenta para análise de dados e seu uso nas aulas de ciências permite desenvolver habilidades como demonstrar que o ar é uma mistura de gases e discutir fenômenos naturais ou antrópicos que podem alterar essa composição.

Está correto o que se afirma em

- (A) I, apenas.
- (B) I e II, apenas.
- (C) I e III, apenas.
- (D) II e III, apenas.
- (E) I, II e III.

43

Um kit produzido pela Companhia de Água e Esgoto do Amapá (Caesa) oferece meios para o tratamento da água em regiões isoladas, permitindo que ela se torne potável.

Os kits são confeccionados a partir do reaproveitamento das embalagens (baldes) de produtos químicos, utilizados nos sistemas de tratamento de água na capital e demais municípios, que antes não tinham destinação. Essas embalagens são customizadas e se transformam em filtros.

O kit contém também uma certa quantidade de cal, sulfato de alumínio e hipoclorito de sódio, substâncias utilizadas no tratamento da água coletada de rios e lagos. Tais substâncias atuam, respectivamente, em

- (A) desinfecção, floculação de partículas poluentes e redução do pH da água.
- (B) ajuste do pH, coagulação de impurezas e desinfecção da água.
- (C) floculação de impurezas, redução da acidez e esterilização da água.
- (D) desarenação, alcalinização e decantação de partículas poluentes da água.
- (E) fluoreação, aumento do pH e eliminação de microrganismos da água.

44

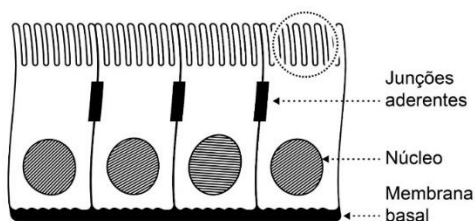
Algumas relações fundamentais na vida de um organismo são suas interações com indivíduos de outras espécies na comunidade. Essas interações interespecíficas costumam ser caracterizadas por sinais que indicam os efeitos que as espécies têm umas sobre as outras: positivo (+), negativo (-) ou neutro (0).

Assim, considerando as relações de comensalismo e amensalismo, os sinais correspondentes seriam, respectivamente,

- (A) (+/0) e (-/0).
- (B) (+/+) e (+/0).
- (C) (+/+) e (-/-).
- (D) (+/-) e (+/+).
- (E) (-/0) e (-/-).

45

A figura a seguir mostra, de forma esquemática, as células de um tecido encontrado no corpo humano. No polo apical das células evidenciam-se diferenciações associadas à função exercida por esse tecido.



O tecido em questão pode ser encontrado

- (A) na tuba uterina.
- (B) na traqueia.
- (C) na conjuntiva ocular.
- (D) na bexiga.
- (E) no intestino delgado.

46

O hábito de captar e consumir água de rios, onde concomitantemente é feito o despejo de esgoto, é responsável pela proliferação de um grande número de doenças entre a população de baixa renda.

Exemplos de doenças associadas a condições inadequadas de saneamento são

- (A) hepatite, causada por vírus e esquistossomose, causada por protozoário.
- (B) cólera, causada por vírus e ascaridíase, causada por nematódeo.
- (C) febre chikungunya, causada por vírus e febre amarela, causada por mosquito.
- (D) leptospirose, causada por vírus e teníase, causada por nematódeo.
- (E) dengue, causada por vírus e malária, causada por protozoário.

47

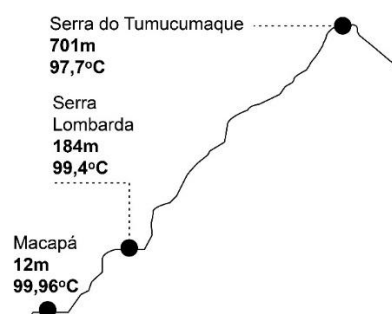
Mais de 40 espécies de aves migratórias chegam ao Amapá todos os anos, fugindo do rigoroso inverno no Hemisfério Norte. Tal proeza é possível pois as aves apresentam diversas adaptações que permitem a elas voar por muitas horas, atividade que requer um enorme consumo de energia.

Entre as características listadas a seguir, aquela que é uma adaptação das aves diretamente relacionada ao voo é a(o)

- (A) posição do hálux.
- (B) circulação dupla e completa.
- (C) ectotermia.
- (D) amoniotelismo.
- (E) ovo com casca calcárea.

48

Em uma aula sobre mudanças de estados físicos, os alunos usaram uma calculadora on-line que mede o ponto de ebulição da água em diferentes locais do estado do Amapá, de acordo com a altitude. O resultado está representado na figura a seguir.



Os alunos, então realizaram pesquisas para tentar explicar os valores encontrados. Eles puderam concluir, corretamente, que

- (A) ao nível do mar, a pressão atmosférica é menor, as moléculas da água adquirem maior energia cinética e, como resultado, o ponto de ebulição é maior.
- (B) em elevadas altitudes a atmosfera é menos densa, o ar é mais frio e, conseqüentemente, é mais difícil para as moléculas da água se afastarem e entrarem em ebulição.
- (C) quanto menor a altitude, maior a pressão exercida sobre o líquido, o que torna mais difícil sua mudança para o estado de vapor.
- (D) em locais mais elevados, a pressão sobre a superfície do líquido é maior e as moléculas necessitam de menos energia para entrar em ebulição.
- (E) próximo ao nível do mar, a pressão de vapor da água é menor que a pressão de vapor no alto de uma montanha, assim é preciso fornecer mais calor para causar a evaporação.

49

No município de Oiapoque (AP), um sistema híbrido de geração de energia é composto por uma usina fotovoltaica de 4MW, uma usina térmica de 12MW com geradores a diesel e, para os próximos anos, há a previsão de instalação de uma pequena central hidrelétrica (PCH), com capacidade de 7,5MW.

Com relação às usinas geradoras de energia citadas, analise as afirmativas a seguir.

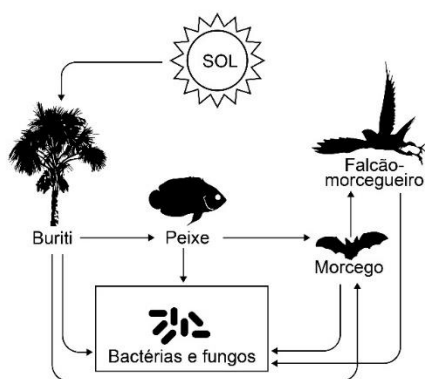
- I. A usina hidrelétrica é considerada uma fonte de energia “limpa”, pois é renovável e sua instalação e funcionamento não geram gases de efeito estufa.
- II. Na usina termelétrica, o diesel é usado para aquecer a água que, no estado de vapor, aciona as turbinas da usina para produzir energia elétrica. Observa-se assim, a sequência de transformações de energia: química → térmica → cinética → elétrica.
- III. A usina fotovoltaica converte energia luminosa em energia elétrica. Possui baixo impacto ambiental, mas é considerada uma fonte de energia intermitente, devido à variabilidade das condições meteorológicas.

Está correto o que se afirma em

- (A) I, apenas.
- (B) I e II, apenas.
- (C) I e III, apenas.
- (D) II e III, apenas.
- (E) I, II e III.

50

A figura a seguir representa uma cadeia alimentar que ocorre na floresta amazônica.



Sobre esta cadeia, pode-se afirmar corretamente que

- (A) bactérias e fungos estão ocupando o primeiro nível trófico.
- (B) morcegos são animais onívoros.
- (C) o falcão-morcegueiro pode ser consumidor de 3ª ou 4ª ordem.
- (D) o morcego tem mais energia disponível ao se alimentar de peixe do que do buriti.
- (E) bactérias e fungos são autótrofos.

51

O cultivo do coqueiro (*Cocos nucifera*) vem tendo sua área aumentada no Amapá. Com o crescimento do cultivo, percebe-se o aumento acentuado de seus inimigos naturais, como a broca-do-bulbo do coqueiro (*Strategus aloeus*). O animal adulto é um besouro de hábitos noturnos, medindo cerca de 6 cm de comprimento por 4cm de largura. O adulto escava galerias, levando o vegetal à morte. As larvas geralmente se desenvolvem nos restos de madeira em decomposição próximos ao plantio.

A broca-do-bulbo do coqueiro, como os demais coleópteros, é

- (A) ametábolo, ou seja, não tem metamorfose.
- (B) hemimetábolo, ou seja, tem metamorfose completa.
- (C) holometábolo, ou seja, tem metamorfose incompleta.
- (D) hemimetábolo, ou seja, tem metamorfose incompleta.
- (E) holometábolo, ou seja, tem metamorfose completa.

52

“O amapá, *Parahancornia fasciculata*, é uma árvore de grande porte que deu nome ao Estado do Amapá. Suas flores são pequenas, brancas e perfumadas, tubulares, de 5 pétalas soldadas entre si. A floração ocorre em diferentes períodos do ano, principalmente em abril ou setembro. O fruto é esférico, avermelhado a arroxeado, de casca lisa, suave e de polpa inicialmente translúcida e amarelada, depois pastosa e alaranjada, doce. As sementes são alvas, ovais, achatadas.

O leite do amapá, forte e amargo, é remédio e tônico poderoso usado por populações rurais e urbanas há centenas de anos, e estudos recentes comprovaram a ação analgésica e anti-inflamatória da espécie”.

(adaptado de <http://www.umpedeque.com.br/arvore.php?id=660>)

O amapá é uma Angiosperma, grupo vegetal de ampla distribuição no planeta. Das características citadas a seguir, assinale aquela(s) exclusiva(s) deste grupo.

- (A) sementes.
- (B) frutos.
- (C) frutos e sementes.
- (D) vasos condutores de seiva e sementes.
- (E) vasos condutores de seiva e frutos.

53

“Um grupo de pesquisadores confirmou, através de uma expedição, a existência de um santuário de árvores gigantes na divisa do Pará com o Amapá. O santuário, composto por árvores da espécie *Dinizia excelsa*, conhecida popularmente como angelim vermelho, está localizado na Floresta Estadual do Paru, na divisa entre os dois estados amazônicos. A maior árvore do grupo chega a medir 88 metros de altura e 5,5 metros de circunferência”.

(Adaptado de <https://www.portal.ap.gov.br/noticia/0209/santuuario-com-arvore-que-chega-a-88-metros-foi-descoberto-na-divisa-do-amapa-com-o-para>)

Sabendo que a densidade média do angelim vermelho é de 0,79g/cm³, considere uma amostra da madeira dessa árvore que tem a forma de um cubo com 2,0cm de aresta.

A massa, em gramas, desse cubo é

- (A) 1,58.
- (B) 0,39.
- (C) 2,53.
- (D) 6,32.
- (E) 0,09.

54

“Quanta do latim/ Plural de quantum/ Quando quase não há/ Quantidade que se medir/ Qualidade que se expressar/ Fragmento infinitésimo/ Quase que apenas mental/ Quantum granulado no mel/ Quantum ondulado do sal/ Mel de urânio, sal de rádio/ Qualquer coisa quase ideal/ Cântico dos cânticos/ Quântico dos quânticos/...”

(Gilberto Gil, 1995)

Gil cita em sua música um conceito fundamental e complexo da física moderna: o *quantum*, introduzido por Max Planck e, mais tarde, utilizado por Einstein.

Dos cientistas que pesquisaram a constituição da matéria citados a seguir, aquele que, baseado na teoria quântica de Planck, demonstrou que os elétrons apresentam níveis de energia foi:

- (A) John Dalton.
- (B) Joseph J. Thomson.
- (C) Niels Bohr.
- (D) Aristóteles.
- (E) Antonie Lavoisier.

55

Os solos do Amapá são, de forma geral, ácidos e de baixa fertilidade. Entre as classes de maior representatividade no Estado, estão os Gleissolos, que são solos recentes e pouco profundos, muito argilosos e cujas cores predominantes são acinzentadas e avermelhadas devido aos processos de oxidação do ferro.

Os solos argilosos contêm partículas de argila,

- (A) seu único constituinte. Em geral, esse tipo de solo é menos permeável que os solos arenosos. A argila é formada por grãos muito pequenos, menores que os grãos de silte, que, por sua vez, são menores que os grãos de areia.
- (B) embora haja também silte e areia. Em geral, esse tipo de solo é menos permeável que os solos arenosos. A argila é formada por grãos muito pequenos, menores que os grãos de silte, que, por sua vez, são menores que os grãos de areia.
- (C) seu único constituinte. Em geral, esse tipo de solo é mais permeável que os solos arenosos. A argila é formada por grãos muito pequenos, menores que os grãos de silte, que, por sua vez, são menores que os grãos de areia.
- (D) embora haja também silte e areia. Em geral, esse tipo de solo é menos permeável que os solos arenosos. A argila é formada por grãos muito pequenos, maiores que os grãos de silte, mas menores que os grãos de areia.
- (E) embora haja também silte e areia. Em geral, esse tipo de solo é tão permeável quanto os solos arenosos. A argila é formada por grãos muito pequenos, maiores que os grãos de silte, mas menores que os grãos de areia.

56

Os biomas brasileiros prestam importantes serviços tais como a manutenção do ciclo hidrológico, a fertilidade do solo, a proteção das áreas de risco, a produção e a limpeza da água, a manutenção da qualidade do ar, o sequestro de carbono, o equilíbrio climático e a proteção da diversidade biológica da fauna e da flora.

Com relação a alguns biomas brasileiros, analise as afirmativas a seguir:

- I. Na Floresta Amazônica, a rápida reciclagem da matéria orgânica é fundamental para a manutenção da comunidade. Isso ocorre porque o solo é pobre em nutrientes.
- II. O Cerrado e a Mata Atlântica são ecossistemas muito ameaçados e sob grande pressão antrópica. Ambos são *hotspots* de biodiversidade.
- III. A Caatinga é uma zona quente e seca, de clima semiárido, com baixo índice pluviométrico e estações de seca prolongada.

Está correto o que se afirma em

- (A) I, apenas.
- (B) I e II, apenas.
- (C) I e III, apenas.
- (D) II e III, apenas.
- (E) I, II e III.

57

Materiais descartados, como resíduos sólidos, compõem o lixo. Se não receberem tratamento e destino adequados, eles podem poluir e contaminar os ambientes, causando problemas sérios.

Quando o lixo é depositado em espaços escavados e forrados com uma manta impermeável temos

- (A) o aterro sanitário. Nele há um sistema de escoamento do chorume e da água das chuvas, o que protege o solo e os lençóis freáticos. Há também uma tubulação para a saída dos gases resultantes da decomposição.
- (B) o lixão. Nele a decomposição da matéria orgânica produz o chorume, que, carregado pela água da chuva, pode contaminar os rios e a água subterrânea.
- (C) o aterro sanitário. Nele há um sistema de escoamento do chorume e da água das chuvas que são direcionados para os cursos de água, protegendo o solo. Há também uma tubulação para a saída dos gases resultantes da decomposição.
- (D) o lixão. Nele há um sistema de escoamento do chorume e da água das chuvas, o que protege o solo e os lençóis freáticos. Há também uma tubulação para a saída dos gases resultantes da decomposição.
- (E) o aterro sanitário. Nele a decomposição da matéria orgânica produz o chorume, que, carregado pela água da chuva, pode contaminar os rios e a água subterrânea.

58

“Um estudo da Universidade Estadual Paulista apontou que os ouriços-do-mar estão envolvidos em mais de 50% dos acidentes ocorridos no litoral. Em segundo lugar, vêm as caravelas e águas vivas, com 25%”.

(<https://super.abril.com.br/ciencia/ourico-e-agua-viva-sao-principais-causas-de-acidentes-nas-praias-do-brasil-veja-como-evitar/>)

Os animais do filo *Echinodermata* são animais de vida livre,


- (A) exclusivamente marinhos, apresentam endoesqueleto e são deuterostomados.
- (B) marinhos ou dulcícolas, apresentam exoesqueleto e são deuterostomados.
- (C) exclusivamente marinhos, apresentam exoesqueleto e são deuterostomados.
- (D) marinhos ou dulcícolas, apresentam endoesqueleto e são protostomados.
- (E) exclusivamente marinhos, apresentam endoesqueleto e são protostomados.

59

“Aulas práticas de laboratório são insubstituíveis no ensino de Ciências, pois permitem que os alunos tenham contato direto com os fenômenos, manipulando as matérias e equipamentos e observando os organismos”.

(KRASILCHIK, M. Prática de Ensino de Biologia. 4ª edição. São Paulo: EDUSP, 2008)

Sabendo disso, um professor de Ciências realizou o seguinte experimento: inicialmente, instruiu seus alunos a prenderem uma vela acesa em um pires e a colocarem água o bastante no pires, mas de forma que ela não entornasse. A seguir, pediu que eles cobrissem a vela com um copo, como no momento 1 da imagem abaixo:



Os alunos perceberam que, no momento 2, a chama da vela apagou e a água subiu pelo interior do copo até certa altura.

O professor pediu aos alunos que formulassem uma hipótese explicativa para o fenômeno. Das várias proposições feitas, a correta era a que dizia que a água subiu porque a pressão

- (A) do ar no interior do copo ficou maior que a pressão atmosférica do exterior, o que forçou a entrada do líquido no copo.
- (B) da água no interior do copo ficou menor que a pressão da água no exterior, o que forçou a entrada do líquido no copo.
- (C) do ar no interior do copo ficou menor que a pressão atmosférica do exterior, o que forçou a entrada do líquido no copo.
- (D) da água no exterior do copo ficou menor que a pressão da água no interior, o que forçou a entrada do líquido no copo.
- (E) atmosférica no exterior do copo ficou menor que a pressão do ar do interior, o que forçou a entrada do líquido no copo.

60

“Dados do relatório do Painel Intergovernamental sobre Mudanças Climáticas (IPCC) indicam que as ações humanas de degradação do meio ambiente são as principais causadoras do aquecimento global. A estimativa é de um aumento na temperatura global de 2°C a 5°C até o fim deste século”.

(Tapajós de Fato, 15 de setembro de 2022)

Sobre o aquecimento global e o efeito estufa, é correto afirmar que

- (A) a destruição da camada de ozônio é o responsável pelo aquecimento global, já que esta camada retém o calor que chega do Sol.
- (B) o aquecimento global ajuda a manter a temperatura média da superfície da Terra compatível com a vida. Já o efeito estufa é o aumento provocado pelo homem da temperatura da superfície da Terra.
- (C) a destruição da camada de ozônio é o grande responsável pelo efeito estufa, já que esta camada retém o calor que chega do Sol.
- (D) o efeito estufa é um fenômeno natural que ajuda a manter a temperatura média da superfície da Terra compatível com a vida. Já o aquecimento global é a intensificação do efeito estufa com o aumento prejudicial da temperatura da superfície da Terra.
- (E) efeito estufa e aquecimento global são sinônimos, sendo ambos prejudiciais à vida no planeta e por isso devem ser combatidos.

Questão Discursiva – Estudo de Caso

O direito à diferença e a educação intercultural.

“Somos todos iguais ou somos todos diferentes? Queremos ser iguais ou queremos ser diferentes? Na atualidade motiva-nos muito mais, em nossa conduta, em nossas expectativas de futuro e projetos de vida compartilhada, o direito de sermos pessoal e coletivamente diferentes uns dos outros”. Esse é o principal desafio de uma educação em perspectiva intercultural.

A primeira característica da interculturalidade é a promoção deliberada da interrelação entre os diferentes grupos culturais presentes na sociedade. Nesse sentido, essa perspectiva se opõe tanto às visões que defendem a afirmação radical de identidades culturais específicas (diferencialismos), quanto às que não valorizam a explicitação da riqueza das diferenças culturais (assimilacionismos). Em contrapartida, a interculturalidade rompe com o conceito essencialista de cultura, valorizando suas raízes históricas e dinâmicas, sem fixar as pessoas em determinado padrão cultural. Uma terceira característica é a afirmação de que nas sociedades em que vivemos os processos de hibridização cultural são intensos e mobilizadores da construção de identidades abertas. Sempre que a humanidade pretendeu promover a pureza cultural e étnica, as consequências foram trágicas: genocídio, holocausto, eliminação e negação do outro. A consciência dos mecanismos de poder que permeiam as relações culturais constitui outra característica dessa perspectiva. Por serem históricas, as relações estão atravessadas por questões de poder, assimetrias, preconceitos e discriminações. Uma última característica a ser assinalada diz respeito ao fato de a interculturalidade considerar o direito à diferença, uma vez que a questão da diferença assume hoje uma importância especial e transforma-se na reivindicação de um direito: não só o direito de os diferentes a serem iguais, mas o direito de afirmar a diferença.

Adaptado de CANDAU, Vera. “Direitos humanos, educação e interculturalidade: as tensões entre igualdade e diferença”. *Revista Brasileira de Educação* v. 13 n. 37 jan./abr. 2008.

Com base no texto, responda os itens a seguir.

1. Identifique quatro características atribuídas ao conceito de interculturalidade. (2,0 pontos)
2. Explique as relações estabelecidas entre o conceito de interculturalidade e o direito à diferença. (4,0 pontos)
3. Caracterize duas medidas que podem promover uma educação para o reconhecimento do “outro”, no sentido do diálogo entre os diferentes grupos sociais e culturais do Amapá. (4,0 pontos)

1

2

3

4

5

6

7

8

9

10

11

12

13

14

15

16

17

18

19

20

21

22

23

24

25

26

27

28

29

30

RASCUNHO

Realização

