



**GOVERNO DO ESTADO DO AMAPÁ**  
**SECRETARIA DE ESTADO DA ADMINISTRAÇÃO**  
**(EDITAL Nº 001/2022)**  
**EDUCAÇÃO**

**PROFESSOR DA EDUCAÇÃO BÁSICA E PROFISSIONAL**  
**ENSINO ESPECIAL**  
**TIPO 1 – BRANCA**



**SUA PROVA**

- Além deste caderno contendo **60 (sessenta)** questões objetivas e **1 (uma)** questão discursiva, você receberá do fiscal de prova o cartão-resposta e uma folha de textos destinada à resposta definitiva da questão discursiva.



**TEMPO**

- Você dispõe de **4 (quatro) horas** para a realização da prova, já incluído o tempo para a marcação do cartão-resposta e preenchimento da folha de textos definitivos.
- **2 (duas) horas** após o início da prova é possível retirar-se da sala, sem levar o caderno de prova.
- A partir dos **30 minutos** anteriores ao término da prova é possível retirar-se da sala **levando o caderno de provas**.



**NÃO SERÁ PERMITIDO**

- Qualquer tipo de comunicação entre os candidatos durante a aplicação da prova.
- Anotar informações relativas às respostas em qualquer outro meio que não seja o caderno de prova.
- Levantar da cadeira sem autorização do fiscal de sala.
- Usar o sanitário ao término da prova, após deixar a sala.



**INFORMAÇÕES GERAIS**

- Verifique se seu caderno de provas está completo, sem repetição de questões ou falhas. Caso contrário, notifique imediatamente o fiscal da sala, para que sejam tomadas as devidas providências.
- Confira seus dados pessoais, especialmente nome, número de inscrição e documento de identidade e leia atentamente as instruções para preencher o cartão-resposta e a folha de textos definitivos.
- Use somente caneta esferográfica, fabricada em material transparente, com tinta preta ou azul.
- Assine seu nome apenas no(s) espaço(s) reservado(s).
- Confira seu cargo, cor e tipo do caderno de provas. Caso tenha recebido caderno de cargo ou cor ou tipo **diferente** do impresso em seu cartão-resposta, o fiscal deve ser **obrigatoriamente** informado para o devido registro na ata da sala.
- Reserve tempo suficiente para o preenchimento do seu cartão-resposta e da folha de textos definitivos. O preenchimento é de sua responsabilidade e **não** será permitida a troca do cartão-resposta e da folha de textos definitivos em caso de erro do candidato.
- Para fins de avaliação, serão levadas em consideração apenas as marcações realizadas no cartão-resposta e na folha de textos definitivos.
- A FGV coletará as impressões digitais dos candidatos na lista de presença.
- Os candidatos serão submetidos ao sistema de detecção de metais quando do ingresso e da saída de sanitários durante a realização das provas.
- **Boa sorte!**



## Língua Portuguesa

1

Uma das marcas da textualidade é a coerência. Entre as frases abaixo, assinale aquela que se mostra **incoerente**.

- (A) O caminho que desce e o caminho que sobe são os mesmos.
- (B) Há coisas que são tão sérias, que você tem que rir delas.
- (C) Se o mundo fosse bom, o dono morava nele.
- (D) Eu não creio em Deus, mas tenho medo dele.
- (E) O problema com as crianças é que elas não são retornáveis.

2

Nas frases abaixo, foi empregada a preposição COM, com valor nocional.

Assinale a frase cujo valor semântico da preposição está corretamente indicado.

- (A) Ler um livro, para mim, é ausentar-me com o autor / modo.
- (B) O livro é um pássaro com mais de cem asas para voar / companhia.
- (C) Decidi sair do jogo enquanto estou com a bola, em vez de esperar que ela me escape / estado.
- (D) Quando você possuiu um livro com mente e espírito, você enriqueceu / tempo.
- (E) Fotografe com a cabeça e não só com a câmera: seja repórter 24h por dia / matéria.

3

Entre as opções abaixo, assinale aquela em que o aumentativo sublinhado perdeu o valor de aumentativo, designando uma outra realidade.

- (A) O entregador tocou a campainha e ficou esperando no portão.
- (B) O fazendeiro tinha um cachorrão para vigiar a plantação.
- (C) O panelão da feijoada já estava sobre o fogão.
- (D) O apartamento tinha um varandão na frente.
- (E) Na parte de trás, havia um terrenão para o plantio de frutas.

4

Todas as frases abaixo foram reescritas após um deslocamento de termos, com a finalidade de criar-se um pleonasmo.

Assinale a opção em que essa modificação foi feita de forma adequada.

- (A) Quem não está comigo está contra mim / Está contra mim aquele que não está comigo.
- (B) Aceite meu conselho. Eu não o uso mesmo / Meu conselho, aceite-o. Eu não o uso mesmo.
- (C) Os amigos são como os táxis, quando faz mau tempo, escasseiam / Escasseiam os amigos quando faz mau tempo, como os táxis.
- (D) A amizade é um comércio desinteressado entre amigos / A amizade, entre amigos, é um comércio desinteressado.
- (E) Escreva na areia as falhas de teu amigo / As falhas de teu amigo, escreva-lhes na areia.

5

Assinale a frase em que a troca de posição dos termos sublinhados **modifica** o sentido original da frase.

- (A) As principais ameaças nessa vida são as pessoas que querem mudar tudo.
- (B) A dificuldade reside não nas novas ideias, mas em escapar das velhas.
- (C) A mais curta distância entre dois pontos está sob construção.
- (D) Trabalho duro e uma atitude apropriada preparam você para os golpes de sorte.
- (E) O preço da liberdade é a eterna vigilância.

6

Assinale a frase abaixo que exemplifica uma interrogação direta e não uma interrogação indireta ou retórica.

- (A) Quem pode orgulhar-se de nunca se ter enganado?
- (B) Já não te disse isso antes?
- (C) Quem virá à festa?
- (D) O senhor pode andar mais depressa?
- (E) Você pode me dar licença?

7

Em todas as opções abaixo há uma oração reduzida de infinitivo, que foi modificada, respectivamente, para uma oração desenvolvida e, a seguir, para uma estrutura nominal.

Assinale a opção em que houve **erro** numa dessas modificações.

- (A) Poucas palavras têm o poder de “meu” para afastar as pessoas / Poucas palavras têm o poder de “meu” para que afaste as pessoas / Poucas palavras têm o poder de “meu” para o afastamento das pessoas.
- (B) Algumas pessoas estão vivas apenas porque é ilegal matá-las / Algumas pessoas estão vivas apenas porque é ilegal que as matem / Algumas pessoas estão vivas apenas porque é ilegal a sua morte.
- (C) A boa educação consiste em ocultar o alto conceito que temos a nosso respeito / A boa educação consiste em que se oculte o alto conceito que temos a nosso respeito / A boa educação consiste no ocultamento do alto conceito que temos a nosso respeito.
- (D) Nunca acreditei em nada até ser oficialmente negado / Nunca acreditei em nada até que fosse oficialmente negado / Nunca acreditei em nada até a negação oficial.
- (E) Chamávamos de céticos aqueles que tinham ilusões diferentes das nossas sem nos preocupar em saber se eles tinham outras / Chamávamos de céticos aqueles que tinham ilusões diferentes das nossas sem que nos preocupemos em saber se eles tinham outras / Chamávamos de céticos aqueles que tinham ilusões diferentes das nossas sem a preocupação de saber se eles tinham outras.

8

Em todas as opções abaixo, há um termo ou segmento sublinhado; assinale a opção em que esse termo ou segmento **não** mostra duplicidade de sentido em referência ao conteúdo da frase.

- (A) Não há nenhum futuro em viagem no tempo.
- (B) Não ligue para os problemas da vida, pois eles não têm telefone.
- (C) O futuro é apenas outro nome para um presente que ainda não desembulhamos.
- (D) Tempo é um oceano, mas ele termina na costa.
- (E) O governo não devia preocupar-se com o meio ambiente, mas com o ambiente inteiro.

9

Na frase “Não se deliberam sentimentos; ama-se ou aborrece-se, conforme o coração quer”, as três formas do vocábulo SE são respectivamente classificadas como

- (A) pronome apassivador / indeterminador do sujeito / indeterminador do sujeito.
- (B) pronome apassivador / pronome apassivador / pronome apassivador.
- (C) indeterminador do sujeito / indeterminador do sujeito / indeterminador do sujeito.
- (D) pronome reflexivo / pronome apassivador / indeterminador do sujeito.
- (E) pronome apassivador / pronome reflexivo / pronome reflexivo.

10

Em todas as frases abaixo há comparações; assinale a opção em que a comparação estabelecida **não** está explicada.

- (A) Os homens são como os livros, muitas vezes são apreciados tarde em demasia.
- (B) Homens são como traduções. Os bonitos não são fiéis. E os fiéis não são bonitos.
- (C) Os homens mais felizes, assim como as nações mais felizes, não têm história.
- (D) Os homens, como sonho, nunca são como imaginamos.
- (E) Como Miss América, meu objetivo é trazer a paz para o mundo inteiro.

## Legislação Educacional

11

Com base na Lei nº 9.394/96, de Diretrizes e Bases da Educação Nacional, as seguintes afirmativas acerca da educação básica estão corretas, **à exceção de uma**. Assinale-a.

- (A) A educação básica tem por finalidades desenvolver o educando, assegurar-lhe a formação comum indispensável para o exercício da cidadania e fornecer-lhe meios para progredir no trabalho e em estudos posteriores.
- (B) São objetivos precípuos da educação básica a alfabetização plena e a formação de leitores.
- (C) A escola poderá reclassificar os alunos tendo como base as normas curriculares gerais, exceto quando se tratar de transferências entre estabelecimentos situados no País e no exterior.
- (D) A carga horária mínima anual será de oitocentas horas para o ensino fundamental e para o ensino médio, distribuídas por um mínimo de duzentos dias de efetivo trabalho escolar, excluído o tempo reservado aos exames finais, quando houver.
- (E) Nos estabelecimentos que adotam a progressão regular por série, o regimento escolar pode admitir formas de progressão parcial, desde que preservada a sequência do currículo, observadas as normas do respectivo sistema de ensino.

12

Avalie, com base na Lei nº 9.394/96, de Diretrizes e Bases da Educação Nacional, se o ensino será ministrado, entre outros, nos seguintes princípios:

- I. Gratuidade do ensino público em estabelecimentos oficiais.
- II. Valorização do profissional da educação escolar.
- III. Valorização da experiência extraescolar.
- IV. Consideração com a diversidade étnico-racial.

Estão corretos:

- (A) I e II, apenas.
- (B) III e IV, apenas.
- (C) I, II e III, apenas.
- (D) II, III e IV, apenas.
- (E) I, II, III e IV.

13

Avalie, com base no Estatuto da Criança e do Adolescente – ECA – Lei nº 8.069/90, se as afirmativas a seguir são falsas (F) ou verdadeiras (V).

- ( ) A Lei nº 8.069/90 dispõe sobre a proteção integral à criança e parcial ao adolescente.
- ( ) Considera-se criança, para os efeitos da Lei nº 8.069/90, a pessoa até doze anos de idade incompletos, e adolescente aquela entre doze e dezoito anos de idade.
- ( ) A criança e o adolescente gozam de todos os direitos fundamentais inerentes à pessoa humana.

As afirmativas são, respectivamente,

- (A) V, V e V.
- (B) F, V e V.
- (C) V, F e F.
- (D) F, V e F.
- (E) F, F e F.

14

Com base na Lei nº 9.394/96, de Diretrizes e Bases da Educação Nacional, o ensino médio, etapa final da educação básica, com duração mínima de três anos, terá as seguintes finalidades, **à exceção de uma**. Assinale-a.

- (A) A consolidação e o aprofundamento dos conhecimentos adquiridos no ensino fundamental, possibilitando o prosseguimento de estudos.
- (B) A preparação básica para o trabalho e a cidadania do educando, para continuar aprendendo, de modo a ser capaz de se adaptar com flexibilidade a novas condições de ocupação ou aperfeiçoamento posteriores.
- (C) O aprimoramento do educando como pessoa humana, incluindo a formação ética e o desenvolvimento da autonomia intelectual e do pensamento crítico.
- (D) A compreensão dos vínculos de família e dos laços de convivência humana.
- (E) A compreensão dos fundamentos científico-tecnológicos dos processos produtivos, relacionando a teoria com a prática, no ensino de cada disciplina.

15

“Art. 15. A criança e o adolescente têm direito à liberdade, ao respeito e à dignidade como pessoas humanas em processo de desenvolvimento e como sujeitos de direitos civis, humanos e sociais garantidos na Constituição e nas leis”.

(Estatuto da Criança e do Adolescente)

Avalie se o direito à liberdade compreende, entre outros, os seguintes aspectos:

- I. Ir, vir e estar, sem restrições legais ou impostas, nos logradouros públicos e espaços comunitários.
- II. Opinião e expressão.
- III. Brincar, praticar esportes e divertir-se.
- IV. Buscar refúgio, auxílio e orientação.

Estão corretos os itens:

- (A) I e II, apenas.
- (B) III e IV, apenas.
- (C) II, III e IV, apenas.
- (D) I, II e III, apenas.
- (E) I, II, III e IV.

16

De acordo com o Plano Nacional da Educação em Direitos Humanos, a educação em direitos humanos é compreendida como um processo sistemático e multidimensional que orienta a formação do sujeito de direitos, articulando as seguintes dimensões, à exceção de uma, que está errada. Assinale-a.

- (A) Apreensão de conhecimentos historicamente construídos sobre direitos humanos e a sua relação com os contextos internacional, nacional e local.
- (B) Afirmção de valores, atitudes e práticas sociais que expressem a cultura dos direitos humanos em todos os espaços da sociedade.
- (C) Formação de uma consciência cidadã capaz de se fazer presente em níveis cognitivo, social, ético e político.
- (D) Desenvolvimento de processos metodológicos exclusivistas e de construção individualizada, que usam linguagens e materiais didáticos descontextualizados.
- (E) Fortalecimento de práticas individuais e sociais que gerem ações e instrumentos em favor da promoção, da proteção e da defesa dos direitos humanos, bem como da reparação das violações.

17

Com base no Art. 3º da Lei 0949/2005, avalie se a carreira dos profissionais da educação básica da Rede Pública Estadual de Ensino objetiva:

- I. A profissionalização e valorização do servidor.
- II. A melhoria do desempenho e da qualidade dos serviços de educação prestados ao conjunto da população do Estado do Amapá.
- III. A fixação de padrões e critérios de desenvolvimento funcional para as carreiras que compõem o Quadro de Pessoal dos Profissionais da Educação Básica Pública, de modo a reconhecer a qualificação profissional.
- IV. A implementação de política de pessoal, com vistas a promover o desempenho profissional, a motivação, a qualidade da educação, a eficiência, e a valorização do servidor pelo tempo de serviço.
- V. O comprometimento do profissional da Educação Básica Pública.

Estão corretos os itens:

- (A) I, III e V, apenas.
- (B) II, IV e V, apenas.
- (C) I, II e III, apenas.
- (D) II, III e IV, apenas.
- (E) I, II, III, IV e V.

18

Avalie se a Lei 0949/2005 prevê, entre outros, os seguintes direitos especiais dos profissionais da educação:

- I. Efetiva qualificação permanente, garantida pelo Estado, mediante cursos, estágios, aperfeiçoamento, especialização e atualização técnico-pedagógica sem prejuízo da sua remuneração.
- II. Dispor no ambiente de trabalho de instalações adequadas e ter a seu alcance informações educacionais, bibliotecas atualizadas, material didático, técnico-pedagógico e outros instrumentos em quantidade suficiente e apropriada, bem como contar com assessoria pedagógica que auxilie e estimule a melhoria do seu desempenho profissional e ampliação dos seus conhecimentos.
- III. Liberdade na escolha dos conteúdos e processos didáticos de acordo com a proposta pedagógica das escolas e orientação curricular do sistema estadual de ensino.
- IV. Ser defendido pela direção do estabelecimento de ensino, se ela assim entender pertinente, quando, no regular exercício de suas atividades, for agredido moralmente no ambiente de trabalho.

Estão corretos os itens

- (A) I e II, apenas.
- (B) III e IV, apenas.
- (C) I, II e III, apenas.
- (D) II, III e IV, apenas.
- (E) I, II, III e IV.

19

Avalie, com base no Art. 37 da Lei estadual nº 0066/1993 (RJU), se as seguintes afirmativas acerca do estágio probatório estão corretas:

- I. Ao entrar em exercício, o servidor nomeado para cargo em provimento efetivo ficará sujeito a estágio probatório por período de vinte e quatro meses, durante o qual a sua aptidão e capacidade serão objeto de avaliação para desempenho do cargo.
- II. No estágio probatório, serão observados os seguintes fatores: assiduidade; disciplina; capacidade de iniciativa; produtividade; responsabilidade.
- III. O servidor não aprovado no estágio probatório será exonerado ou, se estável, reconduzido ao cargo anteriormente ocupado.

Está correto o que se afirma em

- (A) I, apenas.
- (B) I e II, apenas.
- (C) II e III, apenas.
- (D) I e III, apenas.
- (E) I, II e III.

20

De acordo com o Art. 53 da Lei estadual nº 0949/2005, que trata dos deveres especiais dos profissionais da educação, no desempenho das atividades que lhe são próprias, o profissional da educação deverá agir de modo a concorrer para os objetivos a seguir, **à exceção de um**. Assinale-o.

- (A) A diluição do sentimento de nacionalidade.
- (B) O resgate e a preservação do patrimônio cultural, artístico, popular e ambiental.
- (C) A vivência e convivência em função das ideias da comunidade.
- (D) Promover o desenvolvimento do senso crítico e da consciência política do aluno.
- (E) Respeitar o aluno como sujeito do processo educacional e comprometer-se com a eficiência de seu aprendizado.

## História do Amapá

21

A região fronteira entre a Guiana Francesa e o Amapá tem um histórico marcado por disputas territoriais, que foram enfrentadas em tratados como o Provisional (1700), Utrecht (1713) e Berna (1900), com soluções diferentes a cada vez, ora optando-se pela condição de neutralidade, ora pela condição de separação.

Assinale a opção que identifica corretamente a condição do Tratado Provisional.

- (A) Condição fronteira de separação, ao redistribuir as terras a revelia dos interesses dos países litigiosos.
- (B) Condição fronteira de neutralidade, ao proibir o uso do território pelos dois países.
- (C) Condição fronteira de separação, ao estabelecer limites territoriais específicos entre os dois países.
- (D) Condição fronteira de neutralidade, ao definir as terras em disputa como área internacional.
- (E) Condição fronteira de separação, ao promover a divisão das terras por tempo de posse.

22

Leia a carta do rei de Portugal de 21 de dezembro de 1686, ao então governador do Maranhão:

*“Vos valereis ao mesmo tempo dos Missionários Capuchos de Santo Antônio, que têm as Missões do Cabo do Norte, e dos Padres da Companhia de Jesus, que forem mais a propósito a este fim, avisando-os da minha parte do que devem fazer, para se conservar sem desconfiança a sujeição dos índios das Aldeias, e se tratar e ajustar com segurança e paz e amizade do Gentio que não estiver domesticado. Com o cuidado destes Missionários podereis conseguir que os Missionários franceses não adquiram a prática dos Aruazes [Aruã], e que os Índios não busquem a comunicação alheia, esquecidos da própria e natural do meu domínio”.*

(Adaptado de ANDRADE E SILVA, José Justino de. *Collecção Cronologica da Legislação Portuguesa. 1683-1700*. Lisboa: Imprensa Nacional, 1859.)

Com base no texto, analise as afirmativas a seguir.

- I. A carta relata a disputa pelo controle dos súditos e das terras do Cabo Norte entre as ordens religiosas vinculadas diretamente ao papado e os representantes político-militares do império português.
- II. A carta manifesta o desejo de impedir que missionários franceses catequizassem os Aruã, uma vez que a adoção do calvinismo pelos ameríndios aumentaria sua hostilidade histórica em relação aos portugueses.
- III. A carta se refere à presença “estrangeira” como ameaça ao domínio político, econômico e religioso dos portugueses, que buscavam manter os índios em aldeamentos e estabelecer alianças com os não catequizados.

Está correto o que se afirma em

- (A) I, apenas.
- (B) II, apenas.
- (C) III, apenas.
- (D) I e III, apenas.
- (E) I, II e III.

23

Na segunda metade do século XX, o governo federal promoveu uma política de reordenamento econômico e territorial do Amapá mediante investimentos em infraestrutura.

Assinale a afirmativa que exemplifica corretamente obras estratégicas de infraestrutura que impactaram na reordenação socioespacial do Amapá.

- (A) A partir dos anos 1950, os rios foram complementados pelo transporte rodoviário: enquanto a malha hidrográfica servia para as longas distâncias, as estradas conectavam vilas e cidades.
- (B) Nos anos 1940, o governo do Amapá assinou o contrato de prospecção de manganês em Cassiporé e Calçoene com a Indústria de Comércio de Minérios (ICOMI).
- (C) Na década de 1950, foi construída a Estrada de Ferro do Amapá com o objetivo de transportar a borracha extraída na região do Cajari, ligando Mazagão ao porto de Santana.
- (D) Durante o regime militar (1964-1985), a política de integração nacional estimulou a construção das rodovias BR-156 e BR-210, como instrumentos de colonização e integração.
- (E) Na década de 1990, as usinas termoeletricas movidas a óleo diesel foram substituídas pelas hidrelétricas de Coaracy Nunes e Santo Antônio do Jari.

24

Em fins da década de 1980, o Amapá foi elevado à condição de estado membro da federação pela Constituição Federal (1988), o que gerou importantes transformações nos âmbitos político-administrativo e econômico.

As afirmativas a seguir indicam corretamente os impactos da estadualização do Amapá, **à exceção de uma**. Assinale-a.

- (A) No campo político, a representação parlamentar passou a ser de 8 vagas para a Câmara Federal e 3 para o Senado, além de ampliar o processo eleitoral para todos os níveis.
- (B) No campo econômico, a autonomia administrativa coincidiu com a descoberta de novas jazidas manganêsíferas e com a ampliação das atividades da ICOMI.
- (C) No campo político-administrativo, o Amapá adquiriu a autonomia e a capacidade de se auto-organizar e elaborar seu “Programa de Governo”.
- (D) No campo das finanças públicas, o Amapá passou a arrecadar suas próprias receitas, embora continue recebendo transferências da União.
- (E) No campo do uso e ocupação das terras, ocorreram um aumento da fiscalização nacional e internacional e a implementação de legislações ambientais.

25

A Fortaleza de São José de Macapá foi tombada pelo Iphan, em 1950, em reconhecimento de sua relevância histórica e arquitetônica, sendo uma das principais edificações militares existentes no Brasil e um dos mais importantes monumentos do século XVIII.

A respeito desse patrimônio do Amapá, assinale (V) para a afirmativa verdadeira e (F) para a falsa.

- ( ) É uma fortaleza complexa do ponto de vista da engenharia militar, com baluartes nos ângulos, fosso, redente, revelim e caminho coberto.
- ( ) É uma fortificação que serviu como posto avançado para controlar a circulação de embarcações holandesas ou espanholas junto aos rios Negro, Solimões e Amazonas.
- ( ) É uma grande fortificação que, a par do Real Forte do Príncipe da Beira (RO), simbolizava posse política do território, no contexto da política pombalina.

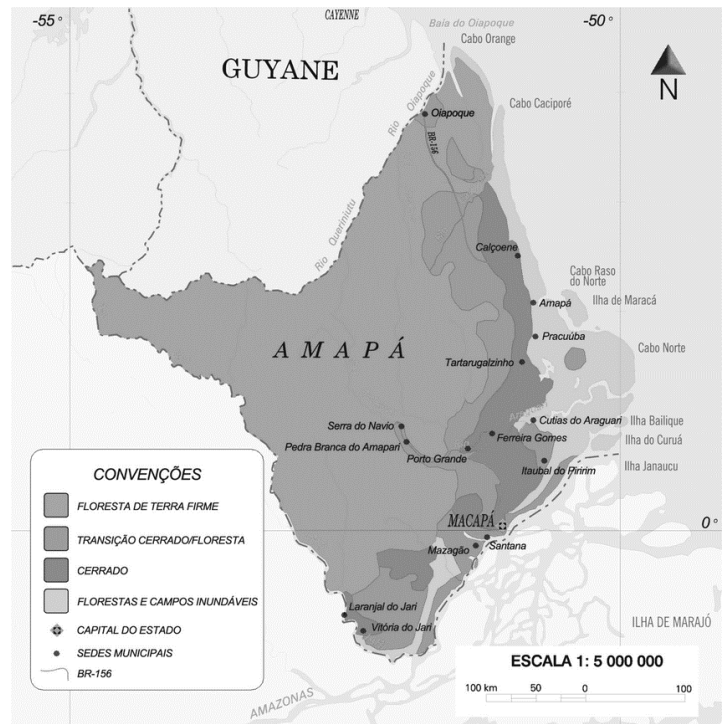
As afirmativas são, respectivamente,

- (A) V – V – F.
- (B) V – F – F.
- (C) F – V – F.
- (D) V – F – V.
- (E) V – V – V.

## Geografia do Amapá

26

Mais de 70% da área do Amapá está coberta pela *floresta de terra-firme* e o estado é o que apresenta a menor taxa de desmatamento, em torno de 1%.



Sobre a floresta de terra-firme, assinale a afirmativa correta.

- (A) Caracteriza-se por ser homogênea sob o ponto de vista florístico, havendo um pequeno número de espécies por hectare.
- (B) Possui uma grande massa foliar que, através do processo de evapotranspiração, atua na manutenção do equilíbrio hídrico reinante.
- (C) Desenvolve-se em áreas que estão sujeitas a inundações periódicas, por estar situada nas planícies aluvionais que margeiam os rios.
- (D) Mostra grande densidade de árvores em que as copas frondosas formam um dossel contínuo que permite a forte insolação do solo.
- (E) Apresenta crescimento contínuo permanecendo verde durante todo o ano, mas perde as folhas durante o período mais seco, no outono.

27

Em relação aos serviços de saneamento básico no estado do Amapá, analise as afirmativas a seguir e assinale (V) para a verdadeira e (F) para a falsa.

- ( ) A escassez de investimentos públicos tem limitado a expansão dos serviços de saneamento, o que impede que eles atendam à demanda.
- ( ) O lançamento de esgoto doméstico sem tratamento nos cursos d'água tem agravado a poluição dos recursos hídricos, o que torna a água um veículo de doenças.
- ( ) O uso de metais pesados nos garimpos tem contaminado os corpos d'água, o que expõe a fauna aquática e as populações ribeirinhas a graves riscos sanitários.

As afirmativas são, na ordem apresentada, respectivamente,

- (A) V – F – V.
- (B) F – V – V.
- (C) V – V – V.
- (D) V – V – F.
- (E) F – V – F.

28

Sobre as consequências ambientais do uso das áreas de *ressacas* para habitação, analise as afirmativas a seguir.

- I. Representa uma perda da biodiversidade, uma vez que se faz necessário o desmatamento de grandes áreas.
- II. Reduz a velocidade do escoamento das águas superficiais, uma vez que são feitos aterramentos para a instalação da infraestrutura urbana.
- III. Aumenta as variações da temperatura ao longo do ano, uma vez que facilita a circulação dos ventos de nordeste provenientes do oceano.

Está correto o que se afirma em

- (A) I, apenas.
- (B) I e II, apenas.
- (C) I e III, apenas.
- (D) II e III, apenas.
- (E) I, II e III.

29

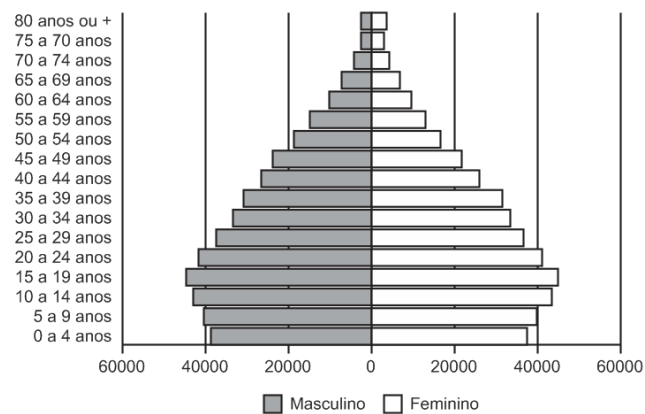
Em 2010, o Produto Interno Bruto (PIB) do estado do Amapá representava 3,5% do PIB total da Região Norte e 0,2% do PIB total do país, segundo o IPEA. Em que pese a pequena contribuição para o PIB brasileiro, a economia amapaense tem crescido acima da média nacional.

Sobre a economia do estado do Amapá, assinale a afirmativa correta.

- (A) A geração de empregos na administração pública, mediante a realização de concursos públicos, tem estimulado fluxos de migrantes mais qualificados.
- (B) A instalação da infraestrutura viária tem ampliado o mercado de trabalho fora do eixo Macapá/Santana, o que tem promovido a interiorização do povoamento.
- (C) A expansão da agricultura empresarial nas áreas de cerrado tem atraído novos investimentos, o que tem aumentado a participação da agricultura no PIB.
- (D) A ligação ao sistema integrado nacional de eletricidade permitiu a instalação de setores industriais intensivos em energia, como a metalurgia do manganês.
- (E) A ampliação das atividades terciárias superiores – comércio e transportes - dão origem a novas funções urbanas, o que tem diminuído a ação polarizante de Macapá.

30

Analise a pirâmide etária do estado do Amapá (2019), a seguir.



(Fonte: DATASUS, 2019. Adaptado)

Sobre a pirâmide etária do Amapá, assinale a afirmativa correta.

- (A) A maior longevidade feminina é explicada pelos melhores salários recebidos pelas mulheres.
- (B) O desequilíbrio entre o contingente de homens e o de mulheres sugere uma queda nas taxas de fecundidade.
- (C) A chegada dos fluxos de imigrantes diminui a expectativa de vida e justifica o pequeno contingente de jovens.
- (D) O estreitamento da base é explicado pela adoção de procedimentos antinatalistas e de planejamento familiar.
- (E) O numeroso contingente de adultos gera uma crise no mercado de trabalho devido à menor oferta de mão de obra.

## Conhecimentos Específicos Fundamentos da Educação

31

*A avaliação formativa vem ganhando espaço nas discussões pedagógicas, impulsionada pelo uso da tecnologia no cenário de pandemia, e pela necessidade de contribuir de modo equânime para a aprendizagem de cada aluno. Na avaliação formativa, o professor busca promover momentos de maior proximidade com cada estudante, entendendo suas necessidades específicas, seus avanços e refletindo junto com ele sobre estratégias para seguir se desenvolvendo, de acordo com o desejado. Trata-se de uma modalidade avaliativa para acolher e atender os estudantes que mais precisam, sendo fundamental para combater as desigualdades de aprendizagem que afetam, principalmente, estudantes em situações de maior vulnerabilidade.*

Adaptado de <https://observatoriodeeducacao.institutounibanca.org.br/>

Com base no texto, assinale a afirmativa que identifica corretamente objetivos da avaliação formativa.

- (A) Motivar o aprendizado e premiar a eficiência.
- (B) Lidar com o erro e acelerar a assimilação de conteúdos.
- (C) Identificar e corrigir as principais falhas de conhecimento.
- (D) Classificar os rendimentos e destacar talentos individuais.
- (E) Personalizar a aprendizagem e reduzir as desigualdades.



32

Leia o fragmento a seguir sobre as características distintivas dos Direitos Humanos.

Tais direitos são \_\_\_\_\_, pois se estendem a todo gênero humano, em todo tempo e lugar.

São \_\_\_\_\_, porque seu respeito se pode exigir de qualquer pessoa, autoridade ou comunidade inteira, diferente daqueles emanados das relações contratuais, que somente podem ser exigidos de quem contratou a obrigação correspondente.

São \_\_\_\_\_, pois nenhuma pessoa ou autoridade pode atentar legitimamente contra eles, sem prejuízo das justas limitações que podem se impor a seu exercício, de acordo com as exigências do bem comum da sociedade.


São \_\_\_\_\_, pois pertencem à essência do ser humano de forma indissociável, assim não se pode renunciar, transferir ou transmitir, sob nenhum título, como ocorre com os demais direitos que são objetos de transações jurídicas.

Assinale a opção cujos itens completam corretamente as lacunas do fragmento acima.

- (A) necessários – inatos – absolutos – invioláveis.
- (B) imprescritíveis – invioláveis – absolutos – necessários.
- (C) universais – absolutos – invioláveis – inalienáveis.
- (D) congênitos – imprescritíveis – necessários – absolutos.
- (E) universais – inalienáveis – necessários – inatos.

33

Observe a charge “Justiça Injusta”.



Adaptado de <http://observacoeseducacionais.blogspot.com>

É correto afirmar que a situação ironizada na charge pode ser corrigida com base no princípio de

- (A) respeito à diversidade, pelo que entende-se justiça como distribuição uniforme de ferramentas e assistência para os mais variados tipos de pessoas.
- (B) equidade, pelo que entende-se justiça como fomento de oportunidades iguais, considerando as diferenças entre os indivíduos e suas características e necessidades.
- (C) igualdade de oportunidades, pelo que entende-se justiça como estímulo à superação das incapacidades de cada indivíduo para que todos alcancem a mesma meta.
- (D) meritocracia, pelo que entende-se justiça como oferecimento de acesso igualitário às oportunidades, de modo a corrigir as desigualdades sociais.
- (E) personalização do ensino, pelo que entende-se justiça como reconhecimento das capacidades individuais de aprendizado para selecionar os mais capazes.

34

A seleção de atividades no planejamento didático é baseada em princípios teóricos no campo da educação.

A esse respeito, leia os exemplos a seguir.

- I. Pré-avaliação dos alunos para estabelecer o ponto de partida do processo de aprendizagem e o uso de reforços/recompensas tangíveis para aumentar o rendimento.
- II. Ênfase na participação ativa dos alunos nos processos de aprendizagem e na conscientização do ato de aprender, mediante estratégias de autoavaliação, conceituação e revisão.
- III. Valorização da identificação do contexto significativo em que a competência deve ser adquirida e sucessivamente aplicada para que os alunos possam ir além das informações fornecidas.

Assinale a afirmativa que identifica corretamente os fundamentos teóricos das atividades de planejamento descritas em I, II e III, respectivamente.

- (A) Behaviorismo – Construtivismo – Cognitivism.
- (B) Construtivismo – Cognitivism – Behaviorismo.
- (C) Cognitivism – Construtivismo – Behaviorismo.
- (D) Cognitivism – Behaviorismo – Construtivismo.
- (E) Behaviorismo – Cognitivism – Construtivismo.

35

Leia o trecho a seguir, que descreve uma tendência pedagógica e seu impacto para fundamentar o currículo escolar.

*O fundamento desse currículo é a seleção e redefinição dos conteúdos de ensino, de modo a atribuir-lhes um sentido prático. Ele pretende superar a preeminência dos saberes das disciplinas escolares, ao privilegiar o “como ensinar”. Nele abre-se espaço para atividades e situações concretas, a partir das quais os alunos devem desenvolver habilidades específicas.*

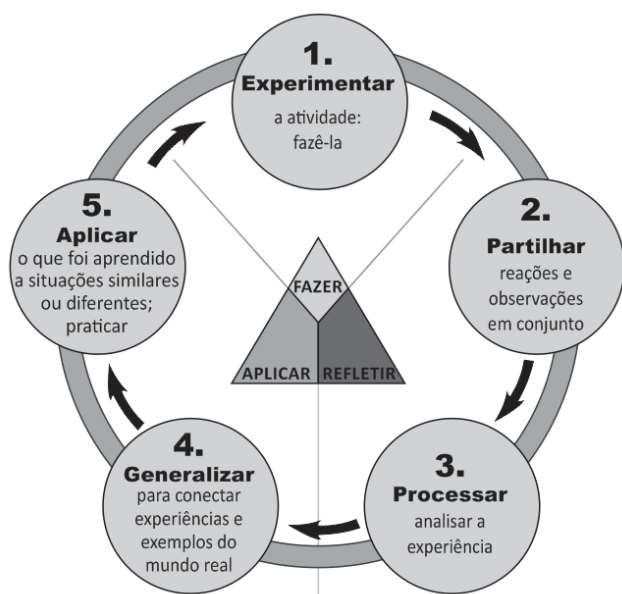
*No entender de alguns educadores, esse currículo promove o encontro entre formação e emprego, mantendo-se afinado com as necessidades do mercado de trabalho.*

Assinale a opção que identifica corretamente a concepção de currículo descrita acima.

- (A) Currículo idealista.
- (B) Currículo por competência.
- (C) Currículo sociocrítico.
- (D) Currículo como produção cultural.
- (E) Currículo globalizado.

36

O diagrama a seguir ilustra a relação entre experiência, inteligência e conhecimento.



Adaptado de <https://www.pedagogy4change.org/>

A respeito dessa relação, assinale a afirmativa que indica a visão pedagógica coerente com o diagrama.

- (A) A reconstrução e reorganização da experiência levam a uma maior percepção do seu sentido, habilitando as pessoas a dirigir melhor o curso das suas experiências futuras.
- (B) A capacidade de aprender depende do ensino formal e, sobretudo, do nível de competência cognitiva de que se dispõe para executar as atividades propostas.
- (C) A experiência serve para identificar os condicionamentos próprios do processo universal de aprendizagem e permite substituir respostas inadequadas por outras adequadas.
- (D) A aquisição de habilidades para fortalecer e disciplinar a mente pode ser obtida pelo uso das faculdades mentais de conceituar e esquematizar relações espaço-temporais.
- (E) A aprendizagem ocorre quando a informação é armazenada e organizada de modo significativo na memória, em um processo sequenciado de reconhecimento e assimilação.

37

Trata-se de um conceito formulado originalmente por Lev Vygotsky, na década de 1920, e serve para explicar como a aprendizagem da criança se desenvolve com a ajuda dos outros. Com esse conceito, indica-se a distância entre o nível de performance atual, determinado pela capacidade de resolver tarefas de forma independente, e o nível de performance potencial, determinado por desempenhos possíveis, com ajuda de adultos ou de colegas mais avançados ou mais experientes.

O texto refere-se ao conceito de

- (A) escrita coletiva.
- (B) situação comunicativa.
- (C) acomodação e assimilação.
- (D) estágio operatório-concreto.
- (E) zona de desenvolvimento proximal.

38

Um professor adota a metodologia da “gamificação”, usando um aplicativo que simula a vida em uma cidade. Ele separa a classe em pequenos grupos, que devem escolher o cenário – uma cidade rural, litorânea ou metrópole – e três áreas prioritárias. Os estudantes são desafiados a decidir o que é melhor para sua cidade, face aos indicadores financeiros, à média da satisfação popular e à eficácia da infraestrutura do município. Cada decisão impacta diretamente nos indicadores e abre a possibilidade de debater impostos, transportes, educação e saúde, dentre outros temas, tendo em vista os conteúdos trabalhados nas aulas de biologia, filosofia, matemática, geografia e história.

Com base no relato e considerando a “gamificação” como estratégia com objetivos pedagógicos no caso citado, assinale (V) para a afirmativa verdadeira e (F) para a falsa.

- ( ) A “gamificação” serviu para exercitar a imaginação e estimulou os alunos a inventar cidades fictícias, sem desigualdades socioeconômicas.
- ( ) O uso de “games” de simulação estimulou o raciocínio lógico e exercitou a capacidade de se posicionar em relação a políticas públicas, considerando seus impactos na vida coletiva.
- ( ) A atividade desenvolveu competências socioemocionais e ligadas ao pensamento estratégico, ao engajar os alunos em uma ação de modo interativo e com responsabilidade social.

As afirmativas são, respectivamente,

- (A) V – V – F.
- (B) V – F – V.
- (C) F – V – V.
- (D) F – V – F.
- (E) V – V – V.

39

A gestão escolar, comprometida com uma educação de qualidade, exige o envolvimento e a participação da comunidade nos processos de planejamento e avaliação dos resultados alcançados, ao mesmo tempo que descentraliza as tomadas de decisão e divide responsabilidades, com intuito de envolver todos os segmentos interessados na construção coletiva das propostas de educação.

A partir do texto, analise as afirmativas a seguir a respeito da relação entre gestão escolar e compromisso com a qualidade de ensino.

- I. A verticalização da gestão escolar é uma medida administrativa que agiliza a tomada de decisão para atender com eficiência todos os envolvidos na escola.
- II. O engajamento de todos os setores na elaboração do projeto político-pedagógico, fortalece a autonomia da escola e o compromisso com a qualidade do aprendizado.
- III. A gestão democrática da escola favorece a socialização de saberes e a interação comunitária fomentando a participação coletiva para a definição da identidade da escola.

Está correto o que se afirma em:

- (A) II, apenas.
- (B) I e II, apenas.
- (C) II e III, apenas.
- (D) I e III, apenas.
- (E) I, II e III.

40

**Como chamar as pessoas que têm deficiência?**

*Pessoas com capacidades especiais”, “pessoas com eficiências diferentes”, “pessoas com habilidades diferenciadas”, “pessoas portadoras de deficiência”, “pessoas com disfunção funcional”... Na primeira década do século XXI, a Declaração de Salamanca preconizou a expressão “pessoas com deficiência”, com a qual o valor agregado às pessoas com deficiência passou a ser o do empoderamento e o da responsabilidade de contribuir com seus talentos para mudar a sociedade rumo à inclusão de todas as pessoas, com ou sem deficiência. Os movimentos mundiais de pessoas com deficiência, incluindo os do Brasil, já fecharam a questão: querem ser chamados de “pessoas com deficiência”, em todos os idiomas. Esse termo faz parte do texto da convenção sobre os direitos das pessoas com deficiência, adotado pela ONU em 2006, e promulgado por decreto no Brasil em 2009.*

Adaptado de SASSAKI, Romeu Kazumi.  
Como chamar as pessoas que têm deficiência? (2014)

As afirmativas a seguir descrevem corretamente os princípios básicos que levaram à defesa da terminologia “pessoas com deficiência”, **à exceção de uma**. Assinale-a.

- (A) Valorizar as diferenças e necessidades decorrentes da deficiência.
- (B) Combater eufemismos que tentam diluir ou camuflar as diferenças.
- (C) Defender a igualdade entre pessoas com deficiência e sem deficiência.
- (D) Responsabilizar a sociedade pela invalidez de uma parte de seus membros.
- (E) Reivindicar a eliminação das restrições à participação das pessoas com deficiência na vida social.

## Ensino Especial

41

Avalie se, de acordo com o Artigo 16º da Resolução 48/2012 – CEE/AP, o Projeto Político-Pedagógico da escola de Educação Básica deve institucionalizar a oferta do Atendimento Educacional Especializado, prevendo os seguintes elementos em sua organização:

- I. Sala de recursos multifuncionais contendo mobiliário, materiais didáticos, equipamentos, recursos pedagógicos e de acessibilidade específicos.
- II. Professores de classes comuns e de atendimento educacional especializado, capacitados e/ou especializados, para atender as especificidades dos alunos.
- III. Distribuição dos alunos com base em uma classificação equitativa, de modo que se beneficiem das diferenças, ampliando e socializando as experiências de todos os alunos.

Está correto o que se afirma em:

- (A) I, apenas.
- (B) I e II, apenas.
- (C) I e III, apenas.
- (D) II e III, apenas.
- (E) I, II e III.

42

A Resolução 48/2012 – CEE/AP determina algumas atribuições ao professor da educação especial.

A esse respeito, assinale (V) para as afirmações verdadeiras e (F) para as falsas.

- ( ) Assistir o professor de classe comum nas práticas necessárias para promover a inclusão dos alunos com necessidades educacionais especiais.
- ( ) Autorizar os deslocamento e planejar a implementação de adaptações necessárias para atendimento de educandos com mobilidade reduzida.
- ( ) Definir, programar, liderar e apoiar a implementação de estratégias de flexibilização, adaptação curricular, procedimentos didáticos pedagógicos e práticas alternativas, adequadas ao trabalho em equipe.

Assinale a opção que mostra a relação correta, segundo a ordem apresentada.

- (A) V – F – V.
- (B) F – F – V.
- (C) V – F – F.
- (D) F – V – V.
- (E) V – V – V.

43

Analise a imagem a seguir.

PESSOA I COM

46 CROMOSSOMOS



PESSOA II COM

47 CROMOSSOMOS



A pessoa II, retratada na imagem, possui a síndrome

- (A) alcoólico fetal.
- (B) de Asperger.
- (C) de Down.
- (D) de Tourette.
- (E) de Angelman.

44

Avalie, com base no Artigo 4º da Resolução 48/2012 – CEE/AP, se a Educação Especial tem como público-alvo:

- I. alunos com deficiência de natureza física, intelectual, mental ou sensorial.
- II. alunos com dislexia, dislalia, disgrafia e discalculia.
- III. alunos com desatenção, indisciplinados e com dificuldade de aprendizagem.

Está correto o que se afirma em

- (A) I, apenas.
- (B) I e II, apenas.
- (C) II e III, apenas.
- (D) I e III, apenas.
- (E) I, II e III.

45

Os alunos a seguir **não** deverão ser matriculados no ensino regular e atendidos por equipe de especialistas do Sistema Estadual de Ensino, pois são considerados públicos-alvo da educação especial:

- (A) alunos com dislexia.
- (B) alunos com dislalia.
- (C) alunos com altas habilidades.
- (D) alunos com hiperatividade.
- (E) alunos com dificuldade de aprendizagem.

46

A Resolução 48/2012 – CEE/AP, em seu Capítulo III, determina que o Projeto Político Pedagógico (PPP) das instituições de educação deve prever a oferta de uma educação especial inclusiva.

A respeito dos serviços de educação especial previstos no PPP, assinale (V) para a afirmativa verdadeira e (F) para a falsa.

- ( ) O PPP deve oferecer uma pedagogia dialógica, interativa, interdisciplinar e inclusiva, com a identificação das habilidades e necessidades de cada estudante.
- ( ) O PPP deve promover a participação e articulação da escola com a família e com a comunidade, assegurando resposta educativa de qualidade para a diversidade dos estudantes.
- ( ) O PPP deve prever um calendário de aulas de reforço para auxiliar os alunos com deficiência e incentivar coletivos de aprendizagem, visando a troca de conhecimento entre pares cognitivos e sociais.

As afirmativas são, de cima para baixo,

- (A) V – F – V.
- (B) F – V – V.
- (C) V – V – F.
- (D) F – F – V.
- (E) V – V – V.

47

*“Considera-se pessoa com deficiência aquela que tem impedimento de longo prazo de natureza física, mental, intelectual ou sensorial, o qual, em interação com uma ou mais barreiras, pode obstruir sua participação plena e efetiva na sociedade em igualdade de condições com as demais pessoas”.*

Adaptado de Artigo 2º da Lei nº 13146, de julho de 2015.

Com base no trecho, assinale a afirmativa que descreve corretamente um tipo de deficiência.

- (A) Deficiência auditiva: apresenta perda bilateral, parcial ou total de quatorze decibéis ou mais, aferida por audiograma nas frequências de 500Hz, 1.000Hz, 2.000Hz e 3.000Hz.
- (B) Deficiência intelectual: apresenta distúrbio da aprendizagem, específico da linguagem, caracterizada por dificuldade na decodificação de palavras.
- (C) Deficiência visual: apresenta incapacidade de enxergar com clareza suficiente para contar os dedos da mão a uma distância de 9 metros, à luz do dia.
- (D) Deficiência múltipla: apresenta associação de duas ou mais deficiências, caracterizada por associações diversas em graus de intensidade muito variados.
- (E) Deficiência motora: apresenta alteração completa ou parcial de um ou mais segmentos do corpo e acarreta o comprometimento da função cognitiva.

48

Observe a situação ilustrada na tirinha da Turma da Mônica a respeito da interação entre Dorinha, uma menina cega, e seus amigos.



As afirmativas a seguir descrevem corretamente os direitos da personagem Dorinha no cotidiano escolar de uma escola inclusiva, **à exceção de uma**. Assinale-a.

- (A) Ter acesso a recursos especiais, por ser portadora de baixa visão, ao apresentar acuidade visual igual ou menor que 0,05 no melhor olho, com a melhor correção óptica.
- (B) Utilizar computador com recursos de acessibilidade para pessoas com deficiência visual, como auxílio para leitura ou leitor de tela.
- (C) Assistir vídeos com audiodescrição e realizar leituras utilizando linguagens e códigos aplicáveis em braille, um sistema de comunicação tátil.
- (D) Escrever com material próprio, com orientação de profissionais especializados, usando reglete e punção ou máquina de escrever em braille.
- (E) Ingressar na escola com cão-guia e poder manter o animal junto de si no decorrer das aulas, desde que observadas as condições impostas por lei.

49

*“De acordo com o Censo Escolar de 2020, 62.581 crianças e adolescentes com surdez ou deficiência auditiva estão matriculados na educação básica brasileira. Esses alunos deveriam estar recebendo um atendimento educacional especializado, como previsto na Lei nº 10.436 (2002), que legitimou a Língua Brasileira de Sinais como língua oficial dos brasileiros com surdez. Mas, segundo especialistas em docência em Libras, educandos com deficiência auditiva continuam apresentando dificuldades de aprendizagem, em função da carência de intérpretes para elas, que acabam ficando à mercê da pedagogia do ensino local”.*

Adaptado de “Surdez na escola: os passos da inclusão na educação infantil”.  
Nexo Jornal, 20/01/2022.

A partir dessa reflexão, é correto afirmar que

- (A) o ensino inclusivo para crianças com deficiência auditiva enfrenta o desafio de superar as dificuldades cognitivas inerentes ao educando surdo.
- (B) o reconhecimento da língua de sinais brasileira de forma oficial é recente em nossa história, o que pode explicar a escassez de recursos humanos especializados.
- (C) as escolas brasileiras possuem recursos suficientes e adequados de ensino da Libras, principalmente no que diz respeito à disponibilidade de intérpretes.
- (D) a oferta de materiais com audiodescrição é uma opção de tecnologia assistiva para alunos com deficiência auditiva de fácil acesso ao ensino local.
- (E) a atuação de professores-intérpretes da Língua Brasileira de Sinais está restrita ao Ensino Fundamental, de acordo com as leis e políticas públicas vigentes.

50

Assinale a afirmativa que descreve corretamente uma diretriz da Política Nacional para a Integração da Pessoa Portadora de Deficiência, segundo o Decreto nº 3.298/99.

- (A) Estabelecer cotas que garantam a inclusão social da pessoa com deficiência nos órgãos do executivo e judiciário.
- (B) Incluir a pessoa com deficiência em todas as iniciativas de políticas ambientais e sustentabilidade.
- (C) Garantir a participação exclusiva de pessoas com deficiência em órgãos definidores de políticas de acessibilidade.
- (D) Oferecer assistência hospitalar residencial e atendimento prioritário a pessoa com deficiência pelo SUS.
- (E) Ampliar as alternativas de inserção econômica da pessoa com deficiência, proporcionando-lhe qualificação profissional.

51


Nas Diretrizes Nacionais para a Educação Especial na Educação Básica, de acordo com a Resolução CNE/CEB - no 02/2001, são apresentados serviços de apoio pedagógico especializado, realizados em classes comuns.

A esse respeito, assinale a afirmativa correta.

- (A) Atuação hierarquizada entre professor especializado em educação especial e professores das classes comuns, que são avaliados pelos primeiros.
- (B) Disponibilização de diferentes materiais que visem favorecer à aprendizagem, à locomoção e à comunicação por meio de financiamentos colaborativos.
- (C) Atuação de professores e outros profissionais itinerantes intra e interinstitucionalmente, como suporte para a inclusão de alunos com NEE.
- (D) Disponibilização de atendimento de equipe de enfermagem e primeiros socorros para alunos com necessidades especiais em todas as salas de aula.
- (E) Atuação de professores-intérpretes das linguagens e códigos aplicáveis, sempre que houver necessidade de comunicação para um grupo externo.

52

Na tirinha da Turma da Mônica, o personagem Luca enfrenta barreiras na escola.



A respeito das ações realizadas para garantir a plena e efetiva participação de Luca na escola e na sociedade em igualdade de oportunidades, estabeleça a correspondência entre as medidas listadas a seguir e suas respectivas descrições.

1. Distribuição facilitadora de ambientes e de fluxos
  2. Adaptação para acessibilidade
  3. Conceito de Desenho Universal
- ( ) É importante que as rampas construídas em reformas para adequação reservem uma grande área para vencer um ou mais pavimentos, devido à exigência de uma inclinação suave.
  - ( ) É necessário criar espaços inclusivos e diversos, com o objetivo de estabelecer ambientes acessíveis a todos, independentemente de suas habilidades individuais.
  - ( ) É ideal que os espaços de uso coletivo, como bibliotecas, refeitórios, sanitários e laboratórios, estejam localizados no andar térreo, ou o mais próximo possível das salas de aula.

Assinale a opção que apresenta a sequência correta, de cima para baixo.

- (A) 1, 2 e 3.
- (B) 2, 3 e 1.
- (C) 3, 1 e 2.
- (D) 1, 3 e 2.
- (E) 2, 1 e 3.

53

O diagrama a seguir mostra a evolução legal da inclusão de pessoas com deficiência no sistema escolar.



<https://especialissimojornal.wordpress.com/2017/05/07/escola-para-todos-os-desafios-da-inclusao/>

A respeito da evolução dos direitos inclusivos da pessoa com deficiência, assinale a afirmativa correta.

- (A) 1989 - A educação especial é integrada de forma gratuita e obrigatória no currículo escolar, por meio da Declaração de Salamanca.
- (B) 1994 - O acesso das pessoas com deficiência ou mobilidade reduzida é normatizado pelas Diretrizes Nacionais para a Educação Especial na Educação Básica.
- (C) 1996 - A prestação de serviços especializados nas escolas regulares é garantida pela Política Nacional para a Integração da Pessoa Portadora de Deficiência.
- (D) 2009 - A matrícula de alunos com deficiências em classes comuns do ensino regular e no atendimento educacional especializado é normatizada pela Resolução 04 do CNE/CEB.
- (E) 2014 - A homogeneização das diversidades na escola regular é instituída nas Normas para a oferta da Educação Especial no Sistema Estadual de Ensino do Amapá.

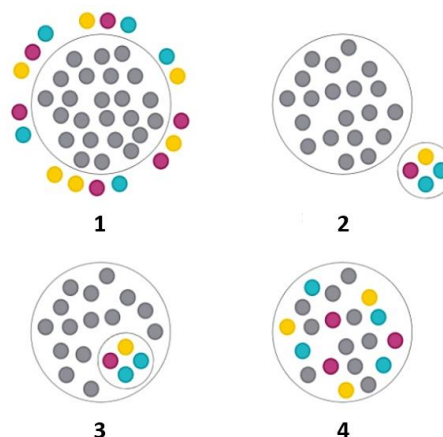
54

De acordo com a Declaração de Salamanca, é correto afirmar que

- (A) toda criança tem direito fundamental ao ensino superior, e deve ser dada a garantia de atingir e manter o nível máximo de aprendizagem.
- (B) toda criança possui características, interesses, habilidades e necessidades especiais de aprendizagem.
- (C) sistemas educacionais deveriam ser implementados no sentido de se levar em conta a homogeneidade dos programas educacionais.
- (D) aqueles com necessidades educacionais especiais devem ter acesso à escola especial, que deveria acomodá-los dentro de uma Pedagogia centrada na criança.
- (E) escolas regulares constituem os meios mais eficazes de combater atitudes discriminatórias para construir uma sociedade inclusiva.

55

Observe a representação visual de quatro noções envolvidas no debate sobre educação inclusiva.



Assinale a opção que identifica a sequência correta de 1 a 4.

- (A) 1 – segregação; 2 – inclusão; 3 – integração; 4 – exclusão
- (B) 1 – integração; 2 – segregação; 3 – exclusão; 4 – inclusão
- (C) 1 – exclusão; 2 – integração; 3 – inclusão; 4 – segregação
- (D) 1 – inclusão; 2 – exclusão; 3 – segregação; 4 – integração
- (E) 1 – exclusão; 2 – segregação; 3 – integração; 4 – inclusão

56

*“Como pessoa com deficiência, me senti envergonhado de ter uma assistente na classe e, por mais que ela ajudasse, eu não a queria presente. Essa é uma sensação comum entre outros estudantes com deficiência com quem conversei. Como se vê, é possível ter uma escola “inclusiva” que, ainda assim, isola os alunos, como resultado do excesso de apoio. Se é esperado que um adulto vá ajudar, é pouco provável que os colegas intervenham. Enfim, incluir não significa viver e trabalhar juntos? Parte disso implica em ensiná-los como ajudar”.*

Adaptado de HOEKSTRA, N. “O equilíbrio entre apoio, autonomia e afastamento na educação inclusiva” in <https://diversa.org.br/>

Com base no depoimento sobre desafios da inclusão da pessoa com deficiência, analise as propostas a seguir.

- I. Para incluir os educandos com deficiência, a escola poderia indicar um assistente de educação especial que interagisse com todos os alunos, de modo que as experiências de diversidade fossem compartilhadas.
- II. Para promover uma educação inclusiva, os docentes poderiam incentivar os colegas dos alunos com deficiência a se tornar mediadores nas atividades de apoio e, assim, promover uma maior interação.
- III. Para acolher de forma inclusiva o aluno com deficiência, o professor poderia avaliar com ele estratégias eficientes de apoio que facilitassem a aprendizagem em seu cotidiano escolar.

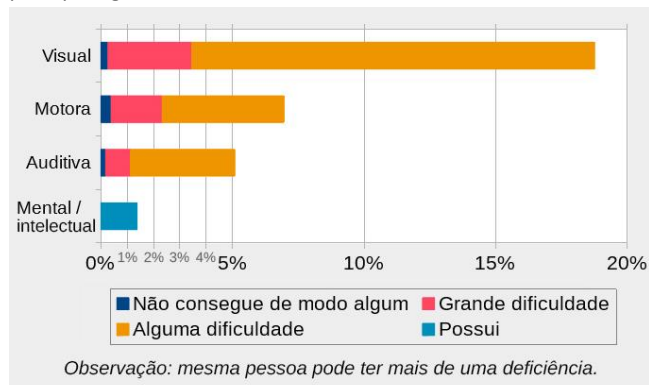
Está correto o que se afirma em

- (A) I, apenas.
- (B) I e II, apenas.
- (C) II e III, apenas.
- (D) I e III, apenas.
- (E) I, II e III.

57

No Censo do IBGE de 2010, cerca de 24% da população, isto é, quase 46 milhões de brasileiros, declarou ter algum grau de dificuldade em pelo menos uma das habilidades investigadas (enxergar, ouvir, caminhar ou subir degraus), ou possuir deficiência mental/intelectual.

Observe o gráfico com a porcentagem da população brasileira, por tipo e grau de dificuldade e deficiência.



Com base no gráfico, a respeito das políticas de inclusão e educação especial, assinale (V) para a afirmativa verdadeira e (F) para a falsa.

- ( ) O censo subsidia os programas do governo que promovem a inclusão da pessoa com deficiência, apresentando a incidência dos principais impedimentos de caráter físico, sensorial, mental/intelectual.
- ( ) As políticas de educação inclusiva devem considerar os indicadores de ocorrência e grau de severidade das deficiências para alocar investimentos adequados às demandas prioritárias
- ( ) A deficiência visual é, entre as elencadas no gráfico, a que apresenta o espectro mais amplo de possibilidades, desde a incidência majoritária de cegueira total até algum grau de baixa visão.

As afirmativas são, de cima para baixo,

- (A) V – F – V.  
 (B) F – V – V.  
 (C) V – V – F.  
 (D) F – F – V.  
 (E) V – V – V.

58

O Censo Escolar/MEC/INEP é realizado em todas as escolas de educação básica e possibilita acompanhar os indicadores da educação especial, para avaliar a política de inclusão das pessoas com deficiência no Brasil.

Assinale a afirmativa que identifica corretamente indicadores utilizados para esse diagnóstico no âmbito da educação especial.

- (A) Categoria administrativa da instituição escolar e faixa de renda de seus docentes.
- (B) Matrícula de estudantes com superdotação e porcentagem de aprovação por faixa escolar.
- (C) Municípios com matrícula de alunos com necessidades educacionais especiais e grau de escolaridade dos pais.
- (D) Escolas comuns com matrículas de estudantes com deficiência e incidência étnica dos tipos de deficiências e transtornos do desenvolvimento.
- (E) Formação docente para o atendimento às necessidades educacionais especiais dos alunos e acessibilidade arquitetônica das escolas.

59

Para a conquista de uma sala de aula inclusiva, é preciso trabalhar com a autonomia e a diversidade, além de abrir mão do desejo de controlar a sala de aula, nos padrões tradicionais. A partir dessa perspectiva, uma professora do Amapá propôs uma mudança radical em sua turma: em virtude de um estudante que necessitava levantar-se durante a aula e movimentar-se pela sala, ela abriu mão da obrigação de seus alunos assistirem à aula sentados.

Diante da dinâmica proposta pela educadora, podemos concluir que o estudante em questão tinha o diagnóstico de

- (A) visão subnormal.  
 (B) transtorno do espectro autista.  
 (C) apraxia ideomotora.  
 (D) hemiplegia.  
 (E) síndrome de Rett.

60

Observe a lista de itens que compõem uma Sala de Recursos Multifuncionais.

Equipamentos	Materiais Didático/Pedagógico
02 Microcomputadores	01 Material Dourado
01 Laptop	01 Esquema Corporal
01 Estabilizador	01 Bandinha Rítmica
01 Scanner	01 Memória de Numerais I
01 Impressora laser	01 Tapete Alfabético Encaixado
01 Teclado com colmeia	01 Software Comunicação Alternativa
01 Acionador de pressão	01 Sacolão Criativo Monta Tudo
01 Mouse com entrada para acionador	01 Quebra Cabeças - sequência lógica
01 Lupa eletrônica	01 Dominó de Associação de Idéias
<b>Mobiliários</b>	01 Dominó de Frases
01 Mesa redonda	01 Dominó de Animais em Libras
04 Cadeiras	01 Dominó de Frutas em Libras
01 Mesa para impressora	01 Dominó tátil
01 Armário	01 Alfabeto Braille
01 Quadro branco	01 Kit de lupas manuais
02 Mesas para computador	01 Plano inclinado – suporte para leitura
02 Cadeiras	01 Memória Tátil

De acordo com a planilha apresentada, as afirmativas a seguir indicam corretamente recursos disponíveis e seus usos, **à exceção de uma**. Assinale-a.

- (A) Recursos sensoriais para deficientes visuais, como calculadora sonora e dominó tátil.
- (B) Soluções assistivas para educandos com dificuldade motora, como acionador de pressão e teclado com colmeia.
- (C) Acessibilidade ao computador para alunos com mobilidade reduzida, como mouse com entrada para acionador.
- (D) Recursos para alunos com deficiência visual, como dominó de animais em língua de sinais.
- (E) Tecnologia assistiva para ampliação de habilidades de comunicação, como *software* de comunicação alternativa.

## Questão Discursiva –Estudo de Caso

### O direito à diferença e a educação intercultural.

“Somos todos iguais ou somos todos diferentes? Queremos ser iguais ou queremos ser diferentes? Na atualidade motiva-nos muito mais, em nossa conduta, em nossas expectativas de futuro e projetos de vida compartilhada, o direito de sermos pessoal e coletivamente diferentes uns dos outros”. Esse é o principal desafio de uma educação em perspectiva intercultural.

A primeira característica da interculturalidade é a promoção deliberada da interrelação entre os diferentes grupos culturais presentes na sociedade. Nesse sentido, essa perspectiva se opõe tanto às visões que defendem a afirmação radical de identidades culturais específicas (diferencialismos), quanto às que não valorizam a explicitação da riqueza das diferenças culturais (assimilacionismos). Em contrapartida, a interculturalidade rompe com o conceito essencialista de cultura, valorizando suas raízes históricas e dinâmicas, sem fixar as pessoas em determinado padrão cultural. Uma terceira característica é a afirmação de que nas sociedades em que vivemos os processos de hibridização cultural são intensos e mobilizadores da construção de identidades abertas. Sempre que a humanidade pretendeu promover a pureza cultural e étnica, as consequências foram trágicas: genocídio, holocausto, eliminação e negação do outro. A consciência dos mecanismos de poder que permeiam as relações culturais constitui outra característica dessa perspectiva. Por serem históricas, as relações estão atravessadas por questões de poder, assimetrias, preconceitos e discriminações. Uma última característica a ser assinalada diz respeito ao fato de a interculturalidade considerar o direito à diferença, uma vez que a questão da diferença assume hoje uma importância especial e transforma-se na reivindicação de um direito: não só o direito de os diferentes a serem iguais, mas o direito de afirmar a diferença.

Adaptado de CANDAU, Vera. “Direitos humanos, educação e interculturalidade: as tensões entre igualdade e diferença”. *Revista Brasileira de Educação* v. 13 n. 37 jan./abr. 2008.

Com base no texto, responda os itens a seguir.

1. Identifique quatro características atribuídas ao conceito de interculturalidade. (2,0 pontos)
2. Explique as relações estabelecidas entre o conceito de interculturalidade e o direito à diferença. (4,0 pontos)
3. Caracterize duas medidas que podem promover uma educação para o reconhecimento do “outro”, no sentido do diálogo entre os diferentes grupos sociais e culturais do Amapá. (4,0 pontos)

1

2

3

4

5

6

7

8

9

10

11

12

13

14

15

16

17

18

19

20



21

22

23

24

25

26

27

28

29

30

RASCUNHO



Realização

