

Prezado (a) candidato (a)

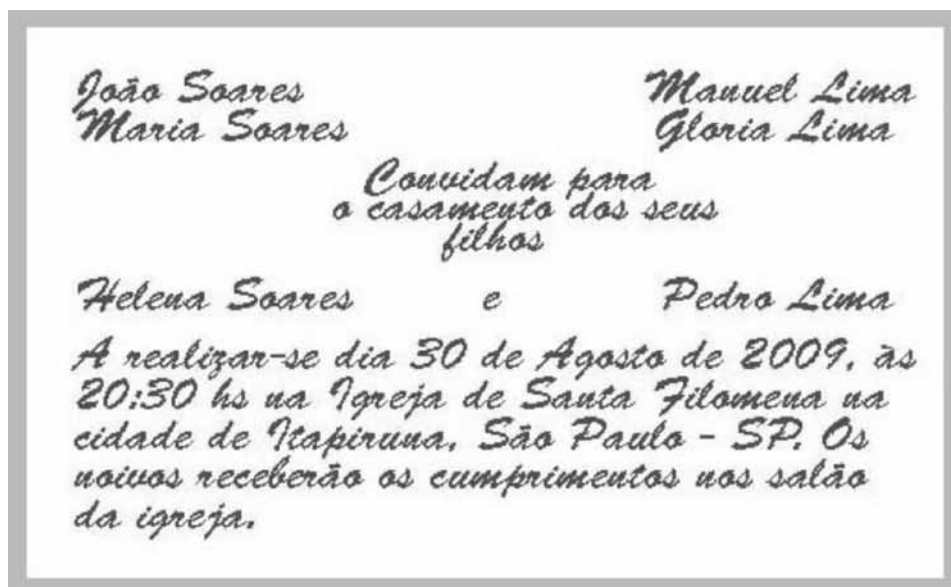
Coloque seu número de inscrição e nome no quadro abaixo:

Nº de Inscrição	Nome

LÍNGUA PORTUGUESA

QUESTÃO 01

Leia, atentamente, o texto abaixo.



Assinale a afirmação **CORRETA**.

- a) O casamento vai se realizar numa cidade mineira.
- b) Haverá festa depois da cerimônia religiosa.
- c) O nome do pai da noiva é João Soares.
- d) O endereço dos noivos está no rodapé do convite.

QUESTÃO 02

Leia e faça o que é pedido.

ENQUETE

QUAL O SEU PROGRAMA PREFERIDO NA TV?



3.150	GLOBO REPÓRTER (GLOBO)	28,33 %
2.450	PROGRAMA RAUL GIL (SBT)	22,04 %
1.994	ALTEROSA ESPORTE (SBT)	17,94 %
1.330	BALANÇO GERAL (RECORD)	11,96 %
1.243	CHAVES (SBT)	11,18 %
404	TV GOBINHO (GLOBO)	11,13 %
192	MR. BEAN (BAND)	10,73 %
153	CÂMERA RECORD (RECORD)	10,39 %
146	CASOS DE FAMÍLIA (SBT)	10,31 %
55	COCORICÒ (REDE MINAS)	10,30 %

Com base nos dados apresentados acima, correspondentes à pergunta da enquete, é **CORRETO** afirmar que

- a) o telespectador fica mais tempo na frente da tv assistindo a programa de esportes.
- b) a população brasileira prefere os programas exibidos pela TV Globo.
- c) a programação destinada às crianças é extensa e bastante variada.
- d) os programas exibidos pelo SBT têm uma audiência maior de telespectadores.

QUESTÃO 03

Leia o texto seguinte.

O LEÃO E OS RATINHOS

Um leão, cansado de tanto caçar, dormia espichado à sombra de uma boa árvore. Vieram uns ratinhos passear em cima dele e ele acordou. Todos conseguiram fugir, menos um, que o leão prendeu embaixo da pata. Tanto o ratinho pediu e implorou que o leão desistiu de esmagá-lo e deixou que fosse embora.

Algum tempo depois, o leão ficou preso na rede de uns caçadores. Não conseguia se soltar, e fazia a floresta inteira tremer com seus urros de raiva. Nisso, apareceu o ratinho, com seus dentes afiados, roeu as cordas e soltou o leão, que o abraçou agradecido.

“Quem faz o bem, recebe-o em troca”.


www.brinquedoteca.org.br/si/site/00050711

Assinale a afirmativa **FALSA**.

- a) Quem conta a história é um personagem narrador, o leão.
- b) Os personagens são animais, mas agem como seres humanos.
- c) Os fatos narrados são imaginários e não reais.
- d) Por ser uma fábula, há uma moral da história.

QUESTÃO 04

Observe este cartão postal.



Assinale a informação **INCORRETA** sobre o cartão postal

- a) A mensagem enviada contém uma linguagem descontraída e sintética.
- b) SP é a sigla do estado onde mora o remetente da mensagem.
- c) O destinatário recebe a mensagem de uma pessoa conhecida.
- d) O cartão-postal é um tipo especial de correspondência.

QUESTÃO 05

Leia a frase seguinte: “Siga tranquilamente o seu caminho, entre a inquietude e a pressa, lembrando-se de que há sempre paz no silêncio. Tanto quanto possível, sem se humilhar, mantenha-se em bons termos com todas as pessoas”.

Agora observe o quadro e marque a alternativa que **NÃO** foi preenchida de acordo com as indicações.

a)	Palavras com uma sílaba	paz, bons
b)	Palavras com duas sílabas	quanto, pressa
c)	Palavras com três sílabas	humilhar, pessoas
d)	Palavras com mais de quatro sílabas	inquietude, possível

QUESTÃO 06

Preste atenção na história em quadrinhos.



Assinale a alternativa que contém uma informação **VERDADEIRA**.

- a) No terceiro quadrinho há uma palavra que se apresenta em sentido contrário a uma do primeiro quadrinho.
- b) O balão, no segundo quadrinho, contém dois verbos e um pronome.
- c) No último quadrinho, a palavra “continuo” pode ser substituída por “confio” sem prejuízo para o sentido original do texto.
- d) No terceiro quadrinho, o ponto de interrogação indica uma declaração em suspenso, incompleta.

QUESTÃO 07

Relacione as frases abaixo com os sentidos expressos pelos verbos e numere a 2ª sequência de acordo com a 1ª.

1ª SEQUÊNCIA

1. ação.
2. estado permanente.
3. estado transitório, passageiro.
4. mudança de estado.
5. fenômeno da natureza.

2ª SEQUÊNCIA

- () Naquela manhã de julho, orvalhou durante horas seguidas.
- () O gambá-pigmeu-da-montanha é o mais raro gambá australiano.
- () Os brasileiros estão satisfeitos com a preservação das florestas.
- () A sustentabilidade transformou-se em tema de muitos debates.
- () A parreira sempre cresce, mas de forma lenta e variada.

Assinale a sequência **CORRETA**, na ordem de cima para baixo:

- a) 5, 3, 2, 4, 1.
- b) 5, 2, 3, 4, 1.
- c) 4, 2, 3, 1, 5.
- d) 3, 1, 4, 5, 2.

QUESTÃO 08

Leia o poema de Pedro Bloch.

Chuva zangada é temporal. Chuva preguiçosa é chuvisco. Chuva contente é a que refresca. Chuva malcriada é granizo.

As palavras em destaque nos versos pertencem à mesma classe gramatical da palavra grifada em

- a) Na **Europa**, há séculos, havia muitas guerras, e por isso eram construídos castelos, onde as pessoas ficavam protegidas.
- b) Os castelos maiores eram como pequenas cidades, cercadas por **grandes** muralhas.
- c) Ao redor dos castelos havia um fosso que impedia a **aproximação** dos inimigos.
- d) Os castelos eram o principal meio de defesa **daquele** tempo, mas, com o uso da pólvora, os exércitos tornavam-se capazes de transpor qualquer muralha.

QUESTÃO 09

Observe atentamente o bilhete de passagem.

ROTA MINEIRA			
EMPRESA ROTA MINEIRA DE TRANSPORTES/ SEDE: BELO HORIZONTE - MG			
BILHETE DE PASSAGEM		Nº 289057	
PREÇO: R\$ 09,00	SERIE/SUBSERIE: A-020		
De: BELO HORIZONTE		Para: ITAGUARA	
Prefixo: 52009	Data: 01/05/09	Horário: 09: 00	
Poltrona: 03	Agencia:		
Agente:			

O passageiro

- a) comprou uma poltrona na parte de trás do ônibus.
- b) deslocou-se da capital mineira à noite.
- c) viajou para uma cidade do interior de Minas Gerais.
- d) realizou a viagem há exatamente um ano.

QUESTÃO 10

Leia o poema com atenção.

MOLEQUE PROPAROXÍTONO

Lá vai ele, muito rápido,
quase sempre um relâmpago.
lógico!
Muito lúcido,
sua mente gira
como uma hélice.
Ele é muito prático
e sua vida é mágica.
Esse menino, quase sempre
da fila o antepenúltimo,
é, sem dúvida,
o tal
do
moleque proparoxítono

(Marciano Vasques)

Marque (F) para a afirmação **FALSA** e (V) para a **VERDADEIRA**.

- () Podemos classificar como monossílabas as palavras **ele, um, sua, lá e tal** por serem vocábulos formados por uma só sílaba.
- () **Antepenúltimo, relâmpago, prático e mágica** são algumas das palavras que justificam o título do poema.
- () Grande parte das palavras que caracterizam o menino, no poema, recebem propositalmente o acento tônico da penúltima sílaba.
- () Os termos **moleque, menino e lúcido** possuem o mesmo número de sílabas gramaticais e a mesma sílaba tônica.

Assinale a alternativa com sequência **CORRETA**, na ordem de cima para baixo:

- a) F – V – F – V.
- b) V – F – F – F.
- c) F – V – F – F.
- d) F – V – V – V.

MATEMÁTICA

QUESTÃO 11

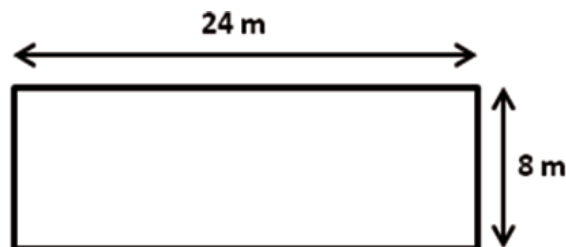
Assinale a alternativa que indica o resultado da expressão:

$$(35 \times 5) + (472 - 113) - 2 \frac{(231)}{3} = \underline{\hspace{2cm}}$$

- a) 175
- b) 359
- c) 154
- d) 380

QUESTÃO 12

Um condomínio construiu uma quadra de tênis com medidas de 24 m de comprimento e 8 m de largura. Os condôminos optaram por colocar uma tela de arame ao redor da quadra. Assinale a alternativa que indica o tamanho da tela que o condomínio deverá comprar para que toda a quadra seja envolvida pelo material:



- a) 64 m
- b) 48 m
- c) 32 m
- d) 16 m

QUESTÃO 13

Davi marcou uma consulta para 9:00hs. O médico atrasou e só iniciou o atendimento no horário exibido na figura abaixo. Com quantos minutos de atraso Davi foi atendido? Assinale a alternativa **CORRETA**.



- a) 80 minutos
- b) 70 minutos
- c) 60 minutos
- d) 50 minutos

QUESTÃO 14

D. Sônia vai comprar material escolar para sua filha, seguindo a lista solicitada pela escola:

Item	Quantidade
Apontador	2 unidades
Borracha	2 unidades
Caderno	6 unidades
Cola	1 unidade
Lápis	10 unidades
Régua	1 unidade
Tesoura	1 unidade

Numa papelaria, consta a seguinte tabela de preços:

Item	Preço unidade
Lápis	R\$ 0,70
Caderno	R\$ 3,00
Borracha	R\$ 0,80
Régua	R\$ 0,90
Apontador	R\$ 1,50
Cola	R\$ 1,80
Tesoura	R\$ 2,70

Considerando os materiais solicitados na lista e a tabela de preços da papelaria, assinale a alternativa **INCORRETA**:

- a) O valor total da lista solicitada pela escola é de R\$ 35,00.
- b) O valor dos cadernos solicitados pela escola equivale à metade do valor total da lista.
- c) Se D. Sônia pagar a compra de toda a lista com uma nota de R\$100,00, receberá como troco um valor maior do que o valor da compra.
- d) Se D. Sônia não comprar apenas os cadernos solicitados na lista e comprar os outros materiais, o valor da sua compra será inferior a R\$ 20,00.

QUESTÃO 15

O motorista de um carro percorreu 120 Km num intervalo de uma hora e meia. Qual a velocidade média do carro sabendo-se que esta é calculada dividindo a distância percorrida pelo tempo gasto?

- a) 100 km/h
- b) 90 km/h
- c) 80 km/h
- d) 70 km/h

QUESTÃO 16

Dados os números 15, 30 e 45. Assinale a alternativa que indica respectivamente mdc (15,30,45) e mmc (15,30,45):

- a) 15 e 30
- b) 5 e 45
- c) 15 e 90
- d) 5 e 15

QUESTÃO 17

Sr. João comprou uma geladeira no valor de R\$ 3996,00. Sabe-se que a loja permite parcelamento de até 12 vezes sem juros. Qual será o valor da prestação, caso Sr. João aceite a condição máxima de parcelamento sem juros da loja?

- a) R\$ 333,00
- b) R\$ 433,00
- c) R\$ 533,00
- d) R\$ 633,00

QUESTÃO 18

2012



Joana terá seu bebê no dia 02/01/2012. Sabendo que a empresa lhe concederá 120 dias de licença maternidade a partir do dia do nascimento do bebê e que ao término da licença Joana gozará de 30 dias de férias, em que dia do ano Joana deverá retornar ao trabalho?

- a) 28/05
- b) 29/05
- c) 30/05
- d) 31/05

QUESTÃO 19



Uma escola armazena os documentos de seus alunos em pastas localizadas em uma estante, que ficam em ordem alfabética, separadas pelas iniciais do primeiro nome do aluno, conforme mostra o desenho acima. Estando você de frente para a estante, assinale a alternativa **CORRETA**:

- a) Helena tem os documentos armazenados na quarta pasta da esquerda para a direita.
- b) João tem seus documentos armazenados na pasta que fica à direita da pasta onde ficam os documentos de Otávio.
- c) Raquel tem seus documentos armazenados na pasta que ocupa a sexta posição na estante.
- d) Marcelo tem seus documentos armazenados na pasta que fica exatamente no meio da estante.

QUESTÃO 20

Andréa comprou guloseimas para distribuir nas lembrancinhas de aniversário do seu filho. Foram 25 dúzias de balas, 10 dúzias de chicletes, 7,5 dúzias de bombons, 5 dúzias de pirulitos e 2,5 dúzias de pipocas. Serão 30 lembrancinhas que deverão ter exatamente as mesmas quantidades de guloseimas. Assinale a alternativa que indica a quantidade de guloseimas que cada lembrancinha conterà após a divisão:

- a) 8 balas, 3 chicletes, 2 bombons, 4 pirulitos e 2 pipocas
- b) 10 balas, 4 chicletes, 3 bombons, 2 pirulitos e 1 pipoca
- c) 10 balas, 6 chicletes, 3 bombons, 3 pirulitos e 1 pipoca
- d) 9 balas, 4 chicletes, 4 bombons, 2 pirulitos e 2 pipocas

LEGISLAÇÃO MUNICIPAL

QUESTÃO 21

A história de Presidente Olegário surge, principalmente, a partir de 10 de outubro de 1851, quando se faz a doação ao patrimônio público da igreja, em cuja escritura, encontramos a denominação: Santa Rita da Boa Sorte, a fim de se erigir uma capela sob a invocação de Santa Rita de Cássia e para, nas terras, arrancharem os que ali forem. O nome Santa Rita da Boa Sorte, permaneceu até 1867 quando se criou o Distrito de Santa Rita e em 1880 passou a chamar-se Santa Rita de Patos permanecendo assim até 31 de dezembro de 1938 quando recebeu a denominação atual de Presidente Olegário.

(informação disponível em: <http://www.presidenteolegario.mg.gov.br/acidade>)

De acordo com a Constituição Federal e a Lei Orgânica, o Município de Presidente Olegário é:

- a) pessoa jurídica de direito privado.
- b) pessoa jurídica de direito público interno.
- c) pessoa jurídica de direito público externo.
- d) pessoa jurídica de direito público e privado.

QUESTÃO 22

Os Vereadores, representantes do povo, são eleitos pelo sistema proporcional, para ocuparem o cargo com mandato de quatro anos. Atualmente, a Câmara Municipal de Presidente Olegário é composta por:

- a) Treze Vereadores.
- b) Onze Vereadores.
- c) Nove Vereadores.
- d) Quinze Vereadores.

QUESTÃO 23

Compete ao Vice-Presidente da Câmara Municipal de Presidente Olegário, além de outras atribuições estipuladas no Regimento Interno:

- a) Dirigir, executar e disciplinar os trabalhos legislativos e administrativos da Câmara.
- b) Substituir o Presidente da Câmara em suas faltas, ausências, impedimentos ou licenças.
- c) Requisitar o numerário destinado às despesas da Câmara.
- d) Designar comissões especiais nos termos regimentais, observadas as indicações partidária.

QUESTÃO 24

A participação da população do Município de Presidente Olegário poderá ser exercida através da apresentação de projeto de lei à Câmara Municipal sobre assunto de interesse específico do Município, de cidade ou de bairro, subscrito por:

- a) No mínimo 1% (um por cento) dos eleitores inscritos no Município.
- b) No mínimo 1% (um por cento) dos moradores do Município.
- c) No mínimo 5% (cinco por cento) dos eleitores inscritos no Município.
- d) No mínimo 5% (cinco por cento) dos cidadãos do Município.

QUESTÃO 25

O Poder Executivo Municipal é exercido pelo(s)

- a) Secretários Municipais.
- b) Vereadores.
- c) Superintendentes.
- d) Prefeito.